

Date of Exam : 02-07-2019 10:00 AM

Reference ID:(24726) सरासरी काढा.  
88, 89, 90, 64, 77 & 90

A.85

B.84

C.83

D.82

✓

Answer: C.83

Reference ID:(24725) लांबीचे एसआय एकक \_\_\_\_\_ आहे.

A.सेंटीमीटर

B.मीटर

C.किलोमीटर

D.यार्ड

Answer: B.मीटर

Reference ID:(24750)

खालीलप्रकारे अपवादांसोबत खाली दर्शवल्याप्रकारे 0 ते 9 अंकांना संकेतबद्ध केले गेले आहे:

अंक	3	8	0	7	4	6	9	2	5	1
संकेत	H	\$	R	A	M	%	L	K	E	S

अपवाद I: जर संख्या गैर शून्य विषम अंकाने सुरु आणि समाप्त होत असेल, तर पहिल्या आणि शेवटच्या अंकांना अनुक्रमे Y आणि # अशाप्रकारे संकेतबद्ध केले जाते.

अपवाद II: जर संख्या सम (शून्यासह) अंकाने सुरु आणि समाप्त होत असेल, तर पहिल्या आणि शेवटच्या अंकांना अनुक्रमे B आणि X असे संकेतबद्ध केले जावे.

389167 साठी काय संकेत असेल?

A.Y\$LS%#

B.YL\$S%A

C.#L\$S%A

D.H\$LS%A

Answer: A.Y\$LS%#

Reference ID:(24481)

खालील वाक्यालतील अधोरेखित शब्दाचे लिंग ओळखा.  
काल गारा पडल्या.

A.पुल्लिंग

C.नपुसकलिंग

D.उभयलिंग

Answer:

B.स्त्रीलिंग

Reference ID:(24469)

Choose the appropriate conjunction for the given sentence:

\_\_\_\_\_ he got married to that rich woman, he gave up his job.

A.On the other hand

B.As soon as

C.Though

D.Moreover

Answer:

B.As soon as

Reference ID:(24489)

रिकाम्या जागी योग्य पर्याय निवडा.  
पुण्यामध्ये वाहतुकीचा खोळंबा होणे हे ..... झाले आहे.

A.अद्यापि

B.नित्य

C.येथून

D.तेथे

Answer:

B.नित्य

Reference ID:(24711)

ऑक्टोबर 2018 मध्ये, भारताच्या राष्ट्रपतींनी महाराष्ट्रामधील \_\_\_\_\_ येथे विश्वशांती अहिंसा संमेलनाचे उद्घाटन केले.

A.पुणे

B.नाशिक

C.नागपूर

D.ठाणे

Answer:

B.नाशिक

Reference ID:(24480)

पुढील शब्दास जोडशब्द सांगा.  
कडे -----

A.किल्ले

B.कपाऱ्या

D.खाचा

Answer:

B.कपाऩ्या

Reference ID:(24729)

एक बस A स्थानकापासून B स्थानकाकडे जाते आणि एकूण अंतर ती 6 तासांमध्ये पूर्ण करते. तिने 48 किमी/तासामध्ये पहिले अर्धे अंतर कापले आणि दुसरे अर्धे अंतर 60 किमी/तासाने कापले. बसद्वारे कापलेले एकूण अंतर काढा.

A.250 किमी

B.280 किमी

C.300 किमी

D.320 किमी

Answer:

D.320 किमी

Reference ID:(24721)

जानेवारी 2019 महिन्यामध्ये महाराष्ट्र राज्यामध्ये खालीलपैकी कोणत्या राष्ट्रीय क्रीडास्पर्धांचे उद्घाटन केले गेले होते?

A.नॅशनल स्विमिंग चॅम्पियनशीप चॅलेंज

B.खेलो इंडिया युथ गेम्स

C.कॉमन वेल्थ युथ गेम्स

D.एशियन-जुडो चॅम्पियनशीप

Answer:

B.खेलो इंडिया युथ गेम्स

Reference ID:(24728)

दहा वर्षापूर्वी, सुष्माचे वय हे रेश्माच्या वयाच्या अर्धे होते. जर त्यांच्या वर्तमान वयांचे गुणोत्तर 4:7 असेल. तर त्यांच्या वर्तमान वयांमधील फरक काढा.

A.20 वर्षे

B.25 वर्षे

C.28 वर्षे

D.30 वर्षे

Answer:

D.30 वर्षे

Reference ID:(24719)

मुघल सम्राट अकबराच्या दरबारामधील प्रसिध्द संगीतकार, तानसेन याचे मुळ नाव \_\_\_\_\_ होते.

A.रामतानु पांडे

B.मकरंद पांडे

C.लाल कालवंत

D.राम दास

Answer:

A.रामतानु पांडे

A.मुघल

B.सूर्यवंशी

C.गुप्त

D.चेरा

Answer:

B.सूर्यवंशी

Reference ID:(24493)

पुढील वाक्यातील आधारेखित अव्ययाचा प्रकार ओळखा.  
मोराने पिसारा फुलवला पण पाऊस पडतच नाही.

A.क्रियाविशेषण

B.उभयान्वयी

C.शब्दयोगी

D.केवळप्रयोगी

Answer:

B.उभयान्वयी

Reference ID:(24737)

जॉनचे वय हे मार्टिनपेक्षा चार पट जास्त आहे. पाच वर्षापूर्वी त्यांच्या वयांची बेरीज 50 होती. आता त्यांचे वय काय असेल?

A.15, 35

B.18, 38

C.23, 27

D.20, 30

Answer:

C.23, 27

Reference ID:(24731)

राजीवने ऑनलाईन स्टोअरमधून घड्याळ खरेदी केले आणि संजीवला ते 5% नफ्याने विकले. संजीवने परत ते मनिषला 4% नफ्याने विकले. मनिषने 5460 रुपये प्रदान केले. राजीवने ऑनलाईन स्टोअरमधून घड्याळ खरेदी केले ती मूळ किंमत काढा.

A.4500

B.4725

C.5000

D.5384

Answer:

C.5000

A.नागपूर

B.पुणे

C.मुंबई

D.औरंगाबाद

Answer:

C.मुंबई

Reference ID:(24736)

वगळलेली अक्षरे निवडून मालिका पूर्ण करा:  
z\_zx\_\_zz\_\_xx\_zzx

A.xzxzxz

B.zzxzxz

C.zxxzxz

D.xzxzxz

Answer:

C.zxxzxz

Reference ID:(24735)

जर QUESTION ला NXBVQLLQ असे लिहिले जात असेल तर ANSWER ला कसे लिहिले जाईल:

A.XQPTHO

B.XQPZBU

C.RQVSBT

D.QLBTRU

Answer:

B.XQPZBU

Reference ID:(24713)

2018 मध्ये, पुणे जिल्हा न्यायालय प्रशासनाने कशासाठी ऑनलाईन सुविधा सुरू केली:

A.शुल्कांचे इ-पेमेंट

B.शपथपत्र दाखल करणे

C.निकालाची प्रत जारी करणे

D.न्यायालयाच्या खटल्यांची स्थिती

Answer:

A.शुल्कांचे इ-पेमेंट

Reference ID:(24466)

Choose the correct form of modal auxiliary verb for the given sentence:

Rose is over three-quarter hours late already. She \_\_\_\_\_ have missed the bus again.

A.should

B.must

Answer:

B.must

Reference ID:(24486)

अधोरेखित शब्दाचे मूळ रूप शोधा.  
आजी नातवासाठी स्वेटर विणते.

A.शिवणे

B.विणणे

C.जुळवणे

D.कळवणे

Answer:

B.विणणे

Reference ID:(24468)

Choose the appropriate prepositional phrase for the given sentence:

Although the partners were \_\_\_\_\_, they succeeded in paying our bill.

A.in debt

B.in dept

C.in depth

D.on debt

Answer:

A.in debt

Reference ID:(24465)

Which of the following options best combines the two given sentences?

I gave you some flowers. Where are they?

A.Where did you keep the flowers that I gave you?

B.Where are the flowers that I have given you?

C.Where are the flowers that I gave you?

D.Where the flowers that I given you?

Answer:

C.Where are the flowers that I gave you?

Reference ID:(24741)

जर एका शहराची लोकसंख्या दरसाल 15% वाढते. जर त्यांची लोकसंख्या 1995 मध्ये 8000 होती तर ती 1997 मध्ये किती असेल?

A.10,580

B.11,580

C.12,580

D.13,580

Reference ID:(25001)

दुकानामध्ये 1 किग्रॅ टोमॅटोची किंमत 14 रुपये आहे. शिलाला  $3\frac{1}{2}$  किग्रॅ टोमॅटो हवे आहेत. तिला यासाठी किती खर्च येईल?

A.रु. 42

B.रु. 49

C.रु. 56

D.रु. 35

Answer:

B.रु. 49

Reference ID:(24482)

पुढील वाक्य वाचून योग्य वाक्या ओळखा.

A.बागेत फुलपाखरे मुक्तगपणे उडाली.

B.बागेत फुलपाखरू मुक्तपणे उडालो.

C.बागेत फुलपाखरे मुक्ततपणे उडाले.

D.बागेत फुलपाखरे मुक्ततपणे उडाल्या..

Answer:

A.बागेत फुलपाखरे मुक्तगपणे उडाली.

Reference ID:(24488)

रिकाम्या जागी योग्य पर्याय निवडा.  
उद्गार व्यक्त करणारी अव्यये ती ..... अव्यये होय.

A.शब्दयोगी अव्यये

B.उभयान्वयी अव्यये

C.केवलप्रयोगी अव्यये

D.क्रियाविशेषण अव्यये

Answer:

C.केवलप्रयोगी अव्यये

Reference ID:(24742)

एक व्यक्ती 5 मिनिटांमध्ये 600 मीटर लांब रस्ता पार करतो. किमी प्रति तासांमध्ये त्याचा वेग काय आहे?

A.8.2

B.4.2

C.6.1

D.7.2

Answer:

D.7.2

Reference ID:(24745)

जर  $A^9 \times 9 = A^{11}$  असेल तर 'A' काढा.

A.4

B.5

D.9

Answer:

D.9

Reference ID:(24730)

सोहन हा रोहनपेक्षा तीप्पट चांगला सुतार आहे. सोहनला सोफा तयार करण्यासाठी रोहनपेक्षा 60 दिवस कमी लागतात. त्यांनी एकत्र काम केले तर त्यांना सोफा तयार करण्यासाठी किती दिवस लागतील?

A.30.6 दिवस

B.22.5 दिवस

C.27.8 दिवस

D.23.7 दिवस

Answer:

B.22.5 दिवस

Reference ID:(24460)

Choose the appropriate articles for the given sentence:  
\_\_\_\_\_ life would be so very different without \_\_\_\_\_ technology.

A.A, the

B.The, the

C.No article, a

D.No article, no article

Answer:

D.No article, no article

Reference ID:(24733)

एका टाकीमध्ये 15% अल्कोहोलचे 10 लीटर द्रावण आहे. 70% द्रावणाचे 10 लीटर मिळवण्यासाठी, हे द्रावण 80% अल्कोहोल द्रावणासोबत लीटर्समध्ये अंदाजे किती प्रमाणात बदलावे लागेल?

A.9 लीटर

B.8.5 लीटर

C.8 लीटर

D.9.5 लीटर

Answer:

B.8.5 लीटर

Reference ID:(24707)

श्री अरविंद पारीख यांना कलेच्या कोणत्या क्षेत्रामधील त्यांच्या उत्कृष्टतेसाठी 2018 वर्षामध्ये पद्म भूषण पुरस्कार मिळाला?

A.वाळूची शिल्पकला

B.नृत्य

C.संगीत

D.आदिवासी चित्रकला

Answer:

C.संगीत



The members of the \_\_\_\_ gave an adverse verdict to the convict in the court.

A.jury

B.panel

C.judges

D.lawyers

Answer:

A.jury

Reference ID:(24474)

Choose the correct form of tense for the given sentence:

You \_\_\_\_\_ more careful in the future

A.were being

B.should be

C.was being

D.can be

Answer:

B.should be

Reference ID:(24499)

‘पी हळद अन हो .....’ ही म्हण अर्थपूर्ण होण्यासाठी खालीलपैकी कोणता शब्द योग्य आहे?

A.काळी

B.पांढरी

C.गोरी

D.पिवळी

Answer:

C.गोरी

Reference ID:(24498)

पुढीलपैकी कोणता शब्द योग्य रीतीने लिहिला आहे?

A.सौसार

B.सन्सार

C.संसार

D.सणसार

Answer:

C.संसार

Reference ID:(24452)

Choose the option that has the correct spelling for the missing word in the given sentence:

Internet does more harm than good to children nowadays; it is really a \_\_\_\_ of modern life.

A.ban

B.baneful

D.bain

Answer:

C.bane

Reference ID:(24458)

Choose the appropriate collective noun to complete the given sentence:

There isn't any paper in the printer; could anyone insert a \_\_\_\_\_ of paper into it, please?

A.ream

B.reel

C.heap

D.set

Answer:

A.ream

Reference ID:(24710)

2018 या वर्षामध्ये पंत प्रधान पिक विमा योजनेच्या प्रभावी अंमलबजावणीसाठी कोणत्या जिल्ह्याला पहिली श्रेणी मिळाली?

A.बीड

B.अकोला

C.सोलापूर

D.नांदेड

Answer:

A.बीड

Reference ID:(24490)

पुढील नामाला अयोग्य विशेषणाचा पर्याय निवडा.  
अरण्य

A.मोठे

B.निविड

C.निष्क्रिय

D.लगतचे

Answer:

C.निष्क्रिय

Reference ID:(24487)

योग्य पर्यायाची निवड करा.  
आमच्या संघाने ..... जिकली

A.चषक

B.ढाल

D.गड

Answer:

B.ढाल

Reference ID:(24712)

जानेवारी 2019 मध्ये, महाराष्ट्रामधील \_\_\_\_\_ हिला खेळ क्षेत्रामधील तिच्या उत्कृष्टतेसाठी "बाल शक्ती पुरस्काराने" सन्मानित करण्यात आले होते.

A.कुमारी प्रत्यक्षा बी आर

B.कुमारी इहा दिक्षित

C.कुमारी एंजल विजय देवकुळे

D.कुमारी मेघा बोस

Answer:

C.कुमारी एंजल विजय देवकुळे

Reference ID:(24720)

भारतामधील खालीलपैकी कोणत्या राज्याने सर्वात कमी भूक्षेत्र व्यापलेले आहे?

A.मिझोराम

B.सिक्कीम

C.मेघालय

D.गोवा

Answer:

D.गोवा

Reference ID:(24744)

जर  $5QQ - Q55 = Q67$  असेल तर 'Q' अंक काढा.

A.1

B.2

C.3

D.4

Answer:

B.2

Reference ID:(24722)

जलयुक्त शिवार अभियान हे महाराष्ट्र राज्यामध्ये खालीलपैकी कोणत्या वर्षी सुरू झाले होते?

A.2018

B.1998

C.2002

D.2015

Answer:

D.2015

A.वीट

B.नारळ

C.खापर

D.डोकं

Answer:

C.खापर

Reference ID:(24483)

पुढील वाक्यारतील विधेयविस्तार ओळखा.  
आपण शाळेत शिकतो की नेहमी खरे बोलावे.

A.आपण

B.खरे

C.शाळेत

D.बोलावे

Answer:

B.खरे

Reference ID:(24456)

Choose the correct form of adjective for the given sentence:

She does not say what she has in mind. She says only what her boss likes to hear from her. She is not \_\_\_\_\_.

A.good

B.sincere

C.loyal

D.faithful

Answer:

B.sincere

Reference ID:(24723)

सध्या (2019) मध्ये भारतात किती उच्च न्यायालये आहेत?

A.24

B.25

C.28

D.30

Answer:

B.25

- A.वाघिण रेणू आणि वाघ रोहित  
B.वाघिण रिना आणि वाघ सिध्दार्थ  
C.वाघिण रेणूका आणि वाघ अजय  
D.वाघिण रेणूका आणि वाघ सिध्दार्थ

Answer: D.वाघिण रेणूका आणि वाघ सिध्दार्थ

Reference ID:(24477) दिलेल्या पर्यायांपैकी योग्य विरुद्धार्थी पर्याय शोधा.  
तुटवडा -

- A.तेजी  
B.मंदी  
C.तीव्र  
D.विपुलता

Answer: D.विपुलता

Reference ID:(24463) Choose the correct form of verb that is in agreement with the subject:  
The Prime Minister and his associates \_\_\_\_\_ off to Delhi in \_\_\_\_\_ chartered flight.

- A.is, his  
B.are, their  
C.are, his  
D.is, their

Answer: C.are, his

Reference ID:(24485) 'मदतीसाठी आपला धनादेश कृपया खालील पत्त्या वर पाठवावा' या वाक्यात कोणते आख्यात वापरले आहे?

- A.लाख्यात  
B.वाख्यात  
C.ई-आख्यात  
D.प्रथम ताख्यात

Reference ID:(24473)

Out of the following options, identify a complex sentence:

A. Your time limit has long been up.

B. Jack and Jill went up the hill.

C. Whoever signs the lease is responsible for the rent.

D. There is a fly in the car with us.

Answer:

C. Whoever signs the lease is responsible for the rent.

Reference ID:(24743)

A आणि B हे एक काम 30 दिवसांत पूर्ण करू शकतात, तर B आणि C हे तेच काम 24 दिवसांमध्ये आणि C आणि A 20 दिवसांमध्ये पूर्ण करू शकतात. त्या सर्वांनी 10 दिवस एकत्र काम केले, मग B आणि C काम सोडून गेले. उरलेले काम पूर्ण करण्यासाठी A ला आणखी किती दिवस लागतील?

A. 18 दिवस

B. 24 दिवस

C. 30 दिवस

D. 36 दिवस

Answer:

A. 18 दिवस

Reference ID:(24701)

इसवी सन 1425 मध्ये गाविलगड किल्ला कोणत्या राजाने बांधला होता?

A. मुहम्मद शाह द्वितीय बहमनी

B. अहमद शाह बहमनी

C. कलिम-उल्लाह शाह बहमनी

D. वली-उल्लाह शाह बहमनी

Answer:

B. अहमद शाह बहमनी

Reference ID:(24454)

Choose the appropriate option with the correct punctuation marks for the given sentence:

That elderly man Amits Grandfather expired today

A. That elderly man, Amit's grandfather, expired today.

B. That elderly man, Amits Grandfather, expired today.

C. That elderly man Amit's Grandfather expired today.

D. That's elderly man Amit's Grandfather, expired today.

Answer:

A. That elderly man, Amit's grandfather, expired today.

A.-ances

B.-ing

C.-ers

D.-ables

Answer: A.-ances

Reference ID:(24461)

Choose the option with the appropriate suffix to complete the given sentence:  
Real\_\_\_ is not often shown in movies.

A.-ness

B.-ity

C.-ly

D.-istic

Answer: B.-ity

Reference ID:(24708)

"दि ॲन्युअल ग्रेट रिपोर्ट 2019" शीर्षक असलेल्या क्रीक हिल सिव्क्युरीटी लॅब्ज अहवालानुसार, सायबर हल्ल्यांसाठी अत्यंत असुरक्षित शहरांच्या सूचीमध्ये खालीलपैकी कोणत्या शहराने आघाडी केली आहे?

A.बेंगलुरू

B.पंजाब

C.मुंबई

D.इंदौर

Answer: C.मुंबई

Reference ID:(24495)

पुढील पर्यायांमधून खालील वाक्याचे विध्वर्थ रूप असणारा पर्याय निवडा:  
वीज नसली तर संगणक चालणार नाहीत.

A.वीज नसली तर संगणक कसे चालणार?

B.वीज असेल तर संगणक चालेल.

C.वीज असली तरी संगणक चालणार नाहीत.

D.वीज नसेल तर संगणक बंद.

Answer: A.वीज नसली तर संगणक कसे चालणार?

Reference ID:(24738)

1 जानेवारी, 2006 रोजी रविवार होता. 1 जानेवारी 2010 रोजी कोणता दिवस होता?

B.शुक्रवार

C.रविवार

D.मंगळवार

Answer:

B.शुक्रवार

Reference ID:(24484)

दिलेल्या धातूचे योग्य रूप निवडा.  
'देवा, सर्वांना सुखी (ठेवणे)' (आज्ञार्थ).

A.ठेवशील

B.ठेव

C.ठेवेल

D.ठेवतात

Answer:

B.ठेव

Reference ID:(24467)

Choose the appropriate prepositions for the given sentence:

We stayed \_\_\_\_ a nice hotel when we were \_\_\_\_ New York, which was \_\_\_\_ Church Street.

A.in, on, at

B.at, in, on

C.on, to, by

D.by, in, of

Answer:

B.at, in, on

Reference ID:(24749)

विभाज्यता चाचणीचा वापर करून, खालीलपैकी कोणती संख्या 11 ने विभाज्य आहे ते काढा?

A.2610138

B.2611038

C.2601138

D.2601038

Answer:

D.2601038

Reference ID:(24748)

30 आणि 40 दरम्यान सर्वात मोठी अविभाज्य संख्या कोणती आहे?

A.39

B.38



Answer:

C.37

Reference ID:(24724)

1974 मध्ये पोखरण येथे अंमलात आणलेल्या पहिल्या परमाणु चाचणीला कोणते सांकेतिक नाव देण्यात आले होते?

A.सत्य शोधन

B.दि अशोक

C.स्मायलिंग बुध्दा

D.दि महावीर

Answer:

C.स्मायलिंग बुध्दा

Reference ID:(24455)

Choose the correct form of adjective for the given sentence:

Waiter, I need a cup of \_\_\_\_\_ coffee.

A.strong

B.powerful

C.thick

D.heavy

Answer:

A.strong

Reference ID:(24705)

बोलावे ते आम्हींच्या कवीतेसाठी 2017 या वर्षामध्ये कोणत्या मराठी लेखकाने साहित्य अकादमी पुरस्कार जिंकला होता?

A.अशोक आर. केळकर

B.टी. व्ही. सरदेशमुख

C.श्रीकांत देशमुख

D.श्याम मनोहर

Answer:

C.श्रीकांत देशमुख

Reference ID:(24472)

Choose the correct form of phrasal verb for the given sentence:

He was such a miser that he would not \_\_\_\_\_ even ten rupees for the charity appeal.

A.pay up

B.pay off

C.part with

D.part out

Reference ID:(24702)

अंबादेवी मंदिर हे महाराष्ट्रामधील खालीलपैकी कोणत्या शहरामध्ये स्थित आहे?

A.अमरावती

B.सांगली

C.पुणे

D.जळगांव

Answer:

A.अमरावती

Reference ID:(24703)

महाराष्ट्राच्या आर्थिक सर्वेक्षण अहवालानुसार 2018-19 वर्षामध्ये महाराष्ट्राच्या अर्थव्यवस्थेमध्ये खालीलपैकी कोणत्या क्षेत्रामध्ये सर्वात जास्त घट झाली होती?

A.कृषी क्षेत्र

B.निर्माण क्षेत्र

C.औद्योगिक क्षेत्र

D.सेवा क्षेत्र

Answer:

A.कृषी क्षेत्र

Reference ID:(24492)

एकवचनाचे अनेकवचन करा.  
तुरूंगातील कैद्यावर जीवघेणा हल्ला होऊ शकतो.

A.तुरूंगातील कैद्यावर जीवघेणा हल्ले होऊ शकतो.

B.तुरूंगातील कैद्यावर जीवघेणे हल्ले होऊ शकतो.

C.तुरूंगातील कैद्यांवर जीवघेणे हल्ले होऊ शकतात.

D.तुरूंगातील कैद्यांवर जीवघेणा हल्ला होऊ शकतात.

Answer:

C.तुरूंगातील कैद्यांवर जीवघेणे हल्ले होऊ शकतात.

Reference ID:(24739)

खालील संख्या शृंखलेमध्ये प्रश्न चिन्हा (?) च्या जागी काय मूल्य यायला हवे:  
215, 19, 163, 63, ?

A.117

B.127

C.125

D.126

Answer:

B.127

A.संध्याकाळी चहाला येऊ आम्ही सर्वजण!

B.संध्याकाळी चहाला येऊ का आम्ही सर्वजण?

C.आम्ही सर्वांनी संध्याकाळी चहास यावे.

D.संध्याकाळी आम्ही सर्वजण चहाला येतोच.

Answer:

B.संध्याकाळी चहाला येऊ का आम्ही सर्वजण?

Reference ID:(24464)

Choose the most suitable determiner for the given sentence:

A real yogi is the one who is \_\_\_\_\_ too happy \_\_\_\_\_ too sad in any situation.

A.nor, neither

B.neither, nor

C.nor, either

D.or, neither

Sabka ek bhaijaan

Sabka ek bhaijaan

Sabka ek bhaijaan

Answer:

B.neither, nor

Reference ID:(24727)

दरसाल 10% वार्षिक चक्रवाढ व्याजाने दर सहा महिन्यांनी चक्रवाढ केली जात असल्यास 8000 रूपयांचे 2 वर्षांसाठी चक्रवाढ व्याज काढा.

A.1642.50 रू.

B.1724.05 रू.

C.1578.20 रू.

D.1810.05 रू.

Answer:

B.1724.05 रू.

Reference ID:(24459)

Choose the appropriate articles for the given sentence:

Mime is \_\_\_\_\_ type of performance carried out without \_\_\_\_\_ use of props or language.

A.the ... an

B.a ... the

C.no article required ... an

D.no article required... no article required

Answer:

B.a ... the

Sabka ek bhaijaan

Sabka ek bhaijaan

Sabka ek bhaijaan

Reference ID:(24706)

खालीलपैकी कोण महाराष्ट्राचे सर्वात कमी कालावधीसाठी सेवा दिलेले आणि 2019 मध्ये स्वेच्छा निवृत्तीची निवड केलेले मुख्य सचिव आहेत?

- A.श्री अजय मेहता  
 B.श्री प्रवीण परदेशी  
 C.श्री यु.एपी.एस. मदान  
 D.श्री एस. जे. कुंटे

Answer:

C.श्री यु.एपी.एस. मदान

Reference ID:(24716)

महाराष्ट्रामधील कोणते ठिकाण 30 सप्टेंबर 1993 मध्ये भूकंपामुळे झालेल्या प्रचंड विध्वंसामुळे मुख्यत्वाने ग्रस्त झाले होते?

- A.कोयना  
 B.लातूर  
 C.धुळे  
 D.खराडी

Answer:

B.लातूर

Reference ID:(24740)

जर X हा Y च्या 90% असेल, तर X हा Y च्या किती टक्के आहे?

- A.111.1  
 B.100  
 C.99.9  
 D.101

Answer:

A.111.1

Reference ID:(24715)

महाराष्ट्रामधील कोणत्या सामाज सुधारकाला "लोकहितवादी" म्हणूनही जाणले जाते?

- A.गोपाळ हरी देशमुख  
 B.बाळ गंगाधर टिळक  
 C.दादाभाई नौरोजी  
 D.एम.जी.रानडे

Answer:

A.गोपाळ हरी देशमुख

Reference ID:(24476)

दिलेल्या शब्दगटातून योग्य समानार्थी शब्द निवडा.  
बाजार

- A.पाट  
 B.वाट

D. सोपा

Answer:

C. हार्ट

Reference ID:(24453)

Choose the appropriate option with the correct punctuation marks for the given sentence:  
the doctor said to the patient you should not smoke

A.The doctor said to the patient; "you should not smoke"

B.The doctor said to the patient, you should not smoke.

C.The doctor said to the patient "you should not smoke"

D.The doctor said to the patient, "You should not smoke."

Answer:

D.The doctor said to the patient, "You should not smoke."

Reference ID:(24451)

Choose the option that has the correct spelling for the missing word in the given sentence:

Since ages, women have been \_\_\_\_ from entering burial grounds.

A.forbiden

B.farbiden

C.forbiddan

D.forbidden

Answer:

D.forbidden

Reference ID:(24470)

Choose the appropriate conjunction for the given sentence:

Markish teaches both English \_\_\_\_\_ Math.

A.and

B.or

C.as well

D.but

Answer:

A.and

Reference ID:(24497)

खालीलपैकी उपसर्गविरहित शब्द कोणता?

A.अनुचित

B.उद्भव

D.दुस्साहस

Answer:

C.उदय

Reference ID:(24478)

दिलेल्या पर्यायांपैकी योग्य विरुद्धार्थी पर्याय शोधा.  
कमाल -

A.खूप

B.फार

C.किमान

D.जास्त

Answer:

C.किमान

Reference ID:(24746)

जर 7205AB हा 45 ने विभाज्य असेल, तर AB काय असू शकते:

A.55

B.22

C.85

D.60

Answer:

C.85

Reference ID:(24734)

जर बुद्धिबळाच्या बोर्डावर 4 चौकोनांची यादृच्छिकपणे निवड केली. तर त्यांमधील तीन हे सारख्या रंगाचे आणि चौथा भिन्न रंगाचा असल्याची संभाव्यता काय आहे?

A.240/427

B.320/1148

C.640/1281

D.880/1692

Answer:

C.640/1281

Reference ID:(24471)

Choose the most appropriate usage to fill in the blank in the given sentence:  
The children displayed all their exhibits \_\_\_\_\_ before the parents on the Annual Day.

A.enthuse

B.enthusiasm

C.enthusiastically

D.enthusiasts

Answer:

C.enthusiastically

Reference ID: (24718) अपवादात्मक खटल्यांसाठी पहिल्या अपीलिय प्राधिकरणाद्वारे पहिल्या अपीलाचा निकाल लावण्यासाठी वेळमर्यादा आहे.

Sabka ek bhaijaan

Sabka ek bhaijaan

Sabka ek bhaijaan

A.30 दिवस

B.45 दिवस

C.60 दिवस

D.75 दिवस

Answer: B.45 दिवस

Reference ID:(24704) महाराष्ट्राचे खालीलपैकी कोणते जिल्हे शेजारील तेलंगणा राज्यासोबत सीमा सामायिक करतात?

A.भंडारा

B.कोल्हापूर

C.सोलापूर

D.नांदेड

Answer: D.नांदेड

Reference ID:(24491) गटात न बसणारा शब्द ओळखा.  
भोचक, भाबडा, भवानी, भावी

A.भोचक

B.भाबडा

C.भवानी

D.भावी

Answer: C.भवानी

Reference ID:(24732) जर 516 रुपयांची आशा, भाविका आणि कनिकामध्ये अशाप्रकारे विभागणी करायची आहे की आशाला भाविकापेक्षा 25% अधिक रक्कम मिळेल आणि भाविकाला कनिकापेक्षा 25% अधिक रक्कम मिळेल. प्रत्येकीला किती रक्कम मिळेल ते काढा.

A.175, 125, 216

B.150, 138, 228

C.160, 124, 232

D.180, 144, 192

Answer: D.180, 144, 192

Reference ID:(24475) Choose the idiom that best fits into the given sentence:  
My friend's a straight forward man who believes in \_\_\_\_\_.

A.fighting tooth and nail

B.calling a spade a spade

Sabka ek bhaijaan

Sabka ek bhaijaan

Sabka ek bhaijaan

D.loving his enemy

Answer:

B.calling a spade a spade

Reference ID:(24494)

पुढीलपैकी कोणते विधान योग्य विरामचिन्ह वापरून लिहिले आहे?

A.सीमा, तू इकडे ये।

B.मी नुकताच बाहेर आलो आणि भूकंप झाला.

C.आपण काय बोललो! याचा विचार करावा?

D.अहाहा! किती सुंदर चित्र आहे!

Answer:

D.अहाहा! किती सुंदर चित्र आहे!

Reference ID:(24479)

पुढील शब्दास जोडशब्द सांगा.  
भाकर -----

A.कपडा

B.तुकडा

C.मिरची

D.पाणी

Answer:

B.तुकडा



Date of Exam : 02-07-2019 02:30 PM

Reference ID:(1685) 'तो गाणे गातो.' प्रयोग ओळखा.

- A.भावे
- B.कर्मणी
- C.कर्तरी
- D.नवीन कर्मणी

Answer: C.कर्तरी

Reference ID:(1936) जर 6% साखर समाविष्ट असलेल्या साखरेच्या 8 लीटर द्रावणाला उकळल्यानंतर 2 लीटर पाण्याचे बाष्पीभवन झाले, तर उर्वरित द्रावणामधील साखरेची टक्केवारी असेल:

- A.0.6%
- B.0.8%
- C.6%
- D.8%

Answer: D.8%

Reference ID:(1671) Out of the following options, identify a simple sentence.

- A.Alexander the great was deeply injured by tribals in India
- B.He was fatally wounded.
- C.Soon afterwards he succumbed to his injuries of his wounds.
- D.He could not attain his dream of conquering India and expanding his empire.

Answer: B.He was fatally wounded.

Reference ID:(1926) सरासरी काढा.  
74,56,89,92,68&35

- A.89

C.69

D.96

Answer:

C.69

Reference ID:(1668)

Choose the appropriate conjunctions for the given sentence:

\_\_\_\_\_ and \_\_\_\_\_ he studies for at least 8 hours every day, he will not score a 100 percentile in CAT.

A.So, that

B.If, so

C.Unless, until

D.Either, or

Answer:

C.Unless, until

Reference ID:(1923)

बोन मॅट्रिक्स \_\_\_\_\_ मध्ये समृद्ध असतो.

Sabka ek bhaijaan

A.फ्लोराईड आणि कॅल्शियम

B.कॅल्शियम आणि फॉस्फरस

C.कॅल्शियम आणि पोटॅशियम

D.फॉस्फरस आणि पोटॅशियम

Answer:

B.कॅल्शियम आणि फॉस्फरस

Reference ID:(1905)

पृथ्वी हे क्षेपणास्त्र \_\_\_\_\_ - टप्पा, दुहेरी-इंजिन द्रव प्रणोदन यंत्रणेचा वापर करते.

A.तीन

B.दोन

C.पाच

D.एक

Answer:

D.एक

He said I am speaking the truth

A.He said "i am speaking the truth"

B.He said I am speaking the truth

C.He said, "I am speaking the truth".

D.He said, i am speaking the truth?

Answer:

C.He said, "I am speaking the truth".

Reference ID:(1919)

पर्यावरण संस्थेमध्ये \_\_\_\_\_ समावेश होतो.

A.फक्त सर्व सजीवांचा

B.फक्त सर्व निर्जीवांचा

C.सजीव आणि निर्जीव दोन्हींचा

D.कधीकधी सजीवांचा आणि कधीकधी निर्जीवांचा

Answer:

C.सजीव आणि निर्जीव दोन्हींचा

Reference ID:(1907)

तिरंदाजीमध्ये \_\_\_\_\_ ने पद्म श्री (2019) पुरस्कार जिंकला.

A.डोला बॅनर्जी

B.दीपिका कुमारी

C.बोम्बल्या देवी लैशराम

D.लक्ष्मीराणी माझी

Answer:

C.बोम्बल्या देवी लैशराम

Reference ID:(1932)

आशा आणि निशा ह्या दोघी बहिणींना 25 किमी अंतरावरील त्यांच्या मावशीला भेटायचं असतं. आशा घरून सकाळी 9 वाजता ताशी 4 किमीच्या वेगाने चालत निघाली आणि निशा 11:30 वाजता सायकलवर ताशी 9 किमीच्या वेगाने निघाली. तर निशा आशाला केव्हा गाठेल?

A.दुपारी 1.30 वाजता

B.दुपारी 2.30 वाजता

C.दुपारी 12.00 वाजता

D.दुपारी 1 वाजता

Reference ID:(1678) 'मी मुलांना सांगितले.' अधोरेखित शब्दाची विभक्ती ओळखा.

A.प्रथमा

B.द्वितीया

C.तृतीया

D.चतुर्थी

Answer:

D.चतुर्थी

Reference ID:(1655) Choose the correct form of the noun for the given sentence:

Mussolini was an Italian \_\_\_\_\_.

A.dictatorship

B.dictate

C.dictator

D.dictated

Answer:

C.dictator

Reference ID:(1916) महाराष्ट्र राज्याची निर्मिती कधी झाली?

A.1956

B.1960

C.1962

D.1964

Answer:

B.1960

Reference ID:(1659) Choose appropriate articles for the given sentence:

My friend wore \_\_\_ pretty red dress for \_\_\_ party.

A.the, an

B.a, the

D. a, an

Answer:

B.a, the

Reference ID:(1656)

Choose the appropriate collective noun to complete the sentence.

A \_\_\_\_ of elephants blocked our way.

A.group

B.pride

C.herd

D.crew

Answer:

C.herd

Reference ID:(1942)

17 नोव्हेंबर, 2017 ला शुक्रवार येतो. खालीलपैकी कोणत्या वर्षी 17 नोव्हेंबरला पुन्हा शुक्रवार येईल?

A.2019

B.2020

C.2022

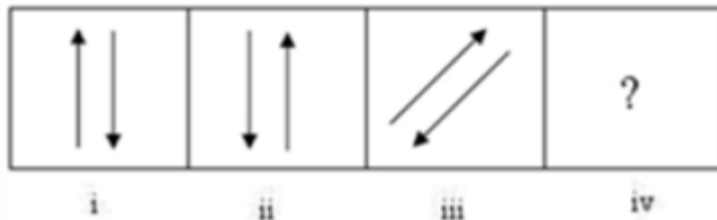
D.2023

Answer:

D.2023

Reference ID:(5988)

खाली दिलेल्या क्रमानुसार, पुढे कोणती आकृती येईल?





Answer:



Reference ID:(1689)

ध्वनिदर्शक शब्दांची योग्य जोडी ओळखा.

- A. वीजांचा – गडगडाट
- B. ढगांचा – कडकडाट
- C. तलवारींचा – खणखणाट
- D. बांगड्यांचा – कलकलाट

Answer:

C. तलवारींचा – खणखणाट

Reference ID:(1695)

खालीलपैकी योग्य पर्याय निवडा.  
काजूची असते -----.

- A. तुकडी
- B. गाथण
- C. चळत
- D. जुडी

Answer:

B. गाथण

Reference ID:(1667)

Choose the most suitable conjunction for the given sentence:

\_\_\_\_\_ he is our chosen leader, we will support him.

A. As

B. But

D.Therefore

Answer:

A.As

Reference ID:(1682)

विमानांचा ताफा तसा माणसांचा --- ?  
समूहदर्शक शब्द ओळखा.

A.काफिला

B.वृंद

C.जुडगा

D.जमाव

Answer:

D.जमाव

Reference ID:(1663)

Choose the option with the appropriate question tag for the given sentence.

It is sunny, \_\_\_\_\_

A.aren't it?

B.wasn't it?

C.isn't it?

D.weren't it?

Answer:

C.isn't it?

Reference ID:(1691)

खालीलपैकी चुकीची जोडी कोणती ?

A.बोका – भाटी

B.व्याही – विहीण

C.गृहस्थ – गृहस्थी

D.जनक – जननी

Answer:

C.गृहस्थ – गृहस्थी

Reference ID:(1918)

मुंबईमध्ये (बॉम्बेमध्ये) 1885 साली भारतीय राष्ट्रीय काँग्रेसचे पहिले अधिवेशन खालीलपैकी कोणी आयोजित केले होते?

B.ए.ओ. ह्यूम

C.मदन मोहन मालविय

D.अल्फ्रेड वेब

Answer:

B.ए.ओ. ह्यूम

Reference ID:(1681)

‘तोंडाला कुलूप लावणे’ या वाक्प्रचाराचा अर्थ -

A.काहीही न बोलणे.

B.वाचा जाणे.

C.काहीही न खाणे.

D.जपून बोलणे.

Answer:

A.काहीही न बोलणे.

Reference ID:(1935)

अजय आणि बाबू यांनी अनुक्रमे रु. 16000 आणि रु. 12000 रुपयांची गुंतवणूक करून भागीदारीमध्ये प्रवेश केला. 3 महिन्यांनंतर, अजयने रु. 5000 काढले आणि बाबू ने आणखी रु. 5000 ची गुंतवणूक केली. अजय आणि बाबूचा संबंधित नफा वाटून घेण्याचे गुणोत्तर काय असेल?

A.2 : 3

B.9 : 7

C.7 : 9

D.8 : 11

Answer:

C.7 : 9

Reference ID:(1913)

महाराष्ट्र लोक सेवा हक्क कायदा, 2015 अंतर्गत ज्या व्यक्तीचे, सेवा करण्याचे आवेदन नकारले गेले आहे त्याने \_\_\_\_\_ दिवसांच्या आत पहिल्या अपीलीय प्राधिकरणाकडे अपील करणे आवश्यक आहे.

A.60

B.90

C.30

D.15

Answer:

C.30



Reference ID:(1664)

Choose the correct form of modal auxiliary verb for the given sentence:

\_\_\_\_\_ it rain, there will be no match today.

A.Will

B.Could

C.Would

D.Should

Answer:

D.Should

Reference ID:(1927)

जर JOSEPH ला FKOALD असे संकेतबध्द केले जात असेल तर GEORGE ला कसे संकेतबध्द केले जाईल?

A.CADMNO

B.CAKNI

C.CAKNCA

D.CBLODB

Answer:

C.CAKNCA

Reference ID:(1920)

मंगळ ग्रहाला किती नैसर्गिक उपग्रह आहेत?

A.एकही नाही

B.1

C.2

D.3

Answer:

C.2

Reference ID:(1653)

Choose the correct form of adjective for the given sentence:

In the office, Pawan was \_\_\_\_\_ Jadhav.

B.more superior

C.super then

D.superior than

Answer:

A.senior to

Reference ID:(1943)

मालिकेकडे पहा

EXAMINATIONSEXAMINATIONS...EXAMINATIONS सोबत

EXAMINATIONS ची 10 वेळा पुंनरावृत्ती झाली आहे. पहिल्या टप्प्यात, सम स्थितीमध्ये असलेली अक्षरे हटविली गेली. दुसऱ्या टप्प्यात, उर्वरित अक्षरांमधील सम स्थितीत असलेली अक्षरे पुन्हा हटविली गेली. हे तोपर्यंत केले गेले जोवर तुमच्याकडे एक अक्षर उरेल. ते अक्षर कोणते आहे?

A.M

B.N

C.I

D.E

Answer:

D.E

Reference ID:(1930)

वगळलेली संख्या निवडून मालिका पूर्ण करा:

5, 6, 9, 15, \_\_\_\_\_, 40

A.21

B.25

C.27

D.33

Answer:

B.25

Reference ID:(1911)

(आरटीआय) माहिती अधिकार अधिनियम, 2005 चा कोणते कलम तृतीय पक्षाच्या माहितीची व्यवस्था पाहते?

A.20

C.13

D.18

Answer:

B.11

Reference ID:(1657)

Choose the option with the appropriate suffix to complete the given sentence:

Children who do not perform well in examinations need a lot of encourage\_\_\_\_\_.

A.-ed

B.-ful

C.-ing

D.-ment

Answer:

D.-ment

Reference ID:(1672)

Choose the correct form of tense for the given sentence:

It \_\_\_\_\_ impossible \_\_\_\_\_ a crying baby.

A.is, ignoring

B.had been, to ignoring

C.was, ignoring

D.is, to ignore

Answer:

D.is, to ignore

Reference ID:(1662)

Choose the most suitable determiner for the given sentence:

As he is an introvert, he is not popular and has \_\_\_\_\_ friends.

A.a little

B.little

C.much

D.few

Reference ID:(1688) चा, ची, चे, च्या, ची हे कोणत्या विभक्तीचे प्रत्यय आहेत?

A.प्रथमा

B.द्वितीया

C.तृतीया

D.षष्ठी

Answer:

D.षष्ठी

Reference ID:(1915) \_\_\_\_\_ वर्षामध्ये राजपूत आणि अफगाण सेनेदरम्यान साम्मेलची लढाई लढली गेली?

A.1314

B.1411

C.1678

D.1544

Answer:

D.1544

Reference ID:(1904) डीआरडीओ द्वारे \_\_\_\_\_ श्रेणीमध्ये मनुष्य सुवाह्य टँक रोधी मार्गदर्शित क्षेपणास्त्राची (एमपीएटीजीएम) पहिली उड्डाण चाचणी आयोजित केली होती?

A.ओडीसा

B.कालपक्कम

C.अहमदनगर

D.हैदराबाद

Answer:

C.अहमदनगर

Reference ID:(1680) 'धाव, नृत्य, हास्य' या नामांचा प्रकार ओळखा.

A.सामान्य नाम

B.विशेष नाम

C.धर्मिवाचक नाम

D.भाववाचक नाम

Answer:

D.भाववाचक नाम

Reference ID:(1933)

अ एक काम 12 तर ब 16 दिवसांत पूर्ण करतो. त्या दोघांनी ते काम 6,000 रुपयांसाठी घेतले. क च्या मदतीने त्यांना ते काम 6 दिवसांत पूर्ण करता आले. तर उत्पन्नात ब चा वाटा किती?

A.2,000 रुपये

B.1,880 रुपये

C.2,250 रुपये

D.2,440 रुपये

Answer:

C.2,250 रुपये

Reference ID:(1679)

समूहदर्शक शब्दांची योग्य जोडी ओळखा.

A.फुलझाडांचा – ताटवा

B.प्रश्नपत्रिकांचा – पुंज

C.द्राक्षांचा – ढीग

D.पक्षांचा – कळप

Answer:

A.फुलझाडांचा – ताटवा

Reference ID:(1945)

A हा पाईप टाकी 4 तासांमध्ये भरतो तर B हा पाईप तिला 6 तासांमध्ये रिकामी करतो. जर दोन्ही पाईप एकत्र उघडले गेले, तर टाकी भरण्यासाठी \_\_\_\_\_ कालावधी लागेल.

A.8 तास

B.9 तास

C.10 तास

D.12 तास

Answer:

D.12 तास

Reference ID:(1908)

कविता राऊत यांनी 2010 च्या कॉमन वेल्थ गेम् आणि आशियाई क्रिडा स्पर्धेत (एशियन गेम्स) 10,000 मिटर्स धावण्याच्या शर्यतीमध्ये \_\_\_\_\_ आणि \_\_\_\_\_ पदक जिंकली होती?

A.कांस्य, सुवर्ण

C.कांस्य, रौप्य

D.सुवर्ण, सुवर्ण

Answer:

C.कांस्य, रौप्य

Reference ID:(1690)

‘बोटावर नाचवणे’ या वाक्प्रचाराचा अर्थ -

A.बोटं हलवणे.

B.स्वतःचे ऐकायला लावणे.

C.बोटांनी ताल धरणे.

D.बोट दाखवणे.

Answer:

B.स्वतःचे ऐकायला लावणे.

Reference ID:(1700)

1893 मध्ये, भारतीय स्वातंत्र्य सेनानी आणि समाज सुधारक, लोकमान्य बाळ गंगाधर टिळकांनी त्यांच्या महाराष्ट्रामधील वार्षिक घरगुती उत्सवाचे रुपांतर एका मोठ्या सार्वजनिक कार्यक्रमांमध्ये केले. हा उत्सव म्हणजे:

A.दिवाळी

B.होळी

C.गणेश चतुर्थी

D.जन्माष्टमी

Answer:

C.गणेश चतुर्थी

Reference ID:(1660)

Choose the appropriate articles to complete the given sentence:

She has two children, \_\_\_ boy and \_\_\_ girl. \_\_\_ boy is two and the girl is five.

A.the, the, A

B.a, a, The

C.a, the, A

D.the, a, The

Answer:

B.a, a, The

1, 2, 3, 5, 8, 14

A.14

B.8

C.3

D.2

Answer:

A.14

Reference ID:(1666)

Choose the appropriate prepositional phrase for the given sentence:

The party workers were busy campaigning \_\_\_\_\_the polls.

A.ahead by

B.ahead out

C.ahead of

D.ahead in

Answer:

C.ahead of

Reference ID:(1698)

‘मी बैलाला मारतो.’ या वाक्यातील कर्म ओळखून लिहा.

A.बैलाला

B.मी

C.मारतो

D.बैलाला मारतो

Answer:

A.बैलाला

Reference ID:(1902)

राजीव गांधी विज्ञान आणि तंत्रज्ञान आयोगाने राष्ट्रीय कौंसिल फॉर सायन्स म्युजियमच्या सहयोगाने \_\_\_\_\_ येथे उप-प्रादेशिक विज्ञान केंद्र स्थापित केले आहे.

A.ठाणे

B.सोलापूर

C.लातूर

Answer: B.सोलापूर

Reference ID:(1693)

खाली दिलेल्या शब्दांच्या यादीतून एकाच अर्थाचे शब्द तीन वेगवेगळ्या लिंगात आढळतात. योग्य पर्याय निवडा.

A.घार, सुसर, घूस

B.देह, काया, शरीर

C.मासा, गरूड, पोपट

D.तनय, सुत, पुत्र

Answer: B.देह, काया, शरीर

Reference ID:(1946)

एका वीस प्रश्नांच्या परीक्षेमध्ये, प्रत्येक बरोबर उत्तराला 5 गुण, प्रत्येक अनुत्तरीत प्रश्नाला 1 गुण आणि चुकीच्या उत्तराला 0 गुण होते. खालीलपैकी कोणते एक गुण मिळवणे शक्य नाही?

A.90

B.91

C.92

D.93

Answer: D.93

Reference ID:(1675)

'बाळ, एवढा लाडू खाऊन टाक.' या वाक्यातील क्रियापद ओळखा.

A.बाळ

B.एवढा

C.लाडू

D.खाऊन टाक

Answer: D.खाऊन टाक

Reference ID:(1661)

Choose the correct form of verb for the given sentence:

The Social Foundation \_\_\_\_\_ most of its money through donations from the wealthy.



B.receiving

C.has receiving

D.have received

Answer:

A.receives

Reference ID:(1674)

समूहदर्शक शब्द सांगा.  
पिकत घातलेल्या आंब्यांची ----- असते.

A.गाथण

B.थप्पी

C.अढी

D.रास

Answer:

C.अढी

Reference ID:(1658)

Choose the option with the appropriate suffix to complete the given sentence:

Being addict\_\_\_\_\_ to your smart phones can increase the risk of blind\_\_\_\_\_.

A.-ion, -ness

B.-tive, -hood

C.-able, -ity

D.-ed, -ness

Answer:

D.-ed, -ness

Reference ID:(1906)

'खोया पाया' पोर्टल ही \_\_\_\_\_ वरील माहितीची देवाणघेवाण करण्यासाठीची नागरिकांसाठीची वेबसाईट आहे.

A.हरवलेली आणि सापडलेली प्रमाणपत्रे

B.प्राचीन आदिवासी वसाहती

C.हरवलेली आणि सापडलेली मुले

D.जूनी प्राचीन संस्कृति

Answer:

B.प्राचीन आदिवासी वसाहती

Reference ID:(1670) Choose the correct form of verb that is in agreement with the subject:

\_\_\_\_\_ someone at the door? I can hear a knock.

A.Is

B.Are

C.Were

D.Has

Answer:

A.Is

Reference ID:(1937)

राज कुमारने प्रत्येकी रु. 990 ला 2 कॅल्क्युलेटर्सची विक्री केली. एका कॅल्क्युलेटरवर त्याला 10% नफा झाला आणि दुसऱ्यावर 10% तोटा झाला. व्यवहारामधील त्याचा नफा किंवा तोटा काढा.

A.ना नफा-ना तोटा

B.1% चा नफा

C.1% चा तोटा

D.5% चा तोटा

Answer:

C.1% चा तोटा

Reference ID:(1914)

101 वी घटनात्मक दुरुस्ती कशाशी संबंधित आहे?

A.आर्थिकदृष्ट्या दुर्बल उच्च जातीसाठी आरक्षण

B.वस्तू आणि सेवा कर

C.शिक्षणाचा अधिकार

D.गोपनीयतेचा अधिकार

Answer:

B.वस्तू आणि सेवा कर

Reference ID:(1917)

महाराष्ट्रातील \_\_\_\_\_ जिल्ह्यात भोगवती नदीवर राधानगिरी जलविद्युत प्रकल्प उभारला आहे.

B.कोल्हापूर

C.पुणे

D.परभणी

Answer:

B.कोल्हापूर

Reference ID:(1683)

भाववाचक नाम नसलेला पर्याय कोणता आहे ?

A.बाल्य

B.तारुण्य

C.वार्धक्य

D.वर्ग

Answer:

D.वर्ग

Reference ID:(1921)

अन्नसाखळीमध्ये तृतीय पोषण पातळी नेहमी \_\_\_\_\_ यांनी व्यापलेली असते.

A.उत्पादक

B.मांसभक्षी

C.शाकभक्षी

D.विघटक

Answer:

B.मांसभक्षी

Reference ID:(1901)

सोनेरी रंगाच्या दोऱ्याने कशिदा केलेल्या आणि पोपटांचा मोतीफ म्हणून वापर अशा महाराष्ट्रामध्ये प्रामुख्याने उत्पादित केल्या जाणाऱ्या पारंपारिक प्रादेशिक साड्यांना म्हणून जाणले जाते:

A.पटोला

B.जामदानी

C.कलमकारी

D.पैठणी

Reference ID:(1934)

अर्जुन आणि भास्कर यांनी अनुक्रमे 40,000 रुपये आणि 60,000 रुपये गुंतवणूक करून एक व्यवसाय सुरू केला. वर्षाच्या अखेरीस अर्जुनचा नफ्यामधील हिस्सा 10,000 रुपये होता. एकूण नफा किती होता?

A.रु. 15,000

B.रु. 25,000

C.रु. 20,000

D.रु. 30,000

Answer:

B.रु. 25,000

Reference ID:(1449)

Choose the option that has all words spelt correctly:

A.Grammer , television , promise

B.Grammar , television , promise

C.Gramar , television , promise

D.Grammar , telivision , promice

Answer:

B.Grammar , television , promise

Reference ID:(1676)

खालीलपैकी विशेष नाम नसलेला पर्याय कोणता आहे ?

A.हिमालय

B.सातपुडा

C.अरवली

D.पर्वत

Answer:

D.पर्वत

Reference ID:(1697)

'पुस्तक' या शब्दाचे लिंग खालीलपैकी कोणते मानतात?

B.पुल्लिंग

C.स्त्रीलिंग

D.नपुंसकलिंग

Answer:

D.नपुंसकलिंग

Reference ID:(1939)

एका डब्यामध्ये 1, 2, 3,.....,15 अशा संख्या असलेली 15 कार्डे आहेत. बॉक्समधून यादृच्छिकपणे एक कार्ड काढले गेले. त्या कार्डवरील संख्या ही अविभाज्य संख्या असल्याची संभाव्यता काय आहे?

A.1/2

B.3/5

C.2/5

D.1/3

Answer:

C.2/5

Reference ID:(1696)

‘रावण रामाकडून मारला जातो.’ या वाक्याचा प्रयोग ओळखा.

A.भावे

B.कर्मणी

C.कर्तरी

D.नवीन कर्मणी

Answer:

D.नवीन कर्मणी

Reference ID:(1903)

शासकिय योजना आणि माहिती पाहणे आणि विविध कागदपत्रांसाठी आवेदन करण्यास जनतेला सक्षम करणारे खालील विकल्पांपैकी कोणते सार्वजनिक तक्रारनिवारण पोर्टल आहे?

A.आपले सरकार

B.सरकार उपयोग

C.उपयोग सरकार

D.सुलभ उपयोग

Answer:

A.आपले सरकार

A.आवाज गहन होणे

B.उंचीतील वाढ

C.खांदे अरुंद होणे

D.मिशी येणे

Answer:

C.खांदे अरुंद होणे

Reference ID:(1654)

Choose the correct form of adjective for the given sentence:

The law requires \_\_\_\_\_ reform to ensure justice for all.

A.radicalism

B.radical

C.racist

D.radically

Answer:

B.radical

Reference ID:(5986)

राजेश 14 तासांत 75 पानं टाईप करतो. तर 20 तासांत तो किती पानं टाईप करू शकेल?

$107\frac{1}{7}$  पानं

$113\frac{2}{9}$  पानं

$106\frac{1}{4}$  पानं

$127\frac{1}{7}$  पानं

Answer:

$107\frac{1}{7}$  पानं

Reference ID:(1938)

एक फासा एकदा फेकण्यात येतो. तो सम असण्याची संभाव्यता शोधा.

A.5/6

B.1/2

C.1/3

Answer: B.1/2

Reference ID:(1651) Choose the option that best punctuates the given sentence:

Why don't you visit the doctor said my mother

A.“Why don't you, visit the doctor said my mother.”

B.“Why don't you visit the doctor ,”said my mother.

C.“Why? don't you, visit the doctor” said my mother.

D.“Why don't you visit the doctor?” said my mother.

Answer: D.“Why don't you visit the doctor?” said my mother.

Reference ID:(1450) Choose the option that correctly spells the words to be filled in the given sentence:

During the world tour, my friend enjoyed visiting \_\_\_\_\_ and \_\_\_\_\_.

A. Seatle , Edinburgh

B.Seattle , Edinborough

C.Siattle , Edinburg

D.Seattle , Edinburgh

Answer: D.Seattle , Edinburgh

Reference ID:(1686) 'इच्छा तेथे मार्ग' या म्हणीचा अर्थ -

A.चांगल्या मार्गात अडथळे असतातच.

B.सरळ मार्गाने जाण्याची इच्छा असणे.

C.एखादी गोष्ट करण्याची इच्छा असेल तर काहीतरी मार्ग निघतोच.

D.आपली इच्छा व्यक्त करणे.

Answer: C.एखादी गोष्ट करण्याची इच्छा असेल तर काहीतरी मार्ग निघतोच.

17, 19, 23, 29, 37, \_\_\_\_\_

A.40

B.42

C.45

D.47

Answer:

D.47

Reference ID:(1925)

वडील आणि आई ह्यांचे सरासरी वय 22 वर्ष आहे. अजून चार वर्षांनी वडील, आई आणि त्यांच्या मुलगा ह्यांचे सरासरी वय 18 वर्ष असणार आहे. तर त्या वेळी मुलाचे वय काय असेल?

A.4 वर्ष

B.3 वर्ष

C.2 वर्ष

D.1 वर्ष

Sab Answer: bhaijaan

C.2 वर्ष

Sabka ek bhaijaan

Sabka ek bhaijaan

Reference ID:(1944)

दर मिनिटाला 3 बटाटे अशाप्रकारे 44 बटाट्यांची रास सोलण्यास हिनाने सुरूवात केली. चार मिनिटांनंतर, चित्राही तिच्यासोबत काम करू लागली आणि तिने दर मिनिटाला 5 बटाटे यादराने बटाटे सोलायला सुरूवात केली. जेव्हा त्यांचे काम संपले, तेव्हा चित्राने किती बटाटे सोलले असतील?

A.25

B.20

C.15

D.30

Answer:

B.20

Reference ID:(1910)

भालचंद्र वानाजी नेमाडे यांना \_\_\_\_\_ वर्षांमध्ये त्यांच्या साहित्यामधील योगदानासाठी प्रतिष्ठीत ज्ञानपीठ पुरस्कार प्राप्त झाला

A.2015

B.2016



D.2018

Answer: A.2015

Reference ID:(1687) 'बाबांनी भाजी आणली.' या वाक्यात 'भाजी' हे मुळात कोणते नाम आहे?

A.धर्मवाचक नाम

B.भाववाचक नाम

C.सामान्य नाम

D.विशेष नाम

Answer: C.सामान्य नाम

Reference ID:(1931)

अ आणि ब हे दोन मित्र अनुक्रमे क्ष आणि य ह्या ठिकाणांहून निघाले जे एकमेकांपासून 390 किमी लांब होते. ते जर अनुक्रमे ताशी 5 किमी आणि 8 किमीच्या वेगाने एकमेकांच्या विरुद्ध दिशेने जात असतील तर ते एकमेकांना किती वेळाने ओलांडतील?

A.10 तास

B.20 तास

C.30 तास

D.40 तास

Answer: C.30 तास

Reference ID:(1669)

Choose the most appropriate usage to fill in the blanks in the given sentence:

He is \_\_\_\_\_ to drinking and spends \_\_\_\_\_ on alcohol every evening.

A.addicted, lavished

B.addict, lavishes

C.addition, lavish

D.addicted, lavishly

Answer: D.addicted, lavishly

Reference ID:(1940)

8 बास्केटबॉल खेळांमध्ये, दिपाला 7, 4, 3, 6, 8, 3, 1 आणि 5 गुण मिळाले. तिच्या नवव्या खेळामध्ये, तिला 10 पेक्षा कमी गुण मिळाले आणि नऊ खेळांची सरासरी हा पूर्णांक होता. पुन्हा तिच्या दहाव्या खेळामध्ये, तिला 10 पेक्षा कमी गुण मिळाले आणि 10 खेळासाठी तिची सरासरीही पूर्णांक होती. नवव्या आणि दहाव्या खेळामध्ये तिने मिळवलेल्या गुणांच्या संख्यांचा गुणाकार काय आहे?

A.35

B.40

C.48

D.56

Answer:

B.40

Reference ID:(1912)

(आरटीआय) माहिती अधिकार अधिनियम, 2005 च्या पहिल्या अनुसूचीमध्ये याचा समावेश आहे:

A.मुख्य माहिती आयुक्त किंवा माहिती आयुक्तांनी घेण्याच्या शपथीचे किंवा अनुमोदनाचे स्वरूप

B.वगळलेल्या सुरक्षा संस्था

C.जन माहिती अधिकाऱ्यांची यादी

D.अपीलाच्या तरतुदी

Answer:

A.मुख्य माहिती आयुक्त किंवा माहिती आयुक्तांनी घेण्याच्या शपथीचे किंवा अनुमोदनाचे स्वरूप

Reference ID:(1924)

दोन व्यक्तींच्या वयामध्ये 16 चा फरक आहे. 6 वर्षांपूर्वी मोठ्याचं वय धाकट्यापेक्षा 3 पट होतं. तर मोठ्याचं सध्याचं वय काय आहे?

A.15

B.20

C.25

D.30

Answer:

D.30

He's like a bear with a sore head.

- A.angry
- B.injured
- C.bad tempered
- D.jovial

Answer: C.bad tempered

Reference ID:(1684) 'डरकणे' हा ध्वनिदर्शक शब्द कोणत्या प्राण्यासाठी वापरला जातो?

- A.कोंबडा
- B.सिंह
- C.म्हैस
- D.बेडूक

Answer: D.बेडूक

Reference ID:(1699) 14 जानेवारी 2018 रोजी भारताच्या राष्ट्रपतींनी महाराष्ट्रातील खालीलपैकी कोणत्या ठिकाणी "इकॉनॉमिक डेमोक्रेसी इन्वलेव्हचे"चे उद्घाटन केले होते?

- A.कोल्हापूर
- B.सोलापूर
- C.पुणे
- D.ठाणे

Answer: D.ठाणे

Reference ID:(1694) 'मनुष्य' या शब्दाचे भाववाचक नाम कोणते आहे?

- A.मनुष्यत्व
- B.मानव
- C.माणूस
- D.मानवी

Reference ID:(1677) 'करावे तसे भरावे' या म्हणीचा अर्थ -

A.मागून येऊन वरचढ होणे.

B.देहाप्रमाणे आहार असणे.

C.आपल्या ऐपतीप्रमाणे खर्च करावा.

D.जसे कृत्य असेल त्याप्रमाणे चांगलेवाईट फळ भोगावे लागते.

Answer:

D.जसे कृत्य असेल त्याप्रमाणे चांगलेवाईट फळ भोगावे लागते.

Reference ID:(1909)

स्कॅश रॅकेट्स फेडरेशन ऑफ इंडियाद्वारे आयोजित सीसीआय पश्चिम भारत स्कॅश चॅम्पियनशीप (19 वर्षाखालील) यांना जिंकली होती:

A.तुषार सहानी

B.रुत्विक राव

C.महेश मानगांवकर

D.वीर चव्हाण

Answer:

C.महेश मानगांवकर

Reference ID:(1692)

'विडा उचलणे' या वाक्प्रचाराचा अर्थ -

A.पैज लावणे.

B.विडा उचलून खाणे.

C.विडा देणे.

D.प्रतिज्ञा करणे.

Answer:

D.प्रतिज्ञा करणे.

Reference ID:(1665)

Choose the appropriate preposition for the given sentence:

The neighbour peeped \_\_\_\_\_ the window and found the woman lying unconscious.

A.from

B.across

D.into

Answer:

C.through

Reference ID:(1941)

20, 15, 10, ... या मालिकेमधील 15<sup>वे</sup> पद काय असेल?

A.-40

B.-45

C.-50

D.0

Answer:

C.-50

Date of Exam : 03-07-2019 10:00 AM

Reference ID:(5989)

खाली दिलेल्या क्रमानुसार, पुढील आकृती कोणती असेल?



Answer:



Reference ID:(2166)

Choose the appropriate conjunctions for the given sentence:

He should \_\_\_\_\_ work hard every day \_\_\_\_\_ decide not to join that company.

A.so, what

B.if, so

C.either, or

D.also, then

Answer:

C.either, or

Reference ID:(2422)

आईचं वय 50 वर्ष आणि मुलाचं वय 22 वर्ष आहे. \_\_\_\_\_ वर्षांनी आईचं वय मुलाच्या वयाच्या दुप्पट असेल.

A.4

B.5

C.6

D.8

Answer:

C.6

Reference ID:(2412)

खालीलपैकी कोणत्या खटल्यामध्ये सर्वोच्च न्यायालयाने गोपनीयतेचा अधिकार मूलभूत अधिकार म्हणून घोषित केला आहे?

A.सीमा विरूद्ध अश्विनी कुमार

B.न्यायमूर्ती के.एस्. पुट्टास्वामी (निवृत्त) व आणखी एक विरूद्ध भारत सरकार (युनियन ऑफ इंडिया) आणि इतर

C.जोसेफ शार्डिन विरूद्ध भारत सरकार (युनियन ऑफ इंडिया)

D.वरीलपैकी कोणीही नाही

Reference ID:(2401)

युनिटमध्ये किमान 50 प्रशिक्षित पदांची नियुक्ती करणारे कोणतेही ग्रामीण बीपीओ हे महाराष्ट्र आयटी/आयटीइएस धोरण 2015 अंतर्गत \_\_\_\_\_ टक्क्यांच्या भांडवली अनुदानास पात्र असते.

A.पन्नास

B.वीस

C.ऐंशी

D.साठ

Answer:

B.वीस

Reference ID:(2180)

‘आंधळी कोशिंबीर’ या शब्दातून पुढीलपैकी कोणता अर्थ सूचित होतो?

A.भाजी

B.फळ

C.खेळ

D.पदार्थ

Answer:

C.खेळ

Reference ID:(2170)

Choose the correct form of tense for the given sentence:

Don't skip breakfast because it \_\_\_\_\_ the energy \_\_\_\_\_ your day after a long night.

A.provides, to start

B.is providing, to starting



D.has provided, starting

Answer:

A.provides, to start

Reference ID:(2413)

सिंधु नदीपासून ते बंगालमधील सोनारगांवपर्यंत ग्रॅन्ड ट्रंक रोड नामक जुना भव्य रस्ता सुर साम्राज्याच्या कोणत्या सत्ताधिशाने बहाल केला?

A.सिकंदर शाह

B.शेर शाह

C.इब्राहिम शाह

D.फिरुझ शाह

Answer:

B.शेर शाह

Reference ID:(2169)

Which one of the following is NOT a simple sentence?

A.I left for the station at 9.30 a.m.

B.On reaching the station, I found that the train was late by two hours.

C.There was an announcement for the delay in the train.

D.All passengers were upset.

Answer:

B.On reaching the station, I found that the train was late by two hours.

Reference ID:(2424)

सरासरी काढा.  
25,32,48,75,68&28

A.68

B.49

D.46

Answer:

D.46

Reference ID:(2430)

अ हा ब पेक्षा दुप्पट वेगवान आहे तर ब हा क पेक्षा तिप्पट वेगवान आहे. क कडून 54 मिनिटांत पार केले जाणारे अंतर ब कडून किती वेळात पार केले जाईल?

A.18 मिनिट

B.27 मिनिट

C.36 मिनिट

D.9 मिनिट

Answer:

A.18 मिनिट

Reference ID:(2406)

कोणत्या तारखेला शिव छत्रपती पुरस्कार आयोजित केला होता?

A.15 फेब्रुवारी 2018

B.15 मार्च 2018

C.17 फेब्रुवारी 2018

D.17 मार्च 2018

Answer:

C.17 फेब्रुवारी 2018

Reference ID:(2159)

Choose the correct form of verb for the given sentence:

Anju \_\_\_\_\_ classical music since she was six years old.

A.learns

C.has been learning

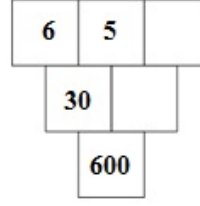
D.did learn

Answer:

C.has been learning

Reference ID:(5990)

प्रत्येक चौकटीतील संख्या ही तिच्यावरील दोन अधिव्यापीत चौकटीतील संख्येचा गुणाकार आहे.  
रिकाम्या चौकटीमधील संख्यांची बेरीज \_\_\_ आहे.



A.20

B.4

C.24

D.30

Answer:

C.24

Reference ID:(2192)

‘आजीने नातीला गोष्ट सांगितली.’ या वाक्यातील कर्ता ओळखा.

A.आजीने

B.गोष्ट

C.नातीला

D.सांगितली

Reference ID:(2443)

दोन नळ एक टाकी अनुक्रमे 1 लीटर प्रति मिनिट व 2 लीटर प्रति मिनिट दराने भरतात. एक तिसरा नळ ती टाकी  $\frac{1}{2}$  लीटर प्रति मिनिट या दराने रिकामी करतो. त्या टाकीची क्षमता 1000 लीटरची असेल, तर तीन ही नळ उघडे असल्यास ती टाकी भरायला किती वेळ लागेल?

A.7 तास

B.6 तास 40 मिनिटे

C.6 तास 30 मिनिटे

D.6 तास

Answer:

B.6 तास 40 मिनिटे

Reference ID:(2194)

'मी चाकूने पेन्सिल तासली.' या वाक्यातील करणदर्शक पद ओळखा.

A.मी

B.चाकूने

C.पेन्सिल

D.तासली

Answer:

B.चाकूने

Reference ID:(2428)

वगळलेली संख्या निवडून मालिका पूर्ण करा:

121, 144, 169, \_\_\_\_\_, 225

A.190

B.196

C.200

Answer: B.196

Reference ID:(2193) अचूक पर्याय ओळखा.

A.पात्र – योग्य, नाटकातील भूमिका

B.वर – दिव्याची वात, एक विकार

C.माया – मोह, मत्सर

D.वाणी – मुलगी, जीभ

Answer: A.पात्र – योग्य, नाटकातील भूमिका

Reference ID:(2186) खालीलपैकी कोणत्या वाक्यात संबोधन विभक्ती आहे ?

A.मुलांनो नेहमी हसत रहा.

B.मुलांना खाऊ पाहिजे.

C.मुलांशी संवाद साधा.

D.मुलांची कवायत बघा.

Answer: A.मुलांनो नेहमी हसत रहा.

Reference ID:(2165) Choose the most suitable conjunction for the given sentence:

The patient had to wait for a long time \_\_\_\_\_ the doctor came late.

A.but

B.and

C.yet

Answer:

D.because

Reference ID:(2421)

मानवामध्ये पुनरूत्पादन कार्ये \_\_\_\_\_ द्वारे सुरू होतात.

A.विकर

B.संप्रेरक

C.नसा

D.रक्त

Answer:

B.संप्रेरक

Reference ID:(2181)

'पणती' या नामाचे अनेकवचन ओळखा.

A.पणजी

B.पणतू

C.पणत्या

D.पनत्या

Answer:

C.पणत्या

Reference ID:(2404)

\_\_\_\_\_ ही प्रकल्प 75 खाली तयार केलेली भारतीय नौदलाचे स्कॉरपियन वर्गाची पहिली छुपी पाणबुडी आहे.

A.कारंज

B.खांद्री

C.वजिर

Answer:

D.कालवारी

Reference ID:(2190)

‘इकडे आड तिकडे विहीर’ या म्हणीचा अर्थ -

A.विहिरीच्या आड लपणे.

B.दोन्ही बाजूंनी अडचणीची परिस्थिती असणे.

C.दोन विहिरी शेजारी खोदणे.

D.संकटावर मात करणे.

Answer:

B.दोन्ही बाजूंनी अडचणीची परिस्थिती असणे.

Reference ID:(2435)

एका आयतामध्ये, जर लांबी ही 40% नी वाढवली आणि रुंदी ही 30% नी कमी केली तर क्षेत्रफळातील बदल हा                      असा असेल.

A.5% ने वाढ

B.5% ने घट

C.2% ने वाढ

D.2% ने घट

Answer:

D.2% ने घट

Reference ID:(2438)

52 पत्ते असलेल्या एका गड्डीत एक राजा येण्याची संभाव्यता किती आहे?

A.5/52

B.2/13

C.3/52

Answer: D.1/13

Reference ID:(2439) 1- 2 + 3 – 4 + 5 – 6 + ...मालिकेतील 100 पदांची बेरीज किती आहे?

A.100

B.50

C.-50

D.यापैकी कोणतेही नाही

Answer: C.-50

Reference ID:(2156) Choose the option with the appropriate suffix to complete the given sentence:

She was extremely creat\_\_\_\_\_ and could make delight\_\_\_\_\_ things out of waste material.

A.-ful, -ing

B.-ion, -ive

C.-ive, -ful

D.-ively, -fully

Answer: C.-ive, -ful

Reference ID:(2437) इंग्रजी शब्दावलीमध्ये 26 अक्षरे असतात. वर्णाक्षरांच्या समुहामधून स्वराची निवड होण्याची संभाव्यता काय आहे?

A.6/26



C.26/5

D.5/26

Answer:

D.5/26

Reference ID:(2427)

वगळलेली संख्या निवडून मालिका पूर्ण करा:

134, 245, 356, 467, \_\_\_\_\_

A.579

B.578

C.568

D.478

B.578

Reference ID:(2198)

महाराष्ट्रातील कोणत्या शहरात दुष्ट प्रवृत्तीचे प्रतिनिधी असणारे पुतळे जाळले जातात असा मारबत हा 150 वर्ष जुना उत्सव साजरा केला जातो?

A.नागपूर

B.पुणे

C.कोल्हापूर

D.सोलापूर

Answer:

A.नागपूर

Reference ID:(2429)

एक व्यक्ती जर ताशी 9 किमी वेगाने प्रवास करत असेल तर त्याला 243 किमी अंतर जाण्यासाठी किती कालावधी लागेल?

B.18 तास

C.24 तास

D.27 तास

Answer:

D.27 तास

Reference ID:(2155)

Choose the option with the appropriate suffix to complete the given sentence:

Be mind\_\_\_ of the steep steps and climb down slowly or your might miss your footing and fall.

A.-less

B.-ful

C.-ing

D.-ment

Answer:

B.-ful

Reference ID:(2184)

‘आयत्या बिळात नागोबा’ या म्हणीचा अर्थ -

A.एखाद्या गोष्टीचा अतिरेक करणे

B.दुसऱ्याने स्वतः साठी केलेल्या गोष्टीचा आयता फायदा मिळवणे.

C.नागपंचमीचा सण साजरा करणे.

D.नागाचे बीळ बुजवून टाकणे.

Reference ID:(2411)

वाजवी कारणाशिवाय सेवा प्रदान करण्यास अयशस्वी होणा-या नियुक्त अधिका-यावर महाराष्ट्र लोकसेवा अधिकार अधिनियम 2015 अंतर्गत कमीतकमी किती रकमेचा दंड लावला जाईल?

A.रु. 2000

B.रु. 1500

C.रु. 1000

D.रु. 500

Answer:

D.रु. 500

Reference ID:(2153)

Choose the correct form of the noun for the given sentence:

Toys hold great \_\_\_\_\_ to children.

A.attraction

B.fondness

C.attractiveness

D.attractable

Answer:

A.attraction

Reference ID:(2199)

अत्यंत विशिष्ट पध्दतीने महिलांनी शरीराभोवती 'नऊ वारी साडी' नेसण्याचे पारंपारिक वस्त्र, जी महाराष्ट्राची विशेषता आहे आणि ती उत्तरेकडील राज्यांमध्ये पाहिली जात नाही. या साडीला म्हणतात

A.पोलका

B.लुगडे

D.ओढणी

Answer:

B.लुगडे

Reference ID:(2177)

पुढीलपैकी अचूक अर्थाचा पर्याय निवडा.

A.काप – पारदर्शक वस्तू

B.काप - कानातील दागिना

C.काप – विडयातील पदार्थ

D.काप – तांबड्या रंगाची माती

Answer:

B.काप - कानातील दागिना

Reference ID:(2431)

वेळापत्रकानुसार 250 दिवसांत संपणाऱ्या एका बांधकामासाठी 200 कामगार काम करत होते. 30 दिवसांनंतर त्यातील 20 कामगार सोडून गेले. तर ते काम करण्यासाठी अजून किती दिवस लागतील?

A.244 दिवस

B.198 दिवस

C.190 दिवस

D.186 दिवस

Answer:

A.244 दिवस

Reference ID:(2414)

कोणत्या खटल्यामध्ये मोठ्या जन स्वारस्यामुळे भारतीय सर्वोच्च न्यायालयाने न्यायालयाच्या कार्यवाही थेट-प्रसारित करण्याची घोषणा केली?

A.स्वप्निल त्रिपाठी वि. भारतीय सर्वोच्च न्यायालय

C.एम. सी. मेहता वि. भारतीय केंद्र शासन

D.श्याम नारायण चौकसी वि. भारतीय केंद्र शासन आणि इतर

Answer:

A.स्वप्निल त्रिपाठी वि. भारतीय सर्वोच्च न्यायालय

Reference ID:(2436)

जर बॉक्सची लांबी 50% नी वाढवली, तर त्याची रुंदी ही 10% नी वाढते आणि उंची 60% नी कमी होते, तर किती % नी आकारमान वाढेल किंवा कमी होईल?

A.0%

B.34% घट

C.34% वाढ

D.20% घट

Answer:

B.34% घट

Reference ID:(2161)

Choose the option with the appropriate question tag for the given sentence:

She dances beautifully, \_\_\_\_\_

A.didn't she?

B.does she?

C.did she?

D.doesn't she?

Answer:

D.doesn't she?

Reference ID:(2175)

'घरोघरी मातीच्या चुली' या म्हणीचा अर्थ -

B. सर्वत्र सारखीच परिस्थिती अनुभवास येणे.

C. घरावर संकट येणे.

D. घरातील स्त्रियांना समानतेची वागणूक नसणे.

Answer:

B. सर्वत्र सारखीच परिस्थिती अनुभवास येणे.

Reference ID:(2179)

‘ओटीत घालणे’ या वाक्प्रचाराचा अर्थ -

A. सांभाळ करण्याची जबाबदारी देणे.

B. ओटी भरणे.

C. दत्तक देणे.

D. ओटीभरणाचा कार्यक्रम असणे.

Answer:

A. सांभाळ करण्याची जबाबदारी देणे.

Reference ID:(2417)

हंटर नावाचा तारकासमूह म्हणजेच \_\_\_\_\_ आहे.

A. ग्रेट बिअर (सप्तर्षी)

B. व्याध

C. पोलर बिअर

D. मृग

Answer:

D. मृग

Reference ID:(2178)

आकारान्त पुल्लिंगी नामाचे अनेक वचन ----- होते.

A. एकारान्त

C.ईकारान्त

D.यकारान्त

Answer:

A.एकारान्त

Reference ID:(2157)

Choose appropriate articles for the given sentence:

\_\_\_ sunset over the sea looked beautiful from \_\_\_ seashore.

A.A, a

B.The, the

C.The, an

D. A, the

B.The, the

Reference ID:(2440)

दिलेल्या क्रमातील पुढील संख्या कोणती आहे?

15, 100, 21, 94, 27, 88, 33, \_\_

A.39

B.45

C.82

D.76

Answer:

C.82

Reference ID:(2408)

'कोर्ट चालू आहे' हे नाट्य कोणी लिहिले

B. भालचंद्र नेमाडे

C. विजय तेंडूलकर

D. कुसुमाग्रज

Answer:

C. विजय तेंडूलकर

Reference ID:(2409)

मुख्य माहिती आयुक्ताची नियुक्ती करणाऱ्या समितीचे अध्यक्ष कोण आहेत?

A. राष्ट्रपती

B. भारताचे मुख्य न्यायाधीश

C. पंतप्रधान

D. माहिती व प्रसारण मंत्री

Answer:

C. पंतप्रधान

Reference ID:(2154)

Choose the appropriate noun form to complete the given sentence:

Both my \_\_\_\_\_ live in London.

A. son-in-laws

B. sons-in-law

C. son-in-law

D. sons-in-laws

Answer:

B. sons-in-law



Reference ID:(2425) जर DREAM ला FTGCO असे संकेतबध्द केले जात असेल तर EFFORTS ला कसे संकेतबध्द केले जाईल?

A.GHHQTVU

B.GHHQTUV

C.FGGQTVU

D.GHHQSVU

Answer: A.GHHQTVU

Reference ID:(2191) 'रामला दूध आवडते.' या वाक्यातील कर्ता ओळखा.

A.दूध

B.राम

C.दूध आवडते

D.आवडते

Answer: B.राम

Reference ID:(2163) Choose the appropriate preposition for the given sentence:

We were at the Salar Jung Museum \_\_\_\_the entire day.

A.during

B.for

C.in

D.at

Reference ID:(2172)

पुढीलपैकी कोणत्या शब्दास विविध अर्थ नाही ?

A.कधी

B.करणी

C.काठ

D.कसा

Answer:

A.कधी

Reference ID:(2403)

नोव्हेंबर 2018 मध्ये, अल्ट्रा लाईट हॉवीट्झर्स आणि \_\_\_\_\_ ट्रॅक केलेल्या स्वयं प्रस्तावित गन्सच्या खरेदीद्वारे भारतीय भूदलाच्या अग्नीशक्तीला मोठी बळकटी मिळाली.

A.के-1 वज्र

B.के-1 इंद्र

C.के-9 वज्र

D.के-9 इंद्र

Answer:

C.के-9 वज्र

Reference ID:(2174)

'देवघर' शब्दाचे लिंग ओळखा.

A.उभयलिंग

B.नपुंसकलिंग

C.स्त्रीलिंग

D.पुल्लिंग

Answer:

B.नपुंसकलिंग

Sabka ek bhaijaan

Sabka ek bhaijaan

Sabka ek bhaijaan

Reference ID:(1948)

Choose the option that correctly spells the words to be filled in the given sentence:

He was \_\_\_\_\_ for the post but his handwriting was \_\_\_\_\_.

A.eligibel , illegible

B.eligible , ilegible

C.eligible , illegible

D.iligible , illegible

Answer:

C.eligible , illegible

Reference ID:(2433)

रवी 1 रुपयाला दोन टॉफी या दराने टॉफी खरेदी करतो आणि 1 रुपयाला पाच अशाप्रकारे विक्री करतो. त्याच्या तोट्याची टक्केवारी काय असेल?

A.120%

B.90%

C.30%

D.60%

Answer:

D.60%

Reference ID:(2419)

सांडपाण्यावर उपचार करण्याच्या प्रक्रियेला काय म्हणतात?

A.जलनिस्सारण प्रक्रिया

B.क्लोरिनीकरण

C.विलवणन

Sabka ek bhaijaan

Sabka ek bhaijaan

Sabka ek bhaijaan

Answer: A.जलनिस्सारण प्रक्रिया

Reference ID:(2160) Choose the most suitable determiner for the given sentence:

What would you like to eat? \_\_\_\_\_ thing would do.

A.Little

B.Any

C.Many

D.No

Answer: B.Any

Reference ID:(2402) \_\_\_\_\_ हे भारतामधील पहिले शहर आहे ज्यामध्ये सर्व ग्राम पंचायती या डिजिटली जोडलेल्या आहे.

A.मुंबई

B.नाशिक

C.नागपूर

D.ठाणे

Answer: C.नागपूर

Reference ID:(2200) खालीलपैकी कोणाचे पहिली कार्बन तटस्थ अर्थव्यवस्था 2050 पर्यंत बनण्याचे ध्येय आहे?

A.नॉर्थ अटलांटिक ट्रीटी ऑर्गनायजेशन (नाटो)

B.दक्षिण अशियाई प्रादेशिक सहकार्य संघटना (सार्क)

D.युरेपियन संघ (ईयू)

Answer:

D.युरेपियन संघ (ईयू)

Reference ID:(2197)

स्वच्छ सर्वेक्षण ग्रामीण पुरस्कार 2018 मध्ये महाराष्ट्रामधून कोणत्या जिल्ह्याला प्रथम स्थान मिळाले?

A.औरंगाबाद

B.पुणे

C.नागपूर

D.सातारा

Answer:

D.सातारा

Reference ID:(2196)

'गवळी धार काढतो.' या वाक्यातील कर्ता ओळखा.

A.धार

B.गवळी

C.धार काढतो

D.काढतो

Answer:

B.गवळी

Reference ID:(2423)

पाच सदस्यांच्या कुटुंबाचे सरासरी वय 18 वर्ष आहे. आजोबांचे वय त्यात मिळवले असता सरासरी वय 12 वर्षांनी वाढते. तर आजोबांचे वय किती असेल?

A.75 वर्ष

B.80 वर्ष

D.90 वर्ष

Answer:

D.90 वर्ष

Reference ID:(2415)

\_\_\_\_\_ हा भारतातील एकमेव पर्यटक जिल्हा आहे ज्याला दोन जागतिक वारसा स्मारके लाभली आहेत?

A.नाशिक

B.औरंगाबाद

C.ठाणे

D.उस्मानाबाद

Answer:

B.औरंगाबाद

Reference ID:(2189)

तृतीया या विभक्तीचा कारकार्थ सांगा.

A.अपादान

B.कर्म

C.करण

D.संबंध

Answer:

C.करण

Reference ID:(2434)

A एका व्यवसायामध्ये 100000 रुपयांची गुंतवणूक करतो. चार वर्षांनंतर B, 50000 रुपयांच्या गुंतवणूकीसह भागीदारी करतो. B भागीदार झाल्याच्या 2 महिन्यांनंतर, 150000 रुपयांसह C सहभागी होतो. वर्षाच्या शेवटी, 50000 रुपयांचा नफा होतो. नफ्यामधील B चा वाटा काय असेल.

C.18000 रुपये

D.10000 रुपये

Answer:

B.8000 रुपये

Reference ID:(2187)

खालीलपैकी चूक असलेला पर्याय निवडा.

A.दंड – बाहू, शिक्षा

B.दल – सैन्य, पाकळी

C.नाव – होडी, कीर्ती

D.नाद – हेका, जागृत

Answer:

D.नाद – हेका, जागृत

Reference ID:(2432)

अ एक काम 12 तर ब तेच काम 16 दिवसांत पूर्ण करतो. त्या दोघांनी ते काम 6,000 रुपयांसाठी घेतले. क च्या मदतीने त्यांना ते काम 6 दिवसांत पूर्ण करता आले. तर उत्पन्नात क चा वाटा किती?

A.2,160 रुपये

B.1,440 रुपये

C.1,240 रुपये

D.750 रुपये

Answer:

D.750 रुपये

Reference ID:(2416)

1885 साली मुंबईमध्ये (बॉम्बेमध्ये) आयोजित केलेल्या भारतीय राष्ट्रीय काँग्रेसच्या पहिल्या अधिवेशनाचे अध्यक्ष कोण होते?

B.दादाभाई नौरोजी

C.डब्ल्यू.सी. बॅनर्जी

D.सुरेन्द्रनाथ बॅनर्जी

Answer:

C.डब्ल्यू.सी. बॅनर्जी

Reference ID:(2442)

तीन मुलांनी एकत्रितपणे 17 कुकीज खाल्ल्या. आमलाने इतर मुलांपेक्षा जास्त कुकीज खाल्ल्या. आमलाने खाल्लेल्या कुकीजची संभाव्य सर्वात लहान संख्या काय असेल?

A.9

B.8

C.7

D.6

Answer:

C.7

Reference ID:(2441)

1997 साली गणतंत्र दिवस रविवारी होता. कोणत्या वर्षी बाल दिवस रविवारी येईल?

A.2002

B.2001

C.2000

D.1999

Answer:

D.1999

Reference ID:(2405)

\_\_\_\_\_ याने \_\_\_\_\_ राज्यामधून बुद्धिबळामध्ये पद्म श्री पुरस्कार (2019) जिंकला.



B.कार्तिक व्यंकटरामन, तामिळनाडू

C.रमेशबाबु प्रगणानंदा, तामिळनाडू

D.सप्तर्षी रॉय, महाराष्ट्र

Answer:

A.हरिका द्रोणवल्ली, आंध्र प्रदेश

Reference ID:(2171)

Choose the option that best expresses the meaning of the highlighted idiom/phrase:

He gave me a couple of extra things to do to **keep me on my toes**.

A.keep one distracted about their feet

B.keep one's feet fit and fine

C.keep one standing for long hours

D.keep one ready for any eventuality

Answer:

D.keep one ready for any eventuality

Reference ID:(1947)

Choose the option that has all the three words spelt correctly:

A.cradel , asemble , doorbel

B.cradel , assemble , doorble

C.cradle , assemble , doorbell

D.cradle , assembel , doorbel

Answer:

C.cradle , assemble , doorbell

Reference ID:(2151)

Choose the correct form of adjective for the given sentence:

This boy is \_\_\_\_\_ that one in his studies.

A.good

B.gooder than

C.best

D.better than

Answer:

D.better than

Reference ID:(2162)

Choose the correct form of modal auxiliary verb for the given sentence:

You \_\_\_\_\_consult the physician tomorrow without further delay.

A.shall

B.could

C.must

D.won't

Answer:

C.must

Reference ID:(2188)

‘अंथरूण पाहून पाय पसरावे’ या म्हणीचा अर्थ -

A.क्षुल्लक गोष्टीच्या मोबदल्यात मोठा लाभ करून घेणे.

B.आपली वस्तू एखाद्या गरजू व्यक्तीस देणे.

C.संधीचा फायदा घेणे.

D.आपल्या ऐपतीप्रमाणे खर्च करणे.

Answer:

D.आपल्या ऐपतीप्रमाणे खर्च करणे.

Reference ID:(2164)

Choose the appropriate prepositional phrase for the given sentence:

Samir passed the exam \_\_\_\_\_ hard work.

A.on dint of

B.in dint of

C.by dint in

D.by dint of

Answer:

D.by dint of

Reference ID:(2420)

खालीलपैकी कोणत्या कारणामुळे त्सुनामी येऊ शकतो?

A.वीज चमकणे

B.वारा

C.हिमवर्षाव

D.समुद्रातील भूकंप

Answer:

D.समुद्रातील भूकंप

Reference ID:(2183)

मी नदीच्या काठाने फिरायला गेलो. या वाक्यातील काठाने या शब्दात कोणता विभक्ती प्रत्यय आलेला आहे ?

A.प्रथमा

B.द्वितीया

C.तृतीया

D.चतुर्थी

Answer:

C.तृतीया

Sabka ek bhaijaan

Sabka ek bhaijaan

Sabka ek bhaijaan

Reference ID:(1949)

Choose the option that best punctuates the given sentence:

The dentist said I feel you have neglected my advice so go and see someone else

A.The dentist said," I feel you have neglected my advice! so go and see someone else."

B.The dentist said," I feel you have neglected, my advice so go and see someone else."

C.The dentist said," I feel you have neglected my advice so go? and see someone else."

D.The dentist said "I feel you have neglected my advice so go and see someone else."

Answer:

\*\*\*\* THIS QUESTION IS DISCARDED \*\*\*\*

Sabka ek bhaijaan

Sabka ek bhaijaan

Sabka ek bhaijaan

Reference ID:(2158)

Choose the appropriate articles to complete the given sentence.

The warrior in him suppressed \_\_\_ preacher in him. However, being \_\_\_ warrior was no easier than being \_\_\_ preacher.

A.an, a, the

B.the, an, the

C.the, the, a

D.a, the, an

Answer:

C.the, the, a

Reference ID:(2173)

क्रीयापादावरून ती क्रिया केव्हा घडते आहे याचा बोध ज्यामुळे होतो त्याला काय म्हणतात?

Sabka ek bhaijaan

Sabka ek bhaijaan

Sabka ek bhaijaan

B.समास

C.संधी

D.अलंकार

Answer:

A.काळ

Reference ID:(2407)

महाराष्ट्र केसरी 2018 ने सन्मानित केलेले बाळ रफीक शेख \_\_\_\_\_ आहेत.

A.बॉक्सर

B.कुस्तीपटू

C.तिरंदाज

D.मल्ल

Answer:

B.कुस्तीपटू

Reference ID:(2152)

Choose the correct form of adjective for the given sentence:

That \_\_\_\_\_ child in school was always a troublemaker.

A.quarrelsome

B.quarreled

C.quarrelling

D.quiet

Answer:

A.quarrelsome

2, 10, 30, 66, 130, 222

A.30

B.10

C.66

D.222

Answer:

C.66

खालीलपैकी कोणत्या नामाचे अनेक वचन होत नाही ?

A.दासी

B.घर

C.लाटणे

D.पाखरू

Answer:

A.दासी

(आरटीआय) माहिती अधिकार अधिनियम, 2005 च्या दुसऱ्या अनुसूचीत याचा समावेश आहे:

A.मुख्य माहिती आयुक्त किंवा माहिती आयुक्तांनी घेण्याच्या शपथीचे किंवा अनुमोदनाचे स्वरूप

B.वगळलेल्या सुरक्षा संस्था

C.जन माहिती अधिकाऱ्यांची यादी

Answer:

B.वगळलेल्या सुरक्षा संस्था

Reference ID:(2185)

पुण्याहून आईचे पत्र आले. अधोरेखित शब्दाची विभक्ती सांगा.

A.द्वितीया

B.तृतीया

C.चतुर्थी

D.पंचमी

Answer:

D.पंचमी

Reference ID:(2167)

Choose the most appropriate usage to fill in the blanks in the given sentence:

Poets usually possess \_\_\_\_\_ minds that \_\_\_\_\_ them to write poems.

A.imaginary, assists

B.imaginary, assisted

C.imaginative, assists

D.imagines, assistance

Answer:

C.imaginative, assists

Reference ID:(2444)

परमित आणि चारू 200 मी दूर असलेल्या 2 ठिकाणाहून एकमेकांकडे चालायला सुरूवात केली. 60 मीटर चालल्यानंतर, चारू डावीकडे वळते आणि 20 मी जाते, मग उजवीकडे वळते आणि आणखी 40 मीटर जाते. मग ती पुन्हा उजवीकडे वळते आणि तिने चालायला सुरूवात केली होती त्या मार्गावर परत येते. जर परमित आणि चारू एकाच गतीने चालत असतील, तर आता त्यादोघांमधील अंतर काय आहे?

A.10 मी

B.20 मी

C.40 मी

D.50 मी

Answer:

C.40 मी

Reference ID:(2168)

Choose the correct form of verb that is in agreement with the subject:

My father \_\_\_\_\_ a good doctor who will cure my friend's illness.

A.knowing

B.knows

C.know

D.known

Answer:

B.knows

Reference ID:(2195)

'गुरुजी विद्यार्थाना व्याकरण शिकवितात.' या वाक्यातील क्रियापद ओळखा.

A.शिकवितात

B.व्याकरण

C.विद्यार्थाना

D.गुरुजी



Reference ID:(2418)

जेव्हा एखाद्या व्यक्तीला संसर्गजन्य ताप येतो तेव्हा सर्वात जास्त सक्रिय रक्तपेशी कोणत्या असतात?

A.लाल रक्तपेशी

B.पांढऱ्या रक्तपेशी

C.बिंबाणू

D.जीवद्रव्य

Answer:

B.पांढऱ्या रक्तपेशी

Reference ID:(2182)

खालीलपैकी कोणता पर्याय 'द्विज' या शब्दाचा अर्थ नाही ?

A.द्विज – पक्षी

B.द्विज – ब्राह्मण

C.द्विज – दोन

D.द्विज – दात

Answer:

C.द्विज – दोन

Reference ID:(1950)

Choose the option that best punctuates the given sentence:

The king thought to himself Surely no one will ever take the place of a man condemned to death

A.The king thought to himself Surely no one will ever take the place of a man condemned to death.

B.The king thought to himself, "Surely, no one will ever take the place of a man condemned to death."

C.The king thought, to himself: "Surely no one will ever take the place of a man condemned to death.

D.The king thought to himself, "Surely no one will ever take the place of a man condemned to death?"

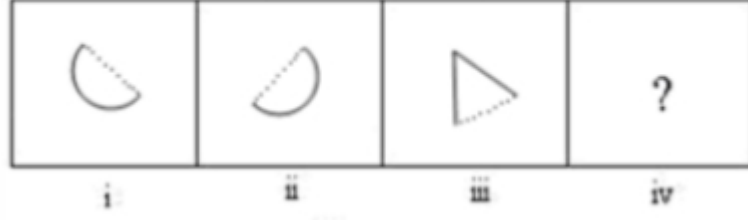
Answer:

B.The king thought to himself, "Surely, no one will ever take the place of a man condemned to death."

Date of Exam : 03-07-2019 02:30 PM

Reference ID:(5991)

खाली दिलेल्या क्रमानुसार पुढील आकृती कोणती असेल?



Answer:



Sabka ek bhaijaan

Sabka ek bhaijaan

Sabka ek bhaijaan

Reference ID:(2910)

मुंबई (बॉम्बे) उच्च न्यायालयाचे सध्याचे मुख्य न्यायाधीश कोण आहेत?

A. न्यायमूर्ती एस. सी. धर्माधिकारी

B. न्यायमूर्ती आर. व्ही. मोरे

C. न्यायमूर्ती नरेश एच. पाटील

D. न्यायमूर्ती आर. एम. बोर्डे

Answer:

C. न्यायमूर्ती नरेश एच. पाटील

Reference ID:(2926)

वगळलेली संख्या निवडून मालिका पूर्ण करा:

400, 441, 484, \_\_\_\_\_

A. 530

B. 535

C. 527

Sabka ek bhaijaan

Sabka ek bhaijaan

Sabka ek bhaijaan

Answer: D.529

Reference ID:(2928)

एक कार अ ठिकाणाहून ब ठिकाणाकडे एका दुचाकीपेक्षा 50% जास्त वेगाने निघाली. ती दुचाकी कारपासून 120 किमी अंतरावर होती आणि ब ठिकाणाकडेच चालली होती. ती दोन्ही वाहनं एकाच वेळी ब ठिकाणी पोहोचत असतील, तर अ आणि ब मधील अंतर किती?

A.240 किमी

B.200 किमी

C.360 किमी

D.420 किमी

Answer: C.360 किमी

Reference ID:(2913)

महाराष्ट्रातील खालीलपैकी कोणत्या जिल्ह्यात कुलाबा किल्ला स्थित आहे?

A.रायगड

B.नाशिक

C.रत्नागिरी

D.सातारा

Answer: A.रायगड

Reference ID:(2909)

महाराष्ट्र लोकसेवा अधिकार आयोगाच्या मुख्य आयुक्ताची नियुक्ति करणा-या समितीचे अध्यक्ष कोण आहे?

A.विधानसभेचा सभापती

B.मुख्यमंत्री

C.राज्यपाल

D.विधानसभेतील विरोधीपक्ष नेता

Answer: B.मुख्यमंत्री

Reference ID:(2697)

'पंच तख्तां' पैकी एक श्री हजूर साहिब, जेथे गुरू गोबिंद सिंह स्वर्गिय निवासासाठी कूच केले, हे महाराष्ट्राच्या कोणत्या ठिकाणी स्थित आहे?

A.नांदेड

C.नागपूर

D.अमरावती

Answer:

A.नांदेड

Reference ID:(2665)

Choose the most appropriate usage to fill in the blanks in the given sentence:

Maharani Gayatri Devi was a \_\_\_\_\_ and \_\_\_\_\_ lady.

A.gracious, elegance

B.graceful, elegant

C.gracefully, elegantly

D.graceful, elegance

Answer:

B.graceful, elegant

Reference ID:(2698)

माजी पंतप्रधान अटल बिहारी वाजपेयी यांच्या नांवाने कोणते विमानतळ पुनर्नामित केले जाणार आहे?

A.देहराडून

B.अलाहाबाद

C.चेन्नई

D.जयपूर

Answer:

A.देहराडून

Reference ID:(2911)

शेर शहाच्या सत्तेदरम्यान, पारगाना हा \_\_\_\_\_ च्या नियंत्रण किंवा पदभाराखाली होता?

A.शिकदर

B.मुन्सिफ

C.अमिल

D.मुपदाम

Answer:

A.शिकदर

The traffic policeman said don't go that way as its not permitted

A.The traffic policeman, said, " Don't go that way as it`s not permitted."

B.The traffic policeman said, "Don't go that way as it`s not permitted?"

C.The traffic policeman said , "Don't go that way? as it`s not permitted."

D.The traffic policeman said, "Don't ?go that way as it`s not permitted."

Answer:

A.The traffic policeman, said, " Don't go that way as it`s not permitted."

Reference ID:(2903)

फुटबॉल श्रेणीमधील पद्म पुरस्कार(2019) विजेते सुनिल छेत्री हे कोणत्या राज्यामधून आहेत?

A.आंध्र प्रदेश

B.तामिळनाडू

C.तेलंगणा

D.मध्य प्रदेश

Answer:

C.तेलंगणा

Reference ID:(2661)

Choose the appropriate preposition for the given sentence:

The police arrested Raju \_\_\_\_\_ his accomplices.

A.along with

B.with

C.along

D.from

Answer:

A.along with

Reference ID:(2905)

2018 हा आयपीएल 11 चा सिजन 07 एप्रिल - 27 मे 2018 दरम्यान खेळला गेला. मुंबई इंडियनला यासाठी विशेष पुरस्कार मिळाला:

A.सिजनचे उत्क्रांत होणारे खेळाडू

B.फेअरप्ले पुरस्कार

C.परपल कॅप

Answer: B.फेअरप्ले पुरस्कार

Reference ID:(2695)

महाराष्ट्र राज्य मंत्रिमंडळाने भारताच्या सर्वात दीर्घकाळ सेवा देणार्या आयएनएस विराटला (युध्दनौकेचा प्रकार) भारताच्या पहिल्या नौबंध समुद्री स्मारक आणि समुद्री साहस केंद्राच्या रूपांतरणासाठी संयंत्र मंजूर केले. आयएनएस विराट हे \_\_\_\_\_ आहे.

A.विध्वंसक

B.एअरक्राफ्ट कॅरीयर

C.किनारपट्टीवरील गस्तीची वेसल

D.कॉर्बेट

Answer: B.एअरक्राफ्ट कॅरीयर

Reference ID:(2939)

वर्षातील एकतीस दिवसांच्या महिन्यांची संख्या आणि तीस दिवसांच्या महिन्यांची संख्या यांचे गुणोत्तर काढा.

A.4:8

B.6:5

C.7:4

D.5:6

Answer: C.7:4

Reference ID:(2450)

Choose the correct form of adjective for the given sentence:

It is \_\_\_\_\_ to have an education to get a good job.

A.necessarily

B.necessitated

C.necessity

D.necessary

Answer: D.necessary

Reference ID:(2914)

\_\_\_\_\_ वर्षी मुगल सम्राट अकबराने खानदेश प्रदेश हस्तगत केला.

B.1601

C.1689

D.1513

Answer:

B.1601

Reference ID:(2937)

15 च्या पटीत येणाऱ्या पहिल्या 45 संख्यांची सरासरी काढा?

A.245

B.345

C.445

D.545

Answer:

B.345

Reference ID:(2925)

वगळलेली संख्या निवडून मालिका पूर्ण करा:

1000, 729, 512, \_\_\_\_\_, 216

A.343

B.345

C.340

D.347

Answer:

A.343

Reference ID:(2696)

एप्रिल 2018, मध्ये महाराष्ट्र सरकारने शैक्षणिक आणि सांस्कृतिक सहकार्य मजबुत करण्यासाठी कोणत्या संघटने बरोबर सामंजस्य करारावर (एमओयू) स्वाक्षरी केली होती?

A.दि ब्रिटीश कौन्सिल

B.युनिसेफ

C.युनिस्को

D.सीबीएसई



Reference ID:(2930)

A, B आणि C एकत्रितपणे एक काम 18 दिवसांत पूर्ण करतात. एकटा A ते कार्य 36 दिवसात आणि B 60 दिवसात पूर्ण करतो. C ला ते कार्य एकट्याने पूर्ण करण्यासाठी किती दिवस लागतील ?

A.60 दिवस

B.70 दिवस

C.80 दिवस

D.90 दिवस

Answer:

D.90 दिवस

Reference ID:(2904)

2018 मध्ये शिव छत्रपती पुरस्कारासाठी खेळाडु आणि क्रिडा विद्याशाखांकरीता एकूण \_\_\_\_\_ पुरस्कार होते.

A.39 क्रिडा विद्याशाखांमधील (डिसिप्लिन्स) खेळांडुसाठी एकूण 195 पुरस्कार होते

B.39 क्रिडा विद्याशाखांमधील (डिसिप्लिन्स) खेळांडुसाठी एकूण 190 पुरस्कार होते

C.31 क्रिडा विद्याशाखांमधील (डिसिप्लिन्स) खेळांडुसाठी एकूण 191 पुरस्कार होते

D.39 क्रिडा विद्याशाखांमधील (डिसिप्लिन्स) खेळांडुसाठी एकूण 159 पुरस्कार होते

Answer:

A.39 क्रिडा विद्याशाखांमधील (डिसिप्लिन्स) खेळांडुसाठी एकूण 195 पुरस्कार होते

Reference ID:(2923)

जर RADIO ला SBEJP असे संकेतबद्ध केले जात असेल तर TELEPHONE ला कशाप्रकारे संकेतबद्ध केले जाईल?

A.UFMFQIPOF

B.UFMFQIPMF

C.UDMDQIPOF

D.UFMFQIPOD

Answer:

A.UFMFQIPOF

When he \_\_\_\_\_ the results, he got off the chair and \_\_\_\_\_ with joy.

A.hears, jump

B.get, was jumping

C.was getting, have been jumping

D.heard, jumped

Answer:

D.heard, jumped

Reference ID:(2912)

कोणत्या खटल्यामध्ये भारतीय सर्वोच्च न्यायालयाने सिनेमाच्या स्क्रिनिंगच्या आधी राष्ट्रगीत लावणे अनिवार्य नसल्याचा निर्णय दिला?

A.स्वप्निल त्रिपाठी वि. भारतीय सर्वोच्च न्यायालय

B.पी.यु.सी.एल वि. भारतीय केंद्र शासन

C.एम. सी. मेहता वि. भारतीय केंद्र शासन

D.श्याम नारायण चौकसी वि. भारतीय केंद्र शासन आणि इतर

Answer:

D.श्याम नारायण चौकसी वि. भारतीय केंद्र शासन आणि इतर

Reference ID:(2658)

Choose the most suitable determiner for the given sentence:

Where should we go on holiday this year? Let's go \_\_\_\_\_ where warm and sunny.

A.no

B.neither

C.none

D.some

Answer:

D.some

Reference ID:(2940)

एक महिलेच्या पर्समध्ये फक्त 50 पैसे आणि 1 रुपयाची नाणी होती. एकूण नाण्यांची संख्या 120 होती आणि एकूण रक्कम रु.100 एवढी होती. तर 1 रुपयाच्या नाण्यांची संख्या \_\_\_\_\_ आहे.

A.60

B.70

D.90

Answer:

C.80

Reference ID:(2653)

Choose the option with the appropriate suffix to complete the given sentence:

People should depict kind\_\_\_\_\_ towards each other, especially towards their neighbours.

A.-ness

B.-ly

C.-ment

D.-fulness

Answer:

A.-ness

Reference ID:(2679)

‘जे चकाकते ते सोने नसते.’ अधोरेखित शब्द कोणत्या सर्वनामाचे उदाहरण आहे?

A.पुरुषवाचक

B.संबंधी

C.दर्शक

D.सामान्य

Answer:

B.संबंधी

Reference ID:(2671)

कोणत्या दोन विभक्तींचे प्रत्यय सारखे आहेत ?

A.तृतीया, चतुर्थी

B.द्वितीया, चतुर्थी

C.तृतीया, षष्ठी

D.षष्ठी, सप्तमी

Answer:

B.द्वितीया, चतुर्थी

The little boy \_\_\_\_\_ very fast to catch the bus.

A.was run

B.was running

C.is runs

D.has running

Answer:

B.was running

Reference ID:(2664)

Choose the appropriate conjunctions for the given sentence:

The animals on the farm decided to hold a meeting \_\_\_\_ discuss the matter;  
\_\_\_\_ the lion did not want to attend.

A.and, but

B.and, if

C.so, and

D.and, so

Answer:

A.and, but

Reference ID:(2934)

जर एक फळ विक्रेत्याला 100 केळी विकून 20 केळ्यांची विक्री किंमती एवढा नफा मिळत असेल, तर त्याचा नफा किती आहे:

A.10%

B.15%

C.20%

D.25%

Answer:

D.25%

Reference ID:(2699)

कौशल्य विकासासाठी राज्य शिखर समितीचे अध्यक्ष कोण आहेत?

C.उच्च न्यायालयाचे न्यायाधीश

D.गव्हर्नर

Answer:

A.मुख्य मंत्री

Reference ID:(2445)

Choose the option that has all words spelt correctly:

A.theif , receive , patience

B.thief , recieve , patience

C.thief , receive , patience

D.thief , receive , patiense

Answer:

C.thief , receive , patience

Reference ID:(2677)

'डोके खाजवणे' या वाक्प्रचाराचा अर्थ -

A.केसांत उवा होणे

B.केसांत कोंडा होणे

C.आठवण्याचा प्रयत्न करणे

D.विसरणे

Answer:

C.आठवण्याचा प्रयत्न करणे

Reference ID:(2680)

खालीलपैकी कोणती जोडी विरुद्धार्थी नाही ?

A.निर्मळ X मळका

B.न्यूनता X सुबत्ता

C.निष्काम X सकाम

D.नैसर्गिक X कृत्रिम

Answer:

B.न्यूनता X सुबत्ता

Reference ID:(2691)

खालीलपैकी विरुद्धार्थी जोडी ओळखा.

A.कृष्ण X कृश

C. कृपण X कठोर

D. उंच X सखल

Answer:

D. उंच X सखल

Reference ID:(2666)

Choose the correct form of verb that is in agreement with the subject:

All the people \_\_\_\_\_ standing together in a group and discussing the problem.

A. is

B. are

C. has

D. have

Answer:

B. are

Reference ID:(2683)

आपण स्वतः दोन शब्द बोला. अधोरेखित शब्दाचा सर्वनाम ओळखा.

A. पुरुषवाचक सर्वनाम

B. दर्शक सर्वनाम

C. अनिश्चित सर्वनाम

D. सामान्य सर्वनाम

Answer:

A. पुरुषवाचक सर्वनाम

Reference ID:(2446)

Choose the option that correctly spells the words to be filled in the given sentence:

The \_\_\_\_\_ of the school said that the boy behaved like an \_\_\_\_\_.

A. principle , angle

B. principal , angel

C. principal , engle

D. principel , angle

Answer:

B. principal , angel

The orator's comment about the recession was way off the mark.

A.very scanty

B.pertinent

C.inaccurate

D.premeditated

Answer:

C.inaccurate

Reference ID:(2902)

आयएनएस कालवारी, ही पहिली स्कॉरपियन वर्गातील छुपी पाणबुडी खालीलपैकी कोणत्या देशाच्या सहयोगाने बनवली गेली आहे?

A.फ्रान्स

B.रशिया

C.युएसए

D.इस्राइल

Sab Answer:haijaan

A.फ्रान्स

Sabka ek bhaijaan

Sabka ek bhaijaan

Reference ID:(2676)

'उतरंड' हा शब्द खालीलपैकी कोणत्या पर्यायासाठी वापरला जातो?

A.गवत

B.वस्तू

C.मडके

D.लाकूड

Answer:

C.मडके

Reference ID:(2682)

'आपलेच दात आपलेच ओठ' या म्हणीचा अर्थ -

A.आपल्या ऐपतीप्रमाणे खर्च करणे.

B.स्वतःपुरते कमवणे.

C.फक्त स्वतःचाच फायदा साधून घेणे

D.आपल्याच माणसाने चूक केल्यावर अडचणीची स्थिती निर्माण होणे.

Reference ID:(2652) Choose the appropriate possessive noun to complete the given sentence.  
St. Joseph's is a \_\_\_\_ school.

A.boys'

B.boy's

C.boys

D.boy'

Answer: A.boys'

Reference ID:(2901) विस्फोटक शोधावरील भारताच्या पहिल्या राष्ट्रीय कार्यशाळेचे उद्घाटन, \_\_\_\_\_ येथे करण्यात आले होते.

A.गुजरात

B.पुणे

C.भोपाळ

D.बिहार

Answer: B.पुणे

Reference ID:(2931) एक व्यापारी प्रत्येकी रु. 2000 दराने दोन घड्याळांची विक्री करतो. जर एक घड्याळात त्याला 25% नफा मिळत असेल आणि दुसऱ्यावर त्याला 20% तोटा होत असेल, तर त्याला

A.एकूण 6.25% चा तोटा होतो

B.5% चा नफा होतो

C.10 रुपयांचा नफा होतो

D.100 रुपयांचा तोटा होतो

Answer: D.100 रुपयांचा तोटा होतो



A.विटा

B.कलिंगड

C.नारळ

D.नाणी

Answer:

D.नाणी

Reference ID:(2916)

खाली नमूद केलेल्या आपत्तीपैकी एक नैसर्गिक नाही. ती कोणती आहे ते ओळखा.

A.पूर

B.दुष्काळ

C.शहरीकरणासाठी केलेली जंगलतोड

D.भूकंप

Answer:

C.शहरीकरणासाठी केलेली जंगलतोड

Reference ID:(2662)

Choose the appropriate prepositional phrase for the given sentence:

The college results have been good \_\_\_\_\_our expectations.

A.contrary to

B.contrary by

C.contrary with

D.contrary in

Answer:

A.contrary to

Reference ID:(2907)

भारताच्या मुख्य माहिती आयुक्तांच्या नियुक्तीचा कालावधी काय असतो?

A.5 वर्षे किंवा वयाची 65 वर्षे पूर्ण होईपर्यंत

B.5 वर्षे किंवा वयाची 62 वर्षे पूर्ण होईपर्यंत

C.3 वर्षे किंवा वयाची 65 वर्षे पूर्ण होईपर्यंत

D.3 वर्षे किंवा वयाची 62 वर्षे पूर्ण होईपर्यंत

Answer:

A.5 वर्षे किंवा वयाची 65 वर्षे पूर्ण होईपर्यंत

Reference ID:(2674) 'मी काल शाळेत गेलो होतो.' या वाक्यातील कालदर्शक क्रियाविशेषण अव्यय ओळखा.

A.होतो

B.गेलो

C.काल

D.मी

Answer: C.काल

Reference ID:(2694) 'त्याला काम करवते.' या वाक्यातील क्रियापद ओळखा.

A.करवते

B.त्याला

C.त्याला काम

D.काम

Answer: A.करवते

Reference ID:(2922) सरासरी काढा.  
44,40,75,25,66&80

A.44

B.55

C.91

D.22

Answer: B.55

Reference ID:(2915) चंद्राच्या पृष्ठभागावरील खोल खड्ड्यांना म्हणतात.

A.दगडगोटे

B.खडक

C.कुंड

D.ज्वालामुखी

Reference ID:(2936)

एकदा फासा फेकला गेला. 7 येण्याची संभाव्यता काय आहे?

A.0

B.1

C.1/6

D.1/3

Answer:

A.0

Reference ID:(2673)

‘आंधळा मागतो एक डोळा, देव देतो दोन डोळे’ या म्हणीचा अर्थ -

A.अपेक्षेपेक्षा जास्त फायदा होणे.

B.डोळ्यांना इजा होणे.

C.संकट येणे.

D.एखाद्याला फसवणे.

Answer:

A.अपेक्षेपेक्षा जास्त फायदा होणे.

Reference ID:(2943)

(i) सात खुर्ची विशिष्ट पद्धतीने एकावर एक ठेवल्या गेल्या.

(ii) पांढरी खुर्ची ही अगदी निळ्या खुर्चीच्या वर ठेवली गेली.

(iii) लाल खुर्ची ही तळापासून चौथी आहे आणि गुलाबी खुर्चीही वरून पाचवी आहे.

(iv) निळ्या आणि करड्या खुर्चीच्या मधे दोन खुर्ची आहेत.

निळ्या आणि नारंगी खुर्चीच्या मधे किती खुर्ची आहेत? या प्रश्नाचे उत्तर देण्यासाठी, खालील विकल्पांपैकी आणखी कोणती अतिरिक्त माहिती आवश्यक आहे?

A.लाल आणि नारंगी खुर्चीच्या मधे दोन खुर्ची आहेत

B.काळ्या आणि लाल खुर्चीच्या मधे दोन खुर्ची आहेत

C.गुलाबी आणि नारंगीच्या मधे एक खुर्ची आहे

Answer: C.गुलाबी आणि नारंगीच्या मधे एक खुर्ची आहे

Reference ID:(2448) Out of the following options, choose the sentence that is punctuated correctly.

A.One day, in order to have some fun, he cried out with all his might, The wolf is coming! The wolf is coming!"

B.One day, in order to have some fun, he cried out with all his might, "The wolf is coming! The wolf is coming!"

C.One day, in order to have some fun, he cried out, "with all his might, The wolf is coming! The wolf is coming!"

D.One day, in order to have some fun, he cried out with all his might, 'The wolf is coming. The wolf is coming.'

Answer: B.One day, in order to have some fun, he cried out with all his might, "The wolf is coming! The wolf is coming!"

Reference ID:(2929) पुरुषांची एक विशिष्ट संख्या एक काम 60 दिवसात पूर्ण करते. आणखी 8 पुरुषांसह ते काम 10 दिवस आधी पूर्ण होईल. सुरुवातीला पुरुषांची संख्या किती होती ?

A.40

B.50

C.30

D.28

Answer: A.40

Reference ID:(2675) सर्वनामाचे मुख्य किती प्रकार मानतात ?

A.सहा

B.सात

C.आठ

D.नऊ

Answer: A.सहा

DIAGONALDIAGONALDIAGONAL..... DIAGONAL या सूत्रात DIAGONAL ची पुनरावृत्ती 20 वेळा झालेली आहे. पहिल्या टप्प्यात विजोड स्थानी असलेली अक्षरे मिटविण्यात येतात. उरलेल्या सूत्रात पुन्हा विजोड स्थानी असलेली अक्षरे मिटविण्यात येतात. फक्त एक अक्षर शिल्लक उरेपर्यंत असे चालते. हे अक्षर कोणते?

A.L

B.G

C.N

D.I

Answer:

A.L

Reference ID:(2685)

“प्रखर” शब्दाचा विरुद्धार्थी शब्द खालीलपैकी कोणता ?

A.साम्य

B.रागीट

C.सौम्य

D.शांत

Answer:

C.सौम्य

Reference ID:(2692)

पंचमी या विभक्तीचा कारकार्थ सांगा.

A.कर्ता

B.कर्म

C.करण

D.अपादान

Answer:

D.अपादान

Reference ID:(2655)

Choose appropriate articles for the given sentence:

India launched \_\_\_ first artificial satellite *Aryabhata* on 19th April 1975 at \_\_\_ cost of about five crores.

A.A, the

B.The, a

D.A, the

Answer:

B.The, a

Reference ID:(2656)

Choose appropriate articles to complete the given sentence.

Kumaranaashan is \_\_\_\_ Keats of Malayalam literature. \_\_\_\_ Keats is \_\_\_\_ Romantic poet.

A.no article, the, a

B.the, no article, the

C.the, no article, a

D.a, no article, the

Answer:

C.the, no article, a

Reference ID:(2908)

खालीलपैकी कोणत्या संस्थांना(आरटीआय)माहिती अधिकार अधिनियम, 2005 पासून सूट देण्यात आलेली नाही?

A.गुप्तचर विभाग

B.सीमा सुरक्षा दल

C.भारतीय अवकाश संशोधन संस्था

D.विशेष संरक्षण गट

Answer:

C.भारतीय अवकाश संशोधन संस्था

Reference ID:(2663)

Choose the most suitable conjunction for the given sentence:

The students tried their level best \_\_\_\_\_ failed.

A.but

B.and

C.so

D.yet

Reference ID:(2933) जेव्हा एका संख्येच्या 30% दुसऱ्या संख्येमध्ये मिळवले जातात, तेव्हा दुसरी संख्या ही एक पंचमांशाने वाढते. पहिल्या संख्येचे दुसऱ्या संख्येशी काय गुणोत्तर आहे?

A.5:6

B.3:2

C.2:3

D.1:2

Answer: C.2:3

Reference ID:(2920) 15 विद्यार्थी असलेल्या एका वर्गाचे सरासरी वय 20 आहे. त्यात जर शिक्षकाचे वय मिळवले आणि 20 वर्षांच्या एका विद्यार्थ्याला वगळले तर वर्गाचे सरासरी वय 1 ने वाढते. तर शिक्षकाचे वय काढा.

A.30 वर्ष

B.35 वर्ष

C.37 वर्ष

D.40 वर्ष

Answer: B.35 वर्ष

Reference ID:(2941) 351 प्रौढ असणाऱ्या एका गावात प्रत्येक प्रौढ व्यक्तीकडे एक कार, एक मोटारसायकल, किंवा दोन्ही आहेत. जर 331 प्रौढ व्यक्तींकडे कार आणि 45 प्रौढ व्यक्तींकडे मोटारसायकल असेल, तर किती कार मालकांकडे मोटारसायकल नाहीत?

A.25

B.35

C.306

D.296

Answer: C.306

Reference ID:(2684) 'तुम्ही' हा शब्द खालीलपैकी कोणत्या प्रकारचा आहे?

B.भाववाचक नाम

C.सर्वनाम

D.क्रियापद

Answer:

C.सर्वनाम

Reference ID:(2919)

अणुऊर्जा केंद्रात कचऱ्याची विल्हेवाट लावण्याची गंभीर समस्या असते, कारण \_\_\_\_\_.

A.त्यातून दुर्गंधी येते

B.ते अतिशय ज्वालाग्राही असते

C.ते अतिशय अभिक्रियाशील असते

D.ते अतिशय किरणोत्सारी असते

Answer:

D.ते अतिशय किरणोत्सारी असते

Reference ID:(2667)

Which one of the following choices is NOT a complex sentence?

A.On feeling the winter chill, she wrapped herself with a shawl

B.She stepped aside to make room for the maid to go inside and serve tea.

C.On his arrival to the city, Ronny took time off to visit the monuments.

D.The Sheikh opened his eyes slowly.

Answer:

D.The Sheikh opened his eyes slowly.

Reference ID:(2659)

Choose the option with the appropriate question tag for the given sentence.

The Patils had a BMW, \_\_\_\_\_

A.didn't they?

B.hadn't they?

C.did they?

D.had they?

Answer:

A.didn't they?



- A.गलगंड आणि कुपोषण
- B.कॉलरा आणि अतिसार
- C.रेबीज आणि एड्स
- D.सर्दी आणि क्षय

Answer: D.सर्दी आणि क्षय

Reference ID:(2700)

महाराष्ट्राच्या \_\_\_\_\_द्वारे ऑनलाईन पोर्टल- 'महास्वयम' सुरू केले गेले आहे.

- A.कौशल्य विकास आणि उद्योजकत्व विभाग
- B.प्रदूषण नियंत्रण मंडळ
- C.मोटर वाहन विभाग
- D.गृहनिर्माण आणि क्षेत्र विकास प्राधिकरण

Answer: A.कौशल्य विकास आणि उद्योजकत्व विभाग

Reference ID:(2681)

हा, ही, हे, तो, ती, ते चा वापर नामाऐवजी केल्यास तेथे कोणती सर्वनामे होतात ?

- A.अनिश्चित सर्वनामे
- B.सामान्य सर्वनामे
- C.संबंधी सर्वनामे
- D.दर्शक सर्वनामे

Answer: D.दर्शक सर्वनामे

Reference ID:(2651)

Choose the correct form of the noun for the given sentence:

As a result of the \_\_\_\_\_ of freedom fighters, the Republic of India was born.

- A.determiners
- B.determined
- C.determination

Answer: C.determination

Reference ID:(2689) 'त्याने घराचे दार उघडले.' या वाक्यातील क्रियापद ओळखा.

A.त्याने

B.घराचे

C.उघडले

D.दार

Answer: C.उघडले

Reference ID:(2678) खालीलपैकी गटाबाहेरचा शब्द कोणता ?

A.संशय

B.आघात

C.दिवस

D.वार

Answer: A.संशय

Reference ID:(2654) Choose the option with the appropriate suffix to complete the given sentence:

Festivals are a great time for festiv\_\_\_\_\_ and fest\_\_\_\_\_.

A.-ity, -ing

B.-als, -ity

C.-ing, -oons

D.-al, -ings

Answer: A.-ity, -ing

We \_\_\_\_\_ to have listened to her advice.

A.will

B.ought

C.should

D.must

Answer:

B.ought

Reference ID:(2906)

रणजित देसाई हे मराठी लिखाणाशी संबंध असलेले ख्यातनाम लेखक होते. त्यांना 1973 मध्ये पद्म श्री पुरस्कार देण्यात आला. त्यांनी खालीलपैकी कोणते पुस्तक लिहिले?

A.श्रीमान योगी

B.छावा

C.पंगिरा

D.महानायक

Answer:

A.श्रीमान योगी

Reference ID:(2921)

अ हा ब पेक्षा 4 वर्षांनी मोठा आहे. अ आणि ब च्या वयाच्या वर्गातील फरक जर 80 असेल, तर अ आणि ब च्या वयाची बेरीज काढा.

A.21

B.20

C.18

D.24

Answer:

B.20

Reference ID:(2927)

एक माणूस 9 तासांमध्ये 61 किमी अंतर पार करतो. तो काही प्रवास सायकलने ताशी 9 किमीने करतो तर काही प्रवास पायी ताशी 4 किमीने करतो. तर त्याने सायकलवर पार केलेले अंतर असेल:

A.16 किमी

B.25 किमी

C.45 किमी

Answer: C.45 किमी

Reference ID:(2924) खाली दिलेल्या मालिकेमध्ये अंकांचा एक विशिष्ट क्रम दिलेला आहे. त्यानुसार चुकीचा क्रम ओळखा: 34, 28, 22, 18, 10, 4

A.28

B.22

C.10

D.18

Answer: D.18

Reference ID:(2935) दागिन्यांच्या एका दुकानात 50 हार आहेत ज्यांपैकी 10 अस्सल हिऱ्याचे सेट आहेत. यादृच्छिकपणे निवड केल्यास ग्राहकाने हिऱ्याचा सेट निवडण्याची संभाव्यता काय आहे?

A.1/3

B.1/4

C.1/5

D.1/6

Answer: C.1/5

Reference ID:(2687) 'तिने भिकाऱ्याला पैसे दिले.' या वाक्यातील क्रियापद ओळखा.

A.तिने

B.दिले

C.भिकाऱ्याला

D.पैसा

Answer: B.दिले

Reference ID:(2690) 'आपणही आता खेळू.' या वाक्यातील अधोरेखित शब्द खालीलपैकी कोणत्या प्रकारात येतो.

A.कर्म

B.कर्ता

D.विशेषण

Answer:

C.क्रियापद

Reference ID:(2693)

'विश्वास हा मोठा मुत्सद्दी होते.' वाक्य दुरुस्त करुन लिहा.

A.विश्वास हा मोठा मुत्सद्दी होते.

B.विश्वास हा मोठा मुत्सद्दी.

C.विश्वास हा मोठा मुत्सद्दी होता.

D.विश्वास हा मोठा होते.

Answer:

C.विश्वास हा मोठा मुत्सद्दी होता.

Reference ID:(2918)

एका जळत्या मेणबत्तीवर एक ग्लास उपडा ठेवला तर काही काळाने ज्योत विझून जाते. याचे कारण \_\_\_\_\_ आहे.

A.ऑक्सिजनची अनुपलब्धता

B.प्रज्वलन तापमान कमी आहे

C.कार्बन डायऑक्साईडची अनुपलब्धता

D.मेणबत्तीमध्ये मेणाची अनुपलब्धता

Answer:

A.ऑक्सिजनची अनुपलब्धता

Reference ID:(2686)

'राम नसणे' या वाक्प्रचाराचा अर्थ -

A.देवघरात रामाची मूर्ती नसणे.

B.राम नावाचा माणूस ओळखीचा नसणे.

C.अर्थ नसणे.

D.मृत्यू येणे.

Answer:

C.अर्थ नसणे.

Reference ID:(2688)

'ज्याचे करावे बरे तो म्हणतो माझेच खरे' या म्हणीचा अर्थ -

A.एखाद्याचे भले करायला जावे तर तो विरोधक करतो व आपलाच हेका चालवतो.

C.कष्ट केल्याशिवाय मोठेपणा मिळवणे

D.स्वतःच गुन्हा करून दुसऱ्यांवर आळ घेणे.

Answer:

A.एखाद्याचे भले करायला जावे तर तो विरोधच करतो व आपलाच हेका चालवतो.

Reference ID:(2449)

Choose the correct form of adjective for the given sentence:

Chapter 5 is \_\_\_\_\_ Chapter 6 and both must be studied equally well for the examination.

A.as important as

B.not so important as

C.the most important

D.more important than

Answer:

A.as important as

Reference ID:(2938)

रेखाने परीक्षेमध्ये 93 गुण मिळवले. हे गुण, एकूण गुणांच्या 50% आहेत. परीक्षेमध्ये कमीत कमी किती गुण मिळवावेत?

A.180

B.182

C.184

D.186

Answer:

D.186

Reference ID:(2932)

A ने 21,000 रुपयांच्या आरंभिक गुंतवणूकीसह व्यवसाय सुरू केला. काही महिन्यांनंतर B हा 36,000 रुपयांसह व्यवसायामध्ये सहभागी झाला. वर्षाच्या शेवटी त्यांनी समान प्रमाणात नफा वाटून घेतला. किती महिन्यांनंतर B ने A सोबत भागीदारी केली?

A.5 महिने

B.5.5 महिने

C.6 महिने

Answer:

A.5 महिने

Reference ID:(2672)

'मी स्वतः काम करणार आहे.' या वाक्यात खालीलपैकी सर्वनामाचा कोणता प्रकार आला आहे?

A.दर्शक सर्वनाम

B.संबंधी सर्वनाम

C.आत्मवाचक सर्वनाम

D.सामान्य सर्वनाम

Answer:

C.आत्मवाचक सर्वनाम

Date of Exam : 04-07-2019 10:00 AM

Reference ID:(5489) Out of the following options, choose the sentence that is punctuated correctly.

A."Who has been cutting my fine young cherry tree?" he cried.

B."Who has been cutting my fine, young cherry tree! he cried.

C.Who has been cutting my fine young cherry tree?" he cried!

D."Who has been cutting my fine, young, cherry tree?" he cried.

Answer: A."Who has been cutting my fine young cherry tree?" he cried.

Reference ID:(5749) महाराष्ट्रचे मुख्य माहिती आयुक्त कोण आहेत?

A.हरिभाऊ बागडे

B.सी विद्यासागर राव

C.राधाकृष्ण विखेपाटिल

D.सुमित मुळीक

Answer: D.सुमित मुळीक

Reference ID:(5971) 48 पुरूष एक खंदक 20 दिवसांमध्ये खणू शकतात. किती पुरूष ते 15 दिवसांत खणू शकतील?

A.55

B.60

C.50

D.64

Answer: D.64

Reference ID:(5965) खाली दिलेल्या मालिकेमध्ये अंकांचा एक विशिष्ट क्रम दिलेला आहे. त्यानुसार चुकीचा क्रम ओळखा:

27, 22, 17, 11, 7, 2



B.11

C.22

D.2

Answer:

B.11

Reference ID:(5493)

Choose the appropriate collective noun to complete the given sentence.

The villagers were shocked to see \_\_\_\_\_ of ships approaching the shore.

A.an army

B.a crowd

C.a fleet

D.a flock

Answer:

C.a fleet

Reference ID:(5746)

प्रो कब्बड्डी लीकमधील पुण्याचा कब्बडी संघ, पुणेरी पलटणचा वर्तमान कप्तान हा आहे:

A.गिरीष एर्नाक

B.मोनु गोयत

C.नवनीत गौतम

D.अनुप कुमार

Answer:

A.गिरीष एर्नाक

Reference ID:(5730)

'तो मुंबईस गेले.' क्रियापदाचे योग्य रूप सांगा.

A.गेला

B.गेलेस

C.गेले

D.गेलास

Answer:

A.गेला

- A.सिक्कीम
- B.बिहार
- C.आंध्र प्रदेश
- D.जम्मू आणि काश्मीर

Answer: B.बिहार

Reference ID:(5966) वगळलेली संख्या निवडून मालिका पूर्ण करा:  
6, 13, 28, 59, \_\_\_\_\_

- A.120
- B.121
- C.118
- D.122

Answer: D.122

Reference ID:(5498) Choose the correct form of verb for the given sentence:  
John \_\_\_\_\_ his little sister by pulling her ponytail.

- A.was annoyed
- B.annoy
- C.is annoys
- D.is annoying

Answer: D.is annoying

Reference ID:(5961) दोन व्यक्तींच्या वयांमध्ये 20 वर्षांचा फरक आहे. 5 वर्षांपूर्वी त्यांतील मोठ्याचं वय धाकट्यापेक्षा 5 पट असेल तर त्यांची सध्याची वयं अनुक्रमे किती असतील:

- A.20 वर्ष, 20 वर्ष
- B.20 वर्ष, 10 वर्ष
- C.25 वर्ष, 15 वर्ष
- D.30 वर्ष, 10 वर्ष

Reference ID:(5721) खालीलपैकी चुकीची विरुद्धार्थी जोडी ओळखा.

A.रखरखीत X पचपचीत

B.लौकिक X दुर्लौकिक

C.वैयक्तिक X सार्वजनिक

D.टवटवीत X मलूल

Answer: A.रखरखीत X पचपचीत

Reference ID:(5736) महाराष्ट्रामध्ये कोंकण किनारपट्टीच्या बाजुने मालवण व वेंगुर्लाच्यामध्ये नुकतेच बांधलेले विमानतळ कोणत्या जिल्ह्यात आहे?

A.कोल्हापूर

B.सिंधुदुर्ग

C.सांगली

D.वर्धा

Answer: B.सिंधुदुर्ग

Reference ID:(5748) मुख्य माहिती आयुक्त यांना पदाची शपथ कोण देतो?

A.उपराष्ट्रपती

B.राष्ट्रपती

C.पंतप्रधान

D.भारताचे मुख्य न्यायाधीश

Answer: B.राष्ट्रपती

Reference ID:(5979) दिलेल्या क्रमामध्ये पुढील पद \_\_\_\_ असेल.  
1, 4, 27, 16, 125, 36, \_\_\_\_

A.49

B.343

D.यापैकी कोणतेही नाही

Answer: B.343

Reference ID:(5712) खालीलपैकी सार्वनामिक विशेषण कोणते ?

A.ती फुले

B.थोडी फुले

C.दोन फुले

D.ताजी फुले

Answer: A.ती फुले

Reference ID:(5728) 'तुझ्या हातून हे काम होणार नाही.' अधोरेखित शब्दाचा कारकार्थ ओळखा.

A.कर्ता

B.कर्म

C.करण

D.संप्रदाय

Answer: C.करण

Reference ID:(5708) Out of the following options, identify the compound sentence.

A.It was a night of festivities.

B.All were singing songs.

C.Sharon prepared the chocolate fudge and then she served it to everyone.

D.Everyone was delighted.

Answer: C.Sharon prepared the chocolate fudge and then she served it to everyone.

The priest said to the groom obey your parents for you too will be a father one day

A.The priest said to the groom, "obey your parents for you too will be a father one day?"

B.The priest said to the groom, "obey your parents, for you, too will be a father one day."

C.The priest said to the groom, "Obey your parents, for you too will be a father, one day."

D.The priest said to the groom, "obey your parents, for you too will be a father one day!"

Answer:

C.The priest said to the groom, "Obey your parents, for you too will be a father, one day."

Reference ID:(5490)

Choose the correct form of adjective for the given sentence:

This movie on aliens is \_\_\_\_\_ the one we watched last night.

A.scary as

B.scariest than

C.the scariest

D.more scary than

Answer:

B.scariest than

Reference ID:(5952)

शेर शाहच्या सत्तेदरम्यान, महसूल खाती ही \_\_\_\_\_ आणि हिदवी भाषांमध्ये ठेवली जात होती?

A.अरेबिक

B.प्राकृत

C.पारशी

D.संस्कृत

Answer:

C.पारशी

Reference ID:(5716)

खालीलपैकी कोणत्या पर्यायात विशेषण नाही आहे ?

A.चांगली मुले

C.मुली मुले

D.हिरवे रान

Answer:

C.मुली मुले

Reference ID:(5958)

खालीलपैकी कोणत्या गटामध्ये केवळ जैव-विघटनशील घटक असतात?

A.केक, पॉलिथीन आणि गवत

B.गवत, लाकूड आणि प्लास्टिक

C.फळांच्या साली, केक आणि कोबी

D.गवत, प्लास्टिक आणि चामडे

Answer:

C.फळांच्या साली, केक आणि कोबी

Reference ID:(5496)

Choose appropriate articles for the given sentence:

Harish was born into \_\_\_poor family, but he excelled in studies and rose to become \_\_\_Collector of his town.

A.a, the

B.the, the

C.a, an

D.the, a

Answer:

A.a, the

Reference ID:(5970)

A एक काम 16 दिवसांत पूर्ण करतो आणि B तेच काम 20 दिवसांत पूर्ण करतो. जर दोघांनी 4 दिवस एकत्र काम केले आणि A ने अचानक काम सोडले, तर काम पूर्ण करण्यासाठी B ला आणखी किती दिवस लागतील?

A.12 दिवस

B.9 दिवस

C.11 दिवस

D.10 दिवस

Answer:

C.11 दिवस

A.44

B.45

C.42

D.34

Answer:

B.45

Reference ID:(5718)

‘हात लावणे’ या वाक्प्रचाराचा अर्थ -

A.स्पर्श करणे.

B.उचलायला मदत करणे.

C.शिवाशिवी खेळणे.

D.कृत्रिम हात बसवणे.

Answer:

B.उचलायला मदत करणे.

Reference ID:(5951)

ओबीसी उप-वर्गीकरण आयोगाचे प्रमुख म्हणून कोणाची नियुक्ती केली होती?

A.न्यायमूर्ती गीता मित्तल

B.न्यायमूर्ती मंजुळा चेल्लूर

C.न्यायमूर्ती ताहिलरामाणी

D.न्यायमूर्ती जी. रोहिणी

Answer:

D.न्यायमूर्ती जी. रोहिणी

Reference ID:(5955)

पानिपतच्या तिस-या लढाईत मराठ्यांचा पराभव खालीलपैकी कुणी केला?

A.अहमद शाह अब्दाली

B.नादिर शाह

C.मुहम्मद शाह

D.सादत खान

Answer:

A.अहमद शाह अब्दाली

Reference ID:(5494)

Choose the option with the appropriate suffix to complete the given sentence:

Her appear\_\_\_\_\_ was shabby as she had just been able to come out of flood waters.

A.-ence

B.-ring

C.-ance

D.-ity

Answer:

C.-ance

Reference ID:(5980)

समितीमध्ये 1 महिला आणि 2 पुरूष असतील अशाप्रकारे 5 पुरूष आणि 3 महिलांमधून, 3 सदस्यांची समिती तयार करायची आहे. हे किती भिन्न प्रकारे केले जाऊ शकते?

A.20

B.30

C.40

D.50

Answer:

B.30

Reference ID:(5954)

काळ्या मातीत पुढीलपैकी कोणत्या खनिजाची कमतरता असते?

A.नायट्रोजन

B.कॅल्शियम

C.पोटाश

D.मॅग्नेशियम

Answer:

A.नायट्रोजन

Reference ID:(5487)

Choose the option that correctly spells the words to be filled in the given sentence:

The \_\_\_\_\_ was a prominent member of the \_\_\_\_\_.



B.professor , commitee

C.professor , committee

D.profesor , committee

Answer:

C.professor , committee

Reference ID:(5977)

भेट वस्तूच्या दुकानात 40 भेटवस्तूंचे पर्याय आहेत, ज्यापैकी 25 अत्यंत महाग आहेत. यादृच्छिक निवड केली असता महाग भेटवस्तू मिळण्याची संभाव्यता किती आहे?

A.2/8

B.3/8

C.1/2

D.5/8

Answer:

D.5/8

Reference ID:(5956)

आकाशात एक आकृतीबंध तयार करतो अशा तारका समूहाला \_\_\_\_\_ म्हणतात.

A.उल्का

B.लघुग्रह

C.धुमकेतू

D.नक्षत्र

Answer:

D.नक्षत्र

Reference ID:(5745)

वर्ष 2015 मध्ये आयोनिका पॉल यांनी कोणत्या श्रेणीमध्ये महाराष्ट्राचा शिव छत्रपती पुरस्कार जिंकला होता?

A.जलतरण

B.10 मिटर्स रायफल महिला

C.10 मिटर्स पिस्तुल महिला

D.शर्यत (रेसिंग)

Reference ID:(5962)

वडिलांच्या वयाचे मुलाच्या वयाशी असलेले गुणोत्तर अनुक्रमे 3:1 आहे. त्यांच्या वयाचा गुणाकार 243 येतो. तर 9 वर्षांनंतर त्यांच्या वयाचे गुणोत्तर असेल:

A.3 : 1

B.2 : 1

C.5 : 3

D.4 : 1

Answer:

B.2 : 1

Reference ID:(5705)

Choose the appropriate conjunctions for the given sentence:

\_\_\_\_\_ it was raining cats and dogs; \_\_\_\_ he ventured out.

A.Such, that

B.If, so

C.Though, yet

D.Because, so

Answer:

C.Though, yet

Reference ID:(5495)

Choose the option with the appropriate suffix to complete the given sentence:

The speaker not only had an attract\_\_\_\_\_ personality but also looked very hand\_\_\_\_\_ and so could hold the audience spellbound.

A.-ic, -ing

B.-ively, -edness

C.ion, -y

D.-ive, -some

Answer:

D.-ive, -some

He \_\_\_\_\_ to face the angry mob alone.

A.dare not

B.dared

C.will dare not

D.ought to dare

Answer:

B.dared

Reference ID:(5967)

वगळलेली संख्या निवडून मालिका पूर्ण करा:

11, 12, 17, 18, 23, 24, \_\_\_\_\_

A.12

B.29

C.30

D.35

Sab Answer: bhaijaan

B.29

Sabka ek bhaijaan

Sabka ek bhaijaan

Reference ID:(5968)

दोन माणसं एका ठराविक अंतरावर चालत असतात. एक ताशी 4 किमी तर दुसरा ताशी 5 किमी वेगाने. दुसरा पहिल्यापेक्षा अर्धा तास आधी पोहोचतो. तर अंतर काढा.

A.6 किमी

B.7.5 किमी

C.10 किमी

D.12 किमी

Answer:

C.10 किमी

Reference ID:(5726)

खाली दिलेल्या शब्दांपैकी 'स्तुती' या शब्दाचा विरुद्धार्थी शब्द कोणता ?

A.निर्भत्सना

B.स्तवन

C.प्रार्थना

D.स्तोत्र

Sabka ek bhaijaan

Sabka ek bhaijaan

Sabka ek bhaijaan

Reference ID:(5737)

दुसरे मेगा फुड पार्क महाराष्ट्राच्या कोणत्या जिल्ह्यात स्थापन करण्यात आले आहे?

A.वर्धा

B.सातारा

C.औरंगाबाद

D.सोलापूर

Answer:

C.औरंगाबाद

Reference ID:(5703)

Choose the appropriate prepositional phrase for the given sentence:

The people are \_\_\_\_\_ the false promises of the Minister.

A.disgusted by

B.disgusted on

C.disgusted with

D.disgusted in

Answer:

C.disgusted with

Reference ID:(5953)

भारतीय राज्यघटनेमध्ये कोणत्या सुधारणेद्वारे दिल्ली या केंद्र शासित प्रदेशाला दिल्लीचे राष्ट्रीय राजधानीचे क्षेत्र म्हटले जाईल असे घोषित करण्यात आले?

A.घटना (दुसरी सुधारणा) कायदा, 1952

B.घटना (एकोणसत्तरावी सुधारणा) कायदा, 1991

C.घटना (दहावी सुधारणा) कायदा, 1961

D.घटना (बाव्नावी सुधारणा) कायदा, 1985

Answer:

B.घटना (एकोणसत्तरावी सुधारणा) कायदा, 1991

Reference ID:(5724)

खालीलपैकी गुणवाचक विशेषण कोणते आहे ?

A.गोड

B.दुहेरी

C.सर्व

Answer:

A.गोड

Reference ID:(5732)

‘पौर्वात्य’ शब्दाचा विरुद्धार्थी शब्द ओळखा.

A.दक्षिणात्य

B.पाश्चात्य

C.प्राचीन

D.अर्वाचीन

Answer:

B.पाश्चात्य

Reference ID:(5719)

धातुसाधित विशेषणाचे उदाहरण ओळखा.

A.माझे पुस्तक

B.रांगणारे मूल

C.थोडे पाणी

D.पंचमुखी हनुमान

Answer:

B.रांगणारे मूल

Reference ID:(5717)

चुकीचा पर्याय निवडा.

A.असला – सार्वनामिक विशेषण

B.पिकलेला – धातुसाधित विशेषण

C.खालील – अव्ययसाधित विशेषण

D.चौपट – परिमाणवाचक विशेषण

Answer:

D.चौपट – परिमाणवाचक विशेषण

Reference ID:(5974)

एका प्रेशर कुकरची आणि एका राईस कुकरची विक्री सुरुवातीला अनुक्रमे रु. 1200 आणि रु. 2000 ला करण्यात आली होती. एका सेलमध्ये छायाने कुकर 30% आणि राईस कुकर 35% एवढ्या सवलतीच्या दरात घेतला. छायाने एकूण मूळ किमतीच्या किती टक्के बचत केली?

A.32.5%

C.34%

D.33%

Answer:

B.33.125%

Reference ID:(5982)

BENGALURBENGALUR.....BENGALUR या सूत्रामध्ये BENGALUR ची 20 वेळा पुनरावृत्ती करण्यात आली आहे. प्रथम सर्व विजोड स्थानांवरील अक्षरे काढण्यात येतात आणि नंतर क्रमाक्रमाने उरलेल्या सुत्रातूनही ती काढून टाकण्यात येतात. शेवटी उरलेले अक्षर कोणते?

A.E

B.L

C.R

D.G

Answer:

C.R

Reference ID:(5499)

Choose the most suitable determiner for the given sentence:

I will be able to give you my decision only after I have \_\_\_\_\_ time to think.

A.some

B.many

C.plenty

D.much

Answer:

A.some

Reference ID:(5969)

एक माणूस स्थिर पाण्यात ताशी 10 किमी वेगाने नाव चालवू शकतो. प्रवाहाचा वेग जर ताशी 2 किमी असेल आणि तो प्रवाहाच्या दिशेने आणि प्रवाहाच्या उलट दिशेने 30 मिनिटांत जात असेल तर त्याने पार केलेले एकूण अंतर किती असेल?

A.4 किमी

B.4.8 किमी

C.5 किमी

D.6.4 किमी

Answer:

B.4.8 किमी

Reference ID:(5973) एका वस्तूची छापील किंमतीच्या दोन पंचमांश किंमतीस विक्री केल्यास 25% तोटा होतो. त्या वस्तूच्या छापील खरेदी किंमतीशी मूळ किंमतीशी असलेले गुणोत्तर अनुक्रमे आहे:

A.2:5

B.5:2

C.8:15

D.15:8

Answer: D.15:8

Reference ID:(5975) जर अजय, बाळूपेक्षा 25% अधिक कमवत असेल आणि बाळू, सायबिलपेक्षा 20% अधिक कमवत असेल तर अजय, साइबिल पेक्षा किती टक्के अधिक पैसे कमवतो?

A.45%

B.48%

C.50%

D.55%

Answer: C.50%

Reference ID:(5491) Choose the correct form of adjective for the given sentence:

Today, \_\_\_\_\_ farming has increased food production.

A.intense

B.intensely

C.intensive

D.intensified

Answer: C.intensive

Reference ID:(5742) डिसेंबर-2018 मध्ये एसपीजेआयएमआर, मुंबई येथे आयोजित 12 व्या वार्षिक आयएसडीएसआय (दि इंडियन सबकॉन्टिनेन्ट डिसिजन सायन्सेस इन्स्टीट्यूट) परिषदेची थीम \_\_\_\_\_ होती.

A.डिजिटल युगामध्ये डेटाने चालणारी निर्णय प्रक्रिया

B.सर्वासाठी शाश्वत भविष्य

D.कृत्रिम बुद्धीमत्ता हे भविष्य आहे

Answer:

A.डिजिटल युगामध्ये डेटाने चालणारी निर्णय प्रक्रिया

Reference ID:(5978)

दिलेल्या मालिकेतील पुढील संख्या शोधा.  
1,3,6,11,18,29, ...

A.36

B.56

C.42

D.52

Answer:

C.42

Reference ID:(5702)

Choose the appropriate preposition for the given sentence:

I wonder why he was very quiet \_\_\_\_\_ the meal.

A.through

B.throughout

C.between

D.in

Answer:

B.throughout

Reference ID:(5709)

Choose the correct form of tense for the given sentence:

\_\_\_\_\_ up without any money, I \_\_\_\_\_ only modest respect for it.

A.Growing, had

B.Having grown, have

C.Grown, am having

D.Having had to grow up, am having

Answer:

B.Having grown, have



\_\_\_\_\_ my friends go, I will do so.

A.If

B.And

C.Yet

D.Either

Answer:

A.If

Reference ID:(5727)

'कणीक तिबणे' या वाक्प्रचाराचा अर्थ -

A.पोळ्या करायला घेणे.

B.मार देणे.

C.पीठ मळणे.

D.भिजवणे.

Answer:

B.मार देणे.

Reference ID:(5983)

40 लोक एका कंप्यूटर कोर्समध्ये भाग घेतात ज्यांपैकी 5 वयस्क, 15 मुलगे आणि 20 मुली आहेत. संपूर्ण समूहाचे सरासरी वय 17 वर्षे आहे. मुलींचे सरासरी वय 15 आणि मुलांचे सरासरी वय 14 असल्यास, वयस्कांचे सरासरी वय \_\_\_\_\_ आहे.

A.20

B.25

C.30

D.34

Answer:

D.34

Reference ID:(5972)

20% सवलत दिल्यावर एका दुकानदारास 20% नफा झाला. छापील किंमतीचे खरेदी किंमतीशी असलेले गुणोत्तर काढा.

A.5:4

B.4:3

C.3:2

D.2:1

Reference ID:(5722) 'सैनिक शूर होता.' या वाक्यातील शूर काय आहे?

A.नाम

B.सर्वनाम

C.विशेषण

D.क्रियापद

Answer:

C.विशेषण

Reference ID:(5710)

Choose the option that best expresses the meaning of the highlighted idiom/phrase:

The vice president of the company gave his subordinates a *piece of his mind* when the sales figures nosedived.

A.reprimanded

B.dvised

C.counselled

D.pitched in

Answer:

A.reprimanded

Reference ID:(5984)

छेद 4 ने वाढवल्यास एक अपूर्णाक F हा  $1/2$  बनतो आणि त्याचा अंश 5 ने कमी केल्यास  $1/3$  बनतो. तर F बरोबर किती:

A.12/19

B.11/19

C.11/18

D.13/21

Answer:

C.11/18

- A.एलिफंटा गुहा
- B.अजंठाच्या गुहा
- C.कारलाच्या गुहा
- D.छत्रपती शिवाजी टर्मिनस (सीएसटी)

Answer: C.कारलाच्या गुहा

Reference ID:(5747) मा.सु. पाटील यांना या श्रेणीसाठी साहित्य अकादमी पुरस्कार 2018 देण्यात आला:

- A.निबंध
- B.साहित्य टीका
- C.लघु कथा
- D.कविता

Sab Answer:haijaan

B.साहित्य टीका Sabka ek bhaijaan

Sabka ek bhaijaan

Reference ID:(5729) 'तळहातावर शिर घेणे' या वाक्प्रचाराचा अर्थ -

- A.शिरच्छेद करणे.
- B.शिर झुकवणे.
- C.बलिदानाला तयार असणे.
- D.युद्धात जिंकणे.

Answer: C.बलिदानाला तयार असणे.

Reference ID:(5750) खालीलपैकी कोण महाराष्ट्र राज्य लोकसेवा अधिकार आयोगाच्या मुख्य आयुक्ताची नियुक्ती करणा-या समितीचा सदस्य आहे?

- A.विधानसभेचा सभापती
- B.राज्यपाल
- C.विधानसभेतील विरोधीपक्ष नेता

Answer: C.विधानसभेतील विरोधीपक्ष नेता

Reference ID:(5713) विशेषणांचे मुख्य प्रकार किती आहेत ?

A.दोन

B.तीन

C.पाच

D.सहा

Answer: B.तीन

Reference ID:(5733) 'ते चौघे एकमेकांशी काहीतरी बोलत उभे होता.' क्रियापदाचे योग्य रूप सांगा.

A.होता

B.होती

C.होते

D.होत

Answer: C.होते

Reference ID:(5497) Choose the appropriate articles to complete the given sentence.

Most \_\_\_ books are bound in paper; \_\_\_ few books are bound in leather. Interestingly, some \_\_\_ books are bound in human skin too.

A.no article, a, the

B.no article, a, a

C.no article, no article, a

D.no article, a, no article

Answer: D.no article, a, no article

Reference ID:(5957) खालीलपैकी कोणता एक संरक्षित भाग नाही?

A.अभयारण्य

C.राष्ट्रीय उद्यान

D.राखीव जैवक्षेत्रे

Answer:

B.प्राणी संग्रहालय

Reference ID:(5740)

जानेवारी 2018 मध्ये रेल्वे मंत्रालयाने महाराष्ट्राच्या मराठवाडा प्रदेशामधील \_\_\_\_\_ येथे भारतीय रेल्वेचा कोच कारखाना स्थापित करण्याचा निर्णय घेतला.

A.नांदेड

B.उस्मानाबाद

C.लातूर

D.बीड

Answer:

C.लातूर

Reference ID:(5486)

Choose the option that has all the three words spelt correctly:

A.Exercise, enterprise, supervise

B.Exercise, entirprise, supervise

C.Exercise, enterprise, supervice

D.Exercise, enterprise, superwise

Answer:

A.Exercise, enterprise, supervise

Reference ID:(5715)

'अडगळ' या शब्दाचा पुढीलपैकी कोणता अर्थ आहे?

A.निरुपयोगी वस्तू

B.कठीण

C.जड वस्तू

D.सुंदर वस्तू

Answer:

A.निरुपयोगी वस्तू

Reference ID:(5720) 'अभय देणे' या वाक्प्रचार अर्थ सांगा.

- A. सुरक्षिततेची हमी देणे
- B. असुरक्षित वाटणे
- C. घर नाकारणे
- D. दूर करणे

Answer: A. सुरक्षिततेची हमी देणे

Reference ID:(5723) 'उथळ पाण्याला खळखळाट फार' या म्हणीचा अर्थ -

- A. उथळ पाण्यात पोहता येत नाही.
- B. प्रवाहाप्रमाणे जावे.
- C. थोडासा गुण अंगी असणारा माणूस जास्त बढाई मरतो.
- D. प्रवाहाविरुद्ध जाण्यासाठी बळ लागते.

Answer: C. थोडासा गुण अंगी असणारा माणूस जास्त बढाई मरतो.

Reference ID:(5960) दिल्लीमध्ये डीटीसी बससाठी डिझेल आणि पेट्रोलच्या ऐवजी सीएनजीचा वापर केला जात आहे याचे कारण काय आहे?

- A. डिझेल आणि पेट्रोल हे मर्यादित नैसर्गिक स्रोत आहेत
- B. सीएनजी एक स्वच्छ आणि प्रदूषणरहित इंधन आहे
- C. डिझेल आणि पेट्रोलमध्ये उच्च उष्मांक मूल्य असते
- D. सीएनजी हा एक अक्षय नैसर्गिक स्रोत आहे

Answer: B. सीएनजी एक स्वच्छ आणि प्रदूषणरहित इंधन आहे

Reference ID:(5743) जानेवारी 2019 मध्ये, कलामसॅट-व्ही2 उपग्रह हा इस्रोद्वारे \_\_\_\_\_ या लॉच वाहनाचा वापर करून यशस्वीपणे पाठवला गेला.

- A. PSLV- C25
- B. GSLV-Mk III
- C. PSLV-C44
- D. GSLV-D3

Reference ID:(5744) 2018 मध्ये साहित्य आणि शिक्षण क्षेत्रात \_\_\_\_\_ यांनी पद्म श्री पुरस्कार जिंकला.

A.श्री वेदप्रकाश नंदा

B.श्री गुलाम मुस्तफा खान

C.श्री अरविंद गुप्ता

D.श्री मनोज जोशी

Answer: C.श्री अरविंद गुप्ता

Reference ID:(5707) Choose the correct form of verb that is in agreement with the subject:

A great speaker always \_\_\_\_\_ his or her audience spell bound during any debate.

A.keeps

B.keep

C.is keeping

D.have been keeping

Answer: A.keeps

Reference ID:(5981) सीता ने पहिल्या दिवशी तिच्या पुस्तकाची 6 पाने वाचावयास सुरूवात केली, 2-्या दिवशी 9 पाने, 3-्या दिवशी 12 पाने, 4-थ्या दिवशी 15 पाने आणि याप्रमाणे. जर तिने याच पद्धतीने वाचन सुरू ठेवले, तर 10व्या दिवशी ती किती पाने वाचेल?

A.33 पाने

B.40 पाने

C.42 पाने

D.45 पाने

Answer: A.33 पाने

A.त्याने

B.लिहिले

C.हे

D.पुस्तक

Answer:

D.पुस्तक

Reference ID:(5734)

‘मला आता चालवते.’ या वाक्यातील कर्ता ओळखा.

A.आता

B.चालवते

C.आता चालवते

D.मला

Answer:

D.मला

Reference ID:(5711)

‘नैसर्गिक’ शब्दाचा विरुद्धार्थी शब्द निवडा.

A.कृश

B.कृत्रिम

C.कृतघ्न

D.कृतज्ञ

Answer:

B.कृत्रिम

Reference ID:(5714)

‘काळ आला होता पण वेळ आली नव्हती’ या म्हणीचा अर्थ -

A.मागून येऊन वरचढ होणे.

B.कधी गरीबी तर कधी श्रीमंती असणे.

C.वेळेत कामे पूर्ण करणे.

D.नाश होण्याची वेळ आली असताना थोडक्यात बचावणे.

Answer:

D.नाश होण्याची वेळ आली असताना थोडक्यात बचावणे.



A.थांबली

B.थांबला

C.थांबले

D.थांब

Answer:

B.थांबला

Reference ID:(5492)

Choose the correct form of the noun for the given sentence:

The Geneva \_\_\_\_\_ is the first international agreement that laid down rules on how wars should be fought.

A.convention

B.conventional

C.confrontation

D.conveyance

Answer:

A.convention

Reference ID:(5959)

तापाच्या संसर्गामुळे साजनचे बिंबाणु (प्लेटलेट) अचानकपणे मोठ्या प्रमाणात कमी झाले आहेत. हे रक्ताला असे करण्यापासून प्रतिबंध करेल:

A.प्रवाहित होण्यास

B.गुठळी तयार होण्यास

C.रक्तस्त्राव होण्यास

D.O2 चे वहन होण्यास

Answer:

B.गुठळी तयार होण्यास

Reference ID:(5964)

जर CERTAIN ला XVIGZRM असे संकेतबद्ध केले जात असेल तर MIRACLE ला कसे संकेतबद्ध केले जाईल?

A.NRHZXOV

B.NRIZXOV

C.MRIZXOV

D.MRHYXOV

Reference ID:(5500)

Choose the option with the appropriate question tag for the given sentence:

George has never been to India, \_\_\_\_\_

A.has he?

B.has George?

C.hasn't he?

D.hasn't George?

Answer:

A.has he?

Reference ID:(5706)

Choose the correct form of expression to complete the sentence:

Dr. Garg's \_\_\_\_\_ of the data has already been published in a journal whereas the \_\_\_\_\_ of the other three scholars have not yet been published.

A.analyses, analysis

B.analysis, analysis

C.analyses, analyses

D.analysis, analyses

Answer:

D.analysis, analyses

Reference ID:(5976)

एका आठवड्यात T ह्या अक्षराने सुरू होणारा दिवस मिळण्याची संभाव्यता किती आहे?

A.2/7

B.1/7

C.1

D.6/7

Answer:

A.2/7

Reference ID:(5725)

खालीलपैकी कोणत्या वाक्यात नामसाधित विशेषण नाही ?

A.माझ्या बाबांचे किराणा दुकान आहे.

C.काकांना सातारी पेढे आवडतात.

D.काकांना दोन मुली आहेत.

Answer:

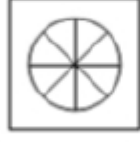
D.काकांना दोन मुली आहेत.

Reference ID:(5992)


खाली दिलेल्या क्रमानुसार पुढील आकृती कोणती असेल?



i



ii



iii



iv



Answer:



Reference ID:(5741)

महाराष्ट्र राज्य नवउपक्रम धोरण \_\_\_\_\_ मध्ये सुरू केले होते.

A.फेब्रुवारी 2017

B.मे 2018

C.डिसेंबर 2018

D.फेब्रुवारी 2018

Answer:

D.फेब्रुवारी 2018

Date of Exam : 04-07-2019 02:30 PM

Reference ID:(3415) फ्लोरा' चा अर्थ काय आहे?

A.त्या क्षेत्रातील वनस्पती जीवन

B.त्या क्षेत्रातील प्राणी जीवन

C.त्या क्षेत्रातील पक्षी

D.त्या क्षेत्रातील वन्य प्राणी

Answer: A.त्या क्षेत्रातील वनस्पती जीवन

Reference ID:(3192) 'ते लाकडी धनुष्य मोडले.' या वाक्यातील क्रियापद ओळखा.

A.ते

B.लाकडी

C.धनुष्य

D.मोडले

Answer: D.मोडले

Reference ID:(3424) वगळलेली संख्या निवडून मालिका पूर्ण करा:  
224, 195, 168, \_\_\_\_\_, 120

A.144

B.145

C.143

D.146

Answer: C.143

Reference ID:(3173) 'तिचे गाऊन झाली.' अधोरेखित शब्दाचे योग्य रूप लिहा.

A.झाली

B.झाले

D. झालाले

Answer:

B. झाले

Reference ID:(2946)

Choose the option that best punctuates the given sentence:

What are you saying, Meeta said to her friend Dolly.

A.what are you saying? Meeta said to her friend Dolly

B.“What are you saying?” Meeta said to her friend, Dolly.

C.“What are you saying,” Meeta said to her friend Dolly.

D.“ What are you saying, “ Meeta said to her friend, Doll

Answer:

B.“What are you saying?” Meeta said to her friend, Dolly.

Reference ID:(3190)

‘क्रांती’ या शब्दासाठी योग्य शब्दसमूह निवडा.

A.त्वरित कृती

B.अचानक आलेले संकट

C.हळू हळू घडून येणारा बदल

D.अकस्मात घडून आलेला बदल

Answer:

D.अकस्मात घडून आलेला बदल

Reference ID:(3165)

Choose the correct form of verb that is in agreement with the subject:

Every man, woman and child in the hall \_\_\_\_\_ given a pair of glasses with coloured lens to watch the 3D movie.

A.have

B.are

C.were

D.was

Answer:

D.was

The \_\_\_\_\_ told the \_\_\_\_\_ that he was a \_\_\_\_\_.

A.beggar , passenger , liar

B.begger , passengar , liare

C.beggar , pasenger , lair

D.beger , passenger , lari

Answer:

A.beggar , passenger , liar

Choose the appropriate conjunction for the given sentence:

\_\_\_\_\_ they were on a picnic \_\_\_\_\_ were enjoying themselves, it began to rain suddenly.

A.Whether, if

B.As, so

C.If, so

D.While, and

Answer:

D.While, and

Choose the option that best expresses the meaning of the highlighted idiom/phrase:

At the end of the meeting, the chairman proved to be the only **man of substance**.

A.Rich and powerful person

B.flexible person

C.worthless person

D.an unreasonable person

Answer:

A.Rich and powerful person

A.पुणे

B.हैदराबाद

C.चेन्नई

D.मुंबई

Answer:

D.मुंबई

Reference ID:(3411)

कोणता केंद्रशासित प्रदेश ऑगस्ट 16 ला त्यांचा दुसरा स्वातंत्र्य (डी जुर डे) दिन साजरा करतो?

A.पुदुचेरी

B.दादरा आणि नगर हवेली

C.लक्षद्वीप

D.अंदमान आणि निकोबार बेटे

Answer:

A.पुदुचेरी

Reference ID:(3171)

उभयविध क्रियापद म्हणजे काय ? योग्य पर्याय निवडा.

A.वाक्यातील क्रियापद अकर्मक असते.

B.वाक्यातील क्रियापद सकर्मक असते.

C.क्रियापद सकर्मक व अकर्मक अशा दोन्ही प्रकारे वापरता येते.

D.दोन्ही क्रियापदे एकत्र येतात.

Answer:

C.क्रियापद सकर्मक व अकर्मक अशा दोन्ही प्रकारे वापरता येते.

Reference ID:(3428)

जर 100 माणसे 100 दिवसांत 100 कामे करू शकतात, तर 1 माणून 1 काम किती दिवसांत करू शकतो:

A.1 दिवस

B.100 दिवस

C.50 दिवस

D.10 दिवस

Answer:

B.100 दिवस

Reference ID:(2945)

Choose the option that correctly spells the words to be filled in the given sentence:

The \_\_\_\_\_ office \_\_\_\_\_ is an elegant woman.

A.insurence , assistant

B.insurance , asistant

C.insurance , assistant

D.insurance , assistent

Answer:

C.insurance , assistant

Reference ID:(3199)

यु.एस.-इंडिया एक्वीएशन कॉर्पोरेशन प्रोग्राम आणि भारत शासनाच्या सहयोगाने, \_\_\_\_\_ ने मुंबई येथे 6 वे यु.एस. भारत एक्वीएशन संमेलन आयोजित केले होते.

A.विज्ञान आणि तंत्रज्ञान विभाग, जीओआय

B.यु.एस. व्यापार आणि विकास एजंसी

C.जागतिक व्यापारी संघटना

D.युएनसीटीएडी

Answer:

B.यु.एस. व्यापार आणि विकास एजंसी

Reference ID:(3416)

स्त्रियांमध्ये जेव्हा \_\_\_\_\_, तेव्हा त्यांचे प्रजननक्षम वय सुरू होते.

A.पौगंडावस्था सुरू होते

B.उंची वाढते

C.वजन वाढते

D.रजोनिवृत्ती सुरू होते

Answer:

A.पौगंडावस्था सुरू होते

Reference ID:(3179)

‘मितभाषी’ म्हणजे काय?



B.मोजके बोलणारा

C.भाष्य करणारा

D.अजिबात न बोलणारा

Answer:

B.मोजके बोलणारा

Reference ID:(3156)

Choose the correct form of verb for the given sentence:

We usually\_\_\_\_\_ the festival of Diwali by putting up lights in our house.

A.have enjoyed

B.has enjoyed

C.enjoy

D.is enjoying

Answer:

C.enjoy

Reference ID:(2948)

Choose the correct form of adjective for the given sentence:

Raw green mangoes are used to make pickle. They are \_\_\_\_\_ the ripe yellow ones that we get in summer.

A.sour as

B.the sourest

C.the sourer

D.sourer than

Answer:

D.sourer than

Reference ID:(3427)

एक 100 मीटर लांबीची ट्रेन एक खांब 3 सेकंदांमध्ये ओलांडते. त्या ट्रेनला 165 मीटर लांबी असलेला फ्लाट ओलांडण्यासाठी \_\_\_\_\_ वेळ लागेल.

A.4.5 सेकंद

B.9 सेकंद

C.7.5 सेकंद

D.12 सेकंद

Answer:

C.7.5 सेकंद

Reference ID:(3421) सरासरी काढा.  
34,42,66,84,10&94

A.45

B.35

C.55

D.25

Answer: C.55

Reference ID:(3417) खालीलपैकी कोणत्या संयुगामध्ये उष्णता मूल्य कमी असते?

A.अल्कोहोल

B.पेट्रोल

C.लाकूड

D.कोळसा

Answer: C.लाकूड

Reference ID:(3422) जर BOLSTER ला ANKRSDQ असे संकेतबद्ध केले जात असेल तर ANKDSRQ ला कसे संकेतबद्ध केले जाईल?

A.BOLETRS

B.ZMJCRQP

C.ZMJLRQP

D.OLBTRES

Answer: B.ZMJCRQP

Reference ID:(3164) Choose the correct word to complete the sentence:

Don't worry Sham. You will easily \_\_\_\_\_ yourself to your new job as you are quite \_\_\_\_\_ at public relations.

A.adept, adapt

B.adept, adept

C.adapt, adept

Answer: C.adapt, adept

Reference ID:(3407) महाराष्ट्र लोकसेवा अधिकार अधिनियम 2015 कोणत्या तारखेस अंमलात येणार असे मानले होते?

A.28 एप्रिल 2015

B.28 मार्च 2015

C.30 एप्रिल 2015

D.30 मार्च 2015

Answer: A.28 एप्रिल 2015

Reference ID:(3151) Choose the appropriate pronoun form to complete the given sentence.

\_\_\_\_\_ did the former President, Abdul Kalam, encourage to think differently?

A.Whose

B.What

C.Whom

D.Which

Answer: C.Whom

Reference ID:(3176) 'नाकी नऊ येणे' या वाक्प्रचाराचा अर्थ -

A.नऊ संकटे येणे

B.नाक चोंदणे

C.नऊ वेळा सर्दी होणे

D.बेजार होणे

Answer: D.बेजार होणे

Nehru's \_\_\_\_\_ for children made him be called Chachaji.

A.fondness

B.fond

C.founder

D.fondly

Answer:

A.fondness

Reference ID:(3406)

\_\_\_\_\_ द्वारे केलेल्या चौकशीनुसार सिद्ध झालेल्या गैरवर्तनाच्या किंवा अक्षमतेच्या आधारे, राष्ट्रपती हे मुख्य माहिती आयुक्त किंवा इतर माहिती आयुक्त यांना पदावरून काढून टाकू शकतात.

A.केंद्रीय अन्वेषण विभाग

B.केंद्रीय दक्षता आयोग(सीव्हीसी)

C.सर्वोच्च न्यायालय

D.लोकपाल

Answer:

C.सर्वोच्च न्यायालय

Reference ID:(3440)

30 लोकांच्या एका संमेलनात 20 लोक एकमेकांना ओळखणारे होते आणि 10 लोक कुणालाही न ओळखणारे होते. एकमेकांना ओळखणारे लोक गळाभेट घेतात तर एकमेकांना न ओळखणारे लोक हस्तांदोलन करतात. किती हस्तांदोलने झाली?

A.240

B.245

C.290

D.480

Answer:

B.245

Reference ID:(3200)

जानेवारी 2018 मध्ये कोणत्या मंत्रालयाने स्मार्ट फ्रेट ऑपरेशन ऑप्टीमायजेशन अॅन्ड रिअल टाईम इन्फॉर्मेशन (SFOORTI) अनुप्रयोगाची सुरुवात केली?

A.विज्ञान आणि तंत्रज्ञान मंत्रालय

B.कृषी मंत्रालय

D.रेल्वे मंत्रालय

Answer:

D.रेल्वे मंत्रालय

Reference ID:(3186)

'देवा, मला पास कर.' हे वाक्य क्रियापदाचा कोणता अर्थ सूचित करतो?

A.आज्ञा

B.प्रार्थना

C.उपदेश

D.मागणी

Answer:

B.प्रार्थना

Reference ID:(3402)

2018 वर्षामध्ये साहित्य आणि शिक्षण क्षेत्रात पद्म पुरस्कारांची एकूण संख्या \_\_\_\_\_ आहे.

A.22

B.20

C.21

D.85

Answer:

C.21

Reference ID:(3439)

MATHEMATICALMATHEMATICAL.....MATHEMATICAL या सूत्रात MATHEMATICAL ची पुनरावृत्ती 10 वेळा झाली आहे. आपण या सूत्रातून क्रमाक्रमाने विजोड स्थानी असलेली अक्षरे काढत गेलो आणि उरलेल्या सूत्रातूनही असेच केले. शेवटी उरणारे अक्षर कोणते?

A.A

B.H

C.C

D.T

Answer:

B.H

Reference ID:(3429)

एक पाईप एक टाकी 12 तासांमध्ये भरू शकतो आणि दुसरा पाईप ती टाकी 18 तासांमध्ये पूर्णपणे रिकामी करू शकतो. जर दोन्ही पाईप एकाच वेळी उघडण्यात आले, तर ती टाकी भरण्यास लागणारा वेळ असेल:

A.30 तास

B.36 तास

C.40 तास

D.44 तास

Answer:

B.36 तास

Reference ID:(3157)

Choose the most suitable determiner for the given sentence:

The couple doesn't have \_\_\_\_\_ money but they are extremely happy with each other.

A.little

B.many

C.plenty

D.much

Answer:

D.much

Reference ID:(3181)

'झाकली मूठ सव्वा लाखाची' या म्हणीचा अर्थ -

A.व्यंग गुप्त ठेवणेच फायद्याचे असते.

B.सर्वाना मुठीत ठेवणे.

C.खूप पैसे मोजणे.

D.पैसे लपवणे.

Answer:

A.व्यंग गुप्त ठेवणेच फायद्याचे असते.

Reference ID:(3184)

'मोफत भोजन मिळण्याचे ठिकाण' या शब्दसमूहासाठी योग्य शब्द कोणता?

A.मुदपाकखाना

B.स्वैपाकघर

C.सदावर्त

D.भोजनगृह

Reference ID:(2949)

Choose the correct form of adjective for the given sentence:

The children roared with laughter at his \_\_\_\_\_ stories.

A.fun

B.funny

C.funnier

D.funfair

Answer:

B.funny

Reference ID:(3432)

A चे उत्पन्न B च्या उत्पन्नाच्या 20% आहे. B चे उत्पन्न C च्या उत्पन्नाच्या 60% आहे. त्या दोघांचे एकत्रित मासिक उत्पन्न रु.12900 असल्यास, C व A च्या उत्पन्नातील फरक \_\_\_\_\_ आहे.

A.2200 रुपये

B.6600 रुपये

C.3300 रुपये

D.4400 रुपये

Answer:

B.6600 रुपये

Reference ID:(3159)

Choose the correct form of modal auxiliary verb for the given sentence:

I \_\_\_\_\_ have to go to Delhi on Thursday.

A.ought

B.might

C.could

D.should

Answer:

B.might

Reference ID:(3442)

A, B व C ने आईसक्रिम खाण्याच्या स्पर्धेत भाग घेतला. A ने 6 स्कूप खाल्ले त्या समान वेळात, B ने 4 स्कूप व C ने 5 स्कूप खाल्ले. जर A ने अर्ध्या तासात 18 स्कूप खाल्ले. तर त्यांनी अर्ध्या तासात एकत्रितपणे एकूण किती स्कूप खाल्ले?

B.27

C.33

D.45

Answer:

D.45

Reference ID:(3177)

'सिंहावलोकन' म्हणजे काय?

A.मागच्या काळाकडे ओझरती नजर टाकणे

B.सिंहाचे दुरून अवलोकन करणे

C.राज्य कारभार पाहणे

D.वरवर पहाणी करणे

Answer:

A.मागच्या काळाकडे ओझरती नजर टाकणे

Reference ID:(3405)

खालीलपैकी महाराष्ट्रामधील कोणत्या विद्वानाने त्याच्या साहित्यामधील योगदानासाठी 69 व्या प्रजासत्ताक दिनी पद्म श्री पुरस्कार जिंकला.

A.शिशिर पुरुषोत्तम मिश्रा

B.मुरलीकांत पेटकर

C.पानतवणे गंगाधर

D.संपत रामटेके

Answer:

C.पानतवणे गंगाधर

Reference ID:(3162)

Choose the most suitable conjunction to complete the given sentence.

I have been to London \_\_\_\_ I met you last.

A.for

B.since

C.because

D.as

Answer:

B.since



- A.करणवाचक
- B.संबंधवाचक
- C.हेतुवाचक
- D.योग्यतावाचक

Answer: C.हेतुवाचक

Reference ID:(3438)

दिलेल्या संख्या मालिकेमध्ये किती 3 असे आहेत ज्यांच्या आधी विषम संख्या आहे पण त्यांच्या नंतर सम संख्या नाही?  
3 4 2 5 3 1 5 2 1 3 6 7 3 1 8 2 7 8 5 3 9 1 3 4 5 2 3 5 4 3 5

- A.एक
- B.दो
- C.तीन
- D.चार

Answer: C.तीन

Reference ID:(3414)

रंगाने लालसर असलेल्या ग्रहाचे नाव सांगा?

- A.बुध
- B.पृथ्वी
- C.गुरू
- D.नेपच्यून

Answer: \*\*\*\* THIS QUESTION IS DISCARDED \*\*\*\*

Reference ID:(3435)

दोन नाणी एकाच वेळी उधळली गेली. दोन्ही छापे मिळण्याची संभाव्यता काय आहे?

- A.3/4
- B.1
- C.1/4

Answer: C.1/4

Reference ID:(3166) Out of the following options, identify the complex sentence.

- A.The whole extended family arrived in Lucknow for their holiday  
 B.The family had finished with lunch and they all went for sightseeing.  
 C.Feeling nauseated, Seema fainted in the cinema hall.  
 D.A very elaborate dinner had been arranged at night.

Answer: C.Feeling nauseated, Seema fainted in the cinema hall.

Reference ID:(3188) खालीलपैकी कोणते परिमाणवाचक क्रियाविशेषण अव्यय नाही ?

- A.किंचित  
 B.कचित  
 C.मुळीच  
 D.उगीच

Answer: D.उगीच

Reference ID:(3185) 'माशा मारणे' या वाक्प्रचाराचा अर्थ -

- A.हाताने माशा हाकलणे.  
 B.काहीही उद्योग न करणे.  
 C.मासेमारीचा व्यवसाय करणे.  
 D.घरात माशा होणे.

Answer: B.काहीही उद्योग न करणे.

Reference ID:(2947) Out of the following options, choose the sentence that is punctuated correctly.

- A.The pilot cried, The camels smell water and grass. An oasis is near!  
 B.The pilot cried, "The camels smell water and grass. An oasis is near!"

C.The pilot cried, "The camels smell water and grass. An oasis is near?"

D.The pilot cried, "The camels smell water and grass? An oasis is near!"

Answer:

B.The pilot cried, "The camels smell water and grass. An oasis is near!"

Reference ID:(3433)

एका दुकानदाराने खरेदी किंमतीपेक्षा 30% अधिक विक्री किंमत लावली आहे. मागणीत अचानक वाढ झाल्याने, त्याने त्यात छापील विक्री किंमतीवर 40% ने वाढ केली. त्याची नफ्याची नवीन टक्केवारी आहे \_\_\_\_\_.

A.70%

B.40%

C.82%

D.वरीलपैकी कोणतेही नाही

Answer:

C.82%

Reference ID:(3426)

हेमा पूर्वेकडून पश्चिमेकडे 7 किमी. चालते आणि उजवीकडे वळून 2 किमी. चालते. ती उजवीकडे वळते आणि 5 किमी. चालते. आरंभ बिंदूच्या बाबतीत ती आता कोणत्या दिशेस आहे?

A.उत्तर पूर्व

B.उत्तर पश्चिम

C.उत्तर

D.वरीलपैकी कोणत्याही नाही

Answer:

B.उत्तर पश्चिम

Reference ID:(3180)

खालीलपैकी चुकीची जोडी ओळखा.

A.फार, अतिशय - साधित क्रियाविशेषण अव्यय

B.सावकाश, जपून - रीतिवाचक क्रियाविशेषण अव्यय

C.समोरून, येथून - स्थलवाचक क्रियाविशेषण अव्यय

D.आज, पुढे - सिद्ध क्रियाविशेषण अव्यय

Answer:

A.फार, अतिशय - साधित क्रियाविशेषण अव्यय

Reference ID:(3413)

वडगावचा करार किंवा तह \_\_\_\_\_ च्या दरम्यान झाला -

B.पहिले इंग्रज-मराठा युद्ध

C.पानिपतची तिसरी लढाई

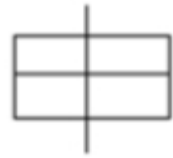
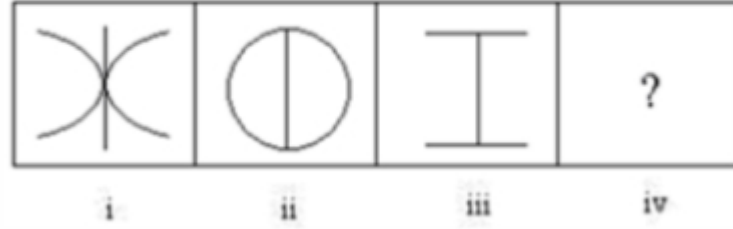
D.दुसरे इंग्रज-मराठा युद्ध

Answer:

B.पहिले इंग्रज-मराठा युद्ध

Reference ID:(5993)

खाली दिलेल्या क्रमानुसार, पुढील आकृती कोणती असेल?



Answer:



Reference ID:(3155)

Choose appropriate articles for the given sentence:

The I.T.D.C. (India Tourism Development Corporation) established by \_\_\_ Government of India with \_\_\_ view to promoting International tourism has \_\_\_ very significant role to play.

A.a, the, the

B.the, a, a

C.the, the, an

Answer: B.the, a, a

Reference ID:(3153) Choose the option with the appropriate suffix to complete the given sentence:

The parents were filled with excite\_\_\_\_\_ when they heard about their son's success\_\_\_\_\_ story

A.-d, -ing

B.-edly, -ion

C.-d, -ive

D.-ment, -ful

Answer: D.-ment, -ful

Reference ID:(3430) एका स्वेटरवर रु. 1000 किंमत चिन्हांकित केली गेली आहे. दुकानदार 20% सूट देतो. नवीन किमतीवर तो पुन्हा 50% सूट देतो. आता स्वेटरची विक्री किंमत काय आहे?

A.800 रुपये

B.400 रुपये

C.300 रुपये

D.900 रुपये

Answer: B.400 रुपये

Reference ID:(3167) Choose the correct form of tense for the given sentence:

The country \_\_\_\_\_ rapidly \_\_\_\_\_ as an eco-tourism hotspot.

A.is, emerging

B.has been, emerging

C.had, emerged

D.is being, emerged

Answer: A.is, emerging

- A.संगीत (हिंदुस्थानी-मौखिक)  
B.संगीत (हिंदुस्थानी-सितार)  
C.संगीत (हिंदुस्थानी-व्हायोलिन)  
D.संगीत (संगित-सुगम संगीताचे इतर मोठ्या परंपरा)

Answer: A.संगीत (हिंदुस्थानी-मौखिक)

Reference ID:(3420) अ आणि ब चे सरासरी वय 24 आहे आणि ब, क आणि ड चे सरासरी वय 22 वर्ष आहे. तर अ, ब, क आणि ड यांच्या वयांची बेरीज असेल:

- A.90 वर्ष  
B.98 वर्ष  
C.120 वर्ष  
D.माहिती पुरेशी नाही

Answer: D.माहिती पुरेशी नाही

Reference ID:(3194) उभयपक्षी नाविक एक्सरसाईज कोंकण 18 ची अलिकडे भारत आणि \_\_\_\_\_ दरम्यान समाप्ती झाली.

- A.युएसए  
B.युनायटेड किंगडम  
C.जपान  
D.इंडोनेशिया

Answer: B.युनायटेड किंगडम

Reference ID:(3175) 'मला राग आला.' या वाक्यातील क्रियापद ओळखा.

- A.मला  
B.आला  
C.राग  
D.राग आला

Answer: B.आला

Reference ID:(3158) Choose the option with the appropriate question tag for the given sentence:

You aren't hurt, \_\_\_\_\_

A.aren't you?

B.were you?

C.was you?

D.are you?

Answer:

D.are you?

Reference ID:(3172) 'अति तेथे माती' या म्हणीचा अर्थ -

A.माती असते तिथे जाऊ नये.

B.कोणत्याही गोष्टीचा अतिरेक वाईटच असतो.

C.मातीपासून सावध रहावे.

D.मती भ्रष्ट होणे.

Answer:

B.कोणत्याही गोष्टीचा अतिरेक वाईटच असतो.

Reference ID:(3412) \_\_\_\_\_ हा महाराष्ट्र राज्याचा क्षेत्रफळाच्या दृष्टीने सगळ्यात मोठा जिल्हा आहे

A.अहमदनगर

B.पुणे

C.धुळे

D.सातारा

Answer:

A.अहमदनगर

Reference ID:(3170) 'राम आंबा खातो.' या वाक्यातील कर्म ओळखून लिहा.

A.आंबा

B.राम

C.खातो

D.राम खातो

Reference ID:(3419)

प आणि क ह्यांच्या वयाचा गुणाकार 35 आहे. प आणि क च्या वयांमधील फरक 2 वर्ष आहे. त्यांच्यात प मोठा आहे असे गृहीत धरले तर प चे वय काढा.

A.6

B.4

C.9

D.7

Answer:

D.7

Reference ID:(3169)

'चार रस्ते एकत्र येतात ती जागा' या शब्दसमूहासाठी योग्य शब्द कोणता?

A.चाकोरी

B.चावडी

C.चव्हाटा

D.चतुर्वेद

Answer:

C.चव्हाटा

Reference ID:(3154)

Choose appropriate articles for the given sentence:

\_\_\_Brahmaputra river, Assam's lifeline has turned muddy and its water has changed colour which is \_\_\_cause for alarm.

A.A, a

B.The, the

C.The, a

D.An, the

Answer:

C.The, a

Reference ID:(3197)

सर्वात पहिला भारत-रशिया रणनीतिक आर्थिक संवाद कोणत्या ठिकाणी आयोजित केला होता?

A.नवी दिल्ली

B.मुंबई



D.मॉस्को

Answer:

C.सेंट पीटर्सबर्ग

Reference ID:(3425)

वगळलेली संख्या निवडून मालिका पूर्ण करा  
145, 170, 197, \_\_\_\_\_, 257

A.226

B.225

C.224

D.230

Answer:

A.226

Reference ID:(3410)

शेर शाह सुरीद्वारे पालन केली जात असलेली, अल्लाऊदीन खिलजीच्या लष्करी क्रांतीमधून स्वीकारलेली \_\_\_\_\_ ही सैनिकांच्या घोड्यांचे श्रेणीकरण करण्याची पध्दत होती.

A.रे

B.दाघ

C.चेहरा

D.बिघा

Answer:

B.दाघ

Reference ID:(3182)

'नंतर, पर्यंत, पावेतो' ही कोणत्या प्रकारची शब्दयोगी अव्यये आहेत?

A.स्थलवाचक

B.कालवाचक

C.करणवाचक

D.संबंधवाचक

Answer:

B.कालवाचक

Reference ID:(3401)

चंद्रयान-1, हे भारताचे पहिले मिशन टु मुन \_\_\_\_\_-रोजी यशस्वीपणे पाठवण्यात आले.

C.सप्टेंबर 2011

D.ऑक्टोबर- 2012

Answer:

B.ऑक्टोबर -2008

Reference ID:(3434)

एका पाळीव प्राण्याच्या दुकानात 100 प्राणी आहेत, ज्यापैकी 50 मिश्र जातीय प्रकारचे आहेत. यादृच्छिकपणे निवडल्यास मिश्र जातीय पाळीव प्राणी निवडली जाण्याची संभाव्यता किती आहे?

A.1/2

B.1/3

C.1/4

D.1/5

Answer:

A.1/2

Reference ID:(3178)

धातुसाधित व सहाय्यक क्रियापद मिळून कोणते क्रियापद तयार होते ?

A.संयुक्त क्रियापद

B.द्विकर्मक क्रियापद

C.उभयविध क्रियापद

D.स्थित्यंतरदर्शक क्रियापद

Answer:

A.संयुक्त क्रियापद

Reference ID:(3189)

‘सागराच्या लाटा उंच उसळत होत्या.’ या वाक्यातील क्रियापद ओळखा.

A.सागर

B.होत्या

C.उंच

D.लाट

Answer:

B.होत्या

Reference ID:(3187)

‘पांढऱ्यावर काळे करणे’ या वाक्प्रचाराचा अर्थ -

B.गोन्या माणसाला काळा रंग लावणे.

C.चेहऱ्याला डांबर फासणे.

D.कृष्णधवल सिनेमा पाहणे.

Answer:

A.काहीतरी लिहिणे.

Reference ID:(3193)

‘आईच्या आठवणीने तिचे डोळे पाणावले.’ या वाक्यातील क्रियापद ओळखा.

A.आईच्या

B.आठवणीने

C.पाणावले

D.तिचे

Answer:

C.पाणावले

Reference ID:(3436)

दिलेल्या क्रमात पुढील संख्या कोणती असेल?

15, 55, 24, 68, 33, 81, 42, 94,\_\_\_

A.60

B.51

C.107

D.120

Answer:

B.51

Reference ID:(3160)

Choose the appropriate preposition for the given sentence:

Initially, progress may be slow but never give \_\_\_\_\_ a child who isn't reading.

A.out of

B.up at

C.over

D.up on

Answer:

D.up on

A.902

B.962

C.992

D.वरीलपैकी कोणतेही नाही

Answer:

B.962

Reference ID:(3409)

भारताचे पहिले मुख्य निवडणुक आयुक्त कोण होते?

A.सुकुमार सेन

B.कल्याण सुंदरम

C.एस.पी. सेन वर्मा

D.सुनिल अरोरा

Answer:

A.सुकुमार सेन

Reference ID:(3191)

विनंती, शक्यता, इच्छा, तर्क, कर्तव्य, योग्यता व्यक्त करणारी क्रियापदे ----- असतात. योग्य पर्याय निवडा.

A.स्वार्थी

B.आज्ञार्थी

C.विध्यर्थी

D.संकेतार्थी

Answer:

C.विध्यर्थी

Reference ID:(3152)

Choose the option with the appropriate suffix to complete the given sentence:

The young boy was optimist\_\_\_\_\_ about his test marks as he had put in many hours of study before taking it.

A.-ically

B.-ic

C.-ism

Answer: B.-ic

Reference ID:(3174) 'अचूक गुणकारी असणारे' या अर्थाचा शब्दसमूह कोणता?

A.रामबाण

B.मदनबाण

C.सनातनी

D.माधुकरी

Answer: A.रामबाण

Reference ID:(3441) ट्रेनने चेन्नईहून मुंबईला जातांना अमुदा पुढून 8व्या डब्यात बसली, तर बालू मागून 10व्या डब्यात बसला. अमुदा आणि बालू दरम्यान दोन डबे होते. इंजिन ते शेवट, अशाक्रमात अमुदा बालूच्या मागे होती. तर त्या ट्रेनच्या डब्यांची संख्या किती होती?

A.14

B.18

C.15

D.16

Answer: A.14

Reference ID:(3408) महाराष्ट्र राज्य लोकसेवा अधिकार आयोगाचे मुख्यालय कुठे आहे?

A.पुणे

B.औरंगाबाद

C.नागपूर

D.मुंबई

Answer: D.मुंबई

Reference ID:(3403) डिसेंबर 2018 मध्ये टाटा ओपन महाराष्ट्र सामन्यांमध्ये \_\_\_\_\_ खेळाडूला वाईल्ड कार्ड मिळाले होते.

A.अर्जुन काधे

C.रामकुमार रामनाथन

D.सुमीत नागल

Answer:

A.अर्जुन काधे

Reference ID:(3161)

Choose the appropriate prepositional phrase for the given sentence:

Mary overcame her sorrow \_\_\_\_\_ her children.

A.for the sake on

B.for the sake of

C.for the sake by

D.for the sake with

Answer:

B.for the sake of

Reference ID:(3404)

\_\_\_\_\_हा महाराष्ट्रामधील भारतीय बुध्दीबळाचा ग्रॅन्डमास्टर आहे आणि त्याला 2000 मध्ये ग्रॅन्डमास्टर पुरस्कार देण्यात आला.

A.अभिजित कुंटे

B.संजय बांगर

C.खाशाबा दादासाहेब जाधव

D.विश्वनाथन आनंद

Answer:

A.अभिजित कुंटे

Reference ID:(3423)

खाली दिलेल्या मालिकेमध्ये अंकांचा एक विशिष्ट क्रम दिलेला आहे. त्यानुसार चुकीचा क्रम ओळखा:

90, 66, 45, 28, 15, 6, 1

A.45

B.28

C.90

D.6

Reference ID:(3431) एका माणसाने स्वतः कडील 20% रक्कम गमावली. उरलेल्या रक्कमेपैकी 80% खर्च झाल्यावर त्याच्याकडे 80 रुपये उरले. सुरवातीला त्याच्याकडे किती रक्कम होती?

A.रु. 1250

B.रु. 1000

C.रु. 750

D.रु. 500

Answer: D.रु. 500

Reference ID:(3196) महाराष्ट्राची अधिकृत भाषा मराठी आहे, जिला चार पर्यायी नावं आहेत. कशाचा त्या सूचीमध्ये समावेश होत नाही

A.मारठी

B.मल्हाती

C.मुरुथु

D.मारुथुवम

Answer: D.मारुथुवम

Reference ID:(3418) सपाट आरशाच्या 'उजवी बाजू डावी म्हणून दिसणे' आणि याउलट' च्या गुणधर्माला \_\_\_\_\_ म्हणतात.

A.ऊर्ध्व व्युत्क्रमण

B.पार्श्विक व्युत्क्रमण

C.परावर्तन

D.अपवर्तन

Answer: B.पार्श्विक व्युत्क्रमण

Date of Exam : 06-07-2019 10:00 AM

Reference ID:(5994)

खाली दिलेल्या क्रमानुसार पुढील आकृती कोणती असेल?



i



ii



iii



iv



Sabka ek bhaijaan

Sabka ek bhaijaan

Sabka ek bhaijaan

Answer:



Reference ID:(3662)

Choose appropriate conjunctions for the given sentence:

Only \_\_\_\_ we want, we can do a lot of things \_\_\_\_ time.

A.whether, while

B.but, if

C.if, before

D.since, in

Answer:

C.if, before



I have a **blind spot** where computers are concerned.

A.a secret place known only to him

B.a silent passion

C.an aspect difficult to understand

D.born blind

Answer:

C.an aspect difficult to understand

Reference ID:(3444)

Choose the option that correctly spells the words to be filled in the given  
sentence:

Since the coal \_\_\_\_\_ was a \_\_\_\_\_, he could not vote

A.minre , myner

B.minre , miner

C.minner , mynor

D.miner , minor

Answer:

D.miner , minor

Reference ID:(3934)

52 कार्डांच्या पॅकमध्ये चेहऱ्याचे कार्ड काढण्याची संभाव्यता काय आहे?

A.2/13

B.3/13

C.1/2

D.1/4

Answer:

B.3/13

- A.स्मृती मंधाना
- B.पुनम यादव
- C.मिथली राज
- D.हरमनप्रीत कौर

Answer: D.हरमनप्रीत कौर

Reference ID:(3921) जर SCENE ला TDFOF असे संकेतबद्ध केले जात असेल तर CLIMATE ला कसे संकेतबद्ध केले जाईल?

- A.DMJNBTE
- B.DMJNBUF
- C.DMKNBUE
- D.DMJNBUE

Answer: B.DMJNBUF

Reference ID:(3695) देशाच्या भिन्न भागांमध्ये होळीचे विविध प्रकार आहेत, महाराष्ट्राच्या अनेक ग्रामीण भागात याला म्हटले जाते

- A.लाथमार होळी
- B.रंगपंचमी
- C.बसंत उत्सव
- D.ढोल जत्रा

Answer: B.रंगपंचमी

Reference ID:(3901) 2018 मध्ये साहित्य आणि शिक्षण क्षेत्रातील महाराष्ट्रामधील पद्म श्री पुरस्कार विजेते हे आहेत:

- A.श्री अरविंद गुप्ता आणि श्री पानतावणे गंगाधर विठोबाजी
- B.प्रा. वेदप्रकाश नंदा आणि श्री अरविंद गुप्ता
- C.श्री पानतावणे गंगाधर विठोबाजी आणि प्रा. वेद प्रकाश नंदा
- D.श्री प्रफुल्ल गोविंद बरुआ आणि प्रा. वेद प्रकाश नंदा

Answer: A.श्री अरविंद गुप्ता आणि श्री पानतावणे गंगाधर विठोबाजी

Reference ID:(3665) Out of the following options, identify a simple sentence.

A.Rick and Reeta played football together in their childhood.

B.The child slept peacefully.

C.When touring Europe Ravi found it difficult to communicate because English was of no help.

D.The teams' hope of lifting the cup was dashed as they lost in the semi finals.

Answer: B.The child slept peacefully.

Reference ID:(3685) 'ती नुकतीच जागा झाली.' अधोरेखित शब्दाचे योग्य रूप लिहा.

A.जागा

B.जागे

C.जागी

D.जाग

Answer:

C.जागी

Reference ID:(3671) 'औषधालाही नसणे' या वाक्यचाराचा अर्थ -

A.गावात डॉक्टर नसणे.

B.घरात औषध नसणे.

C.औषध न घेणे.

D.एखादी गोष्ट अजिबात नसणे.

Answer: D.एखादी गोष्ट अजिबात नसणे.

Reference ID:(3676) 'अंतःकरणाला पाझर फोडणारे' या शब्दसमूहासाठी योग्य पर्याय कोणता?

A.हृदयस्पर्शी

B.हृदयस्थ

C.हृदयद्रावक

D.हृदयाघात

Reference ID:(3931)

एका हायस्कूलमध्ये विद्यार्थी गणित क्लब किंवा विज्ञान क्लब किंवा दोन्हीमध्ये भाग घेतात. गणित क्लबमधील 30% विद्यार्थी विज्ञान क्लबमध्ये आहेत आणि विज्ञान क्लबमधील 60% विद्यार्थी गणित क्लबमध्ये आहेत. विज्ञान क्लबमध्ये 15 विद्यार्थी असल्यास गणित क्लबमधील विद्यार्थ्यांची संख्या \_\_\_\_\_ आहे.

A.9

B.15

C.30

D.25

Answer:

C.30

Reference ID:(3657)

Choose the option that best transforms the given sentence as directed:

Jawaharlal Nehru was the first Prime Minister of India. He was a great writer.

**(Combine the two sentences into one sentence)**

A.Jawaharlal Nehru was the first Prime Minister of India who was a great writer.

B.Not only was Jawaharlal Nehru a writer so also he was the first Prime Minister of India.

C.Jawaharlal Nehru was a great writer who was the first Prime Minister of India.

D.Jawaharlal Nehru, the first Prime Minister of India, was a great writer.

Answer:

D.Jawaharlal Nehru, the first Prime Minister of India, was a great writer.

Reference ID:(3906)

महाराष्ट्र राज्य लोकसेवा अधिकार आयोगाचे मुख्य आयुक्त कोण आहे?

A.बिमल जालान

B.स्वाधीन क्षत्रीय

C.देवेन्द्र फडणवीस

D.एकनाथ खडसे

Reference ID:(3699)

भारतीय रेल्वेद्वारे वापरल्या जाणार्या ठ जैव-शौचालय यंत्रणेमध्ये, मानवी विष्ठेला पाणी आणि बायो-गॅसमध्ये रुपांतरीत करण्यासाठी कशाचा वापर केला जातो?

A.सुडोमोनस

B.एक्टीनोमायसेट्स

C.जीवाणूजन्य इनोक्युलम

D.क्लोस्ट्रीडियम

Answer:

C.जीवाणूजन्य इनोक्युलम

Reference ID:(3920)

सरासरी काढा.  
55,65,75,85,95&45

A.65

B.80

C.90

D.70

Answer:

D.70

Reference ID:(3687)

‘मुलांना पुस्तके वाचण्यास खूप आवडतात.’ या वाक्यातील क्रियापद ओळखा.

A.मुलांना

B.पुस्तके

C.वाचण्यास

D.आवडतात

Answer:

D.आवडतात

Reference ID:(3683)

तो खाली बसला. या वाक्यातील क्रियाविशेषण ओळखा.

A.तो

B.तो खाली

C.बसला

Answer:

D.खाली

Reference ID:(3902)

2018 मधील राजीव गांधी खेल रत्न पुरस्काराचे विजेते हे आहेत:

A.विराट कोहली आणि मीराबाई चानू

B.विराट कोहली आणि सरदार सिंह

C.सरदार सिंह आणि मीराबाई चानू

D.देवेंद्र झाझरिया आणि मीराबाई चानू

Answer:

A.विराट कोहली आणि मीराबाई चानू

Reference ID:(3681)

कोणत्या समासात दोन्ही पदांपेक्षा तिसरेच पद महत्वाचे असते आणि हा सामासिक शब्द ह्या तिसऱ्या पदाचे विशेषण असते ?

A.द्वंद्व समास

B.अव्ययीभाव समास

C.बहुब्रीही समास

D.कर्मधारय समास

Answer:

C.बहुब्रीही समास

Reference ID:(3688)

'ती दररोज फेरफटका मारण्यास जातो.' अधोरेखित शब्दाचे योग्य रूप लिहा.

A.जाते

B.जातात

C.जातो

D.जातील

Answer:

A.जाते

Reference ID:(3675)

'अति शहाणा त्याचा बैल रिकामा' या म्हणीचा अर्थ -

B. जो माणूस फार शहाणपणा करायला जातो त्याचे मुळीच काम होत नाही.

C. ज्याचे आचार विचार चांगले नसतात तो नेहमी दुःखी असतो.

D. स्वतःचे चांगले आणि दुसऱ्यांचे वाईट अशी प्रवृत्ती असणे.

Answer:

B. जो माणूस फार शहाणपणा करायला जातो त्याचे मुळीच काम होत नाही.

Reference ID:(3689)

खालील आलंकारिक शब्दांची चुकीची जोडी ओळखा.

A. पिकले पान – म्हातारा

B. भीष्म प्रतिज्ञा – कठीण प्रतिज्ञा

C. बोके सन्यासी – ढोंगी मनुष्य

D. गंगा-यमुना – नद्या

Answer:

D. गंगा-यमुना – नद्या

Reference ID:(3686)

‘छत्तीसचा आकडा असणे’ या वाक्यचाराचा अर्थ -

A. तीन व सहा लिहिणे.

B. छत्तीस गुण जुळणे.

C. वैर असणे.

D. विरुद्ध दिशांना पाहणे.

Answer:

C. वैर असणे.

Reference ID:(3654)

Choose appropriate articles for the given sentence:

Television, nicknamed as \_\_\_\_\_ 'Idiot Box' by the Americans, is one of \_\_\_\_\_ most revolutionary inventions of \_\_\_\_\_ twentieth century.

A. a, a, the

B. the, a, the

C. an, the, the

D. a, an, the

Answer:

C. an, the, the

- A.begger , passenger , peddler
- B.beggar , passenger , peddlar
- C.begger , passenger , peddler
- D.beggar , passenger , peddler

Answer: D.beggar , passenger , peddler

Reference ID:(3930)

अजयने व्यवसायाची सुरुवात रु. 20,000 ने केली. 4 महिन्यांनंतर त्याचा मित्र अजित व्यवसायात रु. 30,000 भांडवल घेऊन सामील झाला. वर्षाच्या शेवटी त्यांना रु. 3500 नुकसान झाले. त्यात अजयचा वाटा आहे:

- A.रु. 3000
- B.रु. 1400
- C.रु. 1700
- D.रु. 1750

Answer: D.रु. 1750

Reference ID:(3916)

विद्युत चुंबकाचा गाभा \_\_\_\_\_ चा बनलेला असतो.

- A.पोलाद
- B.मॅग्नेशियम
- C.तांबे
- D.मऊ लोह

Answer: D.मऊ लोह

Reference ID:(3909)

अकबरच्या मनसबदारी यंत्रणेखाली, व्यक्तीला किती संख्येने घोडदळ ठेवण्याची गरज आहे हे त्याच्या \_\_\_\_\_ श्रेणीवरून कळत असत.

- A.मनसब
- B.ज्ञात
- C.सवार
- D.जागिर

Answer: C.सवार



Reference ID:(3694) चंद्र दिनदर्शिकेमध्ये, एक मुहूर्तामध्ये समाविष्ट असतात

A.45 मिनिटे

B.48 मिनिटे

C.60 मिनिटे

D.150 मिनिटे

Answer: B.48 मिनिटे

Reference ID:(3941) जर  $(559 * 46 * 28a * 484)$  च्या गुणाकारात एकक स्थानी 2 असेल, जेथे a हा एक अंक आहे, तर a \_\_\_\_\_ आहे.

A.3

B.5

C.7

D.1

Answer: C.7

Reference ID:(3658) Choose the correct form of modal auxiliary verb for the given sentence:

When Mary was young, she \_\_\_\_\_ recite the poem very effectively.

A.could

B.will

C.can

D.ought to

Answer: A.could

Reference ID:(3693) महाराष्ट्राने अटल सोलर कृषी पंप योजनेखाली नोंदणी करणाऱ्या शेतकऱ्यांची या मोफत भेटी देण्याचा निर्णय घेतला आहे. या योजनेखाली खालीलपैकी कशाचा समावेश केलेला नाही:

A.एलडी बल्ब

B.डीसी फॅन्स

D.एलइडी टीव्ही

Answer:

D.एलइडी टीव्ही

Reference ID:(3936)

बामा आणि जया प्रत्येकीने 100-गुणांच्या चार चाचण्या दिल्या. बामाला चार चाचण्यांमध्ये सरासरी 78 गुण मिळाले. जयाला पहिल्या चाचणीमध्ये बामापेक्षा 10 गुण जास्त मिळाले, दुसऱ्या चाचणीमध्ये तिच्यापेक्षा 10 गुण कमी मिळाले, आणि तिसऱ्या आणि चौथ्या चाचण्यांमध्ये 20 गुण जास्त मिळाले. या चार चाचण्यांमधील जयाची सरासरी आणि बामाची सरासरी यांमध्ये काय फरक आहे?

A.20

B.10

C.0

D.5

Answer:

B.10

Reference ID:(3660)

Choose the appropriate prepositional phrase for the given sentence:

Virat Kohli was made captain \_\_\_\_\_ M.S. Dhoni.

A.in place at

B.in place with

C.in place of

D.in place on

Answer:

C.in place of

One morning the inmates of the prison \_\_\_\_ that they would no longer \_\_\_\_ prison food.

A.are announcing, eat

B.announced, eat

C.had announce, eating

D.will announce, are eating

Answer:

B.announced, eat

Reference ID:(3656)

Select suitable determiners from the given options to complete the given sentence:

\_\_\_\_\_are the books which were donated by the people.

A.This

B.That

C.These

D.Which

Answer:

C.These

Reference ID:(3673)

‘कर्तव्यपराङ्मुख’ म्हणजे काय ?

A.कर्तव्याकडे पाठ फिरविणारा

B.कर्तव्यात तत्पर असणारा

C.कर्तव्याकडे लक्ष देणारा

D.मनापासून कर्तव्य करणारा

Answer:

A.कर्तव्याकडे पाठ फिरविणारा

Reference ID:(3684)

‘डोंगर पोखरून उंदीर काढणे’ या म्हणीचा अर्थ -

A.प्रचंड परिश्रम घेऊनही अल्प यश प्राप्त होणे.

B.भांडण मिटवणे.

C.नुकसान करणाऱ्याला धडा शिकवणे.

Answer: A.प्रचंड परिश्रम घेऊनही अल्प यश प्राप्त होणे.

Reference ID:(3655) Choose the correct form of verb for the given sentence:

Sharath \_\_\_\_\_ cricket for the past 2 hours.

A.playing

B.has been playing

C.has play

D.have played

Answer: B.has been playing

Reference ID:(3918) क्लारा 14 वर्षांची आहे. दोन वर्षांपूर्वी तिची आई ज्यूडचं वय तिच्यापेक्षा तिप्पट होतं. 16 वर्षांपूर्वी जेव्हा ज्यूडचं लग्न झालं तेव्हा तिच्या वयाचं तिचा नवरा मॅटच्या वयाशी असलेलं गुणोत्तर 11:13 असं होतं. तर मॅटचं वय किती?

A.36

B.38

C.42

D.40

Answer: C.42

Reference ID:(3933) एक नाणे दोनदा फेकले असता दोन वेळा चित(हेड) मिळण्याची संभावना आहे:

A.1/2

B.1/4

C.0

D.1

Answer: B.1/4

Reference ID:(3928) A व B या दोन कामगारांच्या कार्यक्षमतेचे गुणोत्तर अनुक्रमे 5:4 आहे. A एखादे काम 12 तासांत करू शकत असल्यास B ला ते काम करण्यास लागणारा वेळ आहे:

B.16.5 तास

C.16 तास

D.15 तास

Answer:

D.15 तास

Reference ID:(3674)

अचूक पर्याय निवडा.

A.केरकचरा – वैकल्पिक द्वंद्व समास

B.तूपसाखर – इतरेतर द्वंद्व समास

C.खरेखोटे – वैकल्पिक द्वंद्व समास

D.आचारविचार – समाहार द्वंद्व समास

Answer:

A.केरकचरा – वैकल्पिक द्वंद्व समास

Reference ID:(3663)

Choose the correct word to complete the sentence:

I stood in front of the \_\_\_\_\_ praying to God that Tia \_\_\_\_\_ her plans to go abroad for higher studies.

A.alter, alter

B.altar, altar

C.altar, alter

D.alter, altar

Answer:

C.altar, alter

Reference ID:(3447)

Choose the correct form of adjective for the given sentence:

Water is \_\_\_\_\_ tea or any other liquid for all living beings.

A.more precious than

B.precious than

C.most precious

D.the most precious

Answer:

A.more precious than

Reference ID:(3929) एक विक्रेता एक घड्याळ 5% सूटीवर विकतो. जर त्याने 7% सूट दिली तर त्याला नफ्यामध्ये 15 रुपये कमी मिळतात. घड्याळाची लावलेली किंमत काय आहे?

A.697.50 रूपये

B.712.50 रूपये

C.750 रूपये

D.817.50 रूपये

Answer: C.750 रूपये

Reference ID:(3670) 'आगगाडी' हा सामासिक शब्द कोणत्या समासाचे उदाहरण आहे ?

A.मध्यमपदलोपी समास

B.उपपद तत्पुरुष समास

C.कर्मधारय समास

D.द्विगु समास

Answer: A.मध्यमपदलोपी समास

Reference ID:(3924) वगळलेली संख्या निवडून मालिका पूर्ण करा:

0, 4, 6, 3, 7, 9, 6, \_\_\_\_\_, 12

A.8

B.10

C.11

D.14

Answer: B.10

Reference ID:(3940) दोन असमान परिमेय संख्यांच्या दरम्यान किती परिमेय संख्या असतात?

A.0

B.अनंत

C.10000

D.1456

Reference ID:(3910)

घटनेमधील कोणता अनुच्छेद अनुक्रमे राष्ट्रपती आणि गव्हर्नरचा अध्यादेश तयार करण्याचा अधिकार नमूद करतो?

A.अनुच्छेद 132 आणि 230

B.अनुच्छेद 196 आणि 264

C.अनुच्छेद 141 आणि 210

D.अनुच्छेद 123 आणि 213

Answer:

D.अनुच्छेद 123 आणि 213

Reference ID:(3691)

'खेड्यातील माणसे आता बरीच पुढारली.' या वाक्यातील क्रियापद ओळखा.

A.खेड्यातील

B.माणसे

C.आता

D.पुढारली

Answer:

D.पुढारली

Reference ID:(3926)

एक कार ताशी 45 किमीच्या वेगाने जाते आणि वेळेवर मुक्कामी पोहोचते. जेव्हा तिचा सरासरी वेग ताशी 40 किमी होतो तेव्हा ती 30 मिनिटे उशीरा पोहोचते. तर कारने पार केलेले अंतर काढा.

A.200 किमी

B.240 किमी

C.180 किमी

D.150 किमी

Answer:

C.180 किमी

Reference ID:(3905)

(आरटीआय)माहिती अधिकार अधिनियम, 2005 च्या कोणत्या विभागात राज्य माहिती आयोगाच्या घटनेची तरतुद आहे?

A.12

B.13

D.15

Answer:

D.15

Reference ID:(3911)

महाराष्ट्राच्या \_\_\_\_\_ जिल्ह्यात माळढोक पक्षी अभयारण्य वसलेले आहे.

A.अमरावती

B.अहमदनगर

C.नांदेड

D.धुळे

Answer:

B.अहमदनगर

Reference ID:(3668)

चुकीची जोडी ओळखा.

A.स्वगत – स्वतःशी केलेले भाषण

B.हुतात्मा – देशासाठी प्राण अर्पण केलेला

C.विदुषी – विद्वान स्त्री

D.स्वावलंबी – दुसऱ्यावर अवलंबून असणारा

Answer:

D.स्वावलंबी – दुसऱ्यावर अवलंबून असणारा

Reference ID:(3914)

रक्तामधील कोणता घटक ऑक्सिजनचे वहन करतो?

A.लाल रक्तपेशी (RBC)

B.पांढऱ्या रक्तपेशी (WBC)

C.बिंबाणु

D.जीवद्रव्य

Answer:

A.लाल रक्तपेशी (RBC)



वरील मांडणीमध्ये अशा किती संख्या आहेत ज्यांच्या नंतर लगेचच चिन्ह आणि आगोदर लगेचच अक्षर आहे?

A.एक

B.दोन

C.तीन

D.चार

Answer:

A.एक

Reference ID:(3913)

लघुग्रह \_\_\_\_\_ च्या परिभ्रमण कक्षांदरम्यान आढळतात.

A.नेपच्यून आणि प्लुटो

B.शनी आणि गुरू

C.मंगळ आणि गुरू

D.मंगळ आणि पृथ्वी

Answer:

C.मंगळ आणि गुरू

Reference ID:(3659)

Choose the appropriate preposition for the given sentence:

An amazing biological clock \_\_\_\_\_ us regulates our sleeping patterns.

A.for

B.from

C.into

D.within

Answer:

D.within

Reference ID:(3690)

'वैद्याने रोग्यास बरे केले.' या वाक्यातील कर्ता ओळखा.

B.बरे

C.केले

D.रोग्यास

Answer:

A.वैद्याने

Reference ID:(3937)

39 विद्यार्थी असलेल्या वर्गामध्ये प्रत्येकाकडे एक कुत्रा किंवा एक मांजर किंवा कुत्रा आणि मांजर दोन्ही पाळीव प्राणी आहेत. वीस विद्यार्थ्यांकडे कुत्रा आहे आणि 26 विद्यार्थ्यांकडे मांजर आहे. किती मुलांकडे कुत्रा आणि मांजर दोन्हीही आहेत?

A.12

B.10

C.7

D.5

Answer:

C.7

Reference ID:(3653)

Choose appropriate articles for the given sentence:

My brother told me \_\_\_\_amazing story about \_\_\_\_valour of Porus and his battle with Alexander.

A.the, a,

B.an, a

C.an, the

D.the, an

Answer:

C.an, the

Reference ID:(3919)

वयाबद्दल विचारले असता एका व्यक्तीने सांगितले, "त्याचे वय पहिल्या 15 नैसर्गिक संख्यांची बेरीज केल्यावर मिळते." तर त्या व्यक्तीचे वय किती?

A.100

B.50

C.120

D.150

Answer:

C.120

Reference ID:(3907) नेमणूकीच्या वेळी किती कालावधीसाठी महाराष्ट्र राज्य लोकसेवा अधिकार आयोगाच्या मुख्य आयुक्तांची नेमणूक केली जाते?

A.5 वर्ष

B.3 वर्ष

C.2 वर्ष

D.1 वर्ष

Answer: A.5 वर्ष

Reference ID:(3904) प्रख्यात अरविंद गुप्ता (पुणे) यांना त्यांच्या मधील योगदानासाठी 69 व्या प्रजासत्ताक दिनी पद्म श्री पुरस्काराने सन्मानित करण्यात आले

A.वैद्यकीय

B.कला

C.हिंदुस्थानी संगीत

D.शिक्षण आणि साहित्य

Answer: D.शिक्षण आणि साहित्य

Reference ID:(3682) 'कटी' या शब्दाचा समानार्थी शब्द सांगा.

A.पाय

B.डोके

C.गळा

D.कंबर

Answer: D.कंबर

Reference ID:(3445) Choose the option that best punctuates the given sentence:

The basketball coach ordered the players stand up and form a line quickly.

A.The basketball coach ordered, "To the players stand up and form a line quickly".

B.The basketball coach ordered the players, "stand up, and form a line quickly".

C.The basketball coach ordered “The players stand up and form a line quickly”.

D.The basketball coach ordered the players, “Stand up and form a line quickly”.

Answer:

D.The basketball coach ordered the players, “Stand up and form a line quickly”.

Reference ID:(3917)

खाली दिलेल्या पदार्थांपैकी कोणता पदार्थ ओझोनचा थर कमी करण्यासाठी जबाबदार नाही?

A.कार्बन टेट्राक्लोराईड

B.अमोनिया

C.क्लोरोफ्लोरो कार्बन

D.एरोसॉल्स

Answer:

B.अमोनिया

Reference ID:(3679)

‘गुणहीन’ या शब्दाचा समास ओळखा.

A.षष्ठी तत्पुरुष

B.पंचमी तत्पुरुष

C.चतुर्थी तत्पुरुष

D.तृतीया तत्पुरुष

Answer:

D.तृतीया तत्पुरुष

Reference ID:(3908)

भारताचे सध्याचे मुख्य निवडणुक आयुक्त कोण आहेत?

A.ओम प्रकाश रावत

B.नसीम झैदी

C.सुनिल अरोरा

D.अचल कुमार ज्योति

Answer:

C.सुनिल अरोरा

Reference ID:(3915)

सूर्यामधील ऊर्जेचा उगम \_\_\_\_\_ यामुळे होतो.

B.हायड्रोजनचे हेलियममध्ये रूपांतरण होणे

C.हायड्रोजनचे ज्वलन होणे

D.युरेनियमचे क्रिप्टॉनमध्ये रूपांतरण होणे

Answer:

B.हायड्रोजनचे हेलियममध्ये रूपांतरण होणे

Reference ID:(3669)

चुकीची जोडी ओळखा.

A.तुलनावाचक शब्दयोगी अव्यय – पेक्षा, तर, परीस

B.हेतुवाचक शब्दयोगी अव्यय – साठी, करिता, स्तव

C.संग्रहवाचक शब्दयोगी अव्यय – सुद्धा, देखील, ही

D.भागवाचक शब्दयोगी अव्यय – प्रति, कडे, विरुद्ध

Answer:

D.भागवाचक शब्दयोगी अव्यय – प्रति, कडे, विरुद्ध

Reference ID:(3912)

1853 साली मुंबईतील पहिली कापड गिरणी (टेक्सटाईल मिल) कुणी सुरू केली?

A.चित्तरंजन दास

B.डॉ. बी.आर. आंबेडकर

C.रोमेश चंद्र दत्त

D.कावसजी नानाभाई

Answer:

D.कावसजी नानाभाई

Reference ID:(3448)

Choose the correct form of adjective for the given sentence:

Negotiators are hoping for an \_\_\_\_\_ settlement.

A.early

B.earlier than

C.earliest

D.immediately

Answer:

A.early

0 2, 3, 6, 9, 18, 27, 54

A.0

B.18

C.54

D.6

Answer:

A.0

Reference ID:(3450)

Choose the appropriate possessive noun to complete the given sentence.

The summit is just \_\_\_\_\_ march from here.

A.a days

B.a days'

C.a day's

D.a days's

Sab Answer: bhaijaan

C.a day's

Sabka ek bhaijaan

Sabka ek bhaijaan

Reference ID:(3661)

Choose the most suitable conjunction to complete the given sentence:

We came \_\_\_\_\_ the guest had left.

A.till

B.for

C.after

D.ago

Answer:

C.after

Reference ID:(3698)

6 वे यु.एस. भारत एव्हीएशन संमेलन, मे 2018 मध्ये \_\_\_\_\_ येथे आयोजित केले होते.

A.मुंबई

B.चेन्नई

C.नवी दिल्ली

Answer: A.मुंबई

Reference ID:(3923) वगळलेली संख्या निवडून मालिका पूर्ण करा:  
0, 2, 3, 5, 8, 10, \_\_\_\_\_, 17, 24

A.12

B.14

C.15

D.16

Answer: C.15

Reference ID:(3651) Choose the option with the appropriate suffix to complete the given sentence:

All the neighbours sympathy\_\_\_\_\_ with the little girl who had lost her father at such a young age.

A.-ized

B.-y

C.-ic

D.-ize

Answer: A.-ized

Reference ID:(3938) 13 पेपरांच्या गुणांची सरासरी 50 आहे. पहिल्या 7 पेपरांची सरासरी 52 आणि शेवटच्या 7 पेपरांची सरासरी 45 आहे. सातव्या पेपरचे गुण काय आहेत?

A.25 गुण

B.26 गुण

C.29 गुण

D.32 गुण

Reference ID:(3664)

Choose the correct form of verb that is in agreement with the subject:

A 3BHK house usually \_\_\_\_\_ three bedrooms, a hall and a kitchen too.

A.is

B.are

C.has

D.have

Answer:

C.has

Reference ID:(3449)

Choose the correct form of the noun for the given sentence:

The \_\_\_\_\_ of the monarch butterfly is the most spectacular natural phenomena in the world.

A.mitigation

B.migrate

C.migrating

D.migration

Answer:

D.migration

Reference ID:(3677)

खालीलपैकी कोणते उदाहरण कर्मधारय समासाचे नाही ?

A.काव्यामृत

B.भवसागर

C.नीलगगन

D.शेतकरी

Answer:

D.शेतकरी



VERTEXVERTEX...वाक्याकडे लक्ष द्या जेथे VERTEX ची 10 वेळा पुनरावृत्ती झाली आहे. 1 ल्या टप्प्यामध्ये सर्व विषम स्थानावरील अक्षरे काढून टाका. 2 च्या टप्प्यामध्ये सर्व विषम स्थानावरील अक्षरे काढून टाका. एक अक्षर शिल्लक राहिल तोपर्यंत हे पुनरावृत्त करा. ते अक्षर काय आहे?

A.V

B.T

C.X

D.E

Answer:

D.E

Reference ID:(3672)

कोणत्या समासातील पहिले पद संख्यावाचक विशेषण तर दुसरे पद नाम असते ?

A.कर्मधारय समास

B.द्विगु समास

C.द्वंद्व समास

D.अव्ययीभाव समास

Answer:

B.द्विगु समास

Reference ID:(3925)

एक चोर दुपारी 2:30 वाजता एक कार चोरतो आणि ती ताशी 60 किमी वेगाने पळवतो. पोलीस दुपारी 3:00 वाजता ताशी 75 किमी वेगाने जिथून त्याने कार चोरली त्या ठिकाणाहून त्याचा पाठलाग सुरू करतात. तर पोलीस किती वाजता त्याला पकडतील?

A.सायं. 05:15

B.सायं. 04:25

C.सायं. 05:00

D.सायं. 04:55

Answer:

C.सायं. 05:00

- A.दुसरे
- B.पाचवे
- C.पहिले
- D.तिसरे

Answer: C.पहिले

Reference ID:(3903)

अपर्णा पोपट ही \_\_\_\_\_ ची राष्ट्रीय चॅम्पियन आहे आणि तिने कॉमनवेल्थ गेम्स 2002 मध्ये कांस्य पदक जिंकले होते.

- A.जलतरण
- B.बॅडमिंटन
- C.नेमबाजी
- D.कुस्ती

Answer: B.बॅडमिंटन

Reference ID:(3652)

Choose the option with the appropriate suffix to complete the given sentence:

The horr\_\_\_\_\_ situation was further aggrav\_\_\_\_\_ when the hero got trapped in quicksand.

- A.-ify, -avating
- B.-endous , -ated
- C.-ible, -ation
- D.-ifying, -ate

Answer: B.-endous , -ated

Reference ID:(3680)

'खापर फोडणे' या वाक्प्रचाराचा अर्थ -

- A.मडकं फोडणे.
- B.एखाद्याला दोष देणे.
- C.डोळ्यांत झालेल्या खुपऱ्या फोडणे.
- D.स्वतःकडे दोष घेणे.

Reference ID:(3700)

भारताची पहिली अत्यंत गंभीर कार्बन डायऑक्साईड (एस-सीओ<sub>2</sub>) ब्रेयटन चाचणी लूप सुविधा \_\_\_\_\_ येथे सुरू करण्यात आली.

A.बेंगलुरू

B.चेन्नई

C.ओडिसा

D.मुंबई

Answer:

A.बेंगलुरू

Reference ID:(3932)

एक कृष्णधवल छायाचित्र अनुक्रमे 60% काळे आणि 40% पांढरे आहे. त्या छायाचित्राचा आकार 2 पट वाढविल्यास पांढऱ्या रंगाची टक्केवारी आहे:

A.80%

B.60%

C.50%

D.40%

Answer:

D.40%

Reference ID:(3446)

Out of the following options, choose the sentence that is punctuated correctly.

A.One day Mamma Fox said to Papa Fox I want a fat hen to eat.

B.One day Mamma Fox said to Papa Fox "I want a fat hen to eat."

C.One day Mamma Fox said to Papa Fox, "I want a fat hen to eat."

D.One day, Mamma Fox said to Papa Fox, "I want, a fat hen to eat"

Answer:

C.One day Mamma Fox said to Papa Fox, "I want a fat hen to eat."

Reference ID:(3927)

अब्बास आणि अकबर एक काम 35 दिवसांत पूर्ण करतात तर अब्बास एकटा तेच काम 60 दिवसांत पूर्ण करतो. अब्बास कामाचा पाव भाग किती दिवसांत पूर्ण करू शकतो.

A.16 दिवस

B.18 दिवस

D.20 दिवस

Answer:

C.21 दिवस

Reference ID:(3692)

'पृथ्वी सूर्याभोवती फिरते.' या वाक्यातील कर्म ओळखा.

A.पृथ्वी

B.सूर्य

C.सूर्याभोवती

D.फिरते

Answer:

B.सूर्य

Reference ID:(3678)

एकाच आईच्या पोटी जन्मलेल्या मुलांना काय म्हणतात ?

A.अग्रज

B.अनुज

C.सहगामी

D.सहोदर


Answer:

D.सहोदर

Date of Exam : 06-07-2019 02:30 PM

Reference ID:(5997)

I, II आणि III चौकोन आहेत, यामध्ये I आणि II चे क्षेत्रफळ अनुक्रमे 36 चौ सेंमी आणि 100 चौ सेंमी आहे. III ची परिमिती काढा.



A.124 सेंमी

B.128 सेंमी

C.256 सेंमी

D.64 सेंमी

Answer:

D.64 सेंमी

Reference ID:(4419)

सरासरी काढा.  
66,80,77,99,88&100

A.75

B.99

C.85

D.100

Answer:

C.85

Reference ID:(5996)

खाली दिलेल्या क्रमानुसार पुढील आकृती कोणती असेल?



i



ii



iii



iv





Answer:



Reference ID:(3946)

Choose the correct form of adjective for the given sentence:

Is it possible to make the room \_\_\_\_\_ what it is right now with clothes and toys strewn all over?

A. most messiest than

B. more messier than

C. lesser messier

D. messier than

Answer:

D. messier than

Reference ID:(4189)

‘मुलाने कुत्र्यास मारले.’ या वाक्यातील कर्म ओळखा.

A. मुलाने

B. कुत्र्यास

C. कुत्र्यास मारले

D. मारले

Answer:

B. कुत्र्यास

Reference ID:(4163)

Choose the correct form of verb that is in agreement with the subject:

The pressure to transform our institutions of learning \_\_\_\_\_.

B.continue

C.are continuing

D.have continued

Answer:

A.continues

Reference ID:(4197)

समुद्र आणि जहाज बांधणीमधील उत्कृष्टतेच्या केंद्राने(सीइएमएस), जून 2018 मध्ये मुंबई आणि \_\_\_\_\_ कॅम्पसमध्ये त्यांच्या प्रयोगशाळा स्थापित करण्याची घोषणा केली होती.

A.मँगलोर

B.गोवा

C.विज्ञाग

D.मुंबई

Answer:

C.विज्ञाग

Reference ID:(4404)

राज्य मुख्य माहिती आयुक्त पदाची नियुक्ती करणार्या समितीचे अध्यक्ष कोण आहेत?

A.मुख्यमंत्री

B.विधानसभेचे वक्ते(स्पीकर)

C.उच्च न्यायालयाचे मुख्य न्यायाधीश

D.राज्यपाल

Answer:

A.मुख्यमंत्री

Reference ID:(4165)

Choose appropriate tense for the given sentence:

Look! Jeny \_\_\_\_\_ her lunch early today as she \_\_\_\_\_ her mother out later.

A.had has, will take

B.is having, plans to take

C.will have, will taken

D.have, would take

Answer:

B.is having, plans to take

The student asked if he \_\_\_\_\_ meet the Principal.

A.can

B.could

C.will

D.would

Answer:

B.could

Reference ID:(3943)

Choose the option that correctly spells the words to be filled in the given sentence:

The \_\_\_\_\_ enjoyed the humorous character that the \_\_\_\_\_ portrayed

A.spectaters , actor

B.spectaturs , acter

C.spectators , actor

D.spectetors , aktor

Answer:

C.spectators , actor

Reference ID:(4430)

एका वर्गातील विद्यार्थ्यांनी मिळवलेल्या गुणांची सरासरी 68 आहे. त्या वर्गातील मुलींच्या गुणांची सरासरी 80 आहे आणि मुलांची सरासरी 60 आहे. त्या वर्गातील मुलांची टक्केवारी काय आहे?

A.40%

B.60%

C.65%

D.70%

Answer:

B.60%

Reference ID:(4198)

भारताची उच्च प्रदर्शन संगणक प्रणाली 'मिहीर' चा खालीलपैकी कोणत्या क्षेत्रांमध्ये वापर केला जातो?

A.हवामानाचा अंदाज

B.स्थान सेवा



D.संसाधनाची देखरेख

Answer: A.हवामानाचा अंदाज

Reference ID:(4169) खालीलपैकी अव्ययीभाव समासाचे उदाहरण नसलेला पर्याय निवडा.

A.सुखद

B.बेशक

C.आजन्म

D.जागोजागी

Answer: A.सुखद

Reference ID:(4162) Choose the correct word to complete the given sentence:

Being \_\_\_\_\_ and celebrating the festival of Diwali was an \_\_\_\_\_ new experience for me.

A.all together, all together

B.all together, altogether

C.altogether, altogether

D.altogether, all together

Answer: B.all together, altogether

Reference ID:(4173) 'निरोगी' या शब्दाचा समास ओळखा.

A.विभक्ती बहुब्रीही समास

B.नञ बहुब्रीही समास

C.सह बहुब्रीही समास

D.प्रादि बहुब्रीही समास

Answer: B.नञ बहुब्रीही समास

Reference ID:(4406) महाराष्ट्र राज्य लोकसेवा अधिकार आयोगाच्या मुख्य आयुक्तांचे वय ..... वर्षांपेक्षा जास्त असू शकत नाही.

B.65

C.60

D.58

Answer:

B.65

Reference ID:(4417)

राहुल आणि दीपक ह्यांच्या वयाचे गुणोत्तर अनुक्रमे 4:3 आहे. 6 वर्षांनंतर राहुलचे वय 26 वर्षे असेल. तर दीपकचे सध्याचे वय काय असेल?

A.14 वर्ष

B.15 वर्ष

C.20 वर्ष

D.22 वर्ष

Answer:

B.15 वर्ष

Reference ID:(4177)

'घटोत्कच' या आलंकारिक शब्दाचा अर्थ खालीलपैकी कोणता आहे?

A.कपटी मनुष्य

B.शीघ्रकोपी मनुष्य

C.चैनी मनुष्य

D.पराक्रमी मनुष्य

Answer:

A.कपटी मनुष्य

Reference ID:(4178)

चुकीची जोडी ओळखा.

A.अनंत - नञ बहुब्रीही समास

B.सुलोचना - प्रादि बहुब्रीही समास

C.सुपुत्र - सह बहुब्रीही समास

D.चौकोन - प्रादि बहुब्रीही समास

Answer:

D.चौकोन - प्रादि बहुब्रीही समास

She never gets anything done because she has her **finger in too many pies**.

- A.honest and uncorrupt
- B.highly influential
- C.involved in too many things
- D.lazy and sloppy

Answer: C.involved in too many things

Reference ID:(4415) गलगंड \_\_\_\_\_ च्या कमतरतेमुळे होतो.

- A.जीवनसत्त्व अ
- B.फ्लोरिन
- C.आयोडिन
- D.जीवनसत्त्व क

Sab Answer: Sabka ek bhaijaan

C.आयोडिन

Sabka ek bhaijaan

Sabka ek bhaijaan

Reference ID:(3942) Choose the option that has all words spelt correctly:

- A.equally , finally , realy
- B.equaly , finally , really
- C.equally , finally , really
- D.equally , finaly , reall

Answer: C.equally , finally , really

Reference ID:(4172) 'त्याचे बाबा अगदी आग्यावेताळ आहेत.' अधोरेखित शब्दाच्या योग्य अर्थाचा पर्याय निवडा.

- A.आग लावणारा वेताळ
- B.अत्यंत रागीट मनुष्य
- C.आग्या नावाचा मनुष्य
- D.अत्यंत चैनी मनुष्य

Reference ID:(4433)

जर 1, 2, 3, 4 आणि 9 अंक एकदाच वापरून संभाव्य लघुत्तम पाच अंकी सम संख्या तयार केली, तर दशम स्थानी \_\_\_ संख्या येईल.

A.9

B.4

C.3

D.2

Answer:

A.9

Reference ID:(4405)

सार्वजनिक प्राधिकरण, महाराष्ट्र लोकसेवा अधिकार अधिनियम 2015 आरंभ झाल्याच्या तारखेपासून ..... महिन्यांच्या आत आणि त्या नंतर वेळोवेळी त्यांने प्रस्तुत केलेल्या लोकसेवांच्या बाबतीत सूचित करेल.

A.6

B.9

C.3

D.12

Answer:

C.3

Reference ID:(4152)

Choose appropriate articles for the given sentence:

I landed in capital city Lima, “ \_\_\_ gastronomical capital of \_\_\_ Americas’.

A.the, the

B.a, an

C.a, the

D.a, a

Answer:

A.the, the

Reference ID:(4167)

‘बिनभाङ्याचे घर’ या आलंकारिक शब्दाचा अर्थ काय?

A.तुरंग

B.इमारत

D.सदन

Answer:

A.तुरंग

Reference ID:(4168)

'मला नोकरी लागली, की मी पेढे वाटीन.' अधोरेखित शब्दात कोणता उभयान्वयी अव्यय आलेला आहे?

A.विकल्पबोधक

B.स्वरूपबोधक

C.परिणामबोधक

D.संकेतबोधक

Answer:

D.संकेतबोधक

Reference ID:(4424)

अरुण आणि अनु एकमेकांपासून 150 किमी. अंतरावर राहतात. म्हणून ते मधे कोठेतरी भेटण्याचे ठरवतात. जर अरुण ताशी 20 किमी. वेगाने आणि अनु ताशी 40 किमी. वेगाने प्रवास करित असेल तर त्यांना भेटण्यासाठी किती वेळ लागेल?

A.2 तास

B.2.5 तास

C.3 तास

D.3.5 तास

Answer:

B.2.5 तास

Reference ID:(4161)

Choose appropriate conjunctions for the given sentence:

I like to eat cakes \_\_\_\_\_ they are warm, \_\_\_\_\_ you served it cold, \_\_\_\_\_ late.

A.while, but, and

B.and, but, and

C.so, yet, because

D.so, since, but

Answer:

A.while, but, and

A.PYAEJ

B.QYBEJ

C.QXAEJ

D.QYAEJ

Answer:

D.QYAEJ

Reference ID:(4411)

कावसजी नानाभाई यांनी मुंबईमध्ये \_\_\_\_\_ वर्षी पहिली कापड गिरणी (टेक्सटाईल मिल) सुरू केली.

A.1853

B.1875

C.1882

D.1905

Answer:

A.1853

Reference ID:(3948)

Choose the correct form of the noun for the given sentence:

\_\_\_\_\_ can be defined as an excess of body fat.

A.Obscenest

B.Obese

C.Obesity

D.Obedience

Answer:

C.Obesity

Reference ID:(4436)

सूत्र VARGHESEVARGHESEVARGHESE VARGHESE चा विचार करा, जेथे VARGHESE ची 20 वेळा पुनरावृत्ती करण्यात आली आहे. टप्पा 1 मध्ये सदर सूत्रातील सर्व सम स्थानातील अक्षरे काढून टाकण्यात येतात आणि पुढील टप्प्यांमध्ये क्रमाक्रमाने एकच अक्षर शिल्लक असेपर्यंत सम स्थानी असणारी अक्षरे काढून टाकण्यात येतात. तर ते अक्षर काय आहे?

B.R

C.V

D.H

Answer:

C.V

Reference ID:(4187)

‘रमेश गाणे गातो.’ या वाक्यातील कर्म ओळखा.

A.गाणे गातो

B.रमेश

C.गाणे

D.गातो

Answer:

C.गाणे

Reference ID:(3947)

Choose the correct form of adjective for the given sentence:

She has a good credit rating with other stores, so I'm sure she is \_\_\_\_\_.

A.incredible

B.credible

C.creditworthy

D.creditor

Answer:

C.creditworthy

Reference ID:(4170)

‘विरजण पडणे’ या वाक्प्रचाराचा अर्थ -

A.एखाद्या कामातला आनंद, उत्साह नाहीसा होणे.

B.दुधात दही पडणे.

C.दूध नासणे.

D.चांगल्या कामात विघ्न आणणे.

Answer:

A.एखाद्या कामातला आनंद, उत्साह नाहीसा होणे.

A.200 मीटर मेडली

B.50 मीटर फ्रिस्टाईल

C.100 मीटर फ्रिस्टाईल

D.100 मीटर बॅकस्ट्रोक

Answer:

D.100 मीटर बॅकस्ट्रोक

Reference ID:(4199)

\_\_\_\_\_ येथे एरोनॉटिकल चाचणी श्रेणीमध्ये फेब्रुवारी 2018 मध्ये रुस्तुम II ची यशस्वी चाचणी करण्यात आली.

A.पाषाण

B.पोखरण

C.ओडिशा

D.चित्रदुर्ग

Answer:

D.चित्रदुर्ग

Reference ID:(4171)

'साखरभात' या सामासिक शब्दाचा योग्य विग्रह कोणता ?

A.साखर किंवा भात

B.साखर आणि भात

C.भातात घातलेली साखर

D.साखर घालून केलेला भात

Answer:

D.साखर घालून केलेला भात

Reference ID:(3945)

Out of the following options, choose the sentence that is punctuated correctly.

A.'Have you made a wish?' I ask the boy.

B.'Have you made a wish? I ask the boy.

C.'Have you made a wish! I ask the boy.'

D.'Have you made a wish I ask the boy.'

Answer:

A.'Have you made a wish?' I ask the boy.



Reference ID:(4188) 'कपडा' या शब्दाचा चिकटून किंवा जोडीने येणारा शब्द कोणता?

A.चोपडा

B.टोपडे

C.लत्ता

D.सत्ता

Answer: C.लत्ता

Reference ID:(4176) जी उपवाक्ये 'पण, परंतु, परी' या अव्ययांनी जोडलेली असतात तेव्हां त्या वाक्यांना काय म्हणतात ?

A.विकल्पबोधक अव्यय

B.समुच्चयबोधक अव्यय

C.न्यूनत्वबोधक अव्यय

D.परिणामबोधक अव्यय

Answer: C.न्यूनत्वबोधक अव्यय

Reference ID:(4432) 27 रुपये देण्यासाठी 5 रुपयाची नाणी आणि 2 रुपयांच्या नाण्यांची किती भिन्न संयोजने देता येतील.

A.1

B.2

C.3

D.4

Answer: C.3

Reference ID:(4158) Choose the appropriate preposition for the given sentence:

The man had been recuperating \_\_\_\_\_ an accident which left him bedridden.

A.from

B.by

C.on

Answer: A.from

Reference ID:(4431) 7 लाल चेंडू आणि 5 निळे चेंडू असलेल्या पिशवीतून एक चेंडू काढताना लाल चेंडू निघण्याची संभाव्यता किती असेल?

A.5/12

B.7/12

C.1/12

D.1/7

Answer: B.7/12

Reference ID:(4164) Combine the following two sentences into a compound one.

Rakesh tried to hit the ball over the boundary. Ramesh caught the ball.

A.Rakesh tried to hit the ball over the boundary while Ramesh caught the ball.

B.Rakesh tried to hit the ball over the boundary but Ramesh caught it.

C.On Rakesh hitting the ball over the boundary Ramesh caught it.

D.Rakesh hit the ball over the boundary. Ramesh caught the ball.

Answer: B.Rakesh tried to hit the ball over the boundary but Ramesh caught it.

Reference ID:(4166) Choose the option that best expresses the meaning of the highlighted idiom/phrase:

We had a **ringside view** of the boxers because our seats were three rows from the ring.

A.clear, uninterrupted view

B.a closer look at the stadium

C.a place very comfortable to observe the actions of the play

D.an area ringed around for special purposes

Answer: A.clear, uninterrupted view

- A.कर्णाचा अवतार – संकुचित दृष्टीचा  
B.कोडगा – लबाड  
C.काडीपैलवान – सशक्त माणूस  
D.कोल्हेकुई – क्षुद्र लोकांची ओरड

Answer: D.कोल्हेकुई – क्षुद्र लोकांची ओरड

Reference ID:(4437)

कुमारने जत्रेत त्याचे निशाणेबाजीचे कौशल्य पारखले. त्याला लक्ष्याला नेम मारायचा होता आणि जर त्याचा नेम लक्ष्याला लागला असता तर त्याला 1 रुपया मिळणार होता आणि जर तो चुकला तर त्याला 50 पैसे द्यावे लागणार होते. त्याने 25 शॉट मारले आणि 10 रुपये जिंकला. त्याने किती वेळा लक्ष्याला मारले?

- A.10  
B.15  
C.18  
D.20

Answer: B.15

Reference ID:(4195)

विश्व सहिष्णुता शिखर संमेलन 2018 कुठे आयोजित केले होते?

- A.दुबई  
B.पॅरिस  
C.न्यूयॉर्क  
D.नवी दिल्ली

Answer: A.दुबई

Reference ID:(4185)

'खसखस पिकणे' या वाक्प्रचाराचा अर्थ -

- A.अफूचे भरपूर पीक येणे.  
B.पदार्थात खसखस वाटून घालणे.  
C.मोठ्याने हसणे.  
D.कुजबुजणे.

Answer: C.मोठ्याने हसणे.

Reference ID:(4414) इंद्रधनुष तयार होणे हे \_\_\_\_\_ चे उदाहरण आहे.

A.विवर्तन

B.ध्रुवीकरण

C.विकिरण

D.विपथन

Answer: D.विपथन

Reference ID:(4410) अहमदनगर जिल्ह्यातील रहकुरी हे कोणत्या दुर्मिळ आणि प्रसिद्ध प्राण्याचे अभयारण्य आहे?

A.स्लोथ अस्वल

B.भारतीय गवा

C.भारतीय काळे काळवीट

D.भारतीय जंगली कुत्रे

Answer: C.भारतीय काळे काळवीट

Reference ID:(4428)

A, B आणि C ने एका भागीदारीमध्ये प्रवेश केला. A ने सुरूवातीला 25 लाख रुपयांची गुंतवणूक केली आणि 1 वर्षानंतर आणखी 10 लाख रुपये त्याने गुंतवले. B ने सुरूवातीला 35 लाखांची गुंतवणूक केली आणि त्याने 2 वर्षानंतर 10 लाख रुपये काढून घेतले. C ने 30 लाख रुपयांची गुंतवणूक केली. 3 वर्षानंतर C ला नफ्याचा किती भाग मिळेल?

A.19/56

B.19/28

C.9/28

D.17/28

Answer: C.9/28

Reference ID:(4416) हा उच्च दाबाखाली साठवलेला नैसर्गिक वायू असतो.

A.सीएनजी

B.निर्माता वायू

C.जलवायू

Answer: A.सीएनजी

Reference ID:(4190) 'अर्जुनला पाण्यात मासा दिसला.' या वाक्यातील कर्म ओळखा.

A.अर्जुनला

B.मासा

C.पाण्यात

D.दिसला

Answer: B.मासा

Reference ID:(4184) 'मधूने लाडू खाल्ला.' या वाक्यातील कर्ता ओळखा.

A.लाडू

B.मधूने

C.लाडू खाल्ला

D.खाल्ला

Answer: B.मधूने

Reference ID:(3950) Choose the option with the appropriate suffix to complete the given sentence:

The ant is an example of an industr\_\_\_\_\_ creature.

A.-ised

B.-ial

C.-ious

D.-ialist

Answer: C.-ious

Reference ID:(4200) वर्ष 2018 मध्ये सर्वात जास्त पद्म पुरस्कार मिळवण्यात कोणते राज्य सर्वात अग्रणी होते?

A.उत्तरप्रदेश

C.मध्यप्रदेश

D.हरियाणा

Answer:

B.महाराष्ट्र

Reference ID:(4192)

एशिया कम्पेटीटीव्नेस इन्स्टीट्युट (एसीआय) ने भारतीय राज्यांसाठी व्यवसाय करण्याच्या सुकरतेचे श्रेणीकरण प्रकाशित केले आहे. महाराष्ट्राने \_\_\_\_\_ स्थान मिळवले आहे:

A.पहिले

B.दुसरे

C.तिसरे

D.पाचवे

Answer:

B.दुसरे

Reference ID:(4421)

खाली दिलेल्या मालिकेमध्ये अंकांचा एक विशिष्ट क्रम दिलेला आहे. त्यानुसार चुकीचा क्रम ओळखा:

2, 15, 41, 80, 134

A.15

B.80

C.134

D.41

Answer:

C.134

Reference ID:(4174)

‘एका माळेचे मणी’ या म्हणीचा अर्थ -

A.सगळीच माणसे भिन्न स्वभावाची.

B.सगळीच माणसे सारख्या स्वभावाची.

C.माळ घेऊन जप करणे.

D.माळेतील मणी मोजत बसणे.

Answer:

B.सगळीच माणसे सारख्या स्वभावाची.

A.28 जानेवारी, 1 फेब्रुवारी

B.6 जानेवारी, 10 जानेवारी

C.22 फेब्रुवारी, 26 फेब्रुवारी

D.3 मार्च, 7 मार्च

Answer: A.28 जानेवारी, 1 फेब्रुवारी

Reference ID:(4423) वगळलेली संख्या निवडून मालिका पूर्ण करा:  
13, 32, 24, 43, 35, \_\_\_\_\_, 46, 65

A.45

B.52

C.54

D.55

Answer: C.54

Reference ID:(4159) Choose the appropriate prepositional phrase for the given sentence:

They had to sell their big house \_\_\_\_\_ huge losses, in their family business.

A.owing to

B.owing for

C.owing by

D.owing on

Answer: A.owing to

Reference ID:(4194) भारताच्या संस्कृती आणि परंपरेच्या संदर्भात, 'मल्ल खांब' म्हणजे काय?

A.ही केरळच्या काही भागांत अजूनही प्रचलित असलेली शिवाच्या प्राचीन भक्ती पूजेची पध्दत आहे

B.ही कोरोमंडेलच्या दक्षिण भागात अजूनही आढळणारी कांस्य आणि पितळी कामाची प्राचीन शैली आहे

C.हा मलबारच्या उत्तरी भागामधील नृत्य, नाट्य आणि जिवंत परंपरेचा प्राचीन प्रकार आहे

Answer: D.हा महाराष्ट्राच्या भागांमध्ये अजूनही प्रचलित असलेला युध्दविद्येचा प्रकार आहे

Reference ID:(4160) Choose the most suitable conjunction to complete the given sentence.

Shorab is stronger than Rustum \_\_\_\_\_ weaker than Anil.

A.but

B.as

C.because

D.so

Answer: A.but

Reference ID:(4186) 'रामाने रावणास मारिलें.' या वाक्यातील क्रियापद ओळखा.

A.रामाने

B.रावणास

C.मारिलें

D.रावणास मारिलें

Answer: C.मारिलें

Reference ID:(4425) जॉनने शाळेत जाताना निम्मे अंतर पायी चालून कापले. त्याला जाणीव झाली की त्याला उशीर झालेला आहे आणि त्याने उरलेले अंतर धावून कापले. जर तो 12 मिनिटे चालला आणि चालण्याच्या वेगापेक्षा चार पट वेगाने धावल्यास जॉनला शाळेत पोचण्यास लागलेला एकूण वेळ आहे \_\_\_\_\_.

A.18 मिनिटे

B.15 मिनिटे

C.21 मिनिटे

D.25 मिनिटे

Answer: B.15 मिनिटे

Reference ID:(4427) 12 माणसे एक काम 20 दिवसांत पूर्ण करू शकतात, तर 15 माणसांना ते काम पूर्ण करण्यासाठी किती दिवस लागतील?



B.16

C.18

D.20

Answer:

B.16

Reference ID:(4403)

माहिती अधिकार अधिनियम, 2005 खालीलपैकी कोणत्या भागाला लागू होत नाही?

A.मेघालय

B.आसाम

C.जम्मू आणि काश्मीर

D.केंद्रशासित प्रदेश

Answer:

C.जम्मू आणि काश्मीर

Reference ID:(4182)

‘आमच्याकडील सोने बावनकशी आहे.’ या वाक्यात बावनकशी या आलंकारिक शब्दाचा कोणता अर्थ अभिप्रेत आहे?

A.निर्दोष

B.सर्वोत्कृष्ट

C.अस्सल

D.दुर्मिळ

Answer:

C.अस्सल

Reference ID:(4413)

खालीलपैकी कोणता एक नैसर्गिक स्रोत नाही?

A.सूर्यप्रकाश

B.पाणी

C.वारा

D.वीज

Answer:

D.वीज

- A.तू
- B.कविता
- C.तू कविता
- D.म्हटलीस

Answer: D.म्हटलीस

Reference ID:(4402)

अलिकडे महाराष्ट्र शासनाने मराठी भाषेचा प्रसार करण्यासाठी आणि तिचा ऑनलाईन वापर करण्यासाठी खालीलपैकी कोणत्या खाजगी आयटी कंपनीसोबत भागीदारी केली.

- A.गुगल
- B.याहू
- C.विकीपेडीया
- D.बिंग

Answer: C.विकीपेडीया

Reference ID:(4155)

Select suitable determiner from the given options to complete the given sentence:

If you have \_\_\_\_\_doubts about the plan, please speak up.

- A.much
- B.any
- C.little
- D.few

Answer: B.any

Reference ID:(5995)

एका वस्तूची किंमत 25% ने कमी करण्यात आली आहे. त्या वस्तूच्या किंमतीस मूळ किंमतीवर आणण्यासाठी कमी केलेली किंमतीत किती टक्क्यांनी वाढ करावी लागेल?

- 25%
- 30%
- $33\frac{1}{3}\%$

Answer:

 $33\frac{1}{3}\%$ 

Reference ID:(4422)

वगळलेली संख्या निवडून मालिका पूर्ण करा:  
4, 23, 60, 121, \_\_\_\_\_

A.212

B.221

C.241

D.242

Answer:

A.212

Reference ID:(4429)

एका वस्तूची किंमत खरेदी किमतीपेक्षा 50% जास्त लावली गेली. जर लावलेल्या किमतीवर 10% सूट दिली गेली, तर आता वास्तविक नफ्याची टक्केवारी काय असेल?

A.40%

B.35%

C.32%

D.30%

Answer:

B.35%

Reference ID:(4409)

उच्च न्यायालयाच्या न्यायाधीशांची नियुक्ती कोण करते?

A.पंत प्रधान

B.राष्ट्रपती

C.कायदा मंत्री

D.भारताचे मुख्य न्यायाधीश

Answer:

B.राष्ट्रपती

Reference ID:(3949)

Choose the appropriate possessive nouns to complete the given sentence.

It is my \_\_\_\_\_ birthday.

B.Sister, Ann

C.sister's, Ann

D.sister, Ann's

Answer:

D.sister, Ann's

Reference ID:(4179)

‘पारा चढणे’ या वाक्प्रचाराचा अर्थ -

A.राग वाढणे.

B.ताप येणे.

C.तापमानात वाढ होणे.

D.आवाज चढणे.

Answer:

A.राग वाढणे.

Reference ID:(4193)

श्री बळवंत मोरेश्वर पुरंदरे यांना या क्षेत्रामधील विलक्षण आणि उल्लेखनीय सेवेसाठी पद्म विभूषण पुरस्कार (2019) ने सन्मानित करण्यात आले:

A.साहित्य आणि शिक्षण

B.वैद्यकशास्त्र

C.कला-अभिनय-थिएटर

D.सार्वजनिक प्रकरणे

Answer:

C.कला-अभिनय-थिएटर

Reference ID:(4412)

ज्या प्राण्यांची संख्या ते दुर्मिळ होण्याइतकी खालावलेली असते त्यांना \_\_\_\_ प्राणी म्हणतात.

A.विलुप्त

B.प्रदेशनिष्ठ जातीचे

C.लोप पावत असलेले

D.विदेशज

Answer:

C.लोप पावत असलेले

A.कृष्णा

B.तापी

C.नर्मदा

D.गोदावरी

Answer:

C.नर्मदा

Reference ID:(4407)

'किताब-ए-नौराज' या पुस्तकामध्ये, विविध रागांमधील गाण्यांचे संच समाविष्ट आहे, जे खालीलपैकी कोणत्या सत्ताधिशाने लिहिलेले आहेत?

A.इब्राहिम आदिल शाह II

B.छेवाप्पा नायक

C.अली आदिल शाह

D.कृष्णदेवराय

Answer:

A.इब्राहिम आदिल शाह II

Reference ID:(3944)

Choose the option that best punctuates the given sentence:

Mother said to father our daughter has won the gold medal in the running race

A.Mother said to," Father our daughter has won the gold medal in the running race.

B.Mother said to Father, "Our daughter has won the gold medal in the running race".

C.Mother said to father "Our daughter, has won the gold medal in the running race".

D.Mother said, "To father our daughter has won the gold medal in the running race".

Answer:

B.Mother said to Father, "Our daughter has won the gold medal in the running race".

Reference ID:(4181)

खालीलपैकी उद्देश्यबोधक उभयान्वयी अव्यय ओळखा.

A.सबब, यास्तव, कारण

B.जरी-तरी, की, तर

D.अणि, व, शिवाय

Answer: A.सबब, यास्तव, कारण

Reference ID:(4154) Choose the correct form of verb for the given sentence:

He \_\_\_\_\_ his work within ten minutes.

A.completing

B.has completes

C.completed

D.is completes

Answer: C.completed

Reference ID:(4426)

अभया 6 तासांमध्ये एक डॉल हाउस तयार करते, तर विनय तेच काम 8 तासांमध्ये करतो. जर त्या दोघांनी मिळून काम करण्याचे ठरविले, तर ते 48 तासांमध्ये अशी किती डॉल हाउस तयार करू शकतात?

A.7

B.14

C.21

D.28

Answer: B.14

Reference ID:(4435)

देसिकनचा जन्म शनिवार नोव्हेंबर 9, 2002 ला झाला होता. 2008 मधील त्याच्या वाढदिवसाला आठवड्याचा कोणता दिवस असेल?

A.शनिवार

B.रविवार

C.सोमवार

D.मंगळवार

Answer: B.रविवार

Tigers are danger\_\_\_\_\_ animals and have been responsible for creating many tumult\_\_\_\_\_ situations in Indian villages.

A.-ed, -ing

B.-ing, -ly

C.-ous, -uous

D.-ingly, -ive

Answer:

C.-ous, -uous

Reference ID:(4418)

सिमी आणि निमी बहिणी आहेत. जेव्हा सिमी 10 वर्षांची होती तेव्हा निमीचं वय तिच्या दुप्पट होतं. सध्या त्यांच्या वयाची सरासरी जर 25 असेल तर निमीचे वय काढा.

A.30 वर्ष

B.40 वर्ष

C.45 वर्ष

D.60 वर्ष

Answer:

A.30 वर्ष

Reference ID:(4438)

तीन संख्यांची बेरीज 174 आहे. दुसरी संख्या आणि तिसऱ्या संख्येचे गुणोत्तर 9:16 आहे, आणि पहिल्या संख्येस तिसऱ्या संख्येचे गुणोत्तर 1:4 आहे. दुसरी संख्या काय असेल?

A.52

B.45

C.54

D.60

Answer:

C.54

Reference ID:(4183)

‘कामापुरता मामा ताकापुरती आजी’ या म्हणीचा अर्थ -

C.कधी गरीबी तर कधी श्रीमंती असणे.

D.नाती सांभाळणे

Answer:

A.आपले काम करून घेईपर्यंत एखाद्याशी गोड बोलणे.

Reference ID:(4153)

Choose appropriate articles for the given sentence:

\_\_\_\_\_ entire town is \_\_\_\_\_ UNESCO World Heritage despite being leveled in \_\_\_\_\_ earthquake.

A.The, a, an

B.An, the, the

C.An, the, an

D.The, an, the

Answer:

A.The, a, an

Reference ID:(4180)

‘खूप पाऊस पडला म्हणून गाड्या बंद झाल्या.’ ‘म्हणून’ या उभयान्वयी अव्ययाचा प्रकार ओळखा.

A.न्यूनत्वबोधक अव्यय

B.परिणामबोधक अव्यय

C.संकेतबोधक अव्यय

D.कारणबोधक अव्यय

Answer:

B.परिणामबोधक अव्यय

Reference ID:(4434)

8 लोकांमधून 4 व्यक्तींच्या एका समितीमध्ये किती भिन्न प्रकारे लोकांची निवड केली जाऊ शकते?

A.45

B.140

C.110

D.70



Answer:

D.70

Sabka ek bhaijaan

Sabka ek bhaijaan

Sabka ek bhaijaan

---

Sabka ek bhaijaan

Sabka ek bhaijaan

Sabka ek bhaijaan

Sabka ek bhaijaan

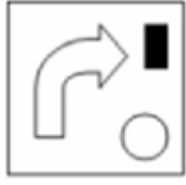
Sabka ek bhaijaan

Sabka ek bhaijaan

Date of Exam : 07-07-2019 10:00 AM

Reference ID:(5998)

जर खाली दिलेले दोन चौकोन अतिव्याप्त होत असतील, तर खालीलपैकी कोणता विकल्प तयार होईल?



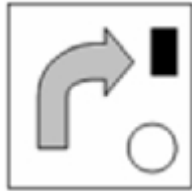
Sabka ek bhaijaan



Sabka ek bhaijaan

Sabka ek bhaijaan

Answer:



Reference ID:(4733)

'मला हा डोंगर चढवतो.' या वाक्याचा प्रयोग ओळखा.

A.भावे

B.कर्मणी

C.कर्तरी

D.नवीन कर्मणी

Answer:

B.कर्मणी

A.98

B.84

C.56

D.85

Answer:

B.84

Reference ID:(4441)

Choose the option that best punctuates the given sentence:

The little girl asked her mother are we going home now.

A.The little girl asked her mother, "Are we going home now?"

B.The little girl asked her mother, "are we going home now".

C.The little girl asked her mother "Are we going home now."

D.The little girl asked her mother. "Are we going home now.?"

Answer:

A.The little girl asked her mother, "Are we going home now?"

Reference ID:(4745)

इंटरमेडीएट रेंज बॉलिस्टिक क्षेपणास्त्र अग्नी-1 \_\_\_\_\_ प्रणोदन गतिवर्धक यंत्रणेचा वापर करते.

A.क्रायोजेनिक

B.घन

C.स्कॅमजेट

D.द्रव

Answer:

B.घन

Reference ID:(4952)

लोकसेवा प्राप्त करण्यासाठी कोणाही पात्र व्यक्तीस.....कडे अर्ज करता येईल.

A.सार्वजनिक प्राधिकरण

B.स्थानिक अधिकारी

D.नियुक्त अधिकारी

Answer:

D.नियुक्त अधिकारी

Reference ID:(4701)

Choose the correct form of verb for the given sentence:

We \_\_\_\_\_ in this house for the past 15 years.

A.has living

B.have been living

C.has lived

D.has been living

Answer:

B.have been living

Reference ID:(5999)

जर ■+25=▲ आणि ■-25=●, तर ▲आणि ●मधे काय संबंध आहे?

25+●=▲

25-●=▲

50+●=▲

50-●=▲

Answer:

50+●=▲

Reference ID:(4951)

केंद्रीय माहिती आयोग आणि राज्य माहिती आयोगाचे निर्णय,(आरटीआय) माहिती अधिकार अधिनियम, 2005 च्या कलम \_\_\_ अंतर्गत बंधनकारक आहेत.

A.19(7)

B.19(2)

C.19(5)

D.19(6)

Answer:

A.19(7)

A.1/9

B.6/1

C.3/6

D.4/6

Answer:

A.1/9

Reference ID:(4955)

ओर्संग नदी ही \_\_\_\_\_ नदीची उपनदी आहे?

A.कोयना

B.तापी

C.कृष्णा

D.नर्मदा

Answer:

D.नर्मदा

Reference ID:(4720)

चुकीची जोडी ओळखा.

A.छे छे, छट – विरोधदर्शक केवलप्रयोगी अव्यय

B.हुडत, शी – तिरस्कारदर्शक केवलप्रयोगी अव्यय

C.शिव-शिव, अरेरे - आश्चर्यदर्शक केवलप्रयोगी अव्यय

D.अरे, अहो – संबोधनदर्शक केवलप्रयोगी अव्यय

Answer:

C.शिव-शिव, अरेरे - आश्चर्यदर्शक केवलप्रयोगी अव्यय

Reference ID:(4728)

खालीलपैकी देशी शब्द नसलेला पर्याय निवडा.

A.वारकरी, चिमणी

B.घोडा, धोंडा

C.अडकित्ता, चाकरी

D.डोंगर लुगडे

Reference ID:(4985)

जर A हा B पेक्षा उंच आहे, C हा B पेक्षा ठेंगणा आहे, आणि D हा A पेक्षा ठेंगणा आहे, पण C पेक्षा उंच आहे, तर त्यांच्यापैकी सर्वात ठेंगणा कोण आहे?

A.D

B.C

C.B

D.A

Answer:

B.C

Reference ID:(4971)

जर तुमच्या शाळेपासून घरापर्यंतचे अंतर 1.2 किमी. आहे आणि आपला चालण्याचा वेग 3 किमी./तास असेल, तर आपल्या घरापासून आपल्या शाळेत जाण्यासाठी आपण वेळ घ्याल :

A.2 तास 30 मिनिटे

B.24 मिनिटे

C.36 मिनिटे

D.2.5 मिनिटे

Answer:

B.24 मिनिटे

Reference ID:(4440)

Choose the option that correctly spells the words to be filled in the given sentence:

The \_\_\_\_ prepared a special \_\_\_\_ .

A.bakerry , confictionery

B.bakery , confectioner

C.bakeery , confectioaey

D.bakeary , confectionery

Answer:

B.bakery , confectioner

That is my friend Gautam. Gautam has opened a new showroom.

A. That is my friend Gautam who has opened a new showroom.

B. My friend Gautam has opened a new showroom.

C. It is my friend Gautam that has opened a new showroom.

D. A new showroom has been opened by Gautam that is my friend.

Answer:

A. That is my friend Gautam who has opened a new showroom.

Reference ID:(4706)

Choose the appropriate prepositional phrase for the given sentence:

\_\_\_\_\_ reach early, I took the shorter route.

A. In order for

B. In order with

C. In order in

D. In order to

Sabka ek bhaijaan

Answer:

D. In order to

Sabka ek bhaijaan

Sabka ek bhaijaan

Reference ID:(4726)

‘तोंडचे पाणी पळणे’ या वाक्यप्रचाराचा अर्थ -

A. घसा कोरडा पडणे.

B. तोंडाला पाणी सुटणे.

C. घाबरणे.

D. तोंड येणे.

Answer:

C. घाबरणे.

Reference ID:(4442)

Out of the following options, choose the sentence that is punctuated correctly.

A. What's happening? he shouted.

B. 'What's happening?' he shouted.

C. 'Whats' happening?' he shouted.

D. 'What's happening! He shouted.'

Sabka ek bhaijaan

Sabka ek bhaijaan

Sabka ek bhaijaan

Reference ID:(4974)

A एक काम 6 दिवसांत करू शकतो. A आणि B एकत्रितरित्या ते काम 2 दिवसांत करू शकतात. तेव्हा एकटा B ते काम किती दिवसांत करू शकतो?

A.4

B.3

C.2

D.5

Answer:

B.3

Reference ID:(4448)

Choose the option with the appropriate suffix to complete the given sentence:

Today's edit\_\_\_\_\_ in the Times of India is thought provoking and has been written in a profess\_\_\_\_\_ way.

A.-ings, -ing

B.-ing, -orial

C.-or, -ion

D.-orial, -ional

Answer:

D.-orial, -ional

Reference ID:(4970)

वगळलेली संख्या निवडून मालिका पूर्ण करा:

13, 32, 24, 43, 35, \_\_\_\_\_, 46, 65

A.45

B.52

C.54

D.55

Answer:

C.54

Reference ID:(4959)

न्यूरॉन या च्या पेशी असतात.



B.यकृत

C.चेता

D.मान

Answer:

C.चेता

Reference ID:(4981)

52 कार्डाच्या पॅकमधून दोन कार्डे काढली. ते राजा असण्याची संभाव्यता काय आहे?

A.1/221

B.220/221

C.15/221

D.100/221

Answer:

A.1/221

Reference ID:(4716)

खालीलपैकी कोणते विधान बरोबर आहे ?

A.केवलप्रयोगी अव्यय वाक्याचा भाग असतात.

B.केवलप्रयोगी अव्ययांना विभक्तीचे प्रत्यय लागतात.

C.केवलप्रयोगी अव्यय भावनाप्रधान नसतात.

D.केवलप्रयोगी अव्ययांमुळे भाषेची शोभा वाढते.

Answer:

D.केवलप्रयोगी अव्ययांमुळे भाषेची शोभा वाढते.

Reference ID:(4982)

2000 मध्ये स्वातंत्र्य दिन मंगळवारी होता. खालीलपैकी कोणत्या वर्षामध्ये तो रविवारी येईल?

A.2001

B.2002

C.2003

D.2004

Answer:

D.2004

Reference ID:(4724)

शेव म्हणजे खाण्याचा पदार्थ. 'शेव' शब्दाचा दुसरा अर्थ खालीलपैकी कोणता आहे ?

- A.दाढी करणे
- B.साडीचा पदर
- C.शरीराचा भाग
- D.एक फळ

Answer: B.साडीचा पदर

Reference ID:(4718)

खालीलपैकी प्रशंसादर्शक केवलप्रयोगी अव्यय कोणता आहे ?

- A.फक्कड
- B.अहाहा
- C.वा
- D.अच्छा

Answer: A.फक्कड

Reference ID:(4714)

'अंथरूण' या शब्दाचा चिकटून किंवा जोडीने येणारा शब्द कोणता?

- A.घालून
- B.आवरून
- C.सावरून
- D.पांघरूण

Answer: D.पांघरूण

Reference ID:(4703)

Choose the option that best transforms the given sentence as directed:

He is very old. He cannot walk.  
(Combine the two sentences into one sentence)

- A.He is so old but cannot walk.
- B.He is very old and cannot walk.
- C.He is very old enough not to walk.
- D.He is too old to walk.

Answer: D.He is too old to walk.

Reference ID:(4750) (आरटीआय) माहिती अधिकार अधिनियम, 2005 च्या कोणत्या विभागांतर्गत एखादी व्यक्ती सार्वजनिक प्राधिकरणाकडून माहिती मिळविण्यासाठी अर्ज करू शकते?

A.6

B.7

C.8

D.9

Answer: A.6

Reference ID:(4439) Choose the option that has all words spelt correctly:

A.servant , guidance , assistant

B.servent , guidance , asistant

C.servent , guidance , assistant

D.servant , guidance , assistent

Answer: A.servant , guidance , assistant

Reference ID:(4735) 'अंबर' हा शब्द खालीलपैकी कोणत्या जोडीचा समानार्थी शब्द आहे?

A.वस्त्र, व्योम

B.आकाश, उत्पल

C.वसन, सरोज

D.शिखर, गगन

Answer: A.वस्त्र, व्योम

Reference ID:(4702) Select the suitable determiner from the given options to complete the given sentence:

Have you watched \_\_\_\_\_ of the James Bond movies?

A.few

B.any

C.little

Answer:

B.any

Reference ID:(4740)

कोणता मुस्लिम सण हजच्या पवित्र कालावधीच्या सुरूवातीला चिन्हांकित करतो?

A.ईद-उल-जुहा

B.ईद-उल-फित्र

C.मिलाद-उल-नबी

D.मुहरम

Answer:

A.ईद-उल-जुहा

Reference ID:(4722)

आकडा' शब्दाचा खालीलपैकी कोणता अर्थ बरोबर नाही ?

A.संख्या

B.थंडीने भरणारे कापरे

C.विचवाची नांगी

D.बाकदार टोक

Answer:

B.थंडीने भरणारे कापरे

Reference ID:(4736)

'शिक्षक मुलांना शिकवितात.' या वाक्यातील कर्म ओळखून लिहा.

A.मुलांना

B.शिक्षक

C.शिकवितात

D.शिक्षक मुलांना

Answer:

A.मुलांना

Reference ID:(4705)

Choose the appropriate preposition to complete the given sentence.

Gemma is bad \_\_\_ tennis.

A.in

B.at

D.about

Answer:

B.at

Reference ID:(4729)

शब्दांची त्यांच्या अर्थासह दिलेली चुकीची जोडी ओळखा.

A.कांकू – धरसोड

B.काकू – चुलती

C.काजी – कारण

D.कांजी – पेज

Answer:

C.काजी – कारण

Reference ID:(4954)

कोणत्या मराठा राजाच्या दरबारातील कवीने शिवभारत या वीररसपूर्ण महाकाव्याची रचना केली होती?

A.छत्रपती शाहू

B.मालोजी महाराज

C.छत्रपती शिवाजी

D.संभाजी शहाजी

Answer:

C.छत्रपती शिवाजी

Reference ID:(4708)

Choose appropriate conjunctions for the given sentence:

I like you a lot \_\_\_ you are kind \_\_\_\_ smart.

A.but , and

B.if, and

C.because, and

D.although, while

Answer:

C.because, and

If I were you, I \_\_\_\_\_ consider the job offer seriously.

A.ought

B.can

C.would

D.must

Answer:

C.would

Reference ID:(4730)

‘गरज सरो आणि वैद्य मरो’ या म्हणीचा अर्थ -

A.गरजेमुळे अडलेल्या व्यक्तीला इतरांच्या म्हणण्यापुढे मान डोलवावी लागते.

B.वैद्यकीय सल्ला घेणे.

C.वैद्याला कशाचीही गरज नसते.

D.आपले काम झाले की उपकार करणाऱ्याची पर्वा न करणे.

Answer:

D.आपले काम झाले की उपकार करणाऱ्याची पर्वा न करणे.

Reference ID:(4444)

Choose the correct form of adjective for the given sentence:

Don't overtake on a \_\_\_\_\_ corner!

A.blind

B.blunt

C.sharp

D.steep

Answer:

A.blind

Reference ID:(4743)

\_\_\_\_\_ द्वारे महाराष्ट्र स्टार्टअप सप्ताह आयोजित केला जातो?

A.महाराष्ट्र औद्योगिक विकास महामंडळ

B.महाराष्ट्र राज्य नवउपक्रम सोसायटी

C.अर्थव्यवस्था आणि सांख्यिकीचे संचालनालय

D.महाराष्ट्र प्रशासकिय न्यायाधिकरण

Reference ID:(4723) बापरे! किती भयानक आहे हा प्राणी. अधोरेखित केवलप्रयोगी अव्ययाचा प्रकार ओळखा.

- A.भीतिदर्शक
- B.आश्चर्यदर्शक
- C.तिरस्कारदर्शक
- D.शोकदर्शक

Answer: B.आश्चर्यदर्शक

Reference ID:(4953) महाराष्ट्र राज्य लोकसेवा अधिकार आयोगाच्या मुख्य आयुक्तांना काढून टाकण्याच्या प्रस्तावित आधारावर चौकशी करण्यासाठी राज्य सरकारला \_\_\_\_\_ चा संदर्भ घेणे आवश्यक आहे

- A.केंद्रीय दक्षता आयुक्त
- B.केंद्रीय अन्वेषण विभाग
- C.न्यायाधीश उच्च न्यायालय मुंबई (बॉम्बे)
- D.भारताचे मुख्य न्यायाधीश

Answer: C.न्यायाधीश उच्च न्यायालय मुंबई (बॉम्बे)

Reference ID:(4964) दोन वर्षांपूर्वी वडिलांचे वय मुलाच्या वयाच्या 5 पट होते. इथून पाच वर्षांनंतर वडिलांचे वय मुलाच्या वयाच्या तिप्पट असेल. तर वडिलांचे सध्याचे वय किती?

- A.35 वर्ष
- B.37 वर्ष
- C.40 वर्ष
- D.42 वर्ष

Answer: B.37 वर्ष

Reference ID:(4742) युआयडीएआयच्या कोणत्या मुख्य कार्यकारी अधिका-याची नेमणूक नवीन महसूल सचिव म्हणून केली होती?

- A.अजय नारायण झा

C.नीरज कुमार गुप्ता

D.सुभाष चंद्र गर्ग

Answer: B.अजय भूषण पांडे

Reference ID:(4984)

टोपली A मध्ये टोपली B पेक्षा 20 संत्री जास्त होती. जर अरुण ने टोपली B मधून टोपली A मध्ये 50 संत्री स्थानांतरीत केली, तर टोपली A मध्ये टोपली B च्या तिप्पट संत्री होतील. मूळतः टोपली B मधील संत्र्यांची संख्या \_\_\_\_\_ आहे.

A.220

B.110

C.200

D.100

Answer: B.110

Reference ID:(4709)

Choose the correct form of expression to complete the given sentence:

NASA reported \_\_\_\_\_ a hyper sonic aircraft is being designed for military missions and as a space launch vehicle to carry supplies

A.there is

B.both

C.not only

D.that

Answer: D.that

Reference ID:(4715)

खालीलपैकी कोणत्या वाक्यात क्रियाविशेषण अव्ययाचा उभयान्वयी अव्ययाप्रमाणे वापर केला आहे ?

A.तू काही खाणार की चहा घेणार.

B.नोकरी लागली म्हणून तो नागपूरला गेला.

C.जेथे पाणी होते तेथे लोक जमले.

D.जो आवडतो सर्वाना तोची आवडे देवाला.



Reference ID:(4961) पृथ्वी आणि तान्यांमधील अंतर \_\_\_\_\_ मध्ये मोजले जाते.

A.मेगा युनिट्स

B.प्रकाश वर्ष

C.किलोमीटर

D.मीटर

Answer: B.प्रकाश वर्ष

Reference ID:(4978) तीन उन्हाळी महिन्यांमध्ये एका हॉटेलची अधिवास टक्केवारी 88% आणि उर्वरित वर्षामध्ये 44% असते. संपूर्ण वर्षासाठी सरासरी अधिवास टक्केवारी काय आहे?

A.50%

B.55%

C.66%

D.70%

Answer: B.55%

Reference ID:(4710) Choose the correct form of verb that is in agreement with the subject:

If I \_\_\_\_ you, I would have agreed to the solution.

A.was

B.am

C.are

D.were

Answer: D.were

Reference ID:(4960) पेट्रोलियमला सामान्यतः म्हणून ओळखले जाते.

A.काळे सोने

B.पिवळे सोने

D.हिरवे सोने

Answer:

A.काळे सोने

Reference ID:(4979)

1 - 2 + 3 - 4 + 5 - ....+ 99 - 100 + 101 बरोबर असेल:

A.-50

B.50

C.51

D.-51

Answer:

C.51

Reference ID:(4738)

षष्ठी या विभक्तीचा कारकार्थ सांगा.

A.कर्ता

B.कर्म

C.कारण

D.संबंध

Answer:

D.संबंध

Reference ID:(4976)

एका बसची किंमत बजेटच्या आधी 40% वाढली आणि बजेटनंतर ती 20% कमी करण्यात आली. बसच्या किमतीमध्ये एकूण किती टक्के वाढ झाली ते काढा?

A.66%

B.67%

C.68%

D.69%

Answer:

C.68%

A.उत्तराखंड

B.आसाम

C.नवी दिल्ली

D.गुजरात

Answer:

C.नवी दिल्ली

Reference ID:(4969)

वगळलेली संख्या निवडून मालिका पूर्ण करा:

4, 23, 60, 121, \_\_\_\_\_

A.212

B.221

C.241

D.242

Answer:

A.212

Reference ID:(4741)

शिवाजींनी त्यांचे विरोधक अफझल खान यांना ठार मारले त्यावर शिवाजींच्या वीरतेचे गुणगाण करणारे हे नाट्य लिहिले गेले, ज्याला नंतर म्हणून जाणले जाऊ लागले

A.पोवडा

B.विल्लु पट्टु

C.भावना

D.स्वांग

Answer:

A.पोवडा

Reference ID:(4713)

Choose the option that best expresses the meaning of the highlighted idiom/phrase:

I've been **beating my brains out** to find a way to get the money to her in time.

A.eagerly waiting

B.think very hard

D.sweating out

Answer: B.think very hard

Reference ID:(4721) 'ऐकावे जनाचे करावे मनाचे' या म्हणीचा अर्थ -

A.लोकांचे ऐकून घेणे व मग आपल्याला जे योग्य वाटेल ते करणे.

B.विचार न करता बोलणे.

C.स्वतःचे चांगले आणि दुसऱ्यापेचे वाईट चिंतणे.

D.कोणतेही कृत्य करताना एकमेकांना साथ देणे.

Answer: A.लोकांचे ऐकून घेणे व मग आपल्याला जे योग्य वाटेल ते करणे.

Reference ID:(4983) एक रेल्वे 20 सेकंदांमध्ये एक स्तंभ आणि 100 मीटर प्लॅटफॉर्म 30 सेकंदांमध्ये पार करते. ट्रेनची लांबी काढा.

A.100 मीटर

B.200 मीटर

C.300 मीटर

D.400 मीटर

Answer: B.200 मीटर

Reference ID:(4962) मंडुक डिंबक ही \_\_\_\_\_ ची विकसन अवस्था आहे.

A.मासा

B.बेडूक

C.साप

D.फुलपाखरू

Answer: B.बेडूक

- A. एलिफंटा गुहा
- B. कारल्याच्या लेणी
- C. व्हिक्टोरियन गोथिक आणि आर्ट डेको वास्तुशास्त्राचे दोन इमारत समूह
- D. छत्रपती शिवाजी टर्मिनस (सीएसटी)

Answer: C. व्हिक्टोरियन गोथिक आणि आर्ट डेको वास्तुशास्त्राचे दोन इमारत समूह

Reference ID:(4737) त, ई, आ, त, ई, आ हे कोणत्या विभक्तीचे प्रत्यय आहेत?

- A. प्रथमा
- B. द्वितीया
- C. तृतीया
- D. सप्तमी

Answer: D. सप्तमी

Reference ID:(4732) 'गाढवाला गुळाची चव काय?' या म्हणीचा अर्थ -

- A. खूप गोड खाणे.
- B. मूर्खाला चांगल्या गोष्टीची किंमत कळत नाही.
- C. मूर्खाला केलेला उपदेश वाया जातो.
- D. आपले काम करून घेईपर्यंत एखाद्याशी गोड बोलणे.

Answer: B. मूर्खाला चांगल्या गोष्टीची किंमत कळत नाही.

Reference ID:(4968) खाली दिलेल्या मालिकेमध्ये अंकांचा एक विशिष्ट क्रम दिलेला आहे. त्यानुसार चुकीचा क्रम ओळखा:  
1, 6, 13, 22, 32, 46

- A. 13
- B. 22
- C. 32

Answer:

C.32

Reference ID:(4967)

एका विशिष्ट कोडमध्ये, LUTE ला MUTE असे लिहिले जाते आणि FATE ला GATE असे लिहिले जाते, तर या कोडमध्ये BLUE कसे लिहिले जाईल?

A.CLUE

B.FLUE

C.SLUE

D.GLUE

Answer:

A.CLUE

Reference ID:(4972)

“FIGHT” शब्दाच्या अक्षरांची किती भिन्न प्रकारे मांडणी केली जाऊ शकते?

A.120

B.115

C.110

D.105

Answer:

A.120

Reference ID:(4731)

‘त्याने आता घरी जावे.’ प्रयोग ओळखा.

A.भावे

B.कर्मणी

C.कर्तरी

D.नवीन कर्मणी

Reference ID:(4963) सुरीमध्ये धारदार कर्तन कडा असते कारण \_\_\_\_\_.

A.ते स्पर्श क्षेत्र कमी करते आणि प्रयुक्त होणारा दाब वाढवते

B.ते स्पर्श क्षेत्र वाढवते आणि प्रयुक्त होणारा दाब वाढवते

C.ते स्पर्श क्षेत्र कमी करते आणि प्रयुक्त होणारा दाब कमी करते

D.ते स्पर्श क्षेत्र वाढवते आणि प्रयुक्त होणारा दाब कमी करते

Answer: A.ते स्पर्श क्षेत्र कमी करते आणि प्रयुक्त होणारा दाब वाढवते

Reference ID:(4956) मंत्री परिषदेमध्ये पंत प्रधानासह मंत्र्यांची एकूण संख्या ही लोकसभेच्या एकूण सदस्य संख्येच्या \_\_\_\_\_ टक्के पेक्षा जास्त असू नये.

A.10%

B.15%

C.16%

D.20%

Answer: B.15%

Reference ID:(4447) Choose the option with the appropriate suffix to complete the given sentence:

I wonder what's in this myster\_\_\_\_\_ package?

A.-y

B.-ious

C.-ical

D.-ify

Answer: B.-ious

Reference ID:(4725) 'बराय' या शब्दाची भावना ओळखा.

A.आश्चर्यदर्शक

B.हर्षदर्शक

D.संमतिदर्शक

Answer:

D.संमतिदर्शक

Reference ID:(4717)

'केसाने गळा कापणे' या वाक्प्रचाराचा अर्थ -

A.त्रास देणे.

B.विश्वासघात करणे.

C.केस कापणे.

D.खून करणे.

Answer:

B.विश्वासघात करणे.

Reference ID:(4443)

Choose the correct form of adjective for the given sentence:

My father has \_\_\_\_\_ patience than my mother who loses her temper for trivial things.

A.most

B.more

C.much

D.the most

Answer:

B.more

Reference ID:(4748)

विनू मनकड चषक \_\_\_\_\_ साठी क्रिडा कार्यक्रम आहे

A.क्रिकेट

B.बास्केटबॉल

C.फूटबॉल

D.हॉकी

Answer:

A.क्रिकेट

Reference ID:(4986)

दोन 2-अंकी संख्यांचा गुणाकार 2028 आहे आणि त्यांचा मसावि 13 आहे. तर त्या संख्या आहेत \_\_\_\_\_.



B.39, 52

C.13, 156

D.36, 68

Answer:

B.39, 52

Reference ID:(4446)

Choose the correct form of the noun for the given sentence:

\_\_\_\_\_ is better than cure.

A.Preventable

B.Preventing

C.Prevent

D.Prevention

Answer:

D.Prevention

Reference ID:(4719)

चिकटून किंवा जोडीने येणाऱ्या शब्दांची चुकीची जोडी ओळखा.

A.कडी – गडी

B.गाडी – घोडा

C.गोठ – तोडे

D.केर – वारे

Answer:

A.कडी – गडी

Reference ID:(4734)

'मुलाने आंबा खाल्ला.' या वाक्यातील कर्म ओळखून लिहा.

A.आंबा

B.मुलाने

C.आंबा खाल्ला

D.खाल्ला

Reference ID:(4449)

Choose appropriate articles for the given sentence:

Those in \_\_\_ know are already excited about \_\_\_ innovation.

A.the, the

B.a, an

C.a, a

D.an, an

Answer:

A.the, the

Reference ID:(4744)

ऑक्टोबर 2018 रोजी मुंबईमध्ये आययुएफओएसटी जागतिक अन्न विज्ञान आणि तंत्रज्ञान काँग्रेसची \_\_\_\_\_ आवृत्ती आयोजित केली गेली होती.

A.1 ली

B.10 री

C.50 री

D.19 वी

Answer:

D.19 वी

Reference ID:(4450)

Choose appropriate articles for the given sentence:

\_\_\_\_Andaman and Nicobar Islands are \_\_\_\_group of islands at \_\_\_\_meeting point of the Bay of Bengal and the Andaman Sea.

A.The, a, the

B.A, the, a

C.An, a, the

D.The, an, a

Answer:

A.The, a, the

Reference ID:(4965)

दोन व्यक्तींच्या वयाची सरासरी 32 वर्ष आहे. एक दुसऱ्यापेक्षा 16 वर्षांनी मोठा आहे. तर त्या दोन व्यक्तींचे सध्याचे वय असेल:

B.20 वर्ष आणि 36 वर्ष

C.24 वर्ष आणि 40 वर्ष

D.32 वर्ष आणि 32 वर्ष

Answer:

C.24 वर्ष आणि 40 वर्ष

Reference ID:(4707)

Choose the most suitable conjunction to complete the given sentence:

He found his wallet \_\_\_\_\_ he had left it.

A.while

B.when

C.where

D.wither

Answer:

C.where

Reference ID:(4975)

तीन व्यक्ती A, B आणि C ने एक व्यवसाय सुरू करण्यासाठी, अनुक्रमे 3000 रुपये, 5000 रुपये आणि 7000 रुपयांची गुंतवणूक केली. वर्षाच्या शेवटी 100000 रुपये एवढा लाभ झाला, ज्यामधील 25% चे दान केले जाते. B चा वाटा हा A च्या वाट्यापेक्षा किती जास्त असेल?

A.20000 रुपये

B.10000 रुपये

C.5000 रुपये

D.वरीलपैकी कोणतेही नाही

Answer:

B.10000 रुपये

Reference ID:(4712)

Choose the correct form of tense for the given sentence:

He \_\_\_\_\_ his PAN card right inside the drawer, where he \_\_\_\_\_ it.

A.will found, will keep

B.is finding, is kept

C.finding, keeping

D.found, had kept

Reference ID:(4727)

जे शब्द मूळ महाराष्ट्रातील रहिवाश्यांच्या बोलीभाषेतील मानले जातात, त्यांना -----शब्द म्हणतात.

A.देशज

B.तत्सम

C.तद्भव

D.कोकणी

Answer:

A.देशज

Reference ID:(4445)

Choose the correct form of the noun for the given sentence:

Many people face a lot of \_\_\_\_\_ when they have to educate their children.

A.hardness

B.hardships

C.hardiness

D.hardly

Answer:

B.hardships

Reference ID:(4973)

जर 12 पुरूष किंवा 18 महिला एक काम 14 दिवसांत करत असतील, तर 8 पुरूष आणि 16 महिलांना ते काम पूर्ण करण्यासाठी किती दिवस लागतील?

A.9 दिवस

B.10 दिवस

C.12 दिवस

D.14 दिवस

Answer:

A.9 दिवस

Reference ID:(4977)

20% च्या लागोपाठ झालेल्या घटीनंतर, संगणकाची किंमत 20800 रुपये आहे. मुळ किंमत काय आहे?

A.32500 रुपये

C.31500 रुपये

D.33500 रुपये

Answer: A.32500 रुपये

Reference ID:(4957)

उस्मानाबाद येथील नळदुर्ग किल्ल्याचा पृष्ठभाग \_\_\_\_\_ प्रकारच्या खडकाने परिवेष्टित आहे?

A.ग्रेनाइट

B.चुना दगड

C.बसाल्ट

D.वाळूचा दगड

Answer: C.बसाल्ट

Reference ID:(4747)

2018 मध्ये महाराष्ट्रामधून जलतरण श्रेणीमध्ये पद्म श्री पुरस्कार खालीलपैकी कोणी जिंकला?

A.श्री मुरलीकांत पेटकर

B.प्रशांत कर्माकर

C.वीरधवल खाडे

D.सजन प्रकाश

Answer: A.श्री मुरलीकांत पेटकर

Reference ID:(4749)

26 जून 2018 रोजी पुष्पा भावे, या महाराष्ट्रामधील ख्यातनाम विद्वान आणि सामाजिक कार्यकर्तीला \_\_\_\_\_ पुरस्कृत करण्यात आला.

A.साहित्य अकादमी पुरस्कार

B.महाराष्ट्र केसरी पुरस्कार

C.राजर्षी शाहू पुरस्कार

D.पद्म श्री

Answer: C.राजर्षी शाहू पुरस्कार

---

Reference ID:(4958) तात्कालीन बॉम्बे राज्यामधून महाराष्ट्र राज्याची निर्मिती कोणत्या साली झाली?

---

A.1956

---

B.1960

---

C.1962

---

D.1964

---

Answer: B.1960

---

Date of Exam : 07-07-2019 02:30 PM

Reference ID:(5225) खालील पर्यायातून अनुकरणवाचक शब्द ओळखा.

A.किरकिर

B.गडबड

C.समोरासमोर

D.दारोदार

Answer: A.किरकिर

Reference ID:(4993) Choose the correct form of the noun for the given sentence:

Daily use of lemon prevents the \_\_\_\_\_ of cholesterol in the blood.

A.accumulated

B.accumulate

C.accumulating

D.accumulation

Answer: D.accumulation

Reference ID:(5480) सीता ने पहिल्या दिवशी तिच्या पुस्तकाची 6 पाने वाचावयास सुरवात केली, 2ऱ्या दिवशी 9 पाने, 3ऱ्या दिवशी 12 पाने, 4थ्या दिवशी 15 पाने आणि याप्रमाणे. जर तिने याच पद्धतीने वाचन सुरू ठेवले, तर 10व्या दिवशी ती किती पाने वाचेल?

A.33 पाने

B.40 पाने

C.42 पाने

D.45 पाने

Answer: A.33 पाने

- A. जुलूमजबरी
- B. अक्कलहुशारी
- C. बाजारहाट
- D. डावपेच

Answer: C. बाजारहाट

Reference ID:(5232) 'पोपट पेरु खाते.' या वाक्यातील क्रियापदाचे योग्य रूप सांगा.

- A. खातो
- B. खाते
- C. खारु
- D. खाणे

Answer: A. खातो

Reference ID:(4988) Choose the option that correctly spells the words to be filled in the given sentence:

\_\_\_\_\_, students wait \_\_\_\_\_ for their results.

- A. Generaly , anxiously
- B. Generally , anxiously
- C. Genarly , anxiously
- D. Generilly , anxiousli

Answer: B. Generally , anxiously

Reference ID:(5478) 'PRESENT' शब्दाच्या अक्षरांची किती भिन्न प्रकारे मांडणी केली जाऊ शकते?

- A. 2520
- B. 2515
- C. 2510



Answer: A.2520

Reference ID:(5465) जर MOTHER ला LNSGDQ असे संकेतबद्ध केले जात असेल तर GRANDSON ला कसे संकेतबद्ध केले जाईल?

A.FQZMCRNP

B.FQZMCTNP

C.FQBMCRNM

D.FQZMCRNM

Answer: D.FQZMCRNM

Reference ID:(5204) Choose the appropriate prepositional phrase for the given sentence:

The school is \_\_\_\_\_ from our house.

A.without walking distance

B.by walking distance

C.within walking distance

D.at walking distance

Answer: C.within walking distance

Reference ID:(5469) जर एका कारची गती 55 किमी/तास असेल तर, 6 तासांमध्ये त्या कारद्वारे कापलेले अंतर किती असेल?

A.350 किमी

B.330 किमी

C.340 किमी

D.325 किमी

Answer: B.330 किमी

This is not very clever, is it the policeman said to the criminal

A.“This is not very clever, is it”, the policeman said to the criminal.

B.“This is not very clever, is it?” the policeman said to the criminal.

C.“This is not very clever,” is it. The policeman said to the criminal.

D.“This is not, very clever, is it”, the policeman said to the criminal.

Answer:

B.“This is not very clever, is it?” the policeman said to the criminal.

Reference ID:(5227)

‘अगडबंब’ या शब्दाचा अर्थ सांगा.

A.लठ्ठ

B.बारीक

C.हसणे

D.लाजणे

Answer:

A.लठ्ठ

Reference ID:(5212)

‘आत्मजा, तनया, तनुजा’ हे शब्द खालीलपैकी कोणासाठी वापरतात ?

A.ओटी

B.विदुषी

C.स्त्री

D.मुलगी

Answer:

D.मुलगी

Reference ID:(5470)

एक 150 मीटर लांब रेल्वे 60 किमी/तासच्या गतीने धावून 30 सेकंदामध्ये एक पूल पार करते. त्या पूलाची लांबी किती असेल:

A.350 मीटर

B.500 मीटर

C.600 मीटर

D.1000 मीटर

Answer:

A.350 मीटर

Reference ID:(5206)

Choose the most suitable conjunctions to complete the given sentence.

It is \_\_\_\_\_ dishonest to copy \_\_\_\_\_ unfair.

A.no sooner, but also

B.not only, but also

C.no sooner, than

D.not only, than

Answer:

B.not only, but also

Reference ID:(5479)

52 पत्ते असलेल्या पॅकमधून यादृच्छिकपणे एक कार्ड काढले गेले. निवडलेले कार्ड हे लाल कार्ड किंवा राजा असण्याची संभाव्यता काय आहे?

A.7/13

B.5/13

C.6/13

D.4/13

Answer:

A.7/13

Reference ID:(5205)

Choose the most suitable conjunction to complete the given sentence.

The day is pleasant, \_\_\_\_\_ rather cold.

A.because

B.but

C.about

D.for

Answer:

B.but

Honesty is the best policy. (Question tag)

A.Honesty is the best policy, is it?

B.Is honesty the best policy?

C.The best policy is honesty, is not it?

D.Honesty is the best policy, isn't it?

Answer:

D.Honesty is the best policy, isn't it?

Reference ID:(5458)

वनक्षेत्राच्या वाढीसाठी विस्तृत प्रमाणात झाडे लावण्याला म्हणतात:..

A.जंगलतोड

B.वनीकरण

C.कृषी-वनीकरण

D.सामाजिक वनीकरण

Answer:

B.वनीकरण

Reference ID:(5455)

महाराष्ट्राच्या \_\_\_\_\_ जिल्ह्यात खडक कापून कोरलेल्या बौद्ध स्मारकांसाठी प्रसिद्ध असलेले "ब्राझन ग्लेन" स्थित आहे.

A.अहमदनगर

B.जालना

C.औरंगाबाद

D.नाशिक

Answer:

C.औरंगाबाद

Reference ID:(5223)

'बारीकसारीक' हा शब्द शब्दसिद्धीच्या कोणत्या प्रकारातील आहे?

A.अनुकरणवाचक

B.सामासिक शब्द

C.पूर्णाभ्यस्त

D.अंशाभ्यस्त

Answer:

D.अंशाभ्यस्त

Reference ID:(4998)

Choose appropriate articles for the given sentence:

Santa Claus or Father Christmas is \_\_\_\_ legendary figure, originating in Western Christian culture, who travels through \_\_\_\_ sky on \_\_\_\_ sledge pulled by reindeers.

A.the, a, a

B.the, the, a

C.a, the, a

D.the, a, the

Answer:

C.a, the, a

Reference ID:(5468)

वगळलेली संख्या निवडून मालिका पूर्ण करा:

1, 3, 6, 11, \_\_\_\_\_, 29

A.15

B.13

C.20

D.18

Answer:

D.18

Reference ID:(5475)

एका परीक्षेमध्ये विद्यार्थ्यांला 20% गुण मिळाले आणि तो 30 गुणांनी नापास झाला. दुसऱ्या विद्यार्थ्यांला 32% गुण मिळाले पण त्याला किमान उत्तीर्ण होण्याच्या किमान गुणांपेक्षा 42 गुण अधिक मिळाले. उत्तीर्ण होण्याची टक्केवारी काढा?

A.25%

B.30%

C.28%

D.22%

Answer:

A.25%

रिटाने 7 रुपये प्रति किलो या दराने 150 किग्रॅ गव्हाची खरेदी केली. तिने 10% नफ्याने 50 किग्रॅ गव्हाची विक्री केली. एकूण सौद्यावर 12% नफा मिळवण्यासाठी तिने किती दर/किग्रॅने उर्वरित गव्हाची विक्री करावी?

A.7.91 रुपये

B.7.81 रुपये

C.7.71 रुपये

D.7.61 रुपये

Answer:

A.7.91 रुपये

Reference ID:(5485)

दोन संख्या 3: 4 या गुणोत्तरात आहेत आणि त्यांच्या लसावि व मसावि चा गुणाकार 10800 आहे. त्या संख्यांची बेरीज आहे:

A.210

B.180

C.240

D.225

Answer:

A.210

Reference ID:(5216)

एकाच अर्थाचा फारसी व मराठी शब्द एकत्र येऊन बनलेला वेगळा सामासिक शब्द खालीलपैकी कोणता आहे ?

A.कागदपत्र

B.किडूकमिडूक

C.चिल्लीपिल्ली

D.आरमार

Answer:

A.कागदपत्र

Reference ID:(5218)

खालीलपैकी कोणत्या शब्दाला उपसर्ग लागलेला नाही?

A.आक्रमण

B.अनुकरण

D.अभिनन्दन

Answer:

C.आनंदित

Reference ID:(5459)

ज्या वस्तू स्वतःचा प्रकाश उत्सर्जित करतात, त्यांना \_\_\_\_\_ म्हणतात.

A.प्रकाशित वस्तू

B.तेजस्वी वस्तू

C.परावर्तक वस्तू

D.अपारदर्शक वस्तू

Answer:

B.तेजस्वी वस्तू

Reference ID:(6000)

खाली दिलेल्या क्रमानुसार, पुढील आकृती कोणती असेल?



i




ii



iii



iv



Answer:



Reference ID:(5460)

अन्नामधून उष्णता सोडणाऱ्या जीवाचे नाव सांगा.

A.विकर

C.केंद्रक

D.मायटोकाँड्रिया

Answer:

D.मायटोकाँड्रिया

Reference ID:(5467)

वगळलेली संख्या निवडून मालिका पूर्ण करा:

0, 7, 26, 63, \_\_\_\_\_

A.124

B.125

C.126

D.120

Answer:

A.124

Reference ID:(5453)

\_\_\_\_\_द्वारे नर्मदा नदी अरबी सागराला मिळते?

A.खांभातचे आखात

B.ठाणे खाडी

C.कच्छचे आखात

D.गोराई खाडी

Answer:

A.खांभातचे आखात

Reference ID:(5462)

रेणू, मीनू आणि सोनू तीन बहिणी आहेत. रेणू आण मीनूचं वय सारखंच आहे आणि त्यांच्या वयाची बेरीज सोनूच्या वयाच्या पाच पट आहे. तीन वर्षांपुर्वी रेणूचं वय सोनूच्या वयाच्या तिप्पट होतं. तर चार वर्षांनंतर सोनूचं वय काय असेल?

A.8 वर्ष

B.10 वर्ष

C.7 वर्ष

D.12 वर्ष

Answer:

B.10 वर्ष



A.उदधि

B.रत्नाकर

C.अर्णव

D.अनंत

Answer:

D.अनंत

Reference ID:(5246)

खेलो इंडिया युथ गेम 2019 येथे आयोजित केल्या होत्या

A.श्री शिव छत्रपती स्पोर्ट्स कॉम्प्लेक्स, पुणे.

B.विदर्भ क्रिकेट असोसिएशन मैदान, नागपूर.

C.सरदार वल्लभभाई पटेल इनडोर स्टेडीयम, मुंबई

D.इंदिरा गांधी स्टेडीयम, सोलापूर.

Answer:

A.श्री शिव छत्रपती स्पोर्ट्स कॉम्प्लेक्स, पुणे.

Reference ID:(5221)

‘अप’ उपसर्गाचा अर्थ कोणता आहे?

A.वाईट, दुष्ट

B.विरुद्ध, हीन

C.उलट, फिरून

D.कमी, नसलेला

Answer:

B.विरुद्ध, हीन

Reference ID:(5240)

संयुक्त राष्ट्र (युएन) पर्यावरणाच्या कोणत्या वरिष्ठाने लेखापरीक्षा अहवालामध्ये त्याच्या मोठ्या प्रमाणावरील प्रवास खर्चाबाबत प्रश्न केल्यामुळे, नोव्हेंबर 2018 मध्ये आपल्या पदाचा राजीनामा दिला?

A.जॉयस मसोया

B.अचीम स्टेनर

C.एरिक सोल्हेम

D.मॉरिस स्ट्रॉंग

Answer:

C.एरिक सोल्हेम

Reference ID:(5224) 'हातावर तुरी देणे' या वाक्प्रचाराचा अर्थ -

- A.चोरी करणे.
- B.तूर विकणे.
- C.तुरीची डाळ देणे.
- D.फसवून पळून जाणे.

Answer: D.फसवून पळून जाणे.

Reference ID:(5451) महाराष्ट्र लोकसेवा अधिकार अधिनियम, 2015 चे कोणते कलम न्यायालयाच्या अधिकार क्षेत्रास अडथळा करते?

- A.23
- B.24
- C.25
- D.26

Answer: D.26

Reference ID:(5211) Choose the option that best expresses the meaning of the highlighted idiom/phrase:

My not getting a job there proved to be a **blessing in disguise**.

- A.a disguised appearance of pure evil
- B.a disappointment to one's morals and ideals
- C.something good that isn't recognized at first
- D.a disaster that disguised itself as a bad thing

Answer: C.something good that isn't recognized at first

Reference ID:(5222) 'कांचन व हेम' हे कोणत्या शब्दाचे समानार्थी शब्द आहेत?

- A.कनक
- B.ललना
- C.सविता

Answer: A.कनक

Reference ID:(5208) Choose the correct form of verb that is in agreement with the subject:

Who left the taps \_\_\_\_\_?

A.open

B.on

C.turned open

D.turned on

Answer: D.turned on

Reference ID:(5250) महाराष्ट्र लोकसेवा अधिकार अधिनियम 2015 च्या कोणत्या कलमाअंतर्गत नियुक्त अधिका-याने लोकसेवा अधिकार प्राप्त करण्याचा अर्ज किती कालावधीमध्ये निकालात काढला जाईल हेनमूद करायला हवे?

A.5

B.6

C.7

D.8

Answer: A.5

Reference ID:(5464) सरासरी काढा.  
98,73,87,97,85&82

A.87

B.75

C.98

D.84

Answer: A.87

Reference ID:(5231)

'मी शाळेतून आत्ताच आलो.' या वाक्यातील कर्ता ओळखा.

B.शाळेतून

C.आत्ताच

D.आलो

Answer:

A.मी

Reference ID:(5472)

अमित एक काम 12 तासांमध्ये पूर्ण करतो आणि बाला ते काम 18 तासांमध्ये पूर्ण करतो. अमित काम सुरू करतो आणि 4 तासांनी बाळाही काम करू लागतो. सुरूवातीपासून शेवट होईपर्यंत किती तासांमध्ये काम पूर्ण होईल?

A.8 तास

B.8.5 तास

C.8.8 तास

D.9.5 तास

Answer:

C.8.8 तास

Reference ID:(5233)

'रोहित अगदी गुळाचा गणपती आहे.' अधोरेखित आलंकारिक शब्दाचा अर्थ काय ?

A.हुशार

B.लबाड

C.मंदबुद्धी

D.ढोंगी

Answer:

C.मंदबुद्धी

Reference ID:(5476)

एक दुकानदार विक्री किमतीवर 30% सूट देतो. नंतर त्याने नव्या किमतीवर आणखी 20% सूट दिली. मुळ विक्री किमतीवर किती सूट देण्यात आली?

A.44%

B.50%

C.56%

D.60%

Answer:

A.44%

- A.तो
- B.अभ्यास
- C.करतो
- D.अभ्यास करतो

Answer: A.तो

Reference ID:(5239) खालीलपैकी कोणते नऊ रस किंवा भावनिक प्रतिसादांपैकी एक नाही?

- A.हास्य
- B.रुद्र
- C.वीर
- D.आनंद

Answer: D.आनंद

Choose the option that has all words spelt correctly:  
Sabka ek bhaijaan

- A.library , dictionary , necessary
- B.library , dictionary , necesary
- C.library , dictioniary , necessary
- D.library , dictionary , necessary

Answer: D.library , dictionary , necessary

Reference ID:(5219) ‘काखेत कळसा नि गावाला वळसा’ या म्हणीचा अर्थ -

- A.हरवलेली वस्तू जवळ असतानाही इतरत्र शोधत राहणे.
- B.कळसाला नमस्कार करणे.
- C.गावात दवंडी पिटणे.
- D.काही गोष्टी कळशीत लपवणे.

Answer: A.हरवलेली वस्तू जवळ असतानाही इतरत्र शोधत राहणे.

A.I know the man he is tall.

B.I know the man who is tall.

C.The tall man I know him.

D.The tall man I know.

Answer: B.I know the man who is tall.

Reference ID:(5249)

(आरटीआय) माहिती अधिकार अधिनियम, 2005 अंतर्गत, जन माहिती अधिकाऱ्याला जास्तीत जास्त किती दंड केला जाऊ शकतो?

A.10,000 रुपये

B.25,000 रुपये

C.15,000 रुपये

D.5,000 रुपये

Answer: B.25,000 रुपये

Reference ID:(4990)

Out of the following options, choose the sentence that is punctuated correctly.

A.And, to my great surprise, I found myself in Geneva

B.“And, to my great surprise! I found myself in Geneva.”

C.“And, to my great surprise, I found myself in Geneva.”

D.“And, to my great surprise, I found myself, in Geneva.”

Answer: C.“And, to my great surprise, I found myself in Geneva.”

Reference ID:(5482)

लिना आणि मिना या एकमेकींकडे पाठ करून एका ठिकाणी उभ्या आहेत. मिना सरळ 6 मिटर चालली आणि मग डावीकडे वळली आणि मग आणखी 8 मीटर चालली. लिना पुढे पूर्वेकडे 4 मी चालली. मग ती डावीकडे वळली आणि 1 मी चालली, पुन्हा डावीकडे वळली आणि 4 मीटर चालली आणि मग पुन्हा डावीकडे 1 मी चालली. मिना ही लिनापासून किती दूर आहे आणि कोणत्या दिशेमध्ये आहे?

B.10 मी, उत्तर

C.8 मी, दक्षिण-पूर्व

D.10 मी, दक्षिण-पश्चिम

Answer:

D.10 मी, दक्षिण-पश्चिम

Reference ID:(5471)

पॉल एका मिनिटामध्ये 30 शब्द टाईप करू शकतो. 10.5 मिनिटांमध्ये तो किती शब्द टाईप करू शकतो?

A.315

B.316

C.320

D.305

Answer:

A.315

Reference ID:(5241)

नागरिकांना वैयक्तिकृत पध्दतीने शासनाच्या सर्व योजनांबाबत माहिती पुरवण्यासाठी महाराष्ट्र शासनाने \_\_\_\_\_ यंत्रणा सुरू केली.

A.महाउपकार

B.महालाभार्थी

C.महासेवा

D.महासरकार

Answer:

B.महालाभार्थी

Reference ID:(5210)

Choose the correct form of tense for the given sentence:

Demining \_\_\_\_\_ the action of removing landmines, booby traps and unexploded bombs from an area so that once they \_\_\_\_\_ soldiers can pass over the area safely.

A.was, had removed

B.is, are removed

C.has been, has been removing

D.is being, are being removed

Answer:

B.is, are removed

Reference ID:(5456) महाराष्ट्रातील पुढीलपैकी कोणत्या स्थळांना युनेस्कोच्या जागतिक वारसा ठिकाण म्हणून मान्यता मिळाली आहे?

A. गेटवे ऑफ इंडिया

B. व्हिक्टोरियन गोथिक अँड आर्ट डेको इन्सेबल्स ऑफ मुंबईल

C. छत्रपती शिवाजी महाराज वस्तुसंग्रहालय

D. बॉम्बे हाय फिल्ड

Answer:

B. व्हिक्टोरियन गोथिक अँड आर्ट डेको इन्सेबल्स ऑफ मुंबईल

Reference ID:(5243) इंटरमेडीएट रेंज बॉलिस्टिक क्षेपणास्त्र अग्नी-। \_\_\_\_\_ प्रणोदन वरच्या टप्प्याचा वापर करते.

A. द्रव

B. हायब्रिड

C. घन

D. रॅमजेट

Answer:

A. द्रव

Reference ID:(5214) चुकीची जोडी ओळखा.

A. अनरसा, गदारोळ – तेलुगु

B. सार, मट्टा – तामिळ

C. डबा, रिकामटेकडा – गुजराती

D. परात, पगार – कानडी

Answer:

D. परात, पगार – कानडी

Reference ID:(5203) Choose the appropriate preposition to complete the given sentence:

What are you thinking \_\_\_\_?

A. off

B. on

C. about



Answer: C.about

Reference ID:(5000)

Select the suitable determiner from the given options to complete the given sentence:

There is \_\_\_\_\_milk left in the jug for the cat.

A.any

B.some

C.much

D.plenty

Answer: B.some

Reference ID:(4997)

Choose appropriate articles for the given sentence:

Like \_\_\_ open-air museum, Burges is \_\_\_ perfectly preserved ancient metropolis.

A.the, an

B.an, the

C.the, the

D.an, a

Answer: D.an, a

Reference ID:(5461)

जेव्हा लाकडाचे ओंडके जाळले जातात तेव्हा त्यांच्यामध्ये जागा सोडली जाते, जेणेकरून \_\_\_\_\_.

A.त्यांच्या ज्वलनासाठी वायूची हालचाल होण्यास मदत होते

B.कमी प्रमाणात लाकूड वापरले जाईल

C.ते त्याच्या प्रज्वलन तापमानाला पोहोचू शकते

D.ज्वलन हळूहळू घडते

Answer: A.त्यांच्या ज्वलनासाठी वायूची हालचाल होण्यास मदत होते

It is interesting that the concept of zero has had such a great impact on the progress of \_\_\_\_\_.

A.humanness

B.mankind

C.manliness

D.manhood

Answer:

B.mankind

Reference ID:(4995)

Choose the option with the appropriate suffix to complete the given sentence:

The harmon\_\_\_ singing of the two sisters was very melodious as well as enchanting and everyone enjoyed it.

A.-ious

B.-y

C.-ic

D.-ously

Answer:

A.-ious

Reference ID:(5230)

‘पाणी पडणे’ या वाक्प्रचाराचा अर्थ -

A.पाण्याने धुणे.

B.पाणी सांडणे.

C.पाऊस पडणे.

D.एखादी गोष्ट फुकट जाणे.

Answer:

D.एखादी गोष्ट फुकट जाणे.

Reference ID:(5457)

भूकंपाची तीव्रता मोजण्यासाठी खालीलपैकी कोणत्या साधनाचा वापर केला जातो?

A.सेस्मोग्राफ

B.बॅरोमीटर

D. इलेक्ट्रोस्कोप

Answer:

A. सेस्मोग्राफ

Reference ID:(5245)

उत्तर प्रदेशामधील कविता राऊत या खालीलपैकी कोणत्या वर्षी अर्जुन पुरस्काराच्या विजेत्या बनल्या होत्या?

A.2011

B.2012

C.2017

D.2014

Answer:

B.2012

Reference ID:(4996)

Choose the option with the appropriate suffix to complete the given sentence:

The evolu\_\_\_\_\_ of man\_\_\_\_\_ began with the origin of monkeys.

A.-ve, -hood

B.-ness, -liness

C.-tion, -kind

D.-tionary, -age

Answer:

C.-tion, -kind

Reference ID:(5234)

'सुमन फुले वेचते.' या वाक्यातील कर्म ओळखा.

A.वेचते

B.फुले

C.सुमन

D.सुमन वेचते

Answer:

B.फुले

\_\_\_\_\_ is a word that cannot compare to \_\_\_\_\_.

A.Brave, weak

B.Braveness, weakness

C.Bravery, weakness

D.Bravado, weakness

Answer:

C.Bravery, weakness

Reference ID:(5236)

‘वडिलांनी मुलाला शाळेत घातले.’ या वाक्यातील कर्म ओळखा.

A.वडिलांनी

B.मुलाला

C.शाळेत

D.घातले

Answer:

B.मुलाला

Reference ID:(5477)

एका पिशवीमध्ये सारख्या आकाराचे चेंडू आहेत. 2 लाल, 3 निळे, 10 पांढरे, 4 हिरवे आणि 3 काळे आहेत. न पाहता आणि परत न टाकता बागेमधून चेंडू काढले जातात. सारख्या रंगाचे दोन चेंडू घेतले आहे याची खात्री करण्यासाठी पिशवीमधून घेतल्या जाणाऱ्या चेंडूंची सर्वात लहान संख्या काय आहे?

A.10

B.8

C.6

D.5

Answer:

C.6

Reference ID:(4991)

Choose the correct form of adjective for the given sentence:

Vaccination is the most \_\_\_\_\_ way to prevent infection.

B.good

C.better

D.effective

Answer:

D.effective

Reference ID:(5484)

दोन संख्यांमध्ये 26 चे अंतर आहे आणि एक संख्या दुसरीच्या तिप्पट आहे. तर त्या दोन संख्यांची बेरीज काढा.

A.26

B.39

C.65

D.52

Answer:

D.52

Reference ID:(5228)

‘कर नाही त्याला डर कशाला’ या म्हणीचा अर्थ -

A.नाश होण्याची वेळ आली असताना थोडक्यात बचावणे.

B.ज्याने काही गुन्हा किंवा वाईट गोष्ट केली नाही त्याला शिक्षेचे भय नसते.

C.मनात भीती असणे.

D.बढाई मारणे.

Answer:

B.ज्याने काही गुन्हा किंवा वाईट गोष्ट केली नाही त्याला शिक्षेचे भय नसते.

Reference ID:(5235)

‘राजाला मुकुट शोभतो.’ या वाक्यातील क्रियापद ओळखा.

A.राजा

B.मुकुट

C.शोभतो

D.राजाला

Answer:

C.शोभतो

She \_\_\_\_\_ on the phone when the door bell rang.

A.is speaking

B.speaks

C.spoke

D.was speaking

Answer:

D.was speaking

Reference ID:(4992)

Choose the correct form of adjective for the given sentence:

The kauri tree is a/an \_\_\_\_\_ forest tree native to New Zealand.

A.important

B.massive

C.dynamic

D.bigger

Sab Answer: bhaijaan

B.massive

Sabka ek bhaijaan

Sabka ek bhaijaan

Reference ID:(5244)

'इ-ग्रंथालया' हे राष्ट्रीय सूचना विज्ञान केंद्र, इलेक्ट्रॉनिक्स आणि माहिती तंत्रज्ञान मंत्रालय, भारत शासन यांच्याद्वारे विकसित केलेले \_\_\_\_\_ सॉफ्टवेअर आहे.

A.लायब्ररी व्यवस्थापन

B.मानव संसाधन व्यवस्थापन

C.नैसर्गिक संसाधन माहिती

D.पेट्रोल व्यवस्थापन

Answer:

A.लायब्ररी व्यवस्थापन

Reference ID:(5202)

Choose the correct form of modal auxiliary verb for the given sentence:

The old man \_\_\_\_\_ to give alms to the poor every day.

A.shall

B.must

C.used

Sabka ek bhaijaan

Sabka ek bhaijaan

Sabka ek bhaijaan

Answer:

C.used

Reference ID:(5215)

‘पारणे फिटणे’ या वाक्प्रचाराचा अर्थ -

A.उपास सोडणे.

B.कर्ज फिटणे.

C.गोष्ट पाहून, ऐकून तृप्त होणे.

D.मेजवानी मिळणे.

Answer:

C.गोष्ट पाहून, ऐकून तृप्त होणे.

Reference ID:(5237)

अलिकडे महाराष्ट्राच्या 05 जिल्ह्यांमधील हापूस आंब्यांना भौगोलिक सूचक (जीआय) म्हणून नोंदवले गेले. खालीलपैकी कोणते जिल्हे या सूचीमध्ये समाविष्ट नाहीत:

A.सिंधुदुर्ग

B.पालघर

C.रायगड

D.नाशिक

Answer:

D.नाशिक

Reference ID:(5466)

खाली दिलेल्या मालिकेमध्ये अंकांचा एक विशिष्ट क्रम दिलेला आहे. त्यानुसार चुकीचा क्रम ओळखा:  
66, 36, 18, 9, 12, 2

A.18

B.9

C.3

D.12

Answer:

B.9

Reference ID:(5248)

माहिती मिळवण्याची विनंती करणारा अर्ज प्राप्त झाल्याच्या \_\_\_ दिवसांच्या आत जन माहिती अधिकाऱ्याने, तो अर्ज निकालात काढणे आवश्यक आहे.

C.30

D.15

Answer:

C.30

Reference ID:(5247)

ख्यातनाम मराठी लेखक कविता महाजन यांचे 51 वयामध्ये निधन झाले. त्यांनी  
 \_\_\_\_\_ मध्ये साहित्य अकादमी भाषांतर पुरस्कार जिंकला होता.

A.2011

B.2012

C.2013

D.2014

Answer:

A.2011

Reference ID:(5217)

समानार्थी शब्दांचा चुकीचा पर्याय ओळखा.

A.रुद्र, भालचंद्र, त्र्यंबक

B.रमेश, केशव, नारायण

C.कमला, वनिता, लतिका

D.होडी, नाव, तर

Answer:

C.कमला, वनिता, लतिका

Reference ID:(5463)

गणेश राहुलपेक्षा 6 वर्षांनी लहान आहे. जर त्यांच्या वयाचे गुणोत्तर अनुक्रमे 3:5 असेल तर  
 गणेशचे वय काय असेल?

A.15 वर्ष

B.12 वर्ष

C.9 वर्ष

D.6 वर्ष

Answer:

C.9 वर्ष

Reference ID:(5213)

'ताकद, तसबीर, ताकीद' हे शब्द कोणत्या भाषेतून मराठीत रूढ झाले आहेत?



B. अरबी

C. पोर्तुगीज

D. संस्कृत

Answer:

B. अरबी

Reference ID:(5238)

पर्यटन मंत्रालयाद्वारे 2016-17 मध्ये तिर्थक्षेत्र पुनरुत्थान आणि आध्यात्मिक वृद्धी मोहिमेअंतर्गत (PRASAD) विकासासाठी बारा शहरांचा समावेश केला गेला आहे. महाराष्ट्रामधून हे एकमेव शहर आहे:

A. त्र्यंबकेश्वर

B. नाशिक

C. वेरुळ

D. तुळजापूर

Answer:

A. त्र्यंबकेश्वर

Reference ID:(5452)

पुर्वीच्या काळी खानदेश प्रदेशाचा उल्लेख \_\_\_\_\_ असा केला जात होता.

A. बदामी

B. पंचैरी

C. रसिका

D. कलाक्षा

Answer:

C. रसिका

Reference ID:(5481)

अखिल हा बस स्टॉपला जाण्यासाठी सामान्य वेळेच्या 20 मिनिटे आधी घरातून बाहेर पडला. स्टॉपपर्यंत पोहोचायला 15 मिनिटे लागतात. तो सकाळी 0.45 वाजता स्टॉपवर पोहोचला. बस स्टॉपसाठी तो सामान्यतः किती वाजता घरातून बाहेर पडत असेल?

A. सकाळी 9.45

B. सकाळी 9.50

C. सकाळी 9.55

D. वरीलपैकी कोणतेही नाही

Answer:

B. सकाळी 9.50

Reference ID:(5483)

जॉर्ज हा मुलांच्या ओळीमध्ये डावीकडून पाचवा आहे, आणि पीटर हा उजव्या टोकापासून बारावा आहे. जर पीटर हा जॉर्जकडे तीन स्थानांनी सरकला, तर तो डाव्या टोकापासून दहाव्या स्थानावर येत आहे. ओळीमध्ये किती मुलं आहेत?

A.21

B.22

C.23

D.24

Answer:

D.24

Reference ID:(5454)

भारताच्या इतिहासामध्ये पहिल्यांदा राज्य सभेद्वारे गैरवर्तणूकीसाठी महाभियोग लावला असलेली कोणती व्यक्ती न्यायाधीश बनली?

A.व्ही रामस्वामी

B.जे. बी. पारडीवाला

C.सौमित्र सेन

D.पी. डी. दिनकरन

Answer:

C.सौमित्र सेन

Reference ID:(5242)

मुंबईमध्ये आयोजित केलेले इंडिया आयडीयाज समिट 2018 हे \_\_\_\_\_-भारत संबद्धतेच्या भविष्यासाठी विचारांच्या देवाणघेवाणीवर केंद्रीत आहे.

A.जर्मनी

B.यु.एस.

C.फ्रान्स

D.रशिया

Answer:

B.यु.एस.

Reference ID:(5473)

रवीने एक वस्तू 460 रुपयांना विकली आणि त्याला 15% नफा मिळाला. 20% नफा मिळवण्यासाठी विक्री किंमत असावी:

A.483 रूपये

B.480 रूपये

C.498 रूपये

D.485 रूपये

Answer:

B.480 रूपये

Sabka ek bhaijaan

Sabka ek bhaijaan

Sabka ek bhaijaan

Sabka ek bhaijaan

Sabka ek bhaijaan

Sabka ek bhaijaan

Sabka ek bhaijaan

Sabka ek bhaijaan

Sabka ek bhaijaan

Date of Exam : 08-07-2019 10:00 AM

Reference ID:(7380) जोडशब्द नसलेला शब्द निवडा.

A.मोक्षप्राप्ती

B.थांगपत्ता

C.त्रेधातिरपिट

D.शिक्कामोर्तब

Answer: A.मोक्षप्राप्ती

Reference ID:(7372) Choose the correct form of verb that is in agreement with the subject:

George and Michael left \_\_\_\_\_ backpacks at school.

A.his

B.their

C.there

D.its

Answer: B.their

Reference ID:(7387) योग्य पर्यायाची निवड करा.  
आम्ही -----

A.जेवते

B.जेवलो

C.जेवतात

D.जेवायचे

Answer: B.जेवलो

Reference ID:(7608) खालीलपैकी कोणाला स्वर माऊली पुरस्काराने 2018 सन्मानित करण्यात आले?

A.आशा भोसले

C.अलका याज्ञिक

D.उदित नारायण

Answer:

B.लता मंगेशकर

Reference ID:(7373)

Out of the following options, identify a simple sentence.

A.Creams can make our skin smoother.

B.People start new business if they don't get jobs.

C.It was a do or die situation for our soldiers.

D.The cows will come home when it gets dark.

Answer:

A.Creams can make our skin smoother.

Reference ID:(7354)

Choose the appropriate option with the correct punctuation marks for the given sentence:

Oh my god i forgot to bring my lunch box today

A.Oh my God! i forgot to bring my lunch box today

B.Oh my God; I forgot to bring my lunch box today

C.Oh my God! I forgot to bring my lunch box today.

D.Oh my God, i forgot to bring my lunch box today.

Answer:

C.Oh my God! I forgot to bring my lunch box today.

Reference ID:(7398)

ट्, ठ्, ड्, ही व्यंजने कोणत वर्ण म्हणून ओळखले जातात?

A.कंठ्य

B.दंत्य

C.मूर्धन्य

D.ओष्ठ्य

Answer:

C.मूर्धन्य

Varanasi is \_\_\_\_\_ town in \_\_\_\_\_ Uttar Pradesh on \_\_\_\_\_ Ganges.

A.a, no article, the

B.the, the, no article

C.a, the, the

D.the, no article, the

Answer:

A.a, no article, the

Reference ID:(7365)

Which of the following options best combines the two given sentences?

I drop this glass. It will break.

A.I drop this glass but it will break.

B.I drop this glass yet it will break.

C.Dropping this glass, it will break.

D.If I drop this glass, it will break.

Answer:

D.If I drop this glass, it will break.

Reference ID:(7356)

Choose the correct form of adjective for the given sentence:

The curator of the museum showed us some \_\_\_\_\_ coins.

A.past

B.soiled

C.ancient

D.ruined

Answer:

C.ancient

Reference ID:(7622)

पोवाडा हा महाराष्ट्रामधील \_\_\_\_\_ चा प्रकार आहे.

A.नृत्य

C.पोशाख

D.संगीत

Answer:

A.नृत्य

Reference ID:(7646)

विशिष्ट संकेतन पध्दतीमध्ये, 'rbm std lro pus' म्हणजे 'the cat is beautiful', 'tnh pus dim std' म्हणजे 'the dog is brown' आणि ' dim lro pus eus' म्हणजे 'the dog has cat'. तर 'has' साठी कोणता संकेत वापरलेला आहे?

A.eus

B.lro

C.std

D.dim

Answer:

A.eus

Reference ID:(7351)

Choose the option that has the correct spelling.

A.Dictionary

B.Dictionery

C.Dectionary

D.Diktionary

Answer:

A.Dictionary

Reference ID:(7643)

एका क्रिकेटच्या चेंडूचे वजन 160 ग्रॅम आहे. 12 चेंडू असलेल्या एका पॅकचे वजन किती असेल?

A.1200 ग्रॅम

B.1600 ग्रॅम

C.1920 ग्रॅम

D.1620 ग्रॅम

Answer:

C.1920 ग्रॅम

Without a certain amount of \_\_\_\_\_, it is hard to cope with even everyday events.

A.managerial

B.management

C.manages

D.manage

Answer:

B.management

Reference ID:(7390)

रिकाय्या जागी योग्य पर्याय निवडा.

'.....! अजिबात वाचता येत नाहीये तुझं अक्षर! अशक्य आहे!'

A.छे

B.भले

C.गप

D.भारी

Sab Answer: bhaijaan

A.छे

Sabka ek bhaijaan

Sabka ek bhaijaan

Reference ID:(7371)

Choose the most appropriate usage to fill in the blank in the given sentence:

The \_\_\_\_\_ at the railway station was not clear.

A.announcers

B.announcement

C.announcing

D.announced

Answer:

B.announcement

Reference ID:(7609)

सेंद्रिय कृषीमध्ये योगदानासाठी महाराष्ट्रामधून डीडी महिला किसान पुरस्कार 2018-19 खालीलपैकी कोणी जिंकला?

A.प्रज्ञा गुरव

B.स्वाती शिंगाडे

C.कमल कुंभार

Sabka ek bhaijaan

Sabka ek bhaijaan

Sabka ek bhaijaan



Answer: B.स्वाती शिंगाडे

Reference ID:(7626) वडिल आणि मुलाचे सरासरी वय 20 वर्षे आहे. त्यांच्या वयाचे गुणोत्तर 7:1 आहे. वडिलांचे वय काय आहे?

A.32 वर्ष

B.35 वर्ष

C.30 वर्ष

D.28 वर्ष

Answer: B.35 वर्ष

Reference ID:(7367) Choose the appropriate prepositions for the given sentence:

The survival \_\_\_\_\_ the circus is due to its ability to change \_\_\_\_\_ the times.

A.from ... for

B.with ... in

C.of ... over

D.of ... with

Answer: D.of ... with

Reference ID:(7395) काही अविकारी शब्द दोन वाक्यांना जोडण्याचे काम करतात आणि अशा शब्दांना ----- अव्यये म्हणतात.

A.शब्दयोगी

B.केवलप्रयोगी

C.क्रियाविशेषण

D.उभयान्वयी

Answer: D.उभयान्वयी

Reference ID:(7601) आरटीआय कायदा 2005 अनुसार, आवश्यक असल्यास, पहिले अपील निकालात काढण्याचा कालावधी \_\_\_\_\_ दिवसांनी वाढविला जाऊ शकतो.

B.10

C.12

D.15

Answer:

D.15

Reference ID:(7634)

एक फासा 80 वेळा फेकला जातो आणि '3' ही संख्या 14 वेळा मिळते. आता फासा यादृच्छिकपणे फेकला. '3' ही संख्या मिळण्याची संभाव्यता काढा.

A.7/40

B.40/7

C.23/40

D.40/23

Answer:

A.7/40

Reference ID:(7399)

पुढील वाक्प्रचारांच्या योग्य अर्थाचा पर्याय निवडा.  
इकडचा डोंगर तिकडे करणे-

A.फार मोठी फसवणूक करणे

B.खूप मोठे कार्य करणे

C.कष्टाचे काम न करणे

D.शक्तिप्रदर्शन करणे

Answer:

B.खूप मोठे कार्य करणे

Reference ID:(7629)

रमन आणि गगनच्या उत्पन्नाचे गुणोत्तर 5:7 आहे आणि त्यांच्या खर्चाचे गुणोत्तर अनुक्रमे 2:3 आहे. जर प्रत्येक व्यक्तीने 2500 रुपयांची बचत केली, तर त्यांचे उत्पन्न काढा.

A.रमन = 10,000 रुपये आणि गगन = 8500 रुपये

B.रमन = 12,500 रुपये आणि गगन = 17,500 रुपये

C.रमन = 11,500 रुपये आणि गगन = 16,500 रुपये

D.रमन = 13,500 रुपये आणि गगन = 15,500 रुपये

Answer:

B.रमन = 12,500 रुपये आणि गगन = 17,500 रुपये

He used \_\_\_\_\_ to get the candy.

A.artifice

B.artfice

C.artifise

D.artfise

Answer:

A.artifice

Reference ID:(7642)

जर  $p = -2$  आहे, तर  $(27 \times 4p) - (-16 \times 4) + 7$  काढा.

A.273

B.-145

C.287

D.-264

Answer:

B.-145

Reference ID:(7355)

Choose the correct form of adjective for the given sentence:

There has not been \_\_\_\_\_ rain this year.

A.too many

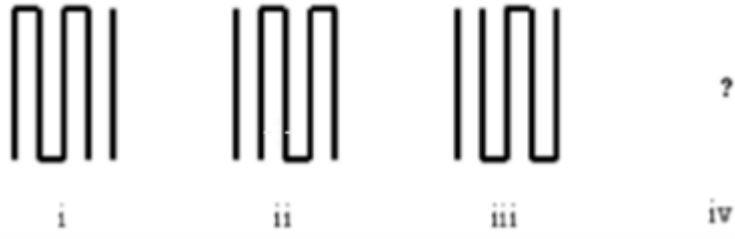
B.sufficient

C.great

D.significant

Answer:

B.sufficient



Sabka ek bhaijaan

Sabka ek bhaijaan

Sabka ek bhaijaan

Answer:



Reference ID:(7624)

सूर्यप्रकाशामधील कोणत्या किरणोत्सर्गामुळे सौर कुकर कार्य करतो?

- A. अवरक्त (इन्फ्रारेड) किरणे
- B. दृश्यमान प्रकाश किरणे
- C. गॅमा किरणे
- D. क्ष-किरणे

Answer:

A. अवरक्त (इन्फ्रारेड) किरणे

A.शक्य

B.प्रयोजक

C.साधित

D.सहायक

Answer:

B.प्रयोजक

Reference ID:(7397)

नाम आणि सर्वनाम यांचे वाक्यातील क्रियापदाशी येणारे संबंध ज्या विकारांनी दाखवले जातात, त्यांना काय म्हणतात?

A.विभक्ती

B.समास

C.वृत्त

D.अलंकार

Answer:

A.विभक्ती

Reference ID:(7363)

Choose the correct form of verb for the given sentence:

Kidneys \_\_\_\_\_ waste water from the body.

A.eliminates

B.eliminate

C.is eliminating

D.are eliminated

Answer:

B.eliminate

Reference ID:(7641)

योग्य पदावली निवडा.

A.  $-89 - 25 = -(-25 - 89)$ B.  $-36 - (+97) = -(36 + 97)$ C.  $26 - (-5) - 8 = 26 - 13$ D.  $-124 - 34 = -90$

Reference ID:(7605) ग्वालियारचा तह आणि मांडसोरचा तह हे \_\_\_\_\_ चे अंतिम परिणाम होते.

A. तिसरे अँग्लो-मराठा युध्द

B. दुसरे अँग्लो-मराठा युध्द

C. पहिले अँग्लो-मराठा युध्द

D. चौथे अँग्लो-मराठा युध्द

Answer:

A. तिसरे अँग्लो-मराठा युध्द

Reference ID:(7368)

Choose the appropriate prepositional phrase for the given sentence:

\_\_\_\_\_ some money for the rainy day.

A. Throw in

B. Keep on

C. Hide out

D. Put aside

Answer:

D. Put aside

Reference ID:(7382)

'यथा राजा तथा प्रजा.' या वाक्याचा प्रकार ओळखा.

A. केवलवाक्य

B. संयुक्तवाक्य

C. मिश्रवाक्य

D. प्रश्नार्थी वाक्य

Answer:

C. मिश्रवाक्य

Reference ID:(7638)

एक मोटर बोट प्रति तास 18 किमीच्या वेगाने प्रवास करते. 90 किमी जाण्यासाठी ती किती वेळ घेईल?

B.2 तास

C.5 तास

D.0.5 तास

Answer:

C.5 तास

Reference ID:(7636)

दिल्या गेलेल्या क्रमामध्ये पुढील पद काढा.  
7, 49, 343, \_\_\_\_\_

A.350

B.4201

C.742

D.2401

Answer:

D.2401

Reference ID:(7378)

धंघ्यात नफा झाला तर बरे, ----- कोण झेलणार?  
आधारेखित शब्दाचा विरुद्धार्थी शब्द शोधा.

A.नुकसान

B.लाभ

C.फायदा

D.पराभव

Answer:

A.नुकसान

Reference ID:(7640)

A हा एक काम 18 दिवसांत आणि B तेच काम A द्वारे घेतलेल्या वेळेच्या अर्ध्या वेळेमध्ये पूर्ण करतो. मग एकत्र काम करून ते एका दिवसामध्ये त्याच कामाचा किती भाग पूर्ण करतील?

A.1/9

B.1/7

C.1/6

D.4/6

Answer:

C.1/6

A.ध्येय निश्चित करणे

B.लक्ष्य ठरवणे

C.दुर्लक्ष करणे

D.विशेष लक्ष असणे

Answer:

D.विशेष लक्ष असणे

Reference ID:(7381)

पुढील शब्दाचे लिंग ओळखा.  
दार

A.पुल्लिंग

B.स्त्रीलिंग

C.नपुसकलिंग

D.उभयलिंग

Answer:

C.नपुसकलिंग

Reference ID:(7620)

संविधानाच्या खालीलपैकी कोणत्या अनुच्छेदामध्ये 'कोणत्याही धर्माच्या प्रचारासाठी कर प्रदान करण्यापासून स्वातंत्र्य' ला निहित केले गेले?

A.अनुच्छेद 19

B.अनुच्छेद 223

C.अनुच्छेद 27

D.अनुच्छेद 169

Answer:

C.अनुच्छेद 27

Reference ID:(7369)

Choose the appropriate conjunction for the given sentence:

\_\_\_\_\_ you have a minimum of 320 score in GRE, it is highly difficult to get a seat in American Universities.

A.Unless

B.Otherwise

C.However



Answer: A.Unless

Reference ID:(7614) महाराष्ट्र शासनाच्या एसजेवाय योजनेचे पूर्ण नाव \_\_\_\_\_ आहे.

A.श्रमेव जयते योजना

B.सहायता जयते योजना

C.सकाळ जयते योजना

D.स्लम जयते योजना

Answer: A.श्रमेव जयते योजना

Reference ID:(7618) ललित कला अकादमी (एलकेए) कडून 60 व्या वार्षिक अकादमी पुरस्काराने सन्मानित करण्यात आलेले जितेंद्र सुरेश सुतार हे खालीलपैकी कोणत्या राज्याशी संबंधित आहेत?

A.महाराष्ट्र

B.ओडिशा

C.तेलंगणा

D.केरळ

Answer: A.महाराष्ट्र

Reference ID:(7362) Choose the appropriate articles for the given sentence:

He bought \_\_\_ wonderful blue T-shirt and wore it in \_\_\_ evening for \_\_\_ office party.

A.a, a, the

B.the, the, a

C.an, the, a

D.a, the, the

Answer: D.a, the, the

Reference ID:(7611) \_\_\_\_\_ हा भारत आणि सिंगापूर दरम्यान संयुक्त लष्करी अभ्यास आहे.

C.शत्रुजीत

D.बोल्ड कुरुक्षेत्र

Answer:

D.बोल्ड कुरुक्षेत्र

Reference ID:(7602)

फेब्रुवारी 2019 मध्ये नाशिक जवळील छावणीमध्ये "एक्सरसाईज तोपची" नामक वार्षिक अभ्यास खालीलपैकी कोणी आयोजित केला होता?

A.भरतीय नौदल

B.भारतीय सैन्यदल

C.भारतीय वायुदल

D.सीमा सुरक्षा बल

Answer:

B.भारतीय सैन्यदल

Reference ID:(7616)

दोन सभा असलेले (बायकामेरलिझम) विधीमंडळ हे शासनाच्या खालीलपैकी कोणत्या प्रणालीचे मुख्य वैशिष्ट्य आहे?

A.फेडरल प्रणाली

B.युनिटरी प्रणाली

C.संसदीय प्रणाली

D.अध्यक्षीय प्रणाली

Answer:

A.फेडरल प्रणाली

Reference ID:(7623)

कोणत्या वर्षी एलिफंटा गुहांना युनेस्को जागतिक वारशाचे ठिकाण म्हणून नामित करण्यात आले?

A.1973

B.1979

C.1983

D.1987

Answer:

D.1987

A.नितीन गडकरी

B.नानाभाऊ पाटोळे

C.अंजली दमानिया

D.डॉ. मोहन गायकवाड

Answer:

A.नितीन गडकरी

Reference ID:(7645)

सरासरी काढा.  
68,30,55,88,95&30

A.41

B.21

C.51

D.61

Answer:

D.61

Reference ID:(7379)

जोडशब्द नसलेला शब्द ओळखा.

A.देवाणघेवाण

B.बापलेक

C.लतावेली

D.आंतरजाल

Answer:

D.आंतरजाल

Reference ID:(7625)

खालीलपैकी कोणता एक निरूपयोगी द्रव पदार्थ आहे?

A.बायोगॅस

B.जैववैद्यकीय कचरा

C.सांडपाणी

D.लँडफिल गॅस

Answer:

C.सांडपाणी

Reference ID:(7613) उत्तर भारतामध्ये सिंचनाची कालवा पध्दत प्रचलित असण्याचे कारण काय आहे?

- A. बारमाही नद्या
- B. अपुरा पाऊस
- C. हिमालय
- D. जोरदार पर्जन्यवृष्टी

Answer: A. बारमाही नद्या

Reference ID:(7607) सायलेन्ट व्हॅली राष्ट्रीय उद्यान भारतामधील खालीलपैकी कोणत्या राज्यामध्ये आहे?

- A. तामिळ नाडू
- B. केरळ
- C. गोवा
- D. जम्मू आणि काश्मिर

Answer: B. केरळ

Reference ID:(7396) पुढील वाक्यात कोणते विरामचिन्ह वापराल?  
किती भयानक वाडा आहे हा

- A. उद्गारचिन्ह
- B. स्वल्पविराम
- C. प्रश्नचिन्ह
- D. अर्धविराम

Answer: A. उद्गारचिन्ह

Reference ID:(7376) दिलेल्या शब्दगटातून योग्य समानार्थी शब्द निवडा.  
अभ्यास

- A. पाठ
- B. पाठांतर
- C. पाठभेद
- D. परिपाठ

Reference ID:(7391)

रिकाम्या जागी योग्य पर्याय निवडा.  
'बरहुकूम' या शब्दाची जात कोणती?

A.विशेषण

B.नाम

C.शब्दयोगी अव्यय

D.सर्वनाम

Answer:

C.शब्दयोगी अव्यय

Reference ID:(7370)

Choose the appropriate conjunctions for the given sentence:

Living in a village is uncomfortable \_\_\_\_\_ the lifestyle would be healthy  
\_\_\_\_\_ of the purity in nature.

A.but, because

B.however, still

C.besides, but

D.and, because

Answer:

A.but, because

Reference ID:(7604)

जांभी (लॅटेराईट) मृदा ही कोणत्या प्रदेशामध्ये आढळत नाही?

A.कर्नाटकमधील डोंगर

B.मध्य प्रदेशामधील डोंगर

C.आसाममधील डोंगर

D.पंजाबमधील डोंगर

Answer:

D.पंजाबमधील डोंगर

Reference ID:(7358)

Choose the appropriate collective noun to complete the sentence:

\_\_\_\_\_ tried to escape from prison last week.

A.A band of cellmates

C.A gang of prisoners

D.A mob of jailbirds

Answer: C.A gang of prisoners

Reference ID:(7633)

एक फासा फेकला जातो. फाशावर दर्शवलेली संख्या ही 2 ने विभाज्य नसण्याची संभाव्यता काय आहे?

A.1/2

B.3/2

C.1/3

D.3/1

Answer: A.1/2

Reference ID:(7630)

किशोरला पास होण्यासाठी 35% गुण मिळवायचे आहेत. त्याला 35 गुण मिळाले आणि तो 35 गुणांनी नापास झाला, तर परीक्षेसाठी कमाल गुण संच काढा.

A.200

B.250

C.300

D.150

Answer: A.200

Reference ID:(7384)

पुढील वाक्य वाचून योग्य वाक्य ओळखा.

A.सगळी मुले बाहेर खेळायला गेल्या

B.सगळ्या मुले बाहेर खेळायला गेल्या

C.सगळी मुले बाहेर खेळायला गेली

D.सगळ्या मुले बाहेर खेळायला गेले

Answer: C.सगळी मुले बाहेर खेळायला गेली

Reference ID:(7628)

एका भांड्यामध्ये 40 लीटर दूध आहे. या भांड्यामधून 4 लीटर दूध काढून त्याच्या जागी पाणी टाकले गेले. आणखी दोन वेळा ही पध्दत पुनरावृत्त केली गेली. आता त्या भांड्यामध्ये किती लीटर दूध आहे?

A.29.16 लीटर

B.28.16 लीटर

C.27.16 लीटर

D.26.16 लीटर

Answer:

A.29.16 लीटर

Reference ID:(7631)

जर फळाची किंमत 20% नी कमी झाली, तर यावरील खर्च कमी न करण्यासाठी घरामध्ये त्याचा उपभोग किती टक्क्यांनी वाढवला जावा?

A.22%

B.24%

C.25%

D.27%

Answer:

C.25%

Reference ID:(7632)

बाबूने 2500 रुपयांमध्ये एक कपाट खरेदी केले आणि त्याची 3500 रुपयांमध्ये विक्री केली. तोटा किंवा नफ्याची टक्केवारी काढा.

A.25%

B.28%

C.36%

D.40%

Answer:

D.40%

Reference ID:(7364)

Choose the most suitable determiner for the given sentence:

Though most of the seats in the theatre have been filled, \_\_\_\_\_ are still left.

B.none

C.any

D.much

Answer:

A.some

Reference ID:(7392)

गटात न बसणारा शब्द ओळखा.  
हुशार, हुबेहुब, हुकमी, हुशारी

A.हुशार

B.हुशारी

C.हुबेहुब

D.हुकमी

Answer:

B.हुशारी

Reference ID:(7383)

रिकामी जागा भरा.  
विशेषण वाक्य म्हणजे-----

A.प्रधान वाक्यातील एखाद्या नामाशी किंवा सर्वनामाशी संबंध असणारे वाक्य.

B.प्रधान वाक्यातील फक्त नामाशीच संबंध असणारे वाक्य.

C.प्रधान वाक्यातील फक्त सर्वनामाशी संबंध असणारे वाक्य.

D.प्रधान वाक्यातील कोणत्याही शब्दाशी संबंध असणारे वाक्य.

Answer:

A.प्रधान वाक्यातील एखाद्या नामाशी किंवा सर्वनामाशी संबंध असणारे वाक्य.

Reference ID:(7621)

'रावणछाया' हा भारतातील खालीलपैकी कोणत्या राज्यामधील बाहुल्यांचा खेळ आहे?

A.केरळ

B.आसाम

C.पश्चिम बंगाल

D.ओरिसा

Answer:

D.ओरिसा



The school conducted the annual sports day success\_\_\_\_\_.

A.-ful

B.-ive

C.-ion

D.-fully

Answer:

D.-fully

Reference ID:(7647)

जुलै 1777 मध्ये स्वातंत्र्याच्या घोषणेवर स्वाक्षरी करण्यात आली. 500 महिने नंतर महिना आणि वर्ष काय असेल?

A.जुलै 1818

B.मार्च 1818

C.मार्च 1819

D.मार्च 1820

Sab Answer: bhaijaan

C.मार्च 1819

Sabka ek bhaijaan

Sabka ek bhaijaan

Reference ID:(7386)

'कावळा झाडावर बसला' या वाक्यात कोणते आख्यात आहे.

A.ल- आख्यात

B.त – आख्यात

C.ऊ- आख्यात

D.ईलाख्यात

Answer:

A.ल- आख्यात

Reference ID:(7635)

4, 7, 10, 13... मालिकेचे 9<sup>वे</sup> पद काढा.

A.24

B.25

C.28

D.31

Reference ID:(7394) 'गुरू' या शब्दाचे अनेकवचन ओळखा.

A.गुरू

B.गूरू

C.गुरु

D.गूरु

Answer:

A.गुरू

Reference ID:(7612) समुद्रतटीय आणि दलदलीच्या प्रदेशातील वने ही महाराष्ट्राच्या \_\_\_\_\_ आणि ठाणे जिल्हांच्या खाऊ्या आणि किनारपट्ट्यांलगत आढळतात.

A.पुणे

B.सिंधुदुर्ग

C.कोल्हापूर

D.सोलापूर

Answer:

B.सिंधुदुर्ग

Reference ID:(7639) जर 20 पुरुष एका पूलाचे बांधकाम 24 दिवसांत करू शकतात, तर 32 पुरुष अशा दोन पूलांचे बांधकाम किती दिवसांत पूर्ण करतील?

A.15 दिवस

B.20 दिवस

C.24 दिवस

D.30 दिवस

Answer:

D.30 दिवस

Reference ID:(7648) यदि  $a = (-20) + (-20) + (-20) + \dots\dots\dots 12$  वेळा आणि  $b = (-3) \times (-3) \times (-3)$ , तर  $a + b = \underline{\hspace{2cm}}$ ।

A.-213

B.-267

C.213

Answer: B.-267

Reference ID:(7377) दिलेल्या शब्दगटातून विरुद्धार्थी शब्द ओळखा.  
अधिकारी – जबाबदार X -----

A.कडक

B.शिस्तप्रिय

C.बेजबाबदार

D.भ्रष्ट

Answer: C.बेजबाबदार

Reference ID:(7374) Choose the correct form of tense for the given sentence:

The police \_\_\_\_\_ the place of the murder after the criminal \_\_\_\_\_.

A.is reaching, is fleeing

B.reached , are fleeing

C.is reaching, had fled

D.reached, had fled

Answer: D.reached, had fled

Reference ID:(7627) नायक आणि ब्रिजेशच्या वयाचे गुणोत्तर 7: 2 आहे. त्यांच्या वयाचा गुणाकार 504 वर्ष आहे. 18 वर्षांनंतर त्यांच्या संबंधित वयाचे गुणोत्तर काय असेल?

A.2:1

B.6:7

C.7:8

D.8:7

Answer: A.2:1

Reference ID:(7393) पुढील नामाला अयोग्य विशेषणाचा पर्याय निवडा.  
वाघ

B.भयानक

C.चपटा

D.रुबाबदार

Answer:

C.चपटा

Reference ID:(7610)

राष्ट्रीय आपत्ती व्यवस्थापन प्राधिकरण (एनडीएमए) ने उष्णतेच्या लाटेसाठी सज्जता, शमन आणि व्यवस्थापनावरील दोन दिवसांची राष्ट्रीय कार्यशाळा कुठे आयोजित केली होती

A.अहमदनगर

B.लातूर

C.नागपूर

D.नांदेड

Answer:

C.नागपूर

Reference ID:(7637)

प्रिती तिचा 40% प्रवास पायी करते आणि बाकी प्रवास बसने पूर्ण करते. तिला 80 किमी अंतर कापायचे आहे, तिने बसने केलेल्या प्रवासाचे अंतर काढा.

A.48 किमी

B.32 किमी

C.72 किमी

D.60 किमी

Answer:

A.48 किमी

Reference ID:(7360)

Choose the option with the appropriate suffix to complete the given sentence:

The bus driver suffered a heart attack while driving, but he stopped the bus safe\_\_\_\_\_.

A.-ty

B.-ly

C.-ment

D.-iour

Answer:

B.-ly

Reference ID:(7389) क्रियापदानुसार कर्त्याच्या योग्य रूपाची निवड करा.  
..... शाळेतून घरी येते.

A.कविता

B.सिद्धार्थ

C.शिक्षक

D.मित्र

Answer: A.कविता

Reference ID:(7617) जागतिक सुवर्ण परिषदे (डब्ल्यूजीसी) च्या अलिकडील अहवालानुसार 607 टन्स एवढ्या वर्तमान होल्डींग अधिकीलनासोबत सर्वात मोठा सुवर्ण साठा धारण करण्यात भारताचे स्थान कितवे आहे?

A.11३

B.10३

C.12३

D.13३

Answer: A.11३

Reference ID:(7385) खालील वाक्यातील उद्देश्य ओळखा.  
ही गोष्ट मला आता आठवते आहे.

A.गोष्ट

B.मला

C.आठवते

D.आता

Answer: A.गोष्ट

Reference ID:(7649) खाली दिलेल्या श्रृंखलेमध्ये अंकांचा एक विशिष्ट क्रम दिलेला आहे. त्यानुसार चुकीचा क्रम ओळखा:

2, 8, 20, 48, 92, 188

A.48

C.188

D.8

Answer:

A.48

Reference ID:(7366)

Choose the correct form of modal auxiliary verb for the given sentence:

\_\_\_\_\_ you please do me a favour?

A.Could

B.Would

C.Must

D.Should

Answer:

A.Could

Reference ID:(7353)

Choose the appropriate option with the correct punctuation marks for the given sentence:

hurry contest closes on february 19 2019

A.Hurry contest closes on February, 19, 2019.

B.Hurry! Contest closes on February 19, 2019.

C.Hurry contest closes on february, 19 2019.

D.Hurry, contest closes on February, 19, 2019.

Answer:

B.Hurry! Contest closes on February 19, 2019.

Reference ID:(7603)

अशोक लक्ष्मणराव कुकाडे यांना पद्म भूषण-2019 हा पुरस्कार कोणत्या क्षेत्रामध्ये देण्यात आला?

A.चिकित्सा- परवडणारी आरोग्यनिगा

B.सार्वजनिक प्रकरणे

C.कला-संगीत-सितार

D.कला-अभियन-सिनेमा

Answer:

A.चिकित्सा- परवडणारी आरोग्यनिगा

- A.मानवी संसाधन विकास मंत्रालय
- B.सांख्यिकी आणि कार्यक्रम कार्यान्वयन मंत्रालय
- C.गृहनिर्माण आणि शहरी प्रकरणे मंत्रालय
- D.पेयजल आणि स्वच्छता मंत्रालय

Answer: C.गृहनिर्माण आणि शहरी प्रकरणे मंत्रालय

Reference ID:(7615) "अन्ड्रॉटेड:सेव्हिंग दि आयडीया ऑफ इंडिया" हे शीर्षक असलेल्या पुस्तकाचे लेखक कोण आहेत?

- A.पी चिदंबरम
- B.साईकत मुजुमदार
- C.उमर खान
- D.वरुण गांधी

Answer: A.पी चिदंबरम

Reference ID:(7644) जर एक व्हेल शार्क प्रति तास 5 किमी वेगाने पोहत असेल, तर ती 3 तासांमध्ये किती अंतर कापेल?

- A.10 किमी
- B.30 किमी
- C.50 किमी
- D.15 किमी

Answer: D.15 किमी

Reference ID:(7375) Choose the option that best expresses the meaning of the highlighted idiom/phrase:

He was **burning the midnight oil** to secure a good percentile in his CAT exam.

- A.Working near the street lamps
- B.Studying with a lantern
- C.Study with the help of candles

D.Work late into the night

Sabka ek bhaijaan

Sabka ek bhaijaan

Sabka ek bhaijaan

---

Answer:

D.Work late into the night

---

Sabka ek bhaijaan

Sabka ek bhaijaan

Sabka ek bhaijaan

Sabka ek bhaijaan

Sabka ek bhaijaan

Sabka ek bhaijaan



Date of Exam : 08-07-2019 02:30 PM

Reference ID:(8141) सोडवा:  
 $(-30) + (-30) \div 10 - (-30) \times (-2)$

A.27

B.53

C.-93

D.-67

Answer: C.-93

Reference ID:(7866) Choose the appropriate prepositions for the given sentence:

We left the camp early that morning, hiking \_\_\_\_\_ the lake \_\_\_\_\_ breakfast.

A.around ... before

B.across ... during

C.into ... after

D.through ... at

Answer: A.around ... before

Reference ID:(7872) Out of the following options, identify a simple sentence.

A.We would have won the match if it hadn't rained that day.

B.The country is culturally unique.

C.The movie had a great storyline but extremely long.

D.I always go to bed when I feel sleepy.

Answer: B.The country is culturally unique.

Reference ID:(8133) एका बॉक्समध्ये 5 पिवळ्या, 4 हिरव्या आणि 3 पांढऱ्या गोऱ्या आहेत. जर यादृच्छिकपणे 3 गोऱ्या काढल्या, तर त्या सारख्या रंगाच्या नसण्याची संभाव्यता काय आहे?

B.44/41

C.55/13

D.13/55

Answer:

A.41/44

Reference ID:(7882)

रिकामी जागा भरा.  
मिश्रवाक्य म्हणजे ..... या दोन वाक्यांचे मिश्रण होय.

A.गौण वाक्य + साधे वाक्य

B.केवल वाक्य + केवल वाक्य

C.प्रधान वाक्य + गौण वाक्य

D.संयुक्त वाक्य + गौण वाक्य

Answer:

C.प्रधान वाक्य + गौण वाक्य

Reference ID:(8108)

फेब्रुवारी 2019 मध्ये, महाराष्ट्र शासनाने आदिवासी समुदायासाठी कल्याण योजनांचा आढावा घेण्यासाठी समिती स्थापित केली, जिचे अध्यक्ष \_\_\_\_\_ असतील.

A.राजीव शुक्ला

B.आकाश वर्मा

C.विवेक पंडित

D.शुभी सिक्का

Answer:

C.विवेक पंडित

Reference ID:(8121)

महाराष्ट्रामध्ये पितळखोरे लेणी कुठे स्थित आहेत?

A.पुणे

B.नाशिक

C.औरंगाबाद

D.चंद्रपूर

Reference ID:(8128)

एका कारखान्यामध्ये काम पूर्ण करण्यासाठी पुरुष, महिला आणि तरूण मुलांची 8:5:1 अशा गुणोत्तरात नियुक्ती केली गेली आणि त्यांचे वैयक्तिक वेतन हे अनुक्रमे 5:2:3 असे दिले गेले. सर्वांचे एकूण दैनिक वेतन 371 रुपये एवढे झाले. प्रत्येक श्रेणीला प्रदान करायचे एकूण दैनिक वेतन काढा.

A.280 रुपये, 71 रुपये, 21 रुपये

B.280 रुपये, 70 रुपये, 21 रुपये

C.281 रुपये, 70 रुपये, 21 रुपये

D.280 रुपये, 70 रुपये, 20 रुपये

Answer:

B.280 रुपये, 70 रुपये, 21 रुपये

Reference ID:(7865)

Choose the correct form of modal auxiliary verb for the given sentence:

I \_\_\_\_\_ travel to any distant place alone.

A.shall

B.need

C.may

D.can

Answer:

D.can

Reference ID:(8102)

1921 मध्ये मोप्ला विद्रोह कुठे झाला?

A.मालाबार

B.अलीपुर

C.जम्मू

D.कोलकाता

Answer:

A.मालाबार

A.अरवली

B.सातपुडा

C.हिमालय

D.विंध्य

Answer:

A.अरवली

Reference ID:(8143)

सरासरी काढा.  
32, 48, 96, 73, 15 & 66

A.44

B.55

C.33

D.22

Answer:

B.55

Reference ID:(7860)

Choose the appropriate articles for the given sentence:

The Mukherjis have \_\_\_\_\_ son and \_\_\_\_\_ daughter. \_\_\_\_\_ son lives with them.

A.the, the, No article

B.a, a, The

C.a, the, A

D.no article, no article, The

Answer:

B.a, a, The

Reference ID:(8139)

रामू दर दिवशी 5 झाडं कापू शक्तो आणि शामु दिवसाला 3 झाडं कापू शक्तो. रामू पहिल्या दिवशी कामाला येतो, श्यामु दुसऱ्या दिवशी कामाला येतो आणि त्यानंतर ते एक दिवसाआड कामावर येतात. जर रामूने काम पूर्ण केले असेल तर त्यांना 125 झाडं कापण्यासाठी किती दिवस लागतील?

A.15 दिवस

B.16 दिवस

C.25 दिवस

Answer: D.31 दिवस

Reference ID:(7891) गटात न बसणारा शब्द ओळखा.  
आटलेला, आटणे, आट्यापाट्या, ओटा

A.आटलेला

B.आटणे

C.आट्यापाट्या

D.ओटा

Answer: A.आटलेला

Reference ID:(8135) अनुक्रमामध्ये पद प्रत्येकवेळी समान प्रमाणात वाढते. -----, 12, -----, -----, 27.  
पहिले पद काढा.

A.7

B.20

C.17

D.5

Answer: A.7

Reference ID:(8125) एक माणूस आणि त्याच्या मुलाच्या वयाची सरासरी 48 वर्षे आहे. त्यांच्या वयांचे गुणोत्तर 31:17 आहे. मुलाचे वय काय आहे?

A.35 वर्षे

B.34 वर्षे

C.36 वर्षे

D.26 वर्षे

Answer: B.34 वर्षे

Reference ID:(8106) 6 वर्षे ते 14 वर्षे वयामधील सर्व लहान मुलांना मोफत आणि अनिवार्य शिक्षण पुरवण्याविषयीच्या भारतीय संविधानाच्या 21-A अनुच्छेदाला काय म्हणून जाणले जाते:

A.मुलभूत कर्तव्य

C.राज्य धोरणाचे निर्देशक तत्व

D.नागरिकत्व

Answer:

B.मुलभूत अधिकार

Reference ID:(8123)

नायलॉनचे कपडे सुती कपड्यांपेक्षा जलद वळतात कारण \_\_\_\_\_.

A.त्यामध्ये पाणी शोषण्याचे प्रमाण जास्त असते

B.त्यामध्ये पाणी शोषण्याचे प्रमाण कमी असते

C.त्यात सच्छिद्र सामग्री असते

D.त्यांची लवचिकता चांगली असते

Answer:

B.त्यामध्ये पाणी शोषण्याचे प्रमाण कमी असते

Reference ID:(8131)

एक टेबल 2000 रुपयांमध्ये खरेदी केला आणि 1800 रुपयांचा त्याची विक्री केली गेली. तोट्याची टक्केवारी काढा.

A.10%

B.5%

C.15%

D.12%

Answer:

A.10%

Reference ID:(7854)

Choose the correct form of adjective for the given sentence:

I don't really like too much of \_\_\_\_\_ food as it makes me feel sick.

A.variety

B.excessive

C.purity

D.rich

Answer:

D.rich

A.21 तास 70 मिनिटे

B.22 तास 15 मिनिटे

C.22 तास 25 मिनिटे

D.22 तास 55 मिनिटे

Answer:

B.22 तास 15 मिनिटे

Reference ID:(8113)

\_\_\_\_\_ द्वारे क्षय रोगाचा (टीबी) जीवाणूचा शोध घेतल्याचा स्मरणोत्सव म्हणून 24 मार्च रोजी जागतिक क्षयरोग दिवस साजरा केला जातो.

A.डॉ. अँटनी वॅन लीयुवेनहोएक

B.डॉ. लुइस पाश्चर

C.डॉ. रॉबर्ट कोच

D.डॉ. एडवर्ड जेन्नर

Answer:

C.डॉ. रॉबर्ट कोच

Reference ID:(8124)

चक्रीवादळाच्या केंद्रभागी असणाऱ्या कमी दाबाच्या क्षेत्राला \_\_\_\_\_ म्हणतात.

A.मध्यबिंदू

B.भूकंपबिंदू

C.त्रुटी

D.डोळा

Answer:

D.डोळा

Reference ID:(7864)

Which of the following options best combines the two given sentences?

You will get good marks. You work hard.

A.You will get good marks working hard.

B.Working hard, you will get good marks.

C.You will get good marks if you work hard.

D.You work hard you get good marks.

Reference ID:(7851) Choose the option that has the correct spelling for the missing word in the given sentence:

Amit is very careful and works hard at all the projects; he is quite\_\_\_\_\_.

A.dillegent

B.dilegent

C.dilligent

D.diligent

Answer: D.diligent

Reference ID:(8101) भारतामध्ये EOY पुरस्काराच्या 20 व्या आवृत्तीमध्ये इवाय एन्ट्रेप्रेन्युअर ऑफ दि इयरसाठी खालीलपैकी कोणाची निवड करण्यात आली?

A.सिध्दार्थ लाल

B.अक्षिम प्रेमजी

C.सिधार्थो गुप्ता

D.नाजीर अहमद

Answer: A.सिध्दार्थ लाल

Reference ID:(7852) Choose the appropriate option with the correct punctuation marks for the given sentence:

help me i'm drowning

A.Help me, I am drowning

B.help me I am drowning

C.Help me! I'm drowning!

D."Help me! I'm drowning!"

Answer: D."Help me! I'm drowning!"

Reference ID:(7889) रिकाम्या जागी योग्य पर्याय निवडा.  
'.....! किती सुंदर आहेत तिचे डोळे!'



B.अहाहा

C.अरेरे

D.छे

Answer:

B.अहाहा

Reference ID:(7890)

रिकाम्या जागी योग्य पर्याय निवडा.  
क्रियापदाचे विशेषण असणाऱ्या शब्दाला ..... अव्यय असे म्हणतात.

A.शब्दयोगी अव्यय

B.उभयान्वयी अव्यय

C.क्रियाविशेषण अव्यय

D.केवलप्रयोगी अव्यय

Answer:

C.क्रियाविशेषण अव्यय

Reference ID:(8117)

महाराष्ट्रामधील कला हा लोक नृत्याचा प्रकार \_\_\_\_\_ देवाचा खेळकरपणा दर्शवतो.

A.कृष्ण

B.शिव

C.राम

D.विष्णू

Answer:

A.कृष्ण

Reference ID:(9692)

$\frac{77}{36} - \frac{44}{27} + \frac{121}{54}$  चे उत्तर काढा

A.11/4

B.11/3

C.9/11

D.7/11

Answer:

A.11/4

A.पद्धत

B.पध्दत

C.पद्दत

D.पध्दत

Answer:

A.पद्धत

Reference ID:(8109)

\_\_\_\_\_ हे एक अँप आहे जे केंद्रीय प्रदूषण नियंत्रण मंडळाद्वारे प्रकाशित राष्ट्रीय हवा गुणवत्ता निर्देशांकावर (एक्यूआय) दर तासाला अद्यतने पुरवते.

A.परमवीर

B.समीर

C.चक्र

D.दिशा

Answer:

B.समीर

Reference ID:(7886)

योग्य पर्यायाची निवड करा.  
आम्ही ----- तेव्हा सिनेमा संपला होता.

A.गेलो

B.गेले

C.गेलात

D.गेली

Answer:

A.गेलो

Reference ID:(7894)

रिकाम्या जागा भरा.  
'परी', 'मात्र', 'पण', 'ठीक' यांपैकी ----- हे उभयान्वयी अव्यय आहे.

A.मात्र

B.ठीक

D.परी

Answer:

D.परी

Reference ID:(7898)

पुढील वाक्प्रचारांच्या योग्य अर्थाचा पर्याय निवडा.  
उखळ पांढरे होणे-

A.आश्चर्यकारक घटना घडणे

B.अचानक संकट ओढवणे

C.हाती काहीच न उरणे

D.अचानक वैभव प्राप्त होणे

Answer:

D.अचानक वैभव प्राप्त होणे

Reference ID:(8118)

भारतीय संविधानाच्या कोणत्या अनुच्छेदामध्ये राष्ट्रपतींच्या विचारार्थ ठेवण्यासाठी विधेयक राखून ठेवण्याच्या राज्यपालाच्या अधिकाराशी संबंधित तरतुद दिली आहे?

A.अनुच्छेद 443

B.अनुच्छेद 345

C.अनुच्छेद 76

D.अनुच्छेद 200

Answer:

D.अनुच्छेद 200

Reference ID:(7871)

Choose the correct form of verb that is in agreement with the subject:

Neither his father nor his mother \_\_\_ alive today.

A.are

B.were

C.is

D.has

Answer:

C.is

Reference ID:(8105)

लक्षद्वीप बेटं ही अरबी समुद्राच्या \_\_\_\_\_ किनारपट्टी लगत स्थित आहेत?

B.महाराष्ट्र

C.केरळ

D.आंध्र प्रदेश

Answer:

C.केरळ

Reference ID:(7881)

‘यथा राजा तथा प्रजा.’ या वाक्यात ‘यथा राजा’ हे पुढीलपैकी कोणत्या प्रकारचे गौणवाक्य आहे?

A.स्थलदर्शक क्रियाविशेषण वाक्य

B.कालदर्शक क्रियाविशेषण वाक्य

C.रितदर्शक क्रियाविशेषण वाक्य

D.संकेतदर्शक क्रियाविशेषण वाक्य

Answer:

C.रितदर्शक क्रियाविशेषण वाक्य

Reference ID:(8144)

एका विशिष्ट भाषेमध्ये, UTENSIL ला WVGPUKN असे संकेतबद्ध केले जाते, तर AMSFXG अशाप्रकारे कोणत्या शब्दाला संकेतबद्ध केले जाईल?

A.BKQDWE

B.BKQDWF

C.BKQEVE

D.COUIZI

Answer:

D.COUIZI

Reference ID:(8114)

राष्ट्रीय जलमार्ग-10 महाराष्ट्रातील \_\_\_\_\_ नदीवर स्थित आहे?

A.साबरमती

B.कृष्णा

C.भीमा

D.अंबा

Answer:

D.अंबा

A.48

B.24

C.64

D.56

Answer:

A.48

Reference ID:(7880)

पुढील शब्दाचे लिंग ओळखा.  
पुस्तक

A.पुल्लिंग

B.स्त्रीलिंग

C.नपुसकलिंग

D.उभयलिंग

Answer:

C.नपुसकलिंग

Reference ID:(7856)

Fill in the blank with the correct noun in the given sentence:

New \_\_\_\_ are generally found whenever our thinking can tackle new ideas without obstacles.

A.discovery

B.invention

C.innovation

D.solutions

Answer:

D.solutions

Reference ID:(7899)

पुढील वाक्यचारांच्या योग्य अर्थाचा पर्याय निवडा.  
हातात काठी येणे-

A.वृद्धत्व येणे

B.भांडणात काठी वापरणे

D.कर्तेपण निभावणे

Answer: A.वृद्धत्व येणे

Reference ID:(8110) समुद्रतटीय आणि दलदलीच्या प्रदेशातील वने ही महाराष्ट्राच्या सिंधुदुर्ग आणि \_\_\_\_\_ जिल्हांच्या खाड्या आणि किनारपट्ट्यांलगत आढळतात.

A.नाशिक

B.ठाणे

C.सातारा

D.पुणे

Answer: B.ठाणे

Reference ID:(7650) Choose the option that has the correct spelling.

A.Frastration

B.Frustration

C.Frestration

D.Fustration

Answer: B.Frustration

Reference ID:(8146) एका महिन्यात मंजुलाने 3 पुस्तकं प्रत्येकी 675 रुपयांना तसेच 7 स्टेशनरीचे संच प्रत्येकी 130 रुपयांना विकत घेतले. तिने ती पुस्तकं प्रत्येकी 750 रुपयांना आणि स्टेशनरीचे संच प्रत्येकी 160 रुपयांना विकले. तर तिने किती नफा कमावला?

A.215 रुपये

B.360 रुपये

C.435 रुपये

D.500 रुपये

Answer: C.435 रुपये

A.आम्ही

B.हा प्रश्न

C.विचारार्थ

D.मांडला

Answer:

B.हा प्रश्न

Reference ID:(8107)

मार्च 2018 मध्ये महाराष्ट्राचे भ्रष्टाचारविरोधी ब्युरोचे महासंचालक म्हणून कोणाची नियुक्ती करण्यात आली?

A.परम बीर सिंह

B.एम. चंद्रशेखर

C.जे. पूर्णचंद्र राव

D.डॉ. अलोक त्रिपाठी

Answer:

A.परम बीर सिंह

Reference ID:(8116)

खालीलपैकी कोणाला कुसुमाग्रज राष्ट्रीय साहित्य पुरस्काराने सन्मानित करण्यात आले?

A.वेद राही

B.हेमंत राव

C.जया जेना

D.गौरी वेमुला

Answer:

A.वेद राही

Reference ID:(7877)

खालील शब्दगटातून विरुद्धार्थी नसलेली जोडी ओळखा.

A.भरती - ओहोटी

B.उगवती - मावळती

C.उदय - अस्त

D.अतिवृष्टी - सुवृष्टी

Answer:

D.अतिवृष्टी - सुवृष्टी

Reference ID:(7876) दिलेल्या शब्दगटातून विरुद्धार्थी शब्द ओळखा.  
पदार्थ – रुचकर X -----

A.गार

B.गरम

C.तिखट

D.बेचव

Answer: D.बेचव

Reference ID:(7859) Choose the option with the appropriate suffix to complete the given sentence:

After trying for a long time his persist\_\_\_\_\_ paid off and he finally got a job.

A.-ence

B.-ing

C.-ance

D.-ant

Answer: A.-ence

Reference ID:(8111) ब्लेड्स ऑफ ग्लोरी" हे सर्वात मोठे क्रिकेटचे स्मारक महाराष्ट्रामधील कोणत्या शहरामध्ये स्थित आहे?

A.नागपूर

B.मुंबई

C.पुणे

D.नाशिक

Answer: C.पुणे

Reference ID:(8147) 5009 ह्या संख्येतील अंक वापरून 4 अंकी असलेल्या वेगवेगळ्या किती संख्या मिळवता येतील?

A.3

B.6



D.18

Answer:

B.6

Reference ID:(8129)

एक विक्रेता 20 क्लिप्सची एक रुपयाला विक्री करतो त्याद्वारे त्याला 60% नफा होतो. त्याने एका रुपयाला किती क्लिप्स खरेदी केल्या असतील?

A.30

B.32

C.34

D.36

Answer:

B.32

Reference ID:(9691)

कोणती आकृती पहिल्या जोडीप्रमाणेच दुसरी जोडी पूर्ण करेल?



Answer:



Reference ID:(8137)

B चा वेग हा A च्या वेगापेक्षा जास्त आहे. A आणि B चा एकूण वेग 7 किमी/तास आहे, तथा A द्वारे 4 तास आणि B द्वारे 3 तासांमध्ये कापलेले एकूण अंतर 24 किमी आहे. A आणि B चा वेग काय आहे?

A.A=4 किमी/तास, B=3 किमी/तास

B.A=5 किमी/तास, B=2 किमी/तास

C.A=2 किमी/तास, B=5 किमी/तास

D.A=3 किमी/तास, B=4 किमी/तास

Answer:

D.A=3 किमी/तास, B=4 किमी/तास

Reference ID:(8104)

स्वच्छ सर्वेक्षण 2019 पुरस्कारामध्ये, देशामधील 'सर्वात स्वच्छ राजधानी' म्हणून \_\_\_\_\_ ला पुरस्कृत करण्यात आले.

A.पणजी

B.गांधीनगर

C.भोपाळ

D.इंफाळ

Answer:

C.भोपाळ

Reference ID:(8134)

जर 7, 6, 12, x आणि 9 चा गणितीय मध्य 10 आहे, तर x चे मूल्य \_\_\_\_\_ आहे.

A.10

B.12

C.16

D.14

Answer:

C.16

Reference ID:(8138)

जर 9 कामगार एक भिंतीचे बांधकाम 28 तासांमध्ये करू शकतात, तर तेच काम 21 तासांमध्ये करण्यासाठी किती कामगारांची आवश्यकता असेल?

A.12

B.15

C.18

D.24

Reference ID:(7867)

Choose the appropriate prepositional phrase for the given sentence:

One has to \_\_\_\_\_ adversities in life.

A.put on

B.swim along

C.go on with

D.put up with

Answer:

D.put up with

Reference ID:(7870)

Choose the most appropriate usage to fill in the blank in the given sentence.

That pathway is \_\_\_\_\_; I nearly fell down.

A.slippage

B.slippery

C.slipping

D.slipped

Answer:

B.slippery

Reference ID:(7896)

विभक्तीचे एकूण किती प्रकार आहेत?

A.१०

B.९

C.८

D.६

Answer:

C.८

Reference ID:(8132)

एका पेटीमध्ये एक डझन आंबे आहेत, त्यांच्यापैकी एक तृतीयांश आंबे खराब झाले. जर यादृच्छिकपणे पेटीमधून 3 आंबे काढले, तर निवडलेल्या तीन आंब्यांमधील किमान एक आंबा चांगला असल्याची संभाव्यता काय आहे?

A.53/55

B.54/55

C.3/55

D.2/55

Answer:

B.54/55

Reference ID:(7887)

अधोरेखित क्रियापदांचा योग्य प्रकार ओळखा.  
त्याचे कर्कशशय बोलणे ऐकवत नव्हते.

A.शक्य

B.साधित

C.संयुक्त

D.सहायक

Answer:

A.शक्य

Reference ID:(7873)

Choose the correct form of tense for the given sentence:

When the Queen \_\_\_\_\_ she \_\_\_\_\_ she wanted to rest.

A.had finished eating, declared

B.have finished eating, declares

C.have finished eating, declared

D.has finished eaten, declares

Answer:

A.had finished eating, declared

Reference ID:(8145)

रिकाम्या जागी योग्य संख्या निवडून श्रृंखला पूर्ण करा:

3, 9, 27, \_\_\_\_\_, 243

A.81

B.72

C.90

Answer: A.81

Reference ID:(7863) Choose the most suitable determiner for the given sentence:

The children were bored because there was \_\_\_\_\_ to do.

A.each

B.little

C.any

D.some

Answer: B.little

Reference ID:(7878) जोडशब्द नसलेला शब्द ओळखा.

A.दाणागोटा

B.दूधदुभते

C.अभिनंदन

D.दगडधोंडा

Answer: C.अभिनंदन

Reference ID:(8115) उप राष्ट्रपती वैकैया नायडू हे \_\_\_\_\_ येथे स्थित असलेल्या युएन पीस युनिवर्सिटीकडून सन्मानात्मक विद्यावाचस्पती (डॉक्टरेट) मिळवणारे पहिले भारतीय बनले आहेत.

A.कोस्ता रिका

B.पनामा

C.कोलंबिया

D.ग्वाटेमाला

Answer: A.कोस्ता रिका

Reference ID:(7893) 'वाघ' या शब्दाचे अनेकवचन ओळखा.

A.वाघरं

C.वाघे

D.वाघा

Answer:

B.वाघ

Reference ID:(7869)

Choose the appropriate conjunction for the following sentence:

I had \_\_\_\_\_reached home \_\_\_\_\_it started raining heavily.

A.hardly, then

B.scarcely, since

C.no sooner, when

D.scarcely, when

Answer:

D.scarcely, when

Reference ID:(7857)

Choose the appropriate collective noun to complete the sentence:

\_\_\_\_\_ was seen lying in front of the municipal's office.

A.A heap of trash

B.A litter of rubbish

C.A pile of garbage

D.A swarm of litter

Answer:

A.A heap of trash

Reference ID:(7868)

Choose the most suitable conjunction for the given sentence:

The belief in life after death is prevalent in both primitive societies \_\_\_\_\_ advanced cultures.

A.and

B.besides

C.but

D.as well as

Answer:

A.and

Reference ID:(7879) जोडशब्द नसलेला शब्द निवडा.

A.क्रियाकर्म

B.खाचखळगे

C.कानाकोपरा

D.कूरकर्मा

Answer: D.कूरकर्मा

Reference ID:(8122) सुरासेनाच्या महाजनपदाची राजधानी खालीलपैकी कोणती होती?

A.मथुरा

B.काशी

C.विजयनगर

D.जुनागड

Answer: A.मथुरा

Reference ID:(7853) Choose the appropriate option with the correct punctuation marks for the given sentence:

the sun was already low in the sky it would soon be dark

A.The sun was already low in the sky it would soon be dark.

B.The Sun was already low in the sky it would soon be dark?

C.The Sun was already low in the sky; it would soon be dark.

D.The sun was already low in the sky: it would soon be dark.

Answer: C.The Sun was already low in the sky; it would soon be dark.

Reference ID:(7883) पुढील वाक्य वाचून योग्य वाक्य ओळखा.

A.गोठ्यात गाय बांधली.

B.गोठ्यात गाय बांधल्या.

C.गोठ्यात गाय बांधलो.

D.गोठ्यात गाय बांधले.

Reference ID:(7858)

Choose the option with the appropriate suffix to complete the given sentence:

I am confi\_\_\_\_\_ that Ravi will achieve his goal.

A.-dant

B.-dence

C.-dent

D.-dently

Answer:

C.-dent

Reference ID:(7855)

Choose the correct form of adjective for the given sentence:

The accused was given a short sentence as he had committed only a \_\_\_\_\_ offence.

A.mild

B.minimal

C.secondary

D.minor

Answer:

D.minor

Reference ID:(7862)

Choose the correct form of verb for the given sentence:

The climate \_\_\_\_\_ generally temperate and winters tend to be chilly.

A.is

B.are

C.were

D.are being

Answer:

A.is



A.विध्यर्ष

B.आज्ञार्थ

C.स्वार्थ

D.संकेतार्थ

Answer:

D.संकेतार्थ

Reference ID:(7888)

क्रियापदानुसार कर्त्याच्या योग्य रूपाची निवड करा.  
..... क्रीडांगणावर खेळतात.

A.सचिन

B.मित्र

C.सुहास

D.मुलगी

Answer:

B.मित्र

Reference ID:(8140)

एका पाकिटामध्ये 14 डबे आहेत. एका डब्यामध्ये 8 कॅप्स्यूल्स आहेत. जर एकूण 23520 कॅप्स्यूल्स असतील, तर डब्यामध्ये कॅप्स्यूल्सचे पॅकिंग करण्यासाठी किती पॅकेट्सची आवश्यकता असेल?

A.210

B.201

C.110

D.2440

Answer:

A.210

Reference ID:(8130)

राजू एका निश्चित किमतीवर 10 भेटींचे डबे खरेदी करतो आणि त्यांपैकी 8 त्याच किमतीवर विकतो. त्याला किती टक्के नफा किंवा तोटा होईल?

A.20 % तोटा

B.20 % नफा

C.25 % तोटा

D.25 % नफा

Reference ID:(7875)

दिलेल्या शब्दगटातून योग्य समानार्थी शब्द निवडा.  
अंमल

A.उन्मत

B.उन्माद

C.उन्नत

D.उद्धट

Answer:

B.उन्माद

Reference ID:(7892)

पुढील नामाला अयोग्य विशेषणाचा पर्याय निवडा.  
थंडी

A.लाडका

B.बोचरी

C.गुलाबी

D.खूप

Answer:

A.लाडका

Reference ID:(7895)

दोन शब्द जोडताना कोणते विरामचिन्ह वापरतात?

A.उद्गारचिन्ह

B.प्रश्नचिन्ह

C.संयोगचिन्ह

D.गोलकंस

Answer:

C.संयोगचिन्ह

Reference ID:(8119)

महाराष्ट्रामधील दुसरे मेगा फुड पार्क हे औरंगाबाद जिल्ह्याच्या \_\_\_\_\_ तालुक्यामध्ये आहे.

A.कन्नाड

B.पैठण

C.खुल्दाबाद

Answer:

B.पैठण

Reference ID:(8142)

एक विद्यार्थी सकाळी 9.40 वाजता त्याच्या शाळेत जातो आणि संध्याकाळी 4.15 वाजता घरी परत येतो. जर जाण्या येण्यामध्ये अर्धातास खर्च होत असेल तर त्याने शाळेमध्ये घालवलेला वेळ निश्चित करा.

A.6 तास, 5 मिनिटे

B.5 तास, 4 मिनिटे

C.6 तास

D.5 तास

Answer:

A.6 तास, 5 मिनिटे

Reference ID:(8103)

महाराष्ट्र राज्याच्यामध्ये ताडोबा अंधारी व्याघ्र प्रकल्प कुठे स्थित आहे?

A.चंद्रपूर

B.नागपूर

C.औरंगाबाद

D.पुणे

Answer:

A.चंद्रपूर

Reference ID:(8120)

2019 मध्ये 23 व्या आशियाई अॅथलेटिक्स चॅम्पियनशिप-2019 मध्ये हेष्टाथलॉन कार्यक्रमांमध्ये खालीलपैकी कोणी रजत पदक जिंकले?

A.गोमती मरीमुथु

B.अन्नू राणी

C.स्वप्ना बर्मन

D.पारुल चौधरी

Answer:

C.स्वप्ना बर्मन

A.14 वर्षे

B.30 वर्षे

C.15 वर्षे

D.18 वर्षे

Answer:

A.14 वर्षे

A.2 ऑक्टोबर

B.15 जून

C.15 ऑगस्ट

D.26 जानेवारी

Answer:

B.15 जून

Choose the option that best expresses the meaning of the highlighted idiom/phrase:

Harold was always so full of himself and his wonderful ways that he **gave a cold shoulder** to every member of his team.

A.Giving full attention

B.Always helpful towards everyone

C.To be friendly

D.Ignore people

Answer:

D.Ignore people

Choose the appropriate articles to complete the given sentence:

\_\_\_\_\_ boy in the blue shirt has kicked \_\_\_\_\_ ball out of \_\_\_\_\_ football field.

A.A, a, an

B.A, an, a

C.A, the, an

---

Answer:

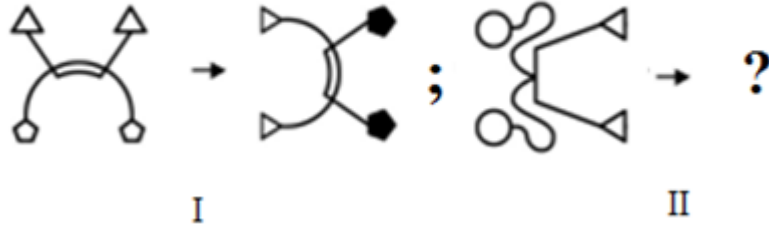
D.The, the, the

---

Date of Exam : 10-07-2019 10:00 AM

Reference ID:(9693)

कोणती आकृती पहिल्या जोडीप्रमाणे दुसरी जोडी पूर्ण करते?



Sabka ek bhaijaan

Sabka ek bhaijaan

Sabka ek bhaijaan



Answer:



Reference ID:(8402)

Choose the correct form of adjective for the given sentence:

That spoilt brat is \_\_\_\_\_.

A.unbearable

B.bearably

C.unabatedly

D.beatable

Answer:

A.unbearable

A.हिरवेगार

B.विरळ

C.निबीड

D.सरळ

Answer:

B.विरळ

Reference ID:(8403)

Choose the correct form of adjective for the given sentence:

Arjun is \_\_\_\_\_ both Tom and Alen.

A.fatter than

B.more fat

C.fattest

D.as fat

Answer:

A.fatter than

Reference ID:(8672)

वन्यजीवन संरक्षण कायदा \_\_\_\_\_ वर्षी अंमलात आला.

A.1962

B.1974

C.1972

D.1968

Answer:

C.1972

Reference ID:(8419)

Choose the correct form of verb that is in agreement with the subject:

It \_\_\_\_\_ rather very difficult to obtain pure milk and ghee these days.

A.is

B.was

C.has

D.had

Reference ID:(8432)

खालील वाक्यातील विधेय ओळखा.  
उभे आयुष्य परीक्षा देण्यात व्यर्थ गेले.

A.आयुष्य

B.देण्यात

C.परीक्षा

D.व्यर्थ गेले

Answer:

D.व्यर्थ गेले

Reference ID:(8426)

जोडशब्द नसलेला शब्द ओळखा.

A.धागादोरा

B.धरपकड

C.धनधान्य

D.संध्याकाळ

Answer:

D.संध्याकाळ

Reference ID:(8406)

Choose the option with the appropriate suffix to complete the given sentence:

Mr. Anantharaman succumbed to a cardi\_\_\_ problem.

A.-al

B.-ac

C.-nal

D.-gan

Answer:

B.-ac

Reference ID:(8680)

52 कार्डे असलेल्या पॅकमधून एकाचवेळी दोन कार्डे काढण्यात आली. एक हुकुम आणि एक बदाम असण्याची संभाव्यता काय आहे?

A.13/102

B.102/13



D.102/15

Answer:

A.13/102

Reference ID:(8686)

7 मीटरच्या एका विशिष्ट कापडाची किंमत 350 रुपये आहे. 2 मीटर कपडाची किंमत काढा.

A.112 रुपये

B.100 रुपये

C.96 रुपये

D.75 रुपये

Answer:

B.100 रुपये

Reference ID:(8653)

आरोग्य आणि कुटुंब कल्याण मंत्रालयाकडून जारी केलेल्या सल्ल्यानुसार खालीलपैकी कोणत्या भारतीय राज्याने इलेक्ट्रॉनिक निकोटीन डिलिव्हरी सिस्टीम (इएनडीएस) वर बंदी लावली आहे?

A.मध्य प्रदेश

B.आंध्र प्रदेश

C.महाराष्ट्र

D.मेघालय

Answer:

C.महाराष्ट्र

Reference ID:(8401)

Choose the appropriate option with the correct punctuation marks for the given sentence:

mom said i have not had my lunch yet

A.Mom said I have not had my lunch yet

B.Mom said, "I haven't had my lunch yet."

C.Mom said I had not had my lunch yet.

D.Mom said I won't have my lunch yet.

Answer:

B.Mom said, "I haven't had my lunch yet."

एका स्कूटरची आणि दूरचित्रवाणीची किंमत अनुक्रमे 8:7 गुणोत्तरामध्ये आहे. जर स्कूटरची किंमत दूरचित्रवाणीच्या किंमतीपेक्षा 2000 रुपयांनी जास्त असेल, तर दूरचित्रवाणीची किंमत काढा.

A.14,000 रुपये

B.28,000 रुपये

C.10,000 रुपये

D.18,000 रुपये

Answer: A.14,000 रुपये

Reference ID:(8431) पुढील वाक्य वाचून योग्य वाक्य ओळखा.

A.कष्ट करणारी मुले आयुष्यात प्रगती करते.

B.कष्ट करणारी मुले आयुष्यात प्रगती करतात.

C.कष्ट करणारी मुले आयुष्यात प्रगती करतो.

D.कष्ट करणारी मुले आयुष्यात प्रगती करती.

Answer: B.कष्ट करणारी मुले आयुष्यात प्रगती करतात.

Reference ID:(8673) 16 व्यक्तींच्या गटाचे सरासरी वय 28 वर्षे आणि 3 महिने आहे. प्रत्येकी 58 वर्षे वय असलेल्या दोन व्यक्ती गटामधून निघून गेल्या. तर राहिलेल्या व्यक्तींच्या वयाची सरासरी आहे:

A.25

B.23

C.24

D.27

Answer: C.24

Reference ID:(8689) PALE ला =?@£ असे संकेतबद्ध केले जाते आणि LEMON ला ©£&\$# असे संकेतबद्ध केले जाते. 'LAMPOON' ला कसे संकेतबद्ध केले जाईल?

A.©?&=\$\$#

B.£€©=#∞μ

C.£¥£\*=@©

D.∞©μ£#\*#

Reference ID:(8664) नवीन निर्मित दक्षिण किनारपट्टीय रेल्वे झोन चे मुख्यालय \_\_\_\_\_ येथे आहे.

A.हैद्राबाद

B.सिकंदराबाद

C.विशाखापट्टनम

D.विजयवाडा

Answer:

C.विशाखापट्टनम

Reference ID:(8657) 2019 मध्ये, महाराष्ट्राचे मुख्यमंत्री देवेंद्र फडणवीस यांनी कशासाठीच्या राज्याच्या नवीन 5 वर्ष धोरणाचे अनावरण केले?

A.शिक्षण

B.उद्योग

C.अर्थव्यवस्था

D.निवृत्तीवेतन

Answer:

B.उद्योग

Reference ID:(8446) पुढील वाक्प्रचारांच्या योग्य अर्थाचा पर्याय निवडा.  
उखाळ्या पाखाळ्या काढणे-

A.उखाणे घेणे

B.एकमेकांची चेष्टामस्करी करणे

C.एकमेकांचे दोष काढणे

D.टिवल्याबावल्या करणे

Answer:

C.एकमेकांचे दोष काढणे

Reference ID:(8652) नवेगांव-नागझिरा व्याघ्र प्रकल्पाला (एनएनटीआर) 12 डिसेंबर 2013 रोजी भारताचा \_\_\_\_\_ वा व्याघ्र प्रकल्प म्हणून सूचित करण्यात आले.

A.50 वा

B.46 वा

D.15 वा

Answer:

B.46 वा

Reference ID:(8440)

पुढील नामाला अयोग्य विशेषणाचा पर्याय निवडा.  
रोप

A.गुलाबाचे

B.इवलेसे

C.अर्धे

D.लाडके

Answer:

C.अर्धे

Reference ID:(8684)

जर एका वर्गामध्ये 50 विद्यार्थ्यांचे प्रतिनिधित्व एक सफरचंद वापरले जाते, तर 225 विद्यार्थ्यांचे प्रतिनिधित्व करण्यासाठी किती सफरचंदांची आवश्यकता असेल?

A.4

B.4.25

C.4.5

D.4.75

Answer:

C.4.5

Reference ID:(8659)

भारतीय संविधानामधील "स्वातंत्र्य, समानता आणि बंधुत्वाची तत्त्वे" ही खालीलपैकी कोणत्या संविधानामधून स्वीकारलेली आहेत?

A.आयरीश

B.जर्मनी

C.युनायटेड किंगडम

D.फ्रेंच

Answer:

D.फ्रेंच

A.हिकत

B.कला

C.सैला

D.ग्रीडा

Answer:

B.कला

Reference ID:(8662)

जागतिक क्षयरोग दिवस-2019 रोजी, भारताने 2025 पर्यंत क्षयरोग समाप्त करण्यासाठी आपल्या वचनबद्धता आणि उद्दीष्टे नवीनीकृत केली आहेत, जी जागतिक लक्ष्यापेक्षा \_\_\_\_\_ वर्षे पुढे आहेत.

A.दहा

B.पाच

C.दोन

D.वीस

Answer:

B.पाच

Reference ID:(8691)

$3x^7 - 27x^5 + 5x^3 - 45x + 7$  ला जर  $x+3$  ने भाग दिला तर बाकी उरेल \_\_\_\_\_.

A.0

B.7

C.9

D.11

Answer:

B.7

Reference ID:(8685)

एका शाळेमध्ये, 60% मुलं स्पोर्ट्स क्लबमध्ये, 25% मुलं आर्ट्स क्लबमध्ये आणि उर्वरित मुलं म्युजिक क्लबमध्ये आहेत. जर म्युजिक क्लबमध्ये 75 मुलं असतील तर आर्ट्स क्लबमध्ये असलेल्या मुलांची संख्या काय असेल?

A.500

B.125

C.250

D.200

Reference ID:(8430)

पुढील वाक्याचा प्रकार ओळखा.  
तिच्यामध्ये काही गुण असल्याने ती या पदाला पोहोचली.

A.प्रश्नार्थी

B.मिश्र वाक्य

C.संयुक्त वाक्य

D.केवल वाक्य

Answer:

D.केवल वाक्य

Reference ID:(8660)

महाराष्ट्राच्या हिंदूंद्वारे खालीलपैकी कोणत्या दोन पारंपारिक देवतांची प्राथमिकतः पूजा केली जाते?

A.देव गणेश आणि देव विष्णू

B.देव विष्णू आणि देव विठ्ठल

C.देव गणेश आणि देव कृष्ण

D.देव गणेश आणि देव विठ्ठल

Answer:

D.देव गणेश आणि देव विठ्ठल

Reference ID:(8438)

रिकाम्या जागी योग्य पर्याय निवडा.  
क्रियापदाबद्दल अधिक माहिती सांगणाऱ्या अविकारी शब्दांना ..... म्हणतात.

A.सर्वनाम

B.विशेषण

C.शब्दयोगी अव्यये

D.क्रियाविशेषण अव्यये

Answer:

D.क्रियाविशेषण अव्यये

Reference ID:(8435)

अधोरेखित क्रियापदाचा योग्य प्रकार ओळखा.  
तू एकच एक गोष्ट धरून बसू नकोस.

A.शक्य

B.सहायक

D.प्रयोजक

Answer:

C.साधित

Reference ID:(8428)

पुढील शब्दाचे लिंग ओळखा.  
फळी

A.पुल्लिंग

B.स्त्रीलिंग

C.नपुसकलिंग

D.उभयलिंग

Answer:

B.स्त्रीलिंग

Reference ID:(8448)

भारतीय सार्वत्रिक निवडणूका 2019 च्या पहिल्या टप्प्यामधील मदतान \_\_\_\_\_ रोजी सुरू झाले.

A.09 एप्रिल

B.11 एप्रिल

C.13 एप्रिल

D.18 एप्रिल

Answer:

B.11 एप्रिल

Reference ID:(8688)

जर एका समांतर श्रेढीच्या 7<sup>व्या</sup> पदाचे सात पट 11<sup>व्या</sup> पदाच्या अकरा पट आहे, तर 18<sup>वे</sup> पद \_\_\_\_\_ आहे.

A.5

B.-1

C.0

D.4

Answer:

C.0

Reference ID:(8443)

पुढील पुढील वाक्यातील विरामचिन्ह ओळखा.  
जग हे बंदिशाळा | कुणी न येथे भला चांगला जो तो पथ चुकलेला |

B. गोलकंस

C. विकल्पचिन्ह

D. एकेरीदंड

Answer:

D. एकेरीदंड

Reference ID:(8663)

\_\_\_\_\_ जिल्हा सागरमाला परियोजनेच्या अंतर्गत नियोजित उत्तर कोकण कोस्टल इकॉनॉमिक झोन (सीइझेड) च्या अंतर्गत येतो.

A. सिंधुदुर्ग

B. अहमदनगर

C. मुंबई

D. रत्नागिरी

Answer:

C. मुंबई

Reference ID:(8683)

एक भार असलेला ट्रक 25 मिनिटांमध्ये 16 किमी प्रवास करतो. गंतव्यावर भार उतरवल्यानंतर, तो आरंभ स्थानी 4 किमी/तासांच्या वाढलेल्या वेगाने प्रवास करतो. परत येण्यासाठी किती वेळ लागेल:

A. 23.8 मिनिटे

B. 22.6 मिनिटे

C. 22.2 मिनिटे

D. 23.4 मिनिटे

Answer:

B. 22.6 मिनिटे

Reference ID:(8409)

Choose the appropriate articles to complete the given sentence:

After \_\_\_ long day in \_\_\_ office, \_\_\_ hot cup of tea tastes particularly good.

A. an, the, the

B. an, the, a

C. a, an, the

D. a, the, a

Answer:

D. a, the, a



Reference ID:(8429)

पुढील वाक्यातील गौणवाक्य ओळखा.  
जेव्हा शेतकरी शेतात नांगरणी करत होता, तेव्हा शेतात नाग आला.

- A.जेव्हा शेतकरी शेतात नांगरणी करत होता.  
B.दोन्ही वाक्ये गौण आहेत  
C.यांपैकी कोणतेही नाही.  
D.तेव्हा शेतात नाग आला.

Answer:

A.जेव्हा शेतकरी शेतात नांगरणी करत होता.

Reference ID:(8423)

दिलेल्या शब्दगटातून योग्य समानार्थी शब्द निवडा.  
आनंद

- A.कुमुद  
B.मोदक  
C.मोद  
D.मोदकर

Answer:

C.मोद

Reference ID:(8665)

राष्ट्रपती भवन, नवी दिल्ली येथील डिफेन्स इन्व्हेस्टीचर सोहळ्यामध्ये राष्ट्रपती राम नाथ कोविंद यांच्याद्वारे उत्तम युद्ध सेवा पदकाने कोणाला पुरस्कृत करण्यात आले?

- A.लेफ्टनंट जनरल सरणजीत सिंह  
B.सेना अध्यक्ष जनरल बिपिन रावत  
C.लेफ्टनंट जनरल मनप्रीत सिंह  
D.लेफ्टनंट जनरल जोगराज सिंह

Answer:

A.लेफ्टनंट जनरल सरणजीत सिंह

Reference ID:(8414)

Choose the appropriate prepositions for the given sentence:

Every minute, three billion cells \_\_\_\_\_ a little girl's body is being replaced  
\_\_\_\_\_ new ones.

- A.in ... by  
B.from ... with

D.in ... for

Answer:

A.in ... by

Reference ID:(8669)

स्टेडव्हीव कॅपिटलकडून गुंतवणूकीसह खालीलपैकी कोण भारताचे पहिले गेमिंग युनिकॉर्न किंवा बिलियन-डॉलर स्टार्टअप बनले?

A.मल्टीपल्स अल्टरनेट असेट मॅनेजमेंट

B.कलारी कॅपिटल

C.मुंबईमधील ड्रीम 11

D.थिंक इन्व्हेस्टमेंट

Answer:

C.मुंबईमधील ड्रीम 11

Reference ID:(8425)

रिकाम्या जागी योग्य विरुद्धार्थी पर्याय निवडा.  
त्याला अकारण कोणाची ----- करायला आवडत नाही आणि निंदा पण करायला आवडत नाही.

A.स्तुती

B.कागाळी

C.सेवा

D.खोडी

Answer:

A.स्तुती

Reference ID:(8449)

2019 लोकसभा निवडणूकीसाठी महाराष्ट्र राज्यातील मतदानाचा चौथा टप्पा कधी आयोजित केला होता?

A.11 एप्रिल

B.18 एप्रिल

C.23 एप्रिल

D.29 एप्रिल

Answer:

D.29 एप्रिल

An \_\_\_\_\_ is a skill gained by study or practice than through normal talent.

A.acquisition

B.acquirement

C.engagement

D.inspiration

Answer:

B.acquirement

Reference ID:(8681)

एक फासा फेकला जातो. मिळालेली संख्या 5 हून जास्त नसण्याची संभाव्यता काय आहे?

A.5/6

B.6/5

C.5/7

D.7/5

Answer:

A.5/6

Reference ID:(8444)

विभक्तीचे रूप तयार करण्यासाठी नामाला जी अक्षरे जोडली जातात त्यांना काय म्हणतात?

A.प्रत्यय

B.जाती

C.सामान्यरूप

D.विशेषण

Answer:

A.प्रत्यय

Reference ID:(8678)

50 विद्यार्थ्यांच्या एका वर्गामध्ये, 36% मुलं आहेत. वर्गामधील मुलींची संख्या काढा.

A.18

B.26

C.28

D.32

Answer:

D.32

Reference ID:(8690) एका पिशवीत 4 लाल, 5 काळे आणि 6 पांढरे चेंडू आहेत. त्या पिशवीतून एक चेंडू बाहेर काढला तर तो काळा असण्याची शक्यता किती असेल?

A.1/3

B.4/15

C.2/5

D.2/15

Answer: A.1/3

Reference ID:(8677) एक व्यक्ती प्रत्येकी 1200 रुपयांप्रमाणे टेबलांची आणि प्रत्येकी 300 रुपयांप्रमाणे खुर्च्यांची खरेदी करण्यासाठी 7800 रुपये खर्च करतो. जेव्हा कमाल संख्येने टेबलांची खरेदी केली गेली असेल तर खुर्च्यांचे टेबलांशी असलेले गुणोत्तर काढा:

A.1:2

B.1:3

C.1:4

D.2:1

Answer: B.1:3

Reference ID:(8427) जोडशब्द नसलेला शब्द निवडा.

A.फंदफितुरी

B.फुटफाटा

C.लाकूडफाटा

D.थांगपत्ता

Answer: B.फुटफाटा

Reference ID:(8675) खालील माहिती काळजीपूर्वक वाचा आणि खाली दिलेल्या प्रश्नाचे उत्तर सांगा.

M,N,P,Q,R,S आणि T हे सात व्यक्ती केंद्र स्थानी तोंड करून वर्तुळाभोवती बसले आहेत. P हा S च्या डावीकडून दुसरा आहे आणि M च्याउजवीकडून तिसरा आहे. T हा S च्या डावीकडून तिसरा आहे. Q हा S च्या अगदी शेजारी बसलेला नाही. N हा M च्या अगदी शेजारी बसलेला नाही. N च्या उजवीकडून तिसरा कोण आहे?

B.S

C.T

D.P

Answer:

A.M

Reference ID:(8695)

निवडणूकीमध्ये दिलेल्या एकूण मतांपैकी 25% मत मिळालेल्या उमेदवाराला त्याच्या विरोधकाने 270 मतांनी पराभूत केले. निवडणूकीमध्ये फक्त दोन उमेदवार आहेत असे गृहित धरून, दिलेल्या एकूण मतांची संख्या काय होती?

A.400

B.500

C.440

D.540

Answer:

D.540

Reference ID:(8668)

मूलभूत अधिकारावरील वर्मा समिती \_\_\_\_\_ वर्षामध्ये नियुक्त करण्यात आली होती.

A.1999

B.1956

C.1960

D.1975

Answer:

A.1999

Reference ID:(8654)

भारती संविधानाचा यांच्याद्वारे स्वीकार केला गेला:

A.संविधान सभा

B.ब्रिटीश संसद

C.गव्हर्नर जनरल (राज्यपाल)

D.भारतीय संसद

Answer:

A.सबब

Reference ID:(8442)

रिकाम्या जागा भरा.  
'सबब', 'बदल', 'बाहेर', 'नजीक' यांपैकी ----- हे उभयान्वयी अव्यय आहे.

A.सबब

B.बाहेर

C.बदल

D.नजीक

Answer:

A.सबब

Reference ID:(8445)

पुढीलपैकी कोणता शब्द योग्य रीतीने लिहिला आहे?

A.हृदय

B.ऋदय

C.रिदय

D.रुदय

Answer:

A.हृदय

Reference ID:(8408)

Choose the appropriate articles for the given sentence:

Mrs. Savitha is \_\_\_\_ journalist and she writes \_\_\_\_ articles about \_\_\_\_ social issues.

A.the, no article, the

B.a, no article, no article

C.a, the, the

D.the, the, no article

Answer:

B.a, no article, no article

Reference ID:(8670)

पूर्वीच्या सलार जंगच्या ख्यातनाम नवाब कुटुंबाच्या नावावर असलेले सलार जंग स्मारक कुठे स्थित आहे?

A.हैदराबाद

C.अलाहाबाद

D.दिल्ली

Answer:

A.हैदराबाद

Reference ID:(8671)

पॅराशूटसाठी नायलॉनचा वापर केला जातो, कारण \_\_\_\_\_.

A.ते पर्यावरण पूरक आहे

B.ते सहज आग धरत नाही

C.ते हलके आणि मजबूत आहे

D.ते उष्णतेचे दुर्वाहक आहे

Answer:

C.ते हलके आणि मजबूत आहे

Reference ID:(8658)

शालेय मुलांसाठी 2019 वर्षामध्ये इस्रोद्वारे सुरू केलेल्या विशेष कार्यक्रमाला "युवा वैज्ञानिक कार्यक्रम" किंवा \_\_\_\_\_ म्हटले जाते.

A.युवेश

B.युक्ता

C.युविका

D.युर्शा

Answer:

C.युविका

Reference ID:(8667)

अलिबाग समुद्र किनारा हा महाराष्ट्राच्या खालीलपैकी कोणत्या जिल्ह्यामध्ये स्थित आहे?

A.ठाणे

B.रायगड

C.सिंधुदुर्ग

D.रत्नागिरी

Answer:

B.रायगड

Reference ID:(8433)

'इमारतीच्या डाव्या बाजूला वाहने लावावीत' यातील आख्यात ओळखा.

B.प्रथम ताख्यात

C.वाख्यात

D.ई- आख्यात

Answer:

C.वाख्यात

Reference ID:(8682)

जर एक नाव 6.5 किमी प्रति तासाच्या वेगाने जाऊ शकते, तर ती 3 तासांमध्ये किती लांब प्रवास करेल?

A.16.5 किमी

B.19.5 किमी

C.18.5 किमी

D.18 किमी

Answer:

B.19.5 किमी

Reference ID:(8694)

रु. 2 किंमत असलेली वस्तू जर 50 पैसे तोट्याने विकली तर तोट्याची टक्केवारी काय असेल?

A.25 %

B.24 %

C.20 %

D.23 %

Answer:

A.25 %

Reference ID:(8149)

Choose the option that has the correct spelling for the missing word in the given sentence:

The man used \_\_\_\_\_ to get the stain out.

A.bleech

B.bleach

C.blich

D.blaech

Answer:

B.bleach



Reference ID:(8417)

Choose the appropriate conjunctions for the given sentence:

I make it a point to visit the National Museum \_\_\_\_\_ I go to my native place \_\_\_\_\_ many of the artifacts found there have been gifted by my ancestors.

A.once, as

B.wherever, but

C.so, and

D.whenever, as

Answer:

D.whenever, as

Reference ID:(8434)

योगी पर्यायाची निवड करा.  
तुम्ही बुद्धिबळ -----

A.खेळून

B.खेळात

C.खेळणे

D.खेळलात

Answer:

D.खेळलात

Reference ID:(8436)

क्रियापदानुसार कर्त्याच्या योग्य रूपाची निवड करा.  
..... कविता लिहितात.

A.मूल

B.मुलगी

C.मुलगा

D.कवी

Answer:

D.कवी

Reference ID:(8674)

मुकुलचे वर्तमान वय हे आशुतोषच्या वयाच्या सहा पट आहे. आणखी, आशुतोषचे वर्तमान वय मुकुलच्या वयापेक्षा 20 वर्षे कमी आहे. मुकुलचे वर्तमान वय काय आहे?

A.20 वर्ष

C.18 वर्ष

D.24 वर्ष

Answer:

D.24 वर्ष

Reference ID:(8441)

‘बोर’ या शब्दाचे अनेकवचन ओळखा.

A.बोरे

B.बोरू

C.बोर

D.बेर

Answer:

A.बोरे

Reference ID:(8450)

64 व्या फिल्म फेअर पुरस्काराच्या मुख्य भूमिकेमधील (महिला) उत्तम अभिनेत्री पुरस्कार 2019 खालीलपैकी कोणी जिंकला?

A.आलिया भट

B.प्रियांका चोप्रा

C.अनुष्का शर्मा

D.दिपिका पादुकोन

Answer:

A.आलिया भट

Reference ID:(8692)

रिकाम्या जागी योग्य संख्या निवडून मालिका पूर्ण करा:  
1, 3, 5, \_\_\_\_\_, 9, 11

A.6

B.7

C.8

D.वरीलपैकी कोणतेही नाही

Answer:

B.7

Reference ID:(8415)

Choose the appropriate prepositional phrase for the given sentence:

Most companies deliver items \_\_\_\_\_ as it is cheaper in the long run.

A.on bulk

B.in bulk

C.of bulk

D.out of bulk

Answer:

B.in bulk

Reference ID:(8679)

जर x च्या 10%, y च्या 20% एवढे असेल, तर x :y बरोबर किती:

A.1:2

B.2:1

C.3:2

D.9:8

Answer:

B.2:1

Sabka ek bhaijaan

Sabka ek bhaijaan

Sabka ek bhaijaan

Reference ID:(8407)

Choose the option with the appropriate suffix to complete the given sentence:

The teacher has been complain\_\_\_\_\_ about this student since January.

A.-tion

B.-ing

C.-ant

D.-tive

Answer:

B.-ing

Reference ID:(8413)

Choose the correct form of modal auxiliary verb for the given sentence:

You have fever. You \_\_\_\_\_ see a doctor quickly or the fever \_\_\_\_\_ get worse.

A.ought to, can

B.can, should

Sabka ek bhaijaan

Sabka ek bhaijaan

Sabka ek bhaijaan

D.would, could

Answer:

A.ought to, can

Reference ID:(8651)

भारतामध्ये न्यायालयाच्या तरतुदींचा अपमान हे अनुक्रमे सर्वोच्च न्यायालय आणि उच्च न्यायालयासाठी संविधानाच्या कोणत्या अनुच्छेदाखाली निहित केले गेले आहे?

A.अनुच्छेद 121 आणि 115

B.अनुच्छेद 169 आणि 115

C.अनुच्छेद 129 आणि 215

D.अनुच्छेद 119 आणि 215

Answer:

C.अनुच्छेद 129 आणि 215

Reference ID:(8405)

Choose the appropriate collective noun to complete the sentence:

\_\_\_\_\_ were appointed to judge the debate competition.

A.A board of directors

B.A panel of experts

C.A class of students

D.A gang of friends

Answer:

B.A panel of experts

Reference ID:(8421)

Choose the correct form of tenses for the given sentence:

Ramesh \_\_\_\_\_singing every day, but he \_\_\_\_\_ to perform well yesterday in the concert.

A.practises, failed

B.practised, failed

C.practised, has failed

D.has practised, had failed

Answer:

A.practises, failed

if you don't change it means youre old fashioned

A.If you don't change, it means you're old-fashioned.

B.If you dont change; it means you're old-fashioned.

C.if you don't change it means you're old fashioned?

D.If you don't change it means you're old-fashioned!

Answer:

A.If you don't change, it means you're old-fashioned.

Reference ID:(8693)

खाली दिलेल्या मालिकेमध्ये अंकांचा एक विशिष्ट क्रम समाविष्ट आहे. चुकीचा क्रम ओळखा:  
0, 4, 9, 16, 25

A.4

B.9

C.25

D.0

Answer:

D.0

Reference ID:(8661)

भारतीय संविधानाच्या खालीलपैकी कोणत्या दुरुस्तीद्वारे दिल्लीला राष्ट्रीय राजधानीचे क्षेत्र म्हणून नियुक्त करण्यात आले?

A.69<sup>वा</sup> दुरुस्ती कायदा

B.63<sup>वा</sup> दुरुस्ती कायदा

C.74<sup>वा</sup> दुरुस्ती कायदा

D.76<sup>वा</sup> दुरुस्ती कायदा

Answer:

A.69<sup>वा</sup> दुरुस्ती कायदा

**Someone who does not let grass grow under the feet.**

- A. Handling things well
- B. To make intelligent decisions
- C. Makes little difference
- D. Someone who takes immediate action

Answer: D. Someone who takes immediate action

Reference ID:(8412) Which of the following options best combines the two given sentences?  
He was late. He reached on time.

- A. He was late and reached on time.
- B. He was late if he reached on time.
- C. He was late yet he reached on time.
- D. He was late, she reached on time.

Answer: C. He was late yet he reached on time.

Reference ID:(8656) मार्च 2019 मध्ये महाराष्ट्र शासनाद्वारे सुरू केलेल्या अटल आहार योजनेचे उद्देशित लाभार्थी खालीलपैकी कोण आहेत?

- A. शालेय विद्यार्थी
- B. निराधार महिला
- C. महानगरपालिकेचे कामगार
- D. बांधकाम मजूर

Answer: D. बांधकाम मजूर

Reference ID:(8437) रिकाम्या जागी योग्य पर्याय निवडा.  
'.....! असे घडले होते का हे सगळे!'

- A. अच्छा
- B. चूप
- C. अबब

Answer: A.अच्छा

Reference ID:(8439) गटात न बसणारा शब्द ओळखा.  
सुंदर, सुरेखा, रेखा, रेषा

A.सुरेखा

B.सुंदर

C.रेखा

D.रेषा

Answer: B.सुंदर

Reference ID:(8447) पुढील वाक्यात पर्यायातील अचूक वाक्प्रचार निवडा.  
कुठल्याही कारणाने दुःखी होणे काय कामाचे?

A.व्यथित होणे

B.आनंदी होणे

C.नांगी ठेचणे

D.बारा वाजणे

Answer: A.व्यथित होणे

Reference ID:(9694)

सोडवा:

$$4^{2x} = \frac{1}{128}$$

A.- 7

B.-7/2

C.-5

D.-7/4

Answer: D.-7/4

- A.क्रोशिया
- B.अर्जेटीना
- C.रशिया
- D.दक्षिण आफ्रिका

Answer: C.रशिया

Reference ID:(8420) Out of the following options, identify a simple sentence.

- A.Either my father or my brothers will come to visit me.
- B.The fire destroyed the house but the family was saved.
- C.The boy will be punished severely if he gets caught.
- D.Mt. Fuji is the tallest volcano in the world.

Answer: D.Mt. Fuji is the tallest volcano in the world.

Reference ID:(8687) सरासरी काढा.  
20, 30, 40, 50, 60 & 70

- A.45
- B.98
- C.68
- D.70

Answer: A.45

Reference ID:(8416) Choose the most suitable conjunction for the given sentence:

They bought a pup \_\_\_\_\_ the child should feel lonely.

- A.so
- B.or
- C.lest
- D.unless



Reference ID:(8418)

Choose the most appropriate usage to fill in the blank in the given sentence:

I have been waiting for the \_\_\_\_\_ of the train to receive my parents.

A.arrival

B.arriving

C.arrived

D.arrive

Answer:

A.arrival

Reference ID:(8148)

Choose the option that has the correct spelling.

A.Daffodil

B.Dafodiil

C.Defodile

D.Deffodile

Answer:

A.Daffodil

Reference ID:(8410)

Choose the correct form of verb for the given sentence:

It costs about two hundred rupees to have a tooth \_\_\_\_\_.

A.filling

B.to fill

C.filled out

D.fill

Answer:

A.filling

Reference ID:(8411)

Choose an appropriate determiner for the given sentence:

There are only \_\_\_\_\_ students present in the class during the weekends.

Sabka ek bhaijaan

A.few

Sabka ek bhaijaan

Sabka ek bhaijaan

B.each

C.many

D.much

Answer:

A.few

Sabka ek bhaijaan

Sabka ek bhaijaan

Sabka ek bhaijaan

Sabka ek bhaijaan

Sabka ek bhaijaan

Sabka ek bhaijaan

Date of Exam : 10-07-2019 02:30 PM

Reference ID:(8932) योग्य पर्यायाची निवड करा.  
मोर -----

A.नाचली

B.नाचलास

C.नाचला

D.नाचल्या

Answer: C.नाचला

Reference ID:(8905) Choose the option with the appropriate prefix to complete the given sentence:

The \_\_\_ covery of America is a great achievement for Columbus in his life.

A.dis-

B.mis-

C.multi-

D.re-

Answer: A.dis-

Reference ID:(9183) एका समांतर श्रेढीतील 4<sup>थे</sup> पद 15 आणि 8<sup>वे</sup> पद 31 असणाऱ्या पहिल्या 25 पदांची बेरीज आहे:

A.1680

B.1275

C.1455

D.1360

Answer: B.1275

A.कुलदीप यादव

B.रविंद्र जाडेजा

C.जसप्रीत बुमराह

D.मोहंमद शामी

Answer:

D.मोहंमद शामी

Reference ID:(9178)

$(2^2)^3$  बरोबर किती:

A.64

B.32

C.256

D.16

Answer:

A.64

Reference ID:(8698)

Choose the appropriate option with the correct punctuation marks for the given sentence:

she said im going to make lunch

A.She said 'Im going to make lunch'

B.She said, "Im going to make lunch"

C.She said, "I'm going to make lunch."

D.she said I'm going to make lunch.

Answer:

C.She said, "I'm going to make lunch."

Reference ID:(9696)

राम सकाळी 10.15 वाजता बाहेर पडला आणि तो  $3\frac{1}{2}$  तासांनी स्टेशनवर पोहचला. तो किती वाजता स्टेशनला पोहचला असेल?

A.दुपारी 1.45

B.रात्री 1.45

C.दुपारी 2.00

D.दुपारी 3.30

Reference ID:(9181)

चार उमेदवारांनी एक निवडणूक लढवली आणि त्यांना अनुक्रमे 1106, 7630, 8688, 11630 मतं मिळाली. जिंकलेल्या उमेदवाराला किती एकूण मतांच्या किती टक्के मतं मिळाली?

A.40.02%

B.30.00%

C.48.03%

D.50.20%

Answer:

A.40.02%

Reference ID:(9152)

कोणते शहर राष्ट्रकुल खेळ (सीडब्ल्यूजी) 2022 आयोजित करणार आहे?

A.बर्मिंघॅम

B.कोलंबो

C.मॉन्ट्रियल

D.टोकियो

Answer:

A.बर्मिंघॅम

Reference ID:(8699)

Choose the appropriate option with the correct punctuation marks for the given sentence:

alas have you heard the news about the death of our President

A.Alas! Have you heard the news about the death of our President?

B.Alas! have you heard the news, about the death of our President.

C.Alas, have you heard the news about the death of our President.

D.Alas? Have you heard the news about the death of our President.

Answer:

A.Alas! Have you heard the news about the death of our President?

Reference ID:(8934)

क्रियापदानुसार कर्त्याच्या योग्य रूपाची निवड करा.  
..... पुस्तक वाचतोस.

A.तुम्ही

C.मी

D.आत्या

Answer:

B.तू

Reference ID:(9154)

फेब्रुवारी 2019 मध्ये, पंत प्रधानांनी महाराष्ट्रामध्ये खालीलपैकी कोणत्या ठिकाणी आदिवासी विद्यार्थ्यांसाठी रहिवासी शाळेचे एकलव्य मॉडेल समर्पित केले?

A.नंदुरबार

B.जळगांव

C.नांदेड

D.धुळे

Answer:

C.नांदेड

Reference ID:(8907)

Choose the appropriate articles to complete the given sentence:

Last summer we went on \_\_\_\_\_ cruise in the Caribbean. Among \_\_\_\_\_ Islands we visited were Barbados and St. Lucia.

A.no article, the

B.a, the

C.the, an

D.the, no article

Answer:

B.a, the

Reference ID:(9171)

नीरज, उमेश आणि धीरजचे एकूण वय 93 वर्षे आहे. दहा वर्षांपूर्वी त्यांच्या वयांचे गुणोत्तर अनुक्रमे 2: 3: 4 होते. धीरजचे वर्तमान वय काय आहे?

A.24 वर्ष

B.32 वर्ष

C.34 वर्ष

D.38 वर्ष

Answer:

D.38 वर्ष

- A.प्रथमा, द्वितीया  
B.प्रथमपुरुष, द्वितीयपुरुष  
C.तृतीया, चतुर्थी  
D.पंचमी, संबोधन

Answer: B.प्रथमपुरुष, द्वितीयपुरुष

Reference ID:(8929) पुढील वाक्य वाचून योग्य वाक्य ओळखा.

- A.गावकऱ्यांनी दादा साहेबांची भेट घेतलो.  
B.गावकऱ्यांनी दादा साहेबांची भेट घेतले.  
C.गावकऱ्यांनी दादा साहेबांची भेट घेतली.  
D.गावकऱ्यांनी दादा साहेबांची भेटी घेतल्या.

Answer: C.गावकऱ्यांनी दादा साहेबांची भेट घेतली.

Reference ID:(9163) 2019 मध्ये, नॅशनल इन्स्टीट्यूट ऑफ डिजाईन (एनआयडी) चे मध्यप्रदेशामधील भोपाळ आणि \_\_\_\_\_ मधील जोरहाट येथे उद्घाटन करण्यात आले.

- A.आसाम  
B.झारखंड  
C.ओडिशा  
D.तामिळनाडू

Answer: A.आसाम

Reference ID:(8911) Choose the correct form of modal auxiliary verb for the given sentence:

Why did you stay at a hotel in Mumbai? You \_\_\_\_\_ with your friend, Manish.

- A.could not have been staying  
B.could not stay  
C.can not be stayed  
D.could have stayed

Answer:

D.could have stayed

Sabka ek bhaijaan

Sabka ek bhaijaan

Sabka ek bhaijaan

Reference ID:(8945)

पुढील वाक्यात पर्यायातील अचूक वाक्प्रचार निवडा.  
प्रियकर नेहमी प्रेयसीच्या अवतीभवती फिरतोच.

A.तोंडी लागणे

B.रूंजी घालणे

C.नाव टाकणे

D.जीव लावणे

Answer:

B.रूंजी घालणे

Reference ID:(8918)

Out of the following options, identify a simple sentence.

A.The children slept without supper, so they are very hungry.

B.Neither the colour nor the design is appealing.

C.The children enjoyed the field trip.

D.The play would have been interesting if it were to be shorter.

Sabka ek bhaijaan

Sabka ek bhaijaan

Sabka ek bhaijaan

Answer:

C.The children enjoyed the field trip.

Reference ID:(8930)

खालील वाक्यातील विधेय ओळखा.  
जे का रंजले गांजले, त्यासी म्हणे जो आपुले।

A.रंजले

B.गांजले

C.म्हणे

D.का

Answer:

C.म्हणे

Reference ID:(8904)

Choose the option with the appropriate suffix to complete the given sentence:

I couldn't find any weak\_\_\_ in his theory.

A.-ened

B.-ness

Sabka ek bhaijaan

Sabka ek bhaijaan

Sabka ek bhaijaan



D.-ish

Answer:

B.-ness

Reference ID:(8928)

पुढील वाक्याचा प्रकार ओळखा.  
ते विद्यार्थीदशेतले दिवस आठवले की मजा येते.

A.प्रश्नार्थी

B.मिश्र वाक्य

C.संयुक्त वाक्य

D.केवल वाक्य

Answer:

B.मिश्र वाक्य

Reference ID:(8915)

Choose the appropriate conjunctions for the given sentence:

He was \_\_\_\_\_ intelligent \_\_\_\_\_ brave.

A.from, to

B.not only, but also

C.whether, or

D.though, either

Answer:

B.not only, but also

Reference ID:(9160)

मार्च-2019 मध्ये, संयुक्त राष्ट्र संघटना (यूएनओ) द्वारे स्थापन केलेल्या शांती विद्यापीठाने (युनिवर्सिटी ऑफ पीसने) भारताच्या \_\_\_\_\_ ला मानद डॉक्टरेट ने सन्मानित केले आहे.

A.उपराष्ट्रपती

B.पंतप्रधान

C.राष्ट्रपती

D.मुख्य न्यायाधीश

Answer:

A.उपराष्ट्रपती

A.80

B.60

C.70

D.40

Answer:

B.60

Reference ID:(8916)

Choose the most appropriate usage to fill in the blank in the given sentence:

Please help me make a \_\_\_\_\_; I don't know which book to buy.

A.decision

B.decide

C.deciding

D.decider

Answer:

A.decision

Reference ID:(9189)

खाली दिलेल्या श्रृंखलेमध्ये अंकांचा एक विशिष्ट क्रम दिलेला आहे. त्यानुसार चुकीचा क्रम ओळखा:

1, 2, 4, 8, 16, 48, 64

A.48

B.16

C.2

D.8

Answer:

A.48

Reference ID:(8700)

Choose the correct form of adjective for the given sentence:

His act is not \_\_\_\_\_.

A.accurate

B.crippled

D.grateful

Answer:

C.pardonable

Reference ID:(8935)

पुढील वाक्यातील अव्ययाचा प्रकार ओळखा.  
'अरेरे! अचानकच बाद झाला तो!'

A.शब्दयोगी अव्यय

B.केवलप्रयोगी अव्यय

C.उभयान्वयी अव्यय

D.क्रियाविशेषण अव्यय

Answer:

B.केवलप्रयोगी अव्यय

Reference ID:(8933)

अधोरेखित क्रियापदांचा योग्य प्रकार ओळखा.  
त्याचा घसा इतका दुखत होता की त्याला बोलवत नव्हते.

A.शक्य

B.साधित

C.भावकर्तृक

D.सकर्मक

Answer:

A.शक्य

Reference ID:(8917)

Choose the correct form of verb that is in agreement with the subject:

One of the arguments he offered \_\_\_\_\_ convincing.

A.seem

B.seemed

C.look

D.looked

Answer:

B.seemed

Reference ID:(9192)

अ आणि ब मिळून एक काम 30 दिवसांत पूर्ण करतात, तर ब आणि क मिळून तेच काम 24 दिवसांत पूर्ण करतात तसेच क आणि अ मिळून ते काम 20 दिवसांत पूर्ण करतात. ब आणि क सोडून जाईपर्यंत त्या सगळ्यांनी 12 दिवस मिळून काम केलं. तर शिल्लक राहिलेलं काम एकट्याने पूर्ण करण्यासाठी अ ला किती दिवस लागतील?

A.10 दिवस

B.12 दिवस

C.8 दिवस

D.14 दिवस

Answer:

B.12 दिवस

Reference ID:(9158)

मराठी भाषा दिन हा \_\_\_\_\_ च्या जयंतीला साजरा केला जातो.

A.ज्योतिबा फुले

B.कवीश्रेष्ठ कुसुमाग्रज

C.वीर सावरकर

D.गोविंदाग्रज

Answer:

B.कवीश्रेष्ठ कुसुमाग्रज

Reference ID:(9187)

जर 'Q' म्हणजे 'मध्ये मिळवा', 'J' म्हणजे 'ने गुणाकार करा', 'T' म्हणजे 'मधून वजा करा' आणि 'K' म्हणजे 'ने भाग द्या', तर 30K2Q3J6T5 म्हणजे किती?

A.28

B.33

C.17

D.21

Answer:

A.28

Reference ID:(8943)

पुढीलपैकी कोणता शब्द योग्य रीतीने लिहिला आहे?

A.तर्हा

B.तन्हा

D.तरहा

Answer:

B.तऱहा

Reference ID:(8923)

दिलेल्या शब्दगटातून विरुद्धार्थी शब्द ओळखा.  
भाऊ – थोरला X -----

A.प्रेमळ

B.धाकटा

C.मायाळू

D.विवकी

Answer:

B.धाकटा

Reference ID:(8927)

पुढील वाक्याचा प्रकार ओळखा.  
'जिथे राबती हात तिथे हरी'

A.प्रश्नार्थी

B.मिश्र वाक्य

C.संयुक्त वाक्य

D.केवल वाक्य

Answer:

B.मिश्र वाक्य

Reference ID:(8931)

'आंब्याच्या झाडावर रोज एक, कोकीळ बसत असे' या वाक्यातील आख्यात ओळखा.

A.ईलाख्यात

B.ई-आख्यात

C.ऊ- आख्यात

D.वाख्यात

Answer:

B.ई-आख्यात

Reference ID:(8944)

पुढील वाक्प्रचारांच्या योग्य अर्थाचा पर्याय निवडा.  
उडत्या पाखराची पिसे मोजणे-

B.अत्यंत अवघड काम चतुराईने करणे

C.अत्यंत हालाखीत दिवस काढणे

D.अत्यंत कठीण परिस्थितीत लक्ष एकाग्र करणे

Answer:

B.अत्यंत अवघड काम चतुराईने करणे

Reference ID:(9170)

सांसर्गिक काळपुळी हा जीवघेणा रोग \_\_\_\_\_ मुळे होतो.

A.विषाणू

B.बुरशी

C.जंत

D.जीवाणू

Answer:

D.जीवाणू

Reference ID:(8936)

रिकाम्या जागी योग्य पर्याय निवडा.

लिंग, वचन, विभक्ती आदींचा परिणाम होऊन ज्या शब्दांच्या रूपात बदल होत नाही त्यांना  
..... म्हणतात.

A.विकारी

B.अविकारी

C.नाम

D.अक्षर

Answer:

B.अविकारी

Reference ID:(9155)

2018 मध्ये "ध्रुपदांगी कथक" यावरील अद्वितीय नृत्य रेसिडेन्सी उत्सव \_\_\_\_\_ येथे  
आयोजित केला गेला होता.

A.दौंड

B.नाशिक

C.औरंगाबाद

D.लोणावळा

Answer:

C.औरंगाबाद

- A. अल-कायदा
- B. जैश-ए-मोहंमद
- C. लष्कर-ए-तैयबा
- D. एलटीटीई

Answer: B. जैश-ए-मोहंमद

Reference ID:(9167)

कोणत्या भारतीय खेळाडूने वॉटरिंगन, नेदरलँड्स मध्ये 20 वे व्हिक्टर डच इंटरनॅशनल बॅडमिंटन शीर्षक 2019 जिंकले?

- A. पी. व्ही. सिंधु
- B. हर्षिल दानी
- C. सायना नेहवाल
- D. ज्वाला गुप्ता

Answer: B. हर्षिल दानी

Reference ID:(8922)

दिलेल्या शब्दगटातून विरुद्धार्थी शब्द ओळखा.  
सुई – तीक्ष्ण X -----

- A. छोटी
- B. मोठी
- C. लोखंडी
- D. बोथट

Answer: D. बोथट

Reference ID:(9180)

360 च्या 80% + 200 च्या 20% - x = 116

- A. 182
- B. 212
- C. 242
- D. 263

Answer:

B. 212

Reference ID:(9165) भारतीय संविधानाचा कोणता अनुच्छेद उच्च न्यायालयाच्या न्यायधीशांची नेमणूक करताना राज्यपालाचा सल्ला घेतला जावा असे नमूद करतो.

A.अनुच्छेद 112

B.अनुच्छेद 400

C.अनुच्छेद 217

D.अनुच्छेद 356

Answer: C.अनुच्छेद 217

Reference ID:(8913) Choose the appropriate prepositional phrase for the given sentence:

We are forwarding all the items on the list \_\_\_\_\_ your request.

A.of accordance

B.inspite of

C.in accordance with

D.with accordance

Answer: C.in accordance with

Reference ID:(8901) Choose the correct form of adjective for the given sentence:

She loves to help the blind across the road; she is \_\_\_\_\_.

A.considerate

B.loveable

C.dedicated

D.sincere

Answer: A.considerate

Reference ID:(8941) पुढील पुढील वाक्यातील विरामचिन्ह ओळखा.  
मराठी वाङ्मयातील ज्ञानदेव, नामदेव, तुकाराम, एकनाथ आदी संतांच्या रचनांनी मराठी घडवली.

A.स्वल्पविराम



C.विकल्पचिन्ह

D.संयोगचिन्ह

Answer:

A.स्वल्पविराम

Reference ID:(8914)

Choose the most suitable conjunction for the given sentence:

No, it wasn't hot; \_\_\_\_\_, it was quite chilly.

A.on the contrary

B.nevertheless

C.moreover

D.besides

Answer:

A.on the contrary

Reference ID:(9173)

मोहन आणि सुमितदरम्यान पैशांचे गुणोत्तर 7:17 आहे आणि सुमित आणि अजय यांच्या दरम्यानचे पैशांचे गुणोत्तर अनुक्रमे 7:17 आहे. जर मोहनकडे 560 रुपये असतील, तर अजयकडे \_\_\_\_\_ आहे.

A.3302.85 रुपये

B.3320.85 रुपये

C.3321.85 रुपये

D.3322.85 रुपये

Answer:

A.3302.85 रुपये

Reference ID:(8924)

जोडशब्द नसलेला शब्द ओळखा.

A.पैसाअडका

B.फौजफाटा

C.पोरेबाळें

D.दूरचित्रवाणी

Reference ID:(9185)

रु. 10 किंमत असलेल्या वस्तूची रु. 2 तोट्याने विक्री केली तर तोट्याची टक्केवारी काय आहे?

A.20 %

B.25 %

C.10 %

D.5 %

Answer:

A.20 %

Reference ID:(9153)

13 एप्रिल 2019 रोजी खालीलपैकी कोणी जालियनवाला बाग हत्याकांडाच्या शताब्दीला श्रध्दांजली देण्यासाठी राष्ट्राचे नेतृत्व केले?

A.भारताचे राष्ट्रपती

B.भारताचे उपराष्ट्रपती

C.भारताचे पंत प्रधान

D.पंजाबचे मुख्य मंत्री

Answer:

B.भारताचे उपराष्ट्रपती

Reference ID:(9161)

\_\_\_\_\_ हा जिल्हा सागरमाला परियोजनेच्या अंतर्गत नियोजित दक्षिण कोकण कोस्टल इकॉनॉमिक झोन(सीइझेड) चा भाग आहे.

A.पुणे

B.सिंधुदुर्ग

C.ठाणे

D.नाशिक

Answer:

B.सिंधुदुर्ग

Reference ID:(8902)

Fill in the blank with the correct noun for the given sentence:

Sometimes, simple things create the greatest \_\_\_\_\_.

A.mystics

B.mystical

D.mysteries

Answer:

D.mysteries

Reference ID:(9186)

खाली दिलेल्या चार पत्यांपैकी कोणता पत्ता खाली दिलेल्या पत्त्याशी अचूकपणे जुळत नाही?

Paradise Drive Wirrina Cave, South Australia, Yankalilla, SA 5203,  
Yankalilla SA 5203, Australia  
+61 8 8598 2400

(i) Paradise Drive Wirrina Cave, South Australia, Yankalilla, SA 5203,  
Yankalilla SA 5203, Australia  
+61 8 8598 2400

(ii) Paradise Drive Wirrina Cave, South Australia, Yankalilla, SA 5203,  
Yankalilla SA 5203, Australia  
+61 8 8598 2400

(iii) Paradise Drive Wirrina Cave, South Australia, Yankalilla, SA 5203,  
Yankalilla SA 5203, Australia  
+61 8 8598 2400

(iv) Paradise Drive Wirrina Cave, South Australia, Yankalilla, SA 5203,  
Yankalilla SA 5203, Australia  
+61 8 8598 2400

A.i

B.ii

C.iii

D.iv

Answer:

B.ii

Reference ID:(9174)

ज्या रकमेच्या 4% 240 आहेत अशी संख्या कोणती आहे?

A.5000 रुपये

B.5500 रुपये

C.6000 रुपये

Answer: C.6000 रुपये

Reference ID:(8919) Choose the correct form of tense for the given sentence:

I \_\_\_\_\_ several witnesses who \_\_\_\_\_ my account of what \_\_\_\_\_.

A.have, will confirm, happened

B.had, confirm, has happened

C.have, confirmed, happened

D.am, are, had happened

Answer: A.have, will confirm, happened

Reference ID:(8906) Choose the appropriate articles for the given sentence:

My friends live in \_\_\_\_\_ old house in \_\_\_\_\_ small village. There is \_\_\_\_\_ orchard behind \_\_\_\_\_ house and a small pond in front.

A.a, the, an, a

B. the, the, a, an

C.a, the, the, an

D.an, a, an, the

Answer: D.an, a, an, the

Reference ID:(9156) \_\_\_\_\_ वर्षामध्ये मुस्लिम लीग आणि काँग्रेसदरम्यान लखनऊ करारावर स्वाक्षरी करण्यात आली होती.

A.1921

B.1916

C.1942

D.1931

Answer: B.1916

A.SFEJTOPD

B.ESFJTOPD

C.QETFJOPD

D.DPOTJFEQ

Answer: A.SFEJTOPD

Reference ID:(9179)

सोडवा:  
 $(-5)^5 \times (-5)^6 \times (5)^2$

A. $(5)^{13}$

B. $(-5)^9$

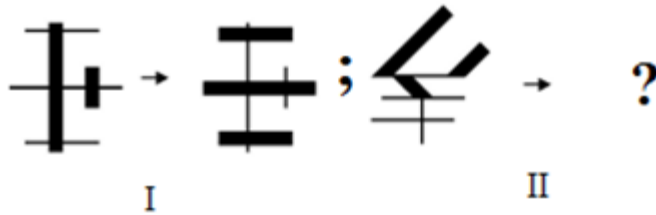
C. $(-5)^{13}$

D. $(-5)^3$

Answer: C. $(-5)^{13}$

Reference ID:(9695)

कोणती आकृती पहिल्या जोडीप्रमाणे दुसरी जोडी पूर्ण करेल ?



Answer:



Reference ID:(9191)

अ रेल्वे ब रेल्वेला मागे टाकण्यासाठी 50 सेकंद घेते. त्या एकमेकींना 20 सेकंदांमध्ये ओलांडतात. अ आणि ब रेल्वेची लांबी अनुक्रमे 160 मी आणि 240 मी इतकी आहे. तर 240 मी लांब असलेल्या एका पुलाला ओलांडण्यासाठी त्यांना किती सेकंदाचा वेळ लागेल?

A.28.18 सेकंद

B.68.57 सेकंद

C.45.57 सेकंद

D.38 सेकंद

Answer:

B.68.57 सेकंद

Reference ID:(8925)

जोडशब्द नसलेला शब्द निवडा.

A.मोक्षप्राप्ती

B.थांगपत्ता

C.त्रेधातिरपीट

D.फौजफाटा

Answer:

A.मोक्षप्राप्ती

Reference ID:(9169)

सपाट आरशामध्ये, \_\_\_\_\_ नेहमी आभासी प्रतिमा तयार होते.

A.आरशापासून अनंत अंतरावर

B.वस्तू आणि आरशादरम्यान

C.आरशाच्या पाठीमागे

D.वस्तूच्या पाठीमागे

Answer:

C.आरशाच्या पाठीमागे

He prefers to wear \_\_\_\_\_ clothing while sleeping.

A.loose

B.lost

C.louse

D.losse

Answer:

A.loose

Reference ID:(9177)

जर माशांच्या एका समूहाचे वजन 3 किग्रॅ आहे आणि समूहामधील प्रत्येक माशाचे वजन 150 ग्रॅम आहे, तर समूहामध्ये माशांची संख्या \_\_\_\_ आहे.

A.10

B.20

C.15

D.30

Sab Answer: bhaijaan

B.20

Sabka ek bhaijaan

Sabka ek bhaijaan

Reference ID:(9172)

प्रितमचे वर्तमान वय हे अरुणच्या वयाच्या तिप्पट आहे. 10 वर्षांनंतर, ते फक्त दुप्पट असेल. आता अरुणचे वय काय आहे?

A.5 वर्षे

B.8 वर्षे

C.10 वर्षे

D.12 वर्षे

Answer:

C.10 वर्षे

Reference ID:(9159)

खालीलपैकी कोणता मूलभूत अधिकार नाही?

A.संप करण्याचा हक्क

B.समानतेचा हक्क

C.धर्म स्वातंत्र्याचा हक्क

D.शोषणाविरुद्ध हक्क

Reference ID:(9157) भारतीय घटनेचा कोणता अनुच्छेद सर्व भारतीय सेवांना हाताळतो?

A.अनुच्छेद 101

B.अनुच्छेद 109

C.अनुच्छेद 12

D.अनुच्छेद 312

Answer: D.अनुच्छेद 312

Reference ID:(8909) Choose the appropriate determiner for the sentence given.

We had \_\_\_\_\_ idea of what the question was all about, so we couldn't answer it.

A.a little

B.no

C.any

D.many

Answer: B.no

Reference ID:(8950) महाराष्ट्रामधील दक्षिण कोंकण किनारपट्टीची मृदा \_\_\_\_\_ आहे.

A.जांभी

B.गाळाची

C.लाल

D.काळी

Answer: A.जांभी

Reference ID:(9175) 52 पत्ते असलेल्या एका पॅकमधून एक कार्ड काढले जाते. चौकट राणी किंवा चौकट राजा मिळण्याची संभाव्यता \_\_\_\_\_ आहे.

A.1/52

B.52/1



D.26/1

Answer:

C.1/26

Reference ID:(8947)

महाराष्ट्रातील खालीलपैकी कोणत्या शहराला आयटी हब समजले जाते?

A.मुंबई

B.नागपूर

C.पुणे

D.कोल्हापूर

Answer:

C.पुणे

Reference ID:(8939)

'वृक्ष' या शब्दाचे अनेकवचन ओळखा.

A.वृक्षे

B.वृक्ष

C.वृक्ष

D.वृक्षा

Answer:

B.वृक्ष

Reference ID:(8908)

Choose the correct form of verb for the given sentence:

Modern managers work in a cluster of offices that are \_\_\_\_\_ an atrium in the middle of the building.

A.wrapped by

B.wrapped in

C.wrapped with

D.wrapped around

Answer:

D.wrapped around

Reference ID:(9193)

एका ग्रंथालयामध्ये 30% पुस्तके इतिहासाची आहेत. उर्वरित पुस्तकांपैकी 50% पुस्तके इंग्रजीची आणि उर्वरित पुस्तकांच्या 40% पुस्तके जर्मनची आहेत. उर्वरित 4200 पुस्तके प्रादेशिक भाषेची आहेत. ग्रंथालयामधील पुस्तकांची एकूण संख्या काय आहे?

A.10000

B.15000

C.20000

D.25000

Answer:

C.20000

Reference ID:(9166)

राष्ट्रीय सन्मान अपमान प्रतिबंधक कायदा (1971), भारताच्या \_\_\_\_\_ च्या अनादराला प्रतिबंध करत नाही.

A.राष्ट्रीय ध्वज

B.राष्ट्रीय पक्ष

C.संविधान

D.राष्ट्र गीत

Answer:

B.राष्ट्रीय पक्ष

Reference ID:(8903)

Choose the appropriate collective noun to complete the sentence:

Every morning the \_\_\_\_\_ follows its coach for cricket practice.

A.team

B.group

C.class

D.band

Answer:

A.team

Reference ID:(8926)

पुढील शब्दाचे लिंग ओळखा.  
भाषण

A.पुल्लिंग

B.स्त्रीलिंग

C.नपुसकलिंग

Answer: C.नपुसकलिंग

Reference ID:(8938) पुढील नामाला अयोग्य विशेषणाचा पर्याय निवडा.  
मित्र

A.किंचित

B.जुना

C.कोल्हापुरी

D.सख्खा

Answer: A.किंचित

Reference ID:(9176) 1 ते 10 क्रमांक असलेली तिकिटे मिसळली गेली आणि मग यादृच्छिकपणे एक तिकिट काढले गेले. काढलेल्या तिकिटावर 2 च्या पटीतील संख्या असण्याची संभाव्यता काय आहे?

A.1/2

B.20/9

C.8/13

D.13/8

Answer: A.1/2

Reference ID:(8921) दिलेल्या शब्दगटातून योग्य समानार्थी शब्द निवडा.  
ब्राह्मण

A.अज

B.गज

C.रज

D.द्विज

Answer: D.द्विज

Reference ID:(8696) Choose the option that has the correct spelling.

A.Consonant

C.Cansonent

D.Censonant

Answer:

A.Consonant

Reference ID:(8949)

इएसपीएन मल्टी-स्पोर्ट्स पुरस्कार 2019 मध्ये 'विकलांग खेळाडू' चा विजेता खालीलपैकी कोण होता?

A.वरूण भाटी (उंच उडी)

B.एकता भयान(पॅरा-एथलेटीक्स)

C.मेजर डी. पी. सिंह (मॅरेथॉन)

D.दीपा मलिक (शॉट पुट)

Answer:

B.एकता भयान(पॅरा-एथलेटीक्स)

Reference ID:(8937)

गटात न बसणारा शब्द ओळखा.  
दयाळू, कृपाळू, लाजाळू, खाऊ.

A.दयाळू

B.कृपाळू

C.लाजाळू

D.खाऊ

Answer:

D.खाऊ

Reference ID:(8940)

पुढील वाक्यांमध्ये योग्य ते अव्यय घाला.  
कशात काय ----- फाटकात पाय

A.की

B.पण

C.नि

D.व

Answer:

C.नि

A.523

B.510

C.552

D.560

Answer:

C.552

Reference ID:(9190)

रिकाम्या जागी योग्य संख्या निवडून श्रृंखला पूर्ण करा:

121, 225, 361, \_\_\_\_\_, 729

A.451

B.494

C.529

D.629

Answer:

C.529

Reference ID:(8912)

Choose the appropriate prepositions for the given sentence:

\_\_\_\_\_ Reston, Virginia, there is a modern school built \_\_\_\_\_ a mountain.

A.On ... across

B.At ... in

C.In ... inside

D.From ... on

Answer:

C.In ... inside

Reference ID:(8948)

2 फेब्रुवारी 2019 रोजी कृषी निर्यात धोरणावरील पहिला राज्य स्तरीय जागृती कार्यक्रम खालीलपैकी कोणत्या शहरामध्ये आयोजित केला होता?

A.पुणे

B.नवी दिल्ली

C.पटना

Answer: A.पुणे

Reference ID:(9164) पाकिस्तानमधील कायदे मंडळामध्ये निवड झालेली पहिली थारी हिंदू महिला कोण आहे?

A.कृष्णा कुमारी कोहली

B.आएशा राजाब अली

C.शहनाज सलिम मलिक

D.मुसरत रफिक महेसार

Answer: A.कृष्णा कुमारी कोहली

Reference ID:(8910) Which of the following options best combines the two given sentences?

Press the red button. The machine will stop.

A.If you had to press the red button, the machine will stop.

B.If you pressed the red button, the machine will stops.

C.If you press the red button, the machine will stop.

D.You had pressed the red button, if the machine will stop.

Answer: C.If you press the red button, the machine will stop.

Reference ID:(9151) महाराष्ट्र राज्यामधील \_\_\_\_\_ आणि \_\_\_\_\_ या जिल्ह्यांना बेटी बचाओ बेटी पढाओ योजनेअंतर्गत प्रशंसनीय कार्यासाठी विशेष पुरस्काराने सन्मानित करण्यात आले.

A.जळगांव, उस्मानाबाद

B.जळगांव, नागपूर

C.उस्मानाबाद, नागपूर

D.जळगांव, जालना

Answer: A.जळगांव, उस्मानाबाद

जर प्रत्येक संख्येमध्ये 1 ल्या आणि 2 च्या अंकाच्या स्थानाची अदलाबदल केली, तर कोणती संख्या सर्वात लहान असेल?

---

A.679

---

B.835

---

C.732

---

D.468

---

Answer:

C.732

---

Reference ID:(8920)

Choose the option that best expresses the meaning of the highlighted idiom/phrase:

He was so intrusive to find out the problems of others that for him **curiosity killed the cat**.

---

A.Very talkative and unpleasant

---

B.Being inquisitive can lead to an unpleasant situation

---

C.Showing the necessary decorum

---

D.Indicating friendliness and curiosity

---

Answer:

B.Being inquisitive can lead to an unpleasant situation

---

Date of Exam : 11-07-2019 10:00 AM

Reference ID:(9698)

$\frac{-3}{7}, \frac{-5}{7}, \frac{-8}{9}$  आणि  $\frac{8}{9}$  ला चढत्या क्रमाने मांडा.

$$\frac{-3}{7} < \frac{-5}{7} < \frac{-8}{9} < \frac{8}{9}$$

$$\frac{-5}{7} < \frac{8}{9} < \frac{-3}{7} < \frac{8}{9}$$

$$\frac{-8}{9} < \frac{-5}{7} < \frac{-3}{7} < \frac{8}{9}$$

$$\frac{8}{9} < \frac{-3}{7} < \frac{-5}{7} < \frac{-8}{9}$$

Sabka ek bhaijaan

Sabka ek bhaijaan

Sabka ek bhaijaan

Answer:

$$\frac{-8}{9} < \frac{-5}{7} < \frac{-3}{7} < \frac{8}{9}$$

Reference ID:(9679)

जर A = 1, LOT = 47, तर MAT = ?

A.40

B.66

C.34

D.51

Answer:

C.34



A.अरुण जेटली

B.पियुष गोयल

C.राजनाथ सिंग

D.नरेंद्र मोदी

Answer:

B.पियुष गोयल

Reference ID:(9424)

खालील वाक्यातील अधोरेखित शब्दाचे लिंग ओळखा.  
रात्री आम्ही नाटकाला गेलो होतो.

A.पुल्लिंग

B.स्त्रीलिंग

C.नपुसकलिंग

D.उभयलिंग

Answer:

B.स्त्रीलिंग

Reference ID:(9700)

एका गुणोत्तर श्रेढीचे 3<sup>रे</sup> पद  $6\frac{1}{4}$  आणि 7<sup>वे</sup> पद हा 3<sup>ऱ्या</sup> पदाचा व्युत्क्रम आहे, तर गुणोत्तर श्रेढीतील कोणते पद हे एक आहे?

A.4

B.5

C.6

D.7

Answer:

B.5

A.अनिवासी भारतीय

B.60 वय वर्षावरील वयस्क लोक

C.5 वय वर्षाखालील लहान मुले

D.विकलांग लोक

Answer:

C.5 वय वर्षाखालील लहान मुले

Reference ID:(9661)

संयुक्त लष्करी अभ्यास संप्रिती 2019 ची 8 वी आवृत्ती ही भारत आणि \_\_\_\_\_ देशादरम्यान आयोजित केली गेली होती?

A.बांग्लादेश

B.श्री लंका

C.म्यानमार

D.नेपाळ

Answer:

A.बांग्लादेश

Reference ID:(9434)

रिकाम्या जागी योग्य पर्याय निवडा.  
नाम, सर्वनाम, विशेषण या शब्द प्रकारांमध्ये लिंगानुसार बदल होतो म्हणून त्यांना ..... म्हणतात.

A.क्रियापदे

B.अविकारी

C.विकारी

Answer:

C.विकारी

Reference ID:(9654)

पेरियार व्याघ्र अभयारण्य हे भारतामधील कोणत्या राज्याच्या पश्चिम घाटांमध्ये स्थित आहे?

A.तामिळ नाडू

B.कर्नाटक

C.तेलंगणा

D.केरळ

Answer:

D.केरळ

Reference ID:(9197)

Choose the appropriate option with the correct punctuation marks for the given sentence:

fetch me a glass of water said my father

A.Fetch me a glass of water! said my father.

B.Fetch me a glass of water, told by my father.

C.Fetch me a glass of water? said my father

D.“Fetch me a glass of water!” said my father.

Answer:

D.“Fetch me a glass of water!” said my father.

Reference ID:(9688)

एका वस्तूची विक्री करून 20% तोटा होतो. तिची आणखी 240 रुपयांना विक्री केली, तर त्याला 10% चा नफा झाला असता. 25% नफ्याने विक्री केली जात असेल तर वस्तूची विक्री किंमत काय असावी?

A.रु. 950

B.रु. 1020

C.रु. 975

D.रु. 1000

Answer:

D.रु. 1000

Reference ID:(9659)

डिसेंबर-2018 मध्ये डीआयपीपी ने जारी केलेल्या 'स्टार्ट-अप रँकिंग 2018' मधील 'उदयोन्मुख राज्ये' श्रेणीखाली महाराष्ट्रासह \_\_\_\_\_ ला ठेवण्यात आले.

A.जम्मू आणि काश्मीर

B.मध्यप्रदेश

C.तेलंगाणा

D.हरियाणा

Answer:

A.जम्मू आणि काश्मीर

Reference ID:(9419)

खाली काही शब्द व त्यांचे समानार्थी शब्द दिलेले आहेत. त्यातील चुकीची जोडी ओळखा.

A.सर्प-साप

B.दर्प-गर्व

C.तर्क-कुतर्क

D.प्रेम-लोभ

Answer:

C.तर्क-कुतर्क

- A. अत्यंत आळशीपणा करणे
- B. सगळ्यांना भरपूर मदत करणे
- C. कधीही कोणालाही काहीही न देणे
- D. खूप ऐषारामी जीवन जगणे

Answer:

C. कधीही कोणालाही काहीही न देणे

Reference ID:(9413)

Choose the appropriate conjunctions for the given sentence:

\_\_\_\_\_ the bride \_\_\_\_\_ the groom looked unhappy.

- A. Both, or
- B. Either, nor
- C. Both, and
- D. Either, for

Answer:

C. Both, and

Reference ID:(9411)

Choose the appropriate prepositional phrase for the given sentence:

The theatre class is an excellent \_\_\_\_\_ different cultures.

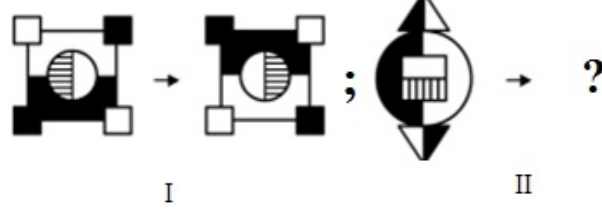
- A. bridge for
- B. bridge between
- C. bridge in
- D. bridge over

Answer:

B. bridge between

Reference ID:(9697)

खालीलपैकी कोणती आकृती पहिल्या जोडीसारखीच दुसरी जोडी पूर्ण करू शकते?



Answer:



Reference ID:(9669)

ललिता 40 वर्षाची आहे आणि शमिना 60 वर्षाची आहे. किती वर्षापूर्वी त्यांच्या वयांचे गुणोत्तर अनुक्रमे 3:5 होते?

A.5 वर्ष

B.10 वर्ष

D.37 वर्ष

Answer:

B.10 वर्ष

Reference ID:(9195)

Choose the option that has the correct spelling for the missing word in the given sentence:

Please, \_\_\_\_\_ my excuses!

A.accept

B.except

C.aceppt

D.aceptt

Answer:

A.accept

Reference ID:(9425)

जर-तर, कारण की ही उभयान्वयी अव्यये जोड़न कोणते वाक्य तयार होते?

A.प्रश्नार्थी

B.मिश्र वाक्य

C.संयुक्त वाक्य

D.केवल वाक्य

Answer:

B.मिश्र वाक्य

Reference ID:(9199)

Choose the correct form of adjective for the given sentence:

The ship sustained \_\_\_\_\_ damage.

B.tremendous

C.extraordinary

D.heavy

Answer:

D.heavy

Reference ID:(9447)

इएसपीएन मल्टी-स्पोर्ट्स पुरस्कारामध्ये स्पोर्टपर्सन ऑफ दि इअर (पुरूष) 2019 चा विजेता खालीलपैकी कोण होता?

A.नीरज चोप्रा (मैदानी खेळ)

B.जसपाल राणा (निशानेबाजी)

C.प्रदीप कुमार बॅनर्जी (फुटबॉल)

D.सौरभ चौधरी (निशानेबाजी)

Answer:

A.नीरज चोप्रा (मैदानी खेळ)

Reference ID:(9429)

'आम्ही सकाळी लवकर उठू का?' या वाक्यातील आख्यात ओळखा.

A.ई-आख्यात

B.ऊ- आख्यात

C.ईलाख्यात

D.प्रथम ताख्यात

Answer:

B.ऊ- आख्यात

Reference ID:(9687)

जर  $A : B :: 11 : 5$  आणि  $B : C :: 6 : 7$ , तर  $A : C :: ?$



---

B.66 : 7

---

C.35 : 7

---

D.66 : 35

---

Answer:

D.66 : 35

---

Reference ID:(9196)

Choose the appropriate option with the correct punctuation marks for the given sentence:

when youre on a bicycle riding alone thats great

---

A.When youre on a bicycle riding alone that's great.

---

B.When you are on a bicycle; riding alone that is great.

---

C.When you're on a bicycle, riding alone, that's great!

---

D.When you're on a bicycle riding alone that is great!

---

Answer:

C.When you're on a bicycle, riding alone, that's great!

---

Reference ID:(9683)

एक व्यक्ती 300 मी लांबीचा रस्ता 5 मिनिटांत पार करतो. तर त्याचा किलोमीटरमध्ये ताशी वेग किती?

---

A.ताशी 3.6 किमी

---

B.ताशी 2.6 किमी

---

C.ताशी 7.2 किमी

---

D.ताशी 1.5 किमी

---

Answer:

A.ताशी 3.6 किमी

---

Reference ID:(9672)

एला बॅगेत अनुक्रमे 1:8:16 या गुणोत्तरामध्ये 1 रुपया, 50 पैसे आणि 25 पैशांची नाणी आहेत. जर बॅगेत एकूण 450 रुपये असतील तर 50 पैशांच्या नाण्यांची संख्या काढा.

A.400

B.300

C.200

D.100

Answer:

A.400

Reference ID:(9403)

Choose the option with the appropriate prefix to complete the given sentence:

Mrs. Sharma's husband works in the \_\_\_\_ communications department.

A.tele-

B.uni-

C.sub-

D.semi-

Answer:

A.tele-

Reference ID:(9446)

"दि ग्रेट डिसअपॉईंटमेंट: हाऊ नरेंद्र मोदी स्कांडर्ड ए युनिक अपोर्चुनिटी टु ट्रान्सफॉर्म दि इंडियन इकोनॉमी" या शीर्षकाच्या पुस्तकाचे लेखक कोण आहेत?

A.सलमान अनिस सोज

B.रघु कर्नाड

C.अमित चौधरी

D.रघु राम राजन

Answer:

A.सलमान अनिस सोज

Reference ID:(9673)

1 ते 15 पर्यंत संख्या असलेल्या तिकिटांना एकत्र केले जाते आणि यादृच्छिकपणे काढले जाते. काढलेल्या तिकीटावर 3 च्या पटीत असलेले संख्या असण्याची संभाव्यता काय आहे?

A.1/3

B.1/10

C.7/10

D.10/7

Answer:

A.1/3

Reference ID:(9200)

Fill in the blank with the correct noun for the given sentence:

The colour of food sends important \_\_\_\_\_ to our perceptions.

A.sign

B.signals

C.signage

D.signatures

Answer:

B.signals

Reference ID:(9432)

क्रियापदानुसार कर्त्याच्या योग्य रूपाची निवड करा.  
..... डोंगर चढले.

A.ते

B.तो

C.ती

D.आम्ही

Reference ID:(9405)

Choose the appropriate articles to complete the given sentence:

\_\_\_\_\_ apple \_\_\_\_\_ day keeps \_\_\_\_\_ doctor away.

A.The, a, an

B.Not required, an, a

C.An, a, the

D.An, the, a

Answer:

C.An, a, the

Reference ID:(9665)

स्टार्टअपब्लिंकद्वारे प्रसारीत केलेल्या माहितीनुसार, भारतामध्ये अत्यंत वेगवान स्टार्टअप परिस्थितीकीमध्ये खालीलपैकी कोणते शहर समाविष्ट झाले नाही?

A.बेंगलोर

B.नवी दिल्ली

C.मुंबई

D.भोपाळ

Answer:

D.भोपाळ

Reference ID:(9686)

एक नळ एका टाकीला 8 तासांत भरतो. टाकी अर्धी भरल्यावर तशाच प्रकारचे आणखी तीन नळ उघडण्यात आले. ती टाकी पूर्ण भरण्यासाठी एकूण किती वेळ लागेल?

A.5 तास

B.6 तास

C.4 तास

Answer: A.5 तास

Reference ID:(9441)

पुढील शब्दातील अधोरेखित अक्षर कोणत्या स्थानावरून उच्चारले जाते त्याप्रमाणे प्रकार ओळखा.  
चपला

A.तालव्य

B.दंततालव्य

C.कंठ्य

D.ओष्ठ्य

Answer: A.तालव्य

Reference ID:(9445)

6 एप्रिल 2019 मध्ये महाराष्ट्रात नवीन वर्षाचे स्वागत करण्यासाठी कोणता सण साजरा केला गेला?

A.ओणम

B.गुडीपाडवा

C.पुथांडु

D.बैसाखी

Answer: B.गुडीपाडवा

Reference ID:(9689)

परीक्षेमध्ये उत्तीर्ण होण्याचे गुण 40% आहेत. जर अशोकला 88 गुण मिळाले आणि त्याला 10 गुणांनी नापास झाल्याचे घोषित केले, तर परीक्षेमधील कमाल गुण किती होते?

A.240

B.242

D.246

Answer:

C.245

Reference ID:(9426)

पुढील वाक्याचा प्रकार ओळखा.  
गोपाळरावांना आनंदीबाईंना शिकवायचे होते म्हणून ते इतक्या दूरवर आले.

A.प्रश्नार्थी

B.मिश्र वाक्य

C.संयुक्त वाक्य

D.केवल वाक्य

Answer:

B.मिश्र वाक्य

Reference ID:(9450)

1955 च्या नागरिकत्व कायद्याच्या तरतूदीनुसार, भारताचे नागरिकत्व कसे मिळवले जाऊ शकत नाही?

A.जन्माने

B.नैसर्गिकरणाने

C.नोंदणीने

D.भारतीय बँकेमध्ये पैसे जमा करून

Answer:

D.भारतीय बँकेमध्ये पैसे जमा करून

Reference ID:(9671)

जर प्रत्येक संख्येमध्ये 1 ल्या आणि 3 न्या अंकाच्या स्थानाची अदलाबदल केली, तर पुनर्मांडणीनंतर खालीलपैकी कोणती सर्वात लहान संख्या असेल?

518, 725, 849, 387, 634

B.387

C.725

D.518

Answer:

A.634

Reference ID:(9668)

हरितगृह परिणामासाठी खालीलपैकी कोणता वायू जबाबदार असतो?

A.पाण्याचे बाष्प

B.नायट्रोजन

C.सल्फर डायऑक्साईड

D.ऑक्सिजन

Answer:

A.पाण्याचे बाष्प

Reference ID:(9656)

बॉम्बे रेडीओ क्लबद्वारे खालीलपैकी कोणत्या वर्षी पहिला रेडिओ कार्यक्रम प्रसारित केला गेला?

A.1920

B.1922

C.1923

D.1925

Answer:

C.1923

I \_\_\_\_\_ not able to enjoy my trip to the hill station as I \_\_\_\_\_ fever and \_\_\_\_\_ to take rest.

A.was, had, had

B.am, have, was

C.did, have, were

D.will, have, are

Answer:

A.was, had, had

Choose the option with the appropriate prefix to complete the given sentence:

\_\_\_\_\_consumption of junk foods may cause an Irritable Bowel Syndrome.

A.Over-

B.Mono-

C.Micro-

D.Non-

Answer:

A.Over-

Choose the correct form of verb that is in agreement with the subject:

The horse and trap \_\_\_\_\_ waiting for a long time yesterday.

A.has been

B.have been

C.were



Answer: D.had been

Reference ID:(9406)

Choose the correct form of verb for the given sentence:

Is it possible for you to go and \_\_\_\_\_ your sick grandmother today?

A.visits

B.visit

C.is visiting

D.was visiting

Answer: B.visit

Reference ID:(9682)

एका जत्रेचे प्रवेश शुल्क 250 रुपये होते. जेव्हा त्या शुल्कामध्ये 20% घट केली, तेव्हा तिकिटांच्या विक्रीमधून मिळणारे उत्पन्न हे 12% नी वाढले, पर्यटकांच्या संख्येमध्ये किती टक्के वाढ झाली होती.

A.20 %

B.40 %

C.46 %

D.52 %

Answer: B.40 %

Reference ID:(9664)

2019 मध्ये, पाकिस्तानने भारतामधून पश्चिमेकडील उड्डाणांसाठी एक मार्ग उघडला आहे जो \_\_\_\_\_ जवळून जातो आणि दक्षिण पाकिस्तानमध्ये प्रवेश करतो.

A.पंजाब

C.दिल्ली

D.मुंबई

Answer:

D.मुंबई

Reference ID:(9427)

पुढील वाक्य वाचून योग्य वाक्य ओळखा.

A.पाणवठ्यावरच्या ओल्या मातीत पक्ष्यांच्या पाऊलखुणा उमटले.

B.पाणवठ्यावरच्या ओल्या मातीत पक्ष्यांच्या पाऊलखुणा उमटल्या.

C.पाणवठ्यावरची ओल्या मातीत पक्ष्यांच्या पाऊलखुणा उमटली.

D.पाणवठ्यावरच ओल्या मातीत पक्ष्यांच्या पाऊलखूण उमटलो.

Answer:

B.पाणवठ्यावरच्या ओल्या मातीत पक्ष्यांच्या पाऊलखुणा उमटल्या.

Reference ID:(9423)

जोडशब्द नसलेल्या शब्दाचा पर्याय निवडा.

A.भातशेती

B.वृक्षवल्ली

C.झाडेझुडपे

D.झाडझाडोटा

Answer:

A.भातशेती

Reference ID:(9655)

"कायदा-तयार करण्याच्या पध्दतीची" कल्पना ही कोणत्या देशाच्या संविधानामधून भारतीय संविधानामध्ये स्वीकारली होती?

A.आयरीश

C.संयुक्त राष्ट्र

D.रशिया

Answer:

B.ब्रिटीश

Reference ID:(9653)

खालीलपैकी कोण मुंबईमधील किन्नर कार्यकर्ता आहे आणि त्याची 2019 मध्ये भारतीय निवडणूक आयोगाद्वारे निवडणूक दूत म्हणून नियुक्त करण्यात आली आहे?

A.गौरी सावंत

B.श्रुती कदम

C.श्रेया फडके

D.सुनैना टेंबे

Answer:

A.गौरी सावंत

Reference ID:(9404)

Choose the appropriate articles for the given sentence:

From \_\_\_\_ distance, \_\_\_\_\_ columns looked like \_\_\_\_\_ collection of poles.

A.the, no article, the

B.the, the, an

C.a, the, the

D.a, the, a

Answer:

D.a, the, a

Reference ID:(9408)

Which of the following options best combines the two given sentences?

She can read. She cannot write.

A.She can read but cannot write.

B.She can read and write.

C.She can read yet write.

D.She cannot read or write.

Answer:

A.She can read but cannot write.

Reference ID:(9663)

भारतीय संविधानाच्या अनुच्छेद 165 नुसार राज्याच्या महाधिवक्त्याची नियुक्ती कोण करतो?

A.राज्यपाल

B.उच्च न्यायालयाचे न्यायाधीश

C.मुख्य मंत्री

D.भारताचे मुख्य न्यायाधीश

Answer:

A.राज्यपाल

Reference ID:(9422)

जोडशब्द नसलेला शब्द ओळखा.

A.भोळाभाबडा

B.भांडणतंटा

C.भीडभाड

D.सुवर्णपदक

Answer:

D.सुवर्णपदक

A.इसवी सन 1674

B.इसवी सन 1672

C.इसवी सन 1673

D.इसवी सन 1675

Answer: A.इसवी सन 1674

Reference ID:(9438)

पुढील वाक्यांमध्ये योग्य ते अव्यय घाला.  
आपण चातकासारखी पावसाची वाट पाहतो आहोत, ----- पावसाने दडीच मारली आहे.

A.शिवाय

B.अथवा

C.पण

D.म्हणून

Answer: C.पण

Reference ID:(9676)

एका विद्यार्थ्याने एका संख्येला  $\frac{7}{5}$  ऐवजी  $\frac{5}{7}$  ने गुणले. गणनेमध्ये किती टक्के त्रुटी आली असेल?

A.38.97%

B.48.98%

C.57.97%

D.45.98%

Reference ID:(9431) अधोरेखित क्रियापदाचा योग्य प्रकार ओळखा.  
मंत्र्यांनी स्वतःच्या तालावर लोकांना नाचवले.

A.सकर्मक

B.अकर्मक

C.द्विकर्मक

D.प्रयोजक

Answer: D.प्रयोजक

Reference ID:(9685) 3 लागोपाठ येणाऱ्या संख्यांची सरासरी 9 आहे. या तीन संख्यांच्या मधली संख्या शोधा.

A.6

B.9

C.12

D.10

Answer: B.9

Reference ID:(25010) 1300 मुलं आणि 900 मुलींनी परीक्षेमध्ये सहभाग घेतला, 40% मुलं आणि 35% मुली उत्तीर्ण झाल्या. नापास झालेल्या एकूण विद्यार्थ्यांची टक्केवारी?

$$\frac{-3}{7} < \frac{-5}{7} < \frac{-8}{9} < \frac{8}{9}$$

$$\frac{-5}{7} < \frac{8}{9} < \frac{-3}{7} < \frac{8}{9}$$

$$\frac{-8}{9} < \frac{-5}{7} < \frac{-3}{7} < \frac{8}{9}$$

$$\frac{8}{9} < \frac{-3}{7} < \frac{-5}{7} < \frac{-8}{9}$$

Answer: \*\*\*\* THIS QUESTION IS DISCARDED \*\*\*\*

Reference ID:(9407) Choose the appropriate determiner for the sentence given:

I liked the film, but not \_\_\_\_\_ the songs were good.

A.many

B.some

C.all

D.much

Answer: C.all

Reference ID:(9414) Choose the most appropriate usage to fill in the blank in the given sentence.

Some of the parents talk \_\_\_\_\_ in parent-teacher meetings.

A.sensitive

B.sensible

C.sensibly

D.sensation

Answer: C.sensibly

पुढील वाक्यात पर्यायातील अचूक वाक्प्रचार निवडा.  
आमच्या घरातले सगळेच एकत्र खेळीमेळीने राहतात.

- A.कडुसं पडणे
- B.मनात घर करणे
- C.कुरापत काढणे
- D.गुण्यागोविंदाने नांदणे

Answer: D.गुण्यागोविंदाने नांदणे

Reference ID:(9680) प्रश्न चिन्हाच्या जागी काय यायला हवे?  
DCE, HGI, LKM, ?, TSU

- A.QOP
- B.WVX
- C.POQ
- D.ONP

Answer: C.POQ

Reference ID:(9435) गटात न बसणारा शब्द ओळखा.  
मोठे, लहान, उंच, जवळ

- A.मोठे
- B.लहान
- C.उंच
- D.जवळ

Answer: D.जवळ



A.22 एप्रिल, 1988

B.25 मे, 1980

C.20 मे, 1981

D.30 एप्रिल, 1978

Answer:

A.22 एप्रिल, 1988

Reference ID:(9678)

खाली दिलेल्या चार पत्त्यांपैकी कोणता पत्ता खाली दिलेल्या पत्त्याशी अचूकपणे जुळत नाही?

2 beach street  
Fremantle wa 6160  
Western australia  
9433 2066

(i)2 beach street  
Fremantle wa 6160  
Western australia  
9433 2066

(ii) 2 beach street  
Fremantle wa 6160  
Western australia  
9433 2066

(iii) 2 beach street  
Fremantle wa 6190  
Westenn australia  
9433 2066

(iv) 2 beach street  
Fremantle wa 6160  
Western australia  
9433 2066

A.i

B.ii

D.iv

Answer:

C.iii

Reference ID:(9439)

बोलणाऱ्याच्या तोंडचे शब्द दाखविण्याकरता कोणत्या चिन्हाचा वापर करतात?

A.एकेरी अवतरण

B.उद्गारचिन्ह

C.प्रश्नचिन्ह

D.दुहेरी अवतरण

Answer:

D.दुहेरी अवतरण

Reference ID:(9657)

खालीलपैकी कोण तुमन्स टेनिस असोसिएशन कोच ऑफ दि इयर पुरस्कार 2018 चे पहिले प्राप्तकर्ते बनले आहे?

A.सच्चा बाजिन

B.पेट्रा क्विटोवा

C.बेथानी माटेक-सैंड्स

D.अंशली पीटरसन

Reference ID:(9684)

खाली दिलेल्या मलिकेमध्ये अंकांचा एक विशिष्ट क्रम समाविष्ट आहे. चुकीचा क्रम ओळखा:

121, 169, 224, 289, 361, 441, 529

A.224

B.289

C.361

D.169

Answer:

A.224

Reference ID:(9401)

Choose the appropriate collective noun to complete the sentence:

A \_\_\_\_\_ is a group of people who live in a certain area.

A.community

B.family

C.neighbourhood

D.clan

Answer:

A.community

Reference ID:(9436)

पुढील नामाला अयोग्य विशेषणाचा पर्याय निवडा.  
हात

A.चिमुकला

B.राठ

D.मदतीचा

Answer:

C.रीठा

Reference ID:(9409)

Choose the correct form of modal auxiliary verb for the given sentence:

You \_\_\_\_\_ not give in to temptation.

A.could

B.should

C.may

D.might

Answer:

B.should

Reference ID:(9198)

Choose the correct form of adjective for the given sentence:

How many persons do you need to work as salesmen?

We need \_\_\_\_\_ people to work in Mumbai.

A.much

B.a little

C.little

D.a few

Answer:

D.a few

Reference ID:(9428)

खालील वाक्यातील विधेय ओळखा.

नोकरीतून येणारा पैसा कमी असला तरी माझे त्यात भागते.

B.येणारा

C.पैसा

D.भागते

Answer:

D.भागते

Reference ID:(9194)

Choose the option that has the correct spelling.

A.Prettier

B.Prettyer

C.Prettire

D.Prettiar

Answer:

A.Prettier

Reference ID:(9433)

पुढील वाक्यातील अव्ययाचा प्रकार ओळखा.  
'अहाहा! किती विलोभनीय आहे हे दृश्य!'

A.शब्दयोगी अव्यय

B.उभयान्वयी अव्यय

C.क्रियाविशेषण अव्यय

D.केवलप्रयोगी अव्यय

Answer:

D.केवलप्रयोगी अव्यय

Reference ID:(9412)

Choose the most suitable conjunction for the given sentence:

The team worked not only consistently \_\_\_\_\_ carefully.

A.likewise

B.besides

C.but also

D.moreover

Answer:

C.but also

Reference ID:(9430)

योग्य पर्यायाची निवड करा.  
बांगड्या -----

A.फुटली

B.फुटल्या

C.फुटले

D.फुटणे

Answer:

B.फुटल्या

Reference ID:(9418)

Choose the option that best expresses the meaning of the highlighted idiom/phrase:

The only reason he was working night and day and did not socialize was because he **thought of only money**.

A.Wealthy

B.Mercenary

C.Missionary

D.Omniscient

Reference ID:(9675)

जर जॉनची मांजर, एक आठवड्यामध्ये 1106 ग्रॅम कॅट फूड खाते, तर एका दिवसामध्ये ती किती कॅट फूट खात असेल?

A.160 ग्रॅम

B.158 ग्रॅम

C.221 ग्रॅम

D.92 ग्रॅम

Answer:

B.158 ग्रॅम

Reference ID:(9420)

दिलेल्या शब्दगटातून विरुद्धार्थी शब्द ओळखा.  
केस – दाट X -----

A.कुरळे

B.काळे

C.विरळ

D.लांब

Answer:

C.विरळ

Reference ID:(9437)

योग्य शब्द वापरा.  
मला चार ----- आहेत.

A.भाऊ

B.भावाला

C.भावाने

Reference ID:(9674)

एक नाव 18 किमी प्रति तासाच्या वेगाने प्रवास करते आणि एका फेरीमध्ये 540 किलोग्रॅम मासे घेऊन येते. 43,200 किलोग्रॅम मासे पकडण्यासाठी आवश्यक फेऱ्यांची संख्या \_\_\_\_\_ आहे.

A.30

B.80

C.300

D.2400

Answer:

B.80

Reference ID:(9652)

मार्च 2019 मध्ये सुरू झालेली हमसफर एक्सप्रेस पुण्याला महाराष्ट्रामधील खालीलपैकी कोणत्या स्थानकांशी जोडते?

A.इतवारी

B.अजनी

C.कळमना

D.खाप्री

Answer:

B.अजनी

Reference ID:(9449)

\_\_\_\_\_ आणि भारत शासनाने मुंबई मेट्रो रेल्वे यंत्रणेच्या दोन लाईन्स कार्यान्वित करण्यासाठी कर्जावर स्वाक्षरी केली आहे.



B. भारतीय औद्योगिक विकास बँक

C. डेव्हलपमेंट बँक ऑफ सिंगापूर (डीबीएस)

D. आशियाई विकास बँक (एडीबी)

Answer:

D. आशियाई विकास बँक (एडीबी)

Reference ID:(9667)

खालीलपैकी काय संपर्क बलाचे एक उदाहरण आहे?

A. गुरुत्व बल

B. विद्युतस्थितिक बल

C. घर्षण बल

D. चुंबकीय बल

Answer:

C. घर्षण बल

Reference ID:(9421)

दिलेल्या शब्दगटातून विरुद्धार्थी शब्द ओळखा.  
विद्यार्थी – पास X -----

A. हुशार

B. नापास

C. मूर्ख

D. मठ

Answer:

B. नापास

Reference ID:(9410)

Choose the appropriate prepositions for the given sentence:

The manufacture \_\_\_\_\_ computers is very essential \_\_\_\_\_ our economy.

A.of ... to

B.in ... for

C.on ... into

D.for ... off

Answer:

A.of ... to

Reference ID:(9901)

वडिल आणि मुलाचे वय हे अनुक्रमे 5:2 या गुणोत्तरात आहे. 8 वर्षांनंतर वडिलांचे वय हे मुलाच्या वयाच्या दुप्पट आहे. किती वर्षांमध्ये वडिलांचे वय हे मुलाच्या वयाच्या  $1\frac{1}{2}$  पट असेल?

A.32 वर्षे

B.22 वर्षे

C.12 वर्षे

D.17 वर्षे

Answer:

A.32 वर्षे

Reference ID:(9440)

कोणत्या विभक्तीत एकवचन आणि अनेकवचन या दोन्हीचे प्रत्यय नसतात?

A.प्रथमा

B.तृतीया

C.चतुर्थी

D.पंचमी

Answer:

A.प्रथमा

मार्च-2019 मध्ये \_\_\_\_\_ द्वारे स्थापन केलेल्या शांती विद्यापीठाने भारताच्या उपराष्ट्रपती ला मानद डॉक्टरेट ने सन्मानित केले आहे.

A.संयुक्त राष्ट्रे शैक्षणिक, वैज्ञानिक आणि सांस्कृतिक संघटना (युनेस्को)

B.जागतिक आरोग्य संघटना (डब्ल्यूएचओ)

C.संयुक्त राष्ट्र संघटना (यूएनओ)

D.उत्तर अटलांटिक संधि संघटना (नाटो)

Answer:

C.संयुक्त राष्ट्र संघटना (यूएनओ)

Reference ID:(9651)

भारताच्या राष्ट्रपतींनी जामिया मिल्लिया इस्लामिया विद्यापीठाच्या पहिल्या महिला उप कुलपती म्हणून खालीलपैकी कोणाची नियुक्ती केली?

A.प्रा. नजमा अख्तर

B.प्रा. झोया हसन

C.डॉ. राधा बालाकृष्णन

D.डॉ. मिनाक्षी बॅनर्जी

Answer:

A.प्रा. नजमा अख्तर

Reference ID:(9416)

Out of the following options, identify a compound sentence.

A.After the storm the whole place looked messy.

B.Should we wait for others, or start our dinner?

C.The children loved their day at the zoo.

D.The match was continued after the rain.

Answer:

B.Should we wait for others, or start our dinner?

A.65

B.85

C.75

D.95

Answer:

C.75

Reference ID:(9681)

रिकाम्या जागी योग्य संख्या निवडून श्रृंखला पूर्ण करा:

6, 11, 21, 36, 56, \_\_\_\_\_, 111

A.61

B.71

C.81

D.91

Answer:

C.81

Reference ID:(9444)

2019 मध्ये, केंद्रीय गृहमंत्रालयाने उत्तर प्रदेश शासनाच्या कोणत्या शहराचे नाव 'प्रयागराज' करण्याच्या प्रस्तावास मंजूर केले?

A.गोरखपूर

B.वाराणसी

C.लखनऊ

D.अलाहबाद

Answer:

D.अलाहबाद

Date of Exam : 11-07-2019 02:30 PM

Reference ID:(10234) सरासरी काढा.  
88, 98, 48, 28, 38 & 18

A.88

B.48

C.18

D.53

Answer: D.53

Reference ID:(9927) खाली दिलेल्या शब्दसमूहातून समानार्थी नसणारा शब्द पर्याय ओळखा.

A.मुलगी- सुता, दुहिता, कन्या

B.मुलगा- सुत, पुत्र, तनय

C.कमळ- सुम, सुमन, पुष्प

D.हुशार- चतुर, चलाख, तरबेज

Answer: C.कमळ- सुम, सुमन, पुष्प

Reference ID:(10210) भारतामधील खालीलपैकी कोणत्या ठिकाणी छत्रपती शिवाजी महाराज आणि त्यांच्या मुलाला औरंगजेबने नजरकैदेत ठेवले होते?

A.दिल्ली

B.बीजापुर

C.अहमदनगर

Answer:

D.आम्रा

Reference ID:(9940)

क्रियापदानुसार कर्त्याच्या योग्य रूपाची निवड करा.  
..... गावाला गेले.

A.तो

B.तुम्ही

C.आम्ही

D.ते

Answer:

D.ते

Reference ID:(9915)

Choose the most suitable determiner for the given sentence.

She always keeps \_\_\_\_\_ money in her wallet for emergencies.

A.any

B.every

C.some

D.much

Answer:

C.some

Reference ID:(10224)

'भेरी शेती' कशाचा संदर्भ देते:

A.आवळ्यांच्या जंगलीप्रकाराला वाढवणे

B.देशी दुभत्या प्रजातीचे पालन करणे

D.मैदानांच्या सिंचनासाठी वापरले जाणारे प्राचीन कालवा सिंचन.

Answer:

C.पश्चिम बंगालमध्ये आढळणारा मत्स्य शेतीचा प्रकार

Reference ID:(10227)

तीन व्यक्ती राघव, अमित आणि सुरेशचे वर्तमान वय अनुक्रमे 7:4:9 च्या गुणोत्तरात आहे. आठ वर्षांपूर्वी, त्यांच्या वयांची बरीज 56 होती. त्यांच्या वर्तमान वयांचे संबंधित गुणोत्तर काढा?

A.8 वर्ष, 20 वर्ष, 28 वर्ष

B.28 वर्ष, 16 वर्ष, 36 वर्ष

C.20 वर्ष, 35 वर्ष, 45 वर्ष

D.13 वर्ष, 16 वर्ष, 25 वर्ष

Answer:

B.28 वर्ष, 16 वर्ष, 36 वर्ष

Reference ID:(10239)

एका खांबाचा एक तृतीयांश भाग जर जमिनीखाली असेल, एक चतुर्थांश भाग जर पाण्यात बुडालेला असेल आणि राहिलेला 5 मीटर पाण्यावर दिसत असेल तर खांबाची एकूण लांबी किती?

A.12 मीटर

B.10 मीटर

C.9 मीटर

D.8 मीटर

Answer:

A.12 मीटर

Reference ID:(10213)

मुंबईमध्ये दरवर्षी आयोजित केला जाणारा बाणगंगा महोत्सवाद्वारे, \_\_\_\_\_ देवाला संगीतमय श्रद्धांजली दिली जाते.

B.विष्णू

C.राम

D.गणेश

Answer:

C.राम

Reference ID:(10212)

भारतात खालीलपैकी कोणत्या राज्यामध्ये ऑरेंज व्याघ्र अभयारण्य स्थित आहे?

A.कर्नाटक

B.आसाम

C.मध्य प्रदेश

D.पश्चिम बंगाल

Answer:

B.आसाम

Reference ID:(9911)

Choose the option with the appropriate suffix to complete the given sentence:

The dog made himself comfort\_\_\_\_\_ in front of the cooler as it was a very hot day.

A.-sion

B.-tion

C.-able

D.-ing

Answer:

C.-able



A.निळी

B.बहिर्वक्र

C.अपारदर्शक

D.गुळगुळीत

Answer:

C.अपारदर्शक

प्रश्नाचे उत्तर देण्यासाठी खालील माहितीचा काळजीपूर्वक अभ्यास करा.  
3 D K \$ P 2 7 # @ 4 J T H 9 \* F M R 1 5 % ? 6 8

खालील पाचपैकी चार हे वरील मांडणीमधील त्यांच्या स्थानावर आधारित विशिष्ट प्रकारे सारखे आहेत त्यामुळे त्यांचा एक गट बनतो. कोण या गटाशी संबंधित नाही?

A.8%

B.9M

C.@T

D.\$7

Answer:

A.8%

Choose the correct form of adjective for the given sentence:

They missed a \_\_\_\_\_ opportunity.

C.golden

D.major

Answer:

C.golden

Reference ID:(9932)

खालील वाक्यातील अधोरेखित शब्दाचे लिंग ओळखा.  
आईने माळ आणली.

A.पुल्लिंग

B.स्त्रीलिंग

C.नपुसकलिंग

D.उभयलिंग

Answer:

B.स्त्रीलिंग

Reference ID:(10229)

एका लॉटरी मध्ये, 7 बक्षिसे आणि 21 रिक्त आहेत. जर यादृच्छिक रूपामध्ये लॉटरी काढली, तर बक्षिस मिळण्याची संभाव्यता काय आहे?

A.1/4

B.2/5

C.3/5

D.1/10

Answer:

A.1/4

Reference ID:(10222)

48 मतदार संघांमधून 2019 लोक सभा निवडणूक लढवण्यास सात डॉक्टरांचा परिचय देणाऱ्या एकमेव राज्याचे नाव काय आहे?

B.मध्यप्रदेश

C.महाराष्ट्र

D.आंध्र प्रदेश

Answer:

C.महाराष्ट्र

Reference ID:(25011)

450 रुपयांच्या दराने 100 सफरचंद खरेदी केली आणि 60 रुपये प्रति डझनच्या दराने त्यांची विक्री करण्यात आली. नफा किंवा तोट्याची टक्केवारी आहे:

 $11\frac{1}{9}\%$  नफा

 $9\frac{1}{11}\%$  तोटा

 $1\frac{9}{11}\%$  नफा

 $9\frac{11}{1}\%$  तोटा

Answer:

 $11\frac{1}{9}\%$  नफा

Reference ID:(9902)

Choose the option that has the correct spelling.

A.Maegistrate

B.Magistrate

C.Magestrate

Answer: B.Magistrate

Reference ID:(10232) 74 पुस्तके आणि 106 पेनांची एकूण किंमत 1910 रुपये आहे, तर 106 पुस्तके आणि 74 पेनांची एकूण किंमत 2230 रुपये आहे. एक पुस्तक आणि एक पेनाची किंमत काढा:

A.25 रुपये

B.37 रुपये

C.30 रुपये

D.23 रुपये

Answer: D.23 रुपये

Reference ID:(10228) जग्गाचे वय हे त्याच्या मुलाच्या वयाच्या तीन पट आहे. सहा वर्षांपूर्वी, जग्गाचे वय हे त्यावेळच्या त्याच्या मुलाच्या वयाच्या पाचपट होते. जग्गाचे वर्तमान वय काढा.

A.35 वर्षे

B.36 वर्षे

C.37 वर्षे

D.38 वर्षे

Answer: B.36 वर्षे

Reference ID:(10245) दुधात 5% पाणी आहे. 8 लिटर दुधात किती शुद्ध दूध मिसळावं लागेल जेणेकरून पाण्याचे प्रमाण 4% होईल?

A.3 लिटर

B.2 लिटर

D.1 लिटर

Answer:

B.2 लिटर

Reference ID:(9929)

दिलेल्या शब्दागटातून विरुद्धार्थी शब्द ओळखा.  
मंदिर – प्राचीन X -----

A.दगडी

B.जीर्ण

C.अर्वाचीन

D.भग्न

Answer:

C.अर्वाचीन

Reference ID:(10231)

काही खेळणी 18 मुलांमध्ये एकसारखी अशाप्रकारे वितरीत केली की प्रत्येक मुलाला मिळणाऱ्या खेळण्यांची संख्या ही मुलांच्या संख्येइतकीच होती, आणि वितरणानंतर 6 खेळणी बाकी राहिली. खेळण्यांची एकूण संख्या काय होती?

A.324

B.330

C.336

D.320

Answer:

B.330

Reference ID:(9944)

पुढील वाक्यांमधील विशेषण ओळखा.  
मीना वाटते हळूबाई, पण तिच्या कामाचा उरका जबरदस्त आहे.

B.उरका

C.जबरदस्त

D.पण

Answer:

C.जबरदस्त

Reference ID:(25012)

40 किलोग्रॅम साखर आणि पाण्याच्या 2% द्रावणाला 10% द्रावणापर्यंत वाढवण्यासाठी किती किलोग्रॅम शुद्ध साखर मिसळली जायला हवी?

 $3\frac{9}{5}$  किग्रॅ

 $3\frac{5}{9}$  किग्रॅ

 $9\frac{3}{5}$  किग्रॅ

 $9\frac{5}{3}$  किग्रॅ

Answer:

 $3\frac{5}{9}$  किग्रॅ

Reference ID:(10248)

दिलेल्या प्रश्नामध्ये खाली दिलेल्या कोड आणि त्यापुढील अटीनुसार अक्षर समूहाला संख्या/चिन्हांना संकेतबद्ध करायचे आहे.

अक्षर	P	D	A	F	L	H	M	R	K	T	B	E	U
संकेत	3	6	#	8	\$	4	2	7	@	9	5	1	%

अट: जर पहिले अक्षर स्वर असेल आणि शेवटचे अक्षर व्यंजन असेल, तर दोन्हींना 0 असे कूटबद्ध केले जाईल.

'EDRTMP' साठी काय संकेत आहे?

A.067920

B.167932

D.067923

Answer:

A.067920

Reference ID:(9905)

Out of the following options, choose the rightly punctuated sentence.

A.Then there are the can't do types" who want to maintain the status quo.

B.Then there are the "can't do" types who want to maintain the status quo.

C.Then there are "the can't do types" who want to maintain the status quo

D.Then there are the can't do types who want to maintain the status quo!

Answer:

B.Then there are the "can't do" types who want to maintain the status quo.

Reference ID:(10223)

कोणत्या बँकेने एमएसएमइ बिल वटववणीसाठी एम1एक्सचेंज ट्रेड रिसिक्वेबल्स डिस्कांऊंटिंग सिस्टीम प्लॅटफॉर्मसोबत भागीदारी केली आहे?

A.बँक ऑफ इंडिया (बीओआय)

B.बँक ऑफ महाराष्ट्र (बीओएम)

C.बँक ऑफ हैदराबाद (बीओएच)

D.भारतीय स्टेट बँक (एसबीआय)

Answer:

B.बँक ऑफ महाराष्ट्र (बीओएम)

---

A.प्रश्नार्थी

---

B.मिश्र वाक्य

---

C.संयुक्त वाक्य

---

D.केवल वाक्य

---

Answer:

C.संयुक्त वाक्य

---

---

A.नाम

---

B.विभक्ती

---

C.क्रियाविशेषण अव्यय

---

D.अव्यये

---

Answer:

C.क्रियाविशेषण अव्यय

---

---

A.ओष्ठ्या

---

B.तालव्य



---

D.कंठ्य

---

Answer:

B.तालव्य

---

Reference ID:(10216)

10 मार्च 2019 रोजी केंद्रीय उद्योग सुरक्षा दल (सीआयएसएफ) चा 50 वा स्थापना दिवस \_\_\_\_\_ येथे आयोजित करण्यात आला.

---

A.विशाखापट्टनम

B.गाझियाबाद

C.नोएडा

D.मसूरी

---

Answer:

B.गाझियाबाद

---

Reference ID:(9920)

Choose the correct form of conjunction for the given sentence:

The children went to see the horror movie, \_\_\_\_\_ they had been warned not to do so.

---

A.since

B.as though

C.as

D.although

---

Answer:

D.although

---

Reference ID:(9919)

Choose the appropriate prepositional phrase for the given sentence:

The little boy was continually \_\_\_\_\_ the toys \_\_\_\_\_ the shop.

A. tripping over, at

B. falling down, with

C. breaking up, around

D. knocking over, in

Answer:

D. knocking over, in

Reference ID:(10201)

पुढील वाक्यात पर्यायातील अचूक वाक्प्रचार निवडा.  
स्पर्धा जिंकल्यावर साहजिकच स्पर्धकांना खूपच आनंद झाला.

A. त्रिभुवन ठेंगणे होणे

B. इकडे आड तिकडे विहीर होणे

C. बुचकळ्यात पडणे

D. आश्चर्य वाटणे

Answer:

A. त्रिभुवन ठेंगणे होणे

Reference ID:(10225)

वाहनांमध्ये वापरला जाणारा मागचे दृश्य दाखवणारा आरसा \_\_\_\_\_ असतो.

A. अंतर्वक्र आरसा

B. अन्वस्तीय आरसा

C. सपाट आरसा

D. बहिर्वक्र आरसा

Answer:

D. बहिर्वक्र आरसा

I have often \_\_\_\_\_, why they went to live abroad.

A.wondered

B.surprised

C.thought

D.puzzled

Answer:

A.wondered

Reference ID:(10246)

अल्कोहोलचे प्रमाण 10% असलेल्या एका 500 मिली द्रावणात किती शुद्ध अल्कोहोल टाकावे लागेल जेणेकरून नव्या द्रावणातील अल्कोहोलचे प्रमाण 20% होईल?

A.62.5 मिली

B.45.5 मिली

C.50 मिली

D.60 मिली

Answer:

A.62.5 मिली

Reference ID:(10241)

जर  $A : B :: 6 : 11$  आणि  $B : C :: 6 : 7$ , तर  $A : C :: ?$

A.66 : 77

B.36 : 77

C.36 : 66

D.6 : 13

Answer:

B.36 : 77

The most senior teacher was given add\_\_\_\_\_ charge as principal.

A.-ing

B.-ition

C.-itional

D.-ed

Answer:

C.-itional

Reference ID:(10206)

महाराष्ट्र प्रशासकीय न्यायासन कधी स्थापित झाले?

A.7 जुलै 1990

B.8 जुलै, 1991

C.10 जून, 1992

D.15 जून, 1999

Answer:

B.8 जुलै, 1991

Reference ID:(10203)

खालीलपैकी कोणी समग्र इतिहासामध्ये त्यांच्या कामासाठी 'पास्ट टाईम डायमेंशन' श्रेणीमध्ये इस्राइलचा प्रतिष्ठित डॅन डेव्हीड पुरस्कार जिंकला?

A.संजय सुब्रमण्यम

B.एस जयशंकर

C.सय्यद अकबरुद्दीन

D.ब्राजेश मिश्रा

Answer:

A.संजय सुब्रमण्यम

Reference ID:(9921)

Choose the appropriate conjunction for the given sentence:

The proposal cannot be considered valid \_\_\_\_\_ it is signed by all the existing members of the Board.

A.unless

B.whereas

C.however

D.but

Answer:

A.unless

Reference ID:(9946)

पुढील वाक्यांमध्ये योग्य ते अव्यय घाला.  
माणसाला ज्ञान हवे ----- धन, हा अवघड प्रश्न आहे.

A.की

B.पण

C.व

D.परी

Answer:

A.की

Reference ID:(10219)

पंत प्रधान नरेंद्र मोदी यांनी "एप्रिल 2019-मार्च 2020" ला काय म्हणून घोषित केले?

A.बांधकाम-तंत्रज्ञान वर्ष

B.निर्माण-तंत्रज्ञान वर्ष

C.मुलभूत सुविधा-नव उपक्रम वर्ष

D.अन्न-उत्पादन वर्ष

Answer:

A.बांधकाम-तंत्रज्ञान वर्ष

Sabka ek bhaijaan

Sabka ek bhaijaan

Sabka ek bhaijaan

Reference ID:(9909)

Choose the appropriate collective noun to complete the sentence:

A \_\_\_\_\_ is a group of dancers.

A.troop

B.troupe

C.team

D.committee

Answer:

B.troupe

Reference ID:(10218)

ऑल इंग्लंड ओपन बॅडमिंटन चॅम्पियनशिप 2019 मध्ये महिला एकेरी कोणी जिंकली?

Sabka ek bhaijaan

Sabka ek bhaijaan

Sabka ek bhaijaan

A.चेन युफेइ

B.ताई तुझु यिंग

C.पी.व्ही. सिंधू

D.नाझोमी ओकुहारा

Answer:

A.चेन युफेइ

Reference ID:(10204)

1992 मध्ये खालीलपैकी कोणत्या उद्योगपतीने भारत रत्न पुरस्कार जिंकला होता?

A.जे.आर.डी.टाटा

B.धीरुभाई अंबानी

C.राहुल बजाज

D.अजीम प्रेमजी

Sabka ek bhaijaan

Sabka ek bhaijaan

Sabka ek bhaijaan

Answer:

A.जे.आर.डी.टाटा

Sabka ek bhaijaan

Sabka ek bhaijaan

Sabka ek bhaijaan

Reference ID:(10215)

खालीलपैकी कोणत्या संघाने आगा खान गोल्ड कप हॉकी टूर्नामेंट-2018 जिंकली?

A.भारतीय पोलाद प्राधिकरणाची हॉकी अकादमी

B.आर्मी XI दानापूर

C.मध्यप्रदेश हॉकी अकादमी

D.पंजाब पॅथर्स

Answer:

A.भारतीय पोलाद प्राधिकरणाची हॉकी अकादमी

Reference ID:(9925)

Choose the correct form of tense for the given sentence:

The coach asked Jennifer, " \_\_\_\_\_ your tennis yesterday during the time \_\_\_\_\_ to you?"

A. Did you practice , allotted

B. Did you practiced, allot

C. Have you practice, allotting

D. Are you practicing, allotted

Answer:

A. Did you practice , allotted

Reference ID:(10221)

सुरजागड डोंगर हे महाराष्ट्राच्या गडचिरोली जिल्ह्यामधील \_\_\_\_\_ तालुक्यात स्थित आहेत.

A.कोरची

B.अहेरी

C.एटापल्ली

Sabka ek bhaijaan

Sabka ek bhaijaan

Sabka ek bhaijaan

Answer:

C.एटापल्ली

Reference ID:(10240)

100 मीटर आणि 200 मीटर लांबी असलेल्या दोन रेल्वेना विरुद्ध दिशेने ताशी 100 किमी आणि 80 किमी वेगात परस्परांना ओलांडण्यास किती वेळ लागेल?

A.5 सेकंद

B.6 सेकंद

C.7 सेकंद

D.8 सेकंद

Answer:

B.6 सेकंद

Reference ID:(10211)

खालीलपैकी कोणता समुद्र किनारा हा महाराष्ट्राच्या रत्नागिरी जिल्ह्यामध्ये स्थित आहे?

A.जुहू

B.हरनाई आणि मुरूड

C.बोर्डी डहाणू

D.अलिबाग

Answer:

B.हरनाई आणि मुरूड

Reference ID:(9918)

Choose the appropriate prepositions for the given sentence:

\_\_\_\_\_ a man \_\_\_\_\_ his age, he is \_\_\_\_\_ very good shape.

A.From, to, for

B.From, of, from



D.To, at, in

Answer:

C.For, of, in

Reference ID:(10247)

अ विभागातील 75 विद्यार्थ्यांचे सरासरी वजन 60 किलो आहे तर त्याच वर्गातल्या ब विभागातील 25 विद्यार्थ्यांचे सरासरी वजन 52 किलो आहे. तर त्या वर्गातील सगळ्या 100 विद्यार्थ्यांचे अंदाजे सरासरी वजन काढा.

A.52

B.56

C.58

D.60

Answer:

C.58

Reference ID:(9926)

Choose the option that best expresses the meaning of the highlighted idiom/phrase:

The glass on the window **could be seen through easily** and everyone liked it.

A.Designer

B.Transparent

C.Opaque

D.Cloudy

Answer:

B.Transparent

A.सोमवार

B.मंगळवार

C.बुधवार

D.गुरुवार

Answer:

B.मंगळवार

Reference ID:(9939)

अधोरेखित क्रियापदाचा योग्य प्रकार ओळखा.  
काकूने दूध झाकून ठेवले.

A.भावे

B.कर्मणी

C.कर्तरी


D.साधित

Answer:


D.साधित

Reference ID:(10451)


खाली दिलेल्या क्रमामध्ये, पुढे कोणती आकृती येईल?



i




ii




iii



iv





Sabka ek bhaijaan




Sabka ek bhaijaan

Sabka ek bhaijaan



Answer:



Reference ID:(9950)

पुढील वाक्यचारांच्या योग्य अर्थाचा पर्याय निवडा.  
कंबर खचणे-

Sabka ek bhaijaan

A. शारीरिक थकवा जाणवणे

B. खड्ड्यात पडणे

C. संकट कोसळणे

D. निराश होणे

Answer:

D. निराश होणे

Reference ID:(9937)

'पाऊस आला असता तर येणे झाले नसते' वाक्यातील आख्यात ओळखा.

Sabka ek bhaijaan

Sabka ek bhaijaan

Sabka ek bhaijaan

B.लाख्यात

C.द्वितीय-ताख्यात

D.वाख्यात

Answer:

C.द्वितीय-ताख्यात

Reference ID:(9913)

Choose the appropriate articles to complete the given sentence:

There has been \_\_\_\_\_ accident. \_\_\_\_\_ truck hit \_\_\_\_\_ boy who was cycling by \_\_\_\_\_ side of the road.

A.the, The, a, an

B.a, A, the, the

C.the, The, an, the

D.an, A, a, the

Answer:

D.an, A, a, the

Reference ID:(9922)

Choose the most appropriate usage to fill in the blank in the given sentence:

The parents asked the principal to \_\_\_\_\_ his decision about the Sports Day.

A.unconsider

B.reconsider

C.considered

D.consideration

Answer:

B.reconsider

A.माऊंटस्टुअर्ट एल्फिन्स्टन

B.वेलस्ली

C.मिंटो

D.विल्यम बेंटीक

Answer:

A.माऊंटस्टुअर्ट एल्फिन्स्टन

Reference ID:(9930)

जोडशब्द नसलेला शब्द ओळखा.

A.बाजारहाट

B.भाजीपाला

C.विद्यापीठ

D.भाकरतुकडा

Answer:

C.विद्यापीठ

Reference ID:(10230)

एक नाणे उधळले जाते. छापा मिळण्याची संभाव्यता काय आहे?

A.1/2

B.1/3

C.1/4

D.1/5

Answer:

A.1/2

A.भांडणतंटा

B.तंटाबखेडा

C.दानशूर

D.थांगपत्ता

Answer:

C.दानशूर

Reference ID:(9938)

योग्य पर्यायाची निवड करा.  
झाड -----

A.पडतो

B.पडे

C.पडले

D.पडली

Answer:

C.पडले

Reference ID:(9934)

पुढील वाक्याचा प्रकार ओळखा.  
तो दुःखद प्रसंग पाहिला आणि सर्वांच्या डोळ्यात पाणी उभे राहिले

A.प्रश्नार्थी

B.मिश्र वाक्य

C.संयुक्त वाक्य

D.केवल वाक्य

Answer:

C.संयुक्त वाक्य

A.57

B.60

C.62

D.59

Answer:

B.60

Reference ID:(10238)

रिकाम्या जागी योग्य संख्या निवडून श्रृंखला पूर्ण करा:

1, 3, 7, 15, 31, \_\_\_\_\_

A.60

B.65

Sabka ek bhaijaan

C.62

Sabka ek bhaijaan

Sabka ek bhaijaan

D.63

Answer:

D.63

Reference ID:(10243)

अशी सर्वात लहान संख्या कोणती असेल जिने 30375 ला भागले असता येणाऱ्या भागाकाराचे घनमूळ प्राप्त होऊ शकेल?

A.5

B.25

C.3

D.9

Answer:

D.9

पुढील पुढील वाक्यातील विरामचिन्ह ओळखा.  
रवीन्द्र नाथांवर उपनिषदे-कबीर यांचा परिणाम झाला आहे.

A.संयोगचिन्ह

B.उद्गारचिन्ह

C.अवतरण चिन्ह

D.प्रश्नचिन्ह

Answer:

A.संयोगचिन्ह

Reference ID:(10233)

शिमलामध्ये सकाळचे तापमान 0°से. च्या वर 5°से. आहे आणि संध्याकाळाचे तापमान 0°से च्या खाली 3°से आहे. तापमानामध्ये किती बदल झाला?

A.5°C

B.7°C

C.8°C

D.2°C

Answer:

C.8°C

Reference ID:(9917)

Choose the correct form of modal auxiliary verb for the given sentence:

Walk carefully lest you \_\_\_\_\_ fall.

A.could

B.need

C.would

D.should

Answer:

D.should



Reference ID:(10242) खालीलपैकी कोणती संख्या एक पूर्ण वर्ग नाही?

A.2025

B.14641

C.4761

D.1152

Answer: D.1152

Reference ID:(10217) 8 वे थिएटर ऑलिंपिक चे भारताच्या 17 शहरांमध्ये 51 दिवसांच्या शानदार कामगिरीनंतर 6 एप्रिल 2018 रोजी \_\_\_\_\_ येथे समाप्त झाले.

A.बंगलोर

B.नवी दिल्ली

C.कोचीन

D.मुंबई

Answer: D.मुंबई

Reference ID:(10226) खालीलपैकी कोणता जैविक विघटन होणारा पदार्थ आहे?

A.लोकरीचा कपडा

B.नायलॉनचे कोव्याचे जाळे

C.प्लास्टिकची वस्तू

D.पीव्हीसी पाईप

Answer: A.लोकरीचा कपडा

Reference ID:(9924)

Out of the following options, identify a compound sentence.

A.We usually greet whenever we see our teachers.

B.The pen is mightier than the sword.

C.Mary's lamb followed the girl wherever she went.

D.The family had no provisions, nor did they have the money to buy them.

Answer:

D.The family had no provisions, nor did they have the money to buy them.

Reference ID:(9941)

पुढील वाक्यातील अव्ययाचा प्रकार ओळखा.  
'अरे वा! छान जमून आलाय हां आजचा बेत!'

A.उभयान्वयी अव्यय

B.शब्दयोगी अव्यय

C.केवलप्रयोगी अव्यय

D.क्रियाविशेषण अव्यय

Answer:

C.केवलप्रयोगी अव्यय

Reference ID:(9908)

Fill in the blank with the correct noun for the given sentence:

Flashes of \_\_\_\_\_ happen in practically all areas of human life.

A.perception

B.inspiration

C.expiration

D.interaction

Reference ID:(10208)

17 जानेवारी 2019 रोजी 'दीनदयाल विकलांग पुनर्वसन योजने (डीडीआरएस)' ची प्रादेशिक परिषद कुठे आयोजित केली गेली होती?

A.मुंबई

B.दिल्ली

C.कोलकाता

D.पुणे

Answer:

A.मुंबई

Reference ID:(9945)

योग्य शब्द वापरा.  
काल ----- पडल्या.

A.गारांनी

B.गारे

C.गारा

D.गारी

Answer:

C.गारा

Reference ID:(9923)

Choose the correct form of verb that is in agreement with the subject:  
The cost of all these articles \_\_\_\_\_ risen.

A.has

B.had

C.are

Reference ID:(10207)

\_\_\_\_\_ शासनाने 2019 वर्षापर्यंत राज्याला दुष्काळ-मुक्त करण्याच्या प्रस्तावासह "जलयुक्त शिवार अभियान" प्रकल्प सुरू केला.

A.पंजाब

B.मध्य प्रदेश

C.महाराष्ट्र

D.गुजरात

Answer:

C.महाराष्ट्र

Reference ID:(10235)

खाली दिलेल्या चार पत्त्यांपैकी कोणता पत्ता खाली दिलेल्या पत्त्याशी अचूकपणे जुळत नाही?

110-110/1 Sukhumvit Road, between (Soi 4-6) Bangkok 10110, Thailand  
+66 2 656 8220

(i) 110-110/1 Sukhumvit Road, between (Soi 4-6) Bangkok 10110, Thailand  
+66 2 656 8220

(ii) 110-110/1 Sukhumvit Road, between (Soi 4-6) Bangkok 10110, Thailand  
+66 2 656 8220

(iii) 110-110-1 Sukhumvit Road, between (Soi 4\_6) Bangkok 10110,  
Thailand  
+66 2 656 8220

(iv) 110-110/1 Sukhumvit Road, between (Soi 4-6) Bangkok 10110, Thailand  
+66 2 656 8220

A.i

B.ii

D.iv

Answer:

C.iii

Reference ID:(9907)

Choose the correct form of adjective for the given sentence:

The \_\_\_\_\_ candle flickered and went out.

A.burnt

B.bright

C.lighted

D.big

Answer:

C.lighted

Reference ID:(9948)

प्रथमा विभक्तीच्या प्रत्ययांचे इतर विभक्तीप्रत्ययांपेक्षा असणारे वेगळेपण कोणते?

A.प्रथमा विभक्तीत एकवचन व अनेकवचनात प्रत्यय नसतात.

B.प्रथमा विभक्तीचे प्रत्यय संबोधनासारखेच असतात.

C.प्रथमा विभक्तीचे प्रत्यय चा, ची, चे हे आहेत.

D.प्रथमा विभक्तीचे प्रत्यय इतर सर्व विभक्ती प्रत्ययांसारखे असतात.

Answer:

A.प्रथमा विभक्तीत एकवचन व अनेकवचनात प्रत्यय नसतात.

Reference ID:(9916)

Which of the following options best combines the two given sentences?

Sita has a pen. Sita has a pencil.

- A.Sita has a pen but a pencil.
- B.Having a pen, Sita has a pencil.
- C.Sita has a pen and a pencil.
- D.Sita has a pen, she has an pencil.

Answer: C.Sita has a pen and a pencil.

Reference ID:(10214)

महाराष्ट्रामध्ये 2014 च्या लोकसभा निवडणूकीमध्ये एनडीएद्वारे किती जागा जिंकल्या होत्या?

- A.35
- B.38
- C.40
- D.41

Answer: D.41

Reference ID:(9943)

गटात न बसणारा शब्द ओळखा.  
धडा, धाड, धिप्पाड, धोका

- A.धडा
- B.धाड
- C.धिप्पाड
- D. धोका

Answer: C.धिप्पाड

Reference ID:(10202) 2014 मध्ये तयार झालेल्या कोणत्या नवीन भारतीय राज्यासाठी, एका वेगळ्या उच्च न्यायालयाने कार्य करण्यास 1 जानेवारी, 2019 पासून सुरुवात केली?

A.तेलंगणा

B.उत्तराखंड

C.झारखंड

D.छत्तीसगड

Answer: A.तेलंगणा

Reference ID:(9904) Choose the appropriate option with the correct punctuation marks for the given sentence:

january and february are often cold wet and grey in Portugal

A.January and February are often cold wet and grey in portugal.

B.January and february are often cold wet, and grey in portugal.

C.January and february are often cold, wet and grey in portugal

D.January and February are often cold, wet, and grey in Portugal.

Answer: D.January and February are often cold, wet, and grey in Portugal.

Reference ID:(9936) पुढील वाक्यातील उद्देश्यविस्तार ओळखा.  
भारतावरील इंग्रजांचे साम्राज्य संपुष्टात आले.

B.साम्राज्य

C.आले

D.संपुष्टात

Answer:

A.भारतावरील इंग्रजांचे

Reference ID:(10205)

निवडणूक आयोगाने तेलंगणाच्या कोणत्या संसदीय मतदार संघामध्ये मतपत्रिकांच्या वापराविरुद्ध निर्णय घेतला?

A.निझामाबाद

B.अदिलाबाद

C.नालगोंडा

D.वारंगल

Answer:

A.निझामाबाद

Reference ID:(9935)

पुढील वाक्य वाचून योग्य वाक्य ओळखा.

A.वेळूच्या घनदाट बनात वारा घुमते.

B.वेळूच्या घनदाट बनात वारा घुमातात.

C.वेळूच्या घनदाट बनात वारा घुमतो.

D.वेळूच्या घनदाट बनाला वारा घुमती.

Answer:

C.वेळूच्या घनदाट बनात वारा घुमतो.



Reference ID:(10209)

एलिस जी. वैद्यन यांनी 2019 मधील इटी प्राईम 'वर्षाची महिला सीइओ (वुमन सीइओ ऑफ दि इअर)' पुरस्कार जिंकला, ज्या खालीलपैकी कोणत्या विमा कंपनीच्या अध्यक्ष आणि व्यवस्थापकीय संचालिका आहेत?

A.भारतीय जीवन विमा निगम

B.युनायटेड इंडिया इन्शुरन्स कंपनी

C.जनरल इन्शुरन्स कॉर्पोरेशन ऑफ इंडिया

D.न्यू इंडिया एशुरन्स कंपनी

Answer:

C.जनरल इन्शुरन्स कॉर्पोरेशन ऑफ इंडिया

Reference ID:(9912)

Choose the appropriate articles for the given sentence.

It was dusk by \_\_\_\_\_ time we reached \_\_\_\_\_ Cape Town, one of \_\_\_\_\_ most beautiful cities in the world.

A.the, no article, the

B.a, no article, the

C.a, the, the

D.no article, the, the

Answer:

A.the, no article, the

Reference ID:(9903)

Choose the option that has the correct spelling for the missing word in the given sentence:

Thomas's \_\_\_\_\_ of stamps is magnificent.

A.culection

B.collection

C.collecatation

---

Answer:

B.collection

---

D.collection

---

Date of Exam : 12-07-2019 10:00 AM

Reference ID:(10469) Choose the appropriate prepositional phrase for the given sentence:

If you don't hold the string tightly, the balloon will \_\_\_\_\_.

A.blow away

B.blew away

C.blow off

D.blown away

Answer: A.blow away

Reference ID:(10500) पुढील वाक्यचारांच्या योग्य अर्थाचा पर्याय निवडा.  
खाजवून खरूज काढणे -

A.रोगाला आमंत्रण देणे

B.मुद्दाम कळ लावून भांडण काढणे

C.एकमेकांना रक्तडबंबाळ करणे

D.उपकाराची जाणीव न ठेवणे

Answer: B.मुद्दाम कळ लावून भांडण काढणे

Reference ID:(10730) एका बॉक्समध्ये 4 पांढरे, 5 लाल आणि 6 पिवळ्या रंगाचे चेंडू आहेत. बॉक्समध्ये यादृच्छिकपणे एक चेंडू उचलला जातो. उचललेला चेंडू पांढरा किंवा लाल असण्याची संभाव्यता काय आहे?

A.3/5

B.2/5

C.5/3

D.5/2

Answer: A.3/5

My grandmother told me an interesting story that had \_\_\_\_ characters of \_\_\_\_ young boy, \_\_\_\_ mouse, and \_\_\_\_ umbrella.

A.the, a, a, an

B.a, a, a, the

C.the, the, the, an

D.a, a, a, the

Answer:

A.the, a, a, an

Reference ID:(10498)

कोणत्या दोन विभक्तीचे प्रत्यय सारखे असतात?

A.द्वितीया आणि प्रथमा

B.प्रथमा आणि चतुर्थी

C.द्वितीया आणि चतुर्थी

D.द्वितीया आणि तृतीया

Answer:

C.द्वितीया आणि चतुर्थी

Reference ID:(10726)

जीवनसत्त्वं ही आपले शरीर, डोळे, दात आणि हिरड्यांना निरोगी आणि मजबूत ठेवणारी अन्नतत्त्व असतात. खालीलपैकी कोणता जीवनसत्त्वाचा प्रकार नाही?

A.फ जीवनसत्व

B.ई जीवनसत्व

C.के जीवनसत्व

D.डी जीवनसत्व

Answer:

A.फ जीवनसत्व

Reference ID:(10482)

खालील वाक्यादतील अधोरेखित शब्दाचे लिंग ओळखा.  
शैलाचा दीर काल आला.

A.पुल्लिंग

B.स्त्रीलिंग

D.उभयलिंग

Answer:

A.पुल्लिंग

Reference ID:(10725)

एका उन्हाळ्यातील उष्ण दुपारच्या वेळी पांढऱ्या कापडापासून बनवलेला तंबू वापरण्यास प्राधान्य दिले जाईल, कारण पांढरा रंग \_\_\_\_\_ आहे.

A.उष्णतेचा मंद शोषक आणि चांगला परावर्तक

B.उष्णतेचा उत्तम शोषक आणि मंद परावर्तक

C.उष्णतेचा शोषकही नाही आणि परावर्तकही नाही

D.उष्णतेचा सुवाहक

Answer:

A.उष्णतेचा मंद शोषक आणि चांगला परावर्तक

Reference ID:(10499)

मराठी भाषेतील 'ळ' या वर्णाचे वैशिष्ट्य काय?

A.मृदू वर्ण

B.स्वतंत्र वर्ण

C.कठोर वर्ण

D.आद्य वर्ण

Answer:

B.स्वतंत्र वर्ण

Reference ID:(10951)

एका इमारतीतील पहिल्या मजल्याची उंची  $14\frac{1}{4}$  मीटर आहे तर दुसऱ्या मजल्याची उंची  $22\frac{1}{3}$  मीटर आहे. दुसऱ्या मजल्याचं छत पहिल्या मजल्यापेक्षा किती उंच आहे?

 $9\frac{1}{12}$  $10\frac{1}{12}$

$$6\frac{1}{12}$$

$$8\frac{1}{12}$$

Answer:

$$8\frac{1}{12}$$

Reference ID:(10478)

दिलेल्या- शब्दमगटातून विरुद्धार्थी शब्द ओळखा.  
रंग - फिकट X -----

A.चकचकीत

B.गडद

C.उडालेला

D.भडक

Answer:

B.गडद

Reference ID:(10461)

Choose the option with the appropriate prefix to complete the given sentence:

I stood as the \_\_\_runner in the running race.

A.fore-

B.pre-

C.for-

D.bi-

Answer:

A.fore-

Reference ID:(10714)

भारताच्या मुख्य निवडणूक आयुक्ताचा कार्यकाळ किती असतो?

A.4 वर्षे

B.5 वर्षे

C.6 वर्षे

D.8 वर्षे

Answer:

C.6 वर्षे

Reference ID:(10465) Choose the most suitable determiner for the given sentence:  
You can buy these maps at \_\_\_\_ bookstore. They all have them.

A.a lot of

B.several

C.some

D.any

Answer: D.any

Reference ID:(10492) रिकाम्या जागी योग्य पर्याय निवडा.  
शाळा सुटली, ..... घरी जाण्याची वेळ झाली आहे.

A.आता

B.उद्या

C.नेहमी

D.दररोज

Answer: A.आता

Reference ID:(10731) एका बॅगेमध्ये 6 पांढरे आणि 8 पिवळे चेंडू आहेत. ते चांगले मिसळले गेले आणि यादृच्छिकपणे एक चेंडू काढला गेला. पांढरा चेंडू मिळण्याची संभाव्यता काढा?

A.3/7

B.7/3

C.2/7

D.7/2

Answer: A.3/7

Reference ID:(10453) Choose the option that has the correct spelling for the missing word in the given sentence:

\_\_\_\_\_ you use it or not, you will need to pay for it.

A.Whether

C.Weathar

D.Weater

Answer:

A.Whether

Reference ID:(10718)

मार्च 2019 मध्ये ए-सॅट मिसाइलच्या मदतीने लाइव सॅटेलाइटला यशस्वीपणे नष्ट केलेल्या योजनेचे नाव सांगा?

A.मिशन शक्ती

B.मिशन पराक्रम

C.मिशन सुरक्षा

D.मिशन रक्षा

Answer:

A.मिशन शक्ती

Reference ID:(10458)

Fill in the blank with the correct noun for the given sentence:

The method of training one's memory with images is called \_\_\_\_\_.

A.visuals

B.visualizing

C.visualization

D.visions

Answer:

C.visualization

Reference ID:(10710)

कोणत्या वर्षामध्ये प्रदेशामधील ब्रिटीश सत्तेला चालना देत जनरल वेलस्लीद्वारे अहमदनगर किल्ला हस्तगत केला गेला?

A.1857

B.1803

C.1761

D.1707

Answer:

B.1803



A.1/6

B.2/9

C.2/3

D.1/4

Answer:

B.2/9

Reference ID:(10702)

26 फेब्रुवारी 2019 मध्ये भारतीय आयएएफ फायटर विमानांनी पाकिस्तानातील जैश-ए-मोहंमद च्या प्रशिक्षण शिबिरावर हल्ला केला त्या जागेचे नाव सांगा.

A.कारगिल

B.बालाकोट

C.रावळपिंडी

D.लाहोर

Answer:

B.बालाकोट

Reference ID:(10456)

Choose the correct form of adjective for the given sentence:

India is a noble, gorgeous land, teeming with \_\_\_\_\_ resources.

A.tremendous

B.natural

C.supernatural

D.excess

Answer:

B.natural

Reference ID:(10747)

एका विशिष्ट दिवशी, जेव्हा फोरेक्सने 1 डॉलर बरोबर 45 रुपये आणि 1 रुपया म्हणजे 3 येन असा दर सांगितला, तेव्हा माझ्याकडे बचत केलेले 21,000 रुपये होते. त्यापैकी मी 200 डॉलर विकत घेतले आणि राहिलेले सगळे पैसे येन घेण्यात खर्च केले. तर ह्या व्यवहारात माझ्याकडे किती येन आले असतील?

A.63000 येन

B.54000 येन

C.45000 येन

Answer: D.36000 येन

Reference ID:(10724) भारतामधील युनेस्को जागतिक वारशाच्या ठिकाणांची एकूण संख्या काय आहे?

A.100

B.37

C.58

D.61

Answer: B.37

Reference ID:(10719) 27 फेब्रुवारी रोजी रशिया, भारत आणि चीनच्या (आरआयसी) परराष्ट्र मंत्र्यांची 16 वी सभा कोणत्या शहरामध्ये आयोजित केली गेली होती?

A.वुजहेन

B.गुआंगजौ

C.सेंट पीटर्सबर्ग

D.काजान

Answer: A.वुजहेन

Reference ID:(10473) Choose the correct form of verb that is in agreement with the subject:  
Five rupees \_\_\_\_\_ an excessive price to pay for a pen knife.

A.are

B.is

C.have been

D.are being

Answer: B.is

Reference ID:(10477) 'तव नयनांचे दलहलले गं' या ओळीतील अधोरेखित शब्दासाठी समानार्थी पर्याय शोधा.

A.पाकळी

B.सेना

D.दलदल

Answer:

A.पाकळी

Reference ID:(10733)

एक दुकानदार 7820 रुपयांचे सामान खरेदी करतो आणि त्याची किंमत 25% पर्यंत वाढवल्यानंतर सामानाची विक्री करतो. नवी किंमत काढा.

A.1955 रुपये

B.9775 रुपये

C.8885 रुपये

D.9255 रुपये

Answer:

B.9775 रुपये

Reference ID:(10740)

अ तोटी एका टाकीला चार तासांत भरते तर ब तोटी त्या टाकीला सहा तासांत पूर्ण रिकामी करते. जर त्या दोन्ही तोट्या एकाच वेळी उघड्या ठेवल्या तर ती टाकी इतक्या वेळात भरेल:

A.12 तास

B.15 तास

C.18 तास

D.21 तास

Answer:

A.12 तास

Reference ID:(10496)

पुढील वाक्यांमध्ये योग्य ते अव्यय घाला.  
युद्धकाळात बहुतेक सर्व राष्ट्रे अनेस्ततनाभूत झाली; ----- बहुतेकांनी पुन्हा उभारीही घेतली.

A.अथवा

B.परंतु

C.कारण

D.सबब

Answer:

B.परंतु

Reference ID:(10455) Out of the following options, choose the rightly punctuated sentence.

A.The secretary maintains the step-by-step procedures of all processes.

B.The secretary maintains the step by step procedures of all processes?

C.The secretary maintains the-step-by-step procedures of all processes.

D.The secretary maintains the step by step-procedures of all processes.

Answer: A.The secretary maintains the step-by-step procedures of all processes.

Reference ID:(10454) Choose the appropriate option with the correct punctuation marks for the given sentence:

she said im going to meet my grandmother

A.She said 'Im going to meet my grandmother'

B.She said, "Im going to meet my grandmother"

C.She said, "I'm going to meet my grandmother."

D.she said I'm going to meet my grandmother.

Answer: C.She said, "I'm going to meet my grandmother."

Reference ID:(10707) अन्न प्रक्रियणाच्या केंद्रीय मंत्री सौ. हरसिमरत बादल यांनी पुरवठा शृंखलेमधील प्रत्येक टप्प्यावर अन्नाचा अपव्यय कमी करण्यासाठी महाराष्ट्र राज्यामधील \_\_\_\_\_ जिल्ह्यामध्ये दुसऱ्या मेगा फुड पार्कचे उद्घाटन केले.

A.औरंगाबाद

B.नाशिक

C.वर्धा

D.नागपूर

Answer: A.औरंगाबाद


तेलंगणामधील कोणता मतदारसंघ 2019 च्या लोक सभा निवडणुकीमध्ये मोठ्या संख्येने उमेदवारांच्या संख्येमुळे इलेक्ट्रॉनिक वोटिंग मशीन्सच्या रेकॉर्ड संख्येचा वापर केल्यामुळे गिनिज बुक ऑफ वर्ल्ड रेकॉर्ड्समध्ये प्रवेश करू शकते?

- A. खम्माम  
B. निजामाबाद  
C. हैदराबाद  
D. मलकाजगिरि

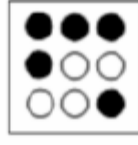
Answer:

B. निजामाबाद

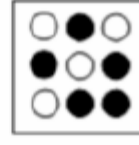
खाली दिलेल्या क्रमामध्ये पुढील आकृती कोणती असेल?




i







ii




iii



iv



Answer:



Choose the correct form of tense for the given sentence:

For how long \_\_\_\_\_ you \_\_\_\_\_ French?

- A. are, learnt  
B. have, been learning

D.was, learned

Answer:

B.have, been learning

Reference ID:(10485)

पुढील वाक्य वाचून योग्य वाक्या ओळखा.

A.त्याने रस्त्यावर गाडी धडकवली.

B.तो रस्त्यावर गाडी धडकवली.

C.ते रस्त्यावर गाडी धडकवली.

D.त्याने रस्त्यावर गाडी धडकवले.

Answer:

A.त्याने रस्त्यावर गाडी धडकवली.

Reference ID:(10489)

अधोरेखित क्रियापदांचा योग्य प्रकार ओळखा.  
त्याला चालता-चालता वाचायची सवय आहे.

A.शक्य

B.प्रयोजक

C.साधित

D.संयुक्त

Answer:

C.साधित

Reference ID:(10736)

सरासरी काढा.  
59, 65, 78, 78, 98 & 72

A.98

B.56

C.65

D.75

Answer:

D.75

Reference ID:(10706) प्रशासकीय न्यायासन कायदा, 1985 च्या कोणत्या कलमानुसार, महाराष्ट्र राज्याच्या शासकिय सेवकांच्या सर्व सेवा प्रकरणांच्या बाबतीत या न्यायासनाकडे उच्च न्यायालयाचे सर्व अधिकार असतील?

A.कलम 10

B.कलम 15

C.कलम 11

D.कलम 18

Answer: B.कलम 15

Reference ID:(10717) सप्टेंबर -2018 मध्ये पुणे येथे \_\_\_\_\_ राष्ट्रांचा लष्करी क्षेत्र प्रशिक्षण अभ्यास (MILEX -18) आयोजित करण्यात आला होता.

A.सार्क

B.बीआयएमएसटीइसी

C.ब्रिक्स

D.ओपेक

Answer: B.बीआयएमएसटीइसी

Reference ID:(10743) एका समारंभात 200 पाहुणे होते, 60% पाहुण्यांनी शाकाहारी जेवण घेतलं, 50% पाहुण्यांनी मांसाहारी जेवण घेतलं, 30% पाहुण्यांनी शाकाहारी आणि मांसाहारी दोन्ही प्रकारचं जेवण घेतलं. तर समारंभातील किती पाहुणे न जेवताच गेले?

A.30

B.35

C.40

D.45

Answer: C.40

Reference ID:(10720) \_\_\_\_\_ पर्यंत माऊंटस्टुअर्ट एल्फिन्स्टनने बॉम्बे प्रांतावर सत्ता केली.

A.1818 पासून ते 1827

B.1817 पासून ते 1826

C.1815 पासून ते 1825

Answer: A.1818 पासून ते 1827

Reference ID:(10729) खालील माहिती काळजीपूर्वक वाचा आणि खाली दिलेल्या प्रश्नाचे उत्तर द्या.

L, M, N, P, Q, R, S, आणि T हे आठ व्यक्ती केंद्रभागी तोंड करून गोलाकार टेबलाभोवती बसले आहेत. Q हा P आणि R चा शेजारी नाही. M हा T च्या डावीकडून दुसरा आहे आणि P च्या उजवीकडून तिसरा आहे. R हा N च्या डावीकडून तिसरा आहे, जो लगेचच T चा डावीकडे आहे. L हा P च्या उजवीकडून दुसरा आहे. व्यक्तींच्या खालील जोड्यांपैकी कोणती जोडी T च्या शेजारी आहे.

A.NQ

B.MN

C.QS

D.RP

Answer: A.NQ

Reference ID:(10466) Which of the following options best combines the two given sentences?

I was tired of walking. I wanted to take rest.

A.Wanting to rest, I was tired of walking.

B.Being tired of walking, I wanted to take rest.

C.As I was tired, I was wanting to rest.

D.I being tired of walking, I took rest.

Answer: B.Being tired of walking, I wanted to take rest.

Reference ID:(10459) Choose the appropriate collective noun to complete the sentence:

The workers needed \_\_\_\_\_ to open the locked chest of drawers.

A.a carton of instruments

B.a set of tools

C.a bunch of tools



Answer: B.a set of tools

Reference ID:(10713) खालीलपैकी कोणत्या संघाने 2017-18 वर्षामधील "19 वर्षाखालील कूच बेहार करंडक" जिंकला?

A.विदर्भ

B.बेंगलुरू

C.दिल्ली

D.हैदराबाद

Answer: A.विदर्भ

Reference ID:(10732) एका विक्रेत्याने एक पंखा 1040 रुपयांना खरेदी केला. याच्या अंकित मूल्यावर 20% सूट दिल्यानंतर त्याला 20% नफा होतो. पंख्याची अंकित किंमत काढा.

A.1456 रुपये

B.1800 रुपये

C.1560 रुपये

D.1248 रुपये

Answer: C.1560 रुपये

Reference ID:(10476) Choose the option that best expresses the meaning of the highlighted idiom/phrase:

The busy traffic entrance was a hazard to **people walking on foot**.

A.Peddlers

B.Footpath

C.Pedestrians

D.Persistence

Answer: C.Pedestrians

A.रंग

B.रंगा

C.रंगा

D.रंगानी

Answer:

A.रंग

Reference ID:(10705)

खालीलपैकी कोणी अलिकडे नौसेनाधिपती सुनिल लांबांच्या जागी पुढील नौदल अध्यक्ष म्हणून उप नौसेनाधिपती करमवीर सिंहांच्या नियुक्तीला अवाहन करणारी त्याची याचिका सशस्त्र सेना न्यायाधिकरणामधून मागे घेतली?

A.बिमल वर्मा

B.निर्मल कुमार वर्मा

C.बिमल लांबा

D.रॉबीन के धवन

Sab Answer: bhaijaan

A.बिमल वर्मा

Sabka ek bhaijaan

Sabka ek bhaijaan

Reference ID:(10497)

पुढील पुढील वाक्यातील विरामचिन्ह ओळखा.  
श्रीराम महाविद्यालयाचा विद्यार्थी-प्रतिनिधी झाला.

A.संयोगचिन्ह

B.अवतरण चिन्ह

C.अपसरण चिन्ह

D.प्रश्नचिन्ह

Answer:

A.संयोगचिन्ह

Reference ID:(10486)

पुढील वाक्यातील उद्देश्याविस्तार ओळखा.  
चांगल्या आशयाला तसाच चांगला घाटही हवा.

A.आशयाला

C.चांगल्या

D.हवा

Answer:

C.चांगल्या

Reference ID:(10741)

एक विक्रेता 20% नफ्याने त्याच्या मालाची विक्री करतो आणि त्यासोबतच तो 1 किग्रॅ ऐवजी 800 ग्रॅमचे वजन वापरतो. त्याच्या एकूण नफ्याची टक्केवारी काढा?

A.40%

B.45%

C.50%

D.55%

Answer:

C.50%

Reference ID:(10491)

पुढील वाक्यातील अव्ययाचा प्रकार ओळखा.  
'ओहो! फारच उशीर होईल वाटतंय आज मला!'

A.केवलप्रयोगी अव्यय

B.शब्दयोगी अव्यय

C.क्रियाविशेषण अव्यय

D.उभयान्वयी अव्यय

Answer:

A.केवलप्रयोगी अव्यय

Reference ID:(10479)

दिलेल्या- शब्दगटातून विरुद्धार्थी शब्द ओळखा.  
खते – नैसर्गिक X -----

A.उपयुक्त

C.अनुपयुक्त

D.महाग

Answer:

B.कृत्रीम

Reference ID:(10472)

Choose the most appropriate usage to fill in the blank in the given sentence:

The Chief Guest asked the graduating students not to \_\_\_\_\_ their worth.

A.estimate

B.reestimate

C.underestimate

D.estimation

Answer:

C.underestimate

Reference ID:(10493)

गटात न बसणारा शब्द ओळखा.  
पहिला, सातवा, दुप्पट, धीट

A.पहिला

B.सातवा

C.दुप्पट

D.धीट

Answer:

D.धीट

Reference ID:(10711)

इ-पंचायत प्रकल्पांतर्गत सुधारित सेवा पोहचवण्यासाठी डेस्कटॉप संगणक, प्रिंटर आणि स्कॅनर मशीन आणि इंटरनेट कनेक्शन्सने सुसज्ज महाराष्ट्रामधील सर्व ग्रामपंचायतींना \_\_\_\_\_ म्हणून जाणले जाते.

A.संग्राम केंद्र

B.सहायता शिवार

C.किसान केंद्र

Answer: A.संग्राम केंद्र

Reference ID:(10723) खालीलपैकी कोणाला मुंबई येथील हॉटेल सी प्रिंसेस येथे आंतरराष्ट्रीय मानवी अधिकार परिषदेद्वारे डॉ. बाबासाहेब आंबेडकर नोबेल पुरस्कार 2019 ने सन्मानित केले गेले?

A.सुधांशु कुमार

B.अशनूर कौर

C.मनिषा केळकर

D.तनिशा सिंह

Answer: A.सुधांशु कुमार

Reference ID:(10452) Choose the option that has the correct spelling.

A.Existance

B.Existence

C.Existanse

D.Existanc

Answer: B.Existence

Reference ID:(10745) 20184 ला पूर्ण वर्ग करण्यासाठी त्यामधून वजा होणारी सगळ्यात लहान संख्या आहे:

A.34

B.20

C.14

D.30

Answer: B.20

Reference ID:(10722) संजय निरुपम या काँग्रेस उमेदवाराच्या निवडणूक सभेला उपस्थित राहिल्याबद्दल महाराष्ट्र शासनाद्वारे एसीपी म्हणून कोणत्या कुस्तीपटूला निलंबित केले?

A.नरसिंह यादव

B.सुशिल कुमार

D.महावीर सिंह फोगाट

Answer:

A.नरसिंह यादव

Reference ID:(10494)

पुढील वाक्यांमधील विशेषण ओळखा.  
त्याचे जवळजवळ पूर्ण काम माझ्याच अंगावर पडे.

A.त्याचे

B.जवळजवळ

C.अंगावर

D.काम

Answer:

B.जवळजवळ

Reference ID:(10746)

एक संख्या दुसऱ्या संख्येच्या दुप्पट आहे. जेव्हा मोठ्या संख्येला 50 मधून वजा केले जाते तेव्हा मिळणारी संख्या ही लहान संख्येला 40 मधून वजा केल्यावर मिळणाऱ्या संख्येपेक्षा 2 ने अधिक आहे. तर मग लहान संख्या \_\_\_ आहे.

A.7

B.8

C.6

D.5

Answer:

B.8

Reference ID:(10701)

पुढील वाक्यात पर्यायातील अचूक वाक्प्रचार निवडा.  
सहलीला गेल्यावर अथर्व अचानक कचाट्यात सापडला.

A.इकडे आड तिकडे विहीर होणे

B.नामानिराळे राहणे

C.आगीतून फुफाट्यात

D.आतड्याला पीळ पाडणे

Answer:

A.इकडे आड तिकडे विहीर होणे

That route is dangerous; \_\_\_\_\_, we have no guide.

A.likewise

B.consequently

C.besides

D.however

Answer:

C.besides

Reference ID:(10481)

रिकाम्या जागी योग्यी शब्द भरून जोडशब्द पूर्ण करा.  
----- गुलाबी

A.लाडी

B.थंडी

C.गोडी

D.लाल

Sab Answer: bhaijaan

C.गोडी

Sabka ek bhaijaan

Sabka ek bhaijaan

Reference ID:(10471)

Choose the correct form of conjunction for the given sentence:

I want you to reach the venue \_\_\_\_\_ the Chief Guest arrives.

A.and

B.since

C.before

D.till

Answer:

C.before

Reference ID:(10474)

Out of the following options, identify a simple sentence.

A.Do you know him?

B.Has he ever met you after school?

C.Did you see him before your school?

Answer: A.Do you know him?

Reference ID:(10488) योग्य पर्यायाची निवड करा.  
ते पहातच -----

A.राहिले

B.राहिलो

C.राहिली

D.राहिलात

Answer: A.राहिले

Reference ID:(10457) Choose the correct form of adjective for the given sentence:

George was a \_\_\_\_\_ opponent, and I respected him for that.

A.formidable

B.dreadful

C.forbidding

D.threatening

Answer: A.formidable

Reference ID:(10484) पुढील वाक्याचा प्रकार ओळखा.  
ट्रेन नियमित धावू लागल्याने मुंबईकरांची कोंडी फुटली.

A.प्रश्नार्थी

B.मिश्र वाक्य

C.संयुक्त वाक्य

D.केवल वाक्य

Answer: D.केवल वाक्य



Reference ID:(10708) केंद्रीय मंत्री नितीन गडकरी यांनी येथे बांधल्या जाणाऱ्या इंटर-मोडल स्थानकाच्या (आयएमएस) विकासाची आधारशिला ठेवली:

A.पुणे

B.नागपूर

C.सुरत

D.मुंबई

Answer: B.नागपूर

Reference ID:(10737) खाली दिलेल्या चार पत्त्यांपैकी कोणता पत्ता खाली दिलेल्या पत्त्याशी अचूकपणे जुळत नाही?

5 Commercial Street

E1 6BF

LONDON

UNITED KINGDOM

(+44)207/4228400

(i) 5 Commercial Street

E1 6BF

LONDON

UNITED KINGDOM

(+44)207/4228400

(ii) 5 Commercial Street

E1 6BF

LONDON

UNITED KINGDOM

(+44)207/4228400

(iii) 5 Commercial Street

E1 6BF

LONDON

UNITED KINGDOM

(+44)207/4228400

(iv) 5 Commercial Street

E1 6BF

LONDON

UNITED KINGDOM

(-44)207/4228400

B.ii

C.iii

D.iv

Answer:

D.iv

Reference ID:(10742)

एका पुस्तकाचा 3/8 भाग मी एका दिवसात वाचला आणि राहिलेल्या पुस्तकाचा 4/5 भाग दुसऱ्या दिवशी वाचला. 30 पानं वाचायची शिल्लक राहिली असतील तर त्या पुस्तकात एकूण किती पानं असतील?

A.440

B.340

C.240

D.140

Answer:

C.240

Reference ID:(10487)

'तू गेल्यावर्षी या परीक्षा बसलास' आख्यात ओळखा.

A.लाख्यात

B.ताख्यात

C.वाख्यात

D.ई-आख्यात

Answer:

A.लाख्यात

Reference ID:(10728)

एक आई आणि तिच्या मुलीच्या वयाचे गुणोत्तर अनुक्रमे 5:2 आहे. जर वर्षामध्ये त्यांच्या वयांचा गुणाकार 1000 असेल, तर 10 वर्षांनंतर आईचे वय काढा?

A.50 वर्षे

B.60 वर्षे

C.80 वर्षे

D.100 वर्षे

Reference ID:(10749)

दर 75 किमीनंतर 3 मिनिटे थांबून एका रेल्वेने 100 किमी/तास एवढ्या सरासरी वेगाने प्रवास केला. आरंभिक ठिकाणावरून 600 किमीवरील गंतव्यापर्यंत पोहोचण्यासाठी तिने किती वेळ घेतला?

A.6 तास 24 मिनिटे

B.6 तास 21 मिनिटे

C.6 तास 18 मिनिटे

D.6 तास 15 मिनिटे

Answer:

B.6 तास 21 मिनिटे

Reference ID:(10716)

गाझियाबाद येथे 10 मार्च, 2019 रोजी \_\_\_\_\_ चा 50 वा स्थापना दिवस समारंभ आयोजित करण्यात आला होता.

A.सीमा सुरक्षा बल (बीएसएफ)

B.सहस्र सीमा बल (एसएसबी)

C.केंद्रीय राखीव पोलीस बल (सीआरपीएफ)

D.केंद्रीय उद्योग सुरक्षा दल (सीआयएसएफ)

Answer:

D.केंद्रीय उद्योग सुरक्षा दल (सीआयएसएफ)

Reference ID:(10735)

एका महिलेच्या पर्समध्ये फक्त 25 पैसे आणि 50 पैशांची नाणी आहेत. जर तिच्याकडे 20 रुपये मूल्याची एकूण 48 नाणी असतील, तर तिच्याकडे प्रत्येक प्रकारची किती नाणी आहेत?

A.20, 28

B.18, 30

C.16, 32

D.14, 34

Answer:

C.16, 32

The manager promised the tourists that they would get a \_\_\_\_\_ fund if they did not like the services.

A.pre-

B.re-

C.mis-

D.pro-

Answer:

B.re-

Reference ID:(10721)

महाराष्ट्रामधील पश्चिम घाटाचे सर्वोच्च शिखर \_\_\_\_\_ हे आहे.

A.कळसुबाई

B.तारामती

C.अंजनेरी

D.साल्हेर

Sab Answer: bhaijaan

A.कळसुबाई

Sabka ek bhaijaan

Sabka ek bhaijaan

Reference ID:(10483)

पुढील वाक्याचा प्रकार ओळखा.  
'अर्जुनाने उभय सैन्याची पाहणी केली आणि तो कृष्णाला म्हणाला'

A.प्रश्नार्थी

B.मिश्र वाक्य

C.संयुक्त वाक्य

D.केवल वाक्य

Answer:

C.संयुक्त वाक्य

Reference ID:(10727)

आता उत्तम आणि प्रवीण यांच्या वयांची बेरीज 100 वर्ष आहे. 5 वर्षांपूर्वी त्यांचे वय अनुक्रमे 2:1 या गुणोत्तरात होते. 10 वर्षांनंतर उत्तम आणि प्रवीण यांच्या वयांचे संबंधित गुणोत्तर काय असेल?

A.5:3

B.4:3

D.3:5

Answer:

A.5:3

Reference ID:(10462)

Choose the appropriate articles for the given sentence:

It was \_\_\_\_\_ cold morning, but \_\_\_\_\_ group was heading towards \_\_\_\_\_ colder region.

A.the, a, a

B.the, a, the

C.a, a, the

D.a, the, a

Answer:

D.a, the, a

Reference ID:(10734)

गणिताची पाठ्य पुस्तके असलेल्या एका पोत्याचे वजन 2 किलो 400 ग्रॅम आहे. जर गणिताच्या एका पाठ्य पुस्तकाचे वजन 300 ग्रॅम असेल, तर पोत्यामध्ये किती पाठ्य पुस्तके आहेत?

A.8

B.10

C.12

D.26

Answer:

A.8

Reference ID:(10739)

प्रश्न चिन्हाच्या जागी काय यायला हवे?  
ABABCABCDABCD?

A.A

B.E

C.H

D.S

Answer:

B.E

We \_\_\_\_\_ respect our elders.

A.ought to

B.can

C.might

D.may

Answer:

A.ought to

Reference ID:(10715)

प्रधानमंत्री जी-वन (JI-VAN) योजनेचे पूर्ण नाव काय आहे?

A.जीव इंधन-वतावरण अनुकूल फसल अवशेष निवारण

B.जनता इंडियन वातावरण अनुकूल फसल अवशेष निवारण

C.जैव इंडियन वातावरण अनुकूल फसल अवशेष निवारण

D.जनता इंधन वातावरण अनुकूल अवशेष निवारण

Answer:

A.जीव इंधन-वतावरण अनुकूल फसल अवशेष निवारण

Reference ID:(10490)

क्रियापदानुसार कर्त्याच्या योग्य रूपाची निवड करा.  
..... झोपलो.

A.आम्ही

B.तू

C.ते

D.ती

Answer:

A.आम्ही

Reference ID:(10703)

दिल्ली न्यायालयाने अलिकडे वीरभद्र सिंह यांच्या विरुद्ध अपराधिक गैरवर्तणूक आणि बेहिशेबी मालमत्ता जमा करण्याचे आरोप लावले, ते \_\_\_\_\_ चे माजी मुख्य मंत्री होते.

A.हिमाचल प्रदेश

B.हरियाणा

C.उत्तराखंड

D.पंजाब

Reference ID:(10480) जोडशब्द नसलेला शब्द ओळखा.

A.पाटपाणी

B.पानसुपारी

C.ताटवाटी

D.सुवर्णपदक

Answer:

D.सुवर्णपदक

Reference ID:(10704) खालीलपैकी कोणत्या कथक नर्तकीला नारी शक्ती पुरस्कार 2019 ने सन्मानित केले गेले?

A.सीमा मेहता

B.स्वाती अरविंद शिंगाडे

C.दिव्या कर्नाड

D.लक्ष्मी मेहता

Answer:

A.सीमा मेहता

Reference ID:(10464) Choose the correct form of verb for the given sentence:

Greeks \_\_\_\_\_ lively discussions and so, bantering and debating \_\_\_\_\_ very much part of their national personality.

A.enjoying ...are

B.enjoys ...is

C.enjoy ... are

D.has enjoyed ... are being

Answer:

C.enjoy ... are

Reference ID:(10748) P चे उत्पन्न हे Q च्या उत्पन्नाच्या 20% अधिक आहे. Q चे उत्पन्न हे P च्या उत्पन्नापेक्षा किती % कमी आहे?

A.18.54%

B.16.67%

D.15.75%

Answer:

B.16.67%

Reference ID:(10738)

जर T = 20, TEN = 39, तर TIP =?

A.70

B.45

C.54

D.65

Answer:

B.45

Reference ID:(10468)

Choose the appropriate prepositions for the given sentence:

Kerosene is one \_\_\_\_\_ the products made \_\_\_\_\_ refined petroleum.

A.of ... off

B.in ... through

C.of ... from

D.of ... out

Answer:

C.of ... from

Reference ID:(10712)

"आपत्काळामध्ये मुलभूत अधिकारांचे निलंबन" ही कल्पना \_\_\_\_\_ कडून भारतीय संविधानामध्ये स्वीकारली गेली.

A.जर्मनीचे वेईमर संविधान

B.कॅनडाचे संविधान

C.ऑस्ट्रेलियाचे संविधान

D.सोव्हिएतचे संविधान

Answer:

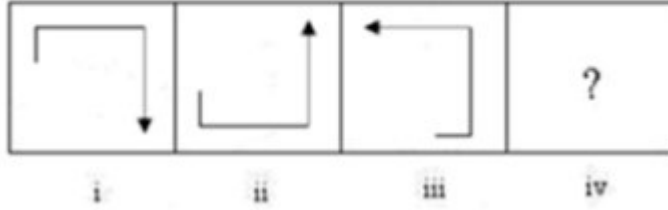
A.जर्मनीचे वेईमर संविधान



Date of Exam : 12-07-2019 02:30 PM

Reference ID:(14346)

खाली दिलेल्या क्रमामध्ये, पुढे कोणती आकृती येईल ?



Answer:



Reference ID:(13552)

Out of the following options, choose the rightly punctuated sentence.

A.Hello, Mr. Hughes, I'd like to check some information about my flight plan.

B.Hello, Mr. Hughes? I'd like to check some information about my flight plan.

C.Hello, Mr. Hughes: I'd like to check some information about my flight plan.

D.Hello, Mr. Hughes, Id' like to check some information about my flight plan

Answer:

A.Hello, Mr. Hughes, I'd like to check some information about my flight plan.

A.साधित

B.शक्य

C.सहायक

D.अकर्मक

Answer:

A.साधित

Reference ID:(13810)

2017-18 विजय हजारे करंडकामध्ये, खालीलपैकी कोणत्या संघाने महाराष्ट्र संघाला पराभूत करून अंतिम फेरीमध्ये प्रवेश केला?

A.तामिळ नाडू

B.आंध्र

C.दिल्ली

D.कर्नाटक

Answer:

D.कर्नाटक

Reference ID:(13557)

Choose the option with the appropriate suffix to complete the given sentence:

While travelling on an airplane, you may keep you hand baggage in the \_\_\_\_\_ bin.

A.overact

B.overlook

C.overhead

D.overdue

Answer:

C.overhead

Reference ID:(13572)

Choose the correct form of tense for the given sentence:

He \_\_\_\_\_ me his name, but I \_\_\_\_\_ now.

A.tells, had forgot

B.tells, forgotten

D.told, has forget

Answer:

C.told, have forgotten

Reference ID:(13597)

पुढील वाक्प्रचारांच्या योग्य अर्थाचा पर्याय निवडा.  
खाल्या घरचे वासे मोजणे-

A.उपकाराची जाणीव न ठेवणे

B.अतिशय कष्टाची कामे करणे

C.खाल्ल्या मिठाला जागणे

D.आपला मतलब साध्य करणे

Answer:

A.उपकाराची जाणीव न ठेवणे

Reference ID:(13593)

पुढील वाक्यांमध्ये योग्य ते अव्यय घाला.  
यश मिळो ----- न मिळो, मी माझे प्रयत्न केले हे महत्त्वाचे ठरते.

A.की

B.म्हणून

C.परंतु

D.पण

Answer:

A.की

Reference ID:(13823)

खालीलपैकी कोणता वायू रक्तात नसतो?

A.ऑक्सिजन

B.कार्बन डायऑक्साईड

C.नायट्रोजन

D.कार्बन मोनॉक्साईड

Answer:

D.कार्बन मोनॉक्साईड

Reference ID:(13582)

पुढील वाक्य वाचून योग्य वाक्य ओळखा.

C.माझो स्वप्न अगदीच वेगळे आहे.

D.माझ्या स्वप्न अगदीच वेगळे आहे.

Answer: A.माझे स्वप्न अगदीच वेगळे आहे.

Reference ID:(13560) Choose the appropriate articles for the given sentence:

\_\_\_\_\_ email from \_\_\_\_\_ Chairman of \_\_\_\_\_ company about strategic changes went out to all \_\_\_\_\_ employees.

A.A, the, the, an

B.An, the, the, the

C.The, the, an, the

D.The, an, the, a

Answer: B.An, the, the, the

Reference ID:(13596) 'ध्वनिक्षेपण' या शब्दात एकूण किती जोडाक्षरे आहेत?

A.2

B.3

C.1

D.4

Answer: A.2

Reference ID:(13814) फेब्रुवारी -2019 मध्ये महाराष्ट्र कॅबिनेट ने आर्थिकदृष्ट्या कमकुवत विभागांसाठी (ईडब्ल्यूएस) शिक्षणामध्ये \_\_\_ टक्के आरक्षण आणि रोजगाराच्या संधी मंजूर केल्या.

A.25

B.5

C.10

D.33

Answer: C.10

- A.टाटा स्टील
- B.कोल इंडिया लिमिटेड
- C.इन्फोसिस
- D.एसार

Answer: A.टाटा स्टील

Reference ID:(13801) खालीलपैकी कोणाला "ग्लोबल फ्युचर ऑफ नेचर पुरस्काराने" सन्मानित करण्यात आले?

- A.दिव्या कर्नाड
- B.सीमा मेहता
- C.लक्ष्मी कर्नाड
- D.लक्ष्मी मेहता

Answer: A.दिव्या कर्नाड

Reference ID:(13595) 'ने, ए, शी' हे कोणत्या विभक्तीचे प्रत्यय आहेत?

- A.प्रथमा
- B.तृतीया
- C.संबोधन
- D.चतुर्थी

Answer: B.तृतीया

Reference ID:(13825) आज वडिल आणि मुलाच्या वयांचे संबंधित गुणोत्तर 7:3 आहे. 5 वर्षांनंतर, हे गुणोत्तर अनुक्रमे 2:1 होईल. मुलाच्या जन्माच्या वेळी वडिलांचे वय काय असेल?

- A.18 वर्ष
- B.24 वर्ष
- C.22 वर्ष
- D.20 वर्ष

Answer: D.20 वर्ष

Reference ID:(13569) Choose the most appropriate usage to fill in the blank in the given sentence:

The student who was expelled from school wanted to have an \_\_\_\_\_ for his expulsion.

A.explaining

B.explained

C.explanatory

D.explanation

Answer: D.explanation

Reference ID:(13567) Choose the appropriate conjunction for the given sentence:

His plans, \_\_\_\_\_ vast, were never visionary.

A.and

B.were

C.though

D.but

Answer: C.though

Reference ID:(13815) शांती स्वरूप भटनागर पुरस्कार हे दरवर्षी \_\_\_\_\_ च्या विविध क्षेत्रामधील उल्लेखनीय भारतीय कार्याला सन्मानित करण्यासाठी दिले जातात.

A.विज्ञान आणि तंत्रज्ञान

B.सामाजिक कार्य

C.राजकारण

D.भूगोलशास्त्र

Answer: A.विज्ञान आणि तंत्रज्ञान

Reference ID:(13562) Choose the most suitable determiner for the given sentence:

The speaker asked the audience if they had \_\_\_\_ questions.

A.little

C.few

D.any

Answer:

D.any

Reference ID:(13565)

Choose the appropriate prepositions for the given sentence:

How has farming changed \_\_\_\_ your area \_\_\_\_\_ recent times?

A.in ... in

B.for ... at

C.by ... in

D.at ... through

Answer:

A.in ... in

Reference ID:(13808)

भिलई पोलाद कारखाना येथे स्थित आहे.

A.महाराष्ट्र

B.मध्य प्रदेश

C.झारखंड

D.छत्तीसगढ

Answer:

D.छत्तीसगढ

Reference ID:(13578)

रिकाम्या जागी योग्य शब्द भरून जोडशब्द पूर्ण करा.  
----- डौल

A.दिमाख

B.डाम

C.ठाम

D.दाम

Answer:

B.डाम

A.230

B.225

C.232

D.235

Answer: A.230

Reference ID:(13590) गटात न बसणारा शब्द ओळखा.  
गाळणे, गाळ, गळा, गाळीव

A.गाळणे

B.गाळीव

C.गाळ

D.गळा

Answer: B.गाळीव

Reference ID:(13551) Choose the appropriate option with the correct punctuation marks for the given sentence:

elizabeth who lives in london is thirty two and works for the bbc

A.Elizabeth who lives in London is thirty two and works for the bbc.

B.Elizabeth who lives in London, is thirty-two and works for the Bbc.

C.Elizabeth, who lives in london is thirty-two and works for the BBC.

D.Elizabeth, who lives in London, is thirty-two and works for the BBC.

Answer: D.Elizabeth, who lives in London, is thirty-two and works for the BBC.

Reference ID:(13588) पुढील वाक्यातील अव्ययाचा प्रकार ओळखा.  
'शी! काहीच नाही आवडले मला यातले!'

A.केवलप्रयोगी अव्यय

B.उभयान्वयी अव्यय

C.शब्दयोगी अव्यय

D.क्रियाविशेषण अव्यय



Reference ID:(13843)

सुलतानने 2,000 रुपयांची एक वस्तू विकत घेतली. त्याला जर 20% नफा मिळवायचा असेल तर त्याने ती कोणत्या किमतीला विकली पाहिजे?

A.2,100 रुपये

B.2,200 रुपये

C.2,300 रुपये

D.2,400 रुपये

Answer:

D.2,400 रुपये

Reference ID:(13806)

खालीलपैकी कोण 2019 या वर्षामध्ये, पद्मभूषणने सन्मानित केलेले भारतामधील पहिले किन्नर आहेत?

A.सत्यश्री शर्मिला

B.जयिता मॉडल

C.प्रीतिका यशिनी

D.नर्तकी नटराज

Answer:

D.नर्तकी नटराज

Reference ID:(13812)

विणकाम आणि विणकाम केलेली वस्त्र या क्षेत्राच्या विकासासाठी कोणत्या केंद्रीय मंत्रालयाने अलिकडे योजनेची घोषणा केली?

A.कापड

B.रेल्वे

C.आरोग्य

D.वित्त

Answer:

A.कापड

Reference ID:(13841)

सबिता 30 किमी अंतरावर असलेल्या पिंकीच्या घराच्या दिशेने ताशी 10 किमी वेगाने रेसिंग सायकल चालवत जाते. घराकडे परतत असताना ती ताशी 15 किमी वेगाने सायकल चालवते. तिचा सरासरी वेग किती आहे?

A.ताशी 12 किमी.

B.ताशी 15 किमी.

D.ताशी 25 किमी.

Answer:

A.ताशी 12 किमी.

Reference ID:(13600)

"अटेनिंग दि 2030 अजेंडा: डिलिक्रींग ऑन अवर प्रॉमिस" या थीमसह जागतिक शाश्वत विकास शिखर बैठक (डब्ल्यूडीएस) 2019 \_\_\_\_\_ मध्ये आयोजित केली गेली होती.

A.नवी दिल्ली

B.हैदराबाद

C.भोपाळ

D.पटना

Answer:

A.नवी दिल्ली

Reference ID:(13583)

रिकाम्या जागी योग्य शब्द निवडा.

वाक्यातील विविध घटकांचा परस्परांशी कोणता संबंध आहे, हे स्पष्ट करून सांगणे याला ----  
----- म्हणतात.

B.वाक्यसंकलन

C.वाक्प्रचार

D.वाक्यप्रकार

Answer:

A.वाक्यपृथक्करण

Reference ID:(13573)

Choose the option that best expresses the meaning of the highlighted idiom/phrase:

A big boulder from **a place from which stone is extracted** fell down the road.

A.Library

B.Quarry

C.Shore

D.Hole

Answer:

B.Quarry

Each of the suspected men \_\_\_\_\_ arrested by the police at once.

A.has been

B.had

C.are

D.have been

Answer:

A.has been

Reference ID:(13802)

एप्रिल 1919 मध्ये जालियनवाला बाग हत्याकांडानंतर लगेचच खालीलपैकी कोणी मानवी हक्क उल्लंघनाशी संबंधित अनेक लेख लिहिले?

A.बेंजामिन गुय हॉर्निमन

B.नीरज बढवार

C.राजू भारतन

D.अनुभा भोंसले

Answer:

A.बेंजामिन गुय हॉर्निमन

Reference ID:(13556)

Choose the appropriate collective noun to complete the sentence:

\_\_\_\_\_ was found at the ruins of the temple site.

A.A constellation of sharks

B.A colony of bats

C.A fleet of ships

D.A settlement of bees

Answer:

B.A colony of bats

Reference ID:(13811)

मतदारांची नोंदणी करणे ही \_\_\_\_\_ संविधानात्मक जबाबदारी असते.

A.वैयक्तिक मतदार

B.निवडणूक आयोग

C.केंद्र शासन

D.राज्य शासन

Reference ID:(13559)

Choose the appropriate articles for the given sentence:

In most cases, \_\_\_\_\_ male birds share \_\_\_\_\_ duties with \_\_\_\_\_ females of feeding \_\_\_\_\_ chicks when they hatch.

A.a, a, a, the

B.the, the, the, the

C.a, the, a, the

D.the, a, the, a

Answer:

B.the, the, the, the

Reference ID:(13576)

दिलेल्या शब्दगटातून विरुद्धार्थी शब्द ओळखा.  
वेळ – निश्चित X -----

A.अनिश्चित

B.अपूर्ण

C.अपुरा

D.आवश्यक

Answer:

A.अनिश्चित

Reference ID:(13828)

जर एक खेळ जिंकण्याची संभाव्यता 0.76 आहे, तर खेळ हरण्याची संभाव्यता काय आहे?

A.1

B.0.42

C.0.34

D.0.24

Answer:

D.0.24

Reference ID:(13822)

खालीलपैकी कोणत्या एका वस्तूच्या हालचालीला आवर्ती हालचाल म्हणून ओळखले जाते?

A.विमान

B.ट्रेन

D.लंबक

Answer:

D.लंबक

Reference ID:(13584)

'त्याचा हा किस्सा ऐकून तू खूप हसशील' आख्यात ओळखा.

A.ई-आख्यात

B.ऊ- आख्यात

C.लाख्यात

D.ईलाख्यात

Answer:

D.ईलाख्यात

Reference ID:(13837)

रिकाम्या जागी योग्य संख्या निवडून मालिका पूर्ण करा:

1, 9, 17, 33, \_\_\_\_\_, 73, 97

A.50

B.49

C.45

D.60

Answer:

B.49

Reference ID:(13824)

गोविंद 45 वर्षांचा आणि गोपाळ 65 वर्षांचा आहे. किती वर्षांपूर्वी त्यांच्या वयांचे गुणोत्तर अनुक्रमे 3:5 होते?

A.15 वर्ष

B.20 वर्ष

C.37 वर्ष

D.5 वर्ष

Answer:

A.15 वर्ष

Reference ID:(13842)

जर IJKLMNO चा सांकेतिक शब्द ACTVSRX असा बनवला जात असेल तर MILLION चा सांकेतिक शब्द कसा बनवला जाईल?

B.SAVVAXR

C.SATTARC

D.SAVVARX

Answer:

B.SAVVAXR

Reference ID:(13832)

एका ताज्या फळात 62% पाणी तर सुकवलेल्या फळात 24% पाणी समाविष्ट असतं. तर 100 किलो ताज्या फळापासून किती सुकवलेली फळं मिळतील?

A.40 किलो

B.45 किलो

C.48 किलो

D.50 किलो

Answer:

D.50 किलो

Reference ID:(13554)

Choose the correct form of adjective for the given sentence:

My daughter won the \_\_\_\_\_ prize in the competition.

A.fruitful

B.second

C.fantastic

D.frivolous

Answer:

B.second

Reference ID:(13845)

अ, ब आणि क ह्या तीन विद्यार्थ्यांची सरासरी उंची 148 सेंमी आहे. जर अ आणि ब ची सरासरी उंची 142 सेंमी असेल तसेच ब आणि क ची सरासरी उंची 145 सेंमी असेल तर ब ची उंची आहे:

A.130 सेंमी

B.140 सेंमी

C.150 सेंमी

Answer: A.130 सेंमी

Reference ID:(13591) पुढील वाक्यांमधील विशेषण ओळखा.  
अंथरलेला लाल गालिचा काय सुंदर दिसत होता म्हणून सांगू !

A.अंथरलेला

B.गालिचा

C.म्हणून

D.दिसत

Answer: A.अंथरलेला

Reference ID:(13594) पुढील पुढील वाक्यातील विरामचिन्ह ओळखा.  
एका बाईचे बाळ कडाक्याच्या थंडीने कुडकुडत होते.

A.संयोगचिन्ह

B.अपसरणचिन्ह

C.उद्गारचिन्ह

D.पूर्णविराम

Answer: D.पूर्णविराम

Reference ID:(13599) बाळ गंगाधर टिळक यांनी कोणते मराठी वर्तमानपत्र प्रकाशित केले होते?

A.केसरी

B.दर्पण

C.पूर्ण वैभव

D.सकाळ

Answer: A.केसरी

Reference ID:(13585) योग्य पर्यायाची निवड करा.  
मी उद्या तुझ्याबरोबर -----

A.येशील

C.येईन

D.येता

Answer:

C.येईन

Reference ID:(13809)

‘थोलू बोमालाटा’ हा भारताच्या कोणत्या राज्याशी संबंधित प्रसिध्द बाहुल्यांचा खेळ आहे?

A.कर्नाटक

B.केरळ

C.तामिळनाडू

D.आंध्र प्रदेश

Answer:

D.आंध्र प्रदेश

Reference ID:(13587)

क्रियापदानुसार कर्त्याच्या योग्य रूपाची निवड करा.  
..... पैसे लपविले.

A.तो

B.ती

C.त्याने

D.त्याला

Answer:

C.त्याने

Reference ID:(13579)

खालील वाक्यातील अधोरेखित शब्दाचे लिंग ओळखा.  
सुधाची नणंद आज आली.

A.पुल्लिंग

B.स्त्रीलिंग

C.नपुसकलिंग

D.उभयलिंग

Answer:

B.स्त्रीलिंग



A.बागे

B.बाग

C.बागेला

D.बागा

Answer:

B.बाग

Reference ID:(13564)

Choose the correct form of modal auxiliary verb for the given sentence:

My father \_\_\_\_\_ not afford to buy books so he borrowed from the public library.

A.would

B.must

C.should

D.could

Sab Answer: bhaijaan

D.could

Sabka ek bhaijaan

Sabka ek bhaijaan

Reference ID:(13804)

पुरवठा शृंखलेच्या प्रत्येक टप्प्यामध्ये अन्नाचा अपव्यय कमी करण्यासाठी, महाराष्ट्रामधील \_\_\_\_\_ जिल्ह्यामध्ये पहिल्या मेगा फुड पार्कचे उद्घाटन करण्यात आले.

A.औरंगाबाद

B.सातारा

C.वर्धा

D.नागपूर

Answer:

B.सातारा

Reference ID:(13836)

वार्षिक चक्रवृद्धीसह प्रति वर्ष 12% या व्याजदराने 2 वर्षासाठी रु. 5000 वरील सरळ व्याज आणि चक्रवाढ व्याज यामधील फरक काय असेल?

A.17.50 रुपये

B.36 रुपये

D.72 रुपये

Answer:

D.72 रुपये

Reference ID:(13821)

2019 मध्ये डीआरडीओद्वारे कोणत्या अवस्वनिक कुज क्षेपणास्त्राचे यशस्वीपणे चाचणी प्रक्षेपण करण्यात आले?

A.तेजस

B.निर्भय

C.अग्नी

D.नाग

Answer:

B.निर्भय

Reference ID:(13838)

नकाशाच्या पट्टीवर, 0.6 सेंमी म्हणजे 5.4 किमी होय. जर नकाशावरील दोन बिंदूंमधील अंतर 35 सेंमी असेल, तर वास्तविक अंतर\_\_\_\_\_ असेल.

A.900 किमी

B.315 किमी

C.600 किमी

D.250 किमी

Answer:

B.315 किमी

Reference ID:(13827)

52 पत्ते असलेल्या एका पॅकमधून, दोन कार्डे एकाचवेळी काढली. दोन्ही कार्डे राणी असल्याची संभाव्यता काय आहे?

A.1/221

B.221/1

C.3/221

D.221/3

Answer:

A.1/221

While the firm was \_\_\_\_\_ fitting the machinery, the entire plant was shut down.

A.into the process of

B.in the process of

C.on the process of

D.onto the process of

Answer:

B.in the process of

Reference ID:(13847)

25 जानेवारी 1975 रोजी कोणता दिवस होता?

A.शनिवार

B.रविवार

C.सोमवार

D.मंगळवार

Answer:

A.शनिवार

Reference ID:(13834)

दिलेल्या चार पर्यायांपैकी पुढे दिलेल्या पत्त्याशी न जुळणारा पत्ता कोणता आहे?

Hasso Langholz  
Lehmbergerstr. 2,  
Damp, 24351

(i) Hasso Langholz  
Lehmbergerstr. 2,  
Damp, 24351

(ii) Hasso Langholz  
Lehmbergerstr. 2,  
Damp, 24351

(iii) Hasso Langholz  
Lebmbergerstr. 2,  
Damp, 24351

(iv) Hasso Langholz  
Lehmbergerstr. 2,  
Damp, 24351

A.i

B.ii

D.iv

Answer:

C.iii

Reference ID:(13829)

संजू 10 किलो केळी 300 रुपयांमध्ये खरेदी करते, अंजू 12 किलो केळी 480 रुपयांमध्ये खरेदी करते, अंजली 15 किलो केळी 300 रुपयांमध्ये खरेदी करते आणि अंजनी 20 किलो केळी 200 रुपयांमध्ये खरेदी करते. यांपैकी कोणी सर्वात चांगला सौदा केला?

A.संजू

B.अंजू

C.अंजली

D.अंजनी

Answer:

D.अंजनी

Reference ID:(13574)

खलील पर्यायी उत्तरातील गटाबाहेरची विषम जोडी कोणती?

A.मित्र – सखा

B.भुंगा – अलि

C.दारा – पत्नी

D.तलाव – सारंग

Answer:

D.तलाव – सारंग

Reference ID:(13580)

पुढील वाक्याचा प्रकार ओळखा.  
'मी काहीही चूक केली नव्हती पण तरीही तो माझ्यावर रागावला'

A.प्रश्नार्थी

B.मिश्र वाक्य

C.संयुक्त वाक्य

D.केवल वाक्य

Answer:

C.संयुक्त वाक्य

Reference ID:(13817) कोयना वन्यजीव अभयारण्य हे \_\_\_\_\_ च्या सातारा जिल्ह्यामधील वन्यजीव अभयारण्य आणि नैसर्गिक जागतिक वारशाचे ठिकाण आहे

A.महाराष्ट्र

B.मध्य प्रदेश

C.राजस्थान

D.गुजरात

Answer: A.महाराष्ट्र

Reference ID:(13803) यवतमाळ आणि जवळपासच्या भागांमध्ये कनेक्टीव्हीटीला बळकटी देण्यासाठी पंतप्रधानांनी हमसफर एक्सप्रेस सुरू केली जी महाराष्ट्र राज्यामध्ये \_\_\_\_\_ आणि \_\_\_\_\_ दरम्यान धावेल.

A.मुंबई, पुणे

B.अंजनी (नागपूर), पुणे

C.पुणे, नाशिक

D.औरंगाबाद, सोलापूर

Answer: B.अंजनी (नागपूर), पुणे

Reference ID:(13558) Choose the option with the appropriate suffix to complete the given sentence:

The most senior teacher was given add\_\_ charge as principal.

A.-ing

B.-ition

C.-itional

D.-ed

Answer: C.-itional

Reference ID:(13553) Choose the correct form of adjective for the given sentence:

Many African countries are crippled with \_\_\_\_\_ debts.

A.big

C.huge

D.small

Answer:

C.huge

Reference ID:(13300)

Choose the option that has the correct spelling for the missing word in the given sentence:

After checkup, the doctor \_\_\_\_\_ me some medicines.

A.prescribed

B.presscried

C.prasccribed

D.prisccribed

Answer:

A.prescribed

Reference ID:(13575)

दिलेल्या शब्दगटातून विरुद्धार्थी शब्द ओळखा.

उत्तर – बरोबर X

A.निरर्थक

B.अर्थपूर्ण

C.संक्षिप्त

D.चूक

Answer:

D.चूक

Reference ID:(13577)

जोडशब्द नसलेला शब्द ओळखा.

A.धनधान्य

B.धरपकड

C.धागादोरा

D.पूर्वनियोजित

Answer:

D.पूर्वनियोजित

- A.बेंगलुरू
- B.मुंबई
- C.दिल्ली
- D.पुणे

Answer: B.मुंबई

Reference ID:(13846) 17 लीटर पाण्यासोबत विशिष्ट प्रमाणात शुद्ध सेंद्रीय गाईचे दूध मिसळल्यास मिश्रण 90 रुपये प्रति लीटर बनते. जर शुद्ध दूधाची किंमत प्रति लीटरला 108 रुपये असेल, तर मिश्रणामध्ये किती दूध आहे?

- A.70 लीटर
- B.80 लीटर
- C.75 लीटर
- D.85 लीटर

Answer: D.85 लीटर

Reference ID:(13816) भारतामध्ये ईस्ट इंडिया कंपनी सत्तेच्या व्यवस्थापनाचा उध्दार करण्यासाठी ब्रिटीश शासनाद्वारे खालीलपैकी कोणता कायदा पारित करण्यात आला?

- A.नियमन कायदा
- B.सनद कायदा
- C.पीट्स इंडिया कायदा
- D.कंपनी कायदा

Answer: A.नियमन कायदा

Reference ID:(13819) कोणत्या राज्याच्यात रेल्वे विकास महामंडळ मर्यादितने 2019 मध्ये त्यांची 19 स्था नके लिंग संवेदनशील करण्याचा प्रस्ताव पुढे ठेवला?

- A.उत्तर प्रदेश
- B.महाराष्ट्र
- C.मध्य प्रदेश
- D.आंध्र प्रदेश

Reference ID:(13844) जर 1728 चे घनमूळ = 12 असेल तर 0.001728 चे घनमूळ = \_\_\_\_.

A.1.2

B.0.12

C.0.012

D.0.0012

Answer:

B.0.12

Reference ID:(13299) Choose the option that has the correct spelling.

A.Arguement

B.Argument

C.Arguemant

D.Arguemint

Answer:

B.Argument

Reference ID:(13563) Which of the following options best combines the two given sentences?

All animals need water. They may die without it.

A.All animals need water, but they may die without it.

B.All animals need water when they may die without it.

C.All animals need water and they may die without it.

D.All animals need water else they may die without it.

Answer:

D.All animals need water else they may die without it.

Reference ID:(13561) Choose the correct form of verb for the given sentence:

I wanted to \_\_\_\_\_ the actor, but my car broke down.

A.meet

B.meeting



D.be meeting

Answer:

A.meet

Reference ID:(13826)

डावीकडून उजवीकडे चढत्या क्रमाने मांडणी केल्यानंतर सारख्या स्थानावर राहतील असे 2576489 संख्येमध्ये किती अंक आहेत?

A.एक

B.दोन

C.तीन

D.चार

Answer:

D.चार

Reference ID:(13807)

1615 मध्ये मुघलांनी हस्तगत केल्यानंतर महाराष्ट्रातील खालीलपैकी कोणत्या शहराचे नाव 'गुलशनाबाद' असे बदलले गेले होते?

A.पुणे

B.अहमदनगर

C.सातारा

D.नाशिक

Answer:

D.नाशिक

Reference ID:(13568)

Choose the appropriate conjunction for the given sentence:

\_\_\_\_\_ it rains, the college will declare the holiday.

A.As

B.Yet

C.If

D.Though

Answer:

C.If

Reference ID:(13833)

महेशकडे 50,000 रुपये असतात जे तो परदेशी फिरायला जाण्याआधी 1 डॉलर = 45 रुपये ह्या दराने डॉलरमध्ये बदलून घेतो. परत आल्यावर त्याच्याकडे 200 डॉलर तसेच शिल्लक राहिलेले असतात. तर प्रवासामध्ये त्याने किती रुपये खर्च केलेले असतात?

A.45,500 रुपये

B.41,000 रुपये

C.40,000 रुपये

D.35,000 रुपये

Answer:

B.41,000 रुपये

Reference ID:(13818)

पारशी धर्म सुधार संघटनेची स्थापना बॉम्बेमध्ये \_\_\_\_\_ यावर्षी करण्यात आले.

A.1902

B.1912

C.1851

D.1801

Answer:

C.1851

Reference ID:(13555)

Fill in the blank with the correct noun for the given sentence:

Every day we feed huge quantities of printed \_\_\_\_\_ into the library inside our heads.

A.news

B.information

C.inform

D.matters

Answer:

B.information

Reference ID:(13598)

पुढील वाक्यात पर्यायातील अचूक वाक्प्रचार निवडा.  
घरातल्या वातावरणात तीचा कोंडमारा होतो.

A.जीव खालीवर होणे

B.घुसमट होणे

C.उघडे पडणे

Answer: B.घुसमट होणे

Reference ID:(13831) सरासरी काढा.  
66, 78, 78, 92, 45 & 67

A.74

B.98

C.71

D.98

Answer: C.71

Reference ID:(13571) Out of the following options, identify a compound sentence.

A.Have you ever been to a jungle?

B.It can be dark and dangerous.

C.I once went to a jungle but I did not go too deeply inside the jungle.

D. I went alone to a jungle.

Answer: C.I once went to a jungle but I did not go too deeply inside the jungle.

Reference ID:(13835) एका द्रावणात दूध आणि पाण्याचे प्रमाण अनुक्रमे 5:3 इतके होते. त्या द्रावणात जर 5 लिटर दूध आणखी मिसळले तर हे प्रमाण 7:3 इतके होते. तर नव्या द्रावणात दुधाचे प्रमाण किती असेल?

A.12.5 लिटर

B.15 लिटर

C.17.5 लिटर

D.20 लिटर

Answer: C.17.5 लिटर

Reference ID:(13589) रिकाम्या जागी योग्य पर्याय निवडा.  
व्यायाम ही ..... करण्याची गोष्ट आहे.

A.पेक्षा

C.दररोज

D.प्रीत्यर्थ

Answer:

C.दररोज

Reference ID:(13813)

27 मार्च,2019 रोजी कॅबिनेटने भारत आणि \_\_\_\_\_ दरम्यान पर्यटन क्षेत्रातील सामंजस्य करार (एमओयू) मंजूर केले.

A.क्रोएशिया

B.इटली

C.रशिया

D.युएसए

Answer:

A.क्रोएशिया

Reference ID:(13581)

पुढील वाक्याचा प्रकार ओळखा.  
पाऊस पडल्यावर डोंगर हिरवे गार झाले.

A.प्रश्नार्थी

B.मिश्र वाक्य

C.संयुक्त वाक्य

D.केवल वाक्य

Answer:

D.केवल वाक्य

Reference ID:(13840)

जेथे MALAYALAM ची पुनरावृत्ती झाली आहे अशा  
MALAYALAMMALAYALAMMALAYALAM ..... क्रमाचे 2017 वे अक्षर \_\_\_\_\_ हे  
आहे.

A.M

B.A

C.L

D.Y

Answer:

A.M

---

A.1475 रुपये

---

B.1520 रुपये

---

C.1575 रुपये

---

D.1625 रुपये

---

Answer:

C.1575 रुपये

---

Date of Exam : 16-07-2019 10:00 AM

Reference ID:(13017) Choose the correct form of modal auxiliary verb for the given sentence:

Internet \_\_\_\_\_ provide information on any topic with the click of a mouse.

A.ought to

B.can

C.may

D.should

Answer: B.can

Reference ID:(13028) दिलेल्या पर्यायांपैकी योग्य विरुद्धार्थी शब्द वाक्यात भरून वाक्य पूर्ण करा.  
----- जमिनीला कितीही खतपाणी घातले तरी ती सुपीक होणार नाही.

A.कोरडवाहू

B.नापीक

C.भुसभुशीत

D.कोरड्या

Answer: B.नापीक

Reference ID:(13020) Choose the correct conjunction for the given sentence:

Though there was little evidence against him, \_\_\_\_\_ he was convicted.

A.so

B.besides

C.yet

D.after

Answer: C.yet

The validity of your passport has expired and therefore is \_\_\_ valid now.

A.post-

B.mis-

C.un-

D.in-

Answer:

D.in-

Reference ID:(13031)

रिकाम्या जागी योग्य शब्द भरून जोडशब्द पूर्ण करा.  
----- कौतुक

A.गोड

B.सत्कार

C.कोड

D.मान

Sab Answer: bhaijaan

C.कोड

Sabka ek bhaijaan

Sabka ek bhaijaan

Reference ID:(13254)

जल संसाधनासाठीच्या केंद्रीय मंत्र्याद्वारे 27 फेब्रुवारी 2019 रोजी कोणत्या राज्याने संसाधन व्यवस्थापनासाठी पहिले बक्षिस जिंकले?

A.महाराष्ट्र

B.गुजरात

C.उत्तर प्रदेश

D.मध्य प्रदेश

Answer:

A.महाराष्ट्र

Reference ID:(13298)

एक दुकानदार 12.5% सूट देऊन 17,940 रुपयांना टीव्ही संचाची विक्री करतो आणि त्याला 5% नफा होतो. जर कोणतीही सूट दिली नाही तर त्याच्या नफ्याची टक्केवारी काय असेल?

A.20%

B.25%

C.30%

Sabka ek bhaijaan

Sabka ek bhaijaan

Sabka ek bhaijaan

Answer: A.20%

Reference ID:(13047) पुढील पुढील वाक्यातील विरामचिन्ह ओळखा.  
अनेक ठिकाणी उसवलेल्या स्वेटरमधून थंडी चांगलीच जाणवत होती.

A.संयोगचिन्ही

B.प्रश्नचिन्ह

C.उद्गारचिन्ह

D.पूर्णविराम

Answer: D.पूर्णविराम

Reference ID:(13027) पर्यायी उत्तरांतील गटाबाहेरचा शब्द कोणता?

A.मृग

B.सारंग

C.कुरंग

D.मृगेंद्र

Answer: D.मृगेंद्र

Reference ID:(13262) भारतीय संविधानाचे कोणते परिशिष्ट राज्य आणि केंद्र शासित प्रदेशांना राज्य सभेमधील जागांचे वाटप हाताळते?

A.चौथे

B.पहिले

C.दहावे

D.सातवे

Answer: A.चौथे



Reference ID:(13019)

Choose the appropriate prepositional phrase for the given sentence:

The problem was solved \_\_\_\_\_ a new device developed by our team.

A.at the dint of

B.by reason of

C.by means of

D.for fear of

Answer:

C.by means of

Reference ID:(13284)

सरासरी काढा.  
22, 71, 68, 78, 90 & 25

A.59

B.98

C.68

D.78

Answer:

A.59

Reference ID:(13268)

महाराष्ट्रात सत्ता असलेला सर्वात सुरुवातीचा राजवंश खालीलपैकी कोणता होता?

A.चोल राजवंश

B.पल्लव राजवंश

C.सातवाहन राजवंश

D.राष्ट्रकुट राजवंश

Answer:

C.सातवाहन राजवंश

Reference ID:(13043)

गटात न बसणारा शब्द. ओळखा.  
प्राणी, प्रथमेश, प्रार्थना, प्रसिद्ध

A.प्राणी

B.प्रथमेश

C.प्रार्थना

D.प्रसिद्ध

Reference ID:(13030) जोडशब्द नसलेला शब्द ओळखा.

A.रीतिरिवाज

B.गंधकण

C.सोक्षमोक्ष

D.हळदकुंकू

Answer:

B.गंधकण

Reference ID:(13026)

Choose the option that best expresses the meaning of the highlighted idiom/phrase:

We want to replace **the rule of a king or queen** with self-rule.

A.Democracy

B.Despotism

C.Monarchy

D.Plutocracy

Answer:

C.Monarchy

Reference ID:(13282)

रितिकाकडे असलेल्या पैशामधून 75% रक्कम खर्च केल्यानंतर तिच्याकडे 750 रुपये शिल्लक राहिले. सुरूवातीला तिच्याकडे असलेली रक्कम काढा?

A.1500 रुपये

B.7500 रुपये

C.1000 रुपये

D.3000 रुपये

Answer:

D.3000 रुपये

Reference ID:(13261)

भारत आणि पाकिस्तान \_\_\_\_\_ या सीमा रेषेद्वारे विलग झाले आहेत.

A.मॅकमोहन

B.रेडक्लिफ

D.वेलिंगटन

Answer:

B.रेडक्लिफ

Reference ID:(13002)

Choose the option that has the correct spelling.

A.Comitment

B.Comitmmment

C.Commitment

D.Cometmant

Answer:

C.Commitment

Reference ID:(13036)

रिकाम्या जागी योग्य शब्द निवडा.  
उद्देश्य, उद्देश्यविस्तार, विधेय, विधेयविस्तार हे ----- घटक आहेत.

A.वाक्यपृथक्करणाचे

B.शब्दांच्या जातीचे

C.अलंकाराचे

D.वृत्ताचे

Answer:

A.वाक्यपृथक्करणाचे

Reference ID:(13296)

3460 आणि 9380 ला भागल्यानंतर अनुक्रमे 9 आणि 13 बाकी देणारी सर्वात मोठी संख्या काढा?

A.3451 आणि 9637

B.3541 आणि 9367

C.3551 आणि 9667

D.3451 आणि 9367

Answer:

D.3451 आणि 9367

Wow france won the Football cup this year

A.Wow, France won the football world cup this year

B.Wow france! won the Foot Ball cup this year.

C.Wow! France won the Football cup this year.

D.Wow the France won the football cup this year?

Answer:

C.Wow! France won the Football cup this year.

He seeks his mother 's permission \_\_\_\_\_ he does anything important.

A.after

B.unless

C.as soon as

D.before

Answer:

D.before

\_\_\_\_\_ च्या मदतीने खगोलीय वस्तूंना रात्रीच्या वेळी पाहिले जाऊ शकते.

A.सूक्ष्मदर्शकयंत्र

B. दूरदर्शी

C.परिदर्शी

D.चित्ररूपदर्शक

Answer:

B. दूरदर्शी

A.विज्ञान आणि अभियांत्रिकी-अवकाश

B.व्यापार आणि उद्योग-तंत्रज्ञान

C.चिकित्सा नेत्रविज्ञान

D.साहित्य आणि शिक्षण

Answer:

A.विज्ञान आणि अभियांत्रिकी-अवकाश

Reference ID:(13018)

Choose the appropriate prepositions for the given sentence:

Results \_\_\_\_ a new clinical trial has shown a new radiotherapy technique can treat cancer patients \_\_\_\_ just five sessions instead of the typical 37.

A.of ... on

B.off ... in

C.for ... on

D.from ...in

Sabka ek bhaijaan

Answer:

D.from ...in

Sabka ek bhaijaan

Sabka ek bhaijaan

Reference ID:(13011)

Choose the option with the appropriate prefix to complete the given sentence:

During the mid 1800's many people joined the \_\_\_\_slavery movement.

A.ante-

B.pre-

C.anti-

D.de-

Answer:

C.anti-

Reference ID:(13023)

Choose the correct form of verb that is in agreement with the subject:

The members of the jury \_\_\_\_\_ divided in their opinions.

A.are

B.has

Sabka ek bhaijaan

Sabka ek bhaijaan

Sabka ek bhaijaan

D.is

Answer:

A.are

Reference ID:(13287)

42 हे 210 च्या किती टक्के आहेत?

A.15 %

B.20 %

C.22 %

D.25 %

Answer:

B.20 %

Reference ID:(13049)

कृपादृष्टी' या शब्दात किती जोडाक्षरे आली आहेत?

A.2

B.3

C.1

D.4

Answer:

C.1

Reference ID:(13272)

2019 मध्ये, हिमाचल प्रदेशाच्या निर्मितीच्या स्मरणार्थ आनंद आणि उत्सवासोबत 72 वा हिमाचल दिन \_\_\_\_\_ रोजी साजरा करण्यात आला.

A.15 एप्रिल

B.16 एप्रिल

C.17 एप्रिल

D.20 एप्रिल

Answer:

A.15 एप्रिल

Reference ID:(13290)

200 विद्यार्थ्यांनी मिळवलेले सरासरी गुण 125 आहेत. तर एकूण गुण किती ते काढा.

A.12500

C.25000

D.125000

Answer:

C.25000

Reference ID:(13264)

केंद्रीय गृह निर्माण आणि शहरी प्रकरणे मंत्रीमंडळाद्वारे दिलेल्या स्वच्छ सर्वेक्षण पुरस्कार 2019 नुसार महाराष्ट्राला 'उत्तम प्रदर्शन करणारी राज्य' या श्रेणीकरणामध्ये \_\_\_\_\_ श्रेणी मिळाली.

A.पहिली

B.दुसरी

C.तिसरी

D.चौथी

Answer:

C.तिसरी

Reference ID:(13050)

पुढील वाक्प्रचारांच्या योग्य अर्थाचा पर्याय निवडा.  
गळ्यात घोरपड बांधणे -

A.मोठे शौर्य दाखवणे

B.मोठे संकट येणे

C.नसती जबाबदारी लादणे

D.मांजराच्या गळ्यात घंटा बांधणे

Answer:

C.नसती जबाबदारी लादणे

Reference ID:(13039)

योग्य रूपाचा पर्याय निवडून गाळलेल्या जागी भरा .  
..... धनी कोणीतरी वेगळाच.

A.बोलून

B.बोलावणे

C.बोलविता

D.बोलता

Answer:

C.बोलविता

A.उभयान्वयी अव्यय

B.शब्दयोगी अव्यय

C.क्रियाविशेषण अव्यय

D.केवलप्रयोगी अव्यय

Answer:

D.केवलप्रयोगी अव्यय

Reference ID:(13266)

27 मार्च, 2019 रोजी कॅबिनेटने भारत आणि क्रोएशिया दरम्यान \_\_\_\_\_ क्षेत्रातील सामंजस्य करार (एमओयू) मंजूर केले.

A.शिक्षण

B.जैविक अस्त्र

C.रासायनिक उर्जा

D.पर्यटन

Answer:

D.पर्यटन

Reference ID:(13259)

एप्रिल 2019 मध्ये फिफा (फेडरेशन ऑफ इंटरनॅशनल फुटबॉल असोसिएशन) च्या कार्यकारी समितीचे सदस्य म्हणून खालीलपैकी कोणत्या पहिल्या भारतीयाची निवड करण्यात आली?

A.सुनिल छेत्री

B.प्रफुल पटेल

C.शरद पवार

D.बाइचुंग भुतिया

Answer:

B.प्रफुल पटेल

Reference ID:(13271)

1668 मध्ये, ईस्ट इंडिया कंपनीने \_\_\_\_\_ राजाकडून बॉम्बे भाडेपट्टीवर घेतले.

A.चार्ल्स दुसरा

B.एडवर्ड पाचवा

C.जॉर्ज पहिला

D.विल्यम दुसरा



Reference ID:(13016)

Which of the following options best combines the two given sentences?

I did not revise my answers. I missed scoring a hundred.

A.I did not revise my answers but I missed scoring a hundred.

B.I did not revise my answers although I missed scoring a hundred.

C.I did not revise my answers, so I missed scoring a hundred.

D.Though I did not revise my answers, I missed scoring a hundred.

Answer:

C.I did not revise my answers, so I missed scoring a hundred.

Reference ID:(13292)

खाली दिलेल्या श्रृंखलेमध्ये अंकांचा एक विशिष्ट क्रम दिलेला आहे. त्यानुसार चुकीचा क्रम ओळखा:

47, 44, 45, 46, 33, 57, 3, 88

A.44

B.57

C.46

D.3

Answer:

B.57

Reference ID:(13258)

पंत प्रधान नरेंद्र मोदी यांनी 'खेलो इंडिया मोबाईल ॲप' \_\_\_\_\_ विषयी जागरूकता निर्माण करण्यासाठी सुरू केले.

A.खेळ आणि तंदुरुस्ती

B.नोकरी

C.परीक्षा

D.फॅशन

Answer:

A.खेळ आणि तंदुरुस्ती

Reference ID:(13281)

एका बॅगेमध्ये 5 पांढरे आणि 15 पिवळे चेंडू आहेत. ते चांगले मिसळले गेले आणि यादृच्छिकपणे एक चेंडू काढला गेला. पिवळा चेंडू मिळण्याची संभाव्यता काढा?

A.3/4

B.4/3

C.5/4

D.4/5

Answer:

A.3/4

Reference ID:(13037)

'तुम्ही सगळे मिळून हे काम पूर्ण करा' आख्यात ओळखा.

A.लाख्यात

B.प्रथम ताख्यात

C.ऊ-आख्यात

D.द्वितीय-ताख्यात

Answer:

C.ऊ-आख्यात

Sabka ek bhaijaan

Sabka ek bhaijaan

Sabka ek bhaijaan

Reference ID:(13265)

नारी शक्ती पुरस्कार विजेती सीमा मेहता ही \_\_\_\_\_ येथे स्थित 'छंदम नृत्य भारती' संस्थेची संचालिका आहे.

A.मुंबई

B.बेंगलुरू

C.नोएडा

D.गुरूग्राम

Answer:

A.मुंबई

Reference ID:(13013)

Choose the appropriate articles to complete the given sentence:

We reached our destination for \_\_\_ day, \_\_\_ small town in \_\_\_ Odisha.

A.the, no article, the

B.the, a, the

C.the, a, no article

D.a, the, the

Sabka ek bhaijaan

Sabka ek bhaijaan

Sabka ek bhaijaan

Reference ID:(13044)

पुढील वाक्यांमधील विशेषण ओळखा.  
विशेषणांचे पुष्कळ उपप्रकार होतात, माहीत आहे ना?

A.माहीत

B.उपप्रकार

C.पुष्कळ

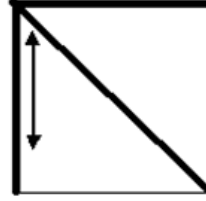
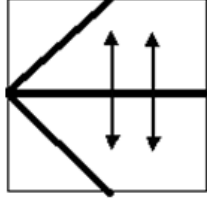
D.विशेषण

Answer:

C.पुष्कळ

Reference ID:(14347)

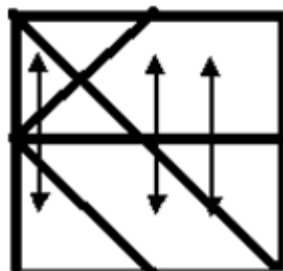
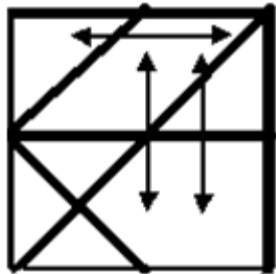
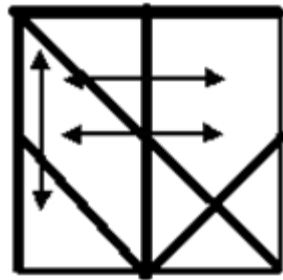
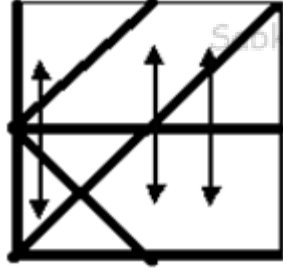
जर खाली दिलेले दोन चौकोन एकमेकांवर आच्छादित होत असतील, तर खालीलपैकी कोणता एक विकल्प तयार होईल?



Sabka ek bhaijaan

Sabka ek bhaijaan

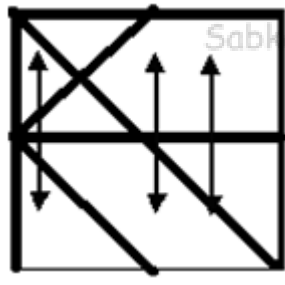
Sabka ek bhaijaan



Sabka ek bhaijaan

Sabka ek bhaijaan

Sabka ek bhaijaan



Reference ID:(25013)

एक कार 80 किमी/तास वेगाने धावत आहे. मीटर प्रति सेकंदांमध्ये कारचा वेग काय आहे?

$20\frac{2}{9}$  मीटर/सेकंद

$22\frac{2}{9}$  मीटर/सेकंद

$24\frac{2}{9}$  मीटर/सेकंद

$26\frac{2}{9}$  मीटर/सेकंद

Answer:

$22\frac{2}{9}$  मीटर/सेकंद

Reference ID:(13042)

रिकाम्या जागी योग्य पर्याय निवडा.  
एकच गोष्ट ..... सांगितल्याने खरी ठरते का?

A. वारंवार

B. साठी

C. तर

D. पर्यंत

Answer:

A. वारंवार

Reference ID:(13035)

पुढील वाक्य वाचून योग्य वाक्य ओळखा.

A. नदी डोंगरामधून उगम पावल्या.

B. नद्या डोंगरामधून उगम पावली.

C. नदी डोंगरामधून उगम पावली.

D. नदी डोंगरामधून उगम पावले.

Reference ID:(13278) जयप्रकाश आणि रमेश यांच्या वयाचे गुणोत्तर अनुक्रमे 5:3 आहे. त्यांच्या वयांचा गुणाकार 540 आहे. 20 वर्षांनंतर त्यांच्या वयाचे गुणोत्तर काय असेल?

A.7:6

B.25:19

C.23:18

D.21:28

Answer: B.25:19

Reference ID:(13285) दिलेल्या चार पर्यायांपैकी पुढे दिलेल्या पत्त्याशी न जुळणारा पत्ता कोणता आहे?  
Josef Fuhrgescht Kohlen  
Im Muhlenbruch 6,  
Georgsmarienhutte, 49124

(i) Josef Fuhrgescht Kohlen  
Im Muhlenbruch 6,  
Georgsmarienhutte, 46124

(ii) Josef Fuhrgescht Kohlen  
Im Muhlenbruch 6,  
Georgsmarienhutte, 49124

(iii) Josef Fuhrgescht Kohlen  
Im Muhlenbruch 6,  
Georgsmarienhutte, 49124

(iv) Josef Fuhrgescht Kohlen  
Im Muhlenbruch 6,  
Georgsmarienhutte, 49124

A.i

B.ii

C.iii

D.iv

Answer: A.i

Reference ID:(13293) 10 नोव्हेंबर 1581 रोजी कोणता दिवस होता?

B.बुधवार

C.गुरूवार

D.शुक्रवार

Answer:

A.मंगळवार

Reference ID:(13038)

योग्य पर्यायाची निवड करा.  
तू आईला पत्र ----- का?

A.लिहिशील

B.लिहीन

C.लिहील

D.लिहितो

Answer:

A.लिहिशील

Reference ID:(13297)

852 आणि 1491 चा ल.सा.वी. काढा.

A.5694

B.5469

C.5649

D.5964

Answer:

D.5964

Reference ID:(13033)

पुढील वाक्याचा प्रकार ओळखा.  
'त्याला गाण्याचा भारीच शौक आहे.'

A.प्रश्नार्थी

B.मिश्र वाक्य

C.संयुक्त वाक्य

D.केवल वाक्य

Answer:

D.केवल वाक्य

Chocolate has a well-deserved \_\_\_\_\_ for improving mood and feeding the brain.

A.reputations

B.reputable

C.repute

D.reputation

Answer:

D.reputation

Reference ID:(13277)

रघुपति आणि परमेश्वरच्या वयांचे गुणोत्तर अनुक्रमे 5: 7 आहे. सोळा वर्षांपूर्वी त्यांच्या वयांचे गुणोत्तर अनुक्रमे 3: 5 असे होते. परमेश्वरचे वर्तमान वय \_\_\_ आहे.

A.30 वर्ष

B.35 वर्ष

C.56 वर्ष

D.45 वर्ष

Sab Answer: bhaijaan

C.56 वर्ष

Sabka ek bhaijaan

Sabka ek bhaijaan

Reference ID:(13274)

11 एप्रिल पासून ते 19 मे पर्यंतच्या 2019 भारतीय सार्वत्रिक निवडणुकीमध्ये \_\_\_\_\_ लोकसभा समाविष्ट होत्या.

A.17 वा

B.18 वा

C.16वा

D.21वा

Answer:

A.17 वा

Reference ID:(13295)

रिकाम्या जागी योग्य संख्या निवडून श्रृंखला पूर्ण करा:  
9, 11, 20, 31, 51, 82, \_\_\_\_\_

A.133

B.142

C.156

Answer: A.133

Reference ID:(13263) कोणत्या प्राधिलेखाअंतर्गत न्यायालय हे कनिष्ठ न्यायालय किंवा इतर प्राधिकरणाला त्याच्यासमोर विलंबित प्रकरणे उच्च प्राधिकरण किंवा न्यायालयाला हस्तांतरित करण्याचा आदेश देऊ शकते?

- A.सर्टिओरारी
- B.मंडमस
- C.हेबिस कॉर्पस
- D.क्यो वॉरंटो

Answer: A.सर्टिओरारी

Reference ID:(13276) शरीरामध्ये \_\_\_\_\_ च्या कमतरतेमुळे रक्तक्षय होतो.

- A.बिंबाणू
- B.कार्बोदके
- C.प्रथिने
- D.लोह

Answer: D.लोह

Reference ID:(13256) 1 फेब्रुवारी 2019 रोजी भारतीय रिजर्व्ह बँकेने कोणत्या तीन बँकांवरील कायकारी मर्यादा कमी केल्या आणि त्यांना पूर्णपणे त्वरित सुधारणात्मक कृती (पीसीए) आराखड्यामधून बाहेर पडण्याची परवानगी दिली?

- A.बँक ऑफ इंडिया (बीओआय), बँक ऑफ महाराष्ट्र (बीओएम) आणि पंजाब नॅशनल बँक (पीएनबी)
- B.बँक ऑफ इंडिया (बीओआय), बँक ऑफ महाराष्ट्र (बीओएम) आणि ओरिएन्टल बँक ऑफ कॉमर्स (ओबीसी)
- C.बँक ऑफ इंडिया (बीओआय), आंध्रा बँक (एएनडीबी) आणि ओरिएन्टल बँक ऑफ कॉमर्स (ओबीसी)
- D.बँक ऑफ इंडिया (बीओआय), बँक ऑफ महाराष्ट्र (बीओएम) आणि कॅनरा बँक (सीबी)

Answer: B.बँक ऑफ इंडिया (बीओआय), बँक ऑफ महाराष्ट्र (बीओएम) आणि ओरिएन्टल बँक ऑफ कॉमर्स (ओबीसी)



\_\_\_\_\_ gathered at the scene of the accident.

A.A gang of crooks

B.A crowd of onlookers

C.A mob

D.A bunch of miscreants

Answer:

B.A crowd of onlookers

Reference ID:(13048)

द्वितीया विभक्तीचे अनेकवचनी प्रत्यय कोणते?

A.स, ला, ते

B.स, ला, ना, ते

C.ऊन, हून

D.त, ई, आ

Answer:

B.स, ला, ना, ते

Reference ID:(13255)

7 मार्च 2019 रोजी, महाराष्ट्र शासनाने राज्यामध्ये उच्च अनुदानित दरामध्ये चांगल्या दर्जाचे अन्न पुरवण्यासाठी राज्यामधील बांधकाम मजूरांसाठी कोणती विशेष योजना सुरू केली?

A.अटल आहार योजना

B.श्रमदेव जयते योजना

C.अटल श्रमदेव योजना

D.श्रमदेव आहार योजना

Answer:

A.अटल आहार योजना

Reference ID:(13279)

खाली दिलेली माहिती काळजीपूर्वक वाचा आणि दिलेल्या प्रश्नाचे उत्तर द्या.  
L, M, N, P, Q, R, S, आणि T हे आठ व्यक्ती केंद्रभागी तोंड करून गोलाकार टेबलाभोवती बसले आहेत. Q हा P आणि R चा शेजारी नाही. M हा T च्या डावीकडून दुसरा आहे आणि P च्या उजवीकडून तिसरा आहे. R हा N च्या डावीकडून तिसरा आहे, जो T च्या लगेचच डावीकडे आहे. L हा P च्या उजवीकडून दुसरा आहे.  
खालीलपैकी काय निश्चितपणे सत्य आहे?

A.R हा लगेचच P च्या उजवीकडे आहे.

B.Q हा लगेचच L च्या उजवीकडे आहे.

D.R हा P आणि S च्या मधे आहे.

Answer: A.R हा लगेचच P च्या उजवीकडे आहे.

Reference ID:(13267) सत्यशोधक समाजाची स्थापना महाराष्ट्रात 1873 मध्ये \_\_\_\_\_ द्वारे केली होती.

A.धोंडो केशव कर्वे

B.सिंधुताई सपकाळ

C.ज्योतिबा फुले

D.लोकमान्य टिळक

Answer: C.ज्योतिबा फुले

Reference ID:(13269) टिपूचा अंतिम पराभव यांच्या हस्ते झाला

A.लॉर्ड व्हेलेस्ली

B.लॉर्ड कॉर्नवालिस

C.लॉर्ड डलहौसी

D.जॉन शोर

Answer: A.लॉर्ड व्हेलेस्ली

Reference ID:(13015) Choose the most suitable determiner for the given sentence:

They had so \_\_\_\_\_ success with so little.

A.much

B.few

C.many

D.most

Answer: A.much

Reference ID:(13294)

सोहनने विमा पॉलिसीवर 23% रक्कम खर्च केली, 33% रक्कम जेवणावर, 19% रक्कम मुलांच्या शिक्षणावर आणि 16% रक्कम मनोरंजनावर खर्च केली. त्याने शिल्लक राहिलेली 504 रुपयांची रक्कम बँकेमध्ये जमा केली. त्याने अन्न आणि विमा पॉलिसीवर एकत्रितपणे एकूण किती रक्कम खर्च केली?

A.3146 रुपये

B.3126 रुपये

C.3136 रुपये

D.3048 रुपये

Answer:

C.3136 रुपये

Reference ID:(13003)

Choose the option that has the correct spelling for the missing word in the given sentence:

\_\_\_\_\_ snowfall will affect many areas.

A.Persistent

B.Persistant

C.Parsistent

D.Pursistent

Answer:

A.Persistent

Reference ID:(13022)

Choose the most appropriate usage to fill in the blank in the given sentence:

Parents must try to \_\_\_\_\_ their children's expectations.

A.understand

B.understandable

C.understandably

D.understanding

Answer:

A.understand

Reference ID:(13288)

$5E9 + 2F8 + 3G7 = 1114$  या दिलेल्या समीकरणात F चे कमाल मूल्य \_\_\_\_\_ आहे, जेथे E, F आणि G कोणत्याही अंकाचे प्रतीक आहेत.

A.8

B.9

D.5

Answer:

B.9

Reference ID:(13014)

. Choose the correct form of verb for the given sentence:

He \_\_\_\_\_ to share the profits of the company.

A.dismay

B.agreed

C.undecide

D.made

Answer:

B.agreed

Reference ID:(13046)

पुढील वाक्यांमध्ये योग्य ते अव्यय घाला.  
सर्व बाजूंनी संकट येणे ----- आभाळ फाटणे असे म्हणता येईल.

A.अथवा

B.सबब

C.म्हणजे

D.परंतु

Answer:

C.म्हणजे

Reference ID:(13280)

एका टोपलीमध्ये 4 पांढऱ्या, 5 आकाशी आणि 3 गडद हिरव्या गोऱ्या आहेत. जर टोपलीमधून यादृच्छिकपणे 2 गोऱ्या काढल्या, तर दोन्ही पांढऱ्या असण्याची संभाव्यता काय आहे?

A.1/11

B.7/3

C.6/1

D.2/1

Reference ID:(13251) पुढील वाक्यात पर्यायातील अचूक वाक्प्रचार निवडा.  
हातोहात त्याने लोकांना फसवले.

- A.हातावर हात ठेवणे  
B.पाचावर धारण बसणे  
C.डोळ्यात धूळ फेकणे  
D.जीव खालीवर होणे

Answer: C.डोळ्यात धूळ फेकणे

Reference ID:(13260) 1960 वर्षामध्ये राज्य निर्मितीच्या वेळी महाराष्ट्रामध्ये किती जिल्हे होते?

- A.24  
B.26  
C.28  
D.30

Answer: B.26

Reference ID:(13291) किराणा माल विक्रेत्याने 30 रुपये प्रति किलोग्रॅम आणि 32.5 प्रति किलोग्रॅम मूल्याच्या तांदळांना किती गुणोत्तरामध्ये मिसळावे, ज्यामुळे मिश्रणाची 34.10 रुपये प्रति किलोग्रॅमने विक्री केल्यास त्याला 10% नफा मिळेल?

- A.5:2  
B.4:5  
C.3:8  
D.3:2

Answer: C.3:8

Reference ID:(13004) Choose the appropriate option with the correct punctuation marks for the given sentence:

Youre a great speaker James so you might win the competition

- A.“You're a great speaker, James so you might win the competition”

B. "You're a great speaker James so you might, win the competition."

C. "You're a great speaker, James, so you might win the competition."

D. "You're a great speaker, James so, you might win the competition."

Answer:

C. "You're a great speaker, James, so you might win the competition."

Reference ID:(13032)

खालील वाक्यातील अधोरेखित शब्दांचे लिंग ओळखा.  
बोटीने प्रवास करणे हे काहीना कंटाळवाणे वाटते.

A. पुल्लिंग

B. स्त्रीलिंग

C. नपुंसकलिंग

D. उभयलिंग

Answer:

B. स्त्रीलिंग

Reference ID:(14348)

 $\frac{4095}{11655}$  ह्या अपूर्णाकाचे सगळ्यात लघुरूप आहे:

A. 37/13

B. 13/37

C. 91/259

D. 117/333

Answer:

B. 13/37

Reference ID:(13286)

रिकाम्या जागी योग्य संख्या निवडून मालिका पूर्ण करा:  
5, 9, 17, 29, \_\_\_\_\_, 65

A. 45

B. 40

C. 50

D. 42

Answer:

A. 45

Many foreign leaders came to \_\_\_\_\_ Delhi, \_\_\_\_\_ capital of \_\_\_\_\_ India to watch \_\_\_\_\_ Republic Day parade.

A.no article, the, no article, the

B.the, the, no article, the

C.a, the, no article, a

D.a, the, a, a

Answer: A.no article, the, no article, the

Reference ID:(13273)

कोणत्या प्रकल्पांतर्गत नैदलाने सहा पारंपारिक डिजेल-विद्युत पाणबुड्या तयार करण्याचा प्रस्ताव ठेवला ज्या जवळपास सध्या बांधकामाच्या प्रक्रियेत असलेल्या स्कोर्पिन वर्गामधील पाणबुड्यांपेक्षा जवळपास 50 टक्क्यांहून मोठ्या असतील?

A.प्रकल्प 70-भारत

B.प्रकल्प 75-भारत

C.प्रकल्प 17-भारत

D.प्रकल्प 71-भारत

Answer: B.प्रकल्प 75-भारत

Reference ID:(13283)

मेरीने 80 रुपये प्रति किलो स्किडची विक्री करून दिवसाच्या शेवटी 960 रुपये कमवले. तिने किती किग्रॅम स्किड्सची विक्री केली?

A.14 किलो

B.12 किलो

C.0.83 किलो

D.18 किलो

Answer: B.12 किलो

Reference ID:(13257)

महाराष्ट्र राज्यामध्ये \_\_\_\_\_ महानगरपालिका आहेत.

A.24

B.25

C.27

Answer: C.27

Reference ID:(13034) पुढील वाक्याचा प्रकार ओळखा.  
घंटा वाजल्यावर मुले भराभर वर्गात गेली.

A.प्रश्नार्थी

B.मिश्र वाक्य

C.संयुक्त वाक्य

D.केवल वाक्य

Answer: D.केवल वाक्य

Reference ID:(13040) दिलेल्या धातूचे 'कृदंत' (साधित) रूप ओळखा.  
धावणे

A.धावतो

B.धावताना

C.धावते

D.धावतात

Answer: B.धावताना

Reference ID:(13029) दिलेल्या शब्दगटातून विरुद्धार्थी शब्द ओळखा.  
चित्रपट – आवडता X -----

A.जुना

B.नवा

C.नावडता

D.मूक

Answer: C.नावडता

Reference ID:(13025) Choose the correct form of tense for the given sentence:

I \_\_\_\_\_ up at 6 am every morning and \_\_\_\_\_ for a walk.



B.get, go

C.got, went

D.get, went

Answer:

B.get, go

Reference ID:(13007)

Choose the correct form of adjective for the given sentence:

Mohan was choosing a new saree for his wife as his anniversary gift but was unable to decide on which one of the two was \_\_\_\_\_.

A.much beautiful

B.more than beautiful

C.more beautiful

D.the most beautiful

Answer:

C.more beautiful

Reference ID:(13024)

Identify the option which is NOT a compound sentence.

A.All that glitters is not gold.

B.I have got four sisters and each of them is quite different from the others.

C.You can either come with me now or walk home.

D.The house was destroyed in the fire, but the family was saved.

Answer:

A.All that glitters is not gold.

Reference ID:(13270)

बोर वन्यजीव अभयारण्य हे भारताच्या खालीलपैकी कोणत्या राज्यामध्ये स्थित आहे?

A.महाराष्ट्र

B.उत्तर प्रदेश

C.आंध्र प्रदेश

D.राजस्थान

Answer:

A.महाराष्ट्र

A.पडली

B.पडला

C.पडले

D.पडल्या

Answer:

C.पडले

Reference ID:(13006)

Choose the correct form of adjective for the given sentence:

The Blue Whale is \_\_\_\_\_ known animal reaching a length of more than one hundred feet.

A.the large

B.the larger

C.the largest

D.most larger

Sab Answer: bhaijaan

C.the largest

Sabka ek bhaijaan

Sabka ek bhaijaan

Reference ID:(13252)

कोणत्या वर्षी पोर्तुगीजांनी मुंबईवर कब्जा केला?

A.1514

B.1524

C.1534

D.1544

Answer:

C.1534

Reference ID:(13289)

जर COLLEGE चा सांकेतिक शब्द BNKKDFD असा बनवला जात असेल तर SCHOOL चा सांकेतिक शब्द कसा बनवला जाईल?

A.RDGNNK

B.TBGNNK

C.RBHNNK

D.RBGNNK

Sabka ek bhaijaan

Sabka ek bhaijaan

Sabka ek bhaijaan

Answer:

D.RBGNNK

Sabka ek bhaijaan

Sabka ek bhaijaan

Sabka ek bhaijaan

Sabka ek bhaijaan

Sabka ek bhaijaan

Sabka ek bhaijaan

Sabka ek bhaijaan

Sabka ek bhaijaan

Sabka ek bhaijaan

Date of Exam : 16-07-2019 02:30 PM

Reference ID:(14083) 'तुम्ही फार बोलता' आख्यात ओळखा.

- A.लाख्यात
- B.प्रथम ताख्यात
- C.द्वितीय ताख्यात
- D.ऊ-आख्यात

Answer: B.प्रथम ताख्यात

Reference ID:(14323) जर F = 6 आणि JOY = 50, OBSERVE = ?

- A.66
- B.76
- C.86
- D.96

Answer: C.86

Reference ID:(14601) A एक काम प्रत्येकी 9 तासांच्या 7 दिवसांमध्ये पूर्ण करू शकतो आणि एकटा B तेच काम प्रत्येकी 7 तासांच्या 6 दिवसांमध्ये पूर्ण करू शकतो. दिवसाला  $8\frac{2}{5}$  तास एकत्र काम करून त्यांना किती वेळ लागेल?

- A.11
- B.4
- C.7
- D.3

Answer: D.3

Reference ID:(14053) Choose the correct form of adjective for the given sentence:

The burglar stole an \_\_\_\_\_ heirloom.

B.irreparable

C.irreproachable

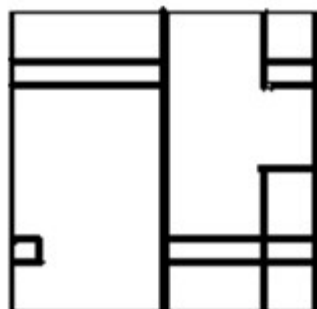
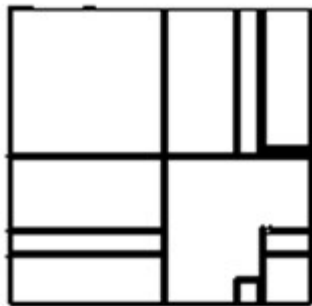
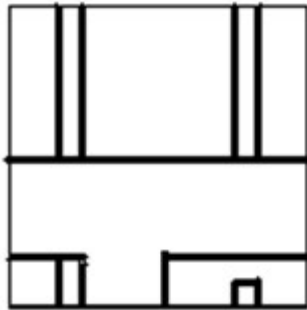
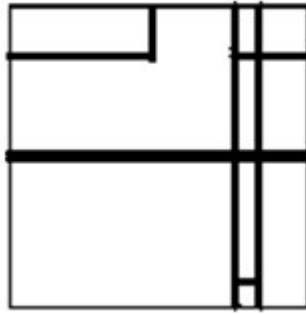
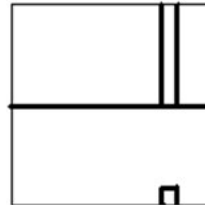
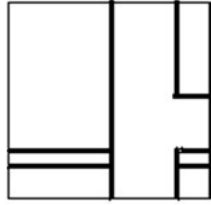
D.irrepressible

Answer:

A.irreplaceable

Reference ID:(14350)

खाली दिलेले दोन चौकोन एकमेकांवर आच्छादित होत असतील, तर खालीलपैकी कोणता विकल्प तयार होईल?





Reference ID:(14076) जोडशब्द नसलेला शब्द ओळखा.

- A.साफसफाई
- B.साजरागोजिरा
- C.लाकूडफाटा
- D.गारवेल

Answer: D.गारवेल

Reference ID:(14336) खाली दिलेल्या श्रृंखलेमध्ये अंकांचा एक विशिष्ट क्रम दिलेला आहे. त्यानुसार चुकीचा क्रम ओळखा:  
19, 22, 32, 46, 73, 108, 158

- A.22
- B.46
- C.73
- D.19

Answer: B.46

Reference ID:(14318) पंत प्रधान नरेंद्र मोदी यांनी \_\_\_\_\_ येथे 2017 या वर्षामध्ये स्वच्छ शक्ती कार्यक्रमाच्या पहिल्या आवृत्तीचे उद्घाटन केले.

- A.पटना
- B.मैसूर
- C.गांधीनगर
- D.लखनऊ

Answer: C.गांधीनगर

If I \_\_\_\_\_ hungry, I \_\_\_\_\_ something from the canteen.

A.am, should eating

B.had been, would have eaten

C.was, was eating

D.has been, would eat

Answer:

B.had been, would have eaten

Reference ID:(14096)

पुढील वाक्प्रचारांच्या योग्य अर्थाचा पर्याय निवडा.  
ग्रहण सुटणे-

A.घटना पूर्ण होणे

B.काळजी संपणे

C.अडलेल्या गोष्टी मार्गी लागणे

D.कसेतरी काम पूर्ण होणे

Answer:

B.काळजी संपणे

Reference ID:(14330)

सरासरी काढा.  
96, 50, 55, 39, 42 & 18

A.40

B.60

C.50

D.30

Answer:

C.50

Reference ID:(14328)

रणवीर आणि शाहिदच्या वर्तमान वयांचे गुणोत्तर अनुक्रमे 5:6 आहे. सात वर्षांनी हे गुणोत्तर अनुक्रमे 6:7 होईल. वर्षांमध्ये रणवीरचे वर्तमान वय काय आहे?

A.35 वर्षे

C.38 वर्षे

D.39 वर्षे

Answer:

A.35 वर्षे

Reference ID:(14325)

तुमचा वाढदिवस आठवड्याच्या कोणत्याही दिवशी येतो. तर रविवारी येणाची संभाव्यता काय आहे?

A.1/2

B.1/6

C.1/7

D.1

Answer:

C.1/7

Reference ID:(14335)

सोनाराकडे दोन प्रकारचे सोने आहे. एक 17 कॅरेट शुध्दतेचे आणि दुसरे 14 कॅरेट शुध्दतेचे. 15 कॅरेट शुध्दतेचा दागिना तयार करण्यासाठी त्याने दोन्हींना किती गुणोत्तरामध्ये मिसळावे?

A.1:3

B.3:1

C.2:1

D.1:2

Answer:

D.1:2

Reference ID:(14301)

हमसफर ट्रस्टद्वारे पहिले एच आय व्ही (मानवी रोगप्रतिकार कमतरता विषाणू) उपचार केंद्र आणि लेस्बियन, समलिंगी, उभयलिंगी, किन्नर आणि क्वीर (एलजीबीटीक्यू) यांच्यासाठी समग्र क्लिनिक भारताच्या कोणत्या शहर आणि राज्यामध्ये स्थित आहे?

A.पुणे, महाराष्ट्र

B.मुंबई, महाराष्ट्र

C.गुडगांव, दिल्ली

D.लखनऊ, उत्तर प्रदेश

Answer:

B.मुंबई, महाराष्ट्र



A. चाचणी

B. चवड

C. चहा

D. चळवळ

Answer:

C. चहा

Reference ID:(14086)

दिलेल्या धातूचे 'कृदंत' (साधित) रूप ओळखा.  
बसणे

A. बसते

B. बसतो

C. बसतात

D. बसून

Answer:

D. बसून

Reference ID:(14092)

पुढील वाक्यांमध्ये योग्य ते अव्यय घाला.  
अपराध केला नाही, हे सिद्ध तरी करा ----- किंवा त्याची शिक्षा तरी भोगा.

A. पण

B. परंतु

C. तरी

D. किंवा

Answer:

D. किंवा

Reference ID:(14302)

शहरे आणि महानगरपालिकांच्या नुतनीकरण आणि शहरी परिवर्तनासाठीच्या अटल मिशन (एएमआरयुटी) द्वारे स्वच्छता उत्कृष्टता पुरस्कार 2019 साठी 3 रे बक्षिस विजेते \_\_\_\_\_ होते.

A. रायगड

B. कुंभकोणम

C. अंबिकापूर

D. मुंबई

Reference ID:(14065)

Choose the option with the best prepositional phrase to complete the given sentence:

My aunt advised me not to take life \_\_\_\_\_, but to work hard and live a good life.

A.  
on the moveB.  
by the neckC.  
for granted

D.at any cost

Answer:

C.  
for granted

Reference ID:(14098)

खालीलपैकी कोणता महाराष्ट्र राज्यामधील सर्वात मोठा जलविद्युत प्रकल्प आहे?

A.खोपोली

B.भैरा

C.वैतर्णा

D.कोयना

Answer:

D.कोयना

Reference ID:(14081)

पुढील वाक्य वाचून योग्य वाक्या ओळखा.

A.त्याने दहावीचा परीक्षेत यश मिळावले.

B.त्याने दहावीच्या परीक्षेत यश मिळवले.

C.त्यांनी दहावीच्या परीक्षात यश मिळवले.

D.त्यांला दहावीनो परीक्षात यश मिळवले.

Answer:

B.त्याने दहावीच्या परीक्षेत यश मिळवले.

Reference ID:(14061) Choose the most suitable determiner for the given sentence:

\_\_\_\_\_ kittens are taught to hunt by their mothers.

A.Much

B.Any

C.Most

D.More

Answer:

C.Most

Reference ID:(14315) प्रसिद्ध राणकपूरचे जैन मंदीर किंवा चतुर्मुख धारणविहार हे या राज्यामध्ये स्थित आहे

A.राजस्थान

B.गुजरात

C.मध्यप्रदेश

D.उत्तराखंड

Answer:

A.राजस्थान

Reference ID:(14340) रिकाम्या जागी योग्य संख्या निवडून श्रृंखला पूर्ण करा:  
5, 6, 10, 19, 35, 60, \_\_\_\_\_

A.84

B.96

C.112

D.125

Answer:

C.112

Reference ID:(14064) Choose the appropriate prepositions for the given sentence:

Cosmic rays can not only damage the front end \_\_\_\_\_ a rapidly moving spaceship, but also go \_\_\_\_\_ the ship and astronauts themselves.

A.of ... through

B.at ... into

D.on ...by

Answer:

A.of ... through

Reference ID:(13848)

Choose the option that has the correct spelling.

A.Adhesive

B.Adhecive

C.Aadesive

D.Adhasive

Answer:

A.Adhesive

Reference ID:(14316)

जागतिक पानथळ प्रदेश दिन-2019 ची थीम काय होती?

A.पानथळ प्रदेश आणि हवामान बदल

B.सर्वासाठी पानथळ प्रदेश

C.पानथळ प्रदेश वाचवा

D.पानथळ प्रदेश म्हणजे आमचे हृदय आहे

Answer:

A.पानथळ प्रदेश आणि हवामान बदल

Reference ID:(14303)

मुक्ता टिळक या पुणे महानगरपालिकेच्या बीजेपीच्या \_\_\_\_\_ महापौर आहेत.

A.पहिल्या

B.दुसऱ्या

C.तिसऱ्या

D.चौथ्या

Answer:

A.पहिल्या

\_\_\_\_\_ opening of \_\_\_\_\_ Indian economy has led to \_\_\_\_\_ emergence of India as \_\_\_\_\_ market for textiles.

A.The, the, an, a

B.A, an, a, an

C.The, an, the, a

D.An, an, the, the

Answer:

A.The, the, an, a

Reference ID:(14331)

अलक आणि अमन हे दोन मित्र एकमेकांपासून 320 मैल अंतरावर राहतात. अलक सकाळी 9 वाजता ट्रेनने ताशी 70 मैल वेगाने अमनच्या घराच्या दिशेस प्रवासास सुरुवात करते. अमनला याबद्दल माहित नसल्याने तो दोन तासांनंतर, आपल्या घरापासून अलकच्या घराच्या दिशेने ताशी 20 मैल वेगाने ट्रेनने प्रवास करतो. तर ती दोघे कोणत्या वेळी भेटतील?

A.दुपारी 1 वाजता

B.दुपारी 1:30 वाजता

C.दुपारी 2 वाजता

D.दुपारी 2:30 वाजता

Answer:

A.दुपारी 1 वाजता

Reference ID:(13849)

Choose the option that has the correct spelling for the missing word in the given sentence:

Check the \_\_\_\_\_ if you want to be sure of the date.

A.calender

B.calendar

C.callendar

D.collander

Answer:

B.calendar

Reference ID:(14305)

एप्रोल 2019 मध्ये भारतीय लष्करामध्ये सादर केलेल्या पहिल्या स्वदेशी लांब पल्ल्याच्या अस्त्र बंदूकीचे नाव काय आहे?

A.ब्रह्मास्त्र

C.विजय

D.प्रहार

Answer:

B.धनुष्य

Reference ID:(14344)

एक व्यक्ती समान अंतर 3 किमी/तास, 4 किमी/तास आणि 5 किमी/तास वेगाने पार करतो आणि त्याला एकूण 47 मिनिटे वेळ लागतो. एकूण अंतर काढा.

A.3 किमी

B.4 किमी

C.6 किमी

D.9 किमी

Answer:

A.3 किमी

Reference ID:(14327)

थेरेसाने वाहन खरेदी करण्यासाठी 80000 रुपयांचे कर्ज घेतले. तिने दिड वर्षे दर महिन्याला 4600 रुपयांची परतफेड केली. तिने बँकेला किती रक्कम परत केली?

A.55,200 रुपये

B.82,800 रुपये

C.83,600 रुपये

D.81,000 रुपये

Answer:

B.82,800 रुपये

Reference ID:(14334)

जर  $4320 = 2^a \times 3^b \times 5^c$  असेल तर a, b आणि c च्या किमती काढा.

A.a =5, b =3, c=2

B.a = 4, b=3, c=2

C.a=5, b=3, c=1

D.a=4, b=3, c=1

Answer:

C.a=5, b=3, c=1

Reference ID:(14317) ऑक्टोबर-2018 मध्ये, महाराष्ट्राच्या \_\_\_\_\_ जिल्ह्यामध्ये विश्वशांती अहिंसा संमेलन आयोजित केले होते.

A.पुणे

B.ठाणे

C.बॉम्बे

D.नाशिक

Answer: D.नाशिक

Reference ID:(14311) मेटा जीवनगौरव पुरस्कार 2019 साठी खालीलपैकी कोणाची निवड करण्यात आली?

A.महेश एलकुंचवार

B.पी.व्ही. सिंधु

C.पी.के. बेजबरुआ

D.अभिनंदन वर्धमान

Answer: A.महेश एलकुंचवार

Reference ID:(14072) Choose the option that best expresses the meaning of the highlighted idiom/phrase:

The food at last night's wedding was **tasty**.

A.Repugnant

B.Delicious

C.Satisfactory

D.Gorgeous

Answer: B.Delicious

Reference ID:(14051) Choose the appropriate option with correct punctuation marks for the given sentence:

i saw a gift in the shopping mall but it is too expensive

A.I saw a gift in the shopping mall. But it is too expensive!

C.I saw a gift in the shopping mall; but it is too expensive

D.I saw a gift in the shopping mall. But it is too expensive?

Answer:

A.I saw a gift in the shopping mall. But it is too expensive!

Reference ID:(14337)

सलग 400 वर्षामध्ये 29 दिवस असलेला महिना किती वेळा येतो?

A.4497 वेळा

B.4490 वेळा

C.4487 वेळा

D.4480 वेळा

Answer:

A.4497 वेळा

Reference ID:(14094)

षष्ठी विभक्तीचे प्रत्यय कोणते?

A.चा, ची, चे

B.स, ल, ते

C.स, ला, ना, ते

D.त, ई, आ

Answer:

A.चा, ची, चे

Reference ID:(14077)

रिकाम्या जागी योग्य शब्द भरून जोडशब्द पूर्ण करा.  
----- धाकट

A.धड

B.पकड

C.मर

D.धाकटा

Answer:

A.धड

Reference ID:(14310)

खालीलपैकी कोण आतापर्यंत महाराष्ट्राचे सर्वात तरूण मुख्य मंत्री राहिले आहेत?



B.देवेन्द्र फडणवीस

C.मनोहर जोशी

D.अशोक चव्हाण

Answer:

A.शरद पवार

Reference ID:(14069)

Choose the correct form of verb that is in agreement with the subject:

The cow, as well as the horse, \_\_\_\_\_ on the grass in the field.

A.feed

B.grazing

C.is feeding

D.are eating

Answer:

C.is feeding

Reference ID:(14067)

Choose the appropriate conjunctions for the given sentence:

I will finish the work \_\_\_\_\_ long it takes.

A.and so

B.after

C.however

D.though

Answer:

C.however

Reference ID:(14068)

Choose the most appropriate usage to fill in the blank in the given sentence:

\_\_\_\_\_ repeated reminders; Deepa forgot to call the bank.

A.Despite

B.Respite

C.In spite

D.Unspite

Answer:

A.Despite

Reference ID:(14056) Choose the option with the appropriate prefix to complete the given sentence:

Experts believe that \_\_\_ stroke therapy is the only sure-shot way a stroke patient can recover.

A.pre-

B.post -

C.ante-

D.counter-

Answer: B.post -

Reference ID:(14314) फेब्रुवारी 2019 मध्ये, 'पेट्रोटेक(PETROTECH)-2019' या भारताच्या प्रमुख हायड्रोकार्बन परिषदेची 13 वी आवृत्ती \_\_\_\_\_ येथे आयोजित केली गेली होती.

A.मुंबई

B.वडोदरा

C.ग्रेटर नोएडा

D.जयपूर

Answer: C.ग्रेटर नोएडा

Reference ID:(14339) दीपिका विशिष्ट रक्कम घेऊन फळांच्या दुकानात गेली. तेथे तिने 15% रक्कम रिक्साच्या भाड्यासाठी ठेवली. शिल्लक राहिलेल्या रकमेमधून ती एकतर 40 सफरचंद किंवा 70 संत्री खरेदी करू शकत होती. जर ती 35 संत्री खरेदी केले, तर ती आणखी किती सफरचंद खरेदी करू शकते?

A.35

B.40

C.15

D.20

Answer: D.20

A.25 वर्षांपासून

B.23 वर्षांपासून

C.21 वर्षांपासून

D.27 वर्षांपासून

Answer:

C.21 वर्षांपासून

Reference ID:(14100)

निरा प्रकल्प हा खालीलपैकी कोणत्या राज्यामध्ये स्थित आहे?

A.महाराष्ट्र

B.मध्य प्रदेश

C.उत्तर प्रदेश

D.बिहार

Answer:

A.महाराष्ट्र

Reference ID:(14343)

सोडवा:  $81+82+83+84+85+86+87+88+89+90-55 = ?$ 

A.955

B.900

C.855

D.800

Answer:

D.800

Reference ID:(14326)

अमलला एक मोटारसायकलची गरज आहे. मोटार सायकलची किंमत 92750 रुपये आहे. त्याच्या हातामध्ये फक्त 87150 रुपये आहेत. मोटार सायकल खरेदी करण्यासाठी त्याला आणखी किती रुपयांची गरज आहे?

A.5650 रुपये

B.5500 रुपये

D.5600 रुपये

Answer:

D.5600 रुपये

Reference ID:(14070)

Out of the following options, identify a compound sentence.

A.The school teacher was late to his class.

B.The school teacher ran to reach his class.

C.The school teacher was late to his class so he ran quickly.

D.Jungle can be dark and dangerous.

Answer:

C.The school teacher was late to his class so he ran quickly.

Reference ID:(14052)

Choose the correct form of adjective for the given sentence:

He is an \_\_\_\_\_ businessman.

A.able

B.artful

C.acumen

D.adopt

Answer:

B.artful

Reference ID:(14093)

पुढील वाक्यातील विरामचिन्ह ओळखा.

नारायण सुर्वे यांचे माझे विद्यापीठ, जाहीर नामा, सनद, नव्या माणसाचे आगमन इ.  
कवितासंग्रह प्रसिद्ध आहेत.

A.अपूर्णविराम

B.प्रश्नचिन्ह

C.स्वल्पविराम

D.अर्धविराम

Answer:

C.स्वल्पविराम

She bought herself a map \_\_\_\_\_ she wouldn't get lost.

A.so

B.since

C.so that

D.therefore

Answer:

C.so that

Reference ID:(14063)

Choose the correct form of modal auxiliary verb for the given sentence:

Dileepan \_\_\_\_\_ do such a thing.

A.wasn't

B.hasn't

C.wouldn't

D.isn't

Sab Answer: bhaijaan

C.wouldn't

Sabka ek bhaijaan

Sabka ek bhaijaan

Reference ID:(14087)

पुढील वाक्यातील अव्ययाचा प्रकार ओळखा.  
'अबब! केवढी ही गर्दी!'

A.शब्दयोगी अव्यय

B.उभयान्वयी अव्यय

C.केवलप्रयोगी अव्यय

D.क्रियाविशेषण अव्यय

Answer:

C.केवलप्रयोगी अव्यय

Reference ID:(14075)

दिलेल्या शब्दगटातून विरुद्धार्थी शब्दी ओळखा.  
आरोप – साधार X-----

A.गंभीर

B.निराधार

C.आधार

Answer:

B.निराधार

Reference ID:(14313)

20 व्या शतकाच्या सुरुवातीला सावरकर बंधूंनी कोणत्या गुप्त क्रांतिकारी संघटनेची सुरुवात केली.

A.अनुसिलम समिती

B.अभिनव भारत

C.जुगांतर

D.भारतमाता असोशिएशन

Answer:

B.अभिनव भारत

Reference ID:(14333)

खाली दिलेल्या चार पत्त्यांपैकी कोणता पत्ता खाली दिलेल्या पत्त्याशी अचूकपणे जुळत नाही?

300 Soi Sukhumvit 55, Khlong Toei Nuea, Khet Watthana, Krung Thep Maha Nakhon 10110, Thailand  
+66 2 020 8000

(i) 300 Soi Sukhumvit 55, Khlong Toei Nuea, Khet Watthana, Krung Thep Maha Nakhon 10110, Thailand  
+66 2 020 8000

(ii) 300 Soi Sukhumvit 55, Khlong Toei Nuea, Khet Watthana, Krung Thep Maha Nakhon 10110, Thailand  
+66 2 020 8000

(iii) 300 Sai Sukhumvit 55, Khlong Toei Nuea, Khet Watthana. Krung Thep Maha Nakhon 10110, Thailand  
+66 2 020 8000

(iv) 300 Soi Sukhumvit 55, Khlong Toei Nuea, Khet Watthana, Krung Thep Maha Nakhon 10110, Thailand  
+66 2 020 8000

A.i

B.ii

C.iii

D.iv

Answer:

C.iii

Reference ID:(14097) पुढील वाक्यात पर्यायातील अचूक वाक्प्रचार निवडा.  
कटकारस्थानाची चाहूल गावकऱ्यांना लागली.

- A.ऊर दडपणे  
B.अभय देणे  
C.आकाश ठेंगणे होणे  
D.कुणकुण लागणे

Answer: D.कुणकुण लागणे

Reference ID:(14345) सोडवा:  $298 \times 57 = (298 \times 50) + ?$

- A. $298 \times 1$   
B. $298 \times 57$   
C. $298 \times 7$

D. $298 \times 50$

Answer: C. $298 \times 7$

Reference ID:(14309) भारतीय सर्वोच्च न्यायालय केव्हा अस्तित्वात आले?

- A.26 जानेवारी, 1956  
B.28 जानेवारी, 1950  
C.15 ऑगस्ट, 1947  
D.09 नोव्हेंबर, 1948

Answer: B.28 जानेवारी, 1950

Reference ID:(14073) 'चांदणे' या शब्दासाठी समानार्थी शब्द कोणता?

- A.दामिनी  
B.कौमुदी

D.मोहिनी

Answer:

B.कौमुदी

Reference ID:(14054)

Fill in the blank with the correct noun for the given sentence:

It is only in the animal \_\_\_\_\_ that scent plays a key role in common life structures.

A.kings

B.kingdom

C.line

D.history

Answer:

B.kingdom

Reference ID:(14099)

वाचन आकलन कौशल्यामध्ये भारतामधील मुलांना मदत करण्यासाठी गुगलने 2019 मध्ये कोणता अनुप्रयोग सुरू केला?

A.बोलो

B.खेलो

C.पारा

D.लिखो

Answer:

A.बोलो

Reference ID:(14090)

पुढील वाक्यांमधील विशेषण ओळखा.  
अंगबाई! इवलीशी बाहुली ती, आणि तिचा लवाजमा किती मोठा!

A.बाहुली

B.हवाजमा

C.अंगबाई

D.मोठा

Answer:

D.मोठा



A.भारीच शौक त्याला गाण्याचा!

B.भारीच शौक आहे त्याला गाण्याचा!

C.षौकीन आहे तो गाण्याचा!

D.त्याला गाण्याचा शौक आहे!

Answer: B.भारीच शौक आहे त्याला गाण्याचा!

Reference ID:(13850) Which of the following sentences uses apostrophes correctly?

A.Soap do'esnt allow germs to multiply and spread.

B.The childrens's bicycles were stolen.

C.These are my favourite breakfast cereal's.

D.Follow the doctor's advice, and you will recover soon.

Answer: D.Follow the doctor's advice, and you will recover soon.

Reference ID:(14312) फेब्रुवारी-2019 मध्ये आंध्रप्रदेश ग्रामीण रस्ते प्रकल्पासाठी \_\_\_\_\_ आणि भारत सरकारने 455 दशलक्ष डॉलर्स कर्जासाठी स्वाक्षरी केली.

A.इंटरनेशनल इन्व्हेस्टमेंट बँक (आयआयबी)

B.युरोपियन इन्व्हेस्टमेंट बँक (इआयबी)

C.एशियन इन्फ्रास्ट्रक्चर इन्व्हेस्टमेंट बँक (एआयआयबी)

D.युरोपियन बँक फॉर रिकन्स्ट्रक्शन अँड डेव्हलपमेंट (इबीआरडी)

Answer: C.एशियन इन्फ्रास्ट्रक्चर इन्व्हेस्टमेंट बँक (एआयआयबी)

Reference ID:(14057) Choose the option with the appropriate prefix to complete the given sentence:

You acted negatively because you are \_\_\_\_informed about the situation.

A.un-

B.re-

C.mis-

D.dis-

Reference ID:(14089) गटात न बसणारा शब्द ओळखा.  
पांढरा, हत्ती, वाघ, ससा

A.हत्ती

B.वाघ

C.ससा

D.पांढरा

Answer:

D.पांढरा

Reference ID:(14306) महाराष्ट्राचा सर्वोच्च खनिज असलेला खालीलपैकी कोणता विभाग आहे?

A.पुणे

B.औरंगाबाद

C.कोंकण

D.नागपूर

Answer:

D.नागपूर

Reference ID:(14091) योग्य पर्याय निवडून जोडी लावा.  
ध्येय

A.गाठले

B.गाठला

C.गाठल्या

D.गाठली

Answer:

A.गाठले

Reference ID:(14319) 'वरूण 2019' हा मे च्या सुरुवातील गोवामध्ये नियोजित सर्वात मोठा नौदल अभ्यास आहे.  
या द्विपक्षीय अभ्यासासाठी भारतासोबत कोणता देश सहभागी होणार आहे?

A.फ्रांस

B.श्री लंका

Answer: A.फ्रांस

Reference ID:(14324) 'TRANSISTOR' शब्दाच्या अक्षांमधून एक अक्षराची यादृच्छिकपणे निवड केली गेली आहे. निवडलेले अक्षर व्यंजन असण्याची संभाव्यता काय आहे?

A.3/10

B.7/10

C.1/2

D.3/5

Answer: B.7/10

Reference ID:(14080) पुढील वाक्याचा प्रकार ओळखा.  
सराव झाल्यावर कोणतेही कठीण काम सहज जमते.

A.प्रश्नार्थी

B.मिश्र वाक्य

C.संयुक्त वाक्य

D.केवल वाक्य

Answer: D.केवल वाक्य

Reference ID:(14320) खालीलपैकी कोणाला 'आधुनिक भारताचे जनक' म्हणून जाणले जाते?

A.बंकिंग चंद्र चॅटर्जी

B.रविंद्रनाथ टागोर

C.राजाराम मोहन रॉय

D.इश्वर चंद्र विद्यासागर

Answer: C.राजाराम मोहन रॉय

Reference ID:(14307) गुगामल राष्ट्रीय उद्यानाला मेळघाट व्याघ्र प्रकल्प म्हणून जाणले जाते हे महाराष्ट्र कुठे स्थित आहे

A.पुणे

C.नागपूर

D.रत्नागिरी

Answer:

B.अमरावती

Reference ID:(14059)

Choose the appropriate articles for the given sentence:

It was \_\_\_\_\_ ordinary day in \_\_\_\_\_ life of Jitender, \_\_\_\_\_ young boy from \_\_\_\_\_ city of Jalandhar.

A.a, the, the, the

B.an, the, a, the

C.the, an, the, a

D.an, the, an, the

Answer:

B.an, the, a, the

Reference ID:(14074)

दिलेल्या पर्यायांपैकी योग्य विरुद्धार्थी शब्द वाक्यात भरून वाक्य पूर्ण करा.  
त्याच्या अनपेक्षित येण्याने मैफलीच्या रंगाचा ----- झाला.

A.संग

B.भंग

C.बेरंग

D.सदारंग

Answer:

C.बेरंग

Reference ID:(14084)

‘मी हे काम करू शकेन’ आख्यात ओळखा.

A.ईलाख्यात

B.ई-आख्यात

C.ऊ-आख्यात

D.वाख्यात

Answer:

A.ईलाख्यात

She said that she \_\_\_\_\_ the opportunity to show that she could play a serious film role.

A.rejoiced

B.welcomed

C.greeted

D.cheered

Answer:

B.welcomed

Reference ID:(14082)

रिकाम्या जागी योग्य शब्द निवडा.  
उद्देश्य , उद्देश्यविस्तार, विधेय आणि ----- हे वाक्यपृथक्करणे घटक आहेत.

A.कर्ता

B.विधेयविस्तार

C.वृत्त

D.अलंकार

Answer:

B.विधेयविस्तार

Reference ID:(14321)

मानवी डोळ्याचा \_\_\_\_\_ हा भाग मंद आणि चमकदार प्रकाशाला संवेदनशील आहे.

A.बाहुली

B.पारपटल

C.दंड व शंकू

D.नेत्रभिंग

Answer:

C.दंड व शंकू

Reference ID:(14078)

खालील वाक्यातील अधोरेखित शब्दाचे लिंग ओळखा.  
वेळ कधी संपली कळले नाही.

A.पुल्लिंग

B.स्त्रीलिंग

C.नपुसकलिंग

Answer:

B.स्त्रीलिंग

Reference ID:(14088)

रिकाम्या जागी योग्य पर्याय निवडा.  
माझे आजचे भाषण संपले, मी ..... तुमचा निरोप घेतो.

A.तूर्तास

B.दररोज

C.सालोसाल

D.पूर्वी

Answer:

A.तूर्तास

Reference ID:(14062)

Which of the following options best combines the two given sentences?

The children saw the monkeys. They ran away in fear.

A.Though the children saw the monkeys, they ran away in fear.

B.The children saw the monkeys when they ran away in fear.

C.The children saw the monkeys because they ran away in fear.

D.When the children saw the monkeys, they ran away in fear.

Answer:

D.When the children saw the monkeys, they ran away in fear.

Reference ID:(14322)

खालीलपैकी कोणते इंधन जाळल्यानंतर सर्वाधिक वायुप्रदूषण निर्माण होईल?

A.गोबर गॅस

B.एलपीजी

C.वाळलेले गाईचे शेण

D.केरोसिन

Answer:

C.वाळलेले गाईचे शेण

Reference ID:(14329)

बारा वर्षापूर्वी, अरुणचे वय माधवच्या वयाच्या निम्मे होते. जर त्यांच्या वर्तमान वयांचे गुणोत्तर 5:6 असेल, तर त्यांच्या वर्तमान वयांची बेरीज काय असेल?

A.20 वर्षे

Sabka ek bhaijaan

Sabka ek bhaijaan

C.25 वर्षे

D.30 वर्षे

Answer:

B.33 वर्षे

Reference ID:(14055)

Choose the appropriate collective noun to complete the sentence:

\_\_\_\_\_ lay before the detective and it was tough for him to make a right decision.

A.A circle of evidence

B.A battery of tests

C.An array of facts

D.A pile of papers

Answer:

C.An array of facts

Reference ID:(14338)

एक खेळाडू 24 सेकंदांमध्ये 200 मीटर धावतो. त्याचा वेग आहे?

A.10 किमी/तास

B.17 किमी/तास

C.27 किमी/तास

D.30 किमी/तास

Answer:

D.30 किमी/तास

Reference ID:(14085)

योग्य रूपाचा पर्याय निवडून गाळलेल्या जागी भरा .  
..... मूठ सव्वा लाखाची.

A.झाकता

B.झाकली

C.झाकून

D.झाकताना

Answer:

B.झाकली

A.14

B.32

C.20

D.24

Answer:

B.32

Reference ID:(14341)

1291.85 रुपयांना 13 गायी आणि 9 डुक्करं खरेदी केले. जर गायीची सरासरी किंमत 74 रुपये असेल. डुकराची सरासरी किंमत काढा?

A.35.65 रु.

B.36.65 रु.

C.37.65 रु.

D.38.65 रु.

Answer:

B.36.65 रु.

Reference ID:(14304)

2019 वर्षासाठी विंडहॅम-कॅम्पबेल बक्षिसासाठी खालीलपैकी कुणाची निवड केली गेली?

A.अनुभा भोंसले

B.रघु कर्नाड

C.हर्षा भोगले

D.विनोद दुआ

Answer:

B.रघु कर्नाड

Reference ID:(14332)

जर FRIEND चा सांकेतिक शब्द IRFDNE असा बनवला जात असेल तर RELATION चा सांकेतिक शब्द कसा बनवला जाईल?

A.NOITALER

B.ALERTION



D.RELANOIT

Answer:

C.ALERNOIT

Date of Exam : 17-07-2019 10:00 AM

Reference ID:(12502) Choose the option that has the correct spelling.

A.Continuous

B.Continous

C.Continuous

D.Cantinous

Answer: C.Continuous

Reference ID:(12509) Choose the appropriate collective noun to complete the sentence:

\_\_\_\_\_ was missing from the queen's jewel box.

A.A piece of jewellery

B.One item of jewels

C.A jewellery

D.A casket of jewels

Answer: A.A piece of jewellery

Reference ID:(12512) Choose the appropriate articles for the given sentence:

\_\_\_\_\_ young woman was softly reading \_\_\_\_\_ poem to \_\_\_\_\_ young child sitting on \_\_\_ chair.

A.An, the, the, an

B.The, the, an, the

C.A, a, the, the

D.An, an, the, a

Answer: C.A, a, the, the

Reference ID:(12788)  
Sabka ek bhaijaan

प्रश्न चिन्हाच्या जागी काय यायला हवे?  
CX, DW, EV, FU,?

Sabka ek bhaijaan

Sabka ek bhaijaan

A.GH

B.EF

C.GT

D.EV

Answer:

C.GT

Reference ID:(12773)

खालीलपैकी कोणते 'रब्बी पिक' आहे?

A.तांदूळ

B.मोहरी

C.सोयाबीन

D.मका

Sabka ek bhaijaan

Sabka ek bhaijaan

Sabka ek bhaijaan

Answer:

B.मोहरी

Reference ID:(12776)

मलेरिया आणि अतिसार हे ह्यामुळे होतात:

A.जीवाणू

B.विषाणू

C.बुरशी

D.प्रोटोझोआ

Answer:

D.प्रोटोझोआ

Reference ID:(12792)

रिकाम्या जागी योग्य संख्या निवडून श्रृंखला पूर्ण करा:  
4, 7, 13, 23, 38, 59, \_\_\_\_\_

A.72

B.80

C.87

Sabka ek bhaijaan

Sabka ek bhaijaan

Sabka ek bhaijaan

Answer: C.87

Reference ID:(12798) सलग तीन सम संख्यांची बेरीज 48 आहे, आणि तर सर्वात लहान संख्या काय आहे:

A.16

B.18

C.20

D.14

Answer: D.14

Reference ID:(12774) महाराष्ट्र राज्यामध्ये अंदाजे 55% हून अधिक प्रमाणात खालीलपैकी कोणत्या प्रकारच्या वनांचे आच्छादन आढळते?

A.उष्णकटीबंधीय ओलसर पानझडी वने

B.उष्णकटीबंधीय कोरडी पानझडी वने

C.तटवर्ती आणि दलदलीची वने

D.अर्ध-सदाहरित वने

Answer: B.उष्णकटीबंधीय कोरडी पानझडी वने

Reference ID:(12521) Choose the appropriate conjunctions for the given sentence:

He doesn't speak Spanish, \_\_\_\_\_ his wife does.

A.as

B.but

C.since

D.because

Answer: B.but

Reference ID:(12772) स्टीट चार्ल्ड क्रिकेट वर्ल्ड कपसाठी भारतीय संघाचा सदिच्छा दूत म्हणून खालीलपैकी कोणाची निवड करण्यात आली?

A.मिथाली राज

B.सौरव गांगुली

C.दीप्ती शर्मा

D.स्मृती मंधाना

Answer:

A.मिथाली राज

Reference ID:(12533)

पुढील वाक्याचे उद्गारार्थी वाक्य करा.  
‘नरेचि हा नर किती हीन केला.

A.नरेचि केला हीन किती नर!

B.नरेचि हा नर केला हीन!

C.हा नर नरेचि केला हीन!

D.नर हा नरेची हीन केला!

Answer:

A.नरेचि केला हीन किती नर!

Reference ID:(12796)

एका व्यक्तीला 45 मिनिटांमध्ये 6 किमी अंतर कापायचे आहे. जर त्याने एकूण वेळेच्या दोन तृतीअंश वेळामध्ये अर्धे अंतर कापले, तर शिल्लक वेळेमध्ये उर्वरित अंतर कापण्यासाठी, किमी/तासांमध्ये त्याचा वेग काय असायला हवा?

A.14 किमी/तास

B.12 किमी/तास

C.10 किमी/तास

D.8 किमी/तास

Answer:

B.12 किमी/तास

Reference ID:(12547)

पुढील वाक्यातील विरामचिन्ह ओळखा.  
या परिसरात दुसरे नर वाघ, बिबळ्या, रानकुत्री अशा शत्रूंचा धोका होता.

A.स्वल्पविराम

B.अपूर्णविराम

C.अर्धविराम

D.संयोगचिन्ह

Answer:

A.स्वल्पविराम

A. वेगडीया

B. भूमालिया

C. केवाडिया

D. गडकोई

Answer: C. केवाडिया

Reference ID:(12504) Identify the sentence that has a mistake in capitalization or punctuation.

A. My least favourite season is, Winter.

B. We will be visiting the museum next Sunday.

C. Dr. Meera served as secretary for the club.

D. He walked all the way home. He shut the door.

Answer: A. My least favourite season is, Winter.

Reference ID:(12752) खालीलपैकी कोणती महाराष्ट्रातील नदी उतार दरीतून वाहते?

A. ताप्ती

B. नर्मदा

C. गोदावरी

D. कृष्णा

Answer: A. ताप्ती

Reference ID:(12766) युवीका, मार्च-2019 मध्ये शाळेच्या मुलांसाठी \_\_\_\_\_ द्वारे सुरू झालेला एक विशेष  
आउटरीच कार्यक्रम आहे.

A. भारतीय अंतराळ संशोधन संस्था (इस्रो)

B. संरक्षण संशोधन आणि विकास संस्था (डीआरडीओ)

C. तेल आणि नैसर्गिक वायू कॉर्पोरेशन (ओएनजीसी)

Answer: A.भारतीय अंतराळ संशोधन संस्था (इस्रो)

Reference ID:(12758) भारताचे पहिले 'दागिन्यांचे उद्यान (ज्वेलरी पार्क)' येथे स्थापित आहे:

A.दिल्ली

B.नाशिक

C.नागपूर

D.नवी मुंबई

Answer: D.नवी मुंबई

Reference ID:(12759) कोणत्या वर्षी महात्मा गांधी दक्षिण आफ्रिकेवरून भारतात परतले आणि शेवटी भारताच्या स्वातंत्र्य लढ्यामध्ये सहभागी झाले?

A.1900

B.1905

C.1910

D.1915

Answer: D.1915

Reference ID:(12782) सरासरी काढा.  
19, 27, 96, 98, 55 & 47

A.47

B.57

C.97

D.27

Answer: B.57

Reference ID:(12787) जर P = 16, TAP = 37, तर CUP = ?

A.40

B.38

D.39

Answer: A.40

Reference ID:(12540) दिलेल्या धातूचे 'कृदंत' (साधित) रूप ओळखा. करणे

A.करते

B.केल्याने

C.करतो

D.करतात

Answer: B.केल्याने

Reference ID:(12530) जोडशब्द नसलेला शब्द ओळखा.

A.थातुरमातुर

B.थाटमाट

C.थांगपत्ता

D.विनाकरण

Answer: D.विनाकरण

Reference ID:(12771) महाराष्ट्रामधील दुसरे मेगा फुड पार्क हे औरंगाबाद जिल्ह्याच्या पैठण तालुक्यामधील वाहेगांव आणि \_\_\_\_\_ गावामध्ये स्थित आहे.

A. धनगांव

B.ढोरकिन

C.दिन्नापूर

D.एक्टुनी

Answer: A. धनगांव

Reference ID:(12537) दिलेल्या काळात परिवर्तन करण्यासाठी योग्य पर्याय निवडा. तुम्ही लवकर उठलात. (आज्ञार्थ)



A.उठता

B.उठलात

C.उठा

D.उठावे

Answer:

C.उठा

Reference ID:(12760)

जानेवारी 2019 मध्ये निकाली लावलेले, महाराष्ट्रामधील डान्स बार्स पुन्हा उघडण्याच्या बाबतीत, भारतीय संविधानाच्या कोणत्या अनुच्छेदाखाली भारतीय सर्वोच्च न्यायालयामध्ये याचिका दाखल करण्यात आली होती?

A.26

B.32

C.38

D.44

Answer:

B.32

Reference ID:(12541)

पुढील वाक्यातील अव्ययाचा प्रकार ओळखा.  
'छट्! अगदीच चुकीचे आहे तुझे हे बोलणे!'

A.उभयान्वयी अव्यय

B.शब्दयोगी अव्यय

C.क्रियाविशेषण अव्यय

D.केवलप्रयोगी अव्यय

Answer:

D.केवलप्रयोगी अव्यय

Reference ID:(12525)

Choose the correct form of tense for the given sentence:

He \_\_\_\_\_ and \_\_\_\_\_ antiques for a living.

A. is buying, sell

B.buy, is selling

C.buy, sold

D. buys, sells

Answer:

D. buys, sells

Reference ID:(12522) Choose the most appropriate usage to fill in the blank in the given sentence.  
I'm afraid, the Manager is \_\_\_\_\_ at the moment. He's in a meeting.

A.nonavailable

B.inavailable

C.unavailable

D.misavailable

Answer: C.unavailable

Reference ID:(12770) भारताचे नियंत्रक आणि महालेखापरीक्षकाची नेमणूक खालीलपैकी कोण करते?

A.राष्ट्रपती

B.पंत प्रधान

C.संसद

D.वित्त मंत्री

Answer: A.राष्ट्रपती

Reference ID:(12757) खालीलपैकी कोण एक महाराष्ट्र राज्यामधील पहिले वारकरी संत होते?

A.संत तुकाराम

B.संत नामदेव

C.संत ज्ञानेश्वर

D.संत मुक्ताबाई

Answer: C.संत ज्ञानेश्वर

Reference ID:(12516) Which of the following options best combines the two given sentences?

The benefits of working from home are many. The disadvantages can't be ignored.

A.The benefits of working from home are many and the disadvantages can't be ignored.

B.The benefits of working from home are many, but the disadvantages can't be ignored.

C.The benefits of working from home are many, so the disadvantages can't be ignored.

D.The benefits of working from home are many so that the disadvantages can't be ignored.

Answer: B.The benefits of working from home are many, but the disadvantages can't be ignored.

Reference ID:(12549) पुढीलपैकी कोणता दंततालव्य वर्ण नाही?

A.ण्

B.च्

C.ज्

D.छ्

Answer: A.ण्

Reference ID:(12511) Choose the option with the appropriate suffix to complete the given sentence:

The process of transferring blood from one person to another is known as a blood \_\_\_\_\_ fusion.

A.trans--

B.per--

C.re--

D.dis--

Answer: A.trans--

Reference ID:(12519) Choose the option with the best prepositional phrase to complete the given sentence:

I told my sister I will catch up next week when I'm\_\_\_\_\_.

A.by coincidence

B.in town

C.on the run

D.behind schedule

Answer:

B.in town

Sabka ek bhaijaan

Sabka ek bhaijaan

Sabka ek bhaijaan

Reference ID:(25014)

600 किमीच्या उड्डाणामध्ये, विमानाचा वेग खराब हवामानामुळे कमी करण्यात आला. प्रवासासाठीचा त्याचा सरासरी वेग 200 किमी/तासाने कमी केला गेला आणि उड्डाणाचा वेळ 30 मिनिटे वाढला. उड्डाणाचा कालावधी काय असेल?

2 तास

$1\frac{1}{2}$  तास

$\frac{1}{2}$  तास

1 तास

Answer:

1 तास

Reference ID:(12543)

गटात न बसणारा शब्द ओळखा.  
अर्धा, साठावा, चार, चावट

Sabka ek bhaijaan

A.अर्धा

Sabka ek bhaijaan

Sabka ek bhaijaan

B.साठावा

C.चार

D.चावट

Answer:

D.चावट

Reference ID:(12751)

पुढील वाक्यात पर्यायातील अचूक वाक्प्रचार निवडा.  
पावसाने पाठ फिरवल्याने शेतकऱ्यांची मेहनत वाया गेली.

A.पाणी पडणे

B.पडसड होणे

C.उरी फुटणे

D.अन्नास लावणे

Answer:

A.पाणी पडणे

Sabka ek bhaijaan

Sabka ek bhaijaan

Sabka ek bhaijaan

A.पडेल

B.पडतील

C.पडशील

D.पडू

Answer: A.पडेल

Reference ID:(12775) खालीलपैकी कोणती वस्तू स्वयंप्रकाशी नाही?

A.सूर्य

B.तारा

C.चंद्र

D.विद्युत दिवा

Answer: C.चंद्र

Reference ID:(12784) 40 लोक रोज 8 तासाप्रमाणे एक काम 21 दिवसांत पूर्ण करतात. तर तेच काम 7 दिवसांत पूर्ण करण्यासाठी 120 लोकांना रोज किती तास काम करावं लागेल.

A.8 तास

B.9 तास

C.10 तास

D.12 तास

Answer: A.8 तास

Reference ID:(12763) 1976 च्या कोणत्या दुरुस्ती कायद्याने, भारतीय संविधानामध्ये नागरिकांच्या मुलभूत कर्तव्यांची सूची समाविष्ट केली?

A.5<sup>व्या</sup>

B.98<sup>व्या</sup>

C.60<sup>व्या</sup>

D.42<sup>व्या</sup>

Answer: D.42<sup>व्या</sup>

Reference ID:(12795) शाळेमधील मुलं आणि मुलांच्या संख्येचे गुणोत्तर 3:2 आहे. जर 20% मुलं आणि 25% मुली शिष्यवृत्ती धारक असतील, तर शिष्यवृत्ती धारक नसलेल्या विद्यार्थ्यांची टक्केवारी काय आहे?

A.30%

B.60%

C.75%

D.78%

Answer: D.78%

Reference ID:(12764) 2019 काळा घोडा कला महोत्सव (केजीएएफ) महाराष्ट्रामधील कोणत्या शहरामध्ये साजरा केला गेला?

A.मुंबई

B.पुणे

C.नागपूर

D.नाशिक

Answer: A.मुंबई

Reference ID:(12797) 852, 1065 आणि 1491 चा म.सा.वी. काढा.

A.213

B.212

C.211

D.210

Answer: A.213

Reference ID:(12518) Choose the appropriate prepositions for the given sentence:

There has been great improvements \_\_\_\_\_ the way products are marketed \_\_\_\_\_ the years.

A.over ... in

B.in ... in

C.for ... on

D.to ... over

Answer: D.to ... over

Reference ID:(12754) दारणा धरण भारतामधील कोणत्या राज्यामध्ये स्थित आहे?

A.महाराष्ट्र

B.पश्चिम बंगाल

C.गुजरात

D.बिहार

Answer: A.महाराष्ट्र

Reference ID:(12505) Choose the appropriate option with the correct punctuation marks for the given sentence:

yesterday I attended a dance competition thats marvellous

A.Yesterday I attended a dance competition; thats marvellous.

B.Yesterday I attended a dance competition. That's marvellous!

C.Yesterday I attended a dance competition that's marvellous!

D.Yesterday, I attended a dance competition that's marvellous.

Answer: B.Yesterday I attended a dance competition. That's marvellous!

Reference ID:(12514) Choose the correct form of verb for the given sentence:

The regional languages should be \_\_\_\_\_ as the media of instruction in the respective states.

A.implemented

B.adopted

C.adapted

D.accepted

Answer: B.adopted

At some point, every person suffers from \_\_\_\_\_.

A.absenteeism

B.absentia

C.absentness

D.absent-mindedness

Answer:

D.absent-mindedness

Reference ID:(12779)

दोन फाशे एकदाच फेकले गेले, 8 किंवा 10 बेरीज मिळण्याची संभाव्यता असेल:

A.1/6

B.2/9

C.2/3

D.1/4

Answer:

B.2/9

Reference ID:(12513)

Choose the appropriate articles for the given sentence:

\_\_\_\_\_ Indian Railways is \_\_\_\_\_ biggest railway network in \_\_\_\_\_ world and Aramco Railway comes \_\_\_\_\_ close second.

A.A, a, an, the

B.The, a, the, a

C.The, the, the, a

D.The, a, the, an

Answer:

C.The, the, the, a

Reference ID:(12753)

अन्न आणि कृषी संघटनेचे अध्यक्ष म्हणून अलिकडे खालीलपैकी कोणाचे नामांकन करण्यात आले?

A.रमेश चंद

B.एस.एस. श्रीनिवास

C.थंगा दारलॉग



D.अशोक चंद

Sabka ek bhaijaan

Sabka ek bhaijaan

Sabka ek bhaijaan

Answer:

A.रमेश चंद

Reference ID:(12548)

‘त, ई, आ’ हे कोणत्या विभक्तीचे प्रत्यय आहेत?

A.षष्ठी

B.प्रथमा

C.संबोधन

D.सप्तमी

Answer:

D.सप्तमी

Reference ID:(12542)

पुढील वाक्यातील अधोरेखित अव्ययाचा प्रकार ओळखा.  
हवा सर्वत्र असते.

A.क्रियाविशेषण अव्यय

B.शब्दयोगी अव्यय

C.केवलप्रयोगी अव्यय

D.उभयान्वयी अव्यय

Answer:

A.क्रियाविशेषण अव्यय

Reference ID:(12534)

पुढील वाक्याचा प्रकार ओळखा.  
तू रेनकोट घेऊन जा कारण पाऊस पडेल असं वाटत आहे.

A.प्रश्नार्थी

B.मिश्र वाक्य

C.संयुक्त वाक्य

D.केवल वाक्य

Answer:

B.मिश्र वाक्य

Reference ID:(12520)

Choose the most suitable conjunction for the given sentence:

The chairman is a kind person; \_\_\_\_\_, he's related to me by marriage.

A.however

Sabka ek bhaijaan

Sabka ek bhaijaan

Sabka ek bhaijaan

B.moreover

C.in addition to

D.beside

Answer:

B.moreover

Reference ID:(12767)

20 व्या शतकाच्या सुरवातीला अभिनव भारत ही गुप्त क्रांतिकारी संघटना \_\_\_\_\_ द्वारे महाराष्ट्रात सुरु करण्यात आली.

A.निलकांत ब्रम्हचारी

B.अजित सिंग

C.लाला हरदयाळ

D.सावरकर बंधू

Answer:

D.सावरकर बंधू

Reference ID:(12762)

फेब्रुवारी 2019 मध्ये प्रस्तावित \_\_\_\_\_ उचला सिंचन योजना, महाराष्ट्रामधील तापी नदीमधून पूराच्या पाण्याचा उचला करणार आहे.

A.सोनापूर टोमता

B.टेंभू

C.सुलवडे जामफळ कानोली

D.बार्शी

Answer:

C.सुलवडे जामफळ कानोली

Reference ID:(12503)

Choose the option that has the correct spelling for the missing word in the given sentence:

Their company used to offer \_\_\_\_\_ services on that field.

A.professionel

B.profesional

C.profeional

D.professional

Reference ID:(12529)

दिलेल्या- शब्दगटातून विरुद्धार्थी शब्द ओळखा.  
भेळ - ओली X -----

A.तिखट

B.चविष्ट

C.आंबटगोड

D.सुकी

Answer:

D.सुकी

Reference ID:(12539)

योग्य रूपाचा पर्याय निवडून गाळलेल्या जागी भरा .  
हे काम अवघड नाही, ..... येईल.

A.करणे

B.करतो

C.करता-करता

D.कर्ता

Answer:

C.करता-करता

Reference ID:(12777)

जर C = 3 आणि POLISH = 79, तर POINTER = ?

A.95

B.96

C.97

D.98

Answer:

C.97

Choose the correct form of adjective for the given sentence:

Sam posed to know everything about the guitar, but he was really just a \_\_\_\_\_.

A.supernumerary

B.chimera

C.catalyst

D.layman

Answer: D.layman

Reference ID:(12535) पुढील वाक्य वाचून योग्य वाक्य ओळखा.

A.आमच्या शाळेनो पंचवीस वर्ष पूर्ण झाली.

B.आमच्या शाळेचा पंचवीस वर्ष पूर्ण झाले.

C.आमच्या शाळेचे पंचवीस वर्ष पूर्ण झाली.

D.आमच्या शाळेला पंचवीस वर्षे पूर्ण झाली.

Answer: D.आमच्या शाळेला पंचवीस वर्षे पूर्ण झाली.

Reference ID:(12515) Choose the most suitable determiner for the given sentence:

She didn't like \_\_\_\_\_ of the desserts.

A.any

B.much

C.a little

D.more

Answer: A.any

Reference ID:(12507) Choose the correct form of adjective for the given sentence:

Do you think these birds are \_\_\_\_\_ to India? At least I have not seen them anywhere.

A.ingenuous

B.fluent

D.exigent

Answer: C.indigenous

Reference ID:(12761) जैन तत्वज्ञानानुसार, देव महावीर, यांना वर्धमान म्हणूनही जाणले जाते, ते  
तीर्थनकार होते.

A.22<sup>वे</sup>B.23<sup>वे</sup>C.24<sup>वे</sup>D.25<sup>वे</sup>Answer: C.24<sup>वे</sup>

Reference ID:(12544) पुढील वाक्यांमधील विशेषण ओळखा.  
या पुस्तकातली निदान शंभर पानं तरी मी एका बैठकीत वाचून काढली आहेत.

A.पुस्तक

B.एका

C.पानं

D.मी

Answer: B.एका

Reference ID:(12794) एका शाळेमध्ये 2000 विद्यार्थी आहेत. 2 जानेवारीला 4% मुलं वगळता सर्व विद्यार्थी शाळेत उपस्थित होते आणि 3 जानेवारीला (28/3)% मुली वगळता सर्व विद्यार्थी शाळेत उपस्थित होते, पण दोन्ही दिवशी शाळेमध्ये उपस्थित विद्यार्थ्यांची संख्या सारखी होती. शाळेमधील मुलींची संख्या काय आहे?

A.400

B.1200

C.800

D.600

Answer: D.600

- A.पुल्लिंग  
B.स्त्रीलिंग  
C.नपुसकलिंग  
D.उभयलिंग

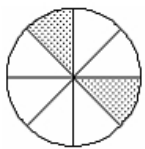
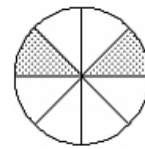
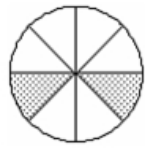
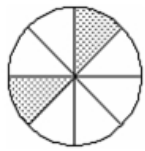
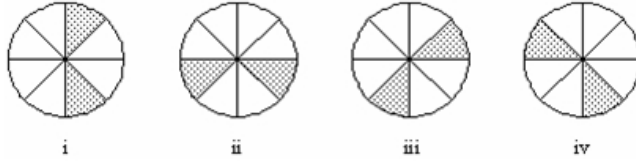
Answer: A.पुल्लिंग

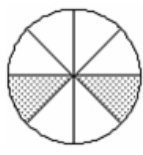
Reference ID:(12790) 26 जानेवारी 2015 रोजी कोणता दिवस होता?

- A.सोमवार  
B.मंगळवार  
C.बुधवार  
D.गुरूवार

Answer: A.सोमवार

Reference ID:(12800) खाली दिलेल्या क्रमामध्ये, पुढील आकृती कोणती असेल?





Reference ID:(12510) Choose the option with the appropriate suffix to complete the given sentence

A country that is extremely nationalistic is \_\_\_\_nationalistic.

A.per--

B.corp--

C.ultra--

D.tri--

Answer: C.ultra--

Reference ID:(12545) योग्य पर्याय निवडून जोडी लावा.  
कोणता

A.गल्ली

B.गाव

C.वाट

D.देऊळ

Answer: B.गाव

Reference ID:(12791) खाली दिलेल्या श्रृंखलेमध्ये अंकांचा एक विशिष्ट क्रम दिलेला आहे. त्यानुसार चुकीचा क्रम ओळखा:  
38, 49, 62, 72, 77, 91, 101

A.49

B.72

C.77

D.91

Answer: B.72

6 A Street, Next to Wall Street Exchange - Karama, Dubai - United Arab Emirates  
+971 4 397 0970

(i) 6 A Street, Next to Wall Street Exchange - Karama, Dubai - United Arab Emirates  
+971 4 397 0970

(ii) 6 A Street, Next to Wall Street Exchange - Karama, Dubai - United Arab Emirates  
+971 4 397 0970

(iii) 6 A Street, Next to Wall Street Exchange - Karama, Dubai - United Arab Emirates  
+971 4 397 0970

(iv) 6 A Street, Next to Wall Street Exchange - Karama, Dubai - United Arab Emirates  
+971 4 397 0970

---

A.i

---

B.ii

---

C.iii

---

D.iv

Answer:

B.ii

---

Reference ID:(12789)

8000 रुपयांपैकी काही रक्कम प्रति वर्ष 6% दराने आणि उर्वरित रक्कम प्रति वर्ष 5% दराने कर्जाऊ देण्यात आली. दोन्हीमधून 5 वर्षांमध्ये मिळालेले एकूण सरळ व्याज 2100 रुपये असेल, तर प्रति वर्ष 6% ने दिलेली रक्कम होती?

---

A.2000

---

B.1800

---

C.2200

---

D.1600

Answer:

A.2000



A.किंवा

B.की

C.शिवाय

D.पण

Answer: D.पण

Reference ID:(12536) रिकाम्या जागी योग्य शब्द निवडा.  
ज्या वाक्यात एकच उद्देश्यव एकच ----- असते त्यास केवळ वाक्य म्हणतात.

A.विधेय

B.अलंकार

C.वृत्त

D.समास

Answer: A.विधेय

Reference ID:(12780) सध्या सुनिल आणि संजय यांच्या वयांमधील गुणोत्तर 5:7 आहे. 6 वर्षांनंतर, सुनिलचे वय 26 वर्षे असेल. सध्या संजयचे वय काय आहे?

A.10 वर्षे

B.31 वर्षे

C.28 वर्षे

D.20 वर्षे

Answer: C.28 वर्षे

Reference ID:(12769) भारतीय निवडणूक आयोगानुसार स्वतःची सुरक्षा ठेव जप्त होण्यापासून वाचवण्यासाठी निवडणूकीमध्ये उमेदवाराला कमीत कमी किती मतं (मतदान केलेल्या एकूण वैध मतांपैकी) मिळायला हवीत?

A.1/6<sup>th</sup>

B.1/3<sup>rd</sup>

D.3 %

Answer: A.1/6<sup>th</sup>

Reference ID:(12526) Choose the option that best expresses the meaning of the highlighted idiom/phrase:

The chairman's speech at the inauguration was the usual **mumbo-jumbo**.

A.large

B.gibberish

C.elaborate

D.majestic

Answer: B.gibberish

Reference ID:(12793) रिकाम्या जागी योग्य संख्या निवडून श्रृंखला पूर्ण करा:  
5, 3, 4, 7.5, 17, \_\_\_\_\_

A.35

B.42

C.45

D.50

Answer: C.45

Reference ID:(12783) जर HAND चा सांकेतिक शब्द ICQH असा बनवला जात असेल तर ZIPPER चा सांकेतिक शब्द कसा बनवला जाईल?

A.AKSTJX

B.AJQQFS

C.AJSTFS

D.AJQQJX

Answer: A.AKSTJX

Reference ID:(12781) रेहान हा अभिनव या त्याच्या चुलत भावापेक्षा 7 वर्ष मोठा आहे. दोन वर्षांनी, त्याचे वय अभिनवच्या वयाच्या दुप्पट होईल. अभिनवचे वर्तमान वय काढा:

A.4 वर्षे

B.7 वर्षे

C.5 वर्षे

D.6 वर्षे

Answer: C.5 वर्षे

Reference ID:(12799) एक विक्रेत्याने वस्तूच्या 20,000 रुपये चिन्हांकित किमतीवर 25% ची सूट दिली आणि त्याला 20% तोटा झाला. वस्तूवर 450 रुपयांचा नफा होण्यासाठी त्याने चिन्हांकित किमतीवर किती सूट द्यावी?

A.6.5%

B.5%

C.4.25%

D.4%

Answer: D.4%

Reference ID:(12550) पुढील वाक्यप्रचारांच्या योग्य अर्थाचा पर्याय निवडा.  
गाढवाचा नांगर फिरवणे-

A.जमीनदोस्त करणे

B.अतिशय कष्ट करणे

C.नांगराला गाढव जुंपणे

D.नको असलेले काम करणे

Answer: A.जमीनदोस्त करणे

Reference ID:(12765) पहिल्या भगवान महावीर अहिंसा पुरस्काराचे विजेते \_\_\_\_\_ हे आहेत.

A. अभिनंदन वर्धमान

B. हसमुख अधिया

C. पी. व्ही. सिंधु

D. पी. के. बेजबरुआ

Answer:

A. अभिनंदन वर्धमान

Reference ID:(12755)

मुंबई राज्य विधानसभेमध्ये कोणी अंदाजे 19,784 कोटी तूट आणि शेती कर्जासाठी विशेष निधीची तरतुद यांसह 2019-20 आर्थिक वर्षासाठीचा अंतरिम अर्थसंकल्प सादर केला.

A. अरुण जेटली

B. पियुश गोयल

C. सुधीर मुंगटीवार

D. सुभाष चंद्र गर्ग

Answer:

C. सुधीर मुंगटीवार

Reference ID:(12527)

तुझ्यावर कसले 'गारुड झाले' आहे तेच काळत नाही. यातील 'गारुड होणे'चा अर्थ -

A. सर्पदंश होणे.

B. नागमोडी चाल होणे.

C. जादूटोणा होणे.

D. पडझड होणे.

Answer:

C. जादूटोणा होणे.

Reference ID:(12785)

रवि दिलेली पानं दोन तासांत टाईप करतो, तर रमेश तेवढीच पानं तीन तासांत टाईप करतो. रवि आणि रमेशला दुप्पट पानांच एक काम दिलं गेलं तर दोघं मिळून एकत्र ते काम किती वेळात पूर्ण करतील?

A. 1 तास 12 मिनिट

B. 2 तास 24 मिनिट

C. 2 तास 12 मिनिट

D. 3 तास

Answer:

B. 2 तास 24 मिनिट

Choose the correct form of modal auxiliary verb for the given sentence:

Rajiv: I am afraid I'm not quite ready.

Ram: Never mind. I \_\_\_\_\_ wait for you.

A.can't

B.should

C.will

D.needn't

Answer: C.will

Reference ID:(12778) दोन खेळाडू बॅडमिंटनचा सामना खेळत आहेत. जर 1 ल्या खेळाडूने सामना जिंकण्याची संभाव्यता 0.48 असेल, तर 2-्या खेळाडूद्वारे सामना हारण्याची संभाव्यता काय असेल?

A.0.52

B.0.48

C.0.62

D.0.44

Answer: B.0.48

Reference ID:(12524) Out of the following options, identify a compound sentence.

A.Sky was clear and the stars were shining in the sky.

B.There was a wonderful breeze.

C.The moon shone in the dim light.

D.Casting its shadows in the jungle.

Answer: A.Sky was clear and the stars were shining in the sky.

Reference ID:(12523) Choose the correct form of verb that is in agreement with the subject:

"Gulliver's Travels" \_\_\_\_\_ written by Jonathan Swift.

A.is being

B.was

C.are

D.were

Sabka ek bhaijaan

Sabka ek bhaijaan

Sabka ek bhaijaan

Answer:

B.was

Reference ID:(12768)

महाराष्ट्रातील पहिली सौरउर्जा योजना कोणत्या जिल्ह्यात स्थित आहे?

A.कोल्हापूर

B.औरंगाबाद

C.नांदेड

D.बीड

Answer:

D.बीड

Reference ID:(12531)

रिकाम्या जागी योग्य शब्द भरून जोडशब्द पूर्ण करा.  
गोर -----

A.श्रीमंत

B.दीन

C.उच्च

D.गरीब

Answer:

D.गरीब

Sabka ek bhaijaan

Sabka ek bhaijaan

Sabka ek bhaijaan

Reference ID:(12528)

दिलेल्या पर्यायांपैकी योग्य विरुद्धार्थी पर्याय शोधा.  
अवरोहण-

A.आरोपण

B.आरोहण

C.आलंबन

D.आलिंगन

Answer:

B.आरोहण

Sabka ek bhaijaan

Sabka ek bhaijaan

Sabka ek bhaijaan

Date of Exam : 18-06-2019 02:30 PM

Reference ID:(31932)	भारतीय राष्ट्रीय काँग्रेस पक्षाचे अध्यक्ष कोण आहेत (1 एप्रिल 2019 रोजी)?
	A.सोनिया गांधी
	B.मनमोहन सिंग
	C.गुलाम नबी आझाद
	D.राहुल गांधी
Answer:	D.राहुल गांधी
Reference ID:(30138)	Find the meaning of the highlighted word in the sentence: Despite losing his job, he was <b>jovial</b> .
	A.Unhappy
	B.Dejected
	C.Jolly
	D.Brave
Answer:	C.Jolly
Reference ID:(29884)	Pick the right antonym for the word: lanky
	A.bulky
	B.gangly
	C.thin

Answer: A.bulky

Reference ID:(23441) 'रसना' या शब्दाचा समानार्थी शब्द ओळखा.

A.जीभ

B.पेय

C.तिखट

D.करंगळी

Answer: A.जीभ

Reference ID:(28387) Find the meaning of the highlighted word in the sentence: He **feigned** illness to avoid travel.

A.Stimulated

B.Acquired

C.Pretended

D.Excused

Answer: C.Pretended

Reference ID:(17380)  $9.75 + 2.75 + 3.25 - (2.75 + 3.5 - 4.75 + 0.5) = \underline{\quad}$



B.13.85

C.13.75

D.13.35

Answer:

C.13.75

Reference ID:(20244)

एक माणूस त्याच्या घरापासून पूर्व दिशेने 12 कि.मी. चालतो.  
 मग तो डावीकडे वळतो आणि 5 कि.मी. चालतो.  
 मग तो उजवीकडे वळतो आणि 1 कि.मी. चालतो.  
 मग तो उजवीकडे वळतो आणि 7 कि.मी. चालतो.  
 मग तो उजवीकडे वळतो आणि 4 कि.मी. चालतो.  
 मग तो उजवीकडे वळतो आणि 3 कि.मी. चालतो.  
 मग तो डावीकडे वळतो आणि 5 कि.मी. चालतो.  
 मग तो डावीकडे वळतो आणि 1 कि.मी. चालतो.  
 तो त्याच्या घरापासून किती दूर आहे?

A.4 कि.मी.

B.2.5 कि.मी.

C.2 कि.मी.

D.3.5 कि.मी.

Answer:

A.4 कि.मी.

Reference ID:(21460)

जर ZUCHINNI हा शब्द BWEJKPPK असेल, तर PERSIMMON हा शब्द \_\_\_\_\_ असेल.

A.RGTUKOOQP

B.RGTVLOOQP

D.RGUUKOOQP

Answer:

A.RGTUKOOQP

Reference ID:(16899)

 $8/20 + 3.5 - 5/25 = ?$ 

A.5.175

B.4.975

C.3.7

D.4.225

Answer:

C.3.7

Reference ID:(17126)

खालील पर्यायांपैकी दुसऱ्या क्रमांकाचा सर्वात मोठा कोण आहे?

A.450 चे 35%

B.1700 चा  $1/4$ C. $0.35 \times 900$ D.1100 चा  $2/5$ 

Answer:

B.1700 चा  $1/4$ 

Reference ID:(26285)

पुढीलपैकी कोणता प्राणी सर्वात मोठ्या कोरड्या जमिनीवरील शाकाहारी प्राणी आहे?

B.चिंकारा

C.ताहर

D.काळवीट

Answer:

A.निलगाय

Reference ID:(17607)

 $3.25 + 3.55 + 4.75 - (3.5 + 10 - 2.5 + 4) = \underline{\hspace{1cm}}$ 

A.-3.45

B.-4.9

C.-3.7

D.-4.15

Answer:

A.-3.45

Reference ID:(20979)

मालिकेतील रिकामी जागा भरा: U T \_\_ R Q

A.W

B.P

C.V

D.S

Answer:

D.S

A.ए.पी.जे अब्दुल कलाम

B.आर.के लक्ष्मण

C.खुशवंत सिंग

D.नीरद सी. चौधरी

Answer: A.ए.पी.जे अब्दुल कलाम

Reference ID:(30873) Identify the figure of speech in the following sentence: The thunder grumbled like an old man.

A.Metaphor

B.Simile

C.Personification

D.Oxymoron

Answer: C.Personification

Reference ID:(28614) Pick the right idiom which fits into the sentence: He's caught \_\_\_\_\_ as to whether he should accept his brothers' invitation

A.Turning a new leaf

B.Eating a humble pie

C.Between the devil and the deep blue sea

D.Burying the hatchet

Answer: C.Between the devil and the deep blue sea

- A. चिरू
- B. चितळ
- C. काश्मिरी शेळी
- D. ससा

Answer: A. चिरू

Reference ID:(26289) भारतात पर्यावरण संरक्षण कायदा \_\_\_\_\_ मध्ये मंजूर झाला.

- A. 1980
- B. 1986
- C. 1970
- D. 1999

Sabka ek bhaijaan

Sabka ek bhaijaan

Sabka ek bhaijaan

Answer: B. 1986

Reference ID:(19739) "लग्नाला वीस, तर वाजंत्रीला तीस" या म्हणीचा अर्थ खालीलपैकी कोणता ते ओळखा?

- A. अंगी थोडासा गुण असणारा माणूस जास्त बढाई मारतो
- B. प्रमुख कार्यपेक्षा गौण कार्यालाच जास्त खर्च करणे
- C. लग्नाला माणसे कमी येणे
- D. हिशोबात हेरफेर करणे

Answer: B. प्रमुख कार्यपेक्षा गौण कार्यालाच जास्त खर्च करणे

A.Increases

B.Provoke

C.Encourage

D.Satisfies

Answer:

D.Satisfies

Reference ID:(18496)

"राम आंबट फळ खातो." हे वाक्य शक्य कर्मणी प्रयोगात रूपांतरीत केल्यास योग्य पर्याय कोणता असेल?

A.रामाने आंबट फळ खाल्ले

B.रामकडून आंबट फळ खाले गेले

C.रामच्याने आंबट फळ खावते.

D.राम आंबट फळ खाऊ शकतो.

Answer:

C.रामच्याने आंबट फळ खावते.

Reference ID:(24430)

खालीलपैकी व्याकरणाच्या दृष्टीने शुध्द वाक्याचा पर्याय निवडा.

A.पाऊस पडू लागल्यावर चिमण्यांनी झाडाचा आश्रय घेतला.

B.यंदाच्या वर्षिकोत्सवात आमचा कार्यक्रम निवडला गेला.

C.मुलांचे मनःशस्त्र त्यांनी अभ्यासले होते.

D.रमा आमच्या शिबिरर्थपिकी एक होती.

Answer: A.पाऊस पडू लागल्यावर चिमण्यांनी झाडाचा आश्रय घेतला.  
Sabka ek bhaijaan Sabka ek bhaijaan Sabka ek bhaijaan

Reference ID:(17634) 15 च्या  $\frac{1}{6}$  + 50 च्या 60% च्या 200% +  $0.25 \times 150 = \underline{\hspace{2cm}}$

A.101.5

B.102

C.100

D.99.25

Answer: C.100

Reference ID:(18215) वेडिंवाकडीं घेउन वळणे  
नागिण घांवे जणुं, रोषाने  
वाफा टाकित धापापरि ही गाडी धडधडते.  
ह्या काव्यपंक्तिमधील अलंकार कोणता?

Sabka ek bhaijaan

Sabka ek bhaijaan

Sabka ek bhaijaan

A.अर्थन्तरन्यास

B.उत्प्रेक्षा

C.भ्रांतिमान

D.व्यतिरेक

Answer: B.उत्प्रेक्षा

Reference ID:(16545) जर @ आहे 'भागाकार' आणि \$ आहे 'गुणाकार', तर खालीलपैकी सर्वात मोठा पर्याय कोणता आहे?

A.39@5

B.4.25\$2.5

C.31@4

Sabka ek bhaijaan

D.2.75\$2.5

Sabka ek bhaijaan

Sabka ek bhaijaan

Reference ID:(19993) "ख्याती" या शब्दाचा समानार्थी शब्द ओळखा.

A.झोपडी

B.गर्व

C.दंड

D.कीर्ती

Answer: D.कीर्ती

Reference ID:(33181) रेडक्लिफ रेषा कोणत्या दोन देशांतील सीमा आहे?

A.भारत आणि पाकिस्तान

B.भारत आणि चीन

C.भारत आणि म्यानमार

D.भारत आणि अफगाणिस्तान

Answer: A.भारत आणि पाकिस्तान

Reference ID:(22577) खालीलपैकी सर्वात लहान पर्याय कोणता आहे ?

A.25 + 22 - 15 + 42 + 12 - 203 + 45 + 27

B.28 + 27 - 25 + 32 - 21 + 204 - 44 - 37



D.38 + 207 - 25 - 32 - 21 + 204 - 44 - 37

Answer: A.25 + 22 - 15 + 42 + 12 - 203 + 45 + 27

Reference ID:(29122) Pick the right meaning of the highlighted word in the sentence:  
**Corporal** punishment should be kept within limits

A.A form of physical punishment

B.A form of mental torture

C.A punishment given out by someone from the army

D.A ghostly form of punishment

Answer: A.A form of physical punishment

Reference ID:(26281) खालीलपैकी भारतातील कोणत्या दलदली क्षेत्राचा 'मॉट्रिक्स नोंदी' या रेकॉर्ड मध्ये समावेश करण्यात आलेला आहे?  
१. सांभार सरोवर राजस्थान  
२. केवलादेव राष्ट्रीय उद्यान, राजस्थान  
३. चंद्रताल सरोवर, हिमाचल प्रदेश  
४. लोकटक सरोवर, मणिपूर

A.१ आणि २

B.३ आणि ४

C.२ आणि ४

D.१ आणि ४

Answer: C.२ आणि ४

Reference ID:(28133)

Find the meaning of the word:: Compel

B.Discourage

C.Block

D.Halt

Answer:

A.Urge

Reference ID:(30392)

Pick the correct meaning of the highlighted idiom: In my neighborhood there is a decent house which is **let out**.

A.To study one's surroundings

B.To allow to go free

C.To prove of worth

D.To lease on hire

Answer:

D.To lease on hire

Reference ID:(33186)

महाराष्ट्रातील पुढीलपैकी कोणता जिल्हा केळी उत्पादनात एक क्रमांकावर आहे?

A.औरंगाबाद

B.बुलढाणा

C.नाशिक

D.जळगाव

Answer:

D.जळगाव

Reference ID:(31931)

जगात दोन-तृतियांश संख्या असलेल्या एक शिंग असलेले गेंडे भारताच्या कोणत्या राष्ट्रीय उद्यानात/अभयारण्यात आहेत?

B.गिर राष्ट्रीय उद्यान

C.हजारीबाग वन्यजीव अभयारण्य

D.वेदांतंगल अभयारण्य

Answer:

A.काझीरंगा राष्ट्रीय उद्यान

Reference ID:(24657)

प्रश्नातील वाक्यात रिकामी जागा भरण्यास सर्वात योग्य शब्द निवडा.  
साखरेचे खाणार त्याला देव देणार अशी एक म्हण ..... आहे.

A.प्रचलित

B.संचालित

C.संघटित

D.प्रफुल्लित

Answer:

A.प्रचलित

Reference ID:(29857)

Pick the Synonym for the word:  
eminent

A.Famous

B.Minor

C.Average

D.Unsung

Answer:

A.Famous

Reference ID:(28641)	Pick the right idiom which fits into the sentence: When Vasant lost all his money, his relatives and friends _____
	A.Hung him in balance
	B.Caught him red handed
	C.Let the grass grow under his feet
	D.Gave him the cold shoulder
Answer:	D.Gave him the cold shoulder

Reference ID:(22803)	जर \$ आहे '+' आणि @ आहे '-', तर खालीलपैकी सर्वात मोठा पर्याय कोणता आहे ?
	A.52 \$ 55 \$ 32 @ 75 @ 105 \$ 83 @ 42 @ 57
Sabka ek bhaijaan	B.48 \$ 17 \$ 52 @ 35 \$ 156 @ 104 @ 44 @ 71
	C.19 @ 15 \$ 12 @ 45 @ 36 \$ 103 @ 42 @ 107
	D.44 @ 67 \$ 52 \$ 35 \$ 56 @ 104 \$ 44 \$ 13
Answer:	D.44 @ 67 \$ 52 \$ 35 \$ 56 @ 104 \$ 44 \$ 13

Reference ID:(30619)	Pick the correct meaning of the highlighted idiom: My difference with him has now <b>come to a head</b> .
	A.Come to some sort of conclusion
	B.Come to an end
	C.Be in a state where it can be resolved
	D.To reach a point of crisis
Answer:	D.To reach a point of crisis

Reference ID:(21714) जर A = 1, B = 2, C = 3, .... Z = 26, तर खालील पैकी कोणते पर्याय बरोबर आहे?

A. {B + A + L + L} = {L + I + K + E}

B. {B + A + L + L} < {L + I + K + E}

C. {B + A + L + L} > {L + I + K + E}

D. {R + E + D} = {H + A + V + E}

Answer: B. {B + A + L + L} < {L + I + K + E}

Reference ID:(30111) Find the meaning of the word:: **Invincible**

A. Stoppable

B. Vulnerable

C. Transparent

D. Indomitable

Answer: D. Indomitable

Reference ID:(24684) प्रश्नातील वाक्यात रिकामी जागा भरण्यास सर्वात योग्य शब्द निवडा.  
आपल्या आजूबाजूला नेहमीच मन .....करणाऱ्या घटना घडत असतात.

A. विदीर्ण

B. गजकर्ण

C. अनुत्तीर्ण

D. अपवर्ण

Answer: A. विदीर्ण

Reference ID:(30900)	You've been given a simple sentence. Select the appropriate complex sentence from the options below. She loves her country's culture. She loves her country's weather.
	A.She loves her country's culture and she loves her country's weather
	B.She loves her country's weather as much as its culture
	C.The weather and culture of the country Is both loved by her
	D.The love she feels for her country's weather and culture is well known
Answer:	B.She loves her country's weather as much as its culture

Reference ID:(28106)	Find the meaning of the highlighted word in the sentence: Her chatter was starting to <b>annoy</b> him.
----------------------	---

Sabka ek bhaijaan	A.Appease	Sabka ek bhaijaan	Sabka ek bhaijaan
	B.Charm		
	C.Irritate		
	D.Cheer		
Answer:	C.Irritate		

Reference ID:(26286)	गोगलगाय हे _____ चे उदाहरण आहेत.
----------------------	----------------------------------

	A.अपृष्ठवंशीय प्राणी
	B.पृष्ठवंशीय प्राणी
	C.सस्तन प्राणी
	D.मासे

Reference ID:(34916) जर  $25 \times 13 = 105625$ ,  $24 \times 3 = 5184$ , आणि  $15 \times 3 = 2025$ , तर  $4 \times 9 = ?$

- A.1120
- B.1296
- C.730
- D.340

Answer: B.1296

Reference ID:(31928) सर्वोच्च न्यायालय ज्या कायद्यांवर कार्य करते ते कायदे भारतीय संविधानाने कोणत्या देशाकडून घेतले?

- B.युनायटेड किंगडम
- C.ऑस्ट्रेलिया
- D.जपान

Answer: D.जपान

Reference ID:(26290) महाराष्ट्रातील कोयना वन्यजीव अभयारण्य खालीलपैकी कोणत्या जिल्ह्यात आहे ?

- A.नाशिक
- B.सातारा

D.भंडारा

Answer:

B.सातारा

Reference ID:(27625)

Identify the figure of speech in the following sentence: I will ask the lawyer to give his unbiased opinion on the case.

A.Oxymoron

B.Metaphor

C.Euphemism

D.Apostrophe

Answer:

A.Oxymoron

Reference ID:(24938)

पुढील शब्दसमूहासाठी योग्य शब्द निवडा.  
अपायकारक सहानुभूती

A.कळवळणे

B.वानरकिवण

C.बेवारसी

D.अनुकंपा

Answer:

B.वानरकिवण

Reference ID:(19485)

प्रश्नात दिलेल्या वाक्प्रचाराचा योग्य वापर असलेले वाक्य पर्यायांमधून ओळखा. डोळ्यांत तेल घालून जपणे

A.माता जिजाबाई लहानग्या शिवरायांना डोळ्यांत तेल घालून जपत असे.



B.सामंतकाकूंच्या बागेतील आंबे मुलांनी डोळ्यांत तेल घालून पळवले.

C.आजीने विष्णूनामाचा डोळ्यांत तेल घालून जप केला.

D.रामरावांचे सामान डोळ्यांत तेल घालून जपल्यामुळे चोरीला गेले.

Answer:

A.माता जिजाबाई लहानग्या शिवरायांना डोळ्यांत तेल घालून जपत असे.

Reference ID:(18977)

खालील शब्दाचा समास / समास प्रकार ओळखा.  
हरिहर

A.इतरेतर द्वंद्व

B.बहुव्रीहि

C.कर्मधारय

D.तत्पुरुष

Answer:

A.इतरेतर द्वंद्व

Reference ID:(18469)

खालीलपैकी कोणते वाक्य केवळ वाक्य नाही.

A.शारदाच्या चांदण्यात गुलमोहर मोहक दिसतो.

B.आता तुम्ही बाहेर जा.

C.तुम्ही पाहिलेले मंदिर फार प्राचीन आहे.

D.डॉक्टर वेळेवर आले म्हणून गडी वाचला.

Answer:

D.डॉक्टर वेळेवर आले म्हणून गडी वाचला.

Reference ID:(18242)

खालीलपैकी भुजंगप्रयात वृत्त असलेले वाक्य ओळखा.

A.नको फार हव्यास गे भुषणाचा, धरी लोभ चित्ती सदा सद्गुणांचा

B.घन तमी शुक्र बघ राज्य करी, रे खिन्न मना बघ जरा तरी ।

C.माझा मराठीची बोलू कौतुके । परि अमृतातेही पैजा जिंके ।

D.जन्माचे ते मूळ पाहिले शोधून । दुःखासी कारण जन्म घ्यावा.

Answer:

A.नको फार हव्यास गे भुषणाचा, धरी लोभ चित्ती सदा सद्गुणांचा

Reference ID:(33187)

"गुगामल राष्ट्रीय उद्यान" कोठे स्थित आहे?

A.ओडिसा

B.पश्चिम बंगाल

C.महाराष्ट्र

D.अंदमान आणि निकोबार

Answer:

C.महाराष्ट्र

Reference ID:(31929)

लोकसभेचे अध्यक्ष अधिकारी कोण आहेत?

A.सभापती व उपसभापती

B.राष्ट्रपती

C.पंतप्रधान

D.मंत्री परिषद

Answer:

A.सभापती व उपसभापती

A.6355

B.631414

C.634141

D.61255

Answer: A.6355

Reference ID:(29630) Pick the Synonym for the word:  
obstinate

A.Stubborn

B.Untrue

C.Puzzled

D.Attached

Answer: A.Stubborn

Reference ID:(33180) पुढीलपैकी कोणते अन्न धान्य पीक भारतातील पीक क्षेत्राचा सर्वात मोठा भाग व्यापते?

A.जव आणि मका

B.तांदूळ

C.ज्वारी आणि बाजरी

D.गहू

Answer: B.तांदूळ

A.भाषीक

B.भाषिक

C.भाशीक

D.भाशिक

Answer:

B.भाषिक

Reference ID:(22831)

जर \$ आहे '+' आणि @ आहे '-', तर खालीलपैकी सर्वात लहान पर्याय कोणता आहे ?

A.22 @ 11 \$ 72 @ 45 \$ 65 \$ 13 @ 42 @ 57

B.118 @ 17 \$ 52 @ 35 \$ 156 @ 104 \$ 44 \$ 37

C.79 @ 45 @ 162 @ 45 @ 36 \$ 103 @ 42 @ 17

D.38 \$ 107 \$ 52 \$ 35 \$ 56 @ 104 @ 144 \$ 7

Sabka ek bhaijaan

Sabka ek bhaijaan

Answer:

C.79 @ 45 @ 162 @ 45 @ 36 \$ 103 @ 42 @ 17

Reference ID:(30646)

Convert the following active to passive voice: By this time tomorrow we will have signed the deal

A.Signing of the deal will be done by this time tomorrow

B.By this time tomorrow the deal will be signed

C.By this time tomorrow the deal is being signed

D.By this time tomorrow the deal will have been signed

Answer:

D.By this time tomorrow the deal will have been signed



महाराष्ट्रातील नकाशात बाणने दर्शविलेला जिल्हा खालीलपैकी कोणता आहे?

A. नाशिक

B. ठाणे

C. वाशिम

D. पालघर

Answer:

D. पालघर

खालीलपैकी विरुद्धार्थी शब्दाची बरोबर जोडी ओळखा.

A. चंद्र x इंद्र

B. इलाज x नाइलाज

C. चांदणे x कौमुदी

D. जमीन x भूमी

Reference ID:(16872) 10/40 + 1.5 - 5/25 = ?

A.1.55

B.2.1

C.1.425

D.1.175

Answer: A.1.55

Reference ID:(33179) 'विजय स्तंभ' कोठे स्थित आहे?

A.जयपूर

B.आग्रा

C.दिल्ली

D.चित्तोडगढ

Answer: D.चित्तोडगढ

Reference ID:(27879) Pick the correct meaning of the highlighted idiom or phrase from the following:  
Her house is situated a km from here, **as the crow flies**

A.In a straight line

B.Go in the direction of the flying crow

C.At a very long distance

D.In a maze and in a jumbled up way

Answer:	A.In a straight line
Reference ID:(27398)	Identify the figure of speech in the following sentence: Oh stars, how you twinkle in the sky.
	A.Apostrophe
	B.Euphemism
	C.Personification
	D.Simile
Answer:	A.Apostrophe
Reference ID:(21233)	जर SUPERDRY हा शब्द EPUSYRDR असेल आणि COMPUTER हा शब्द PMOCRETU असेल, तर GUZZLING हा शब्द _____ असेल.
	A.ZZUGGNIL
	B.GUZZGNIL
	C.LINGZZUG
	D.ZZUGILGN
Answer:	A.ZZUGGNIL
Reference ID:(18723)	उद्या गुरु चरित्राच्या सप्ताहाची समाप्ती होईल. या वाक्याचा काळ कोणता?
	A.साधा भविष्यकाळ
	B.अपूर्ण भविष्यकाळ
	C.पूर्ण भविष्यकाळ
	D.रिती भविष्यकाळ

Reference ID:(29603) Pick the right meaning of the highlighted word in the sentence:  
The teachers thought his excuses were more of a **parable**

- A.A fairy tale or story
- B.Reality about something
- C.Factual information about something
- D.To be calm about something

Answer: A.A fairy tale or story

Reference ID:(21487) जर A = 1, B = 2, ....M = 13; आणि N = 13, O = 12, .... Z = 1, तर खालील पैकी कोणते पर्याय बरोबर आहे?

- A. $\{J + A + C + K\} > \{B + A + L + L\}$
- B. $\{J + A + C + K\} = \{B + A + L + L\}$
- C. $\{J + A + C + K\} < \{B + A + L + L\}$
- D. $\{J + A + C + K\} = \{M + A + C + E\}$

Answer: C. $\{J + A + C + K\} < \{B + A + L + L\}$

Reference ID:(33184) 'राष्ट्रीय पोषण संस्था (National Institute of Nutrition)' \_\_\_\_\_ येथे स्थित आहे.

- A.बेंगळुरू
- B.नाशिक
- C.गांधीनगर



Answer:

D.हैद्राबाद

Reference ID:(33178)

कोणत्या शहरात 'भारतीय खाणी विद्यापीठ (Indian School of Mines)' स्थित आहे?

A.आसनसोल

B.टाटानगर

C.धनबाद

D.जमशेदपूर

Sabka ek bhaijaan

Answer:

C.धनबाद

Sabka ek bhaijaan

Sabka ek bhaijaan

Reference ID:(25419)

इत्यादी या शब्दाचा खालीलपैकी योग्य संधी विग्रह ओळखा.

A.इ + आदी

B.इति + यादी

C.इति + आदी

D.इति + अदी

Answer:

C.इति + आदी

Reference ID:(16518)	सहा जण A , B , C , D , E आणि F हे दोन रांगामध्ये एकमेकांकडे तोंड करून बसले आहेत. दोन्ही रांगामध्ये प्रत्येकी तीन जण आहेत. E हा कोणत्याही रांगेच्या शेवटी बसलेला नाही. D हा F च्या डावीकडे दुसऱ्या क्रमांकावर आहे. E चा शेजारी बसलेला A हा D च्या कर्णाभिमुख आहे. C हा F च्या शेजारी आहे. E आणि C ची जागेची अदलाबदल केल्यानंतर नव्या ठिकाणी E चा शेजारी कोण असतील?
	A.A आणि B
	B.F आणि B
	C.A आणि F
	D.वरीलपैकी काहीही नाही
Answer:	D.वरीलपैकी काहीही नाही

Reference ID:(20471)	X चे उत्तर दिशेला तोंड आहे.तो 90 अंश उजवीकडे वळतो. मग तो 45 अंश उजवीकडे वळतो. मग तो 180 अंश वळतो. मग तो 90 अंश उजवीकडे वळतो. शेवटी तो डावीकडे 45 अंश वळतो. आता तो कोणत्या दिशेला तोंड करून उभा आहे?
	A.उत्तर पश्चिम
	B.दक्षिण
	C.दक्षिण पूर्व
	D.उत्तर
Answer:	D.उत्तर

Reference ID:(31926)	पंजाबचा राज्य पक्षी कोणता आहे?
	A.कबूतर
	B.बाज
	C.कोकिळा

Answer: B.बाज

Reference ID:(23695) 'उथळ' या शब्दाचा विरुद्धार्थी शब्द ओळखा.

A.खोल

B.सपाट

C.साधा

D.खिन्न

Answer: A.खोल

Reference ID:(33183) 'वेदांकडे परत जा' अशी घोषणा कोणी दिली?

A.स्वामी दयानंद सरस्वती

B.ज्योतिबा फुले

C.विवेकानंद

D.रामकृष्ण परमहंस

Answer: A.स्वामी दयानंद सरस्वती

Reference ID:(17861) 42 च्या  $\frac{1}{12}$  + 44 च्या 25% +  $0.30 \times 120 = \underline{\hspace{2cm}}$

A.52

C.49.75

D.50.5

Answer:

D.50.5

Reference ID:(17888)

X हा Y हून 175% नी मोठा आहे. मग Y हा X हून \_\_\_\_\_ % लहान आहे.

A.125

B.25

C.66.66

D.63.63

Answer:

D.63.63

Reference ID:(17353)

 $11.5 + 5.5 + 12 + 6.25 - (5.25 - 8.75 + 2.25) = \underline{\quad}$ 

A.35.35

B.36.5

C.34.85

D.35.75

Answer:

B.36.5

- A. अपघटनीय प्रदूषक
- B. मंद अपघटनीय प्रदूषक
- C. अनपघटनीय प्रदूषक
- D. सेंद्रीय कीटकनाशक

Answer: B. मंद अपघटनीय प्रदूषक

Reference ID:(24911) पुढील शब्दसमूहासाठी योग्य शब्द निवडा.  
चांगला धष्टपुष्ट पण बुद्धीने मंद असा मनुष्य

- A. शुंभ
- B. सूंभ
- C. गोटा
- D. उपटसुंभ

Answer: A. शुंभ

Reference ID:(23949) खालीलपैकी विरुद्धार्थी शब्दाची चुकीची जोडी ओळखा.

- A. सूर्योदय x सूर्यास्त
- B. सुसंगत x विसंगत
- C. वार x असुर
- D. सुपीक x नापीक

Answer: C. वार x असुर

A.लोणार सरोवर

B.मालगुजारी सरोवर

C.नारायण सरोवर

D.पुष्कर सरोवर

Answer: A.लोणार सरोवर

Reference ID:(20217)

X चे पूर्व दिशेला तोंड आहे. तो 45 अंश उजवीकडे वळतो. मग तो 90 अंश उजवीकडे वळतो. मग तो 180 अंश वळतो. मग तो 45 अंश उजवीकडे वळतो. शेवटी तो डावीकडे 90 अंश वळतो. आता तो कोणत्या दिशेला तोंड करून उभा आहे?

Sabka ek bhaijaan

Sabka ek bhaijaan

Sabka ek bhaijaan

A.पूर्व

B.पश्चिम

C.उत्तर

D.दक्षिण

Answer: C.उत्तर

Reference ID:(31930)

भारतीय संविधानाने कोणत्या देशाकडून समवर्ती सूची घेतली आहे.

A.कॅनडा

B.युनायटेड किंगडम

C.ऑस्ट्रेलिया

D.जर्मनी

Sabka ek bhaijaan

Sabka ek bhaijaan

Sabka ek bhaijaan

Reference ID:(34943) जर 19 (216)12;  
25 (216) 9;  
तर 8 (?)18.  
"?" च्या मूल्य शोधा

- A.126
- B.243
- C.154
- D.231

Answer: A.126

Reference ID:(18750) पुढीलपैकी साधा भूतकाळ असलेले वाक्य कोणते?  
Sabka ek bhaijaan Sabka ek bhaijaan Sabka ek bhaijaan

- A.शौर्य शाळेत गेला.
- B.त्याने अभ्यास केला.
- C.तिने जेवण केले.
- D.वरीलपैकी सर्व

Answer: D.वरीलपैकी सर्व

Reference ID:(25192) "अन्योक्ती" या शब्दाचा खालीलपैकी योग्य संधी विग्रह ओळखा.

- A.अन्यो + उक्ती
- B.अन्य + उक्ती

Sabka ek bhaijaan

C.अन्य + क्ती

Sabka ek bhaijaan

Sabka ek bhaijaan

D.अन्य + ऊक्ती

Answer:

B.अन्य + उक्ती

Reference ID:(20952)

मालिकेतील रिकामी जागा भरा: A, B, E, C, \_\_, D, O, F, U

A.J

B.F

C.I

D.K

Answer:

C.I

Sabka ek bhaijaan

Sabka ek bhaijaan

Sabka ek bhaijaan

Reference ID:(27371)

Identify the figure of speech in the following sentence: The moon is a white balloon.

A.Hyperbole

B.Simile

C.Metaphor

D.Apostrophe

Answer:

C.Metaphor

Reference ID:(25165)

खालील वाक्यातील रिकाम्या जागी येणाऱ्या योग्य समूहदर्शक शब्दाचा पर्याय क्रमांक निवडा.  
निरभ्र आकाशात रात्रीच्यावेळी तारकांचा ..... पाहण्यात एक वेगळी मजा असते.

Sabka ek bhaijaan

A.घोळका

Sabka ek bhaijaan

Sabka ek bhaijaan



C.थवा

D.पुंज

Answer:

D.पुंज

Reference ID:(26287)

काश्मिरी हंगुल (लाल हरीण) फक्त \_\_\_\_\_ येथे आढळतो.

A.गिर राष्ट्रीय उद्यान

B.दाचीगम वन्यजीव अभयारण्य

C.जिम कॉर्बेट राष्ट्रीय उद्यान

D.रणथंभोर राष्ट्रीय उद्यान

Answer:

B.दाचीगम वन्यजीव अभयारण्य

Reference ID:(26284)

कडुलिंबाचे शास्त्रीय नाव \_\_\_\_\_ आहे.

A.अँझॅडिराक्टा इंदुस

B.अँझॅडिराक्टा इंडिका

C.अँझॅडिराक्टा इंडिगो

D.वरीलपैकी काहीच नाही

Answer:

B.अँझॅडिराक्टा इंडिका

Reference ID:(22249)

खालीलपैकी सर्वात मोठा पर्याय कोणता आहे ?

A.152 + 65 + 32 - 74 - 105 + 93 - 42 - 37

B.48 - 17 - 52 - 35 + 156 + 104 - 34 - 74

$$C.19 + 15 + 42 - 45 - 36 + 103 - 42 - 507$$

$$D.144 + 67 + 52 - 35 + 56 - 104 + 44 + 13$$

Answer:

$$D.144 + 67 + 52 - 35 + 56 - 104 + 44 + 13$$

Reference ID:(21206)

मालिकेतील रिकामी जागा भरा: 5, 12, 7, 9, 9, \_\_, 11, 3, 13

A.6

B.7

C.8

D.5

Answer:

A.6

Reference ID:(19231)

हात दाखवणे. या वाक्प्रचाराचा खालीलपैकी कोणता अर्थ योग्य आहे?

A.ज्योतिषावर विश्वास ठेवणे

B.विजय वंदना स्वीकारणे

C.दिशा दाखवणे

D.चोप देणे

Answer:

D.चोप देणे

Reference ID:(28360)

Find the word opposite in meaning to the word: **Drudgery**

B.Slavery

C.Menial

D.Hard work

Answer:

A.Fun

Reference ID:(24403)

खालीलपैकी व्याकरणाच्या दृष्टीने अशुद्ध शब्द-लेखन असलेला शब्द ओळखा.

A.आकाशवाणी

B.एकलकोंडा

C.बिनदिक्कत

D.उल्लेखनिय

Answer:

D.उल्लेखनिय

Reference ID:(28895)

Fill in the blanks with simple past or past perfect tense of the verbs: When they \_\_\_\_\_, they \_\_\_\_\_ over their drawings.

A.Had finished..... handed

B.Were finishing..... were handing

C.Finished..... had handed

D.Finish..... hand

Answer:

A.Had finished..... handed

Reference ID:(26283)

‘डोडो’ हा उडू न शकणारा पक्षी कोठे आढळत होता?

B.मॉरिशस

C.ऑस्ट्रेलिया

D.रशिया

Answer:

B.मॉरिशस

Reference ID:(30365)

Find the word opposite in meaning to the word: **Suspect**

A.Clear

B.Disputable

C.Dodgy

D.Debatable

Answer:

A.Clear

Reference ID:(33182)

भारतातील पुढील राज्यांपैकी कोणते राज्य केशरचे सर्वात मोठे उत्पादक आहे?

A.आसाम

B.जम्मू आणि काश्मीर

C.हिमाचल प्रदेश

D.मेघालय

Answer:

B.जम्मू आणि काश्मीर

Reference ID:(29376)

Pick the right meaning of the highlighted word in the sentence:  
More often, **apparel** is grouped by color.

B.A funny costume used at an event

C.A veil used to cover the face

D.People from specific states or countries.

Answer:

A.A dress or clothing

Reference ID:(29149)

Pick the right meaning of the highlighted word in the sentence:  
Do not **jeer** at the misfortune of others.

A.To applause someone

B.To cheer someone

C.To ridicule or sneer at someone

D.To be disappointed with someone or something

Answer:

C.To ridicule or sneer at someone

Reference ID:(19458)

खालीलपैकी वाक्प्रचार आणि त्याचा अर्थाची अयोग्य जोडी ओळखा.

A.जीव ओतणे - मन लावून काम करणे

B.जीव मुठीत घेणे - कमीपणा वाटणे

C.तोंडाला तोंड देणे - उद्धटपणे बोलणे

D.डोळे दिपणे - आश्चर्य वाटणे

Answer:

B.जीव मुठीत घेणे - कमीपणा वाटणे

Reference ID:(27852)	Pick the correct meaning of the highlighted idiom or phrase from the following: It was wrong on his part <b>to fall out</b> with his parents and leave home
	A.To quarrel
	B.To look for better accommodation
	C.To make use of someone or something
	D.To withdraw
Answer:	A.To quarrel
Reference ID:(27017)	Select the correct passive voice form of the sentence: The explorers have obtained the necessary supplies.
	A.The explorers obtained the supplies which are necessary
	B.The necessary supplies is being obtained by the explorers
	C.The necessary supplies have been obtained by the explorers
	D.Supplies that are essential are being obtained by the explorers
Answer:	C.The necessary supplies have been obtained by the explorers
Reference ID:(20498)	जर JH = 2, NB = 12, तर KL =
	A.-1
	B.0
	C.1
	D.2
Answer:	A.-1

A.चाणाक्ष - हुशार

B.नैसर्गिक - कृत्रिम

C.हानी - लाभ

D.दाट - विरळ

Answer: A.चाणाक्ष - हुशार

Reference ID:(31927) देवप्रयाग येथे भागीरथी नदी कोणत्या नदीशी जुळते?

A.सतलज नदी

B.मंदाकिनी नदी

C.अलकनंदा नदी

D.गंगा नदी

Sabka ek bhaijaan

Sabka ek bhaijaan

Sabka ek bhaijaan

Answer: C.अलकनंदा नदी

Reference ID:(35170) खाली दिलेल्या पत्त्यापैकी 3 पत्ते समान आहेत आणि 1 भिन्न आहे. कोणता पत्ता भिन्न ते ओळखा?

A.C block 409, Trident Galaxy apartment,  
Bhubaneswar  
Kalinga nagar  
PH 0018003005

B.C block 409, Trident Galaxy apartment,  
Bhubaneswar  
Kailnga nagar  
PH 0018003005

C.C block 409, Trident Galaxy apartment,  
Bhubaneswar  
Kalinga nagar  
PH 0018003005

Sabka ek bhaijaan

Sabka ek bhaijaan

Sabka ek bhaijaan

D.C block 409, Trident Galaxy apartment,  
Bhubaneswar  
Kalinga nagar  
PH 0018003005

Answer:

B.C block 409, Trident Galaxy apartment,  
Bhubaneswar  
Kailnga nagar  
PH 0018003005

Reference ID:(28868)

Convert the simple sentence to a complex sentence: He seems to be a good boy

- A.He's seemingly a good boy
- B.He is supposed to be a good boy
- C.A good boy is what he's supposed to be
- D.It seems that he is a good boy

Answer:

D.It seems that he is a good boy

Reference ID:(31925)

भारतात मिशमी पर्वत रांगा कुठे आहेत?

- A.अरुणाचल प्रदेश
- B.महाराष्ट्र
- C.उत्तराखंड
- D.आंध्र प्रदेश

Answer:

A.अरुणाचल प्रदेश

Reference ID:(19966)

पुढील विधानाला जी म्हण योग्य असेल असा पर्याय ओळखा:  
गोट्या त्याच्यापेक्षा लहान मुलांवर आरडाओरडा करायचा पण त्याच्यापेक्षा जास्त ताकदवर मुलांसमोर  
त्याची स्थिती .... अशी व्हायची.



B.काशीत मल्हारी महात्मा

C.मुग गिळून गप्प बसणे

D.गाड्याबरोबर नळ्याची यात्रा

Answer:

C.मुग गिळून गप्प बसणे

Reference ID:(19204)

खालील शब्दाचा समास / समास प्रकार ओळखा.  
चोरभय

A.कर्मधारय

B.द्वंद्व

C.पंचमी तत्पुरुष

D.अव्ययीभाव

Answer:

C.पंचमी तत्पुरुष

Reference ID:(19712)

पुढील म्हण पूर्ण करण्यासाठी योग्य पर्याय निवडा. तेरड्याचा रंग \_\_\_ दिवस.

A.एक

B.दोन

C.तीन

D.चार

Answer:

C.तीन

Date of Exam : 19-07-2019 10:00 AM

Reference ID:(19045) सोडवा:  $2898 = (126 \times 20) + ?$

A.378

B.252

C.126

D.368

Answer: A.378

Reference ID:(18758) Fill in the blank with the correct noun for the given sentence:

A whole range of physical advances was required for the \_\_\_\_\_ of human language.

A.developing

B.developmental

C.development

D.develops

Answer: C.development

Reference ID:(19007) महाराष्ट्रामध्ये \_\_\_\_\_ जिल्हे आहेत.

A.39

B.38

C.36

D.37

Answer: C.36

A.शनी

B.बुध

C.शुक्र

D.मंगळ

Answer:

A.शनी

Reference ID:(18785)

पुढील वाक्य वाचून योग्य वाक्य ओळखा.

A.सिंहाच्या डरकाळ्या बंगल्याच्या आवारात घुमली.

B.सिंहाची डरकाळ्या बंगल्याच्या आवारात घुमले.

C.सिंहाच्या डरकाळ्या बंगल्याच्या आवारात घुमल्या.

D.सिंहाच्या डरकाळी बंगल्याच्या घुमलो.

Answer:

C.सिंहाच्या डरकाळ्या बंगल्याच्या आवारात घुमल्या.

Reference ID:(18781)

रिकाम्या जागी योग्य शब्द भरून जोडशब्द पूर्ण करा.  
परि \_\_\_\_\_

A.हात

B.पाठ

C.पुरावा

D.खेळ

Answer:

B.पाठ

Reference ID:(19044)

एक काम A आणि B हे एकत्र 30 दिवसांमध्ये पूर्ण करतात. A ने 16 दिवस काम केल्यानंतर, B ने उर्वरित काम 44 दिवसांमध्ये पूर्ण केले. संपूर्ण काम एकटा B किती दिवसांत पूर्ण करेल?

A.30 दिवस

B.40 दिवस

D.70 दिवस

Answer:

C.60 दिवस

Reference ID:(18775)

Choose the correct form of tense for the given sentence:

I \_\_\_\_\_ for 21 kms during the marathon that \_\_\_\_\_ by Jio.

A.ran, was sponsored

B.will run, will be sponsored

C.shall run, shall be sponsored

D.had run, had been sponsored

Answer:

A.ran, was sponsored

Reference ID:(18770)

Choose the most suitable conjunction for the given sentence:

Curfew will be imposed, \_\_\_\_\_ the situation improves.

A.if

B.as

C.unless

D.but

Answer:

C.unless

Reference ID:(19018)

खालीलपैकी कोणते स्वरुपाची चित्रकला मूलतः महाराष्ट्र राज्याची आहे?

A.मधुबनी

B.कालीघाट

C.पहारी

D.वारली

Answer:

D.वारली

- A. अगस्त्यामलई
- B. निलगिरीज
- C. महेंद्रगिरी
- D. ब्रह्मागिरी

Answer: D. ब्रह्मागिरी

Reference ID:(19013) कान्हा राष्ट्रीय उद्यान हे भारतामधील खालीलपैकी कोणत्या राज्यामध्ये स्थित आहे?

- A. उत्तर प्रदेश
- B. मध्य प्रदेश
- C. राजस्थान
- D. आसाम

Answer: B. मध्य प्रदेश

Reference ID:(19040) रेल्वेमधील व्यक्तीने पाहिले की तो एका मिनिटामध्ये 21 दूरध्वनीचे पोस्ट्स मोजू शकतो. जर ते एकमेकांपासून 50 मीटर दूर असतील, तर ट्रेन किती वेगाने प्रवास करत आहे?

- A. 61 किमी/तास
- B. 56 किमी/तास
- C. 63 किमी/तास
- D. 60 किमी/तास

Answer: D. 60 किमी/तास

Reference ID:(19038) श्री. रवी यांचे वेतन तीन महिन्यांसाठी 25% कमी केले गेले. पण तीन महिन्यांनी त्यांचे वेतन मूळ वेतनाएवढे वाढवले गेले. श्री. रवी यांच्या वेतनामध्ये किती टक्के वाढ झाली?

- A. 33.33%
- B. 42.85%

D.16.66%

Answer:

A.33.33%

Reference ID:(19021)

ऑक्टोबर 2018 मध्ये, \_\_\_\_\_ वर "लुबान" नावाचे अत्यंत तीव्र चक्रीवादळ निर्माण झाले.

A.अरबी समुद्र

B.बंगालचा उपसागर

C.पॅसिफीक महासागर

D.हिंद महासागर

Answer:

A.अरबी समुद्र

Reference ID:(18779)

दिलेल्या शब्दगटातून विरुद्धार्थी शब्द ओळखा.  
ताण – सह्य X -----

A.प्राप्य

B.अप्राप्य

C.असह्य

D.वाढता

Answer:

C.असह्य

Reference ID:(18756)

Choose the correct form of adjective for the given sentence:

Sahit does not have any moral principles. He is not fair and just. He is \_\_\_\_\_.

A.irrational

B.unscrupulous

C.harsh

D.valueless

Reference ID:(18791) पुढील वाक्यातील अव्ययाचा प्रकार ओळखा.  
'इशश! असे नका ना पाहू गडे!'

- A.उभयान्वयी अव्यय  
B.केवलप्रयोगी अव्यय  
C.शब्दयोगी अव्यय  
D.क्रियाविशेषण अव्यय

Answer: B.केवलप्रयोगी अव्यय

Reference ID:(18774) Which of the following options is not a compound sentence?

- A.The students can choose Kannada or they can opt for Hindi.  
B.Applicants should either be M.Phil. holders or have 5 years' experience.  
C.Kishkinta was neither too crowded nor too sparsely populated.  
D.Mynas are known to sing well.

Answer: D.Mynas are known to sing well.

Reference ID:(19043) A आणि B हे बाईक कंपनीचे विक्रेते आहेत. बाईकची किंमत 28,000 रुपये आहे. A हा संपूर्ण रकमेवर 10% सूट देतो, तर B हा पहिल्या 20,000 वर 12% आणि उर्वरित 8000 रुपयांवर 8% सूट देतो. त्यांच्या विक्री किमतीमधील फरक काय आहे?

- A.110 रु.  
B.180 रु.  
C.240 रु.  
D.200 रु.

Answer: C.240 रु.

I have spoken to her on the phone but would like to meet her

\_\_\_\_\_.

A.at length

B.in abeyance

C.out of season

D.in person

Answer:

D.in person

Reference ID:(18800)

पुढील वाक्यप्रचारांच्या योग्य अर्थाचा पर्याय निवडा.  
चौदावे रत्न दाखवणे -

A.संपत्ती खुली करणे

B.झाकली मूठ सव्वालाखाची

C.खूप मार देणे

D.आक्रस्ताळेपणा करणे

Answer:

C.खूप मार देणे

Reference ID:(19035)

खाली दिलेल्या श्रृंखलेमध्ये अंकांचा एक विशिष्ट क्रम दिलेला आहे. त्यानुसार चुकीचा क्रम ओळखा:  
8, 18, 64, 272, 1395, 8424, 59045

A.18

B.8

C.272

D.64

Answer:

D.64

Reference ID:(19005)

2019 च्या संपत्ती अहवालामध्ये नोंदवलेल्या खर्चिक प्रमुख रहिवाशी बाजारांच्या जागतिक अग्रणी 20 सूचीमध्ये आलेल्या एकमेव भारतीय शहराचे नाव सांगा.



B.दिल्ली

C.बेंगलुरू

D.मुंबई

Answer:

D.मुंबई

Reference ID:(19019)

लॉरियस स्पोर्ट्समॅन ऑफ दि इयर 2019 पुरस्कार कोणी जिंकला?

A.नोवाक डी जोकोविक

B.रोजर फेडरर

C.राफेल नडाल

D.टायगर वुड्स

Answer:

A.नोवाक डी जोकोविक

Reference ID:(19017)

प्राणहिता नदी महाराष्ट्राच्या \_\_\_\_\_ वन्यजीव अभयारण्याच्या पश्चिम सीमेवर वाहते.

A.कोयना

B.राधानगरी

C.चाप्राला

D.फणसाड

Answer:

C.चाप्राला

Reference ID:(19028)

एका बॉक्समध्ये 45 वीजेचे बल्ब आहेत ज्यांपैकी 20 सदोष आहेत. जर बॉक्समधून यादृच्छिकरित्या एक बल्ब निवडला जात असेल, तर निवडलेला बल्ब सदोष असल्याची संभाव्यता काय आहे?

A.4/9

B.5/9

C.3/4

D.4/5

Answer:

A.4/9

The new hair oil will stop hair fall. The company claimed.

A.The new hair oil will stop hair fall and the company claimed.

B.The company claimed that the new hair oil would stop hair fall.

C.The company claimed, but the new hair oil will stop hair fall.

D.The new hair oil will stop hair fall, but the company claimed it.

Answer:

B.The company claimed that the new hair oil would stop hair fall.

Reference ID:(18767)

Choose the correct form of modal auxiliary verb for the given sentence:

I hope you \_\_\_\_\_ mind waiting so long.

A.don't

B.needn't

C.shouldn't

D.couldn't

Sab Answer: bhaijaan

A.don't

Sabka ek bhaijaan

Sabka ek bhaijaan

Reference ID:(18794)

पुढील वाक्यांमधील विशेषण ओळखा.  
टेबलाचा पृष्ठभाग गुळगुळीत असतो सर्वसाधारणपणे.

A. टेबल

B.पृष्ठभाग

C.गुळगुळीत

D.सर्वसाधारणपणे

Answer:

C.गुळगुळीत

Reference ID:(19046)

खाली दिलेल्या श्रृंखलेमध्ये अंकांचा एक विशिष्ट क्रम दिलेला आहे. त्यानुसार चुकीचा क्रम ओळखा:  
45, 131, 228, 338, 466, 619, 800

A.131

B.466

C.619

Sabka ek bhaijaan

Sabka ek bhaijaan

Sabka ek bhaijaan

Answer: B.466

Reference ID:(19029) दोन बहिणींच्या वयामध्ये 14 वर्षांचा फरक आहे. जर पाच वर्षांपूर्वी, मोठ्या बहिणीचे वय हे लहान बहिणीच्या वयाच्या तीनपट होते, तर त्यांचे वर्तमान वय काढा?

A.14 वर्षे आणि 30 वर्षे

B.13 वर्षे आणि 28 वर्षे

C.12 वर्षे आणि 26 वर्षे

D.15 वर्षे आणि 32 वर्षे

Answer: C.12 वर्षे आणि 26 वर्षे

Reference ID:(19011) बिबी का मकबरा ("महिलेचा मकबरा") हा मकबरा कुठे स्थित आहे?

A.बिजापूर

B.अहमदनगर

C.नागपूर

D.औरंगाबाद

Answer: D.औरंगाबाद

Reference ID:(18761) Choose the option with the appropriate suffix to complete the given sentence:

In a conversation with another applic\_\_\_\_\_, your ability to empathize must be visible.

A.-able

B.-ation

C.-ee

D.-ant

Answer: D.-ant

i want to go for a change from the normal crops he says

A.i want to go for a change from the normal crops; he says.

B.“I want to go for a change from the normal crops,” he says.

C.I want to go for a change from the normal crops,” he says.

D.“I want to go for a change from the normal crops, he says!

Answer:

B.“I want to go for a change from the normal crops,” he says.

Reference ID:(19001)

पुढील वाक्यात पर्यायातील अचूक वाक्प्रचार निवडा.  
इंग्रजीचा अभ्यास करून गेल्यावर समोर गणिताचा पेपर बघून रामला काही सुचेनासे झाले.

A.अर्धचंद्र मिळणे

B.पाचवीला पूजणे

C.तळपायाची आग मस्तकात जाणे

D.मती कुंठीत होणे

Answer:

D.मती कुंठीत होणे

Reference ID:(18788)

योग्य पर्यायाची निवड करा.  
पुढच्या निवडणुकीत तुम्ही योग्य नेता \_\_\_\_\_

A.निवडाल

B.निवडेल

C.निवडतील

D.निवडून

Answer:

A.निवडाल

Reference ID:(19030)

अरुण आणि विनोद यांच्या वर्तमान वयाचे गुणोत्तर अनुक्रमे 7:5 आहे. तीन वर्षापूर्वी अरुणचे वय आणि 3 वर्षांनंतर विनोदच्या वयाचे गुणोत्तर 1:1 आहे. तीन वर्षांनी अरुणचे वय आणि 3 वर्षापूर्वी विनोदच्या वयांमधील गुणोत्तर काय होते?

B.2:1

C.1:2

D.1:3

Answer:

B.2:1

Reference ID:(19002)

खालीलपैकी कोणता गोड अन्नपदार्थ महाराष्ट्रामधून असल्याचे मानले जाते?

A.रसगुल्ला

B.श्रीखंड

C.पेठा

D.सोनपापडी

Answer:

B.श्रीखंड

Reference ID:(18790)

क्रियापदानुसार कर्त्याच्या योग्य रूपाची निवड करा.  
\_\_\_\_\_ त्या अपघातामधून वाचलात.

A.तुम्ही

B.तो

C.राम

D.तू

Answer:

A.तुम्ही

Reference ID:(18797)

पुढील वाक्यातील विरामचिन्ह ओळखा.

वि. स .खांडेकर, विभावरी शिरूरकर, व्यंकटेश माडगूळकर, व. पु. काळे यांसारख्या अनेक नामवंत लेखकांनी आपल्या उत्तमोत्तम कथांनी मराठी वाचकांना तृप्त केलंय.

A.लोपचिन्ह

B.विकल्पचिन्ह

C.स्वल्पविराम

D.उपपूर्णविराम

Answer:

C.स्वल्पविराम

A.केल्याने

B.करताना

C.करून

D.करणे

Answer:

A.केल्याने

Reference ID:(19006)

भारताच्या कोणत्या राज्यामध्ये मंत्रीमंडळाने ग्रामीण भागामध्ये जीवनमान उंचावण्यासाठी 'स्मार्ट व्हिलेज' मोहिमे अंतर्गत 384.40 कोटी रुपयांची मंजूरी दिली आहे?

A.पंजाब

B.महाराष्ट्र

C.हरियाणा

D.गुजरात

Answer:

A.पंजाब

Reference ID:(19032)

खाली दिलेल्या चार पत्त्यांपैकी कोणता पत्ता खाली दिलेल्या पत्त्याशी अचूकपणे जुळत नाही?

Shop # 1,Al Fahidi Street,Opp Musalla Post Office· Near Dubai Museum - Dubai - United Arab Emirates  
+971 50 245 9750

(i) Shop # 1,Al Fahidi Street,Opp Musalla Post Office· Near Dubai Museum - Dubai - United Arab Emirates  
+971 50 245 9750

(ii) Shop # 1,Al Fahidi Street,Opp Musalla Post Office· Near Dubai Museum - Dubai - United Arab Emirates  
+971 50 245 9750

(iii) Shop # 1,Al Fahidi Street,Opp Musalla Post Office· Near Dubai Museum - Dubai - United Arab Emirates  
+971 50 245 9750

(iv) Shop # 1,Al Fahidi Street,Opp Musalla Post Office Near Dubai Museum - Dubai - United Arab Emirates  
+971 50 245 9750

A.i

C.iii

D.iv

Answer:

D.iv

Reference ID:(18757)

Choose the correct form of adjective for the given sentence:

The robber was handed over to the \_\_\_\_\_ police station.

A.most

B.nearer

C.nearest

D.near

Answer:

C.nearest

Reference ID:(19039)

दीपकच्या पगारामध्ये 50% वाढ झाली पण संगणक चालकाने चुकीने हा आकडा 80% असा टाकला आणि नवीन पे स्लिप छापली. संघटनेला त्यांची चूक लक्षात येण्याआधी त्याला तीन महिने त्याचा सुधारित पगार मिळत होता. जर त्याला मागच्या तीन महिन्यांमध्ये प्रदान केलेली अतिरिक्त रक्कम ही त्याच्या चौथ्या महिन्यामधून वजा करायची असेल तर, त्याच्या बरोबर नवीन पगाराच्या किती टक्के त्याला चौथ्या महिन्यात मिळतील?

A.30%

B.40%

C.45%

D.25%

Answer:

B.40%

Reference ID:(18759)

Choose the appropriate collective noun to complete the sentence:

The children saw \_\_\_\_\_ at the zoo.

B.a pair of hyenas

C.a deck of artistes

D.a bunch of clowns

Answer:

A.a pride of lions

Reference ID:(19048)

एका व्यक्तीने 96 रुपयांचे इलेक्ट्रॉनिक घड्याळ अशाप्रकारे विकले की त्याच्या नफ्याची टक्केवारी ही घड्याळाच्या खरेदी किमती एवढी असेल. जर त्याने ते घड्याळ त्याच्या पूर्वीच्या टक्केवारीच्या दुप्पट टक्के नफ्याने ते विकले तर नवीन विक्री किंमत काय असेल?

A.रु. 132

B.रु. 120

C.रु. 123

D.रु. 100

Answer:

A.रु. 132

Reference ID:(18799)

'प्रक्षिप्त' या शब्दात किती जोडाक्षरे आली आहेत?

A.3

B.2

C.1

D.4

Answer:

A.3

Reference ID:(19012)

फेब्रुवारी 2019 रोजी, महाराष्ट्रामध्ये पंत प्रधानांनी जळगांव-\_\_\_\_\_दुहेरीकरण आणि विद्युतीकरण रेल्वे प्रकल्पाचे उद्घाटन केले.

A.धुळे



C.बांद्रा

D.मनमाड

Answer:

B.उधना

Reference ID:(19014)

फेब्रुवारी 19 दरम्यान पंत प्रधानांच्या महाराष्ट्राला दिलेल्या भेटीदरम्यान त्यांनी अंजनी (नागपूर) ला \_\_\_\_\_ सोबत जोडणाऱ्या हमसफर एक्सप्रेसला ध्वजांकित केले.

A.सांगली

B.यवमाळ

C.नांदेड

D.पुणे

Answer:

D.पुणे

Reference ID:(20045)

एक विमान विशिष्ट अंतर 240 किमी/तासांच्या वेगाने 5 तासांमध्ये कापते. तेच अंतर  $1\frac{2}{3}$  मध्ये कापण्यासाठी, त्याने किती वेगाने प्रवास करावा:

A.660 किमी/तास

B.680 किमी/तास

C.700 किमी/तास

D.720 किमी/तास

Answer:

D.720 किमी/तास

Reference ID:(19034)

आज शनिवार असेल तर, 1250 दिवसांनंतर आठवड्याचा कोणता दिवस असेल?

A.बुधवार

B.गुरूवार

C.शुक्रवार

D.शनिवार

Answer:

A.बुधवार

In the Morrill Act, the Party granted federal lands to the States \_\_\_\_\_  
agricultural and mechanical arts college.

A.for establish

B.to establish

C.establish

D.establishment

Answer:

B.to establish

Reference ID:(18760)

Choose the option with the appropriate suffix to complete the given  
sentence:

Athletes learn to use their muscles more effect\_\_\_\_\_ to improve their  
performance.

A.-ively

B.-edly

C.-ive

D.-ion

Answer:

A.-ively

Reference ID:(19026)

वायुच्या हालचालीचे मुख्य कारण म्हणजे:

A.पृथ्वीचे कमी जास्त प्रमाणात तापणे

B.उच्च दाब

C.असमान थंड होणे

D.कमी तापमान

Answer:

A.पृथ्वीचे कमी जास्त प्रमाणात तापणे

Reference ID:(19022)

आरटीआय कायद्याच्या कोणत्या कलमांतर्गत, जर सार्वजनिक स्वारस्यामधील अनावरण हे  
विशिष्ट "संरक्षित स्वारस्या" मुळे आच्छादित होत असेल तर शासन माहितीला नकार देऊ  
शकत नाही?

A.कलम 8(2)

B.कलम 9(2)

D.कलम 10(2)

Answer:

A.कलम 8(2)

Reference ID:(18778)

दिलेल्या पर्यायांपैकी योग्य विरुद्धार्थी पर्याय शोधा.  
संयोग -

A.कुयोग

B.वियोग

C.सुयोग

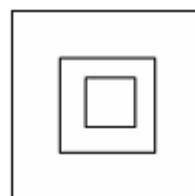
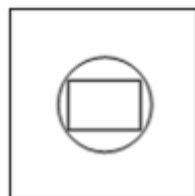
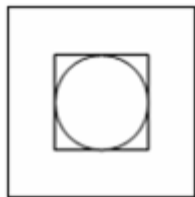
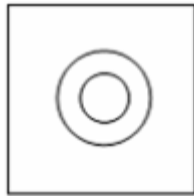
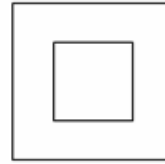
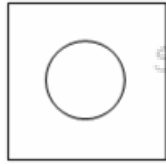
D.योगायोग

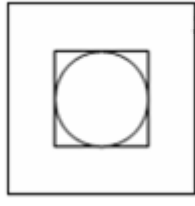
Answer:

B.वियोग

Reference ID:(20044)

जर खाली दर्शवलेले दोन चौकोन एकमेकांवर आच्छादले जात असतील, तर खालीलपैकी कोणता विकल्प तयार होईल?





Reference ID:(18768)

Choose the appropriate prepositions for the given sentence:

When I sent the proposal \_\_\_\_\_ my higher authorities, they turned it \_\_\_\_\_ mindlessly.

A.to, up

B.for, on

C.on, down

D.to, down

Answer:

D.to, down

Reference ID:(19036)

रिकाम्या जागी योग्य संख्या निवडून श्रृंखला पूर्ण करा:  
5, 6, 10, 33, 128, \_\_\_\_\_

A.375

B.445

C.565

D.645

Answer:

D.645

Reference ID:(25015)

A दिलेल्या दोन स्थानकांदरम्यान 16 दिवसांमध्ये रुळ टाकू शकतो आणि B तेच काम 12 दिवसांत करू शकतो. C च्या मदतीने ते काम त्यांनी फक्त 4 दिवसांत पूर्ण केले. एकटा C ते काम किती दिवसांत करू शकतो:

$9\frac{1}{5}$  दिवस

$9\frac{2}{5}$  दिवस

$9\frac{3}{5}$  दिवस

10 दिवस

Reference ID:(18765) Choose the most suitable determiner for the given sentence:

\_\_\_\_\_ are the books I was planning to read.

A.That

B.This

C.Those

D.Which

Answer: C.Those

Reference ID:(18763) Choose the appropriate articles to complete the given sentence:

\_\_\_\_\_ rally was organized by \_\_\_\_\_ Labour Party to protest against \_\_\_\_\_ rise in \_\_\_\_\_ price of petrol.

A.A, the, the, the

B.The, an, a, a

C.An, the, an, the

D.A, a, a, a

Answer: A.A, the, the, the

Reference ID:(19047) एका परीक्षेमध्ये अम्मूला 56% गुण मिळाले, सरनला 90% गुण मिळाले आणि रिमाला 650 गुण म्हणजे 65% गुण मिळाले तर तीन विद्यार्थ्यांचे एकूण गुण काढा.

A.2110

B.1250

C.2450

D.2010

Answer: A.2110

Reference ID:(18782) खालील वाक्यातील अधोरेखित शब्दाचे लिंग ओळखा.  
शासनाने अनेक चांगल्या पुस्तिका प्रसिद्ध केल्या आहेत.

A.पुल्लिंग

B.स्त्रीलिंग

C.नपुसकलिंग

D.उभयलिंग

Answer: B.स्त्रीलिंग

Reference ID:(18773) Choose the correct form of verb that is in agreement with the subject :  
The public \_\_\_\_\_ requested not to walk on the grass.

A.are

B.is

C.has

D.do

Answer: A.are

Reference ID:(19042) A हा त्याच्या नफ्याच्या टक्केवारीची गणना विक्री किमतीवर तर B हा खरेदी किमतीवर करतो. त्यांच्या नफ्यामधील फरक 150 रुपये असल्याचे त्यांना आढळते. जर त्या दोघांची विक्री किंमत सारखी असेल आणि त्या दोघांना 20% नफा मिळत असेल, तर त्यांची विक्री किंमत काढा (रुपयांमध्ये).

A.2500

B.3000

C.3200

D.4500

Answer: D.4500

रिकाय्या जागी योग्य जोडशब्द लिहा.  
शूर शिपाई नेहमीच \_\_\_\_\_ घेऊन युद्धाला सज्ज असतात.

A.तलवारपट्टा

B.ढालतलवार

C.तलवारकट्यार

D.पट्टाढाल

Answer:

B.ढालतलवार

Reference ID:(18784)

पुढील वाक्याचा प्रकार ओळखा.  
आईची पाठ फिरली की लगेच मुलगा खेळू लागला.

A.प्रश्नार्थी

B.मिश्र वाक्य

C.संयुक्त वाक्य

D.केवल वाक्य

Answer:

B.मिश्र वाक्य

Reference ID:(19023)

भारताच्या खालीलपैकी कोणत्या भागांमध्ये चहा आणि कॉफी दोन्हीचे उत्पादन केले जाते?

A.पूर्वेकडील हिमालयाचा प्रदेश

B.आसाम

C.पश्चिम घाट

D.पूर्वेकडील घाट

Answer:

C.पश्चिम घाट

Reference ID:(19004)

कोणत्या दुरूस्ती कायद्याद्वारे संविधानामधून मालमत्तेच्या हक्काला वगळण्यात आले?

A.44<sup>वा</sup> दुरूस्ती कायदा

C.42<sup>वा</sup> दुरूस्ती कायदाD.45<sup>वा</sup> दुरूस्ती कायदाAnswer: A.44<sup>वा</sup> दुरूस्ती कायदा

Reference ID:(19027) जर E = 5, RED = 27, तर DANCE = ?

A.26

B.28

C.27

D.25

Answer: C.27

Reference ID:(18798)

गटात न बसणारा पर्याय निवडा.

A.स, ला, ते

B.स, ला, ना, ते

C.ने, ए, शी

D.चा, ची, चे

Answer: B.स, ला, ना, ते

Reference ID:(18786)

योग्य उत्तराचा पर्याय निवडा.

‘पु. शि. रेगे यांची सावित्री’ ही कादंबरी सुंदर आहे या वाक्यात \_\_\_\_\_

A.‘कादंबरी’ उद्देश्य आहे.

B.‘सावित्री’ उद्देश्य आहे

C.‘रेगे’ उद्देश्य आहे.

D.‘आहे’ उद्देश्य आहे.

Answer: A.‘कादंबरी’ उद्देश्य आहे.



A.54 वी

B.24 वी

C.25 वी

D.64 वी

Answer:

D.64 वी

Reference ID:(18752)

Choose the option that has the correct spelling.

A.Aproxemately

B.Approximately

C.Approximatele

D.Approximetely

Answer:

B.Approximately

Reference ID:(18795)

योग्य पर्याय निवडून जोडी लावा.  
धावणारा

A.वृद्धा

B.धावपटू

C.मुलगी

D.निर्झर

Answer:

B.धावपटू

Reference ID:(18783)

पुढील वाक्याचे उद्गारार्थी वाक्य करा.  
किती उकाडा आहे.

A.उकाडा किती आहे?

B.उकाडा खूपच आहे!

D.किती उकाडा आहे हा!

Answer:

C.किती हा उकाडा!

Reference ID:(19033)

मिश्रणाची 9.25 रुपये प्रति किलोग्रॅमने विक्री करण्यासाठी किराणामाल विक्रेत्याने अनुक्रमे 8.50 प्रति किलोग्रॅम आणि 11 रुपये प्रति किलोग्रॅम असलेल्या तांदळाच्या दोन प्रकारांना किती गुणोत्तरामध्ये मिसळावे?

A.7:5

B.5:3

C.6:5

D.7:3

Answer:

D.7:3

Reference ID:(19020)

अपोलो टायर्सचे ब्रॅन्ड द्रूत म्हणून अलिकडे कोणत्या भारतीय खेळाडूची नियुक्ती करण्यात आली?

A.सचिन रमेश तेंडुलकर

B.स्मृती मंधाना

C.मेरी कॉम

D.विराट कोहली

Answer:

A.सचिन रमेश तेंडुलकर

Reference ID:(18755)

Choose the option that best punctuates and capitalizes the given sentence:

january 26 1952 is one of the most significant dates in history

A.January 26 1952; is one of the most significant dates, in history.

B.January 26 1952 is one of the most significant dates, in history.

C.January 26, 1952 is one of the most significant dates in history.

D.January 26 1952, is one of the most significant dates in history!

Answer:

C.January 26, 1952 is one of the most significant dates in history.

A.पंकज अडवाणी

B.गीत सेठी

C.अभिनव बिंद्रा

D.पुलेला गोपीचंद

Answer:

B.गीत सेठी

दिलेल्या काळात परिवर्तन करण्यासाठी योग्य पर्याय निवडा.  
मी खात्रीने उत्तीर्ण होईन. (पूर्ण भूतकाळ)

A.झालो

B.झालो होतो

C.झालो आहे

D.होत असेन

Answer:

B.झालो होतो

Choose the appropriate conjunctions for the given sentence:

The jewellery is heavily insured; \_\_\_\_\_ don't worry.

A.but

B.and

C.so

D.that

Answer:

C.so

रेल्वे सरासरी 48 किमी/तास वेगाने धावत असताना, ती 50 मिनिटांमध्ये अंतर कापते.  
प्रवासाचा वेळ 40 मिनिटे एवढा कमी करण्यासाठी त्या ट्रेनने किती वेगाने धावावे?

A.60 किमी/तास

B.50 किमी/तास

C.70 किमी/तास

Answer: A.60 किमी/तास

Reference ID:(18777) 'कसूर' या शब्दाचा समानार्थी शब्द सांगा.

A.कुचराई

B.कुरकुर

C.कसरत

D.बेसुर

Answer: A.कुचराई

Reference ID:(19016) 1899 मध्ये, खालीलपैकी कोणत्या व्हॉईसरॉयने 'दि कलकत्ता कॉर्पोरेशन ॲक्ट' नामक कायदेशीर उपाययोजना पुढे आणली?

A.लॉर्ड रिपॉन

B.लॉर्ड लायटॉन

C.लॉर्ड मायो

D.लॉर्ड कर्झन

Answer: D.लॉर्ड कर्झन

Reference ID:(19015) "दि फेट ऑफ बटरफ्लाइज" हे शीर्षक असलेल्या कादंबरीचे लेखक कोण आहेत?

A.नयनतारा सेहगल

B.राजेश जैन

C.पी चिदंबरम

D.रघुराम राजन

Answer: A.नयनतारा सेहगल

Reference ID:(19010) भारतीय घटनेचा कोणता भाग 'केंद्र आणि त्याची क्षेत्रे' यांना हाताळतो?

B.भाग II

C.भाग III

D.भाग IV

Answer:

A.भाग I

Reference ID:(19037)

रिकाम्या जागी योग्य संख्या निवडून श्रृंखला पूर्ण करा:  
1, 2, 10, 37, \_\_\_\_\_ , 226

A.75

B.84

C.95

D.101

Answer:

D.101

Reference ID:(18793)

पुढील नामाला अयोग्य विशेषणाचा पर्याय निवडा.  
मत

A.सार्वकालिक

B.एक

C.जाड

D.माझे

Answer:

C.जाड

Reference ID:(18792)

पुढील वाक्यातील अधोरेखित अव्ययाचा प्रकार ओळखा.  
सुसंगती सदा घडो। सृजन वाक्य कानी पडो।।

A.उभयान्वयी अव्यय

B.केवलप्रयोगी अव्यय

C.शब्दयोगी अव्यय

D.क्रियाविशेषण अव्यय

Answer:

D.क्रियाविशेषण अव्यय

A.पण

B.जरी

C.जर

D.पासून

Answer:

A.पण

Reference ID:(19003)

भारतामधील खालीलपैकी कोणत्या राज्याने पहिल्यांदाच संरक्षित क्षेत्रामध्ये पाणमांजराची जनगणना आयोजित केली होती?

A.उत्तर प्रदेश

B.महाराष्ट्र

C.बिहार

D.पश्चिम बंगाल

Answer:

A.उत्तर प्रदेश

Reference ID:(19031)

सरासरी काढा.  
22, 50, 68, 96, 85 & 33

A.56

B.39

C.59

D.26

Answer:

C.59

Reference ID:(18776)

Choose the option that best expresses the meaning of the highlighted idiom/phrase:

I **carried on** with my work.

---

B.continued

---

C.stopped

---

D.broke up

---

Answer:

B.continued

---

Reference ID:(18772)

Choose the most appropriate usage to fill in the blank in the given sentence:

The local \_\_\_\_\_ are always helpful to visitors.

---

A.residence

B.residents

C.resides

D.residential

---

Answer:

B.residents

---

Reference ID:(18762)

Choose the appropriate articles for the given sentence:

\_\_\_\_\_ avalanche hit Lucerne, \_\_\_\_\_ small town on \_\_\_\_\_ banks of \_\_\_\_\_ River Seine and destroyed many lives.

---

A.The, a, an, the

B.An, a, the, the

C.An, a, the, a

D.The, an, a, a

---

Answer:

B.An, a, the, the

---

Reference ID:(18753)

Choose the option that has the correct spelling for the missing word in the given sentence:

In order to secure the house, William made an \_\_\_\_\_ payment.

---

A.earnest

B.ernest

---

D.earneast

---

Answer:

A.earnest

---



Date of Exam : 19-07-2019 02:30 PM

Reference ID:(19504) \_\_\_\_\_ ही रत्नागिरी जिल्ह्यामधील मुख्य नद्यांपैकी एक आहे.

A.गंगा

B.सावित्री

C.ब्रह्मपुत्रा

D.नर्मदा

Answer:

B.सावित्री

Reference ID:(19509) महाराष्ट्रामधील खालीलपैकी कोणी 2018 वर्षामध्ये बुद्धिबळाचा "आंतरराष्ट्रीय मास्टर (आयएम)" हे शीर्षक जिंकले.

A.श्रीराम झा

B.हरिका द्रोणावल्ली

C.सहज ग्रोवर

D.रौनक साधवानी

Answer:

D.रौनक साधवानी

Reference ID:(19257) Choose the option with the appropriate suffix to complete the given sentence:

Do you remember the agree\_\_\_\_\_ made between us?

A.-able

B.-ment

C.-ful

D.-some

Answer:

B.-ment

Reference ID:(19290) पुढील नामाला अयोग्य विशेषणाचा पर्याय निवडा.  
परिस्थिती

B.युद्धजन्य

C.तत्कालीन

D.नियंत्रित

Answer:

D.नियंत्रित

Reference ID:(19273)

Choose the option that best expresses the meaning of the highlighted idiom/phrase:

Napoleon's defeat at Waterloo was **a bitter pill for him to swallow.**

A.Unpleasant to accept

B.Hard to swallow the bitter pill

C.Difficult to swallow the pill

D.Easy to accept

Answer:

A.Unpleasant to accept

Reference ID:(19251)

Choose the appropriate option with the correct punctuation marks for the given sentence:

mom said we should plan on going to coorg this year for our summer vacation

A.Mom said we should plan on going to Coorg this year for our summer vacation?

B.Mom said, "We should plan on going to Coorg this year for our summer vacation."

C.Mom said we should plan on going to coorg this year. For our summer vacation!

D.Mom said We should plan on going to Coorg this year for our summer vacation!

Answer:

B.Mom said, "We should plan on going to Coorg this year for our summer vacation."

Reference ID:(19544)

A, B आणि C एक काम अनुक्रमे 20, 30 आणि 60 दिवसांमध्ये करू शकतात. दर तिसऱ्या दिवशी B आणि C कडून सहाय्य मिळत असल्यास A ते काम किती दिवसांत पूर्ण करेल?

A.12 दिवस

C.16 दिवस

D.18 दिवस

Answer:

B.15 दिवस

Reference ID:(19274)

तुझ्या मनात काही 'काळेबेरे' तर नाही ना, यातील काळेबेरेचा अर्थ-

A.काळेपांढरे

B.कालेनिळे

C.काळेकुळकुळीत

D.शंककुशंका

Answer:

D.शंककुशंका

Reference ID:(19254)

Choose the correct form of adjective for the given sentence:

He is a \_\_\_\_\_ member of the team. He is willing to give his time and energy to anything he undertakes to do.

A.insincere

B.callous

C.committed

D.compassionate

Answer:

C.committed

Reference ID:(19282)

पुढील वाक्य वाचून योग्य वाक्य ओळखा.

A.आजीने मला डबा पाठवला.

B.आजीने मला डबा पाठवले.

C.आजीने मला डबा पाठवली.

D.आजीने मला डबा पाठवल्या.

Answer:

A.आजीने मला डबा पाठवला.

- A. गयावया करणे
- B. पुढे पुढे करणे
- C. क्षमेची याचना करणे
- D. एखाद्याचे मन वळवणे

Answer: D. एखाद्याचे मन वळवणे

Reference ID:(19539)

एक व्यक्ती त्याच्या घरापासून त्याच्या कार्यालयामध्ये 3 किमी/तास या वेगाने जातो आणि 2 किमी/तास या वेगाने परत येतो. जर त्याला जाण्या येण्यासाठी 5 तास लागत असतील, तर त्याचे घर आणि कार्यालयामधील अंतर किती आहे?

- A. 3 किमी
- B. 4 किमी
- C. 5 किमी
- D. 6 किमी

Answer: D. 6 किमी

Reference ID:(19523)

खालीलपैकी कशामुळे ध्रुवीय अस्वलाला अतिशय थंडीपासून संरक्षण पुरवले जाते?

- A. जाड केस आणि जाड चरबीचा थर
- B. विस्तारित मागचे पंजे
- C. मोठा आकार
- D. टोकदार तोंड

Answer: A. जाड केस आणि जाड चरबीचा थर

Reference ID:(19286)

योग्य पर्यायाची निवड करा.  
वाक्याचा अर्थ पूर्ण करणारा क्रियावाचक शब्द-

- A. नाम
- B. सर्वनाम
- C. धातू
- D. क्रियापद

Reference ID:(19285) योग्य पर्यायाची निवड करा.  
मी पुण्याला \_\_\_\_\_

A.राहतो

B.राहणे

C.राहिला

D.राहतात

Answer:

A.राहतो

Reference ID:(19252) Choose the appropriate option with the correct punctuation marks for the given sentence:

No I don't want to go there he said

A."No! I don't want to go there!" he said.

B.No, I don't want to go there he said.

C.No? `I don't want to go there,' he said

D.`No I don't want to go there :he said'

Answer:

A."No! I don't want to go there!" he said.

Reference ID:(19295) गटात न बसणारा पर्याय निवडा.

A.रूपक, उत्प्रेक्षा

B.उपमा, उत्प्रेक्षा

C.यमक, रूपक

D.प्रथमा, संबोधन

Answer:

D.प्रथमा, संबोधन

Reference ID:(19269) Choose the most appropriate usage to fill in the blank in the given sentence:

The professor will be in a \_\_\_\_\_ role on the trip.

A.supervision

C.supervise

D.supervisory

Answer:

D.supervisory

Reference ID:(19528)

सरासरी काढा.  
44, 40, 75, 25, 66 & 80

A.44

B.55

C.91

D.22

Answer:

B.55

Reference ID:(19541)

पहिल्या 25 नैसर्गिक विषम संख्यांची बेरीज काय आहे?

A.225

B.125

C.525

D.625

Answer:

D.625

Reference ID:(19534)

रिकाम्या जागी योग्य संख्या निवडून श्रृंखला पूर्ण करा:  
2, 3, 8, 27, 112, \_\_\_\_\_

A.156

B.224

C.375

D.480

Answer:

D.480

A.गाजा

B.पेथाई

C.लुबान

D.तितली

Answer:

C.लुबान

Reference ID:(19289)

पुढील वाक्यातील अधोरेखित अव्ययाचा प्रकार ओळखा.  
भारतावर वारंवार दहशतवादी हल्ले होतात.

A.केवलप्रयोगी अव्यय

B.क्रियाविशेषण अव्यय

C.शब्दयोगी अव्यय

D.उभयायन्वयी अव्यय

Answer:

B.क्रियाविशेषण अव्यय

Reference ID:(19296)

'व्याघ्रसंख्या' या शब्दात किती जोडाक्षरे आली आहेत?

A.4

B.3

C.2

D.5

Answer:

B.3

Reference ID:(19272)

Choose the correct form of tense for the given sentence:

What \_\_\_\_\_ he \_\_\_\_\_ for a living?

A.is . . . doing

B.did . . . does

D.does . . . do

Answer:

D.does . . . do

Reference ID:(19255)

Fill in the blank with the correct noun for the given sentence:

The two \_\_\_\_\_ faced each other across the river.

A.armys

B.armies

C.armyes

D.armis

Answer:

B.armies

Reference ID:(19501)

संविधानाच्या कोणत्या अनुच्छेदांतर्गत, "संसद कायद्याने कोणत्याही राज्याचे नाव दुरुस्त करू शकते"?

A.अनुच्छेद 3

B.अनुच्छेद 4

C.अनुच्छेद 5

D.अनुच्छेद 6

Answer:

A.अनुच्छेद 3

Reference ID:(19546)

वर्गामधील मुलींची एकूण संख्या ही वर्गामधील मुलांच्या एकूण संख्येपेक्षा 45% ने जास्त आहे. वर्गामधील विद्यार्थ्यांची एकूण संख्या 294 आहे तर मुली आणि मुलांच्या एकूण संख्येमधील फरक काय आहे?

A.54

B.52

C.76

D.78

Answer:

A.54



A.2

B.3

C.4

D.5

Answer:

C.4

Reference ID:(19512)

2019 च्या हुरुन ग्लोबल रिच सूचीमध्ये अग्रणी 10 सर्वात श्रीमंत बिलिनियर्सच्या सूचीमध्ये समाविष्ट झालेल्या पहिल्या भारतीयाचे नाव खालीलपैकी काय आहे?

A.मुकेश अंबानी

B.अजीम प्रेमजी

C.रतन टाटा

D.अनिल अंबानी

Answer:

A.मुकेश अंबानी

Reference ID:(19298)

पुढील वाक्यात पर्यायातील अचूक वाक्प्रचार निवडा.  
या परीक्षेत पहिल्या दहात यायचेच, असा त्याने निश्चय केला.

A.मनाशी खुनगाठ बांधणे

B.ओनामा करणे

C.पाचवीला पूजणे

D.निकष लावणे

Answer:

A.मनाशी खुनगाठ बांधणे

Reference ID:(19519)

मोहेंजो-दडो येथे आढळलेले कोणते कांस्याचे शिल्प हे इसवीसन पूर्व 2500 मधील प्राक्कालीन कांस्याचे शिल्प आहे.

A.त्रिभंग मुद्रेमध्ये 'नृत्य करणारी मुलगी'

B.नटराज

D.सेम्बियन महा देवी

Answer: A.त्रिभंग मुद्रेमध्ये 'नृत्य करणारी मुलगी'

Reference ID:(19277) रिकाम्या जागी योग्य जोडशब्द लिहा.  
आज अंगणात झाडांचा खूप \_\_\_\_\_ पडला.

A.पालापाचोळा

B.फुलसडा

C.केरकाटा

D.केरकाड्या

Answer: A.पालापाचोळा

Reference ID:(19507) मार्च 2019 मध्ये सर्ईद मुश्ताक अली करंडक क्रिकेट चॅम्पियन शीपच्या अंतिम फेरीमध्ये महाराष्ट्र कोणत्या संघाशी पराभूत झाला?

A.तामिळ नाडू

B.विदर्भ

C.कर्नाटक

D.सौराष्ट्र

Answer: C.कर्नाटक

Reference ID:(19299) महाराष्ट्रातील कोणत्या फलंदाजाने कसोटी क्रिकेट मध्ये पहिल्यांदा 10,000 धावसंख्या केली?

A.संजय मांजरेकर

B.सुनिल गावस्कर

C.दिलीप वेंगसरकर

D.सचिन तेंडुलकर

Answer: B.सुनिल गावस्कर

See that the letter reaches the address \_\_\_\_\_ in time.

A.-er

B.-eer

C.-ee

D.-ist

Answer:

C.-ee

Reference ID:(19520)

महाराष्ट्र शासनाने खालीलपैकी कोणत्या खेळाच्या प्रशिक्षणासाठी उदय देशपांडे यांना 2017-18 च्या 'शिव छत्रपती जीवनगौरव पुरस्कार' ने सन्मानित केले?

A.जुडो

B.बुद्धिबळ

C.वॉटर पोलो

D.मल्लखांब

Answer:

D.मल्लखांब

Reference ID:(19275)

दिलेल्या पर्यायांपैकी योग्य विरुद्धार्थी पर्याय शोधा.  
खंडन -

A.मुंडन

B.मंडन

C.कांडन

D.सांडणं

Answer:

B.मंडन

Reference ID:(19278)

रिकाम्या जागी योग्य शब्द भरून जोडशब्द पूर्ण करा.  
\_\_\_\_\_ धमक

A.हिरवा

C.काळा

D.निळा

Answer:

B.पिवळा

Reference ID:(19265)

Choose the appropriate prepositions for the following sentence:

The prosecutor presented a well-reasoned case, but the defense lawyer's compelling arguments \_\_\_\_\_ leniency won \_\_\_\_\_ the judge.

A.for, over

B.over, for

C.about, on

D.to, for

Answer:

A.for, over

Reference ID:(19515)

फेब्रुवारी 2019 मध्ये, भारताच्या खालीलपैकी कोणत्या शहरामध्ये 'राष्ट्रीय कार्य योजना-व्हायरल हेपाटायटीस' ची सुरुवात केली गेली?

A.मुंबई

B.जामनगर

C.रांची

D.मेरठ

Answer:

A.मुंबई

Reference ID:(19506)

भारतीय संविधानाचा कोणता भाग संसद आणि राज्य विधीमंडळाच्या निवडणूकींची आचारसंहिता हाताळतो?

A.भाग XIV

B.भाग XV

C.भाग XVI

D.भाग XVII

Answer:

B.भाग XV

A.बोलण्याचा आणि खाण्याचा काहीही संबंध नाही.

B.बोलण्याचा आणि खाण्याचा खूप संबंध आहे.

C.बोलण्याचा आणि खाण्याचा संबंध नसावा.

D.बोलण्याचा आणि खाण्याचा संबंध नसला पाहिजे.

Answer: A.बोलण्याचा आणि खाण्याचा काहीही संबंध नाही.

Reference ID:(19256)

Choose the best option of a collective noun that connects the given sentence:

That fateful night, as we approached deeper into the forest, we could hear a \_\_\_\_\_ of owls hooting in the distance.

A.covey

B.parliament

C.bevy

D.band

Answer: B.parliament

Reference ID:(19542)

वस्तूच्या चिन्हांकित किमतीवर 20% सूट दिली जाते. एक दुकानदार सूट दिलेल्या किमतीवर 10% विक्री कर आकारतो. जर विक्री किंमत 1848 रुपये असेल, तर वस्तूची चिन्हांकित किंमत (रुपयांमध्ये) काय असेल?

A.2500

B.3200

C.3600

D.2100

Answer: D.2100

Reference ID:(19291)

पुढील वाक्यांमधील विशेषण ओळखा.  
काल स्टेशनवर एका माणसाने धावत्या लोकलमधून उडी मारली.

A.काल

B.माणसाने

D.धावत्या

Answer:

D.धावत्या

Reference ID:(19271)

Out of the following options, identify a compound sentence.

A.She works very hard.

B.She works all day long to make ends meet.

C.She works hard but she doesn't like her office.

D.She works hard despite her ill health.

Answer:

C.She works hard but she doesn't like her office.

Reference ID:(19526)

14 वर्षांनंतर रेखाचे वय तिच्या 4 वर्षांपूर्वीच्या वयाच्या 4 पट असेल. रेखाचे वर्तमान वय काय आहे?

A.15 वर्षे

B.10 वर्षे

C.12 वर्षे

D.11 वर्षे

Answer:

B.10 वर्षे

Reference ID:(19270)

Choose the correct form of verb that is in agreement with the subject:

The earth \_\_\_\_\_ round the sun.

A.rotate

B.revoves

C.runs

D.orbit

Answer:

B.revoves

Reference ID:(19510)

सुवर्ण तंतू हे खालीलपैकी कोणत्या कापडांचा संदर्भ देतात?

B. सूत

C. ताग

D. रेयॉन

Answer:

C. ताग

Reference ID:(19514)

\_\_\_\_\_ लेणी महाराष्ट्रातील संजय गांधी अभयारण्य परिसरात स्थित आहेत.

A. एलिफंटा

B. कार्ले

C. अजिंठा

D. कान्हेरी

Answer:

D. कान्हेरी

Reference ID:(19536)

अंकिताचे वय 25 वर्षे आहे. जर राहुलचे वय हे अंकिताच्या वयापेक्षा 25% अधिक असेल तर अंकिताचे वय हे राहुलच्या वयापेक्षा किती टक्के कमी आहे?

A. 40%

B. 35%

C. 10%

D. 20%

Answer:

D. 20%

Reference ID:(19533)

खाली दिलेल्या श्रृंखलेमध्ये अंकांचा एक विशिष्ट क्रम दिलेला आहे. त्यानुसार चुकीचा क्रम ओळखा:

9, 14, 40, 129, 536, 2705, 16260

A. 14

B. 40

C. 536

D. 129

Answer:

B. 40

A.44

B.42

C.41

D.40

Answer:

A.44

Reference ID:(19517)

महाराष्ट्र शासनाने बांधकाम मजूरांसाठी सुरू केलेल्या "एएवाय" योजनेचे पूर्ण रूप काय आहे.

A.अटल आहार योजना

B.अटल अमृत योजना

C.आंचल अमृत योजना

D.आंचल आहार योजना

Answer:

A.अटल आहार योजना

Reference ID:(20048)

एक काम A आणि B एकत्र 7 दिवसांमध्ये पूर्ण करतात. A हा B पेक्षा  $1\frac{3}{4}$  पट कार्यक्षम आहे. तेच काम एकटा A किती दिवसांत पूर्ण करेल? $9\frac{1}{3}$  दिवस

11 दिवस

 $12\frac{1}{4}$  दिवस

16 दिवस

Answer:

11 दिवस

Reference ID:(19538)

एक व्यक्ती 12 किमी/तास या सरासरी वेगाने 10 किमीपर्यंत सायकल चालवतो आणि पुन्हा 10 किमी/तास या सरासरी वेगाने 12 किमी अंतर कापतो. संपूर्ण प्रवासासाठी अंदाजे सरासरी वेग काय असेल?

A.11.2 किमी/तास

B.10 किमी/तास

C.10.2 किमी/तास



Answer: D.10.8 किमी/तास

Reference ID:(19284) दिलेल्या काळात परिवर्तन करण्यासाठी योग्य पर्याय निवडा.  
मुले वेगाने पळतात. (भविष्यकाळ)

A.पळतो

B.पळवतील

C.पळतील

D.पळणे

Answer: C.पळतील

Reference ID:(19511) महाराष्ट्रामध्ये सिकल सेल आजाराला टाळण्यासाठी \_\_\_\_\_ येथे संशोधन केंद्र  
बांधले जाणार आहे.

A.लातूर

B.चंद्रपूर

C.नांदेड

D.सांगली

Answer: B.चंद्रपूर

Al Mamzar, Dubai, Abraj Al Mamzar building Flat No. 509/Block A - Dubai - United Arab Emirates  
+971 4 220 7774

(i) Al Mamzar, Dubai, Abraj Al Mamzar building Flat No. 509/Block A - Dubai - United Arab Emirates  
+971 4 220 7774

(ii) Al Mamzar, Dubai, Abraj Al Mamzar building Flat No. 509\Black A - Dubai - United Arab Emirates  
+971 4 220 7774

(iii) Al Mamzar, Dubai, Abraj Al Mamzar building Flat No. 509/Block A - Dubai - United Arab Emirates  
+971 4 220 7774

(iv) Al Mamzar, Dubai, Abraj Al Mamzar building Flat No. 509/Block A - Dubai - United Arab Emirates  
+971 4 220 7774

A.i

B.ii

C.iii

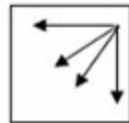
D.iv

Answer:

B.ii

Reference ID:(20047)

खाली दिलेल्या क्रमामध्ये, पुढील आकृती कोणती असेल?



i



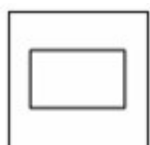
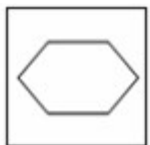
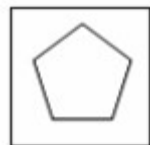
ii



iii

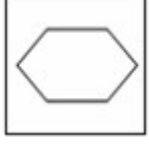


iv





Answer:



Reference ID:(19530)

प्रश्नाचे उत्तर देण्यासाठी मांडणीचा काळजीपूर्वक अभ्यास करा.

5 D E F 6 \* K 4 B M 1 \$ J # H L 7 @ P T U 2 R Q

वरील मांडणीमध्ये असे किती चिन्ह आहेत, त्यांच्यापैकी प्रत्येकाच्या आधी लगेचच संख्या आणि नंतर लगेचच व्यंजन आहे?

A. एक

B. दोन

C. तीन

D. चार

Sab Answer: bhaijaan

C. तीन

Sabka ek bhaijaan

Sabka ek bhaijaan

Reference ID:(19513)

बरेल वन्य अभयारण्य भारतातील कोणत्या राज्यात आहे?

A. आसाम

B. केरळ

C. बिहार

D. राजस्थान

Answer:

A. आसाम

Reference ID:(19535)

रिकाम्या जागी योग्य संख्या निवडून श्रृंखला पूर्ण करा:

1, 3, 10, 38, 168, \_\_\_\_\_

A. 540

B. 654

C. 724

D. 872

Sabka ek bhaijaan

Sabka ek bhaijaan

Sabka ek bhaijaan

Reference ID:(19527)

कपिल 25 वर्षाचा आणि रविश 45 वर्षाचा आहे. किती वर्षापूर्वी त्यांच्या वयाचे गुणोत्तर 3:5 होते?

A.13 वर्षे

B.8 वर्षे

C.5 वर्षे

D.7 वर्षे

Answer:

C.5 वर्षे

Reference ID:(19300)

जाबेल अल अखदार पर्वत, ओमानमध्ये भारत आणि ओमान यांच्या दरम्यान आयोजित केलेल्या लष्करी अभ्यासाचे नाव काय होते?

A.अभ्यास अल नगाह III

B.अभ्यास सर्वदा विजय

C.अभ्यास अजेय वॉरीयर्स

D.अभ्यास शूर वीर

Answer:

A.अभ्यास अल नगाह III

Reference ID:(19287)

क्रियापदानुसार कर्त्याच्या योग्य रूपाची निवड करा.  
\_\_\_\_\_ लाडू खाल्ला.

A.सुकृत

B.सुकृतने

C.ती

D.तो

Answer:

B.सुकृतने

Reference ID:(19267)

Choose the most suitable conjunction for the given sentence:

It was hot enough yesterday but it is \_\_\_\_\_ hotter today.

A.yet

C.still

D.however

Answer:

C.still

Reference ID:(19525)

एका बॉक्समध्ये पत्ते ठेवले आहेत, ज्यांमध्ये प्रत्येकावर 8,9,10,.....,15 पैकी एक संख्या अंकित आहे, त्यांना चांगल्याप्रकारे मिसळले गेले. जर यादृच्छिकपणे एक पत्ता काढला गेला, तर विषम संख्या मिळण्याची संभाव्यता काय आहे?

A.1/4

B.2/3

C.1/2

D.3/4

Answer:

C.1/2

Reference ID:(19294)

संबोधनानंतर हे चिन्ह वापरतात.

A.विकल्पचिन्ह

B.स्वल्पविराम

C.प्रश्नाचिन्ह

D.पूर्णविराम

Answer:

B.स्वल्पविराम

Reference ID:(19276)

दिलेल्या- शब्दगटातून विरुद्धार्थी शब्द ओळखा.  
भित्त - भक्कम X \_\_\_\_\_

A.रूंद

B.विटांची

C.कमकुवत

D.दुर्गम

Reference ID:(19292)

अनेकवचनांचे एक वचन करा.  
चांदण्याचे कोष माझ्या प्रियकराला पाठवा.

A.चांदण्याचे कोष आमच्या प्रियकरांना पाठवा

B.चांदण्याचा कोष माझ्या प्रियकराला पाठवा

C.चांदण्याचा कोष माझ्या प्रियकराला पाठव

D.चांदण्याचा कोष आमच्या प्रियकराला पाठव

Answer:

C.चांदण्याचा कोष माझ्या प्रियकराला पाठव

Reference ID:(19288)

पुढील वाक्यातील अव्ययाचा प्रकार ओळखा.  
'बापरे! केवढी प्रचंड दरी आहे ही!'

A.केवलप्रयोगी अव्यय

B.क्रियाविशेषण अव्यय

C.शब्दयोगी अव्यय

D.उभयान्वयी अव्यय

Answer:

A.केवलप्रयोगी अव्यय

Reference ID:(19050)

Choose the option that has the correct spelling for the missing word in the given sentence:

The \_\_\_\_\_ on the door became loose.

A.hengie

B.heinge

C.hinge

D.hingh

Answer:

C.hinge

Reference ID:(19261)

Choose the correct form of verb for the given sentence:

Animals \_\_\_\_ their behaviour before an earthquake \_\_\_\_ the earth.

B.change ... hit

C.change ... hits

D.changing ... hit

Answer:

C.change ... hits

Reference ID:(19259)

Choose the appropriate articles for the given sentence:

The police will host \_\_\_ news conference half \_\_\_\_\_ hour before John's body is due to leave \_\_\_\_\_ island nation of Trinidad.

A.a, a, an

B.an, a, a

C.a, a, a

D.a, an, the

Answer:

D.a, an, the

Reference ID:(19283)

खालीलपैकी कोणते विधान अयोग्य आहे ते ओळखा.

A.विधेय आणि विधेयविस्तार हे वाक्यपृथक्करणाचे घटक आहेत.

B.उद्देश्यविस्तार आणि उद्देश्य हे वाक्यपृथक्करणाचे घटक आहेत.

C.कर्म आणि कर्मपूरक हे वाक्यपृथक्करणाचे घटक आहेत.

D.अलंकार आणि वृत्त हे वाक्यपृथक्करणाचे घटक आहेत.

Answer:

D.अलंकार आणि वृत्त हे वाक्यपृथक्करणाचे घटक आहेत.

Reference ID:(19293)

पुढील वाक्यांमध्ये योग्य ते अव्यय घाला.

म्हातारीने कोंबडे झाकले \_\_\_\_\_ उजाडायचे राहत नाही.

A.तरी

B.कारण

C.जरी

D.की

Answer:

A.तरी

A.प्रश्नार्थी

B.मिश्र वाक्य

C.संयुक्त वाक्य

D.केवल वाक्य

Answer:

B.मिश्र वाक्य

Reference ID:(19266)

Choose the option with the best prepositional phrase to complete the given sentence:

\_\_\_\_\_, I would never like to see you again.

A.By all mean

B.In fact

C.In favour of

D.On behalf of

Sab Answer: bhaijaan

B.In fact

Sabka ek bhaijaan

Sabka ek bhaijaan

Reference ID:(19543)

एक विक्रेता 20% सूट देतो आणि तरीही त्याला 20% नफा होतो आणि पुढे तो 12 वस्तूंच्या विक्रीवर 4 वस्तू मोफत देतो. खरेदी किंमत आणि बाजार किमतीमधील गुणोत्तर काढा.

A.1:2

B.4:5

C.3:7

D.2:5

Answer:

A.1:2

Reference ID:(19264)

Choose the correct form of modal auxiliary verb for the given sentence:

Let's go shopping today. The shops \_\_\_\_\_ not be crowded.

A.shall

B.will

C.should

Sabka ek bhaijaan

Sabka ek bhaijaan

Sabka ek bhaijaan



Answer: B.will

Reference ID:(19532) आज रविवार आहे. 1344 दिवसांनंतर काय असेल

A.रविवार

B.सोमवार

C.मंगळवार

D.बुधवार

Answer: A.रविवार

Reference ID:(19262) Choose the most suitable determiner for the given sentence:

We are not familiar with \_\_\_\_\_ part of the city.

A.the

B.this

C.which

D.these

Answer: B.this

Reference ID:(19268) Choose the most suitable conjunction for the given sentence:

They came here \_\_\_\_\_ they were in trouble.

A.what

B.why

C.when

D.where

Answer: C.when

Reference ID:(19508) भारतीय संविधानाचे कोणते परिशिष्ट आदिवासी क्षेत्रामधील स्वायत्त जिल्हा परिषदेशी संबंधित आहे

B.दहावे परिशिष्ट

C.चौथे परिशिष्ट

D.सहावे परिशिष्ट

Answer:

D.सहावे परिशिष्ट

Reference ID:(19260)

Choose the appropriate articles for the given sentence:

\_\_\_\_\_ organisation has entered into \_\_\_\_\_ agreement to sell one of their buildings to \_\_\_\_\_ real estate company situated on the banks of \_\_\_\_\_ Rhine.

A.The, a, the, the

B.The, the, an, the

C.The, a, the, a

D.The, an, a, the

Answer:

D.The, an, a, the

Reference ID:(19521)

मुंबई नंतर मेट्रो रेल्वे मिळवणारे महाराष्ट्र राज्यामधील दुसरे शहर कोणते आहे?

A.नाशिक

B.पुणे

C.नागपूर

D.नांदेड

Answer:

C.नागपूर

Reference ID:(19537)

मतदानामध्ये मतदार सूचीमधील 10 मतदारांनी मत दिली नाही आणि 60 मतदारांनी त्यांच्या मतदार पत्रिका रिक्त सोडल्या. तेथे फक्त दोन उमेदवार आहेत. विजेत्याला सूचीमधील 47% मतदारांनी समर्थन केले आणि त्याला त्याच्या विरोधकापेक्षा 308 मतं जास्त मिळाली. सूचीमधील मतदारांची संख्या ही होती?

A.3600

B.6200

C.4575

D.6028

Reference ID:(19502) 2018-19 डीडी महिला किसान पुरस्काराच्या पहिल्या बक्षिसाने सन्मानित व्यक्तीचे नाव सांगा.

A.सुप्रिया शिंगाडे

B.स्वाती शिंगाडी

C.सुप्रिया साहू

D.स्वाती साहू

Answer: B.स्वाती शिंगाडी

Reference ID:(19516) 2019 मध्ये, सामाजिक न्याय आणि सशक्तीकरण मंत्रालयाद्वारे घोषणा केल्याप्रमाणे, विकलांग क्रीडांसाठीचे केंद्र \_\_\_\_\_ येथे स्थापित केले जाणार आहे.

A.ग्वालियर

B.जयपूर

C.बेंगलुरू

D.चेन्नई

Answer: A.ग्वालियर

Reference ID:(19263) Which of the following options best combines the two given sentences?

There was a cyclonic storm. The schools were closed.

A.The schools were closed, so there was a cyclonic storm.

B.There was a cyclonic storm, so the schools were closed.

C.The schools were closed, but there was a cyclonic storm.

D.There was a cyclonic storm, but the schools were closed.

Answer: B.There was a cyclonic storm, so the schools were closed.

Reference ID:(19505) जागतिक गतिक शहरे (वर्ल्ड डायनॅमिक सिटीज) 2019 मध्ये महाराष्ट्रामधील कोणत्या शहराला 5 वी श्रेणी मिळाली?

A.नागपूर

B.नाशिक

D.पुणे

Answer:

D.पुणे

Reference ID:(19522)

खालीलपैकी कोणती गती ही वर्तुळाकार गती **नाही**?

A.बुध ग्रहाची सुर्याभोवतीची गती

B.पंख्याच्या पात्यावर काढलेल्या बिंदुची गती

C.व्हायोलिनच्या तारेची गती

D.शिवणयंत्राच्या चाकाची गती

Answer:

C.व्हायोलिनच्या तारेची गती

Reference ID:(19540)

एक व्यक्ती A पासून B पर्यंत 40 किमी/तास या वेगाने जातो आणि त्याचा वेग 50% वाढवून परत येतो. दोन्ही प्रवासांमधील सरासरी वेग काय आहे?

A.60 किमी/तास

B.56 किमी/तास

C.52 किमी/तास

D.48 किमी/तास

Answer:

D.48 किमी/तास

Reference ID:(19049)

Choose the option that has the correct spelling.

A.Mischievous

B.Mischevious

C.Mischeveous

D.Mischivouos

Answer:

A.Mischievous

Reference ID:(19531)

सुरेश, या दूध विक्रेत्याकडे विक्रीसाठी दूधाचे विशिष्ट प्रमाण आहे. खरेदी किमतीला मिश्रणाची विक्री करून 5% नफा होण्यासाठी त्याने किती गुणोत्तरामध्ये पाणी मिसळावे?

A.6:11

C.2:30

D.1:20

Answer:

D.1:20

Reference ID:(19279)

पुढील शब्दाचे लिंग ओळखा.  
नाव

A.पुल्लिंग

B.स्त्रीलिंग

C.नुपसकलिंग

D.उभयलिंग

Answer:

D.उभयलिंग

Reference ID:(19503)

2019 मध्ये गुजरातच्या खालीलपैकी कोणत्या शहरामधील, राष्ट्रीय मीठ सत्याग्रह स्मारक आणि संग्रहालय पंत प्रधान नरेंद्र मोदीद्वारे राष्ट्राला समर्पित केले गेले.

A.नवसारी

B.दांडी

C.साबरमती

D.गांधीधाम

Answer:

B.दांडी

Reference ID:(19253)

Choose the correct form of adjective for the given sentence:

Until a \_\_\_\_\_ agreement has been reached, I am not committed to accepting the offer.

A.hard

B.stable

C.settled

D.firm

Answer:

D.firm

Date of Exam : 20-07-2019 10:00 AM

Reference ID:(19769) Out of the following options, identify a compound sentence.

A.I saw the pigs flying in the sky and wondered about those pigs.

B.I went home.

C.I told my mother about my flying pigs.

D.But she did not believe me telling me to stop dreaming about the stories which I had just read.

Answer: A.I saw the pigs flying in the sky and wondered about those pigs.

Reference ID:(19777) पुढील शब्दाचे लिंग ओळखा.  
बर्फ

A.पुल्लिंग

B.स्त्रीलिंग

C.नपुसकलिंग

D.उभयलिंग

Answer: D.उभयलिंग

Reference ID:(19759) Choose the correct form of verb for the given sentence:

Hinduism \_\_\_\_\_ the most practiced religion in India though many people \_\_\_\_\_ other religions as well.

A.is ... follow

B.are ... following

C.is ... follows

D.was ... follows

Answer: A.is ... follow

The mobile phone is a recent invention, \_\_\_\_\_ can be as annoying, as it is useful.

A.which

B.who

C.whom

D.that

Answer:

A.which

Reference ID:(20032)

खाली दिलेल्या श्रृंखलेमध्ये अंकांचा एक विशिष्ट क्रम दिलेला आहे. त्यानुसार चुकीचा क्रम ओळखा:

90, 135, 286, 750, 2160, 6405, 19155

A.90

B.750

C.6405

D.286

Answer:

D.286

Reference ID:(20037)

12, 15 आणि 18 ने अचूकपणे विभाज्य असेल अशी 6 अंकी संख्या कोणती आहे?

A.100080

B.100800

C.108000

D.180000

Answer:

A.100080

Reference ID:(20007)

रौनक साधवानी, याने 2018 या वर्षामध्ये 'आंतरराष्ट्रीय मास्टर' हे शिर्षक खालीलपैकी कोणत्या क्षेत्रामध्ये जिंकले?

A.बुद्धिबळ

C.बॅडमिंटन

D.क्रिकेट

Answer:

A.बुद्धिबळ

Reference ID:(20011)

रामसर पाणथळ जागा - हरिक तलाव हे भारतातील खालीलपैकी कोणत्या राज्यात आहे?

A.महाराष्ट्र

B.ओडिसा

C.पंजाब

D.केरळ

Answer:

C.पंजाब

Reference ID:(19796)

पुढील वाक्यात पर्यायातील अचूक वाक्प्रचार निवडा.  
बाईंनी वर्गात सांगितलेल्या सूचना सगळ्यांनी व्यवस्थित ऐकल्या.

A.डंका पिटवणे

B.कान देऊन ऐकणे

C.पाठपुरावा करणे

D.आव्हान स्वीकारणे

Answer:

B.कान देऊन ऐकणे

Reference ID:(19775)

रिकाम्या जागी योग्य जोडशब्द लिहा.  
सणासाठी मुली \_\_\_\_\_ तयार होत्या.

A.नटूनथटून

B.मिळूनमिसळून

C.दमूनभागून

D.हसूनखेळून

Answer:

A.नटूनथटून



Reference ID:(19791) पुढील वाक्यांमध्ये योग्य ते अव्यय घाला.  
गरज सरो \_\_\_\_\_ वैद्य मरो.

A.कारण

B.नि

C.सबब

D.यास्तव

Answer: B.नि

Reference ID:(19779) पुढील वाक्याचा प्रकार ओळखा.  
इथे जन्माचा सोहळा नाही की मरणाचे दुःख नाही.

A.प्रश्नार्थी

B.मिश्र वाक्य

C.संयुक्त वाक्य

D.केवल वाक्य

Answer:

C.संयुक्त वाक्य

Reference ID:(19773) दिलेल्या पर्यायांपैकी योग्य विरुद्धार्थी पर्याय शोधा.  
किरकोळ -

A.ठसठशीत

B.स्पष्ट

C.तुटपुंजे

D.घाऊक

Answer: D.घाऊक

Reference ID:(19751) Choose the correct form of adjective for the given sentence:

For centuries, Rome was the \_\_\_\_\_ power in the Mediterranean.

A.utmost

B.superlative

C.over ruling

Answer: D.supreme

Reference ID:(19789) पुढील वाक्यांमधील विशेषण ओळखा.  
चौकोन कधी वर्तुळाकर असू शकेल का?

A.चौकोन

B.वर्तुळकार

C.शकेल

D.का

Answer: B.वर्तुळकार

Reference ID:(19760) Choose the most suitable determiner for the given sentence:

There isn't \_\_\_\_\_ milk left in the jug.

A.few

B.a few

C.much

D.many

Answer: C.much

Reference ID:(20026) दोन चुलत भावांच्या वयांचे गुणोत्तर 7:3 आहे. त्यांच्या वयांचा गुणाकार 756 आहे. 4 वर्षांनंतर त्यांच्या वयांचे गुणोत्तर असेल?

A.25:13

B.23:11

C.47:23

D.43:25

Answer: B.23:11

Reference ID:(25018) A हा B या कामगारापेक्षा तिप्पट चांगला आहे आणि त्यामुळे त्याला काम पूर्ण करण्यासाठी B पेक्षा 60 दिवस कमी लागतात. एकत्र काम करून, ते हे काम किती दिवसांत पूर्ण करू शकतील:

22  $\frac{1}{2}$  दिवस

25 दिवस

30 दिवस

Answer:

22  $\frac{1}{2}$  दिवस

Reference ID:(19772)

अकबराला 'ऊंची' अत्तरे आवडत. यातील ऊंची या शब्दाचा अर्थ-

A.उंचपणा

B.मौल्यवान

C.जड

D.सुगंधित

Answer:

B.मौल्यवान

Reference ID:(19549)

Choose the appropriate option with the correct punctuation marks for the given sentence:

You know I eat a lot of fruits Mango Apple and orange are my favourites

A.You know I eat a lot of fruits. Mango, Apple and orange are my favourites.

B.you know i eat a lot of fruits, mango, apple and orange are my favourites,

C.You know, I eat a lot of fruits; mango, apple and orange are my favourites.

D.You know I eat a lot of Fruits; and; mango, apple and orange are my favourites'

Answer:

C.You know, I eat a lot of fruits; mango, apple and orange are my favourites.

Reference ID:(19768)

Choose the correct form of verb that is in agreement with the subject:

Throughout the seminar, she kept quiet and did not \_\_\_\_\_ a word.

A.speaking

B.spoken

C.spoke

Answer: D.speak

Reference ID:(20034) रिकाम्या जागी योग्य संख्या निवडून श्रृंखला पूर्ण करा:  
12, 15, 25, 42, 66, 97, \_\_\_\_\_

A.135

B.144

C.156

D.167

Answer: A.135

Reference ID:(19778) पुढील वाक्याचे नकारार्थी वाक्य करा.  
गरीब व्हावे असे कोणाला वाटते?

A.गरीब व्हावे असे एखाद्याला वाटत नाही.

B.गरीब व्हावे असे आम्हाला वाटत नाही.

C.गरीब व्हावे असेच सर्वांना वाटते.

D.गरीब व्हावे असे कोणालाही वाटत नाही.

Answer: D.गरीब व्हावे असे कोणालाही वाटत नाही.

Reference ID:(20014) जानेवारी 2019 मध्ये, पंत प्रधान नरेंद्र मोदी यांनी \_\_\_\_\_ येथे आयोजित न्यू इंडिया युथ कॉन्क्लेव्हला संबोधले.

A.बेंगलुरू

B.नवी दिल्ली

C.हैदराबाद

D.सूरत

Answer: D.सूरत

Reference ID:(19790) अनेकवचनांचे एक वचन करा.  
हिरवे हिरवे गार गालिचे | हरिततृणांच्या मखमालींचे |

A.हिरवा हिरवा गार गालिचा | हरिततृणांच्या मखमालीचा |

C.हिरवे हिरवे गार गालिचा | हरिततृणांच्या मखमालीचे |

D.हिरवा हिरवा गार गालिचे | हरिततृणांच्या मखमालीचे |

Answer:

A.हिरवा हिरवा गार गालिचा | हरिततृणांच्या मखमालीचा |

Reference ID:(20031)

100 वर्षांमध्ये किती लीपवर्ष असतात?

A.24 लीप वर्षे

B.23 लीप वर्षे

C.22 लीप वर्षे

D.21 लीप वर्षे

Answer:

A.24 लीप वर्षे

Reference ID:(19761)

Which of the following options best combines the two given sentences?

The new player was injured. He was called off the field.

A.The new player was injured, but he was called off the field.

B.Although the new player was injured, he was called off the field.

C.As the new player was injured, he was called off the field.

D.Although he was called off the field, the new player was injured.

Answer:

C.As the new player was injured, he was called off the field.

Reference ID:(20010)

महाराष्ट्रामधून कला-अभिनय-चित्रपट या क्षेत्रामध्ये पद्म श्री पुरस्कार 2019 साठी खालीलपैकी कोणाची निवड करण्यात आली?

A.मनोज वाजपेयी

B.रणबीर कपूर

C.आलिया भट्ट

D.नीना गुप्ता

Answer:

A.मनोज वाजपेयी

- A.शब्दयोगी अव्यय
- B.क्रियाविशेषण अव्यय
- C.केवलप्रयोगी अव्यय
- D.उभयान्वयी अव्यय

Answer: C.केवलप्रयोगी अव्यय

Reference ID:(20003) जगामधील सर्वात मोठ्या घुमटाचे उद्घाटन येथे केले गेले?

- A.पुणे
- B.नाशिक
- C.मुंबई
- D.नागपूर

Answer: A.पुणे

Reference ID:(19770) Choose the correct form of tense for the given sentence:

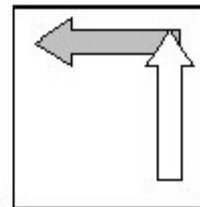
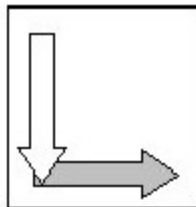
\_\_\_\_\_ denied the degree to his ward for personal reasons; the dean  
\_\_\_\_\_ not want to reveal it to the college.

- A.Having , did
- B.To have, did
- C.Has, would
- D.Did, must

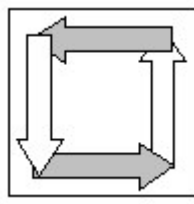
Answer: A.Having , did

Reference ID:(20049)

जर खाली दिलेले दोन चौकोन एकमेकांवर आच्छादित होत असतील, तर खालीलपैकी कोणता  
एक विकल्प तयार होईल?

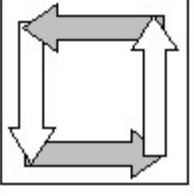
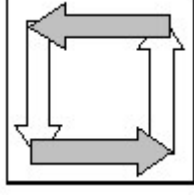
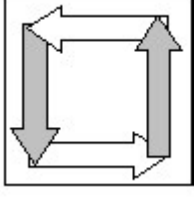


Sabka ek bhaijaan

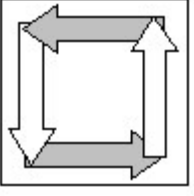


Sabka ek bhaijaan

Sabka ek bhaijaan



Answer:



Sabka ek bhaijaan

Sabka ek bhaijaan

Sabka ek bhaijaan

Reference ID:(20025)

राजीवच्या तीन मुलांच्या सध्याच्या वयाचे गुणोत्तर 5:7:8 आहे. सात वर्षांपूर्वी त्यांच्या वयांची बेरीज 59 होती. त्यांचे वर्तमान वय काढा (वर्षामध्ये)?

A.8, 20, 28

B.16, 28, 36

C.20, 28, 32

D.22, 34, 47

Answer:

C.20, 28, 32

Reference ID:(25019)

X एक काम 40 दिवसांत पूर्ण करतो. तो 8 दिवस काम करतो आणि मग Y हा ते 16 दिवसांत पूर्ण करतो. काम पूर्ण करण्यासाठी त्यांनी किती वेळ लागेल?

$13\frac{1}{3}$  दिवस

$15\frac{1}{3}$  दिवस

$20\frac{1}{3}$  दिवस

Sabka ek bhaijaan

Sabka ek bhaijaan

Sabka ek bhaijaan

Answer:

13  $\frac{1}{3}$  दिवस

Reference ID:(20013)

महाराष्ट्राच्या विधानसभेचे हिवाळी सत्र खालीलपैकी कोणत्या शहरात आयोजित केले जाते?

A.नागपूर

B.पुणे

C.मुंबई

D.अहमदनगर

Answer:

A.नागपूर

Reference ID:(20036)

जर एक व्यक्ती 10 किमी/तास ऐवजी 14 किमी तासाने चालत असेल, तर तो 20 किमी अधिक चालला असेल. त्याच्याद्वारे कापलेले वास्तविक अंतर काय होते?

A.80 किमी

B.70 किमी

C.60 किमी

D.50 किमी

Answer:

D.50 किमी

Reference ID:(20016)

1881 चा कारखाना अधिनियम, भारताच्या खालीलपैकी कोणत्या व्हॉईसरॉयच्या कालावधीदरम्यान प्रस्तावित केला गेला?

A.लॉर्ड केनिंग

B.लॉर्ड रिपन

C.लॉर्ड लॉरेन्स

D.लॉर्ड मायो

Answer:

B.लॉर्ड रिपन

Reference ID:(20005)

महाराष्ट्रामधील चौगले दादू दत्तात्रेय यांनी 2018 चा ध्यान चंद पुरस्कार खालीलपैकी कोणत्या क्षेत्रामध्ये जिंकला?



B.कबड्डी

C.खो-खो

D.कुस्ती

Answer:

D.कुस्ती

Reference ID:(20001)

26 फेब्रुवारी 2019 रोजी 'सर्जिकल स्ट्राईक 2.0' म्हणून ज्ञात पाकिस्तानमधील \_\_\_\_\_ शहरामधील जैश ए मुहंमदच्या सर्वात मोठ्या प्रशिक्षण छावणीला भारताने नष्ट केले.

A.बालाकोट

B.पुलवामा

C.मानसेहरा

D.मुजफ्फराबाद

Answer:

A.बालाकोट

Reference ID:(19793)

गटात न बसणारा पर्याय निवडा.

A.स, ला, ते

B.नो

C.चे, च्या, ची

D.स, ला, ना, ते

Answer:

A.स, ला, ते

Reference ID:(20024)

एका बॉक्समध्ये 8 पांढरे, 7 काळे आणि 6 पिवळे चेंडू आहेत. यादृच्छिकपणे एक चेंडू उचलला. तो पांढरा किंवा पिवळा नसण्याची संभाव्यता काय आहे?

A.8/21

B.21/8

C.1/3

D.21/5

Answer:

C.1/3

The auction\_\_\_\_\_ was shouting at the top of his voice.

A.-er

B.-eer

C.-ist

D.-ite

Answer:

B.-eer

Reference ID:(19548)

Choose the option that has the correct spelling for the missing word in the given sentence:

Mary \_\_\_\_\_ to the problem but did not mention it.

A.aluded

B.eludded

C.alluded

D.illuded

Answer:

C.alluded

Reference ID:(20004)

भारतीय संविधाचा अनुच्छेद 343 (1) कशाशी संबंधित आहे?

A.अधिकृत भाषा म्हणून हिंदी

B.केंद्र आणि राज्यांदरम्यानचे संबंध

C.पंचायती

D.आपत्कालीन तरतुदी

Answer:

A.अधिकृत भाषा म्हणून हिंदी

Reference ID:(19800)

इंटरनेट कनेक्शनशिवाय शहरामधील आसपासच्या लोकांशी वापरकर्त्यांना जोडण्यासाठी लिंकस इन्फ्राटेक या मुंबईमधील कंपनीद्वारे विकसित केलेल्या हायपर-लोकल कनेक्टीव्हीटी ॲपचे नाव सांगा.

A.भोंगा

C.लिक

D.लिकस

Answer:

A.भोगा

Reference ID:(19774)

दिलेल्या शब्दगटातून विरुद्धार्थी शब्द ओळखा.  
ऊन – रखरखीत X \_\_\_\_\_

A.तापते

B.सौम्य

C.भाजणारे

D.पोळणारे

Answer:

B.सौम्य

Reference ID:(19799)

खालीलपैकी कोण महाराष्ट्र ओपन 2019 चे विजेते होते?

A.केविन एन्डर्सन

B.इवो कार्लोविक

C.ल्यूक बॅम्ब्रिज

D.रोहन बोनप्पा

Answer:

A.केविन एन्डर्सन

Reference ID:(19782)

दिलेल्या काळात परिवर्तन करण्यासाठी योग्य पर्याय निवडा.  
परीक्षेत मला पहिला वर्ग मिळाला. (विध्यर्थ)

A.मिळवतो

B.मिळावा

C.मिळवतील

D.मिळवले

Answer:

B.मिळावा

Reference ID:(19787)

पुढील वाक्यातील अधोरेखित अव्ययाचा प्रकार ओळखा.

भारनियमनामुळे विद्युत पुरवठा खंडित होणे ही आजकाल नेहमीचीच बाब झाली आहे.

A.क्रियाविशेषण अव्यय

B.शब्दयोगी अव्यय

C.उभयान्वयी अव्यय

D.केवलप्रयोगी अव्यय

Answer:

A.क्रियाविशेषण अव्यय

Reference ID:(19798)

2019 मध्ये कौशल्य विकासासाठी तरूणाईला मदत करण्यासाठी खालीलपैकी कोणाला सामाजिक उपक्रम नेटवर्क शाश्वतता पुरस्कार देण्यात आला?

A.सोना युक्ति

B.कौशल्य भारत

C.दक्ष

D.स्मार्ट

Answer:

A.सोना युक्ति

Sabka ek bhaijaan

Sabka ek bhaijaan

Sabka ek bhaijaan

Reference ID:(19788)

पुढील नामाला अयोग्य विशेषणाचा पर्याय निवडा.  
पुस्तक

A.फाटके

B.फाटलेले

C.फुटके

D.फाटकांचे

Answer:

C.फुटके

Reference ID:(20020)

ध्वनी आणि प्रकाश ह्यांबद्दल खालीलपैकी कोणते विधान असत्य आहे?

A.ध्वनी आणि प्रकाश हवेमधून जाऊ शकतात

B.ध्वनी आणि प्रकाश पाण्यामधून जाऊ शकतात

C.ध्वनी आणि प्रकाश एखाद्या धातुच्या जाड पत्र्यामधून जाऊ शकतात

D.ध्वनी एका अपारदर्शक वस्तुवरून वाकवला जाऊ शकतो पण प्रकाश नाही

Answer:

C.ध्वनी आणि प्रकाश एखाद्या धातुच्या जाड पत्र्यामधून जाऊ शकतात

Sabka ek bhaijaan

Sabka ek bhaijaan

Reference ID:(19764) Choose the option with the best prepositional phrase to complete the given sentence:

I love spending time \_\_\_\_\_ nature as it's so peaceful there.

A.on the grounds of

B.on the brink of

C.in accordance with

D.in the lap of

Answer: D.in the lap of

Reference ID:(19758) Choose the appropriate articles to complete the given sentence:

Sujana's father is \_\_\_ doctor. He treats all \_\_\_\_\_ types of disease and gives \_\_\_\_\_ proper medicine.

A.a, no article, the

B.an, the, the

C.the, an, a

D.no article, an, the

Answer: A.a, no article, the

Reference ID:(19780) पुढील वाक्य वाचून योग्य वाक्य ओळखा.

A.पृथ्वी सूर्याभोवती फिरतो.

B.पृथ्वी सूर्याभोवती फिरते.

C.पृथ्वी सूर्याभोवती फिरती.

D.पृथ्वी सूर्याभोवती फिरतात.

Answer: B.पृथ्वी सूर्याभोवती फिरते.

Reference ID:(19783) योग्य पर्यायाची निवड करा.  
तुम्ही रोज १० वाजता \_\_\_\_\_

A.येते

C.येता

D.येशील

Answer:

C.येता

Reference ID:(20021)

सायकलच्या ट्यूबमध्ये हवा भरल्यानंतर ती कशामुळे फुगते?

A.हवा दाब प्रयुक्त करते

B.हवेची हालचाल होते

C.ट्यूब ही कडक सामुग्रीने बनलेली आहे

D.हवा दाब प्रयुक्त करत नाही

Answer:

A.हवा दाब प्रयुक्त करते

Reference ID:(19792)

पुढील वाक्यातील विरामचिन्ह ओळखा.

काम झाल्यावर मी निघण्याच्या बेतात होतो; तेवढ्यात मला ताईने हाक मारली.

A.स्वल्पविराम

B.अर्धविराम

C.प्रश्नचिन्ह

D.उद्गारचिन्हा

Answer:

B.अर्धविराम

Fatimah Farooq Travel and Tours Pvt Ltd Office 8, Mezzanine Floor, Asian Business Center, Main Entrance Rawalpindi Bahria 7,44000, +92 51 4917022

(i) Fatimah Farooq Travel and Tours Pvt Ltd Office 8, Mezzanine Floor, Asian Business Center, Main Entrance Rawalpindi Bahria 7,44000, +92 51 4917022

(ii) Fatimah Farooq Travel and Tours Pvt Ltd Office 8, Mezzanine Floor, Asian Business Center, Main Entrance Rawalpindi Bahria 7,44000, +92 51 4917022

(iii) Fatimah Farooq Travel and Tours Pvt Ltd Office 8, Mezzanine Floor, Asian Business Center, Main Entrance Rawalpindi Bahria 7.44000, +92 51 4917022

(iv) Fatimah Farooq Travel and Tours Pvt Ltd Office 8, Mezzanine Floor, Asian Business Center, Main Entrance Rawalpindi Bahria 7,44000, +92 51 4917022

A.i

B.ii

C.iii

D.iv

Answer:

C.iii

Reference ID:(20008)

क्रिकेटमध्ये एक दिवसीय आंतरराष्ट्रीय (ओडीआयज) मध्ये भारतासाठी सर्वाधिक संख्येने शतक कोणी मिळवले?

A.सचिन तेंडुलकर

B.रोहित शर्मा

C.विराट कोहली

D.सौरव गांगुली

Answer:

A.सचिन तेंडुलकर

Reference ID:(20035)

$2^3 \times 3^3 \times 5^3 \times k$  जर पूर्ण वर्ग असेल तर  $k$  ची सगळ्यात कमी किंमत \_\_\_\_\_ असेल.

B.30

C.25

D.15

Answer:

B.30

Reference ID:(19766)

Choose the appropriate conjunction for the given sentence:

He never returned to his constituency \_\_\_\_\_ he won the elections.

A.unless

B.when

C.because

D.after

Answer:

D.after

Reference ID:(19785)

कर्मानुसार क्रियापदाच्या योग्य रूपाची निवड करा.  
कविताने चित्रपट \_\_\_\_\_

A.पहाते

B.पाहिला

C.पाहिली

D.पाहिले

Answer:

B.पाहिला

Reference ID:(19765)

Choose the most suitable conjunction for the given sentence:

\_\_\_\_\_ my father is ill, can you take me on your scooter?

A.Unless

B.Though

C.Besides



Answer: D.Since

Reference ID:(20043) जर मालाची किंमत 25% नी वाढवली तर त्याचा खर्च 15% नी वाढतो, त्या व्यक्तीला 4 किग्रॅ माल कमी मिळतो. मालाचे मूळ प्रमाण काढा (किग्रॅमध्ये).

A.50

B.54

C.45

D.40

Answer: A.50

Reference ID:(19781) योग्य उत्तराचा पर्याय निवडा.  
'आज खूप पाऊस पडला' या वाक्यात \_\_\_\_\_

A.'पाऊस' क्रियापद आहे.

B.'पाऊस' हे उद्देश्य आहे

C.'पाऊस' हे उद्देश्येपूरक आहे

D.'पाऊस' हे विधयविस्तार आहे

Answer: B.'पाऊस' हे उद्देश्य आहे

Reference ID:(19755) Choose the option with the appropriate suffix to complete the given sentence:

Don't trust him. He is quite danger\_\_\_\_\_.

A.-ous

B.-ful

C.-some

D.-less

Answer: A.-ous

Reference ID:(20042) अरुण नऊ दिवसांपूर्वी सिनेमाला गेला. तो फक्त गुरूवारी सिनेमा पाहायला जातो. आज आठवड्याचा कोणता दिवस आहे?

B.रविवार

C.सोमवार

D.मंगळवार

Answer:

A.शनिवार

Reference ID:(19550)

Choose the option that best punctuates and capitalizes the given sentence:

when you go to see your aunt radha in delhi find out if she ever shops at shoppers stop for designer bags

A.When you go to see your aunt Radha, in Delhi find out if she ever shops at shoppers stop for designer bags!

B.When you go to see your Aunt Radha in Delhi, find out if she ever shops at Shoppers Stop for designer bags.

C.When you go to see your Aunt Radha in delhi find out if she ever shops at Shoppers stop for Designer bags.

D.When you go, to see your aunt radha in delhi, find out if she ever shops? At Shoppers stop for designer bags.

Answer:

B.When you go to see your Aunt Radha in Delhi, find out if she ever shops at Shoppers Stop for designer bags.

Reference ID:(20033)

रिकाम्या जागी योग्य संख्या निवडून श्रृंखला पूर्ण करा:  
15, 15, 30, 10, 40, \_\_\_\_\_, 48

A.8

B.20

C.24

D.40

Answer:

A.8

Reference ID:(20022)

जर 'A' = 26, SUN = 27, तर CAT = ?

A.24

B.57

C.58

Answer: B.57

Reference ID:(19753) Fill in the blank with the correct noun for the given sentence:

Which Mediterranean \_\_\_\_\_ are the cleanest?

A.beach

B.beaches

C.beech

D.beeches

Answer: B.beaches

Reference ID:(20006) अलिकडे बॅडमिंटन असोसिएशन ऑफ इंडियाद्वारे येथे योनेक्स-सनराईज इंडिया ओपन 2019 \_\_\_\_\_ मध्ये आयोजित केली गेली होती.

A.पुणे

B.हैदराबाद

C.नवी दिल्ली

D.मुंबई

Answer: C.नवी दिल्ली

Reference ID:(20029) प्रश्न चिन्हाच्या जागी काय यायला हवे?  
BEF, DGH, FIJ, HKL,?

A.MPQ

B.JMN

C.JLM

D.LIM

Answer: B.JMN

A.2

B.1

C.3

D.4

Answer:

B.1

Reference ID:(19762)

Choose the correct form of modal auxiliary verb for the given sentence:

We \_\_\_\_\_ hurry or we'll be late.

A.can

B.might

C.ought to

D.had

Answer:

C.ought to

Reference ID:(19776)

जसा भाजीपाला, कामधंदा तसे रहाट- \_\_\_\_\_

A.आड

B.मोट

C.गाडगे

D.विहीर

Answer:

C.गाडगे

Reference ID:(20009)

एमएचएसआर प्रकल्प गुजरातमधील साबरमती आणि महाराष्ट्रमधील \_\_\_\_\_ दरम्यान 508 किलोमीटर व्याप्त करणार आहे.

A.पुणे

B.नागपूर

D.मनमाड

Answer:

C.मुंबई

Reference ID:(20018)

आठव्या ते दहाव्या दरशकादरम्यान भारतावर कोणी शासन केले?

A.मौर्य राजवंश

B.चोला राजवंश

C.चालुक्य राजवंश

D.राष्ट्रकूट राजवंश

Answer:

D.राष्ट्रकूट राजवंश

Reference ID:(20023)

फासा दोन वेळा फेकल्यास बेरीज 8 मिळण्याची संभाव्यता काय आहे?

A.5/36

B.7/36

C.4/9

D.9/4

Answer:

A.5/36

Reference ID:(19757)

Choose the appropriate articles for the given sentence:

There is \_\_\_\_\_ pile of books on \_\_\_\_\_ center table, in \_\_\_\_\_ library.

A.a, the, the

B.the, an, no article

C.no article, the, an

D.an, a, the

Answer:

A.a, the, the

Reference ID:(20002)

महाराष्ट्रामधील खालीलपैकी कोणते शहर चादरींसाठी प्रसिध्द आहे?

A.नागपूर

C.पुणे

D.मुंबई

Answer:

B.सोलापूर

Reference ID:(20017)

फेब्रुवारी 2019 मध्ये, \_\_\_\_\_ च्या शासनासह पेयजल आणि स्वच्छता मंत्रालयाने स्वच्छ शक्ती-2019 हा कार्यक्रम आयोजित केला होता.

A.हरियाणा

B.मध्यप्रदेश

C.बिहार

D.पश्चिम बंगाल

Answer:

A.हरियाणा

Reference ID:(20039)

सोडवा:  $2418 = (78 \times 30) + ?$

A.  $78 \times 2$ 

B.78

C.  $78 \times 3$ D.  $78 \times 30$ 

Answer:

B.78

Reference ID:(20015)

वयवर्षे 60 पेक्षा जास्त असलेल्या बांधकाम मजूरांसाठी रु. \_\_\_\_\_ निवृत्तीवेतन पुरवण्यासाठी महाराष्ट्र शासनाने श्रमेव जयते योजना सुरू केली.

A.रु. 3000

B.रु. 2500

C.रु. 2000

D.रु. 1000

Answer:

A.रु. 3000

Reference ID:(19795) पुढील वाक्प्रचारांच्या योग्य अर्थाचा पर्याय निवडा.  
द्राविडी प्राणायाम करणे-

- A.साध्या गोष्टीमसाठी अवघड प्रकारे प्रयत्न करणे  
B.व्यायाम करणे  
C.विशिष्ट पद्धतीचे आचरण करणे  
D.एखाद्याची फजिती करणे

Answer: A.साध्या गोष्टीमसाठी अवघड प्रकारे प्रयत्न करणे

Reference ID:(19547) Choose the option that has the correct spelling.

- A.Admirel  
B.Admiral  
C.Admeral  
D.Admirle

Answer: B.Admiral

Reference ID:(20012) भारताच्या संविधानाचे कोणते कलम राज्याच्या राज्यपालाद्वारे अध्यादेश जारी करण्याबाबत हातळणी करते?

- A.कलम 262  
B.कलम 213  
C.कलम 110  
D.कलम 68

Answer: B.कलम 213

Reference ID:(19784) अधोरेखित क्रियापदाचा प्रकार ओळखा.  
हा रुमाल आईला नेऊन दे.

- A.शयक  
B.संयुक्त  
C.शक्य  
D.द्विकर्मक

Answer:

B.into, to

Reference ID:(19763)

Choose the appropriate preposition for the given sentence:

The ball fell \_\_\_\_\_ the pond as Amala missed flinging it \_\_\_\_\_ Shashi.

A.in, at

B.into, to

C.on, after

D.into, for

Answer:

B.into, to

Reference ID:(19797)

भारतीय घटनेच्या कोणत्या कलमाद्वारे जम्मू आणि काश्मीर राज्याला विशेष दर्जा दिला गेला आहे?

A.270

B.275

C.280

D.370

Answer:

D.370

Reference ID:(20030)

21.40 रुपये प्रति किलोग्रॅमने मिश्रणाची विक्री करण्यासाठी, 18.20 रुपये प्रति किलोग्रॅम आणि 23.80 रुपये प्रति किलोग्रॅमच्या तांदळांना किती गुणोत्तरामध्ये मिसळले जावे?

A.3:7

B.3:4

C.2:5

D.4:7

Answer:

B.3:4



Reference ID:(20038)

एक दुकानदार प्रत्येकी 35 रुपये या दराने मार्करची विक्री करतो आणि त्याला 10% कमिशन मिळते. तो प्रत्येकी 65 रुपयांच्या दराने जेल पेनचीही विक्री करतो आणि त्याला 20% नफा मिळतो. जर त्याने दिवसाला 12 मार्कर्स आणि 8 जेल पेन्सची विक्री केली तर 2 आठवड्यांमध्ये त्याला मिळणाऱ्या कमिशनची रक्कम काय असेल (रुपयांमध्ये)?

A.2100

B.1850

C.2044

D.2680

Answer:

C.2044

Reference ID:(20019)

खालीलपैकी कुणाला 2017-2018 वर्षासाठी खेळाडूंच्या श्रेणीमध्ये 'शिव छत्रपती राज्य क्रीडा पुरस्कार' ने सन्मानित करण्यात आले?

A.दिव्या देशमुख

B.स्मृति मंधाना

C.अजिंक्य रहाणे

D.रोहित शर्मा

Answer:

B.स्मृति मंधाना

Reference ID:(19771)

Choose the option that best expresses the meaning of the highlighted idiom/phrase:

The thief **took to his heels** as soon as he saw the police.

A.hurt him self

B.argued with policemen

C.stopped stealing

D.ran away

Answer:

D.ran away

Reference ID:(20040)

A हा B ला 25% नफ्याने वस्तूची विक्री करतो, B हा C ला 10% तोट्याने वस्तूची विक्री करतो आणि C हा D ला त्या वस्तूची 20% नफ्याने विक्री करतो. जर D ने 27 रुपये प्रदान केले असेल, तर A ने ही वस्तू खरेदी करायला किती प्रदान केले असेल?

A.20 रु.

C.12 रु.

D.9 रु.

Answer:

A.20 रु.

Reference ID:(20041)

परीक्षेमध्ये 30% विद्यार्थी विज्ञानामध्ये नापास झाले, 45% विद्यार्थी गणितामध्ये नापास झाले आणि 25% विद्यार्थी दोन्ही विषयांमध्ये नापास झाले. उत्तीर्ण झालेल्या विद्यार्थ्यांची % काढा.

A.60%

B.30%

C.45%

D.50%

Answer:

D.50%

Reference ID:(20027)

सरासरी काढा.  
44, 75, 38, 25, 24 & 58

A.74

B.85

C.55

D.44

Answer:

D.44

Reference ID:(19767)

Choose the most appropriate usage to fill in the blank in the given sentence:

If \_\_\_\_\_ is low, they will cancel the class.

A.enrolling

B.enrollee

C.enrollment

D.enrolled

---

Reference ID:(19754)

Choose the appropriate collective noun to complete the sentence:

During our marine tour, we happened to see \_\_\_\_\_ swimming colourfully in the warm waters.

---

A.a pair of sardines

---

B.a crowd of bass

---

C.a band of seahorses

---

D.a party of rainbow fish

---

Answer:

D.a party of rainbow fish

---

Date of Exam : 20-07-2019 02:30 PM

Reference ID:(14898) सोडवा:  $1234321 = \underline{\quad} \times \underline{\quad}$ 

A.  $1111 \times 1111$

B.  $1001 \times 1001$

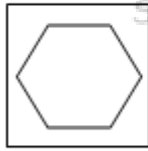
C.  $111 \times 111$

D.  $121 \times 121$

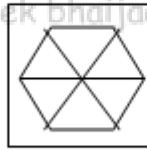
Answer: A.  $1111 \times 1111$ 

Reference ID:(15947)

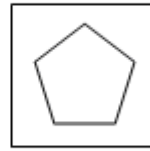
खाली दिलेल्या क्रमामध्ये, पुढे कोणती आकृती येईल?



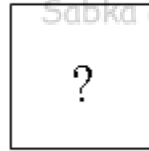
i



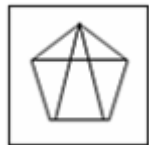
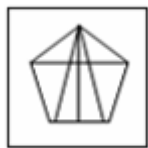
ii



iii



iv





Reference ID:(14889) रिकाम्या जागी योग्य संख्या निवडून श्रृंखला पूर्ण करा:  
4, 5, 8, 27, 104, \_\_\_\_\_

A.208

B.312

C.525

D.436

Answer: C.525

Reference ID:(14621) Choose the appropriate conjunctions for the given sentence:

She is very bright. \_\_\_\_\_ she stands first in all the subjects.

A.But

B.However

C.In fact

D.Otherwise

Answer: C.In fact

Reference ID:(14858) राष्ट्रीय स्वयंसेवक संघाचे (आरएसएस) मुख्यालय खालीलपैकी कुठे स्थित आहे?

A.मुंबई

B.पुणे

C.नागपूर

D.नांदेड

Answer: C.नागपूर

I shall meet you for the match at 7:00 pm sharp, \_\_\_\_\_.

A.by my watch

B.in two minds

C.on demand

D.by force

Answer:

A.by my watch

जर F = 6, MAT = 34, तर CAR किती असेल?

A.21

B.22

C.25

D.28

Answer:

B.22

देवेंद्र फडणवीस हे महाराष्ट्राचे \_\_\_\_\_ मुख्य मंत्री आहेत.

A.15<sup>वे</sup>

B.16<sup>वे</sup>

C.18<sup>वे</sup>

D.19<sup>वे</sup>

Answer:

C.18<sup>वे</sup>

दिलेल्या शब्दगटातून विरुद्धार्थी शब्द ओळखा.  
संपत्ती – विनाशी X \_\_\_\_\_

A.अव्यय

B.अनंत

D.योग्य

Answer:

C.अविनाशी

Reference ID:(14602)

Choose the option that has the correct spelling.

A.Centigrede

B.Centegrade

C.Centigrate

D.Centigrade

Answer:

D.Centigrade

Reference ID:(14606)

Choose the correct form of adjective for the given sentence:

The school children feel \_\_\_\_\_ to return home.

A.happily

B.happy

C.happier

D.happiest

Answer:

B.happy

Reference ID:(14642)

पुढील वाक्यातील अधोरेखित अव्ययाचा प्रकार ओळखा.  
विद्याभ्यासासाठी एक सुंदर रंगमंच आज खुला झाला आहे.

A.शब्दयोगी अव्यय

B.उभयान्वयी अव्यय

C.क्रियाविशेषण अव्यय

D.केवलप्रयोगी अव्यय

Answer:

C.क्रियाविशेषण अव्यय

Reference ID:(14879)

तीन पूर्वग्रहरहित नाणी उधळली गेली. दोन काटे मिळण्याची संभाव्यता काय आहे?

B.7/8

C.3/8

D.8/3

Answer:

B.7/8

Reference ID:(14626)

Choose the option that best expresses the meaning of the highlighted idiom/phrase:

The old lady **gave** the children **an earful** for nearly knocking her over.

A.listened

B.heard

C.spoke harshly

D.lamented

Answer:

C.spoke harshly

Reference ID:(14870)

जानेवारी 2019 मध्ये, सीआयआय भागीदारी परिषद \_\_\_\_\_ येथे आयोजित केली गेली होती.

A.चेन्नई

B.अमरावती

C.बोकारो

D.मुंबई

Answer:

D.मुंबई

Reference ID:(14614)

Choose the correct form of verb for the given sentence:

What seemed to be insurmountable obstacles a while ago, now \_\_\_\_\_ to be stepping stones.

A.seem

B.seems

C.seemed

D.seemingly



Reference ID:(14894) 12,18,21 आणि 28 या प्रत्येक संख्येने विभाज्य असेल अशी 4 अंकी सर्वात मोठी संख्या:

A.9828

B.9288

C.9882

D.9888

Answer:

A.9828

Reference ID:(14622) Choose the most appropriate usage to fill in the blank in the given sentence:

A small business must stay \_\_\_\_\_ in order to succeed.

A.competition

B.competitor

C.compete

Sabka ek bhaijaan D.competitive Sabka ek bhaijaan

Sabka ek bhaijaan

Answer:

D.competitive

Reference ID:(14636)

रिकाम्या जागी योग्य शब्द निवडून कोष्टक पूर्ण करा.

'विद्यार्थ्यांनी शिक्षकांचे लक्षपूर्वक ऐकावे,' या वाक्यातील 'लक्षपूर्वक' हा शब्द काय आहे?

A.उद्देश्य

B.विधेय

C.विधेयविस्तार

D.उद्देश्यविस्तार

Answer:

C.विधेयविस्तार

Reference ID:(14854)

खालीलपैकी कोणत्या राज्याने खेलो इंडिया युथ गेम्स 2019 आयोजित केल्या होत्या?

B.गुजरात

C.मध्य प्रदेश

D.राजस्थान

Answer:

A.महाराष्ट्र

Reference ID:(14890)

एका कार्यालयामध्ये 40% महिला कर्मचारी आहेत. पुरुष कर्मचाऱ्यांपैकी 50% कर्मचारी पूर्व स्नातक आहेत. 1800 कर्मचाऱ्यांमपैकी एकूण 52% कर्मचारी पूर्व स्नातक आहेत. पूर्व स्नातक असलेल्या महिला कर्मचाऱ्यांची संख्या काय आहे?

A.362

B.412

C.396

D.428

Answer:

C.396

Reference ID:(14886)

17 जून 1998 रोजी आठवड्याचा कोणता दिवस होता?

A.बुधवार

B.गुरूवार

C.शुक्रवार

D.शनिवार

Answer:

A.बुधवार

Reference ID:(14851)

पुढील वाक्यात पर्यायातील अचूक वाक्प्रचार निवडा.  
रत्नाची पाण्याची भीती गेल्यामुळे आता ती विहिरीतच काय पण समुद्रातही पोहू शकते.

A.पालथ्या घड्यावर पाणी पडणे

B.खस्ता खाणे

C.हाडाची काडे करणे

D.भीड चेपणे

Answer:

D.भीड चेपणे

A.22, 28, 35

B.18, 22, 32

C.20, 32, 44

D.19, 23, 29

Answer:

C.20, 32, 44

Reference ID:(14634)

पुढील वाक्याचा प्रकार ओळखा.  
शिक्षकांनी हाक मारली आणि सर्व मुले जमा झाली.

A.प्रश्नार्थी

B.मिश्र वाक्य

C.संयुक्त वाक्य

D.केवल वाक्य

Answer:

C.संयुक्त वाक्य

Reference ID:(14630)

रिकाम्या जागी योग्य जोडशब्द लिहा.  
शिवकालीन किल्ला \_\_\_\_\_ झाला होता.

A.वेडावाकडा

B.मोडकातोडका

C.फाटकातुटका

D.थातुरमातुर

Answer:

B.मोडकातोडका

Reference ID:(14620)

Choose the most suitable conjunction for the given sentence:

\_\_\_\_\_ my sister has blue eyes, mine are black.

A.As

B.While

C.Because

D.Since

Reference ID:(14632) पुढील शब्दाचे लिंग ओळखा.  
भात

A.पुल्लिंग

B.स्त्रीलिंग

C.नपुसकलिंग

D.उभयलिंग

Answer:

D.उभयलिंग

Reference ID:(14628) दिलेल्या पर्यायांपैकी योग्य विरुद्धार्थी पर्याय शोधा.  
कर्मठ -

A.अधोगामी

B.प्रतिगामी

C.पुरोगामी

D.अनुगामी

Answer:

C.पुरोगामी

Reference ID:(14650) पुढील वाक्प्रचारांच्या योग्य अर्थाचा पर्याय निवडा.  
बांगडी फुटणे-

A.वैभाव नाहीसे होणे

B.वैधव्य प्राप्त होणे

C.काचेचे सामान फुटणे

D.मरण पावणे

Answer:

B.वैधव्य प्राप्त होणे

Reference ID:(14868) महाराष्ट्रामध्ये खालीलपैकी कोणत्या वर्षी सध्याच्या 13 व्या विधानसभेची स्थापना करण्यात आली होती?

A.2013

B.2014

D.2016

Answer:

B.2014

Reference ID:(14875)

आपल्या सौरमालिकेतील सगळ्यात लहान ग्रह आहे:

A.प्लुटो

B.शुक्र

C.बुध

D.मंगळ

Answer:

C.बुध

Reference ID:(14613)

Choose the appropriate articles to complete the given sentence:

My best buddy got \_\_\_\_\_ job in \_\_\_\_\_ MNC which was launched recently in \_\_\_\_\_ outskirts of Mumbai.

A.the, the, the Sabka ek bhaijaan

B.no article, the, a

C.a, an, the

D.an, a, the

Answer:

C.a, an, the

Reference ID:(14648)

गटात न बसणारा पर्याय निवडा.

A.प्रथमा

B.द्वितीया

C.तृतीया

D.तृतीयपुरुष

Answer:

D.तृतीयपुरुष

Reference ID:(14882)

सरासरी काढा.  
66, 80, 77, 99, 88 & 100

B.99

C.85

D.100

Answer:

C.85

Reference ID:(14625)

Choose the correct form of tense for the given sentence:

\_\_\_\_\_ received the Padma Bhushan award from the President, he \_\_\_\_\_ not want to underplay it.

A.To have, did

B.Having , did

C.He, would

D.Having, must

Answer:

B.Having , did

Reference ID:(14892)

स्वतःच्या सामान्य वेगाच्या 6/7 वेगाने चालून, एक व्यक्ती 12 मिनिटे उशीरा पोहचतो. ते अंतर कापण्यासाठी सामान्यतः त्याला किती वेळ लागत असेल?

A.1 तास 42 मिनिटे

B.1 तास

C.2 तास

D.1 तास 12 मिनिटे

Answer:

D.1 तास 12 मिनिटे

Reference ID:(14855)

26 मार्च 2019 रोजी, मुंबईमधील खालीलपैकी कोणते कार्यकर्ते वयाच्या 84 व्या वर्षी निधन पावले?

A.किर्ती भारती

B.एच. एस. डीलिमा

C.अशोक राव कवी

D.सुनिता कृष्णन

Answer:

B.एच. एस. डीलिमा

Reference ID:(14867) भारतीय संविधानातील कलम 213 अन्वये, राज्यात अध्यादेश जाहिर करण्याचा अधिकार खालीलपैकी कोणाकडे आहे?

- A.मुख्यमंत्री
- B.मुख्य सचिवालय
- C.उच्चन्यायालयाचे न्यायाधीश
- D.राज्यपाल

Answer: D.राज्यपाल

Reference ID:(14861) नवीनतम पीएसए (प्रोफेशनल स्कॅश असोसिएशन) जागतिक श्रेणीकरणामध्ये अग्रणी 10 मध्ये स्थान मिळवणारे पहिले भारतीय पुरूष स्कॅश खेळाडू हे आहेत:

- A.सौरव घोषाल
- B.ज्योशना चिनप्पा
- C.के. डी. जाधव
- D.रणजीत सेठ

Answer: A.सौरव घोषाल

Reference ID:(14616) Which of the following options best combines the two given sentences?

The doctor arrived late. He could not save the patient.

- A.The doctor arrived late, but the patient could not be saved.
- B.Although the doctor arrived late, he could not save the patient.
- C.As the doctor arrived late, he could not save the patient.
- D.Although the patient could not be saved, the doctor arrived late.

Answer: C.As the doctor arrived late, he could not save the patient.

Reference ID:(14645) अनेकवचनांचे एक वचन करा.  
जगातल्या अनेक देशांमध्ये लोककथा वेगळ्या ढंगांनी सांगितल्या जातात.

- A.जगातल्या एका देशामध्ये लोककथा वेगळ्या ढंगाने सांगितली जाते.
- B.जगातल्या एका देशांमध्ये लोककथा वेगळ्या ढंगांनी सांगितल्या जातात.
- C.जगातल्या अनेक देशांमध्ये लोककथा वेगळ्या ढंगाने सांगितल्या जातात.

Answer: A.जगातल्या एका देशामध्ये लोककथा वेगळ्या ढंगाने सांगितली जाते.

Reference ID:(14615) Choose the most suitable determiner for the given sentence:

Can I have \_\_\_\_\_ cup of coffee, please?

A.other

B.others

C.another

D.little

Answer: C.another

Reference ID:(14900) गेल्या वर्षी शाळामध्ये 610 विद्यार्थी होते. ही संख्या या वर्षी 20% नी कमी झाली. या वर्षी शाळामधील मुलींची संख्या ही मुलांच्या एकूण संख्येच्या 175 टक्के असेल तर शाळामध्ये किती मुली आहेत.

A.854

B.848

C.798

D.782

Answer: A.854

Reference ID:(14887) खाली दिलेल्या श्रृंखलेमध्ये अंकांचा एक विशिष्ट क्रम दिलेला आहे. त्यानुसार चुकीचा क्रम ओळखा:

17, 20, 46, 147, 599, 3015, 18018

A.20

B.46

C.599

D.147

Answer: C.599



A. लव्हलीना बोरगोहेन

B. पिंकी जांगरा

C. निखत जरीन

D. मेरी कॉम

Answer:

D. मेरी कॉम

Reference ID:(14866)

भारतीय संविधानाचे कलम 368, संविधानात किती प्रकारच्या दुरुस्त्या प्रदान करते?

A. एक

B. पाच

C. सात

D. दोन

Answer:

D. दोन

Reference ID:(14857)

महाराष्ट्र प्रशासकिय न्यायासनाचे न्यायालय हे खालीलपैकी कोणत्या एका शहरामध्ये नाही?

A. मुंबई

B. नागपूर

C. औरंगाबाद

D. पुणे

Answer:

D. पुणे

Reference ID:(14869)

गृहनिर्माण आणि शहरी व्यवहार मंत्रालय (एमओएचयुए) अणि मायक्रोसॉफ्ट दरम्यान स्वच्छ भारत मिशन (एसबीएम) ला गती देण्यासाठी कोणता प्रकल्प विकसित करण्यात आला?

A. संगम

B. स्वच्छ

C. शक्ती

D. समृद्धी

Answer:

A. संगम

Reference ID:(14862) पंत प्रधानांनी नागपूर मेट्रोचे \_\_\_\_\_ मध्ये उद्घाटन केले होते.

A.मे 2018

B.मार्च 2019

C.जानेवारी 2019

D.जुलै 2019

Answer:

B.मार्च 2019

Reference ID:(14605) Choose the appropriate option with the correct punctuation marks for the given sentence:

can you raise the toast to the bridal couple i inquired

A.“Can you raise the toast, to the bridal couple,” I inquired.

B.“Can you raise the toast to the bridal couple?” I inquired.

C.“Can you raise the toast to the bridal couple I inquired.”

D.“Can you raise the toast to the bridal couple I inquired?”

Answer:

B.“Can you raise the toast to the bridal couple?” I inquired.

Reference ID:(14617) Choose the correct form of modal auxiliary verb for the given sentence:

Please \_\_\_\_\_ make photocopies of copyrighted material without the permission of the publisher.

A.mustn't

B.don't

C.shouldn't

D.needn't

Answer:

B.don't

A.बुद्धीबळाचा

B.रंग

C.तर

D.पट

Answer:

A.बुद्धीबळाचा

Reference ID:(14604)

Choose the appropriate option with the correct punctuation marks for the given sentence:

although he was tired he completed the work on time

A.Although, he was tired, he completed the work on time?

B.Although he, was tired, he completed the work on time.

C.Although he was tired, he, completed the work, on time

D.Although he was tired, he completed the work on time.

Sabka ek bhaijaan

Answer:

D.Although he was tired, he completed the work on time.

Sabka ek bhaijaan

Reference ID:(14893)

एक व्यक्ती 5 किमी/तासांच्या दराने चालून एक पूल 15 मिनिटंमध्ये ओलांडतो. पूलाची लांबी काय आहे (मीटरमध्ये)?

A.1250

B.1280

C.1320

D.1340

Answer:

A.1250

Reference ID:(14880)

रहिम 25 वर्षांचा आणि रितेश 35 वर्षांचा आहे. किती वर्षांपूर्वी त्यांच्या वयांचे गुणोत्तर 3:5 होते?

A.10 वर्षे

B.5 वर्षे

C.20 वर्षे

Answer: A.10 वर्षे

Reference ID:(14852) भारतीय घटनेचा मसुदा तयार करण्यासाठी संविधान विधानसभा स्थापित करणारे मसुदा समितीचे अध्यक्ष कोण होते?

A.डॉ. एस. राधाकृष्णन

B.डॉ. राजेंद्र प्रसाद

C.डॉ. बी.आर. आंबेडकर

D.जवाहरलाल नेहरु

Answer: C.डॉ. बी.आर. आंबेडकर

Reference ID:(14607) Choose the correct form of adjective for the given sentence:

Amit is guided by his intellect and not his emotions. He is \_\_\_\_\_.

A.clever

B.rational

C.brilliant

D.cunning

Answer: B.rational

Reference ID:(14638) योग्य पर्यायाची निवड करा.  
तू बरोबर \_\_\_\_\_

A.बोलतात

B.बोलतेस

C.बोलणारा

D.बोलणे

Answer: B.बोलतेस

Reference ID:(14863) भारत-ऑस्ट्रेलियाच्या संयुक्त कार्यकारी गटाची 11 वी प्रति-दहशतवाद सभा \_\_\_\_\_ येथे आयोजित केली होती.

B.सिडनी

C.नोएडा

D.कॅनबेरा

Answer:

D.कॅनबेरा

Reference ID:(14859)

खालीलपैकी कोणाला विस्डनद्वारे 2018 या वर्षामधील जगातील सर्वात अग्रणी महिला क्रिकेटपटू म्हणून घोषित केले गेले?

A.मिथाली राज

B.स्मृती मंधाना

C.हरमनप्रीत कौर

D.वेद कृष्णमूर्ती

Answer:

B.स्मृती मंधाना

Reference ID:(14888)

रिकाम्या जागी योग्य संख्या निवडून श्रृंखला पूर्ण करा:  
4, 8, 24, 96, \_\_\_\_\_, 2880

A.590

B.1072

C.250

D.480

Answer:

D.480

OFFICE # 04, ALI PLAZA,  
NEAR HABIB BANK (HBL),  
10 Markaz I-10, Capital Territory 44000,  
+92 51 4430622

(i) OFFICE # 04, ALI PLAZA,  
NEAR HABIB BANK (HBL),  
10 Markaz I-10, Capital Territory 44000,  
+92 51 4430622

(ii) OFFICE # 04, ALI PLAZA,  
NEAR HABIB BANK (HBL),  
10 Markaz I-10, Capital Territory 44000,  
+92 51 4430622

(iii) OFFICE # 04, ALI PLAZA,  
NEAR HABIB BANK (HBL),  
10 Markaz I-10, Capital Territory 44000,  
+92 51 4480622

(iv) OFFICE # 04, ALI PLAZA,  
NEAR HABIB BANK (HBL),  
10 Markaz I-10, Capital Territory 44000,  
+92 51 4430622

---

A.i

---

B.ii

---

C.iii

---

D.iv

Answer:

C.iii

---

Reference ID:(14608)

Fill in the blank with the correct form of the noun for the given sentence:

Molly takes part in a lot of extracurricular \_\_\_\_\_.

---

A.activity

---

B.activity's

---

C.activities'

---

D.activities

Answer:

D.activities

This event is inevitably going to \_\_\_\_\_ the elections.

A.affect

B.effect

C.afect

D.afact

Answer:

A.affect

Reference ID:(14623)

Choose the correct form of verb that is in agreement with the subject:

He lay on his bed, while \_\_\_\_\_ the rain through the windowpane.

A.watching

B.watch

C.watched

D.is watching

Answer:

A.watching

Reference ID:(14631)

खालीलपैकी प्रत्येक प्रश्नातील रिकाम्या जागी योग्य शब्द भरून जोडशब्द पूर्ण करा.  
जसे पिवळाधमक, हिरवागार तसे निळे- -----

A.शुभ्र

B.भडक

C.काळे

D.शार

Answer:

D.शार

Reference ID:(14639)

अधोरेखित क्रियापदाचा प्रकार ओळखा.  
आजोबांनी नातवाला कथा सांगितली.

A.द्विकर्मक

B.सकर्मक

C.अकर्मक

Answer: A.द्विकर्मक

Reference ID:(14649) पर्वताएवढे' या शब्दात किती जोडाक्षरे आहेत?

A.1

B.2

C.3

D.4

Answer: A.1

Reference ID:(14878) दोन फासे फेकले गेले. एकूण गुण विषम संख्या असण्याची संभाव्यता काय आहे?

A.1/3

B.5/12

C.7/12

D.12/7

Answer: B.5/12

Reference ID:(14897) A एक काम 24 दिवसांत पूर्ण करतो, B तेच काम 9 दिवसांत आणि C ते काम 12 दिवसांत पूर्ण करतो. B आणि C काम सुरू करतात पण 3 दिवसांनी त्यांना काम सोडून द्यावे लागते. A शिल्लक राहिलेले काम किती दिवसांत पूर्ण करेल:

A.5 दिवस

B.6 दिवस

C.10 दिवस

D.12 दिवस

Answer: C.10 दिवस

Reference ID:(14876) जेव्हा भूकंप होतो तेव्हा सगळ्यात सुरक्षित खालीलपैकी कोणती जागा असते:

A.घराच्या आत

B.गाडीच्या आत



D.मोठ्या झाडाखाली

Answer:

C.मोकळ्या मैदानावर

Reference ID:(14899)

खाली दिलेल्या श्रृंखलेमध्ये अंकांचा एक विशिष्ट क्रम दिलेला आहे. त्यानुसार चुकीचा क्रम ओळखा:

1, 8, 66, 460, 2758, 13785, 55146

A.460

B.2758

C.66

D.13785

Answer:

A.460

Reference ID:(14873)

खालीलपैकी कुणाला मराठी साहित्यासाठी पहिला ज्ञानपीठ पुरस्कार मिळाला?

A.विष्णू खांडेकर

B.विजय सारंथ

C.विजय तेंडूलकर

D.वसंत कानेटकर

Answer:

A.विष्णू खांडेकर

Reference ID:(14874)

शिख अधिकाराच्या महत्वाच्या पंच तख्तांपैकी एक- तख्त सचखंड श्री हुजुर साहिब हे महाराष्ट्राच्या खालीलपैकी कोणत्या शहरामध्ये स्थित आहे?

A.नाशिक

B.नांदेड

C.नागपूर

D.पुणे

Answer:

B.नांदेड

Have you applied for any scholar\_\_\_\_\_ so far?

A.-hood

B.-ous

C.-ship

D.-some

Answer:

C.-ship

Reference ID:(14646)

पुढील वाक्यांमध्ये योग्य ते अव्यय घाला.  
सारी सोंगे करता येतात \_\_\_\_\_ पैशाचे सोंग आणता येत नाही.

A.पण

B.कारण

C.म्हणून

D.सबब

Sab Answer: bhaijaan

A.पण

Sabka ek bhaijaan

Sabka ek bhaijaan

Reference ID:(14612)

Choose the appropriate articles for the given sentence:

My brother lives at \_\_\_\_\_ hotel in \_\_\_\_\_ metro city to complete his coaching in \_\_\_\_\_ summer.

A.no article required, the, a

B.a, the, the

C.the, a, no article required

D.the, a, the

Answer:

B.a, the, the

Reference ID:(14618)

Choose the appropriate preposition for the given sentence:

Granny is arriving \_\_\_\_\_ 10.30 p.m. \_\_\_\_\_ the Dehradun Shatabdi.

A.by, at

Sabka ek bhaijaan

B.at, by

Sabka ek bhaijaan

Sabka ek bhaijaan

D.at, in

Answer:

B.at, by

Reference ID:(14627)

'ओटी भरणे' यातील ओटी या शब्दाचा अर्थ-

A.पदर

B.पोट

C.सोपा

D.ओसरी

Answer:

A.पदर

Reference ID:(14633)

पुढील वाक्याचे नकारार्थी वाक्य करा.  
मुलाच्या शिक्षणासाठी त्या माऊलीने काय करायचे बाकी ठेवले?

A.मुलाच्या शिक्षणासाठी त्या माऊलीने काही गोष्टी केल्या नाहीत.

B.मुलाच्या शिक्षणासाठी त्या माऊलीने सर्व काही केले.

C.मुलाच्या शिक्षणासाठी त्या माऊलीने काही करायचे बाकी ठेवले नाही.

D.मुलाच्या शिक्षणासाठी त्या माऊलीने काहीच केले नाही.

Answer:

C.मुलाच्या शिक्षणासाठी त्या माऊलीने काही करायचे बाकी ठेवले नाही.

Reference ID:(14865)

नाशिकमध्ये आयोजित केलेली वार्षिक अस्त्र कवायत \_\_\_\_\_ होता.

A.टोपची अभ्यास

B.किरण अभ्यास

C.टार्गेट अभ्यास

D.धनुष अभ्यास

Answer:

A.टोपची अभ्यास

A.उद्गारचिन्ह

B.अपूर्णविराम

C.अर्धविराम

D.प्रश्नचिन्ह

Answer:

C.अर्धविराम

Reference ID:(14860)

महाराष्ट्रामधील श्री. रविंद्र कोल्हे आणि सौ. स्मिता कोल्हे या दोघांना 2019 मध्ये खालीलपैकी कोणत्या क्षेत्रामध्ये पद्म श्री पुरस्कार देण्यात आला?

A.चिकित्सा- परवडणारी निगा

B.सामाजिक कार्य-प्राणी कल्याण

C.साहित्य-पत्रकारिता

D.योगा

Answer:

A.चिकित्सा- परवडणारी निगा

Reference ID:(14871)

1878 मध्ये देशी प्रेस अधिनियम पारित केला तेव्हा भारताचा व्हाईसरॉय कोण होता?

A.लॉर्ड रिपन

B.लॉर्ड कर्जन

C.लॉर्ड लिनलिथगो

D.लॉर्ड लिटन

Answer:

D.लॉर्ड लिटन

Reference ID:(14624)

Out of the following options, identify a compound sentence.

A.He was having a bad tooth ache so he had to go to the doctor.

B.He was suffering from this pain for a week.

C.Despite this pain he was continuing with his work.

D.But now he could bear it no longer.

Answer:

A.He was having a bad tooth ache so he had to go to the doctor.

Reference ID:(14885) खालील प्रश्न हे खाली दिलेल्या पाच तीन अंकी संख्यांवर आधारित आहे:  
466 357 522 847 345  
जर प्रत्येक संख्येच्या शेवटच्या अंकामधून 1 वजा केला तर अशाप्रकारे तयार होणाऱ्या किती संख्या दोनने विभाज्य असतील?

A. एक

B. चार

C. दोन

D. तीन

Answer: D. तीन

Reference ID:(14635) पुढील वाक्य वाचून योग्य वाक्य ओळखा.

A. अंगणात मोगऱ्याच्या कळ्या उमलल्या.

B. अंगणात मोगऱ्याची कळ्या उमलल्या.

C. अंगणात मोगऱ्याचे कळ्या उमलले.

D. अंगणात मोगऱ्याची कळी उमलला.

Answer: A. अंगणात मोगऱ्याच्या कळ्या उमलल्या.

Reference ID:(14640) कर्मानुसार क्रियापदाच्या योग्य रूपाची निवड करा.  
दिग्दर्शकाने नाटक \_\_\_\_\_

A. बसविला

B. बसविली

C. बसविले

D. बसवतो

Answer: C. बसविले

Reference ID:(14884) एका विशिष्ट सांकेतिक भाषेमध्ये,  $4v/3x/1t/$  म्हणजे animals in zoos,  $8y/7d/4v/$  म्हणजे wild animals kill, आणि  $9a/2f/7d/$  म्हणजे kill the beast. तर त्या सांकेतिक भाषेमध्ये wild शब्दासाठी कोणती संख्या असेल?

A./8y

B.8

D.8y/

Answer:

D.8y/

Reference ID:(14609)

Choose the appropriate collective noun to complete the sentence:

I have a huge \_\_\_\_\_ of friends in my home town.

A.troop

B.collection

C.circle

D.crew

Answer:

C.circle

Reference ID:(14891)

परीक्षेमध्ये 70% उमेदवार प्रिलिम्समध्ये उत्तीर्ण झाले आणि 55% उमेदवार मेन्समध्ये उत्तीर्ण झाले. जर 62% उमेदवार दोन्ही विषयांमध्ये उत्तीर्ण झाले असतील, तर दोन्ही परीक्षांमध्ये किती टक्के उमेदवार नापास झाले.

A.37%

B.26%

C.43%

D.15%

Answer:

A.37%

Reference ID:(14853)

आहिल्या बाई या खालीलपैकी कोणत्या कुटुंबाशी संबंधित होत्या:

A.होळकर

B.गायकवाड

C.सिंधीया

D.भोसले

Answer:

A.होळकर

Reference ID:(14611) Choose the option with the appropriate suffix to complete the given sentence:

The children played in the glori\_\_\_\_\_ sunshine.

A.-fied

B.-fy

C.-ous

D.-fication

Answer: C.-ous

Reference ID:(14895) एका रुपयाला 12 गोढ्या विकून, दुकानदाराला 20% तोटा होतो. व्यवहारामध्ये 20% नफा मिळवण्यासाठी, त्याने रुपयांना किती गोढ्यांच्या दराने विक्री करावी?

A.14

B.8

C.11

D.9

Answer: B.8

Reference ID:(14637) दिलेल्या काळात परिवर्तन करण्यासाठी योग्य पर्याय निवडा.  
आई मुलावर रागवली. (रीति वर्तमानकाळ)

A.रागवत असे

B.रागवत होती

C.रागवत असते

D.रागवत जाईल

Answer: C.रागवत असते

Reference ID:(14641) पुढील वाक्यातील अव्ययाचा प्रकार ओळखा.  
'अबबा! केवढा प्रचंड पुतळा उभा केलेला आहे इथे!'

A.शब्दयोगी अव्यय

B.केवलप्रयोगी अव्यय

D.क्रियाविशेषण अव्यय

Answer:

B.केवलप्रयोगी अव्यय

Reference ID:(14896)

एकटा A एक काम 6 दिवसांमध्ये आणि एकटा B ते काम 8 दिवसांमध्ये पूर्ण करतो. A आणि B यांनी ते काम 3200 रुपयांमध्ये करण्याचे ठरवले. C च्या मदतीने, त्यांनी 3 दिवसांत काम पूर्ण केले. C ला किती प्रदान केले जावे?

A.रु. 375

B.रु. 400

C.रु. 600

D.रु. 800

Answer:

B.रु. 400

Reference ID:(14643)

पुढील नामाला अयोग्य विशेषणाचा पर्याय निवडा.  
बाटली

A.पाण्याची

B.काचेची

C.उभी

D.आनंदी

Answer:

D.आनंदी

Reference ID:(14872)

किती लोकांना भूकंपाचा अनुभव आला, किती विध्वंस झाला इ. सारख्या नंतरच्या परिणामांचे विश्लेषण करून त्याद्वारे भूकंपाची तीव्रता कोणती श्रेणी सादर करते?

A.मर्कलीची श्रेणी

B.रिचरची श्रेणी

C.क्षणाचा आवाका

D.भूकंपीय आवाका

Answer:

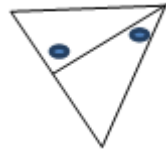
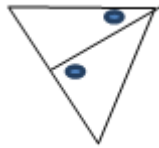
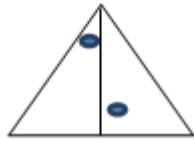
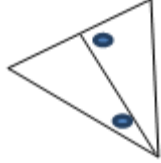
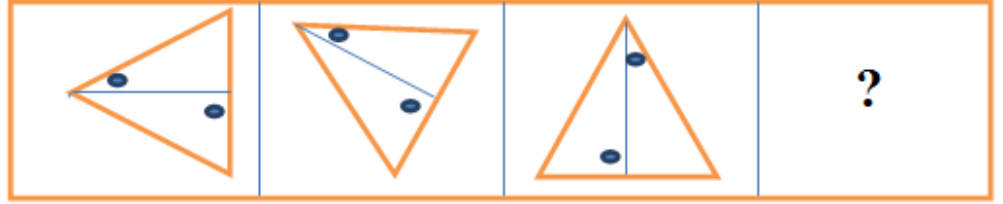
A.मर्कलीची श्रेणी



Date of Exam : 21-07-2019 10:00 AM

Reference ID:(15948)

खाली दिलेल्या क्रमामध्ये, पुढे कोणती आकृती येईल?

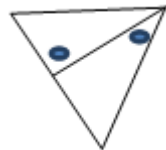


Sabka ek bhaijaan

Sabka ek bhaijaan

Sabka ek bhaijaan

Answer:



Reference ID:(15397)

4 एप्रिल 1988 रोजी सोमवार होता. 3 नोव्हेंबर 1987 रोजी कोणता दिवस असेल?

A. मंगळवार

B. बुधवार

C. गुरुवार

D. शुक्रवार

Answer:

A. मंगळवार

Reference ID:(15380)

वडीलांचे वय हे त्याच्या मुलाच्या वयाच्या दुप्पट आहे. 20 वर्षांपूर्वी वडीलांचे वय हे त्यांच्या मुलाच्या वयाच्या 12 पट होते. वडीलांचे वर्तमान वय (वर्षामध्ये) आहे:

A.44

B.40

C.42

D.38

Answer:

A.44

Reference ID:(15122)

Choose the correct form of verb that is in agreement with the subject:

I hope you \_\_\_\_\_ your work before leaving for the day.

A.completed

B.is completing

C.will complete

D.was completing

Answer:

C.will complete

Reference ID:(15103)

Choose the appropriate option with the correct punctuation marks for the given sentence:

robin the secretary prepared the minutes

A.Robin, the secretary, prepared the minutes?

B.Robin, the secretary, prepared the minutes.

C.Robin; the secretary prepared the minutes

D.Robin, the, secretary prepared, the minutes.

Answer:

B.Robin, the secretary, prepared the minutes.

Reference ID:(15101)

Choose the option that has the correct spelling.

A.Ignorence

B.Ignnorance

C.Ignorance

Answer: D.Ignorance

Reference ID:(15119) Choose the most suitable conjunction for the given sentence:

They got married \_\_\_\_\_ left for Dubai the next day.

A.since

B.and

C.because

D.or

Answer: B.and

Reference ID:(15118) Choose the option with the best prepositional phrase to complete the given sentence:

I shall always stay by your side \_\_\_\_\_ and be true to you.

A.at a price

B.at a low ebb

C.at any cost

D.at the mercy of

Answer: C.at any cost

Reference ID:(15363) मुंबईच्या दलाल स्ट्रीटमध्ये खालीलपैकी कोणाचे कार्यालय आहे?

A.राष्ट्रीय स्टॉक एक्सचेंज

B.बॉम्बे स्टॉक एक्सचेंज

C.जागतिक बँक

D.आशियायी विकास बँक

Answer: B.बॉम्बे स्टॉक एक्सचेंज

Reference ID:(15148) भ्रष्टाचाऱ्यांच्या ' या शब्दात किती जोडाक्षरे आहेत?

B.3

C.4

D.2

Answer:

C.4

Reference ID:(15366)

अनुच्छेद \_\_\_\_\_ मध्ये राज्याच्या राज्यपाल द्वारे शपथ किंवा प्रतिज्ञा कथन संबंधित तरतुदींचा समावेश केला आहे.

A.161

B.241

C.159

D.281

Answer:

C.159

Reference ID:(15112)

Choose the appropriate articles to complete the given sentence:

The students have reached \_\_\_\_\_ top of \_\_\_\_\_ mountain during \_\_\_\_\_ afternoon.

A.no article required, the, a

B.the, the, the

C.the, a, no article required

D.the, a, the

Answer:

B.the, the, the

Reference ID:(15128)

दिलेल्या शब्दगटातून विरुद्धार्थी शब्द ओळखा.  
रेषा – सरळ X -----

A.तिरसट

B.वक्र

C.रुंद

D.लांब

Answer:

B.वक्र

Reference ID:(15365) खालीलपैकी कोणत्या कलम मध्ये 'संवैधानिक उपायांचा अधिकार' संबंधित तरतुदींचा समावेश आहे?

A.कलम 21

B.कलम 32

C.कलम 7

D.कलम 55

Answer: B.कलम 32

Reference ID:(15352) बॅरेन बेट कुठे स्थित आहे?

A.अंदमान आणि निकोबार बेटे

B.लक्षद्वीप

C.माल्टा खाडी

D.पाल्क सामुद्रधुनी

Answer: A.अंदमान आणि निकोबार बेटे

Reference ID:(15144) अनेकवचनांचे एक वचन करा.  
बोटी बुडाल्याक व त्यांच्यातील माणसे पाण्यात बुडून मेली.

A.बोटी बुडली व तिच्यातील माणूस पाण्यात बुडून मेली.

B.बोट बुडाली व तिच्यातील माणूस पाण्यात बुडून मेली.

C.बोट बुडाल्या व त्यातील माणसे पाण्यात बुडून मेली.

D.बोट बुडाली व त्यातील माणूस पाण्यात बुडून मेली.

Answer: B.बोट बुडाली व तिच्यातील माणूस पाण्यात बुडून मेली.

Reference ID:(15147) पंचमी विभक्तीलचे प्रत्यय कोणते?

A.ऊन, हून

C.स, ला, ते

D.नो

Answer:

A.ऊन, हून

Reference ID:(15392)

दोन संख्यांची बेरीज 216 आहे आणि त्यांचा म.सा.वी. 27 आहे. त्या संख्या या आहेत:

A.27189

B.108, 108

C.200,16

D.156, 60

Answer:

\*\*\*\* THIS QUESTION IS DISCARDED \*\*\*\*

Reference ID:(15133)

पुढील वाक्याचा प्रकार ओळखा.  
आकाशात काळे ढग जमले आणि मोर नाचू लागले.

A.प्रश्नार्थी

B.मिश्र वाक्य

C.संयुक्त वाक्य

D.केवल वाक्य

Answer:

C.संयुक्त वाक्य

Reference ID:(15358)

डिसेंबर 2018 मध्ये पंत प्रधानांद्वारे प्रकाशित केलेल्या आर के लक्ष्मण या प्रख्यात  
व्यंगचित्रकारावरील पुस्तकाचे शीर्षक काय आहे?

A.टाईमलेस लक्ष्मण

B.लक्ष्मण रेखास

C.लक्ष्मण दि कार्टुनिस्ट

D.लाफ विथ लक्ष्मण

Answer:

A.टाईमलेस लक्ष्मण

A.साधित

B.संयुक्त

C.अकर्मक

D.सकर्मक

Answer:

C.अकर्मक

Reference ID:(15378)

एका पात्रामध्ये 6 पांढऱ्या, 4 काळ्या, 2 पिवळ्या आणि 3 हिरव्या गोट्या आहेत. जर यादृच्छिकपणे 4 गोट्या काढल्या गेल्या, तर त्यांच्यापैकी किमान 1 गोटी काळी असण्याची संभाव्यता काय आहे?

A.69/91

B.11/13

C.21/91

D.6/15

Answer:

A.69/91

Reference ID:(15131)

पुढील शब्दाचे लिंग ओळखा.  
पोर

A.पुल्लिंग

B.स्त्रीलिंग

C.नपुंसकलिंग

D.उभयलिंग

Answer:

D.उभयलिंग

Occasionally, serious crimes are committed, but they are \_\_\_\_\_ incidents, not part of a widespread problem.

A.social

B.isolated

C.unique

D.minor

Answer:

B.isolated

Reference ID:(15362)

भारतीय घटनेमध्ये किती मुलभूत कर्तव्ये नमूद केलेली आहेत?

A.6

B.7

C.9

D.11

Answer:

D.11

Reference ID:(15373)

आंतरराष्ट्रीय महिला दिन 2018 ला, महाराष्ट्र शासनाने शालेय मुली आणि महिलांना अनुदानित दरामध्ये सॅनिटरी पॅड्स पुरवणारा खालीलपैकी कोणता कार्यक्रम सुरू केला?

A.बेटी बचाओ बेटी पढाओ

B.अस्मिता योजना

C.सुकन्या समृद्धी

D.बालिका-महिल्या कल्याण योजना

Answer:

B.अस्मिता योजना



7 Panorama Centre, 98-East Jinnah Avenue, Blue Area, G 7/2 Blue Area, Capital Territory 44000,  
+92 51 2347109

(i) 7 Panorana Centre, 98-East Jinnah Avenue, Blue Area, G 7/2 Blue Area, Capital Territory 44000,  
+92 51 2347019

(ii) 7 Panorama Centre, 98-East Jinnah Avenue, Blue Area, G 7/2 Blue Area, Capital Territory 44000,  
+92 51 2347109

(iii) 7 Panorama Centre, 98-East Jinnah Avenue, Blue Area, G 7/2 Blue Area, Capital Territory 44000,  
+92 51 2347109

(iv) 7 Panorama Centre, 98-East Jinnah Avenue, Blue Area, G 7/2 Blue Area, Capital Territory 44000,  
+92 51 2347109

A.i

B.ii

C.iii

D.iv

Answer:

A.i

Reference ID:(15357)

केंद्र शासनाने खालीलपैके कोणत्या शहरामध्ये ॲनिमेशन, गेमिंग आणि व्हिज्युअल इफेक्ट संस्था स्थापित करण्याची घोषणा केली आहे?

A.वर्धा

B.पुणे

C.दिल्ली

D.मुंबई

Answer:

D.मुंबई

A.7/21

B.6/21

C.8/21

D.3/21

Answer:

C.8/21

Reference ID:(15146)

पुढील वाक्यातील विरामचिन्ह ओळखा.  
चहा बिनसाखरेचा होता हे खरे; परंतु लाडवाच्या रुपाने काही कॅलरीज पोटात गेल्याच.

A.स्वल्पविराम

B.अवतरण चिन्ह

C.अर्धविराम

D.पूर्ण विराम

Answer:

C.अर्धविराम

Reference ID:(15102)

Choose the option that has the correct spelling for the missing word in the given sentence:

The ring she is wearing is a family\_\_\_\_\_.

A.heirloom

B.hairloom

C.herlum

D.hierlum

Answer:

A.heirloom

रिकाम्या जागी योग्य जोडशब्द ललहा.  
या वर्षी \_\_\_\_\_ चांगला झाल्यामुळे पीक चांगल झाले.

A. पाऊसपाणी

B. वादळपाणी

C. औषधपाणी

D. चहापाणी

Answer:

A. पाऊसपाणी

Reference ID:(15125)

Choose the option that best expresses the meaning of the highlighted idiom/phrase:

With the birth of the baby, my mother's **hands were full**.

A. the baby was very fat

B. became busy

C. grew tired

D. incapable of hard work

Answer:

B. became busy

Reference ID:(15114)

Choose the most suitable determiner for the given sentence:

\_\_\_\_\_ the Senior Manager or the Section Head has to address the issue.

A. Neither

B. Either

C. None

D. All

Answer:

B. Either

Reference ID:(15372)

महाराष्ट्रातील खालीलपैकी कोणत्या राष्ट्रीय उद्यानांमध्ये 2400 वर्षे जुन्या बौध्द कालखंडामधील कान्हेरी गुहा आहेत?

B.ताडोबा राष्ट्रीय उद्यान

C.संजय गांधी राष्ट्रीय उद्यान

D.चांदोली राष्ट्रीय उद्यान

Answer:

C.संजय गांधी राष्ट्रीय उद्यान

Reference ID:(15126)

‘कच खाणे’ या वाक्प्रचारचा अर्थ-

A.अडचण येणे.

B.माघार घेणे.

C.अडचणीतून पार पडणे.

D.संकटात पडणे.

Answer:

B.माघार घेणे.

Reference ID:(15123)

Out of the following options, identify a simple sentence.

A.Mohan and Manjhli are friends.

B.Jawahar called Myna but he did not discuss the economics paper.

C.Keerthi ran as fast as she could but failed to win the race.

D.For it is in giving that we truly receive says the Bible.

Answer:

A.Mohan and Manjhli are friends.

Reference ID:(15375)

घर, दवाखाने, कारखाने इत्यादींमधून सोडल्या जाणाऱ्या सांडपाण्यासाठी खालीलपैकी कोणती शास्त्रीय संकल्पना वापरली जाते?

A.वाहिलेले पाणी

B.अशुद्ध पाणी

C.अस्वच्छ पाणी

D.मैला पाणी

Answer:

D.मैला पाणी

A.शुक्रवार

B.शनिवार

C.रविवार

D.सोमवार

Answer:

A.शुक्रवार

Reference ID:(15398)

कारची किंमत 4,50,000 रुपये आहे. तिच्या किमतीच्या 80% एवढा विमा केला आहे. अपघातामध्ये कारचे पूर्णपणे नुकसान झाले आणि विमा कंपनीने विम्याच्या 90% रक्कम त्याला प्रदान केली. कारची किंमत आणि प्राप्त झालेली रक्कम यांमधील फरक काय होता?

A.1,76,375 रुपये

B.3,24,000 रुपये

C.1,82,150 रुपये

D.1,26,000 रुपये

Answer:

D.1,26,000 रुपये

Reference ID:(15381)

सरासरी काढा.  
25, 32, 48, 75, 68 & 28

A.68

B.49

C.59

D.46

Answer:

D.46

Reference ID:(15110)

Choose the option with the appropriate suffix to complete the given sentence:

People have become more addic\_\_ to technological advancements in such a way that made them lazy.

B.-tive

C.-tion

D.-ing

Answer:

B.-tive

Reference ID:(15145)

पुढील वाक्यांमधे योग्य ते अव्यय घाला.  
एक तास ----- साठ मिनिटे

A.म्हणजे

B.की

C.कारण

D.तरी

Answer:

A.म्हणजे

Reference ID:(15124)

Choose the correct form of tense for the given sentence:

\_\_\_\_\_ told you not to \_\_\_\_ back home this late?

A.I have, come

B.Haven't I, come

C.Aren't I , came

D.Has I, coming

Answer:

B.Haven't I, come

Reference ID:(15121)

Choose the most appropriate usage to fill in the blank in the given sentence:

Many major businesses fail during the \_\_\_\_\_ stages.

A.initially

B.initiation

C.initial

Answer:

C.initial

Reference ID:(15391)

A आणि B या दोन शहरांमधील अंतर 330 किमी आहे. एक रेल्वे A ठिकाणावरून सकाळी 8 वाजता निघते आणि B या ठिकाणाकडे 60 किमी/तासाने प्रवास सुरू करते. दुसरी रेल्वे सकाळी 9 वाजता B या ठिकाणाहून निघते आणि A ठिकाणाकडे 75 किमी/तासाने प्रवास करते. किती वाजता त्या दोघी एकमेकांसमोर असतील?

A.सकाळी 10.30 वाजता

B.सकाळी 10 वाजता

C.दुपारी 12 वाजता

D.सकाळी 11 वाजता

Answer:

D.सकाळी 11 वाजता

Reference ID:(15370)

स्वच्छ सर्वेक्षण 2019 पुरस्कारामध्ये, 'भारतामधील सर्वात स्वच्छ लष्करी छावणी-क्र.1' म्हणून \_\_\_\_\_ ला पुरस्कृत करण्यात आले.

A.डलहौसी कॅन्टॉनमेंट बोर्ड

B.अमृतसर कॅन्टॉनमेंट बोर्ड

C.दिल्ली कॅन्टॉनमेंट बोर्ड

D.बेंगलुरू कॅन्टॉनमेंट बोर्ड

Answer:

C.दिल्ली कॅन्टॉनमेंट बोर्ड

Reference ID:(15113)

Choose the correct form of verb for the given sentence:

All of his movies \_\_\_\_ strange but there are many people who \_\_\_\_ like them.

A.contains ... has lived

B.are ... don't

C.content ... is

D.contains ... are

Answer:

B.are ... don't

Reference ID:(15116)

Choose the correct form of modal auxiliary verb for the given sentence:

Library should have books which \_\_\_\_\_ of great value to children.

A.were

B.is

C.was

D.are

Answer:

D.are

Reference ID:(15140)

पुढील वाक्यातील अव्ययाचा प्रकार ओळखा.  
'अरेच्चा! मोठी गंमतच झाली की ही!'

A.उभयान्वयी अव्यय

B.क्रियाविशेषण अव्यय

C.केवलप्रयोगी अव्यय

D.शब्दयोगी अव्यय

Answer:

C.केवलप्रयोगी अव्यय

Reference ID:(15139)

कर्मानुसार क्रियापदाच्या योग्य रूपाची निवड करा.  
कवीने कविता .....

A.लिहिली

B.लिहिला

C.लिहिले

D.लिहितो

Answer:

A.लिहिली

Reference ID:(15360)

महाराष्ट्रामधील रुजुता तळेगांवरकर ही खालीलपैकी कोणत्या क्षेत्राशी संबंधित आहे?

A.कुस्तीपटू

B.मुष्टियोध्दा

C.जलतरणपटू

D.मल्लविद्या



Reference ID:(15130)

रिकाम्या जागी योग्य जोडशब्द लिहा.  
मी गर्दीतून सही- ----- बाहेर पडलो.

A.सलाबत

B.सलामत

C.अलबत

D.मसलत

Answer:

B.सलामत

Reference ID:(15385)

खाली दिलेल्या श्रृंखलेमध्ये अंकांचा एक विशिष्ट क्रम दिलेला आहे. त्यानुसार चुकीचा क्रम ओळखा:  
17, 36, 132, 635, 3500, 21750, 153762

A.635

B.17

C.132

D.3500

Answer:

A.635

Reference ID:(15143)

पुढील वाक्यांमधील विशेषण ओळखा.  
बाळा वर्गात शेवटून अट्टेचाळीसावा आला. भलताच हुशार तो!

A.बाळा

B.शेवटून

C.भलताच

D.वर्गात

Answer:

C.भलताच

Reference ID:(15374)

दाढी करण्यासाठी वापरण्याकरता योग्य आरसा \_\_\_\_\_ आहे.

A.सपाट आरसा

C.अंतर्वक्र आरसा

D.बहिर्वक्र आरसा

Answer:

C.अंतर्वक्र आरसा

Reference ID:(15108)

Choose the appropriate collective noun to complete the sentence:

The \_\_\_\_\_ at the church donated a large sum of money to the flood victims.

A.congregation

B.audience

C.spectators

D.crew

Answer:

A.congregation

Reference ID:(15395)

A आणि B एक काम 8 दिवसांत करू शकतात, B आणि C तेच काम 12 दिवसांत करू शकतात. A, B आणि C एकत्रित पणे ते काम 6 दिवसांत पूर्ण करतात. A आणि C ते काम एकत्र किती दिवसांत पूर्ण करतील:

A.4 दिवस

B.6 दिवस

C.8 दिवस

D.12 दिवस

Answer:

C.8 दिवस

Reference ID:(15149)

पुढील वाक्प्रचारांच्या योग्य अर्थाचा पर्याय निवडा.  
पराचा कावळा करणे-

B.संपवून टाकणे

C.उस्तवार करणे

D.छोटी गोष्ट मोठी करून सांगणे

Answer:

D.छोटी गोष्ट मोठी करून सांगणे

Reference ID:(15368)

91 व्या अकादमी पुरस्कारामध्ये डॉक्यूमेंटरी लहान विषय श्रेणीमध्ये \_\_\_\_\_ या भारतामधील नेटफ्लिक्स शॉर्ट डॉक्यूमेंटरी फिल्मने ऑस्कर्स जिंकला.

A.पिरीयड एन्ड ऑफ सेंटेंस

B.ए नाईट अट दि गार्डन

C.लाइफबोट

D.एन्ड गेम

Answer:

A.पिरीयड एन्ड ऑफ सेंटेंस

Reference ID:(15388)

दोन लॅपटॉपची खरेदी किंमत सारखी आहे. एक लॅपटॉप हा 15% नफ्याने विकला आणि दुसऱ्या लॅपटॉपची विक्री किंमत ही पहिल्याच्या विक्री किंमतीपेक्षा 3400 रुपये अधिक होती. निव्वळ नफा 20% होता. प्रत्येक लॅपटॉपची खरेदी किंमत काय आहे?

A.36000

B.40000

C.48000

D.34000

Answer:

D.34000

Reference ID:(15109)

Choose the option with the appropriate suffix to complete the given sentence:

I am too scared of poison\_\_\_\_\_ snakes. What about you?

A.-ful

B.-able

D.-ous

Answer:

D.-ous

Reference ID:(15106)

Choose the correct form of adjective for the given sentence:

The noise from the disco was so \_\_\_\_\_ that I had a severe headache.

A.untolerable

B.intolerant

C.intolerable

D.tolerable

Answer:

C.intolerable

Reference ID:(15359)

खालीलपैकी कोणते महाराष्ट्र संगीत रंगभूमीमधील प्रसिध्द नृत्य आहे

A.तमाशा

B.लचक

C.लावणी

D.कुचीपुडी

Answer:

C.लावणी

Reference ID:(15353)

"इटींग वास्स" शीर्षक असलेल्या पुस्तकाचे लेखक खालीलपैकी कोण आहेत?

A.अनिता नायर

B.रघुराम जी राजन

C.सीमा गोस्वामी

D.नदीम जमीन

Answer:

A.अनिता नायर

Reference ID:(15390)

एक व्यक्तीने 9 तासांमध्ये 61 किमी एवढे अंतर कापले. त्याने अर्धा प्रवास 4 किमी/तास वेगाने आणि अर्धा प्रवास 9 किमी/तास वेगाने सायकलवर केला. पायी चाललेले अंतर काढा?

B.14 किमी

C.16 किमी

D.18 किमी

Answer:

C.16 किमी

Reference ID:(15132)

पुढील वाक्याचे नकारार्थी वाक्य करा.  
आम्हा मुलांना विचारतो कोण?

A.काही मुलांना कोणीही विचारत नाही.

B.आम्हा मुलांना कोणीही विचारत नाही.

C.आम्हा मुलांना सगळेच विचारतात.

D.काही मुलांना सगळेच विचारतात.

Answer:

B.आम्हा मुलांना कोणीही विचारत नाही.

Reference ID:(15136)

दिलेल्या काळात परिवर्तन करण्यासाठी योग्य पर्याय निवडा.  
मी निंबध लिहितो. (रीति भविष्यकाल)

A.लिहित असे

B.लिहित जाईन

C.लिहिला होता

D.लिहिला असेल

Answer:

B.लिहित जाईन

Reference ID:(15379)

सहा वर्षांपूर्वी कवीता आणि सुरेखा यांच्या वयांचे गुणोत्तर 6:5 होते. चार वर्षांनी त्यांच्या वयांचे गुणोत्तर 11:10 होईल. सध्या सुरेखाचे वय काय आहे?

A.17 वर्षे

B.16 वर्षे

C.13 वर्षे

D.18 वर्षे

Answer:

B.16 वर्षे

A.पोचू

B.पोचलात

C.पोचलो

D.पोचले

Answer:

C.पोचलो

Reference ID:(15367)

भारतीय संविधानानुसार, कलम \_\_\_\_\_ च्या अनुसार संसदेद्वारे कोणत्याही राज्याची विधानसभा बरखास्त केली जाऊ शकते आणि राष्ट्रपती शासन लागू केले जाऊ शकते.

A.350

B.354

C.356

D.360

Answer:

C.356

Reference ID:(15364)

2019 मध्ये बिजनेस लाईन 'चेंज मेकर ऑफ दि इयर' पुरस्कारासाठी कोणाची निवड केली गेली?

A.अरुण जेटली

B.मनमोहन सिंह

C.औसफ सईद

D.ममता बॅनर्जी

Answer:

A.अरुण जेटली

Reference ID:(15127)

खालीलपैकी कोणती जोडी विरुद्धार्थी आहे?

A.ज्ञानी X सुज्ञ

B.निरर्थक X अर्थपूर्ण

C.ऐच्छिक X स्वतंत्र

D.दुर्बोध X थंड

Reference ID:(15115) Which of the following options best combines the two given sentences?

The poet sat in his tower. He gazed on the sea.

A.The poet sat in his tower gazed on the sea.

B.The poet sat in his tower and gazed on the sea.

C.Sitting in his tower gazing on the sea is the poet.

D.In the tower gazing on the sea sat the poet.

Answer:

B.The poet sat in his tower and gazed on the sea.

Reference ID:(15351) भारताची घटना \_\_\_\_\_ पासून लागू झाली?

A.26 जानेवारी 1948

B.26 जानेवारी 1950

C.26 जानेवारी 1951

D.26 जानेवारी 1952

Answer:

B.26 जानेवारी 1950

Reference ID:(15389) एका संघटनेमधील गुआन आणि हरिशचा एकूण पगार 30000 रुपये आहे. जर गुआनचा पगार 5% नी वाढवला आणि हरिशचा पगार 7% नी वाढवला, तर त्यांचा एकूण पगार 31800 रुपये एवढा वाढेल. हरिशचा पगार काढा.

A.10,000 रुपये

B.15,000 रुपये

C.18,000 रुपये

D.12,000 रुपये

Answer:

B.15,000 रुपये

Reference ID:(15356) खालीलपैकी कोणती नांदेड शहरामधील मुख्य गुरूद्वारा आहे, जी शिखांच्या अधिकाराच्या पाच उच्च जागांपैकी एक आहे जेथे श्री गुरू गोबिंद सिंहजींनी त्यांचा शेवटचा श्वास घेतला?

A.सचखंड गुरूद्वारा

B.गुरूद्वारा हरि मंदिर साहिब

C.गुरूद्वारा बाबा अटल साहिब

Answer: A.सचखंड गुरूद्वारा

Reference ID:(15361) कोणत्या क्षेत्रामधील उल्लेखनीय कामगिरीसाठी पुलित्जर पुरस्कातर दिला जातो?

A.पत्रकारिता

B.फॅशन

C.खेळ

D.समाज सेवा

Answer: A.पत्रकारिता

Reference ID:(15354) अलिकडे भारत-आफ्रिका संयुक्त क्षेत्र प्रशिक्षण अभ्यास-एफिन्डेक्स-19 खालीलपैकी कोणत्या शहर आणि राज्यामध्ये सुरू झाला आहे?

A.पुणे, महाराष्ट्र

B.मुंबई, महाराष्ट्र

C.लखनऊ, उत्तर प्रदेश

D.भोपाळ, मध्य प्रदेश

Answer: A.पुणे, महाराष्ट्र

Reference ID:(15150) पुढील वाक्यात पर्यायातील अचूक वाक्प्रचार निवडा.  
तुमच्या उत्पादनाची जाहिरात केल्याशिवाय खप वाढणार कसा?

A.चारी मुंड्या चीत करणे

B.डंका वाजवणे

C.हरभऱ्याच्या झाडावर चढवणे

D.पाठीमागे बोलणे

Answer: B.डंका वाजवणे



\_\_\_\_\_ she had a good job in USA, she came back to India.

A.As

B.But

C.Except

D.Although

Answer:

D.Although

Reference ID:(15111)

Choose the appropriate articles for the given sentence:

\_\_\_\_\_ Chief Minister and \_\_\_\_\_ Prime Minister are attending \_\_\_\_ meeting scheduled for 10.00 am.

A.No article required, the, a

B.The, the, the

C.The, a, no article required

D.The, a, the

Answer:

B.The, the, the

Reference ID:(15104)

Choose the appropriate option with the correct punctuation marks for the given sentence:

sure we had a teacher but not a regular one said the little girl

A.“Sure we had, a teacher but not a regular one,” said the little girl.

B.Sure we had a teacher but not a regular one, said the little girl.

C.`sure we had a teacher but not a regular one ,’said the little girl.

D.“Sure, we had a teacher, but not a regular one,” said the little girl.

Answer:

D.“Sure, we had a teacher, but not a regular one,” said the little girl.

Reference ID:(15355)

खालीलपैकी कोणत्या राज्यामध्ये दृष्टी दोष असलेल्यांसाठी अंध लिपीमधील पहिली मतपत्रिका सादर केली गेली?

A.मिझोराम

B.हरियाणा

D.केरळ

Answer:

C.मेघालय

Reference ID:(15386)

रिकाम्या जागी योग्य संख्या निवडून श्रृंखला पूर्ण करा:  
2, 4, 10, 22, 42, 72, \_\_\_\_\_

A.102

B.106

C.114

D.124

Answer:

C.114

Reference ID:(15134)

वाक्यांकमधील सार्थ वाक्य ओळखा.

A.सोसाट्याच्याय वाऱ्याने पानांची सळसळ सुरू झाली.

B.सोसाट्याच्याय वाऱ्याने पानांची हळहळ सुरू झाली.

C.सोसाट्याच्याय वाऱ्याने पानांची खळखळ सुरू झाली.

D.सोसाट्याच्याय वाऱ्याने पानांची मळमळ सुरू झाली.

Answer:

A.सोसाट्याच्याय वाऱ्याने पानांची सळसळ सुरू झाली.

Reference ID:(15393)

एक अप्रामाणिक व्यापारी त्याच्या वस्तूंची किंमत 80% जास्त चिन्हांकित करतो आणि 25% सूट देतो. याशिवाय त्याला घाऊक विक्रेत्याकडून प्रति किलोग्रॅमला 20% अधिक रक्कम मिळते आणि तो ग्राहकांना प्रति किलोला 10% कमी विक्री करतो. एकूण नफ्याची टक्केवारी काय आहे?

A.63%

B.72%

C.88%

D.80%

Answer:

D.80%

A.178

B.237

C.264

D.301

Answer:

B.237

Reference ID:(15396)

खाली दिलेल्या श्रृंखलेमध्ये अंकांचा एक विशिष्ट क्रम दिलेला आहे. त्यानुसार चुकीचा क्रम ओळखा:

56, 57, 48, 73, 24, 105, -10

A.57

B.73

C.105

D.-10

Answer:

D.-10

Reference ID:(15107)

Fill in the blank with the correct noun for the given sentence:

The committee awards only two \_\_\_\_\_ every year.

A.scholar

B.scholarships

C.scholarship

D.scholarliness

Answer:

B.scholarships

Reference ID:(15117)

Choose the appropriate prepositions for the given sentence:

Break this chocolate \_\_\_\_\_ pieces and share it \_\_\_\_\_ all the children.

A.to , among

B.into, among

C.into, between

Answer: B.into, among

Reference ID:(15383)

खालील प्रश्न हे खाली दिलेल्या पाच तीन अंकी संख्यांवर आधारित आहे:  
328 642 836 697 954  
सर्वात मोठ्या संख्येच्या 3 च्या अंकाने दुसऱ्या सर्वात मोठ्या संख्येच्या 1 ल्या अंकाला  
भागल्यास उत्तर काय असेल?

A.2

B.1

C.4

D.6

Answer: A.2

Reference ID:(15141)

पुढील वाक्यातील अधोरेखित अव्ययाचा प्रकार ओळखा.  
पूर्वी आपल्याकडे विधवा विवाहास मान्यता नव्हती.

A.क्रियाविशेषण अव्यय

B.शब्दयोगी अव्यय

C.केवलप्रयोगी अव्यय

D.उभयान्वयी अव्यय

Answer: A.क्रियाविशेषण अव्यय

Reference ID:(15371)

गोवा किनारपट्टीवरील सर्वात मोठ्या नौदल अभ्यासामध्ये \_\_\_\_\_ चा सहभाग असणार नाही.

A.आयएनएस संकुल

B.आयएनएस चेन्नई

C.आयएनएस तारकाश

D.आयएनएस दिल्ली

Answer: D.आयएनएस दिल्ली

Reference ID:(15399) सिनेमा गृहामधील खुर्च्यांची संख्या 8% कमी केली गेली आणि तिकिटाची किंमत 4 टक्क्यांनी वाढवली. संकलित केल्या जाणाऱ्या उत्पन्नावर काय परिणाम होईल?

A.4.32% वाढ

B.4.32% घट

C.3.32% वाढ

D.3.32% घट

Answer: B.4.32% घट

Reference ID:(15376) खालील मांडणीचा काळजीपूर्वक अभ्यास करा आणि खाली दिलेल्या प्रश्नाचे उत्तर द्या:

A 8 B 6 # 7 H U % 3 \$ F V R 2 1 @ ↑ V 1 W E 9 © L 5

जर वरील मांडणीमधील सर्व चिन्हे काढून टाकली, तर खालीलपैकी काय डाव्या टोकापासून दहावे असेल?

A.3

B.5

C.V

D.F

Answer: C.V

Reference ID:(15142) पुढील नामाला अयोग्य विशेषणाचा पर्याय निवडा.  
पान

A.वहीचे

B.हिरवे

C.मऊ

D.चौपट

Answer: D.चौपट

A.अलंकार

B.उद्देश्यस

C.विधेय

D.उद्देश्यविस्ताशर

Answer:

A.अलंकार

Reference ID:(15369)

जानेवारी 2019 मध्ये, भारताच्या पंत प्रधानांनी महाराष्ट्रामध्ये \_\_\_\_\_ च्या सोलापूर-तुळजापूर-उस्मानाबाद विभागाचे उद्घाटन केले.

A.एनएच-211

B.एनएच - 75

C.एनएच - 180

D.एनएच - 7

Answer:

A.एनएच-211

Reference ID:(15394)

6 पुरूष आणि 8 मुलं एक काम 10 दिवसांत पूर्ण करू शकतात तर 26 पुरूष आणि 48 मुलं तेच काम 2 दिवसांत पूर्ण करू शकतात, 15 पुरूष आणि 20 मुलांद्वारे सारख्या प्रकारचे काम करण्यासाठी घेतलेली वेळ किती असेल:

A.4 दिवस

B.5 दिवस

C.6 दिवस

D.7 दिवस

Answer:

A.4 दिवस

Date of Exam : 21-07-2019 02:30 PM

Reference ID:(15669) Choose the most suitable conjunctions for the given sentence:

\_\_\_\_\_ Sarah \_\_\_\_\_ Beth visit the café quite often.

A.Both , and

B.Neither , both

C.Both, nor

D.Neither, any

Answer: A.Both , and

Reference ID:(15673) Choose the correct form of tense for the given sentence:

The lights \_\_\_\_\_ out while I \_\_\_\_\_.

A.go, was cooking

B.was going, cooked

C.went, was cooking

D.will go, is cooking

Answer: C.went, was cooking

Reference ID:(15919) स्वच्छ सर्वेक्षण 2019 पुरस्कारामध्ये, देशामधील 'स्वच्छतेमध्ये उत्तम प्रदर्शन करणारे राज्य' म्हणून \_\_\_\_\_ ला पुरस्कृत करण्यात आले.

A.पंजाब

B.तेलंगणा

C.मेघालय

D.मणिपूर

Answer: A.पंजाब

A.प्रश्नचिन्ह

B.संयोगचिन्ह

C.अवतरण चिन्ह

D.अर्धविराम

Answer:

D.अर्धविराम

Reference ID:(15658)

Choose the option with the appropriate suffix to complete the given sentence:

Destruc\_\_ is always easier than construction.

A.-sion

B.-ion

C.-ssion

D.-tion

Answer:

D.-tion

Reference ID:(15949)

खाली 0 ते 9 पर्यंतचे अंक दर्शवल्याप्रमाणे संकेतबद्ध केले गेले आहेत :

अंक	3	8	0	7	4	6	9	2	5	1
संकेत	H	\$	R	A	M	%	L	K	E	S

173548 चा संकेत काय असेल?

A.SAHEM\$

B.SAMHE\$

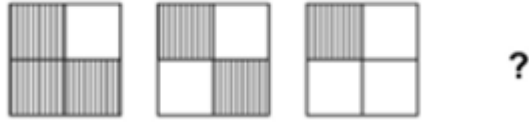
C.SARE\$M

D.SAHEK\$

Answer:

A.SAHEM\$





Answer:



Reference ID:(15945)

सर्व कर्मचाऱ्यांना दिले जाणारे माध्य वार्षिक वेतन हे 5000 रुपये आहे. सर्व पुरुष आणि महिला कामगारांना दिलेले माध्य वार्षिक वेतन 5200 रुपये आणि 4200 रुपये होते. कंपनीमध्ये किती टक्के महिला कामगार आहेत?

A.80%

B.20%

C.60%

D.40%

Answer:

B.20%

Reference ID:(15941)

A एक काम 4 तासांमध्ये करतो; B आणि C एकत्र ते काम 3 तासांमध्ये करतात, A आणि C तेच काम 2 तासांमध्ये करू शकतात. एकट्या B ला ते काम करण्यासाठी किती वेळ लागेल?

B.10 तास

C.12 तास

D.24 तास

Answer:

C.12 तास

Reference ID:(15671)

Choose the correct form of verb that is in agreement with the subject:

It \_\_\_\_\_ that Lee Harvey Oswald may not have acted alone in the assassination of John Kennedy.

A.thinking

B.to think

C.is thought

D.the thought

Answer:

C.is thought

Reference ID:(15679)

रिकाम्या जागी योग्य जोडशब्द लिहा.  
माळावरच्या धनगराकडे ----- भरपूर होत्याय.

A.शेळ्यामेंढ्या

B.गुरेढोरे

C.शालकांबळ

D.दूधदुभते

Answer:

A.शेळ्यामेंढ्या

Reference ID:(15659)

Choose the option with the appropriate suffix to complete the given sentence:

My sister is the tall\_\_\_ girl in her class.

A.-ful

B.-hood

D.-ism

Answer:

C.-est

Reference ID:(15924)

खालीलपैकी कोणता पदार्थ मिश्रधातू नाही?

A.स्टेनलेस स्टील

B.पितळ

C.अलनिको

D.क्रोमियम

Answer:

D.क्रोमियम

Reference ID:(15921)

2018 मध्ये महाराष्ट्र शासनाद्वारे खालीलपैकी कोणत्या वन्यजीव अभयारण्याला मंजूरी देण्यात आली?

A.ठाणे क्रीक फ्लेमिंगो वन्यजीव अभयारण्य

B.ग्रेट इंडियन बस्टर्ड वन्यजीव अभयारण्य

C.घोडाझरी वन्यजीव अभयारण्य

D.उमरेड-करहंडला वन्यजीव अभयारण्य

Answer:

C.घोडाझरी वन्यजीव अभयारण्य

Reference ID:(15670)

Choose the most appropriate usage to fill in the blank in the given sentence:

Some people shop \_\_\_\_\_, whereas others just buy whatever they see on the shelf.

A.selected

B.selective

C.selection

D.selectively

Answer:

D.selectively

Reference ID:(15909) 2010 मध्ये महाराष्ट्रामधील टेंबळी गावामधील आधार कार्डाचे पहिले प्राप्तकर्ते खालीलपैकी कोण होते?

A.गीता बर्वे

B.रंजना सोनावणे

C.अक्षय मोरे

D.इंदिरा राणे

Answer: B.रंजना सोनावणे

Reference ID:(15917) खालीलपैकी कोणत्या वर्षात एकल-वापराच्या प्लास्टिकच्या पिशव्या काढून टाकण्याची महत्वाकांक्षी योजना शासनाने सुरू केली?

A.2022

B.2020

C.2021

D.2023

Answer:

A.2022

Reference ID:(15655) Choose the correct form of adjective for the given sentence:

Verma is one of the most \_\_\_\_\_ persons that I have ever met.

A.bore

B.boring

C.boringly

D.boredom

Answer: B.boring

Reference ID:(15939) 432, 534 आणि 398 ला गुणल्यानंतर प्रत्येकवेळी बाकी 7 ठेवणारी सर्वात मोठी संख्या कोणती आहे?

A.15

B.16

C.17

Answer: C.17

Reference ID:(15943) खाली दिलेल्या श्रृंखलेमध्ये अंकांचा एक विशिष्ट क्रम दिलेला आहे. त्यानुसार चुकीचा क्रम ओळखा:  
3, 1, 3, 0.7, 3, 0.6, 3, 0.5, 3

A.1

B.0.7

C.0.6

D.3

Answer: B.0.7

Reference ID:(15914) थय्याम हा प्रसिद्ध विधीसंबंधीचा नृत्य प्रकार भारतातील खालीलपैकी कोणत्या राज्यातील आहे?

A.कर्नाटक

B.मणिपूर

C.तमिळनाडू

D.केरळ

Answer: D.केरळ

Reference ID:(15666) Choose the appropriate prepositions for the given sentence:

We went \_\_\_ a nice restaurant \_\_\_ celebrate my birthday.

A.into, for

B.at, to

C.to, to

D.to, for

Answer: C.to, to

Maria has little experience in management. This means that she has \_\_\_\_\_  
experience in the field.

A.some

B.none

C.a lot of

D.a great deal

Answer:

A.some

Reference ID:(15682)

पुढील वाक्याचा प्रकार ओळखा.  
'गोलपीठा'चे कवी नामदेव ढसाळ हे लेखकही होते.

A.प्रश्नार्थी

B.मिश्र वाक्य

C.संयुक्त वाक्य

D.केवल वाक्य

Sab Answer: bhaijaan

D.केवल वाक्य

Sabka ek bhaijaan

Sabka ek bhaijaan

Reference ID:(15677)

दिलेल्या शब्दीगटातून विरुद्धार्थी शब्द ओळखा.  
मित्र – लोभी X -----

A.जिवाभावाचा

B.कंजूष

C.निर्लोभी

D.उदार

Answer:

C.निर्लोभी

Reference ID:(15697)

'पृथ्वीराजाच्या' या शब्दात किती जोडाक्षरे आहेत?

A.3

B.4

D.5

Answer:

C.2

Reference ID:(15684)

रिकाम्या जागी योग्य शब्द निवडा.  
कर्माबद्दल विशेष माहिती सांगणारे शब्द ----- विभागात येतात.

A.विधेय

B.उद्देश्य

C.शब्देसिद्धी

D.वृत्त

Answer:

A.विधेय

Reference ID:(15657)

Choose the appropriate collective noun to complete the sentence:

Jack was lucky enough to have caught \_\_\_\_\_ for dinner that night.

A.a flight of stairs

B.a bunch of flowers

C.a troupe of shrimps

D.a swarm of bees

Answer:

C.a troupe of shrimps

Reference ID:(15690)

पुढील वाक्यातील अधोरेखित अव्ययाचा प्रकार ओळखा.  
देवाचा वावर सर्वत्र असतो.

A.शब्दयोगी अव्यय

B.केवलप्रयोगी अव्यय

C.उभयान्वयी अव्यय

D.क्रियाविशेषण अव्यय

Answer:

D.क्रियाविशेषण अव्यय

Reference ID:(15940)

जर जोएलने विक्री किमतीच्या 4/5 ला वस्तूची विक्री केली आणि 20% नफा मिळवला, तर वास्तविक विक्री किमतीवर त्याने तिची विक्री केल्यास त्याच्या नफा किंवा तोट्याची टक्केवारी काय असेल?

A.45%

B.60%

C.50%

D.56%

Answer:

C.50%

Reference ID:(15904)

2019 चे शौर्य चक्र हे घरावर हल्ला केलेल्या दहशतवाद्यांशी लढाई केल्याबद्दल \_\_\_\_\_, या 16 वर्षीय मुलाला देण्यात आले.

A.रमजान मुहंमद

B.मुहंमद रमजान

C.इरफान शेख रमजान

D.इरफान रमजान शेख

Answer:

D.इरफान रमजान शेख

Reference ID:(15651)

Choose the option that has the correct spelling for the missing word in the given sentence:

Her speech was wonderful. She received many \_\_\_\_\_.

A.compleements

B.compliments

C.complimentis

D.cumpliments

Answer:

B.compliments

Reference ID:(15700)

वेबसाइटच्या पहिल्या पृष्ठास \_\_\_\_\_ पृष्ठ म्हणतात.

A.पहिले



C.प्रवेश

D.होम

Answer:

D.होम

Reference ID:(15693)

अनेकवचनांचे एक वचन करा.  
आम्हा घरी धन शब्दांचीच रत्ने | शब्दांचीच शस्त्रे हाती धरू |

A.माझ्या घरी धन शब्दांसचीच रत्ने | शब्दाचेच शस्त्रे हाती धरू |

B.माझ्या घरी धन शब्दाधचेच रत्ने | शब्दांचीच शस्त्रे हाती धरू |

C.माझ्या घरी धन शब्दांचीच रत्ने | शब्दांरचेच शस्त्र हाती धरू |

D.माझ्या घरी धन शब्दाचेच रत्ने | शब्दाबचेच शस्त्र हाती धरीन |

Answer:

D.माझ्या घरी धन शब्दाचेच रत्ने | शब्दाबचेच शस्त्र हाती धरीन |

Reference ID:(15667)

Choose the option with the best prepositional phrase to complete the given sentence:

Please be ready Mr. William, you will be \_\_\_\_\_, soon.

A.on a diet

B.on schedule

C.under watch

D.on air

Answer:

D.on air

Reference ID:(15678)

रिकाम्या जागी योग्य जोडशब्द लिहा.  
राजवाड्याला असंख्यय ----- होत्या .

A.पायऱ्यादरवाजे

B.खिडक्यापायऱ्या

D.दारेखिडक्याक

Answer:

D.दारेखिडक्याक

Reference ID:(15683)

वाक्यांमधील सार्थ वाक्ये ओळखा.

A.त्याला बांगड्यांची खळखळ ऐकू आली.

B.त्याला बांगड्यांची खणखण ऐकू आली.

C.त्याला बांगड्यांची किणकिण ऐकू आली.

D.त्याला बांगड्यांची खरखर ऐकू आली.

Answer:

C.त्याला बांगड्यांची किणकिण ऐकू आली.

Reference ID:(15681)

'तानाजी हा अत्यंत शूर मराठी मावळा होता.'  
या वाक्याचे उद्गारार्थी वाक्यरूपांतर पुढीलपैकी कोणते आहे?

A.तानाजी हा अत्यंत शूर मराठी मावळा होता!

B.तानाजी हा किती शूर मराठी मावळा होता!

C.किती शूर मराठी मावळा होता हा तानाजी!

D.शूर मराठी मावळा होता ना तानाजी!

Answer:

C.किती शूर मराठी मावळा होता हा तानाजी!

Reference ID:(15668)

Choose the most suitable conjunction for the given sentence:

People are trying to move out of big cities \_\_\_\_\_ of pollution.

A.since

B.for

C.because

D.as result of

Reference ID:(15676) खालील शब्दघगटातून विरुद्धार्थी असलेली जोडी ओळखा.

A.विरक्तीब – अनासक्ती

B.उधळ्या – कंजूष

C.निरुपाय – उपाय

D.जेता – विजेता

Answer:

B.उधळ्या – कंजूष

Reference ID:(15913) कोणत्या भारतीय लेखकाने त्याच्या पदार्पण पुस्तकासाठी ललितेतर श्रेणीअंतर्गत विंडहॅम कॅम्पबेल बक्षिस 2019 जिंकला?

A.रघु कर्नाड

B.मनोशी सिन्हा रावळ

C.हरदीप सिंह पुरी

D.सीमा गोस्वामी

Answer:

A.रघु कर्नाड

Reference ID:(15929) दोन वर्षांपूर्वी अजितचे वय अर्जुनच्या वयाच्या दुप्पट होते. त्यांच्या वयातील फरक जर दोन वर्षांचा असेल तर अजितचे आजचे वय किती?

A.3 वर्ष

B.4 वर्ष

C.5 वर्ष

D.6 वर्ष

Answer:

D.6 वर्ष

Reference ID:(15901) भारतीय संविधानाचा अनुच्छेद 25 कशाशी संबंधित आहे:

A.धर्म स्वातंत्र्याचा अधिकार

B.सांस्कृतिक आणि शैक्षणिक अधिकार

C.शोषणाविरुद्ध अधिकार

Answer: A.धर्म स्वातंत्र्याचा अधिकार

Reference ID:(15906) औरंगाबाद हे नाव कोणत्या मुघल सम्राटाच्या नावावरून देण्यात आले?

A.अकबर

B.औरंगजेब

C.शाहजहान

D.मुहंमद बीन तुगलक

Answer: B.औरंगजेब

Reference ID:(15928) 5 वर्षांपूर्वी अमित आणि देव यांच्या वयांचे गुणोत्तर अनुक्रमे 5:7 होते, जर त्या दोघांचे वर्तमान वय 46 असेल तर अमितचे वर्तमान वय काय आहे?

A.20

B.22

C.23

D.19

Answer: A.20

Reference ID:(15691) पुढील नामाला अयोग्य विशेषणाचा पर्याय निवडा.  
फुल

A.सुवासिक

B.अनुनासिक

C.एक

D.गुलबाचे

Answer: B.अनुनासिक

एक कार प्रथम 64 किमी/तासांच्या वेगाने 160 किमी अंतर कापते आणि पुढे 80 किमी/तास या वेगाने 160 किमी अंतर कापते. प्रवासाच्या पहिल्या 320 किमीमधील सरासरी वेग काय आहे?

A.70.24 किमी/तास

B.74.24 किमी/तास

C.71.11 किमी/तास

D.72.21 किमी/तास

Answer: C.71.11 किमी/तास

Reference ID:(15694) पुढील वाक्यांमध्ये योग्य ते अव्यय घाला.  
सावळाच रंग तुझा पावसाळी नभा -----

A.अथवा

B.परी

C.की

D.परंतु

Answer: B.परी

Reference ID:(15688) कर्मानुसार क्रियापदाच्या योग्य रूपाची निवड करा.  
शिक्षकाने धडा .....

A.शिकविली

B.शिकवले

C.शिकवते

D.शिकवला

Answer: D.शिकवला

Reference ID:(15918) जानेवारी 2019 मध्ये, भारताच्या पंत प्रधानांनी महाराष्ट्रामध्ये एनएच-211 च्या सोलापूर-तुळजापूर-\_\_\_\_\_ विभागाचे उद्घाटन केले.

A.बीड

B.माहुद

D.उस्मानाबाद

Answer:

D.उस्मानाबाद

Reference ID:(15927)

सरासरी काढा.  
98, 73, 87, 97, 85 & 82

A.87

B.75

C.98

D.84

Answer:

A.87

Reference ID:(25017)

एक रेल्वे 80 किमी/तासाच्या वेगाने धावत आहे. मीटर प्रति सेकंदांमध्ये तिचा वेग काय आहे?

 $22\frac{2}{9}$  मिली/सेकंद

22 मिली/सेकंद

 $21\frac{1}{9}$  मिली/सेकंद

21 मिली/सेकंद

Answer:

 $22\frac{2}{9}$  मिली/सेकंद

Reference ID:(15662)

Choose the correct form of verb for the given sentence:

If your urine \_\_\_\_ very dark yellow, you probably \_\_\_\_\_ to drink more water.

A.is ... need

B.has ... are

D.are ... needs

Answer:

A.is ... need

Reference ID:(15915)

\_\_\_\_\_ हे महाराष्ट्रातील लोक गीत आहे जे शेतात काम करणाऱ्या शेतकऱ्यांना उत्तेजन देण्यासाठी गायन केले जाते.

A.भालेरी

B.भाटिअली

C.बाउल्स चे संगीत

D.चाविट्टु नाटकम

Answer:

A.भालेरी

Reference ID:(15905)

'धर्मशास्त्राचा इतिहास' हे सुप्रसिद्ध पुस्तक \_\_\_\_\_ यांनी लिहिले.

A.बाळ गंगाधर टिळक

B.आर. जी. भांडारकर

C.पांडुरंग वामन काणे

D.पांडुरंग सदाशिव साने

Answer:

C.पांडुरंग वामन काणे

Reference ID:(15932)

खालील प्रश्न हे खाली दिलेल्या पाच तीन अंकी संख्यांवर आधारित आहे:

526 346 937 593 853

जर प्रत्येक संख्येमधील पहिल्या आणि तिसऱ्या अंकांच्या स्थानाची अदलाबदल केली. तर अशाप्रकारे तयार झालेल्या दुसऱ्या सर्वात मोठ्या संख्येच्या सर्व अंकांची बेरीज काय असेल?

A.11

B.12

C.15

D.13

Answer:

D.13

**A chain is as strong as the weakest link**

---

A.A chain is as weak as its links

---

B.A chain is weak with links

---

C.A chain cannot be strong

---

D.A chain is strong only if all the links are strong

---

Answer:

D.A chain is strong only if all the links are strong

---

Reference ID:(15942)

वीस महिला सोळा दिवसांत एक काम करू शकतात. सोळा पुरुष तेच काम पंधरा दिवसांत पूर्ण करू शकतात. पुरुष आणि महिलांच्या क्षमतेमधील गुणोत्तर काय आहे?

---

A.3 : 2

---

B.4 : 3

---

C.5 : 3

---

D.अपूरी माहिती

---

Sab Answer: Sabka ek bhaijaan

B.4 : 3

Sabka ek bhaijaan

Sabka ek bhaijaan

---

Reference ID:(15689)

पुढील वाक्यातील अव्ययाचा प्रकार ओळखा.  
'बापरे! तो पहा साप कसला सरकन गेला!'

---

A.शब्दयोगी अव्यय

---

B.उभयान्वयी अव्यय

---

C.क्रियाविशेषण अव्यय

---

D.केवलप्रयोगी अव्यय

---

Answer:

D.केवलप्रयोगी अव्यय

---

Reference ID:(15680)

पुढील शब्दाचे लिंग ओळखा.  
बाग

---

A.पुल्लिंग

---

B.स्त्रीलिंग

---



D.उभयलिंग

Answer:

D.उभयलिंग

Reference ID:(15686)

योग्य पर्यायाची निवड करा.  
ते आनंदाने -----

A.नाचतो

B.नाचते

C.नाचत

D.नाचले

Answer:

D.नाचले

Reference ID:(15698)

पुढील वाक्प्रचारांच्या योग्य अर्थाचा पर्याय निवडा.  
लष्कराच्या भाकऱ्या भाजणे-

A.नसती उठाठेव करणे

B.सैन्यात भरती होणे

C.आवश्याकता नसताना काम करणे

D.आयत्या बिळावर स्वार होणे

Answer:

A.नसती उठाठेव करणे

Reference ID:(15910)

2018 या वर्षामध्ये, महाराष्ट्र शासनाने राज्य शासनाच्या नोकऱ्यांमध्ये अनाथांना \_\_\_\_%  
आरक्षणाची घोषणा केली.

A.एक

C.पाच

D.तेरा

Answer:

A.एक

Reference ID:(15937)

गावाची लोकसंख्या ही 6% प्रति वर्ष या दराने वाढते. ग्रामीण विकासामुळे लोकसंख्येमध्ये अतिरिक्त 2% ची वाढ झाली. त्यामुळे 2 वर्षांनंतर लोकसंख्येमधील झालेल्या वाढीची टक्केवारी असेल?

A.15.46%

B.16.64%

C.14.46%

D.12.56%

Answer:

B.16.64%

Reference ID:(15944)

तांदळाच्या किमतीमध्ये 20% घट झाल्यास गृहिणी 1200 रुपयांमध्ये आणखी 5 किग्रॅ जास्त तांदूळ खरेदी करू शकते. प्रति किलो तांदळाची कमी झालेली किंमत काय आहे

A.36 रु.

B.45 रु.

C.48 रु.

D.60 रु.

Answer:

C.48 रु.

Reference ID:(15400)

Choose the option that has the correct spelling:

B.Sedentary

C.Sedentery

D.Sedantary

Answer:

B.Sedentary

Reference ID:(15925)

एकाचवेळी दोन फासे फेकल्यास, बेरीज 7 मिळण्याची संभाव्यता काय आहे?

A.1/5

B.1/6

C.2/3

D.3/2

Answer:

B.1/6

Reference ID:(15660)

Choose the appropriate articles for the given sentence:

\_\_\_\_\_ Godavari is one of \_\_\_\_\_ largest river in \_\_\_\_\_ South India.

A.The, the, no article

B.No article, a, the

C.A, a, the

D.The, no article, a

Answer:

A.The, the, no article

Reference ID:(15934)

खाली दिलेल्या श्रृंखलेमध्ये अंकांचा एक विशिष्ट क्रम दिलेला आहे. त्यानुसार चुकीचा क्रम ओळखा:

439, 778, 1456, 2812, 5624,10948

A.439

B.5624

C.1456

Answer:

B.5624

Reference ID:(15911)

भारतीय संसदेमध्ये \_\_\_\_\_ चा समावेश होतो.

A.फक्त राष्ट्रपती आणि लोकसभा

B.फक्त राष्ट्रपती आणि राज्यसभा

C.फक्त राज्य सभा आणि लोकसभा

D.राष्ट्रपती, राज्यसभा आणि लोकसभा

Answer:

D.राष्ट्रपती, राज्यसभा आणि लोकसभा

Reference ID:(15923)

कोणत्या गोष्टीमुळे आकाशाचा रंग निळा आहे असे वाटते.

A.परावर्तन

B.अपवर्तन

C.विकिरण

D.अपस्करण

Answer:

C.विकिरण

3 Ang Mo Kio Avenue 3, #B1-49,  
Ang Mo Kio Hub, Singapore 569933  
+65 6452 2262

(i) 3 Ang Mo Kio Avenue 3, #B1-49,  
Ang Mo Kio Hub, Singapore 569933  
+65 6452 2262

(ii) 3 Ang Mo Kio Avenue 3, #B1-49,  
Ang Mo Kio Hub, Singapore 569933  
+65 6452 2262

(iii) 3 Ang Mo Kio Avenue 3, #B1-49,  
Ang Mo Kio Hub, Singapore 569933  
+65 6452 2262

(iv) 3 Ang Mo Kio Avenue 3, #B1-49,  
Ang Mo Kio Hub, Singapore 569933  
+65 6452 2262

A.i

B.ii

C.iii

D.iv

Answer:

B.ii

Reference ID:(15922)

खालीलपैकी कोणते राष्ट्रीय उद्यान मुंबई शहराच्या सीमेच्या आत स्थित आहे?

A.इंदिरा गांधी राष्ट्रीय उद्यान

B.जवाहरलाल नेहरू राष्ट्रीय उद्यान

C.संजय गांधी राष्ट्रीय उद्यान

D.नवेगांव राष्ट्रीय उद्यान

Answer:

C.संजय गांधी राष्ट्रीय उद्यान

Reference ID:(15920)

मे महिन्याच्या सुरुवातीला गोवा समुद्र किनाऱ्याजवळ भारतासह इतर कोणता देश त्यांचा सर्वात मोठा नौदल अभ्यास, 'वरुण' सुरू करणार आहे.

B.फ्रांस

C.चीन

D.कोरीया

Answer:

B.फ्रांस

Reference ID:(15935)

रिकाम्या जागी योग्य संख्या निवडून श्रृंखला पूर्ण करा:

142, 70, 34, 16, \_\_\_\_\_, 2.5

A.5

B.6

C.7

D.8

Answer:

C.7

Reference ID:(15930)

श्री. रघू यांचे आजचे वय त्यांच्या मोठ्या बहिणीच्या एक तृतीयांश आहे पण आजपासून पाच वर्षांनंतर ते तिच्या वयाच्या निम्मे होईल. तर श्री. रघू ह्यांच्या बहिणीचे आजचे वय काय आहे?

A.10 वर्ष

B.15 वर्ष

C.20 वर्ष

D.25 वर्ष

Answer:

B.15 वर्ष

Reference ID:(15933)

16 जून, 1993 रोजी कोणता दिवस होता?

A.बुधवार

C.शुक्रवार

D.शनिवार

Answer:

A.बुधवार

Reference ID:(15654)

Choose the correct form of adjective for the given sentence:

For over a century, the Rotary International is serving the society through its invaluable associations with \_\_\_\_\_ individuals and organizations world over.

A.committed

B.committing

C.committee

D.committal

Answer:

A.committed

Reference ID:(15903)

खालीलपैकी कोणत्या शहरामध्ये आणि कोणत्या मतदारसंघामधून सर्वाधिक किन्नरांची नोंदणी झाली आहे (324)?

A.पुणे आणि उत्तर लोकसभा मतदारसंघ

B.लखनऊ आणि उत्तर लोकसभा मतदारसंघ

C.मुंबई आणि उत्तर लोकसभा मतदारसंघ

D.बेंगलुरू आणि दक्षिण लोकसभा मतदारसंघ

Answer:

C.मुंबई आणि उत्तर लोकसभा मतदारसंघ

Reference ID:(15687)

अधोरेखित क्रियापदाचा प्रकार ओळखा.  
एवढ्या पथ्यानंतर आता मला थोडे खाववते.

A.साधित

B.शक्य

C.संयुक्त

D.सहायक

Answer:

B.शक्य

Reference ID:(15653) Choose the appropriate option with the correct capitalization and punctuation marks for the given sentence:

Mr akhil ram the chairman mr suket ram his son and their business partners attended the inauguration ceremony

A.MrAkhil Ram the Chairman .MrSuket Ram his son and their business partners attended the inauguration ceremony.

B.MrAkhil Ram the chairman ,MrSuket Ram his son ,and their business partners attended the inauguration ceremony !

C.Mr. Akhil Ram, the Chairman; Mr. Suket Ram, his son; and their business partners attended the inauguration ceremony.

D.MrAkhil ram the chairman Mr suket ram his son and their business partners, attended the inauguration ceremony.

Answer: C.Mr. Akhil Ram, the Chairman; Mr. Suket Ram, his son; and their business partners attended the inauguration ceremony.

Reference ID:(15908) महाराष्ट्र लेदर उद्योग विकास महामंडळ महाराष्ट्र शासनाच्या खालीलपैकी कोणत्या विभागाखाली येते?

A.कौशल्य विकास आणि उद्योजकत्व विभाग

B.उद्योग विभाग

C.रोजगार हमी योजना विभाग

D.सामाजिक न्याय आणि विशेष सहाय्य विभाग

Answer: D.सामाजिक न्याय आणि विशेष सहाय्य विभाग

Reference ID:(15946) एका विशिष्ट किमतीला वस्तूची विक्री केल्यानंतर, विक्रेत्याला विक्री किमतीवर 20% नफा होतो. खरेदी किमतीवर त्याच्या नफ्याची टक्केवारी काढा.

A.50%

B.30%

C.15%

D.25%



Reference ID:(15692)

पुढील वाक्यांमधील विशेषण ओळखा.  
त्याचं असं वागणं ही आमच्या घरातली मोठी क्रांतीच होती.

A. आमच्या

B. होती

C. क्रांती

D. घर

Answer:

A. आमच्या

Reference ID:(15699)

पुढील वाक्यात पर्यायातील अचूक वाक्प्रचार निवडा.  
घरातला एवढा पसारा बघून मी चकित झाले अगदी.

A. भान विसरणे

B. गुंग होणे

C. थक्क होणे

D. फुकट जाणे

Answer:

C. थक्क होणे

Reference ID:(15675)

'निढळावरचा घाम' म्हणजे-

A. गालावरचा घाम

B. मानेवरचा घाम

C. कपाळावरचा घाम

D. शरीरावरचा घाम

Answer:

C. कपाळावरचा घाम

Reference ID:(15936) रिकाम्या जागी योग्य संख्या निवडून श्रृंखला पूर्ण करा:  
2, 10, 37, 101, 226, \_\_\_\_\_

A.324

B.442

C.526

D.636

Answer: B.442

Reference ID:(15652) Choose the appropriate option with the correct punctuation marks for the given sentence:

i need sugar butter and milk from the grocery store

A.I need sugar; butter, and milk from the grocery store

B.I need sugar, butter, and milk, from the grocery store.

C.I need: sugar butter and milk from the grocery store.

D.I need sugar, butter, and milk from the grocery store.

Answer: D.I need sugar, butter, and milk from the grocery store.

Reference ID:(15916) डॉ. बी.आर.आंबेडकर, भारतीय संविधानाचे मुख्य शिल्पकार स्वतंत्र भारताचे \_\_\_\_\_ होते.

A.कायदा मंत्री

B.गृहमंत्री

C.वित्तमंत्री

D.संरक्षण मंत्री

Answer: A.कायदा मंत्री

Reference ID:(15672) Out of the following options, identify a simple sentence.

A.Simran loves football, Amit loves cricket but neither loves hockey.

B.Simran loves football but she loves tennis more.

C.Simran loves football and Amit loves cricket.

Answer: D.Simran loves football.

Reference ID:(15665) Choose the correct form of modal auxiliary verb for the given sentence:

During her hard days she \_\_\_\_\_ often think of her native country.

A.should

B.would

C.will

D.shall

Answer: B.would

Reference ID:(15685) दिलेल्या काळात परिवर्तन करण्यासाठी योग्य पर्याय निवडा.  
दुकानदार वस्तू विकत होता. (रीति भविष्यकाळ)

A.विकेल

B.विकत असतो

C.विकत जाईल

D.विकत असे

Answer: C.विकत जाईल

Reference ID:(15696) पुढीलपैकी कोणत्या विभक्तीचे एकवचन आणि अनेकवचनातील प्रत्यय सारखे आहेत?

A.षष्ठी

B.पंचमी

C.तृतीया

D.संबोधन

Answer: B.पंचमी

A.2 मार्च 2019

B.3 मार्च 2019

C.4 मार्च 2019

D.5 मार्च 2019

Answer: A.2 मार्च 2019

Reference ID:(15907) सर एडविन ल्युटीयन्ससोबत, भारताच्या संसद भवनाची रचना खालीलपैकी कोणी केला?

A.सर विलियम एमर्सन

B.जॉर्ज विटेट

C.सर हर्बर्ट बेकर

D.एफ डब्ल्यू स्टीव्हन्स

Answer: C.सर हर्बर्ट बेकर

Reference ID:(15656) Fill in the blank with the correct noun for the given sentence:

I forgot to renew my \_\_\_\_\_ for the City Club.

A.member

B.membership

C.members

D.memorycard

Answer: B.membership

Reference ID:(15664) Which of the following options best combines the two given sentences?

He finished his breakfast. He washed the plates.

A.Having finished breakfast, the plates were he washed.

B.He having finished his breakfast and wash plates.

C.He finished his breakfast and washed the plates.

D.He was being finished his breakfast to wash the plates.

Reference ID:(15661) Choose the appropriate articles to complete the given sentence:

Samrat is \_\_\_\_\_ employee in \_\_\_\_\_ software company near \_\_\_\_\_ shopping mall.

A.an, a, a

B.the, an, the

C.a, an, the

D.a, the, the

Answer: A.an, a, a

Reference ID:(15926) 2 पूर्वग्रहरहित नाणी उधळली गेली. किमान 1 छापा मिळण्याची संभाव्यता काय आहे?

A. $\frac{3}{4}$

B. $\frac{1}{3}$

C. $\frac{1}{4}$

D. $\frac{1}{5}$

Answer: A. $\frac{3}{4}$

Reference ID:(15912) खालीलपैकी कोणते हरित आयएसओ प्रमाणपत्र मिळालेले भारताचे पहिले रेल्वे स्थानक बनले आहे?

A.गुवाहाटी

B.दिल्ली

C.हावडा

D.चेन्नई सेंट्रल

Answer: A.गुवाहाटी

Date of Exam : 22-07-2019 10:00 AM

Reference ID:(10970) Choose the most suitable conjunction for the given sentence:

It was a very long day \_\_\_\_\_ I was tired by the end of it.

A.so

B.and

C.but

D.thereafter

Answer: B.and

Reference ID:(10958) Fill in the blank with the correct noun for the given sentence:

\_\_\_\_\_ used to think that emotions affected a person's \_\_\_\_\_.

A.Scientists ... rationality

B.Environmentalists ... ration

C.Activists ... rationalization

D.People ... rationalizing

Answer: A.Scientists ... rationality

Reference ID:(10973) Choose the correct form of verb that is in agreement with the subject:

Don't you enjoy \_\_\_\_\_ television?

A.to watch

B.watching

C.to watching

D.watch

Answer: B.watching

A.डॉ. शेखर बासू

B.श्री. कमलेश निळकंठ व्यास

C.डॉ. अजित कुमार मोहंती

D.डॉ. राजा रामण्णा

Answer:

C.डॉ. अजित कुमार मोहंती

Reference ID:(10988)

योग्य पर्यायाची निवड करा.  
ते ४० वर्षापूर्वी सायकलीवर -----

A.फिरणार

B.फिरत असत

C.फिरून फिरून

D.फिरताना

Answer:

B.फिरत असत

Reference ID:(10964)

Choose the correct form of verbs for the given sentence:

Lakshmi and Pankajam \_\_\_\_\_ friends ever since \_\_\_\_\_ school days

A.are, their

B.is, their

C.are, her

D.was, their

Answer:

A.are, their

Reference ID:(10966)

Which of the following options best combines the two given sentences?

He is a cripple. He cannot ride a horse.

A.Crippling, he cannot ride a horse.

B.He is crippling because he cannot ride a horse.

C.He cannot ride a horse he is a cripple.

D.Being a cripple, he cannot ride a horse.

Reference ID:(11247)

B आणि C एकत्र जेवढ्या वेळेत एक विशिष्ट काम करतील तेवढाच वेळ एकट्या A ला लागतो. जर A आणि B यांनी ते काम 10 दिवसांत केले असेल आणि एकट्या C ने 50 दिवसांत केले असेल, तर एकटा B ते किती दिवसांत करू शकतो:

A. 15 दिवस

B. 20 दिवस

C. 25 दिवस

D. 30 दिवस

Answer:

C. 25 दिवस

Reference ID:(11216)

पुढीलपैकी कोणत्या हॉकी खेळाडूने 2018 मध्ये अर्जुन पुरस्कार जिंकला होता?

A. श्री मनप्रीत सिंग

B. कु. राही सरनोबत

C. श्री. जी. सत्यन

D. कु. पूजा काडियन

Answer:

A. श्री मनप्रीत सिंग

Reference ID:(10991)

रिकाम्या जागी योग्य पर्याय निवडा.  
..... अव्यये स्वतंत्र असे शब्द नसतात.

A. शब्दयोगी अव्यये

B. उभयान्वयी अव्यये

C. केवलप्रयोगी अव्यये

D. क्रियाविशेषण अव्यये

Answer:

A. शब्दयोगी अव्यये

Reference ID:(11228)

दोन फासे एकाचवेळी फेकल्यास, बेरीज 8 किंवा 9 मिळण्याची संभाव्यता काय आहे?

A. 5/36

B. 1/8

C. 1/4



Answer: C.¼

Reference ID:(10982) पुढील शब्दाचे लिंग ओळखा.  
वेळ

A.पुल्लिंग

B.स्त्रीलिंग

C.नपुसकलिंग

D.उभयलिंग

Answer: D.उभयलिंग

Reference ID:(11239) रिकाम्या जागी योग्य संख्या निवडून श्रृंखला पूर्ण करा:  
8, 10, 24, 78, 320, \_\_\_\_\_, 9672

A.740

B.1610

C.1600

D.1440

Answer: B.1610

Reference ID:(11248) A हा B पेक्षा दुपटीने जलद काम करतो. जर B स्वतंत्रपणे 12 दिवसांत काम पूर्ण करत असेल, तर A आणि B एकत्रितपणे किती दिवसांत ते काम पूर्ण करू शकतील?

A.4 दिवस

B.6 दिवस

C.8 दिवस

D.18 दिवस

Answer: A.4 दिवस

A.1676

B.1677

C.1678

D.1680

Answer:

D.1680

Reference ID:(10968)

Choose the appropriate prepositions for the sentence given.

They go from one studio \_\_\_\_\_ another hoping to obtain a role \_\_\_\_\_ some film.

A.to, form

B.to, in

C.from, to

D.to, from

Answer:

B.to, in

Reference ID:(11219)

व्यवसायिक सुरक्षा आणि आरोग्याला प्रोत्साहन देण्यासाठी भारतामधील खालीलपैकी कोणत्या राज्याने आंतरराष्ट्रीय व्हिजन झिरो संमेलन आयोजित केले?

A.महाराष्ट्र

B.उत्तर प्रदेश

C.मध्य प्रदेश

D.बिहार

Answer:

A.महाराष्ट्र

Reference ID:(11229)

52 कार्डांचा चांगल्याप्रकारे वर खाली केलेल्या डेकमधून, यादृच्छिकपणे एक कार्ड काढले जाते. काढलेले कार्ड किल्वर असण्याची संभाव्यता काय आहे?

A.1/52

B.13/52

C.4/52

D.26/2

Reference ID:(11225) खालीलपैकी कोणता तारा आपल्या सूर्याच्या सर्वात जवळचा तारा आहे?

A.अल्फा सेंटॉरी

B.श्वेतखुजा

C.ब्राऊन तारा

D.कृष्ण विवर

Answer: A.अल्फा सेंटॉरी

Reference ID:(11250) खाली दिलेल्या श्रृंखलेमध्ये अंकांचा एक विशिष्ट क्रम दिलेला आहे. त्यानुसार चुकीचा क्रम ओळखा:  
2, 6, 13, 26, 54, 100, 197

A.26

B.100

C.54

D.197

Answer: C.54

Reference ID:(11235) खालील प्रश्न हे खाली दिलेल्या पाच तीन अंकी संख्यांवर आधारित आहे:  
526 346 937 593 853

प्रत्येक संख्येच्या पहिल्या अंकामधून एक वजा केला आणि तिसऱ्या अंकामधून दोन वजा केले. अशाप्रकारे तयार झालेली दुसरी सर्वात मोठी संख्या काय असेल?

A.491

B.751

C.835

D.424

Answer: B.751

Reference ID:(11241) 500 विद्यार्थ्यांच्या वर्गामध्ये, 65% मुलं आहेत. 20% मुली आणि 40% मुलं परीक्षेमध्ये नापास झाली. परीक्षेमध्ये उत्तीर्ण झालेल्या शाळेमधील विद्यार्थ्यांची संख्या काढा

B.270

C.400

D.362

Answer:

A.335

Reference ID:(10965)

Choose the most suitable determiner for the given sentence:

Because his argument was so confusing, \_\_\_\_\_ people understood it.

A.few

B.lots

C.less

D.many

Answer:

A.few

Reference ID:(10957)

Choose the correct form of adjective for the given sentence:

He often appears not to care about his work, but appearance can be \_\_\_\_\_.

A.cunning

B.insincere

C.deceitful

D.deceptive

Answer:

D.deceptive

Reference ID:(10997)

पुढील वाक्यातील विरामचिन्ह ओळखा.

कॅकटस बागेत तर लावतातच; पण मनीप्लांटप्रमाणे कॅकटसच्या शोभेच्या कुंड्या अनेक घरात दिसतात.

A.प्रश्नचिन्ह

B.संयोगचिन्ह

D.अवतरण चिन्ह

Answer:

C.अर्धविराम

Reference ID:(10992)

पुढील वाक्यातील अधोरेखित अव्ययाचा प्रकार ओळखा.  
भारत विरुद्ध इंग्लंड क्रिकेट सामन्यातील उत्कंठा क्षणोक्षणी वाढत असते.

A.उभयान्वयी अव्यय

B.केवलप्रयोगी अव्यय

C.क्रियायाविशेषण अव्यय

D.शब्दयोगी अव्यय

Answer:

C.क्रियायाविशेषण अव्यय

Reference ID:(10962)

Choose the appropriate articles for the given sentence:

\_\_\_\_\_ tribal people of some parts of Madhya Pradesh practise  
\_\_\_\_\_ unique subculture which is \_\_\_\_\_ beauty of multiculturalism of India.

A.A, a, the

B.The, a, a

C.The, a, the

D.The, a, an

Answer:

C.The, a, the

Reference ID:(10960)

Choose the option with the appropriate suffix to complete the given sentence

Lack of presence of mind will cause absurd\_\_\_\_\_ in all the cases.

A.-tive

B.-ity

C.-tion

D.-sion

Answer:

B.-ity

A.स्+फ्+उ

B.स्+फ्+ऊ

C.स्+फ्+अ

D.स्+ऊ+फ्

Answer:

B.स्+फ्+ऊ

Reference ID:(10967)

Choose the correct form of modal auxiliary verb for the given sentence:

Nobody \_\_\_\_\_ leave the class without my permission.

A.may

B.will

C.should

D.might

Answer:

C.should

Reference ID:(10985)

वाक्यांमधील सार्थ वाक्य ओळखा.

A.डोंगरातला झरा मुक्तपणे खळखळत होता.

B.डोंगरातला झरा मुक्तपणे सळसळत होता.

C.डोंगरातला झरा मुक्तपणे वळवळत होता.

D.डोंगरातला झरा मुक्तपणे घणघणात होता.

Answer:

A.डोंगरातला झरा मुक्तपणे खळखळत होता.

Reference ID:(10971)

Choose the appropriate conjunction for the given sentence:

He resigned his job \_\_\_\_\_ escape dismissal.

A.in spite

B.in order to

D.but

Answer:

B.in order to

Reference ID:(11234)

खाली दिलेल्या चार पत्यांपैकी कोणता पत्ता खाली दिलेल्या पत्त्याशी अचूकपणे जुळत नाही?

Fook Hai Building, 150 South Bridge Road,  
Singapore 058727  
+65 6438 8880

(i) Fook Hai Building, 150 South Bridge Road,  
Singapore 058727  
+65 6438 8880

(ii) Fook Hai Building, 150 South Bridge Road,  
Singapore 058727  
+65 6438 8880

(iii) Fook Hai Building, 150 South Brjidge Road,  
Singapore 058727  
+65 6348 8880

(iv) Fook Hai Building, 150 South Bridge Road,  
Singapore 058727  
+65 6438 8880

A.i

B.ii

C.iii

D.iv

Answer:

C.iii

Reference ID:(10955)

Choose the appropriate option with the correct punctuation marks for the given sentence:

The team leader exclaimed hurray we won the first prize

A.The team leader exclaimed, "Hurray! We won the first prize!"

B.The team leader exclaimed, hurray we won the first prize.

C.The, team leader exclaimed, "Hurray we won the first prize."

D.The team leader exclaimed: "Hurray we won the first prize."

Answer:

A.The team leader exclaimed, "Hurray! We won the first prize!"

Sabka ek bhaijaan

Sabka ek bhaijaan

Sabka ek bhaijaan

Reference ID:(10972)

Choose the most appropriate usage to fill in the blank in the given sentence:

An organization wants \_\_\_\_\_ of its employees.

A.loyal

B.loyalty

C.lawfulness

D.loyally

Answer:

C.lawfulness

Reference ID:(10961)

Choose the option with the appropriate suffix to complete the given sentence:

My sister-in-law is very talka\_\_\_\_\_ even with strangers.

A.-ity

B.- tive

C.- ile

D.-sion

Answer:

B.- tive

Reference ID:(10986)

रिकाम्या जागी योग्य शब्द निवडा.  
विधेयाविस्तारात ----- विषयी अधिक माहिती असते.

A.उद्देश्या

B.कर्मा

C.अलंकारा

D.क्रियापदा

Answer:

D.क्रियापदा

Reference ID:(10977)

'खटका उडणे' मधील खटका या शब्दाचा योग्य पर्याय

A.कडी

Sabka ek bhaijaan

Sabka ek bhaijaan

Sabka ek bhaijaan



C.भांडण

D.कळ

Answer:

C.भांडण

Reference ID:(11214)

2019 मध्ये कोणत्या भारतीय व्यक्तीला लंडनमधील दि युनिवर्सिटी ऑफ लॉ द्वारे लोककल्याणामध्ये मानद डॉक्टरेट पदवी प्रदान करण्यात आली?

A.शाह रुख खान

B.सलमान खान

C.आमिर खान

D.रणबीर कपूर

Answer:

A.शाह रुख खान

Reference ID:(11205)

"नार्इट फ्रँक प्राईम आंतरराष्ट्रीय रहिवास निर्देशांक (पीआयआरआय 100): अहवालानुसार, कोणते शहर जगामधील 16 वे अत्यंत खर्चिक प्रमुख रहिवासी बाजार बनले आहे?

A.बेंगलुरू

B.मुंबई

C.हैदराबाद

D.लखनऊ

Answer:

B.मुंबई

Reference ID:(11217)

\_\_\_\_\_ हे महाराष्ट्राचे धार्मिक लोकनृत्य आहे जे धार्मिक परमानंद व्यक्त करते.

A.बिहू

B.जुमुर

C.नाती

D.दिंडी

Answer:

D.दिंडी

Reference ID:(11207)

नवी दिल्लीमध्ये "उन्नत भारत अभियान 2.0" कोणत्या मंत्रालयाने सुरू केले?

B.ग्रामीण विकास मंत्रालय

C.शहरी विकास मंत्रालय

D.मानवी संसाधन विकास मंत्रालय

Answer:

D.मानवी संसाधन विकास मंत्रालय

Reference ID:(11233)

8 वर्षांपूर्वी प्रभुचं वय त्याच्या मुलाच्या वयाच्या 4 पट होतं. 8 वर्षांनंतर प्रभुचं वय त्याच्या मुलाच्या वयाच्या दुप्पट असेल. तर प्रभुचं सध्याचं वय किती?

A.30 वर्ष

B.35 वर्ष

C.40 वर्ष

D.45 वर्ष

Answer:

C.40 वर्ष

Reference ID:(10987)

दिलेल्या काळात परिवर्तन करण्यासाठी योग्य पर्याय निवडा.  
आजी चष्मा टेबलावर ठेवते. (अपूर्ण वर्तमानकाळ)

A.ठेवत होती

B.ठेवत असेल

C.ठेवत आहे

D.ठेवत असे

Answer:

C.ठेवत आहे

Reference ID:(11000)

पुढील वाक्यचारांच्या योग्य अर्थाचा पर्याय निवडा.  
वाटाण्याच्या अक्षता लावणे-

A.हैराण करणे

B.लग्नाचे वचन देऊन फसवणे

C.आश्वासन देऊनही ते पुरे न करणे

D.कर्तव्याशून्य वागणे

Answer:

C.आश्वासन देऊनही ते पुरे न करणे

A.शनिवार

B.रविवार

C.सोमवार

D.मंगळवार

Answer:

A.शनिवार

Reference ID:(11226)

जमिनीत पाणी मुरण्याच्या प्रक्रियेला \_\_\_\_\_ असे म्हणतात.

A.झिरपणे

B.पावसाच्या पाण्याचे पुनर्भरण

C.पाणी पुरवठा

D.चार्ज होणे

Answer:

A.झिरपणे

Reference ID:(10994)

पुढील वाक्यांमधील विशेषण ओळखा.  
मिट्ट काळोख पडला होता, आम्ही घरी पोचलो तेव्हा

A.मिट्ट

B.काळोख

C.आम्ही

D.तेव्हा

Answer:

A.मिट्ट

Reference ID:(11212)

"अनुसूचित जाती/नव बुध्द शेतकऱ्यांना शाश्वत सिंचन सुविधा पुरवण्याच्या" उद्दिष्ट्याने महाराष्ट्र शासनाने कोणत्या योजनेची अंमलबजावणी केली?

A.राजर्षी शाहू महाराज योजना

B.आदर्शगांव योजना

C.नमो युवा रोजगार योजना

D.डॉ. बाबासाहेब आंबेडकर कृषी स्वावलंबन योजना

Answer:

D.डॉ. बाबासाहेब आंबेडकर कृषी स्वावलंबन योजना

Reference ID:(10956) Choose the correct form of adjective for the given sentence:

Of the young director's two movies, the second one is \_\_\_\_\_.

A.better

B.good

C.best

D.worst

Answer:

A.better

Reference ID:(10953)

Choose the option that has the correct spelling for the missing word in the given sentence:

The cat scratched me with its \_\_\_\_\_.

A.claw

B.claaw

C.cluws

D.clows

Answer:

A.claw

Reference ID:(11221)

स्वच्छ सर्वेक्षण 2019 पुरस्कारामध्ये, देशामधील 'उत्तम प्रदर्शन करणारे राज्य-क्र.3' म्हणून \_\_\_\_\_ ला पुरस्कृत करण्यात आले.

A.तामिळ नाडू

B.महाराष्ट्र

C.कर्नाटक

D.हिमाचल प्रदेश

Answer:

B.महाराष्ट्र

Reference ID:(10996)

पुढील वाक्यांमधे योग्य ते अव्यय घाला.  
नामा म्हणे मेघा जैसा। विनवितो चातक -----।

A.जर

---

C.तसा

---

D.तैसा

---

Answer:

D.तैसा

---

Reference ID:(10974)

Out of the following options, identify a compound sentence.

---

A.Although Simran loves football and Amit loves cricket but neither loves hockey.

---

B.Simran loves football and Amit loves cricket.

---

C.While loving football, Simran loves tennis too.

---

D.Simran only loves football.

---

Answer:

B.Simran loves football and Amit loves cricket.

---

Reference ID:(11230)

सरासरी काढा.  
74, 56, 89, 92, 68 & 35

---

A.89

---

B.75

---

C.69

---

D.96

---

Answer:

C.69

---

Reference ID:(11202)

"कनेक्टिंग पीपल" ही खालीलपैकी कोणत्या कंपनीची टॅगलाइन आहे?

---

A.व्हाडाफोन

---

B.सॅमसंग

---

C.एयरटेल

---

D.नोकिया

---

Answer:

D.नोकिया

A.135

B.147

C.155

D.169

Answer:

D.169

Reference ID:(11237)

खाली दिलेल्या श्रृंखलेमध्ये अंकांचा एक विशिष्ट क्रम दिलेला आहे. त्यानुसार चुकीचा क्रम ओळखा:

8, 9.5, 10.5, 14, 17, 20.5

A.17

B.9.5

C.10.5

D.14

Answer:

C.10.5

Reference ID:(10969)

Choose the option with the best prepositional phrase to complete the given sentence:

I have salt \_\_\_\_\_ every day as I feel too much is bad for one's health.

A.by all means

B.at a price

C.in moderation

D.in excessively

Answer:

C.in moderation

Reference ID:(11222)

23 एप्रिल 2019 रोजी क्विगडाओ येथे आयोजित चायनिज इंटरनॅशनल फ्लिट रिविव्हमध्ये भाग घेतलेल्या भारतीय नौदलाच्या लढाऊ जहाज आणि टँकरचे नाव सांगा.

A.आयएनएस मैसूर, आयएनएस दिल्ली

B.आयएनएस दिल्ली, आयएनएस मुंबई

C.आयएनएस मुंबई, आयएनएस शक्ती

Answer: D.आयएनएस कोलकाता, आयएनएस शक्ती

Reference ID:(10981) रिकाम्या जागी योग्य जोडशब्द लिहा.  
आज मुलांनी खूप ----- केली.

- A.दंगामस्ती  
B.भांडणकांडण  
C.उठाउठी  
D.आरडाओरडा

Answer: A.दंगामस्ती

Reference ID:(11218) राष्ट्रीय आपत्ती व्यवस्थापन प्राधिकरण (एनडीएमए) ने हीट व्हेव 2019 कार्यशाळा महाराष्ट्रामधील कोणत्या शहरात आयोजित केली?

- A.पुणे  
B.मुंबई  
C.नागपूर  
D.सोलापूर

Answer: C.नागपूर

Reference ID:(10983) रिकामी जागा भरा.  
..... होणारा वाक्याचा प्रकार म्हणजे केवळ वाक्य.

- A.अर्थानुसार  
B.भावानुसार  
C.आशयानुसार  
D.रचनेनुसार

Answer: D.रचनेनुसार

Reference ID:(11750) खाली दिलेल्या क्रमामध्ये, पुढे कोणती आकृती येईल?





Answer:



Reference ID:(10984)

पुढील वाक्याचा प्रकार ओळखा.  
कोणी निंदा कोणी वंदा

A.प्रश्नार्थी

B.मिश्र वाक्य

C.संयुक्त वाक्य

D.केवल वाक्य

Answer:

C.संयुक्त वाक्य

Reference ID:(11203)

खालीलपैकी कोणत्या संघाने चेन्नईमध्ये प्रो व्हॉलीबॉल लीग (पीव्हीएल) 2019 ची आरंभिक आवृत्ती जिंकली?

A.चेन्नई स्पार्टन्स

B.कॅलिकत हिरोज

C.कोची ब्लू स्पार्इकर्स

D.यु मुंबा व्हॉली

Answer:

A.चेन्नई स्पार्टन्स

Reference ID:(11204)

कोची शहर आणि आसपासच्या क्षेत्रामध्ये पिण्याचे पाणी पुरवते आणि ती विरंजनाची साक्षीदार असलेल्या केरळमधील नदीचे नाव सांगा.

A.पेरियार

B.भारतपुझा



D.चालियार

Answer:

A.पेरियार

Reference ID:(11213)

कोणाला अलिकडे युनायटेड अरब एमिरेट्सद्वारे सर्वोच्च पदक ज्ञायेद पदकाने सन्मानित केले गेले?

A.नरेंद्र मोदी

B.प्रणब मुखर्जी

C.अरूण जेटली

D.नितीन गडकरी

Answer:

A.नरेंद्र मोदी

Reference ID:(10989)

अधोरेखित क्रियापदाचा प्रकार ओळखा.  
मी घरी जाण्यापूर्वी सांजावले.

A.कृदंत

B.भावकर्तुक

C.शक्य

D.प्रयोजक

Answer:

B.भावकर्तुक

Reference ID:(10952)

Choose the option that has the correct spelling.

A.Pausteurization

B.Pasteurigation

C.Pasteurization

D.Pasterization

Answer:

C.Pasteurization

Reference ID:(11240)

सुरूवातीला, दुकानदाराकडे "x" पेन होते. एका ग्राहकाने "x" कडून 10% पेन खरेदी केले मग दुसऱ्या ग्राहकाने उर्वरित पेनांच्या 20% पेन खरेदी केली त्यानंतर आणखी एका ग्राहकाने उर्वरित पेनांच्या 25% पेन खरेदी केले. शेवटी दुकानदाराकडे त्याच्या दुकानात 270 पेन शिल्लक राहिले. त्याच्या दुकानामध्ये सुरूवातीला किती पेन होते?

A.200

B.800

C.400

D.500

Answer:

D.500

Reference ID:(10995)

अनेकवचनांचे एक वचन करा.  
उत्तरपत्रिकांमध्ये उत्तरे चुकली तर त्या शब्दांवर रेघा मारू नका.

A.उत्तरपत्रिकेमध्ये उत्तर चुकले तर त्या शब्दांवर रेघा मारू नकोस.

B.उत्तरपत्रिकेमध्ये उत्तर चुकले तर त्या शब्दावर रेघ मारू नकोस.

C.उत्तरपत्रिकेमध्ये उत्तरे चुकली तर त्या शब्दावर रेघ मारू नकोस .

D.उत्तरपत्रिकांमध्ये उत्तर चुकले तर त्या शब्दांवर रेघा मारू नकोस.

Answer:

B.उत्तरपत्रिकेमध्ये उत्तर चुकले तर त्या शब्दावर रेघ मारू नकोस.

Reference ID:(11232)

वडील आणि मुलगा ह्यांच्या वयाची बेरीज 45 वर्षे आहे. पाच वर्षांपूर्वी त्यांच्या वयाचा गुणाकार वडिलांच्या त्या वेळच्या वयाच्या चार पट होता. तर वडील आणि मुलगा ह्यांची सध्याची वय अनुक्रमे अशी असतील:

A.34 वर्ष, 11 वर्ष

B.35 वर्ष, 10 वर्ष

C.36 वर्ष, 9 वर्ष

D.40 वर्ष, 5 वर्ष

Answer:

C.36 वर्ष, 9 वर्ष

Reference ID:(11244)

20 विद्यार्थी असलेल्या वर्गामधील गणिताच्या परीक्षेमध्ये 2 विद्यार्थ्यांना प्रत्येकी 100 गुण मिळाले, 3 ना प्रत्येकी शून्य गुण मिळाले आणि बाकींची सरासरी 40 होती. संपूर्ण वर्गाची सरासरी काय आहे?

A.40

B.45

C.50

D.35

Answer:

A.40

Reference ID:(11210)

भारत- ऑस्ट्रेलिया द्विपक्षीय अभ्यास, ऑसिन्डेक्स 19 ची तिसरी पुनरावृत्ती येथे आयोजित केली गेली होती:

A.कन्याकुमारी

B.विशाखापट्टणम

C.मुंबई

D.पोर्ट ब्लेअर

Answer:

B.विशाखापट्टणम

Reference ID:(11227)

खाली दिलेल्या मांडणीचा काळजीपूर्वक अभ्यास करा आणि दिलेल्या प्रश्नाए उत्तर द्या.  
5 D E F 6 \* 14 B M A \$ J # H L O @ P T U 2 R Q

वरील मांडणीमधील स्थानावर आधारित खालील पाचपैकी चार हे विशिष्ट प्रकारे सारखे आहेत आणि त्यामुळे त्यांचा गट तयार होतो. गटाशी संबंधित नसलेला एक कोण आहे?

A.7A:#J

B.6\*:4B

C.14:MA

D.HL:@P

Answer:

A.7A:#J

Reference ID:(11209)

समाजामधील कोणत्या विभागाशी संबंधित सामाजिक विकासासाठी मार्च 2019 मध्ये ग्राम पंचायतींसह पंचायत राज मंत्रालय, भारत शासनाद्वारे नवीन पुरस्कार स्थापित करण्यात आला?

A.महिला

B.लहान मुले

D.मागासवर्गीय

Answer:

B.लहान मुले

Reference ID:(10980)

रिकाम्या जागी योग्य जोडशब्द लिहा.  
सहलीला जाताना आम्ही ----- बरोबर घेतले.

A.चादरउशी

B.आंथरुणचादर

C.उशीगादी

D.अंथरुणपांघरुण

Answer:

D.अंथरुणपांघरुण

Reference ID:(10998)

विभक्तीचे प्रत्यय लावण्यापूर्वी नाम किंवा सर्वनामाच्या मूळ रूपात बदल होऊन तयार होणाऱ्या रूपाला काय म्हणतात?

A.सामान्यरूप

B.सरळरूप

C.आख्यात

D.प्रयोग

Answer:

A.सामान्यरूप

Reference ID:(11201)

पुढील वाक्यात पर्यायातील अचूक वाक्प्रचार निवडा.  
काही काम सांगितलं की तू दरवेळेसच नाराजी का दर्शवतेस?

A.कपाळावर आठ्या पडणे

B.डोळ्यात पाणी येणे

C.थरथर कापणे

Answer: A.कपाळावर आठ्या पडणे

Reference ID:(10978) दिलेल्या शब्दगटातून विरुद्धार्थी शब्द ओळखा.  
तापमान – कमाल X -----

A.जास्त

B.कमी

C.किमान

D.मध्यम

Answer: C.किमान

Reference ID:(11206) काँग्रेसचे अध्यक्ष, राहुल गांधी, यांनी खालीलपैकी कोणत्या 2019 लोकसभा मतदार संघामधून त्यांचे नामांकन कागदपत्र दाखल केले आहे.

A.मुजफ्फरनगर

B.गाजियाबाद

C.अमेठी

D.मुरादाबाद

Answer: C.अमेठी

Reference ID:(11220) जानेवारी 2019 मध्ये, भारताच्या पंत प्रधानांनी महाराष्ट्रामध्ये एनएच-211 च्या सोलापूर-  
\_\_\_\_\_ -उस्मानाबाद विभागाचे उद्घाटन केले.

A.पाहुर

B.बोदवड

C.तुळजापूर

D.यवतमाळ

Answer: C.तुळजापूर

A.रंगवला

B.रंगवली

C.रंगवते

D.रंगवले

Answer:

D.रंगवले

Reference ID:(10959)

Choose the appropriate collective noun to complete the sentence:

\_\_\_\_\_ found their way into the camp site.

A.A colony of ants

B.A herd of musicians

C.A crowd of cubs

D.A sloth of bears

Answer:

D.A sloth of bears

Reference ID:(11224)

महाराष्ट्रामधील खालीलपैकी कोणत्या ठिकाणी उत्पादित सूती चादरींना जीआय टॅग दिला गेला आहे?

A.सोलापूर

B.कोल्हापूर

C.पुणे

D.सांगली

Answer:

A.सोलापूर

Reference ID:(10979)

दिलेल्या शब्दगटातून विरुद्धार्थी शब्द ओळखा.  
पद – वरिष्ठ X -----

A.अधिकाराचे

B.उच्चा

C.कनिष्ठ

D.परिचित

Reference ID:(11242)

30 किमीचे अंतर कापण्यासाठी, अरुणला अनिलपेक्षा 2 तास जास्त लागतात. जर अरुणने त्याचा वेग दुप्पट केला, तर त्याला अनिलपेक्षा 1 तास कमी वेळ लागेल. अरुणचा वेग काय आहे?

A.8 किमी/तास

B.5 किमी/तास

C.4 किमी/तास

D.7 किमी/तास

Answer:

B.5 किमी/तास

Reference ID:(10963)

Choose the appropriate articles for the given sentence:

\_\_\_\_\_ teachers had \_\_\_\_\_ late lunch as the meeting lasted longer than \_\_\_ hour.

A.A, an, a

B.The, the, a

C.The, a, an

D.A, the, an

Answer:

C.The, a, an

Reference ID:(11246)

A, B आणि C हे 3:4:5 या गुणोत्तरामध्ये गुंतवणूक करतात. त्यांच्या गुंतवणूकीवरील परताव्याच्या टक्केवारीचे गुणोत्तर 6:5:4 आहे. जर B हा A पेक्षा 250 रुपये अधिक कमवत असेल तर एकूण कमाई काढा.

A.7500

B.6999

C.4575

D.7250

Answer:

D.7250

Reference ID:(11245)

X या व्यक्तीने Y व्या व्यक्तीला 40% तोट्याने एका वस्तूची विक्री केली, मग Y ने ती वस्तू Z या तिसऱ्या व्यक्तीला 40% नफ्याने विकली आणि शेवटी Z ने पुन्हा ती वस्तू X ला 40% नफ्याने विकली. या संपूर्ण प्रक्रियेमध्ये X चा तोटा किंवा नफ्याची टक्केवारी किती आहे?

A.70%

B.62.5%

C.57.6%

D.55%

Answer:

C.57.6%

Reference ID:(11231)

करनचे सध्याचे वय खुशबुच्या वयाच्या चार पटीपेक्षा चार वर्षाने जास्त आहे. पाच वर्षांनंतर करनचे वय खुशबुच्या वयाच्या तिपटीपेक्षा 12 ने जास्त असेल. तर करनचे सध्याचे वय काढा.

A.36 वर्ष

B.46 वर्ष

C.16 वर्ष

D.76 वर्ष

Answer:

D.76 वर्ष

Reference ID:(11211)

हरियाणाचे मुख्य निवडणूक अधिकारी राजीव रंजन यांनी भारतामधील पहिल्याच 'मतदार उद्यान' चे उद्घाटन कुठे केले?

A.पालवाल

B.फरीदाबाद

C.गुरूग्राम

D.अंबाला

Answer:

C.गुरूग्राम



A.मखमली

B.कडू

C.गुणकारक

D.नावडते

Answer:

A.मखमली

Reference ID:(11236)

15 ऑगस्ट 2012 ला गुरूवार येतो तर 11 जून 2013 रोजी कोणता दिवस असेल?

A.बुधवार

B.गुरूवार

C.शुक्रवार

D.शनिवार

Answer:

A.बुधवार

Reference ID:(10976)

Choose the option that best expresses the meaning of the highlighted idiom/phrase:

My friend is a **down-to-earth** person.

A.very practical

B.lives on the ground floor

C.very sad

D.very mischievous

Answer:

A.very practical

Reference ID:(11243)

एक खेळाडू 24 सेकंदांमध्ये 200 मीटर धावतो. त्याचा वेग काय आहे?

A.20 किमी/तास

B.25 किमी/तास

C.27.5 किमी/तास

D.30 किमी/तास

Reference ID:(10954) Choose the appropriate option with the correct punctuation marks.

A.Vinod said why don't you join our college.

B.Why do you not join our college asked Vinod.

C.Vinod said, "Why don't you join our college?"

D.Vinod was asking why don't you join our college?

Answer: C.Vinod said, "Why don't you join our college?"

Reference ID:(10975) Choose the correct form of tense for the given sentence:

How long \_\_\_\_\_ you \_\_\_\_\_ French?

A.are, learnt

B.have, been learning

C.had, learning

D.was, learned

Answer: B.have, been learning

Reference ID:(11215) "जितने लोग उतने प्रेम' या त्यांच्या कवीता संग्रहासाठी व्यास सन्मान 2018 साठी खालीलपैकी कोणाची निवड करण्यात आली?

A.लीलाधर जगूडी

B.जया जेना

C.तबस्सुम खान

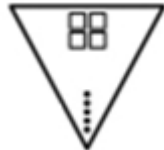
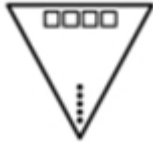
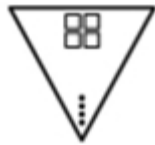
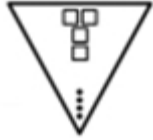
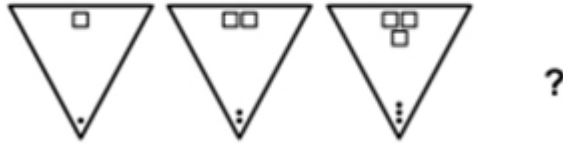
D.हेमंत राव

Answer: A.लीलाधर जगूडी

Date of Exam : 22-07-2019 02:30 PM

Reference ID:(11951)

खाली दिलेल्या क्रमामध्ये, पुढे कोणती आकृती येईल?

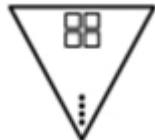


Sabka ek bhaijaan

Sabka ek bhaijaan

Sabka ek bhaijaan

Answer:



Reference ID:(11465)

Which of the following options best combines the two given sentences?

The management is bad. We will leave.

A.The management is bad because we take leave.

B.As the management is leaving they are bad.

C.The management is bad as well as we will leave.

D.As the management is bad we will leave.

Answer:

D.As the management is bad we will leave.

Ravi has the ability to change himself to new conditions and situations; he is \_\_\_\_\_.

A.adaptable

B.adamant

C.original

D.passionate

Answer:

A.adaptable

Reference ID:(11489)

कर्मानुसार क्रियापदाच्या योग्य रूपाची निवड करा.  
कुंभाराने घडा .....

A.बनविले

B.बनविली

C.बनवला

D.बनवतो

Sab Answer: bhaijaan

C.बनवला

Sabka ek bhaijaan

Sabka ek bhaijaan

Reference ID:(11463)

Choose the correct form of verb for the given sentence:

I would never \_\_\_\_\_ a lie on a matter as important as this.

A.speak

B.sky

C.tell

D.mention

Answer:

C.tell

Reference ID:(11478)

दिलेल्या शब्दगटातून विरुद्धार्थी शब्द ओळखा.  
प्रसंग – इष्ट X -----

A.दुःखद

B.अनिष्ट

C.शुभ

Sabka ek bhaijaan

Sabka ek bhaijaan

Sabka ek bhaijaan

Answer:

B.अनिष्ट

Reference ID:(11494)

अनेकवचनांचे एक वचन करा.  
मुलांच्या वह्या तपासून शिक्षकांचे मेंदू शिणले.

A.मुलाची वही तपासून शिक्षकाचा मेंदू शिणला.

B.मुलांची वही तपासून शिक्षकाचे मेंदू शिणला.

C.मुलाची वही तपासून शिक्षकांचे मेंदू शिणला.

D.मुलाच्या वह्या तपासून शिक्षकाचे मेंदू शिणले.

Answer:

A.मुलाची वही तपासून शिक्षकाचा मेंदू शिणला.

Reference ID:(11728)

तीन वर्षांपूर्वी पवित्राचं वय तिच्या 20 वर्षांनंतर असणाऱ्या वयाच्या अर्ध होतं. तर पवित्राचं सध्याचं वय किती?

A.20

B.22

C.24

D.26

Answer:

D.26

Reference ID:(11710)

खालीलपैकी कोणत्या महिला शेतकरीला 2018-19 वर्षासाठी डीडी महिला किसान पुरस्काराचे पहिले बक्षिस देण्यात आले होते?

A.स्वाती शिंगाडे

B.गोदावरी डांगे

C.कमल कुंभार

D.अपेक्षा पांडे

Answer:

A.स्वाती शिंगाडे

Reference ID:(11748)

A हा B पेक्षा दुप्पट चांगला कामगार आहे आणि एकत्रितपणे ते एक काम 18 दिवसांत पूर्ण करू शकतात. एकटा A किती दिवसांत काम पूर्ण करू शकेल?

A.27

B.47

C.17

D.57

Answer:

A.27

Reference ID:(11470)

Choose the correct form of conjunction for the given sentence:

\_\_\_\_\_ we started late from home, we reached the office in time.

A.Though

B.Yet

C.While

D.Whereas

Answer:

A.Though

Reference ID:(11487)

योग्य पर्यायाची निवड करा.  
तुम्ही तुमचा रुमाल आमच्याकडे -----

A.विसरतो

B.विसरते

C.विसरलात

D.विसरले

Answer:

C.विसरलात

Reference ID:(11732)

2007 वर्षाची दिनदर्शिका ही कोणत्या वर्षासाठी सारखी असेल?

A.2018

B.2019

D.2021

Answer: A.2018

Reference ID:(11727) सरासरी काढा.  
63, 98, 56, 48, 54 & 47

A.51

B.61

C.81

D.91

Answer: B.61

Reference ID:(11745) रघु आणि विराज यांच्या वयांचे गुणोत्तर 3:5 आहे, 9 वर्षांनंतर, त्यांच्या वयांचे गुणोत्तर 3:4 होईल, विराजचे वर्तमान वय काय आहे (वर्षामध्ये):

A.15

B.14

C.13

D.12

Answer: A.15

Reference ID:(11486) दिलेल्या काळात परिवर्तन करण्यासाठी योग्य पर्याय निवडा.  
भस्मासुर भगवान शंकरांवर उलटतो. (साधा भूतकाळ)

A.उलटला

B.उलटत असतो

C.उलटेल

D.उलटला असेल

Answer: A.उलटला

Reference ID:(11484) गद्य क्रमात लिहिलेले बरोबर वाक्य ओळखा.  
दाटून आल्या भावना माझ्या मनात सांगतो तुझ्या कानात ।

A.सांगतो कानात तुझ्या दाटून आलेल्या भावना मनात भावना.

B.माझ्या मनात दाटून आलेल्या भावना तुझ्या कानात सांगतो.

C.भावना मनात आलेल्या कानात दाटून सांगतो तुझ्या माझ्या.

D.कानात भावना माझ्या आलेल्या दाटून मनात सांगतो तुझ्या.

Answer: B.माझ्या मनात दाटून आलेल्या भावना तुझ्या कानात सांगतो.

Reference ID:(11500) पुढील वाक्यात पर्यायातील अचूक वाक्प्रचार निवडा.  
शिवरायांनी रायगड काबीज केला.

A.चक्काचूर होणे

B.सर करणे

C.चारी मुंड्या चीत करणे

D.सारवासारव करणे

Answer: B.सर करणे

Reference ID:(11738) दोन मुलं अनुक्रमे 5 किमी/तास आणि 5.5 किमी/तास या वेगाने एकाच ठिकाणाहून चालायला सुरुवात करतात. किती वेळाने ते एकमेकांपासून 8.5 किमी दूर असतील?

A.17 तास

B.14 तास

C.12 तास

D.19 तास

Answer: A.17 तास



A.दुसऱ्याला फसवून पुढे जाणे

B.पुढच्यास ठेच मागचा शहाणा

C.एकसारखे काम करणे

D.अनुकरण करणे

Answer:

D.अनुकरण करणे

Reference ID:(11706)

खालीलपैकी कोणत्या राज्याने पॉकेट कॉप प्रकल्प सुरू केला आहे?

A.गुजरात

B.उत्तर प्रदेश

C.हरियाणा

D.मध्य प्रदेश

Answer:

A.गुजरात

Reference ID:(11476)

'गुप्त'चा पर्यायी शब्द

A.हडप

B.तडफ

C.तरफ

D.गडप

Answer:

D.गडप

Reference ID:(11456)

Choose the correct form of adjective for the given sentence:

Ranjan would like to go to unexplored places; he is \_\_\_\_\_.

A.able

B.strong

D.powerful

Answer:

C.adventurous

Reference ID:(11715)

महाराष्ट्रातील राजपुरी खाडीवर कोणत्या राष्ट्रीय जलमार्गचा विकास झाला होता?

A.एनडब्ल्यू-1

B.एनडब्ल्यू-111

C.एनडब्ल्यू-68

D.एनडब्ल्यू-83

Answer:

D.एनडब्ल्यू-83

Reference ID:(11713)

जम्मू आणि काश्मिरच्या राजौरी जिल्ह्यामधील निवडणूकीमध्ये सहभागासाठी वयस्क मतदारांना सुविधा आणि प्रोत्साहन देण्यासाठी सुरू करण्यात आलेल्या ॲन्ड्रॉईड आधारित अनुप्रयोगाचे नाव काय आहे?

A.सहुलत

B.सदात

C.सफर

D.शक्ती

Answer:

A.सहुलत

Reference ID:(11473)

Out of the following options, identify a simple sentence.

A.Because I was getting late for my work, I was really irritated with my son.

B.As I was late for my work I was irritated with my son.

C.I was really irritated with my son.

D.Getting late for my work, I really got irritated with my son.

Answer:

C.I was really irritated with my son.

A.75

B.84

C.95

D.101

Answer:

D.101

Reference ID:(11498)

मातृत्व' या शब्दात किती जोडाक्षरे आहेत?

A.3

B.2

C.4

D.1

Answer:

D.1

Reference ID:(11740)

पाच वर्षांपूर्वी 3 सदस्य असलेल्या कुटुंबाचे सरासरी वय 27 वर्षे होते. एक बाळ जन्माला आले, ज्यामुळे आज कुटुंबाचे सरासरी वय 25 वर्षे आहे. बाळाचे वर्तमान वय काय आहे?

A.4 वर्षे

B.3 वर्षे

C.5 वर्षे

D.2 वर्षे

Answer:

A.4 वर्षे

Reference ID:(11729)

एका वर्गात 20 मुलं आणि 20 मुली आहेत. वर्गातील मुलींचे सरासरी वय 16 तर मुलांचे सरासरी वय 17 आहे. एक मुलगा आणि एक मुलगी वर्ग सोडून गेल्यावर मुलींचे सरासरी वय 1 वर्षाने तर मुलांचे सरासरी वय 2 वर्षाने कमी झाले. तर आता सगळ्या वर्गाचे नवीन सरासरी वय किती?

A.15.5 वर्ष

C.10.5 वर्ष

D.22 वर्ष

Answer:

A.15.5 वर्ष

Reference ID:(11466)

Choose the correct form of modal auxiliary verb for the given sentence:

You \_\_\_\_\_ whisper; nobody can hear us.

A.needn't

B.don't

C.mustn't

D.ought to

Answer:

A.needn't

Reference ID:(11467)

Choose the appropriate prepositions for the given sentence:

Looking at the forecasts \_\_\_\_\_ the world's energy demands \_\_\_\_\_ the future is pretty frightening.

A.at ... on

B.for ... for

C.in ... with

D.through ...in

Answer:

B.for ... for

Reference ID:(11703)

पूर-संबंधित खटल्यांमध्ये केरळ उच्च न्यायालयाद्वारे नियुक्त केलेल्या न्यायमित्राचे नाव सांगा.

A.हिबी एडन

B.अलेक्सांडर थॉमस

C.जॅकोब पी. अॅलेक्स

D.मिठा सुधींद्रन

Reference ID:(11731)

खालील मांडणीचा काळजीपूर्वक अभ्यास करा आणि खालील प्रश्नांची उत्तर द्या:  
VAEDADEJCAKUADHEXAGCUDERODP

जर वरील मांडणीमधून सर्व 'A' काढून टाकले, तर वरील मांडणीच्या डाव्या टोकाकडून दहावे खालीलपैकी कोण असेल?

A.F

B.V

C.P

D.K

Answer:

D.K

Reference ID:(11719)

जानेवारी 2019 मध्ये, भारताच्या पंत प्रधानांनी महाराष्ट्रामध्ये एनएच-211 च्या \_\_\_\_\_ तुळजापूर-उस्मानाबाद विभागाचे उद्घाटन केले.

A.सोलापूर

B.धुळे

C.मुरबाड

D.कल्याण

Answer:

A.सोलापूर

Reference ID:(11701)

पीडीएफ चे विस्तारीत स्वरूप काय आहे?

A.पोर्टेबल डॉक्युमेंट फॉर्मॅट

B.प्रिंटेबल डॉक्युमेंट फॉर्मॅट

C.पोर्टेबल डॉक्युमेंट फॉर्म

D.प्रिंटेबल डॉक्युमेंट फॉर्म

Answer:

A.पोर्टेबल डॉक्युमेंट फॉर्मॅट

Reference ID:(11749)

गावाची लोकसंख्या ही दरवर्षी 20% दराने वाढते. जर 3 वर्षांच्या शेवटी ती 21600 असेल, तर पहिल्या वर्षाच्या सुरुवातीला लोकसंख्या काय होती?

B.12500

C.15000

D.17500

Answer:

B.12500

Reference ID:(11704)

"नार्डट फ्रँक प्रमुख आंतरराष्ट्रीय रहिवासी निर्देशांक (पीआयआरआय 100)" नुसार जागतिकरित्या प्रमुख रहिवासी मालमत्तांच्या किमतीमध्ये वाढीच्या बाबतीत 2018 मध्ये किमतीमध्ये 0.3% वाढीसोबत खालीलपैकी कोणत्या शहराला 67 वी श्रेणी मिळाली?

A.पुणे

B.मुंबई

C.नवी दिल्ली

D.लखनऊ

Answer:

B.मुंबई

Reference ID:(11743)

X आणि Y हे एक काम अनुक्रमे 20 दिवस आणि 12 दिवसांमध्ये पूर्ण करतात. X ने एकटे काम करायला सुरुवात केली आणि 4 दिवसांनंतर काम पूर्ण होईपर्यंत Y त्याच्यासोबत काम करत होता. काम किती दिवस चालले असेल?

A.6 दिवस

B.10 दिवस

C.15 दिवस

D.20 दिवस

Answer:

B.10 दिवस

Reference ID:(11453)

Choose the appropriate option with the correct capitalization and punctuation marks for the given sentence:

the jammu and kashmir police busted a terror module on Saturday

A.The jammu and Kashmir police busted a terror module on Saturday!

B.The Jammu and Kashmir police busted a terror module on Saturday.

C.The Jammu and kashmir police busted a terror module on Saturday?

D.The jammu and kashmir police busted a terror module on Saturday.

Answer: B.The Jammu and Kashmir police busted a terror module on Saturday.

Reference ID:(11488) अधोरेखित क्रियापदाचा प्रकार ओळखा.  
आजी बाळाला निजविते.

A.प्रयोजक

B.भावकर्तृक

C.सहायक

D.संयुक्त

Answer: A.प्रयोजक

Reference ID:(11712) भारतीय अवकाश संशोधन संघटना (इस्रो) द्वारे 1 एप्रिल 2019 रोजी खालीलपैकी कोणता उपग्रह प्रक्षेपित करण्यात आला?

A.मायक्रोसॅट

B.एस्ट्रोसॅट

C.कार्टोसॅट-2

D.एमिसॅट

Answer: D.एमिसॅट

Reference ID:(11724) भूकंप होण्यासाठी कारणीभूत असलेला पृथ्वीचा स्तर म्हणजे:

A.पृथ्वीचा बाह्यस्तर

B.पृथ्वीचा गाभा

C.पृथ्वीचे बाहेरील कोपरे

D.पृथ्वीचे कवच

Answer: D.पृथ्वीचे कवच

Reference ID:(11493) पुढील वाक्यात किती विशेषणे आहेत, ते ओळखा.  
टळटळीत दुपारी मी माझ्या घराच्या बाहेर पडले.

B.२

C.३

D.४

Answer:

B.२

Reference ID:(11495)

रिकाय्या जागी योग्य पर्याय निवडा.  
भेटी ..... जीवा , लागलीसे आस।

A.जोगा

B.लागी

C.सम

D.ऐवजी

Answer:

B.लागी

Reference ID:(11471)

Choose the most appropriate usage to fill in the blank in the given sentence:

People hold \_\_\_\_\_ views on the issue of arranged marriages.

A.opposites

B.opposition

C.opposing

D.opponent

Answer:

C.opposing

Reference ID:(11490)

रिकाय्या जागी योग्य पर्याय निवडा.  
नामांना जोडून येणाऱ्या अव्ययांना ..... म्हणतात.

A.केवलप्रयोगी अव्यये

B.शब्दयोगी अव्यये



D.क्रियाविशेषण अव्यये

Answer:

B.शब्दयोगी अव्यये

Reference ID:(11747)

1 जानेवारी 2007 रोजी सोमवार होता. 1 जानेवारी 2008 रोजी आठवड्याचा कोणता दिवस होता?

A.मंगळवार

B.बुधवार

C.गुरूवार

D.शुक्रवार

Answer:

A.मंगळवार

Reference ID:(11481)

पुढील शब्दाचे लिंग ओळखा.  
कालवड

A.पुल्लिंग

B.स्त्रीलिंग

C.नपुसकलिंग

D.उभयलिंग

Answer:

B.स्त्रीलिंग

Reference ID:(11451)

Choose the option that has the correct spelling.

A.Orphanage

B.Orphanege

C.Orphannage

D.Orphainage

Reference ID:(11497)

पुढीलपैकी कोणत्या विभक्तीचे एकवचन आणि अनेकवचनातील प्रत्यय सारखे आहेत?

A.द्वितीया

B.षष्ठी

C.सप्तमी

D.संबोधन

Answer:

C.सप्तमी

Reference ID:(11718)

स्वस्थ प्रतिरक्षित भारत मोहिमेची ब्रँड दूत कोण बनली आहे?

A.करीना कपूर खान

B.अमिताभ बच्चन

C.स्मृती मंधाना

D.सचिन रमेश तेंडुलकर

Answer:

A.करीना कपूर खान

Reference ID:(11711)

महाराष्ट्रामधील \_\_\_\_\_ हिने खेलो इंडिया युथ गेम्स 2019 मध्ये 21 वर्षांखालील मुलींच्या पुनर्वक्र तिरंदाजीमध्ये सुवर्ण पदक जिंकले.

A.साक्षी शितोळे

B.सिध्दी प्रवीणचंद्र हट्टेकर

C.श्रेया प्रवीण भांगळे

D.मयुरी एस अडर

Answer:

A.साक्षी शितोळे

Reference ID:(11485)

रिकाम्या जागी योग्य शब्द निवडा.

वाक्यातील क्रियापदाबद्दल विशेष माहिती सांगणारे जे काही शब्द असतात ते ----- या सदरात असतात.

B.विधेयविस्तार

C.उद्देश्य

D.विधेय

Answer:

B.विधेयविस्तार

Reference ID:(11458)

Choose the appropriate collective noun to complete the sentence:

A \_\_\_\_\_ of currency notes was lying on the table, near the main door.

A.set

B.packet

C.wad

D.couple

Answer:

C.wad

Reference ID:(11714)

मुंबईमध्ये 8 व्या जागतिक सीएसआर काँग्रेसमध्ये सीइओ ऑफ दि इयर पुरस्काराने कोणाला सन्मानित करण्यात आले?

A.सौमित्रो चक्रवर्ती

B.मृत्युंजय त्रिपाठी

C.सौमेन रे

D.सुकांतो चक्रवर्ती

Answer:

A.सौमित्रो चक्रवर्ती

Reference ID:(11477)

दिलेल्या शब्दगटातून विरुद्धार्थी शब्द ओळखा.  
स्त्री – कुलटा X -----

A.अल्लड

B.कुलस्त्री

D.सुंदर

Answer:

B.कुलस्त्री

Reference ID:(11461)

Choose the appropriate articles for the given sentence:

At \_\_\_\_\_ opening of \_\_\_\_\_ conference, the members of the party held \_\_\_\_\_ assembly to elect the representative.

A.the, a, the

B.the, an, the

C.the, the, an

D.an, a, the

Answer:

C.the, the, an

Reference ID:(11739)

आवाज हा हवेमध्ये दर सेकंदाला 1100 फूट प्रवास करतो असे म्हटले जाते. एका व्यक्तीला झाडावर मारलेली कुऱ्हाड पाहिल्यानंतर 11/5 सेकंदांनंतर झाडावर कुऱ्हाड मारल्याचा आवाज ऐकू येत आहे. लाकूड कापणाऱ्यापासून तो व्यक्ती किती दूर आहे?

A.1800 फूट

B.2810 फूट

C.3020 फूट

D.2420 फूट

Answer:

D.2420 फूट

Reference ID:(11464)

Choose the most suitable determiner for the given sentence:

Does she have \_\_\_\_\_ experience for this job?

A.every

B.many

D.few

Answer:

C.enough

Reference ID:(11736)

श्री. रमेश यांनी एका रकमेच्या 10% त्यांच्या पत्नीला दिली आणि उर्वरित रकमेच्या 10% रक्कम रुग्णालय खर्चाला ठेवली आणि पुन्हा उर्वरित रकमेमधील 10% रक्कम त्यांनी देणगी म्हणून दिली. मग त्याच्याकडे फक्त 7290 रुपये राहिले. त्या व्यक्तीकडे सुरूवातीला असलेली रक्कम काय होती?

A.8000 रुपये

B.9000 रुपये

C.10000 रुपये

D.20000 रुपये

Answer:

C.10000 रुपये

Reference ID:(11462)

Choose the appropriate articles to complete the given sentence:

\_\_\_ kleptomaniac is \_\_\_ person who has \_\_\_ obsessive desire to steal.

A.A, a, the

B.The, a, a

C.A, a, an

D.The, a, the

Answer:

C.A, a, an

Reference ID:(11482)

रिकामी जागा भरा.  
वाक्यसंश्लेषण म्हणजे .....

A.परस्परांशी संबंध असलेली वाक्ये एकत्र करून त्यांचे एक वाक्य करणे.

B.परस्परांशी संबंध नसलेली वाक्ये एकत्र करून त्यांचे एक वाक्य करणे.

C.परस्परांशी संबंध असलेली वाक्ये एकत्र न करता तशीच ठेवणे.

D.परस्परांशी संबंध असलेली दोन वाक्ये एकत्र करून त्यांची तीन वाक्य करणे.

Answer:

A.परस्परांशी संबंध असलेली वाक्ये एकत्र करून त्यांचे एक वाक्य करणे.

M4ET%19IB@U8©N#WFIV7\*2AH3Y5\$6K

वर दिलेल्या मांडणीमध्ये अशा किती संख्या आहेत ज्यांच्या लगेच नंतर चिन्ह आणि लगेच आधी व्यंजन आहे?

A.दोन

B.एक

C.तीन

D.चार

Answer:

A.दोन

Reference ID:(11457)

Fill in the blank with the correct noun for the given sentence:

In many offices, personal \_\_\_\_\_ is used to alienate unpopular \_\_\_\_\_.

A.critics ... managers

B.critical ... coworker

C.critiquing ... management

D.criticism ... colleagues

Answer:

D.criticism ... colleagues

Reference ID:(11716)

भारतीय संविधानात \_\_\_ ते 35 नंबरच्या कलमांमध्ये मूलभूत अधिकार समाविष्ट आहेत.

A.1

B.12

C.5

D.7

Answer:

B.12

51 Tampines Avenue 4, #B1-38,  
Festive Mall @ Our Tampines Hub, Singapore 529684  
+65 6494 6886

(i) 51 Tampines Avenue 4, #B1-38,  
Festive Mall @ Our Tampines Hub, Singapore 529684  
+65 6494 6886

(ii) 51 Tampines Avenue 4, #B1-38,  
Festive Mall @ Our Tampines Hub, Singapore 529684  
+65 6494 6886

(iii) 51 Tampines Avenue 4, #B1-38,  
Festive Mall @ Our Tampines Hub, Singapore 529684  
+65 6494 6886

(iv) 51 Tampines Avenue 4, #B1-38,  
Festive Mall @ Our Tampines Hub, Singapore 529684  
+65 6494 6886

A.i

B.ii

C.iii

D.iv

Answer:

D.iv

Reference ID:(11717)

अलीकडेच पंतप्रधानांनी उद्घाटन केलेल्या खानदेश एक्सप्रेस महाराष्ट्रातील कोणत्या दोन स्टेशन दरम्यान धावेल?

A.मुंबई आणि भुसावळ

B.मुंबई आणि मनमाड

C.जळगाव आणि उधाना

D.मुंबई आणि जळगाव

Answer:

A.मुंबई आणि भुसावळ

Save the \_\_\_\_\_ and do the right thing.

A.embarassment

B.embarrasment

C.embarasment

D.embarrassment

Answer:

D.embarrassment

रिकाम्या जागी योग्य संख्या निवडून श्रृंखला पूर्ण करा:  
6, 7, 12, 26, 67.5, \_\_\_\_\_

A.125

B.145.5

C.175

D.205.5

Answer:

D.205.5

खालीलपैकी कोण 15 व्या वित्त आयोगाचे अध्यक्ष आहेत?

A.अनूप सिंह

B.नंद किशोर सिंह

C.शक्तीकांता दास

D.अशोक लाहिरी

Answer:

B.नंद किशोर सिंह

Choose the correct form of conjunction for the given sentence:

You must be really tired \_\_\_\_\_ you have walked five kilometers.

A.as

B.and

C.but



Answer: A.as

Reference ID:(11725) मानवी स्त्री पुनरुत्पादन संस्थेमध्ये बाळाची वाढ \_\_\_\_\_ हात होत असते.

A.अंडवाहक नलिका

B.गर्भाशय

C.अंडाशय

D.बीजांड

Answer: B.गर्भाशय

Reference ID:(11720) स्वच्छ सर्वेक्षण 2019 पुरस्कारामध्ये, देशामधील 'उत्तम प्रदर्शन करणारे राज्य-क्र.2' म्हणून \_\_\_\_\_ ला पुरस्कृत करण्यात आले.

A.बिहार

B.पश्चिम बंगाल

C.झारखंड

D.आसाम

Answer: C.झारखंड

Reference ID:(11702) बछेंद्री पाल ही उत्तराखंडमधून \_\_\_\_\_ आहे, जिला 2019 मध्ये भारत शासनाद्वारे पद्म भूषण पुरस्कार पुरस्कृत करण्यात आला होता.

A.पर्वतारोही

B.कुस्तीपटू

C.मुष्ठीयोध्दा

D.जलतरणपटू

Answer: A.पर्वतारोही

Reference ID:(11460) Choose the option with the appropriate suffix to complete the given sentence

In India, dem\_\_\_\_\_ is followed with a notion of by the people, for the people, of the people.

B.-ocracy

C.-ship

D.-ish

Answer:

B.-ocracy

Reference ID:(11707)

खालीलपैकी कोणता पृथ्वीचा सर्वात जाड थर आहे?

A.बहिर्गत गाभा

B.आच्छादन

C.कवच

D.आतील गाभा

Answer:

B.आच्छादन

Reference ID:(11733)

खाली दिलेल्या श्रृंखलेमध्ये अंकांचा एक विशिष्ट क्रम दिलेला आहे. त्यानुसार चुकीचा क्रम ओळखा:

80, 119, 166, 221, 283, 355

A.166

B.221

C.283

D.119

Answer:

C.283

Reference ID:(11721)

ऑलिम्पिक प्रतिकावर किती वलय उपस्थित असतात?

A.5

B.3

C.7

D.4

Answer:

A.5

Reference ID:(11746)

खाली दिलेल्या श्रृंखलेमध्ये अंकांचा एक विशिष्ट क्रम दिलेला आहे. त्यानुसार चुकीचा क्रम ओळखा:

7, 13, 25, 49, 97, 194, 385

A.13

B.25

C.49

D.194

Answer:

D.194

Reference ID:(11496)

पुढील वाक्यातील विरामचिन्ह ओळखा.  
धाडधाड आवाज करणारी ही कोकणगाडी किती छान दिसते; पण दिसते न दिसते लगेच बोगद्यात शिरते.

A.उद्गारचिन्ह

B.प्रश्नचिन्ह

C.अर्धविराम

D.अवतरण चिन्ह

Answer:

C.अर्धविराम

Reference ID:(11472)

Choose the correct form of verb that is in agreement with the subject:

The naughty student had to be expelled because he was \_\_\_\_\_ too much disturbance.

A.spreading

B.generating

C.causing

D.producing

Answer:

C.causing

Reference ID:(11744)

A आणि B एक काम 30 दिवसांत करू शकतात, तर B आणि C तेच काम 24 दिवसांत आणि C आणि A तेच काम 20 दिवसांत पूर्ण करतात. त्या सर्वांनी 10 दिवस एकत्र काम केले आणि मग B आणि C यांनी काम सोडून दिले. काम पूर्ण करण्यासाठी A ला आणखी किती दिवस लागतील?

A.18 दिवस

B.24 दिवस

C.30 दिवस

D.36 दिवस

Answer:

A.18 दिवस

Reference ID:(11742)

एक दुकानदार त्याच्या मालाला खरेदी किमतीच्या 20% जास्त चिन्हांकित करतो आणि चिन्हांकित किमतीवर 15% सूट देतो. त्याच्याचा नफ्याची टक्केवारी काढा.

A.2%

B.8%

C.11%

D.6%

Answer:

A.2%

Reference ID:(11454)

Choose the appropriate option with the correct capitalization and punctuation marks for the given sentence:

Everyone went for the extra class except asha tanay rakshith and naman reported the class monitor

A.“Everyone went for the extra class except Asha, Tanay, Rakshith and Naman,” reported the class monitor.

B.“Everyone went for the extra class, except Asha, Tanay, Rakshith, and Naman reported the class Monitor.”

C.“Everyone went for the extra class except asha ,Tanay Rakshith and Naman” reported the class monitor

D.“Everyone, went for the extra class except, Asha Tanay, Rakshith and Naman!” reported the Class Monitor.

Answer:

A.“Everyone went for the extra class except Asha, Tanay, Rakshith and Naman,” reported the class monitor.

Reference ID:(11737)

एका कारखान्यामध्ये तीन प्रकारचे बल्ब आहेत L1, L2 आणि L3, जे अनुक्रमे एकूण उत्पादनाच्या 20%, 15% आणि 32% उत्पादित केले जातात. L1, L2 आणि L3 हे अनुक्रमे 3%, 7% आणि 2% सदोष उत्पादने उत्पादित करतात. दोष नसलेल्या उत्पादनांची टक्केवारी काढा.

A.45%

B.35%

C.55%

D.65%

Answer:

D.65%

Reference ID:(11723)

महाराष्ट्रामधील सावंतवाडी हे \_\_\_\_\_ कलाकारीसाठी प्रसिध्द आहे.

A.लाखेची भांडी

B.वारली

C.पैठणी

D.जोर्वे

Answer:

A.लाखेची भांडी

Reference ID:(11491)

पुढील वाक्यातील अधोरेखित अव्ययाचा प्रकार ओळखा.  
या वर्षी सहलीला जाण्याचे ठिकाण इथे बसून ठरवूयात

A.क्रियाविशेषण अव्यय

B.उभयान्वयी अव्यय

C.शब्दयोगी अव्यय

D.केवलप्रयोगी अव्यय

Answer:

A.क्रियाविशेषण अव्यय

Reference ID:(11479)

रिकाम्या जागी योग्य जोडशब्द लिहा.  
मुलांनी आज भरपूर ----- गोळा केली.

A.फुलेपाने

B.काचाफुले

D.कळ्याफुले

Answer:

A.फुलेपाने

Reference ID:(11708)

युपीएससी नागरी सेवा परीक्षा 2018 मध्ये उत्तीर्ण होऊन शेख सलमान पटेल आणि महम्मद नूर सिद्दिकी यांनी इतिहास गाजवला होता, ते महाराष्ट्रामधील खालीलपैकी कोणत्या शहराशी संबंधित आहेत?

A.इचलकरंजी

B.अचलपूर

C.फुलांबरी

D.हिंणघाट

Answer:

C.फुलांबरी

Reference ID:(11722)

महाराष्ट्रामधील खालीलपैकी कोणत्या नेत्याला महात्मा गांधींचा 'राजकीय गुरू' म्हणून जाणले जात होते?

A.बाळ गंगाधर टिळक

B.गोपाळ कृष्ण गोखले

C.विनोबा भावे

D.महात्मा ज्योतिराव फुले

Answer:

B.गोपाळ कृष्ण गोखले

Reference ID:(11483)

पुढील वाक्याचा प्रकार ओळखा.  
मरावे परी कीर्तिरूपे उरावे.

A.प्रश्नार्थी

B.मिश्र वाक्य

C.संयुक्त वाक्य

D.केवल वाक्य

Answer:

C.संयुक्त वाक्य

A.तिकाडा

B.तुकडा

C.फाटका

D.तुटका

Answer:

A.तिकाडा

Reference ID:(11468)

Choose the appropriate prepositional phrase for the given sentence:

The man \_\_\_\_\_ is my neighbor.

A.in sports car

B.in the sports car

C.of the sports car

D.for the sports car

Answer:

B.in the sports car

Reference ID:(11474)

Choose the correct form of tense for the given sentence:

Why \_\_\_\_\_ he not \_\_\_\_\_ me yesterday?

A.is, calling

B.did, call

C.didn't, called

D.did, calling

Answer:

B.did, call

Reference ID:(11492)

पुढील नामाला अयोग्य विशेषणाचा पर्याय निवडा.  
मजूर

A.गरीब

B.दयनीय

D.पऱक

Answer:

D.पऱक

Reference ID:(11705)

मऱनवी संसऱधन वऱकऱसऱके केंद्रीय मंत्री, प्रकऱश जऱवडेकर यऱंनी नवीन पदवीधरऱंसऱठी उद्योग प्रशऱकषणऱर्थ्यऱच्या संधी पुरवण्यासऱठी \_\_\_\_\_ नऱमक योजनऱ सुरू केली.

A.ऱमजीऱस

B.श्रेयस

C.ऱनऱपीऱस

D.ऱनसीडीसी

Answer:

B.श्रेयस

Reference ID:(11475)

Choose the option that best expresses the meaning of the highlighted idiom/phrase:

If Kumar doesn't **throw his weight around**, we would easily be able to complete the project in time.

A.reduce his weight

B.increased his body weight

C.act bossy

D.worked more in a group

Answer:

C.act bossy

Reference ID:(11741)

वऱशऱष्ट स्टोऱरमध्ये, नफऱ हऱ कऱमतीच्या 270% ऱहे. जर कऱमत 30% वऱढवली तरीही वऱक्री कऱमत स्थऱर रऱहते, नफऱ हऱ वऱक्री कऱमतीच्या ऱंदऱजे कऱती टक्के ऱहे?

A.68%

B.72%

C.50%



---

---

Answer:

D.65%

Reference ID:(11459)

Choose the option with the appropriate suffix to complete the given sentence:

There is always a constant fight against priv--.

A.--ate

B.--acy

C.--ated

D.--y

---

---

Answer:

B.--acy

Date of Exam : 23-07-2019 10:00 AM

Reference ID:(11964) Choose the correct form of verb for the given sentence:

We wouldn't mind \_\_\_\_\_.

A.to wait

B.waiting

C.wait

D.waited

Answer: B.waiting

Reference ID:(11999) पुढीलपैकी शुद्ध शब्द ओळखा.

A.महात्म्य

B.माहात्म्य

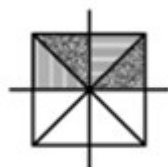
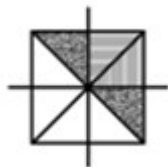
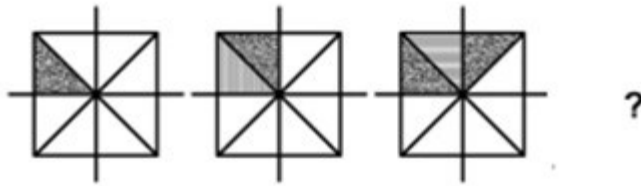
C.माहत्म्य

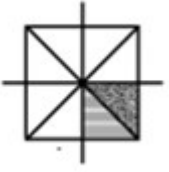
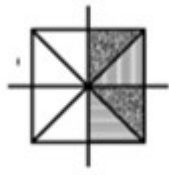
D.महत्म

Answer: B.माहात्म्य

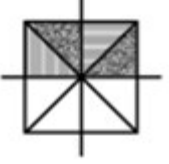
Reference ID:(12501)

खाली दिलेल्या क्रमामध्ये, पुढे कोणती आकृती येईल ?





Answer:



Reference ID:(12278)

सरासरी काढा.  
65, 58, 58, 65, 78 & 84

A.68

B.85

C.58

D.84

Answer:

A.68

Reference ID:(11983)

रिकामी जागा भरा.  
अकरणरूपी वाक्ये म्हणजे ..... वाक्ये

A.होकारार्थी

B.आज्ञार्थी

C.नकारार्थी

D.स्वार्थी

Answer:

C.नकारार्थी

Reference ID:(11975)

Choose the correct form of tense for the given sentence:

Every day, the dog \_\_\_\_ at the gate and the gatekeeper \_\_\_\_ him.

A.wait, feed

C.wait, feeds

D.waits, feed

Answer:

B.waits, feeds

Reference ID:(11973)

Choose the correct form of verb that is in agreement with the subject:

Always \_\_\_\_\_ that you proofread your documents carefully before sending them out.

A.insure

B.ensure

C.assure

D.reassure

Answer:

B.ensure

Reference ID:(11988)

योग्य पर्यायाची निवड करा.  
ते उद्या चित्रपट -----

A.पाहते

B.पाहतात

C.पाहशील

D.पाहतील

Answer:

D.पाहतील

Reference ID:(11963)

Choose the appropriate articles to complete the given sentence:

\_\_\_\_\_ blowout is \_\_\_\_\_ accident in \_\_\_\_\_ oil well.

A.A ... an....an

C.The ... an...a

D.No article required ... no article required...a

Answer: A.A ... an....an

Reference ID:(12267) भारतीय संविधानात 12 ते \_\_\_\_\_ क्रमांकाच्या अनुच्छेदांमध्ये नागरिकांचे मूलभूत अधिकार समाविष्ट केलेले आहेत.

A.35

B.55

C.22

D.15

Answer: A.35

Reference ID:(11961) Choose the option with the appropriate suffix to complete the given sentence:

The report requires many modifica\_\_\_\_\_.

Sabka ek bhaijaan

A.-sion

B.-cion

C.-ion

D.-tion

Answer: D.-tion

Reference ID:(11976) Choose the option that best expresses the meaning of the highlighted idiom/phrase:

All my warnings **fell on stony ground**.

A.were accepted

B.were received

C.were ignored

D.were given

Answer:

C.were ignored

Sabka ek bhaijaan

Sabka ek bhaijaan

Sabka ek bhaijaan

Reference ID:(12288)

रिकाम्या जागी योग्य संख्या निवडून श्रृंखला पूर्ण करा:  
2, 3, 4, 15, 56, \_\_\_\_\_, 1704

A.112

B.285

C.192

D.234

Answer:

B.285

Reference ID:(11998)

कोणत्या विभक्तीत एकवचनाचे प्रत्यय 'ऊन', 'हून' हे आहेत?

A.पंचमी

B.चतुर्थी

C.सप्तमी

D.संबोधन

Sabka ek bhaijaan

Sabka ek bhaijaan

Sabka ek bhaijaan

Answer:

A.पंचमी

Reference ID:(12265)

भारतीय राष्ट्रीय काँग्रेसच्या पहिल्या सत्राचे अध्यक्ष कोण होते?

A.डब्ल्यू. सी. बॅनर्जी

B.सुरेंद्रनाथ बॅनर्जी

C.जी.एच. देशमुख

D.ए. बेझंट

Answer:

A.डब्ल्यू. सी. बॅनर्जी

Reference ID:(11952)

Choose the option that has the correct spelling.

A.Manageble

B.Managable

C.Managaeble

D.Manageable

Sabka ek bhaijaan

Sabka ek bhaijaan

Sabka ek bhaijaan

Answer:

D.Manageable

Reference ID:(11985)

गद्य क्रमात लिहिलेले बरोबर वाक्य ओळखा.  
दिली तुम्ही प्रेरणा आम्हाला ताठमानेने जगण्याची

A.आम्हाला ताठ मानेने जगण्याची प्रेरणा तुम्ही दिली.

B.दिली ताठ जगण्याची प्रेरणा आम्हाला मानेने तुम्ही.

C.ताठ प्रेरणा जगण्याची आम्हाला तुम्ही मानेने दिली.

D.प्रेरणा मानेने जगण्याची दिली ताठ आम्हाला तुम्ही.

Answer:

A.आम्हाला ताठ मानेने जगण्याची प्रेरणा तुम्ही दिली.

Reference ID:(11982)

पुढील शब्दाचे लिंग ओळखा.  
चंद्रिका

A.पुल्लिंग

B.स्त्रीलिंग

C.नपुसकलिंग

D.उभयलिंग

Answer:

B.स्त्रीलिंग

Reference ID:(12273)

दख्खनचा ताजमहाल-'बीबी का मकबरा' हा महाराष्ट्रामधील खालीलपैकी कोणत्या ठिकाणी स्थित आहे?

A.मुंबई

B.औरंगाबाद

C.अहमदनगर

D.उस्मानाबाद

Answer:

B.औरंगाबाद

Reference ID:(12264) "चेन्नई सेंट्रल" रेल्वे स्थानकचे नवीन नाव काय आहे?

- A.पुरात्वी थलैवार डॉ. एम.जी. रामचंद्रन चेन्नई सेंट्रल  
 B.पुरात्वी थलैवार डॉ. एम.जी. रामचंद्रन चेन्नई नॉर्थ  
 C.पुरात्वी थलैवार डॉ. एम.जी. रामचंद्रन चेन्नई साऊथ  
 D.पुरात्वी थलैवार डॉ. एम.जी. रामचंद्रन चेन्नई ईस्ट

Answer: A.पुरात्वी थलैवार डॉ. एम.जी. रामचंद्रन चेन्नई सेंट्रल

Reference ID:(12284) A आणि B चे एकूण वय हे B आणि C च्या एकूण वयापेक्षा 12 वर्षे जास्त आहे. C हा A पेक्षा किती वर्षांनी लहान आहे?

- A.12  
 B.24  
 C.15  
 D.10

Answer: A.12

Reference ID:(11954) Choose the sentence with the correct punctuation to convey the right meaning.

- A.Roma asked Sona, are you coming tomorrow?  
 B.Roma asked Sona, "are you coming tomorrow."  
 C."Roma asked Sona are you coming tomorrow?"  
 D.Roma asked Sona, "Are you coming tomorrow?"

Answer: D.Roma asked Sona, "Are you coming tomorrow?"

Reference ID:(12298) एका पुस्तक विक्रेत्याने 3200 रुपयांना 40 पुस्तकं खरेदी केली आणि 8 पुस्तकांच्या विक्री किमतीएवढा नफा मिळवून त्यांची विक्री केली. जर प्रत्येक पुस्तकाची किंमत सारखी असेल तर एक डझन पुस्तकांची विक्री किंमत काय आहे?

- A.रु. 1300  
 B.रु. 1100  
 C.रु. 800



Answer: D.रु. 1200

Reference ID:(11970) Choose the most suitable conjunction for the given sentence:

\_\_\_\_\_ he has been drugged or he is in deep sleep.

A.Not only

B.Also

C.Either

D.Certainly

Answer: C.Either

Reference ID:(11989) दिलेल्या धातूचे शक्य क्रियापद ओळखा.  
उठणे

A.उठते

B.उठला

C.उठवते

D.उठून

Answer: C.उठवते

Reference ID:(12285) 4 डिसेंबर 1999 ला सोमवार होता, तर 3 जानेवारी 2000 ला कोणता दिवस होता?

A.बुधवार

B.गुरूवार

C.शुक्रवार

D.शनिवार

Answer: A.बुधवार

Reference ID:(12263) कोणत्या दोन बँकांसोबत एकत्र येऊन बँक ऑफ बरोडा ही भारताची तिसरी सर्वात मोठी बँक बनली आहे?

A.विजया बँक आणि देना बँक

C. आयडीबीआय बँक आणि देना बँक

D. आरबीएल बँक आणि आयडीबीआय

Answer:

A. विजया बँक आणि देना बँक

Reference ID:(12266)

राष्ट्रीय जलमार्ग क्रमांक 83 महाराष्ट्रातील \_\_\_\_\_ मध्ये स्थित आहे.

A. राजापूरी खाडी

B. वर्सोली

C. मिठी

D. मालाड

Answer:

A. राजापूरी खाडी

Reference ID:(12268)

महाराष्ट्रातील बालक संरक्षणाची समस्या संबोधण्यासाठी कोणत्या संस्थेने गोवा वुमन अँड चाईल्ड डेव्हलपमेंट सोबत हातमिळवणी केली आहे?

A. युनेस्को

B. युनेसेफ

C. डब्ल्युएचओ

D. मानवी अधिकार आयोग

Answer:

B. युनेसेफ

Reference ID:(11972)

Choose the most appropriate usage to fill in the blank in the given sentence:

Large factories \_\_\_\_\_ employ workers for night shifts.

A. routinely

B. routine

C. routiningly

D. rotation

Reference ID:(11977) खालील पर्यायी उत्तरांतील गटाबाहेरची जोडी सांगा.

A.उपहास-हास्यविनोद

B.इंतजाम-व्यवस्था

C.उद्दाम-उर्मट

D.उदास-विरक्त

Answer:

A.उपहास-हास्यविनोद

Reference ID:(11966) Which of the following options best combines the following sentences?

It rained. They played.

A.Although it rained, they played.

B.It rained and so they played.

C.They played and it rained.

D.It rained that they played

Answer:

A.Although it rained, they played.

Reference ID:(12300)

एक दुकानदाराने डीव्हीडी खरेदी केली आणि अनुक्रमे 10% आणि 15% अशी सलग सूट देऊन 200 रुपयांना चिन्हांकित केले. त्याने वाहतूकीवर 7 रुपये खर्च केले आणि डीव्हीडीची 208 रुपयांना विक्री केली. त्याच्या नफ्याची टक्केवारी काय असेल?

A.58%

B.44%

C.30%

D.50%

Answer:

C.30%

Reference ID:(11959)

Choose the appropriate collective noun to complete the sentence:

William Shakespeare is famous for his \_\_\_\_\_ of sonnets.

A.anthology

C.couplet

D.collection

Answer:

B.garland

Reference ID:(12260)

निती आयोगाने सुरू केलेली फेम ॥ ही मोठी योजना ही कशाशी संबंधित आहे?

A.इस्रो मिशन

B.विशेषप्रकारे सक्षम व्यक्तींसाठी तंत्रज्ञान

C.आर्थिक स्थिरता

D.विद्युत वाहने

Answer:

D.विद्युत वाहने

Reference ID:(11965)

Choose the most suitable determiner for the given sentence:

It is \_\_\_\_\_ an interesting movie that I stayed awake late all night to watch it.

A.so

B.very

C.too

D.such

Answer:

D.such

Reference ID:(12271)

स्वच्छ सर्वेक्षण 2019 पुरस्कारामध्ये, देशामधील 'उत्तम प्रदर्शन करणारे राज्य-क्र. 1' म्हणून खालीलपैकी कोणत्या भारतीय राज्याला पुरस्कृत करण्यात आले?

A.छत्तीसगढ

B.पंजाब

C.गुजरात

D.मध्यप्रदेश

Reference ID:(12299)

जेव्हा तांदळाची किंमत 30 टक्क्यांनी वाढते, तेव्हा एक कुटुंब खर्च हा आधीपेक्षा फक्त 20% जास्त होईल अशाप्रकारे त्यांचा उपभोग कमी करते. जर पूर्वी कुटुंबाद्वारे 50 किग्रॅ तांदळाचे सेवन केले जात असेल, तर कुटुंबाचा नवीन उपभोग काढा (अंदाजे)?

A.43 किग्रॅ

B.44 किग्रॅ

C.45 किग्रॅ

D.46 किग्रॅ

Answer:

D.46 किग्रॅ

Reference ID:(12261)

'ऊर्जा आणि पर्यावरणावरील आंतरराष्ट्रीय परिषद आणि प्रदर्शन: आव्हाने आणि संधी' (इएनसीओ 2019) कुठे आयोजित केली होती

A.हैदराबाद

B.नवी दिल्ली

C.बेंगलुरु

D.चेन्नई

Answer:

B.नवी दिल्ली

Reference ID:(12252)

महाराष्ट्र लोक सेवा कायदा 2015 च्या प्रारंभाच्या दिनांका पासून \_\_\_\_\_ महिन्यांच्या कालावधीच्या आत आणि त्यानंतर वेळोवेळी, सार्वजनिक प्राधिकरण त्यांच्याद्वारे दिल्या जाणाऱ्या सार्वजनिक सेवांबाबत सूचित करेल.

A.एक

B.दोन

C.तीन

D.सहा

Answer:

C.तीन

Reference ID:(12276)

रुचकर पदार्थ तयार करण्यासाठी वापरल्या जाणाऱ्या आळंब्यां खालीलपैकी कोणत्या श्रेणीशी संबंधित असतात:

B.अंडी

C.बुरशी

D.फुलांचा कोंब

Answer:

C.बुरशी

Reference ID:(11979)

दिलेल्या शब्दगटातून विरुद्धार्थी शब्द ओळखा.  
कृत्य – विधायक X -----

A.संघटक

B.विशिष्ट

C.विघातक

D.हास्यस्पद

Answer:

C.विघातक

Reference ID:(11995)

अनेकवचनांचे एक वचन करा.  
दोषींवर कारवाई करण्याचे त्यांनी आदेश दिले आहेत.

A.दोषींवर कारवाई करण्याचा त्याने आदेश दिले आहेत.

B.दोषींवर कारवाई करण्याचे त्याने आदेश दिले आहेत.

C.दोषींवर कारवाई करण्याचा त्याने आदेश दिला आहे.

D.दोषींवर कारवाई करण्याचा त्यांनी आदेश दिला आहे.

Answer:

C.दोषींवर कारवाई करण्याचा त्याने आदेश दिला आहे.

Reference ID:(11958)

Fill in the blank with the correct noun for the given sentence:

No \_\_\_\_\_ would attempt a difficult peak without the right \_\_\_\_\_.

A.climber ... machinery

B.mountaineer ... equipment

C.hiker ... machineries

Answer: B.mountaineer ... equipment

Reference ID:(11978) दिलेल्या शब्दगटातून विरुद्धार्थी शब्दा ओळखा.  
कणीस – कोवळे X -----

A.कडक

B.मोठे

C.निबर

D.कणीदार

Answer: C.निबर

Reference ID:(12282) चांदी ही पाण्यापेक्षा 18 पट जड आहे आणि लोखंडाच्या 10 पट जड आहे. या धातूंना किती गुणोत्तरात मिसळले जावे जेणेकरून आपल्याला पाण्यापेक्षा 16 पट जड धातूचे मिश्रण मिळेल?

A.3:2

B.2:3

C.1:2

D.3:1

Answer: D.3:1

Pinegrove-Lhasa Ln, Buchwara, Durgjan, Srinagar,  
Jammu and Kashmir 190001  
090868 11104

(i) Pinegrove-Lhasa Ln, Buchwara, Durgjan, Srinagar,  
Jammu and Kashmir 190001  
090868 11104

(ii) Pinegrove-Lhasa Ln, Buchwara, Durgjan, Srinagar,  
Jammu and Kashmir 190001  
090868 11104

(iii) Pinegrove-Lhasa Ln, Buchwara, Durgjan, Srinagar,  
Jammu and Kashmir 190001  
090868 11104

(iv) Pinrgrove-Lhasa Ln, Buchwara, Durqjan, Srinagar,  
Jammu and Kashmir 190801  
090868 11104

A.i

B.ii

C.iii

D.iv

Answer:

D.iv

Reference ID:(12269)

कोणती भारतीय व्यक्ती दक्षिण-पूर्व आशिका प्रदेशामधील हेपाटायटीससाठी डब्ल्यूएचओ सदिच्छा दूत आहे?

A.अमिताभ बच्चन

B.करीना कपूर खान

C.सचिन रमेश तेंडूलकर

D.विराट कोहली

Answer:

A.अमिताभ बच्चन

Reference ID:(12257)

आपल्या देशामध्ये कोणत्या रेल्वे स्थानकाला एअरपोर्टसारख्या सुविधा असल्याबद्दल 3 री श्रेणी मिळाली आहे?



B.मुंबई

C.कोलकाता

D.सुरत

Answer:

D.सुरत

Reference ID:(12293)

11 संख्यांची सरासरी 50 आहे. जर पहिल्या 6 संख्यांची सरासरी 6 असेल आणि शेवटच्या 6 संख्यांची सरासरी 52 असेल. तर 6 वी संख्या काढा.

A.55

B.56

C.57

D.58

Answer:

B.56

Reference ID:(12287)

रिकाम्या जागी योग्य संख्या निवडून श्रृंखला पूर्ण करा:  
4, 6, 16, 56, 240, \_\_\_\_\_

A.680

B.840

C.960

D.1232

Answer:

D.1232

Reference ID:(11974)

Out of the following options, identify a simple sentence.

A.As soon as I entered the class the test started.

B.No sooner than I entered the class did the test start.

C.I entered the class and the test started.

D.Ramesh was not able to take the test.

Answer:

D.Ramesh was not able to take the test.

\_\_\_\_\_ nurse who has \_\_\_\_\_ right qualifications will have no trouble finding \_\_\_\_\_ job.

A.A ... the ...a

B.The ... no article required ... the

C.A ... the ...the

D.No article required ... a ... a

Answer: A.A ... the ...a

Reference ID:(11981) पुढील शब्दास योग्य जोडशब्द सांगा.  
बोलणे

A.चालणे

B.धावणे

C.राहणे

D.थांबणे

Sab Answer:haijaan

A.चालणे

Sabka ek bhaijaan

Sabka ek bhaijaan

Reference ID:(12295) 10 महिला एक काम 7 दिवसांत पूर्ण करतात आणि 10 मुलांना तेच काम पूर्ण करायला 14 दिवस लागतात. काम पूर्ण करण्यासाठी 5 महिला आणि 10 मुलांना किती दिवस लागतील?

A.3 दिवस

B.5 दिवस

C.7 दिवस

D.9 दिवस

Answer: C.7 दिवस

Reference ID:(12281) 5 वर्षापूर्वी लग्न झाले तेव्हा एक पती व पत्नीचे सरासरी वय 23 वर्षे होते. आता पती, त्याची पत्नी आणि या दरम्यान त्यांना झालेल्या अपत्याचे सरासरी वय 19 आहे. तर अपत्याचे वय काय?

A.1

B.2

D.4

Answer:

A.1

Reference ID:(11971)

Choose the appropriate conjunction for the given sentence:

The doctors can't take a decision \_\_\_\_\_ the test results are available.

A.until

B.if

C.but

D.in case

Answer:

A.until

Reference ID:(11986)

रिकाढ्या जागी योग्य शब्द निवडा.

विधेयाबद्दल अधिक माहिती देऊन त्याचा विस्तार करणे म्हणजे -----Sabka ek bhaijaan

A.विधेयविस्तार

B.कर्म

C.कर्मपूरक

D.उद्देश्यविस्तार

Answer:

A.विधेयविस्तार

Reference ID:(11992)

पुढील वाक्यातील अधोरेखित अव्ययाचा प्रकार ओळखा.  
परवा माझी शाळा सुरू होईल.

A.शब्दयोगी अव्यय

B.क्रियाविशेषण अव्यय

C.केवलप्रयोगी अव्यय

D.उभयान्वयी अव्यय

Answer:

- A.महालाभारती  
B.महाशक्ती  
C.महानारी  
D.हिरकणी महाराष्ट्राची

Answer:

D.हिरकणी महाराष्ट्राची

Reference ID:(12290)

ताज्या फळांमध्ये 75% तर सुक्या फळांमध्ये 20% पाणी असते. जर सुक्या फळांचे वजन 300 किग्रॅ असेल, तर ती ताजी असताना त्यांचे एकूण वजन काय होते?

- A.900 किग्रॅ  
B.850 किग्रॅ  
C.920 किग्रॅ  
D.960 किग्रॅ

Answer:

D.960 किग्रॅ

Reference ID:(12272)

इंटरनेशनल एनजीओ, रिपोर्टर्स विदाऊट बॉर्डर्सने अलिकडे जागतिक प्रेस स्वातंत्र्य निर्देशांक 2019 प्रकाशित केला. 180 देशांमध्ये जागतिक प्रेस स्वातंत्र्य निर्देशांकामध्ये भारताला कितवे स्थान मिळाले?

- A.150 वे  
B.160 वे  
C.130 वे  
D.140 वे

Answer:

D.140 वे

Reference ID:(12296)

A आणि B एक काम अनुक्रमे 15 दिवस आणि 10 दिवसांत पूर्ण करू शकतात. त्यांनी एकत्र काम करायला सुरुवात केली पण 2 दिवसांनंतर B ला काम सोडून जावे लागले आणि एकट्या A ने उर्वरित काम पूर्ण केले. पूर्ण काम किती दिवसांत पूर्ण झाले असेल:

A.8 दिवस

C.12 दिवस

D.15 दिवस

Answer:

C.12 दिवस

Reference ID:(11980)

रिकाम्या जागी योग्य जोडशब्द लिहा.  
बक्षीस समारंभासाठी तिचे ----- उपस्थित होते.

A.आईभाऊ

B.आईवडील

C.आईआजी

D.आईआजोबा

Answer:

B.आईवडील

Reference ID:(12251)

पुढील वाक्यात पर्यायातील अचूक वाक्प्रचार निवडा.  
मोबाईलवरून तर खोट्या बातम्या तशाही पसरवल्या जातात.

A.गोंधळ घालणे

B.वावड्या उठवणे

C.हातखंडा असणे

D.पिच्छा पुरवणे

Answer:

B.वावड्या उठवणे

Reference ID:(12294)

A ने 13,000 रुपयांना मशीन खरेदी केली, मग त्याने 3500 रुपयांना तिची दुरुस्ती केली,  
त्यांनी 500 रुपये वाहतूक खर्च दिला. मग त्यांनी तिची 50% नफ्याने विक्री केली.  
वास्तविकतः त्याने तिची किती किमतीला विक्री केली?

A.18500 रु.

B.25500 रु.

C.22200 रु.

D.19600 रु.

Reference ID:(12279)

चार वर्षांपूर्वी रामचं वय शामच्या वयाच्या दुप्पट होतं. आतापासून सहा वर्षांनंतर, रामचं वय शामच्या वयाच्या फक्त 1.5 पट असेल. तर राम आणि शामचं सध्याचं वय अनुक्रमे काय असेल?

A.20 वर्ष आणि 16 वर्ष

B.24 वर्ष आणि 14 वर्ष

C.26 वर्ष आणि 15 वर्ष

D.30 वर्ष आणि 17 वर्ष

Answer:

B.24 वर्ष आणि 14 वर्ष

Reference ID:(11997)

पुढील वाक्यातील विरामचिन्ह ओळखा.  
कव्यांनी जमा केलेल्या निधीची उधळपट्टी तर केवळ असंभव !

A.अपसरण चिन्ह

B.संक्षेपचिन्ह

C.लोपचिन्ह

D.उद्गारचिन्ह

Answer:

D.उद्गारचिन्ह

Reference ID:(11960)

Choose the option with the appropriate suffix to complete the given sentence:

My brother is the tall\_\_ boy in his class.

A.-ful

B.-hood

C.-est

Answer: C.-est

Reference ID:(11968) Choose the appropriate prepositions for the given sentence:

The concept \_\_\_\_\_ ecotourism has gained publicity \_\_\_\_\_ the past couple of decades.

A.in ... in

B.about ... for

C.with ... about

D.of .... over

Answer: D.of .... over

Reference ID:(12253) कुसुम (KUSUM) योजनेचे पूर्ण रूप काय आहे?

A.किसान ऊर्जा सुरक्षा एवं उत्थान महाभियान

B.कृषी ऊर्जा सुरक्षा एवं उत्थान महाभियान

C.खरीफ ऊर्जा सुरक्षा एवं उत्थान महाभियान

D.कला ऊर्जा सुरक्षा एवं उत्थान महाभियान

Answer: A.किसान ऊर्जा सुरक्षा एवं उत्थान महाभियान

Reference ID:(11984) पुढील वाक्याचा प्रकार ओळखा.  
आई म्हणाली की प्रत्येकाने प्रामाणिकपणे काम केले पाहिजे.

A.प्रश्नार्थी

B.मिश्र वाक्य

C.संयुक्त वाक्य

D.केवल वाक्य

Answer: B.मिश्र वाक्य

Reference ID:(12000) पुढील वाक्प्रचारांच्या योग्य अर्थाचा पर्याय निवडा.  
ओनामा करणे-

B.प्रारंभ करणे

C.व्यवस्था करणे

D.अनुकरण करणे

Answer:

B.प्रारंभ करणे

Reference ID:(12254)

नवी दिल्ली येथे खालीलपैकी कोणाला राष्ट्रपती सन्मान प्रमाणपत्र आणि महर्षी बादरायण व्यास सन्मान पुरस्कार 2019 ने सन्मानित केले गेले होते?

A.डॉ. रघुवीर वेदालंकार

B.डॉ. विरेंद्र कुमार मिश्रा

C.प्रा. कृष्णकांत शर्मा

D.वेंकय्या नायडू

Answer:

D.वेंकय्या नायडू

Reference ID:(12283)

सॅम आणि अक्षयच्या वर्तमान वयांचे गुणोत्तर अनुक्रमे 5:4 आहे. तीन वर्षांनंतर, त्यांच्या वयांचे गुणोत्तर अनुक्रमे 11:9 होईल. अक्षयचे वर्तमान वय वर्षांमध्ये किती आहे?

A.24

B.27

C.40

D.35

Answer:

A.24

Reference ID:(11953)

Choose the option that has the correct spelling for the missing word in the given sentence:

Do you \_\_\_\_\_ the words of the song?

A.rember

B.remember

C.remamber

D.rimember

Answer:

B.remember



Reference ID:(11991) रिकाम्या जागी योग्य पर्याय निवडा.  
शब्दांना जोडून येणारी अव्यये त्या शब्दांचा त्याच वाक्यातील दुसऱ्या एखाद्या शब्दाशी संबंध जोडण्याचे काम करतात त्यांना ..... अव्यये म्हणतात.

A.उभयान्वयी अव्यये

B.शब्दयोगी अव्यये

C.क्रियाविशेषण अव्यये

D.केवलप्रयोगी अव्यये

Answer: B.शब्दयोगी अव्यये

Reference ID:(12286) खाली दिलेल्या श्रृंखलेमध्ये अंकांचा एक विशिष्ट क्रम दिलेला आहे. त्यानुसार चुकीचा क्रम ओळखा:  
729, 1331, 2497, 3375, 4913

A.729

B.1331

C.3375

D.2497

Answer: D.2497

Reference ID:(11956) Choose the correct form of adjective for the given sentence:  
This \_\_\_\_\_ work is not good enough for someone of your ability.

A.unsatisfactory

B.dissatisfied

C.nonsatisfactory

D.unsatisfied

Answer: A.unsatisfactory

Reference ID:(11967) Choose the correct form of modal auxiliary verb for the given sentence:  
Unless you work hard, you \_\_\_\_\_ not pass the examination.

A.will

C.should

D.ought to

Answer:

A.will

Reference ID:(12255)

महाराष्ट्र भ्रष्टाचार विरोधी ब्युरोचे नवीन नियुक्त झालेले महानिदेशक \_\_\_\_\_ यांच्या जागेवर येणार आहेत.

A.संजय बर्वे

B.परम बीर सिंग

C.करण बीर सिंह

D.संजय सिंह

Answer:

A.संजय बर्वे

Reference ID:(11993)

पुढील नामाला अयोग्य विशेषणाचा पर्याय निवडा.  
कपाट

A.लाकडी

B.मध्ययुगीन

C.संकरित

D.मोठे

Answer:

C.संकरित

Reference ID:(12277)

खालील मांडणीचा काळजीपूर्वक अभ्यास करा आणि खाली दिलेल्या प्रश्नाचे उत्तर द्या:  
M4ET%19IB@U8©N#WFIV7\*2AH3Y5\$6K  
वरील मांडणीमध्ये असे किती स्वर आहेत ज्या प्रत्येकाच्या लगेचच आधी संख्या आणि लगेच नंतर व्यंजन आहे?

A.एक

B.दोन

C.तीन

D.चार

Answer:

C.तीन

A.शुक्रवार

B.शनिवार

C.रविवार

D.सोमवार

Answer:

A.शुक्रवार

Reference ID:(12292)

बसचा वेग दर एक तासाला 2 किमीतासाने वाढवला गेला. जर पहिल्या एक तासामध्ये कापलेले अंतर 35 किमी असेल, तर 12 तासांमध्ये कापलेले एकूण अंतर काय होते?

A.422

B.552

C.502

D.492

Answer:

B.552

Reference ID:(11987)

दिलेल्या काळात परिवर्तन करण्यासाठी योग्य पर्याय निवडा.  
खूप लोकांनी हे नाटक बघितले. (पूर्ण भविष्यकाळ)

A.बघितले आहे

B.बघितले होते

C.बघितले असेल

D.बघत असेल

Answer:

C.बघितले असेल

Reference ID:(12256)

\_\_\_\_\_ हे भारताचे समाज सुधारक होते ज्यांनी सती आणि बाल विवाहाच्या पध्दती समाप्त केल्या.

A.इश्वर चंद्र विद्यासागर

B.स्वामी विवेकानंद

C.राजा राम मोहन रॉय

D.गोपाळ गणेश आगरकर

Reference ID:(11996) पुढील वाक्यातील अव्यय ओळखा.  
तू माझ्यासमोर ते औषध घेऊन टाक.

A.तू

B.समोर

C.ते

D.औषध

Answer: B.समोर

Reference ID:(12289) सुरूवातीला, सुरेशच्या पेटिएम वॉलेटमध्ये 200 रुपये होते मग त्याने ते 20% नी वाढवले. पुन्हा एकदा त्याने त्याची रक्कम 25% नी वाढवली. वॉलेटमधील अंतीम पैशांचे मूल्य हे आरंभिक रकमेपेक्षा किती टक्के अधिक असेल?

A.40%

B.50%

C.80%

D.60%

Answer: B.50%

Reference ID:(11957) Choose the correct form of adjective for the given sentence:

Modeling is a glamorous field, which offers tremendous opportunities to travel and meet \_\_\_\_\_ classes of people.

A.various

B.variety

C.variant

D.varieties

Answer: A.various

Reference ID:(12291)

A आणि B हे गोलाकार मार्गाभोवती चालत आहेत. A आणि B हे दर तासाला अनुक्रमे 2 फेऱ्या आणि 3 फेऱ्या या वेगाने चालत आहेत. जर त्यांनी सकाळी 8 वाजता विरुद्ध दिशेमध्ये एकाच ठिकाणावरून चालायला सुरुवात केली, तर सकाळी 9:30 पर्यंत ते किती वेळा एकमेकांसमोर येतील.

A.5

B.7

C.6

D.8

Answer:

C.6

Reference ID:(11994)

पुढील वाक्यात किती विशेषणे आहेत, ते ओळखा.  
वक्यांनी आपले भाषण आक्रमक आणि जोरकस केले

A.१

B.२

C.३

D.४

Answer:

C.३

Reference ID:(12259)

महाराष्ट्रामधील कोणत्या गावाने दुष्काळ प्रतिबंध उपक्रम म्हणून गावामध्ये प्रत्येक जन्म आणि मृत्यूला चिन्हांकित करण्यासाठी वृक्षारोपण केल्यामुळे ते बातमी मध्ये होते?

A.अखरवाडी

B.राणमाळा

C.काडूस

D.चिंचोशी

Answer:

B.राणमाळा

Reference ID:(12262)

महाराष्ट्रामधील खालीलपैकी कोणी खेले इंडिया युथ गेम्स 2019 येथे 17 वर्षाखालील मुलींच्या संयुक्त तिरंदाजीमध्ये सुवर्ण पदक जिंकले?

A.अनन्या सोमण

Sabka ek bhaijaan

Sabka ek bhaijaan

C.इशा पवार

D.भाग्यश्री हनुमंत फंड

Answer:

C.इशा पवार

Reference ID:(11969)

Choose the appropriate prepositional phrase for the given sentence:

In general, we were \_\_\_\_\_ her performance.

A.in high spirits with

B.in exchange with

C.impressed with

D.in dispute for

Answer:

C.impressed with

Reference ID:(12275)

खालीलपैकी कोणते तापमानाचे एकक आहे?

A.मीटर

B.डिग्री सेल्सिअस

C.ँम्पिअर

D.सेकंद

Answer:

B.डिग्री सेल्सिअस

Reference ID:(12274)

पश्चिम बंगालनंतर खालीलपैकी कोणत्या शहराने देशामधील ज्यू समुदायाला अल्पसंख्यांकाचा दर्जा दिला?

A.मध्य प्रदेश

B.महाराष्ट्र

C.छत्तीसगड

D.बिहार

Answer:

B.महाराष्ट्र

Summer holidays and a trip to Goa what more could anyone want

A. Summer holidays, and a trip to Goa what more could anyone want?

B. Summer holidays and a trip to Goa, what more could anyone want.

C. Summer holidays, and a trip to Goa, what more could anyone want !

D. Summer holidays and a trip to Goa! What more could anyone want?

Answer:

D. Summer holidays and a trip to Goa! What more could anyone want?

Reference ID:(11990)

कर्मानुसार क्रियापदाच्या योग्य रूपाची निवड करा.  
नेत्याने भाषण .....

A. केले

B. केला

C. केली

D. करतो

Answer:

A. केले

Reference ID:(12258)

भारताचे भौगोलिक केंद्र (शून्य मैल चिन्हांकन) येथे स्थित आहे:

A. अहमदनगर

B. पुणे

C. मुंबई

D. नागपूर

Answer:

D. नागपूर

Date of Exam : 23-07-2019 02:30 PM

Reference ID:(16412) खेलो इंडिया युथ गेम्स 2019 मध्ये महाराष्ट्र राज्याने एकूण किती सुवर्ण पदक जिंकली?

A.120


B.85

C.100

D.150

Answer: B.85

Reference ID:(17447) खाली दिलेल्या क्रमामध्ये, पुढे कोणती आकृती येईल?



Answer:



Reference ID:(16428) सरासरी काढा.  
95, 85, 67, 55, 82 & 48

A.87

B.98

C.72

D.70

Answer: C.72



Certain tourist destinations are always on red alert and tourists can witness a \_\_\_\_\_ of policemen and barricades everywhere.

A.army

B.staff

C.posse

D.troop

Answer:

C.posse

Which of the following options best combines the following sentences?  
He was a good player. He was selected.

A.Being a good player, he was selected.

B.As he was a good player, he was selected.

C.He was a good player, but he was selected.

D.He was selected and he was a good player.

Answer:

B.As he was a good player, he was selected.

रिकाम्या जागी योग्य जोडशब्द लिहा.  
आई म्हणाली \_\_\_\_\_ टळो.

A.इडातडा

B.इडाकडा

C.इडापीडा

D.तडातडा

Answer:

C.इडापीडा

Choose the correct form of verb for the given sentence:

In these days of inflation, the cost of living is \_\_\_\_\_.

A.going

B.raise

D.climbing

Answer:

D.climbing

Reference ID:(16433)

दोन भावांच्या वर्तमान वयामधील गुणोत्तर 1:2 आहे आणि 5 वर्षांपूर्वी, हे गुणोत्तर 1:3 होते. 5 वर्षांनंतर त्यांच्या वयाचे गुणोत्तर काय असेल?

A.1 : 4

B.2 : 3

C.3 : 5

D.5 : 6

Answer:

C.3 : 5

Reference ID:(16445)

एका वस्तूची खरेदी किंमत आणि चिन्हांकित किंमत यांमधील गुणोत्तर 2:3 आहे आणि त्यांच्या नफ्याची टक्केवारी आणि सूटीची टक्केवारी यांचे गुणोत्तर 3:2 आहे. सूटीची टक्केवारी काय आहे?

A.18.58%

B.20.25%

C.16.66%

D.22.13%

Answer:

C.16.66%

Reference ID:(16175)

Choose the correct form of tense for the given sentence:

The sun \_\_\_\_\_ in the east and \_\_\_\_\_ in the west.

A.rises, was setting

B.is rising, sets

C.rose, sets

D.rises, sets

Answer:

D.rises, sets

A.शब्दयोगी अव्यये

B.क्रियाविशेषण अव्यये

C.केवलप्रयोगी अव्यये

D.उभयान्वयी अव्यये

Answer:

A.शब्दयोगी अव्यये

Reference ID:(16158)

Fill in the blank with the correct noun for the given sentence:

Constant mental \_\_\_\_\_ reduces memory \_\_\_\_\_.

A.exertion ... capacity

B.extortion ... capability

C.exhortation ... capacities

D.exhalation ... capabilities

Answer:

A.exertion ... capacity

Reference ID:(16419)

2018 मध्ये कोणत्या पुस्तकाला मॅन बुकर आंतरराष्ट्रीय बक्षिस मिळाले होते?

A.ओल्गा टोकरझुक लिखित फ्लॉइड्स

B.हान कांग लिखित दि व्हाईट बुक

C.एन्टोनिओ मुनोज मोलीन लिखित लार्डक ए फेडींग शॅडो

D.अहमद सादवी लिखित फ्रँकेन्स्टेन इन बगदाद

Answer:

A.ओल्गा टोकरझुक लिखित फ्लॉइड्स

Reference ID:(16407)

भारताचे पहिले मिथेनॉल आधारित पर्यायी स्वयंपाकाचे इंधन येथे स्थापित केले जाणार आहे:

A.तामिळ नाडू

B.आसाम

C.राजस्थान

D.उत्तर प्रदेश

Answer:

B.आसाम

Reference ID:(16434) वडील आणि त्यांच्या मुलाच्या वयांची बेरीज 45 आहे. पाच वर्षांपूर्वी त्यांच्या वयांचा गुणाकार 34 होता. मुलगा आणि वडील यांचे वय अनुक्रमे किती आहे?

A.6 & 39

B.7 & 38

C.9 & 36

D.11 & 34

Answer: A.6 & 39

Reference ID:(16178) दिलेल्या शब्दगटातून विरुद्धार्थी शब्द ओळखा.  
विधान – खरे X \_\_\_\_\_

A.छोटे

B.मोठे

C.खोटे

D.लांबलचक

Answer:

C.खोटे

Reference ID:(16186) रिकाम्या जागी योग्य शब्द निवडा.  
उद्देश्याचा विस्तार करणारे शब्द हे \_\_\_\_\_ असतात.

A.अलंकार

B.उद्देश

C.उद्देश्यविस्तार

D.विधेय

Answer: C.उद्देश्यविस्तार

Reference ID:(16169) Choose the appropriate prepositional phrase for the given sentence:  
She didn't allow cancer to discourage her. \_\_\_\_\_, she began to work twice as hard.

A.On the contrary

B.On the one hand

C.With pleasure

Answer: A.On the contrary

Reference ID:(25016) P हा दिवसाला 8 तास काम करून 12 दिवसांत ते पूर्ण करतो. Q तेच काम दिवसाला 10 तास काम करून 8 दिवसांत पूर्ण करू शकतो. जर P आणि Q दोघांनी एकत्र काम केले, तर दिवसाला 8 तास काम करून ते काम किती दिवसांत पूर्ण करू शकतील?

$$5\frac{5}{11}$$

$$5\frac{6}{11}$$

$$6\frac{5}{11}$$

$$6\frac{6}{11}$$

Answer:  $5\frac{5}{11}$

Reference ID:(16177) दिलेल्या शब्दगटातून योग्य समानार्थी शब्द निवडा.  
पर्वत

A.अतूट

B.अपूर्व

C.अचल

D.अफाट

Answer: C.अचल

Reference ID:(16198) कोणत्या विभक्तीचे अनेकवचनाचे प्रत्यय 'नी, ही, शी, ई' हे आहेत?

A.तृतीया

B.प्रथमा

C.द्वितीया

D.चतुर्थी

Answer: A.तृतीया

Reference ID:(16179) दिलेल्या शब्दगटातून विरुद्धार्थी शब्द ओळखा.  
शिपाई – शूर X \_\_\_\_\_

A.लढवय्या

B.पराक्रमी

C.भित्रा

D.संरक्षक

Answer: C.भित्रा

Reference ID:(16444) एका वस्तूची 2120 रुपयांना विक्री करून कमवलेल्या नफ्याची टक्केवारी ही 1520 रुपयांना त्याच वस्तूची विक्री करून झालेल्या तोट्याच्या टक्केवारी इतकीच आहे. 25% नफा मिळवण्यासाठी वस्तूची किती रुपयांना विक्री केली जावी?

A.2275 रु.

B.2100 रु.

C.2650 रु.

D.2400 रु.

Answer: A.2275 रु.

Reference ID:(16430) खालील मांडणीचा काळजीपूर्वक अभ्यास करा आणि खालील प्रश्नाचे उत्तर द्या:

M4ET%19IB@U8©N#WFIV7\*2AH3Y5\$6K

वरील मांडणीमध्ये अशा किती संख्या आहेत, ज्यांपैकी प्रत्येकाच्या आधी व्यंजन आहे पण लगेच नंतर व्यंजन नाही?

A.एक

B.दोन

C.तीन

D.तीनपेक्षा जास्त

Answer: C.तीन

A.महाराष्ट्र

B.मेघालय

C.राजस्थान

D.पंजाब

Answer:

A.महाराष्ट्र

Reference ID:(16436)

खाली दिलेल्या श्रृंखलेमध्ये अंकांचा एक विशिष्ट क्रम दिलेला आहे. त्यानुसार चुकीचा क्रम ओळखा:  
7, 16, 27, 40, 56

A.7

B.16

C.27

D.56

Answer:

D.56

Reference ID:(16441)

एक व्यक्ती, विशिष्ट अंतर काही वेगाने कापतो. जर तो 3 किमी/तास वेगाने गेला, तर त्याला 40 मिनिटे कमी वेळ लागला असता. जर तो 2 किमी/तासाच्या वेगाने गेला, तर त्याला आणखी 40 मिनिटे वेळ लागला असता. किलोमीटरमध्ये अंतर काय आहे?

A.36

B.38

C.40

D.42

Answer:

C.40

Reference ID:(16163)

Choose the appropriate articles to complete the given sentence:

\_\_\_\_\_ stress of city life has \_\_\_\_\_ effect on \_\_\_\_\_ intellect.

A.No article required ... an..a

B.The ... No article required...a

C.No article required ... no article required...the

Answer: D.The ... an...the

Reference ID:(16403) कोणत्या तारखेला केंद्रीय मानव संसाधन मंत्र्यांनी शिकाऊ उमेदवारी आणि कौशल्यामध्ये उच्च शिक्षण युवकांसाठी योजना (श्रेयस) सुरू केली?

A.27 फेब्रुवारी 2019

B.26 फेब्रुवारी 2019

C.25 फेब्रुवारी 2019

D.24 फेब्रुवारी 2019

Answer: A.27 फेब्रुवारी 2019

Reference ID:(16418) सुलवाडे जमफाल कानोली उपसा सिंचन योजना ज्याच्या स्थापनेचा पहिला दगड पंतप्रधानांनी अलीकडे ठेवला होता, धुळे मधील कोणत्या नदीच्या पाणी घेईल?

A.गोदावरी

B.तापी

C.नर्मदा

D.कृष्णा

Answer: B.तापी

Reference ID:(16402) महाराष्ट्र-लोक सेवा कायदा 2015 अनुसार, कोणत्याही पात्र व्यक्तीस सार्वजनिक सेवा मिळविण्यासाठीचा अर्ज \_\_\_\_\_ यांना करता येईल.

A.सार्वजनिक प्राधिकरण

B.प्रथम अपीलीय

C.दुसरा अपीलीय

D.नामित अधिकारी

Answer: D.नामित अधिकारी

Reference ID:(16424) लसलगांव हे खालीलपैकी कोणत्या वस्तूसाठी प्रसिध्द आहे?

A.केळ्यांचा व्यापार



C.ऊसाचा व्यापार

D.आंब्यांचा व्यापार

Answer:

B.कांद्यांचा व्यापार

Reference ID:(16153)

Choose the option that has the correct spelling for the missing word in the given sentence:

You can \_\_\_\_\_ your argument with evidence.

A.strengthen

B.strienght

C.sterngten

D.stranghen

Answer:

A.strengthen

Reference ID:(16195)

अनेकवचनांचे एक वचन करा.  
विद्यार्थ्यांनी विषयानुसार योग्य तक्ते करावेत.

A.विद्यार्थ्यांनी विषयानुसार योग्य तक्ते करावेत.

B.विद्यार्थ्यांनी विषयानुसार योग्य तक्ता करावा .

C.विद्यार्थ्यांनी विषयानुसार योग्य तक्ता करावा .

D.विद्यार्थ्यांनी विषयानुसार योग्य तक्ते करावा.

Answer:

B.विद्यार्थ्यांनी विषयानुसार योग्य तक्ता करावा .

Reference ID:(16167)

Choose the correct form of modal auxiliary verb for the given sentence:

If he were selected, he \_\_\_\_\_ make a good teacher.

A.will

B.would

C.could

D.shall

Answer:

B.would

A.माझी

B.निवडक

C.हाडकुळी

D.श्रींची

Answer:

C.हाडकुळी

Reference ID:(16442)

दोन रेल्वेमधील वेगाचे गुणोत्तर हे 7:8 आहे. जर दुसरी रेल्वे 4 तासांमध्ये 400 किमी अंतर कापत असेल, पहिल्या ट्रेनचा वेग काय आहे?

A.85 किमी/तास

B.87.5 किमी/तास

C.90 किमी/तास

D.92.5 किमी/तास

Answer:

B.87.5 किमी/तास

Reference ID:(16157)

Choose the correct form of adjective for the given sentence:

Since Bangalore had a \_\_\_\_\_ climate, it was called a pensioner's paradise.

A.moist

B.placid

C.salubrious

D.humid

Answer:

C.salubrious

Reference ID:(16432)

खरेदी किमतीवर मिश्रणाची विक्री करून 15% नफा मिळवण्यासाठी पाणी आणि वाईन कोणत्या गुणोत्तरामध्ये मिसळली जावी?

A.1:5

B.4:1

C.5:1

Answer: D.1:4

Reference ID:(16443) तीन व्यक्तींच्या वयांची सरासरी 27 वर्षे आहे. त्यांची वय ही 1:3:5 या गुणोत्तरामध्ये आहेत. त्यांच्यातील सर्वात लहान व्यक्तीचे वर्षामध्ये वय काय आहे.

A.6

B.7

C.8

D.9

Answer: D.9

Reference ID:(16420) स्वच्छ सर्वेक्षण 2019 पुरस्कारामध्ये, देशामधील 'सर्वात स्वच्छ राजधानी/युटी शहर' म्हणून \_\_\_\_\_ ला पुरस्कृत करण्यात आले.

A.जयपूर

B.कोलकाता

C.चेन्नई

D.भोपाळ

Answer: D.भोपाळ

Reference ID:(16172) Choose the most appropriate usage to fill in the blank in the given sentence:

Students who feel \_\_\_\_\_ do better in schools.

A.confide

B.confident

C.confidence

D.confidentially

Answer: B.confident

Reference ID:(16413) छत्रपती शिवाजी महाराजांचे अध्यात्मिक गुरू म्हणून कोणाला जाणले जात होते?

A.रामदास स्वामी

C.ज्योतिबा फुले

D.तुकाराम

Answer:

A.रामदास स्वामी

Reference ID:(16161)

Choose the option with the appropriate suffix to complete the given sentence:

His involve\_\_\_\_\_ in the programme helped in making it a grand success.

A.-ion

B.-ment

C.-orily

D.-sively

Answer:

B.-ment

Reference ID:(16154)

Choose the sentence with the correct punctuation to convey the right meaning.

A.“Are you all excited about the trip?”, the teacher enquired.

B.“Are you all excited about the trip, the teacher enquired?”

C.Are you all excited about the trip? the teacher enquired.

D.“Are you all excited about the trip”, the teacher enquired?

Answer:

A.“Are you all excited about the trip?”, the teacher enquired.

Reference ID:(16170)

Choose the most suitable conjunction for the given sentence:

\_\_\_\_\_ he was driving very fast, he couldn't stop to save the dog.

A.When

B.As

C.But

D.Due to

Answer:

B.As

David was a successful salesman as he was extremely persu\_\_\_\_\_.

A.-asion

B.-ing

C.-ade

D.-asive

Answer:

D.-asive

Choose the option that has the correct spelling.

A.Adolescence

B.Adoliscence

C.Adolscence

D.Adolescence

Answer:

D.Adolescence

एका परीक्षेमध्ये 50% विद्यार्थी विज्ञानामध्ये उत्तीर्ण झाले आणि 75% विद्यार्थी सामाजिक विज्ञान शास्त्रामध्ये उत्तीर्ण झाले तर 20% विद्यार्थी दोन्ही विषयांमध्ये नापास झाले. जर 270 विद्यार्थी दोन्ही विषयांत उत्तीर्ण झाले असतील, तर परीक्षेला बसलेल्या विद्यार्थ्यांची एकूण संख्या काढा?

A.400

B.540

C.600

D.750

Answer:

C.600

Reference ID:(16168)

Choose the appropriate prepositions for the given sentence:

The expert wrote authoritatively \_\_\_\_ the topic \_\_\_\_ exercise and its effects on.

A.about ... of

B.on ...on

C.against ... with

D.with ... on

Answer:

A.about ... of

Reference ID:(16194)

पुढील वाक्यात किती विशेषणे आहेत, ते ओळखा.

तापलेल्या उन्हाच्या आडोशाला बसून खेळती आहे एक मुलगी केव्हाची.

A.१

B.२

C.३

D.४

Answer:

C.३

Reference ID:(16173)

Choose the correct form of verb that is in agreement with the subject:

The agent was \_\_\_\_\_ for issuing a false passport.

A.arrested

B.accused

C.trapped

D.suspected

Answer:

A.arrested

Reference ID:(16425)

जेव्हा एका धातुला गरम केले जाते तेव्हा काय होते?

A.तो प्रसरण पावतो

C.काहीही बदल होत नाही

D.त्याची घनता वाढते

Answer:

A.तो प्रसरण पावतो

Reference ID:(16448)

एक व्यक्ती 5 मिनिटांमध्ये 600 मीटर लांब रस्ता ओलांडतो. किमी/तासांमध्ये त्याचा वेग काय आहे

A.6.2 किमी/तास

B.7.2 किमी/तास

C.8.2 किमी/तास

D.9.2 किमी/तास

Answer:

B.7.2 किमी/तास

Reference ID:(16422)

प्रकल्प 15 बीचा भाग म्हणून अलिकडे भारतीय नौदलाद्वारे प्रक्षेपित केलेल्या तिसऱ्या मार्गदर्शित क्षेपणास्त्र नाशकाचे नाव सांगा.

A.आयएनएस इंफाळ

B.आयएनएस मोरमुगाओ

C.आयएनएस मैसूर

D.आयएनएस विशाखापट्टणम

Answer:

A.आयएनएस इंफाळ

Reference ID:(16189)

दिलेल्या धातूचे शक्य क्रियापद ओळखा.  
पाहणे

A.पाहवते

B.पाहिला

C.पहतात

D.पहाते

Answer:

A.पाहवते

- A.जेमतेम खाण्यास मिळणे
- B.बरेच दिवसांनी मित्र भेटणे
- C.संपन्नता असणे
- D.योग्य वेळी योग्य गोष्ट मिळणे

Answer: A.जेमतेम खाण्यास मिळणे

Reference ID:(16427)

75 विद्यार्थ्यांच्या एका वर्गामध्ये, मुलींची संख्या मुलांच्या दुप्पट आहे. रामला अग्रस्थानापासून 17 वी श्रेणी मिळाली. जर रामच्या पुढे 9 मुली असतील, तर त्याच्यानंतर तेथे किती मुलं असतील?

- A.12
- B.15
- C.17
- D.19

Answer: C.17

Reference ID:(16165)

Choose the most suitable determiner for the given sentence:

\_\_\_\_\_ young men has fallen in love with her cascading black hair.

- A.Most
- B.Much
- C.Few
- D.Some

Answer: A.Most

Reference ID:(16426)

मानवी शरीरातील अमीबासदृश पेशी \_\_\_\_\_ असतात.

- A.स्नायू पेशी
- B.पांढऱ्या रक्तपेशी
- C.चेतापेशी
- D.लाल रक्तपेशी



Reference ID:(16431)

8 संख्यांची सरासरी 99 आहे. सर्वात मोठ्या दोन संख्यांमधील फरक 18 आहे. उर्वरित सहा संख्यांची सरासरी 87 आहे. त्या 8 संख्यांमधील सर्वात मोठी संख्या कोणती:

A.190

B.185

C.126

D.144

Answer:

D.144

Reference ID:(16162)

Choose the appropriate articles for the given sentence:

\_\_\_\_\_ important element in telling \_\_\_\_\_ story is following \_\_\_\_\_ time or chronological order.

A.An ... a ... a

B.The ... a ... no article required

C.No article required ... the ... no article required

D.An ... no article required...the

Answer:

A.An ... a ... a

Reference ID:(16197)

पुढील वाक्यातील विरामचिन्ह ओळखा.  
अरेरे ! असा प्रसंग वै-यावर पण येऊ नये

A.उद्गारचिन्ह

B.संयोगचिन्ह

C.अपूर्णविराम

D.अपसरण चिन्ह

Answer:

A.उद्गारचिन्ह

Reference ID:(16447)

खाली दिलेल्या श्रृंखलेमध्ये अंकांचा एक विशिष्ट क्रम दिलेला आहे. त्यानुसार चुकीचा क्रम ओळखा:  
2, 8, 32, 148, 765, 4626, 32431

B.765

C.148

D.32

Answer:

D.32

Reference ID:(16156)

Choose the correct form of adjective for the given sentence:

Manohar behaves in a proud and unpleasant way. He spares no thought for others. He is \_\_\_\_\_.

A.arrogant

B.aggressive

C.assertive

D.amiable

Answer:

A.arrogant

Reference ID:(16192)

पुढील वाक्यातील अधोरेखित अव्ययाचा प्रकार ओळखा.  
माझे जाण्याचे ठिकण येथून जवळ आहे.

A.क्रियाविशेषण अव्यय

B.केवलप्रयोगी अव्यय

C.शब्दयोगी अव्यय

D.उभयान्वयी अव्यय

Answer:

A.क्रियाविशेषण अव्यय

Reference ID:(16411)

नवी दिल्ली येथे 'ऊर्जा आणि पर्यावरणावरील आंतरराष्ट्रीय परिषद आणि प्रदर्शन: आव्हाने आणि संधी' (इएनसीओ 2019) \_\_\_\_\_ द्वारे आयोजित केली होती.

A.ग्रीन पिस

B.रक्षा मंत्रालय

C.वैज्ञानिक आणि औद्योगिक संशोधन समिती

D.जागतिक पर्यावरण निधी

Answer:

C.वैज्ञानिक आणि औद्योगिक संशोधन समिती

Reference ID:(16190) कर्मानुसार क्रियापदाच्या योग्य रूपाची निवड करा.  
गायकाने गीत\_\_\_\_\_

A.गायिला

B.गायिली

C.गायले

D.गाते

Answer: C.गायले

Reference ID:(16155) Choose the option that has NOT been punctuated correctly.

A.The instructor asked us if we needed more time?

B.Anna's mother is a pediatric dentist.

C.Every item in the store costs less than a dollar.

D.They met for the first time on August 27, 2015 in Chicago.

Answer: A.The instructor asked us if we needed more time?

Reference ID:(16406) कोणाला 'भारताचे पोलादी पुरुष' म्हणून जाणले जाते?

A.वल्लभभाई पटेल

B.बाळ गंगाधर टिळक

C.भगत सिंह

D.गोपाळ कृष्ण गोखले

Answer: A.वल्लभभाई पटेल

Reference ID:(16183) रिकामी जागा भरा.  
दोन किंवा अधिक केवळवाक्ये न्यूनत्वदर्शक अव्ययाने जोडली तर\_\_\_\_\_ वाक्य तयार होते.

A.प्रश्नार्थी

B.मिश्र वाक्य

C.संयुक्त वाक्य

D.केवळ वाक्य

- Answer:
- 
- Reference ID:(16429) खाली दिलेल्या चार पत्त्यांपैकी कोणता पत्ता खाली दिलेल्या पत्त्याशी अचूकपणे जुळत नाही?  
First Floor,Auqaf Complex,Main Chowk, Nawab Bazar, Srinagar, Jammu and Kashmir 190002  
099067 86356
- (i) First Floor,Auqaf Complex,Main Chowk, Nawab Bazar, Srinagar, Jammu and Kashmir 190002  
099067 86356
- (ii) First Floor,Auqaf Complex,Main Chowk, Nawab Bazar, Srinagar, Jammu and Kashmir 190002  
099067 86356
- (iii) First Floor,Auqaf Complex,Main Chowk, Nawab Bazar, Srinagar, Jammu and Kashmir 190002  
099067 86356
- (iv) First Floor,Auqaf Complex,Main Chowk, Nawab Bazar, Srinagar, Jammu and Kashmir 190002  
099067 86356

---

A.i

---

B.ii

---

C.iii

---

D.iv

---

Answer: C.iii

---

Reference ID:(16181) जोडशब्द नसलेला शब्द निवडा.

---

A.दीनदुबळा

---

B.विचारपूस

---

C.मागमूस

---

D.हीनदीन

---

Answer: C.मागमूस

A.पहिले

B.दुसरे

C.तिसरे

D.चौथे

Answer:

C.तिसरे

Reference ID:(16437)

रिकाम्या जागी योग्य संख्या निवडून श्रृंखला पूर्ण करा:  
8, 9, 15, 32, \_\_\_\_\_, 250.5

A.61

B.65.5

C.82.5

D.87

Answer:

C.82.5

Reference ID:(16184)

पुढील वाक्याचा प्रकार ओळखा.  
बाबांनी त्या शिक्षण संस्थेला आर्थिक मदतही खूप केली आणि तिथे मानद सचिव म्हणून कामही केले.

A.प्रश्नार्थी

B.मिश्र वाक्य

C.संयुक्त वाक्य

D.केवल वाक्य

Answer:

C.संयुक्त वाक्य

Reference ID:(16417)

भारतीय संविधानातील कलम \_\_\_\_\_ मध्ये अस्पृश्यता निर्मूलनाची आणि त्याच्या प्रघाताच्या निषेध संबंधित तरतुदी आहेत.

A.21ए

B.31

C.17

D.33सी

Reference ID:(16416) राष्ट्रीय जलमार्ग क्रमांक 85 महाराष्ट्रातील \_\_\_\_\_ खाडीमध्ये स्थित आहे.

A.कोराली

B.अक्शी

C.रेवदंडा

D.वर्सोली

Answer:

C.रेवदंडा

Reference ID:(16404) 2019 मध्ये, बिहारने त्यांचा 107 वा बिहार दिन \_\_\_\_\_ रोजी साजरा केला.

A.22 मार्च

B.21 मार्च

C.20 मार्च

D.25 मार्च

Answer:

A.22 मार्च

Reference ID:(16423) खालीलपैकी कोणते भारतामधील सर्वात प्राचीन अजूनही अस्तित्वात असलेले खडक कापून बनवलेल्या गुहांचे उदाहरण आहे?

A.अजंटा गुफा

B.कान्हेरी गुफा

C.एलिफेंटा गुफा

D.बराबर गुफा

Answer:

D.बराबर गुफा

Reference ID:(16188) योग्य पर्यायाची निवड करा.  
तू खूप मोठा \_\_\_\_\_

A.होतात

B.होशील

D.होऊ

Answer:

B.होशील

Reference ID:(16446)

एक काम पूर्ण करण्यासाठी A ला B च्या दुप्पट किंवा C च्या तिप्पट वेळ लागतो. एकत्र काम करून, ते 2 दिवसांत काम पूर्ण करू शकतात. एकटा B ते काम किती दिवसांत करू शकतो:

A.4 दिवस

B.6 दिवस

C.8 दिवस

D.12 दिवस

Answer:

B.6 दिवस

Reference ID:(16439)

खाजगी कंपनीमध्ये 60% कर्मचारी पुरुष आहेत आणि 48% कर्मचारी इंजिनियर्स आहेत आणि इंजिनियर्सपैकी 66.6% पुरुष आहेत. इंजिनियर नसलेल्या महिलांची टक्केवारी काढा?

A.60%

B.50%

C.55%

D.65%

Answer:

A.60%

Reference ID:(16182)

पुढील शब्दाचे लिंग ओळखा.  
नर्तिका

A.पुल्लिंग

B.स्त्रीलिंग

C.नपुसकलिंग

D.उभयलिंग

Answer:

B.स्त्रीलिंग

Reference ID:(16414) खालीलपैकी कोण एरो इंडिया 2019 मध्ये स्वदेशात तयार केलेल्या "तेजस" या लढाऊ लष्करी जेटमध्ये सह-वैमानिक बनली?

- A.पुसरला वेंकट सिंधु
- B.साइना नेहवाल
- C.सानिया मिर्झा
- D.झूलन गोस्वामी

Answer: A.पुसरला वेंकट सिंधु

Reference ID:(16401) पुढील वाक्यात पर्यायातील अचूक वाक्प्रचार निवडा. आगरकरांनी सुधारणांचा पाया महाराष्ट्रात रचला.

- A.खुणगाठ बांधणे
- B.ससेहोल्पट होणे
- C.मुहूर्तमेढ रोवणे
- D.कित्ता गिरवणे

Answer: C.मुहूर्तमेढ रोवणे

Reference ID:(16185) वाक्यांतील शब्दांचा योग्य क्रम लावून योग्य गद्य वाक्य ओळखा.

- A.उद्या माझा वाढदिवस आहे.
- B.आहे उद्या वाढदिवस माझा.
- C.वाढदिवस आहे उद्या माझा.
- D.माझा आहे वाढदिवस उद्या.

Answer: A.उद्या माझा वाढदिवस आहे.

Reference ID:(16421) या वर्षी 22 एप्रिल 2019 रोजी पृथ्वी दिन पाळला गेला, त्याची थीम काय होती?

- A.आपल्या पाण्याची बचत करा
- B.आपल्या झाडांचे संरक्षण करा
- C.आपल्या प्रजातींचे संरक्षण करा
- D.आपल्या निसर्गाचे संरक्षण करा



Reference ID:(16174) Out of the following options, identify a simple sentence.

A.Rakhi has just mowed the lawn, despite a busy schedule.

B.Rakhi was unable to mow the lawn.

C.As soon as Rakhi mowed the lawn, Reeta joined her in the same.

D.Rakhi and Reeta have just mowed the lawn.

Answer: B.Rakhi was unable to mow the lawn.

Reference ID:(16199) रिकामी जागा भरा. धन \_\_\_\_\_ धी

A.वृ

B.व्+र्+उ

C.व्+र्+ऊ

D.र्+व्+उ

Answer: A.वृ

Reference ID:(16408) खालीलपैकी कोणते राज्य भारतामधील दुसरे सर्वाधिक कापूस उत्पादक राज्य आहे?

A.उत्तर प्रदेश

B.महाराष्ट्र

C.मध्य प्रदेश

D.छत्तीसगढ

Answer: B.महाराष्ट्र

Reference ID:(16435) 2 जानेवारी 1901 रोजी कोणता दिवस होता?

A.बुधवार

B.गुरूवार

D.शनिवार

Answer:

A.बुधवार

Reference ID:(16438)

रिकाम्या जागी योग्य संख्या निवडून श्रृंखला पूर्ण करा:  
3, 4, 10, 33, \_\_\_\_\_, 685, 4116

A.84

B.112

C.136

D.156

Answer:

C.136

Reference ID:(16449)

पगारामधून, अखिलेशने 15% रक्कम घराच्या भाड्यासाठी, 5% रक्कम मुलांच्या शिक्षणासाठी आणि 15% रक्कम मनोरंजनासाठी ठेवली. आता त्याच्याकडे 13,000 रुपये आहेत. त्याचा पगार आहे:

A.Rs. 19,000

B.Rs. 20,000

C.Rs. 18,000

D.Rs. 15,000

Answer:

B.Rs. 20,000

Reference ID:(16196)

पुढील वाक्यातील अव्यय ओळखा.  
न्यायाधीशांसमक्ष सर्व साक्षी-पुरावे तपासले गेले.

A.सर्व

B.पुरावे

C.समक्ष

D.गेले.

Answer:

C.समक्ष

- A.फर्ग्युसन कॉलेज, पुणे  
B.सेंट झेवियर कॉलेज, मुंबई  
C.मिठीबाई कॉलेज, मुंबई  
D.कमला नेहरू महाविद्यालय, नागपूर

Answer: A.फर्ग्युसन कॉलेज, पुणे

Reference ID:(16171) Choose the appropriate conjunctions for the given sentence:

Send me a telegram \_\_\_\_\_ you reach Bangalore.

- A.before  
B.because  
C.since  
D.as soon as

Answer: D.as soon as

Reference ID:(16187) दिलेल्या काळात परिवर्तन करण्यासाठी योग्य पर्याय निवडा.  
तो मुलगा कुत्र्याला घाबरत आहे. (पूर्ण वर्तमानकाळ)

- A.घाबरला आहे  
B.घाबरला होता  
C.घाबरत असेल  
D.घाबरत होता

Answer: A.घाबरला आहे

Reference ID:(16405) महाराष्ट्राच्या नवीन 5 वर्षांच्या औद्योगिक धोरणामध्ये खालीलपैकी कोणते मुद्दे समाविष्ट नाहीत?

- A.उच्च तंत्रज्ञान आणि रोजगार निर्मिती व्यवसायावर धोरण विशेष भर देत आहे जी 10 लाख कोटी रुपयांची गुंतवणूक आकर्षित करण्यास उद्देशित आहे.

B.ती 2023-24 पर्यंत अंदाजे 40 लाख नोकऱ्या निर्माण करणार आहे आणि महाराष्ट्राला ट्रीलियन डॉलर अर्थव्यवस्था बनवणे हे तिचे ध्येय आहे.

C.यामधून 2022-23 पर्यंत अंदाजे 30 लाख नोकऱ्या निर्माण होतील आणि महाराष्ट्राला बिलियन डॉलर अर्थव्यवस्था बनवणे हे तिचे ध्येय आहे.

D.30-35 टक्के एवढ्या राष्ट्रीय सरासरीशी तुलना करता महाराष्ट्रामध्ये सामंजस्य कराराचे, कराराच्या एका वर्षानंतर वास्तविक गुंतवणूकीमध्ये रुपांतरण करण्याचा दर हा 45% नी अधिक आहे.

Answer:

C.यामधून 2022-23 पर्यंत अंदाजे 30 लाख नोकऱ्या निर्माण होतील आणि महाराष्ट्राला बिलियन डॉलर अर्थव्यवस्था बनवणे हे तिचे ध्येय आहे.

Reference ID:(16176)

Choose the option that best expresses the meaning of the highlighted idiom/phrase:

This computer has **an edge over** other models, because it has such a huge hard drive.

A.is better than

B.slightly changed

C.is the worst

D.is inefficient

Answer:

A.is better than

Date of Exam : 25-07-2019 10:00 AM

Reference ID:(16918) 'हिरकणी महाराष्ट्राची' योजना \_\_\_\_\_ यांना त्यांच्या नव उपक्रम आणि उद्योजक कौशल्य दर्शवण्यासाठी मंच प्रदान करण्यावर भर देते.

A.अपंग

B.महिलांचे स्वयं सहायता गट (एचएसजी)

C.बेरोजगार

D.दारिद्र्य रेषेखालील कुटुंब

Answer: B.महिलांचे स्वयं सहायता गट (एचएसजी)

Reference ID:(16916) लोकसभेत सरळ पाचव्यांदा पद मिळविल्याबद्दल बातम्यांमध्ये होता, अशा शिवसेनेच्या उमेदवाराचे नाव काय आहे?

A.सुभाष जांबड

B.हर्शवर्धन जाधव

C.अब्दुल सत्तार

D.चंद्रकांत खैरे

Answer: D.चंद्रकांत खैरे

Reference ID:(16905) भारताचे पहिले राष्ट्रीय डॉल्फिन संशोधन केंद्र (एनडीआरसी) \_\_\_\_\_ मध्ये उघडले जाणार आहे.

A.लखनऊ

B.मुंबई

C.दिल्ली

D.पटना

Answer: D.पटना

Reference ID:(16668) Choose the most suitable conjunction for the given sentence:

As an actor, though he has no talent, \_\_\_\_\_ his fans adore him.

B.since

C.for

D.yet

Answer:

D.yet

Reference ID:(16682)

पुढील वाक्याचा प्रकार ओळखा.  
तू अधिक सराव केला असतास तर स्पर्धेत नक्की जिंकला असतास.

A.संकेतार्थी वाक्य

B.मिश्र वाक्य

C.संयुक्त वाक्य

D.केवल वाक्य

Answer:

A.संकेतार्थी वाक्य

Reference ID:(16688)

कर्मानुसार क्रियापदाच्या योग्य रूपाची निवड करा.  
आजीने गोष्ट .....

A.सांगितला

B.संगितले

C.सांगते

D.सांगितली

Answer:

D.सांगितली

Reference ID:(16689)

रिकाम्या जागी योग्य पर्याय निवडा.  
'वर', 'पर्यंत' ही ..... अव्यये आहेत.

A.शब्दयोगी अव्यये

B.उभयान्वयी अव्यये

C.क्रियाविशेषण अव्यये

D.केवलप्रयोगी अव्यये

Answer:

A.शब्दयोगी अव्यये

A.15 दिवस

B.16 दिवस

C.18 दिवस

D.25 दिवस

Answer:

B.16 दिवस

Reference ID:(16673)

Choose the correct form of tense for the given sentence.

Keval \_\_\_\_\_ in this office for the last five years and \_\_\_\_\_ a sincere worker.

A. worked, is

B. has been working, is

C. has worked, is

D.working, is

Answer:

B. has been working, is

Reference ID:(16657)

Choose the appropriate collective noun to complete the sentence:

In India, just before winter sets in, there can be \_\_\_\_\_ of gulls seen migrating to warmer regions.

A.colonies

B.groups

C.broods

D.crowds

Answer:

A.colonies

Reference ID:(16678)

रिकाम्या जागी योग्य जोडशब्द लिहा.  
चिंचा, बोरं ----- असतात.

B.आंबटकडू

C.आंबटतुरट

D.आंबटतिखट

Answer:

A.आंबटचिंबट

Reference ID:(16920)

चहाचे उत्पादन आणि सेवन करणाऱ्या पाच देशांच्या संघाने चीनमध्ये गुडजू येथे, 'एशियन टी अलायन्स' सुरू केला. खालीलपैकी कोण त्या कराराचा सदस्य नाही?

A.इंडियन टी असोसिएशन

B.बांग्लादेशीयन टी मार्केटींग असोसिएशन

C.जपान टी असोसिएशन

D.इंडोनेशियन टी मार्केटींग असोसिएशन

Answer:

B.बांग्लादेशीयन टी मार्केटींग असोसिएशन

Reference ID:(16655)

Choose the correct form of adjective for the given sentence:

Saravanan has sharply varying moods; he is \_\_\_\_\_.

A.amiable

B.touchy

C.temperamental

D.ill bred

Answer:

C.temperamental

Reference ID:(16450)

Choose the word that is spelt correctly.

A.Pennyless

B.Peniless

C.Penniless

D.Penniliss



Answer:

Reference ID:(16697)

पुढीलपैकी शुद्ध शब्द ओळखा.

A.प्रतीष्ठापना

B.प्रतीष्ठापणा

C.प्रतिष्ठापना

D.प्रतिस्थपन

Answer:

C.प्रतिष्ठापना

Reference ID:(16915)

जालियानवाला बाग हत्याकांड कोणत्या वर्षी घडले होते?

A.1917

B.1919

C.1922

D.1930

Answer:

B.1919

Reference ID:(16690)

पुढील वाक्यातील अधोरेखित अव्ययाचा प्रकार ओळखा.  
रात्रीस खेळ चाले, हा गूढ चांदण्याचा.

A.शब्दयोगी अव्यय

B.क्रियाविशेषण अव्यय

C.उभयान्वयी अव्यय

D.केवलप्रयोगी अव्यय

Answer:

B.क्रियाविशेषण अव्यय

Reference ID:(16937)

स्वतःच्या वास्तविक वेगाच्या 5/7 वेगाने प्रवास करणारी एक कार 42 किमी अंतर 1 तास 40 मिनिटे 48 सेकंदांमध्ये पूर्ण करते. कारचा वास्तविक वेग काय आहे?

A.30

B.35

Answer: B.35

Reference ID:(16696) पुढील शब्दाची विभक्ती ओळखा  
भजनाहून

A.पंचमी

B.सप्तमी

C.प्रथमा

D.तृतीया

Answer: A.पंचमी

Reference ID:(16667) Choose the appropriate prepositional phrase for the given sentence:  
Can you help me \_\_\_\_\_?

A.in any way

B.by all mean

C.at random

D.at a price

Answer: A.in any way

Reference ID:(16671) Choose the correct form of verb that is in agreement with the subject:

She \_\_\_\_\_ at the top of her voice to gain the attention of the gardener.

A.shout

B.shouting

C.has shouting

D.is shouting

Answer: D.is shouting

Excessive to detail may be treated as a compulsive disorder.

A.-ion

B.-sive

C.-orily

D.-sively

Answer:

B.-sive

Reference ID:(16939)

50 ला दोन भागांमध्ये विभागा, ज्यामुळे व्युत्क्रमाची बेरीज (1/12) असेल, त्या संख्या या आहेत:

A.20,30

B.24,36

C.28,22

D.36,14

Sab Answer: bhaijaan

A.20,30

Sabka ek bhaijaan

Sabka ek bhaijaan

Reference ID:(16911)

अलिकडे खालीलपैकी कोणत्या देशाने भारताला 24 एमएच 60 रोमिओ सीहॉक हेलिकॉप्टर्सच्या विक्रीला मंजूरी दिली?

A.रशिया

B.चीन

C.संयुक्त राष्ट्रे

D.फ्रान्स

Answer:

C.संयुक्त राष्ट्रे

Reference ID:(16683)

वाक्यांतील शब्दांचा योग्य क्रम लावून योग्य गद्य वाक्य ओळखा.

A.महाराष्ट्राच्या पश्चिमेला अरबी समुद्र आहे.

B.अरबी पश्चिमेला महाराष्ट्राच्या आहे समुद्र.

D.समुद्र पश्चिमेला महाराष्ट्राच्या आहे अरबी.

Answer: A.महाराष्ट्राच्या पश्चिमेला अरबी समुद्र आहे.

Reference ID:(16686) दिलेल्या काळात परिवर्तन करण्यासाठी योग्य पर्याय निवडा.  
मी निबंध लिहित जाईन. (साधा वर्तमानकाळ)

A.लिहित जातो

B.लिहील

C.लिहिला

D.लिहितो

Answer: D.लिहितो

Reference ID:(16947) 5 किमी/तासाच्या दराने चालणारी एक व्यक्ती एक पूल 15 मिनिटांमध्ये ओलांडते. पूलाची लांबी काय आहे:

A.1000 मीटर्स

B.1050 मीटर्स

C.1200 मीटर्स

D.1250 मीटर्स

Answer: D.1250 मीटर्स

Reference ID:(16653) Choose the sentence with the correct punctuation to convey the right meaning.

A.Barbados is a beautiful country the beaches are warm sandy and spotlessly clean.

B.Barbados, is a beautiful country the beaches are warm: sandy and spotlessly clean.

C.Barbados is a beautiful country: the beaches are warm, sandy and spotlessly clean.

D.Barbados is a beautiful country; the beaches are warm, sandy and spotlessly clean.

Reference ID:(16934)

रिकाम्या जागी योग्य संख्या निवडून श्रृंखला पूर्ण करा:  
4, 4, 6, 12, 30, \_\_\_\_\_, 315

A.60

B.75

C.90

D.115

Answer:

C.90

Reference ID:(16699)

पुढील वाक्यात पर्यायातील अचूक वाक्प्रचार निवडा.  
मालिनीबाईंनी यावेळीही खूप बडबड केली.

A.तोंडसुख घेणे

B.तावडीत सापडणे

C.पोबारा करणे

D.जाब विचारणे

Answer:

A.तोंडसुख घेणे

Reference ID:(16921)

खालीलपैकी कोणते महाराष्ट्र राज्यामधील सर्वात जुने विद्यापीठ आहे?

A.शिवाजी विद्यापीठ

B.सावित्रीबाई फुले पुणे विद्यापीठ

C.मुंबई विद्यापीठ

D.संत गाडगे बाबा अमरावती विद्यापीठ

Answer:

C.मुंबई विद्यापीठ

Reference ID:(16676)

दिलेल्या शब्दगटातून विरुद्धार्थी शब्द ओळखा.  
वस्तूची – खरेदी X -----

A.किंमत

C.मंदी

D.विक्री

Answer:

D.विक्री

Reference ID:(16654)

Choose the correct form of adjective for the given sentence:

Sanjana is determined to get what she wants and in the process she does not mind even if she hurts people. She is \_\_\_\_\_.

A.enterprising

B.ruthless

C.unscrupulous

D.brave

Answer:

B.ruthless

Reference ID:(16923)

खालीलपैकी कोणता पृथ्वीचा नैसर्गिक उपग्रह आहे?

A.शुक्र

B.चंद्र

C.प्लुटो

D.आयएनएस 2 बी

Answer:

B.चंद्र

Reference ID:(16909)

फेब्रुवारी 2019 मध्ये, "नेटवर्क-18 रायजिंग इंडिया शिखर बैठक" \_\_\_\_\_ मध्ये आयोजित केली होती.

A.कानपूर

B.अमरावती

C.मुंबई

Answer:

D.नवी दिल्ली

Reference ID:(16695)

पुढील वाक्यातील विरामचिन्ह ओळखा.  
बस, तेव्हापासून स्वाक्षरीच्या तालमीला सुरुवात झाली !

A.संयोगचिन्ह

B.अपूर्णचिन्ह

C.उद्गारचिन्ह

D.एकेरी दंड

Answer:

C.उद्गारचिन्ह

Reference ID:(16910)

जवाहरलाल नेहरूद्वारे 'लोकसभेचे जनक' हे शीर्षक कोणाला प्रदान केले गेले?

A.बाळ गंगाधर टिळक

B.महात्मा गांधी

C.हुकुम सिंह

D.गणेश वासुदेव मावलणकर

Answer:

D.गणेश वासुदेव मावलणकर

Reference ID:(16672)

Out of the following options, identify a simple sentence.

A.Amit has just bought a property in Lucknow.

B.Amit has just bought a property in Lucknow, it is located in Gomtinagar.

C.Amit and his brother have just bought a property in Lucknow.

D.Amit has just bought an extremely expensive property in Lucknow, in Gomtinagar.

Answer:

A.Amit has just bought a property in Lucknow.

A.325

B.345

C.355

D.365

Answer:

C.355

Reference ID:(16666)

Choose the appropriate prepositions for the given sentence:

It takes a creative person to come up \_\_\_\_ ideas \_\_\_\_ new products.

A.out of ... in

B.with ... for

C.for ... on

D.through ... of

Answer:

B.with ... for

Reference ID:(16936)

गणित, भौतिकशास्त्र आणि रसायनशास्त्राच्या 3 पेपर्समध्ये मिळालेले जास्तीत जास्त गुण हे अनुक्रमे 1:2:3 गुणोत्तरामध्ये निश्चित केले गेले आहेत. गिरीला गणितामध्ये 40%, भौतिकशास्त्रामध्ये 60% आणि रसायनशास्त्राच्या पेपरमध्ये 35% गुण मिळाले. त्याला एकूण किती टक्के गुण मिळाले?

A.44%

B.32%

C.50%

D.60%

Answer:

A.44%

Reference ID:(16661)

Choose the appropriate articles to complete the given sentence:

\_\_\_\_ lubricating oil is put on \_\_\_\_ machine parts to make \_\_\_\_ machine run better.

A.An... no article required ... the

B.No article required ... a ... a



D.A ... no article required ...the

Answer:

D.A ... no article required ...the

Reference ID:(16660)

Choose the appropriate articles for the given sentence:

\_\_\_\_\_ Middle East has more oil in \_\_\_\_\_ ground than \_\_\_\_\_ United States.

A.No article required ... the ...a

B.The ... a ... the

C.The ... the ... the

D.No article required ... no article required ... the

Answer:

C.The ... the ... the

Reference ID:(16681)

रिकामी जागा भरा.  
होकरार्थी वाक्यांना ..... म्हणतात.

A.करणरूपी

B.मिश्र वाक्य

C.संयुक्त वाक्य

D.केवल वाक्य

Answer:

A.करणरूपी

Reference ID:(16929)

तीन व्यक्तींच्या वर्तमान वयांचे गुणोत्तर 4:7:9 आहे. आठ वर्षांपूर्वी, त्यांच्या वयांची बेरीज 56 होती. त्यांचे वर्तमान वय काढा (वर्षामध्ये).

A.8, 20, 28

B.16, 28, 36

C.20, 35, 45

D.यांपैकी कोणतेही नाही

Answer:

B.16, 28, 36

Reference ID:(16945)

आज शुक्रवार आहे, 126 दिवसांनी कोणता दिवस असेल?

---

B.शनिवार

---

C.रविवार

---

D.सोमवार

---

Answer:

A.शुक्रवार

---

Reference ID:(16664)

Which of the following options best combines the two given sentences?

The ruling party did many developments in the state. It's a million dollars question about their success.

---

A.The ruling party did many developments in the state, however, it's a million dollars question about their success.

---

B.As the ruling party did many developments in the state, its a million dollars question about their success.

---

C.Because the ruling party did many developments in the state, it's a million dollars question about their success.

---

D.While the ruling party did many developments in the state, it's a million dollars question about their success.

---

Answer:

A.The ruling party did many developments in the state, however, it's a million dollars question about their success.

---

Reference ID:(16651)

Choose the option that has the correct spelling for the missing word in the given sentence:

The food was served on the \_\_\_\_\_ by my mother.

---

A.playte

---

B.plait

---

C.plate

---

D.plat

---

Answer:

C.plate

---

A.अंनी बेसंट

B.बी. आर. आंबेडकर

C.ज्योतिबा फुले

D.एम.एन. रॉय

Answer:

B.बी. आर. आंबेडकर

Reference ID:(16922)

खालीलपैकी कोण मुंबईमध्ये जन्म झालेले प्रसिद्ध उद्योजक आहेत आणि ते विप्रो टेक्नोलॉजीजचे संस्थापक आणि अध्यक्ष आहेत?

A.मुकेश अंबानी

B.अमोल पालेकर

C.अनिल अंबानी

D.अजिम प्रेमजी

Answer:

D.अजिम प्रेमजी

Reference ID:(16926)

सरासरी काढा.  
55, 69, 87, 26, 14 & 55

A.65

B.88

C.51

D.98

Answer:

C.51

Reference ID:(16658)

Choose the option with the appropriate suffix to complete the given sentence:

What he says is in the realm of imagination. It is highly hypotheti\_\_\_\_\_.

A.-city

C.-ment

D.-en

Answer:

B.-cal

Reference ID:(16901)

दरवर्षी कोणत्या तारखेला "जागतिक जल दिन" पाळला जातो?

A.22 मार्च

B.23 मार्च

C.24 मार्च

D.25 मार्च

Answer:

A.22 मार्च

Reference ID:(16652)

Choose the sentence with the correct punctuation to convey the right meaning.

A.Mina said to Neha, Don't play with my toys.

B. Mina said to Neha, "Don't play with my toys."

C."Mina said to Neha, Don't play with my toys".

D.Mina said to Neha don't play with my toys.

Answer:

B. Mina said to Neha, "Don't play with my toys."

Reference ID:(16700)

सेवेचा अधिकार 2015 साठी महाराष्ट्र राज्य आयोगाचे मुख्यालय \_\_\_\_\_ येथे असेल.

A.पुणे

B.नागपूर

C.मुंबई

D.अहमदाबाद

Answer:

C.मुंबई

A.पैकी

B.गुण

C.तुला

D.बावीस

Answer:

A.पैकी

Reference ID:(16913)

कोणत्या वर्षी राष्ट्रपतींद्वारे अनुच्छेद 352 अंतर्गत पहिल्यांदा आपत्काळाची घोषणा केली गेली?

A.26 ऑक्टोबर 1962

B.26 ऑक्टोबर 1961

C.26 ऑक्टोबर 1960

D.26 ऑक्टोबर 1963

Answer:

A.26 ऑक्टोबर 1962

Reference ID:(16928)

हे प्रश्न हे खालील अक्षर/चिन्ह/ संख्येच्या मांडीणीवर आधारित आहेत, प्रश्नाचे उत्तर द्या  
A 8 B 6 # 7 H U % 3 \$ F V R 2 1 @ ↑ V 1 W E 9 © L 5

खालीलपैकी कोण डाव्या टोकाकडून नववे कोण आहे?

A.↑

B.R

C.#

D.%

Answer:

D.%

Reference ID:(16941)

एक विक्रेता 1920 रुपयांना वस्तूची खरेदी करतो, तो तिची 20% सूट देऊन विक्री करतो पण तरीही त्याला 20% नफा होतो. उत्पादनाची विक्री किंमत काय आहे?

A.रु. 1159

B.रु. 1550

C.रु. 2304

Answer: C.रू. 2304

Reference ID:(16927) खाली दिलेल्या चार पत्त्यांपैकी कोणता पत्ता खाली दिलेल्या पत्त्याशी अचूकपणे जुळत नाही?

Ist Floor, Sheikh UI Alam Complex, Near Gousia Masjid, Nowpora, Srinagar, Jammu and Kashmir 190003

(i) Ist Floor, Sheikh UI Alam Complex, Near Gousia Masjid, Nowpora, Srinagar, Jammu and Kashmir 190003

(ii) Ist Floor, Sheikh UI Alam Complex, Near Gousia Masjid, Nowpora, Srinagar, Jammu and Kashmir 190003

(iii) Ist Floor, Sheikh UI Alarm Complex, Near Gousja Masjid, Nowpora, Srinagar, Jammu and Kashmir 190003

(iv) Ist Floor, Sheikh UI Alam Complex, Near Gousia Masjid, Nowpora, Srinagar, Jammu and Kashmir 190003

A.i

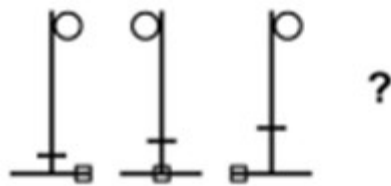
B.ii

C.iii

D.iv

Answer: C.iii

Reference ID:(17449) खाली दिलेल्या क्रमामध्ये, पुढे कोणती आकृती येईल?





Answer:



Reference ID:(16665)

Choose the correct form of modal auxiliary verb for the given sentence:

Although he didn't have a ticket, Ken \_\_\_\_\_ allowed to come in.

A.could be

B.can be

C.might

D.was

Answer:

D.was

Reference ID:(16912)

जॉन डिर्क्स कॅनडा गायर्डनर ग्लोबल हेल्थ पुरस्कार 2019 कोणत्या भारतीय मनोचिकित्सकाने जिंकला?

A.विक्रम पटेल

B.विक्रम गुप्ता

C.विक्रम आनंद

D.विक्रम मुंजळ

Answer:

A.विक्रम पटेल

- A. असमान वेगाने गतिमान आहे
- B. स्थिर वेगाने गतिमान आहे
- C. वरच्या दिशेने गतिमान आहे
- D. स्थिर आहे

Answer: B. स्थिर वेगाने गतिमान आहे

Reference ID:(16679) जोडशब्द नसलेला शब्द निवडा.

- A. आदिमानव
- B. कानाकोपरा
- C. गोडधोड
- D. जाडाभरडा

Answer: A. आदिमानव

Reference ID:(16663) Choose the most suitable determiner for the given sentence:

Shakespeare said that some achieve greatness while \_\_\_\_\_ have it thrust upon them.

- A. other
- B. some
- C. much
- D. those

Answer: B. some

Reference ID:(16930)

राजचे 8 वर्षांपूर्वी लग्न झाले. त्याचे वर्तमान वय हे त्याच्या लग्नाच्या वेळच्या वयाच्या 6/5 पट आहे. राजच्या लग्नाच्या वेळी त्याची बहिण त्याच्यापेक्षा 10 वर्षे लहान होती. राजच्या बहिणीचे वय काय आहे?

A. 32 वर्षे



C.38 वर्षे

D.40 वर्षे

Answer:

C.38 वर्षे

Reference ID:(16907)

डिसेंबर 2018 मध्ये महाराष्ट्राच्या मुख्य मंत्र्यांद्वारे सुरू केलेल्या आंतरराष्ट्रीय शाळांना खालीलपैकी कोणाचे नाव देण्यात आले?

A.बी. आर. आंबेडकर

B.अटल बिहारी वाजपेयी

C.जवाहरलाल नेहरू

D.धोंडो केशव कर्वे

Answer:

B.अटल बिहारी वाजपेयी

Reference ID:(16914)

राष्ट्रीय जलमार्ग क्रमांक 85 महाराष्ट्रातील \_\_\_\_\_ नदीवर स्थित आहे.

A.मंजिरा

B.कुंडलिका

C.शास्त्री

D.अंबा

Answer:

B.कुंडलिका

Reference ID:(16669)

Choose the appropriate conjunctions for the given sentence:

Shall we watch TV \_\_\_\_\_ go for a walk?

A.but

B.because

C.or

D.and

Answer:

C.or

A.विधेयविस्तार

B.उद्देश्य

C.विधेय

D.उद्देश्यविस्तार

Answer:

C.विधेय

Reference ID:(16932)

खाली दिलेल्या श्रृंखलेमध्ये अंकांचा एक विशिष्ट क्रम दिलेला आहे. त्यानुसार चुकीचा क्रम ओळखा:  
2, 11, 27, 113, 560, 3369, 23581

A.27

B.11

C.113

D.560

Answer:

D.560

Reference ID:(16938)

जर 120 किमी अंतर रेल्वेने आणि उर्वरित अंतर कारने कापले, तर 600 किमी प्रवासासाठी आठ तास लागतात. ट्रेनने 200 किमी आणि उर्वरित अंतर कारने कापल्यास आणखी 20 मिनिटे लागतात. त्या ट्रेनच्या वेगाचे कारच्या वेगाशी असलेले गुणोत्तर काय आहे?

A.3:4

B.2:3

C.1:2

D.1:3

Answer:

A.3:4

Reference ID:(16687)

दिलेल्या धातूचे शक्य क्रियापद ओळखा.  
पी-पिणे

A.पिले

B.पितो

C.पितात

Answer: D.पिववते

Reference ID:(16933) रिकाम्या जागी योग्य संख्या निवडून श्रृंखला पूर्ण करा:  
3, 14, 39, \_\_\_\_, 155, 258

A.84

B.88

C.92

D.96

Answer: A.84

Reference ID:(16903) महाराष्ट्राच्या मुख्य मंत्र्यांनी नवीन 5 वर्षांच्या औद्योगिक धोरणाचे कधी अनावरण केले?

A.18 मार्च 2019 रोजी

B.26 मार्च 2019 रोजी

C.16 मार्च 2019 रोजी

D.6 मार्च 2019 रोजी

Answer: D.6 मार्च 2019 रोजी

Reference ID:(16674) Choose the option that best expresses the meaning of the highlighted idiom/phrase:

**Keep both feet on the ground**

A.Cry over spilt milk

B.Don't get carried away by emotions

C.Get off the couch

D.Make opportunities

Answer: B.Don't get carried away by emotions

Reference ID:(16692) पुढील वाक्यात किती विशेषणे आहेत, ते ओळखा.  
त्या तिथे पलीकडे माझिया प्रियेचे झोपडे

B.३

C.४

D.५

Answer:

A.२

Reference ID:(16698)

पुढील वाक्प्रचारांच्या योग्य अर्थाचा पर्याय निवडा.  
हातघाईवर येणे -

A.मागे लागणे

B.सोडून देणे

C.मनावर घेणे

D.अधीर होणे

Answer:

D.अधीर होणे

Reference ID:(16656)

Fill in the blank with the correct noun for the given sentence:

The contract \_\_\_\_\_ were drawn between the two countries amidst tight \_\_\_\_\_.

A.negotiable ... secrecy

B.negotiations ... security

C.negotiates ... sacredness

D.negotiable ... surety

Answer:

B.negotiations ... security

Reference ID:(16931)

15 ऑगस्ट 1947 रोजी आठवड्याचा कोणता दिवस होता?

A.शुक्रवार

B.शनिवार

C.रविवार

D.सोमवार

Answer:

A.शुक्रवार

A.इंदौर

B.विजयवाडा

C.देहरादून

D.कोची

Answer:

A.इंदौर

Reference ID:(16691)

पुढील नामाला अयोग्य विशेषणाचा पर्याय निवडा.  
माणूस

A.अमेरिकन

B.दुष्पट

C.आश्वासक

D.हट्टी

Answer:

B.दुष्पट

Reference ID:(16940)

संघटनेद्वारे कमवलेला नफा हा अधिकारी आणि लिपिकांमध्ये 5:3 या गुणोत्तरात वितरीत केला जातो. जर अधिकाऱ्यांची संख्या 55 असेल आणि लिपिकांची संख्या 70 असेल आणि प्रत्येक अधिकाऱ्याला मिळालेली रक्कम 12,000 रुपये असेल, तर कमवलेल्या नफ्याची एकूण रक्कम काय होती?

A.11 लाख रुपये

B.12.25 लाख रुपये

C.10.56 लाख रुपये

D.16 लाख रुपये

Reference ID:(16685)

दिलेल्या काळात परिवर्तन करण्यासाठी योग्य पर्याय निवडा.  
कोळी जाळे विणत असेल. (रीति भविष्यकाळ)

A.विणत असतो

B.विणत जाईल

C.विणत होता

D.विणत असे

Answer:

B.विणत जाईल

Reference ID:(16677)

दिलेल्या शब्दगटातून विरुद्धार्थी शब्द ओळखा.  
गणेशोत्सव – वैयक्तिक X -----

A.परंपरागत

B.आवडता

C.आधुनिक

D.सार्वजनिक

Answer:

D.सार्वजनिक

Reference ID:(16693)

अनेकवचनांचे एक वचन करा.  
शाळांच्या इमारतींसाठी शिक्षिकांनी देणग्या मिळवल्या.

A.शाळांच्या इमारतींसाठी शिक्षिकांनी देणगी मिळवल्या.

B.शाळांच्या इमारतींसाठी शिक्षिकेने देणग्या मिळवली.

C.शाळेच्या इमारतीसाठी देणगी मिळवली.

Answer: C.शाळेच्या इमारतीसाठी देणगी मिळवली.

Reference ID:(16946) रमन त्याच्या नफ्याच्या टक्केवारीची गणना विक्री किमतीवर तर राजीव खरेदी किमतीवर करतो. त्यांच्या नफ्यामधील फरक 150 रुपये असल्याचे त्यांना आढळते. जर त्या दोघांची विक्री किंमत सारखी असेल आणि दोघांनाही 50% नफा मिळत असेल. तर त्यांची विक्री किंमत काढा.

A.रु. 620

B.रु. 900

C.रु. 870

D.रु. 750

Answer: B.रु. 900

Reference ID:(16662) Choose the correct form of verb for the given sentence:

Due to the high fees, it seems that higher education nowadays is \_\_\_\_\_ for those who can afford it.

A.planned

B.given

C.imparted

D.meant

Answer: D.meant

Reference ID:(16670) Choose the most appropriate usage to fill in the blank in the given sentence:

Some people feel that parents are the best \_\_\_\_\_ for their children.

A.instructive

B.instructions

C.instructor

D.instructors

Answer: D.instructors

Reference ID:(16942) A आणि B एकत्रितपणे एक काम 30 दिवसांत पूर्ण करू शकतात. त्यांनी 20 दिवस एकत्र काम केले आणि मग B काम सोडून गेला. आणखी 20 दिवसांनंतर, A ने शिल्लक काम पूर्ण केले. एकटा A किती दिवसांत काम पूर्ण करू शकतो?

A.40 दिवस

B.50 दिवस

C.54 दिवस

D.60 दिवस

Answer: D.60 दिवस

Reference ID:(16948) एक व्यक्ती त्याचे 60% उत्पन्न खर्च करतो. त्याचे उत्पन्न 20% नी वाढले आणि त्याचा खर्चही 10% नी वाढला. त्याच्या बचतीमध्ये किती टक्के घट झाली?

A.10%

B.15%

C.20%

D.25%

Answer: A.10%

Reference ID:(16675) दिलेल्या शब्दगटातून योग्य समानार्थी शब्द निवडा.  
मीठ

A.क्षीर

B.नीर

C.क्षार

D.पूड

Answer: C.क्षार

Reference ID:(16908) भारताच्या कोणत्या दूरसंचार कंपनीने दूरसंचार विभागाकडून (डीओटी) फ्लाइंग-मधील कनेक्टीव्हिटीचा परवाना घेतला आहे?



B.बीएसएनएल

C.रिलायन्स जिओ

D.आयडीया

Answer:

B.बीएसएनएल

Reference ID:(16917)

खालीलपैकी कोणत्या भारतीय राजकारण्याला स्पॅनिश शासनाने प्रतिष्ठीत 'ग्रॅन्ड क्रॉस ऑफ द ऑर्डर ऑफ सिव्हील मेरीट' ने सन्मानित केले?

A.सुषमा स्वराज

B.राम नाथ कोविंद

C.नरेंद्र मोदी

D.पियुश गोयल

Answer:

A.सुषमा स्वराज

Reference ID:(16925)

खाली दिलेल्या पाच संख्यांकडे पहा:  
851, 743, 624, 319, 298

जर वरील प्रत्येक संख्येमधील पहिल्या आणि तिसऱ्या अंकांचे स्थान अदलाबदल केले गेले, तर तिसरी सर्वात मोठी संख्या खालीलपैकी कोणती असेल?

A.624

B.298

C.743

D.319

Answer:

A.624

Reference ID:(16680)

पुढील शब्दाचे लिंग ओळखा.  
पुस्तिका

A.पुल्लिंग

C. नपुसकलिंग

D. उभयलिंग

Answer:

B. स्त्रीलिंग

Reference ID:(16944)

खाली दिलेल्या श्रृंखलेमध्ये अंकांचा एक विशिष्ट क्रम दिलेला आहे. त्यानुसार चुकीचा क्रम ओळखा:  
73, 57, 49, 44, 43, 42

A.73

B.57

C.49

D.44

Answer:

D.44

Reference ID:(16902)

‘बिहार दिवस’ साजरा करण्याचे कारण काय आहे?

A.1910 रोजी बंगाल प्रांतामधून बिहार बाहेर काढण्यात आल्याच्या स्मरणार्थ हा दिवस साजरा केला जातो

B.1912 रोजी बंगाल प्रांतामधून बिहार बाहेर काढण्यात आल्याच्या स्मरणार्थ हा दिवस साजरा केला जातो

C.उत्तर प्रदेशामधून बिहार बाहेर काढण्यात आल्याच्या स्मरणार्थ हा दिवस साजरा केला जातो

D.2011 रोजी उत्तर प्रदेशामधून बिहार बाहेर काढण्यात आल्याच्या स्मरणार्थ हा दिवस साजरा केला जातो

Answer:

B.1912 रोजी बंगाल प्रांतामधून बिहार बाहेर काढण्यात आल्याच्या स्मरणार्थ हा दिवस साजरा केला जातो

Reference ID:(16904)

भारतीय द्वीपकल्प हा \_\_\_\_\_द्वारे आशियाच्या मुख्य भूप्रदेशापासून विलग झाला आहे.

A.हिंदी महासागर

B.हिमालय

C.बंगालचा उपसागर

D.अटलांटीक महासागर

Sabka ek bhaijaan

Sabka ek bhaijaan

Sabka ek bhaijaan

Answer:

B.हिमालय

Sabka ek bhaijaan

Sabka ek bhaijaan

Sabka ek bhaijaan

Sabka ek bhaijaan

Sabka ek bhaijaan

Sabka ek bhaijaan

Date of Exam : 25-07-2019 02:30 PM

- Reference ID:(17426) खाली दिलेल्या चार पत्त्यांपैकी कोणता पत्ता खाली दिलेल्या पत्त्याशी अचूकपणे जुळत नाही?  
The Boulevard Road near Nehru Park Dal Lake Srinagar 190001, Gagribal, Srinagar, Jammu and Kashmir 190001  
094190 90888
- (i) The Boulevard Road near Nehru Park Dal Lake Srinagar 190001, Gagribal, Srinagar, Jammu and Kashmir 190001  
094190 90888
- (ii) The Boulevard Road near Nehru Park Dal Lake Srinagar 190001, Gagribal, Srinagar, Jammu and Kashmir 190001  
094190 90888
- (iii) The Boulevard Road near Nehru Park Dal Lake Srinagar 190001, Gagribal, Srinagar, Jammu and Kashmir 190001  
094190 90888
- (iv) The Boulevard Road near Nehru Park Dal Lake Srinagar 190001, Gagribal, Srinagar, Jammu and Kashmir 190001  
094190 90888

Sabka ek bhaijaan

Sabka ek bhaijaan

Sabka ek bhaijaan

A.i

B.ii

C.iii

D.iv

Answer: D.iv

- Reference ID:(17428) आनंद आणि बाबु यांच्या वर्तमान वयामधील गुणोत्तर अनुक्रमे 5:3 आहे. 4 वर्षांपूर्वी आनंदचे वय आणि 4 वर्षांनंतर बाबुच्या वयामधील गुणोत्तर 1:1 आहे. 4 वर्षांनंतर आनंदचे वय आणि 4 वर्षांपूर्वी बाबुच्या वयामधील गुणोत्तर काय असेल?

A.1 : 3

B.2 : 1

C.3 : 1

Sabka ek bhaijaan

Sabka ek bhaijaan

Sabka ek bhaijaan

Answer: C.3 : 1

Reference ID:(17433) रिकाम्या जागी योग्य संख्या निवडून श्रृंखला पूर्ण करा:  
6, 8, 14, 26, 46, \_\_\_\_\_

A.84

B.96

C.112

D.118

Answer: D.118

Reference ID:(17166) Choose the appropriate prepositional phrase for the given sentence:  
\_\_\_\_\_ the rains, we went out for the picnic.

A.On behalf of

B.In spite of

C.Respite of

D.In case of

Answer: B.In spite of

Reference ID:(17190) पुढील नामाला अयोग्य विशेषणाचा पर्याय निवडा.  
कापड

A.कडू

B.जरतारी

C.मऊ

D.विणलेले

Answer: A.कडू

Reference ID:(17165) Choose the appropriate prepositions for the given sentence:

Many families are satisfied \_\_\_\_\_ the results they get \_\_\_\_\_ homeschooling.

B.from ... in

C.against ... out

D.of ... of

Answer:

A.with ... from

Reference ID:(17182)

पुढील वाक्य वाचून योग्य वाक्य ओळखा.

A.तिची वही हरवले.

B.तिची वही हरवलो.

C.तिची वही हरवली.

D.तिची वही हरवल्या.

Answer:

C.तिची वही हरवली.

Reference ID:(17162)

Choose the most suitable determiner for the given sentence:

\_\_\_\_\_ of the two pay any attention during class. They are always day dreaming.

A.Either

B.Each

C.Neither

D.Both

Answer:

C.Neither

Reference ID:(17189)

पुढील वाक्यातील अधोरेखित अव्ययाचा प्रकार ओळखा.  
'तुला मुक्ती मिळू शकेल असे सांप्रत काही लाभेल, असे वाटत नाही.

A.उभयान्वयी अवय

B.शब्दयोगी अव्यय

C.केयलप्रयोगी अव्यय

D.क्रियाविशेषण अव्यय

Answer:

D.क्रियाविशेषण अव्यय

Reference ID:(17437)

अरुण त्याच्या सायकलवर प्रवास करत आहे आणि त्याने जर 10 किमी/तास या वेगाने प्रवास केला तर तो A या ठिकाणी दुपारी 2 वाजता पोहचेल अशी त्याने गणना केली. त्याने 15 किमी तासाने प्रवास केला तर तो तेथे दुपारी 12 वाजता पोहचेल. दुपारी 1 वाजता त्या ठिकाणी पोहचण्यासाठी त्याने किती वेगाने प्रवास करावा.

A.8 किमी/तास

B.10 किमी/तास

C.12 किमी/तास

D.14 किमी/तास

Answer:

C.12 किमी/तास

Reference ID:(17415)

जानेवारी'19 मध्ये 9 वी आंतरराष्ट्रीय सुक्ष्म सिंजन कॉन्फरन्स महाराष्ट्रातील कोणत्या शहरात आयोजित केली गेली होती?

A.औरंगाबाद

B.नांदेड

C.सोलापूर

D.सांगली

Answer:

A.औरंगाबाद

Reference ID:(17422)

वैद्यकीय तापमापी हे मोजण्यासाठी वापरतात:

A.वातावरणीय तापमान

B.मानवी शरीराचे तापमान

C.रुग्णालयाचे तापमान

D.प्रयोगशाळेचे तापमान

Answer:

B.मानवी शरीराचे तापमान

Reference ID:(17425)

सरासरी काढा.  
78, 89, 65, 82, 98 & 98

A.85

C.58

D.98

Answer:

A.85

Reference ID:(17186)

दिलेल्या धातूचे शक्य क्रियापद ओळखा.  
खेळणे

A.खेळतो

B.खेळते

C.खेळवते

D.खेळतात

Answer:

C.खेळवते

Reference ID:(17157)

Choose the option with the appropriate suffix to complete the given sentence:

If he helps others, he always expects them to be recipro\_\_\_\_\_Sabka ek bhaijaan

A.-city

B.- cal

C.-ment

D.-en

Answer:

B.- cal

Reference ID:(17174)

दिलेल्या शब्दगटातून योग्य समानार्थी शब्द निवडा.  
कासव

A.मच्छ

B.कच्छप

C.वराह

D.सुपर्ण

Answer:

B.कच्छप



Reference ID:(17151)

Choose the sentence with the correct punctuation to convey the right meaning.

- A.What a beautiful morning said the boy!
- B.“What a beautiful morning!” said the boy.
- C.What! A beautiful morning said the boy.
- D.“What a beautiful morning said the boy?”

Answer: B.“What a beautiful morning!” said the boy.

Reference ID:(17154)

Choose the correct form of adjective for the given sentence:

Knowing no better, he used very \_\_\_\_\_ language.

- A.spontaneous
- B.accurate
- C.inappropriate
- D.correct

Answer: C.inappropriate

Reference ID:(17171)

Out of the following options, identify a simple sentence.

- A.Gulliver opened his eyes gently.
- B.Only to find himself surrounded by strange people.
- C.Try as much, he was unable to raise himself.
- D.There were birds in the sky and ants below him.

Answer: A.Gulliver opened his eyes gently.

Reference ID:(17172)

Choose the correct form of tense for the given sentence:

Yesterday I \_\_\_\_\_ to the market, although it \_\_\_\_\_.

- A.go, rained
- B.goes, is raining
- C.went, was raining
- D.went, is raining

Reference ID:(17411) कोणत्या राज्याला भारत शासनाच्या वैयक्तिक आणि प्रशिक्षण विभागाचा इ-लर्निंग प्रशिक्षक प्रोग्रामर म्हणून पहिली श्रेणी मिळाली?

A.तेलंगणा

B.महाराष्ट्र

C.पश्चिम बंगाल

D.राजस्थान

Answer: A.तेलंगणा

Reference ID:(17406) भारतीय परमाणु ऊर्जा महामंडळ मर्यादित (एनपीसीआयएल) आणि एलेक्ट्रीसीटी डी फ्रान्सद्वारे परमाणु ऊर्जा प्रकल्पासाठी महाराष्ट्रामध्ये भूसंपादन पूर्ण झाले आहे?

A.पावस

B.जयगड

C.झरेवाडी

D.जयतापूर

Answer: D.जयतापूर

Reference ID:(17441) आज सोमवार आहे. 61 दिवसांनी कोणता दिवस असेल?

A.शनिवार

B.रविवार

C.सोमवार

D.मंगळवार

Answer: A.शनिवार

Reference ID:(17193) पुढील वाक्यातील अव्यय ओळखा.  
तुझ्या वागण्याची तुला थोडीसुद्धा लाज वाटत नाही?

A.सुद्धा

B.लाज

C.थोडी

Answer:

A.सुद्धा

Reference ID:(17177)

रिकाम्या जागी योग्य जोडशब्द लिहा.  
सुभद्राने कष्टाने \_\_\_\_\_ जमवून संसार थाटला.

A.गाडगीभांडी

B.भांडीमडकी

C.गाडगीमडकी

D.ताटभांडी

Answer:

C.गाडगीमडकी

Reference ID:(17438)

50 संख्यांची सरासरी 38 आहे. जर 45 आणि 55 या दोन संख्या काढून टाकल्या, तर उर्वरित संख्यांची सरासरी काय असेल?

A.37.5

B.35

C.36.75

D.38

Answer:

A.37.5

Reference ID:(17187)

योग्य पर्यायाची निवड करा.  
दुकानदार साड्या \_\_\_\_\_

A.विकतात

B.विकते

C.विकून

D.विकणे

Answer:

A.विकतात

Reference ID:(17176)

दिलेल्या शब्दगटातून विरुद्धार्थी शब्द ओळखा.  
प्रपंच – गबाळा X \_\_\_\_\_

A.ओढगस्तीचा

C.सुखाचा

D.रव्यापव्याचा

Answer:

B.नीटनेटका

Reference ID:(17432)

रिकाय्या जागी योग्य संख्या निवडून श्रृंखला पूर्ण करा:  
5, 6, 16, \_\_\_\_, 244, 1245

A.28

B.55

C.57

D.61

Answer:

C.57

Reference ID:(17410)

खालीलपैकी कोणत्या राज्याच्या विधानसभेच्या निवडणूका या सार्वत्रिक निवडणूका 2019 सोबतच आयोजित केल्या जाणार नाहीत?

A.आंध्र प्रदेश

B.ओडिशा

C.बिहार

D.सिक्कीम

Answer:

C.बिहार

Reference ID:(17200)

खालीलपैकी कोणत्या महिन्याच्या पहिल्या आठवड्यामध्ये दरवर्षी वन्य जीव सप्ताह पाळला जातो?

A.ऑक्टोबर

B.सप्टेंबर

C.जानेवारी

D.नोव्हेंबर

Answer:

A.ऑक्टोबर

I cannot \_\_\_\_\_ my car out because the engine \_\_\_\_\_ work.

A.takes ... don't

B.take ... doesn't

C.taking ... isn't

D.took ... can't

Answer:

B.take ... doesn't

Reference ID:(17159)

Choose the appropriate articles for the given sentence:

In 1929, Fleming wrote \_\_ report of his laboratory experiments, presented it at \_\_ medical meeting, and had it printed in \_\_ medical journals.

A.No article required ... the ... a

B.the ... the ... the

C.the ... a ...no article required

D.a ... a ... no article required

Answer:

D.a ... a ... no article required

Reference ID:(17421)

जर अंतर-वेळ आलेख हा वक्राकार असेल तर ती वस्तू \_\_\_\_\_.

A.एका समान वेगाने चालते

B.असमान वेगाने चालते

C.वर्तुळाकार रस्त्यावर चालते

D.त्याच्या मूळ ठिकाणी येते

Answer:

B.असमान वेगाने चालते

Reference ID:(17152)

Choose the option that has NOT been punctuated correctly.

A.I always have a hard time getting up in the morning.

B.We took: a tent, a cooler, and a sleeping bag.

C.The fog was as thick as potato soup.

D.Sara bought three new pairs of shoes, even though she had put herself on a tight budget just last week.

Answer: B.We took: a tent, a cooler, and a sleeping bag.

Reference ID:(17188) रिकाम्या जागी योग्य पर्याय निवडा.  
'व्यतिरिक्त' हे \_\_\_\_\_ अव्यय आहे.

A.केवलप्रयोगी अव्यय

B.उभयान्वयी अव्यय

C.शब्दयोगी अव्यय

D.क्रियाविशेषण अव्यय

Answer: C.शब्दयोगी अव्यय

Reference ID:(17191) पुढील वाक्यात किती विशेषणे आहेत, ते ओळखा.  
एवढ्या चहासाठी केवढा मोठा थर्मास आणलात तुम्ही ?

A.१

B.२

C.३

D.४

Answer: C.३

Reference ID:(17434) ग्रंथालयामध्ये 60% पुस्तके हिंदीची आहेत, उर्वरित पुस्तकांमधून 60% पुस्तके इंग्रजीची आणि बाकी पुस्तके मल्याळमची आहेत. जर इंग्रजीची 4800 पुस्तके असतील, तर मल्याळममधील पुस्तकांची एकूण संख्या ही आहे?

A.3400

B.3500

C.3100

D.3200

Answer: D.3200

Reference ID:(17402) मुंबई फुटबॉल एरेनामध्ये आयोजित भारतीय सुपर लीग (आयएसएल) च्या अंतिम फेरीमध्ये 1-0 ने पराभूत झालेल्या संघाचे नाव सांगा.

B.एफसी गोवा

C.बेंगलुरु फुटबॉल क्लब (एफसी)

D.केरळ ब्लास्टर्स (केबी)

Answer:

B.एफसी गोवा

Reference ID:(17169)

Choose the most appropriate usage to fill in the blank in the given sentence:

Teachers give their students tests and assessments \_\_\_\_\_.

A.periodically

B.periodic

C.period-wise

D.period

Answer:

A.periodically

Reference ID:(17424)

7136985 या संख्येमधील अंकांची चढत्या क्रमाने पुनर्मांडणी केल्यानंतर त्यामधील किती अंकांचे स्थान बदलणार नाही?

A.एक

B.दोन

C.तीन

D.चार

Answer:

B.दोन

Reference ID:(17440)

खाली दिलेल्या श्रृंखलेमध्ये अंकांचा एक विशिष्ट क्रम दिलेला आहे. त्यानुसार चुकीचा क्रम ओळखा:

1527, 1185, 985, 865, 823, 817

A.985

B.865

C.823

D.817

Answer:

A.985

Reference ID:(17412) संविधानाच्या खालीलपैकी कोणत्या अनुच्छेदांतर्गत, दोन किंवा अधिक राज्यांसाठी एकच व्यक्ती राज्यपाल म्हणून नियुक्त करणे शक्य आहे?

A.अनुच्छेद 153

B.अनुच्छेद 158

C.अनुच्छेद 156

D.अनुच्छेद 163

Answer: A.अनुच्छेद 153

Reference ID:(17419) ग्रेटर मुंबई महानगरपालिका (एमसीजीएम) ची अध्यक्षा म्हणून सेवा देण्यासाठी खालीलपैकी कोण पहिली महिला नगरसेविका बनली आहे?

A.अजॉय मेहता

B.तृष्णा विश्वासराव

C.संजय बर्वे

D.विश्वनाथ महाडेश्वर

Answer: B.तृष्णा विश्वासराव

Reference ID:(16950) Choose the option that has the correct spelling for the missing word in the given sentence:

The mouse ate the \_\_\_\_\_ which was kept on the table.

A.chise

B.chese

C.cheese

D.cheeze

Answer: C.cheese

Reference ID:(17181) पुढील वाक्याचा प्रकार ओळखा.  
मी नाटकात काम करणार आहे.

A.विध्यर्थी

B.होकारार्थी



D.आज्ञार्थी

Answer:

B.होकारार्थी

Reference ID:(17199)

मार्च 2019 मध्ये खालीलपैकी कोणत्या माजी आरबीआय गव्हर्नरला यशवंतराव चव्हाण राष्ट्रीय पुरस्कार प्रदान करण्यात आला?

A.मनमोहन सिंग

B.रघुराम राजन

C.बिमल जलान

D.उर्जित पटेल

Answer:

B.रघुराम राजन

Reference ID:(17184)

दिलेल्या काळात परिवर्तन करण्यासाठी योग्य पर्याय निवडा.  
आजी श्रियाला गोष्ट सांगत आहे. (भविष्यकाळ)

A.सांगत असेल

B.सांगेल

C.सांगितली

D.सांगितली होती

Answer:

B.सांगेल

Reference ID:(17409)

\_\_\_\_\_ वर्षामध्ये ब्रिटीशांनी निझाम आणि मराठांसोबत टिपू सुल्तानविरुद्ध त्रिपक्षीय गठबंधन पूर्ण केले.

A.1801

B.1904

C.1789

D.1679

Answer:

C.1789

Reference ID:(17431)

The series given below contains a sequence of numbers. Identify the incorrect combination: / खाली दिलेल्या श्रृंखलेमध्ये अंकांचा एक विशिष्ट क्रम दिलेला आहे. त्यानुसार चुकीचा क्रम ओळखा:  
1, 3, 6, 11, 20, 39, 70

A.3

B.39

C.11

D.20

Answer:

B.39

Reference ID:(17164)

Choose the correct form of modal auxiliary verb for the given sentence:

\_\_\_\_\_ we do the working up for you?

A.Shall

B.May

C.Might

D.Will

Answer:

A.Shall

Reference ID:(16949)

Choose the option that has the correct spelling.

A.Foreward

B.Forword

C.Forworde

D.Foreword

Answer:

D.Foreword

Reference ID:(17155)

Fill in the blank with the correct noun for the given sentence:

Drugs not only alter \_\_\_\_\_ but also memory, mood and \_\_\_\_\_.

A.pathways ... boredom

B.vision ... perception

C.perception ... behaviour

Answer: C.perception ... behaviour

Reference ID:(17436) एक व्यक्ती 10 तासांमध्ये प्रवास पूर्ण करतो. तो पहिला अर्धा प्रवास 21 किमी/तास या दराने करतो आणि दुसरा अर्धा प्रवास 24 किमी/तास या दराने करतो. किलोमीटरमध्ये केलेला एकूण प्रवास काढा.

A.121 किमी

B.242 किमी

C.224 किमी

D.112 किमी

Answer: C.224 किमी

Reference ID:(17445) एका व्यक्तीच्या खात्यामध्ये दोन वर्षांपूर्वी 2000 रुपये होते. पहिल्या वर्षी त्याने त्याच्या खात्यामध्ये 20% रक्कम जमा केली. पुढच्या वर्षी त्याने वाढलेल्या रकमेच्या 10% रक्कम जमा केली. 2 वर्षांनंतर व्यक्तीच्या खात्यामधील एकूण रक्कम काढा.

A.2650

B.2640

C.2740

D.2840

Answer: B.2640

Reference ID:(17429) वडीलांचे वय हे त्यांचा मुलगा रोहितच्या वयाच्या तीन पट जास्त आहे. 8 वर्षांनंतर, त्यांचे वय रोहितच्या वयाच्या अडीच पट असेल. 8 वर्षांनंतर, वडीलांचे वय रोहितच्या वयाच्या किती पट असेल?

A.2 पट

B.3 पट

C.4 पट

D.5 पट

Answer: A.2 पट

Reference ID:(17178) जोडशब्द नसलेला शब्द निवडा.

A.बेलभांडार

B.बोलघेवडा

C.बाडबिस्तरा

D.बाजारहाट

Answer: B.बोलघेवडा

Reference ID:(17435) 60 विद्यार्थ्यांच्या वर्गामध्ये, 40% विद्यार्थी तार्किकीमध्ये उत्तीर्ण झाले, 5% विद्यार्थी बुद्धिमत्ता चाचणी आणि तार्किकीमध्ये नापास झाले आणि 20% विद्यार्थी दोन्ही विषयांत उत्तीर्ण झाले. फक्त बुद्धिमत्ता चाचणीमध्ये उत्तीर्ण झालेल्या विद्यार्थ्यांची संख्या काढा?

A.17

B.33

C.23

D.37

Answer: B.33

Reference ID:(17156) Choose the appropriate collective noun to complete the sentence:

Scientists have recently discovered that a \_\_\_\_\_ of asteroids is fast approaching the earth's surface.

A.galaxy

B.constellation

C.belt

D.group

Answer: C.belt

He must have done his duty, because he is a/an \_\_\_\_\_ man.

A. upright

B. conscientious

C. conscious

D. truthful

Answer:

B. conscientious

Reference ID:(17408)

पंत प्रधानांनी 24 फेब्रुवारी 2019 रोजी गोरखपूरमधून (पीएम-किसान) प्रकल्प सुरू केला, "पीएम-किसान"-चे पूर्ण स्वरूप काय आहे?

A. प्रधान मंत्री किसान सन्मान निधी

B. प्रधान मंत्री किसान सिंचन सन्मान दर्शन

C. प्रधान मंत्री कृषी सिंचन सन्मान

D. प्रधान मंत्री किसान संधर्ष निर्माण

Answer:

A. प्रधान मंत्री किसान सन्मान निधी

Reference ID:(17198)

पुढील वाक्यात पर्यायातील अचूक वाक्प्रचार निवडा.  
तो प्रसंग माझ्या कायमचा लक्षात आहे.

A. उरी फुटून मरणे

B. मनात घर करणे

C. गुंग होणे

D. मोहोर उमटवणे

Answer:

B. मनात घर करणे

Reference ID:(17430)

31 ऑक्टोबर 1984 रोजी कोणता दिवस होता?

A. बुधवार

B. गुरुवार

C. शुक्रवार

D. शनिवार

Reference ID:(17414)

खालीलपैकी कोणत्या पहिल्या भारतीय कुस्तीपटूने ऑलिंपिकमध्ये रजत पदक जिंकले होते?

A.योगेश्वर दत्त

B.साक्षी मलिक

C.गीता फोगट

D.सुशिल कुमार

Answer:

D.सुशिल कुमार

Reference ID:(17439)

4 पुरुष आणि 6 महिला एक काम 8 दिवसांमध्ये पूर्ण करतात, तर 3 पुरुष आणि 7 महिला ते काम 10 दिवसांत पूर्ण करू शकतात. 10 महिला ते काम किती दिवसांत पूर्ण करतील?

A.35 दिवस

B.40 दिवस

C.45 दिवस

D.50 दिवस

Answer:

B.40 दिवस

Reference ID:(17170)

Choose the correct form of verb that is in agreement with the subject:

It was either Kendra or Zoë who \_\_\_\_\_ volleyball to the picnic.

A.brought their

B.brought her

C.bought their

D.bought there

Answer:

B.brought her

Reference ID:(17413)

खालीलपैकी कोणता राष्ट्रीय जलमार्ग महाराष्ट्रातील रेवडंडा खाडी - कुंडलिक नदी यंत्रणेदरम्यान स्थित आहे?

A.एनडब्ल्यू-85

B.एनडब्ल्यू-32

D.एनडब्ल्यू-202

Answer:

A.एनडब्ल्यू-85

Reference ID:(17197)

पुढील वाक्प्रचारांच्या योग्य अर्थाचा पर्याय निवडा.  
हतबल होणे-

A.निराश होणे

B.असमर्थ ठरणे

C.अशक्तपणा येणे

D.याचना करणे

Answer:

B.असमर्थ ठरणे

Reference ID:(17407)

2019-20 वर्षासाठीचा महाराष्ट्राचा अंतरिम अर्थसंकल्प कोणत्या राज्य वित्त मंत्र्यांद्वारे सादर केला गेला होता?

A.जयकुमार रावल

B.पांडुरंग फुंडकर

C.सुधीर मुनगंटीवार

D.महादेव जानकर

Answer:

C.सुधीर मुनगंटीवार

Reference ID:(17180)

रिकामी जागा भरा.  
गौण वाक्यांचे \_\_\_\_\_ प्रकार आहेत.

A.४

B.२

C.३

D.६

Answer:

C.३

He sprained his ankle \_\_\_\_\_ played on to win the match.

A.and

B.otherwise

C.but

D.because

Answer:

C.but

Reference ID:(17444)

एक रेल्वे 48 किमी/तासांच्या सरासरी वेगाने धावली, तर विशिष्ट अंतर 50 मिनिटांमध्ये कापते. प्रवासाचा वेळ 40 मिनिटे एवढा कमी करण्यासाठी रेल्वेने किती वेगाने धावायला हवे?

A.50 किमी/तास

B.60 किमी/तास

C.65 किमी/तास

D.70 किमी/तास

Sab Answer: bhaijaan

B.60 किमी/तास Sabka ek bhaijaan

Sabka ek bhaijaan

Reference ID:(17192)

अनेकवचनांचे एक वचन करा.  
तुमची अशी घाणेरडी अक्षरे पाहून आम्हाला वाईट वाटते.

A.तुमचे असे घाणेरडे अक्षरे पाहून मला वाईट वाटते.

B.तुझे असे अक्षर पाहून मला वाईट वाटते.

C.तुझे अशी घाणेरडी अक्षरे पाहून आम्हाला वाईट वाटते.

D.तुझे अशी घाणेरडे अक्षर पाहून आम्हाला वाईट वाटते.

Answer:

B.तुझे असे अक्षर पाहून मला वाईट वाटते.

Reference ID:(17404)

वन्यजीव संवर्धनासाठी भारताची पहिली जननिक बँक येथे उघडली:

A.हैदराबाद

B.मुंबई

C.दिल्ली

D.चंदीगढ

Sabka ek bhaijaan

Sabka ek bhaijaan

Sabka ek bhaijaan



Reference ID:(17196) पुढीलपैकी शुद्ध शब्द ओळखा.

A.बहीष्कार

B.बाहिष्कार

C.बहिष्कर

D.बहिष्कार

Answer:

D.बहिष्कार

Reference ID:(17158) Choose the option with the appropriate suffix to complete the given sentence:

I am ready to sweet \_\_\_\_\_the dish to make it more tasty.

A.-er

B.-en

C.-est

D.-ly

Answer:

B.-en

Reference ID:(17185) दिलेल्या धातूचे योग्य रूप निवडा.  
रडणे (थांबणे), तुझे सर्व प्रश्न सुटतील. (आज्ञार्थ)

A.थांबवतो

B.थांबून

C.थांबव

D.थांबवतात

Answer:

C.थांबव

Reference ID:(17403) भारतामध्ये, मानवी अधिकार दिवस हा दर वर्षी \_\_\_\_\_ रोजी पाळला जातो.

A.11 डिसेंबर

B.10 डिसेंबर

D.13 डिसेंबर

Answer:

B.10 डिसेंबर

Reference ID:(17417)

स्वच्छ सर्वेक्षण पुरस्कार 2019 मध्ये 'नव उपक्रम आणि उत्तम पध्दती' मधील उत्तम लष्करी छावणी पुरस्कार महाराष्ट्रामधील \_\_\_\_\_ ला मिळाला.

A.खडकी कॅन्टॉनमेंट बोर्ड

B.पुणे कॅन्टॉनमेंट बोर्ड

C.औरंगाबाद कॅन्टॉनमेंट बोर्ड

D.अहमदनगर कॅन्टॉनमेंट बोर्ड

Answer:

D.अहमदनगर कॅन्टॉनमेंट बोर्ड

Reference ID:(17183)

रिकाम्या जागी योग्य शब्द निवडा.  
बोलणारा ज्याच्याविषयी बोलतो त्याला \_\_\_\_\_ असे म्हणतात.

A.उद्देश्य

B.विधेय

C.उद्देशपूरक

D.कर्म

Answer:

A.उद्देश्य

Reference ID:(25009)

A, B आणि C एक काम अनुक्रमे 24, 6 आणि 12 दिवसांमध्ये पूर्ण करू शकतात. एकत्र काम करून ते किती दिवसांत काम पूर्ण करू शकतात:

 $\frac{1}{24}$  दिवस

 $\frac{7}{24}$  दिवस

4 दिवस

Answer:

3 3/7 दिवस

Reference ID:(17443)

A हा एक विशिष्ट काम 12 दिवसांत पूर्ण करू शकतो. B हा A पेक्षा 60% अधिक कार्यक्षम आहे. तेच काम करण्यासाठी B ला किती दिवस लागतील?

A.16/4

B.15/2

C.12

D.14/3

Answer:

B.15/2

Reference ID:(17175)

दिलेल्या शब्दगटातून विरुद्धार्थी शब्द ओळखा.  
चित्त - खिन्न X \_\_\_\_\_

A.प्रसन्न

B.दुष्ट

C.भावूक

D.सहृदय

Answer:

A.प्रसन्न

Reference ID:(17194)

पुढील वाक्यातील विरामचिन्ह ओळखा.  
किती छान आहात तुम्ही सगळे जण! तुमच्याशी मैत्री करायला खूप आवडेल मला.

A.लोपचिन्ह

B.अवतरण चिन्ह

C.उद्गारचिन्ह

Answer: C.उद्गारचिन्ह

Reference ID:(17167) Choose the most suitable conjunction for the given sentence:

I have been waiting here for a long time, \_\_\_\_\_ my friend has not turned up.

A.and

B.though

C.moreover

D.but

Answer: D.but

Reference ID:(17446) 56 रुपये/किलोग्रॅम किंमत असलेला 8 किग्रॅ चहाला 69 रुपये/किग्रॅ असलेला 32 किग्रॅ चहा आणि 75 रुपये/किग्रॅ असलेल्या 25 किग्रॅ चहासोबत मिसळला गेला आणि मिश्रणाची 20% नफ्याने विक्री केली. मिश्रणाची विक्री किंमत काढा (रुपयांमध्ये)?

A.82.64

B.83.64

C.80

D.85

Answer: B.83.64

Reference ID:(17405) भारतीय संविधानाच्या सातव्या परिशिष्टाच्या समवर्ती सूचीशी खालीलपैकी कोणता घटक/विषय संबंधित आहे?

A.सार्वजनिक आरोग्य आणि स्वच्छता

B.वने

C.स्टॉक एक्सचेंजेस

D.कृषी

Answer: B.वने

A.Q

B.T

C.U

D.S

Answer:

A.Q

Reference ID:(17195)

पुढील शब्दाची विभक्ती ओळखा  
दुकानात

A.प्रथमा

B.तृतीया

C.सप्तमी

D.द्वितीया

Sabka ek bhaijaan

Sabka ek bhaijaan

Sabka ek bhaijaan

Answer:

C.सप्तमी

Reference ID:(17420)

आदिवासी क्षेत्रामधील स्तन्यदा महिलांसाठी महाराष्ट्र शासनाने खालीलपैकी कोणत्या  
योजनेला मंजूरी दिली?

A.क्षीर भाग्य

B.एपीजे अब्दुल कलाम अमृत योजना

C.अटल बिहारी वाजपेयी कोमल योजना

D.सर्व शिक्षा अभियान

Answer:

B.एपीजे अब्दुल कलाम अमृत योजना

Reference ID:(17418)

2019 च्या 17 व्या लोकसभा निवडणूकीमध्ये, एकूण \_\_\_\_\_ मतदार संघांसाठी  
मतदान घेतले जाणार आहे.

A.542

B.543

Sabka ek bhaijaan

Sabka ek bhaijaan

Sabka ek bhaijaan

D.540

Answer:

B.543

Reference ID:(17416)

महाराष्ट्रामधून कला-अभिनय-रंगभूमी या क्षेत्रामध्ये पद्म श्री पुरस्कार 2019 साठी खालीलपैकी कोणाची निवड करण्यात आली?

A.दिनयार कांट्रेक्टर

B.कंवल सिंह चौहान

C.व्हीके शग

D.बाबूलाल दाहिया

Answer:

A.दिनयार कांट्रेक्टर

Reference ID:(17163)

Which of the following options best combines the two given sentences?

I know. Sawan will become a great dancer like Michael Jackson.

A.I know that Sawan will become a great dancer like Michael Jackson.

B.I know that Sawan becomes a great dancer like Michale Jackson.

C.I was informed that Sawan became a great dancer like Michale Jackson.

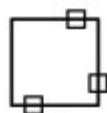
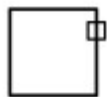
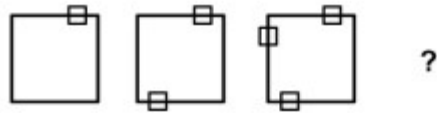
D.Sawan becomes a great dancer like Michael Jackson.

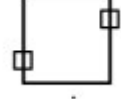
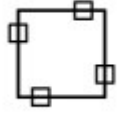
Answer:

A.I know that Sawan will become a great dancer like Michael Jackson.

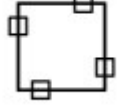
Reference ID:(17450)

खाली दिलेल्या क्रमामध्ये, पुढे कोणती आकृती येईल?





Answer:



Reference ID:(17442)

एका व्यापाऱ्याकडे 600 किग्रॅ तांदूळ आहे, ज्यामधील काही तांदळाची त्याने 15% नफ्याने आणि उर्वरित मात्रेची त्याने 20% तोट्याने विक्री केली. त्याला या सर्वांवर एकूण 6% तोटा झाला. 20% तोट्याने त्याने विक्री केलेल्या तांदळाचे प्रमाण काय आहे?

A.300 किग्रॅ

B.410 किग्रॅ

C.360 किग्रॅ

D.210 किग्रॅ

Answer:

C.360 किग्रॅ

Reference ID:(17179)

पुढील शब्दाचे लिंग ओळखा.  
इमारत

A.पुल्लिंग

B.स्त्रीलिंग

C.नपुंसकलिंग

D.उभयलिंग

Answer:

B.स्त्रीलिंग

Reference ID:(17423)

जर आपल्याला अतिरिक्त थकवा आल्यासारखे वाटले, तर खालीलपैकी कोणती वस्तू आपल्याला त्वरित ऊर्जा देऊ शकते?

B.दूध

C.अन्न

D.पाणी

Answer:

A.ग्लुकोजचे पाणी

Reference ID:(17173)

Choose the option that best expresses the meaning of the highlighted idiom/phrase:

If you don't have a place to stay, you can't get a job, and with no job you can't get an apartment. It's a **Catch 22 situation**.

A.a situation where one factor depends on another

B.a situation where you are caught red handed

C.a situation that depends on luck

D.a situation that revolves round destiny

Answer:

A.a situation where one factor depends on another

Reference ID:(17401)

खालीलपैकी कोणत्या संस्थेमधील विद्यार्थ्यांनी अलिकडे स्मार्ट इंडिया हॅकेथॉन 2019 दरम्यान बनावटी भारतीय चलन शोधण्याची समस्येला संबोधण्यासाठी स्मार्टफोन अनुप्रयोगासाठी कोड तयार केला?

A.आयआयएससी बेंगलोर

B.आयआयटी-कानपूर

C.आयआयटी-खरगपूर

D.आयआयटी-दिल्ली

Answer:

C.आयआयटी-खरगपूर

Reference ID:(17160)

Choose the appropriate articles for the given sentence:

\_\_\_ introduction of direct distance dialing in 1951 was one of \_\_\_ most significant development in \_\_\_ effort to improve long-distance service.

A.No article required ... the ... an

B.The ... the ... an

C.The ... a ...No article required



---

Answer:

B.The ... the ... an

---

Date of Exam : 26-07-2019 10:00 AM

Reference ID:(20875) Out of the following options, identify a simple sentence.

A.As I was driving my car it hit a tree.

B.Suddenly the car was hit by a speeding truck.

C.My car was badly damaged.

D.Despite help calls, the police did not arrive.

Answer: C.My car was badly damaged.

Reference ID:(20853) Choose the option that has the correct spelling.

A.Professionel

B.Profesional

C.Professional

D.Proffessional

Answer: C.Professional

Reference ID:(20882) जोडशब्द नसलेल्या शब्दाचा पर्याय निवडा.

A.मनोगत

B.मानपान

C.मानमरातब

D.मारपीट

Answer: A.मनोगत

अक्षर	P	D	A	F	L	H	M	R	K	T	B	E	U
संकेत	3	6	#	8	\$	4	2	7	@	9	5	1	%

ULTPHE चा संकेत काय आहे?

A.1\$9341

B.>%\$9341


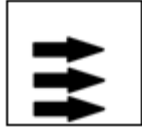
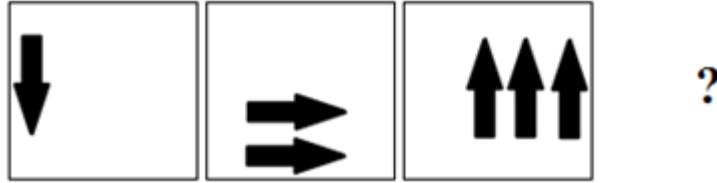
C.>%\$9314

D.>%439\$1

Answer:

B.>%\$9341

खाली दिलेल्या क्रमामध्ये, पुढे कोणती आकृती येईल?



Answer:



पुढील वाक्यातील अव्यय ओळखा.  
आज मला तिच्याकडून यायला उशीर झाला.

A.आज

C.उशीर

D.मला

Answer:

B.कडून

Reference ID:(21174)

इस्रो द्वारे भारताचे चंद्रावरील दुसरे मिशन काय असेल?

A.चंद्रयान 1

B.चंद्रयान 1.A

C.चंद्रयान 2

D.चंद्रयान 3

Answer:

C.चंद्रयान 2

Reference ID:(21157)

भारतामधील कोणत्याही राज्याच्या राज्यपालांची नियुक्ती \_\_\_\_\_ द्वारे केली जाते.

A.भारताचे राष्ट्रपती

B.भारताचे पंतप्रधान

C.स्थानिक शासन

D.पंचायती

Answer:

A.भारताचे राष्ट्रपती

Reference ID:(20900)

पुढीलपैकी शुद्ध शब्दी ओळखा.

A.घनशाम

B.घनश्याम

C.घनशाम

D.घन:शाम

Answer:

D.घन:शाम

Reference ID:(20868)

Choose the correct form of modal auxiliary verb for the given sentence:

Peter \_\_\_\_\_ come with us tonight, but he isn't very sure yet.

B.could

C.may

D.will

Answer:

C.may

Reference ID:(20859)

Fill in the blank with the correct noun for the given sentence:

A whole range of physical advances was required for the \_\_\_\_\_ of human \_\_\_\_\_.

A.developing ... speaking

B.developmental ... speech

C.development ... language

D.develops ... talking

Answer:

C.development ... language

Reference ID:(20858)

Choose the correct form of adjective for the given sentence:

A competitor in a marathon is a \_\_\_\_\_ runner.

A.short

B.long-distance

C.long

D.high

Answer:

B.long-distance

Reference ID:(20891)

योग्य पर्यायाची निवड करा.  
चित्रकार चित्र .....

A.काढतात

B.काढणे

C.काढून

D.काढते

Answer:

A.काढतात

Reference ID:(20857) Choose the correct form of adjective for the given sentence:

Mohan has and shows strong feelings. He is enthusiastic about showing his feelings. He is \_\_\_\_\_.

A.eager

B.passionate

C.short tempered

D.temperamental

Answer:

B.passionate

Reference ID:(21164)

मराठा साम्राज्याचे संस्थापक, शिवाजी महाराजांच्या माता कोण होत्या?

A.जिजाबाई

B.म्हाळसाबाई

C.बाईजा बाई

D.गोपिकाबाई

Answer:

A.जिजाबाई

Reference ID:(21401)

एक कार  $2\frac{1}{2}$  तासासाठी प्रति तास 50 मैल या सरासरी वेगाने प्रवास करते आणि मग  $1\frac{1}{2}$  तासासाठी प्रति तास 70 मैलांच्या वेगाने प्रवास करते. संपूर्ण 4 तासांमध्ये कारने किती अंतर कापले?

A.210 मैल

B.230 मैल

C.250 मैल

D.260 मैल

Answer:

B.230 मैल

Reference ID:(20871)

Choose the most suitable conjunction for the given sentence:

\_\_\_\_\_ you are going to be rude to me, I will not talk to you.

A.But

C.If

D.Though

Answer:

C.If

Reference ID:(21195)

खाली दिलेल्या श्रृंखलेमध्ये अंकांचा एक विशिष्ट क्रम दिलेला आहे. त्यानुसार चुकीचा क्रम ओळखा:  
18, 36, 144, 864, 6912, 691020

A.691020

B.144

C.864

D.6912

Answer:

A.691020

Reference ID:(21161)

सुलवडे जामफळ कानोली उचला सिंचन योजनेची आधारशिलेल्या नुकतीच सुरूवात करण्यात आली. ही कोणत्या नदीमधून पावसाळी हंगामामध्ये 9.24 टीएमसी पूराचे पाणी उचलणार आहे.

A.कोयना

B.पैनगंगा

C.तापी

D.इंद्रावती

Answer:

C.तापी

Reference ID:(21163)

मध्ये ब्रिटीशांसोबत कोणत्या भोसल्यांच्या अध्यक्षाने "नागपूरच्या तहावर" स्वाक्षरी केली?

A.जानोजी

B.अप्पा साहेब

C.राघोजी

Answer:

B.अप्पा साहेब

Reference ID:(21180)

विशिश्ट संकेतामध्ये, FIRE ला QHEE असे लिहिले जाते आणि FOVE ला UNEE असे लिहिले जाते, तर MOVE शब्दासाठीचा संकेत काय असेल?

A.MWOWE

B.UNLE

C.MZOW

D.MDWE

Answer:

B.UNLE

Reference ID:(20876)

Choose the correct form of tense for the given sentence:

It \_\_\_\_\_ for two hours and the ground is too wet to play on, so the match \_\_\_\_\_ postponed.

A.will rain, been

B. has been raining, was

C.has rained, has been

D.rained, been

Answer:

C.has rained, has been

Reference ID:(20885)

पुढील वाक्याचा प्रकार ओळखा.  
तू रोज व्यायाम कर.

A.विध्यर्थी

B.होकारार्थी

C.नकारार्थी

D.आज्ञार्थी

Answer:

D.आज्ञार्थी

Reference ID:(21183)

1 जानेवारी, 2008 रोजी मंगळवार होता. 1 जानेवारी 2009 रोजी आठवड्याचा कोणता दिवस येईल?



B.शुक्रवार

C.शनिवार

D.रविवार

Answer:

A.गुरूवार

Reference ID:(20899)

पुढील शब्दाची विभक्ती ओळखा  
मुलांशी

A.तृतीया

B.द्वितीया

C.प्रथमा

D.संबोधन

Answer:

A.तृतीया

Reference ID:(21176)

मानवी डोळा वस्तूची प्रतिमा त्याच्या \_\_\_\_\_ वर तयार करतो.

A.श्वेतमंडल

B.बुबुळ

C.वर्णपटल

D.रेटिना

Answer:

D.रेटिना

Reference ID:(20873)

Choose the most appropriate usage to fill in the blank in the given sentence:

The survey showed that the participants found the whole experience  
\_\_\_\_\_.

A.enriched

B.reaching

C.enrichment

Answer: D.enriching

Reference ID:(21172) 2019 च्या निवडणूकीच्या चौथ्या टप्प्यासाठी बीजेपीमधून महाराष्ट्राच्या धुळे संसदीय मतदार संघामधून निवडणूक लढवणाऱ्या उमेदवाराचे नाव संगी?

A.अनिल अण्णा

B.सुभाष रामराव भामरे

C.अपरांती संजय यशवंत

D.नबी अहमद अहमद दुल्ला

Answer: B.सुभाष रामराव भामरे

Reference ID:(20855) Choose the sentence with the correct punctuation to convey the right meaning.

A.The Captain ordered the troops, "March forward".

B.The Captain ordered the troops, March forward.

C."March forward, ordered the Captain".

D."The Captain ordered the troops, march forward".

Answer: A.The Captain ordered the troops, "March forward".

Reference ID:(20867) Which of the following options best combines the two given sentences?

I was disappointed. I was not able to find a suitable life partner.

A. I was disappointed and I was not able to find a suitable life partner.

B.I was disappointed as I was not able to find a suitable life partner.

C.I was disappointed yet I was not able to find a suitable life partner.

D.As I was disappointed, I was not able to find a suitable life partner.

Answer: B.I was disappointed as I was not able to find a suitable life partner.

A.श्रीगणेशा करणे

B.प्रोत्साहण देणे

C.आळा घालणे

D.पाणी सोडणे

Answer:

C.आळा घालणे

Reference ID:(21162)

भारताची पहिली अर्ध उच्च गती रेल्वे, "वंदे भारत एक्सप्रेस" ही \_\_\_\_\_ आणि वाराणसी दरम्यान धावणार आहे.

A.मुंबई

B.नवी दिल्ली

C.कोलकाता

D.कन्याकुमारी

Answer:

B.नवी दिल्ली

Reference ID:(20883)

पुढील शब्दाचे लिंग ओळखा.  
दैवत

A.पुल्लिंग

B.स्त्रीलिंग

C.नपुसकलिंग

D.उभयलिंग

Answer:

C.नपुसकलिंग

Reference ID:(20888)

दिलेल्या काळात परिवर्तन करण्यासाठी योग्य पर्याय निवडा.  
बाई पिशवीत बटाटे भरतात. (अपूर्ण भविष्यवकाळ)

A.भरत असेल

B.भरत जाईल

C.भरत होती

D.भरत असे

Reference ID:(20866) Choose the most suitable determiner for the given sentence:

Did it cost you \_\_\_\_\_ to buy such a nice car?

A.many

B.much

C.a lot of

D.any

Answer: B.much

Reference ID:(20872) Choose the appropriate conjunction for the given sentence:

He is not ready to play \_\_\_\_\_ his friend plays with him.

A.unless

B. and

C.but

D.yet

Answer: A.unless

Reference ID:(20863) Choose the appropriate articles for the given sentence:

With \_\_\_ tremendous roar from its rocket engine, \_\_\_ satellite is sent up to \_\_\_ sky.

A.No article required ... the ... a

B.the ... the ... the

C.a ... the ...the

D.the ... a ... the

Answer: C.a ... the ...the

Reference ID:(21155) सिंधु-गंगा-ब्रह्मपुत्रेची मैदाने आणि नर्मदा-तापीची मैदाने ही खालीलपैकी कोणत्या प्रकारच्या मातीसाठी प्रसिध्द आहेत?

B.लाल माती

C.काळी माती

D.जांभी माती

Answer:

A.गाळाची माती

Reference ID:(20877)

Choose the option that best expresses the meaning of the highlighted idiom/phrase:

A: The insurance advisor met the so-called prospect for the seventh time.

B: I heard that. Tell him not **to flog a dead horse**.

A.to waste one's efforts

B.to waste one's money

C.to kill someone

D.to waste one's time

Answer:

A.to waste one's efforts

Reference ID:(20895)

पुढील अधोरेखित शब्दांची जाती ओळखा.

'मराठी वाङ्मयाचा गाळीव इतिहास', हे पु.ल. देशपांडे यांचं पुस्तक माझ्या खास आवडीचं.

A.भाववाचक नाम

B.विशेषण

C.क्रियाविशेषण

D.सामान्यनाम

Answer:

B.विशेषण

Reference ID:(20860)

Choose the appropriate collective noun to complete the sentence:

There was \_\_\_\_\_ seen at the beaching area.

A.a class of eels

B.a deck of fish

C.a shoal of sharks

D.a crowd of bees

Reference ID:(21154)

अलिकडे शासनाने माहिती तंत्रज्ञान कायद्याच्या कलम \_\_\_\_\_ अंतर्गत 'आक्षेपार्ह आणि प्रक्षोभक' असणारा घटक आणि खाती काढून टाकण्यास अपयशी ठरल्यास, द्विटरवरील कार्यकर्त्याला 7 वर्षांचा तुरुंगवास आणि वित्तीय दंडाबाबत चेतावणी दिली आहे.

A.कलम 61ए

B.कलम 68बी

C.कलम 60बी

D.कलम 69ए

Answer:

D.कलम 69ए

Reference ID:(21194)

रवी आणि कुमार नेमून दिलेल्या कामावर काम करत आहे. रवीला संगणकावर 32 पानं टाईप करायला 6 तास लागतात, तर कुमारला 40 पानं टाईप करायला 5 तास लागतात. एकत्र काम करून, 110 पानांचे नेमून दिलेल्या कामाचे दोन भिन्न संगणकांवर टायपिंग करण्यासाठी त्यांना किती वेळ लागेल?

A.7 तास 30 मिनिटे

B.8 तास

C.8 तास 15 मिनिटे

D.8 तास 25 मिनिटे

Answer:

C.8 तास 15 मिनिटे

Reference ID:(20862)

Choose the option with the appropriate suffix to complete the given sentence:

It was a nerve \_\_\_\_\_ drive up the mountain.

A.-breaking

B.-rattling

C.-chattering

D.-racking

Answer:

D.-racking

Reference ID:(21181) C पेक्षा दुप्पट वय असलेल्या B पेक्षा A दोन वर्षांनी मोठा आहे. जर A, B आणि C यांच्या वयांची बेरीज 27 असेल, तर B चे वय काय आहे?

A.7

B.8

C.9

D.10

Answer: D.10

Reference ID:(21189) थांबे वगळून, बसचा वेग हा 54 किमी/तास आहे आणि थांबे समाविष्ट करून, तो वेग 45 किमी/तास आहे. दर तासाला बस किती मिनिटे थांबेल?

A.12

B.11

C.10

D.9

Answer: C.10

Reference ID:(21196) 9 डिसेंबर 2007 रोजी रविवार होता. 9 डिसेंबर 2006 रोजी आठवड्याचा कोणता दिवस होता?

A.शनिवार

B.रविवार

C.सोमवार

D.मंगळवार

Answer: A.शनिवार

A.2

B.3

C.4

D.5

Answer:

A.2

Reference ID:(21188)

500 किलोग्रॅम लोहखनिजामध्ये विशिष्ट प्रमाणात लोखंड आहे. पहिल्या झोत भट्टी प्रक्रियेनंतर, 12.5% लोखंड असलेली 200 किग्रॅ मळी काढली गेली. राहिलेल्या लोहखनिजामधील लोखंडाचे प्रमाण हे मुळ खनिजामधील टक्केवारीपेक्षा 20% अधिक आहे. मुळ 500 किग्रॅ लोहखनिजामध्ये किती किलो लोखंड होते?

A.54.2

B.58.5

Sabka ek bhaijaan

Sabka ek bhaijaan

Sabka ek bhaijaan

C.46.3

D.89.2

Answer:

D.89.2

Reference ID:(20874)

Choose the correct form of verb that is in agreement with the subject:

\_\_\_\_\_ met more than ten years ago at a mutual friend's birthday party.

A.Her and I

B.Her and me

C.She and me

D.She and I

Answer:

D.She and I



A.98

B.84

C.56

D.85

Answer:

B.84

Reference ID:(20861)

Choose the option with the appropriate suffix to complete the given sentence:

His advo-\_\_\_\_\_ of violence won him few supporters.

A.-cate

B.-cacy

C.-ice

D.-cal

Sab Answer: bhaijaan

B.-cacy

Sabka ek bhaijaan

Sabka ek bhaijaan

Reference ID:(20870)

Choose the appropriate prepositional phrase for the given sentence:

I am standing here \_\_\_\_\_ my colleagues and friends.

A.on behalf of

B.at any rate

C.under the name of

D.by reason of

Answer:

A.on behalf of

Reference ID:(20887)

पुढील वाक्यातील विधेयविस्तार ओळखा.  
पुस्तक नीट ठेवून मग त्यावर आपण विचार करू.

A.विचार करू

B.पुस्तक

Sabka ek bhaijaan

C.मग त्यावर

Sabka ek bhaijaan

Sabka ek bhaijaan

Answer: C.मग त्यावर

Reference ID:(21153) नेहरु सायंस सेंटर, जे अलीकडे बातम्यांमध्ये होते, ते महाराष्ट्रातील कोणत्या शहरात आहे?

A.पुणे

B.नागपूर

C.मुंबई

D.सोलापूर

Answer: C.मुंबई

Reference ID:(20881) रिकाम्या जागी योग्य जोडशब्द लिहा.  
समारंभासाठी सगळे ----- बोलावले

A.आप्तदृष्ट

B.दुष्टदृष्ट

C.इष्टदृष्ट

D.इष्टमित्र

Answer: D.इष्टमित्र

Reference ID:(20856) Choose the sentence with the correct punctuation to convey the right meaning.

A.After stealing Tims car, the thief lost his way and ended up in the chief constable's garage.

B.After stealing Tim's car the thief lost his way and ended up in the chief constable's garage.

C.After stealing Tim's car, the thief lost his way and ended up in the chief constable's garage.

D.After stealing Tim's car, the thief lost his' way and ended up in the chief constable's garage.

Answer:

C.After stealing Tim's car, the thief lost his way and ended up in the chief constable's garage.

Reference ID:(20865)

Choose the correct form of verb for the given sentence:

The climate \_\_\_\_ generally temperate and winters \_\_\_\_ to be chilly.

A.is ...tend

B.are ...are

C.was ... tends

D.is being ... is tending

Answer:

A.is ...tend

Reference ID:(20864)

Choose the appropriate articles for the given sentence:

Once \_\_ preserve of \_\_ elite, \_\_ mobile phone is now ubiquitous, as there are millions of subscribers.

A.No article required ... the ... a

B.the ... an ... the

C.the ... the ...the

D.No article required ... an ... a

Answer:

C.the ... the ...the

Reference ID:(21190)

दोन संख्यांचा ल.सा.वी. 2310 आहे आणि म.सा.वी. 30 आहे. जर एक संख्या 210 असेल तर दुसरी संख्या काय असेल?

A.325

B.330

C.335

D.340

Answer:

B.330

Reference ID:(21171)

‘लष्करी आणि शैक्षणिक वगळता शीर्षकांचे उच्चाटन’ याच्या संबंधित तरतुदी या संविधानाच्या \_\_\_\_\_ अनुच्छेदामध्ये निहित आहेत

A.2

B.18

C.7

D.56

Answer:

B.18

Reference ID:(21159)

2 ऑगस्ट, 2018 रोजी लोक सभेने 123 व्या संविधान दुरुस्तीचे विधेयक पारित केले, खालीलपैकी काय त्या विधेयकाशी संबंधित आहे?

A.भू संपादन

B.मागासवर्गीयांसाठी राष्ट्रीय आयोगाची संविधानात्मक दर्जा

C.बाल बलात्कारी व्यक्तीला देहदंड

D.राष्ट्रीय जीएसटी प्राधिकरणाचा संविधानात्मक दर्जा

Answer:

B.मागासवर्गीयांसाठी राष्ट्रीय आयोगाची संविधानात्मक दर्जा

Sabka ek bhaijaan

Sabka ek bhaijaan

Sabka ek bhaijaan

Reference ID:(21184)

खाली दिलेल्या श्रृंखलेमध्ये अंकांचा एक विशिष्ट क्रम दिलेला आहे. त्यानुसार चुकीचा क्रम ओळखा:  
3, 9 ,23 ,99, 479, 2881, 20159

A.9

B.23

C.99

D.479

Answer:

C.99

Reference ID:(20869)

Choose the appropriate prepositions for the given sentence:

The architect is working \_\_\_\_\_ a plan \_\_\_\_\_ a new train station.

Sabka ek bhaijaan

A.with ... in

Sabka ek bhaijaan

Sabka ek bhaijaan

C.for ... on

D.against ... with

Answer:

B.on ... for

Reference ID:(20879)

दिलेल्या शब्दगटातून विरुद्धार्थी शब्द ओळखा.  
प्रवाह – खोल X -----

A.वाहता

B.उथळ

C.बारीक

D.खळाळता

Answer:

B.उथळ

Reference ID:(20896)

एकवचनाचे अनेकवचन करा.  
तू परीक्षेची तारीख ठरवायचीस.

A.तुम्ही परीक्षेची तारीख ठरवायचीस.

B.तुम्ही परीक्षांच्या तारखा ठरवायचात.

C.तू परीक्षांच्या तारखा ठरवायचात.

D.तू परीक्षेची तारीख ठरवायचात.

Answer:

B.तुम्ही परीक्षांच्या तारखा ठरवायचात.

Reference ID:(21175)

स्वच्छ सर्वेक्षण 2019 पुरस्कारामध्ये, देशामधील 'सर्वात स्वच्छ शहर-क्र.2' म्हणून  
\_\_\_\_\_ ला पुरस्कृत करण्यात आले.

A.आग्रा

B.पटना

C.तिरुवनंतपुरम

D.अंबिकापूर

Reference ID:(21166)

वासुदेव तारानाथ कामत यांना ललित कला अकादमी (एलकेए) कडून 60 व्या वार्षिक अकादमी पुरस्काराने पुरस्कृत करण्यात आले. ते खालीलपैकी कोणत्या राज्यामधून आले आहेत?

A.महाराष्ट्र

B.ओडिसा

C.तेलंगणा

D.गोवा

Answer:

A.महाराष्ट्र

Reference ID:(20892)

रिकाम्या जागी योग्य पर्याय निवडा.  
'निशी', 'सवे' ही ..... अव्ययांची रूपे आहेत.

A.शब्दयोगी अव्यये

B.क्रियाविशेषण अव्यये

C.उभयान्वयी अव्यये

D.केवलप्रयोगी अव्यये

Answer:

A.शब्दयोगी अव्यये

Reference ID:(21186)

रिकाम्या जागी योग्य संख्या निवडून श्रृंखला पूर्ण करा:  
2, 6, 33, 49, 174, 210, \_\_\_\_\_

A.275

B.387

C.464

D.553

Answer:

D.553

A.कोलकाता

B.नवी दिल्ली

C.मुंबई

D.चेन्नई

Answer:

B.नवी दिल्ली

Reference ID:(21185)

रिकाम्या जागी योग्य संख्या निवडून श्रृंखला पूर्ण करा:  
4, 9, 17, \_\_\_\_, 69, 139, 277

A.28

B.35

C.42

D.51

Answer:

B.35

Reference ID:(21165)

जगामधील सर्वात मोठा रेल्वे कोच निर्माता बनलेला राज्यामधील संपूर्ण कोच कारखाना  
\_\_\_\_\_ आहे.

A.चेन्नई

B.मुंबई

C.पुणे

D.नागपूर

Answer:

A.चेन्नई

Reference ID:(21193)

A एक काम 18 दिवसांत आणि तेच काम B 15 दिवसांत पूर्ण करू शकतो. B ने 10 दिवस काम केले आणि तो नोकरी सोडून गेला. उर्वरित काम एकटा A किती दिवसांत पूर्ण करेल?

A.5 दिवस

C.6 दिवस

D.8 दिवस

Answer:

C.6 दिवस

Reference ID:(20889)

दिलेल्या धातूचे योग्य रूप निवडा.  
परीक्षेत मला पहिला वर्ग (मिळणे). (विध्यर्थ)

A.मिळतो

B.मिळावा

C.मिळवावे

D.मिळवून

Answer:

B.मिळावा

Reference ID:(21167)

राष्ट्रीय जलमार्ग क्रमांक 91 महाराष्ट्रातील \_\_\_\_\_ नदीवर स्थित आहे.

A.मंजिरा

B.अंबा

C.कुंडलिका

D.शास्त्री

Answer:

D.शास्त्री

Reference ID:(21197)

एका व्यक्तीच्या खात्यामध्ये दोन वर्षांपूर्वी 4000 रुपये होते. पहिल्या वर्षी त्याने त्याच्या खात्यामध्ये 20% रक्कम जमा केली. पुढच्या वर्षी त्याने वाढलेल्या रकमेच्या 10% रक्कम जमा केली. 2 वर्षांनंतर व्यक्तीच्या खात्यामधील एकूण रक्कम काढा.

A.6650

B.5280

C.5740



Answer:

B.5280

Reference ID:(21179)

खाली दिलेल्या चार पत्त्यांपैकी कोणता पत्ता खाली दिलेल्या पत्त्याशी अचूकपणे जुळत नाही?

Fourth Floor, Shah Complex, Nowhatta Chowk,  
Opposite Main Gate Jamia Masjid,  
Srinagar, Jammu and Kashmir 190002

(i) Fourth Floor, Shah Complex, Nowhatta Chowk,  
Opposite Main Gate Jamia Masjid,  
Srinagar, Jammu and Kashmir 190002

(ii) Fourth Floor, Shah Complex, Nowhatta Chowk,  
Opposite Main Gate Jamia Masjid,  
Srinagar, Jammu and Kashmir 190002

(iii) Fourth Floor, Shah Complex, Nowhatta Chowk,  
Opposite Main Gate Jamia Masjid,  
Srinagar, Jammu and Kashmir 190002

(iv) Fourth Floor, Shah Complex, Nowhatta Chowk,  
Opposite Main Gate Jamia Masjid,  
Srinagar, Jammu and Kashmir 190002

A.i

B.ii

C.iii

D.iv

Answer:

B.ii

Reference ID:(21182)

वडील त्याच्या मुलाला म्हणाले की, "तुझे सध्या जे वय आहे तुझ्या जन्माच्या वेळी माझे वय तेवढेच होते". जर वडीलांचे वय आता 38 वर्षे असेल, तर पाच वर्षांपूर्वी मुलाचे वय किती होते?

A. 14 वर्षे

B. 19 वर्षे

D.38 वर्षे

Answer:

A.14 वर्षे

Reference ID:(20884)

रिकामी जागा भरा.  
गौण वाक्यांचे प्रकार पुढील प्रमाणे .....

A.स्थलदर्शक क्रियाविशेषण वाक्य, नाम वाक्य, विशेषण वाक्य

B.नाम वाक्य, विशेषण वाक्य, क्रियाविशेषण वाक्य

C.संकेतदर्शक क्रियाविशेषण वाक्य, नाम वाक्य, विशेषण वाक्य

D.संकेतदर्शक क्रियाविशेषण वाक्य, नाम वाक्य, स्थलदर्शक क्रियाविशेषण वाक्य

Answer:

B.नाम वाक्य, विशेषण वाक्य, क्रियाविशेषण वाक्य

Reference ID:(21151)

पुढील वाक्प्रचारांच्या योग्य अर्थाचा पर्याय निवडा.  
खांद्याला खांदा लावणे-

A.प्रेताला खांदा देणे

B.सहकार्य करणे

C.निषेध नोंदवणे

D.जबाबदारी उचलणे

Answer:

B.सहकार्य करणे

Reference ID:(21160)

महाराष्ट्राच्या खालीलपैकी कोणत्या जिल्ह्यामध्ये ऑक्टोबर 2018 रोजी केलेल्या घोषणेनुसार ग्रामीण भागामध्ये इ-शिक्षण पुरवण्यासाठी एक लाख घरांना इंटरनेट कनेक्शन आणि मोफत सेट टॉप बॉक्सेस पुरवण्यात येणार आहेत?

A.सिंधुदुर्ग

B.नंदुरबार

C.परभणी

D.गडचिरोली

Answer:

A.सिंधुदुर्ग

A.आईने बाजारातून पेढे आणले.

B.आईने बाजारातून पेढे आणल्या.

C.आईने बाजारातून पेढे आणली.

D.आईने बाजारातून पेढे आणलो.

Answer: A.आईने बाजारातून पेढे आणले.

Reference ID:(20878) दिलेल्या शब्दगटातून योग्य समानार्थी शब्द निवडा.  
दागिना

A.नथ

B.कर्णफुले

C.पैजण

D.आभूषण

Answer: D.आभूषण

Reference ID:(21168) 'गरबा', एक लोकप्रिय नृत्यप्रकार, मूळतः भारताच्या खालीलपैकी कोणत्या राज्यांमधील आहे?

A.गुजरात

B.महाराष्ट्र

C.मध्यप्रदेश

D.राजस्थान

Answer: A.गुजरात

Reference ID:(21156) मुंबई फुटबॉल एरेना येथे इंडियन सुपर लीग (आयएसएल) 2018-19 हे शीर्षक खालीलपैकी कोणत्या संघांनी जिंकले होते?

A.केरला ब्लास्टर्स (केबी)

B.दिल्ली डायनामोज (डीडी)

C.बेंगलुरू फुटबॉल क्लब (एफसी)

D.मुंबई फुटबॉल एरेना

Reference ID:(20894) पुढील नामाला अयोग्यप विशेषणाचा पर्याय निवडा.  
भामटा

A.पुणेरी

B.उंच

C.नकटा

D.अवघड

Answer: D.अवघड

Reference ID:(21191) दोन आंबे, तीन पेरू आणि चार सफरचंदांची किंमत 15 रुपये आहे. तीन आंबे, दोन पेरू आणि एक सफरचंदाची किंमत 10 रुपये आहे. मी 3 आंबे, 3 पेरू आणि 3 सफरचंद खरेदी केली. मी किती रुपये दिले असतील?

A.15 रुपये

B.18 रुपये

C.20 रुपये

D.25 रुपये

Answer: A.15 रुपये

Reference ID:(21198) एक व्यक्ती P पासून ते Q पर्यंत 40 किमी/तासाच्या वेगाने प्रवास करतो आणि त्याचा वेग 50% नी वाढवून परत येतो. दोन्ही प्रवासामधील सरासरी वेग काय आहे?

A.44 किमी/तास

B.46 किमी/तास

C.48 किमी/तास

D.50 किमी/तास

Answer: C.48 किमी/तास

A.स्वीकारार्ह

B.विचार्य

C.व्यंग्य

D.त्याज्य

Answer:

D.त्याज्य

Reference ID:(20893)

पुढील वाक्यातील अधोरेखित अव्ययाचा प्रकार ओळखा.  
सदासर्वदा योग तुझा घडवा.

A.क्रियाविशेषण अव्यय

B.उभयान्वयी अव्यय

C.केवलप्रयोगी अव्यय

D.शब्दयोगी अव्यये

Answer:

A.क्रियाविशेषण अव्यय

Reference ID:(20890)

दिलेल्या धातूचे शक्य क्रियापद ओळखा.  
बोलणे

A.बोलतात

B.बोलवते

C.बोलणे

D.बोलतो

Answer:

B.बोलवते

Reference ID:(21169)

महाराष्ट्रातील कोणत्या शहरात भारत अफ्रिका फील्ड ट्रेनिंग एक्सरसाइज  
(आयएएफटीएक्स) 2019 आयोजित करण्यात आले होती?

A.नाशिक

B.मुंबई

C.पुणे

D.नागपूर

Reference ID:(21170) महाराष्ट्रामधून चिकित्सा-सिकल सेल या क्षेत्रामध्ये 2019 चा पद्म श्री पुरस्कारासाठी कोणाची निवड केली गेली?

- A.सुदाम काटे
- B.रणजीत कांत
- C.वामन केंद्रे
- D.एस जयशंकर

Answer: A.सुदाम काटे

Reference ID:(21177) एका विशिष्ट भागावर असलेले बल जर चार पटींनी वाढवले तर दाब:

- A.सारखाच राहिल
- B.चार पटींनी वाढेल
- C.सोळा पटींनी वाढेल
- D.दुप्पट होईल

Answer: B.चार पटींनी वाढेल

Reference ID:(21187) हे प्रश्न हे खालील अक्षर/चिन्ह/ संख्येच्या मांडीणीवर आधारित आहेत, प्रश्नाचे उत्तर द्या  
A 8 B 6 # 7 H U % 3 \$ F V R 2 1 @ ↑ V 1 W E 9 © L 5

उजव्या टोकाकडून पंधराव्याच्या उजवीकडून सातवे खालीलपैकी कोण आहे?

- A.4
- B.7
- C.1
- D.W

Answer: A.4

Reference ID:(20898)

पुढील वाक्यातील विरामचिन्ह ओळखा.

तुमच्यासारख्या निःस्वार्थी मित्रांमुळे माझं मनोरंजनही होईल, ज्ञानेही वाढेल आणि... माझे लेखनही सुधारेल.

A.स्पष्टीकरण चिन्हा

B.विकल्पचिन्ह

C.संक्षेपचिन्ह

D.लोपचिन्ह

Answer:

D.लोपचिन्ह

Reference ID:(20854)

Choose the option that has the correct spelling for the missing word in the given sentence:

I dig the pit with the help of a\_\_\_\_\_.

A.shuvel

B.shavel

C.shevel

D.shovel

Answer:

D.shovel

Reference ID:(21192)

एक विक्रेता वस्तूची किंमत खरेदी किमतीच्या 20% जास्त चिन्हांकित करतो. तो ग्राहकाला सलग 20% आणि 25% ची सूट देतो. परिणामी त्याला 1400 रुपयांचा तोटा होतो. त्याने ग्राहकांना किती किमतीमध्ये (रुपयांमध्ये) वस्तूची विक्री करावी?

A.3600

B.4200

C.3850

D.4125

Answer:

A.3600

परीक्षेमध्ये प्रत्येकी 100 गुणांचे गणित, विज्ञान आणि सामाजिक शास्त्राचे 3 विषय आहे. गणेशला गणित आणि विज्ञानामध्ये 60% आणि 80% गुण मिळाले. त्याला एकूण 70% गुण मिळाले. सामाजिक शास्त्रामधील त्याच्या गुणांची टक्केवारी किती आहे:

---

A.50

---

B.60

---

C.70

---

D.80

---

Answer:

C.70

---



Date of Exam : 26-07-2019 02:30 PM

Reference ID:(18218) Choose the appropriate prepositions for the given sentence:

Success \_\_\_\_\_ life depends \_\_\_\_\_ good health.

A.in, on

B.for, on

C.by, in


D.of, for

Answer:

A.in, on

Reference ID:(18751)


खाली दिलेल्या क्रमामध्ये, पुढे कोणती आकृती येईल?



Sabka ek bhaijaan

Sabka ek bhaijaan


Sabka ek bhaijaan



Sabka ek bhaijaan

Sabka ek bhaijaan

Sabka ek bhaijaan



Reference ID:(18210) Choose the option with the appropriate suffix to complete the given sentence:

His acting career sank to medio\_\_\_\_\_ very soon.

A.-cruity

B.-crous

C.-cration

D.-cre

Answer: A.-cruity

Reference ID:(18229) दिलेल्या शब्दगटातून विरुद्धार्थी शब्द ओळखा.  
विचार – ग्रामीण X -----

A.शहरी

B.पुरोगामी

C.प्रतिगामी

D.नीच

Answer: A.शहरी

Reference ID:(18466) 1983 मध्ये प्रुडेंशियल कप जिंकला तेव्हा भारतीय क्रिकेट संघाचा कप्तान कोण होता?

A.मोहिंदर अमरनाथ

B.सुनील गावस्कर

C.कपिल देव

D.रवी शास्त्री

Reference ID:(18473) रोजी संविधान सभेद्वारे भारतीय संविधानाचा स्वीकार केला गेला:

A.26 जानेवारी 1950

B.26 नोव्हेंबर 1949

C.26 जानेवारी 1949

D.15 ऑगस्ट 1947

Answer: B.26 नोव्हेंबर 1949

Reference ID:(18243) पुढील नामाला अयोग्य विशेषणाचा पर्याय निवडा.  
झाड

A.मोहक

B.सुंदर

C.काटेरी

D.खारट

Answer: D.खारट

Reference ID:(18474) \_\_\_\_\_ प्रदेशांमध्ये वान्याच्या उच्च वेगाच्या वहनामुळे चक्रीवादळ येऊ शकते.

A.उच्च दाबाच्या

B.कमी तापमानाच्या

C.कमी दाबाच्या

D.सामान्य तापमानाच्या

Answer: C.कमी दाबाच्या

Reference ID:(18480) विशिष्ट सांकेतिक भाषेमध्ये 'PRAY' हे '&=%#' असे लिहिले जाते आणि 'YAWN' हे '#%\$@' असे लिहिले जाते. त्या सांकेतिक भाषेमध्ये 'WARY' कसे लिहिले जाईल?

B.\$%=#

C.\$@=#\$

D.\$@%#

Answer:

B.\$%=#

Reference ID:(18459)

मुंबईमधून खालीलपैकी कोणाला हॉकी कोचिंगमधील त्यांच्या उल्लेखनीय कामगिरीसाठी 2018 वर्षासाठी द्रोणाचार्य पुरस्कार (जीवनगौरव) देण्यात आला?

A.तारक सिन्हा

B.व्ही आर बिडु

C.क्लॅरेन्स लोबो

D.विजय शर्मा

Answer:

C.क्लॅरेन्स लोबो

Reference ID:(18209)

Choose the appropriate collective noun to complete the sentence:

A \_\_\_\_\_ of worshippers assemble inside the mosque every Friday.

A.congregation

B.twin

C.team

D.choir

Answer:

A.congregation

Reference ID:(18239)

दिलेल्या धातूचे 'कृदंत' (साधित) रूप ओळखा.  
खाणे

A.खातो

B.खाते

C.खात

Answer:

C.खात

Reference ID:(18485)

रिकाम्या जागी योग्य संख्या निवडून श्रृंखला पूर्ण करा:  
28, 32, 23, 39, 14, 50, \_\_\_\_.

A.1

B.5

C.14

D.24

Answer:

A.1

Reference ID:(18240)

योग्य पर्यायाची निवड करा.  
गायिका गाणे .....

A.गातो

B.गाते

C.गायला

D.गाणे

Answer:

B.गाते

Reference ID:(18483)

8 फेब्रु, 2005 रोजी मंगळवार होता. 8 फेब्रु, 2004 रोजी आठवड्याचा कोणता दिवस होता?

A.रविवार

B.सोमवार

C.मंगळवार

D.बुधवार

Answer:

A.रविवार

Reference ID:(18484)

खाली दिलेल्या श्रृंखलेमध्ये अंकांचा एक विशिष्ट क्रम दिलेला आहे. त्यानुसार चुकीचा क्रम ओळखा:  
50, 51, 47, 56, 42, 65, 29

B.47

C.56

D.42

Answer:

D.42

Reference ID:(18250)

पुढील वाक्यचारांच्या योग्य अर्थाचा पर्याय निवडा.  
अकलेचा कांदा असणे-

A.प्रचंड बुद्धीमत्ता असणे

B.सुमार बुद्धीचा असणे

C.अक्कल हुशारीने वागणे

D.अतिशहाणा नसणे

Answer:

B.सुमार बुद्धीचा असणे

Reference ID:(18246)

पुढील वाक्यातील अव्यय ओळखा.  
जिने चढून जाण्यापेक्षा लिफ्टने जाणे बरे पडेल.

A.बरे

B.जिने

C.लिफ्ट

D.पेक्षा

Answer:

D.पेक्षा

Reference ID:(18234)

पुढील वाक्याचा प्रकार ओळखा.  
अरेरे! किती हे करुण दृश्य!

A.विध्यर्थी

B.उद्गारार्थी

C.नकारार्थी

D.आज्ञार्थी

Answer:

B.उद्गारार्थी

A.I was on cloud nine after my recent results.

B.I had topped the exam.

C.My tenth board exam result had come recently and everyone was happy.

D.Some of my friends were not happy with their results.

Answer:

B.I had topped the exam.

Reference ID:(18498)

2 रेल्वे एकमेकांपासून 200 किमी दूर 2 स्थानकांपासून एकाच वेळी प्रवास सुरू करतात आणि एका स्थानकावरून 110 किमी अंतरावर एकमेकींना पार करण्यासाठी विरुद्ध दिशेमध्ये जात आहेत. त्यांच्या वेगांचे गुणोत्तर काय आहे?

A.11:9

B.13:9

C.17:9

D.21:9

Answer:

A.11:9

Reference ID:(18236)

पुढील वाक्यातील विधेयविस्तार ओळखा.  
भुरभुरत्या पावसात ताजमहालाचे सौंदर्य अधिकच खुलून दिसते.

A.भुरभुरत्या पावसात

B.ताजमहालाचे

C.खुलून

D.दिसते.

Answer:

A.भुरभुरत्या पावसात

Reference ID:(18217)

Choose the correct form of modal auxiliary verb for the given sentence:

If I succeed in securing admission in the National Law School, I \_\_\_\_\_  
make a good law student.

A.will

B.can

C.would

Answer: A.will

Reference ID:(18232) पुढील शब्दाचे लिंग ओळखा.  
खेळणे

A.पुल्लिंग

B.स्त्रीलिंग

C.नपुसकलिंग

D.उभयलिंग

Answer: C.नपुसकलिंग

Reference ID:(18207) Choose the correct form of adjective for the given sentence:

Karishma puts her heart and soul into anything she undertakes to do. She is \_\_\_\_\_.

A.loyal

B.dedicated

C.grateful

D.enthusiastic

Answer: B.dedicated

Reference ID:(18451) पुढील वाक्यात पर्यायातील अचूक वाक्प्रचार निवडा.  
पतीनिधनानंतर आपलं दुःख बाजूला सारून त्यांनी आपल्या लेकरांसाठी कंबर कसली.

A.पाशबद्ध करणे

B.पृथ्वी पालथी घालणे

C.उपजीविका करणे

D.तयार होणे

Answer: D.तयार होणे

Reference ID:(18245) एकवचनाचे अनेकवचन करा.  
राजाने वसवलेले हे सुंदरसे शहर !



B.राजाने वसवलेली हे सुंदरशी शहर !

C.राजाने वसवलेले ही सुंदरशी शहरे !

D.राजांनी वसवलेले हे सुंदरशी शहर !

Answer:

A.राजांनी वसवलेली ही सुंदरशी शहरे !

Reference ID:(18464)

एलिफंटा गुहा या खालीलपैकी कोणत्या हिंदु देवाला समर्पित आहेत?

A.विष्णू

B.ब्रह्मा

C.गणेश

D.शिव

Answer:

D.शिव

Reference ID:(18228)

दिलेल्या शब्दगटातून विरुद्धार्थी शब्द ओळखा.  
चहा – गरम X -----

A.कडू

B.गोड

C.थंड

D.कोरा

Answer:

C.थंड

Reference ID:(18482)

एका व्यक्तीला वर्षामध्ये त्याचे वय सांगण्यास विचारले गेले. त्याने उत्तर दिले की, "तीन वर्षानंतरचे माझे वय घ्या, त्याला 3 ने गुणा आणि मग तीन वर्षापूर्वी माझ्या वयाच्या तिपट वजा करा आणि तुम्हाला माझे वय कळेल". व्यक्तीचे वय काय आहे?

A.16 वर्षे

B.17 वर्षे

C.18 वर्षे

D.19 वर्षे

Reference ID:(18213)

Choose the appropriate articles to complete the given sentence:

\_\_\_ Danube still forms \_\_\_ crucial part of \_\_\_ nation's trade and commerce.

A.No article required ... the ... a

B.The ... the ... the

C.The ... a ... No article required

D.The ... a ... the

Answer:

D.The ... a ... the

Reference ID:(25007)

जर आदित्य 20 किमी/तासाच्या वेगाने धावत असेल, तर 400 मीटर अंतर कापण्यासाठी त्याला किती मिनिटे लागतील?

 $1\frac{1}{5}$  मिनिटे $2\frac{1}{5}$  मिनिटे $3\frac{1}{5}$  मिनिटे $4\frac{1}{5}$  मिनिटे

Answer:

 $1\frac{1}{5}$  मिनिटे

Reference ID:(18220)

Choose the most suitable conjunction for the given sentence:

The weather was fine\_\_\_\_\_ we decided to go out for a long walk.

A.but

B.and

C.because

D.as

Reference ID:(18469) "डिजाईनिंग डेस्टीनी: दि हर्टफुलनेस वे" शीर्षक असलेल्या पुस्तकाचे लेखक कोण आहेत?

A.कमलेश पटेल

B.एम. वैकैया नायडू

C.अरुण जेटली

D.नयनतारा सहगल

Answer:

A.कमलेश पटेल

Reference ID:(18461) "द एम्परर ऑफ ऑल मेलेडीज: कर्करोगावरील एक जीवनचरित्र" हे पुलित्जर विजेते पुस्तक यांनी लिहिले होते:

A.विक्रम सेठ

B.झुंपा लाहिरी

C.गोविंद बिहारी लाल

D.सिद्धार्थ मुखर्जी

Answer:

D.सिद्धार्थ मुखर्जी

Reference ID:(18457) पोलिसांच्या कामासाठी रोबोट (केपी-बीओटी) चा वापर करणारे भारतामधील पहिले राज्य खालीलपैकी कोणते आहे?

A.केरळ

B.गुजरात

C.मध्य प्रदेश

D.बिहार

Answer:

A.केरळ

He died a \_\_\_\_\_ death.

A.great

B.magnificent

C.glorious

D.superficial

Answer:

C.glorious

Reference ID:(18214)

Choose the correct form of verb for the given sentence:

I \_\_\_\_\_ the answer, and apparently, neither \_\_\_\_\_ Sushma.

A.know ... do

B.don't know ... does

C.am knowing ... is

D.knows not ... does

Sabka ek bhaijaan

Answer:

B.don't know ... does

ek bhaijaan

Sabka ek bhaijaan

Reference ID:(18244)

पुढील अधोरेखित शब्दांची जाती ओळखा.  
विनोदी चित्रपट पाहताना हसू येणं नैसर्गिक आहे.

A.क्रियाविशेषण

B.सामान्यनाम

C.विशेषण

D.भाववाचक नाम

Answer:

C.विशेषण

Reference ID:(18463)

1873 मध्ये, ज्योतिबा फुले यांनी जाती यंत्रणेविरुद्ध लढा देण्यासाठी \_\_\_\_\_ ची  
स्थापना केली.

A.सत्य शोधक समाज

B.आर्य समाज

C.ब्राह्मो समाह

Answer: A.सत्य शोधक समाज

Reference ID:(18208) Which of the following is NOT a Collective Noun?

A.Army

B.Cattle

C.Person

D.Public

Answer: C.Person

Reference ID:(18211) Choose the option with the appropriate suffix to complete the given sentence:

The scene of crime was loath\_\_\_\_\_ to look at.

A.-full

B.-some

C.-ly

D.-ness

Answer: B.-some

Reference ID:(18468) भारतामध्ये मतदान करणे आणि मतदार यादीचा भाग बनण्यासाठी किमान वय हे आहे

A.17

B.18

C.19

D.20

Answer: B.18

Reference ID:(18204) Choose the appropriate option with the correct punctuation marks for the given sentence:

if it rains he said we will stay indoors

B.“If it rains,” he said, “we will stay indoors.”

C.“If it rains!” he said, ‘we will stay indoors.

D.If it rains, he said. we will stay indoors,

Answer:

B.“If it rains,” he said, “we will stay indoors.”

Reference ID:(18472)

2019 च्या निवडणूकीच्या चौथ्या टप्प्यासाठी बीजेपीमधून महाराष्ट्राच्या भिवंडी संसदीय मतदार संघामधून निवडणूक लढवणाऱ्या उमेदवाराचे नाव संगा?

A.कपिल मोरेश्वर पाटील

B.गोपाळ शेटी

C.मनोज कोटक

D.पूनम महाजन

Answer:

A.कपिल मोरेश्वर पाटील

Reference ID:(18238)

दिलेल्या धातूचे योग्य रूप निवडा.  
सूर्य पूर्वेस (उगवणे). (साधा वर्तमानकाळ)

A.उगवत असेल

B.उगवला होता

C.उगवतो

D.उगवणार

Answer:

C.उगवतो

Reference ID:(18223)

Choose the correct form of verb that is in agreement with the subject:

When the phone \_\_\_\_, Jacob had been writing in his journal.

A.is ringing

B.rings

C.rang

D.had rung

Answer:

C.rang

I was the class topper in my class. I was not selected in the interview.

A.Though I was the class topper in my class, I was not selected in the interview.

B.I was the class topper in my class since I was not selected in the interview.

C.I was the class topper in my class yet I was not selected in the interview.

D. I was not selected in the interview because I was the class topper in my class.

Answer:

A.Though I was the class topper in my class, I was not selected in the interview.

Reference ID:(18487)

एका विक्री कर्मचार्याला एकूण विक्रीवर 8% कमिशन मिळते. जर विक्री 10,000 रुपयांहून जास्त झाली तर त्याला 10,000 रुपयांच्या वर झालेल्या अतिरिक्त विक्रीवर त्याला अतिरिक्त कमिशन म्हणून 4% बोनस मिळतो. जर त्याला 950 रुपयांचे एकूण कमिशन मिळाले, तर त्याला मिळालेला बोनस किती असेल?

A.40 रुपये

B.50 रुपये

C.36 रुपये

D.48 रुपये

Answer:

B.50 रुपये

Reference ID:(18489)

एक व्यक्ती 600 मीटर लांब रस्ता 5 मिनिटांमध्ये पार करतो. त्याचा किमी/तासांमधील वेग काय आहे?

A.8.2

B.4.2

C.6.1

D.7.2

Reference ID:(18248) पुढील शब्दाची विभक्ती ओळखा  
लग्नाला

A.षष्ठी

B.द्वितीया

C.प्रथमा

D.तृतीया

Answer: B.द्वितीया

Reference ID:(18488) श्यामा आणि कमलचे एकत्रितरित्या मासिक उत्पन्न 28000 रुपये आहे. श्यामा आणि कमलचे उत्पन्न अनुक्रमे 25% आणि 12.5% नी वाढवले. कमलचे नवे उत्पन्न हे श्यामाच्या नवीन वेतनाच्या 120% बनले. श्यामाचे नवीन उत्पन्न काय आहे?

A.12000 रुपये

B.18000 रुपये

C.14000 रुपये Sabka ek bhaijaan

Sabka ek bhaijaan

D.15000 रुपये

Answer: D.15000 रुपये

Reference ID:(18249) पुढीलपैकी शुद्ध शब्द ओळखा

A.यच्चयावत

B.यच्चयवत

C.यच्चयावत

D.यचयावत

Answer: C.यच्चयावत

Reference ID:(18247) पुढील वाक्यातील विरामचिन्ह ओळखा.  
पण आता... सारे संपले होते.

A.लोपचिन्ह

B.स्पष्टीकरण चिन्ह Sabka ek bhaijaan

Sabka ek bhaijaan



D.एकेरी दंड

Answer:

A.लोपचिन्ह

Reference ID:(18494)

2028 वर्षाची दिनदर्शिका पुन्हा कोणत्या वर्षी वापरली जाऊ शकते?

A.2056

B.2055

C.2054

D.2053

Answer:

A.2056

Reference ID:(18235)

पुढील वाक्य वाचून योग्य वाक्य ओळखा.

A.आम्ही क्रिकेट खेळते.

B.आम्ही क्रिकेट खेळतो.

C.आम्ही क्रिकेट खेळाती.

D.आम्ही क्रिकेट खेळत्या.

Answer:

B.आम्ही क्रिकेट खेळतो.

Reference ID:(18479)

खाली दिलेल्या चार पत्यांपैकी कोणता पत्ता खाली दिलेल्या पत्याशी अचूकपणे जुळत नाही?

No.29B, S. De S. Jayasinghe Mw, Kalubowila, Dehiwala., Sri Lanka., Dehiwala-Mount Lavinia 10500, Sri Lanka

(i) No.29B, S. De S. Jayasinghe Mw, Kalubowila, Dehiwala., Sri Lanka., Dehiwala-Mount Lavinia 10500, Sri Lanka

(ii) No.29B, S. De S. Jayasinghe Mw, Kalubowila, Dehiwala., Sri Lanka., Dehiwala-Mount Lavinia 10500, Sri Lanka

(iii) No.29B, S. De S. Jayasinghe Mw, Kalubowila, Dehiwala., Sri Lanka., Dehiwala-Mount Lavinia 10500, Sri Lanka

(iv) No.29B, S. De S. Jayasinghe Mw, Kalubowila, Dehiwala., Sri Lanka., Dehiwala-Mount Lavinia 10500, Sri Lanka

B.ii

C.iii

D.iv

Answer:

D.iv

Reference ID:(18493)

A हा B पेक्षा 30% कार्यक्षम आहे. एकटा A 23 दिवसांत पूर्ण करू शकला असता असे काम एकत्र करण्यासाठी त्यांना किती दिवस लागतील?

A.11 दिवस

B.13 दिवस

C.15 दिवस

D.17 दिवस

Answer:

B.13 दिवस

Reference ID:(18242)

पुढील वाक्यातील क्रियाविशेषण ओळखा.  
माझे आजोबा दररोज शंभर बैठका काढत असत.

A.आजोबा

B.दररोज

C.बैठका

D.असत

Answer:

B.दररोज

Reference ID:(18456)

भारतामधील खालीलपैकी कोणत्या राज्याने 'खेलो इंडिया युथ गेम्स 2019' मध्ये सर्वाधिक पदकं मिळवली?

A.महाराष्ट्र

B.ओरिसा

C.हरियाणा

D.पंजाब

Answer:

A.8000

B.10000

C.12000

D.15000

Answer:

B.10000

Reference ID:(18455)

1782 मध्ये खालीलपैकी कोणत्या तहांवर स्वाक्षरी केली गेली ज्यामुळे पहिले अँग्लो-मराठा युद्ध समाप्त झाले?

A.ग्वलियारचा तह

B.सालबाईचा तह

C.मंदसौरचा तह

D.पुण्याचा तह

Answer:

B.सालबाईचा तह

Reference ID:(18212)

Choose the appropriate articles for the given sentence:

\_\_\_ few years ago, our children went to study in \_\_\_ United States of America, leaving us with \_\_\_ empty nest.

A.A ... the ... an

B.The ... the ... an

C.No article required ... the ...no article required

Answer: A.A ... the ... an

Reference ID:(18452) कोयंबतूर नंतर भारतातील दुसरे डिफेन्स इन्व्हेशन हब स्थापन करण्यासाठी महाराष्ट्रातील खालीलपैकी कोणते स्थान निवडले गेले आहे?

A.पुणे

B.सोलापूर

C.नागपूर

D.नाशिक

Answer: D.नाशिक

Reference ID:(18490) 777 आणि 1147 चा म.सा.वी. काढा.

A.37

B.38

C.39

D.40

Answer: A.37

Reference ID:(18453) महाराष्ट्र भ्रष्टाचार विरोधी ब्युरोचे महासंचालक म्हणून अलिकडे खालीलपैकी कोणाची नियुक्ती करण्यात आली?

A.परम बीर सिंग

B.राज बीर सिंग

C.जोय बीर सिंग

D.नवजोत सिंह

Answer: A.परम बीर सिंग

Reference ID:(18497) रिकाम्या जागी योग्य संख्या निवडून श्रृंखला पूर्ण करा:  
4, 9, 17, \_\_\_\_\_, 69, 139, 277

A.28

C.42

D.51

Answer:

B.35

Reference ID:(18227)

दिलेल्या शब्दगटातून योग्य समानार्थी शब्द निवडा.  
दार

A.सोपान

B.कवाड

C.वातायन

D.कपाट

Answer:

B.कवाड

Reference ID:(18470)

अस्पृश्यता (गुन्हा) कायदा, 1955 मध्ये दुरुस्ती करण्यात आली आणि त्याला  
\_\_\_\_\_ वर्षांमध्ये नागरी हक्क कायद्याचे संरक्षण, 1955 असे पुनर्नामित करण्यात  
आले.

A.1976

B.2001

C.2014

D.1998

Answer:

A.1976

Reference ID:(18225)

Choose the correct form of tense for the given sentence:

After Meera \_\_\_\_\_ the room, she \_\_\_\_\_ the floor.

A.tidied up , washes

B.tidies up , has washed

C.had tidied up , washed

D.has tidied up , washed

Answer:

C.had tidied up , washed

A.02 वर्ष

B.04 वर्ष

C.05 वर्ष

D.06 वर्ष

Answer:

D.06 वर्ष

Reference ID:(18454)

प्रतिमाविज्ञानाद्वारे (आयकॉनोग्राफी) तुम्हाला काय समजते?

A.ही कला इतिहासाची शाखा आहे जी देवांच्या प्रतिमांचा अभ्यास करते.

B.ही प्राचीन इतिहासाची शाखा आहे जी स्मारकांचा अभ्यास करते.

C.ही कला इतिहासाची शाखा आहे जी अलंकारांचा अभ्यास करते.

D.ही प्राचीन इतिहासाची शाखा आहे जी मूर्तींचा अभ्यास करते.

Answer:

A.ही कला इतिहासाची शाखा आहे जी देवांच्या प्रतिमांचा अभ्यास करते.

Reference ID:(18462)

कोणता राष्ट्रीय जलमार्ग महाराष्ट्रातील शास्त्री नदी – जयगड खाडी वर स्थित आहे?

A.एनडब्ल्यू-91

B.एनडब्ल्यू-130

C.एनडब्ल्यू-3

D.एनडब्ल्यू-67

Answer:

A.एनडब्ल्यू-91

Reference ID:(18222)

Choose the most appropriate usage to fill in the blank in the given sentence:

\_\_\_\_\_ from social engagements is a sign of depression.

A.Withdrawal

B.Withdrawn

C.Withdrew

D.Withdraws

Answer:

A.Withdrawal

Reference ID:(18205) Choose the appropriate option with the correct punctuation marks for the given sentence:

Sara bought three new pairs of shoes even though she had put herself on a tight budget just last week

A.Sara bought three new pairs of shoes, even though, she had put herself on a tight budget just last week.

B.Sara bought three new pairs of shoes, even though she had put herself on a tight budget just last week.

C.Sara bought three new pairs of shoes. Even though she had put herself on a tight budget just last week.

D.Sara bought three new pairs of shoes; even though she, had put herself on a tight budget just last week.

Answer: B.Sara bought three new pairs of shoes, even though she had put herself on a tight budget just last week.

Reference ID:(18460) अलिकडे पंतप्रधान नरेंद्र मोदी यांनी व्हिडीओ कॉन्फरेन्सद्वारे खानदेश एक्सप्रेस रेल्वेची सुरुवात केली. ही रेल्वे मुंबई आणि \_\_\_\_\_ दरम्यान धावणार आहे.

A.नागपूर

B.भुसावळ

C.दौंड

D.पुणे

Answer: B.भुसावळ

Reference ID:(18481) अजयचे वर्तमान वय हे त्याच्या आईच्या वयापेक्षा दोन-पंचमांश आहे. 8 वर्षांनंतर त्याचे वय त्याच्या आईच्या वयाच्या अर्धे असेल. सध्या आईचे वय काय आहे?

A.32 वर्षे

B.36 वर्षे

C.40 वर्षे

D.48 वर्षे

Answer: C.40 वर्षे

A.80

B.100

C.120

D.150

Answer:

D.150

Reference ID:(18491)

B या वस्तूची खरेदी किंमत A या वस्तूच्या खरेदी किमतीपेक्षा 200 रुपयांनी अधिक आहे. A या वस्तूची 20% नफ्याने विक्री केली आणि B या वस्तूची 30% तोट्याने विक्री केली. जर A आणि B वस्तूंच्या विक्री किमतींचे गुणोत्तर अनुक्रमे 6:7 असेल तर, B वस्तूची खरेदी किंमत काय आहे?

A.520 रु.

B.430 रु.

C.400 रु.

D.360 रु.

Answer:

C.400 रु.

Reference ID:(18221)

Choose the appropriate conjunctions for the given sentence:

He showed a lot of promise in his new job \_\_\_\_\_ his manager gave him a quick promotion.

A.but

B.and

C.because

D.as

Answer:

B.and



M4ET%19IB@U8©N#WFIV7\*2AH3Y5\$6K

खालीलपैकी कोण वरील मांडणीच्या उजव्या टोकाकडून सतराव्याच्या उजवीकडून नवे आहे?

A.Y

B.A

C.U

D.%

Answer:

B.A

Reference ID:(18226)

Choose the option that best expresses the meaning of the highlighted idiom/phrase:

A: My boss in the office always shouts at me.

B: I know him very well. His **bark is worse than his bite**.

What does B mean here?

A.The boss is a dangerous man and he is likely to harm A. Therefore A should be careful with him.

B.A need not worry too much about his boss, since the latter is not likely to harm him.

C.The boss is known for his bad temper and A should not annoy him.

D.The boss acts like a dog and keeps barking.

Answer:

B.A need not worry too much about his boss, since the latter is not likely to harm him.

Reference ID:(18203)

Choose the option that has the correct spelling for the missing word in the given sentence:

Put the games back in the \_\_\_\_\_ after playing.

A.cabanet

B.cabonet

C.cabinet

D.kabinet

Answer:

Reference ID:(18241)

रिकाम्या जागी योग्य पर्याय निवडा.  
'परोक्ष' या शब्दाची जात ..... ही आहे.

A.उभयान्वयी अव्यय

B.शब्दयोगी अव्यय

C.नाम

D.सर्वनाम

Answer:

B.शब्दयोगी अव्यय

Reference ID:(18475)

जर तुम्ही एका सपाट आरशासमोर उभे राहिलात, तर तुमची प्रतिमा \_\_\_\_\_ दिसत असल्याचे आढळेल.

A.लहान आणि उलटी

B.मोठी आणि सुलटी

C.समान आकाराची पण उलटी

D.समान आकाराची पण एका बाजूने उलटी

Answer:

D.समान आकाराची पण एका बाजूने उलटी

Reference ID:(18495)

खाली दिलेल्या श्रृंखलेमध्ये अंकांचा एक विशिष्ट क्रम दिलेला आहे. त्यानुसार चुकीचा क्रम ओळखा:  
76, 75, 142, 399, 1530, 7535

A.399

B.142

C.75

D.1530

Answer:

D.1530

Reference ID:(18230)

रिकाम्या जागी योग्य जोडशब्द लिहा.  
तिने आज हौसेने ----- घातले.

A.हिरेदागिने

C.दागदागिने

D.सोनेहिरे

Answer:

C.दागदागिने

Reference ID:(18499)

एक वस्तू तीन व्यापाऱ्यांच्या हातामधून पुढे जाते. प्रत्येक विक्रेता पुढे तिच्या खरेदी किमतीवर 20% नफ्याने विक्री करतो. जर शेवटच्या विक्रेत्याने तिची 432 रुपयांना विक्री केली असेल, तर खरेदी किंमत काय होती?

A.125 रु.

B.256 रु.

C.250 रु.

D.432 रु.

Answer:

C.250 रु.

Reference ID:(18202)

Choose the option that has the correct spelling.

A.Coruppt

B.Corrupt

C. Curropt

D.Currupt

Answer:

B.Corrupt

Reference ID:(18215)

Choose the most suitable determiner for the given sentence:

He received \_\_\_\_\_ disturbing news.

A.few

B.little

C.some

D.much

Reference ID:(18233) रिकामी जागा भरा.  
क्रियाविशेषण वाक्याचे ..... प्रकार आहेत.

A.९

B.३

C.२

D.४

Answer: A.९

Reference ID:(18231) जसे मालमसाला तशी मोल -----

A.माती

B.किंमत

C.फोल

D.मजुरी

Answer: D.मजुरी

Reference ID:(18465) खालीलपैकी कोणी इएसपीएन इंडिया मल्टी-स्पोर्ट्स पुरस्कार 2018 मध्ये "स्पोर्ट्सपर्सन ऑफ दि इयर (पुरूष)" या श्रेणीमध्ये पुरस्कार जिंकला?

A.नीरज चोप्रा

B.सौरभ चौधरी

C.जसपाल राणा

D.अमित पांगल

Answer: A.नीरज चोप्रा

Reference ID:(18478) सरासरी काढा.  
34, 42, 66, 84, 10 & 94

A.45

B.35

C.55

Answer: C.55

Reference ID:(18492) P ही मशीन 8 तासांमध्ये एक लाख पुस्तकांचे मुद्रण करते, मशीन Q तेवढीच पुस्तकं 10 तासांमध्ये पूर्ण करते तर R ही मशीनला तेवढ्या पुस्तकांच्या मुद्रणासाठी 12 तास लागतात. सर्व मशीन सकाळी 9 वाजता सुरू केल्या. 11 वाजता P ही मशीन बंद केली आणि उर्वरित दोन मशीनींनी काम पूर्ण केले. अंदाजे किती वाजता काम पूर्ण होईल (एक लाख पुस्तकांच्या मुद्रणासाठी)?

A.सकाळी 11:30

B.दुपारी 12

C.दुपारी 12:30

D.दुपारी 1:00

Answer: D.दुपारी 1:00

Reference ID:(18476) पेशीमध्ये जुनके ही \_\_\_\_\_ वर स्थित असतात.

A.रायबोसोम

B.तंतुणिका

C.गॉली यंत्रणा

D.गुणसूत्र

Answer: D.गुणसूत्र

Reference ID:(18237) दिलेल्या काळात परिवर्तन करण्यासाठी योग्य पर्याय निवडा.  
लोक स्वतःचा नेता निवडतात. (रीति भविष्यकाळ)

A.निवडत

B.निवडत जातील

C.निवडत असेल

D.निवडतील

Answer: B.निवडत जातील

Reference ID:(18471) स्वच्छ सर्वेक्षण 2019 पुरस्कारामध्ये, देशामधील 'सर्वात स्वच्छ शहर-क्र.3' म्हणून \_\_\_\_\_ ला पुरस्कृत करण्यात आले.

A.पुदुच्चेरी

B.मैसूरू

C.लखनऊ

D.उदयपूर

Answer:

B.मैसूरू

Reference ID:(18458) खालीलपैकी कोणत्या संघाने रणजी करंडक आणि इराणी कप 2018-19 जिंकला?

A.केरळ

B.सौराष्ट्र

C.कर्नाटक

D.विदर्भ

Answer:

D.विदर्भ

Reference ID:(18219) Choose the appropriate prepositional phrase for the given sentence:

\_\_\_\_\_ fire, break glass to escape.

A.On behalf of

B.Despite of

C.By means of

D.In case of

Answer:

D.In case of