



Maharashtra Housing and Area Development Authority-2021
महाराष्ट्र गृहनिर्माण व क्षेत्रविकास प्राधिकरण-२०२१

Participant ID	
Participant Name	
Test Center Name	
Test Date	07/02/2022
Test Time	12:30 PM - 2:30 PM
Subject	Cluster 6

Section : Marathi Language

Q.1 'पार्टनर' पुस्तकाचे लेखक _____ आहेत.

- Ans 1. श्री. पु. भागवत
 2. व. पु. काळे
 3. श्री. ना. पेंडसे
 4. पु. ल. देशपांडे

Question Type : MCQ

Question ID : 489564240

Option 1 ID : 489564948

Option 2 ID : 489564945

Option 3 ID : 489564947

Option 4 ID : 489564946

Status : Answered

Chosen Option : 4

Q.2 कंसात दिलेल्या सूचनेप्रमाणे वाक्यरूपांतर करा.

देवाने मला सद्बुद्धी द्यावी. (आज्ञार्थी वाक्य करा.)

- Ans 1. देव मला सद्बुद्धी का देत नाही?
 2. देवा, मला सद्बुद्धी दे.
 3. देवाने मला सद्बुद्धी दिली पाहिजे.
 4. देव मला सद्बुद्धी देईल.

Question Type : MCQ

Question ID : 489564209

Option 1 ID : 489564822

Option 2 ID : 489564824

Option 3 ID : 489564821

Option 4 ID : 489564823

Status : Answered

Chosen Option : 2

Q.3 वचन बदला:

वार

- Ans 1. वारे
 2. वारा
 3. वारी
 4. वार

Question Type : MCQ

Question ID : 489564238

Option 1 ID : 489564939

Option 2 ID : 489564938

Option 3 ID : 489564937

Option 4 ID : 489564940

Status : Answered

Chosen Option : 1

Q.4 एकवचन करा:

सल्ले

- Ans 1. साली
 2. सल्ला
 3. साल
 4. सल

Question Type : MCQ

Question ID : 489564226

Option 1 ID : 489564892

Option 2 ID : 489564891

Option 3 ID : 489564889

Option 4 ID : 489564890

Status : Answered

Chosen Option : 2

Q.5 खालील वाक्यातील क्रियापद प्रकार ओळखा:

बहीण भावाला खेळवते

- Ans 1. शक्य क्रियापद
 2. सिद्ध क्रियापद
 3. प्रयोजक क्रियापद
 4. यापैकी नाही

Question Type : MCQ

Question ID : 489564218

Option 1 ID : 489564858

Option 2 ID : 489564859

Option 3 ID : 489564857

Option 4 ID : 489564860

Status : Answered

Chosen Option : 3

Q.6 लिंग बदला:

बहीण

- Ans 1. सहोदरी
 2. भाऊ
 3. भार्या
 4. स्नुषा

Question Type : MCQ
Question ID : 489564214
Option 1 ID : 489564842
Option 2 ID : 489564843
Option 3 ID : 489564844
Option 4 ID : 489564841
Status : Answered
Chosen Option : 3

Q.7 समास ओळखा:

अथांग

- Ans 1. बहुव्रीही समास
 2. कर्मधारय समास
 3. द्वंद्व समास
 4. तत्पुरुष समास

Question Type : MCQ
Question ID : 489564211
Option 1 ID : 489564830
Option 2 ID : 489564831
Option 3 ID : 489564832
Option 4 ID : 489564829
Status : Answered
Chosen Option : 1

Q.8 सामसिक शब्द ओळखा:

मी तुमचा आजन्म ऋणी राहीन.

- Ans 1. आजन्म
 2. ऋणी
 3. मी
 4. तुमचा

Question Type : MCQ
Question ID : 489564224
Option 1 ID : 489564883
Option 2 ID : 489564884
Option 3 ID : 489564881
Option 4 ID : 489564882
Status : Answered
Chosen Option : 2

Q.9 लिंग बदला:

बोकड

Ans 1. कालवड

2. शेळी

3. भाटी

4. लांडोर

Question Type : MCQ

Question ID : 489564245

Option 1 ID : 489564966

Option 2 ID : 489564967

Option 3 ID : 489564965

Option 4 ID : 489564968

Status : Answered

Chosen Option : 2

Q.10 दिलेल्या वाक्याचे रूपांतर विधानार्थी वाक्यात करा:

स्तुती केलेली कुणाला आवडत नाही?

Ans 1. स्तुती केलेली तुला आवडणार नाही.

2. स्तुती केलेली प्रत्येकाला आवडत नाही.

3. स्तुती केलेली प्रत्येकाला आवडते.

4. स्तुती करायला मला आवडणार नाही.

Question Type : MCQ

Question ID : 489564204

Option 1 ID : 489564804

Option 2 ID : 489564802

Option 3 ID : 489564801

Option 4 ID : 489564803

Status : Answered

Chosen Option : 3

Q.11 वचन बदला:

झाड

Ans 1. झाडी

2. झाड

3. झाडे

4. लता

Question Type : MCQ

Question ID : 489564237

Option 1 ID : 489564933

Option 2 ID : 489564936

Option 3 ID : 489564934

Option 4 ID : 489564935

Status : Answered

Chosen Option : 1

Q.12 लिंग ओळखा:

पुस्तक

- Ans 1. नपुंसकलिंग
 2. यापैकी नाही
 3. स्त्रीलिंग
 4. पुल्लिंग

Question Type : MCQ

Question ID : 489564222

Option 1 ID : 489564873

Option 2 ID : 489564876

Option 3 ID : 489564875

Option 4 ID : 489564874

Status : Answered

Chosen Option : 1

Q.13 समास ओळखा:

प्रतिक्षण

- Ans 1. बहुव्रीही समास
 2. अव्ययीभाव समास
 3. तत्पुरुष समास
 4. द्वंद्व समास

Question Type : MCQ

Question ID : 489564205

Option 1 ID : 489564807

Option 2 ID : 489564808

Option 3 ID : 489564805

Option 4 ID : 489564806

Status : Answered

Chosen Option : 2

Q.14 विरुद्धार्थी शब्द लिहा:

कंजूष

- Ans 1. कृपण
 2. स्वार्थी
 3. लोभी
 4. दानशूर

Question Type : MCQ

Question ID : 489564235

Option 1 ID : 489564925

Option 2 ID : 489564927

Option 3 ID : 489564926

Option 4 ID : 489564928

Status : Answered

Chosen Option : 4

Q.15 योग्य समानार्थी शब्द निवडा:

वीज

- Ans 1. सरिता
 2. ललना
 3. चपला
 4. वनिता

Question Type : MCQ

Question ID : 489564206

Option 1 ID : 489564811

Option 2 ID : 489564809

Option 3 ID : 489564810

Option 4 ID : 489564812

Status : Answered

Chosen Option : 4

Q.16 गझल हा रचनाबंध लोकप्रिय करण्यात _____ यांचा सिंहाचा वाटा आहे.

- Ans 1. जी. ए. कुलकर्णी
 2. व. पु. काळे
 3. सुरेश भट
 4. पु. ल. देशपांडे

Question Type : MCQ

Question ID : 489564233

Option 1 ID : 489564917

Option 2 ID : 489564918

Option 3 ID : 489564920

Option 4 ID : 489564919

Status : Answered

Chosen Option : 2

Q.17 'धग असतेच आसपास' हा _____ यांचा कवितासंग्रह आहे.

- Ans 1. आशा बगे
 2. कल्पना दुधाळ
 3. अरुण कोलटकर
 4. इरावती कर्वे

Question Type : MCQ

Question ID : 489564239

Option 1 ID : 489564942

Option 2 ID : 489564941

Option 3 ID : 489564943

Option 4 ID : 489564944

Status : Answered

Chosen Option : 1

Q.18 प्रयोग ओळखा:

प्रवीण गाणे गातो.

- Ans 1. कर्तरी प्रयोग
 2. भावे प्रयोग
 3. भावकर्तरीप्रयोग
 4. कर्मणी प्रयोग

Question Type : MCQ

Question ID : 489564247

Option 1 ID : 489564973

Option 2 ID : 489564975

Option 3 ID : 489564976

Option 4 ID : 489564974

Status : Answered

Chosen Option : 1

Q.19 समानार्थी शब्द सांगा:

अनल

- Ans 1. मारुत
 2. वन्ही
 3. पवन
 4. वारा

Question Type : MCQ

Question ID : 489564223

Option 1 ID : 489564880

Option 2 ID : 489564879

Option 3 ID : 489564878

Option 4 ID : 489564877

Status : Answered

Chosen Option : 1

Q.20 विरुद्धार्थी शब्द सांगा:

दुष्ट

- Ans 1. नीच
 2. सुष्ट
 3. खल
 4. वाईट

Question Type : MCQ

Question ID : 489564248

Option 1 ID : 489564980

Option 2 ID : 489564979

Option 3 ID : 489564978

Option 4 ID : 489564977

Status : Answered

Chosen Option : 2

Q.21 विरामचिन्हे वापरून वाक्य पुन्हा लिहा:

गुंड्या म्हणाला राजू गोठू चिटू आणि बंड्या आले आहेत

- Ans
- 1. गुंड्या म्हणाला, राजू गोठू चिटू आणि बंड्या आले आहेत.
 - 2. गुंड्या म्हणाला, "राजू, गोठू, चिटू आणि बंड्या आले आहेत."
 - 3. गुंड्या म्हणाला राजू गोठू चिटू आणि बंड्या आले आहेत!
 - 4. गुंड्या म्हणाला, राजू गोठू चिटू आणि बंड्या आले आहेत?

Question Type : MCQ

Question ID : 489564246

Option 1 ID : 489564972

Option 2 ID : 489564970

Option 3 ID : 489564969

Option 4 ID : 489564971

Status : Answered

Chosen Option : 1

Q.22 प्रभाकर पाध्ये यांचे साहित्य अकादमी पुरस्कार मिळालेले 'सौंदर्यानुभव' हे पुस्तक _____ या प्रकारातील आहे.

- Ans
- 1. आत्मकथन
 - 2. कथासंग्रह
 - 3. समीक्षा
 - 4. कवितासंग्रह

Question Type : MCQ

Question ID : 489564231

Option 1 ID : 489564911

Option 2 ID : 489564910

Option 3 ID : 489564912

Option 4 ID : 489564909

Status : Answered

Chosen Option : 4

Q.23 अधोरेखित शब्दाची जात ओळखा.

माझी मुलगी सुंदर दिसते.

- Ans
- 1. कर्ता
 - 2. विशेषण
 - 3. कर्म
 - 4. क्रियापद

Question Type : MCQ

Question ID : 489564221

Option 1 ID : 489564869

Option 2 ID : 489564871

Option 3 ID : 489564870

Option 4 ID : 489564872

Status : Answered

Chosen Option : 2

Q.24 काळ ओळखा:

मीना माझ्याशी बोलत असे.

- Ans
- 1. पूर्ण वर्तमानकाळ
 - 2. पूर्ण भूतकाळ
 - 3. रीतिभविष्यकाळ
 - 4. रीतिभूतकाळ

Question Type : MCQ

Question ID : 489564220

Option 1 ID : 489564866

Option 2 ID : 489564865

Option 3 ID : 489564867

Option 4 ID : 489564868

Status : Answered

Chosen Option : 4

Q.25 वाक्यातील चूक सुधारून वाक्य पुन्हा लिहा:

लहान मूळ शाळेत जाताना रडतो.

- Ans
- 1. लहान मूळ शाळेत जाताना रडते.
 - 2. लहान मूल शाळेत जाताना रडतो.
 - 3. लहाण मूल शाळेत जाताना रडते.
 - 4. लहान मूल शाळेत जाताना रडते.

Question Type : MCQ

Question ID : 489564228

Option 1 ID : 489564899

Option 2 ID : 489564898

Option 3 ID : 489564900

Option 4 ID : 489564897

Status : Answered

Chosen Option : 3

Q.26 खालील वाक्याचे नकारार्थी वाक्य करा:

हे इतकं सोपं काम आहे का?

- Ans
- 1. हे इतकं कठीण काम नाही.
 - 2. हे इतकं सोपं काम नाही.
 - 3. हे फार सोपं काम आहे.
 - 4. हे इतकं सोपं काम आहे.

Question Type : MCQ

Question ID : 489564216

Option 1 ID : 489564850

Option 2 ID : 489564849

Option 3 ID : 489564852

Option 4 ID : 489564851

Status : Answered

Chosen Option : 2

Q.27 खालील वाक्यातील क्रियापद प्रकार ओळखा:

आजारपण संपल्यामुळे आता मला थोडे चालवते.

- Ans
- 1. सिद्ध क्रियापद
 - 2. शक्य क्रियापद
 - 3. प्रयोजक क्रियापद
 - 4. यापैकी नाही

Question Type : MCQ

Question ID : 489564219

Option 1 ID : 489564863

Option 2 ID : 489564862

Option 3 ID : 489564861

Option 4 ID : 489564864

Status : Answered

Chosen Option : 2

Q.28 योग्य विरुद्धार्थी शब्द निवडा:

उन्नती

- Ans
- 1. अवनती
 - 2. संगती
 - 3. प्रगती
 - 4. सुमती

Question Type : MCQ

Question ID : 489564207

Option 1 ID : 489564815

Option 2 ID : 489564816

Option 3 ID : 489564813

Option 4 ID : 489564814

Status : Answered

Chosen Option : 1

Q.29 विरुद्धार्थी शब्द लिहा:

सौम्य

- Ans
- 1. अतिमंद
 - 2. तीव्र
 - 3. संध
 - 4. मंद

Question Type : MCQ

Question ID : 489564236

Option 1 ID : 489564930

Option 2 ID : 489564931

Option 3 ID : 489564932

Option 4 ID : 489564929

Status : Answered

Chosen Option : 2

Q.30 'भूमी' या साहित्य अकादमी पुरस्कारप्राप्त पुस्तकाच्या लेखिका खालीलपैकी कोण आहेत?

- Ans
- 1. विजया राजाध्यक्ष
 - 2. आशा बगे
 - 3. दुर्गा भागवत
 - 4. आसावरी काकडे

Question Type : MCQ

Question ID : 489564208

Option 1 ID : 489564820

Option 2 ID : 489564819

Option 3 ID : 489564818

Option 4 ID : 489564817

Status : Answered

Chosen Option : 1

Q.31 योग्य विरामचिन्हे वापरून खालील पर्याय निवडा.

संतोष ओरडला, मी घरीच राहणार आहे

- Ans
- 1. संतोष ओरडला, मी घरीच राहणार आहे!
 - 2. संतोष ओरडला, "मी घरीच राहणार आहे."
 - 3. संतोष ओरडला, मी घरीच राहणार आहे?
 - 4. संतोष ओरडला, 'मी घरीच राहणार आहे?'

Question Type : MCQ

Question ID : 489564229

Option 1 ID : 489564901

Option 2 ID : 489564903

Option 3 ID : 489564902

Option 4 ID : 489564904

Status : Answered

Chosen Option : 1

Q.32 भावे प्रयोगात कर्म असल्यास _____ विभक्तीत असतो.

- Ans
- 1. प्रथमा
 - 2. सप्तमी
 - 3. द्वितीया
 - 4. तृतीया

Question Type : MCQ

Question ID : 489564230

Option 1 ID : 489564905

Option 2 ID : 489564907

Option 3 ID : 489564908

Option 4 ID : 489564906

Status : Answered

Chosen Option : 3

Q.33 काळ ओळखा:

महेश झाडावरून पडला होता.

- Ans
- 1. पूर्ण वर्तमानकाळ
 - 2. पूर्ण भूतकाळ
 - 3. पूर्ण भविष्यकाळ
 - 4. चालू वर्तमानकाळ

Question Type : MCQ

Question ID : 489564213

Option 1 ID : 489564840

Option 2 ID : 489564837

Option 3 ID : 489564838

Option 4 ID : 489564839

Status : Answered

Chosen Option : 2

Q.34 खालील वाक्यातील कर्ता ओळखा:

मनोज रोज एखादे संत्रे किंवा सफरचंद खातो.

- Ans
- 1. रोज
 - 2. सफरचंद
 - 3. संत्रे
 - 4. मनोज

Question Type : MCQ

Question ID : 489564210

Option 1 ID : 489564828

Option 2 ID : 489564827

Option 3 ID : 489564826

Option 4 ID : 489564825

Status : Answered

Chosen Option : 4

Q.35 'बाळूच्या अवस्थांतराची डायरी' या पुस्तकाचे लेखक _____ आहेत.

- Ans
- 1. प्रणव सखेदव
 - 2. किरण येले
 - 3. सुधीर रसाळ
 - 4. किरण गुरव

Question Type : MCQ

Question ID : 489564232

Option 1 ID : 489564913

Option 2 ID : 489564914

Option 3 ID : 489564916

Option 4 ID : 489564915

Status : Answered

Chosen Option : 4

Q.36 खालील वाक्यातील काळ बदला.

विद्या गावी गेली. (साधा वर्तमानकाळ करा)

- Ans 1. विद्या गावी जाते.
 2. विद्या गावी जात आहे.
 3. विद्या गावी जात असेल.
 4. विद्या गावी जात होती.

Question Type : MCQ
Question ID : 489564217
Option 1 ID : 489564855
Option 2 ID : 489564853
Option 3 ID : 489564856
Option 4 ID : 489564854
Status : Answered
Chosen Option : 2

Q.37 समानार्थी शब्द सांगा:

अरण्य

- Ans 1. सदन
 2. आलय
 3. कानन
 4. आनन

Question Type : MCQ
Question ID : 489564227
Option 1 ID : 489564896
Option 2 ID : 489564895
Option 3 ID : 489564894
Option 4 ID : 489564893
Status : Answered
Chosen Option : 2

Q.38 विरुद्धार्थी शब्द लिहा:

मान

- Ans 1. अनुमान
 2. अभिमान
 3. अपमान
 4. सन्मान

Question Type : MCQ
Question ID : 489564244
Option 1 ID : 489564962
Option 2 ID : 489564964
Option 3 ID : 489564963
Option 4 ID : 489564961
Status : Answered
Chosen Option : 3

Q.39 श्रेष्ठ कवी बा. भ. बोरकर यांना भारत सरकारने _____ सन्मानाने गौरवले आहे.

- Ans
- 1. पद्मविभूषण
 - 2. भारतरत्न
 - 3. खेलरत्न
 - 4. पद्मश्री

Question Type : MCQ
Question ID : 489564234
Option 1 ID : 489564924
Option 2 ID : 489564921
Option 3 ID : 489564922
Option 4 ID : 489564923
Status : Answered
Chosen Option : 1

Q.40 लिंग ओळखा:

वर्ग

- Ans
- 1. नपुंसकलिंग
 - 2. यापैकी नाही
 - 3. स्त्रीलिंग
 - 4. पुल्लिंग

Question Type : MCQ
Question ID : 489564215
Option 1 ID : 489564847
Option 2 ID : 489564848
Option 3 ID : 489564845
Option 4 ID : 489564846
Status : Answered
Chosen Option : 4

Q.41 समास ओळखा:

विटीदांडू

- Ans
- 1. समाहार द्वंद्व समास
 - 2. वैकल्पिक द्वंद्व समास
 - 3. इतरेतर द्वंद्व समास
 - 4. सहबहुव्रीही समास

Question Type : MCQ
Question ID : 489564212
Option 1 ID : 489564834
Option 2 ID : 489564836
Option 3 ID : 489564835
Option 4 ID : 489564833
Status : Answered
Chosen Option : 3

Q.42 विरुद्धार्थी शब्द लिहा:

गौण

- Ans 1. गुप्त
 2. मुख्य
 3. उप
 4. गूढ

Question Type : MCQ

Question ID : 489564243

Option 1 ID : 489564957

Option 2 ID : 489564959

Option 3 ID : 489564960

Option 4 ID : 489564958

Status : Answered

Chosen Option : 2

Q.43 योग्य विरामचिन्हे वापरून वाक्य पुन्हा लिहा.

अबब किती मोठा हा साप

- Ans 1. अबब! किती मोठा हा साप?
 2. अबब! किती मोठा हा साप!
 3. अबब? किती मोठा हा साप?
 4. अबब? किती मोठा हा साप!

Question Type : MCQ

Question ID : 489564242

Option 1 ID : 489564954

Option 2 ID : 489564955

Option 3 ID : 489564953

Option 4 ID : 489564956

Status : Answered

Chosen Option : 1

Q.44 चुका ओळखून वाक्य पुन्हा लिहा.

माझा देश मला आवडतो.

- Ans 1. माझा देस मला आवडतो.
 2. माझा देश मला आवडतो.
 3. माझा देश माला आवडतो.
 4. माझा देश मला आवडतो.

Question Type : MCQ

Question ID : 489564241

Option 1 ID : 489564952

Option 2 ID : 489564949

Option 3 ID : 489564950

Option 4 ID : 489564951

Status : Answered

Chosen Option : 4

Q.45 खालील एकवचनी शब्दाचे अनेकवचन लिहा:

खेडे

Ans 1. खेडा

2. खेडी

3. खेड

4. खेडे

Question Type : MCQ

Question ID : 489564225

Option 1 ID : 489564886

Option 2 ID : 489564885

Option 3 ID : 489564887

Option 4 ID : 489564888

Status : Answered

Chosen Option : 2

Comprehension:

खालील उतारा काळजीपूर्वक वाचा आणि दिलेल्या प्रश्नांची उत्तरे द्या.

महाराष्ट्रात प्रतिभावंत चित्रकार-शिल्पकारांची मोठी परंपरा आहे. पण चित्रकार आणि दृश्यकलेवरील लेखन दोन्हीही सारख्याच ताकदीने करणारे फारच थोडे. यासोबतच आपण ज्या दृश्यपरंपरेत वाढलो त्याचे आणि समाजाचं काही देणे लागतो याचे भान असलेले आणि स्वनिरपेक्ष कृती करणारे आणखी दुर्मिळ. अशा दुर्मिळ चित्रकार-अभ्यासक-संयोजकांमध्ये बहुळकरांचा समावेश होतो. कलावंताला त्याला पाहिजे तशा कोणत्याही विषयावर काम करण्याचे स्वातंत्र्य असते. पण कलेच्या अभ्यासकाला साऱ्या कलाप्रवाहांकडे आपले पूर्वग्रह दूर ठेवून समग्रपणे पाहावे लागते. बहुळकर बॉम्बे स्कूलच्या यथार्थवादी परंपरेतील आणि त्याचाच भाग असलेल्या बॉम्बे रिहायव्हलिस्ट स्कूल चळवळीबद्दल आत्मीयता असलेले चित्रकार. पण भारतीय कलेतील यथार्थवादी, आधुनिक, अमूर्त, उत्तर आधुनिक आणि लोककला अशा सर्व कलाप्रवाहांचा समन्वय साधण्याचा त्यांच्या लेखनातून त्यांनी प्रयत्न केला. हे कलासंचित सामान्य जनांपर्यंत जाऊन पोहोचले पाहिजे, हे त्यांनी सातत्याने पाहिले.

10 ऑक्टोबर 1954 मध्ये जन्मलेल्या सुहास बहुळकर यांचे शालेय शिक्षण पुण्यातच झाले. सर जे. जे. स्कूल ऑफ आर्टमध्ये 1970 मध्ये त्यांनी प्रवेश घेतला आणि 1975 मध्ये फाइन आर्टमधील पदविका पहिल्या वर्गात प्राप्त केली. चित्रकार म्हणून त्यांची जडणघडण बालवयातच सुरू झाली होती. बहुळकरांचे भाग्य असे की ज्या काळात मध्यमवर्गीय पालक आपल्या मुलाने चित्रकार म्हणून करिअर करावी याबद्दल नाखूश असत. त्या काळात त्यांचे वडील वसंत बहुळकर यांनी मुलाची चित्रकलेची आवड लक्षात घेऊन बहुळकरांमधील चित्रकार जोपासण्याचा आणि वाढवण्याचा ध्यास घेतला. आई-वडिलांच्या प्रोत्साहनामुळे त्यांना बालवयातच बालचित्रकार म्हणून प्रसिद्धी मिळाली. चित्रकाराच्या हस्तकौशल्याबरोबरच त्याची मर्मदृष्टी विकसित झाली पाहिजे हे वडिलांनी ओळखले होते. त्यानुसार त्यांनी एस. एल. हळदणकरांपासून प्रफुल्ला डहाणूकरांपर्यंत अनेक मान्यवर चित्रकारांकडे जाऊन त्यांच्या भेटी घडवून आणल्या. यामुळे जे. जे. मध्ये प्रवेश घ्यायच्या वेळीच बहुळकर यांची पूर्वतयारी झालेली होती.

SubQuestion No : 46

Q.46 कलावंताला _____ स्वातंत्र्य असते.

Ans 1. त्याला पाहिजे ती गाणी ऐकण्याचे

2. त्याला पाहिजे तिथे जाण्याचे

3. त्याला पाहिजे ते चित्रपट पाहण्याचे

4. त्याला पाहिजे त्या कोणत्याही विषयावर काम करण्याचे

Question Type : MCQ

Question ID : 489564253

Option 1 ID : 489564994

Option 2 ID : 489564996

Option 3 ID : 489564995

Option 4 ID : 489564993

Status : Answered

Chosen Option : 4

Comprehension:

खालील उतारा काळजीपूर्वक वाचा आणि दिलेल्या प्रश्नांची उत्तरे द्या.

महाराष्ट्रात प्रतिभावंत चित्रकार-शिल्पकारांची मोठी परंपरा आहे. पण चित्रकार आणि दृश्यकलेवरील लेखन दोन्हीही सारख्याच ताकदीने करणारे फारच थोडे. यासोबतच आपण ज्या दृश्यपरंपरेत वाढलो त्याचे आणि समाजाचं काही देणे लागतो याचे भान असलेले आणि स्वनिरपेक्ष कृती करणारे आणखी दुर्मिळ. अशा दुर्मिळ चित्रकार-अभ्यासक-संयोजकांमध्ये बहुळकरांचा समावेश होतो. कलावंताला त्याला पाहिजे तशा कोणत्याही विषयावर काम करण्याचे स्वातंत्र्य असते. पण कलेच्या अभ्यासकाला सान्या कलाप्रवाहांकडे आपले पूर्वग्रह दूर ठेवून समग्रपणे पाहावे लागते. बहुळकर बॉम्बे स्कूलच्या यथार्थवादी परंपरेतील आणि त्याचाच भाग असलेल्या बॉम्बे रिव्हायव्हलिस्ट स्कूल चळवळीबद्दल आत्मीयता असलेले चित्रकार. पण भारतीय कलेतील यथार्थवादी, आधुनिक, अमूर्त, उत्तर आधुनिक आणि लोककला अशा सर्व कलाप्रवाहांचा समन्वय साधण्याचा त्यांच्या लेखनातून त्यांनी प्रयत्न केला. हे कलासंचित सामान्य जनांपर्यंत जाऊन पोहोचले पाहिजे, हे त्यांनी सातत्याने पाहिले.

10 ऑक्टोबर 1954 मध्ये जन्मलेल्या सुहास बहुळकर यांचे शालेय शिक्षण पुण्यातच झाले. सर जे. जे. स्कूल ऑफ आर्टमध्ये 1970 मध्ये त्यांनी प्रवेश घेतला आणि 1975 मध्ये फाइन आर्टमधील पदविका पहिल्या वर्गात प्राप्त केली. चित्रकार म्हणून त्यांची जडणघडण बालवयातच सुरू झाली होती. बहुळकरांचे भाग्य असे की ज्या काळात मध्यमवर्गीय पालक आपल्या मुलाने चित्रकार म्हणून करिअर करावी याबद्दल नाखूश असत. त्या काळात त्यांचे वडील वसंत बहुळकर यांनी मुलाची चित्रकलेची आवड लक्षात घेऊन बहुळकरांमधील चित्रकार जोपासण्याचा आणि वाढवण्याचा ध्यास घेतला. आई-वडिलांच्या प्रोत्साहनामुळे त्यांना बालवयातच बालचित्रकार म्हणून प्रसिद्धी मिळाली. चित्रकाराच्या हस्तकौशल्याबरोबरच त्याची मर्मदृष्टी विकसित झाली पाहिजे हे वडिलांनी ओळखले होते. त्यानुसार त्यांनी एस. एल. हळदणकरांपासून प्रफुल्ला डहाणूकरांपर्यंत अनेक मान्यवर चित्रकारांकडे जाऊन त्यांच्या भेटी घडवून आणल्या. यामुळे जे. जे. मध्ये प्रवेश घ्यायच्या वेळीच बहुळकर यांची पूर्वतयारी झालेली होती.

SubQuestion No : 47

Q.47 सुहास बहुळकर हे _____ परंपरेतील होते.

- Ans
- 1. यजुर्वेदी
 - 2. साम्यवादी
 - 3. मार्क्सवादी
 - 4. यथार्थवादी

Question Type : MCQ

Question ID : 489564251

Option 1 ID : 489564986

Option 2 ID : 489564985

Option 3 ID : 489564988

Option 4 ID : 489564987

Status : Answered

Chosen Option : 4

Comprehension:

खालील उतारा काळजीपूर्वक वाचा आणि दिलेल्या प्रश्नांची उत्तरे द्या.

महाराष्ट्रात प्रतिभावंत चित्रकार-शिल्पकारांची मोठी परंपरा आहे. पण चित्रकार आणि दृश्यकलेवरील लेखन दोन्हीही सारख्याच ताकदीने करणारे फारच थोडे. यासोबतच आपण ज्या दृश्यपरंपरेत वाढलो त्याचे आणि समाजाचं काही देणे लागतो याचे भान असलेले आणि स्वनिरपेक्ष कृती करणारे आणखी दुर्मिळ. अशा दुर्मिळ चित्रकार-अभ्यासक-संयोजकांमध्ये बहुळकरांचा समावेश होतो. कलावंताला त्याला पाहिजे तशा कोणत्याही विषयावर काम करण्याचे स्वातंत्र्य असते. पण कलेच्या अभ्यासकाला सान्या कलाप्रवाहांकडे आपले पूर्वग्रह दूर ठेवून समग्रपणे पाहावे लागते. बहुळकर बॉम्बे स्कूलच्या यथार्थवादी परंपरेतील आणि त्याचाच भाग असलेल्या बॉम्बे रिव्हायव्हलिस्ट स्कूल चळवळीबद्दल आत्मीयता असलेले चित्रकार. पण भारतीय कलेतील यथार्थवादी, आधुनिक, अमूर्त, उत्तर आधुनिक आणि लोककला अशा सर्व कलाप्रवाहांचा समन्वय साधण्याचा त्यांच्या लेखनातून त्यांनी प्रयत्न केला. हे कलासंचित सामान्य जनांपर्यंत जाऊन पोहोचले पाहिजे, हे त्यांनी सातत्याने पाहिले.

10 ऑक्टोबर 1954 मध्ये जन्मलेल्या सुहास बहुळकर यांचे शालेय शिक्षण पुण्यातच झाले. सर जे. जे. स्कूल ऑफ आर्टमध्ये 1970 मध्ये त्यांनी प्रवेश घेतला आणि 1975 मध्ये फाइन आर्टमधील पदविका पहिल्या वर्गात प्राप्त केली. चित्रकार म्हणून त्यांची जडणघडण बालवयातच सुरू झाली होती. बहुळकरांचे भाग्य असे की ज्या काळात मध्यमवर्गीय पालक आपल्या मुलाने चित्रकार म्हणून करिअर करावी याबद्दल नाखूश असत. त्या काळात त्यांचे वडील वसंत बहुळकर यांनी मुलाची चित्रकलेची आवड लक्षात घेऊन बहुळकरांमधील चित्रकार जोपासण्याचा आणि वाढवण्याचा ध्यास घेतला. आई-वडिलांच्या प्रोत्साहनामुळे त्यांना बालवयातच बालचित्रकार म्हणून प्रसिद्धी मिळाली. चित्रकाराच्या हस्तकौशल्याबरोबरच त्याची मर्मदृष्टी विकसित झाली पाहिजे हे वडिलांनी ओळखले होते. त्यानुसार त्यांनी एस. एल. हळदणकरांपासून प्रफुल्ला डहाणूकरांपर्यंत अनेक मान्यवर चित्रकारांकडे जाऊन त्यांच्या भेटी घडवून आणल्या. यामुळे जे. जे. मध्ये प्रवेश घ्यायच्या वेळीच बहुळकर यांची पूर्वतयारी झालेली होती.

SubQuestion No : 48

Q.48 सुहास बहुळकर यांनी _____ मधून फाइन आर्टमधील पदविका प्राप्त केली.

- Ans**
- 1. बॉम्बे रिव्हायव्हलिस्ट स्कूल ऑफ आर्ट
 - 2. एस. एल. हळदणकर स्कूल ऑफ आर्ट
 - 3. सर जे. जे. स्कूल ऑफ आर्ट
 - 4. बॉम्बे स्कूल ऑफ आर्ट

Question Type : MCQ

Question ID : 489564254

Option 1 ID : 4895641000

Option 2 ID : 489564997

Option 3 ID : 489564999

Option 4 ID : 489564998

Status : Answered

Chosen Option : 3

Comprehension:

खालील उतारा काळजीपूर्वक वाचा आणि दिलेल्या प्रश्नांची उत्तरे द्या.

महाराष्ट्रात प्रतिभावंत चित्रकार-शिल्पकारांची मोठी परंपरा आहे. पण चित्रकार आणि दृश्यकलेवरील लेखन दोन्हीही सारख्याच ताकदीने करणारे फारच थोडे. यासोबतच आपण ज्या दृश्यपरंपरेत वाढलो त्याचे आणि समाजाचं काही देणे लागतो याचे भान असलेले आणि स्वनिरपेक्ष कृती करणारे आणखी दुर्मिळ. अशा दुर्मिळ चित्रकार-अभ्यासक-संयोजकांमध्ये बहुळकरांचा समावेश होतो. कलावंताला त्याला पाहिजे तशा कोणत्याही विषयावर काम करण्याचे स्वातंत्र्य असते. पण कलेच्या अभ्यासकाला सान्या कलाप्रवाहांकडे आपले पूर्वग्रह दूर ठेवून समग्रपणे पाहावे लागते. बहुळकर बॉम्बे स्कूलच्या यथार्थवादी परंपरेतील आणि त्याचाच भाग असलेल्या बॉम्बे रिव्हायव्हलिस्ट स्कूल चळवळीबद्दल आत्मीयता असलेले चित्रकार. पण भारतीय कलेतील यथार्थवादी, आधुनिक, अमूर्त, उत्तर आधुनिक आणि लोककला अशा सर्व कलाप्रवाहांचा समन्वय साधण्याचा त्यांच्या लेखनातून त्यांनी प्रयत्न केला. हे कलासंचित सामान्य जनांपर्यंत जाऊन पोहोचले पाहिजे, हे त्यांनी सातत्याने पाहिले.

10 ऑक्टोबर 1954 मध्ये जन्मलेल्या सुहास बहुळकर यांचे शालेय शिक्षण पुण्यातच झाले. सर जे. जे. स्कूल ऑफ आर्टमध्ये 1970 मध्ये त्यांनी प्रवेश घेतला आणि 1975 मध्ये फाइन आर्टमधील पदविका पहिल्या वर्गात प्राप्त केली. चित्रकार म्हणून त्यांची जडणघडण बालवयातच सुरू झाली होती. बहुळकरांचे भाग्य असे की ज्या काळात मध्यमवर्गीय पालक आपल्या मुलाने चित्रकार म्हणून करिअर करावी याबद्दल नाखूश असत. त्या काळात त्यांचे वडील वसंत बहुळकर यांनी मुलाची चित्रकलेची आवड लक्षात घेऊन बहुळकरांमधील चित्रकार जोपासण्याचा आणि वाढवण्याचा ध्यास घेतला. आई-वडिलांच्या प्रोत्साहनामुळे त्यांना बालवयातच बालचित्रकार म्हणून प्रसिद्धी मिळाली. चित्रकाराच्या हस्तकौशल्याबरोबरच त्याची मर्मदृष्टी विकसित झाली पाहिजे हे वडिलांनी ओळखले होते. त्यानुसार त्यांनी एस. एल. हळदणकरांपासून प्रफुल्ला डहाणूकरांपर्यंत अनेक मान्यवर चित्रकारांकडे जाऊन त्यांच्या भेटी घडवून आणल्या. यामुळे जे. जे. मध्ये प्रवेश घ्यायच्या वेळीच बहुळकर यांची पूर्वतयारी झालेली होती.

SubQuestion No : 49

Q.49 वसंत बहुळकर यांनी कशाचा ध्यास घेतला?

- Ans**
- 1. मुलाला परदेशी पाठवण्याचा
 - 2. मुलाला खेळाडू बनवण्याचा
 - 3. मुलाला गोष्टी सांगण्याचा
 - 4. मुलाची चित्रकला जोपासण्याचा आणि वाढवण्याचा

Question Type : **MCQ**

Question ID : **489564252**

Option 1 ID : **489564991**

Option 2 ID : **489564989**

Option 3 ID : **489564992**

Option 4 ID : **489564990**

Status : **Answered**

Chosen Option : **4**

Comprehension:

खालील उतारा काळजीपूर्वक वाचा आणि दिलेल्या प्रश्नांची उत्तरे द्या.

महाराष्ट्रात प्रतिभावंत चित्रकार-शिल्पकारांची मोठी परंपरा आहे. पण चित्रकार आणि दृश्यकलेवरील लेखन दोन्हीही सारख्याच ताकदीने करणारे फारच थोडे. यासोबतच आपण ज्या दृश्यपरंपरेत वाढलो त्याचे आणि समाजाचं काही देणे लागतो याचे भान असलेले आणि स्वनिरपेक्ष कृती करणारे आणखी दुर्मिळ. अशा दुर्मिळ चित्रकार-अभ्यासक-संयोजकांमध्ये बहुळकरांचा समावेश होतो. कलावंताला त्याला पाहिजे तशा कोणत्याही विषयावर काम करण्याचे स्वातंत्र्य असते. पण कलेच्या अभ्यासकाला सान्या कलाप्रवाहांकडे आपले पूर्वग्रह दूर ठेवून समग्रपणे पाहावे लागते. बहुळकर बॉम्बे स्कूलच्या यथार्थवादी परंपरेतील आणि त्याचाच भाग असलेल्या बॉम्बे रिहायव्हलिस्ट स्कूल चळवळीबद्दल आत्मीयता असलेले चित्रकार. पण भारतीय कलेतील यथार्थवादी, आधुनिक, अमूर्त, उत्तर आधुनिक आणि लोककला अशा सर्व कलाप्रवाहांचा समन्वय साधण्याचा त्यांच्या लेखनातून त्यांनी प्रयत्न केला. हे कलासंचित सामान्य जनांपर्यंत जाऊन पोहोचले पाहिजे, हे त्यांनी सातत्याने पाहिले.

10 ऑक्टोबर 1954 मध्ये जन्मलेल्या सुहास बहुळकर यांचे शालेय शिक्षण पुण्यातच झाले. सर जे. जे. स्कूल ऑफ आर्टमध्ये 1970 मध्ये त्यांनी प्रवेश घेतला आणि 1975 मध्ये फाइन आर्टमधील पदविका पहिल्या वर्गात प्राप्त केली. चित्रकार म्हणून त्यांची जडणघडण बालवयातच सुरू झाली होती. बहुळकरांचे भाग्य असे की ज्या काळात मध्यमवर्गीय पालक आपल्या मुलाने चित्रकार म्हणून करिअर करावी याबद्दल नाखूश असत. त्या काळात त्यांचे वडील वसंत बहुळकर यांनी मुलाची चित्रकलेची आवड लक्षात घेऊन बहुळकरांमधील चित्रकार जोपासण्याचा आणि वाढवण्याचा ध्यास घेतला. आई-वडिलांच्या प्रोत्साहनामुळे त्यांना बालवयातच बालचित्रकार म्हणून प्रसिद्धी मिळाली. चित्रकाराच्या हस्तकौशल्याबरोबरच त्याची मर्मदृष्टी विकसित झाली पाहिजे हे वडिलांनी ओळखले होते. त्यानुसार त्यांनी एस. एल. हळदणकरांपासून प्रफुल्ला डहाणूकरांपर्यंत अनेक मान्यवर चित्रकारांकडे जाऊन त्यांच्या भेटी घडवून आणल्या. यामुळे जे. जे. मध्ये प्रवेश घ्यायच्या वेळीच बहुळकर यांची पूर्वतयारी झालेली होती.

SubQuestion No : 50

Q.50 _____ला प्रतिभावंत चित्रकार-शिल्पकारांची मोठी परंपरा आहे.

- Ans
- 1. तामिळनाडू
 - 2. गोव्याला
 - 3. कर्नाटकाला
 - 4. महाराष्ट्राला

Question Type : MCQ

Question ID : 489564250

Option 1 ID : 489564984

Option 2 ID : 489564982

Option 3 ID : 489564981

Option 4 ID : 489564983

Status : Answered

Chosen Option : 4

Section : English Language

Q.1 Select the most appropriate direct form of the given sentence.

The little dwarf wondered where the fierce dragon had gone.

- Ans
- 1. The little dwarf said, "Oh! Where has the fierce dragon gone?"
 - 2. The little dwarf said, "Oh! Where had been the fierce dragon going?"
 - 3. The little dwarf said, "Oh! Where is the fierce dragon?"
 - 4. The little dwarf said, "Oh! Where the fierce dragon has gone?"

Question Type : MCQ

Question ID : 489564261

Option 1 ID : 4895641028

Option 2 ID : 4895641027

Option 3 ID : 4895641026

Option 4 ID : 4895641025

Status : Answered

Chosen Option : 1

Q.2 In the following question, out of the given four alternatives, select the alternative which best expresses the meaning of the Idiom/Phrase.

Whole nine yards

- Ans 1. under control situation
 2. everything possible
 3. work or study hard
 4. between two dangers

Question Type : MCQ
Question ID : 489564263
Option 1 ID : 4895641033
Option 2 ID : 4895641036
Option 3 ID : 4895641035
Option 4 ID : 4895641034
Status : Answered
Chosen Option : 2

Q.3 The question below consists of a set of labelled sentences. These sentences, when properly sequenced form a coherent paragraph. Select the most logical order of sentences from among the options.

- P. The boy had a collection of beautiful marbles
Q. A boy and a girl were playing together
R. The boy gave all his marbles to the girl for her candies

- Ans 1. PQR
 2. QPR
 3. RQP
 4. RPQ

Question Type : MCQ
Question ID : 489564290
Option 1 ID : 4895641142
Option 2 ID : 4895641143
Option 3 ID : 4895641141
Option 4 ID : 4895641144
Status : Answered
Chosen Option : 2

Q.4 Select the most appropriate option to complete the following sentence.

A carpenter with years of experience was ready _____.

- Ans 1. retiring
 2. retirement
 3. to retire
 4. retire

Question Type : MCQ
Question ID : 489564293
Option 1 ID : 4895641155
Option 2 ID : 4895641154
Option 3 ID : 4895641156
Option 4 ID : 4895641153
Status : Answered
Chosen Option : 3

Q.5 Select the most appropriate indirect form of the given sentence.

Deepika said to her mother, "I am going to attend my sociology lecture".

- Ans
- 1. Deepika told her mother that she was going to attend her sociology lecture.
 - 2. Deepika told her mother that she is going to attend her sociology lecture.
 - 3. Deepika said to her mother that she was going to attend my sociology lecture.
 - 4. Deepika asked her mother that she was going to attend her sociology lecture.

Question Type : MCQ
Question ID : 489564260
Option 1 ID : 4895641023
Option 2 ID : 4895641024
Option 3 ID : 4895641022
Option 4 ID : 4895641021
Status : Answered
Chosen Option : 2

Q.6 In the following question, out of the four alternatives, select the alternative which is the best substitute of the phrase.

The branch of zoology that studies insects.

- Ans
- 1. Ethnology
 - 2. Genealogy
 - 3. Etymology
 - 4. Entomology

Question Type : MCQ
Question ID : 489564273
Option 1 ID : 4895641073
Option 2 ID : 4895641076
Option 3 ID : 4895641075
Option 4 ID : 4895641074
Status : Answered
Chosen Option : 4

Q.7 In the following question, some part of the sentence may have errors. Find out which part of the sentence has an error and select the appropriate option. If a sentence is free from error, select No Error.

If you visit my home again, I definitely helped you.

- Ans
- 1. home again, I
 - 2. No error
 - 3. definitely helped you.
 - 4. If you visit my

Question Type : MCQ
Question ID : 489564282
Option 1 ID : 4895641110
Option 2 ID : 4895641112
Option 3 ID : 4895641111
Option 4 ID : 4895641109
Status : Answered
Chosen Option : 3

Q.8 In the following question, some part of the sentence may have errors. Find out which part of the sentence has an error and select the appropriate option. If a sentence is free from error, select No Error.

My father had to burn the midnight oil to support our family.

- Ans
- 1. support our family.
 - 2. My father had to burn
 - 3. No error
 - 4. the midnight oil to

Question Type : **MCQ**
Question ID : **489564283**
Option 1 ID : **4895641115**
Option 2 ID : **4895641113**
Option 3 ID : **4895641116**
Option 4 ID : **4895641114**
Status : **Answered**
Chosen Option : **2**

Q.9 In the following question, out of the given four alternatives, select the alternative which best expresses the meaning of the Idiom/Phrase.

A drop in a bucket

- Ans
- 1. as much as possible
 - 2. a handsome amount
 - 3. nothing at all
 - 4. a very insignificant amount

Question Type : **MCQ**
Question ID : **489564262**
Option 1 ID : **4895641029**
Option 2 ID : **4895641030**
Option 3 ID : **4895641031**
Option 4 ID : **4895641032**
Status : **Answered**
Chosen Option : **4**

Q.10 Select the most appropriate indirect form of the given sentence.

Natasha said to Clint Barton, "Where have you been last night?"

- Ans
- 1. Natasha asked Clint Barton where he had been the previous night.
 - 2. Natasha asked Clint Barton where you have been the previous night.
 - 3. Natasha asked Clint Barton where had I been the previous night.
 - 4. Natasha asked Clint Barton where I am the previous night.

Question Type : **MCQ**
Question ID : **489564259**
Option 1 ID : **4895641020**
Option 2 ID : **4895641018**
Option 3 ID : **4895641017**
Option 4 ID : **4895641019**
Status : **Answered**
Chosen Option : **2**

Q.11 In the following question, four words have been given out of which one word is incorrectly spelt. Select the incorrectly spelt word.

- Ans 1. Lasivious
 2. Rampart
 3. Generous
 4. Cupidity

Question Type : MCQ
Question ID : 489564277
Option 1 ID : 4895641089
Option 2 ID : 4895641090
Option 3 ID : 4895641091
Option 4 ID : 4895641092
Status : Answered
Chosen Option : 1

Q.12 In the following question, out of the given four alternatives, select the one which is similar in meaning to the given underlined word.

An attempt is being made to entice otters back to the river.

- Ans 1. entrap
 2. entail
 3. ensue
 4. enrage

Question Type : MCQ
Question ID : 489564266
Option 1 ID : 4895641048
Option 2 ID : 4895641046
Option 3 ID : 4895641045
Option 4 ID : 4895641047
Status : Answered
Chosen Option : 2

Q.13 The question below consists of a set of labelled sentences. These sentences, when properly sequenced form a coherent paragraph. Select the most logical order of sentences from among the options.

P. The dog would run, barking and trying to overtake cars

Q. The roadside for vehicles to come

R. A farmer had a dog that used to wait by

- Ans 1. QRP
 2. QPR
 3. PQR
 4. RQP

Question Type : MCQ
Question ID : 489564289
Option 1 ID : 4895641139
Option 2 ID : 4895641137
Option 3 ID : 4895641140
Option 4 ID : 4895641138
Status : Answered
Chosen Option : 4

Q.14 Select the correct active form of the given sentence.

Many types of beautiful toys were being sold by them at the market.

- Ans
- 1. They had sold many types of beautiful toys at the market.
 - 2. They were selling many types of beautiful toys at the market.
 - 3. They have sold many types of beautiful toys at the market
 - 4. They are selling many types of beautiful toys at the market.

Question Type : MCQ

Question ID : 489564257

Option 1 ID : 4895641012

Option 2 ID : 4895641011

Option 3 ID : 4895641009

Option 4 ID : 4895641010

Status : Answered

Chosen Option : 1

Q.15 In the following question, four words have been given out of which one word is incorrectly spelt. Select the incorrectly spelt word.

- Ans
- 1. Applaud
 - 2. Alleviate
 - 3. Adaptation
 - 4. Aduletion

Question Type : MCQ

Question ID : 489564275

Option 1 ID : 4895641084

Option 2 ID : 4895641081

Option 3 ID : 4895641082

Option 4 ID : 4895641083

Status : Answered

Chosen Option : 1

Q.16 In the following question, four words have been given out of which one word is incorrectly spelt. Select the incorrectly spelt word.

- Ans
- 1. Irrelivant
 - 2. Insertion
 - 3. Invincible
 - 4. Indelible

Question Type : MCQ

Question ID : 489564278

Option 1 ID : 4895641096

Option 2 ID : 4895641095

Option 3 ID : 4895641093

Option 4 ID : 4895641094

Status : Answered

Chosen Option : 3

Q.17 In the following question the sentence given with a blank is to be filled in with an appropriate preposition. Select the most appropriate option to fill it.

I wouldn't have accepted anything _____ a job in Canada.

- Ans
- 1. beside
 - 2. from
 - 3. except
 - 4. between

Question Type : MCQ
Question ID : 489564286
Option 1 ID : 4895641128
Option 2 ID : 4895641125
Option 3 ID : 4895641127
Option 4 ID : 4895641126
Status : Answered
Chosen Option : 3

Q.18 In the following question, some part of the sentence may have errors. Find out which part of the sentence has an error and select the appropriate option. If a sentence is free from error, select No Error.

Some people in our country do not complies with the rules and regulation.

- Ans
- 1. do not complies with
 - 2. No error
 - 3. the rules and regulation.
 - 4. Some people in our country

Question Type : MCQ
Question ID : 489564281
Option 1 ID : 4895641106
Option 2 ID : 4895641108
Option 3 ID : 4895641105
Option 4 ID : 4895641107
Status : Answered
Chosen Option : 4

Q.19 In the following question the sentence given with a blank is to be filled in with an appropriate preposition. Select the most appropriate option to fill it.

I wouldn't be in here _____ your help.

- Ans
- 1. but for
 - 2. beside
 - 3. beyond
 - 4. away

Question Type : MCQ
Question ID : 489564285
Option 1 ID : 4895641121
Option 2 ID : 4895641124
Option 3 ID : 4895641122
Option 4 ID : 4895641123
Status : Answered
Chosen Option : 3

Q.20 The question below consists of a set of labelled sentences. These sentences, when properly sequenced form a coherent paragraph. Select the most logical order of sentences from among the options.

P. As he could see many dogs surrounding him from all sides

Q. Seeing his reflection, the dog froze in surprise

R. Once a dog ran into a museum filled with mirrors

Ans 1. RQP

2. QRP

3. PQR

4. QPR

Question Type : MCQ

Question ID : 489564291

Option 1 ID : 4895641148

Option 2 ID : 4895641146

Option 3 ID : 4895641145

Option 4 ID : 4895641147

Status : Answered

Chosen Option : 1

Q.21 In the following question, out of the given four alternatives, select the alternative which best expresses the meaning of the proverb.

The early bird catches the worm.

Ans 1. one who arrives early is likely to build his house

2. one who arrives first has the best chance for success

3. one who arrives first lives on charity

4. one who arrives early keeps wild animals away

Question Type : MCQ

Question ID : 489564264

Option 1 ID : 4895641040

Option 2 ID : 4895641037

Option 3 ID : 4895641038

Option 4 ID : 4895641039

Status : Answered

Chosen Option : 2

Q.22 Select the most appropriate option to substitute the underlined segment in the given sentence. If there is no substitution required, choose 'no substitution required'.

Some people always try to give a lot of advices unnecessarily.

Ans 1. no substitution required

2. advise

3. advice

4. advising

Question Type : MCQ

Question ID : 489564294

Option 1 ID : 4895641160

Option 2 ID : 4895641158

Option 3 ID : 4895641157

Option 4 ID : 4895641159

Status : Answered

Chosen Option : 1

Q.23 In the following question, out of the given four alternatives, select the alternative which best expresses the meaning of the proverb.

Don't judge a book by its cover.

- Ans
- 1. not to get panic in difficult situations and handle them easily
 - 2. not to examine the condition of your friends in different situations
 - 3. not to form an opinion about something based on its outward appearance
 - 4. not able to remain in a happy and prosperous moments after some loss

Question Type : MCQ
Question ID : 489564265
Option 1 ID : 4895641043
Option 2 ID : 4895641044
Option 3 ID : 4895641041
Option 4 ID : 4895641042
Status : Answered
Chosen Option : 3

Q.24 The question below consists of a set of labelled sentences. Sentence 1 is fixed after which these sentences, when properly sequenced form a coherent paragraph. Select the most logical order of sentences from among the options.

- 1. There was a man who made his living by selling balloons at a beach
- P. To spend the quality time at the beach
- Q. Who were coming to beach along with their families
- R. He was the centre of attraction for the small kids

- Ans
- 1. QRP
 - 2. PQR
 - 3. RQP
 - 4. QPR

Question Type : MCQ
Question ID : 489564288
Option 1 ID : 4895641135
Option 2 ID : 4895641133
Option 3 ID : 4895641134
Option 4 ID : 4895641136
Status : Answered
Chosen Option : 4

Q.25 Select the correct active form of the given sentence.

The painting would have been stolen if the watchman hadn't helped.

- Ans
- 1. Someone may have stolen the painting if the watchman hadn't helped.
 - 2. Someone stole the painting if the watchman hadn't helped.
 - 3. Someone had stolen the painting if the watchman hadn't helped.
 - 4. Someone would have stolen the painting if the watchman hadn't helped.

Question Type : MCQ
Question ID : 489564258
Option 1 ID : 4895641016
Option 2 ID : 4895641013
Option 3 ID : 4895641014
Option 4 ID : 4895641015
Status : Answered
Chosen Option : 3

Q.26 Select the correct passive form of the given sentence.

My last joint venture with Mr. Anderson undid me completely.

- Ans
- 1. I was not being undone completely by my last joint venture with Mr. Anderson.
 - 2. I was incompletely done by my last joint venture with Mr. Anderson.
 - 3. I was not done completely by my last joint venture with Mr. Anderson.
 - 4. I was completely undone by my last joint venture with Mr. Anderson.

Question Type : MCQ
Question ID : 489564256
Option 1 ID : 4895641008
Option 2 ID : 4895641006
Option 3 ID : 4895641007
Option 4 ID : 4895641005
Status : Answered
Chosen Option : 1

Q.27 In the following questions, a sentence has been given with a blank to be filled with an appropriate article. Select the most appropriate answer to complete the sentence.

_____ food you cooked yesterday was very delicious.

- Ans
- 1. no article
 - 2. A
 - 3. The
 - 4. An

Question Type : MCQ
Question ID : 489564271
Option 1 ID : 4895641068
Option 2 ID : 4895641066
Option 3 ID : 4895641067
Option 4 ID : 4895641065
Status : Answered
Chosen Option : 3

Q.28 Select the correct passive form of the given sentence.

Pushpendra has opened the door to receive his best friend.

- Ans
- 1. To receive his best friend, the door has to be opened by Pushpendra.
 - 2. Pushpendra's door has been opened to be received by his best friend.
 - 3. Pushpendra has been opened by the door to receive his best friend.
 - 4. The door has been opened by Pushpendra to receive his best friend.

Question Type : MCQ
Question ID : 489564255
Option 1 ID : 4895641001
Option 2 ID : 4895641003
Option 3 ID : 4895641002
Option 4 ID : 4895641004
Status : Answered
Chosen Option : 4

Q.29 In the following question, some part of the sentence may have errors. Find out which part of the sentence has an error and select the appropriate option. If a sentence is free from error, select No Error.

I met a doctor while I were on the way to market.

- Ans
- 1. I met a doctor
 - 2. while I were on
 - 3. the way to market.
 - 4. No error

Question Type : MCQ
Question ID : 489564279
Option 1 ID : 4895641097
Option 2 ID : 4895641098
Option 3 ID : 4895641099
Option 4 ID : 4895641100
Status : Answered
Chosen Option : 1

Q.30 In the following questions, a sentence has been given with a blank to be filled with an appropriate article. Select the most appropriate answer to complete the sentence.

Mr. Naresh Goel is _____ best teacher in our school.

- Ans
- 1. the
 - 2. no article
 - 3. an
 - 4. a

Question Type : MCQ
Question ID : 489564272
Option 1 ID : 4895641069
Option 2 ID : 4895641072
Option 3 ID : 4895641070
Option 4 ID : 4895641071
Status : Answered
Chosen Option : 4

Q.31 The following question the sentence given with a blank is to be filled in with an appropriate preposition. Select the most appropriate option to fill it.

I walked _____ the beach collecting small crabs in a bucket.

- Ans
- 1. with
 - 2. along
 - 3. at
 - 4. besides

Question Type : MCQ
Question ID : 489564284
Option 1 ID : 4895641120
Option 2 ID : 4895641118
Option 3 ID : 4895641117
Option 4 ID : 4895641119
Status : Answered
Chosen Option : 4

Q.32 In the following questions, a sentence has been given with a blank to be filled with an appropriate article. Select the most appropriate answer to complete the sentence.

Mr. Kuldeep Singh is _____ famous journalist in America.

- Ans
- 1. the
 - 2. an
 - 3. no article
 - 4. a

Question Type : MCQ
Question ID : 489564269
Option 1 ID : 4895641057
Option 2 ID : 4895641059
Option 3 ID : 4895641060
Option 4 ID : 4895641058
Status : Answered
Chosen Option : 1

Q.33 In the following question, four words have been given out of which one word is incorrectly spelt. Select the incorrectly spelt word.

- Ans
- 1. Advercity
 - 2. Attention
 - 3. Probability
 - 4. Submarine

Question Type : MCQ
Question ID : 489564276
Option 1 ID : 4895641085
Option 2 ID : 4895641088
Option 3 ID : 4895641086
Option 4 ID : 4895641087
Status : Answered
Chosen Option : 1

Q.34 The question below consists of a set of labelled sentences. Sentence 1 is fixed after which these sentences, when properly sequenced form a coherent paragraph. Select the most logical order of sentences from among the options.

- 1. Once upon a time, there was a monk in the range of Himalayas
- P. The moment, he was about to enter the river, he noticed a scorpion there
- Q. One morning on a sunny day, he came across a shallow river
- R. Which he had to cross to move further

- Ans
- 1. RQP
 - 2. PRQ
 - 3. QRP
 - 4. PQR

Question Type : MCQ
Question ID : 489564287
Option 1 ID : 4895641129
Option 2 ID : 4895641132
Option 3 ID : 4895641131
Option 4 ID : 4895641130
Status : Answered
Chosen Option : 3

Q.35 Select the most appropriate option to substitute the underlined segment in the given sentence.

The shark rapid attacked, and kept on repeating its behaviour.

- Ans
- 1. clever
 - 2. quick
 - 3. quickly
 - 4. beastly

Question Type : MCQ
Question ID : 489564292
Option 1 ID : 4895641149
Option 2 ID : 4895641152
Option 3 ID : 4895641150
Option 4 ID : 4895641151
Status : Answered
Chosen Option : 2

Q.36 In the following question, some part of the sentence may have errors. Find out which part of the sentence has an error and select the appropriate option. If a sentence is free from error, select No Error.

Lawrence have some difficulty in working at night shifts.

- Ans
- 1. working at night shifts.
 - 2. Lawrence have
 - 3. No error
 - 4. some difficulty in

Question Type : MCQ
Question ID : 489564280
Option 1 ID : 4895641103
Option 2 ID : 4895641101
Option 3 ID : 4895641104
Option 4 ID : 4895641102
Status : Answered
Chosen Option : 3

Q.37 In the following questions, a sentence has been given with a blank to be filled with an appropriate article. Select the most appropriate answer to complete the sentence.

I am going to perform _____ important task immediately.

- Ans
- 1. an
 - 2. the
 - 3. a
 - 4. no article

Question Type : MCQ
Question ID : 489564270
Option 1 ID : 4895641063
Option 2 ID : 4895641061
Option 3 ID : 4895641062
Option 4 ID : 4895641064
Status : Answered
Chosen Option : 1

Q.38 In the following question, out of the given four alternatives, select the one which is opposite in meaning to the underlined word.

Tyler was convicted but was granted a royal pardon.

- Ans
- 1. grace
 - 2. mercy
 - 3. punish
 - 4. kindness

Question Type : MCQ
Question ID : 489564267
Option 1 ID : 4895641052
Option 2 ID : 4895641049
Option 3 ID : 4895641050
Option 4 ID : 4895641051
Status : Answered
Chosen Option : 2

Q.39 In the following question, out of the given four alternatives, select the one which is opposite in meaning to the underlined word.

The patient was writhing on the bed in agony.

- Ans
- 1. distress
 - 2. comfort
 - 3. anxiety
 - 4. misery

Question Type : MCQ
Question ID : 489564268
Option 1 ID : 4895641054
Option 2 ID : 4895641055
Option 3 ID : 4895641053
Option 4 ID : 4895641056
Status : Answered
Chosen Option : 2

Q.40 In the following question, out of the four alternatives, select the alternative which is the best substitute of the phrase.

Home sickness or sentimental longing for the past.

- Ans
- 1. Namesake
 - 2. Neurotic
 - 3. Nostalgia
 - 4. Nemesis

Question Type : MCQ
Question ID : 489564274
Option 1 ID : 4895641079
Option 2 ID : 4895641078
Option 3 ID : 4895641080
Option 4 ID : 4895641077
Status : Answered
Chosen Option : 2

Comprehension:

Read the following passage carefully and answer the given questions.

Marie Curie was a Polish-French physicist and chemist who conducted pioneering research on radioactivity. She was the first woman to win a Nobel Prize, the first person and the only woman to win the Nobel Prize twice, and the only person to win the Nobel Prize in two scientific fields. Her husband, Pierre Curie, was a co-winner on her first Nobel Prize, making them the first ever married couple to win the Nobel Prize and launching the Curie family legacy of five Nobel Prizes. She was the first woman to become a professor at the University of Paris. She was born in Warsaw, in what was then the Kingdom of Poland, part of the Russian Empire. She studied at Warsaw's clandestine Flying University and began her practical scientific training in Warsaw. She followed her elder sister Bronisława to study in Paris, where she earned her higher degrees and conducted her subsequent scientific work. She made an agreement with her sister, Bronisława, that she would give her financial assistance during Bronisława's medical studies in Paris, in exchange for similar assistance two years later. During World War I she developed mobile radiography units to provide X-ray services to field hospitals.

SubQuestion No : 41

Q.41 Which of the following words is opposite in meaning to the word 'Subsequent' as used in the given passage?

- Ans
- 1. Consecutive
 - 2. Successive
 - 3. Preceding
 - 4. Following

Question Type : MCQ

Question ID : 489564300

Option 1 ID : 4895641177

Option 2 ID : 4895641179

Option 3 ID : 4895641180

Option 4 ID : 4895641178

Status : Answered

Chosen Option : 1

Comprehension:

Read the following passage carefully and answer the given questions.

Marie Curie was a Polish-French physicist and chemist who conducted pioneering research on radioactivity. She was the first woman to win a Nobel Prize, the first person and the only woman to win the Nobel Prize twice, and the only person to win the Nobel Prize in two scientific fields. Her husband, Pierre Curie, was a co-winner on her first Nobel Prize, making them the first ever married couple to win the Nobel Prize and launching the Curie family legacy of five Nobel Prizes. She was the first woman to become a professor at the University of Paris. She was born in Warsaw, in what was then the Kingdom of Poland, part of the Russian Empire. She studied at Warsaw's clandestine Flying University and began her practical scientific training in Warsaw. She followed her elder sister Bronisława to study in Paris, where she earned her higher degrees and conducted her subsequent scientific work. She made an agreement with her sister, Bronisława, that she would give her financial assistance during Bronisława's medical studies in Paris, in exchange for similar assistance two years later. During World War I she developed mobile radiography units to provide X-ray services to field hospitals.

SubQuestion No : 42

Q.42 According to the given passage, the Curie family has had a legacy of how many Nobel Prizes?

- Ans
- 1. Two Nobel Prizes
 - 2. Four Nobel Prizes
 - 3. Three Nobel Prizes
 - 4. Five Nobel Prizes

Question Type : MCQ

Question ID : 489564297

Option 1 ID : 4895641165

Option 2 ID : 4895641167

Option 3 ID : 4895641166

Option 4 ID : 4895641168

Status : Answered

Chosen Option : 4

Comprehension:

Read the following passage carefully and answer the given questions.

Marie Curie was a Polish-French physicist and chemist who conducted pioneering research on radioactivity. She was the first woman to win a Nobel Prize, the first person and the only woman to win the Nobel Prize twice, and the only person to win the Nobel Prize in two scientific fields. Her husband, Pierre Curie, was a co-winner on her first Nobel Prize, making them the first ever married couple to win the Nobel Prize and launching the Curie family legacy of five Nobel Prizes. She was the first woman to become a professor at the University of Paris. She was born in Warsaw, in what was then the Kingdom of Poland, part of the Russian Empire. She studied at Warsaw's clandestine Flying University and began her practical scientific training in Warsaw. She followed her elder sister Bronisława to study in Paris, where she earned her higher degrees and conducted her subsequent scientific work. She made an agreement with her sister, Bronisława, that she would give her financial assistance during Bronisława's medical studies in Paris, in exchange for similar assistance two years later. During World War I she developed mobile radiography units to provide X-ray services to field hospitals.

SubQuestion No : 43

Q.43 At the time of Marie's birth, Warsaw was under which of the following Kingdoms?

- Ans
- 1. Kingdom of Austria
 - 2. Kingdom of Spain
 - 3. Kingdom of France
 - 4. Kingdom of Poland

Question Type : **MCQ**

Question ID : **489564298**

Option 1 ID : **4895641169**

Option 2 ID : **4895641170**

Option 3 ID : **4895641171**

Option 4 ID : **4895641172**

Status : **Answered**

Chosen Option : **4**

Comprehension:

Read the following passage carefully and answer the given questions.

Marie Curie was a Polish-French physicist and chemist who conducted pioneering research on radioactivity. She was the first woman to win a Nobel Prize, the first person and the only woman to win the Nobel Prize twice, and the only person to win the Nobel Prize in two scientific fields. Her husband, Pierre Curie, was a co-winner on her first Nobel Prize, making them the first ever married couple to win the Nobel Prize and launching the Curie family legacy of five Nobel Prizes. She was the first woman to become a professor at the University of Paris. She was born in Warsaw, in what was then the Kingdom of Poland, part of the Russian Empire. She studied at Warsaw's clandestine Flying University and began her practical scientific training in Warsaw. She followed her elder sister Bronisława to study in Paris, where she earned her higher degrees and conducted her subsequent scientific work. She made an agreement with her sister, Bronisława, that she would give her financial assistance during Bronisława's medical studies in Paris, in exchange for similar assistance two years later. During World War I she developed mobile radiography units to provide X-ray services to field hospitals.

SubQuestion No : 44

Q.44 Which of the following words is nearest in meaning to the word 'Clandestine' as used in the given passage?

- Ans** 1. Hidden
 2. Honest
 3. Forthright
 4. Aboveboard

Question Type : **MCQ**

Question ID : **489564299**

Option 1 ID : **4895641173**

Option 2 ID : **4895641175**

Option 3 ID : **4895641174**

Option 4 ID : **4895641176**

Status : **Answered**

Chosen Option : **2**

Comprehension:

Read the following passage carefully and answer the given questions.

Marie Curie was a Polish-French physicist and chemist who conducted pioneering research on radioactivity. She was the first woman to win a Nobel Prize, the first person and the only woman to win the Nobel Prize twice, and the only person to win the Nobel Prize in two scientific fields. Her husband, Pierre Curie, was a co-winner on her first Nobel Prize, making them the first ever married couple to win the Nobel Prize and launching the Curie family legacy of five Nobel Prizes. She was the first woman to become a professor at the University of Paris. She was born in Warsaw, in what was then the Kingdom of Poland, part of the Russian Empire. She studied at Warsaw's clandestine Flying University and began her practical scientific training in Warsaw. She followed her elder sister Bronisława to study in Paris, where she earned her higher degrees and conducted her subsequent scientific work. She made an agreement with her sister, Bronisława, that she would give her financial assistance during Bronisława's medical studies in Paris, in exchange for similar assistance two years later. During World War I she developed mobile radiography units to provide X-ray services to field hospitals.

SubQuestion No : 45

Q.45 What was the real intention of Marie Curie in giving financial assistance to her sister for her medical studies?

- Ans**
- 1. They were alone and the city was new for both of them so it was totally out of courtesy
 - 2. She wanted to purchase higher degrees from her sister
 - 3. She did it in exchange for a similar assistance two years later
 - 4. She wanted to marry P Curie at that time so she had to do it

Question Type : **MCQ**

Question ID : **489564296**

Option 1 ID : **4895641162**

Option 2 ID : **4895641161**

Option 3 ID : **4895641163**

Option 4 ID : **4895641164**

Status : **Answered**

Chosen Option : **2**

Comprehension:

Read the following passage carefully and answer the given questions.

Francis Harry Compton Crick was a British molecular biologist, biophysicist, and neuroscientist. He, James Watson, Maurice Wilkins and Rosalind Franklin played crucial roles in deciphering the helical structure of the DNA molecule. Crick and Watson's paper in Nature in 1953 laid the groundwork for understanding DNA structure and functions. Together with Maurice Wilkins, they were jointly awarded the 1962 Nobel Prize in Physiology or Medicine "for their discoveries concerning the molecular structure of nucleic acids and its significance for information transfer in living material". Crick was an important theoretical molecular biologist and played a crucial role in research related to revealing the helical structure of DNA. He is widely known for the use of the term 'central dogma' to summarise the idea that once information is transferred from nucleic acids (DNA or RNA) to proteins, it cannot flow back to nucleic acids. His later research centered on theoretical neurobiology and attempts to advance the scientific study of human consciousness. He remained in this post until his death; "he was editing a manuscript on his death bed, a scientist until the bitter end" according to Christof Koch.

SubQuestion No : 46

Q.46 Which of the following words is opposite in meaning to the word 'Significance' as used in the given passage?

- Ans
- 1. Import
 - 2. Implication
 - 3. Triviality
 - 4. Understanding

Question Type : MCQ

Question ID : 489564306

Option 1 ID : 4895641199

Option 2 ID : 4895641197

Option 3 ID : 4895641198

Option 4 ID : 4895641200

Status : Not Answered

Chosen Option : --

Comprehension:

Read the following passage carefully and answer the given questions.

Francis Harry Compton Crick was a British molecular biologist, biophysicist, and neuroscientist. He, James Watson, Maurice Wilkins and Rosalind Franklin played crucial roles in deciphering the helical structure of the DNA molecule. Crick and Watson's paper in Nature in 1953 laid the groundwork for understanding DNA structure and functions. Together with Maurice Wilkins, they were jointly awarded the 1962 Nobel Prize in Physiology or Medicine "for their discoveries concerning the molecular structure of nucleic acids and its significance for information transfer in living material". Crick was an important theoretical molecular biologist and played a crucial role in research related to revealing the helical structure of DNA. He is widely known for the use of the term 'central dogma' to summarise the idea that once information is transferred from nucleic acids (DNA or RNA) to proteins, it cannot flow back to nucleic acids. His later research centered on theoretical neurobiology and attempts to advance the scientific study of human consciousness. He remained in this post until his death; "he was editing a manuscript on his death bed, a scientist until the bitter end" according to Christof Koch.

SubQuestion No : 47

Q.47 Which of the following words is nearest in meaning to the word 'Reveal' as used in the given passage?

- Ans
- 1. Deny
 - 2. Refuse
 - 3. Expose
 - 4. Dispute

Question Type : **MCQ**

Question ID : **489564305**

Option 1 ID : **4895641196**

Option 2 ID : **4895641195**

Option 3 ID : **4895641193**

Option 4 ID : **4895641194**

Status : **Not Answered**

Chosen Option : --

Comprehension:

Read the following passage carefully and answer the given questions.

Francis Harry Compton Crick was a British molecular biologist, biophysicist, and neuroscientist. He, James Watson, Maurice Wilkins and Rosalind Franklin played crucial roles in deciphering the helical structure of the DNA molecule. Crick and Watson's paper in Nature in 1953 laid the groundwork for understanding DNA structure and functions. Together with Maurice Wilkins, they were jointly awarded the 1962 Nobel Prize in Physiology or Medicine "for their discoveries concerning the molecular structure of nucleic acids and its significance for information transfer in living material". Crick was an important theoretical molecular biologist and played a crucial role in research related to revealing the helical structure of DNA. He is widely known for the use of the term 'central dogma' to summarise the idea that once information is transferred from nucleic acids (DNA or RNA) to proteins, it cannot flow back to nucleic acids. His later research centered on theoretical neurobiology and attempts to advance the scientific study of human consciousness. He remained in this post until his death; "he was editing a manuscript on his death bed, a scientist until the bitter end" according to Christof Koch.

SubQuestion No : 48

Q.48 Some other scientists along with Francis Crick played crucial roles in deciphering the helical structure of the DNA molecule. Who among the following was not involved in that?

- Ans
- 1. Maurice Wilkins
 - 2. Carl Sagan
 - 3. James Watson
 - 4. Rosalind Franklin

Question Type : **MCQ**

Question ID : **489564303**

Option 1 ID : **4895641185**

Option 2 ID : **4895641188**

Option 3 ID : **4895641187**

Option 4 ID : **4895641186**

Status : **Not Answered**

Chosen Option : --

Comprehension:

Read the following passage carefully and answer the given questions.

Francis Harry Compton Crick was a British molecular biologist, biophysicist, and neuroscientist. He, James Watson, Maurice Wilkins and Rosalind Franklin played crucial roles in deciphering the helical structure of the DNA molecule. Crick and Watson's paper in Nature in 1953 laid the groundwork for understanding DNA structure and functions. Together with Maurice Wilkins, they were jointly awarded the 1962 Nobel Prize in Physiology or Medicine "for their discoveries concerning the molecular structure of nucleic acids and its significance for information transfer in living material". Crick was an important theoretical molecular biologist and played a crucial role in research related to revealing the helical structure of DNA. He is widely known for the use of the term 'central dogma' to summarise the idea that once information is transferred from nucleic acids (DNA or RNA) to proteins, it cannot flow back to nucleic acids. His later research centered on theoretical neurobiology and attempts to advance the scientific study of human consciousness. He remained in this post until his death; "he was editing a manuscript on his death bed, a scientist until the bitter end" according to Christof Koch.

SubQuestion No : 49

Q.49 How best can we describe the process which is related to the term 'central dogma' after reading the passage?

- Ans
- 1. The information transformation process is steady and reversible.
 - 2. The information transformation process is irreversible.
 - 3. The information transformation process is possibly reversible.
 - 4. The information transformation process is steady in a crucial way.

Question Type : **MCQ**

Question ID : **489564302**

Option 1 ID : **4895641182**

Option 2 ID : **4895641181**

Option 3 ID : **4895641184**

Option 4 ID : **4895641183**

Status : **Not Answered**

Chosen Option : --

Comprehension:

Read the following passage carefully and answer the given questions.

Francis Harry Compton Crick was a British molecular biologist, biophysicist, and neuroscientist. He, James Watson, Maurice Wilkins and Rosalind Franklin played crucial roles in deciphering the helical structure of the DNA molecule. Crick and Watson's paper in Nature in 1953 laid the groundwork for understanding DNA structure and functions. Together with Maurice Wilkins, they were jointly awarded the 1962 Nobel Prize in Physiology or Medicine "for their discoveries concerning the molecular structure of nucleic acids and its significance for information transfer in living material". Crick was an important theoretical molecular biologist and played a crucial role in research related to revealing the helical structure of DNA. He is widely known for the use of the term 'central dogma' to summarise the idea that once information is transferred from nucleic acids (DNA or RNA) to proteins, it cannot flow back to nucleic acids. His later research centered on theoretical neurobiology and attempts to advance the scientific study of human consciousness. He remained in this post until his death; "he was editing a manuscript on his death bed, a scientist until the bitter end" according to Christof Koch.

SubQuestion No : 50

Q.50 Francis Crick made his name in many fields and services. Which of the following was not one of them?

- Ans
- 1. Molecular biologist
 - 2. Neuroscientist
 - 3. Anaesthetist
 - 4. Biophysicist

Question Type : MCQ

Question ID : 489564304

Option 1 ID : 4895641191

Option 2 ID : 4895641192

Option 3 ID : 4895641189

Option 4 ID : 4895641190

Status : Not Answered

Chosen Option : --

Section : General Knowledge

Q.1 महाराष्ट्रात राष्ट्रकुट (Rashtrakuta) राजवंशाची सत्ता खालीलपैकी कोणी पहिल्यांदा स्थापन केली?

- Ans
- 1. पुलकेशी पहिला (Pulakeshi I)
 - 2. दंतिदुर्ग (Dantidurga)
 - 3. विंध्यशक्ती (Vindhyashakti)
 - 4. कृष्ण राजा पहिला (Krishna Raja I)

Question Type : MCQ

Question ID : 489564328

Option 1 ID : 4895641286

Option 2 ID : 4895641287

Option 3 ID : 4895641288

Option 4 ID : 4895641285

Status : Answered

Chosen Option : 1

Q.2 खालीलपैकी कोणत्या वाकाटक राजाच्या मृत्यूनंतर वाकाटक साम्राज्याचे विभाजन झाले?

- Ans
- 1. हरिश्चन (Harishen)
 - 2. विंध्यशक्ती (Vindhyashakti)
 - 3. रुद्रसेन दुसरा (Rudrasen II)
 - 4. प्रवरसेन पहिला (Pravarasena I)

Question Type : MCQ
Question ID : 489564327
Option 1 ID : 4895641283
Option 2 ID : 4895641281
Option 3 ID : 4895641284
Option 4 ID : 4895641282
Status : Answered
Chosen Option : 2

Q.3 खालीलपैकी कोणते बंदर अरबी समुद्राची राणी म्हणून प्रसिद्ध आहे?

- Ans
- 1. चेन्नई बंदर
 - 2. परादीप बंदर
 - 3. तुतीकोरीन बंदर
 - 4. कोच्ची बंदर

Question Type : MCQ
Question ID : 489564321
Option 1 ID : 4895641259
Option 2 ID : 4895641258
Option 3 ID : 4895641257
Option 4 ID : 4895641260
Status : Answered
Chosen Option : 3

Q.4 1983 च्या क्रिकेट विश्वचषक स्पर्धेसाठी भारताचा कर्णधार कोण होता?

- Ans
- 1. सुनील गावस्कर
 - 2. मदन लाल
 - 3. कीर्ती आझाद
 - 4. कपिल देव

Question Type : MCQ
Question ID : 489564326
Option 1 ID : 4895641277
Option 2 ID : 4895641280
Option 3 ID : 4895641278
Option 4 ID : 4895641279
Status : Answered
Chosen Option : 4

Q.5 खालीलपैकी "गीता रहस्य" या पुस्तकाचे लेखक कोण आहेत?

- Ans 1. बाळ गंगाधर टिळक
 2. आनंद मोहन बोस
 3. बिपीन चंद्र पाल
 4. लाला लाजपत राय

Question Type : MCQ

Question ID : 489564336

Option 1 ID : 4895641318

Option 2 ID : 4895641320

Option 3 ID : 4895641317

Option 4 ID : 4895641319

Status : Answered

Chosen Option : 1

Q.6 नांदूर मध्यमेश्वरबाबत खालीलपैकी कोणते विधान सत्य आहे?

- I. महाराष्ट्राच्या नाशिक जिल्ह्यातील निफाड तालुक्यातील हा एक प्रचंड जलाशय आहे.
II. हा गोदावरी आणि कादवा नदीच्या संगमावर आहे.

- Ans 1. I आणि II दोन्ही
 2. I किंवा II यापैकी कोणतेही नाही
 3. केवळ II
 4. केवळ I

Question Type : MCQ

Question ID : 489564343

Option 1 ID : 4895641347

Option 2 ID : 4895641348

Option 3 ID : 4895641346

Option 4 ID : 4895641345

Status : Answered

Chosen Option : 1

Q.7 महाराष्ट्राच्या 2020-21 च्या वार्षिक आर्थिक सर्वेक्षणात नमूद केलेल्या मानव विकास निर्देशांक 2011 नुसार खालीलपैकी कोणत्या जिल्ह्याचा एचडीआय (HDI) दर्जा कमी आहे?

- Ans 1. नंदुरबार
 2. ठाणे
 3. मुंबई
 4. नागपूर

Question Type : MCQ

Question ID : 489564340

Option 1 ID : 4895641336

Option 2 ID : 4895641334

Option 3 ID : 4895641335

Option 4 ID : 4895641333

Status : Answered

Chosen Option : 1

Q.8 पाली टेक्स्ट सोसायटी ची स्थापना कोणत्या वर्षी झाली?

- Ans
- 1. 1925
 - 2. 1856
 - 3. 1789
 - 4. 1881

Question Type : MCQ
Question ID : 489564312
Option 1 ID : 4895641224
Option 2 ID : 4895641222
Option 3 ID : 4895641221
Option 4 ID : 4895641223
Status : Answered
Chosen Option : 4

Q.9 ऋग्वेदातील स्तोत्रांना (hymns) काय म्हणतात?

- Ans
- 1. सुर
 - 2. सोम
 - 3. सुतक
 - 4. सुक्त

Question Type : MCQ
Question ID : 489564313
Option 1 ID : 4895641228
Option 2 ID : 4895641225
Option 3 ID : 4895641227
Option 4 ID : 4895641226
Status : Answered
Chosen Option : 2

Q.10 खालीलपैकी कोणती शहरी स्थानिक स्वराज्य संस्था आहे?

- Ans
- 1. नगर परिषद
 - 2. ग्रामपंचायत
 - 3. जिल्हा परिषद
 - 4. पंचायत समिती

Question Type : MCQ
Question ID : 489564354
Option 1 ID : 4895641391
Option 2 ID : 4895641389
Option 3 ID : 4895641392
Option 4 ID : 4895641390
Status : Answered
Chosen Option : 2

Q.11 जगातील सर्वात लांब महामार्ग बोगदा, अटल बोगदा, जो मनालीला लाहुल-स्पिती व्हॅलीशी वर्षभर जोडतो, त्याची लांबी किती आहे?

- Ans
- 1. 4 km
 - 2. 15.6 km
 - 3. 22 km
 - 4. 9.02 km

Question Type : MCQ
Question ID : 489564322
Option 1 ID : 4895641261
Option 2 ID : 4895641263
Option 3 ID : 4895641264
Option 4 ID : 4895641262
Status : Answered
Chosen Option : 2

Q.12 खालीलपैकी कोणत्या प्रकारच्या जंगलात ट्यूसॉक तृण (Tussocky grass) वाढते?

- Ans
- 1. पर्वतीय (Montane) जंगले
 - 2. उष्णकटिबंधीय पानझडी जंगले
 - 3. उष्णकटिबंधीय काटेरी जंगले
 - 4. किनारी आणि दलदलीची जंगले

Question Type : MCQ
Question ID : 489564318
Option 1 ID : 4895641247
Option 2 ID : 4895641246
Option 3 ID : 4895641245
Option 4 ID : 4895641248
Status : Answered
Chosen Option : 4

Q.13 खालीलपैकी कोणता अविषाक्त (non-toxic) वायू आहे?

- Ans
- 1. ओझोन
 - 2. नायट्रोजन डायऑक्साइड
 - 3. कार्बन डाय ऑक्साइड
 - 4. कार्बन मोनॉक्साईड

Question Type : MCQ
Question ID : 489564324
Option 1 ID : 4895641272
Option 2 ID : 4895641271
Option 3 ID : 4895641270
Option 4 ID : 4895641269
Status : Answered
Chosen Option : 1

Q.14 "शाळा" या पुस्तकाचे लेखक कोण आहेत?

- Ans 1. पु. ल. देशपांडे
 2. मिलिंद बोकिल
 3. नामदेव ढसाळ
 4. जी.ए. कुलकर्णी

Question Type : MCQ

Question ID : 489564333

Option 1 ID : 4895641307

Option 2 ID : 4895641308

Option 3 ID : 4895641306

Option 4 ID : 4895641305

Status : Answered

Chosen Option : 1

Q.15 मुंबई उच्च न्यायालयाच्या अधिकारक्षेत्र खालीलपैकी कोणती राज्ये येतात?

I. महाराष्ट्र

II. गोवा

- Ans 1. I आणि II दोन्ही
 2. केवळ II
 3. I किंवा II यापैकी कोणतेही नाही
 4. केवळ I

Question Type : MCQ

Question ID : 489564352

Option 1 ID : 4895641383

Option 2 ID : 4895641382

Option 3 ID : 4895641384

Option 4 ID : 4895641381

Status : Answered

Chosen Option : 1

Q.16 पुणे येथील आदिवासी संशोधन व प्रशिक्षण संस्थेची (Tribal research and training institute) स्थापना _____ मध्ये झाली.

- Ans 1. 1960
 2. 1965
 3. 1962
 4. 1969

Question Type : MCQ

Question ID : 489564346

Option 1 ID : 4895641357

Option 2 ID : 4895641359

Option 3 ID : 4895641358

Option 4 ID : 4895641360

Status : Answered

Chosen Option : 2

Q.17 बालविवाहाबाबत गोपाळ गणेश आगरकर त्यांचे वर्तमानपत्र _____ मध्ये परखड मते मांडत असत.

- Ans
- 1. सकाळ
 - 2. लोकमत
 - 3. सुधारक
 - 4. केसरी

Question Type : MCQ
Question ID : 489564331
Option 1 ID : 4895641298
Option 2 ID : 4895641299
Option 3 ID : 4895641300
Option 4 ID : 4895641297
Status : Answered
Chosen Option : 1

Q.18 खालीलपैकी कोणते विधान बरोबर आहे?

- I. पोवाडा ही महाराष्ट्राची पारंपरिक लोककला आहे.
II. सर्वात जुना उल्लेखनीय पोवाडा अग्निदासने केलेला अफझल खानाचा वध हा होता, ज्यात शिवाजी महाराजांची अफझल खानाशी झालेली चकमक नोंदवण्यात आली आहे.

- Ans
- 1. केवळ I
 - 2. I आणि II दोन्ही
 - 3. केवळ II
 - 4. I किंवा II यापैकी कोणतेही नाही

Question Type : MCQ
Question ID : 489564337
Option 1 ID : 4895641321
Option 2 ID : 4895641323
Option 3 ID : 4895641322
Option 4 ID : 4895641324
Status : Answered
Chosen Option : 2

Q.19 खालीलपैकी कोणाला 2020 या वर्षाच्या महाराष्ट्र भूषण पुरस्काराने गौरवण्यात आले?

- Ans
- 1. आर्या आंबेकर
 - 2. श्रेया घोषाल
 - 3. लता मंगेशकर
 - 4. आशा भोसले

Question Type : MCQ
Question ID : 489564334
Option 1 ID : 4895641312
Option 2 ID : 4895641311
Option 3 ID : 4895641310
Option 4 ID : 4895641309
Status : Answered
Chosen Option : 3

Q.20 महाराष्ट्र सरकारकडून 2020-21 सालच्या गान सम्राज्ञी लता मंगेशकर पुरस्काराने खालीलपैकी कोणाला गौरवण्यात आले?

- Ans 1. आर्या आंबेकर
 2. उषा मंगेशकर
 3. आशा भोसले
 4. श्रेया घोषाल

Question Type : MCQ
Question ID : 489564338
Option 1 ID : 4895641328
Option 2 ID : 4895641325
Option 3 ID : 4895641327
Option 4 ID : 4895641326
Status : Answered
Chosen Option : 2

Q.21 पद्मश्री शोवना नारायण (Shovana Narayan) या कोणत्या क्षेत्रातील गुरू आहेत?

- Ans 1. ओडिसी
 2. कथक
 3. भरतनाट्यम
 4. मणिपुरी

Question Type : MCQ
Question ID : 489564309
Option 1 ID : 4895641212
Option 2 ID : 4895641210
Option 3 ID : 4895641211
Option 4 ID : 4895641209
Status : Answered
Chosen Option : 1

Q.22 भारतीय राज्यघटनेत किती मूलभूत कर्तव्ये आहेत?

- Ans 1. 15
 2. 13
 3. 11
 4. 10

Question Type : MCQ
Question ID : 489564325
Option 1 ID : 4895641276
Option 2 ID : 4895641275
Option 3 ID : 4895641274
Option 4 ID : 4895641273
Status : Answered
Chosen Option : 1

Q.23 भारताच्या 2011 च्या जनगणनेनुसार महाराष्ट्रातील अनुसूचित जातींची लोकसंख्या राज्याच्या एकूण लोकसंख्येच्या _____ टक्के इतकी होती.

- Ans 1. 18.9
 2. 11.8
 3. 4.5
 4. 7.6

Question Type : MCQ
Question ID : 489564345
Option 1 ID : 4895641356
Option 2 ID : 4895641353
Option 3 ID : 4895641355
Option 4 ID : 4895641354
Status : Answered
Chosen Option : 2

Q.24 महाराष्ट्राच्या 2020-21 च्या आर्थिक पाहणीनुसार, 2019-20 च्या खरीप हंगामात खालीलपैकी कोणत्या तेलबियांचे सर्वाधिक उत्पादन झाले?

- Ans 1. सूर्यफूल
 2. भुईमूग
 3. सोयाबीन
 4. तीळ

Question Type : MCQ
Question ID : 489564349
Option 1 ID : 4895641372
Option 2 ID : 4895641370
Option 3 ID : 4895641369
Option 4 ID : 4895641371
Status : Answered
Chosen Option : 3

Q.25 खलीलपैकी कोणते विधान बरोबर आहे?

- I. भारताच्या 2011 च्या जनगणनेनुसार, बृहन्मुंबई महानगरपालिका क्षेत्रात झोपडपट्ट्यांतील लोकसंख्या सर्वाधिक होती.
II. भारताच्या 2011 च्या जनगणनेनुसार, महाराष्ट्राचा दशकातील लोकसंख्या वाढीचा दर देशाच्या 17.7 टक्क्यांच्या तुलनेत 16 टक्के होता.

- Ans 1. I आणि II दोन्ही
 2. केवळ I
 3. केवळ II
 4. I किंवा II यापैकी कोणतेही नाही

Question Type : MCQ
Question ID : 489564347
Option 1 ID : 4895641363
Option 2 ID : 4895641361
Option 3 ID : 4895641362
Option 4 ID : 4895641364
Status : Answered
Chosen Option : 1

Q.26 तिबेटी प्रदेशातील बोखर चू (31°15' N अक्षांश आणि 81°40' E रेखांश) जवळच्या हिमनदीपासून कैलास पर्वताच्या 4,164 मीटर उंचीवर खालीलपैकी कोणत्या नदी प्रणालीचा उगम होतो?

- Ans
- 1. सिंधू प्रणाली
 - 2. गंगा प्रणाली
 - 3. ब्रह्मपुत्र प्रणाली
 - 4. द्वीपकल्पीय निस्सारण प्रणाली

Question Type : MCQ
Question ID : 489564317
Option 1 ID : 4895641242
Option 2 ID : 4895641241
Option 3 ID : 4895641243
Option 4 ID : 4895641244
Status : Answered
Chosen Option : 3

Q.27 भारताच्या 2011 च्या जनगणनेनुसार महाराष्ट्राच्या कोणत्या जिल्ह्यात अनुसूचित जमातीच्या लोकसंख्येचे प्रमाण सर्वात जास्त आहे?

- Ans
- 1. पुणे
 - 2. रत्नागिरी
 - 3. नंदुरबार
 - 4. बीड

Question Type : MCQ
Question ID : 489564344
Option 1 ID : 4895641352
Option 2 ID : 4895641350
Option 3 ID : 4895641349
Option 4 ID : 4895641351
Status : Answered
Chosen Option : 3

Q.28 हिंदुस्थानी शास्त्रीय संगीताच्या उदकांतीच्या माहितीचा एक प्रमुख स्रोत असलेले 'नाट्य शास्त्र' (Natya Shastra) खालीलपैकी कोणी लिहिले आहे?

- Ans
- 1. भास (Bhasa)
 - 2. अगस्त्य (Augustya)
 - 3. कुंडल (Kundala)
 - 4. भरत (Bharata)

Question Type : MCQ
Question ID : 489564310
Option 1 ID : 4895641214
Option 2 ID : 4895641215
Option 3 ID : 4895641216
Option 4 ID : 4895641213
Status : Answered
Chosen Option : 2

Q.29 भारताच्या 2011 च्या जनगणनेनुसार अखिल भारतीय स्तरावर साक्षरतेत महाराष्ट्र _____ स्थानावर आहे.

- Ans 1. 8 व्या
 2. 7 व्या
 3. 6 व्या
 4. 9 व्या

Question Type : MCQ
Question ID : 489564339
Option 1 ID : 4895641331
Option 2 ID : 4895641330
Option 3 ID : 4895641329
Option 4 ID : 4895641332
Status : Answered
Chosen Option : 3

Q.30 1857 च्या उठावानंतर बहादूर शहाला _____ येथील तुरुंगात ठेवण्यात आले.

- Ans 1. रंगून
 2. काश्मीर
 3. नेपाळ
 4. तिबेट

Question Type : MCQ
Question ID : 489564330
Option 1 ID : 4895641295
Option 2 ID : 4895641296
Option 3 ID : 4895641293
Option 4 ID : 4895641294
Status : Answered
Chosen Option : 1

Q.31 खालीलपैकी कोणत्या सेवांमधील व्यक्ती अर्थव्यवस्थेच्या तृतीयक क्षेत्राशी संबंधित नाही?

- Ans 1. धोबी (Washerman)
 2. वस्त्रनिर्माण-कामगार (Textile-worker)
 3. चर्मकार (Cobbler)
 4. नाभिक (Barber)

Question Type : MCQ
Question ID : 489564314
Option 1 ID : 4895641231
Option 2 ID : 4895641232
Option 3 ID : 4895641229
Option 4 ID : 4895641230
Status : Answered
Chosen Option : 3

Q.32 राज्यांच्या दारिद्र्याच्या आकडेवारी (2011-12) नुसार खालीलपैकी कोणत्या राज्याने त्याच्या लोकसंख्येपैकी 10-20% लोकसंख्या दारिद्र्य रेषे खालील नोंदवली नाही?

- Ans
- 1. महाराष्ट्र
 - 2. पश्चिम बंगाल
 - 3. मध्य प्रदेश
 - 4. गुजरात

Question Type : MCQ

Question ID : 489564320

Option 1 ID : 4895641256

Option 2 ID : 4895641255

Option 3 ID : 4895641253

Option 4 ID : 4895641254

Status : Answered

Chosen Option : 3

Q.33 महाराष्ट्रातील वीज वितरणाच्या संदर्भात खालीलपैकी कोणते विधान बरोबर आहे?

- I. मुंबईत वीज वितरणाचे जाळे MAHADISCOM चे आहे.
II. टाटा पॉवर आणि अदानी इलेक्ट्रिसिटी यांचे मुंबई उपनगरांत वितरण जाळे आहे.

- Ans
- 1. केवळ II
 - 2. I किंवा II यापैकी कोणतेही नाही
 - 3. केवळ I
 - 4. I आणि II दोन्ही

Question Type : MCQ

Question ID : 489564348

Option 1 ID : 4895641366

Option 2 ID : 4895641368

Option 3 ID : 4895641365

Option 4 ID : 4895641367

Status : Answered

Chosen Option : 4

Q.34 शिरोडा समुद्रकिनारा (Beach) महाराष्ट्रातील कोणत्या जिल्ह्यात आहे?

- Ans
- 1. नाशिक
 - 2. रत्नागिरी
 - 3. सिंधुदुर्ग
 - 4. हिंगोली

Question Type : MCQ

Question ID : 489564341

Option 1 ID : 4895641340

Option 2 ID : 4895641338

Option 3 ID : 4895641337

Option 4 ID : 4895641339

Status : Answered

Chosen Option : 2

Q.35 "भारतरत्न" प्राप्त झालेले खालीलपैकी कोण महाराष्ट्रातील आहेत?

- Ans
- 1. रवी शंकर
 - 2. अटल बिहारी वाजपेयी
 - 3. मदन मोहन मालवीय
 - 4. विनोबा भावे

Question Type : MCQ
Question ID : 489564335
Option 1 ID : 4895641316
Option 2 ID : 4895641314
Option 3 ID : 4895641313
Option 4 ID : 4895641315
Status : Answered
Chosen Option : 2

Q.36 जर विधानसभेच्या सरकारमधील निर्वाचित प्रतिनिधीची जागा राजीनामा किंवा त्याचा/तिचा मृत्यू झाल्याने रिक्त होते, ते त्या रिक्त जागेसाठी घेतल्या जाणाऱ्या निवडणुकीस _____ म्हटले जाते.

- Ans
- 1. सार्वत्रिक निवडणूक
 - 2. मध्यावधी निवडणूक
 - 3. फेर-निवडणूक
 - 4. पोट-निवडणूक

Question Type : MCQ
Question ID : 489564351
Option 1 ID : 4895641378
Option 2 ID : 4895641379
Option 3 ID : 4895641377
Option 4 ID : 4895641380
Status : Answered
Chosen Option : 4

Q.37 खालीलपैकी कोणते महारत्न CPSE (सी पी एस ई) आहे?

- Ans
- 1. गेल (इंडिया) लिमिटेड
 - 2. ऑइल इंडिया लिमिटेड
 - 3. महानगर टेलिफोन निगम लिमिटेड
 - 4. कंटेनर कॉर्पोरेशन ऑफ इंडिया लिमिटेड

Question Type : MCQ
Question ID : 489564315
Option 1 ID : 4895641233
Option 2 ID : 4895641234
Option 3 ID : 4895641236
Option 4 ID : 4895641235
Status : Answered
Chosen Option : 4

Q.38 1857 च्या संघर्षात सहभागी झालेले रंगो बापूजी गुप्ते हे _____ चे अधिकारी होते.

- Ans 1. छत्रपती प्रतापसिंह
 2. भागोजी नाईक
 3. सुरगणा
 4. चिमासाहेब

Question Type : MCQ
Question ID : 489564329
Option 1 ID : 4895641290
Option 2 ID : 4895641292
Option 3 ID : 4895641291
Option 4 ID : 4895641289
Status : Answered
Chosen Option : 4

Q.39 महाराष्ट्राच्या विधानसभेबाबत खालीलपैकी कोणते विधान बरोबर आहे?

- I. येथे 285 सदस्य आहेत.
II. महाराष्ट्र विधिमंडळाचे ते प्रथम सभागृह आहे.

- Ans 1. केवळ I
 2. केवळ II
 3. I किंवा II यापैकी कोणतेही नाही
 4. I आणि II दोन्ही

Question Type : MCQ
Question ID : 489564353
Option 1 ID : 4895641385
Option 2 ID : 4895641386
Option 3 ID : 4895641388
Option 4 ID : 4895641387
Status : Answered
Chosen Option : 2

Q.40 खालीलपैकी कोण प्रसिद्ध लढवय्या 1799 साली हातात एक नावाजलेली बूट्टा स्टील तलवार घेऊन ब्रिटीशांशी लढताना मरण पावला?

- Ans 1. नवाब सिराजुद्दौला
 2. टिपू सुलतान
 3. हैदर अली
 4. तात्या टोपे

Question Type : MCQ
Question ID : 489564307
Option 1 ID : 4895641204
Option 2 ID : 4895641202
Option 3 ID : 4895641201
Option 4 ID : 4895641203
Status : Answered
Chosen Option : 2

Q.41 बाऊल लोकसंगीत खालीलपैकी कोणत्या राज्यातील आहे?

- Ans
- 1. हरियाणा
 - 2. तामिळनाडू
 - 3. पश्चिम बंगाल
 - 4. गुजरात

Question Type : MCQ

Question ID : 489564311

Option 1 ID : 4895641220

Option 2 ID : 4895641217

Option 3 ID : 4895641218

Option 4 ID : 4895641219

Status : Answered

Chosen Option : 3

Q.42 महाराष्ट्रातील खालीलपैकी कोणत्या जिल्ह्यात जिल्हा परिषद नाही?

- Ans
- 1. गोंदिया
 - 2. धुळे
 - 3. अकोला
 - 4. मुंबई शहर

Question Type : MCQ

Question ID : 489564355

Option 1 ID : 4895641396

Option 2 ID : 4895641395

Option 3 ID : 4895641394

Option 4 ID : 4895641393

Status : Answered

Chosen Option : 4

Q.43 महानगरपालिकांबाबत खालीलपैकी कोणते विधान बरोबर आहे?

- I. महानगरपालिकेच्या एकूण सदस्यांची संख्या शहराच्या लोकसंख्येच्या प्रमाणात ठरवली जाते.
- II. महानगरपालिकांची निवडणूक दर पाच वर्षांनी घेतली जाते.

- Ans
- 1. I आणि II दोन्ही
 - 2. केवळ II
 - 3. I किंवा II यापैकी कोणतेही नाही
 - 4. केवळ I

Question Type : MCQ

Question ID : 489564356

Option 1 ID : 4895641399

Option 2 ID : 4895641398

Option 3 ID : 4895641400

Option 4 ID : 4895641397

Status : Answered

Chosen Option : 1

Q.44 महाराष्ट्राच्या 2020-21 च्या आर्थिक पाहणीनुसार, 2019-20 या वर्षाच्या अखेरीस राज्याचे वनक्षेत्र राज्याच्या एकूण भौगोलिक क्षेत्राच्या सुमारे _____ टक्के होते.

- Ans
- 1. 32.2
 - 2. 28
 - 3. 15.6
 - 4. 20.1

Question Type : MCQ

Question ID : 489564350

Option 1 ID : 4895641373

Option 2 ID : 4895641375

Option 3 ID : 4895641376

Option 4 ID : 4895641374

Status : Answered

Chosen Option : 1

Q.45 खालीलपैकी कोणते अधातू खनिजांचे उदाहरण आहे?

- Ans
- 1. तांबा
 - 2. चुनखडी
 - 3. प्लॅटिनम
 - 4. बॉक्साईट

Question Type : MCQ

Question ID : 489564316

Option 1 ID : 4895641237

Option 2 ID : 4895641238

Option 3 ID : 4895641240

Option 4 ID : 4895641239

Status : Answered

Chosen Option : 2

Q.46 भारताच्या 2011 च्या जनगणनेनुसार, भारताच्या एकूण लोकसंख्येपैकी किती लोक खेड्यात राहतात?

- Ans
- 1. 12 टक्के
 - 2. 45.98 टक्के
 - 3. 68.8 टक्के
 - 4. 88 टक्के

Question Type : MCQ

Question ID : 489564319

Option 1 ID : 4895641250

Option 2 ID : 4895641252

Option 3 ID : 4895641249

Option 4 ID : 4895641251

Status : Answered

Chosen Option : 3

Q.47 सामान्यतः, आपाचक व्रण (Peptic ulcers) हा _____ रोग आहे.

- Ans
- 1. विषाणुजन्य (viral)
 - 2. जीवाणुजन्य (bacterial)
 - 3. बुरशीजन्य (fungal)
 - 4. प्रजीवगण (protozoal)

Question Type : MCQ
Question ID : 489564323
Option 1 ID : 4895641266
Option 2 ID : 4895641265
Option 3 ID : 4895641268
Option 4 ID : 4895641267
Status : Answered
Chosen Option : 3

Q.48 पक्क्या बांधणीचे धरण (masonry dam) असणारे भुशी धरण लोणावळ्यात _____ नदीवर आहे.

- Ans
- 1. इंद्रायणी
 - 2. भीमा
 - 3. वैतरणा
 - 4. निरा

Question Type : MCQ
Question ID : 489564342
Option 1 ID : 4895641344
Option 2 ID : 4895641342
Option 3 ID : 4895641341
Option 4 ID : 4895641343
Status : Answered
Chosen Option : 4

Q.49 कुतुबुद्दीन ऐबकने कोणत्या वर्षी त्याचा राज्यकारभार सुरू केला?

- Ans
- 1. 1206
 - 2. 1202
 - 3. 1208
 - 4. 1204

Question Type : MCQ
Question ID : 489564308
Option 1 ID : 4895641207
Option 2 ID : 4895641205
Option 3 ID : 4895641208
Option 4 ID : 4895641206
Status : Answered
Chosen Option : 3

Q.50 खालीलपैकी कोणता किल्ला महाराष्ट्रात नाही?

- Ans 1. कांगडा किल्ला
 2. शिवनेरी किल्ला
 3. लोहगड किल्ला
 4. तोरणा किल्ला

Question Type : MCQ

Question ID : 489564332

Option 1 ID : 4895641304

Option 2 ID : 4895641302

Option 3 ID : 4895641303

Option 4 ID : 4895641301

Status : Answered

Chosen Option : 1

Section : General Intelligence

Q.1 Six candidates C1, C2, C3, C4, C5 and C6 have scored different marks in an exam. Three candidates have scored more marks than C2. C4 has scored less marks than C1 and C3. C5 has scored the least marks. C6 has scored more marks than C1, but less marks than C3.

Which of the following statement is correct?

I. C1 has scored more marks than C2.

II. Two candidates have scored more marks than C6.

- Ans 1. Only II
 2. Only I
 3. Neither I nor II
 4. Both I and II

Question Type : MCQ

Question ID : 489564369

Option 1 ID : 4895641450

Option 2 ID : 4895641449

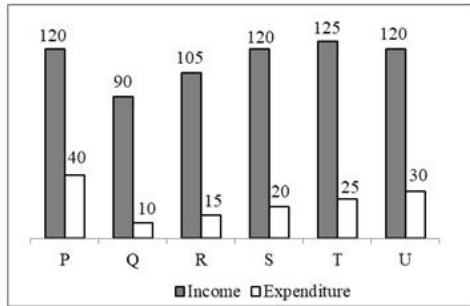
Option 3 ID : 4895641452

Option 4 ID : 4895641451

Status : Answered

Chosen Option : 2

Q.2 The bar graph given below shows the income and expenditure of six different companies.



$$\text{Profit percentage} = \left(\frac{\text{Income} - \text{Expenditure}}{\text{Expenditure}} \right) \times 100$$

Which company has the maximum profit percentage?

- Ans**
- 1. R
 - 2. P
 - 3. S
 - 4. Q

Question Type : **MCQ**

Question ID : **489564406**

Option 1 ID : **4895641597**

Option 2 ID : **4895641600**

Option 3 ID : **4895641598**

Option 4 ID : **4895641599**

Status : **Answered**

Chosen Option : **4**

Q.3 A number arrangement machine, when give an input line of numbers, rearranges them following a particular rule in each step. The following is an illustration of input and rearrangement.

Input: 4324 6104 2384 3462

Step 1: 13 11 17 15

Step 2: 4 2 8 6

Step 3: 2 4 6 8

Step 3 is the last step.

Using the above mentioned logic, ascertain the different steps for the following input.

Input: 6824 4930 7842 6767

What is the third number from the left end in step 3?

- Ans**
- 1. 9
 - 2. 5
 - 3. 8
 - 4. 7

Question Type : **MCQ**

Question ID : **489564384**

Option 1 ID : **4895641510**

Option 2 ID : **4895641511**

Option 3 ID : **4895641509**

Option 4 ID : **4895641512**

Status : **Not Answered**

Chosen Option : --

Q.4 A series is given with one term missing. Select the correct alternative from the given ones that will complete the series.

VT7, WU9, XV11, YW13, ?

- Ans**
- 1. ZX17
 - 2. XZ17
 - 3. YX15
 - 4. ZX15

Question Type : **MCQ**

Question ID : **489564371**

Option 1 ID : **4895641458**

Option 2 ID : **4895641460**

Option 3 ID : **4895641457**

Option 4 ID : **4895641459**

Status : **Answered**

Chosen Option : **4**

Q.5 From the given alternatives, select the word which CAN be formed using the letters of the given word.

CALENDARS

- Ans
- 1. DARK
 - 2. RAILS
 - 3. ROAD
 - 4. LEND

Question Type : MCQ

Question ID : 489564375

Option 1 ID : 4895641475

Option 2 ID : 4895641476

Option 3 ID : 4895641473

Option 4 ID : 4895641474

Status : Answered

Chosen Option : 4

Q.6 A series is given with one term missing. Select the correct alternative from the given ones that will complete the series.

KHN240, RML272, YRJ306, FWH342, ?

- Ans
- 1. MAF380
 - 2. MBF380
 - 3. NBF361
 - 4. MBF361

Question Type : MCQ

Question ID : 489564373

Option 1 ID : 4895641467

Option 2 ID : 4895641465

Option 3 ID : 4895641468

Option 4 ID : 4895641466

Status : Answered

Chosen Option : 2

Q.7 After interchanging which two signs, the value of the given equation will be '11'?

$$42 - 6 + 14 \div 5 \times 2$$

- Ans
- 1. \div and $-$
 - 2. $-$ and \times
 - 3. $+$ and \times
 - 4. \div and \times

Question Type : MCQ

Question ID : 489564403

Option 1 ID : 4895641586

Option 2 ID : 4895641587

Option 3 ID : 4895641588

Option 4 ID : 4895641585

Status : Answered

Chosen Option : 1

Q.8 In a certain code language, 'ANT' is written as 'ZMS' and 'MAN' is written as 'LZM'. What is the code for 'BAG' in that code language?

- Ans**
- 1. CZH
 - 2. AZH
 - 3. AYH
 - 4. AZF

Question Type : **MCQ**

Question ID : **489564380**

Option 1 ID : **4895641495**

Option 2 ID : **4895641493**

Option 3 ID : **4895641494**

Option 4 ID : **4895641496**

Status : **Answered**

Chosen Option : **1**

Q.9 In a row of 46 students, Sanjay is 15th from the left end and Vinay is 18th from the right end. If Suman is exactly between Sanjay and Vinay, then what will be the position of Suman from the right end?

- Ans**
- 1. 21st
 - 2. 27th
 - 3. 25th
 - 4. 23rd

Question Type : **MCQ**

Question ID : **489564362**

Option 1 ID : **4895641421**

Option 2 ID : **4895641424**

Option 3 ID : **4895641423**

Option 4 ID : **4895641422**

Status : **Answered**

Chosen Option : **3**

Q.10 After arranging the given words according to dictionary order, which word will come at 'fourth' position?

1. Abecedarian
2. Abecedarium
3. Abecedary
4. Abecedamy
5. Abecedariam

- Ans**
- 1. Abecedariam
 - 2. Abecedarian
 - 3. Abecedarium
 - 4. Abecedary

Question Type : **MCQ**

Question ID : **489564376**

Option 1 ID : **4895641480**

Option 2 ID : **4895641478**

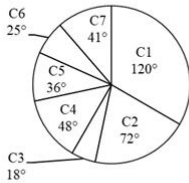
Option 3 ID : **4895641479**

Option 4 ID : **4895641477**

Status : **Not Answered**

Chosen Option : --

Q.11 The pie chart given below shows the number of mobile phones sold by seven companies in a year. The total number of mobile phones sold by these seven companies are 7200. Number of mobile phones sold by a particular company is shown in terms of degree with respect to the total number of mobile phones sold by all these seven companies.



What is the average number of mobile phones sold by C1, C3, C4 and C6?

- Ans**
- 1. 925
 - 2. 1055
 - 3. 1045
 - 4. 985

Question Type : **MCQ**

Question ID : **489564404**

Option 1 ID : **4895641591**

Option 2 ID : **4895641590**

Option 3 ID : **4895641589**

Option 4 ID : **4895641592**

Status : **Answered**

Chosen Option : **2**

Q.12 In the following question, the numbers 7, 2, 1, 8, 4 and 3 are used with the following meaning as illustrated below:

'P 7 Q' means 'P is not greater than Q'.

'P 2 Q' means 'P is not smaller than Q'.

'P 1 Q' means 'P is neither smaller than nor equal to Q'.

'P 8 Q' means 'P is neither greater than nor equal to Q'.

'P 4 Q' means 'P is neither greater than nor smaller than Q'.

'P 3 Q' means 'P is not equal to Q'.

Now in the question assuming the given statements to be true, find which of the conclusions given below them is definitely true and give your answer.

Statements:

K 7 N, R 8 M, H 1 B, B 1 A, K 2 B, R 3 K

Conclusions:

I. A 8 N

II. M 1 K

III. H 1 A

- Ans**
- 1. both conclusions II and III are true
 - 2. only conclusion II is true
 - 3. all conclusions are true
 - 4. both conclusions I and III are true

Question Type : MCQ

Question ID : 489564367

Option 1 ID : 4895641441

Option 2 ID : 4895641443

Option 3 ID : 4895641444

Option 4 ID : 4895641442

Status : Answered

Chosen Option : 3

Q.13 Five persons A, B, C, D and E sit in a row facing towards the south (not necessarily in the same order). Two persons sit between B and C. Two persons sit between A and D. B sits to the immediate left of D. Who sits in the middle of the row?

- Ans**
- 1. C
 - 2. E
 - 3. D
 - 4. A

Question Type : MCQ

Question ID : 489564357

Option 1 ID : 4895641402

Option 2 ID : 4895641404

Option 3 ID : 4895641403

Option 4 ID : 4895641401

Status : Answered

Chosen Option : 2

Q.14 Based on the string of letter, number and symbol given below, answer the following question.

@RK7643#28%4AJ6875#A@R49#@64A9B35D%+--

How many such letters are there which are not immediately preceded by a symbol but immediately followed by a consonant?

- Ans**
- 1. Zero
 - 2. Two
 - 3. One
 - 4. More than two

Question Type : MCQ

Question ID : 489564379

Option 1 ID : 4895641492

Option 2 ID : 4895641489

Option 3 ID : 4895641490

Option 4 ID : 4895641491

Status : Answered

Chosen Option : 3

Q.15 In the following question, select the figure which can be placed at the sign of question mark (?) from the given alternatives.



- Ans**
- 1.
 - 2.
 - 3.
 - 4.

Question Type : MCQ

Question ID : 489564392

Option 1 ID : 4895641543

Option 2 ID : 4895641541

Option 3 ID : 4895641544

Option 4 ID : 4895641542

Status : Answered

Chosen Option : 4

Q.16 दिलेल्या मालिकेमध्ये एक चुकीचे पद दिले आहे. दिलेल्या पर्यायांमधून ते चुकीचे पद निवडा.

26, 25, 23, 20, 17, 11

- Ans
- 1. 23
 - 2. 11
 - 3. 25
 - 4. 17

Question Type : MCQ
Question ID : 489564398
Option 1 ID : 4895641567
Option 2 ID : 4895641565
Option 3 ID : 4895641568
Option 4 ID : 4895641566
Status : Answered
Chosen Option : 4

Q.17 In a queue of students, Vijay is 24th from the left end and Ajay is 28th from the right end. If they interchange their position, then Ajay would be 34th from the right end. How many students are there in the queue?

- Ans
- 1. 59
 - 2. 58
 - 3. 56
 - 4. 57

Question Type : MCQ
Question ID : 489564361
Option 1 ID : 4895641420
Option 2 ID : 4895641419
Option 3 ID : 4895641417
Option 4 ID : 4895641418
Status : Answered
Chosen Option : 4

Q.18 Ravi starts walking from his house towards the north and walks 40 metre. He turns to the right and walks 30 metre. He turns to the right and walks 70 metre. He turns to the left at an angle of 135 degree and walks $30\sqrt{2}$ metre. How far is he now from the starting point?

- Ans
- 1. 70 metre
 - 2. $60\sqrt{2}$ metre
 - 3. $70\sqrt{2}$ metre
 - 4. 60 metre

Question Type : MCQ
Question ID : 489564387
Option 1 ID : 4895641523
Option 2 ID : 4895641522
Option 3 ID : 4895641521
Option 4 ID : 4895641524
Status : Answered
Chosen Option : 3

Q.19 प्रश्नचिन्हा (?) च्या जागी अंदाजे कोणते मूल्य आले पाहिजे?

$$85.147 + 39.948 \times 3.1 + ? = 902.2$$

- Ans
- 1. 755
 - 2. 719
 - 3. 615
 - 4. 697

Question Type : MCQ
Question ID : 489564400
Option 1 ID : 4895641576
Option 2 ID : 4895641575
Option 3 ID : 4895641573
Option 4 ID : 4895641574
Status : Answered
Chosen Option : 4

Q.20 दिलेल्या मालिकेमध्ये एक चुकीचे पद दिले आहे. दिलेल्या पर्यायांमधून ते चुकीचे पद निवडा.

4, 12, 72, 548, 7776

- Ans
- 1. 7776
 - 2. 12
 - 3. 548
 - 4. 72

Question Type : MCQ
Question ID : 489564399
Option 1 ID : 4895641569
Option 2 ID : 4895641572
Option 3 ID : 4895641570
Option 4 ID : 4895641571
Status : Answered
Chosen Option : 3

Q.21 In a certain code language, 'REACH' is written as '35479' and 'RISE' is written as '3265'. What is the code for 'SEARCH' in that code language?

- Ans**
- ✓ 1. 654379
 - ✗ 2. 254379
 - ✗ 3. 564379
 - ✗ 4. 654397

Question Type : MCQ

Question ID : 489564382

Option 1 ID : 4895641504

Option 2 ID : 4895641503

Option 3 ID : 4895641502

Option 4 ID : 4895641501

Status : Answered

Chosen Option : 1

Q.22 The problem has a question and two statements (I) and (II). (Decide whether the data given in the statements are sufficient to answer the question and give answer)

Five persons A, B, C, D and E have different heights. Who is the tallest?

I. B is taller than D and E, but shorter than A.

II. A is shorter than only one person.

Ans ✗ 1.

If the question can be answered by using either of the statement (I) or (II) alone.

✗ 2.

If the question cannot be answered even by using both the statements together.

✓ 3.

If the question can be answered by using both the statements together but not by either statement alone.

✗ 4.

If the question can be answered by using one of the statements alone but cannot be answered by using the other statement alone.

Question Type : MCQ

Question ID : 489564391

Option 1 ID : 4895641538

Option 2 ID : 4895641540

Option 3 ID : 4895641539

Option 4 ID : 4895641537

Status : Answered

Chosen Option : 3

Q.23 A team of 5 players is to be formed from 8 players A, B, C, D, E, F, G and H. B, C and D should be in the same team. E and F should not be in the same team. If H is in the team, then G and A should be in the team. Which of the following players can be selected?

- Ans**
- 1. BEHGA
 - 2. BCDEF
 - 3. BCDGA
 - 4. HAGCB

Question Type : **MCQ**

Question ID : **489564378**

Option 1 ID : **4895641486**

Option 2 ID : **4895641488**

Option 3 ID : **4895641485**

Option 4 ID : **4895641487**

Status : **Not Answered**

Chosen Option : --

Q.24 Five persons A, B, C, D and E live on five different floors of a building (not necessarily in the same order). The lowest floor is numbered 1, the floor above it is numbered 2 and so on. No two person live on the same floor. A lives on even numbered floor. Two persons live between A and D. C lives just above E. B does not live on the lowest floor. On which floor does B live?

- Ans**
- 1. 4th
 - 2. 3rd
 - 3. 5th
 - 4. 2nd

Question Type : **MCQ**

Question ID : **489564360**

Option 1 ID : **4895641415**

Option 2 ID : **4895641414**

Option 3 ID : **4895641416**

Option 4 ID : **4895641413**

Status : **Answered**

Chosen Option : **3**

Q.25 In this question, relationships between different elements are shown in the statements. Assuming the given statements to be true, find which of the conclusions given below them is definitely true and give your answer.

Statements:

$N = M, R \leq K, H \geq N, R > N, A \neq M, E \leq N$

Conclusions:

I. $K > A$

II. $N > A$

III. $N < A$

- Ans**
- 1. all conclusions are true
 - 2. only conclusion II is true
 - 3. either conclusion II or conclusion III is true
 - 4. neither conclusion is true

Question Type : MCQ

Question ID : 489564365

Option 1 ID : 4895641433

Option 2 ID : 4895641436

Option 3 ID : 4895641434

Option 4 ID : 4895641435

Status : Answered

Chosen Option : 4

Q.26 What is the angle between minute hand and hour hand at 5:10 pm?

- Ans**
- 1. 85 degrees
 - 2. 80 degrees
 - 3. 105 degrees
 - 4. 95 degrees

Question Type : MCQ

Question ID : 489564377

Option 1 ID : 4895641481

Option 2 ID : 4895641483

Option 3 ID : 4895641484

Option 4 ID : 4895641482

Status : Answered

Chosen Option : 2

Q.27 Six person A, B, C, D, E and F have different heights. F is second shortest person. A is shorter than B, but taller than D. C is shorter than E, but taller than B. How many persons are taller than B?

- Ans**
- 1. 3
 - 2. 4
 - 3. 1
 - 4. 2

Question Type : **MCQ**

Question ID : **489564368**

Option 1 ID : **4895641447**

Option 2 ID : **4895641448**

Option 3 ID : **4895641445**

Option 4 ID : **4895641446**

Status : **Answered**

Chosen Option : **4**

Q.28 The table given below shows the GDP of two countries in six different years.

Years	Country	
	L	M
Y1	124	132
Y2	228	220
Y3	164	188
Y4	132	225
Y5	155	140
Y6	195	125

What is the difference between the total GDP of countries L and M in all the six years?

- Ans**
- 1. 37
 - 2. 22
 - 3. 32
 - 4. 48

Question Type : **MCQ**

Question ID : **489564405**

Option 1 ID : **4895641595**

Option 2 ID : **4895641594**

Option 3 ID : **4895641596**

Option 4 ID : **4895641593**

Status : **Answered**

Chosen Option : **3**

Q.29 Six children A, B, C, D, E and F have different heights. F is taller than C. B is taller than D who is taller than A. C is shorter than B. E is taller than F but shorter than A. The height of second tallest and second shortest children is 125 cm and 80 cm respectively. What would be the sum of heights of A and E?

- Ans**
- 1. 150 cm
 - 2. 175 cm
 - 3. 120 cm
 - 4. 130 cm

Question Type : **MCQ**

Question ID : **489564370**

Option 1 ID : **4895641455**

Option 2 ID : **4895641456**

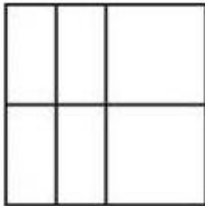
Option 3 ID : **4895641453**

Option 4 ID : **4895641454**

Status : **Answered**

Chosen Option : **2**

Q.30 How many quadrilaterals are there in the given figure?



- Ans**
- 1. 18
 - 2. 20
 - 3. 17
 - 4. 19

Question Type : **MCQ**

Question ID : **489564397**

Option 1 ID : **4895641562**

Option 2 ID : **4895641564**

Option 3 ID : **4895641561**

Option 4 ID : **4895641563**

Status : **Answered**

Chosen Option : **1**

Q.31 In a certain code language, 'NEW' is written as '6' and 'SUN' is written as '9'. What is the code for 'RUN' in that code language?

- Ans**
- 1. 8
 - 2. 12
 - 3. 6
 - 4. 10

Question Type : **MCQ**

Question ID : **489564383**

Option 1 ID : **4895641505**

Option 2 ID : **4895641506**

Option 3 ID : **4895641507**

Option 4 ID : **4895641508**

Status : **Answered**

Chosen Option : **3**

Q.32 Seven Books B1, B2, B3, B4, B5, B6 and B7 were read by Rajesh on seven different days of a week starting from Sunday to Saturday (not necessarily in the same order). B4 was read on Tuesday. One Book was read between B1 and B4. Two books were read between B2 and B4. B6 was read on Thursday. B5 was read before B3 but after B7.

Which of the following statement is correct?

I. B7 was read on Wednesday.

II. Two books were read between B5 and B6.

- Ans**
- 1. Only I
 - 2. Neither I nor II
 - 3. Only II
 - 4. Both I and II

Question Type : **MCQ**

Question ID : **489564363**

Option 1 ID : **4895641425**

Option 2 ID : **4895641428**

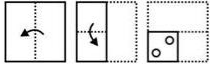
Option 3 ID : **4895641426**

Option 4 ID : **4895641427**

Status : **Answered**


Chosen Option : **2**

Q.33 A piece of paper is folded and punched as shown below in the question figures. From the given answer figures, indicate how it will appear when opened?

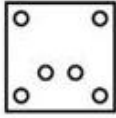


Ans

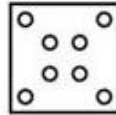
✗ 1.




✗ 2.



✓ 3.



✗ 4.



Question Type : MCQ

Question ID : 489564394

Option 1 ID : 4895641552

Option 2 ID : 4895641550


Option 3 ID : 4895641551

Option 4 ID : 4895641549

Status : Answered

Chosen Option : 2

Q.34 दिलेल्या आकृतीमध्ये किती चौकोन आहेत?



- Ans
- 1. 6
 - 2. 4
 - 3. 7
 - 4. 5

Question Type : MCQ

Question ID : 489564396

Option 1 ID : 4895641559

Option 2 ID : 4895641557

Option 3 ID : 4895641560

Option 4 ID : 4895641558

Status : Answered

Chosen Option : 1

Q.35 Study the numbers given below carefully and answer the following question.

583 354 837 834 642

If 2 is subtracted from the first digit and 1 is added to second digit of each number, then which of the following number will be the largest number?

- Ans
- 1. 354
 - 2. 642
 - 3. 834
 - 4. 837

Question Type : MCQ

Question ID : 489564401

Option 1 ID : 4895641579

Option 2 ID : 4895641580

Option 3 ID : 4895641577

Option 4 ID : 4895641578

Status : Answered

Chosen Option : 4

Q.36 If '8 A 4 C 2' = '4' and '12 A 3 C 4' = '16', then 20 A 5 C 3 = ?

- Ans
- 1. 12
 - 2. 4
 - 3. 8
 - 4. 16

Question Type : MCQ

Question ID : 489564402

Option 1 ID : 4895641583

Option 2 ID : 4895641584

Option 3 ID : 4895641581

Option 4 ID : 4895641582

Status : Answered

Chosen Option : 1

Q.37 A series is given with one term missing. Select the correct alternative from the given ones that will complete the series.

BTC25, MKJ34, XBQ43, ISX52, ?

- Ans
- 1. SLE27
 - 2. TLE37
 - 3. TLE27
 - 4. TJE35

Question Type : MCQ

Question ID : 489564374

Option 1 ID : 4895641469

Option 2 ID : 4895641470

Option 3 ID : 4895641472

Option 4 ID : 4895641471

Status : Answered

Chosen Option : 4

Q.38 Pointing to a female, Arjun said, "she is the sister of my father". How is that female related to Arjun?

- Ans
- 1. Mother
 - 2. Aunt
 - 3. Sister
 - 4. Neice

Question Type : MCQ

Question ID : 489564389

Option 1 ID : 4895641531

Option 2 ID : 4895641532

Option 3 ID : 4895641529

Option 4 ID : 4895641530

Status : Answered

Chosen Option : 2

Q.39 In a certain code language, 'POTATO' is written as 'OPATOT' and 'ENDIVE' is written as 'NEIDEV'. What is the code for 'GARLIC' in that code language?

- Ans**
- 1. AGLRIC
 - 2. AGRLCI
 - 3. AGLRCI
 - 4. RAGCIL

Question Type : **MCQ**

Question ID : **489564381**

Option 1 ID : **4895641498**

Option 2 ID : **4895641500**

Option 3 ID : **4895641499**

Option 4 ID : **4895641497**

Status : **Answered**

Chosen Option : **3**

Q.40 Five boys B1, B2, B3, B4 and B5 sit around a circular table facing towards the centre (not necessarily in the same order). B3 is not a neighbour of B2. B2 sits second to the right of B4. B1 sits third to the right of B5. Who sits to the immediate right of B1?

- Ans**
- 1. B5
 - 2. B3
 - 3. B4
 - 4. B2

Question Type : **MCQ**

Question ID : **489564358**

Option 1 ID : **4895641408**

Option 2 ID : **4895641406**

Option 3 ID : **4895641407**

Option 4 ID : **4895641405**

Status : **Answered**

Chosen Option : **3**

Q.41 In the following question, select the figure which can be placed at the sign of question mark (?) from the given alternatives.



Ans

✗ 1.



✗ 2.



✗ 3.



✓ 4.



Question Type : **MCQ**

Question ID : **489564393**

Option 1 ID : **4895641548**

Option 2 ID : **4895641547**

Option 3 ID : **4895641545**

Option 4 ID : **4895641546**

Status : **Answered**

Chosen Option : **2**

Q.42 संख्या मांडणीच्या एका यंत्रामध्ये, जेव्हा संख्यांची एक इनपुट लाइन दिली जाते, तेव्हा प्रत्येक चरणात विशिष्ट नियमानुसार त्यांची पुनर्रचना केली जाते. खाली दिलेले इनपुट आणि पुनर्रचनेचे एक उदाहरण आहे.

इनपुट: 23 39 42 17

चरण 1: 47 79 85 35

चरण 2: 95 159 171 71

चरण 3: 191 319 343 143

चरण 3 हे शेवटचे चरण आहे.

वर नमूद केलेले तर्क वापरून, खालील इनपुटसाठी वेगवेगळे चरण पडताळून पहा.

इनपुट: 17 16 24 32

चरण 3 मधील सर्व संख्यांची बेरीज किती आहे?

- Ans
- 1. 640
 - 2. 680
 - 3. 740
 - 4. 720

Question Type : MCQ

Question ID : 489564385

Option 1 ID : 4895641514

Option 2 ID : 4895641516

Option 3 ID : 4895641515

Option 4 ID : 4895641513

Status : Not Answered

Chosen Option : --

Q.43 संख्या मांडणीच्या एका यंत्रामध्ये, जेव्हा संख्यांची एक इनपुट लाइन दिली जाते, तेव्हा प्रत्येक चरणात विशिष्ट नियमानुसार त्यांची पुनर्रचना केली जाते. खाली दिलेले इनपुट आणि पुनर्रचनेचे एक उदाहरण आहे.

इनपुट: 38926 43244 63289 24382

चरण 1: 38920 43240 63280 24380

चरण 2: 38917 43236 63274 24378

चरण 3: 38910 43230 63270 24370

चरण 4: 38907 43226 63264 24368

चरण 4 हे शेवटचे चरण आहे.

वर नमूद केलेले तर्क वापरून, खालील इनपुटसाठी वेगवेगळे चरण पडताळून घ्या.

इनपुट: 41062 28734 38468 53217

चरण 2 मधील उजव्या टोकापासून तिसरी संख्या आणि चरण 4 मधील डाव्या टोकापासून पहिली संख्या यांची बेरीज किती आहे?

Ans 1. 69974

2. 67994

3. 69774

4. 69773

Question Type : MCQ

Question ID : 489564386

Option 1 ID : 4895641520

Option 2 ID : 4895641519

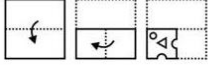
Option 3 ID : 4895641518

Option 4 ID : 4895641517

Status : Not Answered

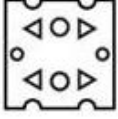
Chosen Option : --

Q.44 प्रश्न आकृतीमध्ये दाखविल्याप्रमाणे एक कागदाचा तुकडा दुमडलेला आणि छिद्रित (punched) केला आहे. उघडल्यावर तो कसा दिसेल, ते दिलेल्या उत्तर आकृत्यांमधून दर्शवा?

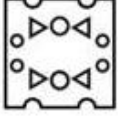


Ans

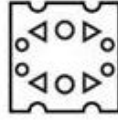
✗ 1.




✗ 2.



✓ 3.



✗ 4.



Question Type : MCQ

Question ID : 489564395

Option 1 ID : 4895641555

Option 2 ID : 4895641554

Option 3 ID : 4895641553

Option 4 ID : 4895641556

Status : Answered

Chosen Option : 2

Q.45 In the following question, the symbols $<$, $>$, $=$, \neq , \geq and \leq are used with the following meaning as illustrated below:

' $P < Q$ ' means 'P is not greater than Q'.

' $P > Q$ ' means 'P is not smaller than Q'.

' $P = Q$ ' means 'P is not equal to Q'.

' $P \neq Q$ ' means 'P is neither greater than nor smaller than Q'.

' $P \geq Q$ ' means 'P is neither greater than nor equal to Q'.

' $P \leq Q$ ' means 'P is neither smaller than nor equal to Q'.

Now in the question assuming the given statements to be true, find which of the conclusions given below them is definitely true and give your answer.

Statements:

$G > P$, $R \neq V$, $K > L$, $S < K$, $K \neq R = P$

Conclusions:

I. $V > S$

II. $R \geq L$

III. $V < S$

Ans 1. only conclusion III is true

2.

either conclusion I or conclusion III and conclusion II is true

3. only conclusion I is true

4. all conclusions are true

Question Type : **MCQ**

Question ID : **489564366**

Option 1 ID : **4895641440**

Option 2 ID : **4895641437**

Option 3 ID : **4895641439**

Option 4 ID : **4895641438**

Status : **Answered**

Chosen Option : **3**

Q.46 One evening before sunset, A and B were talking to each other face to face. At that time, A's shadow is to the right of B. In which direction is B facing?

Ans 1. West

2. North

3. East

4. South

Question Type : **MCQ**

Question ID : **489564388**

Option 1 ID : **4895641528**

Option 2 ID : **4895641525**

Option 3 ID : **4895641527**

Option 4 ID : **4895641526**

Status : **Answered**

Chosen Option : **2**

Q.47 Six women W1, W2, W3, W4, W5 and W6 sit in a row facing towards the north (not necessarily in the same order). One woman sits between W3 and W6. Two women sit between W1 and W4. W5 is not a neighbour of W1 or W6. W4 sits to the immediate right of W3. Who sits third to the left of W2?

- Ans**
- 1. W4
 - 2. W1
 - 3. W5
 - 4. W3

Question Type : **MCQ**
Question ID : **489564359**
Option 1 ID : **4895641411**
Option 2 ID : **4895641409**
Option 3 ID : **4895641412**
Option 4 ID : **4895641410**
Status : **Answered**
Chosen Option : **3**

Q.48 A series is given with one term missing. Select the correct alternative from the given ones that will complete the series.

RTMK, UWQF, XZUA, ACYV, ?

- Ans**
- 1. DFCQ
 - 2. EFCQ
 - 3. DFCR
 - 4. DFDQ

Question Type : **MCQ**
Question ID : **489564372**
Option 1 ID : **4895641464**
Option 2 ID : **4895641462**
Option 3 ID : **4895641461**
Option 4 ID : **4895641463**
Status : **Answered**
Chosen Option : **3**

Q.49 Amit is the brother of Rekha, Rekha is the mother of Mohini, Mohini is the daughter of Raghav, Pooja is the sister of Raghav and Raman is the father of Pooja. How is Raman related to Rekha?

- Ans**
- 1. Son
 - 2. Father
 - 3. Father in law
 - 4. Uncle

Question Type : **MCQ**
Question ID : **489564390**
Option 1 ID : **4895641533**
Option 2 ID : **4895641534**
Option 3 ID : **4895641536**
Option 4 ID : **4895641535**
Status : **Answered**
Chosen Option : **3**

Q.50 In this question, relationships between different elements are shown in the statements. Assuming the given statements to be true, find which of the conclusions given below them is definitely true and give your answer.

Statements:

$K \geq M, L \geq K, H = N, R \geq H, A < R, M \geq N$

Conclusions:

I. $K > H$

II. $H = K$

- Ans**
- 1. neither conclusion I nor conclusion II is true
 - 2. either conclusion I or conclusion II is true
 - 3. only conclusion II is true
 - 4. only conclusion I is true

Question Type : **MCQ**

Question ID : **489564364**

Option 1 ID : **4895641432**

Option 2 ID : **4895641431**

Option 3 ID : **4895641430**

Option 4 ID : **4895641429**

Status : **Answered**

Chosen Option : **2**



Maharashtra Housing and Area Development Authority-2021
महाराष्ट्र गृहनिर्माण व क्षेत्रविकास प्राधिकरण-२०२१

Participant ID	
Participant Name	
Test Center Name	
Test Date	07/02/2022
Test Time	4:00 PM - 6:00 PM
Subject	Cluster 6

Section : Marathi Language

Q.1 'सवंगडी' चा समानार्थी शब्द शोधा.

- Ans 1. मित्र
 2. स्वस्त
 3. शिक्षक
 4. उदार

Question Type : MCQ

Question ID : 910281636

Option 1 ID : 9102812506

Option 2 ID : 9102812505

Option 3 ID : 9102812507

Option 4 ID : 9102812508

Status : Answered

Chosen Option : 1

Q.2 'भरती' शब्दाचा विरुद्धार्थी शब्द शोधा.

- Ans 1. ओहोटी
 2. अपयश
 3. आखूड
 4. कावड

Question Type : MCQ

Question ID : 910281643

Option 1 ID : 9102812534

Option 2 ID : 9102812536

Option 3 ID : 9102812535

Option 4 ID : 9102812533

Status : Answered

Chosen Option : 1

Q.3 'तो काम करतो'. या वाक्याचे स्त्रीलिंगी वाक्य कोणते आहे?

- Ans
- ✓ 1. ती काम करते.
 - ✗ 2. हा काम करतो.
 - ✗ 3. ते काम करतात.
 - ✗ 4. आम्ही काम करतो.

Question Type : MCQ
Question ID : 910281628
Option 1 ID : 9102812474
Option 2 ID : 9102812476
Option 3 ID : 9102812473
Option 4 ID : 9102812475
Status : Answered
Chosen Option : 1

Q.4 'हा नदीचा फार मोठा प्रवाह आहे'. वाक्यार्थाला बाधा न आणता या वाक्याचे उद्गारार्थी वाक्य शोधा.

- Ans
- ✗ 1. छे छे! नदीचा हा प्रवाह काही मोठा नाही.
 - ✗ 2. नदीचा हा प्रवाह लहान नाही.
 - ✓ 3. अबब! केवढा हा नदीचा प्रवाह!
 - ✗ 4. नदीचा हा प्रवाह मोठा आहे का?

Question Type : MCQ
Question ID : 910281620
Option 1 ID : 9102812442
Option 2 ID : 9102812444
Option 3 ID : 9102812441
Option 4 ID : 9102812443
Status : Answered
Chosen Option : 3

Q.5 'विलासला बक्षीस मिळेल'. या वाक्याचे साध्या भूतकाळातील रूप ओळखा.

- Ans
- ✗ 1. विलासला बक्षीस मिळत असेल.
 - ✗ 2. विलासला बक्षीस मिळते.
 - ✓ 3. विलासला बक्षीस मिळाले.
 - ✗ 4. विलासला बक्षीस मिळत असते.

Question Type : MCQ
Question ID : 910281615
Option 1 ID : 9102812423
Option 2 ID : 9102812422
Option 3 ID : 9102812421
Option 4 ID : 9102812424
Status : Answered
Chosen Option : 3

Q.6 ज्ञानेश्वरी ही संस्कृत भाषेतील कोणत्या ग्रंथावर आधारित आहे?

- Ans 1. भगवद्गीता
 2. रघुवंश
 3. वाल्मिकी रामायण
 4. शाकुंतल

Question Type : MCQ
Question ID : 910281652
Option 1 ID : 9102812569
Option 2 ID : 9102812572
Option 3 ID : 9102812570
Option 4 ID : 9102812571
Status : Answered
Chosen Option : 1

Q.7 पुढीलपैकी महानुभाव संप्रदायाचा ग्रंथ ओळखा.

- Ans 1. तीर्थरूप महाराष्ट्र
 2. ऋतुचक्र
 3. लीळाचरित्र
 4. गंगाजळ

Question Type : MCQ
Question ID : 910281654
Option 1 ID : 9102812579
Option 2 ID : 9102812578
Option 3 ID : 9102812577
Option 4 ID : 9102812580
Status : Answered
Chosen Option : 3

Q.8 "ये" या क्रियापदाचे भूतकाळातील रूप ओळखा.

- Ans 1. झाले
 2. केले
 3. आले
 4. गेले

Question Type : MCQ
Question ID : 910281617
Option 1 ID : 9102812429
Option 2 ID : 9102812431
Option 3 ID : 9102812432
Option 4 ID : 9102812430
Status : Answered
Chosen Option : 3

Q.9 'सरोज दिल्लीत राहते.' या वाक्याचा प्रयोग सांगा.

- Ans
- 1. भावे प्रयोग
 - 2. समापन कर्मणी प्रयोग
 - 3. कर्मकर्तरी प्रयोग
 - 4. कर्तरी प्रयोग

Question Type : MCQ
Question ID : 910281649
Option 1 ID : 9102812559
Option 2 ID : 9102812557
Option 3 ID : 9102812560
Option 4 ID : 9102812558
Status : Answered
Chosen Option : 4

Q.10 खालीलपैकी कोणता शब्द 'अकल्पित' चा विरुद्धार्थी आहे?

- Ans
- 1. कल्पित
 - 2. यजमान
 - 3. आव
 - 4. कलाकार

Question Type : MCQ
Question ID : 910281642
Option 1 ID : 9102812532
Option 2 ID : 9102812530
Option 3 ID : 9102812529
Option 4 ID : 9102812531
Status : Answered
Chosen Option : 1

Q.11 शब्दांचा योग्य पदक्रम लावून लेखननियमानुसार अचूक वाक्य सांगा.

- Ans
- 1. जगात दुसरी नाही संपूर्ण आईइतकी कोणीही व्यक्ती प्रेमळ.
 - 2. दुसरी प्रेमळ आईइतकी कोणीही जगात संपूर्ण व्यक्ती नाही.
 - 3. संपूर्ण दुसरी प्रेमळ आईइतकी व्यक्ती जगात कोणीही नाही.
 - 4. आईइतकी प्रेमळ व्यक्ती संपूर्ण जगात दुसरी कोणीही नाही.

Question Type : MCQ
Question ID : 910281645
Option 1 ID : 9102812541
Option 2 ID : 9102812543
Option 3 ID : 9102812544
Option 4 ID : 9102812542
Status : Answered
Chosen Option : 4

Q.12 'गायिका' या शब्दाचे पुल्लिंगी रूप सांगा.

- Ans
- 1. गायकी
 - 2. गायन
 - 3. गाय
 - 4. गायक

Question Type : MCQ
Question ID : 910281629
Option 1 ID : 9102812477
Option 2 ID : 9102812480
Option 3 ID : 9102812478
Option 4 ID : 9102812479
Status : Answered
Chosen Option : 4

Q.13 पुढीलपैकी कोणती जोडी विरुद्धार्थी आहे?

- Ans
- 1. हरित - हिरवेगार
 - 2. मेहनत - कष्ट
 - 3. विश्वास - अविश्वास
 - 4. धन - संपत्ती

Question Type : MCQ
Question ID : 910281641
Option 1 ID : 9102812526
Option 2 ID : 9102812527
Option 3 ID : 9102812525
Option 4 ID : 9102812528
Status : Answered
Chosen Option : 3

Q.14 'श्रीमती' या शब्दाचे पुल्लिंगी रूप कोणते?

- Ans
- 1. श्रीमान
 - 2. श्रीरंग
 - 3. श्रीमंती
 - 4. श्रीराम

Question Type : MCQ
Question ID : 910281627
Option 1 ID : 9102812470
Option 2 ID : 9102812472
Option 3 ID : 9102812469
Option 4 ID : 9102812471
Status : Answered
Chosen Option : 1

Q.15 'पापपुण्य' या द्वंद्व समासाचा अचूक विग्रह शोधा.

- Ans
- 1. पापाचे पुण्य
 - 2. पापपुण्य इत्यादी
 - 3. पाप अथवा पुण्य
 - 4. पापयुक्त पुण्य

Question Type : MCQ
Question ID : 910281626
Option 1 ID : 9102812465
Option 2 ID : 9102812467
Option 3 ID : 9102812468
Option 4 ID : 9102812466
Status : Answered
Chosen Option : 3

Q.16 क्रियापदातील प्रत्ययरहित मूळ शब्दाला काय म्हणतात?

- Ans
- 1. नाम
 - 2. विभक्ती
 - 3. धातू
 - 4. कर्म

Question Type : MCQ
Question ID : 910281613
Option 1 ID : 9102812413
Option 2 ID : 9102812415
Option 3 ID : 9102812414
Option 4 ID : 9102812416
Status : Answered
Chosen Option : 3

Q.17 'हसता हसता माधवी खुर्चीवर आपटली'. या वाक्यातील कर्ता कोण आहे?

- Ans
- 1. आपटली
 - 2. माधवी
 - 3. हसता हसता
 - 4. खुर्ची

Question Type : MCQ
Question ID : 910281610
Option 1 ID : 9102812402
Option 2 ID : 9102812404
Option 3 ID : 9102812403
Option 4 ID : 9102812401
Status : Answered
Chosen Option : 2

Q.18 पुढीलपैकी व्याकरणदृष्ट्या अचूक वाक्य शोधा.

- Ans 1. अद्याप त्याच्या गावातील एकाही घरात वीज पोचली नाही.
 2. एकाही अद्याप त्याच्या गावातील घरात वीज पोचली नाही.
 3. त्याच्या गावात एकही अद्याप घरातील विज पोचली नाही.
 4. अद्याप घरातील एकही गावातील वीज त्याच्या पोचली नाही.

Question Type : MCQ

Question ID : 910281644

Option 1 ID : 9102812540

Option 2 ID : 9102812538

Option 3 ID : 9102812537

Option 4 ID : 9102812539

Status : Answered

Chosen Option : 1

Q.19 'चिरकाल' चा विरुद्धार्थी शब्द शोधा.

- Ans 1. प्रतिसाद
 2. अल्पकाळ
 3. थंडगार
 4. माघार

Question Type : MCQ

Question ID : 910281640

Option 1 ID : 9102812524

Option 2 ID : 9102812522

Option 3 ID : 9102812523

Option 4 ID : 9102812521

Status : Answered

Chosen Option : 2

Q.20 पुढे दिलेल्या लघु निबंध संग्रहांमधील वि. स. खांडेकर यांचा संग्रह कोणता ते ओळखा.

- Ans 1. कागदी होड्या
 2. मंझधार
 3. गुजगोष्टी
 4. फेरफटका

Question Type : MCQ

Question ID : 910281650

Option 1 ID : 9102812564

Option 2 ID : 9102812562

Option 3 ID : 9102812561

Option 4 ID : 9102812563

Status : Answered

Chosen Option : 2

Q.21 पुढील वाक्यात येणारे कंसातील शब्दाचे योग्य रूप ओळखा.

जो हे शिवधनुष्य (उचलणे) त्याला बाण लावेल, त्याला सीता माळ घालेल.

- Ans
- 1. उचलले
 - 2. उचलण्याची
 - 3. उचल
 - 4. उचलून

Question Type : MCQ
Question ID : 910281646
Option 1 ID : 9102812548
Option 2 ID : 9102812545
Option 3 ID : 9102812547
Option 4 ID : 9102812546
Status : Answered
Chosen Option : 4

Q.22 अचूक समानार्थी जोडी शोधा.

- Ans
- 1. मधुर - ज्ञान
 - 2. वीज - भूमी
 - 3. हृदय - अंतःकरण
 - 4. पर्वत - सरिता

Question Type : MCQ
Question ID : 910281639
Option 1 ID : 9102812520
Option 2 ID : 9102812519
Option 3 ID : 9102812517
Option 4 ID : 9102812518
Status : Answered
Chosen Option : 3

Q.23 'ऋणमुक्त' या समासाचा अचूक विग्रह शोधा.

- Ans
- 1. ऋणाचा मुक्त
 - 2. ऋणासाठी मुक्त
 - 3. ऋणातून मुक्त
 - 4. ऋणाला मुक्त

Question Type : MCQ
Question ID : 910281623
Option 1 ID : 9102812453
Option 2 ID : 9102812456
Option 3 ID : 9102812454
Option 4 ID : 9102812455
Status : Answered
Chosen Option : 3

Q.24 'आई मुलीला भरतकाम शिकवते'. या वाक्यातील क्रियापदाचा प्रकार सांगा.

- Ans 1. द्विकर्मक क्रियापद
 2. अकर्मक क्रियापद
 3. सकर्मक क्रियापद
 4. उभयविध क्रियापद

Question Type : MCQ

Question ID : 910281614

Option 1 ID : 9102812418

Option 2 ID : 9102812417

Option 3 ID : 9102812419

Option 4 ID : 9102812420

Status : Answered

Chosen Option : 1

Q.25 'त्याचा हा निबंध वाईट आहे!' वाक्यार्थाला बाधा न आणता या वाक्याचे नकारार्थी वाक्यरूपांतर करा.

- Ans 1. त्याचा हा निबंध चांगला आहे.
 2. त्याचा हा निबंध चांगला नाही.
 3. त्याचा हा निबंध उत्तम आहे.
 4. त्याचा हा निबंध वाईट नाही.

Question Type : MCQ

Question ID : 910281621

Option 1 ID : 9102812446

Option 2 ID : 9102812448

Option 3 ID : 9102812445

Option 4 ID : 9102812447

Status : Answered

Chosen Option : 2

Q.26 वारकरी संप्रदायातील कोणत्या संताचे वास्तव्य पैठण येथे होते?

- Ans 1. संत एकनाथ
 2. संत तुकाराम
 3. संत जनाबाई
 4. संत कान्होपात्रा

Question Type : MCQ

Question ID : 910281653

Option 1 ID : 9102812575

Option 2 ID : 9102812573

Option 3 ID : 9102812574

Option 4 ID : 9102812576

Status : Marked For Review

Chosen Option : 1

Q.27 'मीनाने सरबत संपवले आहे.' हे कोणत्या काळातील वाक्य आहे?

- Ans
- 1. अपूर्ण भूतकाळ
 - 2. पूर्ण भूतकाळ
 - 3. पूर्ण वर्तमानकाळ
 - 4. पूर्ण भविष्यकाळ

Question Type : MCQ

Question ID : 910281619

Option 1 ID : 9102812439

Option 2 ID : 9102812438

Option 3 ID : 9102812437

Option 4 ID : 9102812440

Status : Marked For Review

Chosen Option : 3

Q.28 ज्या समासातील दोन्ही पदे अर्थदृष्ट्या समान दर्जाची असतात त्यास कोणता समास असे म्हणतात?

- Ans
- 1. द्वंद्व समास
 - 2. बहुव्रीही समास
 - 3. अव्ययीभाव समास
 - 4. द्विगु समास

Question Type : MCQ

Question ID : 910281622

Option 1 ID : 9102812449

Option 2 ID : 9102812452

Option 3 ID : 9102812450

Option 4 ID : 9102812451

Status : Answered

Chosen Option : 1

Q.29 'सैनिकांनी लढाई जिंकली असेल' या वाक्याचा काळ ओळखा.

- Ans
- 1. अपूर्ण वर्तमानकाळ
 - 2. साधा भूतकाळ
 - 3. पूर्ण भविष्यकाळ
 - 4. साधा वर्तमानकाळ

Question Type : MCQ

Question ID : 910281618

Option 1 ID : 9102812433

Option 2 ID : 9102812434

Option 3 ID : 9102812435

Option 4 ID : 9102812436

Status : Answered

Chosen Option : 3

Q.30 'चक्रपाणी' हा समास ओळखा?

- Ans 1. विभक्ती तत्पुरुष समास
 2. द्वंद्व समास
 3. बहुव्रीही समास
 4. द्विगु समास

Question Type : MCQ

Question ID : 910281625

Option 1 ID : 9102812463

Option 2 ID : 9102812464

Option 3 ID : 9102812461

Option 4 ID : 9102812462

Status : Answered

Chosen Option : 3

Q.31 'मृग' चा समानार्थी शब्द सांगा.

- Ans 1. मयूर
 2. मृगय
 3. हरीण
 4. अरण्य

Question Type : MCQ

Question ID : 910281638

Option 1 ID : 9102812516

Option 2 ID : 9102812513

Option 3 ID : 9102812514

Option 4 ID : 9102812515

Status : Answered

Chosen Option : 3

Q.32 वचनविचारानुसार चुकीची जोडी कोणती आहे ते सांगा.

- Ans 1. भाषण - भाषणे
 2. पिशवी - पिशवे
 3. चूल - चुली
 4. पान - पाने

Question Type : MCQ

Question ID : 910281634

Option 1 ID : 9102812497

Option 2 ID : 9102812500

Option 3 ID : 9102812499

Option 4 ID : 9102812498

Status : Answered

Chosen Option : 2

Q.33 पुढीलपैकी कोणता शब्द अनेकवचनी आहे?

- Ans
- 1. गाडी
 - 2. भित
 - 3. दौली
 - 4. गीत

Question Type : MCQ

Question ID : 910281633

Option 1 ID : 9102812495

Option 2 ID : 9102812494

Option 3 ID : 9102812493

Option 4 ID : 9102812496

Status : Marked For Review

Chosen Option : 3

Q.34 'सगेसोयरे' हा कोणता समास आहे?

- Ans
- 1. बहुव्रीही समास
 - 2. इतरेतर द्वंद्व
 - 3. समाहार द्वंद्व
 - 4. कर्मधारय समास

Question Type : MCQ

Question ID : 910281624

Option 1 ID : 9102812457

Option 2 ID : 9102812458

Option 3 ID : 9102812459

Option 4 ID : 9102812460

Status : Answered

Chosen Option : 3

Q.35 'हरीने आज नवे पुस्तक आणले'. या वाक्यातील कर्म ओळखा.

- Ans
- 1. आज
 - 2. नवे
 - 3. पुस्तक
 - 4. हरी

Question Type : MCQ

Question ID : 910281611

Option 1 ID : 9102812408

Option 2 ID : 9102812407

Option 3 ID : 9102812405

Option 4 ID : 9102812406

Status : Answered

Chosen Option : 3

Q.36 'अरिष्ट' चा योग्य अर्थ शोधा.

- Ans 1. निष्कर्ष
 2. धष्टपुष्ट
 3. हर्ष
 4. संकट

Question Type : MCQ

Question ID : 910281635

Option 1 ID : 9102812503

Option 2 ID : 9102812504

Option 3 ID : 9102812502

Option 4 ID : 9102812501

Status : Marked For Review

Chosen Option : 4

Q.37 'माणसे' हे कोणत्या शब्दाचे अनेकवचन आहे?

- Ans 1. मांस
 2. मासा
 3. माणुसकी
 4. माणूस

Question Type : MCQ

Question ID : 910281632

Option 1 ID : 9102812489

Option 2 ID : 9102812490

Option 3 ID : 9102812492

Option 4 ID : 9102812491

Status : Answered

Chosen Option : 4

Q.38 पुढीलपैकी कोणता शब्द 'जीर्ण' चा समानार्थी शब्द नाही?

- Ans 1. जुनेपुराणे
 2. विरलेले
 3. फाटके
 4. ज़िरे

Question Type : MCQ

Question ID : 910281637

Option 1 ID : 9102812509

Option 2 ID : 9102812511

Option 3 ID : 9102812510

Option 4 ID : 9102812512

Status : Answered

Chosen Option : 4

Q.39 खालीलपैकी कोणते वाक्य लेखननियमानुसार अचूक आहे ते लिहा.

- Ans
- 1. आहे ती परिस्थिती स्वीकारशिवाय काही उपाय नव्हता.
 - 2. आहे ती परिस्थिती स्वीकारल्याशिवाय उपाय नव्हता.
 - 3. आहे ती परिस्थिती स्वीकारून काही उपाय नव्हता.
 - 4. आहे ती परिस्थिती स्वीकारण्याशिवाय काही उपाय नव्हता.

Question Type : MCQ
Question ID : 910281647
Option 1 ID : 9102812549
Option 2 ID : 9102812550
Option 3 ID : 9102812551
Option 4 ID : 9102812552
Status : Answered
Chosen Option : 4

Q.40 'प्राणिसंग्रहालयामध्ये लाल डोळ्यांचा धिप्पाड वाघ बघितला'. या वाक्यातील विशेषणे सांगा.

- Ans
- 1. वाघ, लाल
 - 2. लाल, धिप्पाड
 - 3. डोळे, बघितला
 - 4. प्राणिसंग्रहालय, बघितला

Question Type : MCQ
Question ID : 910281612
Option 1 ID : 9102812410
Option 2 ID : 9102812411
Option 3 ID : 9102812412
Option 4 ID : 9102812409
Status : Answered
Chosen Option : 2

Q.41 'केळी' शब्दाचे एकवचन लिहा.

- Ans
- 1. केळ्या
 - 2. कळी
 - 3. कळ्या
 - 4. केळे

Question Type : MCQ
Question ID : 910281631
Option 1 ID : 9102812487
Option 2 ID : 9102812488
Option 3 ID : 9102812486
Option 4 ID : 9102812485
Status : Answered
Chosen Option : 4

Q.42 'अपूर्वाई' या प्रवासवर्णनाचे लेखक सांगा.

- Ans
- 1. गंगाधर गाडगीळ
 - 2. पु. ल. देशपांडे
 - 3. अनंत काणेकर
 - 4. काकासाहेब कालेलकर

Question Type : MCQ

Question ID : 910281651

Option 1 ID : 9102812565

Option 2 ID : 9102812568

Option 3 ID : 9102812566

Option 4 ID : 9102812567

Status : Marked For Review

Chosen Option : 2

Q.43 'माझ्याच्याने टेकडी चढवते!' या वाक्याचा प्रयोग ओळखा.

- Ans
- 1. सकर्मक कर्तरी प्रयोग
 - 2. भावे प्रयोग
 - 3. शक्य कर्मणी प्रयोग
 - 4. भाव कर्तरी प्रयोग

Question Type : MCQ

Question ID : 910281648

Option 1 ID : 9102812556

Option 2 ID : 9102812555

Option 3 ID : 9102812553

Option 4 ID : 9102812554

Status : Answered

Chosen Option : 3

Q.44 'चंद्रकांत शाळेत जात असतो!' या वाक्याचा काळ सांगा.

- Ans
- 1. साधा भविष्यकाळ
 - 2. अपूर्ण वर्तमानकाळ
 - 3. रीति वर्तमानकाळ
 - 4. रीति भूतकाळ

Question Type : MCQ

Question ID : 910281616

Option 1 ID : 9102812428

Option 2 ID : 9102812427

Option 3 ID : 9102812426

Option 4 ID : 9102812425

Status : Marked For Review

Chosen Option : 3

Q.45 लिंगविचारानुसार खालीलपैकी चुकीची जोडी शोधा.

- Ans
- 1. वाघ - वाघीण
 - 2. गोप - गोपी
 - 3. दास - दासी
 - 4. काका - मामी

Question Type : MCQ

Question ID : 910281630

Option 1 ID : 9102812484

Option 2 ID : 9102812483

Option 3 ID : 9102812481

Option 4 ID : 9102812482

Status : Answered

Chosen Option : 4

Comprehension:

खालील उतारा काळजीपूर्वक वाचा आणि दिलेल्या प्रश्नांची उत्तरे द्या.

आश्विनाचा महिना होता. दिवसाचा चौथा प्रहर होता. एकाएकी आकाश मेघांनी भरून आलं होतं. सूर्य झाकोळला होता. दिशा अंधारून आक्रसल्या होत्या. शरदातला वळिवाचा पाऊस गडगडत, तडतडत पृथ्वीवर उतरला होता. पिकून पिवळी व्हायला आलेली समोरची भातशेतं अर्ध्या तासाच्या झोडपण्यात त्यानं आडवी घातली होती. रानातली गुरं शेपट्या उभारून घरांकडे येऊ लागली होती. मांडवावरचे दोडक्यापडवळांचे वेल खाली आले होते. अंगणाबाहेर सर्वत्र वाढलेल्या तेरड्याची अवस्था दयनीय झाली होती. जिकडून तिकडून पावसाचे फेसाळ ओहोळ उताराकडे धावत होते. कुळागराच्या बाजूनं केळी पोफळींना कापत पश्चिमवारा नाचत आला की,वेली शहारत होत्या. बाहेर जाणं अशक्य असल्यामुळे मी पडवीवर रिकामा बसलो होतो. कधी सरळ तर कधी तिरक्या अशा पर्जन्याच्या धारांचं नृत्य पाहत राहिलो होतो. पाहता पाहता माझी तंद्री लागली होती. थोड्याच अवधीत पाऊस ओसरला. आकाश निवळलं. मांडवावरच्या दोडकीच्या फुलांनी पावसाला नमविलेल्या माना वर उचलल्या. मी बाहेर पडून जरा शेतावर नजर टाकावी असा विचार करू लागलो.

SubQuestion No : 46

Q.46 या उताऱ्यात कोणत्या मराठी महिन्याचा उल्लेख आहे?

- Ans
- 1. आश्विन
 - 2. वैशाख
 - 3. चैत्र
 - 4. मार्गशीर्ष

Question Type : MCQ

Question ID : 910281656

Option 1 ID : 9102812583

Option 2 ID : 9102812582

Option 3 ID : 9102812581

Option 4 ID : 9102812584

Status : Answered

Chosen Option : 1

Comprehension:

खालील उतारा काळजीपूर्वक वाचा आणि दिलेल्या प्रश्नांची उत्तरे द्या.

आश्विनाचा महिना होता. दिवसाचा चौथा प्रहर होता. एकाएकी आकाश मेघांनी भरून आलं होतं. सूर्य झाकोळला होता. दिशा अंधारून आक्रसल्या होत्या. शरदातला वळिवाचा पाऊस गडगडत, तडतडत पृथ्वीवर उतरला होता. पिकून पिवळी व्हायला आलेली समोरची भातशेतं अर्ध्या तासाच्या झोडपण्यात त्यानं आडवी घातली होती. रानातली गुरं शेपट्या उभारून घरांकडे येऊ लागली होती. मांडवावरचे दोडक्यापडवळांचे वेल खाली आले होते. अंगणाबाहेर सर्वत्र वाढलेल्या तेरड्याची अवस्था दयनीय झाली होती. जिकडून तिकडून पावसाचे फेसाळ ओहोळ उताराकडे धावत होते. कुळागराच्या बाजूनं केळी पोफळींना कापत पश्चिमवारा नाचत आला की,वेली शहारत होत्या. बाहेर जाणं अशक्य असल्यामुळे मी पडवीवर रिकामा बसलो होतो. कधी सरळ तर कधी तिरक्या अशा पर्जन्याच्या धारांचं नृत्य पाहत राहिलो होतो. पाहता पाहता माझी तंद्री लागली होती. थोड्याच अवधीत पाऊस ओसरला. आकाश निवळलं. मांडवावरच्या दोडकीच्या फुलांनी पावसाला नमविलेल्या माना वर उचलल्या. मी बाहेर पडून जरा शेतावर नजर टाकावी असा विचार करू लागलो.

SubQuestion No : 47

Q.47 'पाऊस' या अर्थी या उतान्यात कोणता शब्द आला आहे?

- Ans 1. पर्जन्य
 2. ओहोळ
 3. कुळागर
 4. पश्चिमवारा

Question Type : MCQ

Question ID : 910281657

Option 1 ID : 9102812588

Option 2 ID : 9102812585

Option 3 ID : 9102812587

Option 4 ID : 9102812586

Status : Answered

Chosen Option : 1

Comprehension:

खालील उतारा काळजीपूर्वक वाचा आणि दिलेल्या प्रश्नांची उत्तरे द्या.

आश्विनाचा महिना होता. दिवसाचा चौथा प्रहर होता. एकाएकी आकाश मेघांनी भरून आलं होतं. सूर्य झाकोळला होता. दिशा अंधारून आक्रसल्या होत्या. शरदातला वळिवाचा पाऊस गडगडत, तडतडत पृथ्वीवर उतरला होता. पिकून पिवळी व्हायला आलेली समोरची भातशेतं अर्ध्या तासाच्या झोडपण्यात त्यानं आडवी घातली होती. रानातली गुरं शेपट्या उभारून घरांकडे येऊ लागली होती. मांडवावरचे दोडक्यापडवळांचे वेल खाली आले होते. अंगणाबाहेर सर्वत्र वाढलेल्या तेरड्याची अवस्था दयनीय झाली होती. जिकडून तिकडून पावसाचे फेसाळ ओहोळ उताराकडे धावत होते. कुळागराच्या बाजूनं केळी पोफळींना कापत पश्चिमवारा नाचत आला की,वेली शहारत होत्या. बाहेर जाणं अशक्य असल्यामुळे मी पडवीवर रिकामा बसलो होतो. कधी सरळ तर कधी तिरक्या अशा पर्जन्याच्या धारांचं नृत्य पाहत राहिलो होतो. पाहता पाहता माझी तंद्री लागली होती. थोड्याच अवधीत पाऊस ओसरला. आकाश निवळलं. मांडवावरच्या दोडकीच्या फुलांनी पावसाला नमविलेल्या माना वर उचलल्या. मी बाहेर पडून जरा शेतावर नजर टाकावी असा विचार करू लागलो.

SubQuestion No : 48

Q.48 'तंद्री लागणे' या वाक्यचाराचा अर्थ शोधा.

- Ans 1. गाढ झोप येणे.
 2. अंग शहारणे
 3. दयनीय अवस्था होणे.
 4. मन एकाग्र होणे.

Question Type : MCQ

Question ID : 910281660

Option 1 ID : 9102812598

Option 2 ID : 9102812600

Option 3 ID : 9102812599

Option 4 ID : 9102812597

Status : Answered

Chosen Option : 4

Comprehension:

खालील उतारा काळजीपूर्वक वाचा आणि दिलेल्या प्रश्नांची उत्तरे द्या.

आश्विनाचा महिना होता. दिवसाचा चौथा प्रहर होता. एकाएकी आकाश मेघांनी भरून आलं होतं. सूर्य झाकोळला होता. दिशा अंधारून आक्रसल्या होत्या. शरदातला वळिवाचा पाऊस गडगडत, तडतडत पृथ्वीवर उतरला होता. पिकून पिवळी व्हायला आलेली समोरची भातशेतं अर्धा तासाच्या झोडपण्यात त्यानं आडवी घातली होती. रानातली गुरं शेपट्या उभारून घरांकडे येऊ लागली होती. मांडवावरचे दोडक्यापडवळांचे वेल खाली आले होते. अंगणाबाहेर सर्वत्र वाढलेल्या तेरड्याची अवस्था दयनीय झाली होती. जिकडून तिकडून पावसाचे फेसाळ ओहोळ उताराकडे धावत होते. कुळागराच्या बाजूनं केळी पोफळींना कापत पश्चिमवारा नाचत आला की,वेली शहारत होत्या. बाहेर जाणं अशक्य असल्यामुळे मी पडवीवर रिकामा बसलो होतो. कधी सरळ तर कधी तिरक्या अशा पर्जन्याच्या धारांचं नृत्य पाहत राहिलो होतो. पाहता पाहता माझी तंद्री लागली होती. थोड्याच अवधीत पाऊस ओसरला. आकाश निवळलं. मांडवावरच्या दोडकीच्या फुलांनी पावसाला नमविलेल्या माना वर उचलल्या. मी बाहेर पडून जरा शेतावर नजर टाकावी असा विचार करू लागलो.

SubQuestion No : 49

Q.49 लेखक पडवीवर रिकामा बसला होता कारण:

- Ans**
- 1. रानातली गुरे घरी परतत होती.
 - 2. लेखकाकडे छत्री नव्हती.
 - 3. लेखकाची कामे आटोपली होती.
 - 4. पावसामुळे बाहेर जाणे शक्य नव्हते.

Question Type : MCQ

Question ID : 910281658

Option 1 ID : 9102812591

Option 2 ID : 9102812589

Option 3 ID : 9102812590

Option 4 ID : 9102812592

Status : Answered

Chosen Option : 4

Comprehension:

खालील उतारा काळजीपूर्वक वाचा आणि दिलेल्या प्रश्नांची उत्तरे द्या.

आश्विनाचा महिना होता. दिवसाचा चौथा प्रहर होता. एकाएकी आकाश मेघांनी भरून आलं होतं. सूर्य झाकोळला होता. दिशा अंधारून आक्रसल्या होत्या. शरदातला वळिवाचा पाऊस गडगडत, तडतडत पृथ्वीवर उतरला होता. पिकून पिवळी व्हायला आलेली समोरची भातशेतं अर्धा तासाच्या झोडपण्यात त्यानं आडवी घातली होती. रानातली गुरं शेपट्या उभारून घरांकडे येऊ लागली होती. मांडवावरचे दोडक्यापडवळांचे वेल खाली आले होते. अंगणाबाहेर सर्वत्र वाढलेल्या तेरड्याची अवस्था दयनीय झाली होती. जिकडून तिकडून पावसाचे फेसाळ ओहोळ उताराकडे धावत होते. कुळागराच्या बाजूनं केळी पोफळींना कापत पश्चिमवारा नाचत आला की,वेली शहारत होत्या. बाहेर जाणं अशक्य असल्यामुळे मी पडवीवर रिकामा बसलो होतो. कधी सरळ तर कधी तिरक्या अशा पर्जन्याच्या धारांचं नृत्य पाहत राहिलो होतो. पाहता पाहता माझी तंद्री लागली होती. थोड्याच अवधीत पाऊस ओसरला. आकाश निवळलं. मांडवावरच्या दोडकीच्या फुलांनी पावसाला नमविलेल्या माना वर उचलल्या. मी बाहेर पडून जरा शेतावर नजर टाकावी असा विचार करू लागलो.

SubQuestion No : 50

Q.50 'मेघ' या शब्दाचा समानार्थी शब्द लिहा.

- Ans**
- 1. ढग
 - 2. केळीपोफळी
 - 3. आकाश
 - 4. मांडव

Question Type : MCQ

Question ID : 910281659

Option 1 ID : 9102812594

Option 2 ID : 9102812593

Option 3 ID : 9102812595

Option 4 ID : 9102812596

Status : Answered

Chosen Option : 1

Q.1 The sentences in the paragraph have been jumbled. Rearrange the following sentences into a meaningful sequence.

- A. With the advice he received, he was able to rule his people peacefully for many years.
- B. The King had a kind heart and his people loved him.
- C. He would seek advice from his Council of Chiefs, despite his age and position.
- D. Once upon a time, there was a King who ruled the land of Okaigo.

- Ans
- 1. BDAC
 - 2. DABC
 - 3. CADB
 - 4. DBCA

Question Type : **MCQ**
Question ID : **910281693**
Option 1 ID : **9102812730**
Option 2 ID : **9102812729**
Option 3 ID : **9102812731**
Option 4 ID : **9102812732**
Status : **Not Answered**
Chosen Option : --

Q.2 Choose the most appropriate word to fill in the blank.

The couple's marriage _____ to the communities living forever in harmony.

- Ans
- 1. leading
 - 2. leads
 - 3. led
 - 4. lead

Question Type : **MCQ**
Question ID : **910281666**
Option 1 ID : **9102812623**
Option 2 ID : **9102812621**
Option 3 ID : **9102812624**
Option 4 ID : **9102812622**
Status : **Not Answered**
Chosen Option : --

Q.3 Out of the given alternatives, choose the one which can be substituted for the given word or sentence.

Something perfectly neat and tidy.

- Ans 1. Unkempt
 2. Shabby
 3. Dishonourable
 4. Immaculate

Question Type : MCQ
Question ID : 910281700
Option 1 ID : 9102812757
Option 2 ID : 9102812759
Option 3 ID : 9102812760
Option 4 ID : 9102812758
Status : Answered
Chosen Option : 4

Q.4 Convert the main sentence from Direct Speech to Indirect Speech.

Jeet said, 'I am perfectly fine.'

- Ans 1. Jeet said that I am perfectly fine.
 2. Jeet said that he was perfectly fine.
 3. Jeet says he was perfectly fine.
 4. Jeet said that he is perfectly fine.

Question Type : MCQ
Question ID : 910281678
Option 1 ID : 9102812670
Option 2 ID : 9102812671
Option 3 ID : 9102812672
Option 4 ID : 9102812669
Status : Answered
Chosen Option : 2

Q.5 Choose the most appropriate preposition to fill in the blank.

He has been told by the doctor to refrain _____ exercising for a few weeks.

- Ans 1. with
 2. from
 3. off
 4. of

Question Type : MCQ
Question ID : 910281663
Option 1 ID : 9102812612
Option 2 ID : 9102812609
Option 3 ID : 9102812611
Option 4 ID : 9102812610
Status : Answered
Chosen Option : 2

Q.6 Replace the underlined word/words with the correct one/ones from the given options to make the sentence coherent.

If I am you, I would be careful how I talk to seniors.

- Ans
- 1. has
 - 2. were
 - 3. was
 - 4. is

Question Type : MCQ
Question ID : 910281669
Option 1 ID : 9102812636
Option 2 ID : 9102812633
Option 3 ID : 9102812634
Option 4 ID : 9102812635
Status : Answered
Chosen Option : 2

Q.7 Convert the following sentences from the Active Voice to the Passive Voice.

My father received me at the airport.

- Ans
- 1. I was received at the airport by my father.
 - 2. My father came to the airport to receive me.
 - 3. Airport is where the I was received by my father.
 - 4. I was received at the airport.

Question Type : MCQ
Question ID : 910281682
Option 1 ID : 9102812686
Option 2 ID : 9102812688
Option 3 ID : 9102812687
Option 4 ID : 9102812685
Status : Answered
Chosen Option : 3

Q.8 Convert the main sentence from Indirect Speech to Direct Speech.

My father said that honesty is the best policy.

- Ans
- 1. My father said, "Honesty is the best policy".
 - 2. My father say, "Honesty was the best policy".
 - 3. My father said to me, "Honesty is the best policy".
 - 4. My father said, "Honesty was the best policy".

Question Type : MCQ
Question ID : 910281679
Option 1 ID : 9102812674
Option 2 ID : 9102812676
Option 3 ID : 9102812675
Option 4 ID : 9102812673
Status : Answered
Chosen Option : 4

Q.9 The sentence is divided into four parts with one part containing an error. Choose the part that contains the error. If there is no error, choose 'No error'.

Time fly / faster than / one can imagine. / No error

- Ans 1. Time fly
 2. No error
 3. one can imagine.
 4. faster than

Question Type : MCQ
Question ID : 910281670
Option 1 ID : 9102812637
Option 2 ID : 9102812640
Option 3 ID : 9102812639
Option 4 ID : 9102812638
Status : Answered
Chosen Option : 2

Q.10 Which of the following proverb will substitute the underlined part of the sentence?

These debates on television make no sense as every so-called important person is merely shouting at the top of their voice without making any sense.

- Ans 1. Barking dogs seldom bite.
 2. An idle brain is the devil's workshop.
 3. All's fair in love and war.
 4. An empty vessel makes much noise.

Question Type : MCQ
Question ID : 910281690
Option 1 ID : 9102812720
Option 2 ID : 9102812719
Option 3 ID : 9102812718
Option 4 ID : 9102812717
Status : Answered
Chosen Option : 3

Q.11 The sentences in the paragraph have been jumbled. Rearrange the following sentences into a meaningful sequence.

- A. Not all social issues are permanent in society.
- B. There are many such social issues which existed earlier.
- C. But with changing mind-sets and awareness among the citizens, many have been abolished.
- D. For instance, Sati system was one such social issue which was actually cruelty against women.

- Ans
- 1. CBDA
 - 2. CDAB
 - 3. ACDB
 - 4. ABCD

Question Type : MCQ
Question ID : 910281695
Option 1 ID : 9102812740
Option 2 ID : 9102812739
Option 3 ID : 9102812737
Option 4 ID : 9102812738
Status : Answered
Chosen Option : 3

Q.12 Which of the following idiomatic expression will substitute the underlined part of the sentence?

With the new CEO taking over the company's command, some at the company believe that a few will be dismissed.

- Ans
- 1. Heads will roll.
 - 2. Have cold feet.
 - 3. Miss the boat.
 - 4. Fingers crossed.

Question Type : MCQ
Question ID : 910281689
Option 1 ID : 9102812716
Option 2 ID : 9102812714
Option 3 ID : 9102812713
Option 4 ID : 9102812715
Status : Answered
Chosen Option : 3

Q.13 The sentences in the paragraph have been jumbled. Rearrange the following sentences into a meaningful sequence.

- A. An old male may attain a head and body length of 1.5 metres (5 feet), and stand 2 metres (6.6 feet) tall.
- B. The red kangaroo is found throughout Australia's interior grasslands and is the largest and most powerful macropodid.
- C. Males can weigh 90 kg (200 pounds), but females are much smaller.
- D. Usually, males are red and females are blue-gray, but there are generally a few red females and gray males in most populations.

- Ans
- 1. DABC
 - 2. DBAC
 - 3. BACD
 - 4. CBAD

Question Type : MCQ

Question ID : 910281696

Option 1 ID : 9102812742

Option 2 ID : 9102812744

Option 3 ID : 9102812741

Option 4 ID : 9102812743

Status : Answered

Chosen Option : 3

Q.14 Replace the underlined preposition with the correct one from the given options to make the sentence coherent.

Ever since Meera heard the news of her missing brother, she has been fraught off worry.

- Ans
- 1. against
 - 2. with
 - 3. in
 - 4. over

Question Type : MCQ

Question ID : 910281664

Option 1 ID : 9102812616

Option 2 ID : 9102812613

Option 3 ID : 9102812615

Option 4 ID : 9102812614

Status : Answered

Chosen Option : 2

Q.15 Choose the exact meaning of the idiomatic expression/phrase.

Lion's share.

- Ans
- 1. The lions portion.
 - 2. The smallest part.
 - 3. The largest part.
 - 4. An average portion.

Question Type : MCQ
Question ID : 910281687
Option 1 ID : 9102812707
Option 2 ID : 9102812706
Option 3 ID : 9102812705
Option 4 ID : 9102812708
Status : Answered
Chosen Option : 3

Q.16 Choose the most appropriate preposition to fill in the blank.

It feels amazingly refreshing to walk _____ the banks of the river.

- Ans
- 1. against
 - 2. along
 - 3. across
 - 4. beneath

Question Type : MCQ
Question ID : 910281662
Option 1 ID : 9102812608
Option 2 ID : 9102812607
Option 3 ID : 9102812605
Option 4 ID : 9102812606
Status : Answered
Chosen Option : 4

Q.17 The sentence is divided into four parts with one part containing an error. Choose the part that contains the error. If there is no error, choose 'No error'.

My boss said that he / does not send the controversial / mail to the department. / No error

- Ans
- 1. mail to the department.
 - 2. My boss said that he
 - 3. No error
 - 4. does not send the controversial

Question Type : MCQ
Question ID : 910281671
Option 1 ID : 9102812643
Option 2 ID : 9102812641
Option 3 ID : 9102812644
Option 4 ID : 9102812642
Status : Answered
Chosen Option : 2

Q.18 Convert the following sentences from the Active Voice to the Passive Voice.

Who taught you English?

- Ans
- 1. By who to you was English taught?
 - 2. English was taught by who?
 - 3. By whom were you taught English?
 - 4. Whom taught English to you?

Question Type : MCQ

Question ID : 910281683

Option 1 ID : 9102812692

Option 2 ID : 9102812690

Option 3 ID : 9102812691

Option 4 ID : 9102812689

Status : Answered

Chosen Option : 2

Q.19 Which of the following is the Present Perfect Continuous Tense of the main sentence?

Bill goes for his morning walks every day.

- Ans
- 1. Bill went for his morning walks every day.
 - 2. Bill had been going for his morning walks every day.
 - 3. Bill was going for his morning walk every day.
 - 4. Bill has been going for his morning walk every day.

Question Type : MCQ

Question ID : 910281673

Option 1 ID : 9102812649

Option 2 ID : 9102812650

Option 3 ID : 9102812651

Option 4 ID : 9102812652

Status : Answered

Chosen Option : 3

Q.20 Choose the exact meaning of the idiomatic expression/phrase.

To eat a humble pie

- Ans
- 1. Apologize
 - 2. Be hungry
 - 3. Scold
 - 4. Praise

Question Type : MCQ

Question ID : 910281688

Option 1 ID : 9102812711

Option 2 ID : 9102812712

Option 3 ID : 9102812709

Option 4 ID : 9102812710

Status : Answered

Chosen Option : 3

Q.21 Choose the most appropriate article to fill in the blank.

She has not said _____ word ever since her return from London.

- Ans 1. a
 2. No article is required.
 3. the
 4. an

Question Type : MCQ
Question ID : 910281677
Option 1 ID : 9102812665
Option 2 ID : 9102812668
Option 3 ID : 9102812667
Option 4 ID : 9102812666
Status : Answered
Chosen Option : 1

Q.22 Choose the most appropriate word to fill in the blank.

The _____ lion attempted an attack on the villager.

- Ans 1. ferocious
 2. ferociously
 3. ferocity
 4. ferociousness

Question Type : MCQ
Question ID : 910281667
Option 1 ID : 9102812627
Option 2 ID : 9102812628
Option 3 ID : 9102812625
Option 4 ID : 9102812626
Status : Answered
Chosen Option : 3

Q.23 Choose the word or phrase from the given options that is closest in meaning to the underlined word in the sentence.

The farmer was banished from the village.

- Ans 1. accepted
 2. welcomed
 3. expelled
 4. introduced

Question Type : MCQ
Question ID : 910281685
Option 1 ID : 9102812698
Option 2 ID : 9102812699
Option 3 ID : 9102812700
Option 4 ID : 9102812697
Status : Answered
Chosen Option : 4

Q.24 Replace the underlined preposition with the correct one from the given options to make the sentence coherent.

I have reconciled at the fact that I will always be mocked by my elder brother.

- Ans
- 1. for
 - 2. up
 - 3. to
 - 4. in

Question Type : MCQ
Question ID : 910281665
Option 1 ID : 9102812617
Option 2 ID : 9102812619
Option 3 ID : 9102812620
Option 4 ID : 9102812618
Status : Answered
Chosen Option : 3

Q.25 Choose the word or phrase from the given options that is closest in meaning to the underlined word in the sentence.

The man was notorious for gambling and has lost all his wealth in the process.

- Ans
- 1. criminal
 - 2. famous
 - 3. infamous
 - 4. reputable

Question Type : MCQ
Question ID : 910281686
Option 1 ID : 9102812702
Option 2 ID : 9102812701
Option 3 ID : 9102812703
Option 4 ID : 9102812704
Status : Answered
Chosen Option : 3

Q.26 Convert the following sentences from the Active Voice to the Passive Voice.

The owner opened the door.

- Ans
- 1. The door was being opened by the owner.
 - 2. The door was opened by the owner.
 - 3. The owner opened the door for me.
 - 4. The door is opened by the owner.

Question Type : MCQ
Question ID : 910281681
Option 1 ID : 9102812684
Option 2 ID : 9102812682
Option 3 ID : 9102812681
Option 4 ID : 9102812683
Status : Answered
Chosen Option : 3

Q.27 The passage consists of six sentences. The first sentence (S1) and the final sentence (S6) are fixed. The middle four sentences, labelled as A, B, C and D, are in the jumbled form. Rearrange the following sentences into a meaningful sequence.

S1. So why do people wish others good luck when they know it will never change the circumstance or the chance?

A. And when you wish your partner good luck in their new business venture, you are showing a sign of support.

B. Well, one of the reasons is to show support and to inspire them.

C. When you tell your children good luck in their exams, you are inspiring them to do better.

D. Of course, this only happens if you wish someone else good luck from the bottom of your heart and they understand your intention.

S6. Sometimes, wishing someone good luck has become so common that people will just say it without having any meaning at all.

Ans  1. ADCB

 2. DCBA

 3. DCAB

 4. BCAD

Question Type : MCQ

Question ID : 910281694

Option 1 ID : 9102812736

Option 2 ID : 9102812734

Option 3 ID : 9102812735

Option 4 ID : 9102812733

Status : Answered

Chosen Option : 4

Q.28 Choose the most appropriate preposition to fill in the blank.

Please understand that you need to apologise _____ your unruly behaviour.

Ans  1. for

 2. on

 3. at

 4. to

Question Type : MCQ

Question ID : 910281661

Option 1 ID : 9102812601

Option 2 ID : 9102812603

Option 3 ID : 9102812604

Option 4 ID : 9102812602

Status : Answered

Chosen Option : 1

Q.29 Identify the correctly spelt word.

- Ans
- 1. Iconoclasst
 - 2. Criticizm
 - 3. Incessent
 - 4. Pallid

Question Type : MCQ
Question ID : 910281692
Option 1 ID : 9102812728
Option 2 ID : 9102812727
Option 3 ID : 9102812726
Option 4 ID : 9102812725
Status : Answered
Chosen Option : 3

Q.30 Convert the main sentence from Indirect Speech to Direct Speech.

Vidya requested the teacher to let her take the test.

- Ans
- 1. Vidya said to the teacher, "Please let me take the test".
 - 2. Vidya said to the teacher, "Let me take the test".
 - 3. Vidya said, "Let me take the test".
 - 4. Vidya requested the teacher, "Please let me take the test".

Question Type : MCQ
Question ID : 910281680
Option 1 ID : 9102812680
Option 2 ID : 9102812678
Option 3 ID : 9102812679
Option 4 ID : 9102812677
Status : Answered
Chosen Option : 3

Q.31 Choose the most appropriate article to fill in the blank.

_____ least we can do at the moment is to support him.

- Ans
- 1. A
 - 2. No article is required.
 - 3. The
 - 4. An

Question Type : MCQ
Question ID : 910281676
Option 1 ID : 9102812661
Option 2 ID : 9102812664
Option 3 ID : 9102812663
Option 4 ID : 9102812662
Status : Answered
Chosen Option : 2

Q.32 Out of the given alternatives, choose the one which can be substituted for the given word or sentence.

Exclusive possession or control of anyone thing.

- Ans 1. Polygamy
 2. Monopoly
 3. Monoplane
 4. Alibi

Question Type : MCQ
Question ID : 910281699
Option 1 ID : 9102812753
Option 2 ID : 9102812756
Option 3 ID : 9102812754
Option 4 ID : 9102812755
Status : Answered
Chosen Option : 3

Q.33 Out of the given alternatives, choose the one which can be substituted for the given word or sentence.

One who is interested in the welfare of other people.

- Ans 1. Elite
 2. Philanthropist
 3. Altruist
 4. Atheist

Question Type : MCQ
Question ID : 910281698
Option 1 ID : 9102812749
Option 2 ID : 9102812750
Option 3 ID : 9102812752
Option 4 ID : 9102812751
Status : Answered
Chosen Option : 2

Q.34 Choose the word or phrase which is nearest in meaning to the key word.

Bold

- Ans 1. Meek
 2. Daring
 3. Cowardly
 4. Clumsy

Question Type : MCQ
Question ID : 910281684
Option 1 ID : 9102812694
Option 2 ID : 9102812693
Option 3 ID : 9102812695
Option 4 ID : 9102812696
Status : Answered
Chosen Option : 3

Q.35 Out of the given alternatives, choose the one which can be substituted for the given word or sentence.

A record of one's life journey written by oneself.

- Ans 1. Autobiography
 2. Calligraphy
 3. Oligarchy
 4. Biography

Question Type : MCQ
Question ID : 910281697
Option 1 ID : 9102812745
Option 2 ID : 9102812747
Option 3 ID : 9102812748
Option 4 ID : 9102812746
Status : Answered
Chosen Option : 2

Q.36 Which of the following is the Future Perfect Tense of the main sentence?

As it is a lengthy assignment, I will finish it by evening.

- Ans 1. As it is a lengthy assignment, I will be finishing it by evening.
 2. As it is a lengthy assignment, I will have been finish it by evening.
 3. As it is a lengthy assignment, I have finished it by evening.
 4. As it is a lengthy assignment, I will have finished it by evening.

Question Type : MCQ
Question ID : 910281674
Option 1 ID : 9102812655
Option 2 ID : 9102812654
Option 3 ID : 9102812656
Option 4 ID : 9102812653
Status : Not Answered
Chosen Option : --

Q.37 Choose the most appropriate article to fill in the blank.

_____ sugar is an addictive substance.

- Ans 1. No article is required.
 2. A
 3. The
 4. An

Question Type : MCQ
Question ID : 910281675
Option 1 ID : 9102812660
Option 2 ID : 9102812657
Option 3 ID : 9102812659
Option 4 ID : 9102812658
Status : Not Answered
Chosen Option : --

Q.38 The sentence is divided into four parts with one part containing an error. Choose the part that contains the error. If there is no error, choose 'No error'.

The labourers were digging / the well hurriedly / to finish on time. / No error

- Ans 1. No error
 2. to finish on time.
 3. the well hurriedly
 4. The labourers were digging

Question Type : **MCQ**
Question ID : **910281672**
Option 1 ID : **9102812648**
Option 2 ID : **9102812647**
Option 3 ID : **9102812646**
Option 4 ID : **9102812645**
Status : **Not Answered**
Chosen Option : --

Q.39 From the given options, replace the underlined words with the correct one to make the sentence coherent.

She sang the song sweet and soothing.

- Ans 1. sweet and soothingly.
 2. sweetness and soothing.
 3. sweetly and soothing.
 4. sweetly and soothingly.

Question Type : **MCQ**
Question ID : **910281668**
Option 1 ID : **9102812629**
Option 2 ID : **9102812632**
Option 3 ID : **9102812630**
Option 4 ID : **9102812631**
Status : **Not Answered**
Chosen Option : --

Q.40 Identify the correctly spelt word.

- Ans 1. Contegious
 2. Brasen
 3. Annoyance
 4. Dubios

Question Type : **MCQ**
Question ID : **910281691**
Option 1 ID : **9102812723**
Option 2 ID : **9102812724**
Option 3 ID : **9102812722**
Option 4 ID : **9102812721**
Status : **Not Answered**
Chosen Option : --

Comprehension:

Read the following passage carefully and answer the given questions.

Rabindranath Tagore (1861-1941) was the youngest son of Debendranath Tagore, a leader of the Brahmo Samaj, which was a new religious sect in nineteenth-century Bengal and which attempted a revival of the ultimate monistic basis of Hinduism as laid down in the Upanishads. He was educated at home; and although at seventeen he was sent to England for formal schooling, he did not finish his studies there. In his mature years, in addition to his many-sided literary activities, he managed the family estates, a project which brought him into close touch with common humanity and increased his interest in social reforms. He also started an experimental school at Shantiniketan where he tried his Upanishadic ideals of education. From time to time, he participated in the Indian nationalist movement, though in his own non-sentimental and visionary way; and Gandhi, the political father of modern India, was his devoted friend. Tagore was knighted by the ruling British Government in 1915, but within a few years he resigned the honour as a protest against British policies in India.

SubQuestion No : 41

Q.41 According to the passage, who was the leader of the Brahmo Samaj?

- Ans 1. Rabindranath Tagore
 2. Debendranath Tagore
 3. The British
 4. Mahatma Gandhi

Question Type : **MCQ**

Question ID : **910281704**

Option 1 ID : **9102812770**

Option 2 ID : **9102812769**

Option 3 ID : **9102812771**

Option 4 ID : **9102812772**

Status : **Not Answered**

Chosen Option : --

Comprehension:

Read the following passage carefully and answer the given questions.

Rabindranath Tagore (1861-1941) was the youngest son of Debendranath Tagore, a leader of the Brahmo Samaj, which was a new religious sect in nineteenth-century Bengal and which attempted a revival of the ultimate monistic basis of Hinduism as laid down in the Upanishads. He was educated at home; and although at seventeen he was sent to England for formal schooling, he did not finish his studies there. In his mature years, in addition to his many-sided literary activities, he managed the family estates, a project which brought him into close touch with common humanity and increased his interest in social reforms. He also started an experimental school at Shantiniketan where he tried his Upanishadic ideals of education. From time to time, he participated in the Indian nationalist movement, though in his own non-sentimental and visionary way; and Gandhi, the political father of modern India, was his devoted friend. Tagore was knighted by the ruling British Government in 1915, but within a few years he resigned the honour as a protest against British policies in India.

SubQuestion No : 42

Q.42 Which of the following is similar in meaning to the word visionary?

- Ans  1. Narrow-minded
 2. Far-sighted
 3. Short-sighted
 4. Unimaginative

Question Type : **MCQ**

Question ID : **910281706**

Option 1 ID : **9102812778**

Option 2 ID : **9102812779**

Option 3 ID : **9102812777**

Option 4 ID : **9102812780**

Status : **Not Answered**

Chosen Option : --

Comprehension:

Read the following passage carefully and answer the given questions.

Rabindranath Tagore (1861-1941) was the youngest son of Debendranath Tagore, a leader of the Brahmo Samaj, which was a new religious sect in nineteenth-century Bengal and which attempted a revival of the ultimate monistic basis of Hinduism as laid down in the Upanishads. He was educated at home; and although at seventeen he was sent to England for formal schooling, he did not finish his studies there. In his mature years, in addition to his many-sided literary activities, he managed the family estates, a project which brought him into close touch with common humanity and increased his interest in social reforms. He also started an experimental school at Shantiniketan where he tried his Upanishadic ideals of education. From time to time, he participated in the Indian nationalist movement, though in his own non-sentimental and visionary way; and Gandhi, the political father of modern India, was his devoted friend. Tagore was knighted by the ruling British Government in 1915, but within a few years he resigned the honour as a protest against British policies in India.

SubQuestion No : 43

Q.43 Which of the following reflects the most suitable title for the passage?

- Ans**
- 1. The biographical journey of Rabindranath Tagore.
 - 2. The autobiography of Rabindranath Tagore.
 - 3. A leader of Brahmo Samaj.
 - 4. Rabindranath Tagore: A Protestor.

Question Type : **MCQ**

Question ID : **910281702**

Option 1 ID : **9102812763**

Option 2 ID : **9102812764**

Option 3 ID : **9102812761**

Option 4 ID : **9102812762**

Status : **Not Answered**

Chosen Option : --

Comprehension:

Read the following passage carefully and answer the given questions.

Rabindranath Tagore (1861-1941) was the youngest son of Debendranath Tagore, a leader of the Brahmo Samaj, which was a new religious sect in nineteenth-century Bengal and which attempted a revival of the ultimate monistic basis of Hinduism as laid down in the Upanishads. He was educated at home; and although at seventeen he was sent to England for formal schooling, he did not finish his studies there. In his mature years, in addition to his many-sided literary activities, he managed the family estates, a project which brought him into close touch with common humanity and increased his interest in social reforms. He also started an experimental school at Shantiniketan where he tried his Upanishadic ideals of education. From time to time, he participated in the Indian nationalist movement, though in his own non-sentimental and visionary way; and Gandhi, the political father of modern India, was his devoted friend. Tagore was knighted by the ruling British Government in 1915, but within a few years he resigned the honour as a protest against British policies in India.

SubQuestion No : 44

Q.44 Which of the following reflects the central theme of the passage?

- Ans** 1. The passage describes an incident of Rabindranath Tagore where he resigned the British honour as a protest against British policies in India
2. The passage is a brief account of the journey of Rabindranath Tagore and how from a young age he had a bent of mind towards social reforms
3. The passage stresses upon the need to have more luminaries like Rabindranath Tagore
4. The author through the passage highlights the importance of Brahmo Samaj and the role it has played in Hinduism

Question Type : **MCQ**

Question ID : **910281703**

Option 1 ID : **9102812767**

Option 2 ID : **9102812765**

Option 3 ID : **9102812768**

Option 4 ID : **9102812766**

Status : **Not Answered**

Chosen Option : --

Comprehension:

Read the following passage carefully and answer the given questions.

Rabindranath Tagore (1861-1941) was the youngest son of Debendranath Tagore, a leader of the Brahmo Samaj, which was a new religious sect in nineteenth-century Bengal and which attempted a revival of the ultimate monistic basis of Hinduism as laid down in the Upanishads. He was educated at home; and although at seventeen he was sent to England for formal schooling, he did not finish his studies there. In his mature years, in addition to his many-sided literary activities, he managed the family estates, a project which brought him into close touch with common humanity and increased his interest in social reforms. He also started an experimental school at Shantiniketan where he tried his Upanishadic ideals of education. From time to time, he participated in the Indian nationalist movement, though in his own non-sentimental and visionary way; and Gandhi, the political father of modern India, was his devoted friend. Tagore was knighted by the ruling British Government in 1915, but within a few years he resigned the honour as a protest against British policies in India.

SubQuestion No : 45

Q.45 What can be inferred from the passage?

- Ans** ✓ 1. Rabindranath Tagore was a true Indian at heart.
- ✗ 2. Rabindranath Tagore was a disciple of Mahatma Gandhi.
- ✗ 3. Rabindranath Tagore took his formal schooling from England as there were no formal schools in India.
- ✗ 4. Brahmo Samaj was the oldest religious sect of Hinduism.

Question Type : **MCQ**

Question ID : **910281705**

Option 1 ID : **9102812776**

Option 2 ID : **9102812773**

Option 3 ID : **9102812775**

Option 4 ID : **9102812774**

Status : **Not Answered**

Chosen Option : --

Comprehension:

Read the following passage carefully and answer the given questions.

The sunflower (*Helianthus annuus*) is an annual plant with a large daisy-like flower face. Its scientific name comes from the Greek words helios ("sun") and anthos ("flower"). The flowers come in many colors (yellow, red, orange, maroon, brown), but they are commonly bright yellow with brown centers that ripen into heavy heads filled with seeds.

Sunflowers are heliotropic, which means that they turn their flowers to follow the movement of the Sun across the sky east to west, and then returns at night to face the east, ready again for the morning sun. Heliotropism happens during the earlier stages before the flower grows heavy with seeds.

There are tons of varieties of sunflowers available today, so there's **bound** to be one that fits your garden. Choose between those with branching stems or single stems, those that produce **ample** pollen for pollinators or are pollen-free (best for bouquets), those that stay small or tower above the rest of the garden, or those that produce edible seeds!

SubQuestion No : 46

Q.46 Which of the following is similar in meaning to the word "Tower"?

- Ans
- 1. Descend
 - 2. Fall
 - 3. Rise
 - 4. Attack

Question Type : **MCQ**

Question ID : **910281710**

Option 1 ID : **9102812789**

Option 2 ID : **9102812790**

Option 3 ID : **9102812792**

Option 4 ID : **9102812791**

Status : **Not Answered**

Chosen Option : --

Comprehension:

Read the following passage carefully and answer the given questions.

The sunflower (*Helianthus annuus*) is an annual plant with a large daisy-like flower face. Its scientific name comes from the Greek words helios ("sun") and anthos ("flower"). The flowers come in many colors (yellow, red, orange, maroon, brown), but they are commonly bright yellow with brown centers that ripen into heavy heads filled with seeds.

Sunflowers are heliotropic, which means that they turn their flowers to follow the movement of the Sun across the sky east to west, and then returns at night to face the east, ready again for the morning sun. Heliotropism happens during the earlier stages before the flower grows heavy with seeds.

There are tons of varieties of sunflowers available today, so there's **bound** to be one that fits your garden. Choose between those with branching stems or single stems, those that produce **ample** pollen for pollinators or are pollen-free (best for bouquets), those that stay small or tower above the rest of the garden, or those that produce edible seeds!

SubQuestion No : 47

Q.47 Which of the following words are opposite in meaning to the word "Ample"?

- Ans
- 1. generous
 - 2. insufficient
 - 3. plenty
 - 4. abundant

Question Type : **MCQ**

Question ID : **910281711**

Option 1 ID : **9102812795**

Option 2 ID : **9102812794**

Option 3 ID : **9102812796**

Option 4 ID : **9102812793**

Status : **Not Answered**

Chosen Option : --

Comprehension:

Read the following passage carefully and answer the given questions.

The sunflower (*Helianthus annuus*) is an annual plant with a large daisy-like flower face. Its scientific name comes from the Greek words helios ("sun") and anthos ("flower"). The flowers come in many colors (yellow, red, orange, maroon, brown), but they are commonly bright yellow with brown centers that ripen into heavy heads filled with seeds.

Sunflowers are heliotropic, which means that they turn their flowers to follow the movement of the Sun across the sky east to west, and then returns at night to face the east, ready again for the morning sun. Heliotropism happens during the earlier stages before the flower grows heavy with seeds.

There are tons of varieties of sunflowers available today, so there's **bound** to be one that fits your garden. Choose between those with branching stems or single stems, those that produce **ample** pollen for pollinators or are pollen-free (best for bouquets), those that stay small or tower above the rest of the garden, or those that produce edible seeds!

SubQuestion No : 48

Q.48 Based on the passage, which of the following describes heliotropic?

- Ans**
- 1. The plant turns its flower to follow the movement of the Sun across the sky north to south, and then returns at night to face the north.
 - 2. The plant turns its flower to follow the movement of the Sun across the sky west to east, and then returns at night to face the west.
 - 3. The plant turns its flower to follow the movement of the Sun across the sky east to west, and then returns at night to face the east.
 - 4. The plant turns its flower to follow the movement of the Moon across the sky east to west, and then returns at night to face the east.

Question Type : **MCQ**

Question ID : **910281712**

Option 1 ID : **9102812797**

Option 2 ID : **9102812798**

Option 3 ID : **9102812799**

Option 4 ID : **9102812800**

Status : **Not Answered**

Chosen Option : --

Comprehension:

Read the following passage carefully and answer the given questions.

The sunflower (*Helianthus annuus*) is an annual plant with a large daisy-like flower face. Its scientific name comes from the Greek words *helios* ("sun") and *anthos* ("flower"). The flowers come in many colors (yellow, red, orange, maroon, brown), but they are commonly bright yellow with brown centers that ripen into heavy heads filled with seeds.

Sunflowers are heliotropic, which means that they turn their flowers to follow the movement of the Sun across the sky east to west, and then returns at night to face the east, ready again for the morning sun. Heliotropism happens during the earlier stages before the flower grows heavy with seeds.

There are tons of varieties of sunflowers available today, so there's **bound** to be one that fits your garden. Choose between those with branching stems or single stems, those that produce **ample** pollen for pollinators or are pollen-free (best for bouquets), those that stay small or tower above the rest of the garden, or those that produce edible seeds!

SubQuestion No : 49

Q.49 Which of the following describes the writing style of the passage?

- Ans 1. Descriptive
 2. Persuasive
 3. Argumentative
 4. Narrative

Question Type : **MCQ**

Question ID : **910281708**

Option 1 ID : **9102812781**

Option 2 ID : **9102812784**

Option 3 ID : **9102812783**

Option 4 ID : **9102812782**

Status : **Not Answered**

Chosen Option : --

Comprehension:

Read the following passage carefully and answer the given questions.

The sunflower (*Helianthus annuus*) is an annual plant with a large daisy-like flower face. Its scientific name comes from the Greek words helios ("sun") and anthos ("flower"). The flowers come in many colors (yellow, red, orange, maroon, brown), but they are commonly bright yellow with brown centers that ripen into heavy heads filled with seeds.

Sunflowers are heliotropic, which means that they turn their flowers to follow the movement of the Sun across the sky east to west, and then returns at night to face the east, ready again for the morning sun. Heliotropism happens during the earlier stages before the flower grows heavy with seeds.

There are tons of varieties of sunflowers available today, so there's **bound** to be one that fits your garden. Choose between those with branching stems or single stems, those that produce **ample** pollen for pollinators or are pollen-free (best for bouquets), those that stay small or tower above the rest of the garden, or those that produce edible seeds!

SubQuestion No : 50

Q.50 Which of the following information is not supported in the passage?

- Ans 1. Heliotropism happens during the earlier stages before the flower grows heavy with seeds.
2. The sunflower's scientific name comes from the Greek words helios ("sun") and anthos ("flower").
3. A fairly fast-growing flower for their size, most sunflower varieties mature in only 80 to 95 days.
4. The sunflower (*Helianthus annuus*) is an annual plant with a large daisy-like flower face.

Question Type : **MCQ**

Question ID : **910281709**

Option 1 ID : **9102812787**

Option 2 ID : **9102812788**

Option 3 ID : **9102812786**

Option 4 ID : **9102812785**

Status : **Not Answered**

Chosen Option : --

Section : **General Knowledge**

Q.1 खालीलपैकी कोणते विधान बरोबर आहे?

- I. पन्हाळा किल्ला महाराष्ट्रात सह्याद्री पर्वतरांगांमध्ये आहे.
II. पन्हाळ्याचा किल्ला महाराष्ट्रातील कोल्हापूरच्या शिलाहार (Shilahara) शासकांनी बांधला.

- Ans 1. I किंवा II यापैकी कोणतेही नाही
2. I आणि II दोन्ही
3. केवळ I
4. केवळ II

Question Type : **MCQ**

Question ID : **910281739**

Option 1 ID : **9102812908**

Option 2 ID : **9102812907**

Option 3 ID : **9102812905**

Option 4 ID : **9102812906**

Status : **Marked For Review**

Chosen Option : **2**

Q.2 भारताच्या 2011 च्या जनगणनेनुसार, 2011 मध्ये महाराष्ट्रातील एकूण पुरुष लोकसंख्या _____ आहे.

- Ans
- 1. 9.84 कोटी
 - 2. 8.54 कोटी
 - 3. 7.62 कोटी
 - 4. 5.82 कोटी

Question Type : MCQ
Question ID : 910281753
Option 1 ID : 9102812964
Option 2 ID : 9102812963
Option 3 ID : 9102812962
Option 4 ID : 9102812961
Status : Answered
Chosen Option : 4

Q.3 "ओग्गु" (Ogggu) एक _____ आहे.

- Ans
- 1. वेळूवाद्य (reed musical instrument)
 - 2. तालवाद्य (rhythm musical instrument)
 - 3. तंतू वाद्य (string musical instrument)
 - 4. पवनवाद्य (wind musical instrument)

Question Type : MCQ
Question ID : 910281717
Option 1 ID : 9102812817
Option 2 ID : 9102812819
Option 3 ID : 9102812820
Option 4 ID : 9102812818
Status : Answered
Chosen Option : 1

Q.4 खालीलपैकी कोणत्या मराठी लेखकाला साहित्य अकादमी पुरस्कार मिळालेला नाही?

- Ans
- 1. मिलिंद बोकिल
 - 2. नंदा खरे
 - 3. अरुण खोपकर
 - 4. अनुराधा पाटील

Question Type : MCQ
Question ID : 910281742
Option 1 ID : 9102812920
Option 2 ID : 9102812917
Option 3 ID : 9102812919
Option 4 ID : 9102812918
Status : Marked For Review
Chosen Option : 3

Q.5 सोडियम हायड्रॉक्साइड _____ नावाने ओळखले जाते.

- Ans
- 1. ब्लीचिंग पावडर (bleaching powder)
 - 2. सामान्य मीठ (common salt)
 - 3. कास्टिक सोडा (caustic soda)
 - 4. चुनखडी (limestone)

Question Type : MCQ

Question ID : 910281729

Option 1 ID : 9102812868

Option 2 ID : 9102812865

Option 3 ID : 9102812867

Option 4 ID : 9102812866

Status : Answered

Chosen Option : 3

Q.6 प्रणती नायक कोणत्या खेळाशी संबंधित आहे?

- Ans
- 1. शारीरिक व्यायामाचे खेळ (Athletics)
 - 2. मुष्टियुद्ध (Boxing)
 - 3. कुस्ती (Wrestling)
 - 4. मल्लविद्या (Gymnastics)

Question Type : MCQ

Question ID : 910281732

Option 1 ID : 9102812879

Option 2 ID : 9102812878

Option 3 ID : 9102812877

Option 4 ID : 9102812880

Status : Answered

Chosen Option : 4

Q.7 खालीलपैकी कोणी देवदासी (Devdasi) प्रथेविरोधात परिषदेचे आयोजन केले होते?

- Ans
- 1. पंडित ईश्वरचंद्र विद्यासागर
 - 2. गोपाळ गणेश आगरकर
 - 3. महात्मा ज्योतिराव फुले
 - 4. महर्षी विठ्ठल रामजी शिंदे

Question Type : MCQ

Question ID : 910281737

Option 1 ID : 9102812898

Option 2 ID : 9102812900

Option 3 ID : 9102812899

Option 4 ID : 9102812897

Status : Marked For Review

Chosen Option : 4

Q.8 राष्ट्रीय युवा धोरण-2014 च्यानुसार, एखाद्या व्यक्तीची वयोमर्यादा किती असल्यास, त्याला "युवा" म्हणता येईल?

- Ans
- 1. 15 - 30 वर्षे
 - 2. 14 - 29 वर्षे
 - 3. 14 - 25 वर्षे
 - 4. 15 - 29 वर्षे

Question Type : MCQ

Question ID : 910281725

Option 1 ID : 9102812851

Option 2 ID : 9102812849

Option 3 ID : 9102812852

Option 4 ID : 9102812850

Status : Answered

Chosen Option : 1

Q.9 केंद्रीय अर्थसंकल्प 2021-22 नुसार, PLI किती क्षेत्रांमध्ये मॅन्युफॅक्चरिंग ग्लोबल चॅम्पियन बनवण्यासाठी लॉन्च केले गेले आहे?

- Ans
- 1. 9
 - 2. 15
 - 3. 13
 - 4. 11

Question Type : MCQ

Question ID : 910281720

Option 1 ID : 9102812829

Option 2 ID : 9102812832

Option 3 ID : 9102812831

Option 4 ID : 9102812830

Status : Marked For Review

Chosen Option : 2

Q.10 बाबर कोणत्या वर्षी फरघानाच्या गादीवर बसला?

- Ans
- 1. 1494
 - 2. 1490
 - 3. 1501
 - 4. 1510

Question Type : MCQ

Question ID : 910281714

Option 1 ID : 9102812806

Option 2 ID : 9102812805

Option 3 ID : 9102812807

Option 4 ID : 9102812808

Status : Answered

Chosen Option : 1

Q.11 भारतातील आर्द्र समशीतोष्ण प्रकारच्या जंगलांची उंची _____ च्या दरम्यान असते.

- Ans
- 1. 800-900 मीटर
 - 2. 1000-2000 मीटर
 - 3. 500-700 मीटर
 - 4. 200-400 मीटर

Question Type : MCQ
Question ID : 910281723
Option 1 ID : 9102812843
Option 2 ID : 9102812844
Option 3 ID : 9102812842
Option 4 ID : 9102812841
Status : Marked For Review
Chosen Option : 3

Q.12 शिखांचे नववे गुरू, गुरू तेग बहादूर (Guru Tegh bahaddar) यांना औरंगजेबाने कोणत्या वर्षी तुरुंगात टाकले आणि त्यांचा शिरच्छेद केला?

- Ans
- 1. 1671
 - 2. 1778
 - 3. 1675
 - 4. 1779

Question Type : MCQ
Question ID : 910281733
Option 1 ID : 9102812881
Option 2 ID : 9102812883
Option 3 ID : 9102812882
Option 4 ID : 9102812884
Status : Marked For Review
Chosen Option : 3

Q.13 "दोन बिंदू प्रभारांच्यामधील आकर्षण बलाचे (किंवा प्रतिकर्षण) परिमाण हे दोन प्रभारांच्या राशींच्या गुणाकाराशी समानुपाती आणि त्यांच्यामधील अंतराच्या वर्गाच्या व्यस्तानुपाती असते" असा नियम कोणी शोधून काढला?

- Ans
- 1. विल्यम गिल्बर्ट
 - 2. एलेसेंड्रो वोल्टा
 - 3. हेन्री ओरस्टेड
 - 4. चार्ल्स ऑगस्टिन-डी कूलम्ब

Question Type : MCQ
Question ID : 910281730
Option 1 ID : 9102812871
Option 2 ID : 9102812872
Option 3 ID : 9102812869
Option 4 ID : 9102812870
Status : Marked For Review
Chosen Option : 4

Q.14 UNDP मानव विकास अहवाल 2018 नुसार, भारताचे संयुक्त मानव विकास निर्देशांक (HDI) मूल्य _____ इतके आहे.

- Ans
- 1. 0.533
 - 2. 0.229
 - 3. 0.640
 - 4. 0.134

Question Type : MCQ

Question ID : 910281726

Option 1 ID : 9102812853

Option 2 ID : 9102812855

Option 3 ID : 9102812856

Option 4 ID : 9102812854

Status : Answered

Chosen Option : 3

Q.15 खालीलपैकी कोणते विधान बरोबर आहे?

- I. महाराष्ट्राच्या 2019-20 च्या अर्थसंकल्पीय अंदाजानुसार, अर्थसंकल्पीय तूट 267 कोटी रु. राहण्याचा अंदाज आहे.
- II. महाराष्ट्राच्या 2019-20 च्या अर्थसंकल्पीय अंदाजपत्रकानुसार, 2019-20 च्या वार्षिक योजनेसाठी उद्योग आणि खनिज क्षेत्रासाठी 2019-20 च्या दरम्यान प्रस्तावित निधी सर्वाधिक आहे.

- Ans
- 1. केवळ I
 - 2. I किंवा II यापैकी कोणतेही नाही
 - 3. I आणि II दोन्ही
 - 4. केवळ II

Question Type : MCQ

Question ID : 910281748

Option 1 ID : 9102812941

Option 2 ID : 9102812944

Option 3 ID : 9102812943

Option 4 ID : 9102812942

Status : Marked For Review

Chosen Option : 3

Q.16 महाराष्ट्राचा खालीलपैकी कोणता जिल्हा मुंबई महानगर प्रदेश (MMR) अंतर्गत येत नाही?

- Ans
- 1. सिंधुदुर्ग
 - 2. मुंबई उपनगर
 - 3. मुंबई शहर
 - 4. पालघर

Question Type : MCQ

Question ID : 910281746

Option 1 ID : 9102812936

Option 2 ID : 9102812934

Option 3 ID : 9102812933

Option 4 ID : 9102812935

Status : Answered

Chosen Option : 1

Q.17 महाराष्ट्राच्या विधानसभेच्या सभापतींच्या संदर्भात खालीलपैकी कोणते विधान बरोबर आहे?

- I. विधानसभेचे कामकाज सभापतींच्या देखरेखीखाली आणि मार्गदर्शनाखाली चालते.
II. सभापतींची निवड आणि नियुक्ती महाराष्ट्राच्या राज्यपालांकडून होते.

- Ans 1. केवळ II
 2. I किंवा II यापैकी कोणतेही नाही
 3. I आणि II दोन्ही
 4. केवळ I

Question Type : MCQ
Question ID : 910281761
Option 1 ID : 9102812994
Option 2 ID : 9102812996
Option 3 ID : 9102812995
Option 4 ID : 9102812993
Status : Answered
Chosen Option : 3

Q.18 खालीलपैकी कोण 'चपटे कृमि (flatworms)' म्हणूनही ओळखले जातात?

- Ans 1. आंतरगृही संघ (Coelenterata)
 2. वलयी प्राणिवर्ग (Annelida)
 3. रंध्रप्राणिवर्ग (Porifera)
 4. पृथुकृमि संघ (Platyhelminthes)

Question Type : MCQ
Question ID : 910281728
Option 1 ID : 9102812862
Option 2 ID : 9102812863
Option 3 ID : 9102812864
Option 4 ID : 9102812861
Status : Marked For Review
Chosen Option : 4

Q.19 खालीलपैकी कोण भारतातील मायक्रोफायनान्स संस्थांचे नियामक आहे?

- Ans 1. आरबीआय (RBI)
 2. नाबार्ड (NABARD)
 3. केंद्रीय अर्थमंत्रालय (Union Ministry of Finance)
 4. सेबी (SEBI)

Question Type : MCQ
Question ID : 910281721
Option 1 ID : 9102812835
Option 2 ID : 9102812834
Option 3 ID : 9102812836
Option 4 ID : 9102812833
Status : Marked For Review
Chosen Option : 1

Q.20 नर्मदा नदीची लांबी 1312 km आहे, त्यापैकी _____ महाराष्ट्रातून वाहते.

- Ans 1. 77.5 km
 2. 105.5 km
 3. 25.5 km
 4. 210.5 km

Question Type : MCQ
Question ID : 910281751
Option 1 ID : 9102812954
Option 2 ID : 9102812953
Option 3 ID : 9102812955
Option 4 ID : 9102812956
Status : Answered
Chosen Option : 2

Q.21 ऑल्युमिनियम सिलिकेटने समृद्ध असलेल्या विविध प्रकारच्या खडकांच्या विघटनाने खालीलपैकी कशाचा साठा (deposits) तयार होतो?

- Ans 1. मॅग्नीज
 2. कोबाल्ट
 3. ग्रेफाइट
 4. बॉक्साईट

Question Type : MCQ
Question ID : 910281724
Option 1 ID : 9102812845
Option 2 ID : 9102812847
Option 3 ID : 9102812848
Option 4 ID : 9102812846
Status : Marked For Review
Chosen Option : 4

Q.22 खालीलपैकी कोण मराठी पुस्तक "छावा" चे लेखक आहेत?

- Ans 1. रणजीत देसाई
 2. शिवाजी सावंत
 3. पु. ल. देशपांडे
 4. एन. एस. इनामदार

Question Type : MCQ
Question ID : 910281741
Option 1 ID : 9102812913
Option 2 ID : 9102812914
Option 3 ID : 9102812916
Option 4 ID : 9102812915
Status : Answered
Chosen Option : 2

Q.23 "पानीपत" या मराठी पुस्तकाचे लेखक कोण आहेत?

- Ans
- 1. मिलिंद बोकिल
 - 2. रणजीत देसाई
 - 3. जी. ए. कुलकर्णी
 - 4. विश्वास पाटील

Question Type : MCQ
Question ID : 910281740
Option 1 ID : 9102812911
Option 2 ID : 9102812912
Option 3 ID : 9102812910
Option 4 ID : 9102812909
Status : Marked For Review
Chosen Option : 4

Q.24 पायाभूत सुविधांच्या संदर्भात खालीलपैकी SPV चे पूर्ण-स्वरूप कोणते आहे?

- Ans
- 1. स्पेशल प्लान वेंडर (Special Plan Vendor)
 - 2. साइअन्टिफिक प्रोजेक्ट वेंडर (Scientific Project Vendor)
 - 3. स्पेशल पर्पज वीइकल (Special Purpose Vehicle)
 - 4. स्ट्रक्चरल प्लानिंग वीइकल (Structural Planning Vehicle)

Question Type : MCQ
Question ID : 910281727
Option 1 ID : 9102812858
Option 2 ID : 9102812859
Option 3 ID : 9102812860
Option 4 ID : 9102812857
Status : Marked For Review
Chosen Option : 4

Q.25 2019 च्या 67 व्या राष्ट्रीय चित्रपट पुरस्कारांमध्ये खालीलपैकी कोणत्या मराठी चित्रपटाला सर्वोत्कृष्ट चित्रपट म्हणून घोषित करण्यात आला?

- Ans
- 1. भोंगा
 - 2. अधम
 - 3. पाणी
 - 4. बाडो

Question Type : MCQ
Question ID : 910281745
Option 1 ID : 9102812931
Option 2 ID : 9102812932
Option 3 ID : 9102812930
Option 4 ID : 9102812929
Status : Marked For Review
Chosen Option : 1

Q.26 राष्ट्रकुट (Rashtrakuta) राजवंशाच्या खालीलपैकी कोणत्या शासकाने कैलास मंदिर कोरले?

- Ans
- 1. रुद्रसेन पहिला (Rudrasena I)
 - 2. इंद्र तिसरा (Indra III)
 - 3. कृष्ण राजा पहिला (Krishna Raja I)
 - 4. दंतिदुर्ग (Dantidurg)

Question Type : MCQ
Question ID : 910281735
Option 1 ID : 9102812892
Option 2 ID : 9102812891
Option 3 ID : 9102812890
Option 4 ID : 9102812889
Status : Answered
Chosen Option : 3

Q.27 महाराष्ट्रातील पहिली महानगरपालिका _____ येथे स्थापन झाली.

- Ans
- 1. नागपूर
 - 2. मुंबई
 - 3. नाशिक
 - 4. ठाणे

Question Type : MCQ
Question ID : 910281762
Option 1 ID : 9102812998
Option 2 ID : 9102812999
Option 3 ID : 9102812997
Option 4 ID : 9102813000
Status : Answered
Chosen Option : 2

Q.28 भारतीय राज्यघटनेच्या प्रस्तावनेची संकल्पना खालीलपैकी कोणत्या देशाकडून घेण्यात आली होती?

- Ans
- 1. युएसए
 - 2. आयर्लंड
 - 3. जपान
 - 4. युएसएसआर

Question Type : MCQ
Question ID : 910281731
Option 1 ID : 9102812873
Option 2 ID : 9102812874
Option 3 ID : 9102812876
Option 4 ID : 9102812875
Status : Answered
Chosen Option : 1

Q.29 वाकाटक (Vakataka) राजवंशाच्या प्रवरसेन दुसरा (Pravarasena II) याने _____ ची रचना केली.

- Ans
- 1. मेघदूत (Meghdoot)
 - 2. रघुवंश (Raghuvansha)
 - 3. सेतुबंध (Setubandh)
 - 4. गाथा-सप्तशती (Gatha-Saptashati)

Question Type : MCQ
Question ID : 910281734
Option 1 ID : 9102812886
Option 2 ID : 9102812888
Option 3 ID : 9102812887
Option 4 ID : 9102812885
Status : Marked For Review
Chosen Option : 3

Q.30 भाऊराव कृष्णाजी गायकवाड यांच्यासंदर्भात खालीलपैकी कोणते विधान बरोबर आहे?

- I. ते लोकसभा आणि राज्यसभेचे सदस्य होते.
II. त्यांना 1968 मध्ये पद्मश्री देऊन गौरवण्यात आले होते.

- Ans
- 1. I किंवा II यापैकी कोणतेही नाही
 - 2. I आणि II दोन्ही
 - 3. केवळ I
 - 4. केवळ II

Question Type : MCQ
Question ID : 910281744
Option 1 ID : 9102812928
Option 2 ID : 9102812927
Option 3 ID : 9102812925
Option 4 ID : 9102812926
Status : Marked For Review
Chosen Option : 2

Q.31 खालीलपैकी कोणाला 'पेरियार' म्हणूनही ओळखले जात असे?

- Ans
- 1. नागम्माई
 - 2. ई.व्ही.रामस्वामी नायकर
 - 3. सी. एन. अण्णादुराई
 - 4. अण्णाई ई. व्ही आर. मणिम्माई

Question Type : MCQ
Question ID : 910281713
Option 1 ID : 9102812804
Option 2 ID : 9102812801
Option 3 ID : 9102812802
Option 4 ID : 9102812803
Status : Answered
Chosen Option : 2

Q.32 भारताच्या 2011 च्या जनगणनेनुसार, महाराष्ट्रातील खालीलपैकी कोणत्या जिल्ह्यात अनुसूचित जमातींच्या लोकसंख्येचे प्रमाण सर्वात कमी आहे?

- Ans
- 1. अकोला
 - 2. रत्नागिरी
 - 3. सांगली
 - 4. नंदुरबार

Question Type : MCQ

Question ID : 910281755

Option 1 ID : 9102812971

Option 2 ID : 9102812972

Option 3 ID : 9102812969

Option 4 ID : 9102812970

Status : Marked For Review

Chosen Option : 3

Q.33 महाराष्ट्रात 31 मार्च 2020 पर्यंत, नवीनीकरणयोग्य (renewable) उर्जेच्या स्थापित क्षमतेत खालीलपैकी कशाचा सर्वाधिक वाटा आहे?

- Ans
- 1. पवन
 - 2. बायोमास
 - 3. सौर
 - 4. समुद्राच्या लाटा

Question Type : MCQ

Question ID : 910281758

Option 1 ID : 9102812984

Option 2 ID : 9102812982

Option 3 ID : 9102812981

Option 4 ID : 9102812983

Status : Marked For Review

Chosen Option : 2

Q.34 जयंत नारळीकर यांना महाराष्ट्र भूषण पुरस्कार मिळाला आहे. ते कोणत्या क्षेत्राशी संबंधित आहेत?

- Ans
- 1. नृत्य
 - 2. क्रीडा
 - 3. संगीत
 - 4. विज्ञान

Question Type : MCQ

Question ID : 910281743

Option 1 ID : 9102812924

Option 2 ID : 9102812922

Option 3 ID : 9102812921

Option 4 ID : 9102812923

Status : Answered

Chosen Option : 4

Q.35 महाराष्ट्र सरकारच्या आदिवासी संशोधन आणि प्रशिक्षण संस्थेची खालीलपैकी कोणती उद्दिष्टे आहेत?

- I. आदिवासींसाठी विविध प्रशिक्षण सत्रे आयोजित करणे.
II. आदिवासींचे जीवन आणि त्यांच्या विकासाशी संबंधित विषयांवर संशोधन करणे

- Ans 1. I आणि II दोन्ही
 2. केवळ I
 3. I किंवा II यापैकी कोणतेही नाही
 4. केवळ II

Question Type : MCQ
Question ID : 910281756
Option 1 ID : 9102812975
Option 2 ID : 9102812973
Option 3 ID : 9102812976
Option 4 ID : 9102812974
Status : Answered
Chosen Option : 1

Q.36 SIDBI ची स्थापना कोणत्या वर्षी करण्यात आली?

- Ans 1. 1988
 2. 1986
 3. 1990
 4. 1984

Question Type : MCQ
Question ID : 910281722
Option 1 ID : 9102812839
Option 2 ID : 9102812838
Option 3 ID : 9102812840
Option 4 ID : 9102812837
Status : Answered
Chosen Option : 3

Q.37 महाराष्ट्रातील _____ जिल्हा हा अमरावती विभागाचा मध्य भाग आहे आणि तो पूर्वीचा ब्रिटिश राज बेरार प्रांत होता.

- Ans 1. रत्नागिरी
 2. अकोला
 3. बीड
 4. हिंगोली

Question Type : MCQ
Question ID : 910281750
Option 1 ID : 9102812950
Option 2 ID : 9102812951
Option 3 ID : 9102812952
Option 4 ID : 9102812949
Status : Marked For Review
Chosen Option : 2

Q.38 महाराष्ट्र राज्यात खालीलपैकी कोणत्या विभागात सार्वजनिक क्षेत्रातील जैव-तंत्रज्ञान पार्क आहे?

- I. एमआयडीसी जालना
II. एमआयडीसी हिंजवडी

- Ans 1. केवळ I
 2. I किंवा II यापैकी कोणतेही नाही
 3. I आणि II दोन्ही
 4. केवळ II

Question Type : MCQ

Question ID : 910281757

Option 1 ID : 9102812977

Option 2 ID : 9102812980

Option 3 ID : 9102812979

Option 4 ID : 9102812978

Status : Answered

Chosen Option : 3

Q.39 खालीलपैकी कोणते वर्ष कर्नाटक संगीताच्या (Carnatic Music) त्रिमूर्ति (Trinity) च्या काळातील आहे?

- Ans 1. इ.स 1550 ते 1650
 2. इ.स 1850 ते 1950
 3. इ.स 1750 ते 1850
 4. इ.स 1650 ते 1750

Question Type : MCQ

Question ID : 910281716

Option 1 ID : 9102812813

Option 2 ID : 9102812816

Option 3 ID : 9102812815

Option 4 ID : 9102812814

Status : Marked For Review

Chosen Option : 3

Q.40 पन्हाळेकाजी (Panhale Kaji) लेणी महाराष्ट्रातील _____ जिल्ह्यात स्थित आहेत.

- Ans 1. पुणे
 2. पालघर
 3. रत्नागिरी
 4. नाशिक

Question Type : MCQ

Question ID : 910281749

Option 1 ID : 9102812945

Option 2 ID : 9102812947

Option 3 ID : 9102812946

Option 4 ID : 9102812948

Status : Answered

Chosen Option : 3

Q.41 15 जानेवारी 2021 रोजी भारत सरकारच्या कोणत्या मंत्रालयाने प्रधानमंत्री कौशल विकास योजना 3.0 (Pradhan Mantri Kaushal Vikas Yojana 3.0) सुरू केली?

- Ans
- 1. कॉर्पोरेट व्यवहार मंत्रालय (Ministry of Corporate Affairs)
 - 2. कौशल्य विकास आणि उद्योजकता मंत्रालय (Ministry of Skill Development and Entrepreneurship)
 - 3. वाणिज्य आणि उद्योग मंत्रालय (Ministry of Commerce and Industry)
 - 4. सूक्ष्म, लघु आणि मध्यम उद्योग मंत्रालय (Ministry of Micro, Small and Medium Enterprises)

Question Type : MCQ
Question ID : 910281738
Option 1 ID : 9102812902
Option 2 ID : 9102812901
Option 3 ID : 9102812904
Option 4 ID : 9102812903
Status : Marked For Review
Chosen Option : 2

Q.42 ऋग्वेदात किती सुक्ते आहेत?

- Ans
- 1. 1028
 - 2. 1056
 - 3. 1000
 - 4. 798

Question Type : MCQ
Question ID : 910281719
Option 1 ID : 9102812827
Option 2 ID : 9102812828
Option 3 ID : 9102812826
Option 4 ID : 9102812825
Status : Marked For Review
Chosen Option : 1

Q.43 1857 च्या उठावात अहमदनगरमधून खालीलपैकी कोण सहभागी झाले होते?

- Ans
- 1. भागोजी नाईक (Bhagoji Naik)
 - 2. शंकरशाह (Shankarshah)
 - 3. रंगो बापूजी (Rango Bapuji)
 - 4. सुरगणा (Surgana)

Question Type : MCQ
Question ID : 910281736
Option 1 ID : 9102812894
Option 2 ID : 9102812896
Option 3 ID : 9102812893
Option 4 ID : 9102812895
Status : Marked For Review
Chosen Option : 2

Q.44 महाराष्ट्रात 31 मार्च 2020 पर्यंत, सुमारे _____ लाख सहकारी संस्था होत्या.

- Ans
- 1. 1.06
 - 2. 2.13
 - 3. 3.58
 - 4. 4.88

Question Type : MCQ
Question ID : 910281759
Option 1 ID : 9102812987
Option 2 ID : 9102812985
Option 3 ID : 9102812986
Option 4 ID : 9102812988
Status : Marked For Review
Chosen Option : 3

Q.45 खालीलपैकी कोण "रामायण नू पत्रलेखन" (Ramayan Nu Patralekhan) या पुस्तकाचे लेखक आहेत?

- Ans
- 1. ए. एन. उपाध्ये
 - 2. बाळ पाटील
 - 3. श्री. चंद्रशेखर विजयजी महाराज
 - 4. चंपत राय जैन

Question Type : MCQ
Question ID : 910281718
Option 1 ID : 9102812821
Option 2 ID : 9102812823
Option 3 ID : 9102812824
Option 4 ID : 9102812822
Status : Marked For Review
Chosen Option : 1

Q.46 महाराष्ट्र सरकारने 2018-19 मध्ये सुरू केलेल्या मुख्यमंत्री सौर कृषी पंप योजनेचे खालीलपैकी कोणते मुख्य उद्दिष्ट आहे?

- I. कृषी पंपांसाठी दिवसा विजेची उपलब्धता.
- II. प्रदूषण कमी करण्यासाठी डिझेल पंप बदलणे.

- Ans
- 1. I आणि II दोन्ही
 - 2. I किंवा II यापैकी कोणतेही नाही
 - 3. केवळ I
 - 4. केवळ II

Question Type : MCQ
Question ID : 910281747
Option 1 ID : 9102812939
Option 2 ID : 9102812940
Option 3 ID : 9102812937
Option 4 ID : 9102812938
Status : Answered
Chosen Option : 1

Q.47 भारताच्या 2011 च्या जनगणनेनुसार, महाराष्ट्रातील खालीलपैकी कोणत्या जिल्ह्यात अनुसूचित जातींच्या लोकसंख्येचे प्रमाण सर्वात कमी आहे?

- Ans 1. नाशिक
 2. नंदुरबार
 3. हिंगोली
 4. पुणे

Question Type : MCQ
Question ID : 910281754
Option 1 ID : 9102812965
Option 2 ID : 9102812968
Option 3 ID : 9102812967
Option 4 ID : 9102812966
Status : Marked For Review
Chosen Option : 3

Q.48 "छाऊ" नृत्य हे कोणत्या राज्याचे नृत्य नाही?

- Ans 1. झारखंड
 2. छत्तीसगड
 3. पश्चिम बंगाल
 4. ओडिशा

Question Type : MCQ
Question ID : 910281715
Option 1 ID : 9102812809
Option 2 ID : 9102812812
Option 3 ID : 9102812811
Option 4 ID : 9102812810
Status : Marked For Review
Chosen Option : 3

Q.49 खालीलपैकी कोणती धरण-नदी जोडी बरोबर आहे?

- I. उजनी धरण - भीमा नदी
II. वीर धरण - निरा नदी

- Ans 1. I आणि II दोन्ही
 2. केवळ I
 3. केवळ II
 4. I किंवा II यापैकी कोणतेही नाही

Question Type : MCQ
Question ID : 910281752
Option 1 ID : 9102812959
Option 2 ID : 9102812957
Option 3 ID : 9102812958
Option 4 ID : 9102812960
Status : Marked For Review
Chosen Option : 1

Q.50 खालीलपैकी कोणत्या वर्षी शिवसेनेची स्थापना झाली?

- Ans 1. 1966
 2. 1960
 3. 1964
 4. 1968

Question Type : MCQ

Question ID : 910281760

Option 1 ID : 9102812992

Option 2 ID : 9102812989

Option 3 ID : 9102812991

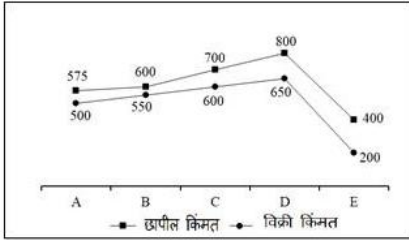
Option 4 ID : 9102812990

Status : Answered

Chosen Option : 1

Section : General Intelligence

Q.1 खालील रेषालेखात पाच वस्तूंची छापील किंमत आणि विक्री किंमत दर्शवण्यात आली आहे?



सर्व वस्तूंचे सरासरी सवलत किती देऊ करण्यात आली आहे?

- Ans 1. 115
 2. 105
 3. 120
 4. 95

Question Type : MCQ

Question ID : 910281810

Option 1 ID : 9102813189

Option 2 ID : 9102813190

Option 3 ID : 9102813191

Option 4 ID : 9102813192

Status : Answered

Chosen Option : 1

Q.2 पुढील प्रश्नामध्ये @, #, +, -, % आणि * ही चिन्हे खाली सोदाहरण दाखवल्याप्रमाणे पुढील अर्थाने वापरली जातात.

'P @ Q' म्हणजे 'P हा Q पेक्षा लहान ही नाही आणि समान ही नाही'.

'P # Q' म्हणजे 'P हा Q पेक्षा मोठा नाही'.

'P + Q' म्हणजे 'P हा Q च्या समान नाही'.

'P - Q' म्हणजे 'P हा Q पेक्षा मोठा ही नाही आणि समान ही नाही'.

'P % Q' म्हणजे 'P हा Q पेक्षा लहान नाही'.

'P * Q' म्हणजे 'P हा Q पेक्षा मोठा ही नाही आणि लहान ही नाही'.

आता, प्रश्नात दिलेली विधाने सत्य असल्याचे गृहीत धरा, दिलेल्या निष्कर्षांपैकी कोणते निष्कर्ष निश्चितपणे सत्य आहेत शोधा आणि तुमचे उत्तर द्या.

विधाने:

A + K, B # A, R * M, A # J, S @ M, B % R

निष्कर्ष:

I. B # M

II. J @ R

III. J * R

Ans

✗ 1. एकतर निष्कर्ष I किंवा निष्कर्ष II यांपैकी एक सत्य आहे

✗ 2. कोणताही निष्कर्ष सत्य नाही

✓ 3. एकतर निष्कर्ष II किंवा निष्कर्ष III यांपैकी एक सत्य आहे

✗ 4. सर्व निष्कर्ष सत्य आहेत

Question Type : MCQ

Question ID : 910281775

Option 1 ID : 9102813049

Option 2 ID : 9102813052

Option 3 ID : 9102813050

Option 4 ID : 9102813051

Status : Not Attempted and
Marked For Review

Chosen Option : --

Q.3 या उदाहरणात एक प्रश्न आणि दोन विधाने (I) आणि (II) आहेत. (विधानांमध्ये दिलेली माहिती प्रश्नाचे उत्तर देण्यासाठी पुरेशी आहे का, हे ठरवा आणि उत्तर द्या.)

पाच व्यक्ती A, B, C, D आणि E एका ओळीत उत्तरेकडे तोंड करून बसल्या (त्याच क्रमाने गरजेचे नाही) आहेत. A च्या लगतच डावीकडे कोण बसले आहे?

I. A हा D च्या डावीकडे तिसऱ्या स्थानी बसला असून जो B च्या लगतच उजवीकडे बसला आहे.

II. B आणि E यांच्यादरम्यान दोन व्यक्ती बसल्या आहेत. A हा E च्या डावीकडे बसला आहे.

Ans  1.

जर प्रश्नाचे उत्तर दोन्ही विधानांचा एकत्र वापर करूनही देता येत नसेल.

 2.

जर प्रश्नाचे उत्तर विधानांपैकी फक्त एकच विधानाचा एकट्याने वापर करून देता येत असेल पण दुसऱ्या विधानाचा एकट्याने वापर करून देता येत नसेल.

 3.

जर प्रश्नाचे उत्तर (I) किंवा (II) विधानांपैकी फक्त एका विधानाचा एकट्याने वापर करून देता येत असेल.

 4.

जर प्रश्नाचे उत्तर दोन्ही विधानांचा एकत्र वापर करून देता येत असेल पण दोन्हीपैकी एका विधानाचा एकट्याने वापर करून देता येत नसेल.

Question Type : **MCQ**

Question ID : **910281797**

Option 1 ID : **9102813140**

Option 2 ID : **9102813137**

Option 3 ID : **9102813138**

Option 4 ID : **9102813139**

Status : **Answered**

Chosen Option : **4**

Q.4 या उदाहरणात एक प्रश्न आणि दोन विधाने (I) आणि (II) आहेत. (विधानांमध्ये दिलेली माहिती प्रश्नाचे उत्तर देण्यासाठी पुरेशी आहे का, हे ठरवा आणि उत्तर द्या.)

जर A आणि B हे दोन्ही धन पूर्णांक असतील, तर A पेक्षा B किती टक्क्यांनी लहान आहे?

I. $\sqrt{A} = B$

II. $A + B = 12$

Ans  1.

जर प्रश्नाचे उत्तर विधानांपैकी एकाच विधानाचा एकट्याने वापर करून देता येत असेल पण दुसऱ्या विधानाचा एकट्याने वापर करून देता येत नसेल.

 2.

जर प्रश्नाचे उत्तर दोन्ही विधानांचा एकत्र वापर करून देता येत असेल पण दोन्हीपैकी एका विधानाचा एकट्याने वापर करून देता येत नसेल.

 3.

जर प्रश्नाचे उत्तर (I) किंवा (II) विधानांपैकी एका विधानाचा एकट्याने वापर करून देता येत असेल.

 4.

जर प्रश्नाचे उत्तर दोन्ही विधानांचा एकत्र वापर करूनही देता येत नसेल.

Question Type : **MCQ**

Question ID : **910281798**

Option 1 ID : **9102813141**

Option 2 ID : **9102813143**

Option 3 ID : **9102813142**

Option 4 ID : **9102813144**

Status : **Not Attempted and Marked For Review**

Chosen Option : --

Q.5 P, Q, R, S, T आणि U या सहा उमेदवारांनी परीक्षेत वेगवेगळे गुण मिळवले. Q ला मिळालेले गुण T च्या मिळालेल्या गुणांपेक्षा अधिक आहेत. P ला मिळालेले गुण R ला मिळालेल्या गुणांपेक्षा कमी आहेत मात्र Q ला मिळालेल्या गुणांपेक्षा अधिक आहेत. S ला मिळालेले गुण U ला मिळालेल्या गुणांपेक्षा अधिक आहेत मात्र T ला मिळालेल्या गुणांपेक्षा कमी आहेत. खालीलपैकी कोणता अनुक्रम बरोबर आहे?

- Ans
- ✓ 1. $U < S < T < Q < P < R$
 - ✗ 2. $U < S < Q < T < P < R$
 - ✗ 3. $S < U < T < P < Q < R$
 - ✗ 4. $U < S < T < P < Q < R$

Question Type : MCQ

Question ID : 910281778

Option 1 ID : 9102813061

Option 2 ID : 9102813062

Option 3 ID : 9102813064

Option 4 ID : 9102813063

Status : Answered

Chosen Option : 1

Q.6 सहा व्यक्ती P1, P2, P3, P4, P5 आणि P6 सुरु होणाऱ्या आठवड्याच्या सोमवार ते शनिवार या दिवसांपैकी वेगवेगळ्या दिवशी (त्याच क्रमाने असणे गरजेचे नाही) दिल्लीला गेल्या. दोन व्यक्ती P5 च्या आधी गेल्या. P1 आणि P5 यांच्या दरम्यान दोन व्यक्ती गेल्या. P2 च्या लगेच नंतर P3 गेला. P3 आणि P6 यांच्या दरम्यान एक व्यक्ती गेली. शुक्रवारी दिल्लीला कोण गेले?

- Ans
- ✗ 1. P6
 - ✗ 2. P3
 - ✗ 3. P2
 - ✓ 4. P4

Question Type : MCQ

Question ID : 910281769

Option 1 ID : 9102813028

Option 2 ID : 9102813026

Option 3 ID : 9102813025

Option 4 ID : 9102813027

Status : Answered

Chosen Option : 4

Q.7 खालील प्रश्नात काही विधाने दिली असून त्यांच्यावर आधारित निष्कर्ष त्यानंतर दिले आहेत. दिलेली विधाने सामान्यपणे ज्ञात तथ्यांपेक्षा भिन्न वाटत असली तरी ती तुम्हाला सत्य मानायची आहेत. सर्व निष्कर्ष वाचा आणि दिलेल्या विधानांचे दिलेल्यांपैकी कोणते निष्कर्ष तार्किकदृष्ट्या अनुसरण करतात, ते ठरवा.

विधाने:

- I. सर्व G हे T आहेत.
- II. कोणताही P हा Q नाही.
- III. कोणताही Q हा T नाही.

निष्कर्ष:

- I. कोणताही G हा P नाही.
- II. कोणताही Q हा G नाही.
- III. काही P हे T आहेत.
- IV. काही Q हे P नाहीत.

Ans

- ✓ 1. निष्कर्ष II आणि IV दोन्ही अनुसरण करतात
- ✗ 2. सर्व निष्कर्ष अनुसरण करतात
- ✗ 3. निष्कर्ष I, II आणि III अनुसरण करतात
- ✗ 4. निष्कर्ष III आणि IV दोन्ही अनुसरण करतात

Question Type : MCQ

Question ID : 910281771

Option 1 ID : 9102813034

Option 2 ID : 9102813033

Option 3 ID : 9102813035

Option 4 ID : 9102813036

Status : Answered

Chosen Option : 3

Q.8 पाच पुरुष A, B, C, D आणि E एका ओळीत उत्तरेकडे तोंड करून (त्याच क्रमाने असणे गरजेचे नाही.) बसले आहेत. D आणि E यांच्या दरम्यान एक पुरुष बसला आहे. C च्या उजवीकडे दुसऱ्या स्थानी A बसला आहे. D च्या लगतच डावीकडे B बसला आहे. ओळीच्या मध्यभागी कोण बसले आहे?

Ans

- ✗ 1. A
- ✗ 2. E
- ✓ 3. C
- ✗ 4. B

Question Type : MCQ

Question ID : 910281764

Option 1 ID : 9102813005

Option 2 ID : 9102813008

Option 3 ID : 9102813007

Option 4 ID : 9102813006

Status : Answered

Chosen Option : 3

Q.9 सहा वस्तूंची मागणी आणि पुरवठा या सारणीत दर्शवण्यात आला आहे?

वस्तू	मागणी	पुरवठा
A	500	600
B	600	700
C	750	850
D	800	900
E	250	400
F	150	350

खालीलपैकी कोणते विधान बरोबर आहे?

- I. वस्तू A ला असलेली मागणी वस्तू E ला असलेल्या मागणीपेक्षा 100 टक्के अधिक आहे.
- II. वस्तू B ची मागणी आणि पुरवठ्याची बेरीज ही वस्तू F च्या मागणी आणि पुरवठ्याच्या बेरजेच्या 260 टक्के आहे.
- III. सर्व 6 वस्तूंची एकूण मागणी आणि एकूण पुरवठा यांच्यातील फरक 750 आहे.

Ans

✗ 1. | आणि III

✗ 2. | आणि II

✓ 3. I, II आणि III

✗ 4. II आणि III

Question Type : MCQ

Question ID : 910281812

Option 1 ID : 9102813198

Option 2 ID : 9102813197

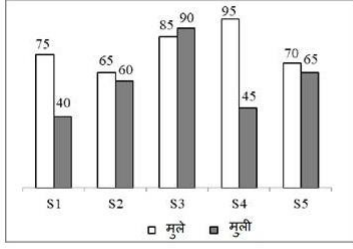
Option 3 ID : 9102813200

Option 4 ID : 9102813199

Status : Answered

Chosen Option : 3

Q.10 खालील स्तंभांखेखत पाच वेगवेगळ्या विषयांत मुलांनी आणि मुलींनी मिळवलेले गुण दर्शवण्यात आले आहेत.



सर्व पाच विषयांत मुलांनी मिळवलेले एकूण गुण हे मुलींनी सर्व पाच विषयांत मिळवलेल्या एकूण गुणांच्या किती टक्के आहेत?

- Ans
- ✗ 1. 100 टक्के
 - ✗ 2. 90 टक्के
 - ✗ 3. 150 टक्के
 - ✓ 4. 130 टक्के

Question Type : MCQ

Question ID : 910281811

Option 1 ID : 9102813193

Option 2 ID : 9102813196

Option 3 ID : 9102813195

Option 4 ID : 9102813194

Status : Answered

Chosen Option : 4

Q.11 या प्रश्नामध्ये विविध घटकांतील संबंध विधानांतून दर्शविण्यात आले आहेत. दिलेली विधाने सत्य आहेत असे गृहीत धरून, खालीलपैकी कोणते निष्कर्ष निश्चितपणे सत्य आहेत ते शोधा आणि तुमचे उत्तर द्या.

विधाने:

$$F \geq N, H > L, C < L, T \leq N, J \geq N, N = L$$

निष्कर्ष:

I. $J \geq L$

II. $H > N$

III. $F > C$

- Ans
- 1. निष्कर्ष II आणि निष्कर्ष III दोन्ही सत्य आहेत
 - 2. सर्व निष्कर्ष सत्य आहेत
 - 3. निष्कर्ष I आणि निष्कर्ष II दोन्ही सत्य आहेत
 - 4. केवळ निष्कर्ष III सत्य आहे

Question Type : MCQ

Question ID : 910281773

Option 1 ID : 9102813042

Option 2 ID : 9102813041

Option 3 ID : 9102813043

Option 4 ID : 9102813044

Status : Answered

Chosen Option : 1

Q.12 खालील प्रश्नात, दिलेल्या मालिकेतील गहाळ झालेली संख्या निवडा.

142, 141, 132, 107, ?

- Ans
- 1. 63
 - 2. 58
 - 3. 71
 - 4. 43

Question Type : MCQ

Question ID : 910281805

Option 1 ID : 9102813171

Option 2 ID : 9102813172

Option 3 ID : 9102813169

Option 4 ID : 9102813170

Status : Answered

Chosen Option : 2

Q.13 कोणत्याही शतकाचा शेवटचा वार खालीलपैकी कोणता असू शकतो?

- Ans
- ✗ 1. शनिवार
 - ✓ 2. सोमवार
 - ✗ 3. गुरुवार
 - ✗ 4. मंगळवार

Question Type : MCQ
Question ID : 910281787
Option 1 ID : 9102813099
Option 2 ID : 9102813098
Option 3 ID : 9102813100
Option 4 ID : 9102813097
Status : Marked For Review
Chosen Option : 4

Q.14 A, B, C, D, E, F आणि G या सात व्यक्ती एका वर्तुळाकार टेबलाभोवती केंद्राकडे लोंड करून (त्याच क्रमाने असणे गरजेचे नाही) बसल्या आहेत. A आणि B यांच्या दरम्यान दोन व्यक्ती बसल्या आहेत. G च्या लगतच उजवीकडे A बसला आहे. E च्या लगतच डावीकडे C बसला आहे. G च्या डावीकडे तिसऱ्या स्थानी D बसला आहे.

खालीलपैकी कोणते विधान बरोबर आहे?

- I. F च्या डावीकडे दुसऱ्या स्थानी D बसला आहे.
- II. A च्या लगतच उजवीकडे C बसला आहे.

- Ans
- ✗ 1. I किंवा II यापैकी एकही नाही
 - ✗ 2. केवळ I
 - ✓ 3. I आणि II दोन्ही
 - ✗ 4. केवळ II

Question Type : MCQ
Question ID : 910281766
Option 1 ID : 9102813016
Option 2 ID : 9102813013
Option 3 ID : 9102813015
Option 4 ID : 9102813014
Status : Answered
Chosen Option : 3

Q.15 या प्रश्नामध्ये विविध घटकांतील संबंध विधानांतून दर्शविण्यात आले आहेत. दिलेली विधाने सत्य आहेत असे गृहीत धरून, खालीलपैकी कोणते निष्कर्ष निश्चितपणे सत्य आहेत ते शोधा आणि तुमचे उत्तर द्या.

विधाने:

$$A = B, L > B, L < K, J \geq K, T = J$$

निष्कर्ष:

I. $J \geq L$

II. $A < T$

Ans

✗ 1. एकतर निष्कर्ष । किंवा निष्कर्ष ॥ यापैकी एक सत्य आहे

✓ 2. केवळ निष्कर्ष ॥ सत्य आहे

✗ 3.

निष्कर्ष । किंवा निष्कर्ष ॥ यापैकी कोणताही निष्कर्ष सत्य नाही

✗ 4. केवळ निष्कर्ष । सत्य आहे

Question Type : MCQ

Question ID : 910281772

Option 1 ID : 9102813039

Option 2 ID : 9102813038

Option 3 ID : 9102813040

Option 4 ID : 9102813037

Status : Answered

Chosen Option : 3

Q.16 शब्द आणि संख्यांची रचना करणाऱ्या एका मशिनला शब्द आणि संख्यांची इनपुट लाईन दिली जाते, तेव्हा प्रत्येक चरणत एका विशिष्ट नियमाचे पालन करून त्यांची पुनर्रचना केली जाते. खाली इनपुट आणि पुनर्रचना यांचे उदाहरण दिले आहे.

इनपुट: RAM KIN TOM PAN

चरण 1: SBN LJO UPN QBO

चरण 2: 35 37 51 34

चरण 3: 8 10 6 7

चरण 3 ही शेवटचे चरण आहे.

वर उल्लेख केलेल्या तर्काचा वापर करून, खालील इनपुटसाठी विविध चरण पडताळून पाहा.

इनपुट: JAB PIG STY ROM

कोणता घटक दोन वेळा येतो ती शेवटचे चरण आहे?

Ans

✗ 1. 67

✗ 2. 7

✓ 3. 13

✗ 4. 8

Question Type : MCQ

Question ID : 910281793

Option 1 ID : 9102813121

Option 2 ID : 9102813123

Option 3 ID : 9102813124

Option 4 ID : 9102813122

Status : Answered

Chosen Option : 3

Q.17 पुढील प्रश्नामध्ये =, <, >, ≥ आणि ≤ ही चिन्हे खाली सोदाहरण दर्शवल्याप्रमाणे पुढील अर्थाने वापरली जातात:

'P = Q' म्हणजे 'P हा Q पेक्षा लहान ही नाही आणि समान ही नाही'.

'P < Q' म्हणजे 'P हा Q पेक्षा लहान नाही'.

'P > Q' म्हणजे 'P हा Q पेक्षा मोठा नाही'.

'P ≥ Q' म्हणजे 'P हा Q पेक्षा मोठा ही नाही आणि समान ही नाही'.

'P ≤ Q' म्हणजे 'P हा Q पेक्षा मोठा ही नाही लहान ही नाही'.

आता, प्रश्नात दिलेली विधाने सत्य असल्याचे गृहीत धरा, खाली दिलेल्या निष्कर्षांपैकी कोणते निष्कर्ष निश्चितपणे सत्य आहेत शोधा आणि तुमचे उत्तर द्या.

विधाने:

A ≤ M, J ≤ F, F = R, R < M, M ≥ N

निष्कर्ष:

I. A > F

II. R = N

III. J = M

- Ans
- ✗ 1. केवळ निष्कर्ष II सत्य आहे
 - ✓ 2. केवळ निष्कर्ष III सत्य आहे
 - ✗ 3. कोणताही निष्कर्ष सत्य नाही
 - ✗ 4. सर्व निष्कर्ष सत्य आहेत

Question Type : MCQ

Question ID : 910281774

Option 1 ID : 9102813047

Option 2 ID : 9102813046

Option 3 ID : 9102813048

Option 4 ID : 9102813045

Status : Answered

Chosen Option : 3

Q.18 एक पद गहाळ असलेली एक मालिका देण्यात आली आहे. दिलेल्या पर्यायांतून अचूक पर्याय निवडा आणि मालिका पूर्ण करा.

SMTW, UPOP, WSJI, YVEB, ?

- Ans
- ✓ 1. AYZU
 - ✗ 2. AYZV
 - ✗ 3. AZZU
 - ✗ 4. BYZU

Question Type : MCQ

Question ID : 910281780

Option 1 ID : 9102813069

Option 2 ID : 9102813071

Option 3 ID : 9102813070

Option 4 ID : 9102813072

Status : Answered

Chosen Option : 1

Q.19 प्रश्नचिन्हाच्या (?) जागी कोणते अंदाजित मूल्य आले पाहिजे?

$$\frac{729}{\sqrt{80.8}} + \frac{180.12}{18} = ?$$

- Ans
- 1. 99
 - 2. 91
 - 3. 180
 - 4. 85

Question Type : MCQ

Question ID : 910281806

Option 1 ID : 9102813176

Option 2 ID : 9102813175

Option 3 ID : 9102813173

Option 4 ID : 9102813174

Status : Not Attempted and Marked For Review

Chosen Option : --

Q.20 सहा व्यक्ती P, Q, R, X, Y आणि Z एका ओळीत दक्षिणेकडे लॉड करून (त्याच क्रमाने असणे गरजेचे नाही) बसले आहेत. X च्या लगतच उजवीकडे Z बसला आहे. P आणि R यांच्यादरम्यान एक व्यक्ती बसला आहे. Y च्या डावीकडे दुसऱ्या स्थानी Q बसला आहे. X च्या उजवीकडे तिसऱ्या स्थानी R बसला आहे.

खालीलपैकी कोणते विधान बरोबर आहे?

I. P हा Q च्या डावीकडे दुसऱ्या स्थानी बसला आहे.

II. Y आणि Z यांच्या दरम्यान दोन व्यक्ती बसल्या आहेत.

- Ans
- 1. केवळ II
 - 2. केवळ I
 - 3. I आणि II दोन्ही
 - 4. किंवा II यांपैकी एकही नाही

Question Type : MCQ

Question ID : 910281765

Option 1 ID : 9102813010

Option 2 ID : 9102813009

Option 3 ID : 9102813011

Option 4 ID : 9102813012

Status : Answered

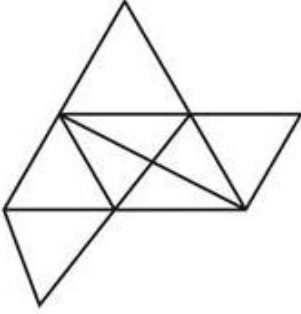
Chosen Option : 3

Q.21 जर 'A + B' म्हणजे 'A ही B ची पत्नी आहे', 'A - B' म्हणजे 'A ही B ची बहीण आहे', 'A % B' म्हणजे 'A हा B चा भाऊ आहे', 'A + B' म्हणजे 'A हे B चे वडील आहेत' आणि 'A # B' म्हणजे 'A ही B ची मुलगी आहे', तर $P \% Q + R + S - T \% U$ च्या संदर्भात, Q चे T शी काय नाते आहे?

- Ans
- ✗ 1. काकी / मामी / आत्या / मावशी
 - ✗ 2. बहीण
 - ✗ 3. मेहुणी / नणंद / भावजय
 - ✓ 4. आई

Question Type : MCQ
Question ID : 910281796
Option 1 ID : 9102813133
Option 2 ID : 9102813134
Option 3 ID : 9102813135
Option 4 ID : 9102813136
Status : Answered
Chosen Option : 1

Q.22 दिलेल्या आकृतीत किती त्रिकोण आहेत?



- Ans
- ✗ 1. 13
 - ✓ 2. 16
 - ✗ 3. 15
 - ✗ 4. 14

Question Type : MCQ
Question ID : 910281803
Option 1 ID : 9102813161
Option 2 ID : 9102813164
Option 3 ID : 9102813163
Option 4 ID : 9102813162
Status : Answered
Chosen Option : 3

Q.23 पहिल्या 1700 वर्षात किती विषम दिवस आहेत?

- Ans
- 1. 3
 - 2. 1
 - 3. 4
 - 4. 5

Question Type : MCQ

Question ID : 910281784

Option 1 ID : 9102813085

Option 2 ID : 9102813086

Option 3 ID : 9102813087

Option 4 ID : 9102813088

Status : Answered

Chosen Option : 1

Q.24 एक पद गहाळ असलेली एक मालिका देण्यात आली आहे. दिलेल्या पर्यायांतून अचूक पर्याय निवडा आणि मालिका पूर्ण करा.

UBPM, LIKP, CPFS, TWAV, ?

- Ans
- 1. KEVY
 - 2. KDVY
 - 3. KD VX
 - 4. KDUY

Question Type : MCQ

Question ID : 910281782

Option 1 ID : 9102813080

Option 2 ID : 9102813079

Option 3 ID : 9102813077

Option 4 ID : 9102813078

Status : Answered

Chosen Option : 2

Q.25 W1, W2, W3, W4, W5 आणि W6 या सहा महिलांची वये वेगवेगळी आहेत. W4 चे वय W5 पेक्षा कमी आहे. W2 आणि W6 यांचे वय W5 पेक्षा अधिक आहे, पण W1 पेक्षा कमी आहे. W3 चे वय W2 पेक्षा कमी आहे, मात्र W6 पेक्षा जास्त आहे.

खालीलपैकी कोणते विधान अचूक आहे?

- I. W4 ही सर्वात कमी वयाची महिला आहे.
II. तीन महिलांचे वय W3 पेक्षा जास्त आहे.

Ans

- ✓ 1. केवळ I
✗ 2. केवळ II
✗ 3. I किंवा II यांपैकी कोणतेही नाही
✗ 4. I आणि II दोन्ही

Question Type : MCQ

Question ID : 910281777

Option 1 ID : 9102813057

Option 2 ID : 9102813058

Option 3 ID : 9102813060

Option 4 ID : 9102813059

Status : Answered

Chosen Option : 4

Q.26 संजयने दक्षिणकडे चालण्यास सुरुवात केली आणि 25 km चालत गेला. तो डावीकडे वळला आणि 25 km चालत गेला. तो 45 अंशांच्या कोनात डावीकडे वळला आणि $25\sqrt{2}$ km चालत गेला. प्रारंभ बिंदूपासून तो किती दूर आहे?

Ans

- ✗ 1. 60 km
✓ 2. 50 km
✗ 3. $50\sqrt{2}$ km
✗ 4. $60\sqrt{2}$ km

Question Type : MCQ

Question ID : 910281794

Option 1 ID : 9102813127

Option 2 ID : 9102813125

Option 3 ID : 9102813126

Option 4 ID : 9102813128

Status : Marked For Review

Chosen Option : 3

Q.27 तीन व्यक्ती P, Q आणि R एका रांगेत उभ्या आहेत. P आणि Q यांच्या दरम्यान 10 व्यक्ती रांगेत उभ्या आहेत आणि Q आणि R यांच्या दरम्यान 16 व्यक्ती उभ्या आहेत. जर R च्या आधी केवळ 6 व्यक्ती असतील आणि P च्या मागे 42 व्यक्ती असतील तर रांगेतील व्यक्तींची किमान संख्या किती असेल?

- Ans
- 1. 56
 - 2. 55
 - 3. 53
 - 4. 54

Question Type : MCQ

Question ID : 910281770

Option 1 ID : 9102813032

Option 2 ID : 9102813031

Option 3 ID : 9102813029

Option 4 ID : 9102813030

Status : Answered

Chosen Option : 3

Q.28 B1, B2, B3, B4 आणि B5 ही पाच मुले एका वर्तुळाकार टेबलाभोवती केंद्राकडे तोंड करून बसली आहेत (त्याच क्रमाने असणे गरजेचे नाही). B5 च्या लगतच डावीकडे B2 बसला आहे. B1 च्या उजवीकडे दुसऱ्या स्थानी B3 बसला आहे. B4 च्या उजवीकडे तिसऱ्या स्थानी कोण बसले आहे?

- Ans
- 1. B1
 - 2. B5
 - 3. B3
 - 4. B2

Question Type : MCQ

Question ID : 910281763

Option 1 ID : 9102813001

Option 2 ID : 9102813004

Option 3 ID : 9102813003

Option 4 ID : 9102813002

Status : Answered

Chosen Option : 2

Q.29 जर 'A' म्हणजे '-', 'B' म्हणजे 'x', 'C' म्हणजे '+' आणि 'D' म्हणजे '+ असेल', तर खालीलपैकी कोणते समीकरण अचूक आहे?

I. $3 B 2 A 6 D 2 = 3$

II. $12 D 4 B 3 A 9 = 1$

Ans

✓ 1. केवळ I

✗ 2. केवळ II

✗ 3. I आणि II दोन्ही

✗ 4. किंवा II यांपैकी एकही नाही

Question Type : MCQ

Question ID : 910281808

Option 1 ID : 9102813181

Option 2 ID : 9102813182

Option 3 ID : 9102813183

Option 4 ID : 9102813184

Status : Answered

Chosen Option : 3

Q.30 एका सांकेतिक भाषेत 'red ball is green' हे 'sa re pa da' असे लिहिले जाते, 'green and yellow' हे 'ni re ga' असे लिहिले जाते, 'yellow is beautiful' हे 'pa ga ma' असे लिहिले जाते आणि 'beautiful is red' हे 'sa ma pa' असे लिहिले जाते. त्या सांकेतिक भाषेत 'ball' साठी सांकेतिक शब्द कोणता आहे?

Ans

✗ 1. pa

✗ 2. sa

✓ 3. da

✗ 4. ni

Question Type : MCQ

Question ID : 910281791

Option 1 ID : 9102813114

Option 2 ID : 9102813113

Option 3 ID : 9102813115

Option 4 ID : 9102813116

Status : Answered

Chosen Option : 3

Q.31 शब्दांची रचना करणाऱ्या एका मशिनला शब्दांची इनपुट लाईन दिली जाते, तेव्हा प्रत्येक चरणात एका विशिष्ट नियमाचे पालन करून त्यांची पुनर्रचना केली जाते. खाली इनपुट आणि पुनर्रचना यांचे उदाहरण दिले आहे.

इनपुट: Rob Pen Hed Ton Lag

चरण 1: Ton Rob Pen Hed Lag

चरण 2: Ton Rob Pen Lag Hed

चरण 2 ही शेवटचे चरण आहे.

वर उल्लेख केलेल्या तर्काचा वापर करून, खालील इनपुटसाठी विविध चरण पडताळून पाहा.

इनपुट: Aman Lab Ring Wax Pole

इच्छित आउटपुट मिळवण्यासाठी किती चरणाची आवश्यकता आहे?

- Ans**
- 1. तीन
 - 2. चार
 - 3. दोन
 - 4. चार पेक्षा अधिक

Question Type : MCQ

Question ID : 910281792

Option 1 ID : 9102813117

Option 2 ID : 9102813119

Option 3 ID : 9102813120

Option 4 ID : 9102813118

Status : Answered

Chosen Option : 2

Q.32 एक पद गहाळ असलेली एक मालिका देण्यात आली आहे. दिलेल्या पर्यायांतून अचूक पर्याय निवडा आणि मालिका पूर्ण करा.

JPK, NJO, RDS, VXW, ?

- Ans**
- 1. ZRA
 - 2. YRA
 - 3. ZSA
 - 4. ZRB

Question Type : MCQ

Question ID : 910281781

Option 1 ID : 9102813074

Option 2 ID : 9102813075

Option 3 ID : 9102813076

Option 4 ID : 9102813073

Status : Answered

Chosen Option : 1

Q.33 एका विशिष्ट सांकेतिक भाषेत 'sun is red' हे ' Δ 0 #' असे लिहिले जाते, 'red and black' हे '@ Δ 0' असे लिहिले जाते आणि 'black is white' हे '0 \times 0' असे लिहिले जाते. दिलेल्या सांकेतिक भाषेत 'sun' साठी सांकेतिक शब्द / चिन्ह कोणता आहे?

- Ans
- ✓ 1. #
 - ✗ 2. Δ
 - ✗ 3. @
 - ✗ 4. 0

Question Type : MCQ

Question ID : 910281790

Option 1 ID : 9102813110

Option 2 ID : 9102813111

Option 3 ID : 9102813112

Option 4 ID : 9102813109

Status : Answered

Chosen Option : 1

Q.34 खाली दिलेल्या संख्यांच्या मालिकेवर आधारित पुढील प्रश्नाचे उत्तर द्या.

5542319628943257397845628624194

यात असे किती सम अंक आहेत, जे सम अंकांच्या लगेचच आधी येतात?

- Ans
- ✓ 1. 9
 - ✗ 2. 7
 - ✗ 3. 11
 - ✗ 4. 10

Question Type : MCQ

Question ID : 910281785

Option 1 ID : 9102813090

Option 2 ID : 9102813089

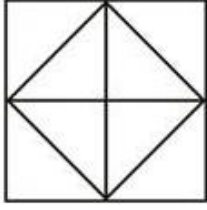
Option 3 ID : 9102813091

Option 4 ID : 9102813092

Status : Answered

Chosen Option : 1

Q.35 दिलेल्या आकृतीत किती त्रिकोण आहेत?



- Ans
- ✗ 1. 13
 - ✗ 2. 14
 - ✓ 3. 12
 - ✗ 4. 15

Question Type : MCQ

Question ID : 910281802

Option 1 ID : 9102813158

Option 2 ID : 9102813159

Option 3 ID : 9102813157

Option 4 ID : 9102813160

Status : Answered

Chosen Option : 3

Q.36 खालील प्रश्नात प्रश्नचिन्हाच्या (?) जागी येऊ शकेल, अशी आकृती दिलेल्या पर्यायांतून निवडा.



Ans

- ✓ 1.
- ✗ 2.
- ✗ 3.
- ✗ 4.

Question Type : MCQ

Question ID : 910281799

Option 1 ID : 9102813147

Option 2 ID : 9102813148

Option 3 ID : 9102813146

Option 4 ID : 9102813145

Status : Answered

Chosen Option : 1

Q.37 जर 'P = Q' म्हणजे 'P ही Q ची आई आहे', 'P @ Q' म्हणजे 'P हा Q चा भाऊ आहे', 'P × Q' म्हणजे 'P ही Q ची बहीण आहे' आणि 'P # Q' म्हणजे 'P हा Q चा मुलगा आहे', तर D = E × F # G च्या संदर्भात, G चे D शी काय नाते आहे?

Ans

- ✓ 1. पती
- ✗ 2. पत्नी
- ✗ 3. चुलत / मावस / मामे / आते भावंड
- ✗ 4. भाऊ

Question Type : MCQ

Question ID : 910281795

Option 1 ID : 9102813132

Option 2 ID : 9102813129

Option 3 ID : 9102813131

Option 4 ID : 9102813130

Status : Answered

Chosen Option : 4

Q.38 एक पद गहाळ असलेली एक मालिका देण्यात आली आहे. दिलेल्या पर्यायांतून अचूक पर्याय निवडा आणि मालिका पूर्ण करा.

LN, QS, VX, AC, ?

Ans

- ✗ 1. FI
- ✓ 2. FH
- ✗ 3. GI
- ✗ 4. EH

Question Type : MCQ

Question ID : 910281779

Option 1 ID : 9102813066

Option 2 ID : 9102813068

Option 3 ID : 9102813067

Option 4 ID : 9102813065

Status : Answered

Chosen Option : 2

Q.39 एका विशिष्ट सांकेतिक भाषेत, 'You are good' हे '@ # \$' असे लिहिले जाते आणि 'good and bad' हे '\$ + x' असे लिहिले जाते. दिलेल्या सांकेतिक भाषेत 'good' साठी सांकेतिक शब्द / चिन्ह कोणता आहे?

- Ans
- 1. #
 - 2. ÷
 - 3. @
 - 4. \$

Question Type : MCQ
Question ID : 910281788
Option 1 ID : 9102813103
Option 2 ID : 9102813102
Option 3 ID : 9102813101
Option 4 ID : 9102813104
Status : Answered
Chosen Option : 4

Q.40 80 मुलांच्या एका ओळीत, जेव्हा राधेला त्याच्या स्थानावरून 8 ठिकाणी डावीकडे हलवले जाते, तेव्हा त्याची स्थिती डावीकडून 20 होते. जर रंजन हे राधेच्या मूळ स्थानाच्या उजवीकडे 6 स्थानावर असेल, तर राधेच्या उजव्या टोकापासून रंजनचे स्थान काय होते?

- Ans
- 1. 46 वे
 - 2. 47 वे
 - 3. 48 वे
 - 4. 49 वे

Question Type : MCQ
Question ID : 910281768
Option 1 ID : 9102813021
Option 2 ID : 9102813022
Option 3 ID : 9102813023
Option 4 ID : 9102813024
Status : Answered
Chosen Option : 2

Q.41 75 विद्यार्थ्यांच्या ओळीत समीर उजव्या टोकाकडून 26 व्या स्थानी आहे. ओळीच्या डाव्या टोकाकडून त्याचे स्थान कितवे आहे?

- Ans
- 1. 48वे
 - 2. 49वे
 - 3. 50वे
 - 4. 51वे

Question Type : MCQ
Question ID : 910281767
Option 1 ID : 9102813017
Option 2 ID : 9102813018
Option 3 ID : 9102813019
Option 4 ID : 9102813020
Status : Answered
Chosen Option : 3

Q.42 खाली दिलेल्या संख्यांच्या मालिकेवर आधारित पुढील प्रश्नाचे उत्तर द्या.

3426895142289446358494321543258462

यात सम अंक किती आहेत?

- Ans
- ✓ 1. 21
 - ✗ 2. 23
 - ✗ 3. 20
 - ✗ 4. 24

Question Type : MCQ

Question ID : 910281783

Option 1 ID : 9102813084

Option 2 ID : 9102813081

Option 3 ID : 9102813082

Option 4 ID : 9102813083

Status : Answered

Chosen Option : 1

Q.43 P, Q, R, S, T आणि U या सहा विद्यार्थ्यांची उंची वेगवेगळी आहे. U हा S पेक्षा बुटका आहे. तीन विद्यार्थी Q आणि T पेक्षा अनुक्रमे उंच आणि बुटके आहेत. P हा R पेक्षा उंच आहे जो T पेक्षा उंच आहे. S पेक्षा किती विद्यार्थी उंच आहेत?

- Ans
- ✗ 1. 3
 - ✗ 2. 2
 - ✓ 3. 4
 - ✗ 4. 1

Question Type : MCQ

Question ID : 910281776

Option 1 ID : 9102813055

Option 2 ID : 9102813054

Option 3 ID : 9102813056

Option 4 ID : 9102813053

Status : Answered

Chosen Option : 1

Q.44 खाली दिलेल्या अक्षरे आणि चिन्हांच्या मालिकेवर आधारित पुढील प्रश्नाचे उत्तर द्या.

@AB#%J+&RKAPQ+-%K@&LM@P&QR%HG

या मालिकेचा दुसरा अर्धा भाग उलट केल्यानंतर, डाव्या टोकाकडून 19 व्या स्थानी येणारा घटक कोणता असेल?

- Ans
- 1. Q
 - 2. &
 - 3. %
 - 4. R

Question Type : MCQ

Question ID : 910281786

Option 1 ID : 9102813094

Option 2 ID : 9102813095

Option 3 ID : 9102813096

Option 4 ID : 9102813093

Status : Answered

Chosen Option : 2

Q.45 एका विशिष्ट सांकेतिक भाषेत 'exam is difficult' हे '% # *' असे लिहिले जाते, 'difficult cannot pass' हे '@ x #' असे लिहिले जाते आणि 'pass is easy' हे '\$ % x' असे लिहिले जाते. दिलेल्या सांकेतिक भाषेत 'cannot' साठी सांकेतिक शब्द / चिन्ह कोणता आहे?

- Ans
- 1. x
 - 2. @
 - 3. #
 - 4. \$

Question Type : MCQ

Question ID : 910281789

Option 1 ID : 9102813106

Option 2 ID : 9102813108

Option 3 ID : 9102813105

Option 4 ID : 9102813107

Status : Answered

Chosen Option : 2

Q.46 दिलेल्या मालिकेतील एक पद चुकीचे आहे. दिलेल्या पर्यायांमधून चुकीचे पद निवडा.

27, 27, 28, 30, 34, 37, 42

- Ans
- 1. 37
 - 2. 34
 - 3. 28
 - 4. 30

Question Type : MCQ
Question ID : 910281804
Option 1 ID : 9102813165
Option 2 ID : 9102813167
Option 3 ID : 9102813168
Option 4 ID : 9102813166
Status : Answered
Chosen Option : 2

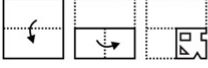
Q.47 कोणती दोन चिन्हे आणि दोन अंकांची अदलाबदल केल्यानंतर दिलेल्या समीकरणाचे मूल्य '16' होईल?

$$5 \times 4 + 2 - 3 \div 7$$

- Ans
- 1. 7 आणि 5, \div आणि +
 - 2. 7 आणि 2, \div आणि -
 - 3. 2 आणि 7, \times आणि +
 - 4. 5 आणि 3, \div आणि \times

Question Type : MCQ
Question ID : 910281809
Option 1 ID : 9102813187
Option 2 ID : 9102813185
Option 3 ID : 9102813188
Option 4 ID : 9102813186
Status : Answered
Chosen Option : 1

Q.48 प्रश्नाच्या आकृतीत दर्शवल्याप्रमाणे कागदाच्या एका तुकड्याची घडी करण्यात आली आणि त्याला पंच करण्यात आले. जेव्हा तो उघडला जाईल तेव्हा तो कसा दिसेल हे दिलेल्या उत्तर आकृत्यांमधून, दर्शवा?



Ans

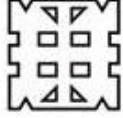
✗ 1.



✗ 2.



✓ 3.



✗ 4.



Question Type : MCQ

Question ID : 910281801

Option 1 ID : 9102813154

Option 2 ID : 9102813153

Option 3 ID : 9102813155

Option 4 ID : 9102813156

Status : Answered

Chosen Option : 4

Q.49 जर 'Δ' म्हणजे 'x', 'o' म्हणजे '+', '@' म्हणजे '-' आणि '#' म्हणजे '+' असेल, तर $52 \circ 13 \Delta 2 \# 3 @ 8 = ?$

Ans

✗ 1. 8

✗ 2. 2

✓ 3. 3

✗ 4. 5

Question Type : MCQ

Question ID : 910281807

Option 1 ID : 9102813178

Option 2 ID : 9102813180

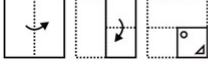
Option 3 ID : 9102813177

Option 4 ID : 9102813179

Status : Answered

Chosen Option : 3

Q.50 प्रश्नाच्या आकृतीत दर्शवल्याप्रमाणे कागदयाच्या एका तुकड्याची घडी करण्यात आली आणि त्याला पंच करण्यात आले. जेव्हा तो उघडला जाईल तेव्हा तो कसा दिसेल हे दिलेल्या उत्तर आकृत्यांमधून, दर्शवा?

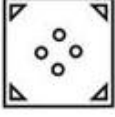


Ans

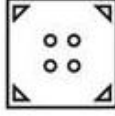
✗ 1.



✗ 2.



✓ 3.



✗ 4.



Question Type : MCQ

Question ID : 910281800

Option 1 ID : 9102813149

Option 2 ID : 9102813151

Option 3 ID : 9102813150

Option 4 ID : 9102813152

Status : Answered

Chosen Option : 3



Maharashtra Housing and Area Development Authority-2021

महाराष्ट्र गृहनिर्माण व क्षेत्रविकास प्राधिकरण-२०२१

Participant ID	[REDACTED]
Participant Name	[REDACTED]
Test Center Name	[REDACTED]
Test Date	08/02/2022
Test Time	12:30 PM - 2:30 PM
Subject	Cluster 6

Section : Marathi Language

Q.1 अधोरेखित शब्दाचा विरुद्धार्थी शब्द ओळखा.

'भास्कर संकुचित विचारांचा आहे'

- Ans 1. बुद्धिजीवी
 2. व्यापक
 3. कुशाग्र
 4. अज्ञानी

Question Type : MCQ

Question ID : 489564427

Option 1 ID : 4895641684

Option 2 ID : 4895641683

Option 3 ID : 4895641682

Option 4 ID : 4895641681

Status : Answered

Chosen Option : 2

Q.2 'रूमाल, पगडी, पागोटे या शब्दांचे लिंग ओळखून क्रम लावा.

- Ans 1. स्त्रीलिंग, नपुंसकलिंग, स्त्रीलिंग
 2. पुल्लिंग, नपुंसकलिंग, स्त्रीलिंग
 3. पुल्लिंग, स्त्रीलिंग, नपुंसकलिंग
 4. पुल्लिंग, पुल्लिंग, नपुंसकलिंग

Question Type : MCQ

Question ID : 489564437

Option 1 ID : 4895641723

Option 2 ID : 4895641721

Option 3 ID : 4895641724

Option 4 ID : 4895641722

Status : Answered

Chosen Option : 3

Q.3 'आंवे' या शब्दाचे मूळ रूप लक्षात घेतल्यास त्याचे लिंग कोणते ते ओळखा.

- Ans 1. पुल्लिंग
 2. नपुंसकलिंग
 3. उभयलिंग
 4. स्त्रीलिंग

Question Type : MCQ
Question ID : 489564435
Option 1 ID : 4895641713
Option 2 ID : 4895641716
Option 3 ID : 4895641715
Option 4 ID : 4895641714
Status : Answered
Chosen Option : 1

Q.4 महानुभाव संप्रदायाचे प्रवर्तक कोण आहेत?

- Ans 1. संत ज्ञानेश्वर
 2. चक्रधरस्वामी
 3. चैतन्य प्रभू
 4. गोरक्षनाथ

Question Type : MCQ
Question ID : 489564410
Option 1 ID : 4895641614
Option 2 ID : 4895641613
Option 3 ID : 4895641616
Option 4 ID : 4895641615
Status : Answered
Chosen Option : 2

Q.5 'तू कामात ह्यगय केलेली मला अजिबात चालणार नाही.' अधोरेखित शब्दाचा समानार्थी शब्द ओळखा.

- Ans 1. मसलत
 2. असूया
 3. कलह
 4. दिरंगाई

Question Type : MCQ
Question ID : 489564423
Option 1 ID : 4895641665
Option 2 ID : 4895641668
Option 3 ID : 4895641666
Option 4 ID : 4895641667
Status : Answered
Chosen Option : 4

Q.6 'माझा मन्हाठाचि बोलु कवतिकें । परि अमृतातेंही पैजांसी जिंके ।।' या ओवीचे रचनाकार कोण आहेत?

- Ans
- 1. रामजोशी
 - 2. म्हाइंभट
 - 3. मोरोपंत
 - 4. संत ज्ञानेश्वर

Question Type : MCQ
Question ID : 489564411
Option 1 ID : 4895641618
Option 2 ID : 4895641620
Option 3 ID : 4895641617
Option 4 ID : 4895641619
Status : Answered
Chosen Option : 2

Q.7 विरुद्धार्थी शब्द सांगा.

'दुर्भिक्ष'

- Ans
- 1. सुबत्ता
 - 2. अनुज
 - 3. टंचाई
 - 4. नीच

Question Type : MCQ
Question ID : 489564429
Option 1 ID : 4895641689
Option 2 ID : 4895641692
Option 3 ID : 4895641690
Option 4 ID : 4895641691
Status : Answered
Chosen Option : 1

Q.8 द्विगु समासाच्या संदर्भातील खालीलपैकी कोणते विधान चुकीचे आहे?

- Ans
- 1. पहिले पद संख्याविशेषण असते.
 - 2. हा समास नेहमी एकवचनात असतो.
 - 3. दुसरे पद महत्त्वाचे असते.
 - 4. दोन्ही पदे महत्त्वाची असतात.

Question Type : MCQ
Question ID : 489564440
Option 1 ID : 4895641735
Option 2 ID : 4895641736
Option 3 ID : 4895641733
Option 4 ID : 4895641734
Status : Answered
Chosen Option : 4

Q.9 'ही इमारत उंच आहे.' या वाक्याचे उद्गारार्थी वाक्यात रूपांतर खालीलपैकी कोणते असेल?

- Ans 1. ही अतिशय उंच इमारत आहे.
 2. केवढी उंच इमारत ही!
 3. केवढी उंच इमारत आहे ना?
 4. उंच इमारत आहे ही.

Question Type : MCQ
Question ID : 489564442
Option 1 ID : 4895641744
Option 2 ID : 4895641741
Option 3 ID : 4895641743
Option 4 ID : 4895641742
Status : Answered
Chosen Option : 2

Q.10 खाली दिलेल्या समानार्थी शब्दांच्या गटातील चुकीचा पर्याय कोणता आहे?

- Ans 1. हरीण, सारंग, मृग
 2. संहार, नाश, विनाश
 3. समुद्र, रत्नाकर, अर्णव
 4. वारा, अनिल, आदित्य

Question Type : MCQ
Question ID : 489564424
Option 1 ID : 4895641671
Option 2 ID : 4895641670
Option 3 ID : 4895641672
Option 4 ID : 4895641669
Status : Answered
Chosen Option : 4

Q.11 वाक्याचा प्रकार ओळखा.

'तुझे नाव काय?'

- Ans 1. उद्गारार्थी
 2. विधानार्थी
 3. संयुक्त
 4. प्रश्नार्थी

Question Type : MCQ
Question ID : 489564441
Option 1 ID : 4895641738
Option 2 ID : 4895641737
Option 3 ID : 4895641740
Option 4 ID : 4895641739
Status : Answered
Chosen Option : 4

Q.12 'ययाति' कादंबरीचे लेखक कोण?

- Ans
- 1. ह. ना. आपटे
 - 2. ना. सी. फडके
 - 3. वि. स. खांडेकर
 - 4. गंगाधर गाडगीळ

Question Type : MCQ

Question ID : 489564408

Option 1 ID : 4895641608

Option 2 ID : 4895641606

Option 3 ID : 4895641605

Option 4 ID : 4895641607

Status : Answered

Chosen Option : 3

Q.13 योग्य जोड्या लावा.

'अ' गट	'ब' गट
a) बोकड	i) म्हैस
b) बोका	ii) शेळी
c) विधुर	iii) भाटी
d) रेडा	iv) विधवा

- Ans
- 1. a-ii,b-iii,c-iv,d-i
 - 2. a-i,b-iii,c-iv,d-ii
 - 3. a-iii,b-ii,c-iv,d-i
 - 4. a-ii,b-iii,c-i,d-iv

Question Type : MCQ

Question ID : 489564436

Option 1 ID : 4895641718

Option 2 ID : 4895641720

Option 3 ID : 4895641719

Option 4 ID : 4895641717

Status : Answered

Chosen Option : 1

Q.14 वचन बदला.

'फूल'

- Ans
- 1. फुली
 - 2. फूल
 - 3. फुल
 - 4. फुले

Question Type : MCQ

Question ID : 489564431

Option 1 ID : 4895641697

Option 2 ID : 4895641700

Option 3 ID : 4895641698

Option 4 ID : 4895641699

Status : Answered

Chosen Option : 2

Q.15 विरामचिन्हे वापरून वाक्य पुन्हा लिहा.

तो म्हणाला आवडले का तुला हे पुस्तक

- Ans 1. तो म्हणाला, "आवडले का तुला हे पुस्तक?"
 2. तो म्हणाला आवडले का तुला हे पुस्तक?"
 3. तो म्हणाला, आवडले का तुला! हे. पुस्तक,
 4. तो म्हणाला, "आवडले का तुला हे पुस्तक

Question Type : MCQ

Question ID : 489564420

Option 1 ID : 4895641653

Option 2 ID : 4895641654

Option 3 ID : 4895641656

Option 4 ID : 4895641655

Status : Answered

Chosen Option : 1

Q.16 इमारत, भाकरी, लेखणी, पणती या शब्दांचे लिंग ओळखा.

- Ans 1. उभयलिंग
 2. नपुंसकलिंग
 3. पुल्लिंग
 4. स्त्रीलिंग

Question Type : MCQ

Question ID : 489564434

Option 1 ID : 4895641712

Option 2 ID : 4895641711

Option 3 ID : 4895641709

Option 4 ID : 4895641710

Status : Answered

Chosen Option : 4

Q.17 ज्याच्यावर क्रिया घडते त्याला काय म्हणतात?

- Ans 1. सर्वनाम
 2. अव्यय
 3. क्रियापद
 4. कर्म

Question Type : MCQ

Question ID : 489564451

Option 1 ID : 4895641779

Option 2 ID : 4895641780

Option 3 ID : 4895641778

Option 4 ID : 4895641777

Status : Answered

Chosen Option : 3

Q.18 खाली समानार्थी शब्दांच्या जोड्या दिलेल्या आहेत, त्यातील चुकीचा पर्याय सांगा.

- Ans 1. कुत्रा - श्वान
 2. कणव - न्यूनता
 3. खून - हत्या
 4. खूण - चिन्ह

Question Type : MCQ
Question ID : 489564422
Option 1 ID : 4895641663
Option 2 ID : 4895641664
Option 3 ID : 4895641661
Option 4 ID : 4895641662
Status : Answered
Chosen Option : 2

Q.19 वर्तमानकाळातील वाक्य ओळखा.

- Ans 1. मी खेळत होतो.
 2. मी खेळलो.
 3. मी खेलेन.
 4. मी खेळतो.

Question Type : MCQ
Question ID : 489564445
Option 1 ID : 4895641755
Option 2 ID : 4895641753
Option 3 ID : 4895641754
Option 4 ID : 4895641756
Status : Answered
Chosen Option : 4

Q.20 कर्म ओळखा:

आपली श्रुती दही खाते.

- Ans 1. श्रुती
 2. खाते
 3. दही
 4. आपली

Question Type : MCQ
Question ID : 489564450
Option 1 ID : 4895641773
Option 2 ID : 4895641774
Option 3 ID : 4895641775
Option 4 ID : 4895641776
Status : Answered
Chosen Option : 3

Q.21 खालील शब्दांचे वचन बदललेले आहे, त्यातील चुकीचा पर्याय कोणता आहे?

- Ans 1. वासरू - वासरू
 2. पाणी - पाणी
 3. पुस्तक - पुस्तके
 4. माणूस - माणसे

Question Type : MCQ
Question ID : 489564433
Option 1 ID : 4895641708
Option 2 ID : 4895641705
Option 3 ID : 4895641707
Option 4 ID : 4895641706
Status : Answered
Chosen Option : 1

Q.22 खाली सामासिक शब्दांचे विग्रह दिलेले आहेत, त्यांतील चुकीचा पर्याय कोणता आहे?

- Ans 1. आजन्म - जन्मापासून
 2. प्रतिदिन - दिनाला अनुसरून
 3. पावलोपावली - प्रत्येक पावलावर
 4. गावोगावी - प्रत्येक गावी

Question Type : MCQ
Question ID : 489564438
Option 1 ID : 4895641726
Option 2 ID : 4895641727
Option 3 ID : 4895641725
Option 4 ID : 4895641728
Status : Answered
Chosen Option : 2

Q.23 ना. सी. फडके यांचे खालीलपैकी कोणत्या साहित्यप्रकारात महत्त्वाचे योगदान आहे?

- Ans 1. नाटक
 2. कविता
 3. कादंबरी
 4. बखर

Question Type : MCQ
Question ID : 489564409
Option 1 ID : 4895641609
Option 2 ID : 4895641610
Option 3 ID : 4895641611
Option 4 ID : 4895641612
Status : Answered
Chosen Option : 4

Q.24 'स्त्रिया निरंतर या (संसार) (नानाप्रकार) कष्ट सोसतात.' कंसातील शब्दांचे योग्य रूप वापरून अर्थपूर्ण वाक्य बनवा.

- Ans
- 1. स्त्रिया निरंतर या संसाराला नानाप्रकारचे कष्ट सोसतात.
 - 2. स्त्रिया निरंतर या संसारापासून नानाप्रकारचे कष्ट सोसतात.
 - 3. स्त्रिया निरंतर या संसारात नानाप्रकारचशी कष्ट सोसतात.
 - 4. स्त्रिया निरंतर या संसारात नानाप्रकारचे कष्ट सोसतात.

Question Type : MCQ
Question ID : 489564418
Option 1 ID : 4895641645
Option 2 ID : 4895641647
Option 3 ID : 4895641646
Option 4 ID : 4895641648
Status : Answered
Chosen Option : 4

Q.25 क्रियापद ओळखा.

'मराठी महाराष्ट्र राज्याची राजभाषा आहे.'

- Ans
- 1. महाराष्ट्र
 - 2. आहे
 - 3. राजभाषा
 - 4. मराठी

Question Type : MCQ
Question ID : 489564448
Option 1 ID : 4895641766
Option 2 ID : 4895641768
Option 3 ID : 4895641767
Option 4 ID : 4895641765
Status : Answered
Chosen Option : 2

Q.26 प्रयोग ओळखा.

त्वां काय कर्म करिजे लघू लेकराने।

- Ans
- 1. भावे प्रयोग
 - 2. नवीन कर्मणी प्रयोग
 - 3. पुराण कर्मणी प्रयोग
 - 4. कर्तरी प्रयोग

Question Type : MCQ
Question ID : 489564417
Option 1 ID : 4895641644
Option 2 ID : 4895641643
Option 3 ID : 4895641641
Option 4 ID : 4895641642
Status : Answered
Chosen Option : 3

Q.27 विरुद्धार्थी शब्द सांगा.

‘खिन्न’

- Ans
- 1. चपळ
 - 2. कोमल
 - 3. प्रसन्न
 - 4. दुर्बळ

Question Type : MCQ
Question ID : 489564426
Option 1 ID : 4895641680
Option 2 ID : 4895641678
Option 3 ID : 4895641677
Option 4 ID : 4895641679
Status : Answered
Chosen Option : 3

Q.28 खालीलपैकी कोणते वाक्य कर्तरी प्रयोगाचे नाही?

- Ans
- 1. ती अभ्यास करते.
 - 2. तुषारने आंबा खाल्ला.
 - 3. तो शाळेत जातो.
 - 4. ते शाळेत जातात.

Question Type : MCQ
Question ID : 489564414
Option 1 ID : 4895641630
Option 2 ID : 4895641631
Option 3 ID : 4895641629
Option 4 ID : 4895641632
Status : Answered
Chosen Option : 2

Q.29 द्वंद्व समासाचे उदाहरण ओळखा.

‘मुलांनी प्रतिदिन आईवडिलांची आज्ञा पाळावी.’

- Ans
- 1. प्रतिदिन
 - 2. मुले
 - 3. आईवडील
 - 4. आज्ञा

Question Type : MCQ
Question ID : 489564439
Option 1 ID : 4895641730
Option 2 ID : 4895641731
Option 3 ID : 4895641729
Option 4 ID : 4895641732
Status : Answered
Chosen Option : 1

Q.30 'मनाचे श्लोक' कुणी रचले?

- Ans 1. संत रामदास
 2. संत तुकाराम
 3. संत नामदेव
 4. संत जनाबाई

Question Type : MCQ
Question ID : 489564407
Option 1 ID : 4895641604
Option 2 ID : 4895641601
Option 3 ID : 4895641603
Option 4 ID : 4895641602
Status : Answered
Chosen Option : 1

Q.31 गाळलेली जागा भरा.

क्रियापदाने दर्शविलेली क्रिया करणारा शब्द म्हणजे _____ होय.

- Ans 1. क्रियाविशेषण
 2. कर्म
 3. कर्ता
 4. नाम

Question Type : MCQ
Question ID : 489564449
Option 1 ID : 4895641772
Option 2 ID : 4895641769
Option 3 ID : 4895641770
Option 4 ID : 4895641771
Status : Answered
Chosen Option : 3

Q.32 'गतकाळ' शब्दाचा विरुद्धार्थी शब्द ओळखा.

- Ans 1. कालोख
 2. भूतकाळ
 3. प्राचीन
 4. भविष्यकाळ

Question Type : MCQ
Question ID : 489564430
Option 1 ID : 4895641695
Option 2 ID : 4895641693
Option 3 ID : 4895641694
Option 4 ID : 4895641696
Status : Answered
Chosen Option : 4

Q.33 खालील पर्यायातील नकारार्थी वाक्य ओळखा.

- Ans
- 1. पाचशे रुपये ही केवढी मोठी रक्कम आहे.
 - 2. पाचशे रुपये ही मोठी रक्कम आहे.
 - 3. पाचशे रुपये ही काही लहान रक्कम नव्हे.
 - 4. पाचशे रुपये ही मोठी रक्कम आहे नाही.

Question Type : MCQ
Question ID : 489564443
Option 1 ID : 4895641747
Option 2 ID : 4895641745
Option 3 ID : 4895641746
Option 4 ID : 4895641748
Status : Answered
Chosen Option : 3

Q.34 प्रयोग ओळखा.

‘शिक्षिकेने विद्यार्थाना शिकवले.’

- Ans
- 1. समापन कर्मणी प्रयोग
 - 2. कर्मणी प्रयोग
 - 3. भावे प्रयोग
 - 4. कर्तरी प्रयोग

Question Type : MCQ
Question ID : 489564415
Option 1 ID : 4895641636
Option 2 ID : 4895641635
Option 3 ID : 4895641633
Option 4 ID : 4895641634
Status : Answered
Chosen Option : 3

Q.35 ‘मिलिंद’ शब्दाचा खालीलपैकी कोणता समानार्थी शब्द नाही?

- Ans
- 1. मधुप
 - 2. भ्रमर
 - 3. कपि
 - 4. अलि

Question Type : MCQ
Question ID : 489564425
Option 1 ID : 4895641674
Option 2 ID : 4895641673
Option 3 ID : 4895641675
Option 4 ID : 4895641676
Status : Answered
Chosen Option : 3

Q.36 'क्रियापद नेहमी तृतीय पुरुषी, नपुंसकलिङ्गी एकवचनी असते व कर्ता किंवा कर्माच्या लिंग, वचनानुसार ते बदलत नाही.' हे कोणत्या प्रयोगाचे वैशिष्ट्य आहे.

- Ans
- 1. कर्तरी प्रयोग
 - 2. नवीन कर्मणी प्रयोग
 - 3. कर्मणी प्रयोग
 - 4. भावे प्रयोग

Question Type : MCQ
Question ID : 489564416
Option 1 ID : 4895641638
Option 2 ID : 4895641639
Option 3 ID : 4895641637
Option 4 ID : 4895641640
Status : Answered
Chosen Option : 4

Q.37 'आकाशी झेप घे रे पाखरा, सोडी सोन्याचा पिंजरा' ही काव्यपंक्ती कोणी रचली?

- Ans
- 1. ग. दि. माडगूळकर
 - 2. संत एकनाथ
 - 3. संत तुकाराम
 - 4. जगदीश खेबुडकर

Question Type : MCQ
Question ID : 489564413
Option 1 ID : 4895641625
Option 2 ID : 4895641628
Option 3 ID : 4895641627
Option 4 ID : 4895641626
Status : Answered
Chosen Option : 1

Q.38 चूक सुधारून वाक्य पुन्हा लिहा.

'मरणोत्तर नेत्रदान करण्यात काहीही धोका नाही.'

- Ans
- 1. मरणोत्तर नेत्रदान करण्यात काहीही धोका नाही.
 - 2. मरणोत्तर नेत्रदान करण्यात काहीही धोका नाही.
 - 3. मरणोत्तर नेत्रदान करण्यात काहीही धोका नाही.
 - 4. मरणोत्तर नेत्रदान करण्यात काहीही धोका नाही.

Question Type : MCQ
Question ID : 489564419
Option 1 ID : 4895641651
Option 2 ID : 4895641650
Option 3 ID : 4895641652
Option 4 ID : 4895641649
Status : Answered
Chosen Option : 1

Q.39 'कन्या' शब्दाचा समानार्थी शब्द ओळखा.

- Ans
- 1. सरोज
 - 2. कनक
 - 3. मुलगी
 - 4. सुत

Question Type : MCQ
Question ID : 489564421
Option 1 ID : 4895641657
Option 2 ID : 4895641659
Option 3 ID : 4895641658
Option 4 ID : 4895641660
Status : Answered
Chosen Option : 3

Q.40 खालील वाक्याचे पूर्ण वर्तमानकाळी रूप कसे असेल?

'मधू लाडू खातो.'

- Ans
- 1. मधूने लाडू खाल्ला असेल.
 - 2. मधूने लाडू खाल्ला आहे.
 - 3. मधू लाडू खाणार होता.
 - 4. मधूने लाडू खाल्ला होता.

Question Type : MCQ
Question ID : 489564447
Option 1 ID : 4895641761
Option 2 ID : 4895641762
Option 3 ID : 4895641764
Option 4 ID : 4895641763
Status : Answered
Chosen Option : 2

Q.41 खालीलपैकी कोणते वाक्य मिश्रवाक्य आहे?

- Ans
- 1. आरती सुरू झाल्यावर घंटानाद सुरू झाला.
 - 2. जेव्हा आरती सुरू झाली, तेव्हा घंटानाद सुरू झाला.
 - 3. आरती सुरू झाली आणि घंटानाद सुरू झाला.
 - 4. आरती सुरू झाली व घंटानाद सुरू झाला.

Question Type : MCQ
Question ID : 489564444
Option 1 ID : 4895641752
Option 2 ID : 4895641749
Option 3 ID : 4895641751
Option 4 ID : 4895641750
Status : Answered
Chosen Option : 2

Q.42 काळ सांगा:

'तो मुलगा खेळत आहे.'

- Ans
- 1. पूर्ण भूतकाळ
 - 2. अपूर्ण वर्तमानकाळ
 - 3. अपूर्ण भविष्यकाळ
 - 4. पूर्ण वर्तमानकाळ

Question Type : MCQ
Question ID : 489564446
Option 1 ID : 4895641758
Option 2 ID : 4895641757
Option 3 ID : 4895641759
Option 4 ID : 4895641760
Status : Answered
Chosen Option : 2

Q.43 गाळलेली जागा भरा.

'आकारान्त पुल्लिंगी नामाचे अनेकवचन _____ होते.'

- Ans
- 1. अकारान्त
 - 2. ईकारान्त
 - 3. एकारान्त
 - 4. आकारान्त

Question Type : MCQ
Question ID : 489564432
Option 1 ID : 4895641703
Option 2 ID : 4895641702
Option 3 ID : 4895641701
Option 4 ID : 4895641704
Status : Answered
Chosen Option : 3

Q.44 'ज्ञानेश्वरी' ग्रंथाचा रचनाकाल कोणता आहे?

- Ans
- 1. इ.स.1292
 - 2. इ.स.1290
 - 3. इ.स.1212
 - 4. इ.स.1294

Question Type : MCQ
Question ID : 489564412
Option 1 ID : 4895641623
Option 2 ID : 4895641621
Option 3 ID : 4895641622
Option 4 ID : 4895641624
Status : Answered
Chosen Option : 1

Q.45 खाली विरुद्धार्थी शब्द आहेत त्यातील चुकीचा पर्याय सांगा.

- Ans
- 1. मंजूळ x कर्कश
 - 2. रेलचेल x टंचाई
 - 3. हर्ष x खेद
 - 4. सुबोध x निर्बोध

Question Type : MCQ

Question ID : 489564428

Option 1 ID : 4895641687

Option 2 ID : 4895641686

Option 3 ID : 4895641685

Option 4 ID : 4895641688

Status : Answered

Chosen Option : 2

Comprehension:

खालील उतारा काळजीपूर्वक वाचा आणि दिलेल्या प्रश्नाचे उत्तर द्या.

लिंगायत संप्रदाय हा शिवोपासक आहे. कर्नाटकाच्या सरहद्दीवर असलेल्या बेळगाव, कोल्हापूर, सांगली, सोलापूर या दक्षिण महाराष्ट्रात व बिदर - कल्याणिकडील पूर्व महाराष्ट्रात वीरशैव लिंगायत आढळतात. महाराष्ट्रातील इतर पंथांवर नाथपंथाचा प्रभाव पडला पण लिंगायत पंथावर मात्र असा प्रभाव पडला नाही. अल्लमप्रभू हे वीरशैव लिंगायत पंथाचे प्रणेते होते. त्यांनी नाथसंप्रदायाहून वेगळे असे स्वतःचे तत्त्वज्ञान मांडले. अल्लमप्रभू आणि नाथसंप्रदायाचे प्रणेते गोरक्षनाथ हे गुरुबंधू होते. अल्लमप्रभूंच्या भेटीनंतर गोरक्षनाथांनी रचलेली 'वचने' कानडीत प्रसिद्ध आहेत. नाथपंथात हठयोगावर अवास्तव भर आहे अशी टीका अल्लमप्रभूंनी केली. लिंगायत पंथाचा प्राण म्हणजे जिवाशिवाचे ऐक्य. ज्ञानदेव, योगिनी मुक्ताबाई, विसोबा खेचर यांच्या लेखनामध्ये वीरशैव संपर्काच्या खुणा दिसतात. इ.स. 1160 च्या सुमारास बसवेश्वराने वीरशैव किंवा लिंगायत पंथाला निश्चित स्वरूप दिले. बसवेश्वरांचे विचार फार श्रेष्ठ दर्जाचे होते. त्यांनी जातीय वृत्तीला व अविद्वान ब्राह्मणांच्या वर्चस्वाला फार मोठा धक्का दिला. धर्मज्ञानाचा मक्ता कुणा एका विशिष्ट जातीला दिलेला नाही हा विचार त्यांनी मांडला. लोकशिक्षणासाठी त्यांनी लोकभाषा - कानडीचा आधार घेतला. आध्यात्मिक उन्नतीसाठी संन्यास आणि तप यांची आवश्यकता नाही हा विचार मांडला. जातिभेद, अस्पृश्यता यांना त्यांनी विरोध केला. समतेचा त्यांनी पुरस्कार केला. बालविवाहाला विरोध करून मिश्रविवाह, विधवांचा पुनर्विवाह त्यांचा यांनी पुरस्कार केला. वर्णाश्रमधर्मातील विषमतेला कठोर विरोध करणारे बसवेश्वर हे मध्ययुगातील एकमेव थोर पुरुष होते.

शंकराचार्यांचा मायावाद वीरशैवांना मान्य नाही. त्यांच्या दृष्टीने, गुरूच्या सहाय्याने शिवाशी ऐक्य साधणे महत्त्वाचे असते. या पंथात भक्ती आणि चारित्र्य या दोन गोष्टींना फार महत्त्व आहे. लिंगायतांनी मूर्तिपूजा, तीर्थयात्रा या गोष्टींवर टीका केली. पंचसूतकांचे बंधन, जातिभेद, विटाळाच्या कल्पना, अग्निपूजा, प्रेतसंस्कार या कल्पनांचा वीरशैवांनी त्याग केला. चातुर्वर्ण्य, जातिभेद, स्त्री-पुरुष असमानता या कल्पनांना त्यांनी प्रखर विरोध केला.

SubQuestion No : 46

Q.46 'नाथपंथात हठयोगावर अवास्तव भर आहे', अशी टीका कोणी केली?

- Ans
- 1. गोरक्षनाथ
 - 2. बसवेश्वर
 - 3. अल्लमप्रभू
 - 4. मुक्ताबाई

Question Type : MCQ

Question ID : 489564456

Option 1 ID : 4895641794

Option 2 ID : 4895641795

Option 3 ID : 4895641793

Option 4 ID : 4895641796

Status : Answered

Chosen Option : 3

Comprehension:

खालील उतारा काळजीपूर्वक वाचा आणि दिलेल्या प्रश्नाचे उत्तर द्या.

लिंगायत संप्रदाय हा शिवोपासक आहे. कर्नाटकाच्या सरहद्दीवर असलेल्या बेळगाव, कोल्हापूर, सांगली, सोलापूर या दक्षिण महाराष्ट्रात व बिदर - कल्याणिकडील पूर्व महाराष्ट्रात वीरशैव लिंगायत आढळतात. महाराष्ट्रातील इतर पंथांवर नाथपंथाचा प्रभाव पडला पण लिंगायत पंथावर मात्र असा प्रभाव पडला नाही. अल्लमप्रभू हे वीरशैव लिंगायत पंथाचे प्रणेते होत. त्यांनी नाथसंप्रदायाहून वेगळे असे स्वतःचे तत्त्वज्ञान मांडले. अल्लमप्रभू आणि नाथसंप्रदायाचे प्रणेते गोरक्षनाथ हे गुरुबंधू होते. अल्लमप्रभूंच्या भेटीनंतर गोरक्षनाथांनी रचलेली 'वचने' कानडीत प्रसिद्ध आहेत. नाथपंथात हठयोगावर अवास्तव भर आहे अशी टीका अल्लमप्रभूंनी केली. लिंगायत पंथाचा प्राण म्हणजे जिवाशिवाचे ऐक्य. ज्ञानदेव, योगिनी मुक्ताबाई, विसोबा खेचर यांच्या लेखनामध्ये वीरशैव संपर्काच्या खुणा दिसतात. इ.स. 1160 च्या सुमारास बसवेश्वराने वीरशैव किंवा लिंगायत पंथाला निश्चित स्वरूप दिले. बसवेश्वरांचे विचार फार श्रेष्ठ दर्जाचे होते. त्यांनी जातीय वृत्तीला व अविद्वान ब्राह्मणांच्या वर्चस्वाला फार मोठा धक्का दिला. धर्मज्ञानाचा मत्ता कुणा एका विशिष्ट जातीला दिलेला नाही हा विचार त्यांनी मांडला. लोकशिक्षणासाठी त्यांनी लोकभाषा - कानडीचा आधार घेतला. आध्यात्मिक उन्नतीसाठी संन्यास आणि तप यांची आवश्यकता नाही हा विचार मांडला. जातिभेद, अस्पृश्यता यांना त्यांनी विरोध केला. समतेचा त्यांनी पुरस्कार केला. बालविवाहाला विरोध करून मिश्रविवाह, विधवांचा पुनर्विवाह त्यांचा यांनी पुरस्कार केला. वर्णाश्रमधर्मातील विषमतेला कठोर विरोध करणारे बसवेश्वर हे मध्ययुगातील एकमेव थोर पुरुष होते.

शंकराचार्यांचा मायावाद वीरशैवांना मान्य नाही. त्यांच्या दृष्टीने, गुरूच्या सहाय्याने शिवाशी ऐक्य साधणे महत्त्वाचे असते. या पंथात भक्ती आणि चारित्र्य या दोन गोष्टींना फार महत्त्व आहे. लिंगायतांनी मूर्तिपूजा, तीर्थयात्रा या गोष्टींवर टीका केली. पंचसूतकांचे बंधन, जातिभेद, विटाळाच्या कल्पना, अग्निपूजा, प्रेतसंस्कार या कल्पनांचा वीरशैवांनी त्याग केला. चातुर्वर्ण्य, जातिभेद, स्त्री-पुरुष असमानता या कल्पनांना त्यांनी प्रखर विरोध केला.

SubQuestion No : 47

Q.47 रिकाम्या जागी योग्य शब्द भरा:

'लिंगायत संप्रदायात भक्ती आणि _____ या दोन गोष्टींना फार महत्त्व आहे.'

- Ans
- 1. व्यक्तित्व
 - 2. चरित्र
 - 3. चारित्र्य
 - 4. विवेक

Question Type : MCQ

Question ID : 489564454

Option 1 ID : 4895641787

Option 2 ID : 4895641786

Option 3 ID : 4895641785

Option 4 ID : 4895641788

Status : Answered

Chosen Option : 2

Comprehension:

खालील उतारा काळजीपूर्वक वाचा आणि दिलेल्या प्रश्नाचे उत्तर द्या.

लिंगायत संप्रदाय हा शिवोपासक आहे. कर्नाटकाच्या सरहद्दीवर असलेल्या बेळगाव, कोल्हापूर, सांगली, सोलापूर या दक्षिण महाराष्ट्रात व बिदर - कल्याणिकडील पूर्व महाराष्ट्रात वीरशैव लिंगायत आढळतात. महाराष्ट्रातील इतर पंथांवर नाथपंथाचा प्रभाव पडला पण लिंगायत पंथावर मात्र असा प्रभाव पडला नाही. अल्लमप्रभू हे वीरशैव लिंगायत पंथाचे प्रणेते होत. त्यांनी नाथसंप्रदायाहून वेगळे असे स्वतःचे तत्त्वज्ञान मांडले. अल्लमप्रभू आणि नाथसंप्रदायाचे प्रणेते गोरक्षनाथ हे गुरुबंधू होते. अल्लमप्रभूंच्या भेटीनंतर गोरक्षनाथांनी रचलेली 'वचने' कानडीत प्रसिद्ध आहेत. नाथपंथात हठयोगावर अवास्तव भर आहे अशी टीका अल्लमप्रभूंनी केली. लिंगायत पंथाचा प्राण म्हणजे जिवाशिवाचे ऐक्य. ज्ञानदेव, योगिनी मुक्ताबाई, विसोबा खेचर यांच्या लेखनामध्ये वीरशैव संपर्काच्या खुणा दिसतात. इ.स.1160 च्या सुमारास बसवेश्वराने वीरशैव किंवा लिंगायत पंथाला निश्चित स्वरूप दिले. बसवेश्वरांचे विचार फार श्रेष्ठ दर्जाचे होते. त्यांनी जातीय वृत्तीला व अविद्वान ब्राह्मणांच्या वर्चस्वाला फार मोठा धक्का दिला. धर्मज्ञानाचा मत्ता कुणा एका विशिष्ट जातीला दिलेला नाही हा विचार त्यांनी मांडला. लोकशिक्षणासाठी त्यांनी लोकभाषा - कानडीचा आधार घेतला. आध्यात्मिक उन्नतीसाठी संन्यास आणि तप यांची आवश्यकता नाही हा विचार मांडला. जातिभेद, अस्पृश्यता यांना त्यांनी विरोध केला. समतेचा त्यांनी पुरस्कार केला. बालविवाहाला विरोध करून मिश्रविवाह, विधवांचा पुनर्विवाह त्यांचा यांनी पुरस्कार केला. वर्णाश्रमधर्मातील विषमतेला कठोर विरोध करणारे बसवेश्वर हे मध्ययुगातील एकमेव थोर पुरुष होते.

शंकराचार्यांचा मायावाद वीरशैवांना मान्य नाही. त्यांच्या दृष्टीने, गुरूच्या सहाय्याने शिवाशी ऐक्य साधणे महत्त्वाचे असते. या पंथात भक्ती आणि चारित्र्य या दोन गोष्टींना फार महत्त्व आहे. लिंगायतांनी मूर्तिपूजा, तीर्थयात्रा या गोष्टींवर टीका केली. पंचसूतकांचे बंधन, जातिभेद, विटाळाच्या कल्पना, अग्निपूजा, प्रेतसंस्कार या कल्पनांचा वीरशैवांनी त्याग केला. चातुर्वर्ण्य, जातिभेद, स्त्री-पुरुष असमानता या कल्पनांना त्यांनी प्रखर विरोध केला.

SubQuestion No : 48

Q.48 लिंगायत सांप्रदायिक कुणाची उपासना करतात?

- Ans
- 1. कृष्ण
 - 2. विष्णू
 - 3. शिव
 - 4. राम

Question Type : MCQ

Question ID : 489564453

Option 1 ID : 4895641782

Option 2 ID : 4895641781

Option 3 ID : 4895641784

Option 4 ID : 4895641783

Status : Answered

Chosen Option : 3

Comprehension:

खालील उतारा काळजीपूर्वक वाचा आणि दिलेल्या प्रश्नाचे उत्तर द्या.

लिंगायत संप्रदाय हा शिवोपासक आहे. कर्नाटकाच्या सरहद्दीवर असलेल्या बेळगाव, कोल्हापूर, सांगली, सोलापूर या दक्षिण महाराष्ट्रात व बिदर - कल्याणिकडील पूर्व महाराष्ट्रात वीरशैव लिंगायत आढळतात. महाराष्ट्रातील इतर पंथांवर नाथपंथाचा प्रभाव पडला पण लिंगायत पंथावर मात्र असा प्रभाव पडला नाही. अल्लमप्रभू हे वीरशैव लिंगायत पंथाचे प्रणेते होत. त्यांनी नाथसंप्रदायाहून वेगळे असे स्वतःचे तत्त्वज्ञान मांडले. अल्लमप्रभू आणि नाथसंप्रदायाचे प्रणेते गोरक्षनाथ हे गुरुबंधू होते. अल्लमप्रभूंच्या भेटीनंतर गोरक्षनाथांनी रचलेली 'वचने' कानडीत प्रसिद्ध आहेत. नाथपंथात हठयोगावर अवास्तव भर आहे अशी टीका अल्लमप्रभूंनी केली. लिंगायत पंथाचा प्राण म्हणजे जिवाशिवाचे ऐक्य. ज्ञानदेव, योगिनी मुक्ताबाई, विसोबा खेचर यांच्या लेखनामध्ये वीरशैव संपर्काच्या खुणा दिसतात. इ.स.1160 च्या सुमारास बसवेश्वराने वीरशैव किंवा लिंगायत पंथाला निश्चित स्वरूप दिले. बसवेश्वरांचे विचार फार श्रेष्ठ दर्जाचे होते. त्यांनी जातीय वृत्तीला व अविद्वान ब्राह्मणांच्या वर्चस्वाला फार मोठा धक्का दिला. धर्मज्ञानाचा मत्ता कुणा एका विशिष्ट जातीला दिलेला नाही हा विचार त्यांनी मांडला. लोकशिक्षणासाठी त्यांनी लोकभाषा - कानडीचा आधार घेतला. आध्यात्मिक उन्नतीसाठी संन्यास आणि तप यांची आवश्यकता नाही हा विचार मांडला. जातिभेद, अस्पृश्यता यांना त्यांनी विरोध केला. समतेचा त्यांनी पुरस्कार केला. बालविवाहाला विरोध करून मिश्रविवाह, विधवांचा पुनर्विवाह त्यांचा यांनी पुरस्कार केला. वर्णाश्रमधर्मातील विषमतेला कठोर विरोध करणारे बसवेश्वर हे मध्ययुगातील एकमेव थोर पुरुष होते.

शंकराचार्यांचा मायावाद वीरशैवांना मान्य नाही. त्यांच्या दृष्टीने, गुरूच्या सहाय्याने शिवाशी ऐक्य साधणे महत्त्वाचे असते. या पंथात भक्ती आणि चारित्र्य या दोन गोष्टींना फार महत्त्व आहे. लिंगायतांनी मूर्तिपूजा, तीर्थयात्रा या गोष्टींवर टीका केली. पंचसूतकांचे बंधन, जातिभेद, विटाळाच्या कल्पना, अग्निपूजा, प्रेतसंस्कार या कल्पनांचा वीरशैवांनी त्याग केला. चातुर्वर्ण्य, जातिभेद, स्त्री-पुरुष असमानता या कल्पनांना त्यांनी प्रखर विरोध केला.

SubQuestion No : 49

Q.49 खालीलपैकी कोणते मत बसवेश्वरांच्या विचाराशी सुसंगत नाही?

- Ans**
- 1. बालविवाहाला विरोध.
 - 2. समतेचा पुरस्कार.
 - 3. लोकशिक्षणासाठी लोकभाषा - कानडीचा आधार.
 - 4. वर्णाश्रमधर्मातील विषमतेचे समर्थन.

Question Type : MCQ

Question ID : 489564457

Option 1 ID : 4895641800

Option 2 ID : 4895641797

Option 3 ID : 4895641799

Option 4 ID : 4895641798

Status : Answered

Chosen Option : 4

Comprehension:

खालील उतारा काळजीपूर्वक वाचा आणि दिलेल्या प्रश्नाचे उत्तर द्या.

लिंगायत संप्रदाय हा शिवोपासक आहे. कर्नाटकाच्या सरहद्दीवर असलेल्या बेळगाव, कोल्हापूर, सांगली, सोलापूर या दक्षिण महाराष्ट्रात व बिदर - कल्याणिकडील पूर्व महाराष्ट्रात वीरशैव लिंगायत आढळतात. महाराष्ट्रातील इतर पंथांवर नाथपंथाचा प्रभाव पडला पण लिंगायत पंथावर मात्र असा प्रभाव पडला नाही. अल्लमप्रभू हे वीरशैव लिंगायत पंथाचे प्रणेते होत. त्यांनी नाथसंप्रदायाहून वेगळे असे स्वतःचे तत्त्वज्ञान मांडले. अल्लमप्रभू आणि नाथसंप्रदायाचे प्रणेते गोरक्षनाथ हे गुरुबंधू होते. अल्लमप्रभूंच्या भेटीनंतर गोरक्षनाथांनी रचलेली 'वचने' कानडीत प्रसिद्ध आहेत. नाथपंथात हठयोगावर अवास्तव भर आहे अशी टीका अल्लमप्रभूंनी केली. लिंगायत पंथाचा प्राण म्हणजे जिवाशिवाचे ऐक्य. ज्ञानदेव, योगिनी मुक्ताबाई, विसोबा खेचर यांच्या लेखनामध्ये वीरशैव संपर्काच्या खुणा दिसतात. इ.स.1160 च्या सुमारास बसवेश्वराने वीरशैव किंवा लिंगायत पंथाला निश्चित स्वरूप दिले. बसवेश्वरांचे विचार फार श्रेष्ठ दर्जाचे होते. त्यांनी जातीय वृत्तीला व अविद्वान ब्राह्मणांच्या वर्चस्वाला फार मोठा धक्का दिला. धर्मज्ञानाचा मत्ता कुणा एका विशिष्ट जातीला दिलेला नाही हा विचार त्यांनी मांडला. लोकशिक्षणासाठी त्यांनी लोकभाषा - कानडीचा आधार घेतला. आध्यात्मिक उन्नतीसाठी संन्यास आणि तप यांची आवश्यकता नाही हा विचार मांडला. जातिभेद, अस्पृश्यता यांना त्यांनी विरोध केला. समतेचा त्यांनी पुरस्कार केला. बालविवाहाला विरोध करून मिश्रविवाह, विधवांचा पुनर्विवाह त्यांचा यांनी पुरस्कार केला. वर्णाश्रमधर्मातील विषमतेला कठोर विरोध करणारे बसवेश्वर हे मध्ययुगातील एकमेव थोर पुरुष होते.

शंकराचार्यांचा मायावाद वीरशैवांना मान्य नाही. त्यांच्या दृष्टीने, गुरूच्या सहाय्याने शिवाशी ऐक्य साधणे महत्त्वाचे असते. या पंथात भक्ती आणि चारित्र्य या दोन गोष्टींना फार महत्त्व आहे. लिंगायतांनी मूर्तिपूजा, तीर्थयात्रा या गोष्टींवर टीका केली. पंचसूतकांचे बंधन, जातिभेद, विटाळाच्या कल्पना, अग्निपूजा, प्रेतसंस्कार या कल्पनांचा वीरशैवांनी त्याग केला. चातुर्वर्ण्य, जातिभेद, स्त्री-पुरुष असमानता या कल्पनांना त्यांनी प्रखर विरोध केला.

SubQuestion No : 50

Q.50 बसवेश्वर यांनी कोणत्या पंथाला निश्चित स्वरूप दिले?

- Ans 1. महानुभाव
 2. वीरशैव
 3. नाथ
 4. वारकरी

Question Type : MCQ
 Question ID : 489564455
 Option 1 ID : 4895641792
 Option 2 ID : 4895641791
 Option 3 ID : 4895641790
 Option 4 ID : 4895641789
 Status : Answered
 Chosen Option : 2

Section : English Language

Q.1 Select the word or phrase which is closest in meaning to the underlined word or phrase.

The court has exonerated the accused.

- Ans 1. freed
 2. punished
 3. summoned
 4. bailed

Question Type : MCQ
 Question ID : 489564483
 Option 1 ID : 4895641902
 Option 2 ID : 4895641901
 Option 3 ID : 4895641904
 Option 4 ID : 4895641903
 Status : Answered
 Chosen Option : 3

Q.2 Fill in the blank with the correct option.

Some of the modern methods of agriculture _____ before the 17th century, but farmers use them even today.

- Ans
- 1. emerge
 - 2. begun
 - 3. originated
 - 4. ended

Question Type : MCQ
Question ID : 489564461
Option 1 ID : 4895641816
Option 2 ID : 4895641815
Option 3 ID : 4895641813
Option 4 ID : 4895641814
Status : Answered
Chosen Option : 4

Q.3 In the given sentence, a word is misspelt. Identify the misspelt word from the options.

It is an act of a shrewd and concisious mind, not by a desperate person in a state of anxiety.

- Ans
- 1. and concisious mind,
 - 2. in a state of anxiety.
 - 3. not by a desperate person
 - 4. It is an act of a shrewd

Question Type : MCQ
Question ID : 489564489
Option 1 ID : 4895641926
Option 2 ID : 4895641928
Option 3 ID : 4895641927
Option 4 ID : 4895641925
Status : Answered
Chosen Option : 1

Q.4 Choose the one that best fits the blank space.

We have to observe social distancing rules in _____ cinema halls.

- Ans
- 1. as
 - 2. an
 - 3. No article required
 - 4. a

Question Type : MCQ
Question ID : 489564470
Option 1 ID : 4895641851
Option 2 ID : 4895641850
Option 3 ID : 4895641852
Option 4 ID : 4895641849
Status : Answered
Chosen Option : 4

Q.5 Choose the one that best fits the blank spaces.

Spain is ____ European country; ____ country is well known for its food and art.

- Ans 1. the; the
 2. a; the
 3. a; a
 4. an; the

Question Type : MCQ
Question ID : 489564469
Option 1 ID : 4895641847
Option 2 ID : 4895641846
Option 3 ID : 4895641848
Option 4 ID : 4895641845
Status : Answered
Chosen Option : 4

Q.6 A sentence is given in Active Voice. Out of the four alternatives, select the one which best expresses the same sentence in the Passive Voice.

The committee must look into the matter.

- Ans 1. The matter must be looked at.
 2. The matter can be looked into by the committee.
 3. The matter must be looked into by the committee.
 4. It shall be looked into by the committee.

Question Type : MCQ
Question ID : 489564479
Option 1 ID : 4895641885
Option 2 ID : 4895641887
Option 3 ID : 4895641888
Option 4 ID : 4895641886
Status : Answered
Chosen Option : 3

Q.7 A sentence is given in Active Voice. Out of the four alternatives, select the one which best expresses the same sentence in the Passive Voice.

The children have eaten the sweets.

- Ans 1. The sweets were eaten by the children.
 2. The sweets are to be eaten by the children.
 3. The sweets had been eaten by the children.
 4. The sweets have been eaten by the children.

Question Type : MCQ
Question ID : 489564476
Option 1 ID : 4895641873
Option 2 ID : 4895641876
Option 3 ID : 4895641875
Option 4 ID : 4895641874
Status : Answered
Chosen Option : 3

Q.8 Select the correctly spelt word.

- Ans
- 1. Conspicuous
 - 2. Conspicus
 - 3. Conspicous
 - 4. Conspicuous

Question Type : MCQ
Question ID : 489564491
Option 1 ID : 4895641936
Option 2 ID : 4895641935
Option 3 ID : 4895641934
Option 4 ID : 4895641933
Status : Answered
Chosen Option : 1

Q.9 A sentence is presented in the Indirect Speech. Out of the four alternatives, select the one that best expresses the same sentence in Direct Speech.

My mother wished my sister that God might bless her.

- Ans
- 1. My mother says to my sister, 'God might bless you.'
 - 2. My mother blessed my sister, 'God blessed you.'
 - 3. My mother said to my sister, 'God bless you!'
 - 4. My mother said to my sister, 'God has blessed you.'

Question Type : MCQ
Question ID : 489564473
Option 1 ID : 4895641862
Option 2 ID : 4895641864
Option 3 ID : 4895641861
Option 4 ID : 4895641863
Status : Answered
Chosen Option : 3

Q.10 Fill in the blank with the proper preposition.

I am devoted _____ my family.

- Ans
- 1. for
 - 2. to
 - 3. at
 - 4. on

Question Type : MCQ
Question ID : 489564459
Option 1 ID : 4895641806
Option 2 ID : 4895641805
Option 3 ID : 4895641808
Option 4 ID : 4895641807
Status : Answered
Chosen Option : 2

Q.11 Select the option which is opposite in meaning to the underlined word.

The Prime Minister said that we are looking for a long-term strategy to uplift the standard of the marginalized sections of society.

- Ans
- 1. Illiterate
 - 2. Tribal
 - 3. Side-lined
 - 4. Privileged

Question Type : MCQ
Question ID : 489564480
Option 1 ID : 4895641892
Option 2 ID : 4895641891
Option 3 ID : 4895641890
Option 4 ID : 4895641889
Status : Answered
Chosen Option : 4

Q.12 A sentence is given in Active Voice. Out of the four alternatives, select the one which best expresses the same sentence in the Passive Voice.

When did he announce such a scheme?

- Ans
- 1. When was such a scheme announced by him?
 - 2. A scheme was announced by him, when?
 - 3. When the scheme was announced?
 - 4. When he announces such a scheme?

Question Type : MCQ
Question ID : 489564477
Option 1 ID : 4895641877
Option 2 ID : 4895641880
Option 3 ID : 4895641878
Option 4 ID : 4895641879
Status : Answered
Chosen Option : 1

Q.13 In the given sentence, a word is misspelt. Identify the misspelt word from the options.

The malnorishment in children is caused due to deficiency of a nutritious diet.

- Ans
- 1. The malnorishment
 - 2. due to deficiency
 - 3. of a nutritious diet.
 - 4. in children is caused

Question Type : MCQ
Question ID : 489564490
Option 1 ID : 4895641929
Option 2 ID : 4895641931
Option 3 ID : 4895641932
Option 4 ID : 4895641930
Status : Answered
Chosen Option : 1

Q.14 Fill in the blank with the proper preposition.

Water is leaking _____ the crack in the wall.

- Ans
- 1. on
 - 2. through
 - 3. with
 - 4. for

Question Type : MCQ
Question ID : 489564458
Option 1 ID : 4895641801
Option 2 ID : 4895641804
Option 3 ID : 4895641803
Option 4 ID : 4895641802
Status : Answered
Chosen Option : 2

Q.15 Fill in the blank with the correct preposition.

My mother slapped me _____ my face.

- Ans
- 1. for
 - 2. over
 - 3. at
 - 4. on

Question Type : MCQ
Question ID : 489564460
Option 1 ID : 4895641812
Option 2 ID : 4895641810
Option 3 ID : 4895641811
Option 4 ID : 4895641809
Status : Answered
Chosen Option : 4

Q.16 Choose the one that best fits the blank space.

Dr. Abdul Kalam was an _____ scientist.

- Ans
- 1. imminent
 - 2. immanent
 - 3. eminent
 - 4. immense

Question Type : MCQ
Question ID : 489564463
Option 1 ID : 4895641822
Option 2 ID : 4895641824
Option 3 ID : 4895641821
Option 4 ID : 4895641823
Status : Answered
Chosen Option : 3

Q.17 Replace the underlined verb usage with the correct alternative to make the sentence coherent. If no correction is required in the given sentence, mark "No correction required" as the answer.

He finished his work before his mother returned from market.

- Ans
- 1. has finished
 - 2. was finishing
 - 3. No correction required
 - 4. had finished

Question Type : MCQ
Question ID : 489564462
Option 1 ID : 4895641817
Option 2 ID : 4895641819
Option 3 ID : 4895641820
Option 4 ID : 4895641818
Status : Answered
Chosen Option : 4

Q.18 In the following question, some part of the sentence may have error / errors. Find out which part of the sentence has an error and select the appropriate option. If a sentence is free from error, select No Error.

He was intelligent / enough to understand the dishonest plans / of his worse enemy. / No error

- Ans
- 1. enough to understand the dishonest plans
 - 2. No error
 - 3. He was intelligent
 - 4. of his worse enemy.

Question Type : MCQ
Question ID : 489564464
Option 1 ID : 4895641826
Option 2 ID : 4895641828
Option 3 ID : 4895641825
Option 4 ID : 4895641827
Status : Answered
Chosen Option : 2

Q.19 Choose the one that best fits the blank space.

We _____ a 3-D movie yesterday.

- Ans
- 1. saw
 - 2. had seen
 - 3. have seen
 - 4. sees

Question Type : MCQ
Question ID : 489564468
Option 1 ID : 4895641842
Option 2 ID : 4895641843
Option 3 ID : 4895641841
Option 4 ID : 4895641844
Status : Answered
Chosen Option : 1

Q.20 In the passage consists of six sentences. The first sentence (S1) and the final sentence (S6) are fixed. The middle four sentences, labelled as P, Q, R and S, are in the jumbled form. Rearrange the following sentences into a meaning sequence.

S1- Indians have progressive mindsets.

P- History tells us that Indians have always remained creators, not destroyers.

Q- Science and technology were very developed in ancient India.

R- Indian medicine science was so developed that they were doing in-house surgeries.

S- Indians were respected all over the world for their scientific temper.

S6- India lost its focus from science and slid from that level of respect.

- Ans
- 1. QRPS
 - 2. QPSR
 - 3. PQSR
 - 4. PQRS

Question Type : MCQ
Question ID : 489564493
Option 1 ID : 4895641942
Option 2 ID : 4895641943
Option 3 ID : 4895641944
Option 4 ID : 4895641941
Status : Answered
Chosen Option : 1

Q.21 Find out a word from the given choices that are similar in meaning with:

Related to extra-terrestrial bodies.

- Ans
- 1. Ancient
 - 2. Astrological
 - 3. Celestial
 - 4. Social

Question Type : MCQ
Question ID : 489564496
Option 1 ID : 4895641956
Option 2 ID : 4895641953
Option 3 ID : 4895641954
Option 4 ID : 4895641955
Status : Answered
Chosen Option : 3

Q.22 Choose the one that best fits the blank space.

What will you _____ in future?

- Ans
- 1. are
 - 2. be
 - 3. was
 - 4. been

Question Type : MCQ
Question ID : 489564467
Option 1 ID : 4895641838
Option 2 ID : 4895641839
Option 3 ID : 4895641840
Option 4 ID : 4895641837
Status : Answered
Chosen Option : 2

Q.23 Select the correctly spelt word.

- Ans 1. glycirine
 2. glycerin
 3. gylcirene
 4. glycerience

Question Type : MCQ
Question ID : 489564487
Option 1 ID : 4895641918
Option 2 ID : 4895641919
Option 3 ID : 4895641920
Option 4 ID : 4895641917
Status : Answered
Chosen Option : 2

Q.24 Find a suitable word out of the given choices, for the given expression.

'An integral part'

- Ans 1. Redundant
 2. Intuitive
 3. Interesting
 4. Indispensable

Question Type : MCQ
Question ID : 489564495
Option 1 ID : 4895641952
Option 2 ID : 4895641950
Option 3 ID : 4895641951
Option 4 ID : 4895641949
Status : Answered
Chosen Option : 1

Q.25 A sentence is presented in the Indirect Speech. Out of the four alternatives, select the one that best expresses the same sentence in Direct Speech.

When the teacher entered the class, she shouted to the children that they were making noise again.

- Ans 1. When the teacher entered the class, she instructed to children, "Do not make the noise".
 2. When the teacher entered the class, she shouted, "You are making noise again".
 3. When the teacher enters the class, she shouted, "You are making noise again".
 4. When the teacher entered the class, she shouted to the children, "You are making noise again".

Question Type : MCQ
Question ID : 489564474
Option 1 ID : 4895641867
Option 2 ID : 4895641865
Option 3 ID : 4895641868
Option 4 ID : 4895641866
Status : Answered
Chosen Option : 4

Q.26 A sentence is given in Active Voice. Out of the four alternatives, select the one which best expresses the same sentence in the Passive Voice.

The Chief Minister paid a visit to the victims of the bomb blasts.

- Ans 1. Bomb blast victims were paid by the Chief Minister in a visit.
2. The victims of the bomb blasts were paid a visit by the Chief Minister.
3. Bomb blasts made Chief Minister pay a visit to the victims.
4. A visit was being paid to the Chief Minister by the victims of the bomb blasts.

Question Type : MCQ
Question ID : 489564478
Option 1 ID : 4895641883
Option 2 ID : 4895641881
Option 3 ID : 4895641884
Option 4 ID : 4895641882
Status : Answered
Chosen Option : 2

Q.27 In the passage consists of six sentences. The first sentence (S1) and the final sentence (S6) are fixed. The middle four sentences, labelled as P, Q, R and S, are in the jumbled form. Rearrange the following sentences into a meaning sequence.

S1- There is no cost for damaging and deteriorating the environment.
P- But to mitigate the effects of climate change requires huge costs.
Q- This cost is linked with the promotion of renewable energy sources and industries.
R- The cost of correcting the climate is around \$500 billion for the whole world.
S- Initially, governments have to give huge subsidies to promote clean energy industries.
S6- India needs around \$20 billion to improve our environment through the adoption of clean energy.

- Ans 1. SPQR
2. PRSQ
3. PQSR
4. QPRS

Question Type : MCQ
Question ID : 489564492
Option 1 ID : 4895641939
Option 2 ID : 4895641938
Option 3 ID : 4895641940
Option 4 ID : 4895641937
Status : Answered
Chosen Option : 2

Q.28 Select the proverb that makes the sentence coherent.

The sales man was well-mannered, suave, and good to talk to, but he turned out to be a cheater. It is rightly said that _____.

- Ans 1. hope for the best, prepare for the worst.
2. appearances can be deceptive.
3. familiarity breeds contempt.
4. give them an inch and they'll take a mile.

Question Type : MCQ
Question ID : 489564486
Option 1 ID : 4895641915
Option 2 ID : 4895641916
Option 3 ID : 4895641913
Option 4 ID : 4895641914
Status : Answered
Chosen Option : 2

Q.29 Select the correctly spelt word.

- Ans 1. Persiverance
 2. Perseverance
 3. Persivarence
 4. Peresevariance

Question Type : MCQ
 Question ID : 489564488
 Option 1 ID : 4895641922
 Option 2 ID : 4895641921
 Option 3 ID : 4895641924
 Option 4 ID : 4895641923
 Status : Answered
 Chosen Option : 2

Q.30 In the passage consists of six sentences. The first sentence (S1) and the final sentence (S6) are fixed. The middle four sentences, labelled as P, Q, R and S, are in the jumbled form. Rearrange the following sentences into a meaning sequence.

- S1- Initially, the scientists discovered that the power of steam can be used to drive engines.
 P- Many years after this, power from the ignition of petrol was used to drive the engines.
 Q- Petrol Engines become famous as they were fast and less noisy.
 R- They replaced the steam engines from most of the industries immediatly.
 S- Finally, Scientists developed cars running on petrol engines.
 S6- Jet fuels are the more recent advancements in the field of engines.

- Ans 1. QPRS
 2. SQPR
 3. RSQP
 4. PQRS

Question Type : MCQ
 Question ID : 489564494
 Option 1 ID : 4895641946
 Option 2 ID : 4895641945
 Option 3 ID : 4895641948
 Option 4 ID : 4895641947
 Status : Answered
 Chosen Option : 4

Q.31 Choose the alternative which best expresses the meaning of the idiom/phrase given in bold.

Chinese forces have declined to retreat from area of Pangong lake. The **ball is in India's court** now.

- Ans 1. India shall take revenge.
 2. India is at loss now.
 3. India has to take action now.
 4. India is incapable of taking its land back.

Question Type : MCQ
 Question ID : 489564485
 Option 1 ID : 4895641909
 Option 2 ID : 4895641910
 Option 3 ID : 4895641911
 Option 4 ID : 4895641912
 Status : Answered
 Chosen Option : 3

Q.32 Choose the one that best fits the blank space.

I _____ to music daily after dinner.

- Ans 1. listen
 2. has been listening
 3. is listening
 4. am listed

Question Type : MCQ
Question ID : 489564466
Option 1 ID : 4895641833
Option 2 ID : 4895641834
Option 3 ID : 4895641835
Option 4 ID : 4895641836
Status : Answered
Chosen Option : 1

Q.33 Choose the one that best fits the blank space.

We booked a flight to _____ Sri Lanka, but the flight got cancelled.

- Ans 1. no article needed
 2. an
 3. the
 4. a

Question Type : MCQ
Question ID : 489564471
Option 1 ID : 4895641856
Option 2 ID : 4895641854
Option 3 ID : 4895641853
Option 4 ID : 4895641855
Status : Answered
Chosen Option : 1

Q.34 A sentence is presented in the Direct Speech. Out of the four alternatives, select the one that best expresses the same sentence in Indirect Speech.

Mira said, "We should not leave the car in the No Parking area".

- Ans 1. Mira ordered that they should not have left the car in the No Parking area.
 2. Mira suggested that they should not leave the car in the No Parking area.
 3. Mira pressurised that car should not be left in the No Parking area.
 4. Mira requested that they shall not leave the car in the No Parking area.

Question Type : MCQ
Question ID : 489564472
Option 1 ID : 4895641858
Option 2 ID : 4895641857
Option 3 ID : 4895641860
Option 4 ID : 4895641859
Status : Answered
Chosen Option : 2

Q.35 Select the option which is opposite in meaning to the underlined word.

This is a moot point to raise.

- Ans
- 1. Arguable
 - 2. Irrelevant
 - 3. Insignificant
 - 4. Resolved

Question Type : MCQ

Question ID : 489564482

Option 1 ID : 4895641899

Option 2 ID : 4895641897

Option 3 ID : 4895641900

Option 4 ID : 4895641898

Status : Answered

Chosen Option : 2

Q.36 Choose the alternative which best expresses the meaning of the idiom/phrase given in bold.

There has been bad blood between India and Pakistan since 1947.

- Ans
- 1. Bad Past.
 - 2. Blood relation.
 - 3. Subject of dispute.
 - 4. Ill feeling.

Question Type : MCQ

Question ID : 489564484

Option 1 ID : 4895641906

Option 2 ID : 4895641905

Option 3 ID : 4895641908

Option 4 ID : 4895641907

Status : Answered

Chosen Option : 3

Q.37 A sentence is presented in the Indirect Speech. Out of the four alternatives, select the one that best expresses the same sentence in Direct Speech.

I requested my friend to help me.

- Ans
- 1. I requested, 'My friends, please help me.'
 - 2. I said to my friend, 'Please help me.'
 - 3. I asked, 'Please help me.'
 - 4. I offered my friend, 'Please help me.'

Question Type : MCQ

Question ID : 489564475

Option 1 ID : 4895641872

Option 2 ID : 4895641870

Option 3 ID : 4895641869

Option 4 ID : 4895641871

Status : Answered

Chosen Option : 2

Q.38 Choose the one that best fits the blank space.

Do not worry; hard work and perseverance will _____ pay dividends.

- Ans
- 1. hardly
 - 2. really
 - 3. later
 - 4. eventually

Question Type : MCQ
Question ID : 489564465
Option 1 ID : 4895641831
Option 2 ID : 4895641829
Option 3 ID : 4895641832
Option 4 ID : 4895641830
Status : Answered
Chosen Option : 4

Q.39 Find the option that can be defined as:

An appearance of objects often giving an impression of water on hot roads

- Ans
- 1. Image
 - 2. Mirage
 - 3. Reflection
 - 4. Lightening

Question Type : MCQ
Question ID : 489564497
Option 1 ID : 4895641960
Option 2 ID : 4895641957
Option 3 ID : 4895641958
Option 4 ID : 4895641959
Status : Answered
Chosen Option : 3

Q.40 Select the option which is opposite in meaning to the underlined word.

Mr. Manmohan Singh is always reserved in his behaviour.

- Ans
- 1. respected
 - 2. social
 - 3. silent
 - 4. enthusiastic

Question Type : MCQ
Question ID : 489564481
Option 1 ID : 4895641893
Option 2 ID : 4895641896
Option 3 ID : 4895641894
Option 4 ID : 4895641895
Status : Answered
Chosen Option : 4

Comprehension:

Read the following passage carefully and answer the given questions.

Indian railways operate on more than a thousand routes. The profitability and transport economics of the railway operator is linked directly to the travel time. All routes are not profitable for Indian Railways. Some long routes with a travelling time of two to three days are loss-making, as passengers do not like to use them.

The value of time is an important aspect for passengers who undertake a train journey. It is generally in the interest of passengers to opt for the most convenient (i.e., quick, cheap and effortless) route. But railways have to operate trains on loss-making routes and provide social connectivity.

Evidence has shown that taking people's minds off the duration of a journey can positively contribute to both the customer experience and the estimation of the time. It would, therefore, be beneficial to make sure that the train journey is designed to take people's minds off the time and enable them to spend their time functionally or enjoyably. This will attract more passengers for the long routes as well. The railway is trying to make long routes enjoyable by providing different facilities like music, live news, books and puppet shows. This is an effort to optimize the time of travel.

SubQuestion No : 41

Q.41 What can be inferred from the passage?

- Ans**
- 1. For railways operators, travel time reduction is a challenge that they should try to improve upon.
 - 2. To engage people in interesting creating activities will positively contribute customer experience and the estimation of the time.
 - 3. Not all travellers consider travel time as wastage.
 - 4. The Railways are working on shortening the journey by enhancing the speed of the trains.

Question Type : **MCQ**

Question ID : **489564501**

Option 1 ID : **4895641971**

Option 2 ID : **4895641970**

Option 3 ID : **4895641969**

Option 4 ID : **4895641972**

Status : **Answered**

Chosen Option : **2**

Comprehension:

Read the following passage carefully and answer the given questions.

Indian railways operate on more than a thousand routes. The profitability and transport economics of the railway operator is linked directly to the travel time. All routes are not profitable for Indian Railways. Some long routes with a travelling time of two to three days are loss-making, as passengers do not like to use them.

The value of time is an important aspect for passengers who undertake a train journey. It is generally in the interest of passengers to opt for the most convenient (i.e., quick, cheap and effortless) route. But railways have to operate trains on loss-making routes and provide social connectivity.

Evidence has shown that taking people's minds off the duration of a journey can positively contribute to both the customer experience and the estimation of the time. It would, therefore, be beneficial to make sure that the train journey is designed to take people's minds off the time and enable them to spend their time functionally or enjoyably. This will attract more passengers for the long routes as well. The railway is trying to make long routes enjoyable by providing different facilities like music, live news, books and puppet shows. This is an effort to optimize the time of travel.

SubQuestion No : 42

Q.42 What can be a suitable title for the passage?

- Ans
- 1. Railways – a loss-making entity.
 - 2. A journey on a train.
 - 3. Travel time – a headache for railways.
 - 4. Railways: time travel and profitability.

Question Type : **MCQ**

Question ID : **489564499**

Option 1 ID : **4895641963**

Option 2 ID : **4895641962**

Option 3 ID : **4895641964**

Option 4 ID : **4895641961**

Status : **Answered**

Chosen Option : **4**

Comprehension:

Read the following passage carefully and answer the given questions.

Indian railways operate on more than a thousand routes. The profitability and transport economics of the railway operator is linked directly to the travel time. All routes are not profitable for Indian Railways. Some long routes with a travelling time of two to three days are loss-making, as passengers do not like to use them.

The value of time is an important aspect for passengers who undertake a train journey. It is generally in the interest of passengers to opt for the most convenient (i.e., quick, cheap and effortless) route. But railways have to operate trains on loss-making routes and provide social connectivity.

Evidence has shown that taking people's minds off the duration of a journey can positively contribute to both the customer experience and the estimation of the time. It would, therefore, be beneficial to make sure that the train journey is designed to take people's minds off the time and enable them to spend their time functionally or enjoyably. This will attract more passengers for the long routes as well. The railway is trying to make long routes enjoyable by providing different facilities like music, live news, books and puppet shows. This is an effort to optimize the time of travel.

SubQuestion No : 43

Q.43 What is not true as per the passage?

- Ans
- 1. Time is directly related to the profitability of railway operators.
 - 2. Railway operators try to enhance the customer experience for retaining them.
 - 3. Passengers measure the value of time in the way they pass it in travel.
 - 4. The value of time is not an important aspect for the passengers.

Question Type : **MCQ**

Question ID : **489564500**

Option 1 ID : **4895641966**

Option 2 ID : **4895641965**

Option 3 ID : **4895641967**

Option 4 ID : **4895641968**

Status : **Answered**

Chosen Option : **2**

Comprehension:

Read the following passage carefully and answer the given questions.

Indian railways operate on more than a thousand routes. The profitability and transport economics of the railway operator is linked directly to the travel time. All routes are not profitable for Indian Railways. Some long routes with a travelling time of two to three days are loss-making, as passengers do not like to use them.

The value of time is an important aspect for passengers who undertake a train journey. It is generally in the interest of passengers to opt for the most convenient (i.e., quick, cheap and effortless) route. But railways have to operate trains on loss-making routes and provide social connectivity.

Evidence has shown that taking people's minds off the duration of a journey can positively contribute to both the customer experience and the estimation of the time. It would, therefore, be beneficial to make sure that the train journey is designed to take people's minds off the time and enable them to spend their time functionally or enjoyably. This will attract more passengers for the long routes as well. The railway is trying to make long routes enjoyable by providing different facilities like music, live news, books and puppet shows. This is an effort to optimize the time of travel.

SubQuestion No : 44

Q.44 Which of the following points a passenger takes into account while purchasing a railway ticket?

1. Travel time.
2. Cost of ticket.
3. Means of entertainment.

Ans ✓ 1. 1 and 2

✗ 2. 2 and 3

✗ 3. Only 2

✗ 4. Only 1

Question Type : **MCQ**

Question ID : **489564503**

Option 1 ID : **4895641977**

Option 2 ID : **4895641978**

Option 3 ID : **4895641980**

Option 4 ID : **4895641979**

Status : **Answered**

Chosen Option : **4**

Comprehension:

Read the following passage carefully and answer the given questions.

Indian railways operate on more than a thousand routes. The profitability and transport economics of the railway operator is linked directly to the travel time. All routes are not profitable for Indian Railways. Some long routes with a travelling time of two to three days are loss-making, as passengers do not like to use them.

The value of time is an important aspect for passengers who undertake a train journey. It is generally in the interest of passengers to opt for the most convenient (i.e., quick, cheap and effortless) route. But railways have to operate trains on loss-making routes and provide social connectivity.

Evidence has shown that taking people's minds off the duration of a journey can positively contribute to both the customer experience and the estimation of the time. It would, therefore, be beneficial to make sure that the train journey is designed to take people's minds off the time and enable them to spend their time functionally or enjoyably. This will attract more passengers for the long routes as well. The railway is trying to make long routes enjoyable by providing different facilities like music, live news, books and puppet shows. This is an effort to optimize the time of travel.

SubQuestion No : 45

Q.45 What is the main idea of the author in the passage?

- Ans
- 1. Railway's profit depends on the travel time in some journeys.
 - 2. Railways is making a loss on some routes due to a smaller number of passengers.
 - 3. Railways is trying to reduce the travel time by making it entertaining.
 - 4. Railways is trying innovative ways to make loss-making routes profitable.

Question Type : **MCQ**

Question ID : **489564502**

Option 1 ID : **4895641975**

Option 2 ID : **4895641973**

Option 3 ID : **4895641976**

Option 4 ID : **4895641974**

Status : **Answered**

Chosen Option : **4**

Comprehension:

Read the following passage carefully and answer the given questions.

What leads to success; luck or hard work? The most controversial topic for which two opposite streams of thoughts are seen busy in an endless battle along with their strong arguments. The views have been nurtured for a long time; therefore, they cannot be changed easily, as these views are based on concrete proofs.

Luck believers argue that the result is always determined solely by luck or destiny. Undoubtedly, luck plays important role in life, but an in-depth analysis of history and examples surrounding us tell a different story in which the colour of hard work is shining with its significance. There is a strong correlation between luck and hard work, but luck without hard work is a temporary phenomenon.

Luck believers give an example of toppers by saying that thousands do hard work, but only one can get the top position. If you do an in-depth analysis, you will find that it is just the result of luck; moreover, there must be hard work behind that luck. It is believed that if somebody may be able to convert his miserable condition out of bad luck to a reasonable condition with hard work, he will be counted as successful though deprived of a top position.

SubQuestion No : 46

Q.46 What is the meaning of the word 'miserable' as used in the passage?

- Ans
- 1. Focused
 - 2. Happy
 - 3. Improving
 - 4. Pathetic

Question Type : **MCQ**

Question ID : **489564509**

Option 1 ID : **4895641999**

Option 2 ID : **4895641998**

Option 3 ID : **4895641997**

Option 4 ID : **4895642000**

Status : **Answered**

Chosen Option : **4**

Comprehension:

Read the following passage carefully and answer the given questions.

What leads to success; luck or hard work? The most controversial topic for which two opposite streams of thoughts are seen busy in an endless battle along with their strong arguments. The views have been nurtured for a long time; therefore, they cannot be changed easily, as these views are based on concrete proofs.

Luck believers argue that the result is always determined solely by luck or destiny. Undoubtedly, luck plays important role in life, but an in-depth analysis of history and examples surrounding us tell a different story in which the colour of hard work is shining with its significance. There is a strong correlation between luck and hard work, but luck without hard work is a temporary phenomenon.

Luck believers give an example of toppers by saying that thousands do hard work, but only one can get the top position. If you do an in-depth analysis, you will find that it is just the result of luck; moreover, there must be hard work behind that luck. It is believed that if somebody may be able to convert his miserable condition out of bad luck to a reasonable condition with hard work, he will be counted as successful though deprived of a top position.

SubQuestion No : 47

Q.47 What is the main idea of the passage?

- Ans**
- 1. Luck is body, hard work is the soul.
 - 2. Hard work without luck is nothing.
 - 3. Hard work under shines and improves luck.
 - 4. Hard work is luck, and luck is hard work.

Question Type : **MCQ**

Question ID : **489564505**

Option 1 ID : **4895641981**

Option 2 ID : **4895641982**

Option 3 ID : **4895641983**

Option 4 ID : **4895641984**

Status : **Answered**

Chosen Option : **3**

Comprehension:

Read the following passage carefully and answer the given questions.

What leads to success; luck or hard work? The most controversial topic for which two opposite streams of thoughts are seen busy in an endless battle along with their strong arguments. The views have been nurtured for a long time; therefore, they cannot be changed easily, as these views are based on concrete proofs.

Luck believers argue that the result is always determined solely by luck or destiny. Undoubtedly, luck plays important role in life, but an in-depth analysis of history and examples surrounding us tell a different story in which the colour of hard work is shining with its significance. There is a strong correlation between luck and hard work, but luck without hard work is a temporary phenomenon.

Luck believers give an example of toppers by saying that thousands do hard work, but only one can get the top position. If you do an in-depth analysis, you will find that it is just the result of luck; moreover, there must be hard work behind that luck. It is believed that if somebody may be able to convert his miserable condition out of bad luck to a reasonable condition with hard work, he will be counted as successful though deprived of a top position.

SubQuestion No : 48

Q.48 What can be inferred from the passage?

- Ans**
- 1. A student who is not getting good results despite his hard work shall pray hard.
 - 2. A man who is not getting increments despite hard work shall seek some lucky charm from an astrologer.
 - 3. A student who is not getting good results despite his hard work shall work harder.
 - 4. A man who has a lottery ticket shall do hard work to get the first prize on the result day.

Question Type : **MCQ**

Question ID : **489564507**

Option 1 ID : **4895641989**

Option 2 ID : **4895641990**

Option 3 ID : **4895641992**

Option 4 ID : **4895641991**

Status : **Answered**

Chosen Option : **3**

Comprehension:

Read the following passage carefully and answer the given questions.

What leads to success; luck or hard work? The most controversial topic for which two opposite streams of thoughts are seen busy in an endless battle along with their strong arguments. The views have been nurtured for a long time; therefore, they cannot be changed easily, as these views are based on concrete proofs.

Luck believers argue that the result is always determined solely by luck or destiny. Undoubtedly, luck plays important role in life, but an in-depth analysis of history and examples surrounding us tell a different story in which the colour of hard work is shining with its significance. There is a strong correlation between luck and hard work, but luck without hard work is a temporary phenomenon.

Luck believers give an example of toppers by saying that thousands do hard work, but only one can get the top position. If you do an in-depth analysis, you will find that it is just the result of luck; moreover, there must be hard work behind that luck. It is believed that if somebody may be able to convert his miserable condition out of bad luck to a reasonable condition with hard work, he will be counted as successful though deprived of a top position.

SubQuestion No : 49

Q.49 What can be a proper title for the passage?

- Ans**
- 1. Key to success – Luck.
 - 2. Work hard to avoid misfortune.
 - 3. Hard work over luck.
 - 4. Hard Work brings prosperity.

Question Type : **MCQ**

Question ID : **489564506**

Option 1 ID : **4895641986**

Option 2 ID : **4895641987**

Option 3 ID : **4895641985**

Option 4 ID : **4895641988**

Status : **Answered**

Chosen Option : **3**

Comprehension:

Read the following passage carefully and answer the given questions.

What leads to success; luck or hard work? The most controversial topic for which two opposite streams of thoughts are seen busy in an endless battle along with their strong arguments. The views have been nurtured for a long time; therefore, they cannot be changed easily, as these views are based on concrete proofs.

Luck believers argue that the result is always determined solely by luck or destiny. Undoubtedly, luck plays important role in life, but an in-depth analysis of history and examples surrounding us tell a different story in which the colour of hard work is shining with its significance. There is a strong correlation between luck and hard work, but luck without hard work is a temporary phenomenon.

Luck believers give an example of toppers by saying that thousands do hard work, but only one can get the top position. If you do an in-depth analysis, you will find that it is just the result of luck; moreover, there must be hard work behind that luck. It is believed that if somebody may be able to convert his miserable condition out of bad luck to a reasonable condition with hard work, he will be counted as successful though deprived of a top position.

SubQuestion No : 50

Q.50 What is tone of the passage for a believer of luck?

- Ans
- 1. Insipid.
 - 2. Discouraging.
 - 3. Corroboratory.
 - 4. Animated.

Question Type : **MCQ**
Question ID : **489564508**
Option 1 ID : **4895641996**
Option 2 ID : **4895641994**
Option 3 ID : **4895641995**
Option 4 ID : **4895641993**
Status : **Answered**
Chosen Option : **2**

Section : **General Knowledge**

Q.1 Which of the following committees was formed by the RBI to address the concerns in the MFI sector in India?

- Ans
- 1. Raghuram Rajan Committee
 - 2. Y H Malegam Committee
 - 3. D. Subbarao Committee
 - 4. Ravindra Jain Committee

Question Type : **MCQ**
Question ID : **489564515**
Option 1 ID : **4895642021**
Option 2 ID : **4895642022**
Option 3 ID : **4895642024**
Option 4 ID : **4895642023**
Status : **Answered**
Chosen Option : **3**

Q.2 In which district of Maharashtra is the Radhanagari Dam situated?

- Ans 1. Beed
 2. Mumbai city
 3. Nashik
 4. Kolhapur

Question Type : MCQ
Question ID : 489564546
Option 1 ID : 4895642147
Option 2 ID : 4895642148
Option 3 ID : 4895642146
Option 4 ID : 4895642145
Status : Answered
Chosen Option : 4

Q.3 चांदोली धरण, पश्चिम महाराष्ट्रातील सांगली आणि कोल्हापूर या दोन जिल्हांच्या सीमेवर _____ नदीवर आहे.

- Ans 1. भीमा
 2. वारणा
 3. निरा
 4. वैतरणा

Question Type : MCQ
Question ID : 489564547
Option 1 ID : 4895642152
Option 2 ID : 4895642149
Option 3 ID : 4895642150
Option 4 ID : 4895642151
Status : Answered
Chosen Option : 2

Q.4 Which of the following is NOT a job belonging to the primary sector of the economy?

- Ans 1. Fishing
 2. Driving cars
 3. Mining
 4. Forestry

Question Type : MCQ
Question ID : 489564516
Option 1 ID : 4895642026
Option 2 ID : 4895642028
Option 3 ID : 4895642025
Option 4 ID : 4895642027
Status : Answered
Chosen Option : 2

Q.5 Maharashtra ranks _____ in India in consumption of major petroleum products during 2019-20 according to the Maharashtra Economic survey 2020-21.

- Ans
- 1. third
 - 2. fourth
 - 3. first
 - 4. second

Question Type : MCQ
Question ID : 489564555
Option 1 ID : 4895642184
Option 2 ID : 4895642181
Option 3 ID : 4895642182
Option 4 ID : 4895642183
Status : Answered
Chosen Option : 3

Q.6 दिल्लीचा सुलतान इब्राहिम लोदी च्या कोणत्या सुभेदाराने बाबर ला भारतावर आक्रमण करण्यासाठी आमंत्रित केले होते?

- Ans
- 1. सिकंदर लोदी
 - 2. दौलतखान लोदी
 - 3. बहलूल लोदी
 - 4. मलिक सुलतान शाह लोदी

Question Type : MCQ
Question ID : 489564530
Option 1 ID : 4895642083
Option 2 ID : 4895642081
Option 3 ID : 4895642084
Option 4 ID : 4895642082
Status : Answered
Chosen Option : 4

Q.7 रब्बी हंगाम ऑक्टोबर - नोव्हेंबरमध्ये हिवाळ्याच्या प्रारंभापासून सुरू होतो, आणि _____ मध्ये संपतो.

- Ans
- 1. मार्च - एप्रिल
 - 2. जुलै - ऑगस्ट
 - 3. मे - जून
 - 4. जानेवारी - फेब्रुवारी

Question Type : MCQ
Question ID : 489564524
Option 1 ID : 4895642057
Option 2 ID : 4895642059
Option 3 ID : 4895642058
Option 4 ID : 4895642060
Status : Answered
Chosen Option : 4

Q.8 खालीलपैकी कोणत्या समितीच्या शिफारशीनुसार मूलभूत कर्तव्ये जोडण्यात आली आहेत?

- Ans
- 1. कोठारी समिती
 - 2. स्वरण सिंग समिती
 - 3. बीपी मंडल समिती
 - 4. बलराज मेहता समिती

Question Type : MCQ
Question ID : 489564527
Option 1 ID : 4895642072
Option 2 ID : 4895642071
Option 3 ID : 4895642070
Option 4 ID : 4895642069
Status : Answered
Chosen Option : 2

Q.9 खालीलपैकी कोणते विधान बरोबर आहे?

- I. वेरुळच्या लेण्या महाराष्ट्रातील औरंगाबाद जिल्ह्यात आहेत.
II. वेरुळच्या लेण्यांना 1983 मध्ये जागतिक वारशाचा (world heritage) दर्जा देण्यात आला आहे.

- Ans
- 1. केवळ II
 - 2. केवळ I
 - 3. I किंवा II यापैकी कोणतेही नाही
 - 4. I आणि II दोन्ही

Question Type : MCQ
Question ID : 489564537
Option 1 ID : 4895642110
Option 2 ID : 4895642109
Option 3 ID : 4895642112
Option 4 ID : 4895642111
Status : Answered
Chosen Option : 4

Q.10 खालीलपैकी कोणी दिव्यांग बालके आणि महिलांसाठी शारदा सदनची स्थापना केली होती?

- Ans
- 1. महर्षी धोंडो कर्वे
 - 2. महात्मा ज्योतिराव फुले
 - 3. पंडिता रमाबाई
 - 4. ताराबाई शिंदे

Question Type : MCQ
Question ID : 489564535
Option 1 ID : 4895642103
Option 2 ID : 4895642104
Option 3 ID : 4895642102
Option 4 ID : 4895642101
Status : Answered
Chosen Option : 3

Q.11 प्रार्थना समाजाची स्थापना कोणत्या वर्षी व कोठे झाली?

- Ans 1. 1867 आणि बॉम्बे (आताचे मुंबई)
 2. 1892 आणि पुणा (आताचे पुणे)
 3. 1867 आणि पुणा (आताचे पुणे)
 4. 1892 आणि बॉम्बे (आताचे मुंबई)

Question Type : MCQ
Question ID : 489564510
Option 1 ID : 4895642003
Option 2 ID : 4895642004
Option 3 ID : 4895642001
Option 4 ID : 4895642002
Status : Answered
Chosen Option : 1

Q.12 What is the main profession of the Himachal tribe Gaddis?

- Ans 1. Rearing sheep and goat
 2. Blacksmith
 3. Wood sculptors
 4. Organic farming

Question Type : MCQ
Question ID : 489564522
Option 1 ID : 4895642050
Option 2 ID : 4895642049
Option 3 ID : 4895642051
Option 4 ID : 4895642052
Status : Answered
Chosen Option : 1

Q.13 महाराष्ट्राच्या कोणत्या जिल्ह्यात अजिंठा लेण्या आहेत?

- Ans 1. नाशिक
 2. पालघर
 3. औरंगाबाद
 4. वर्धा

Question Type : MCQ
Question ID : 489564549
Option 1 ID : 4895642159
Option 2 ID : 4895642160
Option 3 ID : 4895642157
Option 4 ID : 4895642158
Status : Answered
Chosen Option : 3

Q.14 महाराष्ट्राच्या कोणत्या जिल्ह्यात महात्मा जोतीराव फुले यांनी मुर्लीसाठी पहिली शाळा 1848 मध्ये सुरू केली?

- Ans 1. रत्नागिरी
 2. पुणे
 3. नाशिक
 4. कोल्हापूर

Question Type : MCQ
Question ID : 489564541
Option 1 ID : 4895642127
Option 2 ID : 4895642125
Option 3 ID : 4895642126
Option 4 ID : 4895642128
Status : Answered
Chosen Option : 2

Q.15 स्वामी दयानंद सरस्वती यांनी _____ मध्ये आर्य समाजाची स्थापना केली.

- Ans 1. 1872
 2. 1877
 3. 1875
 4. 1879

Question Type : MCQ
Question ID : 489564542
Option 1 ID : 4895642129
Option 2 ID : 4895642131
Option 3 ID : 4895642130
Option 4 ID : 4895642132
Status : Answered
Chosen Option : 3

Q.16 भारतीय राज्यघटनेच्या सातव्या अनुसूची अंतर्गत राज्यसूचीमध्ये (नोव्हेंबर 2021 पर्यंत) किती विषयांचा समावेश केला आहे?

- Ans 1. 45
 2. 61
 3. 58
 4. 41

Question Type : MCQ
Question ID : 489564528
Option 1 ID : 4895642074
Option 2 ID : 4895642076
Option 3 ID : 4895642075
Option 4 ID : 4895642073
Status : Answered
Chosen Option : 2

Q.17 1857 च्या बंडात खालीलपैकी कोण महाराष्ट्रातील नाशिक जिल्ह्यातून सहभागी झाले होते?

- Ans 1. भागोजी नाईक
 2. सुरगाणा
 3. रंगो बापूजी
 4. चिमासाहेब

Question Type : MCQ
Question ID : 489564533
Option 1 ID : 4895642093
Option 2 ID : 4895642096
Option 3 ID : 4895642094
Option 4 ID : 4895642095
Status : Answered
Chosen Option : 4

Q.18 बेगमपुरी मशीद कोणाच्या कारकिर्दीत बांधली गेली होती?

- Ans 1. अल्लाउद्दीन खिलजी
 2. रज्जिया
 3. मुहम्मद तुघलक
 4. जलाल-उद्दीन खिलजी

Question Type : MCQ
Question ID : 489564511
Option 1 ID : 4895642005
Option 2 ID : 4895642008
Option 3 ID : 4895642006
Option 4 ID : 4895642007
Status : Answered
Chosen Option : 1

Q.19 खालील तृणधान्यांपैकी 2020-21 च्या खरीप हंगामात यापैकी कोणत्या तृणधान्याचे सर्वाधिक उत्पादन झाले होते?

- Ans 1. बाजरी
 2. तांदूळ
 3. सोयाबीन
 4. नाचणी

Question Type : MCQ
Question ID : 489564554
Option 1 ID : 4895642180
Option 2 ID : 4895642178
Option 3 ID : 4895642179
Option 4 ID : 4895642177
Status : Answered
Chosen Option : 3

Q.20 खालीलपैकी कोणता ट्रिप्लोब्लास्टिक नाही?

- Ans
- 1. प्रोटोकोर्डेटा
 - 2. नेमॅटोडा
 - 3. ऍनेलिडा
 - 4. पोरिफेरा

Question Type : MCQ
Question ID : 489564525
Option 1 ID : 4895642063
Option 2 ID : 4895642061
Option 3 ID : 4895642062
Option 4 ID : 4895642064
Status : Answered
Chosen Option : 1

Q.21 मुंबई आणि राज्याच्या काही भागांत परवडणाऱ्या किंमतीत घरे उपलब्ध करून देण्यासाठी महाराष्ट्र गृहनिर्माण आणि क्षेत्रविकास प्राधिकरण _____ या वर्षात अस्तित्वात आले.

- Ans
- 1. 1977
 - 2. 1988
 - 3. 1980
 - 4. 1982

Question Type : MCQ
Question ID : 489564550
Option 1 ID : 4895642161
Option 2 ID : 4895642164
Option 3 ID : 4895642162
Option 4 ID : 4895642163
Status : Answered
Chosen Option : 4

Q.22 खालीलपैकी कोणत्या जमाती मुखवट्यांचा प्रसिद्ध सण "बोहाडा" (Bohada) साजरा करतात?

- Ans
- 1. कोकणा (Kokna)
 - 2. मुंडा (Munda)
 - 3. बैगा (Baiga)
 - 4. माडिया (Madia)

Question Type : MCQ
Question ID : 489564551
Option 1 ID : 4895642165
Option 2 ID : 4895642167
Option 3 ID : 4895642166
Option 4 ID : 4895642168
Status : Answered
Chosen Option : 4

Q.23 राष्ट्रीय महामार्ग एकूण रस्त्यांच्या लांबीच्या फक्त 2 टक्के आहेत, परंतु _____ टक्के रस्तेवाहतूक करतात.

- Ans 1. 40
 2. 32
 3. 12
 4. 2

Question Type : MCQ
Question ID : 489564523
Option 1 ID : 4895642056
Option 2 ID : 4895642055
Option 3 ID : 4895642054
Option 4 ID : 4895642053
Status : Answered
Chosen Option : 1

Q.24 राजा राममोहन रॉय यांच्या मदतीने खालीलपैकी कोणता कायदा गव्हर्नर लॉर्ड विल्यम बेंटिक ने मंजूर केला होता?

- Ans 1. हुंडा कायदा
 2. सती प्रतिबंधक कायदा
 3. बालविवाह कायदा
 4. बालशिक्षण कायदा

Question Type : MCQ
Question ID : 489564534
Option 1 ID : 4895642098
Option 2 ID : 4895642097
Option 3 ID : 4895642099
Option 4 ID : 4895642100
Status : Answered
Chosen Option : 2

Q.25 केंद्रीय अर्थसंकल्प 2021-22 मध्ये घोषित केलेल्या देशातील पायाभूत सुविधा प्रकल्पांना निधी पुरवण्यासाठी नवीन DFI ला _____ एवढे प्रारंभिक भांडवल गुंतवण्यास मंजूरी देण्यात आली आहे.

- Ans 1. रु. 10,000 कोटी
 2. रु. 20,000 कोटी
 3. रु. 15,000 कोटी
 4. रु. 5,000 कोटी

Question Type : MCQ
Question ID : 489564517
Option 1 ID : 4895642030
Option 2 ID : 4895642032
Option 3 ID : 4895642031
Option 4 ID : 4895642029
Status : Answered
Chosen Option : 4

Q.26 _____ पासूनचा कालावधी हा भारताच्या लोकसंख्येच्या वाढीचा गतिशून्य किंवा स्थिर टप्पा म्हणून संदर्भित केला जातो, कारण या कालावधीत विकास दर खूपच कमी होता, अगदी नकारात्मक वाढीचा दर देखील नोंदवला गेला होता.

- Ans 1. 1901-1921
 2. 1921-1951
 3. 1981-2011
 4. 1951-1981

Question Type : MCQ
Question ID : 489564521
Option 1 ID : 4895642045
Option 2 ID : 4895642047
Option 3 ID : 4895642048
Option 4 ID : 4895642046
Status : Answered
Chosen Option : 2

Q.27 Mumbai Metropolitan Region (MMR) comprises of _____ municipal corporations.

- Ans 1. 9
 2. 7
 3. 10
 4. 6

Question Type : MCQ
Question ID : 489564544
Option 1 ID : 4895642139
Option 2 ID : 4895642140
Option 3 ID : 4895642137
Option 4 ID : 4895642138
Status : Answered
Chosen Option : 1

Q.28 सिंधू, गंगा आणि ब्रह्मपुत्रा या नद्यांनी आणलेल्या गाळाच्या साठ्यांमुळे _____ तयार होत आहे.

- Ans 1. द्वीपकल्पीय खंड (peninsular blocks)
 2. उत्तरेकडील मैदान (northern plains)
 3. दख्खनचे पठार (deccan plateau)
 4. अरुणाचल हिमालय (Arunachal Himalayas)

Question Type : MCQ
Question ID : 489564518
Option 1 ID : 4895642033
Option 2 ID : 4895642034
Option 3 ID : 4895642035
Option 4 ID : 4895642036
Status : Answered
Chosen Option : 2

Q.29 महाराष्ट्र विधानपरिषदेतील सदस्यांची संख्या किती आहे?

- Ans
- 1. 84
 - 2. 72
 - 3. 78
 - 4. 75

Question Type : MCQ
Question ID : 489564557
Option 1 ID : 4895642190
Option 2 ID : 4895642189
Option 3 ID : 4895642191
Option 4 ID : 4895642192
Status : Answered
Chosen Option : 3

Q.30 "आय अॅम नो मसीहा" (I Am No Messiah) या पुस्तकाचे लेखक कोण आहेत?

- Ans
- 1. सोनू सूद
 - 2. शरद पवार
 - 3. सौरभ दुग्गल
 - 4. अमित रंजन

Question Type : MCQ
Question ID : 489564538
Option 1 ID : 4895642113
Option 2 ID : 4895642115
Option 3 ID : 4895642114
Option 4 ID : 4895642116
Status : Answered
Chosen Option : 1

Q.31 "व्यक्ती आणि वल्ली" (Vyakti ani Valli) या पुस्तकाचे लेखक कोण आहेत?

- Ans
- 1. जी. ए. कुलकर्णी
 - 2. पु. ल. देशपांडे
 - 3. नामदेव ढसाळ
 - 4. विश्वास पाटील

Question Type : MCQ
Question ID : 489564540
Option 1 ID : 4895642122
Option 2 ID : 4895642121
Option 3 ID : 4895642123
Option 4 ID : 4895642124
Status : Answered
Chosen Option : 2

Q.32 खालीलपैकी कोणत्या शासकाने चालुक्य राजवंशाची स्थापना केली?

- Ans 1. पुलकेशी पहिला (Pulakeshi I)
 2. प्रवरसेन पहिला (Pravarasena I)
 3. रुद्रसेन पहिला (Rudrasena I)
 4. सातकर्णी पहिला (Satkarni I)

Question Type : MCQ

Question ID : 489564531

Option 1 ID : 4895642085

Option 2 ID : 4895642086

Option 3 ID : 4895642088

Option 4 ID : 4895642087

Status : Answered

Chosen Option : 1

Q.33 खालीलपैकी कोणते विधान बरोबर आहे?

- I. महाराष्ट्राच्या आर्थिक सर्वेक्षणानुसार, राज्यात 2020-21 मध्ये रासायनिक खतांचा वापर 78.10 लाख मेट्रिक लाख टन होईल, असे अनुमान आहे.
II. महाराष्ट्राच्या 2020-21 च्या आर्थिक सर्वेक्षणानुसार, भारत सरकारने स्वयं-परागित (self-pollinated) पिकांसाठी 35 टक्के बियाणे बदलण्याचे उद्दिष्ट ठेवले आहे.

- Ans 1. केवळ II
 2. I आणि II दोन्ही
 3. केवळ I
 4. I किंवा II यापैकी कोणतेही नाही

Question Type : MCQ

Question ID : 489564545

Option 1 ID : 4895642142

Option 2 ID : 4895642143

Option 3 ID : 4895642141

Option 4 ID : 4895642144

Status : Answered

Chosen Option : 2

Q.34 "संगीता संप्रदाय प्रदर्शिनी" या पुस्तकाचे लेखक खालील पैकी कोण आहेत?

- Ans 1. म्हैसूर सदाशिव राव (Mysore Sadasiva Rao)
 2. सुब्बराम दीक्षितर (Subbarama Dikshithar)
 3. पापनासम सिवन (Papanasam Sivan)
 4. श्रीनिवास अय्यंगार (Srinivasa Iyengar)

Question Type : MCQ

Question ID : 489564513

Option 1 ID : 4895642015

Option 2 ID : 4895642013

Option 3 ID : 4895642016

Option 4 ID : 4895642014

Status : Answered

Chosen Option : 2

Q.35 कोळी ढोर (Koli Dhor) जमातीबाबत खालीलपैकी कोणते विधान बरोबर आहे?

- I. कोळी-ढोर (Koli Dhor) वसाहतीला वाडी म्हटले जाते.
II. कोळी-ढोर (Koli Dhor) यांनी आपले नाव 'ढोर' म्हणजे गुरेढोरे या शब्दापासून घेतले आहे.

- Ans 1. केवळ I
 2. I आणि II दोन्ही
 3. केवळ II
 4. I किंवा II यापैकी कोणतेही नाही

Question Type : MCQ
Question ID : 489564553
Option 1 ID : 4895642173
Option 2 ID : 4895642175
Option 3 ID : 4895642174
Option 4 ID : 4895642176
Status : Answered
Chosen Option : 2

Q.36 वैश्विक गुरुत्वाकर्षण स्थिरांक 'G' चे एकक काय आहे?

- Ans 1. $N m^2 kg^2$
 2. $N m^3 kg^{-2}$
 3. $N m^2 kg^{-2}$
 4. $N m^{-2} kg^2$

Question Type : MCQ
Question ID : 489564526
Option 1 ID : 4895642065
Option 2 ID : 4895642068
Option 3 ID : 4895642067
Option 4 ID : 4895642066
Status : Answered
Chosen Option : 3

Q.37 भारताच्या 2011 च्या जनगणनेनुसार, महाराष्ट्रातील खालीलपैकी कोणत्या जिल्ह्यात तरुण लोकसंख्येचे प्रमाण सर्वात कमी आहे?

- Ans 1. सिंधुदुर्ग
 2. पुणे
 3. कोल्हापूर
 4. रत्नागिरी

Question Type : MCQ
Question ID : 489564552
Option 1 ID : 4895642171
Option 2 ID : 4895642169
Option 3 ID : 4895642172
Option 4 ID : 4895642170
Status : Answered
Chosen Option : 1

Q.38 कोणत्या भारतीय क्रिकेटपटूला सर्वोच्च नागरी पुरस्कार भारतरत्न मिळाला आहे?

- Ans 1. सचिन तेंडुलकर
 2. कपिल देव
 3. विराट कोहली
 4. सौरव गांगुली

Question Type : MCQ
Question ID : 489564529
Option 1 ID : 4895642079
Option 2 ID : 4895642078
Option 3 ID : 4895642080
Option 4 ID : 4895642077
Status : Answered
Chosen Option : 1

Q.39 "विशुद्धिमग्गा" ("Visuddhimagga") या पुस्तकाचे लेखक कोण आहेत?

- Ans 1. अश्वघोष
 2. नान्जो बन्यु
 3. अनगरिका गोविंदा
 4. बुद्धघोष

Question Type : MCQ
Question ID : 489564514
Option 1 ID : 4895642017
Option 2 ID : 4895642018
Option 3 ID : 4895642019
Option 4 ID : 4895642020
Status : Answered
Chosen Option : 1

Q.40 मध्य-प्लाइस्टोसीन (mid-pleistocene) कालावधीत _____ आणि मेघालय पठार यांच्यातील मालदा अंतराच्या क्षेत्राच्या खाली-प्रणोदनाने (down-thrusting) गंगा आणि ब्रह्मपुत्रा प्रणाली बंगालच्या उपसागराकडे वळवली.

- Ans 1. सुसुनिया पर्वतरांग
 2. निलगिरी पर्वतरांग
 3. राजमहल पर्वतरांग
 4. पांचेत पर्वतरांग

Question Type : MCQ
Question ID : 489564519
Option 1 ID : 4895642038
Option 2 ID : 4895642037
Option 3 ID : 4895642039
Option 4 ID : 4895642040
Status : Answered
Chosen Option : 3

Q.41 महाराष्ट्र विधानसभेच्या एकूण जागांपैकी खालीलपैकी कोणत्या जिल्ह्यातील जागांची संख्या सर्वाधिक आहे?

- Ans 1. मुंबई शहर
 2. मुंबई उपनगर
 3. पुणे
 4. ठाणे

Question Type : MCQ
Question ID : 489564556
Option 1 ID : 4895642187
Option 2 ID : 4895642186
Option 3 ID : 4895642185
Option 4 ID : 4895642188
Status : Answered
Chosen Option : 3

Q.42 महाराष्ट्र राज्यातील नगर पंचायतींमधील किमान आवश्यक सांविधिक सदस्य संख्या किती आहे?

- Ans 1. 9
 2. 13
 3. 11
 4. 15

Question Type : MCQ
Question ID : 489564559
Option 1 ID : 4895642197
Option 2 ID : 4895642199
Option 3 ID : 4895642198
Option 4 ID : 4895642200
Status : Answered
Chosen Option : 1

Q.43 ताडोबा-अंधारी व्याघ्र प्रकल्प (Tadoba-Andhari Tiger Reserve) महाराष्ट्रातील _____ जिल्ह्यात आहे.

- Ans 1. हिंगोली
 2. औरंगाबाद
 3. बीड
 4. चंद्रपूर

Question Type : MCQ
Question ID : 489564548
Option 1 ID : 4895642154
Option 2 ID : 4895642155
Option 3 ID : 4895642156
Option 4 ID : 4895642153
Status : Answered
Chosen Option : 4

Q.44 महाराष्ट्राच्या कोणत्या जिल्ह्यात तात्या टोपेंचा जन्म झाला होता?

- Ans 1. नाशिक
 2. अहमदनगर
 3. लातूर
 4. बीड

Question Type : MCQ
Question ID : 489564536
Option 1 ID : 4895642108
Option 2 ID : 4895642107
Option 3 ID : 4895642105
Option 4 ID : 4895642106
Status : Answered
Chosen Option : 1

Q.45 खालीलपैकी कोणत्या नृत्याचा उगम केरळच्या मंदिरांमध्ये आहे?

- Ans 1. मोहिनीअट्टम
 2. भरतनाट्यम
 3. कूचिपूडि
 4. कथक

Question Type : MCQ
Question ID : 489564512
Option 1 ID : 4895642011
Option 2 ID : 4895642009
Option 3 ID : 4895642010
Option 4 ID : 4895642012
Status : Answered
Chosen Option : 1

Q.46 गोंडवाना कोळशाचे प्रमुख स्रोत, जे धातुशास्त्रीय कोळसा (metallurgical coal) आहेत, ते ___ येथे आहे.

- Ans 1. दामोदर दरी
 2. चिनाब दरी
 3. दर्मा दरी
 4. झोजीला दरी

Question Type : MCQ
Question ID : 489564520
Option 1 ID : 4895642044
Option 2 ID : 4895642041
Option 3 ID : 4895642043
Option 4 ID : 4895642042
Status : Answered
Chosen Option : 1

Q.47 31 मार्च 2020 रोजीनुसार महाराष्ट्रातील कोणत्या जिल्ह्यात आंतरराष्ट्रीय विमानतळ नाही?

- Ans
- 1. मुंबई
 - 2. जळगाव
 - 3. नागपूर
 - 4. पुणे

Question Type : MCQ
Question ID : 489564543
Option 1 ID : 4895642134
Option 2 ID : 4895642133
Option 3 ID : 4895642136
Option 4 ID : 4895642135
Status : Answered
Chosen Option : 2

Q.48 पुढीलपैकी कोणत्या मराठी लेखकाला ज्ञानपीठ पुरस्कार (Jnanpith Award) मिळाला आहे?

- Ans
- 1. भालचंद्र नेमाडे
 - 2. सतीश आळेकर
 - 3. गोविंद बल्लाळ देवल
 - 4. नारायण हरी आपटे

Question Type : MCQ
Question ID : 489564539
Option 1 ID : 4895642117
Option 2 ID : 4895642119
Option 3 ID : 4895642120
Option 4 ID : 4895642118
Status : Answered
Chosen Option : 1

Q.49 वाकाटक (Vakataka) राजवंशाचा संस्थापक 'विंध्यशक्ती' (Vindhyashakti) चा उत्तराधिकारी _____ होता.

- Ans
- 1. हरिशेन (Harishena)
 - 2. प्रवरसेन पहिला (Pravarasena I)
 - 3. देवासेना (Devasena)
 - 4. रुद्रसेन पहिला (Rudrasena I)

Question Type : MCQ
Question ID : 489564532
Option 1 ID : 4895642091
Option 2 ID : 4895642089
Option 3 ID : 4895642092
Option 4 ID : 4895642090
Status : Answered
Chosen Option : 2

Q.50 खालीलपैकी कोणता जिल्हा प्रशासनाचा योग्य क्रम आहे?

- Ans
- ✗ 1. जिल्हाधिकारी > तहसीलदार > उपजिल्हाधिकारी > तलाठी
 - ✗ 2. जिल्हाधिकारी > तलाठी > उपजिल्हाधिकारी > तहसीलदार
 - ✓ 3. जिल्हाधिकारी > उपजिल्हाधिकारी > तहसीलदार > तलाठी
 - ✗ 4. जिल्हाधिकारी > उपजिल्हाधिकारी > तलाठी > तहसीलदार

Question Type : MCQ

Question ID : 489564558

Option 1 ID : 4895642193

Option 2 ID : 4895642194

Option 3 ID : 4895642196

Option 4 ID : 4895642195

Status : Answered

Chosen Option : 3

Section : General Intelligence

Q.1 खालील प्रश्नात, काही विधाने दिलेली आहेत आणि त्यानंतर त्या विधानांवर आधारित काही निष्कर्ष दिलेले आहेत. दिलेली विधाने सामान्यतः ज्ञात तथ्यांभेदा भिन्न वाटत असली तरीही ती सत्य माना. सर्व निष्कर्ष वाचा आणि नंतर दिलेल्या विधानांपैकी कोणता/ते निष्कर्ष ताकिकपणे अनुसरण करतो/करतात ते ठरवा.

विधाने:

- I. कोणताही R हा F नाही.
- II. कोणताही J हा R नाही.
- III. कोणताही P हा J नाही.

निष्कर्ष:

- I. काही P हे J नाहीत.
- II. काही P हे F आहेत.
- III. कोणताही F हा R नाही.

Ans

- ✓ 1. निष्कर्ष I आणि III दोन्ही अनुसरण करतात
- ✗ 2. सर्व निष्कर्ष अनुसरण करतात
- ✗ 3. निष्कर्ष II आणि III दोन्ही अनुसरण करतात
- ✗ 4. केवळ निष्कर्ष II अनुसरण करतो

Question Type : MCQ

Question ID : 489564569

Option 1 ID : 4895642237

Option 2 ID : 4895642239

Option 3 ID : 4895642240

Option 4 ID : 4895642238

Status : Answered

Chosen Option : 2

Q.2 By interchanging which two signs the given equation will be correct?

$$16 \times 8 + 4 \div 3 - 8 = 6$$

- Ans
- 1. \div and $+$
 - 2. $+$ and $-$
 - 3. \div and $-$
 - 4. \times and \div

Question Type : MCQ

Question ID : 489564605

Option 1 ID : 4895642381

Option 2 ID : 4895642382

Option 3 ID : 4895642384

Option 4 ID : 4895642383

Status : Answered

Chosen Option : 4

Q.3 Eight persons A, B, C, D, E, F, G and H sit around a square table in which four persons sit at a corner and four persons sit at middle of the side (not necessarily in the same order). Each faces towards the centre. C sits second to the right of H. B sits second to the left of G. One person sits between G and D. F sits exactly opposite to G. H is not a neighbour of F and D. E does not sit at corner and he is not a neighbour of D. How many persons sit between A and B?

- Ans
- 1. 1
 - 2. 2
 - 3. 0
 - 4. 3

Question Type : MCQ

Question ID : 489564565

Option 1 ID : 4895642222

Option 2 ID : 4895642223

Option 3 ID : 4895642221

Option 4 ID : 4895642224

Status : Answered

Chosen Option : 1

Q.4 Five girls G1, G2, G3, G4 and G5 sit in a row facing towards the north (not necessarily in the same order). G2 sits second to the left of G5. G3 sits second to right of G1. G3 and G4 are not the neighbours of G2. Who sits second to the left of G4?

- Ans
- 1. G2
 - 2. G1
 - 3. G3
 - 4. G5

Question Type : MCQ

Question ID : 489564560

Option 1 ID : 4895642202

Option 2 ID : 4895642201

Option 3 ID : 4895642203

Option 4 ID : 4895642204

Status : Answered

Chosen Option : 4

Q.5 Six students A, B, C, D, E and F have different marks in an exam. The marks of B and D are more than the marks of C. Three students have more marks than A. The mark of C is more than the marks of A. The marks of E are more than the marks of F. Who have got second lowest marks?

- Ans**
- 1. D
 - 2. F
 - 3. E
 - 4. C

Question Type : **MCQ**
Question ID : **489564573**
Option 1 ID : **4895642256**
Option 2 ID : **4895642253**
Option 3 ID : **4895642254**
Option 4 ID : **4895642255**
Status : **Answered**
Chosen Option : **3**

Q.6 If 'A × B' means 'B is the father of A', 'A + B' means 'B is the son of A', 'A # B' means 'B is the sister of A', 'A # B' means 'B is the wife of A' and 'A @ B' means 'B is the brother of A', then with respect to P + Q × R @ S # T + U, how is T related to Q?

- Ans**
- 1. Sister
 - 2. Niece
 - 3. Aunt
 - 4. Mother

Question Type : **MCQ**
Question ID : **489564594**
Option 1 ID : **4895642340**
Option 2 ID : **4895642337**
Option 3 ID : **4895642338**
Option 4 ID : **4895642339**
Status : **Answered**
Chosen Option : **3**

Q.7 "GELATINOUS" या शब्दामध्ये अक्षरांच्या अशा किती जोड्या आहेत, ज्यातील प्रत्येक शब्दामध्ये (पुढे आणि मागे दोन्ही दिशेने) इंग्रजी वर्णक्रमानुसार त्यांच्यामध्ये जितकी अक्षरे आहेत तितकी अक्षरे आहेत?

- Ans**
- 1. तीन
 - 2. चार पेक्षा जास्त
 - 3. दोन
 - 4. चार

Question Type : **MCQ**
Question ID : **489564584**
Option 1 ID : **4895642298**
Option 2 ID : **4895642300**
Option 3 ID : **4895642297**
Option 4 ID : **4895642299**
Status : **Answered**
Chosen Option : **2**

Q.8 खाली दिलेला तक्ता पाच भिन्न देशांतील तांदळाचे उत्पादन आणि वापर दर्शवतो.

देश	उत्पादन	वापर
A	46	32
B	125	60
C	135	118
D	124	105
E	80	75

B आणि C देशांमधील एकत्रितपणे तांदळाच्या उत्पादनाचे आणि D आणि E देशांमधील एकत्रितपणे तांदळाच्या वापराचे गुणोत्तर किती आहे?

- Ans
- ✓ 1. 13 : 9
- ✗ 2. 8 : 9
- ✗ 3. 15 : 8
- ✗ 4. 16 : 9

Question Type : MCQ

Question ID : 489564609

Option 1 ID : 4895642400

Option 2 ID : 4895642399

Option 3 ID : 4895642398

Option 4 ID : 4895642397

Status : Answered

Chosen Option : 1

Q.9 Six siblings P, Q, R, S, T and U have different ages. Q and T are elder than P and U. S is the eldest and T is third eldest. R is younger than U, but elder than P.

Which of the following statement(s) is/are correct?

I. Q is younger than T.

II. P is the youngest.

- Ans
- ✗ 1. Neither I nor II
- ✓ 2. Only II
- ✗ 3. Both I and II
- ✗ 4. Only I

Question Type : MCQ

Question ID : 489564576

Option 1 ID : 4895642268

Option 2 ID : 4895642266

Option 3 ID : 4895642267

Option 4 ID : 4895642265

Status : Answered

Chosen Option : 2

Q.10 In the following question, the numbers 7, 8, 6, 3 and 2 are used with the following meaning as illustrated below:

'P 7 Q' means 'P is neither greater than nor smaller than Q'.

'P 8 Q' means 'P is neither greater than nor equal to Q'.

'P 6 Q' means 'P is neither smaller than nor equal to Q'.

'P 3 Q' means 'P is not greater than Q'.

'P 2 Q' means 'P is not smaller than Q'.

Now in the question assuming the given statements to be true, find which of the conclusions given below them is definitely true and give your answer.

Statements:

B 7 H, E 3 H, F 7 E, N 2 U, E 8 U, R 2 H

Conclusions:

I. R 6 E

II. N 7 F

III. R 7 E

- Ans**
- 1. neither conclusion is true
 - 2. either conclusion II or conclusion III is true
 - 3. either conclusion I or conclusion III is true
 - 4. both conclusions II and III are true

Question Type : **MCQ**
 Question ID : **489564571**
 Option 1 ID : **4895642248**
 Option 2 ID : **4895642247**
 Option 3 ID : **4895642245**
 Option 4 ID : **4895642246**
 Status : **Answered**
 Chosen Option : **1**

Q.11 A series is given with one term missing. Select the correct alternative from the given ones that will complete the series.

SLPF, 27NNJ, 64PLN, 125RJR, ?

- Ans**
- 1. 216THU
 - 2. 216THV
 - 3. 343THV
 - 4. 250TIV

Question Type : **MCQ**
 Question ID : **489564579**
 Option 1 ID : **4895642277**
 Option 2 ID : **4895642278**
 Option 3 ID : **4895642279**
 Option 4 ID : **4895642280**
 Status : **Answered**
 Chosen Option : **2**

Q.12 In this question, relationships between different elements are shown in the statements. Assuming the given statements to be true, find which of the conclusions given below them is definitely true and give your answer.

Statements:

$L < N, N < R, U = T, T \geq R, A > L$

Conclusions:

I. $R \leq U$

II. $N < T$

- Ans**
- 1. neither conclusion I nor conclusion II is true
 - 2. both conclusions I and II are true
 - 3. only conclusion I is true
 - 4. only conclusion II is true

Question Type : MCQ

Question ID : 489564570

Option 1 ID : 4895642244

Option 2 ID : 4895642243

Option 3 ID : 4895642241

Option 4 ID : 4895642242

Status : Answered

Chosen Option : 2

Q.13 A series is given with one term missing. Select the correct alternative from the given ones that will complete the series.

BAD7, JLR40, RWF47, ZHT54, ?

- Ans**
- 1. GHS40
 - 2. HSH70
 - 3. HTG47
 - 4. HSH35

Question Type : MCQ

Question ID : 489564580

Option 1 ID : 4895642284

Option 2 ID : 4895642281

Option 3 ID : 4895642282

Option 4 ID : 4895642283

Status : Answered

Chosen Option : 4

Q.14 Six persons P1, P2, P3, P4, P5 and P6 sit around a circular table facing towards the centre (not necessarily in the same order). One person sits between P1 and P5. One person sits between P2 and P5. P4 is not a neighbour of P2. P3 sits to the immediate left of P1.

Which of the following statement(s) is/are correct?

I. P6 sits to the immediate right of P5.

II. P4 sits third to the left of P2.

- Ans**
- 1. Only I
 - 2. Both I and II
 - 3. Neither I nor II
 - 4. Only II

Question Type : **MCQ**
 Question ID : **489564563**
 Option 1 ID : **4895642213**
 Option 2 ID : **4895642215**
 Option 3 ID : **4895642216**
 Option 4 ID : **4895642214**
 Status : **Answered**
 Chosen Option : **1**

Q.15 P and Q start walking in opposite direction. P walks 5 km and Q walks 12 km, then P turns to the right and walks 12 km while Q turns to the left and walks 5 km. How far is each of them from the starting point?

- Ans**
- 1. 5 km, 13 km
 - 2. 13 km, 13 km
 - 3. 19 km, 13 km
 - 4. 12 km, 5 km

Question Type : **MCQ**
 Question ID : **489564591**
 Option 1 ID : **4895642325**
 Option 2 ID : **4895642326**
 Option 3 ID : **4895642327**
 Option 4 ID : **4895642328**
 Status : **Answered**
 Chosen Option : **2**

Q.16 In a certain code language, 'BAT' is written as '2120' and 'DOG' is written as '4157'. What is the code for 'TAP' in that code language?

- Ans**
- 1. 20216
 - 2. 20117
 - 3. 20116
 - 4. 19116

Question Type : **MCQ**
 Question ID : **489564585**
 Option 1 ID : **4895642302**
 Option 2 ID : **4895642303**
 Option 3 ID : **4895642301**
 Option 4 ID : **4895642304**
 Status : **Answered**
 Chosen Option : **3**

Q.17 Six women W1, W2, W3, W4, W5 and W6 sit in a row facing towards the north (not necessarily in the same order). W4 sits second to the left of W6. W5 sits to the immediate right of W2. W1 sits third to the right of W6.

Which of the following statement(s) is/are correct?

I. W6 sits to the immediate left of W2.

II. One woman sits between W3 and W5.

Ans 1. Neither I nor II

2. Only I

3. Both I and II

4. Only II

Question Type : **MCQ**

Question ID : **489564562**

Option 1 ID : **4895642212**

Option 2 ID : **4895642209**

Option 3 ID : **4895642211**

Option 4 ID : **4895642210**

Status : **Answered**

Chosen Option : **2**

Q.18 The problem has a question and two statements (I) and (II). (Decide whether the data given in the statements are sufficient to answer the question and give answer)

How many brothers does A have?

I. D is the sister of A.

II. C and E are only brothers of D.

Ans 1.

If the question can be answered by using either of the statement (I) or (II) alone.

2.

If the question can be answered by using both the statements together but not by either statement alone.

3.

If the question cannot be answered even by using both the statements together.

4.

If the question can be answered by using one of the statements alone but cannot be answered by using the other statement alone.

Question Type : **MCQ**

Question ID : **489564596**

Option 1 ID : **4895642346**

Option 2 ID : **4895642347**

Option 3 ID : **4895642348**

Option 4 ID : **4895642345**

Status : **Answered**

Chosen Option : **2**

Q.19 In a class, A's rank is 25th from the top and B's rank is 20th from the bottom. If there are 4 students between A and B, then what is the minimum number of students in the class?

- Ans**
- 1. 38
 - 2. 40
 - 3. 39
 - 4. 49

Question Type : **MCQ**

Question ID : **489564566**

Option 1 ID : **4895642225**

Option 2 ID : **4895642228**

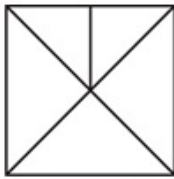
Option 3 ID : **4895642226**

Option 4 ID : **4895642227**

Status : **Answered**

Chosen Option : **4**

Q.20 How many triangles are there in the given figure?



- Ans**
- 1. 8
 - 2. 11
 - 3. 9
 - 4. 10

Question Type : **MCQ**

Question ID : **489564600**

Option 1 ID : **4895642361**

Option 2 ID : **4895642364**

Option 3 ID : **4895642362**

Option 4 ID : **4895642363**

Status : **Answered**

Chosen Option : **4**

Q.21 खाली दिलेल्या संख्यांच्या मालिकेवर आधारित खालील प्रश्नाचे उत्तर द्या.

634792819462398765432168

डाव्या अंतिम टोकापासून दहाव्या अंकाच्या आणि उजव्या अंतिम टोकापासून सातव्या अंकाच्या बेरजेचा वर्ग किती असेल?

- Ans**
- 1. 100
 - 2. 36
 - 3. 121
 - 4. 81

Question Type : **MCQ**

Question ID : **489564581**

Option 1 ID : **4895642288**

Option 2 ID : **4895642286**

Option 3 ID : **4895642287**

Option 4 ID : **4895642285**

Status : **Answered**

Chosen Option : **4**

Q.22 एक पद गहाळ असलेली एक मातिका येथे दिली आहे. दिलेल्या पर्यायांपैकी योग्य पर्याय निवडा जो मातिका पूर्ण करेल.

JD2, MG4, PJ6, SM8, ?

- Ans
- 1. SP14
 - 2. VP12
 - 3. UP10
 - 4. VP10

Question Type : MCQ
Question ID : 489564577
Option 1 ID : 4895642271
Option 2 ID : 4895642269
Option 3 ID : 4895642270
Option 4 ID : 4895642272
Status : Answered
Chosen Option : 4

Q.23 The problem has a question and two statements (I) and (II). (Decide whether the data given in the statements are sufficient to answer the question and give answer)

The sum of ages of P, Q and R is 60 years. What is the age of R?

I. Age of P is 21 years.

II. R is 15 years younger than Q.

Ans 1.

If the question can be answered by using both the statements together but not by either statement alone.

2.

If the question can be answered by using one of the statements alone but cannot be answered by using the other statement alone.

3.

If the question can be answered by using either of the statement (I) or (II) alone.

4.

If the question cannot be answered even by using both the statements together.

Question Type : MCQ
Question ID : 489564595
Option 1 ID : 4895642343
Option 2 ID : 4895642341
Option 3 ID : 4895642342
Option 4 ID : 4895642344
Status : Answered
Chosen Option : 1

Q.24 Six persons P1, P2, P3, P4, P5 and P6 live on six different floors of a building (not necessarily in the same order). The lowest floor is numbered 1, the floor above it is 2, and so on. No two persons live on the same floor. P6 lives just below P3. Two persons live between P2 and P5. One person lives between P1 and P2. P5 lives on the third floor.

Which of the following statement(s) is/are correct?

I. P4 lives above P3.

II. One person lives between P1 and P3.

Ans 1. Only II

2. Both I and II

3. Only I

4. Neither I nor II

Question Type : MCQ

Question ID : 489564567

Option 1 ID : 4895642230

Option 2 ID : 4895642231

Option 3 ID : 4895642229

Option 4 ID : 4895642232

Status : Answered

Chosen Option : 2

Q.25 A number arrangement machine, when give an input line of positive numbers, rearranges them following a particular rule in each step. The following is an illustration of input and rearrangement.

Input: 478 954 639 784

Step 1: 19 18 18 19

Step 2: 10 9 9 10

Step 3: 100 81 81 100

Step 3 is the last step.

Using the above-mentioned logic, ascertain the following question.

If third step of an input is 16 25 16 16, then what is the second step of that input?

Ans 1. 4 4 4 5

2. 4 5 4 4

3. 4 4 5 4

4. 4 4 4 4

Question Type : MCQ

Question ID : 489564589

Option 1 ID : 4895642319

Option 2 ID : 4895642320

Option 3 ID : 4895642318

Option 4 ID : 4895642317

Status : Answered

Chosen Option : 2

Q.26 What approximate value should come in place of the question mark (?) sign?

$$40\% \text{ of } (15.09)^2 + 50\% \text{ of } (22.06)^2 - 119.16 = ?$$

- Ans
- ✓ 1. 213
 - ✗ 2. 202
 - ✗ 3. 175
 - ✗ 4. 198

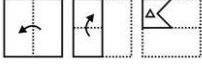
Question Type : MCQ
Question ID : 489564604
Option 1 ID : 4895642377
Option 2 ID : 4895642378
Option 3 ID : 4895642380
Option 4 ID : 4895642379
Status : Answered
Chosen Option : 3

Q.27 In a certain code language, 'ASSAM' is written as '53' and 'PUNJAB' is written as '64'. What is the code for 'GUJARAT' in that code language?

- Ans
- ✗ 1. 67
 - ✗ 2. 73
 - ✗ 3. 64
 - ✓ 4. 78

Question Type : MCQ
Question ID : 489564586
Option 1 ID : 4895642305
Option 2 ID : 4895642307
Option 3 ID : 4895642306
Option 4 ID : 4895642308
Status : Answered
Chosen Option : 4

Q.28 A piece of paper is folded and punched as shown below in the question figures. From the given answer figures, indicate how it will appear when opened?



Ans

✓ 1.



✗ 2.



✗ 3.



✗ 4.



Question Type : MCQ

Question ID : 489564598

Option 1 ID : 4895642355

Option 2 ID : 4895642356

Option 3 ID : 4895642353

Option 4 ID : 4895642354

Status : Answered

Chosen Option : 1

Q.29 S1, S2, S3, S4, S5, S6 आणि S7 हे सात विद्यार्थी रविवार ते शनिवार पासून सुरु होणाऱ्या एकाच आठवड्याच्या सात वेगवेगळ्या दिवशी शाळेत जातात (त्याच क्रमाने असे आवश्यक नाही). S1 आणि S3 यांच्या दरम्यान एक विद्यार्थी जातो. S2 हा S1 च्या आधी, पण S3 च्या लगेच नंतर जातो. S5 हा S6 नंतर, पण S7 च्या आधी जातो. S3 आणि S4 यांच्या दरम्यान दोन विद्यार्थी जातात. S4 हा गुरुवारी जातो. खालीलपैकी कोणते संयोजन योग्य नाही?

Ans

✗ 1. शुक्रवार - S5

✗ 2. सोमवार - S3

✗ 3. रविवार - S6

✓ 4. बुधवार - S2

Question Type : MCQ

Question ID : 489564568

Option 1 ID : 4895642233

Option 2 ID : 4895642234

Option 3 ID : 4895642235

Option 4 ID : 4895642236

Status : Answered

Chosen Option : 3

Q.30 Five persons A, B, C, D and E sit in a row facing towards the south (not necessarily in the same order). Three persons sit between A and D. B sits to the immediate left of E. D sits second to the right of B. Who sits to the immediate right of C?

- Ans**
- 1. A
 - 2. E
 - 3. B
 - 4. D

Question Type : MCQ

Question ID : 489564561

Option 1 ID : 4895642205

Option 2 ID : 4895642208

Option 3 ID : 4895642206

Option 4 ID : 4895642207

Status : Answered

Chosen Option : 3

Q.31 By interchanging the given two signs and two digits, which of the following equation will be correct?

4 and 6, + and -

I. $2 \times 6 - 4 + 3 + 1 = 9$

II. $4 + 3 \times 2 + 6 - 8 = 7$

- Ans**
- 1. Both I and II
 - 2. Only II
 - 3. Neither I nor II
 - 4. Only I

Question Type : MCQ

Question ID : 489564607

Option 1 ID : 4895642391

Option 2 ID : 4895642390


Option 3 ID : 4895642392

Option 4 ID : 4895642389

Status : Answered

Chosen Option : 4

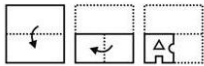
Q.32 How many triangles are there in the given figure?



- Ans
- ✓ 1. 8
 - ✗ 2. 9
 - ✗ 3. 10
 - ✗ 4. 11

Question Type : MCQ
 Question ID : 489564601
 Option 1 ID : 4895642365
 Option 2 ID : 4895642366
 Option 3 ID : 4895642367
 Option 4 ID : 4895642368
 Status : Answered
 Chosen Option : 1

Q.33 A piece of paper is folded and punched as shown below in the question figures, indicate how it will appear when opened?



- Ans
- ✓ 1.
 - ✗ 2.
 - ✗ 3.
 - ✗ 4.

Question Type : MCQ
 Question ID : 489564599
 Option 1 ID : 4895642357
 Option 2 ID : 4895642358
 Option 3 ID : 4895642360
 Option 4 ID : 4895642359
 Status : Answered
 Chosen Option : 1

Q.34 Six persons A, B, C, D, E and F have different ages. The age of B is more than that of D. The age of C is less than that of E. The age of D is more than the age of E, but less than the age of A. F is third eldest. The age of second eldest person is 45 years. If A's age is 52 years, then what can be the age of F?

- Ans
- 1. 46 years
 - 2. 60 years
 - 3. 55 years
 - 4. 42 years

Question Type : MCQ

Question ID : 489564575

Option 1 ID : 4895642262

Option 2 ID : 4895642263

Option 3 ID : 4895642261

Option 4 ID : 4895642264

Status : Answered

Chosen Option : 4

Q.35 खालील शब्दांचा काळजीपूर्वक अभ्यास करा आणि खाली दिलेल्या प्रश्नाचे उत्तर द्या.

WANT ROME STUN GRAM ROWS

जर सर्व शब्दांची अक्षरे त्या शब्दात (डावीकडून उजवीकडे) वर्णक्रमानुसार मांडणी केली, तर वर्णमाला क्रमानुसार डावीकडील अंतिम टोकापासून पहिल्या शब्दाच्या उजव्या अंतिम टोकापासून दुसरे अक्षर आणि उजव्या अंतिम टोकापासून दुसऱ्या शब्दाच्या उजव्या अंतिम टोकापासून दुसरे अक्षर यांच्या दरम्यान किती अक्षरे येतील?

- Ans
- 1. 3
 - 2. 6
 - 3. 2
 - 4. 4

Question Type : MCQ

Question ID : 489564583

Option 1 ID : 4895642294

Option 2 ID : 4895642296

Option 3 ID : 4895642295

Option 4 ID : 4895642293

Status : Answered

Chosen Option : 2

Q.36 रोहित हा उत्तर दिशेला असलेल्या त्याच्या शाळेकडे तोंड करून आहे. तो घड्याळाच्या दिशेने 145 अंश फिरतो, आता तो 220 अंश घड्याळाच्या उलट दिशेने फिरतो, आता तो 245 अंश घड्याळाच्या उलट दिशेने फिरतो, आता तो घड्याळाच्या दिशेने 370 अंश फिरतो, आता तो 70 अंश घड्याळाच्या उलट्या दिशेने फिरतो आणि शेवटी तो घड्याळाच्या दिशेने 330 अंश फिरतो. तर आता तो कोणत्या दिशेच्या सन्मुख आहे?

- Ans
- 1. दक्षिण-पूर्व (South-East)
 - 2. उत्तर-पूर्व (North-East)
 - 3. उत्तर-पश्चिम (North-West)
 - 4. पश्चिम (West)

Question Type : MCQ

Question ID : 489564592

Option 1 ID : 4895642330

Option 2 ID : 4895642329

Option 3 ID : 4895642332

Option 4 ID : 4895642331

Status : Answered

Chosen Option : 3

Q.37 By interchanging the given two digits which of the following equation will be correct?

4 and 8.

I. $8 \div 2 + 4 \times 2 - 5 = 9$

II. $6 \times 8 + 4 + 3 - 6 = 0$

Ans 1. Only II

2. Both I and II

3. Only I

4. Neither I nor II

Question Type : MCQ

Question ID : 489564606

Option 1 ID : 4895642386

Option 2 ID : 4895642387

Option 3 ID : 4895642385

Option 4 ID : 4895642388

Status : Answered

Chosen Option : 1

Q.38 Six students S1, S2, S3, S4, S5 and S6 have scored different marks in an exam. Three students have scored more marks than S5. Three students have scored less marks than S2. The marks of S3 are more than the marks of S1 and S6. The marks of S4 is less than that of S1, but more than that of S6. If the marks of S2 is 78, then what can be the marks of S1?

Ans 1. 66

2. 75

3. 76

4. 79

Question Type : MCQ

Question ID : 489564574

Option 1 ID : 4895642259

Option 2 ID : 4895642260

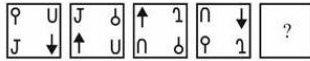
Option 3 ID : 4895642258

Option 4 ID : 4895642257

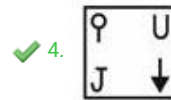
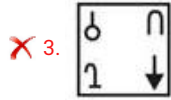
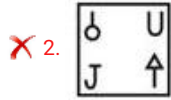
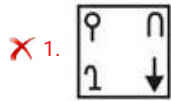
Status : Answered

Chosen Option : 3

Q.39 In the following question, select the figure which can be placed at the sign of question mark (?) from the given alternatives.



Ans



Question Type : **MCQ**

Question ID : **489564597**

Option 1 ID : **4895642350**

Option 2 ID : **4895642349**

Option 3 ID : **4895642352**

Option 4 ID : **4895642351**

Status : **Answered**

Chosen Option : **4**

Q.40 Pointing to a boy, Preeti says 'he is the son of my father'. How is that boy related to Preeti?

- Ans
- ✗ 1. Uncle
 - ✓ 2. Brother
 - ✗ 3. Father
 - ✗ 4. Cousin

Question Type : **MCQ**

Question ID : **489564593**

Option 1 ID : **4895642336**

Option 2 ID : **4895642335**

Option 3 ID : **4895642333**

Option 4 ID : **4895642334**

Status : **Answered**

Chosen Option : **2**

Q.41 The table given below shows the cost of two fruits in six different shops.

Shops	Fruits	
	F1	F2
S1	72	18
S2	60	96
S3	48	74
S4	78	44
S5	36	62
S6	30	90

What is the difference between the average cost of fruits F1 and F2 in all the six shops?

- Ans**
- 1. 12
 - 2. 10
 - 3. 6
 - 4. 8

Question Type : **MCQ**

Question ID : **489564608**

Option 1 ID : **4895642395**

Option 2 ID : **4895642394**

Option 3 ID : **4895642393**

Option 4 ID : **4895642396**

Status : **Answered**

Chosen Option : **2**

Q.42 A series is given with one term missing. Select the correct alternative from the given ones that will complete the series.

EGJ1, JH4, OMF9, TPD16, ?

- Ans**
- 1. YSB36
 - 2. YSB25
 - 3. ZSB25
 - 4. YTB25

Question Type : **MCQ**

Question ID : **489564578**

Option 1 ID : **4895642275**

Option 2 ID : **4895642273**

Option 3 ID : **4895642274**

Option 4 ID : **4895642276**

Status : **Answered**

Chosen Option : **2**

Q.43 In a certain code language, 'RAT' is written as '360' and 'MAN' is written as '182'. What is the code for 'VAN' in that code language?

- Ans**
- 1. 37
 - 2. 308
 - 3. 370
 - 4. 62

Question Type : **MCQ**
Question ID : **489564587**
Option 1 ID : **4895642311**
Option 2 ID : **4895642310**
Option 3 ID : **4895642309**
Option 4 ID : **4895642312**
Status : **Answered**
Chosen Option : **3**

Q.44 In a certain code language, 'DOCTOR' is written as '30' and 'TEACHER' is written as '35'. What is the code for 'ENGINEER' in that code language?

- Ans**
- 1. 45
 - 2. 30
 - 3. 50
 - 4. 40

Question Type : **MCQ**
Question ID : **489564588**
Option 1 ID : **4895642314**
Option 2 ID : **4895642313**
Option 3 ID : **4895642315**
Option 4 ID : **4895642316**
Status : **Answered**
Chosen Option : **4**

Q.45 A series is given with one term wrong. Select that wrong term from the given alternatives.

12, 60, 600, 900, 180000, 4500000

- Ans**
- 1. 180000
 - 2. 900
 - 3. 12
 - 4. 600

Question Type : **MCQ**
Question ID : **489564603**
Option 1 ID : **4895642373**
Option 2 ID : **4895642374**
Option 3 ID : **4895642376**
Option 4 ID : **4895642375**
Status : **Answered**
Chosen Option : **3**

Q.46 Eight person A, B, C, D, E, F, G and H sit around a circular table facing towards the centre (not necessarily in the same order). Two persons sit between C and H. H sits second to the left of D. One person sits between A and H. F sits to the immediate right of B. E sits second to the left of G. B is not a neighbour of C. Which of the following statement is correct?

- Ans**
- 1. C sits to the immediate left of F.
 - 2. Two persons sit between B and G.
 - 3. Two persons sit between D and E.
 - 4. G sits to the immediate left of A.

Question Type : **MCQ**
 Question ID : **489564564**
 Option 1 ID : **4895642220**
 Option 2 ID : **4895642218**
 Option 3 ID : **4895642219**
 Option 4 ID : **4895642217**
 Status : **Answered**
 Chosen Option : **2**

Q.47 A word and number arrangement machine, when give an input line of words and numbers, rearranges them following a particular rule in each step. The following is an illustration of input and rearrangement.

Input: R 14 B 23 K 9 V 7 T 16

Step 1: B R 14 K 9 V 7 T 16 23

Step 2: B K R 9 V 7 T 14 16 23

Step 3: B K R T V 7 9 14 16 23

Step 3 is the last step.

Using the above mentioned logic, ascertain the different steps for the following input.

Input: A 18 J 7 24 K C 16 P

Which of the following will be the fourth step of this input?

- Ans**
- 1. A C J K 7 P 16 18 24
 - 2. A C J P K 7 16 18 24
 - 3. A J C K P 7 16 18 24
 - 4. A C J K P 7 16 18 24

Question Type : **MCQ**
 Question ID : **489564590**
 Option 1 ID : **4895642321**
 Option 2 ID : **4895642323**
 Option 3 ID : **4895642324**
 Option 4 ID : **4895642322**
 Status : **Answered**
 Chosen Option : **2**

Q.48 A team of 4 members has to be selected from M1, M2, M3, M4, M5, M6 and M7. M6 and M7 should not be in the same team. Only one among M1 and M3 should be in the team. M6 and M5 should be in the same team. Which of the following members can be selected?

- Ans**
- 1. M2, M4, M3, M1
 - 2. M1, M6, M5, M3
 - 3. M1, M4, M2, M7
 - 4. M2, M3, M7, M5

Question Type : **MCQ**
 Question ID : **489564582**
 Option 1 ID : **4895642290**
 Option 2 ID : **4895642289**
 Option 3 ID : **4895642291**
 Option 4 ID : **4895642292**
 Status : **Answered**
 Chosen Option : **2**

Q.49 In the following question, select the missing number from the given series.

16, 18, 22, 28, 36, 46, ?

- Ans
- 1. 64
 - 2. 62
 - 3. 58
 - 4. 56

Question Type : MCQ

Question ID : 489564602

Option 1 ID : 4895642372

Option 2 ID : 4895642371

Option 3 ID : 4895642370

Option 4 ID : 4895642369

Status : Answered

Chosen Option : 3

Q.50 खाली दिलेल्या प्रश्नात, \$, @, #, +, * आणि % ही चिन्हे खाली सोदाहरण दर्शवल्याप्रमाणे खालील अर्थासह वापरली गेली आहेत:

'P \$ Q' म्हणजे 'P हा Q च्या समान नाही'.

'P @ Q' म्हणजे 'P हा Q पेक्षा लहान देखील नाही आणि समान देखील नाही'.

'P # Q' म्हणजे 'P हा Q पेक्षा मोठा देखील नाही आणि लहान देखील नाही'.

'P + Q' म्हणजे 'P हा Q पेक्षा लहान नाही'.

'P * Q' म्हणजे 'P हा Q पेक्षा मोठा नाही'.

'P % Q' म्हणजे 'P हा Q पेक्षा मोठा देखील नाही आणि लहान देखील नाही'.

आता या प्रश्नात, दिलेली विधाने सत्य असल्याचे गृहीत धरून, खाली दिलेल्या निष्कर्षांपैकी कोणता/ते निष्कर्ष निश्चितपणे सत्य आहे/आहेत ते शोधा आणि तुमचे उत्तर त्याप्रमाणे द्या.

विधाने:

R @ B, M @ K, C \$ H, B + C, B # A, K % H

निष्कर्ष:

I. H # C

II. H @ C

III. C # A

Ans

- 1. एकतर निष्कर्ष I किंवा निष्कर्ष II सत्य आहे

2.

निष्कर्ष III सत्य आहे आणि एकतर निष्कर्ष I किंवा निष्कर्ष II सत्य आहे

- 3. कोणताही निष्कर्ष सत्य नाही

- 4. केवळ निष्कर्ष I सत्य आहे

Question Type : MCQ

Question ID : 489564572

Option 1 ID : 4895642250

Option 2 ID : 4895642249

Option 3 ID : 4895642252

Option 4 ID : 4895642251

Status : Answered

Chosen Option : 2



Maharashtra Housing and Area Development Authority-2021
महाराष्ट्र गृहनिर्माण व क्षेत्रविकास प्राधिकरण-२०२१

Participant ID	[REDACTED]
Participant Name	[REDACTED]
Test Center Name	[REDACTED]
Test Date	08/02/2022
Test Time	4:00 PM - 6:00 PM
Subject	Cluster 6

Section : Marathi Language

Q.1 'सप्तरंग' शब्दाचा योग्य समास ओळखा.

- Ans 1. द्विगू
 2. अव्ययीभाव
 3. द्वंद्व
 4. तत्पुरुष

Question Type : MCQ
Question ID : 9102811028
Option 1 ID : 9102814052
Option 2 ID : 9102814050
Option 3 ID : 9102814049
Option 4 ID : 9102814051
Status : Answered
Chosen Option : 1

Q.2 "किती छान चित्र!" कशाला खोडतोस? वाक्यातील क्रियापदाचे मूळ रूप निवडा.

- Ans 1. खोडणे
 2. पुसणे
 3. मिटवणे
 4. सोडणे

Question Type : MCQ
Question ID : 9102811017
Option 1 ID : 9102814007
Option 2 ID : 9102814006
Option 3 ID : 9102814008
Option 4 ID : 9102814005
Status : Answered
Chosen Option : 1

Q.3 “आपल्याकडे कुणी तरी येतय” या वाक्याला प्रश्नार्थी रूप द्या.

- Ans
- 1. आपल्याकडे येणारे कोणी तरी आहे
 - 2. आपल्याकडे कोणीतरी येतंय का?
 - 3. आपल्याकडे कुणी तरी येणार आहे
 - 4. कोण येणार आपल्याकडे

Question Type : MCQ
Question ID : 9102811027
Option 1 ID : 9102814047
Option 2 ID : 9102814048
Option 3 ID : 9102814045
Option 4 ID : 9102814046
Status : Answered
Chosen Option : 3

Q.4 ‘कवन’ या शब्दाचा समानार्थी नसलेला पर्याय शोधा.

- Ans
- 1. काव्य
 - 2. गीत
 - 3. श्रवण
 - 4. कविता

Question Type : MCQ
Question ID : 9102811045
Option 1 ID : 9102814118
Option 2 ID : 9102814117
Option 3 ID : 9102814120
Option 4 ID : 9102814119
Status : Answered
Chosen Option : 3

Q.5 पुढील वाक्यातील प्रयोग ओळखा.

“प्रथमेशने गोष्टीचे पुस्तक वाचले”

- Ans
- 1. कर्तरी
 - 2. भावे
 - 3. अकर्मक कर्तरी
 - 4. प्रधान कर्मणी

Question Type : MCQ
Question ID : 9102811054
Option 1 ID : 9102814153
Option 2 ID : 9102814154
Option 3 ID : 9102814156
Option 4 ID : 9102814155
Status : Answered
Chosen Option : 3

Q.6 "तुम्ही डोळे मिटा" या वाक्याला प्रश्नार्थी करा.

- Ans
- 1. तुम्ही डोळे मिटावे
 - 2. तुम्ही डोळे मिटा, बरे होतील
 - 3. तुम्ही डोळे मिटता का?
 - 4. तुम्ही मिटा डोळे

Question Type : MCQ
Question ID : 9102811026
Option 1 ID : 9102814042
Option 2 ID : 9102814044
Option 3 ID : 9102814041
Option 4 ID : 9102814043
Status : Answered
Chosen Option : 3

Q.7 पुढीलपैकी क्रियापद नसलेला पर्याय निवडा.

- Ans
- 1. सांडणे
 - 2. निथळणे
 - 3. गुपीत
 - 4. भुरभुरणे

Question Type : MCQ
Question ID : 9102811019
Option 1 ID : 9102814014
Option 2 ID : 9102814016
Option 3 ID : 9102814015
Option 4 ID : 9102814013
Status : Answered
Chosen Option : 3

Q.8 अपकर्ष शब्दाचा विरुद्धार्थी शब्द कोणता?

- Ans
- 1. सौदामिनी
 - 2. तडित
 - 3. अवर्षण
 - 4. उत्कर्ष

Question Type : MCQ
Question ID : 9102811047
Option 1 ID : 9102814126
Option 2 ID : 9102814125
Option 3 ID : 9102814128
Option 4 ID : 9102814127
Status : Answered
Chosen Option : 4

Q.9 पुढीलपैकी अचूक शब्द निवडा.

- Ans 1. महात्म्य
 2. जेष्ठ
 3. चातुर्मास
 4. ज्येष्ठ

Question Type : MCQ
Question ID : 9102811050
Option 1 ID : 9102814140
Option 2 ID : 9102814139
Option 3 ID : 9102814137
Option 4 ID : 9102814138
Status : Answered
Chosen Option : 4

Q.10 पसायदान पुढीलपैकी कोणत्या संताने लिहिले आहे?

- Ans 1. तुकाराम
 2. नामदेव
 3. मुकुंदराज
 4. ज्ञानेश्वर

Question Type : MCQ
Question ID : 9102811060
Option 1 ID : 9102814180
Option 2 ID : 9102814179
Option 3 ID : 9102814177
Option 4 ID : 9102814178
Status : Answered
Chosen Option : 4

Q.11 ज्या प्रयोगात कर्ता प्रथमांत नसून कर्म प्रथमांत असते तो प्रयोग म्हणजे.

- Ans 1. कर्तरी
 2. कर्मकर्तरी
 3. भावे
 4. कर्मणी

Question Type : MCQ
Question ID : 9102811053
Option 1 ID : 9102814150
Option 2 ID : 9102814152
Option 3 ID : 9102814151
Option 4 ID : 9102814149
Status : Answered
Chosen Option : 4

Q.12 पुढीलपैकी नपुंसकलिंगी शब्द शोधा.

- Ans
- 1. दिवा
 - 2. भात
 - 3. पणती
 - 4. वरण

Question Type : MCQ
Question ID : 9102811034
Option 1 ID : 9102814073
Option 2 ID : 9102814076
Option 3 ID : 9102814074
Option 4 ID : 9102814075
Status : Answered
Chosen Option : 4

Q.13 'अपरिहार्य' शब्दाचा विरुद्धार्थी शब्द शोधा.

- Ans
- 1. यादृच्छिक
 - 2. ऐच्छिक
 - 3. अवलंब
 - 4. अपरिमित

Question Type : MCQ
Question ID : 9102811048
Option 1 ID : 9102814132
Option 2 ID : 9102814131
Option 3 ID : 9102814130
Option 4 ID : 9102814129
Status : Answered
Chosen Option : 2

Q.14 पुढीलपैकी वर्तमान काळातील वाक्य निवडा.

- Ans
- 1. गाड्यांना रस्ते अपुरे पडत आहेत.
 - 2. रडू नकोसा! बाबा येताना खाऊ घेऊन येतील.
 - 3. मी दोन वर्षांची असताना पहिल्यांदा रस्ता चुकले.
 - 4. एवढी साथी गोष्ट त्यांना कळली नाही.

Question Type : MCQ
Question ID : 9102811021
Option 1 ID : 9102814021
Option 2 ID : 9102814024
Option 3 ID : 9102814023
Option 4 ID : 9102814022
Status : Answered
Chosen Option : 1

Q.15 'अजरामर' शब्दातील समास ओळखा.

- Ans 1. अव्ययीभाव
 2. द्वंद्व
 3. तत्पुरुष
 4. बहुव्रीही

Question Type : MCQ
Question ID : 9102811029
Option 1 ID : 9102814053
Option 2 ID : 9102814054
Option 3 ID : 9102814055
Option 4 ID : 9102814056
Status : Answered
Chosen Option : 1

Q.16 पुढीलपैकी कोणत्या पर्यायाचे एकवचनी आणि अनेकवचनी रूप सारखे असते?

- Ans 1. घोडा
 2. फळा
 3. कागद
 4. आंबा

Question Type : MCQ
Question ID : 9102811037
Option 1 ID : 9102814088
Option 2 ID : 9102814086
Option 3 ID : 9102814087
Option 4 ID : 9102814085
Status : Answered
Chosen Option : 2

Q.17 प्रमाण लेखनाच्या नियमांनुसार कोणता शब्द योग्य आहे?

- Ans 1. खात्री
 2. अल्पसंख्यांक
 3. आध्यात्मिक
 4. उज्वल

Question Type : MCQ
Question ID : 9102811049
Option 1 ID : 9102814136
Option 2 ID : 9102814133
Option 3 ID : 9102814134
Option 4 ID : 9102814135
Status : Answered
Chosen Option : 2

Q.18 'प्रतिक्षण' या शब्दाचा समास शोधा.

- Ans
- 1. तत्पुरुष
 - 2. बहुव्रीही
 - 3. द्विगू
 - 4. अव्ययीभाव

Question Type : MCQ
Question ID : 9102811032
Option 1 ID : 9102814066
Option 2 ID : 9102814067
Option 3 ID : 9102814068
Option 4 ID : 9102814065
Status : Answered
Chosen Option : 4

Q.19 'अनुशेष' या शब्दाचा समानार्थी पर्याय शोधा.

- Ans
- 1. अनौपचारिक
 - 2. निर्वाहाचे साधन
 - 3. शिल्लक
 - 4. जुळणारा

Question Type : MCQ
Question ID : 9102811040
Option 1 ID : 9102814097
Option 2 ID : 9102814099
Option 3 ID : 9102814098
Option 4 ID : 9102814100
Status : Answered
Chosen Option : 4

Q.20 मराठी व्याकरणाचे 'पाणिनी' हा मान कोणाला दिला जातो?

- Ans
- 1. दादोबा पांडुरंग तर्खडकर
 - 2. ना. सी. फडके
 - 3. राजारामशास्त्री भागवत
 - 4. मो. रा. वाळंबे

Question Type : MCQ
Question ID : 9102811058
Option 1 ID : 9102814169
Option 2 ID : 9102814172
Option 3 ID : 9102814170
Option 4 ID : 9102814171
Status : Answered
Chosen Option : 4

Q.21 "मिक्सर कशाला? मी पाट्यावरच चटणी वाटते" वाक्यातील क्रियापद शोधा.

- Ans 1. पाट्यावर
 2. वाटते
 3. चटणी
 4. मिक्सर

Question Type : MCQ
Question ID : 9102811018
Option 1 ID : 9102814011
Option 2 ID : 9102814010
Option 3 ID : 9102814012
Option 4 ID : 9102814009
Status : Answered
Chosen Option : 1

Q.22 पुढीलपैकी पुल्लिंगी शब्द ओळखा.

- Ans 1. खाण
 2. पान
 3. रान
 4. बाण

Question Type : MCQ
Question ID : 9102811035
Option 1 ID : 9102814078
Option 2 ID : 9102814077
Option 3 ID : 9102814080
Option 4 ID : 9102814079
Status : Answered
Chosen Option : 4

Q.23 'एकच प्याला' हे नाटक कुणी लिहिले आहे?

- Ans 1. अण्णासाहेब किर्लोस्कर
 2. रामगणेश गडकरी
 3. भालजी पेंढारकर
 4. गोविंद ब. देवल

Question Type : MCQ
Question ID : 9102811059
Option 1 ID : 9102814175
Option 2 ID : 9102814173
Option 3 ID : 9102814174
Option 4 ID : 9102814176
Status : Answered
Chosen Option : 2

Q.24 कोणत्याही शब्दांतील पहिले पद प्रमुख असल्यास कोणता समास होतो?

- Ans
- 1. द्वंद्व
 - 2. तत्पुरुष
 - 3. अव्ययीभाव
 - 4. बहुव्रीही

Question Type : MCQ
Question ID : 9102811031
Option 1 ID : 9102814063
Option 2 ID : 9102814062
Option 3 ID : 9102814061
Option 4 ID : 9102814064
Status : Answered
Chosen Option : 3

Q.25 'केर कचऱ्याचे ढीग' हा आशय पुढीलपैकी कोणत्या शब्दातून व्यक्त होतो?

- Ans
- 1. कारणावाचून
 - 2. उचलेगिरी
 - 3. उच्छाद
 - 4. उकिरडा

Question Type : MCQ
Question ID : 9102811041
Option 1 ID : 9102814102
Option 2 ID : 9102814101
Option 3 ID : 9102814104
Option 4 ID : 9102814103
Status : Answered
Chosen Option : 4

Q.26 मराठी व्याकरणात लिंग किती प्रकारचे मानले जातात?

- Ans
- 1. चार
 - 2. एक
 - 3. तीन
 - 4. दोन

Question Type : MCQ
Question ID : 9102811033
Option 1 ID : 9102814071
Option 2 ID : 9102814072
Option 3 ID : 9102814070
Option 4 ID : 9102814069
Status : Answered
Chosen Option : 3

Q.27 पुढीलपैकी विधानार्थी वाक्य निवडा.

- Ans 1. जगात सर्वसुखी असा कोणी नाही
 2. सर्व चागल्या सवयी एकाच माणसात असतात का?
 3. केवढी उंच इमारत ही
 4. काय अक्षर आहे त्याचे

Question Type : MCQ
Question ID : 9102811025
Option 1 ID : 9102814037
Option 2 ID : 9102814040
Option 3 ID : 9102814038
Option 4 ID : 9102814039
Status : Answered
Chosen Option : 1

Q.28 मराठी भाषा-दिन कोणत्या दिवशी साजरा केला जातो?

- Ans 1. 2 फेब्रुवारी
 2. 1 फेब्रुवारी
 3. 1 मे
 4. 27 फेब्रुवारी

Question Type : MCQ
Question ID : 9102811055
Option 1 ID : 9102814158
Option 2 ID : 9102814157
Option 3 ID : 9102814160
Option 4 ID : 9102814159
Status : Answered
Chosen Option : 4

Q.29 "तुम्ही प्रत्येक निवडणुकीत मतदान करता" वाक्यातील शब्दाची जात शोधा.

- Ans 1. कर्ता
 2. विशेषण
 3. क्रियापद
 4. कर्म

Question Type : MCQ
Question ID : 9102811016
Option 1 ID : 9102814003
Option 2 ID : 9102814004
Option 3 ID : 9102814002
Option 4 ID : 9102814001
Status : Answered
Chosen Option : 3

Q.30 'त्याने फुगा उडविला' या वाक्याचा साधा वर्तमानकाळ करा.

- Ans 1. तिने फुगा उडविला.
 2. तो फुगा उडवितो.
 3. तो फुगा उडवेल.
 4. तो फुगा उडवत असे.

Question Type : MCQ
Question ID : 9102811024
Option 1 ID : 9102814033
Option 2 ID : 9102814034
Option 3 ID : 9102814035
Option 4 ID : 9102814036
Status : Answered
Chosen Option : 2

Q.31 बैलाच्या जोडीने ओढायचे, नांगरण्यासाठी वापरायचे साधन म्हणजे.

- Ans 1. औट
 2. औदार्य
 3. औत
 4. औस

Question Type : MCQ
Question ID : 9102811044
Option 1 ID : 9102814114
Option 2 ID : 9102814116
Option 3 ID : 9102814113
Option 4 ID : 9102814115
Status : Answered
Chosen Option : 3

Q.32 "मला सांगा, तुम्ही बंगल्यात राहता का? की फ्लॅटमध्ये?" या वाक्याच्या रचनेत कोणता काळ वापरला आहे?

- Ans 1. भविष्यकाळ
 2. वर्तमानकाळ
 3. भूतकाळ
 4. रीति भूतकाळ

Question Type : MCQ
Question ID : 9102811022
Option 1 ID : 9102814025
Option 2 ID : 9102814026
Option 3 ID : 9102814027
Option 4 ID : 9102814028
Status : Answered
Chosen Option : 4

Q.33 मराठीत प्रयोगाचे किती प्रकार आहेत?

- Ans 1. चार
 2. तीन
 3. एक
 4. दोन

Question Type : MCQ
Question ID : 9102811051
Option 1 ID : 9102814144
Option 2 ID : 9102814143
Option 3 ID : 9102814141
Option 4 ID : 9102814142
Status : Answered
Chosen Option : 2

Q.34 पुढील वाक्यातील क्रियापदाचा अचूक काळ ओळखा. "मी निबंध लिहित जाईन"

- Ans 1. वर्तमानकाळ
 2. साधा भूतकाळ
 3. भविष्यकाळ
 4. अपूर्ण वर्तमानकाळ

Question Type : MCQ
Question ID : 9102811023
Option 1 ID : 9102814030
Option 2 ID : 9102814031
Option 3 ID : 9102814029
Option 4 ID : 9102814032
Status : Answered
Chosen Option : 3

Q.35 पुढीलपैकी कर्तरी प्रयोगाचे उदाहरण निवडा.

- Ans 1. पोपटाने मिरची खाल्ली
 2. ते गाणे गातात
 3. शिक्षक मुलांना शिकवतात
 4. मुलाने आंबा खाल्ला

Question Type : MCQ
Question ID : 9102811052
Option 1 ID : 9102814147
Option 2 ID : 9102814145
Option 3 ID : 9102814148
Option 4 ID : 9102814146
Status : Answered
Chosen Option : 3

Q.36 विजातीय शब्दाचा विरुद्धार्थी शब्द शोधा.

- Ans
- 1. अज्ञात
 - 2. वंद्य
 - 3. कुलक्षणी
 - 4. सजातीय

Question Type : MCQ
Question ID : 9102811046
Option 1 ID : 9102814121
Option 2 ID : 9102814122
Option 3 ID : 9102814124
Option 4 ID : 9102814123
Status : Answered
Chosen Option : 4

Q.37 'कोसला', 'झूल' इत्यादी कादंबऱ्यांचे लेखक कोण आहेत?

- Ans
- 1. रणजित देसाई
 - 2. श्याम मनोहर
 - 3. भालचंद्र नेमाडे
 - 4. विश्वास पाटील

Question Type : MCQ
Question ID : 9102811057
Option 1 ID : 9102814167
Option 2 ID : 9102814168
Option 3 ID : 9102814166
Option 4 ID : 9102814165
Status : Answered
Chosen Option : 3

Q.38 'समाजात न मिसळणारा', 'मनमिळावू नसणारा' हा आशय पुढीलपैकी कोणत्या शब्दातून व्यक्त होतो?

- Ans
- 1. एकलकोंडा
 - 2. एकाग्र
 - 3. एकमार्गी
 - 4. एकात्मता

Question Type : MCQ
Question ID : 9102811043
Option 1 ID : 9102814112
Option 2 ID : 9102814109
Option 3 ID : 9102814111
Option 4 ID : 9102814110
Status : Answered
Chosen Option : 3

Q.39 पुढीलपैकी अनेकवचनी रूप शोधा.

- Ans 1. रस्ता
 2. लांडगा
 3. कुत्रे
 4. आंबा

Question Type : MCQ
Question ID : 9102811036
Option 1 ID : 9102814083
Option 2 ID : 9102814084
Option 3 ID : 9102814081
Option 4 ID : 9102814082
Status : Answered
Chosen Option : 3

Q.40 'ब्राम्हणवाडा' या शब्दातील समास ओळखा.

- Ans 1. बहुव्रीही
 2. अव्ययीभाव
 3. द्वंद्व
 4. तत्पुरुष

Question Type : MCQ
Question ID : 9102811030
Option 1 ID : 9102814059
Option 2 ID : 9102814058
Option 3 ID : 9102814060
Option 4 ID : 9102814057
Status : Answered
Chosen Option : 1

Q.41 'कुसुमाग्रज' या टोपणनावाने काव्यलेखन करणारे साहित्यिक.

- Ans 1. ना. वा. टिळक
 2. वि. वा. शिरवाडकर
 3. कृ. के. दामले
 4. भा. रा. तांबे

Question Type : MCQ
Question ID : 9102811056
Option 1 ID : 9102814164
Option 2 ID : 9102814163
Option 3 ID : 9102814162
Option 4 ID : 9102814161
Status : Answered
Chosen Option : 2

Q.42 'मशाल' शब्दाचे वचन बदला.

- Ans 1. मशाला
 2. मशाळ्या
 3. मश्याला
 4. मशाली

Question Type : MCQ
Question ID : 9102811038
Option 1 ID : 9102814089
Option 2 ID : 9102814092
Option 3 ID : 9102814091
Option 4 ID : 9102814090
Status : Answered
Chosen Option : 4

Q.43 'गाई' या शब्दाचे एकवचनी रूप काय होईल?

- Ans 1. गाय
 2. गाइ
 3. बैल
 4. गायी

Question Type : MCQ
Question ID : 9102811039
Option 1 ID : 9102814093
Option 2 ID : 9102814096
Option 3 ID : 9102814094
Option 4 ID : 9102814095
Status : Answered
Chosen Option : 1

Q.44 "सासूबाई या वयातही हौसेने खरेदीला जातात" वाक्यातील 'कर्त' शोधा.

- Ans 1. वयात
 2. हौसेने
 3. सासूबाई
 4. खरेदीला

Question Type : MCQ
Question ID : 9102811020
Option 1 ID : 9102814017
Option 2 ID : 9102814018
Option 3 ID : 9102814019
Option 4 ID : 9102814020
Status : Answered
Chosen Option : 3

Q.45 'उजवणे' या शब्दाचा नेमका आशय कोणत्या पर्यायातून सूचित होतो?

- Ans 1. वर आलेला भाग
 2. राजरोसपणे वावरणे
 3. दोष काढणे
 4. एखादे कार्य यथासांग पार पडणे

Question Type : MCQ

Question ID : 9102811042

Option 1 ID : 9102814107

Option 2 ID : 9102814108

Option 3 ID : 9102814108

Option 4 ID : 9102814105

Status : Answered

Chosen Option : 4

Comprehension:

खालील उतारा काळजीपूर्वक वाचा आणि दिलेल्या प्रश्नांची उत्तरे द्या.

माझ्या संपूर्ण आयुष्यात माझ्या विज्ञान-तंत्रज्ञानाच्या जगतात माझ्या वडिलांसारखे व्हायचा, त्यांनी दाखवलेल्या मार्गावरून पुढे जायचा प्रयत्न केला. त्यांनी मला सांगितलेली मूलभूत सत्ये समजून घेण्याचा, आचरणात आणण्याचा मी सतत प्रयत्न करीत राहिलो. त्यांच्या शिकवणीमुळे मला एक विश्वास वाटत राहिला आहे. प्रत्येकामध्ये एक देवी प्रकाशाची ज्योत तेवत असते. दुःख, अपयश, निराशेच्या अंधारात ती वाट दाखवू शकते. तुम्हाला योग्य जागी पोचण्यासाठी मार्गदर्शन करते. एकदा का त्या देवत्वाशी, त्या ज्योतीशी तुमचे अनुबंध जुळले; तर तुम्ही मुक्तीच्या, आनंदाच्या, मनःशांतीच्या वाटेवरचे कायमचे प्रवासी होता.

मी दहा वर्षांचा होतो, तेव्हा माझ्या वडिलांनी लाकडी नौका बांधायचा व्यवसाय करायचे ठरवले. या प्राचीन तीर्थक्षेत्रावर येणा-या प्रवासी भक्तांना रामेश्वरमपासून धनुष्कोडीपर्यंत नेण्या-आणण्यासाठी तिचा उपयोग ते करणार होते. धनुष्कोडीला स्थानिक भाषेत सेतुकरायी म्हणतात. एक दिवस भयानक चक्रीवादळाने किना-याला झोडपून काढले. ताशी शंभराहून अधिक मैलांच्या वेगाने वाहणा-या सुसाट वा-याने सेतुकरायीची थोडीफार जमीन अन आमची बोट समुद्रार्पण केली. तो पर्यंत मी समुद्रांच फक्त सौंदर्य पाहिले होते. त्या प्रसंगात प्रथमच त्याचे रौद्र रूप, त्याची संहारक शक्ती यांचे मला दर्शन झाले.

SubQuestion No : 46

Q.46 लेखकाला कोणाच्या रौद्र, संहारक शक्तीचे दर्शन झाले?

- Ans 1. विज्ञान
 2. वडिल
 3. तंत्रज्ञान
 4. समुद्र

Question Type : MCQ

Question ID : 9102811062

Option 1 ID : 9102814183

Option 2 ID : 9102814182

Option 3 ID : 9102814184

Option 4 ID : 9102814181

Status : Answered

Chosen Option : 4

Comprehension:

खालील उतारा काळजीपूर्वक वाचा आणि दिलेल्या प्रश्नांची उत्तरे द्या.

माझ्या संपूर्ण आयुष्यात माझ्या विज्ञान-तंत्रज्ञानाच्या जगतात माझ्या वडिलांसारखे व्हायचा, त्यांनी दाखवलेल्या मार्गावरून पुढे जायचा प्रयत्न केला. त्यांनी मला सांगितलेली मूलभूत सत्ये समजून घेण्याचा, आचरणात आणण्याचा मी सतत प्रयत्न करीत राहिलो. त्यांच्या शिकवणीमुळे मला एक विश्वास वाटत राहिला आहे. प्रत्येकामध्ये एक दैवी प्रकाशाची ज्योत तेवत असते. दुःख, अपयश, निराशेच्या अंधारात ती वाट दाखवू शकते. तुम्हाला योग्य जागी पोचण्यासाठी मार्गदर्शन करते. एकदा का त्या देवत्वाशी, त्या ज्योतीशी तुमचे अनुबंध जुळले; तर तुम्ही मुक्तीच्या, आनंदाच्या, मनःशांतीच्या वाटेवरचे कायमचे प्रवासी होता.

मी दहा वर्षांचा होतो, तेव्हा माझ्या वडिलांनी लाकडी नौका बांधायचा व्यवसाय करायचे ठरवले. या प्राचीन तीर्थक्षेत्रावर येणा-या प्रवासी भक्तांना रामेश्वरमपासून धनुष्कोडीपर्यंत नेण्या-आणण्यासाठी तिचा उपयोग ते करणार होते. धनुष्कोडीला स्थानिक भाषेत सेतुक्करायी म्हणतात. एक दिवस भयानक चक्रीवादळाने किना-याला झोडपून काढले. ताशी शंभराहून अधिक मैलांच्या वेगाने वाहणा-या सुसाट वा-याने सेतुक्करायीची थोडीफार जमीन अन आमची बोट समुद्रार्पण केली. तो पर्यंत मी समुद्रांच फक्त सौंदर्य पाहिले होते. त्या प्रसंगात प्रथमच त्याचे रौद्र रूप, त्याची संहारक शक्ती यांचे मला दर्शन झाले.

SubQuestion No : 47

Q.47 'समुद्रार्पण केली' या वाक्यातून लेखकाला काय सुचवायचे आहे?

- Ans 1. समुद्राला देणे
 2. समुद्रात बुडणे
 3. समुद्रातून येणे
 4. समुद्राकडून मिळणे

Question Type : **MCQ**

Question ID : **9102811065**

Option 1 ID : **9102814195**

Option 2 ID : **9102814193**

Option 3 ID : **9102814196**

Option 4 ID : **9102814194**

Status : **Answered**

Chosen Option : **4**

Comprehension:

खालील उतारा काळजीपूर्वक वाचा आणि दिलेल्या प्रश्नांची उत्तरे द्या.

माझ्या संपूर्ण आयुष्यात माझ्या विज्ञान-तंत्रज्ञानाच्या जगतात माझ्या वडिलांसारखे व्हायचा, त्यांनी दाखवलेल्या मार्गावरून पुढे जायचा प्रयत्न केला. त्यांनी मला सांगितलेली मूलभूत सत्ये समजून घेण्याचा, आचरणात आणण्याचा मी सतत प्रयत्न करीत राहिलो. त्यांच्या शिकवणीमुळे मला एक विश्वास वाटत राहिला आहे. प्रत्येकामध्ये एक दैवी प्रकाशाची ज्योत तेवत असते. दुःख, अपयश, निराशेच्या अंधारात ती वाट दाखवू शकते. तुम्हाला योग्य जागी पोचण्यासाठी मार्गदर्शन करते. एकदा का त्या देवत्वाशी, त्या ज्योतीशी तुमचे अनुबंध जुळले; तर तुम्ही मुक्तीच्या, आनंदाच्या, मनःशांतीच्या वाटेवरचे कायमचे प्रवासी होता.

मी दहा वर्षांचा होतो, तेव्हा माझ्या वडिलांनी लाकडी नौका बांधायचा व्यवसाय करायचे ठरवले. या प्राचीन तीर्थक्षेत्रावर येणा-या प्रवासी भक्तांना रामेश्वरमपासून धनुष्कोडीपर्यंत नेण्या-आणण्यासाठी तिचा उपयोग ते करणार होते. धनुष्कोडीला स्थानिक भाषेत सेतुक्करायी म्हणतात. एक दिवस भयानक चक्रीवादळाने किना-याला झोडपून काढले. ताशी शंभराहून अधिक मैलांच्या वेगाने वाहणा-या सुसाट वा-याने सेतुक्करायीची थोडीफार जमीन अन आमची बोट समुद्रार्पण केली. तो पर्यंत मी समुद्रांच फक्त सौंदर्य पाहिले होते. त्या प्रसंगात प्रथमच त्याचे रौद्र रूप, त्याची संहारक शक्ती यांचे मला दर्शन झाले.

SubQuestion No : 48

Q.48 कोणाच्या शिकवणीमुळे निवेदकाला विश्वास वाटत असे?

- Ans 1. वडील
 2. देव
 3. प्रकाशज्योत
 4. समुद्र

Question Type : **MCQ**

Question ID : **9102811064**

Option 1 ID : **9102814189**

Option 2 ID : **9102814191**

Option 3 ID : **9102814192**

Option 4 ID : **9102814190**

Status : **Answered**

Chosen Option : **1**

Comprehension:

खालील उतारा काळजीपूर्वक वाचा आणि दिलेल्या प्रश्नांची उत्तरे द्या.

माझ्या संपूर्ण आयुष्यात माझ्या विज्ञान-तंत्रज्ञानाच्या जगतात माझ्या वडिलांसारखे व्हायचा, त्यांनी दाखवलेल्या मार्गावरून पुढे जायचा प्रयत्न केला. त्यांनी मला सांगितलेली मूलभूत सत्ये समजून घेण्याचा, आचरणात आणण्याचा मी सतत प्रयत्न करीत राहिलो. त्यांच्या शिकवणीमुळे मला एक विश्वास वाटत राहिला आहे. प्रत्येकामध्ये एक दैवी प्रकाशाची ज्योत तेवत असते. दुःख, अपयश, निराशेच्या अंधारात ती वाट दाखवू शकते. तुम्हाला योग्य जागी पोचण्यासाठी मार्गदर्शन करते. एकदा का त्या देवत्वाशी, त्या ज्योतीशी तुमचे अनुबंध जुळले; तर तुम्ही मुक्तीच्या, आनंदाच्या, मनःशांतीच्या वाटेवरचे कायमचे प्रवासी होता.

मी दहा वर्षांचा होतो, तेव्हा माझ्या वडिलांनी लाकडी नौका बांधायचा व्यवसाय करायचे ठरवले. या प्राचीन तीर्थक्षेत्रावर येणा-या प्रवासी भक्तांना रामेश्वरमपासून धनुष्कोडीपर्यंत नेण्या-आणण्यासाठी तिचा उपयोग ते करणार होते. धनुष्कोडीला स्थानिक भाषेत सेतुक्करायी म्हणतात. एक दिवस भयानक चक्रीवादळाने किना-याला झोडपून काढले. ताशी शंभराहून अधिक मैलांच्या वेगाने वाहणा-या सुसाट वा-याने सेतुक्करायीची थोडीफार जमीन अन आमची बोट समुद्रार्पण केली. तो पर्यंत मी समुद्रांच फक्त सौंदर्य पाहिले होते. त्या प्रसंगात प्रथमच त्याचे रौद्र रूप, त्याची संहारक शक्ती यांचे मला दर्शन झाले.

SubQuestion No : 49

Q.49 'देवत्वाशी अनुबंध जुळले' तर काय होत नाही?

- Ans 1. अपयश
 2. मनःशांती
 3. मुक्ती
 4. आनंद

Question Type : **MCQ**

Question ID : **9102811066**

Option 1 ID : **9102814198**

Option 2 ID : **9102814197**

Option 3 ID : **9102814199**

Option 4 ID : **9102814200**

Status : **Answered**

Chosen Option : **1**

Comprehension:

खालील उतारा काळजीपूर्वक वाचा आणि दिलेल्या प्रश्नांची उत्तरे द्या.

माझ्या संपूर्ण आयुष्यात माझ्या विज्ञान-तंत्रज्ञानाच्या जगतात माझ्या वडिलांसारखे व्हायचा, त्यांनी दाखवलेल्या मार्गावरून पुढे जायचा प्रयत्न केला. त्यांनी मला सांगितलेली मूलभूत सत्ये समजून घेण्याचा, आचरणात आणण्याचा मी सतत प्रयत्न करीत राहिलो. त्यांच्या शिकवणीमुळे मला एक विश्वास वाटत राहिला आहे. प्रत्येकामध्ये एक दैवी प्रकाशाची ज्योत तेवत असते. दुःख, अपयश, निराशेच्या अंधारात ती वाट दाखवू शकते. तुम्हाला योग्य जागी पोचण्यासाठी मार्गदर्शन करते. एकदा का त्या देवत्वाशी, त्या ज्योतीशी तुमचे अनुबंध जुळले; तर तुम्ही मुक्तीच्या, आनंदाच्या, मनःशांतीच्या वाटेवरचे कायमचे प्रवासी होता.

मी दहा वर्षांचा होतो, तेव्हा माझ्या वडिलांनी लाकडी नौका बांधायचा व्यवसाय करायचे ठरवले. या प्राचीन तीर्थक्षेत्रावर येणा-या प्रवासी भक्तांना रामेश्वरमपासून धनुष्कोडीपर्यंत नेण्या-आणण्यासाठी तिचा उपयोग ते करणार होते. धनुष्कोडीला स्थानिक भाषेत सेतुक्करायी म्हणतात. एक दिवस भयानक चक्रीवादळाने किना-याला झोडपून काढले. ताशी शंभराहून अधिक मैलांच्या वेगाने वाहणा-या सुसाट वा-याने सेतुक्करायीची थोडीफार जमीन अन आमची बोट समुद्रार्पण केली. तो पर्यंत मी समुद्रांच फक्त सौंदर्य पाहिले होते. त्या प्रसंगात प्रथमच त्याचे रौद्र रूप, त्याची संहारक शक्ती यांचे मला दर्शन झाले.

SubQuestion No : 50

Q.50 'अपयश' या शब्दाचे अनेक पर्याय खाली दिले आहेत. चुकीचा पर्याय ओळखा.

- Ans 1. निष्फल
 2. विकल
 3. असफल
 4. विफल

Question Type : **MCQ**

Question ID : **9102811063**

Option 1 ID : **9102814188**

Option 2 ID : **9102814186**

Option 3 ID : **9102814187**

Option 4 ID : **9102814185**

Status : **Answered**

Chosen Option : **2**

Q.1 Replace the underlined preposition with the correct one from the given options to make the sentence coherent.

The teacher called for the names of the students who won the tournament.

- Ans
- 1. up
 - 2. in
 - 3. against
 - 4. out

Question Type : MCQ
Question ID : 9102811070
Option 1 ID : 9102814215
Option 2 ID : 9102814214
Option 3 ID : 9102814216
Option 4 ID : 9102814213
Status : Answered
Chosen Option : 4

Q.2 Convert the main sentence from Direct Speech to Indirect Speech.

Direct: He said, 'I am not well.'

- Ans
- 1. He said that he is not well.
 - 2. He said that I am not well.
 - 3. He said that he was not well.
 - 4. He says he was unwell.

Question Type : MCQ
Question ID : 9102811081
Option 1 ID : 9102814257
Option 2 ID : 9102814258
Option 3 ID : 9102814259
Option 4 ID : 9102814260
Status : Answered
Chosen Option : 1

Q.3 Which of the following is the Future Perfect Tense of the main sentence?

As it is a short essay, I will read it by lunch time.

- Ans
- 1. As it is a short essay, I have read it by lunch time.
 - 2. As it is a short essay, I will be reading read it by lunch time.
 - 3. As it is a short essay, I will have been read it by lunch time.
 - 4. As it is a short essay, I will have read it by lunch time.

Question Type : MCQ
Question ID : 9102811076
Option 1 ID : 9102814240
Option 2 ID : 9102814239
Option 3 ID : 9102814238
Option 4 ID : 9102814237
Status : Answered
Chosen Option : 3

Q.4 Convert the following sentences from the Active Voice to the Passive Voice.

Who did this?

- Ans
- 1. By whom is this done?
 - 2. This was done by who?
 - 3. Whom done this?
 - 4. By whom was this done?

Question Type : MCQ

Question ID : 9102811086

Option 1 ID : 9102814280

Option 2 ID : 9102814278

Option 3 ID : 9102814277

Option 4 ID : 9102814279

Status : Answered

Chosen Option : 4

Q.5 Choose the most appropriate preposition to fill in the blank.

You must pay attention _____ the advice.

- Ans
- 1. to
 - 2. with
 - 3. on
 - 4. for

Question Type : MCQ

Question ID : 9102811069

Option 1 ID : 9102814209

Option 2 ID : 9102814210

Option 3 ID : 9102814211

Option 4 ID : 9102814212

Status : Answered

Chosen Option : 4

Q.6 Which of the following proverb will substitute the underlined part of the sentence?

The son finally took the profession of his father, despite the father's attempt to keep him away from crime. It is clear that a child usually takes after the parents in exhibiting the same traits or qualities.

- Ans
- 1. Rome was not built in a day.
 - 2. Apple of discord.
 - 3. An apple never falls far from the tree.
 - 4. All that glitters is not gold.

Question Type : MCQ

Question ID : 9102811095

Option 1 ID : 9102814315

Option 2 ID : 9102814316

Option 3 ID : 9102814313

Option 4 ID : 9102814314

Status : Answered

Chosen Option : 4

Q.7 Which of the following is the Present Perfect Continuous Tense of the main sentence?

I meet the priest every Friday.

- Ans
- 1. I was meeting the priest every Friday.
 - 2. I had been meeting the priest every Friday.
 - 3. I have been meeting the priest every Friday.
 - 4. I am meeting the priest every Friday.

Question Type : MCQ

Question ID : 9102811075

Option 1 ID : 9102814235

Option 2 ID : 9102814234

Option 3 ID : 9102814236

Option 4 ID : 9102814233

Status : Answered

Chosen Option : 1

Q.8 Replace the underlined word/words with the correct one/ones from the given options to make the sentence coherent.

Obedient and modesty are virtues but are considered weaknesses.

- Ans
- 1. Obedience and modesty
 - 2. Obedient and modesty
 - 3. Obedience and modest
 - 4. Obedient and modest

Question Type : MCQ

Question ID : 9102811074

Option 1 ID : 9102814231

Option 2 ID : 9102814232

Option 3 ID : 9102814230

Option 4 ID : 9102814229

Status : Answered

Chosen Option : 3

Q.9 Choose the exact meaning of the idiomatic expression/phrase.

To be fair and square.

- Ans
- 1. Deceiving
 - 2. Selfish
 - 3. Honest
 - 4. Biased

Question Type : MCQ

Question ID : 9102811092

Option 1 ID : 9102814303

Option 2 ID : 9102814301

Option 3 ID : 9102814302

Option 4 ID : 9102814304

Status : Answered

Chosen Option : 1

Q.10 Out of the given alternatives, choose the one which can be substituted for the given word or sentence.

That which cannot be heard

- Ans
- 1. Audible
 - 2. Noise
 - 3. Whisper
 - 4. Inaudible

Question Type : **MCQ**
Question ID : **9102811104**
Option 1 ID : **9102814351**
Option 2 ID : **9102814350**
Option 3 ID : **9102814349**
Option 4 ID : **9102814352**
Status : **Answered**
Chosen Option : **2**

Q.11 Choose the word from the given options that is closest in meaning to the underlined word in the sentence.

The pain did not mitigate despite a painkiller.

- Ans
- 1. Subside
 - 2. Compile
 - 3. Enhance
 - 4. Urge

Question Type : **MCQ**
Question ID : **9102811089**
Option 1 ID : **9102814292**
Option 2 ID : **9102814289**
Option 3 ID : **9102814291**
Option 4 ID : **9102814290**
Status : **Answered**
Chosen Option : **2**

Q.12 Choose the most appropriate preposition to fill in the blank.

As a family, we need to plan _____ the future.

- Ans
- 1. for
 - 2. in
 - 3. at
 - 4. to

Question Type : **MCQ**
Question ID : **9102811067**
Option 1 ID : **9102814202**
Option 2 ID : **9102814203**
Option 3 ID : **9102814204**
Option 4 ID : **9102814201**
Status : **Answered**
Chosen Option : **3**

Q.13 A sentence is divided in four parts, each part carrying an underlined word. Identify the incorrectly spelled word from the underlined words in the sentence.

Climate breakdown is having disastrous / consequences for the people and communities / who have contributed least / to the problem of global heating.

- Ans
- 1. to the problem of global heating.
 - 2. consequences for the people and communities
 - 3. who have contributed least
 - 4. Climate breakdown is having disastrous

Question Type : MCQ
Question ID : 9102811097
Option 1 ID : 9102814324
Option 2 ID : 9102814322
Option 3 ID : 9102814323
Option 4 ID : 9102814321
Status : Answered
Chosen Option : 2

Q.14 Convert the following sentences from the Passive Voice to the Active Voice.

Entry to the hostel was refused to him by the staff.

- Ans
- 1. He was refused by the staff the entry to the hostel.
 - 2. The staff refused him entry to the hostel.
 - 3. The staff was refused entry to the hostel by the boy.
 - 4. The staff refused the boy entry to the hostel.

Question Type : MCQ
Question ID : 9102811087
Option 1 ID : 9102814283
Option 2 ID : 9102814281
Option 3 ID : 9102814284
Option 4 ID : 9102814282
Status : Answered
Chosen Option : 3

Q.15 Convert the following sentences from the Active Voice to the Passive Voice.

My pen has been stolen.

- Ans
- 1. Anyone has stolen my pen.
 - 2. Someone has stolen my pen.
 - 3. Someone stole my pen.
 - 4. He stole my pen.

Question Type : MCQ
Question ID : 9102811084
Option 1 ID : 9102814269
Option 2 ID : 9102814270
Option 3 ID : 9102814272
Option 4 ID : 9102814271
Status : Answered
Chosen Option : 2

Q.16 Out of the given alternatives, choose the one which can be substituted for the given word or sentence.

House of Eskimo.

- Ans 1. Flat
 2. Igloo
 3. House
 4. Kennel

Question Type : MCQ
Question ID : 9102811105
Option 1 ID : 9102814356
Option 2 ID : 9102814354
Option 3 ID : 9102814353
Option 4 ID : 9102814355
Status : Answered
Chosen Option : 2

Q.17 Convert the main sentence from Direct Speech to Indirect Speech.

Direct: Shyam said, 'my wife is teaching mathematics to students.'

- Ans 1. Shyam says that his wife was teaching mathematics to students.
 2. Shyam said that his wife was teaching mathematics to students.
 3. Shyam said that his wife has been teaching mathematics to students.
 4. Shyam said that his wife is teaching mathematics to students.

Question Type : MCQ
Question ID : 9102811082
Option 1 ID : 9102814263
Option 2 ID : 9102814261
Option 3 ID : 9102814264
Option 4 ID : 9102814262
Status : Answered
Chosen Option : 3

Q.18 Out of the given alternatives, choose the one which can be substituted for the given word or sentence.

A game where no one wins

- Ans 1. Lost
 2. Drawn
 3. Withdrawn
 4. Forfeited

Question Type : MCQ
Question ID : 9102811103
Option 1 ID : 9102814348
Option 2 ID : 9102814346
Option 3 ID : 9102814347
Option 4 ID : 9102814345
Status : Answered
Chosen Option : 4

Q.19 Identify the correctly spelt word.

- Ans 1. Liaison
 2. Invegorate
 3. Medieval
 4. Repertiore

Question Type : MCQ
Question ID : 9102811100
Option 1 ID : 9102814335
Option 2 ID : 9102814334
Option 3 ID : 9102814333
Option 4 ID : 9102814336
Status : Answered
Chosen Option : 3

Q.20 Choose the most appropriate article to fill in the blank.

Birds are a group of warm-blooded vertebrates constituting _____ class Aves.

- Ans 1. a
 2. an
 3. No article is required.
 4. the

Question Type : MCQ
Question ID : 9102811078
Option 1 ID : 9102814245
Option 2 ID : 9102814246
Option 3 ID : 9102814248
Option 4 ID : 9102814247
Status : Answered
Chosen Option : 3

Q.21 Choose the most appropriate preposition to fill in the blank.

I need to look _____ my ailing parents.

- Ans 1. at
 2. to
 3. before
 4. after

Question Type : MCQ
Question ID : 9102811068
Option 1 ID : 9102814206
Option 2 ID : 9102814208
Option 3 ID : 9102814205
Option 4 ID : 9102814207
Status : Answered
Chosen Option : 4

Q.22 A sentence is divided in four parts, each part carrying an underlined word. Identify the incorrectly spelt word from the underlined words in the sentence.

Having plateaued around 280 parts per million / for thousands of years, global CO₂ emisions/ have shot past 400 ppm / at the end of the last decade.

- Ans
- 1. at the end of the last decade.
 - 2. for thousands of years, global CO₂ emisions
 - 3. Having plateaued around 280 parts per million
 - 4. have shot past 400 ppm

Question Type : MCQ
Question ID : 9102811096
Option 1 ID : 9102814320
Option 2 ID : 9102814318
Option 3 ID : 9102814317
Option 4 ID : 9102814319
Status : Answered
Chosen Option : 4

Q.23 Choose the most appropriate articles to fill in the blanks.

Tim is _____ United States Republican. _____ honorary man who is also a popular candidate.

- Ans
- 1. an, A
 - 2. an, The
 - 3. the, An
 - 4. a, An

Question Type : MCQ
Question ID : 9102811080
Option 1 ID : 9102814255
Option 2 ID : 9102814256
Option 3 ID : 9102814253
Option 4 ID : 9102814254
Status : Answered
Chosen Option : 3

Q.24 Choose the word from the given options that is opposite in meaning to the underlined word in the sentence.

If launched, the missile can wreak havoc on countries.

- Ans
- 1. Inflict
 - 2. Throw
 - 3. Fail
 - 4. Cause

Question Type : MCQ
Question ID : 9102811091
Option 1 ID : 9102814299
Option 2 ID : 9102814300
Option 3 ID : 9102814298
Option 4 ID : 9102814297
Status : Answered
Chosen Option : 2

Q.25 Choose the exact meaning of the idiomatic expression/phrase.

To scale up

- Ans 1. Measure
 2. Afflict
 3. Decrease
 4. Increase

Question Type : MCQ

Question ID : 9102811093

Option 1 ID : 9102814308

Option 2 ID : 9102814307

Option 3 ID : 9102814306

Option 4 ID : 9102814305

Status : Answered

Chosen Option : 1

Q.26 Out of the given alternatives, choose the one which can be substituted for the given word or sentence.

Government by one man.

- Ans 1. Dictatorship
 2. Plutocracy
 3. Monarchy
 4. Oligarchy

Question Type : MCQ

Question ID : 9102811106

Option 1 ID : 9102814359

Option 2 ID : 9102814360

Option 3 ID : 9102814357

Option 4 ID : 9102814358

Status : Answered

Chosen Option : 1

Q.27 Choose the most appropriate article to fill in the blank.

The octopus grabbed _____ little fish and hid behind the rocks.

- Ans 1. a
 2. the
 3. No article is required.
 4. an

Question Type : MCQ

Question ID : 9102811077

Option 1 ID : 9102814241

Option 2 ID : 9102814243

Option 3 ID : 9102814244

Option 4 ID : 9102814242

Status : Answered

Chosen Option : 1

Q.28 A sentence is divided in four parts, each part carrying an underlined word. Identify the incorrectly spelt word from the underlined words in the sentence.

The mission judges progress / by the satisfaction of village councils/ to avoid slowdowns from/ India's layered buraeucracy.

- Ans
- 1. The mission judges progress
 - 2. by the satisfaction of village councils
 - 3. India's layered buraeucracy.
 - 4. to avoid slowdowns from

Question Type : MCQ
Question ID : 9102811098
Option 1 ID : 9102814325
Option 2 ID : 9102814326
Option 3 ID : 9102814328
Option 4 ID : 9102814327
Status : Answered
Chosen Option : 3

Q.29 Choose the most appropriate article to fill in the blank.

A cup of hot coffee is what I desire after _____ long day.

- Ans
- 1. a
 - 2. an
 - 3. the
 - 4. No article is required.

Question Type : MCQ
Question ID : 9102811079
Option 1 ID : 9102814249
Option 2 ID : 9102814250
Option 3 ID : 9102814251
Option 4 ID : 9102814252
Status : Answered
Chosen Option : 3

Q.30 Convert the following sentences from the Active Voice to the Passive Voice.

The boys took the injured man to the hospital.

- Ans
- 1. The boys have taken the injured man to the hospital.
 - 2. The injured man took the boys to the hospital.
 - 3. Hospital is where the injured man is taken by the boys.
 - 4. The injured man was taken to the hospital by the boys.

Question Type : MCQ
Question ID : 9102811085
Option 1 ID : 9102814273
Option 2 ID : 9102814276
Option 3 ID : 9102814275
Option 4 ID : 9102814274
Status : Answered
Chosen Option : 3

Q.31 Identify the correctly spelt word.

- Ans 1. Harrass
 2. Quandary
 3. Bizzare
 4. Siezure

Question Type : MCQ
Question ID : 9102811099
Option 1 ID : 9102814332
Option 2 ID : 9102814330
Option 3 ID : 9102814329
Option 4 ID : 9102814331
Status : Answered
Chosen Option : 2

Q.32 Convert the main sentence from Indirect Speech to Direct Speech.

Sam exclaimed that he was very clever.

- Ans 1. Sam said, 'How clever I am!'
 2. Sam exclaimed, "how very clever I am!"
 3. Sam says, 'how clever he is!'
 4. Sam said, 'How clever he was!'

Question Type : MCQ
Question ID : 9102811083
Option 1 ID : 9102814268
Option 2 ID : 9102814265
Option 3 ID : 9102814267
Option 4 ID : 9102814266
Status : Answered
Chosen Option : 4

Q.33 Choose the word from the given options that is closest in meaning to the underlined word in the sentence.

He had to cite many examples in the thesis to make it convincing.

- Ans 1. Leave
 2. Quote
 3. Get
 4. Join

Question Type : MCQ
Question ID : 9102811090
Option 1 ID : 9102814293
Option 2 ID : 9102814295
Option 3 ID : 9102814296
Option 4 ID : 9102814294
Status : Answered
Chosen Option : 2

Q.34 Choose the most appropriate word to fill in the blank.

The baby sleeps _____ in the crib.

- Ans 1. soundness
 2. soundful
 3. sound
 4. soundly

Question Type : MCQ

Question ID : 9102811072

Option 1 ID : 9102814224

Option 2 ID : 9102814222

Option 3 ID : 9102814221

Option 4 ID : 9102814223

Status : Answered

Chosen Option : 4

Q.35 The sentences in the paragraph have been jumbled. Rearrange the following sentences into a meaningful sequence.

A. To master music demands way more than listening: to perceive, and especially produce, music requires that the musician processes.

B. Musical training is unique regarding its breadth and permeation throughout the nervous system.

C. And integrates information from the auditory, visual, somatosensory, and motor domains, all at the same time.

D. But, because it is such a complex, multidimensional phenomenon, the dynamic quality of musical training is often overlooked in the lab.

- Ans 1. BACD
 2. CBAD
 3. DBAC
 4. DABC

Question Type : MCQ

Question ID : 9102811102

Option 1 ID : 9102814341

Option 2 ID : 9102814343

Option 3 ID : 9102814344

Option 4 ID : 9102814342

Status : Answered

Chosen Option : 1

Q.36 The sentences in the paragraph have been jumbled. Rearrange the following sentences into a meaningful sequence.

A. Science and engineering are hard to imagine without mathematics.

B. Mathematics is an important part of modern society.

C. And even simple things such as calculating the cost of groceries involve mathematics.

D. So, it's not strange to stop and wonder what mathematics is.

- Ans 1. CDAB
 2. BDCA
 3. DCBA
 4. BACD

Question Type : MCQ

Question ID : 9102811101

Option 1 ID : 9102814338

Option 2 ID : 9102814339

Option 3 ID : 9102814337

Option 4 ID : 9102814340

Status : Answered

Chosen Option : 1

Q.37 Which of the following idiomatic expression will substitute the underlined part of the sentence?

When it comes to solving mathematical puzzles, I am deeply confused.

- Ans 1. All at sea.
 2. Tread on someone's heels.
 3. For a consideration.
 4. Above board.

Question Type : MCQ
Question ID : 9102811094
Option 1 ID : 9102814312
Option 2 ID : 9102814311
Option 3 ID : 9102814310
Option 4 ID : 9102814309
Status : Answered
Chosen Option : 2

Q.38 Choose the most appropriate word to fill in the blank.

I _____ looking for you since the morning to give the news of our Principal's transfer.

- Ans 1. am
 2. have been
 3. had
 4. have

Question Type : MCQ
Question ID : 9102811071
Option 1 ID : 9102814217
Option 2 ID : 9102814220
Option 3 ID : 9102814218
Option 4 ID : 9102814219
Status : Answered
Chosen Option : 1

Q.39 Choose the word or phrase which is nearest in meaning to the key word Docile.

- Ans 1. Liberal
 2. Quiet
 3. Indifferent
 4. Aggressive

Question Type : MCQ
Question ID : 9102811088
Option 1 ID : 9102814288
Option 2 ID : 9102814285
Option 3 ID : 9102814287
Option 4 ID : 9102814286
Status : Answered
Chosen Option : 1

Q.40 From the given options, replace the underlined words with the correct one to make the sentence coherent.

The dancer performed as well on the stage and won many hearts.

- Ans 1. well
 2. goodly
 3. proper
 4. good

Question Type : **MCQ**
 Question ID : **9102811073**
 Option 1 ID : **9102814225**
 Option 2 ID : **9102814226**
 Option 3 ID : **9102814227**
 Option 4 ID : **9102814228**
 Status : **Answered**
 Chosen Option : **1**

Comprehension:

Read the following passage carefully and answer the given questions.

Penguins are flightless seabirds that live almost exclusively below the equator. Some island-dwellers can be found in warmer climates, but most—including emperor, adélie, chinstrap, and gentoo penguins—reside in and around icy Antarctica. A thick layer of blubber and tightly-packed, oily feathers are ideal for colder temperatures.

The 18 different species of penguins come in different shapes and sizes, but all have black bodies and white bellies. This protective countershading allows them to hide from predators like leopard seals and orcas while they swim.

While penguins can't fly, their stiff flippers, webbed feet, and sleek shape make them expert swimmers. In fact, they spend most of their lives in the ocean and do nearly all of their hunting for krill, squid, and crabs underwater. They can swim about 15 miles an hour, and when they want to go faster, they often porpoise, or leap out of the water as they swim.

On land, penguins have an upright stance and tend to waddle, hop, or run with their bodies angled forward. Polar penguins can travel long distances quickly by "tobogganing," or sliding across the ice on their bellies and pushing forward with their feet. If it's especially cold, they huddle together in large colonies that protect them from predators and provide warmth.

SubQuestion No : 41

Q.41 What can be inferred from paragraph one?

- Ans 1. Penguins are seabirds that mostly live-in warmer climates, but certain species of Penguins live in colder climates.
 2. Penguins are seabirds that cannot fly and their thick layers of fat and oily feather protect them from colder temperatures.
 3. Penguins are seabirds that have a thick layer of blubber and tightly packed, oily feathers which makes them ideal swimmers.
 4. Penguins are sea creatures that cannot live on land as their skin and oily feather is highly suitable for warmer climates.

Question Type : **MCQ**
 Question ID : **9102811110**
 Option 1 ID : **9102814370**
 Option 2 ID : **9102814369**
 Option 3 ID : **9102814372**
 Option 4 ID : **9102814371**
 Status : **Answered**
 Chosen Option : **4**

Comprehension:

Read the following passage carefully and answer the given questions.

Penguins are flightless seabirds that live almost exclusively below the equator. Some island-dwellers can be found in warmer climates, but most—including emperor, adélie, chinstrap, and gentoo penguins—reside in and around icy Antarctica. A thick layer of blubber and tightly-packed, oily feathers are ideal for colder temperatures.

The 18 different species of penguins come in different shapes and sizes, but all have black bodies and white bellies. This protective countershading allows them to hide from predators like leopard seals and orcas while they swim.

While penguins can't fly, their stiff flippers, webbed feet, and sleek shape make them expert swimmers. In fact, they spend most of their lives in the ocean and do nearly all of their hunting for krill, squid, and crabs underwater. They can swim about 15 miles an hour, and when they want to go faster, they often porpoise, or leap out of the water as they swim.

On land, penguins have an upright stance and tend to waddle, hop, or run with their bodies angled forward. Polar penguins can travel long distances quickly by "tobogganing," or sliding across the ice on their bellies and pushing forward with their feet. If it's especially cold, they huddle together in large colonies that protect them from predators and provide warmth.

SubQuestion No : 42

Q.42 Which of the following describes the writing style of the author?

- Ans
- 1. Persuasive
 - 2. Expository
 - 3. Narrative
 - 4. Descriptive

Question Type : **MCQ**

Question ID : **9102811111**

Option 1 ID : **9102814374**

Option 2 ID : **9102814375**

Option 3 ID : **9102814373**

Option 4 ID : **9102814376**

Status : **Answered**

Chosen Option : **4**

Comprehension:

Read the following passage carefully and answer the given questions.

Penguins are flightless seabirds that live almost exclusively below the equator. Some island-dwellers can be found in warmer climates, but most—including emperor, adélie, chinstrap, and gentoo penguins—reside in and around icy Antarctica. A thick layer of blubber and tightly-packed, oily feathers are ideal for colder temperatures.

The 18 different species of penguins come in different shapes and sizes, but all have black bodies and white bellies. This protective countershading allows them to hide from predators like leopard seals and orcas while they swim.

While penguins can't fly, their stiff flippers, webbed feet, and sleek shape make them expert swimmers. In fact, they spend most of their lives in the ocean and do nearly all of their hunting for krill, squid, and crabs underwater. They can swim about 15 miles an hour, and when they want to go faster, they often porpoise, or leap out of the water as they swim.

On land, penguins have an upright stance and tend to waddle, hop, or run with their bodies angled forward. Polar penguins can travel long distances quickly by "tobogganing," or sliding across the ice on their bellies and pushing forward with their feet. If it's especially cold, they huddle together in large colonies that protect them from predators and provide warmth.

SubQuestion No : 43

Q.43 Based on the passage, which of the following is TRUE?

- Ans**
- 1. Penguins huddle together in large colonies that protect them from heat.
 - 2. Penguins cannot survive in cold temperatures; they only thrive in warm temperatures.
 - 3. The 18 different species of penguins come in different shapes and sizes.
 - 4. Penguins' stiff flippers, webbed feet, and sleek shape make them expert runners.

Question Type : **MCQ**

Question ID : **9102811112**

Option 1 ID : **9102814378**

Option 2 ID : **9102814377**

Option 3 ID : **9102814379**

Option 4 ID : **9102814380**

Status : **Answered**

Chosen Option : **1**

Comprehension:

Read the following passage carefully and answer the given questions.

Penguins are flightless seabirds that live almost exclusively below the equator. Some island-dwellers can be found in warmer climates, but most—including emperor, adélie, chinstrap, and gentoo penguins—reside in and around icy Antarctica. A thick layer of blubber and tightly-packed, oily feathers are ideal for colder temperatures.





The 18 different species of penguins come in different shapes and sizes, but all have black bodies and white bellies. This protective countershading allows them to hide from predators like leopard seals and orcas while they swim.

While penguins can't fly, their stiff flippers, webbed feet, and sleek shape make them expert swimmers. In fact, they spend most of their lives in the ocean and do nearly all of their hunting for krill, squid, and crabs underwater. They can swim about 15 miles an hour, and when they want to go faster, they often porpoise, or leap out of the water as they swim.

On land, penguins have an upright stance and tend to waddle, hop, or run with their bodies angled forward. Polar penguins can travel long distances quickly by "tobogganing," or sliding across the ice on their bellies and pushing forward with their feet. If it's especially cold, they huddle together in large colonies that protect them from predators and provide warmth.

SubQuestion No : 44

Q.44 Which of the following reflects the central theme of the passage?

- Ans**  1. The author passage highlights the importance of Penguins in our ecology and urges a deliberate attempt to protect them.
-  2. The author briefly gives an account of his encounter with an exotic species called Penguin.
-  3. The theme is the description of an extinct species called Penguins that at one time were an important part of the ecology.
-  4. The theme of the passage surrounds the lives of the penguins and their coping mechanism.

Question Type : **MCQ**

Question ID : **9102811109**

Option 1 ID : **9102814366**

Option 2 ID : **9102814368**

Option 3 ID : **9102814367**

Option 4 ID : **9102814365**

Status : **Answered**

Chosen Option : **3**

Comprehension:

Read the following passage carefully and answer the given questions.

Penguins are flightless seabirds that live almost exclusively below the equator. Some island-dwellers can be found in warmer climates, but most—including emperor, adélie, chinstrap, and gentoo penguins—reside in and around icy Antarctica. A thick layer of blubber and tightly-packed, oily feathers are ideal for colder temperatures.

The 18 different species of penguins come in different shapes and sizes, but all have black bodies and white bellies. This protective countershading allows them to hide from predators like leopard seals and orcas while they swim.

While penguins can't fly, their stiff flippers, webbed feet, and sleek shape make them expert swimmers. In fact, they spend most of their lives in the ocean and do nearly all of their hunting for krill, squid, and crabs underwater. They can swim about 15 miles an hour, and when they want to go faster, they often porpoise, or leap out of the water as they swim.

On land, penguins have an upright stance and tend to waddle, hop, or run with their bodies angled forward. Polar penguins can travel long distances quickly by "tobogganing," or sliding across the ice on their bellies and pushing forward with their feet. If it's especially cold, they huddle together in large colonies that protect them from predators and provide warmth.

SubQuestion No : 45

Q.45 Which of the following reflects the most suitable title for the passage?

- Ans** 1. The colonies of Penguins.
 2. Flightless seabirds Penguins.
 3. Penguins versus predators.
 4. Penguins: an extinct species.

Question Type : **MCQ**

Question ID : **9102811108**

Option 1 ID : **9102814361**

Option 2 ID : **9102814363**

Option 3 ID : **9102814364**

Option 4 ID : **9102814362**

Status : **Answered**

Chosen Option : **1**

Comprehension:

Read the following passage carefully and answer the given questions

The Nightingale of India- Sarojini Naidu was the most prominent woman face of Indian independence. She was a poet, social reformer, and political leader. She was the daughter of a scientist, Aghorenath Chattopadhyay, and Barada Sundari Devi, a poetess. Sarojini was a bright and brilliant child since her childhood. English, Bengali, Urdu, Telugu, and Persian were among the many languages that she excelled in. She was drawn to poetry and wanted to pursue it. She used her remarkable literary abilities to compose a 1300-line English poem titled 'The Lady of the Lake.'

In 1905 she met Mahatma Gandhi, Gopal Krishna Gokhle, and Rabindranath Tagore and became a part of the Indian National Movement. She preached about women empowerment and social reformation. In 1917 she established the Women's India Association and became the 1st Indian women President of the Indian National Congress in 1925. She took part in Satyagraha, Quit India Movement, Non-Cooperation Movement, and others. In 1947 she became the first women Governor of the United Province. Sarojini Naidu was a well-known and respected role model throughout the world. In 1990 an asteroid was dedicated after her name, asteroid 5647 Sarojini Naidu.

SubQuestion No : 46

Q.46 Which of the following reflects the tone of the passage?

- Ans** 1. Admiring.
 2. Ridiculing.
 3. Grieving.
 4. Aggressive.

Question Type : **MCQ**

Question ID : **9102811115**

Option 1 ID : **9102814385**

Option 2 ID : **9102814387**

Option 3 ID : **9102814388**

Option 4 ID : **9102814386**

Status : **Answered**

Chosen Option : **2**

Comprehension:

Read the following passage carefully and answer the given questions

The Nightingale of India- Sarojini Naidu was the most prominent woman face of Indian independence. She was a poet, social reformer, and political leader. She was the daughter of a scientist, Aghorenath Chattopadhyay, and Barada Sundari Devi, a poetess. Sarojini was a bright and brilliant child since her childhood. English, Bengali, Urdu, Telugu, and Persian were among the many languages that she excelled in. She was drawn to poetry and wanted to pursue it. She used her remarkable literary abilities to compose a 1300-line English poem titled 'The Lady of the Lake.'

In 1905 she met Mahatma Gandhi, Gopal Krishna Gokhle, and Rabindranath Tagore and became a part of the Indian National Movement. She preached about women empowerment and social reformation. In 1917 she established the Women's India Association and became the 1st Indian women President of the Indian National Congress in 1925. She took part in Satyagraha, Quit India Movement, Non-Cooperation Movement, and others. In 1947 she became the first women Governor of the United Province. Sarojini Naidu was a well-known and respected role model throughout the world. In 1990 an asteroid was dedicated after her name, asteroid 5647 Sarojini Naidu.

SubQuestion No : 47

Q.47 In the context of the passage, which of the following is similar in meaning to the word preached?

- Ans 1. Praised
 2. Addressed
 3. Criticised
 4. Negated

Question Type : **MCQ**

Question ID : **9102811118**

Option 1 ID : **9102814399**

Option 2 ID : **9102814397**

Option 3 ID : **9102814398**

Option 4 ID : **9102814400**

Status : **Answered**

Chosen Option : **1**

Comprehension:

Read the following passage carefully and answer the given questions

The Nightingale of India- Sarojini Naidu was the most prominent woman face of Indian independence. She was a poet, social reformer, and political leader. She was the daughter of a scientist, Aghorenath Chattopadhyay, and Barada Sundari Devi, a poetess. Sarojini was a bright and brilliant child since her childhood. English, Bengali, Urdu, Telugu, and Persian were among the many languages that she excelled in. She was drawn to poetry and wanted to pursue it. She used her remarkable literary abilities to compose a 1300-line English poem titled 'The Lady of the Lake.'

In 1905 she met Mahatma Gandhi, Gopal Krishna Gokhle, and Rabindranath Tagore and became a part of the Indian National Movement. She preached about women empowerment and social reformation. In 1917 she established the Women's India Association and became the 1st Indian women President of the Indian National Congress in 1925. She took part in Satyagraha, Quit India Movement, Non-Cooperation Movement, and others. In 1947 she became the first women Governor of the United Province. Sarojini Naidu was a well-known and respected role model throughout the world. In 1990 an asteroid was dedicated after her name, asteroid 5647 Sarojini Naidu.

SubQuestion No : 48

Q.48 What can be inferred from the passage?

- Ans**
- ✔ 1. Sarojini Naidu was a multi-lingual and versatile lady.
 - ✘ 2. Sarojini Naidu was also called as the Nightingale of India.
 - ✘ 3. In 1905 Sarojini Naidu met Mahatma Gandhi, Gopal Krishna Gokhle, and Rabindranath Tagore.
 - ✘ 4. Sarojini Naidu composed a 1300-line English poem titled 'The Lady of the Lake.'

Question Type : **MCQ**

Question ID : **9102811116**

Option 1 ID : **9102814389**

Option 2 ID : **9102814390**

Option 3 ID : **9102814391**

Option 4 ID : **9102814392**

Status : **Answered**

Chosen Option : **2**

Comprehension:

Read the following passage carefully and answer the given questions

The Nightingale of India- Sarojini Naidu was the most prominent woman face of Indian independence. She was a poet, social reformer, and political leader. She was the daughter of a scientist, Aghorenath Chattopadhyay, and Barada Sundari Devi, a poetess. Sarojini was a bright and brilliant child since her childhood. English, Bengali, Urdu, Telugu, and Persian were among the many languages that she excelled in. She was drawn to poetry and wanted to pursue it. She used her remarkable literary abilities to compose a 1300-line English poem titled 'The Lady of the Lake.'

In 1905 she met Mahatma Gandhi, Gopal Krishna Gokhle, and Rabindranath Tagore and became a part of the Indian National Movement. She preached about women empowerment and social reformation. In 1917 she established the Women's India Association and became the 1st Indian women President of the Indian National Congress in 1925. She took part in Satyagraha, Quit India Movement, Non-Cooperation Movement, and others. In 1947 she became the first women Governor of the United Province. Sarojini Naidu was a well-known and respected role model throughout the world. In 1990 an asteroid was dedicated after her name, asteroid 5647 Sarojini Naidu.

SubQuestion No : 49

Q.49 Which of the following finds support in the passage?

- Ans**
- 1. In 1949 Sarojini Naidu became the first women Chief Minister of the United Province.
 - 2. Sarojini Naidu's father was a poet and mother a scientist.
 - 3. Sarojini Naidu inspired Rabindranath Tagore to join Indian National Congress.
 - 4. Sarojini Naidu took part in Satyagraha, Quit India Movement and Non-Cooperation Movement.

Question Type : **MCQ**

Question ID : **9102811114**

Option 1 ID : **9102814384**

Option 2 ID : **9102814382**

Option 3 ID : **9102814381**

Option 4 ID : **9102814383**

Status : **Answered**

Chosen Option : **4**

Comprehension:

Read the following passage carefully and answer the given questions

The Nightingale of India- Sarojini Naidu was the most prominent woman face of Indian independence. She was a poet, social reformer, and political leader. She was the daughter of a scientist, Aghorenath Chattopadhyay, and Barada Sundari Devi, a poetess. Sarojini was a bright and brilliant child since her childhood. English, Bengali, Urdu, Telugu, and Persian were among the many languages that she excelled in. She was drawn to poetry and wanted to pursue it. She used her remarkable literary abilities to compose a 1300-line English poem titled 'The Lady of the Lake.'

In 1905 she met Mahatma Gandhi, Gopal Krishna Gokhle, and Rabindranath Tagore and became a part of the Indian National Movement. She preached about women empowerment and social reformation. In 1917 she established the Women's India Association and became the 1st Indian women President of the Indian National Congress in 1925. She took part in Satyagraha, Quit India Movement, Non-Cooperation Movement, and others. In 1947 she became the first women Governor of the United Province. Sarojini Naidu was a well-known and respected role model throughout the world. In 1990 an asteroid was dedicated after her name, asteroid 5647 Sarojini Naidu.

SubQuestion No : 50

Q.50 Why was an asteroid named after Sarojini Naidu?

- Ans
- 1. Sarojini Naidu was the 1st Indian women President of the Indian National Congress.
 - 2. Sarojini Naidu was a poet.
 - 3. Sarojini Naidu was a well-known and a respected role model throughout the world.
 - 4. Sarojini Naidu was the first women Governor of the United Province.

Question Type : **MCQ**

Question ID : **9102811117**

Option 1 ID : **9102814395**

Option 2 ID : **9102814394**

Option 3 ID : **9102814396**

Option 4 ID : **9102814393**

Status : **Answered**

Chosen Option : **3**

Section : **General Knowledge**

Q.1 'राठवानी घेर' (Rathwani Gher) हे _____ येथील आदिवासी नृत्य आहे.

- Ans
- 1. कर्नाटक
 - 2. महाराष्ट्र
 - 3. छत्तीसगढ
 - 4. गुजरात

Question Type : **MCQ**

Question ID : **9102811121**

Option 1 ID : **9102814412**

Option 2 ID : **9102814409**

Option 3 ID : **9102814411**

Option 4 ID : **9102814410**

Status : **Answered**

Chosen Option : **3**

Q.2 महाराष्ट्रातील कोणत्या जिल्ह्यात सर्वाधिक लोह धातुक (Iron ore) आढळते?

- Ans
- 1. गोंदिया
 - 2. गडचिरोली
 - 3. चंद्रपूर
 - 4. सिंधुदुर्ग

Question Type : MCQ
Question ID : 9102811156
Option 1 ID : 9102814552
Option 2 ID : 9102814549
Option 3 ID : 9102814551
Option 4 ID : 9102814550
Status : Answered
Chosen Option : 3

Q.3 भारतातील खालीलपैकी कोणत्या राज्याची सीमा महाराष्ट्राला लागून नाही?

- Ans
- 1. गोवा
 - 2. आंध्र प्रदेश
 - 3. गुजरात
 - 4. तेलंगणा

Question Type : MCQ
Question ID : 9102811154
Option 1 ID : 9102814542
Option 2 ID : 9102814544
Option 3 ID : 9102814541
Option 4 ID : 9102814543
Status : Answered
Chosen Option : 1

Q.4 भारतात, कोरडवाहू शेती प्रामुख्याने _____ पेक्षा कमी वार्षिक पर्जन्यमान असलेल्या प्रदेशांपुरती मर्यादित आहे.

- Ans
- 1. 150 cm
 - 2. 200 cm
 - 3. 75 cm
 - 4. 100 cm

Question Type : MCQ
Question ID : 9102811133
Option 1 ID : 9102814460
Option 2 ID : 9102814458
Option 3 ID : 9102814457
Option 4 ID : 9102814459
Status : Answered
Chosen Option : 4

Q.5 भारताच्या 2011 च्या जनगणनेनुसार, महाराष्ट्रातील _____ जिल्ह्यात किशोरवयीन मुला-मुलींची संख्या सर्वात कमी होती.

- Ans
- 1. नंदुरबार
 - 2. गडचिरोली
 - 3. रत्नागिरी
 - 4. मुंबई शहर

Question Type : MCQ
Question ID : 9102811157
Option 1 ID : 9102814554
Option 2 ID : 9102814555
Option 3 ID : 9102814556
Option 4 ID : 9102814553
Status : Answered
Chosen Option : 1

Q.6 भारत सरकारच्या कोणत्या मंत्रालयाने ऑक्टोबर 2020 मध्ये "आयुषमान सहकार योजना"(AYUSHMAN SAHAKAR Scheme) सुरू केली?

- Ans
- 1. आरोग्य आणि कुटुंब कल्याण मंत्रालय
 - 2. वित्त मंत्रालय
 - 3. पंचायत राज मंत्रालय
 - 4. कृषी आणि शेतकरी कल्याण मंत्रालय

Question Type : MCQ
Question ID : 9102811145
Option 1 ID : 9102814506
Option 2 ID : 9102814508
Option 3 ID : 9102814505
Option 4 ID : 9102814507
Status : Answered
Chosen Option : 3

Q.7 भारताच्या 2011 च्या जनगणनेनुसार (तात्पुरती), भारतीय लोकसंख्येचा दशकातील वाढीचा दर _____ आहे.

- Ans
- 1. (-)3.33%
 - 2. (+)10.45%
 - 3. (+)17.64%
 - 4. (+)5%

Question Type : MCQ
Question ID : 9102811130
Option 1 ID : 9102814447
Option 2 ID : 9102814448
Option 3 ID : 9102814445
Option 4 ID : 9102814446
Status : Answered
Chosen Option : 3

Q.8 'इंडस्ट्रियल फायनान्स कॉर्पोरेशन ऑफ इंडिया' मध्ये केंद्र सरकारचे किती शेअर्स आहेत?

- Ans
- 1. 33.33 टक्के
 - 2. 0 टक्के
 - 3. 100 टक्के
 - 4. 61.02 टक्के

Question Type : MCQ
Question ID : 9102811126
Option 1 ID : 9102814431
Option 2 ID : 9102814430
Option 3 ID : 9102814429
Option 4 ID : 9102814432
Status : Answered
Chosen Option : 4

Q.9 लमन चे लोकसंगीत खालीलपैकी कोणत्या राज्यात आढळते?

- Ans
- 1. मध्य प्रदेश
 - 2. हिमाचल प्रदेश
 - 3. अरुणाचल प्रदेश
 - 4. आंध्र प्रदेश

Question Type : MCQ
Question ID : 9102811123
Option 1 ID : 9102814420
Option 2 ID : 9102814418
Option 3 ID : 9102814419
Option 4 ID : 9102814417
Status : Answered
Chosen Option : 3

Q.10 महाराष्ट्राच्या 2019-20 च्या आर्थिक पाहणीनुसार, अटल मिशन फॉर रिज्युवेन्शन अँड अर्बन ट्रान्सफॉर्मेशन (AMRUT) योजनेत महाराष्ट्रातील _____ शहरे आहेत.

- Ans
- 1. 23
 - 2. 39
 - 3. 29
 - 4. 44

Question Type : MCQ
Question ID : 9102811160
Option 1 ID : 9102814565
Option 2 ID : 9102814567
Option 3 ID : 9102814566
Option 4 ID : 9102814568
Status : Answered
Chosen Option : 1

Q.11 'जलस्वराज्य - II' कार्यक्रमाची अंमलबजावणी करणारे महाराष्ट्र हे भारतातील _____ राज्य आहे.

- Ans 1. पहिले
 2. तिसरे
 3. दुसरे
 4. चौथे

Question Type : MCQ
Question ID : 9102811159
Option 1 ID : 9102814561
Option 2 ID : 9102814563
Option 3 ID : 9102814562
Option 4 ID : 9102814564
Status : Answered
Chosen Option : 4

Q.12 'हिंदू हृदयसम्राट बाळासाहेब ठाकरे महाराष्ट्र समृद्धी महामार्ग' हा प्रस्तावित आठ पदरी द्रुतगती मार्ग _____ जोडणारा आहे.

- Ans 1. पुणे आणि यवतमाळ
 2. मुंबई आणि नागपूर
 3. नागपूर आणि पुणे
 4. मुंबई आणि उस्मानाबाद

Question Type : MCQ
Question ID : 9102811162
Option 1 ID : 9102814575
Option 2 ID : 9102814573
Option 3 ID : 9102814574
Option 4 ID : 9102814576
Status : Answered
Chosen Option : 2

Q.13 महिलांसाठी सेवा सदनच्या माध्यमातून शुश्रूषा अभ्यासक्रम _____ कडून सुरू करण्यात आला होता.

- Ans 1. ताराबाई शिंदे
 2. महर्षी धोंडो कर्वे
 3. सावित्रीबाई फुले
 4. रमाबाई रानडे

Question Type : MCQ
Question ID : 9102811144
Option 1 ID : 9102814502
Option 2 ID : 9102814501
Option 3 ID : 9102814504
Option 4 ID : 9102814503
Status : Answered
Chosen Option : 4

Q.14 "कूकिंग टू सेव्ह यूवर लाईफ" (Cooking to Save Your Life) या पुस्तकाचे लेखक कोण आहेत?

- Ans
- 1. अमित रंजन
 - 2. रमेश पोखरियाल निशंक
 - 3. अभिजीत बॅनर्जी
 - 4. सौरभ दुग्गल

Question Type : MCQ
Question ID : 9102811147
Option 1 ID : 9102814513
Option 2 ID : 9102814515
Option 3 ID : 9102814514
Option 4 ID : 9102814516
Status : Answered
Chosen Option : 2

Q.15 महाराष्ट्रातील पारंपरिक संगीत वाद्यांचे प्रामुख्याने _____ श्रेणीमध्ये वर्गीकरण करण्यात आले आहे.

- Ans
- 1. 6
 - 2. 5
 - 3. 4
 - 4. 2

Question Type : MCQ
Question ID : 9102811158
Option 1 ID : 9102814560
Option 2 ID : 9102814559
Option 3 ID : 9102814558
Option 4 ID : 9102814557
Status : Answered
Chosen Option : 1

Q.16 भारतीय राष्ट्रीय काँग्रेसचे पहिले अधिवेशन _____ येथे घेण्यात आले होते.

- Ans
- 1. मुंबई
 - 2. पुणे
 - 3. औरंगाबाद
 - 4. नाशिक

Question Type : MCQ
Question ID : 9102811143
Option 1 ID : 9102814498
Option 2 ID : 9102814497
Option 3 ID : 9102814500
Option 4 ID : 9102814499
Status : Answered
Chosen Option : 1

Q.17 2019 चा भारतरत्न पुरस्कार नानाजी देशमुख यांना देण्यात आला. ते महाराष्ट्रातील _____ जिल्ह्याचे होते.

- Ans
- 1. नाशिक
 - 2. रत्नागिरी
 - 3. हिंगोली
 - 4. पुणे

Question Type : MCQ

Question ID : 9102811150

Option 1 ID : 9102814526

Option 2 ID : 9102814527

Option 3 ID : 9102814528

Option 4 ID : 9102814525

Status : Answered

Chosen Option : 1

Q.18 महाराष्ट्रातील खालीलपैकी कोणत्या जिल्ह्यात सर्वात कमी विधानसभा मतदारसंघ आहेत?

- Ans
- 1. सांगली
 - 2. कोल्हापूर
 - 3. सिंधुदुर्ग
 - 4. पालघर

Question Type : MCQ

Question ID : 9102811163

Option 1 ID : 9102814579

Option 2 ID : 9102814577

Option 3 ID : 9102814578

Option 4 ID : 9102814580

Status : Answered

Chosen Option : 4

Q.19 अकबर (Akbar) ने हेमूचा (Hemu) पानीपतच्या दुसऱ्या युद्धात वर्ष _____ मध्ये पराभव केला.

- Ans
- 1. 1556
 - 2. 1539
 - 3. 1526
 - 4. 1530

Question Type : MCQ

Question ID : 9102811141

Option 1 ID : 9102814492

Option 2 ID : 9102814491

Option 3 ID : 9102814489

Option 4 ID : 9102814490

Status : Answered

Chosen Option : 1

Q.20 ग्रामपंचायतीचे पदाधिकारी आणि अधिकाऱ्यांबाबत खालीलपैकी कोणते विधान बरोबर आहे?

- I. सरपंचाची नियुक्ती राज्याच्या राज्यपालांकडून केली जाते.
II. ग्रामसेवकाची नियुक्ती जिल्हा परिषदेच्या मुख्य कार्यकारी अधिकाऱ्याकडून केली जाते.

- Ans 1. केवळ II
 2. केवळ I
 3. I आणि II दोन्ही
 4. I किंवा II यापैकी कोणतेही नाही

Question Type : MCQ
Question ID : 9102811168
Option 1 ID : 9102814598
Option 2 ID : 9102814597
Option 3 ID : 9102814599
Option 4 ID : 9102814600
Status : Answered
Chosen Option : 1

Q.21 महाराष्ट्रातील नगरपरिषदेत जास्तीत जास्त किती सदस्य असू शकतात?

- Ans 1. 38
 2. 25
 3. 40
 4. 35

Question Type : MCQ
Question ID : 9102811166
Option 1 ID : 9102814592
Option 2 ID : 9102814590
Option 3 ID : 9102814589
Option 4 ID : 9102814591
Status : Answered
Chosen Option : 4

Q.22 गंगापूर धरण नाशिक जिल्ह्याजवळ _____ नदीवर आहे.

- Ans 1. तापी
 2. कृष्णा
 3. गोदावरी
 4. नर्मदा

Question Type : MCQ
Question ID : 9102811153
Option 1 ID : 9102814539
Option 2 ID : 9102814538
Option 3 ID : 9102814537
Option 4 ID : 9102814540
Status : Answered
Chosen Option : 3

Q.23 बेरीबेरी (Beriberi) मुख्यतः _____ च्या कमतरतेमुळे होते.

- Ans 1. जीवनसत्त्व A
 2. जीवनसत्त्व B1
 3. जीवनसत्त्व D
 4. जीवनसत्त्व C

Question Type : MCQ
Question ID : 9102811134
Option 1 ID : 9102814461
Option 2 ID : 9102814462
Option 3 ID : 9102814464
Option 4 ID : 9102814463
Status : Answered
Chosen Option : 2

Q.24 त्याचसमान 0.1 मोलमध्ये किती O₂ रेणू आहेत?

- Ans 1. O₂ चे 6.022×10^{22} रेणू
 2. O₂ चे 6.022×10^{24} रेणू
 3. O₂ चे 6.022×10^{21} रेणू
 4. O₂ चे 6.022×10^{23} रेणू

Question Type : MCQ
Question ID : 9102811135
Option 1 ID : 9102814465
Option 2 ID : 9102814467
Option 3 ID : 9102814468
Option 4 ID : 9102814466
Status : Answered
Chosen Option : 2

Q.25 महाराष्ट्राच्या विधानपरिषदेच्या संदर्भात खालीलपैकी कोणते विधान बरोबर आहे?

- I. विधानपरिषदेचे कामकाज सभापतींच्या नियंत्रण आणि मार्गदर्शनाखाली होते.
II. एका विशिष्ट संख्येने सदस्य दर चार वर्षांनी निवृत्त होतात आणि या रिक्त जागा नव्याने निवडणुका घेऊन पुन्हा भरल्या जातात.

- Ans 1. केवळ II
 2. I आणि II दोन्ही
 3. केवळ I
 4. I किंवा II यापैकी कोणतेही नाही

Question Type : MCQ
Question ID : 9102811164
Option 1 ID : 9102814582
Option 2 ID : 9102814583
Option 3 ID : 9102814581
Option 4 ID : 9102814584
Status : Answered
Chosen Option : 3

Q.26 चित्रपट क्षेत्रातील योगदानासाठी दादासाहेब फाळके जीवनगौरव पुरस्कार कधीपासून सुरू झाला?

- Ans 1. 1974
 2. 1972
 3. 1969
 4. 1960

Question Type : MCQ
Question ID : 9102811149
Option 1 ID : 9102814524
Option 2 ID : 9102814523
Option 3 ID : 9102814522
Option 4 ID : 9102814521
Status : Answered
Chosen Option : 1

Q.27 महाराष्ट्राच्या 2019-20 च्या आर्थिक सर्वेक्षणानुसार, महाराष्ट्राच्या एकूण भौगोलिक क्षेत्रापैकी सुमारे _____ टक्के क्षेत्र हे एकूण संभाव्य खनिज क्षेत्र म्हणून निश्चित करण्यात आले आहे.

- Ans 1. 8
 2. 25
 3. 19
 4. 11

Question Type : MCQ
Question ID : 9102811161
Option 1 ID : 9102814571
Option 2 ID : 9102814569
Option 3 ID : 9102814572
Option 4 ID : 9102814570
Status : Answered
Chosen Option : 3

Q.28 खालीलपैकी कोणते विधान बरोबर आहे?

- I. रामकृष्ण परमहंस यांचे निकटचे शिष्य, स्वामी विवेकानंद यांनी रामकृष्ण मिशनची 1897 मध्ये स्थापना केली.
II. पंडित मदनमोहन मालवीय यांनी 'बनारस हिंदू विद्यापीठाची' पायाभरणी केली.

- Ans 1. केवळ I
 2. I किंवा II यापैकी कोणतेही नाही
 3. I आणि II दोन्ही
 4. केवळ II

Question Type : MCQ
Question ID : 9102811151
Option 1 ID : 9102814529
Option 2 ID : 9102814532
Option 3 ID : 9102814531
Option 4 ID : 9102814530
Status : Answered
Chosen Option : 3

Q.29 अनुसूचित जमातीच्या लोकसंख्येच्या आधारावर _____ ला भारतात प्रथम स्थान आहे.

- Ans 1. राजस्थान
 2. मध्यप्रदेश
 3. बिहार
 4. गुजरात

Question Type : MCQ
Question ID : 9102811131
Option 1 ID : 9102814451
Option 2 ID : 9102814449
Option 3 ID : 9102814452
Option 4 ID : 9102814450
Status : Answered
Chosen Option : 2

Q.30 चालुक्य (Chalukya) राजवंशाच्या राजधानीचे प्राचीन नाव खालीलपैकी कोणते आहे?

- Ans 1. वत्सगुल्म (Vatsagulm)
 2. नंदीवर्धन (Nandivardhan)
 3. वाटापी (Vatapi)
 4. प्रतिष्ठान (Pratishthan)

Question Type : MCQ
Question ID : 9102811140
Option 1 ID : 9102814488
Option 2 ID : 9102814486
Option 3 ID : 9102814487
Option 4 ID : 9102814485
Status : Answered
Chosen Option : 1

Q.31 यजुर्वेदाचे मुख्य किती विभाग आहेत?

- Ans 1. 3
 2. 5
 3. 4
 4. 2

Question Type : MCQ
Question ID : 9102811125
Option 1 ID : 9102814426
Option 2 ID : 9102814428
Option 3 ID : 9102814427
Option 4 ID : 9102814425
Status : Answered
Chosen Option : 2

Q.32 एकूण संघटित रोजगारांपैकी अंदाजे _____ सार्वजनिक क्षेत्राचा वाटा आहे.

- Ans 1. 70 टक्के
 2. 55 टक्के
 3. 23 टक्के
 4. 89 टक्के

Question Type : MCQ
Question ID : 9102811132
Option 1 ID : 9102814456
Option 2 ID : 9102814454
Option 3 ID : 9102814455
Option 4 ID : 9102814453
Status : Answered
Chosen Option : 1

Q.33 भारतीय राज्यघटनेच्या खालीलपैकी कोणत्या अनुच्छेदांतर्गत भारतीय निवडणूक आयोगाची तरतूद करण्यात आली आहे?

- Ans 1. अनुच्छेद 151
 2. अनुच्छेद 324
 3. अनुच्छेद 348
 4. अनुच्छेद 148

Question Type : MCQ
Question ID : 9102811137
Option 1 ID : 9102814474
Option 2 ID : 9102814475
Option 3 ID : 9102814476
Option 4 ID : 9102814473
Status : Answered
Chosen Option : 2

Q.34 'सेतुबंध'(Setubandh) ची रचना करणारा प्रवरसेन दुसरा (Pravarasena II) खालीलपैकी कोणत्या राजवंशाचा होता?

- Ans 1. राष्ट्रकुट राजवंश
 2. वाकाटक राजवंश
 3. सातवाहन राजवंश
 4. चालुक्य राजवंश

Question Type : MCQ
Question ID : 9102811139
Option 1 ID : 9102814484
Option 2 ID : 9102814482
Option 3 ID : 9102814481
Option 4 ID : 9102814483
Status : Answered
Chosen Option : 4

Q.35 खालीलपैकी कोणते विधान बरोबर आहे?

- I. मुंबई हे आयात-निर्यातीसाठी भारतातील सर्वात मोठे आणि सर्वात महत्त्वाचे बंदर आहे.
II. थेट परकीय गुंतवणूक आकर्षित करून घेण्यासाठी आणि रोजगार निर्मितीसाठी महाराष्ट्र सरकारने विशेष आर्थिक क्षेत्र (Special Economic Zone, SEZ) धोरणाची 2001 मध्ये घोषणा केली.

Ans 1. केवळ II

2. I आणि II दोन्ही

3. केवळ I

4. I किंवा II यापैकी कोणतेही नाही

Question Type : MCQ

Question ID : 9102811152

Option 1 ID : 9102814534

Option 2 ID : 9102814535

Option 3 ID : 9102814533

Option 4 ID : 9102814536

Status : Answered

Chosen Option : 2

Q.36 नाथन पीर बक्ष (किंवा नाथन पीरबक्ष) हे _____ यांच्या संस्थापकांपैकी एक म्हणून ओळखले जातात.

Ans 1. रामपूर सहेसवान घराणे

2. जयपूर अत्रोली घराणे

3. ग्वाल्हेर घराणे

4. आग्रा घराणे

Question Type : MCQ

Question ID : 9102811122

Option 1 ID : 9102814416

Option 2 ID : 9102814414

Option 3 ID : 9102814413

Option 4 ID : 9102814415

Status : Answered

Chosen Option : 1

Q.37 खालीलपैकी कोणत्या समितीने 1928 मध्ये अधिकार विधेयकाची मागणी केली होती?

Ans 1. वल्लभभाई पटेल समिती

2. एम.एन. रॉय समिती

3. मोतीलाल नेहरू समिती

4. एम.पी.टी आचार्य समिती

Question Type : MCQ

Question ID : 9102811136

Option 1 ID : 9102814470

Option 2 ID : 9102814471

Option 3 ID : 9102814469

Option 4 ID : 9102814472

Status : Answered

Chosen Option : 4

Q.38 महाराष्ट्रातील कोणत्या जिल्ह्यात टिपेश्वर वन्यजीव अभयारण्य (Tipeswar Wildlife Sanctuary) आहे?

- Ans
- 1. सातारा
 - 2. पालघर
 - 3. हिंगोली
 - 4. यवतमाळ

Question Type : MCQ
Question ID : 9102811155
Option 1 ID : 9102814545
Option 2 ID : 9102814547
Option 3 ID : 9102814548
Option 4 ID : 9102814546
Status : Answered
Chosen Option : 4

Q.39 महाराष्ट्र सरकारकडून दिला जाणारा शिव छत्रपती पुरस्कार कोणत्या क्षेत्राशी संबंधित आहे?

- Ans
- 1. संगीत
 - 2. क्रीडा
 - 3. साहित्य
 - 4. विज्ञान आणि तंत्रज्ञान

Question Type : MCQ
Question ID : 9102811148
Option 1 ID : 9102814517
Option 2 ID : 9102814519
Option 3 ID : 9102814518
Option 4 ID : 9102814520
Status : Answered
Chosen Option : 2

Q.40 'सर्व्हंट्स ऑफ इंडिया सोसायटी' ची स्थापना खालीलपैकी कोणी केली?

- Ans
- 1. श्रीनिवास शास्त्री
 - 2. गोपाळ कृष्ण गोखले
 - 3. बाळ गंगाधर टिळक
 - 4. दादाभाई नौरोजी

Question Type : MCQ
Question ID : 9102811119
Option 1 ID : 9102814404
Option 2 ID : 9102814402
Option 3 ID : 9102814401
Option 4 ID : 9102814403
Status : Answered
Chosen Option : 1

Q.41 खो-खो खेळाची सुरुवात कोणत्या देशातून झाली?

- Ans
- 1. नेपाळ
 - 2. पाकिस्तान
 - 3. ऑस्ट्रेलिया
 - 4. भारत

Question Type : MCQ
Question ID : 9102811138
Option 1 ID : 9102814480
Option 2 ID : 9102814477
Option 3 ID : 9102814478
Option 4 ID : 9102814479
Status : Answered
Chosen Option : 1

Q.42 1857 च्या बंडात कोल्हापूरमधून कोण सहभागी झाले होते?

- Ans
- 1. रंगो बापूजी
 - 2. कजारसिंग
 - 3. चिमासाहेब
 - 4. सुरगणा

Question Type : MCQ
Question ID : 9102811142
Option 1 ID : 9102814494
Option 2 ID : 9102814496
Option 3 ID : 9102814493
Option 4 ID : 9102814495
Status : Answered
Chosen Option : 1

Q.43 खालीलपैकी कोणते विधान बरोबर आहे?

- I. अजिंठा लेण्या हे 31 बुद्ध लेण्यांचे संकुल आहे.
- II. अजिंठा लेण्या वाघूर नदीच्या बेसाल्टी घळींमध्ये कोरण्यात आल्या आहेत.

- Ans
- 1. I किंवा II यापैकी कोणतेही नाही
 - 2. I आणि II दोन्ही
 - 3. केवळ I
 - 4. केवळ II

Question Type : MCQ
Question ID : 9102811146
Option 1 ID : 9102814512
Option 2 ID : 9102814511
Option 3 ID : 9102814509
Option 4 ID : 9102814510
Status : Answered
Chosen Option : 3

Q.44 सर्व बाजूंनी पर्वतांनी वेढलेले, मध्यभागी _____ सरोवर म्हणून ओळखल्या जाणाऱ्या मोठ्या सरोवराच्या उपस्थितीमुळे मणिपूरचा प्राकृतिक भूगोल (physiography) वैशिष्ट्यपूर्ण आहे.

- Ans
- 1. करंजी
 - 2. लोकटाक
 - 3. मिरिक
 - 4. ओसुइ

Question Type : MCQ

Question ID : 9102811129

Option 1 ID : 9102814443

Option 2 ID : 9102814442

Option 3 ID : 9102814444

Option 4 ID : 9102814441

Status : Answered

Chosen Option : 2

Q.45 श्री. अनिलकुमार लखीना (Anilkumar Lakhina) यांनी _____ जिल्ह्यात जिल्हाधिकारी असताना, अनेक सुधारणा घडवून आणल्या. त्यांना 'लखीना पॅटर्न' म्हटले जाते.

- Ans
- 1. पुणे
 - 2. नाशिक
 - 3. धुळे
 - 4. अहमदनगर

Question Type : MCQ

Question ID : 9102811167

Option 1 ID : 9102814595

Option 2 ID : 9102814594

Option 3 ID : 9102814596

Option 4 ID : 9102814593

Status : Answered

Chosen Option : 3

Q.46 'गोरीगंगा' म्हणून ओळखल्या जाणाऱ्या नेपाळ हिमालयातील मिलम हिमनद्यामध्ये खालीलपैकी कोणती नदी उगम पावते?

- Ans
- 1. रामगंगा
 - 2. सोन
 - 3. महानंदा
 - 4. सरयू (Saryu)

Question Type : MCQ

Question ID : 9102811128

Option 1 ID : 9102814437

Option 2 ID : 9102814440

Option 3 ID : 9102814439

Option 4 ID : 9102814438

Status : Answered

Chosen Option : 2

Q.47 हैद्राबाद राज्याचा संस्थापक म्हणून खालीलपैकी कोणाला ओळखले जाते?

- Ans 1. सलाबत जंग
 2. असफजाह
 3. मीर उस्मान अली खान
 4. नासिर जंग

Question Type : MCQ
Question ID : 9102811120
Option 1 ID : 9102814406
Option 2 ID : 9102814405
Option 3 ID : 9102814408
Option 4 ID : 9102814407
Status : Answered
Chosen Option : 3

Q.48 देशातील पाणथळ प्रदेश (wetlands) किती वर्गवारीत विभाले गेले आहेत?

- Ans 1. 8
 2. 4
 3. 3
 4. 12

Question Type : MCQ
Question ID : 9102811127
Option 1 ID : 9102814433
Option 2 ID : 9102814436
Option 3 ID : 9102814435
Option 4 ID : 9102814434
Status : Answered
Chosen Option : 3

Q.49 महाराष्ट्रातील खालीलपैकी कोणत्या जिल्ह्यात जिल्हा परिषद आहे?

- I. जालना
II. नांदेड

- Ans 1. केवळ II
 2. I किंवा II यापैकी कोणतेही नाही
 3. केवळ I
 4. I आणि II दोन्ही

Question Type : MCQ
Question ID : 9102811165
Option 1 ID : 9102814586
Option 2 ID : 9102814588
Option 3 ID : 9102814585
Option 4 ID : 9102814587
Status : Answered
Chosen Option : 4

Q.50 भगवान महावीरांच्या शिकवणींचा समावेश असलेले जैन साहित्य काय म्हणून ओळखले जाते?

- Ans
- 1. निर्वाण
 - 2. पिटक
 - 3. आगम
 - 4. श्रुती

Question Type : MCQ

Question ID : 9102811124

Option 1 ID : 9102814423

Option 2 ID : 9102814421

Option 3 ID : 9102814422

Option 4 ID : 9102814424

Status : Answered

Chosen Option : 4

Section : General Intelligence

Q.1 P, Q, R, S, T आणि U हे सहा व्यक्ती एका गोलाकार टेबलाभोवती केंद्राकडे तोंड करून बसले आहेत (त्याच क्रमाने असणे आवश्यक नाही). P आणि Q यांच्या दरम्यान दोन व्यक्ती बसले आहेत. R हा Q चा शेजारी आहे. R आणि T यांच्या दरम्यान एक व्यक्ती बसला आहे. S हा R च्या लगतच डावीकडे बसला आहे.

खालीलपैकी कोणते/कोणती विधान/विधाने बरोबर नाही/नाहीत?

I. U हा P च्या लगतच डावीकडे बसला आहे.

II. R आणि Q हे S आणि T यांच्या दरम्यान बसले आहेत.

- Ans
- 1. I किंवा II यापैकी कोणतेही नाही
 - 2. फक्त II
 - 3. I आणि II दोन्ही
 - 4. फक्त I

Question Type : MCQ

Question ID : 9102811171

Option 1 ID : 9102814612

Option 2 ID : 9102814610

Option 3 ID : 9102814611

Option 4 ID : 9102814609

Status : Answered

Chosen Option : 4

Q.2 शब्दांची रचना करणाऱ्या एका मशिनला शब्दांची इनपुट लाईन दिली जाते, तेव्हा प्रत्येक चरणात एका विशिष्ट नियमाचे पालन करून त्यांची पुनर्रचना केली जाते. खाली इनपुट आणि पुनर्रचना यांचे उदाहरण दिले आहे.

इनपुट: Jt 94 Sm 102 73 Pr

चरण 1: 102 Jt 94 Sm 73 Pr

चरण 2: 102 Jt 94 73 Pr Sm

चरण 3: 102 94 Jt 73 Pr Sm

चरण 4: 102 94 73 Jt Pr Sm

चरण 4 ही शेवटची चरण आहे.

वर नमूद केलेले तर्क वापरून, खालील इनपुटसाठी वेगवेगळी चरणाने पडताळून घ्या.

इनपुट: Bj 34 Kt 12 Ab 46 असल्यास

अंतिम चरणांचे डाव्या टोकापासून तिसरे चरण कोणते असेल?

- Ans
- 1. 34
 - 2. Bj
 - 3. Ab
 - 4. 12

Question Type : MCQ

Question ID : 9102811199

Option 1 ID : 9102814724

Option 2 ID : 9102814721

Option 3 ID : 9102814722

Option 4 ID : 9102814723

Status : Answered

Chosen Option : 2

Q.3 खालील प्रश्नात, दिलेल्या मालिकेतील गहाळ संख्या शोधा.

32, 32, 33, 35, 38, ?

- Ans
- 1. 43
 - 2. 41
 - 3. 44
 - 4. 42

Question Type : MCQ

Question ID : 9102811210

Option 1 ID : 9102814766

Option 2 ID : 9102814765

Option 3 ID : 9102814768

Option 4 ID : 9102814767

Status : Answered

Chosen Option : 2

Q.4 दिलेल्या मालिकेतील एक पद चुकीचे आहे. दिलेल्या पर्यायांमधून ते चुकीचे पद निवडा.

42, 44, 47, 56, 72, 97

- Ans
- ✗ 1. 72
 - ✗ 2. 47
 - ✓ 3. 44
 - ✗ 4. 97

Question Type : MCQ

Question ID : 9102811211

Option 1 ID : 9102814772

Option 2 ID : 9102814771

Option 3 ID : 9102814770

Option 4 ID : 9102814769

Status : Answered

Chosen Option : 4

Q.5 खालील प्रश्नामध्ये प्रश्नचिन्हाच्या (?) जागी येऊ शकेल, अशी आकृती दिलेल्या पर्यायांतून निवडा.



Ans

- ✓ 1.
- ✗ 2.
- ✗ 3.
- ✗ 4.

Question Type : MCQ

Question ID : 9102811207

Option 1 ID : 9102814755

Option 2 ID : 9102814754

Option 3 ID : 9102814756

Option 4 ID : 9102814753

Status : Answered

Chosen Option : 4

Q.6 खालील प्रश्नात, 2, 3, 4, 5, 6 आणि 7 हे अंक खाली दर्शवल्याप्रमाणे पुढील अर्थाने वापरण्यात आले आहेत.

'P 2 Q' म्हणजे 'P हा Q च्या समान नाही'.

'P 3 Q' म्हणजे 'P हा Q पेक्षा मोठा देखील नाही किंवा लहान देखील नाही'.

'P 4 Q' म्हणजे 'P हा Q पेक्षा लहान देखील नाही किंवा समान देखील नाही'.

'P 5 Q' म्हणजे 'P हा Q पेक्षा मोठा देखील नाही किंवा समान देखील नाही नाही'.

'P 6 Q' म्हणजे 'P हा Q पेक्षा मोठा नाही'.

'P 7 Q' म्हणजे 'P हा Q पेक्षा लहान नाही'.

आता दिलेली विधाने सत्य असल्याचे गृहीत धरून प्रश्नामध्ये खाली दिलेले निष्कर्ष निश्चितपणे सत्य आहेत ते शोधा आणि तसे तुमचे उत्तर द्या.

विधाने:

B 2 T, R 4 V, H 7 K, T 5 K, V 3 B

निष्कर्ष:

I. B 5 K

II. R 4 T

III. H 3 T

- Ans
- ✗ 1. दोन्ही निष्कर्ष II आणि III सत्य असतील
 - ✗ 2. फक्त निष्कर्ष II सत्य असेल
 - ✗ 3. सर्व निष्कर्ष सत्य असतील
 - ✓ 4. दोन्ही निष्कर्ष सत्य नसतील

Question Type : MCQ

Question ID : 9102811183

Option 1 ID : 9102814660

Option 2 ID : 9102814658

Option 3 ID : 9102814657

Option 4 ID : 9102814659

Status : Answered

Chosen Option : 2

Q.7 जर उत्तर-पूर्व दिशा ही दक्षिण-पूर्व दिशा बनली, पूर्व दिशा ही दक्षिण दिशा बनली, दक्षिण-पूर्व दिशा ही दक्षिण-पश्चिम दिशा बनली आणि याप्रमाणे पुढे. तर दक्षिण दिशा ही कोणती दिशा बनेल?

- Ans
- ✗ 1. दक्षिण-पश्चिम
 - ✗ 2. पूर्व
 - ✓ 3. पश्चिम
 - ✗ 4. उत्तर-पश्चिम

Question Type : MCQ

Question ID : 9102811201

Option 1 ID : 9102814732

Option 2 ID : 9102814730

Option 3 ID : 9102814729

Option 4 ID : 9102814731

Status : Answered

Chosen Option : 4

Q.8 एक पद गहाळ असलेली एक मालिका देण्यात आली आहे. दिलेल्या पर्यायांतून अचूक पर्याय निवडा आणि मालिका पूर्ण करा.

TV, SU, RT, QS, ?

- Ans
- 1. SR
 - 2. PR
 - 3. PS
 - 4. PT

Question Type : MCQ

Question ID : 9102811188

Option 1 ID : 9102814679

Option 2 ID : 9102814678

Option 3 ID : 9102814680

Option 4 ID : 9102814677

Status : Answered

Chosen Option : 2

Q.9 एक पद गहाळ असलेली एक मालिका देण्यात आली आहे. दिलेल्या पर्यायांतून अचूक पर्याय निवडा आणि मालिका पूर्ण करा.

PTD168, LLP195, HDB224, DVN255, ?

- Ans
- 1. ZMZ360
 - 2. ZNZ288
 - 3. ZNZ289
 - 4. YNZ399

Question Type : MCQ

Question ID : 9102811190

Option 1 ID : 9102814685

Option 2 ID : 9102814687

Option 3 ID : 9102814686

Option 4 ID : 9102814688

Status : Answered

Chosen Option : 2

Q.10 16 नोव्हेंबर 1936 रोजी कोणता वार होता?

- Ans
- 1. मंगळवार
 - 2. सोमवार
 - 3. बुधवार
 - 4. रविवार

Question Type : MCQ

Question ID : 9102811194

Option 1 ID : 9102814701

Option 2 ID : 9102814702

Option 3 ID : 9102814703

Option 4 ID : 9102814704

Status : Answered

Chosen Option : 2

Q.11 या उदाहरणात एक प्रश्न आणि दोन विधाने (I) आणि (II) आहेत. (विधानांमध्ये दिलेली माहिती प्रश्नाचे उत्तर देण्यासाठी पर्याप्त आहे का, हे ठरवा आणि उत्तर द्या.)

डिसेंबर 2019 मध्ये राहुलचा वाढदिवस कोणत्या तारखेला आहे?

- I. त्याचा वाढदिवस डिसेंबर 2019 मध्ये महिन्याच्या शेवटच्या गुरुवारी असेल.
- II. डिसेंबर 2018 मध्ये महिन्याच्या शेवटच्या बुधवारी त्यांचा वाढदिवस होता.

Ans 1.

जर प्रश्नाचे उत्तर दोन्ही विधानांचा एकत्र वापर करूनही देता येत नसेल.

2.

जर प्रश्नाचे उत्तर (I) किंवा (II) विधानांपैकी फक्त एक विधान वापरून देता येत असेल.

3.

जर प्रश्नाचे उत्तर दोन्ही विधानांचा एकत्र वापर करून देता येत असेल पण दोन्हीपैकी फक्त एक विधान वापरून देता येत नसेल.

4.

जर प्रश्नाचे उत्तर विधानांपैकी फक्त एकच विधान वापरून देता येत असेल परंतु दुसरे विधान वापरून उत्तर देता येत नसेल.

Question Type : MCQ

Question ID : 9102811206

Option 1 ID : 9102814752

Option 2 ID : 9102814750

Option 3 ID : 9102814751

Option 4 ID : 9102814749

Status : Answered

Chosen Option : 3

Q.12 100 व्या वर्षाचा शेवटचा वार कोणता असेल?

Ans 1. बुधवार

2. मंगळवार

3. शनिवार

4. शुक्रवार

Question Type : MCQ

Question ID : 9102811193

Option 1 ID : 9102814697

Option 2 ID : 9102814699

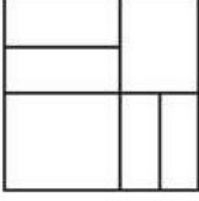
Option 3 ID : 9102814698

Option 4 ID : 9102814700

Status : Answered

Chosen Option : 4

Q.13 दिलेल्या आकृतीमध्ये किती चतुर्भुज आहेत?



- Ans 1. 15
 2. 12
 3. 13
 4. 14

Question Type : MCQ

Question ID : 9102811209

Option 1 ID : 9102814764

Option 2 ID : 9102814761

Option 3 ID : 9102814762

Option 4 ID : 9102814763

Status : Answered

Chosen Option : 4

Q.14 या उदाहरणात एक प्रश्न आणि दोन विधाने (I) आणि (II) दिली आहेत. (विधानांमध्ये दिलेली माहिती प्रश्नाचे उत्तर देण्यासाठी पर्याप्त आहे का, हे ठरवा आणि उत्तर द्या.)

बिंदू A हा बिंदू B च्या संदर्भात कोणत्या दिशेने आहे?

I. बिंदू A हा बिंदू B पासून 10 km अंतरावर आहे.

II. बिंदू B हा बिंदू C च्या उत्तर-पश्चिमेस (north-west) आहे.

Ans 1.

जर प्रश्नाचे उत्तर (I) किंवा (II) विधानांपैकी फक्त एकच विधान वापरून देता येत असेल.

2.

जर दोन्ही विधानांचा एकत्र वापर करूनही प्रश्नाचे उत्तर देता येत नसेल.

3.

जर दोन्ही विधाने एकत्रितपणे वापरून प्रश्नाचे उत्तर दिले जाऊ शकते परंतु कोणत्याही एकाच विधानाने नाही.

4.

जर प्रश्नाचे उत्तर विधानांपैकी फक्त एकच विधान वापरून देता येत असेल परंतु दुसरे विधान वापरून उत्तर देता येत नसेल.

Question Type : MCQ

Question ID : 9102811205

Option 1 ID : 9102814746

Option 2 ID : 9102814748

Option 3 ID : 9102814747

Option 4 ID : 9102814745

Status : Answered

Chosen Option : 4

Q.15 P, Q, R, S, T आणि U या सहा व्यक्तींची उंची भिन्न आहे. T हा R पेक्षा बुटका आहे. S हा दोन व्यक्तीपेक्षा उंच आहे. P हा Q पेक्षा बुटका आहे, परंतु R पेक्षा उंच आहे. U हा Q पेक्षा उंच आहे. तिसऱ्या क्रमांकाचा सर्वात उंच कोण आहे?

- Ans**
- 1. Q
 - 2. T
 - 3. P
 - 4. R

Question Type : **MCQ**

Question ID : **9102811185**

Option 1 ID : **9102814666**

Option 2 ID : **9102814668**

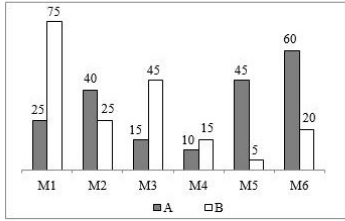
Option 3 ID : **9102814665**

Option 4 ID : **9102814667**

Status : **Answered**

Chosen Option : **3**

Q.16 खाली दिलेल्या स्तंभांमध्ये A आणि B या दोन दुकानदारांनी सलग सहा महिन्यांत किती पुस्तकांची विक्री केली ते दर्शविले आहे.



दुकानदार A ने विकलेल्या एकूण पुस्तकांची संख्या आणि दुकानदार B ने विकलेल्या एकूण पुस्तकांची संख्या यांचे गुणोत्तर किती आहे?

- Ans**
- 1. 38 : 37
 - 2. 41 : 36
 - 3. 37 : 41
 - 4. 39 : 37

Question Type : **MCQ**

Question ID : **9102811217**

Option 1 ID : **9102814793**

Option 2 ID : **9102814796**

Option 3 ID : **9102814794**

Option 4 ID : **9102814795**

Status : **Answered**

Chosen Option : **3**

Q.17 दिलेल्या पर्यायांमधून, दिलेल्या शब्दाची अक्षरे वापरून तयार करता येणार नाही असा शब्द निवडा.

EARTHLIEST

- Ans
- 1. REST
 - 2. HEART
 - 3. TRAIN
 - 4. EARTH

Question Type : MCQ

Question ID : 9102811191

Option 1 ID : 9102814690

Option 2 ID : 9102814689

Option 3 ID : 9102814692

Option 4 ID : 9102814691

Status : Answered

Chosen Option : 3

Q.18 एका विशिष्ट सांकेतिक भाषेत, 'COLLEGE' ला '2544181' असे लिहिले जाते आणि 'SCHOOL' ला '326554' असे लिहिले जाते. त्या सांकेतिक भाषेत 'COOL' साठी कोणता संकेत आहे?

- Ans
- 1. 3554
 - 2. 2553
 - 3. 4552
 - 4. 2554

Question Type : MCQ

Question ID : 9102811196

Option 1 ID : 9102814710

Option 2 ID : 9102814709

Option 3 ID : 9102814711

Option 4 ID : 9102814712

Status : Answered

Chosen Option : 4

Q.19 जर 'P+Q' म्हणजे 'P हा Q चा भाऊ आहे', 'P@Q' म्हणजे 'P ही Q ची बहीण आहे', 'P × Q' म्हणजे 'P हे Q चे वडील आहेत', 'P # Q' म्हणजे 'P ही Q ची आई आहे' आणि 'P = Q' म्हणजे 'P हा Q चा मुलगा आहे', तर $A \# B = C + D \times E @ F$ च्या संदर्भात, C चे E शी काय नाते आहे?

- Ans
- 1. पुतणी/भाची
 - 2. भाऊ
 - 3. काका/मामा
 - 4. वडील

Question Type : MCQ

Question ID : 9102811204

Option 1 ID : 9102814741

Option 2 ID : 9102814742

Option 3 ID : 9102814743

Option 4 ID : 9102814744

Status : Answered

Chosen Option : 3

Q.20 खालील प्रश्नात काही विधाने दिली आहेत आणि त्यानंतर त्या विधानांवर आधारित काही निष्कर्ष दिलेले आहेत. दिलेली विधाने सामान्यतः जात तथ्यांपेक्षा भिन्न वाटत असली तरीही ती सत्य आहे असे गृहीत धरा. सर्व निष्कर्ष वाचा आणि नंतर दिलेल्या निष्कर्षांपैकी कोणता निष्कर्ष दिलेल्या विधानांचे तार्किकदृष्ट्या अनुसरण करतो ते ठरवा.

विधाने:

- I. सर्व M हे C आहेत.
- II. काही C हे J आहेत.

निष्कर्ष:

- I. कोणताही J हा M नाही
- II. सर्व J हे M आहेत.
- III. काही J हे C आहेत.

Ans

- ✓ 1. फक्त निष्कर्ष III अनुसरण करतो.
- ✗ 2. दोन्ही निष्कर्ष II आणि III अनुसरण करतात.
- ✗ 3. कोणताही निष्कर्ष अनुसरण करीत नाही.
- ✗ 4. सर्व निष्कर्ष अनुसरण करतात.

Question Type : MCQ

Question ID : 9102811180

Option 1 ID : 9102814648

Option 2 ID : 9102814645

Option 3 ID : 9102814646

Option 4 ID : 9102814647

Status : Answered

Chosen Option : 1

Q.21 पाच खोके B1, B2, B3, B4 आणि B5 हे एकमेकांच्यावर ठेवले आहेत (त्याच क्रमाने असणे आवश्यक नाही). B5 हा B2 वर ठेवला आहे. B3 आणि B4 यांच्या दरम्यान एक खोका ठेवला आहे. B3 हा B4 वर ठेवला आहे. B1 हा B2 च्या लगेच वर ठेवला आहे. B1 आणि B5 यांच्या दरम्यान किती खोके ठेवले आहेत?

Ans

- ✓ 1. 1
- ✗ 2. 3
- ✗ 3. 0
- ✗ 4. 2

Question Type : MCQ

Question ID : 9102811174

Option 1 ID : 9102814622

Option 2 ID : 9102814624

Option 3 ID : 9102814621

Option 4 ID : 9102814623

Status : Answered

Chosen Option : 1

Q.22 शब्दांची रचना करणाऱ्या एका मशिनला शब्दांची इनपुट लाईन दिली जाते, तेव्हा प्रत्येक चरणात एका विशिष्ट नियमाचे पालन करून त्यांची पुनर्रचना केली जाते. खाली इनपुट आणि पुनर्रचना यांचे उदाहरण दिले आहे.

इनपुट: Tom Read Go Reads Man

चरण 1: Tomn Reade Gop Readst Mano

चरण 2: Tomno Readef Gopq Readst Manop

चरण 3: Tomnop Readef Gopqr Readst Manopq

चरण 4: Tomnop Readef Gopqrs Readst Manopq

चरण 4 ही शेवटची चरण आहे

वर नमूद केलेले तर्क वापरून, खालील इनपुटसाठी वेगवेगळी चरणाने पडताळून घ्या.

जर इनपुटची चरण 1 'Gars Rampq Stokl Starst Mintu' असेल, तर या इनपुटचे चरण 3 कोणते असेल?

- Ans
- ✓ 1. Garstu Rampqr Stoklm Starst Mintuv
 - ✗ 2. Garstv Rampqr Stoklm Starst Mintvu
 - ✗ 3. Grastu Rampqr Stoklm Starst Mintuv
 - ✗ 4. Garstu Rampqr Stoklm Starst Mintuu

Question Type : MCQ

Question ID : 9102811200

Option 1 ID : 9102814725

Option 2 ID : 9102814727

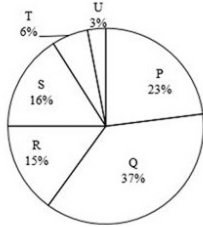
Option 3 ID : 9102814728

Option 4 ID : 9102814726

Status : Answered

Chosen Option : 4

Q.23 खाली दिलेला वृतालेख (pie chart) एका संस्थेच्या विविध विभागांमध्ये काम करणाऱ्या कर्मचाऱ्यांची संख्या दर्शवितो. संस्थेच्या विविध विभागांमध्ये काम करणाऱ्या कर्मचाऱ्यांची एकूण संख्या 1800 आहे. सर्व विभागांतील एकूण कर्मचाऱ्यांच्या संख्येपैकी एका विशिष्ट विभागात काम करणाऱ्या कर्मचाऱ्यांची संख्या ही टक्केवारी द्वारे दर्शविली जाते.



P, R, S आणि U या विभागांमध्ये काम करणाऱ्या कर्मचाऱ्यांची सरासरी संख्या आणि Q, R, T आणि U विभागांमध्ये काम करणाऱ्या कर्मचाऱ्यांच्या सरासरी संख्येमध्ये किती फरक आहे?

- Ans
- ✗ 1. 12
 - ✗ 2. 27
 - ✗ 3. 54
 - ✓ 4. 18

Question Type : MCQ

Question ID : 9102811216

Option 1 ID : 9102814791

Option 2 ID : 9102814789

Option 3 ID : 9102814792

Option 4 ID : 9102814790

Status : Answered

Chosen Option : 1

Q.24 एका विशिष्ट सांकेतिक भाषेत, 'TONY' ला 'GLMB' असे लिहिले जाते आणि 'STARK' ला 'HGZIP' असे लिहिले जाते. त्या सांकेतिक भाषेत 'MARBLE' साठी कोणता संकेत आहे?

- Ans
- 1. NZIYOU
 - 2. NZIYOV
 - 3. PZIYOV
 - 4. NZIYPV

Question Type : MCQ

Question ID : 9102811197

Option 1 ID : 9102814716

Option 2 ID : 9102814714

Option 3 ID : 9102814715

Option 4 ID : 9102814713

Status : Answered

Chosen Option : 2

Q.25 जर 'A' म्हणजे 'x', 'B' म्हणजे '-', 'C' म्हणजे '+' आणि 'D' म्हणजे '*' असेल, तर 21 C 7 D 5 A 3 B 6 C 2 = ?

- Ans
- 1. 18
 - 2. 15
 - 3. 21
 - 4. 12

Question Type : MCQ

Question ID : 9102811214

Option 1 ID : 9102814781

Option 2 ID : 9102814784

Option 3 ID : 9102814783

Option 4 ID : 9102814782

Status : Answered

Chosen Option : 2

Q.26 अनिता ही अनिलची मुलगी आहे. अनिल हा विवेकचा भाऊ आहे. विवेक हे दिनेशचे वडील आहेत. अनिताचे दिनेशशी काय नाते आहे?

- Ans
- 1. पत्नी
 - 2. चुलत भावंड
 - 3. मुलगी
 - 4. आई

Question Type : MCQ

Question ID : 9102811203

Option 1 ID : 9102814740

Option 2 ID : 9102814738

Option 3 ID : 9102814737

Option 4 ID : 9102814739

Status : Answered

Chosen Option : 1

Q.27 A, B, C, D, E, F आणि G या सात व्यक्तींनी रविवार ते शनिवार पर्यंत (त्याच क्रमाने आवश्यक नाही) आठवड्यातील सात वेगवेगळ्या दिवशी एका चर्चासत्रात भाग घेतला. A आणि B यांच्या दरम्यान एक व्यक्ती उपस्थित राहिला. G च्या आधी दोन व्यक्ती उपस्थित राहिले. A च्या आधी उपस्थित राहिलेल्या व्यक्तींची संख्या C च्यानंतर उपस्थित राहिलेल्या व्यक्तींच्या संख्येएवढीच आहे. B च्या नंतर दोन व्यक्ती उपस्थित राहिले. E आणि F यांच्या दरम्यान तीन व्यक्ती उपस्थित राहिले. D च्या आधी E उपस्थित राहिला. तर बुधवारी चर्चासत्रात कोण उपस्थित होते?

- Ans
- 1. D
 - 2. E
 - 3. C
 - 4. F

Question Type : **MCQ**
 Question ID : **9102811177**
 Option 1 ID : **9102814634**
 Option 2 ID : **9102814635**
 Option 3 ID : **9102814633**
 Option 4 ID : **9102814636**
 Status : **Answered**
 Chosen Option : **2**

Q.28 खाली दिलेले अक्षर, संख्या आणि चिन्हाच्या मालिकेच्या आधारे खालील प्रश्नाचे उत्तर द्या.

8ABJ%6@+7ABHJ9K%L6M4%32@74A@J+432\$

डाव्या टोकापासून दुसरे चिन्ह आणि उजव्या टोकापासून नववी संख्या यांच्या दरम्यान किती अक्षरे आहेत?

- Ans
- 1. 5
 - 2. 7
 - 3. 6
 - 4. 4

Question Type : **MCQ**
 Question ID : **9102811192**
 Option 1 ID : **9102814695**
 Option 2 ID : **9102814696**
 Option 3 ID : **9102814694**
 Option 4 ID : **9102814693**
 Status : **Answered**
 Chosen Option : **2**

Q.29 'A' च्या जागी कोणते अंदाजित मूल्य (approximate value) आले पाहिजे?

$$1126 \text{ चे } \left(\frac{7}{15}\right) + 1008 = 313 \text{ चे } \left(\frac{3}{13}\right) + A$$

- Ans
- 1. 1461
 - 2. 1246
 - 3. 1349
 - 4. 1161

Question Type : **MCQ**
 Question ID : **9102811212**
 Option 1 ID : **9102814776**
 Option 2 ID : **9102814774**
 Option 3 ID : **9102814775**
 Option 4 ID : **9102814773**
 Status : **Answered**
 Chosen Option : **3**

Q.30 एक पद गहाळ असलेली एक मालिका देण्यात आली आहे. दिलेल्या पर्यायांतून अचूक पर्याय निवडा आणि मालिका पूर्ण करा.

BDAT, EIHK, HNOB, KSVS, ?

- Ans
- ✓ 1. NXCJ
 - ✗ 2. NXCK
 - ✗ 3. MXDJ
 - ✗ 4. NYCJ

Question Type : MCQ

Question ID : 9102811189

Option 1 ID : 9102814684

Option 2 ID : 9102814681

Option 3 ID : 9102814682

Option 4 ID : 9102814683

Status : Answered

Chosen Option : 1

Q.31 एका विशिष्ट सांकेतिक भाषेत, 'LONG' ला 'NQPI' असे लिहिले जाते आणि 'GIRL' ला 'IKTN' असे लिहिले जाते. त्याच सांकेतिक भाषेत 'NAME' साठी कोणता संकेत आहे?

- Ans
- ✗ 1. QDOG
 - ✗ 2. PDOG
 - ✓ 3. PCOG
 - ✗ 4. OCOG

Question Type : MCQ

Question ID : 9102811195

Option 1 ID : 9102814708

Option 2 ID : 9102814705

Option 3 ID : 9102814706

Option 4 ID : 9102814707

Status : Answered

Chosen Option : 3

Q.32 सहा पेट्या P, Q, R, T, U आणि V एकमेकांच्या वर ठेवलेल्या आहेत (त्याच क्रमाने असणे आवश्यक नाही). V ल U च्यावर ठेवलेले आहे. P आणि Q यांच्या दरम्यान तीन पेट्या ठेवलेल्या आहेत. R ला P च्या अगदी वर ठेवलेले आहे. R आणि T यांच्या दरम्यान दोन पेट्या ठेवलेल्या आहेत.

खालीलपैकी कोणते/कोणती विधान/विधाने बरोबर नाही/नाहीत?

- I. V ला T च्या अगदी वर ठेवले आहे.
- II. U ला Q च्या अगदी वर ठेवले आहे.

- Ans
- ✓ 1. I आणि II दोन्ही
 - ✗ 2. फक्त II
 - ✗ 3. फक्त I
 - ✗ 4. I किंवा II यापैकी कोणतेही नाही

Question Type : MCQ

Question ID : 9102811178

Option 1 ID : 9102814639

Option 2 ID : 9102814638

Option 3 ID : 9102814637

Option 4 ID : 9102814640

Status : Answered

Chosen Option : 1

Q.33 C1, C2, C3, C4, C5 आणि C6 या सहा उमेदवारांना परीक्षेत वेगवेगळे गुण आहेत. C2 आणि C5 चे गुण हे अनुक्रमे C1 आणि C6 च्या गुणांपेक्षा जास्त आहेत. दोन उमेदवारांना C4 पेक्षा जास्त गुण आहेत. C3 चे गुण सर्वात कमी आहेत. C2 चे गुण हे C6 च्या गुणांपेक्षा कमी आहेत.

खालीलपैकी कोणते/कोणती विधान/विधाने बरोबर आहे/आहेत?

- I. C1 चे गुण दुसऱ्या क्रमांकावर आहेत.
II. एका उमेदवाराला C2 आणि C5 यांच्या दरम्यान गुण मिळाले आहेत.

- Ans**
- 1. फक्त I
 - 2. I आणि II दोन्ही
 - 3. I किंवा II यापैकी कोणतेही नाही
 - 4. फक्त II

Question Type : **MCQ**

Question ID : **9102811187**

Option 1 ID : **9102814673**

Option 2 ID : **9102814675**

Option 3 ID : **9102814676**

Option 4 ID : **9102814674**

Status : **Answered**

Chosen Option : **2**

Q.34 दिलेल्या दोन चिन्हांची आणि दोन अंकांची अदलाबदल केल्यानंतर, दिलेल्या समीकरणाचे मूल्य किती असेल?

3 आणि 8, + आणि -

$$9 + 3 \times 4 + 2 - 8 \times 4 + 2$$

- Ans**
- 1. -1
 - 2. 0
 - 3. -2
 - 4. 1

Question Type : **MCQ**

Question ID : **9102811215**

Option 1 ID : **9102814787**

Option 2 ID : **9102814785**

Option 3 ID : **9102814786**

Option 4 ID : **9102814788**

Status : **Answered**

Chosen Option : **1**

Q.35 P1, P2, P3, P4 आणि P5 या पाच व्यक्ती एका गोलाकार टेबलाभोवती केंद्राच्या विरुद्ध तोंड करून बसले आहेत (त्याच क्रमाने असणे आवश्यक नाही). P2 हा P5 च्या डावीकडे दुसऱ्या स्थानी बसला आहे. P4 आणि P3 हे अनुक्रमे P2 आणि P5 चे शेजारी नाहीत. P3 च्या उजवीकडे दुसऱ्या स्थानी कोण बसले आहे?

- Ans**
- 1. P2
 - 2. P4
 - 3. P5
 - 4. P1

Question Type : **MCQ**

Question ID : **9102811170**

Option 1 ID : **9102814606**

Option 2 ID : **9102814607**

Option 3 ID : **9102814608**

Option 4 ID : **9102814605**

Status : **Answered**

Chosen Option : **4**

Q.36 शब्दांची रचना करणाऱ्या एका मशिनला शब्दांची इनपुट लाईन दिली जाते, तेव्हा प्रत्येक चरणात एका विशिष्ट नियमाचे पालन करून त्यांची पुनर्रचना केली जाते. खाली इनपुट आणि पुनर्रचना यांचे उदाहरण दिले आहे.

इनपुट: 342 587 610 534

चरण 1: 9 20 7 12

चरण 2: 7 9 20 12

चरण 3: 7 9 12 20

चरण 3 ही शेवटचे चरण आहे.

वर नमूद केलेले तर्क वापरून, खालील इनपुटसाठी वेगवेगळी चरणाने पडताळून पहा.

इनपुट: 5638 9847 4389 3441

इच्छित आउटपुट मिळविण्यासाठी किती चरणांची आवश्यकता आहे?

- Ans**
- 1. तीन
 - 2. एक
 - 3. दोन
 - 4. चार

Question Type : **MCQ**

Question ID : **9102811198**

Option 1 ID : **9102814720**

Option 2 ID : **9102814719**

Option 3 ID : **9102814717**

Option 4 ID : **9102814718**

Status : **Answered**

Chosen Option : **3**

Q.37 A, B, C, D आणि E हे पाच पुरुष एका गोलाकार टेबलाभोवती केंद्राकडे तोंड करून बसले आहेत (त्याच क्रमाने असणे आवश्यक नाही). C हा E च्या उजवीकडे तिसऱ्या स्थानावर बसला आहे. B हा E चा एक शेजारी नाही. A हा D च्या डावीकडे दुसऱ्या स्थानावर बसला आहे. C च्या डावीकडे दुसऱ्या स्थानी कोण बसले आहे?

- Ans
- 1. B
 - 2. A
 - 3. D
 - 4. E

Question Type : MCQ

Question ID : 9102811169

Option 1 ID : 9102814602

Option 2 ID : 9102814601

Option 3 ID : 9102814603

Option 4 ID : 9102814604

Status : Answered

Chosen Option : 2

Q.38 खालील प्रश्नामध्ये, 6, 7, 9, 8 आणि 3 हे अंक खाली दर्शवल्याप्रमाणे पुढील अर्थाने वापरण्यात आले आहेत.

'P 6 Q' म्हणजे 'P हा Q पेक्षा लहान देखील नाही किंवा समान देखील नाही'.

'P 7 Q' म्हणजे 'P हा Q पेक्षा मोठा नाही'.

'P 9 Q' म्हणजे 'P हा Q पेक्षा मोठा देखील नाही किंवा लहान देखील नाही'.

'P 8 Q' म्हणजे 'P हा Q पेक्षा लहान नाही'.

'P 3 Q' म्हणजे 'P हा Q पेक्षा मोठा देखील नाही किंवा समान देखील नाही'.

आता दिलेली विधाने सत्य असल्याचे गृहीत धरून प्रश्नामध्ये खाली दिलेले निष्कर्ष निश्चितपणे सत्य आहेत ते शोधू आणि तसे तुमचे उत्तर द्या.

विधाने:

B 7 C, C 7 R, R 9 T, T 6 A, A 6 F

निष्कर्ष:

I. R 6 F

II. B 7 T

- Ans
- 1. फक्त निष्कर्ष I सत्य असेल
 - 2. फक्त निष्कर्ष II सत्य असेल
 - 3. निष्कर्ष I आणि II हे दोन्ही निष्कर्ष सत्य असतील
 - 4. निष्कर्ष I किंवा निष्कर्ष II यापैकी कोणतेही सत्य नसेल

Question Type : MCQ

Question ID : 9102811182

Option 1 ID : 9102814653

Option 2 ID : 9102814654

Option 3 ID : 9102814655

Option 4 ID : 9102814656

Status : Answered

Chosen Option : 3

Q.39 खाली दिलेल्या तक्त्यामध्ये पाच वस्तूंची खरेदी किंमत आणि नफ्याची टक्केवारी दर्शविली आहे.

वस्तू	खरेदी किंमत	नफ्याची टक्केवारी
A1	600	30%
A2	500	10%
A3	900	15%
A4	800	12.5%
A5	400	20%

विक्री किंमतीचा खालीलपैकी योग्य क्रम कोणता आहे?

- Ans
- ✗ 1. A5 > A2 > A1 > A4 > A3
 - ✗ 2. A3 > A4 > A1 > A5 > A2
 - ✓ 3. A3 > A4 > A1 > A2 > A5
 - ✗ 4. A4 > A3 > A1 > A2 > A5

Question Type : MCQ

Question ID : 9102811218

Option 1 ID : 9102814799

Option 2 ID : 9102814797

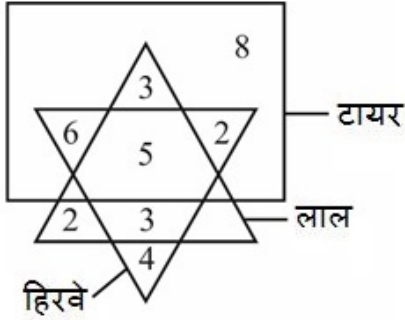
Option 3 ID : 9102814798

Option 4 ID : 9102814800

Status : Answered

Chosen Option : 4

Q.40 किती हिरवे हे फक्त टायर (tyre) आहेत?



- Ans
- ✗ 1. 6
 - ✗ 2. 4
 - ✓ 3. 8
 - ✗ 4. 5

Question Type : MCQ

Question ID : 9102811179

Option 1 ID : 9102814641

Option 2 ID : 9102814643

Option 3 ID : 9102814642

Option 4 ID : 9102814644

Status : Answered

Chosen Option : 3

Q.41 एका चौकोनी टेबलाभोवती P, Q, R, S, T, U, V आणि W हे आठ व्यक्ती बसलेले आहेत ज्यामधील चार व्यक्ती कोपऱ्यावर बसलेले आहेत आणि चार व्यक्ती बाजूच्या मधोमध बसले आहेत (त्याच क्रमाने असणे आवश्यक नाही). प्रत्येकाचे तोंड केंद्राकडे आहे. P आणि T यांच्या दरम्यान तीन व्यक्ती बसले आहेत. U हा T च्या डावीकडे दुसऱ्या स्थानी बसला आहे. S हा Q च्या लगतच उजव्या बाजूला बसला आहे. R हा W च्या डावीकडे दुसऱ्या स्थानी बसला आहे. P आणि S हे कोपऱ्यात बसलेले नाहीत. W हा P चा शेजारी नाही. V आणि W यांच्या दरम्यान कोणत्याही दिशेने किती जण बसले आहेत?

- Ans**
- 1. 3
 - 2. 2
 - 3. 1
 - 4. 0

Question Type : **MCQ**

Question ID : **9102811172**

Option 1 ID : **9102814616**

Option 2 ID : **9102814615**

Option 3 ID : **9102814614**

Option 4 ID : **9102814613**

Status : **Answered**

Chosen Option : **2**

Q.42 M1, M2, M3, M4, M5 आणि M6 हे सहा पुरुष इमारतीच्या सहा वेगवेगळ्या मजल्यावर राहतात (त्याच क्रमाने असणे आवश्यक नाही). सर्वात खालच्या मजल्याला 1 क्रमांक दिलेला आहे, त्याच्या वरच्या मजल्याला 2 क्रमांक दिलेला आहे आणि असेच सर्व मजल्यांना क्रमांक दिलेले आहेत. एकाच मजल्यावर दोन पुरुष राहत नाहीत. M1 आणि M3 यांच्या दरम्यान एक पुरुष राहतो. M2 आणि M4 यांच्या दरम्यान दोन पुरुष राहतात. M5 आणि M4 यांच्या दरम्यान एक पुरुष राहतो. M5 सर्वात खालच्या मजल्यावर राहत नाही. M3 दुसऱ्या मजल्यावर राहतो. M6 कोणत्या मजल्यावर राहतो?

- Ans**
- 1. 3रा
 - 2. 1ला
 - 3. 5वा
 - 4. 4था

Question Type : **MCQ**

Question ID : **9102811175**

Option 1 ID : **9102814626**

Option 2 ID : **9102814625**

Option 3 ID : **9102814628**

Option 4 ID : **9102814627**

Status : **Answered**

Chosen Option : **3**

Q.43 L1, L2, L3, L4, L5 आणि L6 अशी सहा व्याख्याने आठवड्यातील सहा वेगवेगळ्या दिवशी सोमवार ते शनिवार (त्याच क्रमाने असणे आवश्यक नाही) आयोजित केली जातात. L6 च्यानंतर दोनपेक्षा जास्त व्याख्याने आयोजित केली जात नाहीत. L2 आणि L5 यांच्या दरम्यान एक व्याख्यान आयोजित केले आहे. L6 च्यानंतर L1 आयोजित केले जाते. L2 आणि L4 अनुक्रमे बुधवार आणि सोमवारी आयोजित केले जातात.

खालीलपैकी कोणते/कोणती विधान/विधाने बरोबर नाहीत?

- I. L3 मंगळवारी आयोजित केला आहे.
- II. L1 आणि L2 यांच्या दरम्यान दोन व्याख्याने आयोजित केली आहेत.

Ans ✗ 1. फक्त I

✗ 2. I किंवा II यापैकी कोणतेही नाही

✗ 3. फक्त II

✓ 4. I आणि II दोन्ही

Question Type : MCQ

Question ID : 9102811176

Option 1 ID : 9102814629

Option 2 ID : 9102814632

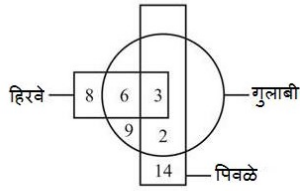
Option 3 ID : 9102814630

Option 4 ID : 9102814631

Status : Answered

Chosen Option : 2

Q.44 दिलेल्या वेन आकृती (venn diagram) वर आधारित, खालीलपैकी कोणते/कोणती विधान/विधाने बरोबर आहे/आहेत?



- I. पिवळ्याची एकूण संख्या 19 आहे.
- II. फक्त गुलाबी असलेल्या हिरव्याची संख्या 9 आहे.
- III. हिरवे आणि पिवळे दोन्ही असलेल्या गुलाबीची संख्या 3 आहे.

Ans ✗ 1. फक्त III

✗ 2. II आणि III

✗ 3. I, II आणि III

✓ 4. I आणि III

Question Type : MCQ

Question ID : 9102811181

Option 1 ID : 9102814652

Option 2 ID : 9102814649

Option 3 ID : 9102814650

Option 4 ID : 9102814651

Status : Answered

Chosen Option : 4

Q.45 खालील प्रश्नात, 2, 4, 6, 8 आणि 1 हे अंक खाली दर्शवल्याप्रमाणे पुढील अर्थाने पुढील अर्थाने वापरण्यात आले आहेत.

'P 2 Q' म्हणजे 'P हा Q पेक्षा मोठा देखील किंवा लहान देखील नाही'.

'P 4 Q' म्हणजे 'P हा Q पेक्षा मोठा देखील नाही किंवा समान देखील नाही'.

'P 6 Q' म्हणजे 'P हा Q पेक्षा लहान देखील नाही किंवा समान देखील नाही'.

'P 8 Q' म्हणजे 'P हा Q पेक्षा लहान नाही'.

'P 1 Q' म्हणजे 'P हा Q पेक्षा मोठा नाही'.

आता दिलेली विधाने सत्य असल्याचे गृहीत धरून प्रश्नामध्ये खाली दिलेले निष्कर्ष निश्चितपणे सत्य आहेत ते शोधा आणि तसे तुमचे उत्तर द्या.

विधाने:

F 4 R, H 8 B, A 6 N, R 4 B, N 6 B

निष्कर्ष:

I. A 6 F

II. H 6 R

III. H 2 B

Ans 1. फक्त निष्कर्ष I सत्य असेल

2. I आणि III दोन्ही निष्कर्ष सत्य असतील

3. I आणि II दोन्ही निष्कर्ष सत्य असतील

4. सर्व निष्कर्ष सत्य असतील

Question Type : MCQ

Question ID : 9102811184

Option 1 ID : 9102814661

Option 2 ID : 9102814662

Option 3 ID : 9102814663

Option 4 ID : 9102814664

Status : Answered

Chosen Option : 2

Q.46 A, B, C, D, E आणि F या सहा विद्यार्थ्यांनी परीक्षेत वेगवेगळे गुण मिळवले. C ने E आणि F पेक्षा जास्त गुण मिळवले. D ने E आणि B पेक्षा कमी गुण मिळवले. तीन विद्यार्थ्यांनी A पेक्षा जास्त गुण मिळवले. F ने D पेक्षा कमी गुण मिळवले.

खालीलपैकी कोणते/कोणती विधान/विधाने बरोबर आहे/आहेत?

I. B ने दुसऱ्या क्रमांकाचे सर्वोच्च गुण मिळवले.

II. F ने सर्वात कमी गुण मिळवले.

Ans 1. I आणि II दोन्ही

2. फक्त I

3. फक्त II

4. I किंवा II यापैकी कोणतेही नाही

Question Type : MCQ

Question ID : 9102811186

Option 1 ID : 9102814671

Option 2 ID : 9102814669

Option 3 ID : 9102814670

Option 4 ID : 9102814672

Status : Answered

Chosen Option : 3

Q.47 A, B, C, D, E, F, G आणि H हे आठ व्यक्ती एका चौकोनी टेबलाभोवती केंद्राकडे तोंड करून बसले आहेत (त्याच क्रमाने असणे आवश्यक नाही). टेबलाच्या प्रत्येक बाजूला दोन व्यक्ती बसले आहेत. A आणि E एकाच बाजूला बसले आहेत. C हा H च्या लगतच डावीकडे बसला आहे. E हा H च्या उजवीकडे दुसऱ्या स्थानी बसला आहे. C आणि D त्याच बाजूला बसले आहे. G हा F च्या लगतच उजवीकडे बसला आहे. B च्या उजवीकडे दुसऱ्या स्थानी कोण बसले आहेत ?

- Ans**
- 1. D
 - 2. C
 - 3. F
 - 4. A

Question Type : **MCQ**

Question ID : **9102811173**

Option 1 ID : **9102814619**

Option 2 ID : **9102814618**

Option 3 ID : **9102814620**

Option 4 ID : **9102814617**

Status : **Answered**

Chosen Option : **3**

Q.48 प्रश्नातील आकृतीत दाखवल्याप्रमाणे कागदाच्या एका तुकड्याची घडी घातली आणि त्याला पंच करण्यात आले. जेव्हा तो उघडला जाईल तेव्हा तो कसा दिसेल हे उत्तरासाठी दिलेल्या आकृतींमधून दशवा.



Ans

- 1.
- 2.
- 3.
- 4.

Question Type : **MCQ**

Question ID : **9102811208**

Option 1 ID : **9102814760**

Option 2 ID : **9102814758**

Option 3 ID : **9102814757**

Option 4 ID : **9102814759**

Status : **Answered**

Chosen Option : **3**

Q.49 दिलेल्या दोन अंकांची अदलाबदल केल्यावर दिलेल्या समीकरणाचे मूल्य किती असेल?

2 आणि 3

$$9 \div 2 \times 5 + 3 + 5 \times 4$$

Ans 1. 43

2. 20

3. 37

4. 33

Question Type : MCQ

Question ID : 9102811213

Option 1 ID : 9102814779

Option 2 ID : 9102814777

Option 3 ID : 9102814778

Option 4 ID : 9102814780

Status : Answered

Chosen Option : 2

Q.50 घड्याळामध्ये 12:45 वाजले आणि त्याचा मिनिट काटा उत्तरेकडे निर्देशित करित असेल, तर 1:15 वाजता मिनिट काटा कुठे निर्देश करेल?

Ans 1. दक्षिण-पूर्व

2. पश्चिम

3. दक्षिण

4. पूर्व

Question Type : MCQ

Question ID : 9102811202

Option 1 ID : 9102814736

Option 2 ID : 9102814733

Option 3 ID : 9102814735

Option 4 ID : 9102814734

Status : Answered

Chosen Option : 4



Maharashtra Housing and Area Development Authority-2021
महाराष्ट्र गृहनिर्माण व क्षेत्रविकास प्राधिकरण-२०२१

Participant ID	
Participant Name	
Test Center Name	
Test Date	09/02/2022
Test Time	9:00 AM - 11:00 AM
Subject	Cluster 6

Section : Marathi Language

Q.1 'कणव' या शब्दाचा समानार्थी शब्द निवडा.

- Ans
- 1. कठीण
 - 2. कडवा
 - 3. कणकण
 - 4. कळवळा

Question Type : MCQ
Question ID : 9102811244
Option 1 ID : 9102814904
Option 2 ID : 9102814902
Option 3 ID : 9102814903
Option 4 ID : 9102814901
Status : Answered
Chosen Option : 1

Q.2 पाच (वाजणे). सातही मुले मुख्याध्यापकांच्या केबिनपाशी (जमणे) कंसात दिलेल्या क्रियापदाचे भूतकाळातील रूप वापरल्यानंतर कोणता पर्याय अचूक आहे?

- Ans
- 1. पाच वाजतील आणि सातही मुले मुख्याध्यापकांच्या केबिनपाशी जमले
 - 2. पाच वाजता सातही मुले मुख्याध्यापकांच्या केबिनपाशी जमली
 - 3. पाच वाजेपर्यंत सातही मुले मुख्याध्यापकांच्या केबिनपाशी जमतील
 - 4. पाच वाजता सातही मुले मुख्याध्यापकांच्या केबिनपाशी जमतात

Question Type : MCQ
Question ID : 9102811226
Option 1 ID : 9102814832
Option 2 ID : 9102814830
Option 3 ID : 9102814829
Option 4 ID : 9102814831
Status : Answered
Chosen Option : 3

Q.3 "मोहन पुस्तकाची पाने घाईघाईने उलटतो" वाक्यातील कर्म सूचित करणारा पर्याय निवडा.

- Ans 1. पुस्तकाची पाने
 2. मोहन
 3. घाईघाईने
 4. उलटतो

Question Type : MCQ
Question ID : 9102811222
Option 1 ID : 9102814815
Option 2 ID : 9102814813
Option 3 ID : 9102814816
Option 4 ID : 9102814814
Status : Answered
Chosen Option : 1

Q.4 सप्ताह, त्रिदल, पंचपाळे ही कोणत्या समासाची उदाहरणे आहेत?

- Ans 1. कर्मधारय
 2. द्विगू
 3. तत्पुरुष
 4. द्वंद्व

Question Type : MCQ
Question ID : 9102811236
Option 1 ID : 9102814870
Option 2 ID : 9102814872
Option 3 ID : 9102814871
Option 4 ID : 9102814869
Status : Answered
Chosen Option : 2

Q.5 'ओहोटी' शब्दाचा विरुद्धार्थी शब्द कोणता?

- Ans 1. विहार
 2. समाचार
 3. आहार
 4. भरती

Question Type : MCQ
Question ID : 9102811253
Option 1 ID : 9102814938
Option 2 ID : 9102814939
Option 3 ID : 9102814937
Option 4 ID : 9102814940
Status : Answered
Chosen Option : 4

Q.6 'आकुंचन' शब्दाचा विरुद्धारार्थी शब्द कोणता?

- Ans
- 1. बलदंड
 - 2. आखूड
 - 3. महाग
 - 4. प्रसरण

Question Type : MCQ

Question ID : 9102811251

Option 1 ID : 9102814930

Option 2 ID : 9102814929

Option 3 ID : 9102814932

Option 4 ID : 9102814931

Status : Answered

Chosen Option : 4

Q.7 "सकाळी अचानक वीज गेल्यामुळे मी लिफ्टमध्ये अडकलो" या वाक्याचा भविष्यकाळ असलेला पर्याय निवडा.

- Ans
- 1. सकाळी अचानक वीज गेली नि मी लिफ्टमध्ये अडकतो
 - 2. सकाळी अचानक वीज जाईल आणि मी लिफ्टमध्ये अडकेन
 - 3. सकाळी अचानक वीज गेल्यामुळे मी लिफ्टमध्ये अडकलो
 - 4. सकाळी अचानक वीज जाने नि मी लिफ्टमध्ये अडकणार

Question Type : MCQ

Question ID : 9102811224

Option 1 ID : 9102814823

Option 2 ID : 9102814822

Option 3 ID : 9102814821

Option 4 ID : 9102814824

Status : Answered

Chosen Option : 2

Q.8 "तुम्ही कॅलेंडरचा महिना बदलला नाही" वाक्यातील अधोरेखित शब्दाची जात शोधा.

- Ans
- 1. क्रियापद
 - 2. कर्म
 - 3. सर्वनाम
 - 4. कर्ता

Question Type : MCQ

Question ID : 9102811223

Option 1 ID : 9102814819

Option 2 ID : 9102814818

Option 3 ID : 9102814820

Option 4 ID : 9102814817

Status : Answered

Chosen Option : 4

Q.9 पुढीलपैकी स्त्रीलिंगी शब्द ओळखा.

- Ans
- 1. नर
 - 2. वर
 - 3. माळी
 - 4. वधू

Question Type : MCQ
Question ID : 9102811238
Option 1 ID : 9102814877
Option 2 ID : 9102814880
Option 3 ID : 9102814878
Option 4 ID : 9102814879
Status : Answered
Chosen Option : 4

Q.10 गोखलेंच्या घरातला रेडियो सकाळी सहा वाजल्यापासून चालू असतो. या वाक्यातील कर्ता शोधा.

- Ans
- 1. गोखले
 - 2. घरातला
 - 3. सकाळी
 - 4. रेडियो

Question Type : MCQ
Question ID : 9102811220
Option 1 ID : 9102814805
Option 2 ID : 9102814808
Option 3 ID : 9102814807
Option 4 ID : 9102814806
Status : Answered
Chosen Option : 4

Q.11 आधुनिक मराठी कवितेचे जनक हा मान कोणाला दिला जातो?

- Ans
- 1. केशवसुत
 - 2. शांता शेळके
 - 3. कुसुमाग्रज
 - 4. अनिल

Question Type : MCQ
Question ID : 9102811260
Option 1 ID : 9102814967
Option 2 ID : 9102814968
Option 3 ID : 9102814965
Option 4 ID : 9102814966
Status : Answered
Chosen Option : 3

Q.12 पुढीलपैकी पुल्लिंगी शब्द शोधा.

- Ans 1. मित्र
 2. दोरी
 3. कुत्री
 4. घोडी

Question Type : MCQ
Question ID : 9102811239
Option 1 ID : 9102814883
Option 2 ID : 9102814881
Option 3 ID : 9102814884
Option 4 ID : 9102814882
Status : Answered
Chosen Option : 1

Q.13 वचनाच्या वापरातील चुकीची जोडी ओळखा.

- Ans 1. खारीक-खारका
 2. पत्र-पत्रे
 3. केळे-केळी
 4. शाळा-शाळी

Question Type : MCQ
Question ID : 9102811243
Option 1 ID : 9102814899
Option 2 ID : 9102814897
Option 3 ID : 9102814900
Option 4 ID : 9102814898
Status : Answered
Chosen Option : 4

Q.14 वळणदार, मोहक अक्षर सूचित करण्यासाठी कोणता शब्द योग्य आहे?

- Ans 1. गुबगुबीत
 2. घोंगडे
 3. गुळगुळीत
 4. घोटीव

Question Type : MCQ
Question ID : 9102811248
Option 1 ID : 9102814919
Option 2 ID : 9102814920
Option 3 ID : 9102814918
Option 4 ID : 9102814917
Status : Answered
Chosen Option : 3

Q.15 'गांगरणे' या शब्दातून कोणता आशय सूचित होतो?

- Ans
- 1. समूळ नष्ट झालेला
 - 2. फसवून पळून जाणे
 - 3. पुन्हा रुळावर येणे
 - 4. गोंधळणे, सुचेनासे होणे

Question Type : MCQ

Question ID : 9102811246

Option 1 ID : 9102814911

Option 2 ID : 9102814912

Option 3 ID : 9102814910

Option 4 ID : 9102814909

Status : Answered

Chosen Option : 4

Q.16 पुढीलपैकी द्वंद्व समासाचे उदाहरण शोधा.

- Ans
- 1. गैरहजर
 - 2. रामलक्ष्मण
 - 3. त्रिभुवनात
 - 4. पंचवटीत

Question Type : MCQ

Question ID : 9102811233

Option 1 ID : 9102814860

Option 2 ID : 9102814859

Option 3 ID : 9102814857

Option 4 ID : 9102814858

Status : Answered

Chosen Option : 2

Q.17 "जीव खूप वेडा होऊन जायचा" (उद्गारार्थी विधान करा.)

- Ans
- 1. जीव वेडा व्हायचा का?
 - 2. जीव असाच वेडा व्हायचा
 - 3. जीव वेडा होऊ द्या
 - 4. किती वेडा होऊन जायचा जीव

Question Type : MCQ

Question ID : 9102811229

Option 1 ID : 9102814843

Option 2 ID : 9102814841

Option 3 ID : 9102814844

Option 4 ID : 9102814842

Status : Answered

Chosen Option : 2

Q.18 पुढीलपैकी अनेकवचनी शब्द ओळखा.

- Ans 1. लांडगा
 2. बाग
 3. कांजिण्या
 4. कुत्रा

Question Type : MCQ
Question ID : 9102811242
Option 1 ID : 9102814895
Option 2 ID : 9102814896
Option 3 ID : 9102814893
Option 4 ID : 9102814894
Status : Answered
Chosen Option : 3

Q.19 'सामुहिक' शब्दाचा विरुद्धार्थी शब्द निवडा.

- Ans 1. एकत्र
 2. सामासिक
 3. सामुदायिक
 4. वैयक्तिक

Question Type : MCQ
Question ID : 9102811252
Option 1 ID : 9102814935
Option 2 ID : 9102814933
Option 3 ID : 9102814934
Option 4 ID : 9102814936
Status : Answered
Chosen Option : 4

Q.20 "गणपत बागेतले तुणु उपटतो आणि रस्त्यात फेकून देतो." अधोरेखित शब्द काय आहे?

- Ans 1. सर्वनाम
 2. क्रियापद
 3. कर्ता
 4. कर्म

Question Type : MCQ
Question ID : 9102811221
Option 1 ID : 9102814812
Option 2 ID : 9102814811
Option 3 ID : 9102814809
Option 4 ID : 9102814810
Status : Answered
Chosen Option : 4

Q.21 'रघुनाथ, गणेश आणि साहेबराव यंदा पंढरपूरची वारी करणार आहेत.' वाक्यात किती कर्ता आहेत.

- Ans
- 1. चार
 - 2. एक
 - 3. दोन
 - 4. तीन

Question Type : MCQ
Question ID : 9102811219
Option 1 ID : 9102814804
Option 2 ID : 9102814801
Option 3 ID : 9102814802
Option 4 ID : 9102814803
Status : Answered
Chosen Option : 4

Q.22 पुढीलपैकी उद्गारार्थी विधान निवडा.

- Ans
- 1. ही मूर्ती खूप सुंदर आहे
 - 2. पांढरा रंग कोणाला आवडत नाही?
 - 3. काम नेहमीच मोठे असावे.
 - 4. काय मजा आली सहलीत

Question Type : MCQ
Question ID : 9102811230
Option 1 ID : 9102814847
Option 2 ID : 9102814846
Option 3 ID : 9102814848
Option 4 ID : 9102814845
Status : Answered
Chosen Option : 4

Q.23 "पुढील आठवड्यात शास्त्रज्ञांची पहिली तुकडी उत्तर धुवाकडे जाण्यास निघेल" वाक्याचा काळ ओळखा.

- Ans
- 1. साधा वर्तमानकाळ
 - 2. अपूर्ण भूतकाळ
 - 3. भूतकाळ
 - 4. भविष्यकाळ

Question Type : MCQ
Question ID : 9102811228
Option 1 ID : 9102814838
Option 2 ID : 9102814837
Option 3 ID : 9102814839
Option 4 ID : 9102814840
Status : Answered
Chosen Option : 4

Q.24 'घाऊक' शब्दाचा विरुद्धारार्थी शब्द कोणता?

- Ans 1. किरकोळ
 2. घसघशीत
 3. जमा
 4. खर्च

Question Type : MCQ
Question ID : 9102811249
Option 1 ID : 9102814921
Option 2 ID : 9102814922
Option 3 ID : 9102814923
Option 4 ID : 9102814924
Status : Answered
Chosen Option : 1

Q.25 'ययाती' कादंबरीचे लेखक कोण?

- Ans 1. वि. स. खांडेकर
 2. रणजित देसाई
 3. रा. रं. बोराडे
 4. आनंद यादव

Question Type : MCQ
Question ID : 9102811262
Option 1 ID : 9102814974
Option 2 ID : 9102814973
Option 3 ID : 9102814976
Option 4 ID : 9102814975
Status : Answered
Chosen Option : 1

Q.26 ज्या समासातील पहिले पद संख्याविशेषण असते व त्यावरून समुच्चयाला अर्थ दाखविला जातो त्यास काय म्हणतात?

- Ans 1. अव्ययीभाव समास
 2. द्विगु समास
 3. कर्मधारय समास
 4. द्वंद्व समास

Question Type : MCQ
Question ID : 9102811237
Option 1 ID : 9102814873
Option 2 ID : 9102814875
Option 3 ID : 9102814876
Option 4 ID : 9102814874
Status : Answered
Chosen Option : 2

Q.27 ज्या समासातील दोन्ही पदे अर्थदृष्ट्या समान दर्जाची असतात त्याला काय म्हणतात?

- Ans 1. तत्पुरुष समास
 2. द्वंद्वसमास
 3. बहुव्रीही समास
 4. द्विगुसमास

Question Type : MCQ

Question ID : 9102811235

Option 1 ID : 9102814867

Option 2 ID : 9102814865

Option 3 ID : 9102814868

Option 4 ID : 9102814866

Status : Answered

Chosen Option : 2

Q.28 पुढीलपैकी अव्ययीभाव समास असलेला पर्याय निवडा.

- Ans 1. कंबरपट्टा
 2. गैरशिस्त
 3. तोंडपाठ
 4. विटीदांडू

Question Type : MCQ

Question ID : 9102811234

Option 1 ID : 9102814862

Option 2 ID : 9102814863

Option 3 ID : 9102814861

Option 4 ID : 9102814864

Status : Answered

Chosen Option : 2

Q.29 कर्तरी प्रयोगात कर्ता नेहमी _____ असतो.

- Ans 1. द्वितीयांत
 2. तृतीयांत
 3. उभयांत
 4. प्रथमांत

Question Type : MCQ

Question ID : 9102811258

Option 1 ID : 9102814957

Option 2 ID : 9102814959

Option 3 ID : 9102814960

Option 4 ID : 9102814958

Status : Answered

Chosen Option : 4

Q.30 कृष्णाजी केशव दामले यांनी कोणत्या टोपणनावाने काव्यलेखन केले आहे?

- Ans
- 1. गोविंदाग्रज
 - 2. माधवसुत
 - 3. कुसुमानिल
 - 4. केशवसुत

Question Type : MCQ

Question ID : 9102811261

Option 1 ID : 9102814971

Option 2 ID : 9102814972

Option 3 ID : 9102814970

Option 4 ID : 9102814969

Status : Answered

Chosen Option : 4

Q.31 'जाऊ' शब्दाचे पुल्लिंगी रूप कोणते?

- Ans
- 1. दीर
 - 2. जावया
 - 3. जावा
 - 4. जावई

Question Type : MCQ

Question ID : 9102811240

Option 1 ID : 9102814887

Option 2 ID : 9102814885

Option 3 ID : 9102814888

Option 4 ID : 9102814886

Status : Answered

Chosen Option : 1

Q.32 आज्ञार्थी पर्याय निवडा.

- Ans
- 1. आज अंघोळ करू नकोस
 - 2. सुमीत नेहमीच पोचल्यावर फोन करतो
 - 3. साहेब, तुम्ही इथे बसाल का?
 - 4. जिन्यावरून बाळ खाली घसरले

Question Type : MCQ

Question ID : 9102811232

Option 1 ID : 9102814853

Option 2 ID : 9102814854

Option 3 ID : 9102814855

Option 4 ID : 9102814856

Status : Answered

Chosen Option : 1

Q.33 पुढील विधानाला आज्ञार्थी करा. "कितीदा सांगू? स्कूटर वापरणे आता बंद करू नको."

- Ans
- 1. बंद करशील का, स्कूटर वापरणे?
 - 2. कितीदा सांगूनही स्कूटर वापरणे बंद करीत नाही
 - 3. कितीदा सांगितलं, स्कूटर वापरणे आता बंद कर
 - 4. स्कूटर वापरणे बंद करशील का?

Question Type : MCQ

Question ID : 9102811231

Option 1 ID : 9102814852

Option 2 ID : 9102814850

Option 3 ID : 9102814849

Option 4 ID : 9102814851

Status : Answered

Chosen Option : 3

Q.34 विणलेले व झाकण असलेले, फळे ठेवण्यासाठी वापरले जाणारे साधन म्हणजे.

- Ans
- 1. करारी
 - 2. करंडा
 - 3. करंटा
 - 4. करपट

Question Type : MCQ

Question ID : 9102811245

Option 1 ID : 9102814908

Option 2 ID : 9102814906

Option 3 ID : 9102814905

Option 4 ID : 9102814907

Status : Answered

Chosen Option : 2

Q.35 जाळ्यात सापडणे, अडकणे यासाठी कोणता शब्द वापरता येईल?

- Ans
- 1. गृहीत
 - 2. गुलाम
 - 3. गुरुत्वाकर्षण
 - 4. गुरफटणे

Question Type : MCQ

Question ID : 9102811247

Option 1 ID : 9102814915

Option 2 ID : 9102814914

Option 3 ID : 9102814913

Option 4 ID : 9102814916

Status : Answered

Chosen Option : 2

Q.36 भविष्यकाळातील वाक्य असलेला पर्याय निवडा.

- Ans 1. गणिताच्या तासाला मागच्या बाकांवरच्या मुली अखंड बोलत असतात
 2. बंगलोरला एक कार भाड्यान घेऊन आम्ही पुढच्या प्रवासाला जाऊ
 3. या दुकानात गिन्हाइकांची तुंबळ गर्दी असते
 4. तो माझ्या मित्रांबरोबर सिनेमाला गेला

Question Type : MCQ
Question ID : 9102811227
Option 1 ID : 9102814835
Option 2 ID : 9102814833
Option 3 ID : 9102814836
Option 4 ID : 9102814834
Status : Answered
Chosen Option : 2

Q.37 पुढील वाक्यातील प्रयोग ओळखा. "सभेत पत्रके वाटली गेली."

- Ans 1. भावे
 2. कर्म-कर्तरी
 3. कर्मणी
 4. कर्तरी

Question Type : MCQ
Question ID : 9102811259
Option 1 ID : 9102814962
Option 2 ID : 9102814961
Option 3 ID : 9102814963
Option 4 ID : 9102814964
Status : Answered
Chosen Option : 2

Q.38 प्रमाण लेखनानुसार अचूक शब्द निवडा.

- Ans 1. मलीनिकरण
 2. महत्त्वपूर्ण
 3. मस्यालय
 4. महाशिवरात्र

Question Type : MCQ
Question ID : 9102811254
Option 1 ID : 9102814942
Option 2 ID : 9102814941
Option 3 ID : 9102814944
Option 4 ID : 9102814943
Status : Answered
Chosen Option : 2

Q.39 वाक्यातील कर्ता-कर्म-क्रियापद यांच्या परस्पर संबंधांना _____ म्हणतात.

- Ans
- 1. कारकार्थ
 - 2. विभक्ती
 - 3. प्रयोग
 - 4. उपपद

Question Type : MCQ

Question ID : 9102811257

Option 1 ID : 9102814956

Option 2 ID : 9102814954

Option 3 ID : 9102814955

Option 4 ID : 9102814953

Status : Answered

Chosen Option : 3

Q.40 "एका रात्री राक्षस गुपचुप झोपडीत शिरला आणि त्याने म्हातारीच्या मुलाला पळवले" वाक्य रचनेत कोणता काळ वापरला आहे?

- Ans
- 1. भविष्यकाळ
 - 2. भूतकाळ
 - 3. साधा वर्तमानकाळ
 - 4. वर्तमानकाळ

Question Type : MCQ

Question ID : 9102811225

Option 1 ID : 9102814828

Option 2 ID : 9102814827

Option 3 ID : 9102814825

Option 4 ID : 9102814826

Status : Answered

Chosen Option : 4

Q.41 'कृश' शब्दाचा विरुद्धार्थी शब्द शोधा.

- Ans
- 1. स्थूल
 - 2. किरकोळ
 - 3. बारीक
 - 4. काडीमोड

Question Type : MCQ

Question ID : 9102811250

Option 1 ID : 9102814925

Option 2 ID : 9102814927

Option 3 ID : 9102814926

Option 4 ID : 9102814928

Status : Answered

Chosen Option : 1

Q.42 पुढीलपैकी भावे प्रयोगाचे उदाहरण शोधा.

- Ans
- 1. हार्दिक गाणं गातो
 - 2. सभेत चहा देण्यात आला
 - 3. पालकांनी मुलांना सांभाळावे
 - 4. सर्वाना प्रसाद दिला जाईल

Question Type : MCQ
Question ID : 9102811256
Option 1 ID : 9102814950
Option 2 ID : 9102814951
Option 3 ID : 9102814952
Option 4 ID : 9102814949
Status : Answered
Chosen Option : 3

Q.43 पुढीलपैकी अचूक शब्द निवडा.

- Ans
- 1. दातखिळ
 - 2. दांडगाई
 - 3. दाभीकता
 - 4. दस्तुर

Question Type : MCQ
Question ID : 9102811255
Option 1 ID : 9102814945
Option 2 ID : 9102814946
Option 3 ID : 9102814948
Option 4 ID : 9102814947
Status : Answered
Chosen Option : 1

Q.44 'उचकी' या शब्दाचे लिंग ओळखा.

- Ans
- 1. नपुंसकलिंग
 - 2. स्त्रीलिंग
 - 3. उभयलिंग
 - 4. पुल्लिंग

Question Type : MCQ
Question ID : 9102811241
Option 1 ID : 9102814891
Option 2 ID : 9102814890
Option 3 ID : 9102814892
Option 4 ID : 9102814889
Status : Answered
Chosen Option : 2

Q.45 मराठी चित्रपट सृष्टीचे जनक कोणाला मानले जाते?

- Ans
- 1. राज कपूर
 - 2. व्ही शांताराम
 - 3. दादा साहेब फाळके
 - 4. सचिन पिळगावकर

Question Type : MCQ

Question ID : 9102811263

Option 1 ID : 9102814978

Option 2 ID : 9102814980

Option 3 ID : 9102814977

Option 4 ID : 9102814979

Status : Answered

Chosen Option : 3

Comprehension:

खालील उतारा काळजीपूर्वक वाचा आणि दिलेल्या प्रश्नांची उत्तरे द्या.

पाऊस पडेल असं आईला वाटत होतं आणि पाऊस पडणार नाही असं अण्णा ठामपणे सांगत होते. पावसाला सुरुवात व्हायची असली की त्याच्या दोनचार दिवस अगोदर दिसू लागतो. वाऱ्याची नेहमीची दिशा बदलते आणि दक्षिणवारा सुटतो आकाशात ढग जमतात. थोडाफार गडगडाट होतो. पण वारा ढगांना पांगवून टाकतो. असं दोनचार दिवस चालतं. हळूहळू वाऱ्याचा वेग मंदावत जातो. आकाशातले ढग मोठेमोठे आणि अधिकाधिक काळे होत जातात. पाऊस पडायला लागला की त्याची पहिली खबर पशुपक्ष्यांना लागते. चिमण्यांचा थवा जमिनीवर उतरतो आणि आपले पंख धुळीत माखले तरी आता चिमण्यांना त्याची पर्वा नसते. बेडूक डराव डराव करून पावसाला हाक देतात. रात्रीच्या वेळी पाऊस आला तर काजवे लखलखू लागतात आणि झाडाझुडपांवर लखलखाट करून सोडतात. अशी सगळी तयारी झाली की एकमेकांच विचार घेण्याकरता ढग जवळजवळ येतात आणि पाहता जमिनीवर छत्री धरतात आणि मग एखाद्या राजानी वाजतगाजत आणि रोषणाईच्या लखलखाटात यावं तसा ढगांच्या गडगडाटात आणि विजेच्या चमचमाटात वरुणराज जमिनीवर उतरतो. एकदा आला की गौरी गणपती जाईपर्यंत तळ ठोकून रहातो.

SubQuestion No : 46

Q.46 डराव डराव कोण करतो?

- Ans
- 1. बेडूक
 - 2. ढग
 - 3. छत्री
 - 4. वरुणराज

Question Type : MCQ

Question ID : 9102811265

Option 1 ID : 9102814982

Option 2 ID : 9102814981

Option 3 ID : 9102814984

Option 4 ID : 9102814983

Status : Answered

Chosen Option : 1

Comprehension:

खालील उतारा काळजीपूर्वक वाचा आणि दिलेल्या प्रश्नांची उत्तरे द्या.

पाऊस पडेल असं आईला वाटत होतं आणि पाऊस पडणार नाही असं अण्णा ठामपणे सांगत होते. पावसाला सुरुवात व्हायची असली की त्याच्या दोनचार दिवस अगोदर दिसू लागतो. वाऱ्याची नेहमीची दिशा बदलते आणि दक्षिणवारा सुटतो आकाशात ढग जमतात. थोडाफार गडगडाट होतो. पण वारा ढगांना पांगवून टाकतो. असं दोनचार दिवस चालतं. हळूहळू वाऱ्याचा वेग मंदावत जातो. आकाशातले ढग मोठेमोठे आणि अधिकाधिक काळे होत जातात. पाऊस पडायला लागला की त्याची पहिली खबर पशुपक्ष्यांना लागते. चिमण्यांचा थवा जमिनीवर उतरतो आणि आपले पंख धुळीत माखले तरी आता चिमण्यांना त्याची पर्वा नसते. बेडूक डराव डराव करून पावसाला हाक देतात. रात्रीच्या वेळी पाऊस आला तर काजवे लखलखू लागतात आणि झाडाझुडपांवर लखलखाट करून सोडतात. अशी सगळी तयारी झाली की एकमेकांच विचार घेण्याकरता ढग जवळजवळ येतात आणि पाहता जमिनीवर छत्री धरतात आणि मग एखाद्या राजानी वाजतगाजत आणि रोषणाईच्या लखलखाटात यावं तसा ढगांच्या गडगडाटात आणि विजेच्या चमचमाटात वरुणराज जमिनीवर उतरतो. एकदा आला की गौरी गणपती जाईपर्यंत तळ ठोकून रहातो.

SubQuestion No : 47

Q.47 "पावसाची चाहूल लागली की" घडणाऱ्या घटनांचा योग्य क्रम लावा.

- Ans**
- 1. ढगांचा गडगडाट होतो, वाऱ्याची दिशा बदलते, ढग अधिकाधिक काळे होतात.
 - 2. बेडूक डराव डराव करतात, ढगांचा गडगडाट होतो, चिमण्यांचा थवा जमिनीवर उतरतो.
 - 3. वाऱ्याची दिशा बदलते, वाऱ्याचा वेग मंदावतो, पशुपक्ष्यांना खबर लागते., ढग अधिकाधिक काळे होतात.
 - 4. दक्षिणवारा सुटतो, ढगांचा गडगडाट होतो, चिमण्यांचा थवा जमिनीवर उतरतो.

Question Type : **MCQ**

Question ID : **9102811268**

Option 1 ID : **9102814995**

Option 2 ID : **9102814996**

Option 3 ID : **9102814993**

Option 4 ID : **9102814994**

Status : **Answered**

Chosen Option : **3**

Comprehension:

खालील उतारा काळजीपूर्वक वाचा आणि दिलेल्या प्रश्नांची उत्तरे द्या.

पाऊस पडेल असं आईला वाटत होतं आणि पाऊस पडणार नाही असं अण्णा ठामपणे सांगत होते. पावसाला सुरुवात व्हायची असली की त्याच्या दोनचार दिवस अगोदर दिसू लागतो. वाऱ्याची नेहमीची दिशा बदलते आणि दक्षिणवारा सुटतो आकाशात ढग जमतात. थोडाफार गडगडाट होतो. पण वारा ढगांना पांगवून टाकतो. असं दोनचार दिवस चालतं. हळूहळू वाऱ्याचा वेग मंदावत जातो. आकाशातले ढग मोठेमोठे आणि अधिकाधिक काळे होत जातात. पाऊस पडायला लागला की त्याची पहिली खबर पशुपक्ष्यांना लागते. चिमण्यांचा थवा जमिनीवर उतरतो आणि आपले पंख धुळीत माखले तरी आता चिमण्यांना त्याची पर्वा नसते. बेडूक डराव डराव करून पावसाला हाक देतात. रात्रीच्या वेळी पाऊस आला तर काजवे लखलखू लागतात आणि झाडाझुडपांवर लखलखाट करून सोडतात. अशी सगळी तयारी झाली की एकमेकांच विचार घेण्याकरता ढग जवळजवळ येतात आणि पाहता जमिनीवर छत्री धरतात आणि मग एखाद्या राजानी वाजतगाजत आणि रोषणाईच्या लखलखाटात यावं तसा ढगांच्या गडगडाटात आणि विजेच्या चमचमाटात वरुणराज जमिनीवर उतरतो. एकदा आला की गौरी गणपती जाईपर्यंत तळ ठोकून रहातो.

SubQuestion No : 48

Q.48 ढग जवळ कशासाठी येतात?

- Ans**
- 1. जमिनीवर छत्री धरण्यासाठी
 - 2. एकमेकांचा विचार घेण्याकरता
 - 3. जमिनीवर उतरण्या करिता
 - 4. गडगडाट करण्या करिता

Question Type : **MCQ**

Question ID : **9102811266**

Option 1 ID : **9102814988**

Option 2 ID : **9102814985**

Option 3 ID : **9102814987**

Option 4 ID : **9102814986**

Status : **Answered**

Chosen Option : **2**

Comprehension:

खालील उतारा काळजीपूर्वक वाचा आणि दिलेल्या प्रश्नांची उत्तरे द्या.

पाऊस पडेल असं आईला वाटत होतं आणि पाऊस पडणार नाही असं अण्णा ठामपणे सांगत होते. पावसाला सुरुवात व्हायची असली की त्याच्या दोनचार दिवस अगोदर दिसू लागतो. वाऱ्याची नेहमीची दिशा बदलते आणि दक्षिणवारा सुटतो आकाशात ढग जमतात. थोडाफार गडगडाट होतो. पण वारा ढगांना पांगवून टाकतो. असं दोनचार दिवस चालतं. हळूहळू वाऱ्याचा वेग मंदावत जातो. आकाशातले ढग मोठेमोठे आणि अधिकाधिक काळे होत जातात. पाऊस पडायला लागला की त्याची पहिली खबर पशुपक्ष्यांना लागते. चिमण्यांचा थवा जमिनीवर उतरतो आणि आपले पंख धुळीत माखले तरी आता चिमण्यांना त्याची पर्वा नसते. बेडूक डराव डराव करून पावसाला हाक देतात. रात्रीच्या वेळी पाऊस आला तर काजवे लखलखू लागतात आणि झाडाझुडपांवर लखलखाट करून सोडतात. अशी सगळी तयारी झाली की एकमेकांच विचार घेण्याकरता ढग जवळजवळ येतात आणि पाहता जमिनीवर छत्री धरतात आणि मग एखाद्या राजानी वाजतगाजत आणि रोषणाईच्या लखलखाटात यावं तसा ढगांच्या गडगडाटात आणि विजेच्या चमचमाटात वरुणराज जमिनीवर उतरतो. एकदा आला की गौरी गणपती जाईपर्यंत तळ ठोकून रहातो.

SubQuestion No : 49

Q.49 'ठामपणे' शब्दाचा अर्थ काय आहे?

- Ans**
- 1. समजावून सांगणे
 - 2. खेकसणे
 - 3. निश्चितपणे
 - 4. ओरडून सांगणे

Question Type : **MCQ**

Question ID : **9102811267**

Option 1 ID : **9102814990**

Option 2 ID : **9102814991**

Option 3 ID : **9102814992**

Option 4 ID : **9102814989**

Status : **Answered**

Chosen Option : **3**

Comprehension:

खालील उतारा काळजीपूर्वक वाचा आणि दिलेल्या प्रश्नांची उत्तरे द्या.

पाऊस पडेल असं आईला वाटत होतं आणि पाऊस पडणार नाही असं अण्णा ठामपणे सांगत होते. पावसाला सुरुवात व्हायची असली की त्याच्या दोनचार दिवस अगोदर दिसू लागतो. वाऱ्याची नेहमीची दिशा बदलते आणि दक्षिणवारा सुटतो आकाशात ढग जमतात. थोडाफार गडगडाट होतो. पण वारा ढगांना पांगवून टाकतो. असं दोनचार दिवस चालतं. हळूहळू वाऱ्याचा वेग मंदावत जातो. आकाशातले ढग मोठेमोठे आणि अधिकाधिक काळे होत जातात. पाऊस पडायला लागला की त्याची पहिली खबर पशुपक्ष्यांना लागते. चिमण्यांचा थवा जमिनीवर उतरतो आणि आपले पंख धुळीत माखले तरी आता चिमण्यांना त्याची पर्वा नसते. बेडूक डराव डराव करून पावसाला हाक देतात. रात्रीच्या वेळी पाऊस आला तर काजवे लखलखू लागतात आणि झाडाझुडपांवर लखलखाट करून सोडतात. अशी सगळी तयारी झाली की एकमेकांच विचार घेण्याकरता ढग जवळजवळ येतात आणि पाहता जमिनीवर छत्री धरतात आणि मग एखाद्या राजानी वाजतगाजत आणि रोषणाईच्या लखलखाटात यावं तसा ढगांच्या गडगडाटात आणि विजेच्या चमचमाटात वरुणराज जमिनीवर उतरतो. एकदा आला की गौरी गणपती जाईपर्यंत तळ ठोकून रहातो.

SubQuestion No : 50

Q.50 काजव्यांचा लखलखाट कशामुळे होतो?

- Ans
- 1. दक्षिणवारा सुटल्यामुळे
 - 2. ढग दाटून आल्यामुळे
 - 3. रात्री पाऊस पडल्यामुळे
 - 4. बेडकांनी आवाज केल्यामुळे

Question Type : MCQ

Question ID : 9102811269

Option 1 ID : 9102815000

Option 2 ID : 9102814999

Option 3 ID : 9102814997

Option 4 ID : 9102814998

Status : Answered

Chosen Option : 3

Section : English Language

Q.1 Select the option which best expresses the given sentence in Indirect speech.

Shekhar said to Pushpanjali, "Have you left your job in this reputed bank?"

- Ans
- 1. Shekhar enquired of Pushpanjali had left your job in this reputed bank.
 - 2. Shekhar asked Pushpanjali if she had left her job in that reputed bank.
 - 3. Shekhar asked Pushpanjali that she has left her job in that reputed bank.
 - 4. Shekhar enquired of Pushpanjali if she has to leave her job in that reputed bank.

Question Type : MCQ

Question ID : 9102811273

Option 1 ID : 9102815015

Option 2 ID : 9102815016

Option 3 ID : 9102815013

Option 4 ID : 9102815014

Status : Answered

Chosen Option : 2

Q.2 Select the most appropriate option to substitute the underlined segment in the given sentence.

My sports teacher spoke kindness to me when I was troubled.

- Ans 1. kindly
 2. fastly
 3. kinder
 4. abrupt

Question Type : MCQ
Question ID : 9102811307
Option 1 ID : 9102815149
Option 2 ID : 9102815152
Option 3 ID : 9102815151
Option 4 ID : 9102815150
Status : Answered
Chosen Option : 4

Q.3 In the following question the sentence given with a blank is to be filled in with an appropriate preposition. Select the most appropriate option to fill it.

He is a very intelligent student _____ my opinion.

- Ans 1. for
 2. in
 3. of
 4. with

Question Type : MCQ
Question ID : 9102811298
Option 1 ID : 9102815113
Option 2 ID : 9102815116
Option 3 ID : 9102815114
Option 4 ID : 9102815115
Status : Answered
Chosen Option : 2

Q.4 In the following question, four words have been given out of which one word is incorrectly spelt. Select the incorrectly spelt word.

- Ans 1. Anarchist
 2. Arbetrator
 3. Arsonist
 4. Agnostic

Question Type : MCQ
Question ID : 9102811293
Option 1 ID : 9102815094
Option 2 ID : 9102815095
Option 3 ID : 9102815096
Option 4 ID : 9102815093
Status : Answered
Chosen Option : 3

Q.5 In the following question, four words have been given out of which one word is incorrectly spelt. Select the incorrectly spelt word.

- Ans 1. Illogical
 2. Illiterate
 3. Immediate
 4. Implement

Question Type : MCQ
Question ID : 9102811291
Option 1 ID : 9102815086
Option 2 ID : 9102815085
Option 3 ID : 9102815088
Option 4 ID : 9102815087
Status : Answered
Chosen Option : 2

Q.6 In the following question, some part of the sentence may have errors. Find out which part of the sentence has an error and select the appropriate option. If a sentence is free from error, select 'No Error'.

Shivangi have given me some flowers on my birthday.

- Ans 1. Shivangi have given
 2. on my birthday.
 3. No Error
 4. me some flowers

Question Type : MCQ
Question ID : 9102811295
Option 1 ID : 9102815103
Option 2 ID : 9102815101
Option 3 ID : 9102815104
Option 4 ID : 9102815102
Status : Answered
Chosen Option : 1

Q.7 In the following question, some part of the sentence may have errors. Find out which part of the sentence has an error and select the appropriate option. If a sentence is free from error, select 'No Error'.

Natasha visiting some renowned libraries in Australia last year.

- Ans 1. No Error
 2. renowned libraries in
 3. Natasha visiting some
 4. Australia last year.

Question Type : MCQ
Question ID : 9102811297
Option 1 ID : 9102815112
Option 2 ID : 9102815110
Option 3 ID : 9102815109
Option 4 ID : 9102815111
Status : Answered
Chosen Option : 1

Q.8 In the following question, out of the four alternatives, select the alternative which is the best substitute of the phrase.

A hospital for people with mental illnesses

- Ans
- 1. Arena
 - 2. Aquarium
 - 3. Arsenal
 - 4. Asylum

Question Type : MCQ
Question ID : 9102811286
Option 1 ID : 9102815065
Option 2 ID : 9102815066
Option 3 ID : 9102815068
Option 4 ID : 9102815067
Status : Answered
Chosen Option : 4

Q.9 In the following question, out of the four alternatives, select the alternative which is the best substitute of the phrase.

Someone who is quiet and easy to influence, persuade, or control

- Ans
- 1. docile
 - 2. delirious
 - 3. delinquent
 - 4. deviant

Question Type : MCQ
Question ID : 9102811288
Option 1 ID : 9102815076
Option 2 ID : 9102815075
Option 3 ID : 9102815073
Option 4 ID : 9102815074
Status : Answered
Chosen Option : 2

Q.10 In the following question, out of the given four alternatives, select the one which is opposite in meaning to the underlined word.

In the minds of many, the Falls were obsolete.

- Ans
- 1. Outdated
 - 2. Remote
 - 3. Rigid
 - 4. Recent

Question Type : MCQ
Question ID : 9102811281
Option 1 ID : 9102815045
Option 2 ID : 9102815046
Option 3 ID : 9102815048
Option 4 ID : 9102815047
Status : Answered
Chosen Option : 2

Q.11 Select the option which best expresses the given sentence in Active Voice.

Some beautiful flowers are being plucked by Radha for her mother's worship.

- Ans
- 1. Radha has been plucked some beautiful flowers for her mother's worship.
 - 2. Radha is about to pluck some beautiful flowers for her mother's worship.
 - 3. Radha is plucking some beautiful flowers for her mother's worship.
 - 4. Radha is going to pluck some beautiful flowers for her mother's worship.

Question Type : MCQ
Question ID : 9102811272
Option 1 ID : 9102815010
Option 2 ID : 9102815011
Option 3 ID : 9102815012
Option 4 ID : 9102815009
Status : Answered
Chosen Option : 3

Q.12 In the following questions, a sentence has been given with a blank to be filled with an appropriate article. Select the most appropriate answer to complete the sentence.

I am going to buy _____ new gaming laptop next month.

- Ans
- 1. an
 - 2. at
 - 3. no article
 - 4. a

Question Type : MCQ
Question ID : 9102811282
Option 1 ID : 9102815051
Option 2 ID : 9102815049
Option 3 ID : 9102815052
Option 4 ID : 9102815050
Status : Answered
Chosen Option : 4

Q.13 Select the option which best expresses the given sentence in Passive Voice.

My friend has purchased a lot of books for preparing his civil services exam.

- Ans
- 1. A lot of books have been purchased by my friend for preparing his civil services exam.
 - 2. A lot of books has purchased by my friend for preparing his civil services exam.
 - 3. A lot of books had been purchased by my friend for preparing his civil services exam.
 - 4. A lot of books were purchased by my friend for preparing his civil services exam.

Question Type : MCQ
Question ID : 9102811270
Option 1 ID : 9102815003
Option 2 ID : 9102815002
Option 3 ID : 9102815004
Option 4 ID : 9102815001
Status : Answered
Chosen Option : 3

Q.14 In the following questions, a sentence has been given with a blank to be filled with an appropriate article. Select the most appropriate answer to complete the sentence.

We must help _____ poor to live a better life.

- Ans 1. the
 2. a
 3. no article
 4. an

Question Type : MCQ
Question ID : 9102811285
Option 1 ID : 9102815062
Option 2 ID : 9102815063
Option 3 ID : 9102815064
Option 4 ID : 9102815061
Status : Answered
Chosen Option : 1

Q.15 The question below consists of a set of labelled sentences. These sentences, when properly sequenced form a coherent paragraph. Select the most logical order of sentences from among the options.

- P. There he noticed a kid darting out from between parked cars
Q. A young executive was riding his Jaguar down a neighborhood street
R. As he slowed down a brick smashed into his car's door

- Ans 1. PRQ
 2. QPR
 3. RQP
 4. RPQ

Question Type : MCQ
Question ID : 9102811304
Option 1 ID : 9102815138
Option 2 ID : 9102815139
Option 3 ID : 9102815137
Option 4 ID : 9102815140
Status : Answered
Chosen Option : 2

Q.16 The question below consists of a set of labelled sentences. Sentence 1 is fixed after which these sentences, when properly sequenced form a coherent paragraph. Select the most logical order of sentences from among the options.

1. In a big country, there was a rich man living along with his family
P. The man had a son and one day he took him on a trip to the country
Q. So the son could appreciate his good fortune
R. The dad's sole purpose was to show his son how poor people live

- Ans 1. RQP
 2. QRP
 3. QPR
 4. PRQ

Question Type : MCQ
Question ID : 9102811302
Option 1 ID : 9102815130
Option 2 ID : 9102815129
Option 3 ID : 9102815131
Option 4 ID : 9102815132
Status : Answered
Chosen Option : 4

Q.17 In the following questions, a sentence has been given with a blank to be filled with an appropriate article. Select the most appropriate answer to complete the sentence.

Can you help me pick out _____ birthday present for my mother?

- Ans 1. an
 2. a
 3. the
 4. no article

Question Type : MCQ
Question ID : 9102811283
Option 1 ID : 9102815054
Option 2 ID : 9102815055
Option 3 ID : 9102815053
Option 4 ID : 9102815056
Status : Answered
Chosen Option : 2

Q.18 In the following question the sentence given with a blank is to be filled in with an appropriate preposition. Select the most appropriate option to fill it.

One should always take care _____ one's health.

- Ans
- 1. for
 - 2. with
 - 3. of
 - 4. into

Question Type : MCQ
Question ID : 9102811299
Option 1 ID : 9102815117
Option 2 ID : 9102815119
Option 3 ID : 9102815118
Option 4 ID : 9102815120
Status : Answered
Chosen Option : 3

Q.19 In the following question, four words have been given out of which one word is incorrectly spelt. Select the incorrectly spelt word.

- Ans
- 1. Prophecy
 - 2. Prevantion
 - 3. Umbilical
 - 4. Control

Question Type : MCQ
Question ID : 9102811290
Option 1 ID : 9102815081
Option 2 ID : 9102815084
Option 3 ID : 9102815083
Option 4 ID : 9102815082
Status : Answered
Chosen Option : 3

Q.20 Four alternatives are given for the Idiom/Phrase underlined in the sentence. Choose the alternative which best expresses the meaning of the Idiom/Phrase.

My friend got the sack from his first job yesterday.

- Ans
- 1. Was dismissed from
 - 2. Got tired of
 - 3. Resigned
 - 4. Was demoted from

Question Type : MCQ
Question ID : 9102811276
Option 1 ID : 9102815027
Option 2 ID : 9102815026
Option 3 ID : 9102815025
Option 4 ID : 9102815028
Status : Answered
Chosen Option : 3

Q.21 In the following question, some part of the sentence may have errors. Find out which part of the sentence has an error and select the appropriate option. If a sentence is free from error, select 'No Error'.

My father will goes to Paris to attend a business meeting with his new clients.

- Ans
- 1. No Error
 - 2. to attend a business meeting
 - 3. My father will goes to Paris
 - 4. with his new clients.

Question Type : MCQ

Question ID : 9102811296

Option 1 ID : 9102815108

Option 2 ID : 9102815105

Option 3 ID : 9102815106

Option 4 ID : 9102815107

Status : Answered

Chosen Option : 3

Q.22 In the following question, out of the four alternatives, select the alternative which is the best substitute of the phrase.

One who believes that sensual pleasure is the chief good

- Ans
- 1. Insolvent
 - 2. Hedonist
 - 3. Libertine
 - 4. Introvert

Question Type : MCQ

Question ID : 9102811287

Option 1 ID : 9102815072

Option 2 ID : 9102815070

Option 3 ID : 9102815071

Option 4 ID : 9102815069

Status : Answered

Chosen Option : 3

Q.23 In the following question, out of the given four alternatives, select the alternative which best expresses the meaning of the proverb.

A bird in hand is worth two in the bush.

- Ans
- 1. Things we already have are more valuable than what we hope to get
 - 2. To allure someone by doing their personal works free of cost
 - 3. Make people happy around you so that you can get respect from them
 - 4. Do not do something bad to the person whom you love so much

Question Type : MCQ

Question ID : 9102811278

Option 1 ID : 9102815034

Option 2 ID : 9102815036

Option 3 ID : 9102815035

Option 4 ID : 9102815033

Status : Answered

Chosen Option : 2

Q.24 Select the most appropriate option to substitute the underlined segment in the given sentence.

Before you criticize someone, you should be walked a mile in their shoes.

- Ans
- 1. walks
 - 2. walked
 - 3. walk
 - 4. walking

Question Type : MCQ
Question ID : 9102811309
Option 1 ID : 9102815160
Option 2 ID : 9102815157
Option 3 ID : 9102815159
Option 4 ID : 9102815158
Status : Answered
Chosen Option : 4

Q.25 Select the option which best expresses the given sentence in Direct Speech.

The teacher told me that she could teach me quantum physics.

- Ans
- 1. The teacher said to me, "I can teach you quantum physics".
 - 2. The teacher asked me, "I can have taught you quantum physics".
 - 3. The teacher said to me, "She could teach me quantum physics".
 - 4. The teacher has said to me, "She can be teaching you quantum physics".

Question Type : MCQ
Question ID : 9102811275
Option 1 ID : 9102815022
Option 2 ID : 9102815023
Option 3 ID : 9102815021
Option 4 ID : 9102815024
Status : Answered
Chosen Option : 2

Q.26 Select the option which best expresses the given sentence in Direct Speech.

My mother told me that she had visited my aunt's home the previous night.

- Ans
- 1. My mother told me, "I have visited your aunt's home last night."
 - 2. My mother said to me, "I visited your aunt's home last night."
 - 3. My mother said to me, "She had visited your aunt's home last night."
 - 4. My mother asked me, "Did you visit your aunt's home last night."

Question Type : MCQ
Question ID : 9102811274
Option 1 ID : 9102815020
Option 2 ID : 9102815019
Option 3 ID : 9102815018
Option 4 ID : 9102815017
Status : Answered
Chosen Option : 3

Q.27 Select the most appropriate option to substitute the underlined segment in the given sentence.

I am so amazed at how caring and adamantly people are here.

- Ans
- 1. Generously
 - 2. Gradually
 - 3. Quickly
 - 4. Generous

Question Type : MCQ
Question ID : 9102811308
Option 1 ID : 9102815155
Option 2 ID : 9102815153
Option 3 ID : 9102815154
Option 4 ID : 9102815156
Status : Answered
Chosen Option : 2

Q.28 In the following question the sentence given with a blank is to be filled in with an appropriate preposition. Select the most appropriate option to fill it.

My father will stay with me _____next Monday.

- Ans
- 1. to
 - 2. at
 - 3. till
 - 4. off

Question Type : MCQ
Question ID : 9102811301
Option 1 ID : 9102815127
Option 2 ID : 9102815128
Option 3 ID : 9102815126
Option 4 ID : 9102815125
Status : Answered
Chosen Option : 3

Q.29 The question below consists of a set of labelled sentences. These sentences, when properly sequenced form a coherent paragraph. Select the most logical order of sentences from among the options.

- P. A biologist was involved in an experiment with a shark
- Q. As expected, the shark ate every single fish
- R. He placed a shark in a tank along with other small fishes

- Ans
- 1. RQP
 - 2. RPQ
 - 3. PRQ
 - 4. QPR

Question Type : MCQ
Question ID : 9102811305
Option 1 ID : 9102815141
Option 2 ID : 9102815143
Option 3 ID : 9102815144
Option 4 ID : 9102815142
Status : Answered
Chosen Option : 2

Q.30 In the following question the sentence given with a blank is to be filled in with an appropriate preposition. Select the most appropriate option to fill it.

Mahatma Gandhi was born _____ Gujarat.

- Ans
- 1. in
 - 2. at
 - 3. on
 - 4. off

Question Type : MCQ
Question ID : 9102811300
Option 1 ID : 9102815123
Option 2 ID : 9102815122
Option 3 ID : 9102815124
Option 4 ID : 9102815121
Status : Answered
Chosen Option : 2

Q.31 In the following question, out of the given four alternatives, select the alternative which best expresses the meaning of the proverb.

A drowning man will clutch at a straw.

- Ans
- 1. to organize a lot of parties during the nights during festive seasons
 - 2. to involve oneself in some entertaining activities and rejoice success
 - 3. to try every possible thing in a difficult situation even if it is not very helpful
 - 4. to help someone at full capacity when they need it badly

Question Type : MCQ
Question ID : 9102811277
Option 1 ID : 9102815030
Option 2 ID : 9102815032
Option 3 ID : 9102815031
Option 4 ID : 9102815029
Status : Answered
Chosen Option : 4

Q.32 In the following questions, a sentence has been given with a blank to be filled with an appropriate article. Select the most appropriate answer to complete the sentence.

_____ President of the India will be visiting Australia next week.

- Ans
- 1. no article
 - 2. A
 - 3. The
 - 4. An

Question Type : MCQ
Question ID : 9102811284
Option 1 ID : 9102815060
Option 2 ID : 9102815059
Option 3 ID : 9102815057
Option 4 ID : 9102815058
Status : Answered
Chosen Option : 3

Q.33 The question below consists of a set of labelled sentences. These sentences, when properly sequenced form a coherent paragraph. Select the most logical order of sentences from among the options.

- P. An envious man lived in an old house next to him
- Q. A wise and successful man bought a beautiful house
- R. He threw garbage under his gate and did other nasty things

- Ans
- 1. PQR
 - 2. RQP
 - 3. QPR
 - 4. RPQ

Question Type : MCQ
Question ID : 9102811306
Option 1 ID : 9102815146
Option 2 ID : 9102815145
Option 3 ID : 9102815147
Option 4 ID : 9102815148
Status : Answered
Chosen Option : 2

Q.34 In the following question, four words have been given out of which one word is incorrectly spelt. Select the incorrectly spelt word.

- Ans
- 1. Emigrant
 - 2. Enthuse
 - 3. Envelop
 - 4. Eratic

Question Type : MCQ
Question ID : 9102811292
Option 1 ID : 9102815090
Option 2 ID : 9102815092
Option 3 ID : 9102815089
Option 4 ID : 9102815091
Status : Answered
Chosen Option : 3

Q.35 In the following question, out of the given four alternatives, select the one which is similar in meaning to the given underlined word.

The glorious expedition had degenerated into a humiliating disaster.

- Ans
- 1. unusual
 - 2. gentle
 - 3. enormous
 - 4. splendid

Question Type : MCQ
Question ID : 9102811280
Option 1 ID : 9102815042
Option 2 ID : 9102815043
Option 3 ID : 9102815044
Option 4 ID : 9102815041
Status : Answered
Chosen Option : 2

Q.36 In the following question, some part of the sentence may have errors. Find out which part of the sentence has an error and select the appropriate option. If a sentence is free from error, select 'No Error'.

They was going to visit a historical place with their family.

- Ans
- 1. No Error
 - 2. with their family.
 - 3. They was going to
 - 4. visit a historical place

Question Type : MCQ

Question ID : 9102811294

Option 1 ID : 9102815100

Option 2 ID : 9102815099

Option 3 ID : 9102815097

Option 4 ID : 9102815098

Status : Answered

Chosen Option : 1

Q.37 In the following question, out of the given four alternatives, select the one which is similar in meaning to the given underlined word.

He is revered as a national hero.

- Ans
- 1. Respected
 - 2. Condemned
 - 3. Enjoyed
 - 4. Repeated

Question Type : MCQ

Question ID : 9102811279

Option 1 ID : 9102815039

Option 2 ID : 9102815040

Option 3 ID : 9102815038

Option 4 ID : 9102815037

Status : Answered

Chosen Option : 2

Q.38 The question below consists of a set of labelled sentences. Sentence 1 is fixed after which these sentences, when properly sequenced form a coherent paragraph. Select the most logical order of sentences from among the options.

1. Once upon a time, two men got admitted in the same hospital
P. One patient had window in the side wall
Q. While the other one had simple wall without any windows in it
R. They occupied the same hospital room

- Ans 1. PQR
 2. RPQ
 3. QRP
 4. PRQ

Question Type : MCQ
Question ID : 9102811303
Option 1 ID : 9102815133
Option 2 ID : 9102815134
Option 3 ID : 9102815135
Option 4 ID : 9102815136
Status : Answered
Chosen Option : 2

Q.39 In the following question, out of the four alternatives, select the alternative which is the best substitute of the phrase.

Liking to be with other people or living in groups

- Ans 1. Cannibal
 2. Apostate
 3. Gregarious
 4. Affable

Question Type : MCQ
Question ID : 9102811289
Option 1 ID : 9102815078
Option 2 ID : 9102815080
Option 3 ID : 9102815079
Option 4 ID : 9102815077
Status : Answered
Chosen Option : 1

Q.40 Select the option which best expresses the given sentence in Passive Voice.

The Army deployed two hundred soldiers to defend the line of control.

- Ans 1. Two hundred soldiers were deployed by the Army to defend the line of control.
 2. Two hundred soldiers had been deployed by the Army to defend the line of control.
 3. Two hundred soldiers have been deployed by the Army to defend the line of control.
 4. Two hundred soldiers were being deployed by the Army to defend the line of control.

Question Type : MCQ
Question ID : 9102811271
Option 1 ID : 9102815005
Option 2 ID : 9102815007
Option 3 ID : 9102815008
Option 4 ID : 9102815006
Status : Answered
Chosen Option : 2

Comprehension:

Read the following passage carefully and answer the given questions.

In his seven decades, Mehrajuddin has been a police commander, a fighter for the mujahideen, a district governor and a prosecutor, and even briefly worked in Europe. Until this year, he has never struggled to feed his family. Now they have just one meal a day, hard discs of stale bread soaked in water until they soften to mush. "All the family are starving," he says bluntly as he waits at a food distribution centre in Kabul for a handout of lentils, rice, flour and oil. "I even worry about dying, because if it happens tomorrow, how will my family pay for my funeral?" His government pension has stopped, and his son's position as a public servant has been abolished. His disabled wife and daughter are especially vulnerable. The food he is picking up should last them a couple of weeks but after that, he does not know what they will do. Millions of families share his worries. Hunger is stalking Afghanistan, caused by a devastating confluence of political and environmental crises. The UN estimates that only two percent of the population is getting enough to eat. It's a shame that this kind of world exist.

SubQuestion No : 41

Q.41 According to the given passage, Mehrajuddin has had many profiles. Which of the following profiles he hasn't had?

- Ans
- 1. A prosecutor
 - 2. A police commander
 - 3. A district governor
 - 4. A medical staffer

Question Type : **MCQ**

Question ID : **9102811313**

Option 1 ID : **9102815169**

Option 2 ID : **9102815171**

Option 3 ID : **9102815170**

Option 4 ID : **9102815172**

Status : **Answered**

Chosen Option : **4**

Comprehension:

Read the following passage carefully and answer the given questions.

In his seven decades, Mehrajuddin has been a police commander, a fighter for the mujahideen, a district governor and a prosecutor, and even briefly worked in Europe. Until this year, he has never struggled to feed his family. Now they have just one meal a day, hard discs of stale bread soaked in water until they soften to mush. "All the family are starving," he says bluntly as he waits at a food distribution centre in Kabul for a handout of lentils, rice, flour and oil. "I even worry about dying, because if it happens tomorrow, how will my family pay for my funeral?" His government pension has stopped, and his son's position as a public servant has been abolished. His disabled wife and daughter are especially vulnerable. The food he is picking up should last them a couple of weeks but after that, he does not know what they will do. Millions of families share his worries. Hunger is stalking Afghanistan, caused by a devastating confluence of political and environmental crises. The UN estimates that only two percent of the population is getting enough to eat. It's a shame that this kind of world exist.

SubQuestion No : 42

Q.42 Given the context of the passage, what does the author want to imply by saying "It's a shame that this kind of world exist"?

- Ans**
- 1. The author is not willing to take bold steps towards poverty
 - 2. The author feels ashamed where only two percent of the population is getting enough to eat
 - 3. The author talks about a girl who thinks about dying everyday
 - 4. The author feels that we should at least protect the pensions of government employees

Question Type : **MCQ**

Question ID : **9102811311**

Option 1 ID : **9102815164**

Option 2 ID : **9102815162**

Option 3 ID : **9102815163**

Option 4 ID : **9102815161**

Status : **Answered**

Chosen Option : **2**

Comprehension:

Read the following passage carefully and answer the given questions.

In his seven decades, Mehrajuddin has been a police commander, a fighter for the mujahideen, a district governor and a prosecutor, and even briefly worked in Europe. Until this year, he has never struggled to feed his family. Now they have just one meal a day, hard discs of stale bread soaked in water until they soften to mush. "All the family are starving," he says bluntly as he waits at a food distribution centre in Kabul for a handout of lentils, rice, flour and oil. "I even worry about dying, because if it happens tomorrow, how will my family pay for my funeral?" His government pension has stopped, and his son's position as a public servant has been abolished. His disabled wife and daughter are especially vulnerable. The food he is picking up should last them a couple of weeks but after that, he does not know what they will do. Millions of families share his worries. Hunger is stalking Afghanistan, caused by a devastating confluence of political and environmental crises. The UN estimates that only two percent of the population is getting enough to eat. It's a shame that this kind of world exist.

SubQuestion No : 43

Q.43 Based on the passage, which of the following is TRUE?

- Ans
- 1. Mehrajuddin son's position as a public servant was retained.
 - 2. Mehrajuddin disabled wife and daughter were being taken care of by the state.
 - 3. Mehrajuddin government pension had stopped.
 - 4. Mehrajuddin had retired as the Chief of the Army.

Question Type : **MCQ**

Question ID : **9102811312**

Option 1 ID : **9102815166**

Option 2 ID : **9102815167**

Option 3 ID : **9102815168**

Option 4 ID : **9102815165**

Status : **Answered**

Chosen Option : **3**

Comprehension:

Read the following passage carefully and answer the given questions.

In his seven decades, Mehrajuddin has been a police commander, a fighter for the mujahideen, a district governor and a prosecutor, and even briefly worked in Europe. Until this year, he has never struggled to feed his family. Now they have just one meal a day, hard discs of stale bread soaked in water until they soften to mush. "All the family are starving," he says bluntly as he waits at a food distribution centre in Kabul for a handout of lentils, rice, flour and oil. "I even worry about dying, because if it happens tomorrow, how will my family pay for my funeral?" His government pension has stopped, and his son's position as a public servant has been abolished. His disabled wife and daughter are especially vulnerable. The food he is picking up should last them a couple of weeks but after that, he does not know what they will do. Millions of families share his worries. Hunger is stalking Afghanistan, caused by a devastating confluence of political and environmental crises. The UN estimates that only two percent of the population is getting enough to eat. It's a shame that this kind of world exist.

SubQuestion No : 44

Q.44 Which of the following words is opposite in meaning to the word 'Abolish'?

- Ans  1. Overthrow
 2. Approve
 3. Dissolve
 4. Overturn

Question Type : **MCQ**

Question ID : **9102811314**

Option 1 ID : **9102815174**

Option 2 ID : **9102815173**

Option 3 ID : **9102815176**

Option 4 ID : **9102815175**

Status : **Answered**

Chosen Option : **3**

Comprehension:

Read the following passage carefully and answer the given questions.

In his seven decades, Mehrajuddin has been a police commander, a fighter for the mujahideen, a district governor and a prosecutor, and even briefly worked in Europe. Until this year, he has never struggled to feed his family. Now they have just one meal a day, hard discs of stale bread soaked in water until they soften to mush. "All the family are starving," he says bluntly as he waits at a food distribution centre in Kabul for a handout of lentils, rice, flour and oil. "I even worry about dying, because if it happens tomorrow, how will my family pay for my funeral?" His government pension has stopped, and his son's position as a public servant has been abolished. His disabled wife and daughter are especially vulnerable. The food he is picking up should last them a couple of weeks but after that, he does not know what they will do. Millions of families share his worries. Hunger is stalking Afghanistan, caused by a devastating confluence of political and environmental crises. The UN estimates that only two percent of the population is getting enough to eat. It's a shame that this kind of world exist.

SubQuestion No : 45

Q.45 Which of the following words is nearest in meaning to the word 'Confluence'?

- Ans
- 1. Division
 - 2. Imaginary
 - 3. Ignorance
 - 4. Assemblage

Question Type : **MCQ**

Question ID : **9102811315**

Option 1 ID : **9102815177**

Option 2 ID : **9102815178**

Option 3 ID : **9102815180**

Option 4 ID : **9102815179**

Status : **Answered**

Chosen Option : **1**

Comprehension:

Read the following passage carefully and answer the given questions.

Once upon a time, there was a poor orphan boy called Dick Whittington. The people in his village believed that the streets of London were paved with gold. So Dick decided to travel there and become a rich man. Dick walked for many days, but when he arrived in London there were no streets of gold! Tired and hungry, he fell asleep on the steps of a great house. The house belonged to a rich businessman who found Dick and gave him a job cleaning the kitchen.

Dick worked very hard and was happy. He had enough to eat and at night he could sleep by the fire. There was a problem though! At night, rats ran around the kitchen and kept him awake. So Dick went out and found the fastest rat-catching cat in London! The cat caught all the rats that came into the house and Dick could sleep at night.

The businessman heard about the amazing cat and asked Dick if he could take it on his ship to catch rats on his next journey. Dick agreed, but was very sad to see the cat go.

Soon the businessman returned. He was very happy because Dick's cat had caught all the rats on the ship. He gave Dick a reward and promoted him to his assistant. Dick worked hard for the businessman and learned everything he could. Eventually he married the businessman's daughter and started a very successful business of his own. And, yes, he did become Mayor of London!

SubQuestion No : 46

Q.46 Why did Dick Whittington decide to travel to London?

- Ans
- 1. Because he wanted to sell his gold on the streets of London.
 - 2. Because he wanted to reside in London.
 - 3. Because he wanted to become a rich man.
 - 4. Because he wanted to see the streets paved with gold.

Question Type : **MCQ**

Question ID : **9102811317**

Option 1 ID : **9102815184**

Option 2 ID : **9102815181**

Option 3 ID : **9102815182**

Option 4 ID : **9102815183**

Status : **Answered**

Chosen Option : **2**

Comprehension:

Read the following passage carefully and answer the given questions.

Once upon a time, there was a poor orphan boy called Dick Whittington. The people in his village believed that the streets of London were paved with gold. So Dick decided to travel there and become a rich man. Dick walked for many days, but when he arrived in London there were no streets of gold! Tired and hungry, he fell asleep on the steps of a great house. The house belonged to a rich businessman who found Dick and gave him a job cleaning the kitchen.

Dick worked very hard and was happy. He had enough to eat and at night he could sleep by the fire. There was a problem though! At night, rats ran around the kitchen and kept him awake. So Dick went out and found the fastest rat-catching cat in London! The cat caught all the rats that came into the house and Dick could sleep at night.

The businessman heard about the amazing cat and asked Dick if he could take it on his ship to catch rats on his next journey. Dick agreed, but was very sad to see the cat go.

Soon the businessman returned. He was very happy because Dick's cat had caught all the rats on the ship. He gave Dick a reward and promoted him to his assistant. Dick worked hard for the businessman and learned everything he could. Eventually he married the businessman's daughter and started a very successful business of his own. And, yes, he did become Mayor of London!

SubQuestion No : 47

Q.47 How was Dick Whittington rewarded?

- Ans
- 1. He was given a lot of money by the people of London.
 - 2. He was promoted by the businessman to be his assistant
 - 3. He was made the mayor of London by the businessman.
 - 4. He was given a lot of gold by his village people.

Question Type : **MCQ**

Question ID : **9102811318**

Option 1 ID : **9102815185**

Option 2 ID : **9102815188**

Option 3 ID : **9102815186**

Option 4 ID : **9102815187**

Status : **Answered**

Chosen Option : **3**

Comprehension:

Read the following passage carefully and answer the given questions.

Once upon a time, there was a poor orphan boy called Dick Whittington. The people in his village believed that the streets of London were paved with gold. So Dick decided to travel there and become a rich man. Dick walked for many days, but when he arrived in London there were no streets of gold! Tired and hungry, he fell asleep on the steps of a great house. The house belonged to a rich businessman who found Dick and gave him a job cleaning the kitchen.

Dick worked very hard and was happy. He had enough to eat and at night he could sleep by the fire. There was a problem though! At night, rats ran around the kitchen and kept him awake. So Dick went out and found the fastest rat-catching cat in London! The cat caught all the rats that came into the house and Dick could sleep at night.

The businessman heard about the amazing cat and asked Dick if he could take it on his ship to catch rats on his next journey. Dick agreed, but was very sad to see the cat go.

Soon the businessman returned. He was very happy because Dick's cat had caught all the rats on the ship. He gave Dick a reward and promoted him to his assistant. Dick worked hard for the businessman and learned everything he could. Eventually he married the businessman's daughter and started a very successful business of his own. And, yes, he did become Mayor of London!

SubQuestion No : 48

Q.48 According to the given passage, what compelled Dick Whittington to buy the cat?

- Ans
- 1. The business man forced him to buy a cat.
 - 2. He was lonely and was seeking company.
 - 3. He wanted to adopt a cat.
 - 4. The rats kept him awake at night.

Question Type : **MCQ**

Question ID : **9102811319**

Option 1 ID : **9102815190**

Option 2 ID : **9102815192**

Option 3 ID : **9102815189**

Option 4 ID : **9102815191**

Status : **Answered**

Chosen Option : **2**

Comprehension:

Read the following passage carefully and answer the given questions.

Once upon a time, there was a poor orphan boy called Dick Whittington. The people in his village believed that the streets of London were paved with gold. So Dick decided to travel there and become a rich man. Dick walked for many days, but when he arrived in London there were no streets of gold! Tired and hungry, he fell asleep on the steps of a great house. The house belonged to a rich businessman who found Dick and gave him a job cleaning the kitchen.

Dick worked very hard and was happy. He had enough to eat and at night he could sleep by the fire. There was a problem though! At night, rats ran around the kitchen and kept him awake. So Dick went out and found the fastest rat-catching cat in London! The cat caught all the rats that came into the house and Dick could sleep at night.

The businessman heard about the amazing cat and asked Dick if he could take it on his ship to catch rats on his next journey. Dick agreed, but was very sad to see the cat go.

Soon the businessman returned. He was very happy because Dick's cat had caught all the rats on the ship. He gave Dick a reward and promoted him to his assistant. Dick worked hard for the businessman and learned everything he could. Eventually he married the businessman's daughter and started a very successful business of his own. And, yes, he did become Mayor of London!

SubQuestion No : 49

Q.49 Which of the following best expresses the opposite meaning to the given word 'Paved'?

- Ans 1. Cemented
 2. Stripped
 3. Covered
 4. Cobbled

Question Type : **MCQ**

Question ID : **9102811320**

Option 1 ID : **9102815195**

Option 2 ID : **9102815194**

Option 3 ID : **9102815196**

Option 4 ID : **9102815193**

Status : **Answered**

Chosen Option : **3**

Comprehension:

Read the following passage carefully and answer the given questions.

Once upon a time, there was a poor orphan boy called Dick Whittington. The people in his village believed that the streets of London were paved with gold. So Dick decided to travel there and become a rich man. Dick walked for many days, but when he arrived in London there were no streets of gold! Tired and hungry, he fell asleep on the steps of a great house. The house belonged to a rich businessman who found Dick and gave him a job cleaning the kitchen.

Dick worked very hard and was happy. He had enough to eat and at night he could sleep by the fire. There was a problem though! At night, rats ran around the kitchen and kept him awake. So Dick went out and found the fastest rat-catching cat in London! The cat caught all the rats that came into the house and Dick could sleep at night.

The businessman heard about the amazing cat and asked Dick if he could take it on his ship to catch rats on his next journey. Dick agreed, but was very sad to see the cat go.

Soon the businessman returned. He was very happy because Dick's cat had caught all the rats on the ship. He gave Dick a reward and promoted him to his assistant. Dick worked hard for the businessman and learned everything he could. Eventually he married the businessman's daughter and started a very successful business of his own. And, yes, he did become Mayor of London!

SubQuestion No : 50

Q.50 According to the passage, which of the following statements is incorrect?

- Ans 1. Dick Whittington agreed to the businessman's request, but was very sad to see the cat go.
2. When Dick arrived in London, there were no streets of gold!
3. The cat caught all the rats that came into the house, and Dick could sleep at night.
4. Dick worked hard for the businessman, but he could not learn everything he could.

Question Type : **MCQ**

Question ID : **9102811321**

Option 1 ID : **9102815199**

Option 2 ID : **9102815198**

Option 3 ID : **9102815197**

Option 4 ID : **9102815200**

Status : **Answered**

Chosen Option : **3**

Section : **General Knowledge**

Q.1 हाजी अली दर्गा (Haji Ali Dargah) _____ येथे आहे.

- Ans 1. नाशिक
2. पुणे
3. रत्नागिरी
4. मुंबई

Question Type : **MCQ**

Question ID : **9102811347**

Option 1 ID : **9102815302**

Option 2 ID : **9102815301**

Option 3 ID : **9102815304**

Option 4 ID : **9102815303**

Status : **Answered**

Chosen Option : **4**

Q.2 'मुघल साम्राज्याचा संस्थापक बाबर' याचा मृत्यू केव्हा झाला?

Ans 1. 1530

2. 1531

3. 1528

4. 1529

Question Type : MCQ

Question ID : 9102811342

Option 1 ID : 9102815283

Option 2 ID : 9102815284

Option 3 ID : 9102815281

Option 4 ID : 9102815282

Status : Answered

Chosen Option : 2

Q.3 खालीलपैकी कोणती पूर्वाचलची एक पर्वतरांग नाही?

Ans 1. मिश्मी (Mishmi)

2. नागा (Naga)

3. पटकाई बुम (Patkai Bum)

4. झस्कर (Zaskar)

Question Type : MCQ

Question ID : 9102811331

Option 1 ID : 9102815237

Option 2 ID : 9102815239

Option 3 ID : 9102815238

Option 4 ID : 9102815240

Status : Answered

Chosen Option : 2

Q.4 भारताच्या 2011 च्या जनगणनेनुसार, 2011 मधील महाराष्ट्रातील बालक लिंग गुणोत्तर _____ मुली/1000 मुले आहे.

Ans 1. 913

2. 927

3. 894

4. 854

Question Type : MCQ

Question ID : 9102811361

Option 1 ID : 9102815358

Option 2 ID : 9102815359

Option 3 ID : 9102815357

Option 4 ID : 9102815360

Status : Answered

Chosen Option : 2

Q.5 मेजर ध्यान चंद खेलरत्न पुरस्काराची रोख-पुरस्कार रक्कम किती आहे?

- Ans 1. ₹. 15,00,000
 2. ₹. 25,00,000
 3. ₹. 20,00,000
 4. ₹. 10,00,000

Question Type : MCQ

Question ID : 9102811341

Option 1 ID : 9102815278

Option 2 ID : 9102815280

Option 3 ID : 9102815279

Option 4 ID : 9102815277

Status : Answered

Chosen Option : 1

Q.6 महाराष्ट्राच्या 2020-21 च्या आर्थिक पाहणीनुसार, महाराष्ट्राच्या ग्रामीण भागातील किती टक्के लोकसंख्या दारिद्र्यरेषेखाली आहे?

- Ans 1. 24.2
 2. 18.6
 3. 20.2
 4. 28.3

Question Type : MCQ

Question ID : 9102811356

Option 1 ID : 9102815339

Option 2 ID : 9102815337

Option 3 ID : 9102815338

Option 4 ID : 9102815340

Status : Answered

Chosen Option : 4

Q.7 महाराष्ट्रात किती जिल्हे आहेत?

- Ans 1. 38
 2. 36
 3. 34
 4. 32

Question Type : MCQ

Question ID : 9102811369

Option 1 ID : 9102815392

Option 2 ID : 9102815390

Option 3 ID : 9102815391

Option 4 ID : 9102815389

Status : Answered

Chosen Option : 2

Q.8 भारताच्या 2011 च्या जनगणनेनुसार, भारतातील एकूण झोपडपट्टीतील लोकसंख्येच्या सुमारे _____ टक्के झोपडपट्टीतील लोकसंख्या महाराष्ट्रात आहे.

- Ans 1. 29.4
 2. 22.2
 3. 26.3
 4. 18.1

Question Type : MCQ
Question ID : 9102811362
Option 1 ID : 9102815364
Option 2 ID : 9102815362
Option 3 ID : 9102815363
Option 4 ID : 9102815361
Status : Answered
Chosen Option : 1

Q.9 खालीलपैकी कोणती संशोधन संस्था महाराष्ट्रात आहे?

- I. राष्ट्रीय दुग्ध संशोधन संस्था (National Dairy Research Institute)
II. वन संशोधन संस्था (Forest Research Institute)

- Ans 1. केवळ I
 2. I किंवा II यापैकी कोणतेही नाही
 3. केवळ II
 4. I आणि II दोन्ही

Question Type : MCQ
Question ID : 9102811354
Option 1 ID : 9102815329
Option 2 ID : 9102815332
Option 3 ID : 9102815330
Option 4 ID : 9102815331
Status : Answered
Chosen Option : 3

Q.10 कोणत्या वर्षी सचिन रमेश तेंडुलकरला भारतरत्न पुरस्काराने गौरवण्यात आले?

- Ans 1. 2013
 2. 2014
 3. 2012
 4. 2015

Question Type : MCQ
Question ID : 9102811349
Option 1 ID : 9102815310
Option 2 ID : 9102815311
Option 3 ID : 9102815309
Option 4 ID : 9102815312
Status : Answered
Chosen Option : 4

Q.11 भारतीय संसदीय प्रणालीत संसदेने कार्यकारणीवर (executive) नियंत्रण ठेवण्याचा कोणता एक मार्ग आहे?

I. प्रश्नोत्तराचा तास (Question hour)

II. अविश्वास ठराव (No-confidence motion)

- Ans
- 1. केवळ I
 - 2. I आणि II दोन्ही
 - 3. केवळ II
 - 4. I किंवा II यापैकी कोणतेही नाही

Question Type : MCQ

Question ID : 9102811368

Option 1 ID : 9102815385

Option 2 ID : 9102815387

Option 3 ID : 9102815386

Option 4 ID : 9102815388

Status : Answered

Chosen Option : 1

Q.12 बिरसा मुंडा कृषी क्रांती योजनेतर्गत _____ हेक्टरपर्यंत जमीन धारण करणाऱ्या आणि 1.50 लाख रुपयांपर्यंत वार्षिक उत्पन्न असलेल्या एसटी शेतकऱ्यांना 100 टक्के अनुदानाच्या स्वरूपात आर्थिक सहाय्य दिले जाते.

- Ans
- 1. 5
 - 2. 6
 - 3. 3
 - 4. 4

Question Type : MCQ

Question ID : 9102811365

Option 1 ID : 9102815376

Option 2 ID : 9102815375

Option 3 ID : 9102815373

Option 4 ID : 9102815374

Status : Answered

Chosen Option : 3

Q.13 खालीलपैकी कोणता राजकीय पक्ष राष्ट्रीय पक्ष नाही?

- Ans
- 1. राष्ट्रवादी काँग्रेस पक्ष
 - 2. भारतीय राष्ट्रीय काँग्रेस
 - 3. तृणमूल काँग्रेस
 - 4. आम आदमी पार्टी

Question Type : MCQ

Question ID : 9102811366

Option 1 ID : 9102815378

Option 2 ID : 9102815377

Option 3 ID : 9102815379

Option 4 ID : 9102815380

Status : Answered

Chosen Option : 4

Q.14 _____ मध्ये, हॅन (Hahn) आणि मिटनर यांनी युरेनियमच्या न्यूट्रॉन-प्रेरित विखंडनाची घटना शोधून काढली, जी अणुऊर्जा अणुभट्ट्या आणि अण्वस्त्रांसाठी आधार म्हणून काम करेल.

- Ans 1. 1901
 2. 1938
 3. 1899
 4. 1838

Question Type : MCQ
Question ID : 9102811338
Option 1 ID : 9102815268
Option 2 ID : 9102815266
Option 3 ID : 9102815267
Option 4 ID : 9102815265
Status : Answered
Chosen Option : 2

Q.15 केंद्रीय अर्थसंकल्प 2021 नुसार, "एक राष्ट्र एक रेशन कार्ड" ही योजना किती राज्ये आणि केंद्रशासित प्रदेशां (UT) मध्ये कार्यान्वित केली जाईल?

- Ans 1. 24
 2. 34
 3. 28
 4. 32

Question Type : MCQ
Question ID : 9102811328
Option 1 ID : 9102815225
Option 2 ID : 9102815228
Option 3 ID : 9102815226
Option 4 ID : 9102815227
Status : Answered
Chosen Option : 1

Q.16 खालीलपैकी कोणता शास्त्रीय नृत्य प्रकार संत आणि सुधारक महापुरुष शंकरदेव यांनी प्रस्तुत केला आहे?

- Ans 1. कथक
 2. भरतनाट्यम
 3. ओडिशी
 4. सत्तरीय

Question Type : MCQ
Question ID : 9102811325
Option 1 ID : 9102815215
Option 2 ID : 9102815213
Option 3 ID : 9102815216
Option 4 ID : 9102815214
Status : Answered
Chosen Option : 2

Q.17 राजीव गांधी प्राणी उद्यान (Rajiv Gandhi Zoological Park) महाराष्ट्रातील _____ जिल्ह्यात आहे.

- Ans
- 1. औरंगाबाद
 - 2. नाशिक
 - 3. पुणे
 - 4. हिंगोली

Question Type : MCQ
Question ID : 9102811357
Option 1 ID : 9102815342
Option 2 ID : 9102815343
Option 3 ID : 9102815341
Option 4 ID : 9102815344
Status : Answered
Chosen Option : 3

Q.18 महाराष्ट्रात 2018-19 पासून 'समग्र शिक्षा' (Samagra Shiksha) योजनेची अंमलबजावणी सुरू झाली आहे . खालीलपैकी कोणते/कोणती प्रमुख उद्दिष्ट/उद्दिष्टे आहे/आहेत?

- I. शालेय शिक्षणाच्या तरतुदींमध्ये (standards) किमान मानकांची खात्री करणे.
- II. शिक्षणाच्या व्यावसायिकीकरणाला प्रोत्साहन देणे

- Ans
- 1. केवळ II
 - 2. केवळ I
 - 3. I किंवा II यापैकी कोणतेही नाही
 - 4. I आणि II दोन्ही

Question Type : MCQ
Question ID : 9102811355
Option 1 ID : 9102815334
Option 2 ID : 9102815333
Option 3 ID : 9102815336
Option 4 ID : 9102815335
Status : Answered
Chosen Option : 4

Q.19 कायदराची लढाई (1178) (जी अनहिलवाड (Anhilwara) च्या ईशान्येला लढली गेली) मध्ये खालीलपैकी कोणाचा पराभव झाला होता?

- Ans
- 1. महमूद गझनी (Mahmud Ghazni)
 - 2. महंमद घोरी (Muhammad Ghori)
 - 3. राजा भीमदेव द्वितीय (Raja Bhimdeva II)
 - 4. घिमा प्रथम (Ghima I)

Question Type : MCQ
Question ID : 9102811324
Option 1 ID : 9102815211
Option 2 ID : 9102815210
Option 3 ID : 9102815209
Option 4 ID : 9102815212
Status : Answered
Chosen Option : 1

Q.20 ____ च्या सदस्यांना सामान्यतः लाल शेवाळ म्हणतात, कारण त्यांच्या शरीरात लाल रंगद्रव्य, आर-फाइकोएरिथ्रिन (r-phycoerythrin)चे प्राबल्य असते.

- Ans 1. ब्रायोफाइट (Bryophyte)
 2. लाल शेवाल वर्ग (Rhodophyceae)
 3. पिंगल शेवाल वर्ग (Phaeophyceae)
 4. हरित शेवाल वर्ग (Chlorophyceae)

Question Type : MCQ
Question ID : 9102811337
Option 1 ID : 9102815264
Option 2 ID : 9102815261
Option 3 ID : 9102815263
Option 4 ID : 9102815262
Status : Answered
Chosen Option : 1

Q.21 कोणत्या क्षेत्रासाठी श्री. परशुराम आत्माराम गंगावणे यांना 2021 च्या पद्मश्री पुरस्काराने गौरवण्यात आले?

- Ans 1. क्रीडा
 2. पारंपरिक लोककला
 3. सामाजिक कार्य
 4. साहित्य आणि शिक्षण

Question Type : MCQ
Question ID : 9102811351
Option 1 ID : 9102815319
Option 2 ID : 9102815318
Option 3 ID : 9102815317
Option 4 ID : 9102815320
Status : Answered
Chosen Option : 3

Q.22 नोव्हेंबर 2019 मध्ये श्री. उद्धव ठाकरे महाराष्ट्राचे ____ मुख्यमंत्री झाले.

- Ans 1. 27
 2. 29
 3. 28
 4. 26

Question Type : MCQ
Question ID : 9102811352
Option 1 ID : 9102815322
Option 2 ID : 9102815324
Option 3 ID : 9102815323
Option 4 ID : 9102815321
Status : Answered
Chosen Option : 2

Q.23 खालीलपैकी कोणी 'मूकनायक' (Muknayak) हे वर्तमानपत्र सुरू केले?

- Ans 1. नारायण गुरू
 2. डॉ. बाबासाहेब आंबेडकर
 3. बाळ गंगाधर टिळक
 4. महात्मा ज्योतिराव फुले

Question Type : MCQ
Question ID : 9102811346
Option 1 ID : 9102815299
Option 2 ID : 9102815297
Option 3 ID : 9102815298
Option 4 ID : 9102815300
Status : Answered
Chosen Option : 2

Q.24 भारतामध्ये, जर एखाद्या गावाची लोकसंख्या _____ पेक्षा कमी असेल, तर अशी एकापेक्षा अधिक गावे एका ग्रामपंचायती अंतर्गत येतात.

- Ans 1. 500
 2. 750
 3. 250
 4. 1000

Question Type : MCQ
Question ID : 9102811370
Option 1 ID : 9102815393
Option 2 ID : 9102815396
Option 3 ID : 9102815394
Option 4 ID : 9102815395
Status : Answered
Chosen Option : 1

Q.25 ऑगस्ट 2021 मध्ये, कोविड-19 मुळे ज्या महिलांनी त्यांचे पती गमावले आहेत, अशा महिलांसाठी महाराष्ट्र सरकारने खालीलपैकी कोणती योजना सुरू केली?

- Ans 1. मिशन निर्भया
 2. मिशन वात्सल्य
 3. आशीर्वाद योजना
 4. अंकुर योजना

Question Type : MCQ
Question ID : 9102811348
Option 1 ID : 9102815308
Option 2 ID : 9102815306
Option 3 ID : 9102815305
Option 4 ID : 9102815307
Status : Answered
Chosen Option : 1

Q.26 भारतीय राज्यघटनेने खालीलपैकी कोणत्या देशाकडून राज्य धोरणांचे निर्देशात्मक तत्त्व (Principle of State Policies) घेतले आहे?

- Ans
- 1. संयुक्त राज्य (USA)
 - 2. रशिया
 - 3. फ्रान्स
 - 4. आयर्लंड

Question Type : MCQ
Question ID : 9102811339
Option 1 ID : 9102815269
Option 2 ID : 9102815270
Option 3 ID : 9102815272
Option 4 ID : 9102815271
Status : Answered
Chosen Option : 4

Q.27 खालीलपैकी कोणी हिंदुस्थानी प्रचार सभेची स्थापना केली होती?

- Ans
- 1. मोतीलाल नेहरू
 - 2. सरदार वल्लभभाई पटेल
 - 3. महात्मा गांधी
 - 4. भगत सिंग

Question Type : MCQ
Question ID : 9102811323
Option 1 ID : 9102815206
Option 2 ID : 9102815208
Option 3 ID : 9102815205
Option 4 ID : 9102815207
Status : Answered
Chosen Option : 4

Q.28 खालीलपैकी कोणत्या पुस्तकासाठी डॉ. शशी थरूर यांना साहित्य अकादमी पुरस्कार 2019 ने गौरवण्यात आले?

- Ans
- 1. इंडिया शास्त्र: रिफ्लेक्शन ऑन द नॅशनल इन अवर टाईम
 - 2. द ग्रेट इंडियन नॉव्हेल
 - 3. इंडिया: फ्रॉम मिडनाईट टू द मिलेनियम
 - 4. अॅन एरा ऑफ डार्कनेस: द ब्रिटिश एम्पायर इन इंडिया

Question Type : MCQ
Question ID : 9102811350
Option 1 ID : 9102815316
Option 2 ID : 9102815314
Option 3 ID : 9102815315
Option 4 ID : 9102815313
Status : Answered
Chosen Option : 4

Q.29 बोधिसत्वाचार्यावतार (Bodhisattvacaryāvatāra) किंवा बोधीचार्यवतार (Bodhicharyavatara) यांचे लेखक खालीलपैकी कोण आहे?

- Ans
- 1. पद्मसंभव (Padmasambhava)
 - 2. नागार्जुन (Nagarjuna)
 - 3. नोआ राशेता (Noah Rasheta)
 - 4. शांतीदेव (Shantideva)

Question Type : MCQ

Question ID : 9102811327

Option 1 ID : 9102815223

Option 2 ID : 9102815222

Option 3 ID : 9102815224

Option 4 ID : 9102815221

Status : Answered

Chosen Option : 2

Q.30 महाराष्ट्रात सप्टेंबर 2019 अखेरीस असणारी इंटरनेट ग्राहकांची संख्या (internet subscriber base) 9.7 कोटी होती जी सर्व राज्यांमध्ये _____ स्थानी आहे.

- Ans
- 1. चौथी सर्वोच्च
 - 2. तृतीय सर्वोच्च
 - 3. सर्वोच्च
 - 4. द्वितीय सर्वोच्च

Question Type : MCQ

Question ID : 9102811364

Option 1 ID : 9102815369

Option 2 ID : 9102815372

Option 3 ID : 9102815370

Option 4 ID : 9102815371

Status : Answered

Chosen Option : 4

Q.31 पुणे जिल्ह्यातील जुन्नर येथील _____ लेण्यांमध्ये मध्ये सातवाहन (Satavahana) राजवंशातील महत्त्वाच्या व्यक्तींची नावे कोरली आहेत?

- Ans
- 1. नाणेघाट
 - 2. बेडसे
 - 3. कार्ले
 - 4. चैत्य

Question Type : MCQ

Question ID : 9102811343

Option 1 ID : 9102815285

Option 2 ID : 9102815288

Option 3 ID : 9102815286

Option 4 ID : 9102815287

Status : Answered

Chosen Option : 1

Q.32 भारतीय वनस्पति सर्वेक्षण (Botanical Survey of India) चे मुख्यालय कोठे आहे?

- Ans 1. मुंबई
 2. कोलकाता
 3. दिल्ली
 4. चेन्नई

Question Type : MCQ
Question ID : 9102811332
Option 1 ID : 9102815241
Option 2 ID : 9102815242
Option 3 ID : 9102815243
Option 4 ID : 9102815244
Status : Answered
Chosen Option : 2

Q.33 खालीलपैकी कोणती घटना सर्वात आधी घडली?

- Ans 1. अली वर्दी खाननंतर सिराज-उदौला (Sirajud - Daula) बंगालचा नवाब झाला.
 2. वांडीवाश येथे सर आयर कूट (Sir Eyre Coote) यांच्याकडून फ्रेंचांचा पराभव झाला.
 3. दुसरे कर्नाटक युद्ध
 4. बक्सारची लढाई

Question Type : MCQ
Question ID : 9102811322
Option 1 ID : 9102815203
Option 2 ID : 9102815201
Option 3 ID : 9102815202
Option 4 ID : 9102815204
Status : Answered
Chosen Option : 4

Q.34 खालीलपैकी कोणते फर्म (GVAi) च्या एकूण मूल्यवर्धित मूल्याच्या बरोबरीचे आहे?

- Ans 1. फर्मद्वारे विक्रीचे मूल्य (Vi) - मालाच्या संपूर्ण यादीतील (inventories) बदलाचे मूल्य (Ai) + फर्मद्वारे वापरल्या जाणाऱ्या मध्यवर्ती वस्तूंचे मूल्य (Zi)
 2. फर्मद्वारे विक्रीचे मूल्य (Vi) + मालाच्या संपूर्ण यादीतील (inventories) बदलाचे मूल्य (Ai) + फर्मद्वारे वापरल्या जाणाऱ्या मध्यवर्ती वस्तूंचे मूल्य (Zi)
 3. फर्मद्वारे विक्रीचे मूल्य (Vi) + मालाच्या संपूर्ण यादीतील (inventories) बदलाचे मूल्य (Ai) - फर्मद्वारे वापरल्या जाणाऱ्या मध्यवर्ती वस्तूंचे मूल्य (Zi)
 4. फर्मद्वारे विक्रीचे मूल्य (Vi) - मालाच्या संपूर्ण यादीतील (inventories) बदलाचे मूल्य (Ai) - फर्मद्वारे वापरल्या जाणाऱ्या मध्यवर्ती वस्तूंचे मूल्य (Zi)

Question Type : MCQ
Question ID : 9102811329
Option 1 ID : 9102815231
Option 2 ID : 9102815232
Option 3 ID : 9102815230
Option 4 ID : 9102815229
Status : Answered
Chosen Option : 3

Q.35 खालीलपैकी कोण भारतीय लघु उद्योग विकास बँक (SIDBI) मध्ये एक भागधारक नाही?

- Ans 1. रिझर्व्ह बँक ऑफ इंडिया (The Reserve Bank of India)
 2. भारत सरकार (Government of India)
 3. स्टेट बँक ऑफ इंडिया (State Bank of India)
 4. नाबार्ड (NABARD)

Question Type : MCQ
Question ID : 9102811330
Option 1 ID : 9102815233
Option 2 ID : 9102815234
Option 3 ID : 9102815235
Option 4 ID : 9102815236
Status : Answered
Chosen Option : 4

Q.36 खालीलपैकी कोणते विधान बरोबर आहे?

- I. संपूर्ण गडचिरोली जिल्हा गोदावरी नदीच्या जलनिस्सार (drainage) खोऱ्यात समाविष्ट आहे.
II. चपराळा (Charpala) वन्यजीव अभयारण्य हे महाराष्ट्राच्या गडचिरोली जिल्ह्यात आहे.

- Ans 1. I किंवा II यापैकी कोणतेही नाही
 2. केवळ I
 3. केवळ II
 4. I आणि II दोन्ही

Question Type : MCQ
Question ID : 9102811360
Option 1 ID : 9102815356
Option 2 ID : 9102815353
Option 3 ID : 9102815354
Option 4 ID : 9102815355
Status : Answered
Chosen Option : 4

Q.37 खालीलपैकी कोण जिल्हा परिषदेचा निर्वाचित प्रतिनिधी (elected representative) असतो?

- I. मुख्य कार्यकारी अधिकारी (Chief Executive officer)
II. अध्यक्ष (President)

- Ans 1. केवळ II
 2. I आणि II दोन्ही
 3. केवळ I
 4. I किंवा II यापैकी कोणतेही नाही

Question Type : MCQ
Question ID : 9102811371
Option 1 ID : 9102815398
Option 2 ID : 9102815399
Option 3 ID : 9102815397
Option 4 ID : 9102815400
Status : Answered
Chosen Option : 1

Q.38 सांगली जिल्हा महाराष्ट्राच्या _____ या एका विभागात येतो.

- Ans
- 1. औरंगाबाद
 - 2. नाशिक
 - 3. पुणे
 - 4. कोकण

Question Type : MCQ

Question ID : 9102811359

Option 1 ID : 9102815349

Option 2 ID : 9102815351

Option 3 ID : 9102815352

Option 4 ID : 9102815350

Status : Answered

Chosen Option : 3

Q.39 जागतिक बहुआयामी गरीबी निर्देशांक किती मापदंडांवर तयार केला जातो?

- Ans
- 1. 10 निर्देशक 3 आयामांमध्ये वितरीत केले जातात
 - 2. 8 निर्देशक 3 आयामांमध्ये वितरीत केले जातात
 - 3. 10 निर्देशक 4 आयामांमध्ये वितरीत केले जातात
 - 4. 15 निर्देशक 4 आयामांमध्ये वितरीत केले जातात

Question Type : MCQ

Question ID : 9102811335

Option 1 ID : 9102815253

Option 2 ID : 9102815254

Option 3 ID : 9102815255

Option 4 ID : 9102815256

Status : Answered

Chosen Option : 1

Q.40 खालीलपैकी कोणते विधान बिसोन हार्न मारिया (Bison Horn Maria) जमातीबाबत बरोबर आहे?

- I. ते प्रामुख्याने छत्तीसगड, महाराष्ट्र आणि मध्य प्रदेशच्या बस्तर (Bastar) विभागात राहतात.
II. ते स्थलांतरित (shifting) शेती करतात आणि वनातील उत्पादने उपजीविकेसाठी गोळा करतात तसेच विविध देवतांची उपासना करतात.

- Ans
- 1. केवळ I
 - 2. केवळ II
 - 3. I किंवा II यापैकी कोणतेही नाही
 - 4. I आणि II दोन्ही

Question Type : MCQ

Question ID : 9102811363

Option 1 ID : 9102815365

Option 2 ID : 9102815366

Option 3 ID : 9102815368

Option 4 ID : 9102815367

Status : Answered

Chosen Option : 4

Q.41 मंगेश पाडगावकर यांना 2008 मध्ये महाराष्ट्र भूषण पुरस्काराने गौरवण्यात आले. त्यांचा जन्म महाराष्ट्रातील _____ या जिल्ह्यात झाला.

- Ans 1. रत्नागिरी
 2. सिंधुदुर्ग
 3. औरंगाबाद
 4. बीड

Question Type : MCQ
Question ID : 9102811353
Option 1 ID : 9102815325
Option 2 ID : 9102815327
Option 3 ID : 9102815326
Option 4 ID : 9102815328
Status : Answered
Chosen Option : 1

Q.42 खालीलपैकी कोणते भारतीय राज्य सर्वात कमी लोकसंख्येचे आहे?

- Ans 1. मणिपूर
 2. नागालँड
 3. मिझोराम
 4. सिक्कीम

Question Type : MCQ
Question ID : 9102811334
Option 1 ID : 9102815251
Option 2 ID : 9102815249
Option 3 ID : 9102815252
Option 4 ID : 9102815250
Status : Answered
Chosen Option : 4

Q.43 2011 च्या जनगणनेनुसार, _____ वर्षे किंवा त्याहून अधिक वयाची व्यक्ती, जी कोणत्याही भाषेत समजून घेऊन दोन्ही वाचू आणि लिहू शकते, तिला साक्षर मानले जाते.

- Ans 1. आठ
 2. सहा
 3. सात
 4. पाच

Question Type : MCQ
Question ID : 9102811333
Option 1 ID : 9102815248
Option 2 ID : 9102815246
Option 3 ID : 9102815247
Option 4 ID : 9102815245
Status : Answered
Chosen Option : 3

Q.44 पुढीलपैकी कोणत्या वर्षी निवडणूक आयोग प्रथमच बहुसदस्यीय संस्था बनली?

- Ans
- 1. 1967
 - 2. 1956
 - 3. 1989
 - 4. 1978

Question Type : MCQ
Question ID : 9102811340
Option 1 ID : 9102815274
Option 2 ID : 9102815273
Option 3 ID : 9102815276
Option 4 ID : 9102815275
Status : Answered
Chosen Option : 1

Q.45 राज्यसभेच्या संदर्भात खालीलपैकी कोणते विधान बरोबर आहे?

- I. राज्यसभा कधीच पूर्णपणे विसर्जित होत नाही.
II. राज्यसभेची निवडणूक लढवणारी कोणतीही व्यक्ती ही भारतीय नागरिक असावी आणि तिने वयाची 30 वर्षे पूर्ण केलेली असावी.

- Ans
- 1. I आणि II दोन्ही
 - 2. केवळ I
 - 3. केवळ II
 - 4. I किंवा II यापैकी कोणतेही नाही

Question Type : MCQ
Question ID : 9102811367
Option 1 ID : 9102815383
Option 2 ID : 9102815381
Option 3 ID : 9102815382
Option 4 ID : 9102815384
Status : Answered
Chosen Option : 1

Q.46 18 व्या शतकाच्या उत्तरार्धात आणि 19 व्या शतकाच्या पूर्वार्धात खालीलपैकी कोणी कर्नाटकी संगीतात सध्या प्रचलित असलेल्या गीताला लोकप्रिय केले होते, ज्याला 'कृती' ('kriti') या नावाने ओळखले जाते?

- Ans
- 1. भरता (Bharata)
 - 2. त्यागराजा (Tyagaraja)
 - 3. नवीन्द्र (Naveendra)
 - 4. पुरंदरा दासा (Purandara Dasa)

Question Type : MCQ
Question ID : 9102811326
Option 1 ID : 9102815217
Option 2 ID : 9102815218
Option 3 ID : 9102815220
Option 4 ID : 9102815219
Status : Answered
Chosen Option : 1

Q.47 कोणत्या वर्षी काँग्रेस समाजवादी पक्षाची स्थापना झाली?

- Ans
- 1. 1929
 - 2. 1925
 - 3. 1934
 - 4. 1936

Question Type : MCQ
Question ID : 9102811345
Option 1 ID : 9102815294
Option 2 ID : 9102815293
Option 3 ID : 9102815295
Option 4 ID : 9102815296
Status : Answered
Chosen Option : 2

Q.48 खालीलपैकी कोणत्या पर्वताला महाराष्ट्राचा एव्हरेस्ट म्हणून ओळखले जाते?

- Ans
- 1. साल्हेर
 - 2. अंजनेरी
 - 3. कळसुबाई
 - 4. गवळदेव

Question Type : MCQ
Question ID : 9102811358
Option 1 ID : 9102815347
Option 2 ID : 9102815345
Option 3 ID : 9102815348
Option 4 ID : 9102815346
Status : Answered
Chosen Option : 3

Q.49 खालीलपैकी कोणते विधान बरोबर आहे?

- I. शिवाजी महाराजांनी महाराष्ट्रात स्वराज्य स्थापन केले.
- II. शिवाजी महाराजांनी त्यांच्या राज्याभिषेकाच्या वेळी अष्टप्रधान मंडळाची नेमणूक केली होती.

- Ans
- 1. केवळ I
 - 2. केवळ II
 - 3. I किंवा II यापैकी कोणतेही नाही
 - 4. I आणि II दोन्ही

Question Type : MCQ
Question ID : 9102811344
Option 1 ID : 9102815289
Option 2 ID : 9102815290
Option 3 ID : 9102815292
Option 4 ID : 9102815291
Status : Answered
Chosen Option : 4

Q.50 खालीलपैकी कोणत्या भारतीय राज्यात निव्वळ पेरणी क्षेत्र हे राष्ट्रीय सरासरीपेक्षा कमी आहे?

- Ans
- 1. हरियाणा
 - 2. उत्तर प्रदेश
 - 3. हिमाचल प्रदेश
 - 4. पश्चिम बंगाल

Question Type : MCQ

Question ID : 9102811336

Option 1 ID : 9102815259

Option 2 ID : 9102815257

Option 3 ID : 9102815260

Option 4 ID : 9102815258

Status : Answered

Chosen Option : 2

Section : General Intelligence

Q.1 एक पद गहाळ असलेली एक मालिका दिली आहे. दिलेल्या पर्यायांतून मालिका पूर्ण करेल, असे अचूक पद निवडा.

NSDB, LOJJ, JKPR, HGVZ, ?

- Ans
- 1. FCAH
 - 2. ECBH
 - 3. FCBG
 - 4. FCBH

Question Type : MCQ

Question ID : 9102811394

Option 1 ID : 9102815489

Option 2 ID : 9102815491

Option 3 ID : 9102815490

Option 4 ID : 9102815492

Status : Answered

Chosen Option : 4

Q.2 एका सांकेतिक भाषेत, 'PEAR' हे 'RIGZ' अस लिहिले जाते आणि 'HEAT' हे 'JIGB' असे लिहिले जाते. त्या सांकेतिक भाषेत 'RENT' साठी कोणता संकेत आहे?

- Ans
- 1. TITB
 - 2. TISB
 - 3. SITB
 - 4. TITA

Question Type : MCQ

Question ID : 9102811400

Option 1 ID : 9102815516

Option 2 ID : 9102815513

Option 3 ID : 9102815514

Option 4 ID : 9102815515

Status : Answered

Chosen Option : 1

Q.3 सात पुरुष, M1, M2, M3, M4, M5, M6 आणि M7 एका वर्तुळाकार टेबलाभोवती केंद्राकडे तोंड करून (त्याच क्रमाने असणे गरजेचे नाही) बसले आहेत. M2 च्या डावीकडे चौथ्या स्थानी M6 बसला आहे. M3 च्या उजवीकडे दुसऱ्या स्थानी M1 बसला आहे आणि M5 च्या उजवीकडे तिसऱ्या स्थानी M3 बसला आहे. M1 आणि M6 यांच्या दरम्यान दोन पुरुष बसले आहेत. M7 च्या डावीकडे तिसऱ्या स्थानी M4 बसला आहे. M7 च्या डावीकडे चौथ्या स्थानी कोण बसले आहे?

- Ans
- 1. M1
 - 2. M6
 - 3. M3
 - 4. M5

Question Type : MCQ

Question ID : 9102811375

Option 1 ID : 9102815413

Option 2 ID : 9102815416

Option 3 ID : 9102815414

Option 4 ID : 9102815415

Status : Answered

Chosen Option : 4

Q.4 आठ व्यक्ती P, Q, R, S, T, U, V आणि W एका ओळीत उत्तरेकडे तोंड करून (त्याच क्रमाने असणे गरजेचे नाही) बसले आहेत. P आणि Q यांच्या दरम्यान तीन व्यक्ती बसल्या आहेत. V च्या डावीकडे तिसऱ्या स्थानी Q बसला आहे. S आणि U यांच्या दरम्यान चार व्यक्ती बसल्या आहेत आणि T च्या उजवीकडे दुसऱ्या स्थानी U बसला आहे. S हा V चा शेजारी आहे. R आणि V यांच्या दरम्यान दोन व्यक्ती बसल्या आहेत. U आणि W यांच्या दरम्यान किती व्यक्ती बसल्या आहेत?

- Ans
- 1. 4
 - 2. 3
 - 3. 2
 - 4. 5

Question Type : MCQ

Question ID : 9102811376

Option 1 ID : 9102815419

Option 2 ID : 9102815418

Option 3 ID : 9102815417

Option 4 ID : 9102815420

Status : Answered

Chosen Option : 4

Q.5 एका सांकेतिक भाषेत 'CODING' हे 'DMGESA' असे लिहिले जाते आणि 'REMOTE' हे 'SCPKYY' असे लिहिले जाते. त्या सांकेतिक भाषेत 'SATURN' साठी कोणता संकेत आहे?

- Ans
- 1. TXWQWH
 - 2. TYWQVH
 - 3. TYWQWH
 - 4. SYWQWH

Question Type : MCQ

Question ID : 9102811402

Option 1 ID : 9102815524

Option 2 ID : 9102815521

Option 3 ID : 9102815522

Option 4 ID : 9102815523

Status : Answered

Chosen Option : 3

Q.6 या प्रश्नात, विविध घटकांतील संबंध विधानांतून दर्शवण्यात आला आहे. दिलेली विधाने सत्य असल्याचे गृहीत धरा, दिलेल्यापैकी कोणते निष्कर्ष निश्चितपणे सत्य आहेत, ते शोधा आणि तुमचे उत्तर द्या.

विधाने:

$R > B, S > B, Q \leq B, M > R, R < C, C < A$

निष्कर्ष:

I. $A > S$

II. $Q < A$

III. $S > M$

- Ans
- 1. दोन्ही निष्कर्ष I आणि II सत्य असतील
 - 2. दोन्ही निष्कर्ष II आणि III सत्य असतील
 - 3. केवळ निष्कर्ष II सत्य असेल
 - 4. कोणताही निष्कर्ष सत्य नसेल

Question Type : MCQ

Question ID : 9102811384

Option 1 ID : 9102815450

Option 2 ID : 9102815452

Option 3 ID : 9102815449

Option 4 ID : 9102815451

Status : Answered

Chosen Option : 4

Q.7 खालील प्रश्नामध्ये @, *, %, + आणि - ही चिन्हे खाली दर्शवल्याप्रमाणे पुढील अर्थांना वापरण्यात आली आहेत.

'P @ Q' म्हणजे 'P हा Q पेक्षा मोठा देखील नाही किंवा लहान देखील नाही'.

'P * Q' म्हणजे 'P हा Q पेक्षा मोठा नाही'.

'P % Q' म्हणजे 'P हा Q पेक्षा लहान देखील नाही किंवा त्याच्या समान देखील नाही'.

'P + Q' म्हणजे 'P हा Q पेक्षा लहान नाही'.

'P - Q' म्हणजे 'P हा Q पेक्षा मोठा देखील नाही किंवा त्याच्या समान देखील नाही'.

आता, खालील प्रत्येक प्रश्नामध्ये, दिलेली विधाने सत्य असल्याचे गृहीत धरले आहे, खाली दिलेल्यापैकी कोणते निष्कर्ष निश्चितपणे सत्य आहेत, हे शोधा आणि तुमचे उत्तर द्या.

विधाने:

H % G, M % T, A - T, B + R, M * G, T - R

निष्कर्ष:

I. H % R

II. T - B

III. H + A

Ans 1. केवळ निष्कर्ष III सत्य आहे

2. दोन्ही निष्कर्ष I आणि II सत्य आहेत

3. केवळ निष्कर्ष II सत्य आहे

4. सर्व निष्कर्ष सत्य आहेत

Question Type : MCQ

Question ID : 9102811386

Option 1 ID : 9102815457

Option 2 ID : 9102815458

Option 3 ID : 9102815460

Option 4 ID : 9102815459

Status : Answered

Chosen Option : 3

Q.8 26 जानेवारी 1953 रोजी कोणता वार होता?

Ans 1. बुधवार

2. सोमवार

3. रविवार

4. मंगळवार

Question Type : MCQ

Question ID : 9102811398

Option 1 ID : 9102815508

Option 2 ID : 9102815506

Option 3 ID : 9102815505

Option 4 ID : 9102815507

Status : Answered

Chosen Option : 2

Q.9 दिलेल्या दोन चिन्हांची अदलाबदल केली तर खालीलपैकी कोणते समीकरण अचूक असेल?

× आणि ÷

- Ans
- ✗ 1. $18 \div 3 - 6 \times 3 + 19 = 61$
- ✓ 2. $8 \div 2 + 6 \times 3 - 6 + 4 = 16$
- ✗ 3. $4 \times 2 + 3 - 6 \div 2 = 7$
- ✗ 4. $12 + 8 \div 4 - 16 \times 4 = 44$

Question Type : MCQ

Question ID : 9102811419

Option 1 ID : 9102815592

Option 2 ID : 9102815591

Option 3 ID : 9102815589

Option 4 ID : 9102815590

Status : Answered

Chosen Option : 3

Q.10 जर 'P × Q' म्हणजे 'P ही Q ची आई आहे', 'P + Q' म्हणजे 'P हे Q चे वडील आहेत', 'P = Q' म्हणजे 'P हा Q चा भाऊ आहे', 'P - Q' म्हणजे 'P ही Q ची बहीण आहे' आणि 'P ÷ Q' म्हणजे 'P ही Q ची पत्नी आहे', तर $A = B \div C + D = E \times F$ च्या संदर्भात, C चे F शी काय नाते आहे?

- Ans
- ✗ 1. आई
- ✗ 2. मुलगी
- ✓ 3. काकी / मामी / मावशी / आत्या
- ✗ 4. बहीण

Question Type : MCQ

Question ID : 9102811406

Option 1 ID : 9102815540

Option 2 ID : 9102815537

Option 3 ID : 9102815538

Option 4 ID : 9102815539

Status : Answered

Chosen Option : 2

Q.11 पुढील प्रश्नामध्ये, 7, 6, 3, 4, 5 आणि 8 या संख्या खाली दर्शवल्याप्रमाणे पुढील अर्थाने वापरण्यात आल्या आहेत.

- 'P 7 Q' म्हणजे 'P हा Q पेक्षा लहान नाही'.
- 'P 6 Q' म्हणजे 'P हा Q पेक्षा मोठाही नाही किंवा त्याच्या समानही नाही'.
- 'P 3 Q' म्हणजे 'P हा Q पेक्षा लहान देखील नाही किंवा त्याच्या समान देखील नाही'.
- 'P 4 Q' म्हणजे 'P हा Q पेक्षा मोठा देखील नाही किंवा लहान देखील नाही'.
- 'P 5 Q' म्हणजे 'P हा Q पेक्षा मोठा नाही'.
- 'P 8 Q' म्हणजे 'P हा Q च्या समान नाही'.

आता, खालील प्रत्येक प्रश्नामध्ये, दिलेली विधाने सत्य असल्याचे गृहीत धरले आहे, खाली दिलेल्यापैकी कोणते निष्कर्ष निश्चितपणे सत्य आहेत, हे शोधा आणि तुमचे उत्तर द्या.

विधाने:

B 8 M, F 5 G, T 6 R, C 3 B, F 3 M, R 6 M

निष्कर्ष:

I. F 3 T

II. R 6 G

III. R 4 G

Ans

- 1. सर्व निष्कर्ष सत्य आहेत
- 2. दोन्ही निष्कर्ष I आणि II सत्य आहेत
- 3. निष्कर्ष I आणि निष्कर्ष II किंवा निष्कर्ष III सत्य आहे
- 4. निष्कर्ष II किंवा III यांपैकी एक निष्कर्ष सत्य आहे

Question Type : MCQ

Question ID : 9102811385

Option 1 ID : 9102815456

Option 2 ID : 9102815454

Option 3 ID : 9102815453

Option 4 ID : 9102815455

Status : Answered

Chosen Option : 4

Q.12 जर '-' म्हणजे 'x', '+' म्हणजे '-', 'x' म्हणजे '+' आणि '+' म्हणजे '+' असेल, तर $32 - 2 \times 24 + 6 - 3 + 80 = ?$

Ans

- 1. - 2
- 2. 3
- 3. - 4
- 4. 6

Question Type : MCQ

Question ID : 9102811418

Option 1 ID : 9102815586

Option 2 ID : 9102815588

Option 3 ID : 9102815587

Option 4 ID : 9102815585

Status : Answered

Chosen Option : 3

Q.13 एका विशिष्ट सांकेतिक भाषेत 'NET' हे 'QHW' असे लिहिले जाते आणि 'SAT' हे 'VDW' असे लिहिले जाते. या सांकेतिक भाषेत 'MAT' साठी कोणता संकेत आहे?

- Ans
- 1. PEW
 - 2. PDW
 - 3. PDX
 - 4. ODW

Question Type : MCQ

Question ID : 9102811399

Option 1 ID : 9102815510

Option 2 ID : 9102815511

Option 3 ID : 9102815512

Option 4 ID : 9102815509

Status : Answered

Chosen Option : 2

Q.14 विद्यार्थ्यांच्या एका ओळीत, गौरव हा ओळीत डाव्या टोकाकडून 16 व्या स्थानी आहे आणि तो सौरवच्या डावीकडे 6 व्या स्थानी आहे जो ओळीच्या उजव्या टोकाकडून 19 व्या स्थानी आहे. ओळीत असलेल्या विद्यार्थ्यांची एकूण संख्या किती आहे?

- Ans
- 1. 40
 - 2. 42
 - 3. 39
 - 4. 41

Question Type : MCQ

Question ID : 9102811377

Option 1 ID : 9102815422

Option 2 ID : 9102815424

Option 3 ID : 9102815421

Option 4 ID : 9102815423

Status : Answered

Chosen Option : 1

Q.15 सात पुस्तके B1, B2, B3, B4, B5, B6 आणि B7 सुरू होणाऱ्या सोमवार ते रविवार या आठवड्यातील सात वेगवेगळ्या दिवशी (त्याच क्रमाने असणे गरजेचे नाही) विकण्यात आली. तीन पुस्तके B2 च्या नंतर विकण्यात आली. B4 च्या अगदी आधी B5 विकण्यात आले. B1 आणि B5 यांच्या दरम्यान दोन पुस्तके विकण्यात आली. B2 आणि B4 यांच्या दरम्यान एक पुस्तक विकण्यात आले. B6 हे B3 च्या नंतर, मात्र B7 च्या आधी विकण्यात आले. बुधवारी कोणते पुस्तक विकण्यात आले?

- Ans
- 1. B3
 - 2. B7
 - 3. B6
 - 4. B1

Question Type : MCQ

Question ID : 9102811381

Option 1 ID : 9102815438

Option 2 ID : 9102815440

Option 3 ID : 9102815439

Option 4 ID : 9102815437

Status : Answered

Chosen Option : 3

Q.16 दिलेल्या शब्दातील अक्षरांचा वापर करून दिलेल्या पर्यायांतील कोणता शब्द तयार करता येऊ शकेल, तो निवडा.

REPUBLICAN

- Ans
- 1. RAMP
 - 2. CANED
 - 3. PUBLIC
 - 4. CAT

Question Type : MCQ

Question ID : 9102811395

Option 1 ID : 9102815495

Option 2 ID : 9102815493

Option 3 ID : 9102815496

Option 4 ID : 9102815494

Status : Answered

Chosen Option : 3

Q.17 खालील प्रश्नात, दिलेल्या मालिकेतील गहाळ संख्या शोधा.

49, 62, 77, 94, 113, ?

- Ans
- 1. 141
 - 2. 128
 - 3. 136
 - 4. 134

Question Type : MCQ

Question ID : 9102811415

Option 1 ID : 9102815574

Option 2 ID : 9102815575

Option 3 ID : 9102815573

Option 4 ID : 9102815576

Status : Answered

Chosen Option : 4

Q.18 खालील प्रश्नात काही विधाने दिली असून त्यांच्यावर आधारित निष्कर्ष त्यानंतर दिले आहेत. दिलेली विधाने सामान्यपणे ज्ञात तथ्यांपेक्षा भिन्न वाटत असली तरी ती तुम्हाला सत्य मानायची आहेत. सर्व निष्कर्ष वाचा आणि दिलेल्या विधानांचे दिलेल्यांपैकी कोणते निष्कर्ष तार्किकदृष्ट्या अनुसरण करतात, ते ठरवा.

विधाने:

- I. सर्व J हे T आहेत.
- II. काही T हे S आहेत.
- III. कोणताही S हा K नाही.

निष्कर्ष:

- I. कोणताही S हा J नाही.
- II. काही J हे K नाहीत.
- III. कोणताही K हा S नाही.
- IV. कोणताही K हा J नाही.

Ans

1. दोन्ही निष्कर्ष III आणि IV अनुसरण करतात
2. केवळ निष्कर्ष III अनुसरण करतो
3. दोन्ही निष्कर्ष I आणि IV अनुसरण करतात
4. कोणताही निष्कर्ष अनुसरण करत नाही

Question Type : MCQ

Question ID : 9102811383

Option 1 ID : 9102815445

Option 2 ID : 9102815447


Option 3 ID : 9102815448

Option 4 ID : 9102815446

Status : Answered

Chosen Option : 2

Q.19 दिलेल्या आकृतीत किती त्रिकोण आहेत?



- Ans
- 1. 5
 - 2. 6
 - 3. 4
 - 4. 7

Question Type : MCQ

Question ID : 9102811412

Option 1 ID : 9102815562

Option 2 ID : 9102815563

Option 3 ID : 9102815561

Option 4 ID : 9102815564

Status : Answered

Chosen Option : 2

Q.20 शब्द आणि संख्यांची रचना करणाऱ्या एका मशिनला शब्द आणि संख्यांची इनपुट लाईन दिली असता, प्रत्येक चरणात एका विशिष्ट नियमाचे पालन करून, त्यांची पुनर्रचना केली जाते. खाली इनपुट आणि पुनर्रचना यांचे उदाहरण दिले आहे.

इनपुट: A 12 J 8 14 B V 16

चरण 1: V A 12 J 8 B 14 16

चरण 2: V J A 8 B 12 14 16

चरण 3: V J B A 8 12 14 16

चरण 3 हे शेवटचे चरण आहे.

वर उल्लेख केलेल्या तर्काचा वापर करून, खालील प्रश्नांची उत्तरे द्या.

जर इनपुटचा चरण 1 'Vn Tr Ab Bk Lp 8 14 6 19 24' असेल, तर या इनपुटचा चरण 2 कोणता असेल?

- Ans
- 1. Vn Tr Lp Ab Bk 6 8 14 19 24
 - 2. Vn Tr Ab Lp Bk 8 6 14 19 24
 - 3. Vn Tr Lp Bk Ab 8 6 14 19 24
 - 4. Vn Tr Lp Ab Bk 8 6 14 19 24

Question Type : MCQ

Question ID : 9102811403

Option 1 ID : 9102815525

Option 2 ID : 9102815528

Option 3 ID : 9102815527

Option 4 ID : 9102815526

Status : Answered

Chosen Option : 3

Q.21 P, Q, R, S, T आणि U या सहा व्यक्तींची वये वेगवेगळी आहेत. R, S आणि U यांची वये Q पेक्षा कमी आहेत. P चे वय U च्या वयापेक्षा अधिक आहे, मात्र R च्या वयापेक्षा कमी आहे. T चे वय S च्या वयापेक्षा कमी आहे आणि S चे वय U च्या वयापेक्षा कमी आहे. खाली दिलेल्यापैकी वयांचा कोणता अनुक्रम अचूक आहे?

Ans 1. T > Q > R > P > U > S

2. Q > R > P > T > S > U

3. Q > R > P > U > S > T

4. Q > R > U > P > S > T

Question Type : MCQ

Question ID : 9102811389

Option 1 ID : 9102815472

Option 2 ID : 9102815471

Option 3 ID : 9102815469

Option 4 ID : 9102815470

Status : Answered

Chosen Option : 3

Q.22 जर 'A' म्हणजे '+', 'B' म्हणजे 'x', 'C' म्हणजे '-' आणि 'D' म्हणजे '=' असेल, तर 64 D 4 B 3 A 20 C 15 = ?

Ans 1. 48

2. 64

3. 68

4. 53

Question Type : MCQ

Question ID : 9102811417

Option 1 ID : 9102815581

Option 2 ID : 9102815582

Option 3 ID : 9102815583

Option 4 ID : 9102815584

Status : Answered

Chosen Option : 4

Q.23 खालील प्रश्नात काही विधाने दिली असून त्यांच्यावर आधारित निष्कर्ष त्यानंतर दिले आहेत. दिलेली विधाने सामान्यपणे ज्ञात तथ्यांपेक्षा भिन्न वाटत असली तरी ती तुम्हाला सत्य मानायची आहेत. सर्व निष्कर्ष वाचा आणि दिलेल्या विधानांचे दिलेल्यांपैकी कोणते निष्कर्ष तार्किकदृष्ट्या अनुसरण करतात, ते ठरवा.

विधाने:

- I. सर्व M हे Q आहेत.
- II. सर्व N हे Q आहेत.

निष्कर्ष:

- I. कोणताही N हा M नाही.
- II. कोणताही M हा Q नाही.

Ans

- ✗ 1. केवळ निष्कर्ष II अनुसरण करतो
- ✗ 2. दोन्ही निष्कर्ष I आणि II अनुसरण करतात
- ✓ 3. कोणताही निष्कर्ष अनुसरण करत नाही
- ✗ 4. केवळ निष्कर्ष I अनुसरण करतो

Question Type : MCQ

Question ID : 9102811382

Option 1 ID : 9102815442

Option 2 ID : 9102815443

Option 3 ID : 9102815444

Option 4 ID : 9102815441

Status : Answered

Chosen Option : 3

Q.24 B1, B2, B3, B4, B5 आणि B6 ही सहा खोकी एकावर एक रचून (त्याच क्रमाने असणे गरजेचे नाही) ठेवली आहेत. B1 आणि B2 यांच्या दरम्यान दोन खोकी ठेवली आहेत. B2 च्या वर B1 ठेवले आहे. B5 आणि B6 यांच्या दरम्यान दोन खोकी ठेवली आहेत. B2 आणि B4 यांच्या दरम्यान एक खोके ठेवले आहे. B3 आणि B5 हे B1 च्या वर ठेवले आहेत. B2 च्या अगदी वर कोणते खोके ठेवले आहे?

Ans

- ✗ 1. B5
- ✓ 2. B6
- ✗ 3. B3
- ✗ 4. B4

Question Type : MCQ

Question ID : 9102811379

Option 1 ID : 9102815431

Option 2 ID : 9102815432

Option 3 ID : 9102815429

Option 4 ID : 9102815430

Status : Answered

Chosen Option : 3

Q.25 P1, P2, P3, P4, P5 आणि P6 या सहा व्यक्तींची उंची वेगवेगळी आहे. P2 हा P4 पेक्षा बुटका आहे. P1 हा P3 पेक्षा उंच आहे. P5 हा P4 पेक्षा उंच आहे. P6 हा P1 पेक्षा उंच आहे, पण P2 पेक्षा बुटका आहे.

खालीलपैकी कोणते विधान बरोबर आहे?

I. दोन व्यक्ती P6 पेक्षा बुटक्या आहेत.

II. P3 हा सर्वाधिक बुटका व्यक्ती नाही.

III. P4 हा दुसऱ्या क्रमांकाचा उंच व्यक्ती आहे.

Ans 1. II आणि III

2. I आणि III

3. I आणि II

4. I, II आणि III

Question Type : MCQ

Question ID : 9102811390

Option 1 ID : 9102815474

Option 2 ID : 9102815475

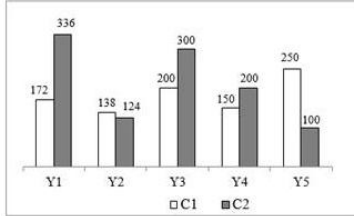
Option 3 ID : 9102815473

Option 4 ID : 9102815476

Status : Answered

Chosen Option : 2

Q.26 दिलेल्या स्तंभालेखात दोन कंपन्यांच्या 5 सलग वर्षातील कामांच्या दिवसांची संख्या दर्शवण्यात आली आहे.



C1 आणि C2 या दोन कंपन्यांमधील सर्व पाच वर्षातील कामांच्या दिवसांच्या संख्येतील फरक किती आहे?

Ans 1. 170

2. 200

3. 150

4. 120

Question Type : MCQ

Question ID : 9102811420

Option 1 ID : 9102815594

Option 2 ID : 9102815596

Option 3 ID : 9102815593

Option 4 ID : 9102815595

Status : Answered

Chosen Option : 3

Q.27 A, B, C, D, E आणि F या सहा विद्यार्थ्यांनी एका परीक्षेत वेगवेगळे गुण मिळवले. तीन विद्यार्थ्यांनी A पेक्षा अधिक गुण मिळवले. दोन विद्यार्थ्यांनी A आणि D दरम्यानचे गुण मिळवले. C चे गुण हे E च्या गुणांपेक्षा अधिक आहेत, मात्र F च्या गुणांपेक्षा कमी आहेत. एका विद्यार्थ्याला B पेक्षा कमी गुण मिळाले आहेत. कोणाला तिसऱ्या क्रमांकाचे सर्वाधिक गुण मिळाले आहेत?

- Ans
- 1. E
 - 2. C
 - 3. F
 - 4. D

Question Type : MCQ

Question ID : 9102811387

Option 1 ID : 9102815463

Option 2 ID : 9102815461

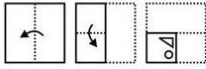
Option 3 ID : 9102815464

Option 4 ID : 9102815462

Status : Answered


Chosen Option : 2

Q.28 प्रश्नातील आकृतीत दाखवल्याप्रमाणे कागदाच्या एका तुकड्याची घडी घातली आणि त्याला पंच करण्यात आले. जेव्हा तो उघडला जाईल तेव्हा तो कसा दिसेल हे उत्तरासाठी दिलेल्या आकृतींमधून दर्शवा.



Ans

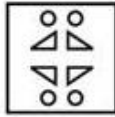
1.



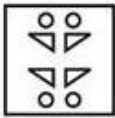
2.



3.



4.



Question Type : MCQ

Question ID : 9102811410

Option 1 ID : 9102815553

Option 2 ID : 9102815555

Option 3 ID : 9102815556

Option 4 ID : 9102815554

Status : Answered

Chosen Option : 4

Q.29 खालील उदाहरणात एक प्रश्न आणि दोन विधाने (I) आणि (II) आहेत. (विधानांमध्ये दिलेली माहिती प्रश्नांची उत्तरे देण्यासाठी पुरेशी आहे का ते ठरवा आणि उत्तर द्या.)

एका शाळेत मुलांचे आणि मुलींचे असलेले गुणोत्तर किती आहे?

I. मुलींच्या संख्येच्या $\frac{2}{9}$ संख्या मुलांची आहे.

II. मुलांच्या संख्येपेक्षा मुलींची संख्या 35 टक्के कमी आहे.

Ans 1.

जर प्रश्नाचे उत्तर दोन्ही विधानांचा एकत्र वापर करून देता येऊ शकते पण दोन्हीपैकी एखादे विधान एकटे वापरून देता येऊ शकत नाही.

2.

जर प्रश्नाचे उत्तर फक्त एका विधानाचा वापर करून देता येऊ शकते पण दुसऱ्या विधानाचा वापर करून देता येऊ शकत नाही

3.

जर प्रश्नाचे उत्तर दोन्ही विधानांचा एकत्र वापर करूनही देता येऊ शकत नाही.

4.

जर प्रश्नाचे उत्तर (I) किंवा (II) या दोन्ही विधानांपैकी एकाचा वापर करून देता येऊ शकते.

Question Type : MCQ

Question ID : 9102811407

Option 1 ID : 9102815543

Option 2 ID : 9102815541

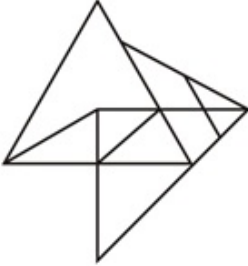
Option 3 ID : 9102815544

Option 4 ID : 9102815542

Status : Answered

Chosen Option : 2

Q.30 दिलेल्या आकृतीत किती त्रिकोण आहेत?



Ans 1. 13

2. 14

3. 12

4. 11

Question Type : MCQ

Question ID : 9102811413

Option 1 ID : 9102815567

Option 2 ID : 9102815568

Option 3 ID : 9102815566

Option 4 ID : 9102815565

Status : Answered

Chosen Option : 2

Q.31 C1, C2, C3, C4, C5 आणि C6 या सहा बालकांची वये वेगवेगळी आहेत. C6 हा C5 पेक्षा वयाने कमी आहे, C2 हा C3 पेक्षा वयाने कमी आहे आणि C3 हा C4 पेक्षा वयाने कमी आहे. C1 चे वय C5 च्या वयापेक्षा अधिक आहे, पण C2 च्या वयापेक्षा कमी आहे.

खालीलपैकी कोणते विधान अचूक आहे?

I. C2 हे तिसऱ्या सर्वात कमी वयाचे बालक आहे.

II. C6 हे सर्वात कमी वयाचे बालक आहे.

Ans

✓ 1. केवळ II

✗ 2. केवळ I

✗ 3. I किंवा II यापैकी कोणतेही नाही

✗ 4. I आणि II दोन्ही

Question Type : MCQ

Question ID : 9102811388

Option 1 ID : 9102815466

Option 2 ID : 9102815465

Option 3 ID : 9102815468

Option 4 ID : 9102815467

Status : Answered

Chosen Option : 2

Q.32 पाच मुली P, Q, R, S आणि T एका ओळीत उत्तरेकडे तोंड करून (त्याच क्रमाने असणे गरजेचे नाही) बसल्या आहेत. एक मुलगी Q आणि T यांच्या दरम्यान बसली आहे. दोन मुली P आणि Q यांच्या दरम्यान बसल्या आहेत. एक मुलगी R आणि T यांच्या दरम्यान बसली आहे. Q च्या डावीकडे S बसली आहे. S च्या लगतच डावीकडे कोण बसली आहे?

Ans

✗ 1. Q

✓ 2. T

✗ 3. R

✗ 4. P

Question Type : MCQ

Question ID : 9102811373

Option 1 ID : 9102815406

Option 2 ID : 9102815408

Option 3 ID : 9102815407

Option 4 ID : 9102815405

Status : Answered

Chosen Option : 3

Q.33 खालील प्रश्नामध्ये प्रश्नचिन्हाच्या (?) जागी येऊ शकेल अशी आकृती दिलेल्या पर्यायांतून निवडा.

△ 3 A	# △ 3	# △ 3	□ # △	?
□ #	A	□	3	
□ 5 B	□ 5 B	5 B A	5 B A	

Ans

✓ 1.

□ # △
5
B A 3

✗ 2.

□ # △
A
B 5 3

✗ 3.

□ B
5
△ A 3

✗ 4.

□ # △
5
A B 3

Question Type : MCQ

Question ID : 9102811409

Option 1 ID : 9102815549

Option 2 ID : 9102815552

Option 3 ID : 9102815551

Option 4 ID : 9102815550

Status : Answered

Chosen Option : 1

Q.34 सहा विद्यार्थी S1, S2, S3, S4, S5 आणि S6 सोमवारपासून सुरु होणाऱ्या आठवड्याच्या सोमवार ते शनिवार या सहा दिवसांपैकी वेगवेगळ्या दिवशी (त्याच क्रमाने असणे गरजेचे नाही) महाविद्यालयात गेले. दोन विद्यार्थी S6 च्या आधी गेले. S1 आणि S2 यांच्या दरम्यान एक विद्यार्थी गेला. S5 च्या अगदी आधी S4 गेला. S2 आणि S6 यांच्या दरम्यान दोन विद्यार्थी गेले. खालीलपैकी कोणते संयोजन अचूक नाही?

Ans

✗ 1. मंगळवार - S5

✗ 2. शनिवार - S2

✓ 3. गुरुवार - S3

✗ 4. सोमवार - S4

Question Type : MCQ

Question ID : 9102811378

Option 1 ID : 9102815427

Option 2 ID : 9102815425

Option 3 ID : 9102815428

Option 4 ID : 9102815426

Status : Answered

Chosen Option : 2

Q.35 एका विशिष्ट सांकेतिक भाषेत, 'REGISTER' हे '32' असे लिहिले जाते आणि 'NEWSPAPER' हे '36' असे लिहिले जाते. त्या सांकेतिक भाषेत 'REMOTE' साठी कोणता संकेत आहे?

- Ans
- 1. 28
 - 2. 24
 - 3. 20
 - 4. 22

Question Type : MCQ
Question ID : 9102811401
Option 1 ID : 9102815520
Option 2 ID : 9102815519
Option 3 ID : 9102815517
Option 4 ID : 9102815518
Status : Answered
Chosen Option : 2

Q.36 एक पद गहाळ असलेली एक मालिका दिली आहे. दिलेल्या पर्यायांतून मालिका पूर्ण करेल, असे अचूक पद निवडा.

PR, MO, JL, GI, ?

- Ans
- 1. DE
 - 2. EF
 - 3. DF
 - 4. FG

Question Type : MCQ
Question ID : 9102811391
Option 1 ID : 9102815477
Option 2 ID : 9102815478
Option 3 ID : 9102815479
Option 4 ID : 9102815480
Status : Answered
Chosen Option : 3

Q.37 दिलेल्या संख्यांचा काळजीपूर्वक अभ्यास करा आणि खालील प्रश्नांची उत्तरे द्या.

384 629 132 544 327

दिलेल्या संख्यांपैकी जर प्रत्येक संख्येतून आपण एकक स्थानचा अंक वजा केला, तर नव्याने तयार होणाऱ्या संख्यांची बेरीज किती होईल?

- Ans
- 1. 1760
 - 2. 2020
 - 3. 1990
 - 4. 1880

Question Type : MCQ
Question ID : 9102811397
Option 1 ID : 9102815503
Option 2 ID : 9102815501
Option 3 ID : 9102815502
Option 4 ID : 9102815504
Status : Answered
Chosen Option : 3

Q.38 एक पद गहाळ असलेली एक मालिका दिली आहे. दिलेल्या पर्यायांतून मालिका पूर्ण करेल, असे अचूक पद निवडा.

TVFH, RTIL, PRLP, NPOT, ?

- Ans
- 1. MNRX
 - 2. LNRV
 - 3. LNRX
 - 4. LNTX

Question Type : MCQ

Question ID : 9102811393

Option 1 ID : 9102815487

Option 2 ID : 9102815485

Option 3 ID : 9102815486

Option 4 ID : 9102815488

Status : Answered

Chosen Option : 3

Q.39 एक चुकीचे पद असलेली एक मालिका दिली आहे. दिलेल्या पर्यायांतून चुकीचे पद निवडा.

31, 34, 38, 42, 49

- Ans
- 1. 49
 - 2. 38
 - 3. 34
 - 4. 42

Question Type : MCQ

Question ID : 9102811414

Option 1 ID : 9102815569

Option 2 ID : 9102815570

Option 3 ID : 9102815571

Option 4 ID : 9102815572

Status : Answered

Chosen Option : 2

Q.40 रोहन हे मनिषाचे वडील आहेत. मनिषा ही मयांकची बहीण आहे आणि सीमा ही मयांकची पत्नी आहे. सीमाचे रोहनशी काय नाते आहे?

- Ans
- ✗ 1. बहीण
 - ✗ 2. मुलगी
 - ✗ 3. आई
 - ✓ 4. सून

Question Type : MCQ

Question ID : 9102811405

Option 1 ID : 9102815535

Option 2 ID : 9102815533

Option 3 ID : 9102815536

Option 4 ID : 9102815534

Status : Answered

Chosen Option : 2

Q.41 सहा व्यक्ती A, B, C, D, E आणि F एका ओळीत दक्षिणेकडे तोंड करून (त्याच क्रमाने असणे गरजेचे नाही) बसल्या आहेत. B च्या उजवीकडे तिसऱ्या स्थानी D बसला आणि F च्या लगतच डावीकडे B बसला आहे. A च्या डावीकडे दुसऱ्या स्थानी C बसला आहे. E आणि F यांच्या दरम्यान एक व्यक्ती बसली आहे.

खालीलपैकी कोणते विधान बरोबर आहे?

- I. एका अंतिम टोकाला C बसला आहे.
- II. A आणि F यांच्या दरम्यान दोन व्यक्ती बसल्या आहेत.

- Ans
- ✓ 1. केवळ II
 - ✗ 2. केवळ I
 - ✗ 3. I आणि II दोन्ही
 - ✗ 4. किंवा II यापैकी कोणतेही नाही

Question Type : MCQ

Question ID : 9102811374

Option 1 ID : 9102815410

Option 2 ID : 9102815409

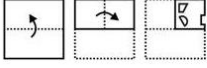
Option 3 ID : 9102815411

Option 4 ID : 9102815412

Status : Answered

Chosen Option : 3

Q.42 प्रश्नातील आकृतीत दाखवल्याप्रमाणे कागदाच्या एका तुकड्याची घडी घातली आणि त्याला पंच करण्यात आले. जेव्हा तो उघडला जाईल तेव्हा तो कसा दिसेल हे उत्तरासाठी दिलेल्या आकृतींमधून दर्शवा.



Ans

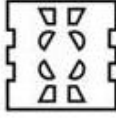
✗ 1.



✗ 2.



✓ 3.



✗ 4.



Question Type : MCQ

Question ID : 9102811411

Option 1 ID : 9102815560

Option 2 ID : 9102815558

Option 3 ID : 9102815557

Option 4 ID : 9102815559

Status : Answered

Chosen Option : 3

Q.43 प्रश्नचिन्हाच्या (?) जागी कोणते अंदाजित मूल्य आले पाहिजे?

$$24.1 \times 64.1 \div 8.01 + 49.8 = ?$$

Ans

✗ 1. 256

✗ 2. 210

✓ 3. 242

✗ 4. 194

Question Type : MCQ

Question ID : 9102811416

Option 1 ID : 9102815580

Option 2 ID : 9102815579

Option 3 ID : 9102815578

Option 4 ID : 9102815577

Status : Answered

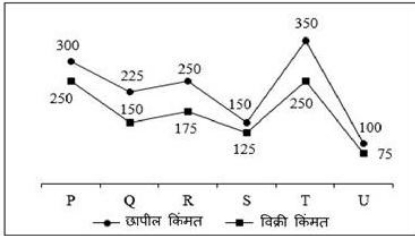
Chosen Option : 4

Q.44 A, B, C, D, E, F आणि G या सात व्यक्ती एका इमारतीच्या सात वेगवेगळ्या मजल्यांवर (त्याच क्रमाने असणे गरजेचे नाही) राहतात. सर्वात तळाच्या मजल्याला क्रमांक 1 दिला असून, त्यावरील मजल्याला क्रमांक 2 आणि अशाप्रकारे क्रमांक दिले आहेत. कोणत्याही दोन व्यक्ती एकाच मजल्यावर राहात नाहीत. G च्या लगतच वरील मजल्यावर C राहतो. D सहाव्या मजल्यावर राहात नाही. D च्या लगतच वरील मजल्यावर E राहतो. B आणि E यांच्या दरम्यान दोन व्यक्ती राहतात. B च्या लगतच खाली F राहतो. D सम क्रमांकाच्या मजल्यावर राहतो. तिसऱ्या मजल्यावर कोण राहतो?

- Ans**
- ✓ 1. A
 - ✗ 2. C
 - ✗ 3. F
 - ✗ 4. E

Question Type : MCQ
 Question ID : 9102811380
 Option 1 ID : 9102815433
 Option 2 ID : 9102815434
 Option 3 ID : 9102815436
 Option 4 ID : 9102815435
 Status : Answered
 Chosen Option : 3

Q.45 खाली दिलेल्या रेषाआलेखात 6 विविध वस्तूंची छापील किंमत आणि विक्री किंमत दर्शवण्यात आली आहे.



खालीलपैकी कोणते विधान अचूक नाही?

- I. वस्तू P ची छापील किंमत ही वस्तू U च्या छापील किंमतीच्या 30 टक्के आहे.
- II. वस्तू S ची विक्री किंमत आणि वस्तू T ची विक्री किंमत यांचे गुणोत्तर 1 : 2 आहे.
- III. वस्तू R च्या छापील किंमत आणि विक्री किंमतीची सरासरी 223 आहे.

- Ans**
- ✗ 1. II आणि III
 - ✗ 2. केवळ II
 - ✓ 3. I आणि III
 - ✗ 4. I आणि II

Question Type : MCQ
 Question ID : 9102811421
 Option 1 ID : 9102815598
 Option 2 ID : 9102815600
 Option 3 ID : 9102815599
 Option 4 ID : 9102815597
 Status : Answered
 Chosen Option : 3

Q.46 एक पद गहाळ असलेली एक मालिका दिली आहे. दिलेल्या पर्यायांतून मालिका पूर्ण करेल, असे अचूक पद निवडा.

JLR, FJN, BHJ, XFF, ?

- Ans
- ✓ 1. TDB
 - ✗ 2. RDB
 - ✗ 3. TDA
 - ✗ 4. SDB

Question Type : MCQ

Question ID : 9102811392

Option 1 ID : 9102815484

Option 2 ID : 9102815483

Option 3 ID : 9102815482

Option 4 ID : 9102815481

Status : Answered

Chosen Option : 2

Q.47 शब्दांची रचना करणाऱ्या एका मशिनला शब्दांची इनपुट लाईन दिली असता, प्रत्येक चरणत एका विशिष्ट नियमाचे पालन करून, त्यांची पुनर्रचना केली जाते. खाली इनपुट आणि पुनर्रचना यांचे उदाहरण दिले आहे.

इनपुट: Arakhi Ping Land Bing Trum

चरण 1: Trum Arakhi Ping Land Bing

चरण 2: Trum Ping Arakhi Land Bing

चरण 3: Trum Ping Land Arakhi Bing

चरण 4: Trum Ping Land Bing Arakhi

चरण 4 ही शेवटची चरण आहे.

वर उल्लेख केलेल्या तर्काचा वापर करून, खालील इनपुटसाठी विविध चरणांची पडताळणी करा.

इनपुट: Grey Trip Horn Boy Dank Pond

इच्छित आउटपुट मिळण्यासाठी किती चरणांची आवश्यकता आहे?

- Ans
- ✗ 1. तीन
 - ✓ 2. चार
 - ✗ 3. दोन
 - ✗ 4. पाच

Question Type : MCQ

Question ID : 9102811404

Option 1 ID : 9102815532

Option 2 ID : 9102815529

Option 3 ID : 9102815531

Option 4 ID : 9102815530

Status : Answered

Chosen Option : 2

Q.48 पाच व्यक्ती A, B, C, D आणि E एका वर्तुळाकार टेबलाभोवती केंद्राकडे तोंड करून (त्याच क्रमाने असणे गरजेचे नाही) बसल्या आहेत. E च्या डावीकडे दुसऱ्या स्थानी B बसला आहे. D च्या डावीकडे दुसऱ्या स्थानी C बसला आहे. A आणि C यांच्या दरम्यान एक व्यक्ती बसली आहे. A च्या लगतच डावीकडे कोण बसले आहे?

- Ans
- ✓ 1. D
 - ✗ 2. E
 - ✗ 3. C
 - ✗ 4. B

Question Type : MCQ

Question ID : 9102811372

Option 1 ID : 9102815403

Option 2 ID : 9102815404

Option 3 ID : 9102815402

Option 4 ID : 9102815401

Status : Answered

Chosen Option : 3

Q.49 ज्यावेळी 4:50 pm वाजले असतील, तेव्हा तास काटा आणि मिनिट काटा यांच्या दरम्यानचा कोन किती अंशांचा असेल?

- Ans
- ✗ 1. 160 अंश
 - ✓ 2. 155 अंश
 - ✗ 3. 175 अंश
 - ✗ 4. 180 अंश

Question Type : MCQ

Question ID : 9102811396

Option 1 ID : 9102815500

Option 2 ID : 9102815497

Option 3 ID : 9102815499

Option 4 ID : 9102815498

Status : Answered

Chosen Option : 2

Q.50 खालील प्रश्नामध्ये प्रश्नचिन्हाच्या (?) जागी येऊ शकेल अशी आकृती दिलेल्या पर्यायांतून निवडा.



Ans

✗ 1.



✗ 2.



✗ 3.



✓ 4.



Question Type : MCQ

Question ID : 9102811408

Option 1 ID : 9102815545

Option 2 ID : 9102815547

Option 3 ID : 9102815546

Option 4 ID : 9102815548

Status : Answered

Chosen Option : 3



Maharashtra Housing and Area Development Authority-2021
महाराष्ट्र गृहनिर्माण व क्षेत्रविकास प्राधिकरण-२०२१

Participant ID	[REDACTED]
Participant Name	[REDACTED]
Test Center Name	[REDACTED]
Test Date	09/02/2022
Test Time	4:00 PM - 6:00 PM
Subject	Cluster 6

Section : Marathi Language

Q.1 'पांढरपेशा' शब्दातून काय अर्थ सूचित होतो?

- Ans 1. समाजातील उच्चवर्गीय मानला गेलेला
 2. पांढऱ्या रंगाचा
 3. अरुंद वाट
 4. चुना

Question Type : MCQ
Question ID : 9102811652
Option 1 ID : 9102816511
Option 2 ID : 9102816509
Option 3 ID : 9102816512
Option 4 ID : 9102816510
Status : Answered
Chosen Option : 1

Q.2 खालील वाक्यातील कर्म शोधा.

"त्याला अंधारात रस्त्यांची नावे नीट दिसत नव्हती"

- Ans 1. त्याला
 2. नावे
 3. रस्त्यांची
 4. अंधारात

Question Type : MCQ
Question ID : 9102811630
Option 1 ID : 9102816421
Option 2 ID : 9102816424
Option 3 ID : 9102816423
Option 4 ID : 9102816422
Status : Answered
Chosen Option : 2

Q.3 वर्तमान काळातील वाक्य शोध.

- Ans
- 1. बहुधा उद्या पाऊस पडेल
 - 2. या दुकानात दुर्मिळ पुस्तके मिळत होती
 - 3. अठ्ठावीस वर्षांनंतर भारताला सुवर्ण पदक मिळाले
 - 4. माझी बहीण दिल्लीला असते

Question Type : MCQ

Question ID : 9102811634

Option 1 ID : 9102816440

Option 2 ID : 9102816439

Option 3 ID : 9102816437

Option 4 ID : 9102816438

Status : Answered

Chosen Option : 4

Q.4 खालीलपैकी विधानार्थी वाक्य निवडा.

- Ans
- 1. सलमानला कोणी कळवले होते का?
 - 2. अपर्णा सतरा नंबरच्या बसने घरी जाते
 - 3. वाहतुकीसाठी रस्ता मोकळा ठेवा
 - 4. ऐक, मी काय सांगतो ते

Question Type : MCQ

Question ID : 9102811638

Option 1 ID : 9102816455

Option 2 ID : 9102816453

Option 3 ID : 9102816454

Option 4 ID : 9102816456

Status : Answered

Chosen Option : 3

Q.5 'ओळखलंत का सर मला?' ही प्रसिद्ध कविता "कणा" कोणत्या कवीची आहे?

- Ans
- 1. मंगेश पाडगावकर
 - 2. कुसुमाग्रज
 - 3. शांता शेळके
 - 4. इंदिरा संत

Question Type : MCQ

Question ID : 9102811668

Option 1 ID : 9102816574

Option 2 ID : 9102816573

Option 3 ID : 9102816576

Option 4 ID : 9102816575

Status : Answered

Chosen Option : 1

Q.6 वर्तमान काळाचे वाक्य निवडा.

- Ans 1. अपर्णा गावाला गेली
 2. हिवाळ्यात दिवस मोठा असतो
 3. वैदेही, मुक्ता आणि प्रिया रडल्या
 4. आज रमा आनंदून जाईल

Question Type : MCQ
Question ID : 9102811633
Option 1 ID : 9102816434
Option 2 ID : 9102816433
Option 3 ID : 9102816435
Option 4 ID : 9102816436
Status : Answered
Chosen Option : 2

Q.7 प्रमाणलेखनाच्या नियमांप्रमाणे लिहिलेला पर्याय निवडा.

- Ans 1. एक नामवंत नाट्यदिग्दर्शक शाळेत येतील
 2. मि नीराशेमूळे गावी परतनाच्या नीर्णय घेतला
 3. मि तूच्याकडून एक पुस्तक घेतले होते
 4. ही पेन खुप महाग आहे

Question Type : MCQ
Question ID : 9102811659
Option 1 ID : 9102816539
Option 2 ID : 9102816537
Option 3 ID : 9102816538
Option 4 ID : 9102816540
Status : Answered
Chosen Option : 1

Q.8 खालील व्याख्याचा काळ शोधा.

“घंटा झाली की मुले वर्गात जातील”

- Ans 1. भविष्यकाळ
 2. पूर्ण भूतकाळ
 3. साधा वर्तमानकाळ
 4. वर्तमानकाळ

Question Type : MCQ
Question ID : 9102811631
Option 1 ID : 9102816427
Option 2 ID : 9102816426
Option 3 ID : 9102816425
Option 4 ID : 9102816428
Status : Answered
Chosen Option : 1

Q.9 कर्तरी प्रयोगात कर्ता नेहमी _____ असतो.

- Ans 1. द्वितीयांत
 2. प्रथमांत
 3. मध्यमांत
 4. तृतीयांत

Question Type : MCQ

Question ID : 9102811664

Option 1 ID : 9102816557

Option 2 ID : 9102816558

Option 3 ID : 9102816559

Option 4 ID : 9102816560

Status : Answered

Chosen Option : 2

Q.10 'प्रोत्साहन' शब्दाचा विरुद्धार्थी शब्द शोधा.

- Ans 1. परावृत्त
 2. पाठिंबा
 3. उत्तेजन
 4. कौतुक

Question Type : MCQ

Question ID : 9102811656

Option 1 ID : 9102816528

Option 2 ID : 9102816527

Option 3 ID : 9102816525

Option 4 ID : 9102816526

Status : Answered

Chosen Option : 1

Q.11 खालील वाक्यातील कर्म शोधा.

"त्याने गळ्याभोवतीचा मफलर नाकापर्यंत वर ओढला"

- Ans 1. मफलर
 2. ओढला
 3. त्याने
 4. गळ्याभोवती

Question Type : MCQ

Question ID : 9102811629

Option 1 ID : 9102816419

Option 2 ID : 9102816420

Option 3 ID : 9102816417

Option 4 ID : 9102816418

Status : Answered

Chosen Option : 1

Q.12 'वाकबगार' या शब्दाचा समानार्थी शब्द निवडा.

- Ans 1. तरबेज
 2. व्याख्याता
 3. वाकडा
 4. वाकलेला

Question Type : MCQ
Question ID : 9102811650
Option 1 ID : 9102816501
Option 2 ID : 9102816504
Option 3 ID : 9102816503
Option 4 ID : 9102816502
Status : Answered
Chosen Option : 1

Q.13 एकवचन किंवा अनेक वचनात न बदलणाऱ्या नामांतील चुकीचा पर्याय निवडा.

- Ans 1. भित्त
 2. आज्ञा
 3. विद्या
 4. पूजा

Question Type : MCQ
Question ID : 9102811648
Option 1 ID : 9102816494
Option 2 ID : 9102816493
Option 3 ID : 9102816495
Option 4 ID : 9102816496
Status : Answered
Chosen Option : 1

Q.14 'पतन' शब्दाचा विरुद्धार्थी आशय असलेला पर्याय निवडा.

- Ans 1. अप्रतिष्ठा
 2. अवनती
 3. उन्नती
 4. पडणे

Question Type : MCQ
Question ID : 9102811657
Option 1 ID : 9102816532
Option 2 ID : 9102816531
Option 3 ID : 9102816529
Option 4 ID : 9102816530
Status : Answered
Chosen Option : 2

Q.15 खालील स्त्रीलिंगी शब्द जोड्यांपैकी चुकीची जोडी शोधा.

- Ans
- 1. भित्त-सून
 - 2. केळी-चूक
 - 3. घर-दार
 - 4. वेळ-वीट

Question Type : MCQ

Question ID : 9102811643

Option 1 ID : 9102816476

Option 2 ID : 9102816474

Option 3 ID : 9102816475

Option 4 ID : 9102816473

Status : Answered

Chosen Option : 3

Q.16 खालील वाक्यातील काळ शोधा.

“मुसळधार पाऊस पडत असतो. विजा कडाडत असतात”

- Ans
- 1. वर्तमानकाळ
 - 2. रीती भूतकाळ
 - 3. भूतकाळ
 - 4. भविष्यकाळ

Question Type : MCQ

Question ID : 9102811635

Option 1 ID : 9102816442

Option 2 ID : 9102816444

Option 3 ID : 9102816443

Option 4 ID : 9102816441

Status : Answered

Chosen Option : 4

Q.17 खालील अनेकवचनी शब्दांपैकी चुकीचा पर्याय शोधा.

- Ans
- 1. क्लेश
 - 2. रोमांच
 - 3. डोहाळे
 - 4. घड्याळ

Question Type : MCQ

Question ID : 9102811646

Option 1 ID : 9102816485

Option 2 ID : 9102816487

Option 3 ID : 9102816488

Option 4 ID : 9102816486

Status : Answered

Chosen Option : 4

Q.18 'भागणे' शब्दाचा विरुद्धार्थी आशय असलेला पर्याय निवडा.

- Ans
- 1. शिणणे
 - 2. श्रमणे
 - 3. मेटाकुटीस येणे
 - 4. शक्तिमान होणे

Question Type : MCQ

Question ID : 9102811655

Option 1 ID : 9102816522

Option 2 ID : 9102816521

Option 3 ID : 9102816524

Option 4 ID : 9102816523

Status : Answered

Chosen Option : 3

Q.19 भूतकालातील वाक्य निवडा.

- Ans
- 1. खेळाचे साहित्य कुठे मिळेल
 - 2. माहेरी आल्यवर मी आईकडून लाडू करून घेईन
 - 3. दर रविवारी माझी शिकवणी असते
 - 4. घरात फर्नीचर वापरण्याची कल्पना इंग्रजांनी आणली

Question Type : MCQ

Question ID : 9102811632

Option 1 ID : 9102816430

Option 2 ID : 9102816431

Option 3 ID : 9102816432

Option 4 ID : 9102816429

Status : Answered

Chosen Option : 4

Q.20 हरिहर, स्त्रीपुरुष, कृष्णार्जुन हे कोणत्या समासाचे उदाहरण आहे?

- Ans
- 1. बहुव्रीही
 - 2. द्वंद्व
 - 3. द्विमू
 - 4. अव्ययीभाव

Question Type : MCQ

Question ID : 9102811640

Option 1 ID : 9102816464

Option 2 ID : 9102816461

Option 3 ID : 9102816463

Option 4 ID : 9102816462

Status : Answered

Chosen Option : 2

Q.21 'बहकणे' म्हणजे काय?

- Ans 1. वाहवत जाणे
 2. चोप देणे
 3. ढोंग
 4. खोट्या सबबी देणे

Question Type : MCQ
Question ID : 9102811651
Option 1 ID : 9102816506
Option 2 ID : 9102816508
Option 3 ID : 9102816505
Option 4 ID : 9102816507
Status : Answered
Chosen Option : 1

Q.22 खालीलपैकी एकवचनी रूप शोधा.

- Ans 1. मंडळ
 2. मडकी
 3. लिंबे
 4. गाणी

Question Type : MCQ
Question ID : 9102811649
Option 1 ID : 9102816497
Option 2 ID : 9102816499
Option 3 ID : 9102816498
Option 4 ID : 9102816500
Status : Answered
Chosen Option : 1

Q.23 "त्याचा निबंध लिहून झाला" हे वाक्य कोणत्या प्रयोगाचे उदाहरण आहे?

- Ans 1. भावे प्रयोग
 2. समापन कर्मणी प्रयोग
 3. कर्तरी प्रयोग
 4. कर्मणी प्रयोग

Question Type : MCQ
Question ID : 9102811665
Option 1 ID : 9102816563
Option 2 ID : 9102816564
Option 3 ID : 9102816561
Option 4 ID : 9102816562
Status : Answered
Chosen Option : 2

Q.24 खालील पुल्लिंगी शब्द जोड्यांपैकी चुकीची जोडी शोधा.

- Ans 1. म्हैस-कालवड
 2. आंबा-फळा
 3. रस्ता-चौक
 4. सदरा-डबा

Question Type : MCQ

Question ID : 9102811644

Option 1 ID : 9102816478

Option 2 ID : 9102816477

Option 3 ID : 9102816479

Option 4 ID : 9102816480

Status : Answered

Chosen Option : 1

Q.25 खालील सकर्मक क्रियापद असलेले वाक्य कोणते, ते सुचवा.

- Ans 1. तो आज नगरला जाईल
 2. शीला निबंध लिहिते
 3. मी उपास करतो
 4. आज चंद्रग्रहण आहे

Question Type : MCQ

Question ID : 9102811625

Option 1 ID : 9102816404

Option 2 ID : 9102816403

Option 3 ID : 9102816401

Option 4 ID : 9102816402

Status : Answered

Chosen Option : 2

Q.26 खालीलपैकी पुल्लिंगी शब्द ओळखा.

- Ans 1. शेळी
 2. मित्र
 3. दोरी
 4. इमारत

Question Type : MCQ

Question ID : 9102811642

Option 1 ID : 9102816472

Option 2 ID : 9102816470

Option 3 ID : 9102816469

Option 4 ID : 9102816471

Status : Answered

Chosen Option : 2

Q.27 खालीलपैकी द्विगू समासाचे उदाहरण शोधा.

- Ans 1. अशी माणसे त्रिभुवनात राहतात
 2. तिथे महादेवाचे मंदिर आहे
 3. शेतकरी पालापाचोळा फेकून देतात
 4. पाडे तोंडपाठ करावे

Question Type : MCQ

Question ID : 9102811641

Option 1 ID : 9102816465

Option 2 ID : 9102816468

Option 3 ID : 9102816466

Option 4 ID : 9102816467

Status : Answered

Chosen Option : 1

Q.28 'यथेच्छ' शब्दाचा विरुद्धार्थी शब्द कोणता?

- Ans 1. विपुल
 2. खूप
 3. भरपूर
 4. न्यून

Question Type : MCQ

Question ID : 9102811654

Option 1 ID : 9102816518

Option 2 ID : 9102816519

Option 3 ID : 9102816517

Option 4 ID : 9102816520

Status : Answered

Chosen Option : 4

Q.29 खालीलपैकी योग्यरीतीने लिहिलेला शब्द शोधा.

- Ans 1. लाडिगोडी
 2. लक्ष्यार्थ
 3. बाशपीकरण
 4. रहीवास

Question Type : MCQ

Question ID : 9102811660

Option 1 ID : 9102816542

Option 2 ID : 9102816541

Option 3 ID : 9102816544

Option 4 ID : 9102816543

Status : Answered

Chosen Option : 1

Q.30 'नटसम्राट' या नाटकाचे लेखक कोण आहेत?

- Ans
- 1. रामगणेश गडकरी
 - 2. अण्णासाहेब किर्लोस्कर
 - 3. वि. वा. शिरवाडकर
 - 4. पु. ल. देशपांडे

Question Type : MCQ
Question ID : 9102811667
Option 1 ID : 9102816569
Option 2 ID : 9102816571
Option 3 ID : 9102816572
Option 4 ID : 9102816570
Status : Answered
Chosen Option : 3

Q.31 खालीलपैकी कोणत्या साहित्यकाराला अलीकडेच 'सरस्वती सन्मान' देण्यात आला?

- Ans
- 1. दया पवार
 - 2. भालचंद्र नेमाडे
 - 3. शरणकुमार लिंबाळे
 - 4. भारत सासणे

Question Type : MCQ
Question ID : 9102811666
Option 1 ID : 9102816565
Option 2 ID : 9102816568
Option 3 ID : 9102816566
Option 4 ID : 9102816567
Status : Answered
Chosen Option : 1

Q.32 खालील वाक्यातील क्रियापद शोधा.

"मी अपराध्यासारखे म्हणतो आणि कान पकडतो"

- Ans
- 1. अपराध्यासारखे
 - 2. पकडतो
 - 3. मी
 - 4. कान

Question Type : MCQ
Question ID : 9102811628
Option 1 ID : 9102816414
Option 2 ID : 9102816416
Option 3 ID : 9102816413
Option 4 ID : 9102816415
Status : Answered
Chosen Option : 2

Q.33 खालील वाक्यातील कर्ता शोधा.

“मी सर्व मजकूर सीडीवर घेतला आहे”

- Ans
- 1. घेतला
 - 2. मी
 - 3. सीडीवर
 - 4. मजकूर

Question Type : MCQ

Question ID : 9102811626

Option 1 ID : 9102816408

Option 2 ID : 9102816405

Option 3 ID : 9102816407

Option 4 ID : 9102816406

Status : Answered

Chosen Option : 2

Q.34 कर्मणी प्रयोगाचे वाक्य शोधा.

- Ans
- 1. सुनीलने पाढे म्हटले
 - 2. शिक्षकांनी मुलांना शिकवावे
 - 3. मोर नाचला
 - 4. सलीम वाचन करतो

Question Type : MCQ

Question ID : 9102811663

Option 1 ID : 9102816553

Option 2 ID : 9102816556

Option 3 ID : 9102816555

Option 4 ID : 9102816554

Status : Answered

Chosen Option : 1

Q.35 खालील नपुंसकलिंगी शब्दजोड्यांपैकी चुकीची जोडी शोधा.

- Ans
- 1. घर-वासरू
 - 2. धोतर-मोजे
 - 3. सभा-आज्ञा
 - 4. फूल-शेत

Question Type : MCQ

Question ID : 9102811645

Option 1 ID : 9102816483

Option 2 ID : 9102816481

Option 3 ID : 9102816484

Option 4 ID : 9102816482

Status : Answered

Chosen Option : 3

Q.36 'तरबेज' शब्दाचा समानार्थी शब्द शोधा.

- Ans 1. निपुण
 2. कैवार
 3. नाजूक
 4. कोमल

Question Type : MCQ
Question ID : 9102811653
Option 1 ID : 9102816516
Option 2 ID : 9102816513
Option 3 ID : 9102816514
Option 4 ID : 9102816515
Status : Answered
Chosen Option : 1

Q.37 'अरे संसार, संसार! जसा तवा चुल्ह्यावर' ही कविता कुणाची आहे?

- Ans 1. बहिणाबाई चौधरी
 2. मनीषा साधू
 3. प्र. के. अत्रे
 4. अरुणा ढेरे

Question Type : MCQ
Question ID : 9102811669
Option 1 ID : 9102816579
Option 2 ID : 9102816578
Option 3 ID : 9102816577
Option 4 ID : 9102816580
Status : Answered
Chosen Option : 1

Q.38 'मायाळू' शब्दाचा विरुद्धार्थी शब्द निवडा.

- Ans 1. सौम्य
 2. सहृदय
 3. क्रूर
 4. दयावान

Question Type : MCQ
Question ID : 9102811658
Option 1 ID : 9102816536
Option 2 ID : 9102816534
Option 3 ID : 9102816533
Option 4 ID : 9102816535
Status : Answered
Chosen Option : 3

Q.39 खालील वाक्यातील प्रयोग ओळखा.

“त्याने आता घरी जावे”

- Ans
- 1. कर्मकर्त्री
 - 2. भावे प्रयोग
 - 3. कर्मणी
 - 4. कर्त्री

Question Type : MCQ

Question ID : 9102811662

Option 1 ID : 9102816550

Option 2 ID : 9102816549

Option 3 ID : 9102816551

Option 4 ID : 9102816552

Status : Answered

Chosen Option : 2

Q.40 “मनीष, मोहन व मोहसिन एकाच वर्गात शिकतात” हे वाक्य कोणत्या प्रकारचे वाक्य आहे?

- Ans
- 1. प्रश्नार्थक वाक्य
 - 2. केवळ वाक्य
 - 3. संयुक्त वाक्य
 - 4. मिश्र वाक्य

Question Type : MCQ

Question ID : 9102811637

Option 1 ID : 9102816449

Option 2 ID : 9102816451

Option 3 ID : 9102816452

Option 4 ID : 9102816450

Status : Answered

Chosen Option : 3

Q.41 खालीलपैकी उद्गारवाची वाक्य निवडा.

- Ans
- 1. दीड महिन्यांपासून घर का बंद आहे?
 - 2. चाकरमाने कामाला दांडी मारून घरी येतात
 - 3. रोजचीच कटकट आहे, मी बाहेरून आलो की घरी कुलूप असते
 - 4. निवू अंगात जाकीट घालतो

Question Type : MCQ

Question ID : 9102811639

Option 1 ID : 9102816458

Option 2 ID : 9102816460

Option 3 ID : 9102816457

Option 4 ID : 9102816459

Status : Answered

Chosen Option : 3

Q.42 अचूक पर्याय निवडा.

- Ans 1. कारस्तान
 2. प्रतीस्पर्धा
 3. प्रत्युत्तर
 4. दानशुर

Question Type : MCQ

Question ID : 9102811661

Option 1 ID : 9102816548

Option 2 ID : 9102816546

Option 3 ID : 9102816547

Option 4 ID : 9102816545

Status : Answered

Chosen Option : 2

Q.43 खालील वाक्यातील कर्ता शोधा.

“आई न दिसल्यामुळे पियूने रडून गोंधळ घातला”

- Ans 1. आई
 2. रडून
 3. गोंधळ
 4. पियू

Question Type : MCQ

Question ID : 9102811627

Option 1 ID : 9102816409

Option 2 ID : 9102816412

Option 3 ID : 9102816411

Option 4 ID : 9102816410

Status : Answered

Chosen Option : 4

Q.44 “एक नामवंत नाट्यदिग्दर्शक शाळेत येतील व ते मुलांचे नाटक बसवतील” हे कोणत्या प्रकारचे वाक्य आहे?

- Ans 1. केवळ वाक्य
 2. संयुक्त वाक्य
 3. प्रश्नार्थक वाक्य
 4. उद्गारवाचक वाक्य

Question Type : MCQ

Question ID : 9102811636

Option 1 ID : 9102816446

Option 2 ID : 9102816447

Option 3 ID : 9102816445

Option 4 ID : 9102816448

Status : Answered

Chosen Option : 2

Q.45 खालीलपैकी एकवचन व अनेकवचन सारखेच असणारा पर्याय कोणता?

- Ans 1. माणूस
 2. भाकरी
 3. बी
 4. लाडू

Question Type : MCQ

Question ID : 9102811647

Option 1 ID : 9102816491

Option 2 ID : 9102816490

Option 3 ID : 9102816492

Option 4 ID : 9102816489

Status : Answered

Chosen Option : 4

Comprehension:

खालील उतारा काळजीपूर्वक वाचा आणि दिलेल्या प्रश्नांची उत्तरे द्या.

महत्वाकांक्षा ही मानवाची फार मोठी विशेषता होय. कारण विकासाची इच्छा मानवांव्यतिरिक्त अन्य प्राण्यात आढळत नाही. बैल गवत खातो, तो शेवटपर्यंत गवतच खात राहतो, शेवटपर्यंत तो झाडाखालीच झोपतो आणि जमिनीवरच उठतो-बसतो. मधमाशा सुंदर पोळे तयार करतात. तया पोळ्यांच्या रचनेची अनेक शास्त्रज्ञांनी मोठी प्रशंसा केली आहे. पण त्या तऱ्हेची पोळे त्या मधमाशा वर्षानुवर्षे, पिढ्यानपिढ्या तयार करीत आहेत. त्यात परिवर्तन, सुधारणा काहीएक नाही. यात सुखसोयी वाढवाव्यात अशी इच्छाही त्यांच्या ठायी विद्यमान नाही. सुगरण पक्षी अतिशय सुंदर घरटे बांधतो. पण हजारो वर्षे झाली, तो तसेच बांधतो आहे. कोकिल निःसंशय अतिशय गोड गाणे गातो, पण निरनिराळे राग गावेत, ताना घ्याव्यात, विविध आलाप काढावेत, ख्याल, टप्पा, ध्रुपद, लावणी, नाट्यसंगीत, सिनेसंगीत असे काहीतरी नवनवे प्रयोग करावे, शिकावे असे त्याला मुळीच वाटत नाही.

मी चांगले अन्न खाईन, अधिक चांगले खाईन, चांगली वस्त्रे नेसेन, मी माझे घर बांधेन, मोठा वाडा बांधेन नवे करण्याची आणि उत्तरोत्तर अधिकाधिक उन्नत होण्याची आकांक्षा फक्त मनुष्याच्या ठिकाणी आढळते. म्हणूनच असे म्हणता येईल की, ज्याला काही महत्वाकांक्षा आहे तो मनुष्य, आणि ज्याला नाही तो पशूः. नुसते स्वप्ने पाहणे जसे वाईट आहे, तशीच आपल्या ध्येयाबद्दल एकसारखी चर्चा करणेही वाईट असते. माझी अशी महत्वाकांक्षा आहे, तशी महत्वाकांक्षा आहे. अशे ज्याला त्याला सांगत सुटण्याची सवय काही लोकांना असते. त्यामुळे त्याची शक्ती नुसती चर्चा करण्यात अधिक खर्च होते आणि प्रत्यक्ष ध्येयानुकूल कृती त्याच्या हातून काही घडत नाही. बोलेल तो करील काय आणि गर्जेल तो वर्षेल काय ही म्हण प्रसिद्धच आहे. जो अल्पस्वल्प प्रगतीमध्ये इतिकर्तव्यता मनतो तो काही खरा महत्वाकांक्षी नव्हे. आळस, अज्ञान, भीती, शारीरिक दुर्बलता, मानसिक चंचलता या गोष्टींच्या आहारी जाऊन अनेकदा माणसे म्हणतात, जाऊ द्या; पुरे झाले एवढेच. माणसाने समाधानी वृत्तीने राहावे; जशी ईश्वराची इच्छा असेल तसे होईल. इत्यादी. खऱ्या अर्थाने ते समाधानी नसतात किंवा ईश्वरावर त्यांची मोठी श्रद्धाही नसते. आपला आळस किंवा अकर्मण्यात लपविण्याकरिता ते या मोठ्या शब्दांचा आश्रय घेततात आणि स्वतःचे नुकसान करतात.

SubQuestion No : 46

Q.46 शास्त्रज्ञांनी कोणाच्या कृतीची प्रशंसा केली आहे?

- Ans 1. मधमाशीची
 2. सुगरणीची
 3. कोकिलेची
 4. माणसाची

Question Type : MCQ

Question ID : 9102811674

Option 1 ID : 9102816593

Option 2 ID : 9102816594

Option 3 ID : 9102816595

Option 4 ID : 9102816596

Status : Answered

Chosen Option : 1

Comprehension:

खालील उतारा काळजीपूर्वक वाचा आणि दिलेल्या प्रश्नांची उत्तरे द्या.

महत्त्वाकांक्षा ही मानवाची फार मोठी विशेषता होय. कारण विकासाची इच्छा मानवांमधील अत्यंत प्राण्यात आढळत नाही. बैल गवत खातो, तो शेवटपर्यंत गवतच खात राहतो, शेवटपर्यंत तो झाडाखालीच झोपतो आणि जमिनीवरच उठतो-बसतो. मधमाशा सुंदर पोळे तयार करतात. त्या पोळ्यांच्या रचनेची अनेक शास्त्रज्ञांनी मोठी प्रशंसा केली आहे. पण त्या तऱ्हेची पोळे त्या मधमाशा वर्षानुवर्षे, पिढ्यानपिढ्या तयार करीत आहेत. त्यात परिवर्तन, सुधारणा काहीएक नाही. यात सुखसोयी वाढवाव्यात अशी इच्छाही त्यांच्या ठायी विद्यमान नाही. सुगरण पक्षी अतिशय सुंदर घरटे बांधतो. पण हजारो वर्षे झाली, तो तसेच बांधतो आहे. कोकिल निःसंशय अतिशय गोड गाणे गातो, पण निरनिराळे राग गावेत, ताना घ्याव्यात, विविध आलाप काढावेत, ख्याल, टप्पा, ध्रुपद, लावणी, नाट्यसंगीत, सिनेसंगीत असे काहीतरी नवनवे प्रयोग करावे, शिकावे असे त्याला मुळीच वाटत नाही.

मी चांगले अन्न खाईन, अधिक चांगले खाईन, चांगली वस्त्रे नेसेन, मी माझे घर बांधेन, मोठा वाडा बांधेन नवे करण्याची आणि उत्तरोत्तर अधिकाधिक उन्नत होण्याची आकांक्षा फक्त मनुष्याच्या ठिकाणी आढळते. म्हणूनच असे म्हणता येईल की, ज्याला काही महत्त्वाकांक्षा आहे तो मनुष्य, आणि ज्याला नाही तो पशू.

नुसते स्वप्ने पाहणे जसे वाईट आहे, तशीच आपल्या ध्येयाबद्दल एकसारखी चर्चा करणेही वाईट असते. माझी अशी महत्त्वाकांक्षा आहे, तशी महत्त्वाकांक्षा आहे. अशे ज्याला त्याला सांगत सुटण्याची सवय काही लोकांना असते. त्यामुळे त्याची शक्ती नुसती चर्चा करण्यात अधिक खर्च होते आणि प्रत्यक्ष ध्येयानुकूल कृती त्याच्या हातून काही घडत नाही. बोलेल तो करील काय आणि गर्जेल तो वर्षेल काय ही म्हण प्रसिद्ध आहे. जो अल्पस्वल्प प्रगतीमध्ये इतिकर्तव्यता मनतो तो काही खरा महत्त्वाकांक्षी नव्हे. आळस, अज्ञान, भीती, शारीरिक दुर्बलता, मानसिक चंचलता या गोष्टींच्या आहारी जाऊन अनेकदा माणसे म्हणतात, जाऊ द्या; पुरे झाले एवढेच. माणसाने समाधानी वृत्तीने राहावे; जशी ईश्वराची इच्छा असेल तसे होईल. इत्यादी. खऱ्या अर्थाने ते समाधानी नसतात किंवा ईश्वरावर त्यांची मोठी श्रद्धाही नसते. आपला आळस किंवा अकर्मण्यात लपविण्याकरिता ते या मोठ्या शब्दांचा आश्रय घेततात आणि स्वतःचे नुकसान करतात.

SubQuestion No : 47

Q.47 लेखकाच्या मते लोक मोठ्या शब्दांचा अवलंब कोणत्या कारणास्तव करतात?

- Ans**
- 1. ध्येयासक्ती दाखविण्यासाठी
 - 2. इतिकर्तव्यता सांगण्यासाठी
 - 3. आपली अकर्मण्यात लपविण्यासाठी
 - 4. मानसिक चंचलता लपविण्यासाठी

Question Type : MCQ

Question ID : 9102811671

Option 1 ID : 9102816583

Option 2 ID : 9102816582

Option 3 ID : 9102816581

Option 4 ID : 9102816584

Status : Answered

Chosen Option : 3

Comprehension:

खालील उतारा काळजीपूर्वक वाचा आणि दिलेल्या प्रश्नांची उत्तरे द्या.

महत्त्वाकांक्षा ही मानवाची फार मोठी विशेषता होय. कारण विकासाची इच्छा मानवांमधील अत्यंत प्राण्यात आढळत नाही. बैल गवत खातो, तो शेवटपर्यंत गवतच खात राहतो, शेवटपर्यंत तो झाडाखालीच झोपतो आणि जमिनीवरच उठतो-बसतो. मधमाशा सुंदर पोळे तयार करतात. त्या पोळ्यांच्या रचनेची अनेक शास्त्रज्ञांनी मोठी प्रशंसा केली आहे. पण त्या तऱ्हेची पोळे त्या मधमाशा वर्षानुवर्षे, पिढ्यानपिढ्या तयार करीत आहेत. त्यात परिवर्तन, सुधारणा काहीएक नाही. यात सुखसोयी वाढवाव्यात अशी इच्छाही त्यांच्या ठायी विद्यमान नाही. सुगरण पक्षी अतिशय सुंदर घरटे बांधतो. पण हजारो वर्षे झाली, तो तसेच बांधतो आहे. कोकिल निःसंशय अतिशय गोड गाणे गातो, पण निरनिराळे राग गावेत, ताना घ्याव्यात, विविध आलाप काढावेत, ख्याल, टप्पा, ध्रुपद, लावणी, नाट्यसंगीत, सिनेसंगीत असे काहीतरी नवनवे प्रयोग करावे, शिकावे असे त्याला मुळीच वाटत नाही.

मी चांगले अन्न खाईन, अधिक चांगले खाईन, चांगली वस्त्रे नेसेन, मी माझे घर बांधेन, मोठा वाडा बांधेन नवे करण्याची आणि उत्तरोत्तर अधिकाधिक उन्नत होण्याची आकांक्षा फक्त मनुष्याच्या ठिकाणी आढळते. म्हणूनच असे म्हणता येईल की, ज्याला काही महत्त्वाकांक्षा आहे तो मनुष्य, आणि ज्याला नाही तो पशू.

नुसते स्वप्ने पाहणे जसे वाईट आहे, तशीच आपल्या ध्येयाबद्दल एकसारखी चर्चा करणेही वाईट असते. माझी अशी महत्त्वाकांक्षा आहे, तशी महत्त्वाकांक्षा आहे. अशे ज्याला त्याला सांगत सुटण्याची सवय काही लोकांना असते. त्यामुळे त्याची शक्ती नुसती चर्चा करण्यात अधिक खर्च होते आणि प्रत्यक्ष ध्येयानुकूल कृती त्याच्या हातून काही घडत नाही. बोलेल तो करील काय आणि गर्जेल तो वर्षेल काय ही म्हण प्रसिद्ध आहे. जो अल्पस्वल्प प्रगतीमध्ये इतिकर्तव्यता मनतो तो काही खरा महत्त्वाकांक्षी नव्हे. आळस, अज्ञान, भीती, शारीरिक दुर्बलता, मानसिक चंचलता या गोष्टींच्या आहारी जाऊन अनेकदा माणसे म्हणतात, जाऊ द्या; पुरे झाले एवढेच. माणसाने समाधानी वृत्तीने राहावे; जशी ईश्वराची इच्छा असेल तसे होईल. इत्यादी. खऱ्या अर्थाने ते समाधानी नसतात किंवा ईश्वरावर त्यांची मोठी श्रद्धाही नसते. आपला आळस किंवा अकर्मण्यात लपविण्याकरिता ते या मोठ्या शब्दांचा आश्रय घेततात आणि स्वतःचे नुकसान करतात.

SubQuestion No : 48

Q.48 लेखकाच्या मते महत्त्वाकांक्षी माणसाची लक्षणे कोणती?

- Ans
- 1. मोठ्या शब्दांचा वापर करणारा
 - 2. प्रत्यक्ष ध्येयानुकूल कृती करणारा
 - 3. अल्पस्वल्प कृतीत समाधान मानणारा
 - 4. अकर्मण्यात लपविणारा

Question Type : MCQ

Question ID : 9102811672

Option 1 ID : 9102816588

Option 2 ID : 9102816587

Option 3 ID : 9102816585

Option 4 ID : 9102816586

Status : Answered

Chosen Option : 2

Comprehension:

खालील उतारा काळजीपूर्वक वाचा आणि दिलेल्या प्रश्नांची उत्तरे द्या.

महत्त्वाकांक्षा ही मानवाची फार मोठी विशेषता होय. कारण विकासाची इच्छा मानवांमधील अत्यंत प्राण्यात आढळत नाही. बैल गवत खातो, तो शेवटपर्यंत गवतच खात राहतो, शेवटपर्यंत तो झाडाखालीच झोपतो आणि जमिनीवरच उठतो-बसतो. मधमाशा सुंदर पोळे तयार करतात. त्या पोळ्यांच्या रचनेची अनेक शास्त्रज्ञांनी मोठी प्रशंसा केली आहे. पण त्या तऱ्हेची पोळे त्या मधमाशा वर्षानुवर्षे, पिढ्यानपिढ्या तयार करीत आहेत. त्यात परिवर्तन, सुधारणा काहीएक नाही. यात सुखसोयी वाढवाव्यात अशी इच्छाही त्यांच्या ठायी विद्यमान नाही. सुगरण पक्षी अतिशय सुंदर घरटे बांधतो. पण हजारो वर्षे झाली, तो तसेच बांधतो आहे. कोकीळ निःसंशय अतिशय गोड गाणे गातो, पण निरनिराळे राग गावेत, ताना घ्याव्यात, विविध आलाप काढावेत, ख्याल, टप्पा, ध्रुपद, लावणी, नाट्यसंगीत, सिनेसंगीत असे काहीतरी नवनवे प्रयोग करावे, शिकावे असे त्याला मुळीच वाटत नाही.

मी चांगले अन्न खाईन, अधिक चांगले खाईन, चांगली वस्त्रे नेसेन, मी माझे घर बांधेन, मोठा वाडा बांधेन नवे करण्याची आणि उत्तरोत्तर अधिकाधिक उन्नत होण्याची आकांक्षा फक्त मनुष्याच्या ठिकाणी आढळते. म्हणूनच असे म्हणता येईल की, ज्याला काही महत्त्वाकांक्षा आहे तो मनुष्य, आणि ज्याला नाही तो पशू.

नुसते स्वप्ने पाहणे जसे वाईट आहे, तशीच आपल्या ध्येयाबद्दल एकसारखी चर्चा करणेही वाईट असते. माझी अशी महत्त्वाकांक्षा आहे, तशी महत्त्वाकांक्षा आहे. अशे ज्याला त्याला सांगत सुटण्याची सवय काही लोकांना असते. त्यामुळे त्याची शक्ती नुसती चर्चा करण्यात अधिक खर्च होते आणि प्रत्यक्ष ध्येयानुकूल कृती त्याच्या हातून काही घडत नाही. बोलेल तो करील काय आणि गर्जेल तो वर्षेल काय ही म्हण प्रसिद्ध आहे. जो अल्पस्वल्प प्रगतीमध्ये इतिकर्तव्यता मनतो तो काही खरा महत्त्वाकांक्षी नव्हे. आळस, अज्ञान, भीती, शारीरिक दुर्बलता, मानसिक चंचलता या गोष्टींच्या आहारी जाऊन अनेकदा माणसे म्हणतात, जाऊ द्या; पुरे झाले एवढेच. माणसाने समाधानी वृत्तीने राहावे; जशी ईश्वराची इच्छा असेल तसे होईल. इत्यादी. खऱ्या अर्थाने ते समाधानी नसतात किंवा ईश्वरावर त्यांची मोठी श्रद्धाही नसते. आपला आळस किंवा अकर्मण्यात लपविण्याकरिता ते या मोठ्या शब्दांचा आश्रय घेततात आणि स्वतःचे नुकसान करतात.

SubQuestion No : 49

Q.49 लेखकाच्या मते आपल्या जगण्यात परिवर्तन व्हावे ही महत्त्वाकांक्षा कोणाच्या ठिकाणी असते?

- Ans 1. मधमाशी
 2. माणूस
 3. कोकीळ
 4. सुगरण

Question Type : MCQ

Question ID : 9102811673

Option 1 ID : 9102816589

Option 2 ID : 9102816592

Option 3 ID : 9102816590

Option 4 ID : 9102816591

Status : Answered

Chosen Option : 2

Comprehension:

खालील उतारा काळजीपूर्वक वाचा आणि दिलेल्या प्रश्नांची उत्तरे द्या.

महत्त्वाकांक्षा ही मानवाची फार मोठी विशेषता होय. कारण विकासाची इच्छा मानवांमधील अत्यंत प्राण्यात आढळत नाही. बैल गवत खातो, तो शेवटपर्यंत गवतच खात राहतो, शेवटपर्यंत तो झाडाखालीच झोपतो आणि जमिनीवरच उठतो-बसतो. मधमाशा सुंदर पोळे तयार करतात. त्या पोळ्यांच्या रचनेची अनेक शास्त्रज्ञांनी मोठी प्रशंसा केली आहे. पण त्या तऱ्हेची पोळे त्या मधमाशा वर्षानुवर्षे, पिढ्यानपिढ्या तयार करीत आहेत. त्यात परिवर्तन, सुधारणा काहीएक नाही. यात सुखसोयी वाढवाव्यात अशी इच्छाही त्यांच्या ठायी विद्यमान नाही. सुगरण पक्षी अतिशय सुंदर घरटे बांधतो. पण हजारो वर्षे झाली, तो तसेच बांधतो आहे. कोकिल निःसंशय अतिशय गोड गाणे गातो, पण निरनिराळे राग गावेत, ताना घ्याव्यात, विविध आलाप काढावेत, ख्याल, टप्पा, ध्रुपद, लावणी, नाट्यसंगीत, सिनेसंगीत असे काहीतरी नवनवे प्रयोग करावे, शिकावे असे त्याला मुळीच वाटत नाही.

मी चांगले अन्न खाईन, अधिक चांगले खाईन, चांगली वस्त्रे नेसेन, मी माझे घर बांधेन, मोठा वाडा बांधेन नवे करण्याची आणि उत्तरोत्तर अधिकाधिक उन्नत होण्याची आकांक्षा फक्त मनुष्याच्या ठिकाणी आढळते. म्हणूनच असे म्हणता येईल की, ज्याला काही महत्त्वाकांक्षा आहे तो मनुष्य, आणि ज्याला नाही तो पशू.

नुसते स्वप्ने पाहणे जसे वाईट आहे, तशीच आपल्या ध्येयाबद्दल एकसारखी चर्चा करणेही वाईट असते. माझी अशी महत्त्वाकांक्षा आहे, तशी महत्त्वाकांक्षा आहे. अशे ज्याला त्याला सांगत सुटण्याची सवय काही लोकांना असते. त्यामुळे त्याची शक्ती नुसती चर्चा करण्यात अधिक खर्च होते आणि प्रत्यक्ष ध्येयानुकूल कृती त्याच्या हातून काही घडत नाही. बोलेल तो करील काय आणि गर्जेल तो वर्षेल काय ही म्हण प्रसिद्ध आहे. जो अल्पस्वल्प प्रगतीमध्ये इतिकर्तव्यता मनतो तो काही खरा महत्त्वाकांक्षी नव्हे. आळस, अज्ञान, भीती, शारीरिक दुर्बलता, मानसिक चंचलता या गोष्टींच्या आहारी जाऊन अनेकदा माणसे म्हणतात, जाऊ द्या; पुरे झाले एवढेच. माणसाने समाधानी वृत्तीने राहावे; जशी ईश्वराची इच्छा असेल तसे होईल. इत्यादी. खऱ्या अर्थाने ते समाधानी नसतात किंवा ईश्वरावर त्यांची मोठी श्रद्धाही नसते. आपला आळस किंवा अकर्मण्यात लपविण्याकरिता ते या मोठ्या शब्दांचा आश्रय घेततात आणि स्वतःचे नुकसान करतात.

SubQuestion No : 50

Q.50 लेखकाच्या मते काही लोकांना कोणत्या गोष्टींची सवय असते?

- Ans
- 1. झाडाखाली झोपण्याची
 - 2. आपल्या सुखसोयीची चर्चा करण्याची
 - 3. नवनवीन प्रकार शिकण्याची
 - 4. आपल्या महत्त्वाकांक्षांबद्दल बोलत राहण्याची

Question Type : MCQ

Question ID : 9102811675

Option 1 ID : 9102816600

Option 2 ID : 9102816597

Option 3 ID : 9102816599

Option 4 ID : 9102816598

Status : Answered

Chosen Option : 4

Q.1 In the question, four proverbs are given as alternatives for the sentence below. Mark the best substitution as your answer.

I will never drive the car without wearing a seat belt, I had to face serious injury due to this once.

- Ans 1. Once bitten twice shy.
 2. The best-laid plans go astray.
 3. Practice what you preach.
 4. There is safety in numbers.

Question Type : MCQ

Question ID : 9102811705

Option 1 ID : 9102816717

Option 2 ID : 9102816719

Option 3 ID : 9102816718

Option 4 ID : 9102816720

Status : Answered

Chosen Option : 4

Q.2 The section consists of six sentences of a passage. The first sentence (S1) and the final sentence (S6) are fixed. The middle four sentences in each have been jumbled up and labelled as P, Q, R and S. Rearrange the following sentences into a meaningful sequence.

S1- We love and care for our elders in our culture.

P: They provided us with the house, food and support when we were growing.

Q: We now must provide the house, food and support when they have aged.

R: Our old parents and grandparents did a lot for us in their fruitful life.

S: Our cultural values and systems imbibe this duty in us from childhood.

S6: That is why our Indian culture is the richest one in the world.

The correct sequence should be:

- Ans 1. RPQS
 2. SPQR
 3. RSPQ
 4. PQRS

Question Type : MCQ

Question ID : 9102811710

Option 1 ID : 9102816739

Option 2 ID : 9102816738

Option 3 ID : 9102816740

Option 4 ID : 9102816737

Status : Answered

Chosen Option : 3

Q.3 A sentence is given below with some errors related to the usage of adjectives. The three alternatives are given as choices. One of them makes the sentences correct. Mark that adjective as your answer. If no correction is required in the given sentence, then mark 'No correction' as your answer.

The six-month lockdown has brought disproportionate disruptions in the lives of labourers.

- Ans
- 1. Misappropriate
 - 2. Proportionate
 - 3. Appropriate
 - 4. No correction

Question Type : MCQ
Question ID : 9102811682
Option 1 ID : 9102816625
Option 2 ID : 9102816627
Option 3 ID : 9102816626
Option 4 ID : 9102816628
Status : Answered
Chosen Option : 3

Q.4 Of the four alternatives given under the sentence, find the one that best fits in the blank space.

The Judge freed him as he _____ his apology.

- Ans
- 1. tendered
 - 2. registered
 - 3. bargained
 - 4. demanded

Question Type : MCQ
Question ID : 9102811680
Option 1 ID : 9102816617
Option 2 ID : 9102816618
Option 3 ID : 9102816620
Option 4 ID : 9102816619
Status : Answered
Chosen Option : 2

Q.5 From the given options, choose the word that best replace the underlined word to make the sentence coherent. If the underlined word is correct, select 'no correction'.

When his parents met him after a long time, they became emotional.

- Ans
- 1. no correction
 - 2. was meeting
 - 3. would have met
 - 4. has met

Question Type : MCQ
Question ID : 9102811687
Option 1 ID : 9102816648
Option 2 ID : 9102816646
Option 3 ID : 9102816647
Option 4 ID : 9102816645
Status : Answered
Chosen Option : 1

Q.6 Of the four alternatives given under the sentence, find the one that best fits in the blank space.

His face becomes _____ red when he is in anger.

- Ans
- 1. erratically
 - 2. endemically
 - 3. externally
 - 4. extremely

Question Type : MCQ
Question ID : 9102811683
Option 1 ID : 9102816629
Option 2 ID : 9102816631
Option 3 ID : 9102816632
Option 4 ID : 9102816630
Status : Answered
Chosen Option : 1

Q.7 Of the four alternatives given under the sentence, find the one that best fits in the blank space.

He is a _____ heart surgeon respected in the medical fraternity for his skills.

- Ans
- 1. different
 - 2. district
 - 3. distinctive
 - 4. diffident

Question Type : MCQ
Question ID : 9102811681
Option 1 ID : 9102816624
Option 2 ID : 9102816622
Option 3 ID : 9102816621
Option 4 ID : 9102816623
Status : Answered
Chosen Option : 2

Q.8 A sentence consists of an underlined word or a phrase followed by four words or phrases as options. Select the word or phrase which is opposite in meaning to the underlined word or phrase.

His procrastinating did not impress me, and I threw him out of the job.

- Ans
- 1. advancing
 - 2. honesty
 - 3. freeing
 - 4. courageous

Question Type : MCQ
Question ID : 9102811700
Option 1 ID : 9102816700
Option 2 ID : 9102816698
Option 3 ID : 9102816697
Option 4 ID : 9102816699
Status : Answered
Chosen Option : 1

Q.9 Find the option that can be defined as:

The genuineness of some statement or something.

- Ans
- 1. Naiveness.
 - 2. Veracity.
 - 3. Genial.
 - 4. Simplicity.

Question Type : MCQ
Question ID : 9102811715
Option 1 ID : 9102816759
Option 2 ID : 9102816758
Option 3 ID : 9102816760
Option 4 ID : 9102816757
Status : Answered
Chosen Option : 3

Q.10 In the question, four alternatives are given for the proverb below. Choose the alternative that best expresses the meaning of the proverb given in bold.

A thing begun is half done.

- Ans
- 1. Some actions are better not completed.
 - 2. A good beginning makes it easier to accomplish a task.
 - 3. It is advised to begin work than to give excuses.
 - 4. First half is always more important than the second half.

Question Type : MCQ
Question ID : 9102811704
Option 1 ID : 9102816713
Option 2 ID : 9102816716
Option 3 ID : 9102816714
Option 4 ID : 9102816715
Status : Answered
Chosen Option : 3

Q.11 Read the sentence given below to answer the question that follows.

Mr. Bill Gates is a philanthropist by choice.

What is the meaning of the word 'philanthropist'?

- Ans
- 1. Rich.
 - 2. Technical.
 - 3. Reserved.
 - 4. Charitable.

Question Type : MCQ
Question ID : 9102811712
Option 1 ID : 9102816745
Option 2 ID : 9102816747
Option 3 ID : 9102816748
Option 4 ID : 9102816746
Status : Answered
Chosen Option : 4

Q.12 Of the four alternatives given under the sentence, fill in the blank with the correct word.

By the time police arrives at the scene of the crime, suspects _____ gone.

- Ans
- 1. will has
 - 2. was
 - 3. will have
 - 4. had

Question Type : MCQ
Question ID : 9102811686
Option 1 ID : 9102816641
Option 2 ID : 9102816644
Option 3 ID : 9102816642
Option 4 ID : 9102816643
Status : Answered
Chosen Option : 2

Q.13 A sentence has been given in the direct speech. Out of the four alternatives, select the one that best expresses the same sentence in indirect speech.

The Chief Minister said, 'we are sorry'.

- Ans
- 1. The Chief Minister asked for an apology.
 - 2. The Chief Minister said that he was sorry.
 - 3. The Chief Minister said that they were sorry.
 - 4. The Chief Minister said that he felt sorry.

Question Type : MCQ
Question ID : 9102811693
Option 1 ID : 9102816670
Option 2 ID : 9102816671
Option 3 ID : 9102816672
Option 4 ID : 9102816669
Status : Answered
Chosen Option : 3

Q.14 Choose an appropriate article from the options provided below to fill in the blank.

I love ____ Russian music.

- Ans
- 1. No article required
 - 2. an
 - 3. a
 - 4. the

Question Type : MCQ
Question ID : 9102811691
Option 1 ID : 9102816664
Option 2 ID : 9102816662
Option 3 ID : 9102816661
Option 4 ID : 9102816663
Status : Answered
Chosen Option : 3

Q.15 In the question, four alternatives are given for idiom/phrase in bold in the sentence. Choose the alternative that best expresses the meaning of the idiom/phrase given in bold.

A wild man-eating tigress is at large, and forest authorities are trying to find her.

- Ans
- 1. To be very dangerous.
 - 2. To have a good time.
 - 3. To have escaped.
 - 4. To be on a killing spree.

Question Type : MCQ

Question ID : 9102811703

Option 1 ID : 9102816709

Option 2 ID : 9102816710

Option 3 ID : 9102816711

Option 4 ID : 9102816712

Status : Answered

Chosen Option : 2

Q.16 The section consists of six sentences of a passage. The first sentence (S1) and the final sentence (S6) are fixed. The middle four sentences in each have been jumbled up and labelled as P, Q, R and S. Rearrange the following sentences into a meaningful sequence.

S1- It is a very crucial decision of life to purchase a property.

P- The location of the property must be decided first and foremost.

Q- The property selected should be within the budget.

R- The property should be free of all litigation and encumbrances.

S- The agreement is finally signed after scrutiny of all the clauses.

S6- The agreement then is registered in the land authority's office.

The correct sequence should be:

- Ans
- 1. RSPQ
 - 2. SRPQ
 - 3. QPSR
 - 4. PQRS

Question Type : MCQ

Question ID : 9102811709

Option 1 ID : 9102816734

Option 2 ID : 9102816735

Option 3 ID : 9102816733

Option 4 ID : 9102816736

Status : Answered

Chosen Option : 2

Q.17 In the following question, some part of the sentence may have errors. One part has the error of preposition. Identify that part of the sentence and mark it as your answer. If there is no error, then mark 'No error'.

In today's newspaper, the executive engineer has invited the tenders to the freshwater line that is to be laid in this area.

- Ans
- 1. In today's newspaper, the executive engineer has invited
 - 2. that is to be laid in this area.
 - 3. No error
 - 4. the tenders to the freshwater line

Question Type : MCQ
Question ID : 9102811679
Option 1 ID : 9102816613
Option 2 ID : 9102816615
Option 3 ID : 9102816616
Option 4 ID : 9102816614
Status : Answered
Chosen Option : 2

Q.18 Of the four alternatives given under the sentence, fill in the blank with the correct word.

Indians are very positive in believing that all is well that _____ well.

- Ans
- 1. will end
 - 2. ends
 - 3. end
 - 4. ending

Question Type : MCQ
Question ID : 9102811685
Option 1 ID : 9102816640
Option 2 ID : 9102816638
Option 3 ID : 9102816637
Option 4 ID : 9102816639
Status : Answered
Chosen Option : 3

Q.19 Choose the correctly spelt word.

- Ans
- 1. Millenneum
 - 2. Millennium
 - 3. Melinium
 - 4. Millinium

Question Type : MCQ
Question ID : 9102811706
Option 1 ID : 9102816722
Option 2 ID : 9102816721
Option 3 ID : 9102816724
Option 4 ID : 9102816723
Status : Answered
Chosen Option : 2

Q.20 Choose the set of suitable articles from the options provided below to fill in the blanks.

I am planning _____ vacation with my family; we will go to _____ banks of the river Narmada.

- Ans
- 1. a; the
 - 2. no article needed
 - 3. a; a
 - 4. the; a

Question Type : MCQ
Question ID : 9102811692
Option 1 ID : 9102816667
Option 2 ID : 9102816668
Option 3 ID : 9102816666
Option 4 ID : 9102816665
Status : Answered
Chosen Option : 1

Q.21 A sentence with a mis-spelt word is given. Identify the word that has the error of spelling and mark it as your answer. If there is no error mark "No error" as your answer.

Our ancestors probably lived in the trees before evolution.

- Ans
- 1. No error.
 - 2. Our ancestors
 - 3. trees before evolution.
 - 4. probably lived in the

Question Type : MCQ
Question ID : 9102811707
Option 1 ID : 9102816728
Option 2 ID : 9102816725
Option 3 ID : 9102816727
Option 4 ID : 9102816726
Status : Answered
Chosen Option : 2

Q.22 A sentence consists of an underlined word or a phrase followed by four words or phrases as options. Select the word or phrase which is opposite in meaning to the underlined word or phrase.

We will not entertain any anonymous complaint.

- Ans
- 1. identified
 - 2. friendly
 - 3. mailed
 - 4. signed

Question Type : MCQ
Question ID : 9102811699
Option 1 ID : 9102816696
Option 2 ID : 9102816693
Option 3 ID : 9102816695
Option 4 ID : 9102816694
Status : Answered
Chosen Option : 1

Q.23 A sentence consists of an underlined word or a phrase followed by four words or phrases as options. Select the word or phrase closest in the meaning to the underlined word or phrase.

Death is inevitable.

- Ans 1. exaggerated
 2. horrible
 3. definite
 4. ubiquitous

Question Type : MCQ
Question ID : 9102811701
Option 1 ID : 9102816701
Option 2 ID : 9102816702
Option 3 ID : 9102816703
Option 4 ID : 9102816704
Status : Answered
Chosen Option : 3

Q.24 Fill in the blank with the proper one-word substitution.

The court has decided that she would get Rs. 10000/- per month from her husband's salary as _____ after divorce.

- Ans 1. matrimony
 2. patrimony
 3. colony
 4. alimony

Question Type : MCQ
Question ID : 9102811713
Option 1 ID : 9102816750
Option 2 ID : 9102816749
Option 3 ID : 9102816752
Option 4 ID : 9102816751
Status : Answered
Chosen Option : 1

Q.25 Choose the set of suitable articles from the options provided below to fill in the blanks.

_____ action plan released by _____ government includes the launch of _____ satellite to keep track of illegal activities near border.

- Ans 1. The; the; an
 2. The; an; a
 3. A; an; the
 4. The; the; a

Question Type : MCQ
Question ID : 9102811689
Option 1 ID : 9102816655
Option 2 ID : 9102816654
Option 3 ID : 9102816653
Option 4 ID : 9102816656
Status : Answered
Chosen Option : 4

Q.26 A sentence with a mis-spelt word is given. Identify the word that has the error of spelling and mark it as your answer. If there is no error mark "No error" as your answer.

There is no substantive evidence to prove his innocence in these circumstances.

- Ans
- 1. There is no substantive
 - 2. No error.
 - 3. evidence to prove his innocence
 - 4. in these circumstances.

Question Type : MCQ
Question ID : 9102811708
Option 1 ID : 9102816729
Option 2 ID : 9102816732
Option 3 ID : 9102816730
Option 4 ID : 9102816731
Status : Answered
Chosen Option : 2

Q.27 A sentence has been given in the Passive Voice. Out of the four alternatives, select the one which best expresses the same sentence in the Active Voice.

The route of the Prime Minister was blocked by some unidentified youth.

- Ans
- 1. Some youth that was unidentified blocked the route of the Prime Minister.
 - 2. Youth who blocked the route of the Prime Minister are unidentified.
 - 3. Some unidentified youth blocked the route of the Prime Minister.
 - 4. Some unidentified youth blocked the Prime Minister from going on that route.

Question Type : MCQ
Question ID : 9102811697
Option 1 ID : 9102816686
Option 2 ID : 9102816687
Option 3 ID : 9102816685
Option 4 ID : 9102816688
Status : Answered
Chosen Option : 3

Q.28 Fill in the blank with the proper preposition.

Our university offers various degree programmes _____ Biotechnology and Computer Sciences.

- Ans
- 1. over
 - 2. below
 - 3. in
 - 4. from

Question Type : MCQ
Question ID : 9102811677
Option 1 ID : 9102816606
Option 2 ID : 9102816607
Option 3 ID : 9102816605
Option 4 ID : 9102816608
Status : Answered
Chosen Option : 3

Q.29 A sentence has been given in the Active Voice. Out of the four alternatives, select the one which best expresses the same sentence in the Passive Voice.

India gave Pakistan a negative reply to the request to open the cross-border trade.

- Ans 1. Pakistan was given a negative reply by India to the request to open the cross-border trade.
2. India was given a negative reply to Pakistan on cross border trade on its request.
3. To its request to open cross border trade, Pakistan was given a negative reply by India.
4. Cross border trade was denied by India to the request of Pakistan in a negative reply.

Question Type : MCQ

Question ID : 9102811698

Option 1 ID : 9102816689

Option 2 ID : 9102816692

Option 3 ID : 9102816691

Option 4 ID : 9102816690

Status : Answered

Chosen Option : 2

Q.30 A sentence has been given in direct speech. Out of the four alternatives, select the one that best expresses the same sentence in indirect speech.

She shouted, 'I know who has done this.'

- Ans 1. She shouted that she knew who has done this.
2. She shouted that she knew who had done that.
3. She shouted I knew that who had done that.
4. She was shouting that she knows who have done that.

Question Type : MCQ

Question ID : 9102811695

Option 1 ID : 9102816678

Option 2 ID : 9102816679

Option 3 ID : 9102816677

Option 4 ID : 9102816680

Status : Answered

Chosen Option : 3

Q.31 Fill in the blank with the correct preposition.

A new wave of the pandemic is _____ the horizon.

- Ans 1. and
2. for
3. on
4. in

Question Type : MCQ

Question ID : 9102811678

Option 1 ID : 9102816611

Option 2 ID : 9102816612

Option 3 ID : 9102816609

Option 4 ID : 9102816610

Status : Answered

Chosen Option : 3

Q.32 Of the four alternatives given under the sentence, fill in the blank with the correct word.

We reached late for the marriage ceremony as our car _____ punctured on the way.

- Ans
- 1. got
 - 2. getting
 - 3. has got
 - 4. get

Question Type : MCQ
Question ID : 9102811684
Option 1 ID : 9102816633
Option 2 ID : 9102816635
Option 3 ID : 9102816636
Option 4 ID : 9102816634
Status : Answered
Chosen Option : 2

Q.33 From the given options, choose the words that best replace the underlined words to make the sentence coherent. If the underlined words are correct, select 'no correction'.

Chandra was teaching her students when her phone rang.

- Ans
- 1. taught, rang
 - 2. would be teaching, will be ringing
 - 3. had been teaching, ringing
 - 4. no correction

Question Type : MCQ
Question ID : 9102811688
Option 1 ID : 9102816650
Option 2 ID : 9102816651
Option 3 ID : 9102816649
Option 4 ID : 9102816652
Status : Answered
Chosen Option : 1

Q.34 A sentence has been given in direct speech. Out of the four alternatives, select the one that best expresses the same sentence in indirect speech.

'Maintain social distancing of 2 metres', the signboard read.

- Ans
- 1. The signboard guided to maintain the social distance.
 - 2. The signboard warned to maintain the distance of 2 metres in society.
 - 3. The signboard read that 2 metres social distance can be maintained.
 - 4. The signboard advised maintaining the social distancing of 2 metres.

Question Type : MCQ
Question ID : 9102811694
Option 1 ID : 9102816673
Option 2 ID : 9102816675
Option 3 ID : 9102816676
Option 4 ID : 9102816674
Status : Answered
Chosen Option : 1

Q.35 Find a suitable word out of the given choices for the animals discussed below.

These animals can inhabit the terrestrial, arboreal or freshwater aquatic systems.

- Ans
- 1. Parasites
 - 2. Heterotrophs
 - 3. Omnivores
 - 4. Amphibians

Question Type : MCQ
Question ID : 9102811711
Option 1 ID : 9102816744
Option 2 ID : 9102816743
Option 3 ID : 9102816742
Option 4 ID : 9102816741
Status : Answered
Chosen Option : 2

Q.36 Fill in the blank with the proper preposition.

Rain brings the temperature in the city _____ below 10° C.

- Ans
- 1. in
 - 2. at
 - 3. to
 - 4. on

Question Type : MCQ
Question ID : 9102811676
Option 1 ID : 9102816603
Option 2 ID : 9102816601
Option 3 ID : 9102816602
Option 4 ID : 9102816604
Status : Answered
Chosen Option : 2

Q.37 A sentence has been given in the Active Voice. Out of the four alternatives, select the one which best expresses the same sentence in the Passive Voice.

It is difficult to tell if she recognised the murderer.

- Ans
- 1. The murderer was difficult to recognised by her.
 - 2. It was a difficult task to recognise the murderer by her.
 - 3. It is difficult to tell if the murderer was recognised by her.
 - 4. It was difficult to tell whether the murderer was recognised by her or not.

Question Type : MCQ
Question ID : 9102811696
Option 1 ID : 9102816682
Option 2 ID : 9102816684
Option 3 ID : 9102816681
Option 4 ID : 9102816683
Status : Answered
Chosen Option : 2

Q.38 Find out a word from the given choices that are similar in meaning with:

One who copies some one's idea and writings

- Ans
- 1. Cardiologist.
 - 2. Optimist.
 - 3. Atheist.
 - 4. Plagiarist.

Question Type : MCQ

Question ID : 9102811714

Option 1 ID : 9102816753

Option 2 ID : 9102816755

Option 3 ID : 9102816756

Option 4 ID : 9102816754

Status : Answered

Chosen Option : 3

Q.39 Choose an appropriate article from the options provided below to fill in the blank.

This sounds like _____ wonderful idea.

- Ans
- 1. no article needed.
 - 2. an
 - 3. a
 - 4. the

Question Type : MCQ

Question ID : 9102811690

Option 1 ID : 9102816660

Option 2 ID : 9102816658

Option 3 ID : 9102816657

Option 4 ID : 9102816659

Status : Answered

Chosen Option : 3

Q.40 In the question, four alternatives are given for idiom/phrase in bold in the sentence. Choose the alternative that best expresses the meaning of the idiom/phrase given in bold.

His attraction lies in the gift of the gab he has received from the almighty.

- Ans
- 1. Art of persuasion.
 - 2. Physical Appearance.
 - 3. Art of speaking efficiently.
 - 4. Art of being distressed.

Question Type : MCQ

Question ID : 9102811702

Option 1 ID : 9102816705

Option 2 ID : 9102816707

Option 3 ID : 9102816706

Option 4 ID : 9102816708

Status : Answered

Chosen Option : 3

Comprehension:

Read the passage given below carefully and answer the given questions.

Internet banking allows a user to conduct financial transactions via the Internet. Internet banking offers customers almost every service traditionally available through a local branch including deposits, transfers, and online bill payments. Virtually every banking institution has some form of online banking, available both on desktop versions and through mobile apps. With online banking, consumers aren't required to visit a bank branch to complete most of their basic banking transactions.

They can do all of this at their convenience, wherever they want i.e., at home, at work, or on the way to our work. To access the service, clients need to register for their bank's online banking service. To register, they need to create a password. Once that's done, they can use the service to do all their banking. Banking transactions offered online vary by institution. Most banks generally offer basic services such as transfers and bill payments.

Convenience is a major advantage of online banking. Basic banking transactions such as paying bills and transferring funds between accounts can easily be done 24 hours a day, seven days a week, wherever a consumer wishes. Online banking is fast and efficient. Funds can be transferred between accounts almost instantly, especially if the two accounts are held at the same institution.

SubQuestion No : 41

Q.41 Which of the following is not a benefit of Internet Banking discussed in the passage?

- Ans 1. Safety
 2. Convenience
 3. Efficient
 4. Speed

Question Type : MCQ

Question ID : 9102811718

Option 1 ID : 9102816768

Option 2 ID : 9102816765

Option 3 ID : 9102816767

Option 4 ID : 9102816766

Status : Answered

Chosen Option : 2

Comprehension:

Read the passage given below carefully and answer the given questions.

Internet banking allows a user to conduct financial transactions via the Internet. Internet banking offers customers almost every service traditionally available through a local branch including deposits, transfers, and online bill payments. Virtually every banking institution has some form of online banking, available both on desktop versions and through mobile apps. With online banking, consumers aren't required to visit a bank branch to complete most of their basic banking transactions.

They can do all of this at their convenience, wherever they want i.e., at home, at work, or on the way to our work. To access the service, clients need to register for their bank's online banking service. To register, they need to create a password. Once that's done, they can use the service to do all their banking. Banking transactions offered online vary by institution. Most banks generally offer basic services such as transfers and bill payments.

Convenience is a major advantage of online banking. Basic banking transactions such as paying bills and transferring funds between accounts can easily be done 24 hours a day, seven days a week, wherever a consumer wishes. Online banking is fast and efficient. Funds can be transferred between accounts almost instantly, especially if the two accounts are held at the same institution.

SubQuestion No : 42

Q.42 What can be a suitable title for the passage?

- Ans
- 1. A revolution in banking through the internet
 - 2. Convenience of banking from home
 - 3. Online banking – efficient & convenient banking
 - 4. Internet Banking replacing the traditional banking

Question Type : MCQ

Question ID : 9102811717

Option 1 ID : 9102816761

Option 2 ID : 9102816763

Option 3 ID : 9102816762

Option 4 ID : 9102816764

Status : Answered

Chosen Option : 1

Comprehension:

Read the passage given below carefully and answer the given questions.

Internet banking allows a user to conduct financial transactions via the Internet. Internet banking offers customers almost every service traditionally available through a local branch including deposits, transfers, and online bill payments. Virtually every banking institution has some form of online banking, available both on desktop versions and through mobile apps. With online banking, consumers aren't required to visit a bank branch to complete most of their basic banking transactions.

They can do all of this at their convenience, wherever they want i.e., at home, at work, or on the way to our work. To access the service, clients need to register for their bank's online banking service. To register, they need to create a password. Once that's done, they can use the service to do all their banking. Banking transactions offered online vary by institution. Most banks generally offer basic services such as transfers and bill payments.

Convenience is a major advantage of online banking. Basic banking transactions such as paying bills and transferring funds between accounts can easily be done 24 hours a day, seven days a week, wherever a consumer wishes. Online banking is fast and efficient. Funds can be transferred between accounts almost instantly, especially if the two accounts are held at the same institution.

SubQuestion No : 43

Q.43 Which of the following best summarises the passage?

- Ans 1. Internet banking allows a user to conduct financial services via the internet offered by almost all banks. Customers can do all of this at the convenience of the banks, wherever they want i.e., at home, at work, or on the way to our work. To access the service, clients do not need to register for their bank's online banking service. Convenience is a major advantage of online banking. Basic banking transactions such as paying bills and transferring funds between accounts can easily be done 24 hours a day, seven days a week, wherever a consumer wishes.
2. Internet banking is convenient, fast and efficient. It is offered by almost all banks for fund transfers and other transactions. It is very easy to do through desktop and mobile apps 24x7 in India. It is recommended for all the customers.
3. Banks offer various financial services over the internet which can be accessed by a customer through desktops and mobile apps using a password at a place of his convenience at any time. Convenience, speed and efficiency are the major benefits of internet banking.
4. Internet Banking, with various banking facilities, allows a customer that he can operate through the desktop or mobile apps from the place of his convenience at the time of his choice after opening an account with a password. It is safe, convenient and fast with instant fund transfer also a cheap mode of banking.

Question Type : MCQ

Question ID : 9102811720

Option 1 ID : 9102816774

Option 2 ID : 9102816776

Option 3 ID : 9102816775

Option 4 ID : 9102816773

Status : Answered

Chosen Option : 2

Comprehension:

Read the passage given below carefully and answer the given questions.

Internet banking allows a user to conduct financial transactions via the Internet. Internet banking offers customers almost every service traditionally available through a local branch including deposits, transfers, and online bill payments. Virtually every banking institution has some form of online banking, available both on desktop versions and through mobile apps. With online banking, consumers aren't required to visit a bank branch to complete most of their basic banking transactions.

They can do all of this at their convenience, wherever they want i.e., at home, at work, or on the way to our work. To access the service, clients need to register for their bank's online banking service. To register, they need to create a password. Once that's done, they can use the service to do all their banking. Banking transactions offered online vary by institution. Most banks generally offer basic services such as transfers and bill payments.

Convenience is a major advantage of online banking. Basic banking transactions such as paying bills and transferring funds between accounts can easily be done 24 hours a day, seven days a week, wherever a consumer wishes. Online banking is fast and efficient. Funds can be transferred between accounts almost instantly, especially if the two accounts are held at the same institution.

SubQuestion No : 44

Q.44 Based on the passage, which of the following is a correct inference?

- Ans
- 1. It is safe to have a strong passcode in online banking.
 - 2. Banks give choice for password selection before opening accounts.
 - 3. A certain combination of letters and special characters are required in a passcode.
 - 4. It is not possible to operate an online account without a password.

Question Type : **MCQ**

Question ID : **9102811719**

Option 1 ID : **9102816769**

Option 2 ID : **9102816771**

Option 3 ID : **9102816772**

Option 4 ID : **9102816770**

Status : **Answered**

Chosen Option : **4**

Comprehension:

Read the passage given below carefully and answer the given questions.

Internet banking allows a user to conduct financial transactions via the Internet. Internet banking offers customers almost every service traditionally available through a local branch including deposits, transfers, and online bill payments. Virtually every banking institution has some form of online banking, available both on desktop versions and through mobile apps. With online banking, consumers aren't required to visit a bank branch to complete most of their basic banking transactions.

They can do all of this at their convenience, wherever they want i.e., at home, at work, or on the way to our work. To access the service, clients need to register for their bank's online banking service. To register, they need to create a password. Once that's done, they can use the service to do all their banking. Banking transactions offered online vary by institution. Most banks generally offer basic services such as transfers and bill payments.

Convenience is a major advantage of online banking. Basic banking transactions such as paying bills and transferring funds between accounts can easily be done 24 hours a day, seven days a week, wherever a consumer wishes. Online banking is fast and efficient. Funds can be transferred between accounts almost instantly, especially if the two accounts are held at the same institution.

SubQuestion No : 45

Q.45 What can be a mandatory requirement of internet banking?

- Ans
- 1. A fast and stable internet connection.
 - 2. Guidelines for operating online account.
 - 3. A bank account with maximum funds.
 - 4. A smartphone with the banking app.

Question Type : **MCQ**

Question ID : **9102811721**

Option 1 ID : **9102816778**

Option 2 ID : **9102816777**

Option 3 ID : **9102816780**

Option 4 ID : **9102816779**

Status : **Answered**

Chosen Option : **4**

Comprehension:

Read the passage given below carefully and answer the given questions.

Glaciers are made up of fallen snow that, over many years, compresses into large, thickened ice masses. Glaciers may retreat when their ice melts more quickly than snowfall can accumulate and form new glacial ice. A new study has shown that glaciers are undergoing mass loss at an alarming rate. Around 14798 glaciers have lost 40 percentage of their little ice age area. Tenfold acceleration in ice loss, observed across the Himalayas, far exceeds any previous rates of change that have been recorded elsewhere in the world.

It has very serious implications in the Himalayan region. The formation of lakes due to meltwater of glaciers in the upper region is dangerous for areas in lower regions as this can lead to flash floods. Future warming in the region, which is projected to be in the range of 2.6-4.6 degrees Celsius by the end of the century, will lead to profound hydrological and agricultural impacts in the region. It will impact the water, food, energy security and agriculture, including soil loss due to soil erosion, landslides and floods.

Therefore, the government shall start long term glacier-monitoring program to understand the likely impact on agriculture, water availability, and the possibility of disasters downstream.

SubQuestion No : 46

Q.46 According to the passage, what are glaciers?

- Ans** 1. Glaciers are compressed, large and thickened ice masses.
 2. Glaciers are fallen snow from the mountains.
 3. Glaciers are loose fallen snow in the sea.
 4. Glaciers are compressed snow falling into the sea.

Question Type : **MCQ**

Question ID : **9102811723**

Option 1 ID : **9102816782**

Option 2 ID : **9102816783**

Option 3 ID : **9102816781**

Option 4 ID : **9102816784**

Status : **Answered**

Chosen Option : **1**

Comprehension:

Read the passage given below carefully and answer the given questions.

Glaciers are made up of fallen snow that, over many years, compresses into large, thickened ice masses. Glaciers may retreat when their ice melts more quickly than snowfall can accumulate and form new glacial ice. A new study has shown that glaciers are undergoing mass loss at an alarming rate. Around 14798 glaciers have lost 40 percentage of their little ice age area. Tenfold acceleration in ice loss, observed across the Himalayas, far exceeds any previous rates of change that have been recorded elsewhere in the world.

It has very serious implications in the Himalayan region. The formation of lakes due to meltwater of glaciers in the upper region is dangerous for areas in lower regions as this can lead to flash floods. Future warming in the region, which is projected to be in the range of 2.6-4.6 degrees Celsius by the end of the century, will lead to profound hydrological and agricultural impacts in the region. It will impact the water, food, energy security and agriculture, including soil loss due to soil erosion, landslides and floods.

Therefore, the government shall start long term glacier-monitoring program to understand the likely impact on agriculture, water availability, and the possibility of disasters downstream.

SubQuestion No : 47

Q.47 Why is the lake formation in the upper region of the Himalayas not desirable?

- Ans**
- 1. It will lead to degradation of the water cycle in the region.
 - 2. It can cause water shortage in the lower region.
 - 3. It will increase the possibility of floods in the lower regions.
 - 4. It will block the flow of water in the lower region.

Question Type : **MCQ**

Question ID : **9102811725**

Option 1 ID : **9102816792**

Option 2 ID : **9102816789**

Option 3 ID : **9102816791**

Option 4 ID : **9102816790**

Status : **Answered**

Chosen Option : **4**

Comprehension:

Read the passage given below carefully and answer the given questions.

Glaciers are made up of fallen snow that, over many years, compresses into large, thickened ice masses. Glaciers may retreat when their ice melts more quickly than snowfall can accumulate and form new glacial ice. A new study has shown that glaciers are undergoing mass loss at an alarming rate. Around 14798 glaciers have lost 40 percentage of their little ice age area. Tenfold acceleration in ice loss, observed across the Himalayas, far exceeds any previous rates of change that have been recorded elsewhere in the world.

It has very serious implications in the Himalayan region. The formation of lakes due to meltwater of glaciers in the upper region is dangerous for areas in lower regions as this can lead to flash floods. Future warming in the region, which is projected to be in the range of 2.6-4.6 degrees Celsius by the end of the century, will lead to profound hydrological and agricultural impacts in the region. It will impact the water, food, energy security and agriculture, including soil loss due to soil erosion, landslides and floods.

Therefore, the government shall start long term glacier-monitoring program to understand the likely impact on agriculture, water availability, and the possibility of disasters downstream.

SubQuestion No : 48

Q.48 What is the tone of the author in the passage?

Ans 1. Negative

2. Cautionary

3. Joyous

4. Mocking

Question Type : **MCQ**

Question ID : **9102811727**

Option 1 ID : **9102816797**

Option 2 ID : **9102816800**

Option 3 ID : **9102816799**

Option 4 ID : **9102816798**

Status : **Answered**

Chosen Option : **3**

Comprehension:

Read the passage given below carefully and answer the given questions.

Glaciers are made up of fallen snow that, over many years, compresses into large, thickened ice masses. Glaciers may retreat when their ice melts more quickly than snowfall can accumulate and form new glacial ice. A new study has shown that glaciers are undergoing mass loss at an alarming rate. Around 14798 glaciers have lost 40 percentage of their little ice age area. Tenfold acceleration in ice loss, observed across the Himalayas, far exceeds any previous rates of change that have been recorded elsewhere in the world.

It has very serious implications in the Himalayan region. The formation of lakes due to meltwater of glaciers in the upper region is dangerous for areas in lower regions as this can lead to flash floods. Future warming in the region, which is projected to be in the range of 2.6-4.6 degrees Celsius by the end of the century, will lead to profound hydrological and agricultural impacts in the region. It will impact the water, food, energy security and agriculture, including soil loss due to soil erosion, landslides and floods.

Therefore, the government shall start long term glacier-monitoring program to understand the likely impact on agriculture, water availability, and the possibility of disasters downstream.

SubQuestion No : 49

Q.49 What can be assumed from the sentence given below?

'Around 14798 glaciers have lost 40 percentage of their little ice age area'

- Ans
- 1. The sea level from the ice age has reduced.
 - 2. The sea level from the ice age is increasing.
 - 3. The sea levels are not related to the melting glaciers.
 - 4. The sea level from the ice age has remained static.

Question Type : **MCQ**

Question ID : **9102811726**

Option 1 ID : **9102816795**

Option 2 ID : **9102816793**

Option 3 ID : **9102816796**

Option 4 ID : **9102816794**

Status : **Answered**

Chosen Option : **3**

Comprehension:

Read the passage given below carefully and answer the given questions.

Glaciers are made up of fallen snow that, over many years, compresses into large, thickened ice masses. Glaciers may retreat when their ice melts more quickly than snowfall can accumulate and form new glacial ice. A new study has shown that glaciers are undergoing mass loss at an alarming rate. Around 14798 glaciers have lost 40 percentage of their little ice age area. Tenfold acceleration in ice loss, observed across the Himalayas, far exceeds any previous rates of change that have been recorded elsewhere in the world.

It has very serious implications in the Himalayan region. The formation of lakes due to meltwater of glaciers in the upper region is dangerous for areas in lower regions as this can lead to flash floods. Future warming in the region, which is projected to be in the range of 2.6-4.6 degrees Celsius by the end of the century, will lead to profound hydrological and agricultural impacts in the region. It will impact the water, food, energy security and agriculture, including soil loss due to soil erosion, landslides and floods.

Therefore, the government shall start long term glacier-monitoring program to understand the likely impact on agriculture, water availability, and the possibility of disasters downstream.

SubQuestion No : 50

Q.50 In the context of the passage, what is the meaning of the word 'profound'?

- Ans 1. Underwhelming.
 2. Overwhelming.
 3. Negligible.
 4. Balanced.

Question Type : MCQ
Question ID : 9102811724
Option 1 ID : 9102816786
Option 2 ID : 9102816785
Option 3 ID : 9102816788
Option 4 ID : 9102816787
Status : Answered
Chosen Option : 2

Section : General Knowledge

Q.1 भारत सरकारचे, आदिवासी कल्याण मंत्रालय _____ मध्ये स्थापन करण्यात आले.

- Ans 1. 1999
 2. 1998
 3. 1995
 4. 1996

Question Type : MCQ
Question ID : 9102811767
Option 1 ID : 9102816960
Option 2 ID : 9102816959
Option 3 ID : 9102816957
Option 4 ID : 9102816958
Status : Answered
Chosen Option : 3

Q.2 खालीलपैकी पश्चिमेकडे प्रवाहित होणारी नदी कोणती आहे?

- Ans
- 1. कृष्णा
 - 2. महानदी
 - 3. गोदावरी
 - 4. ताप्ती

Question Type : MCQ
Question ID : 9102811738
Option 1 ID : 9102816842
Option 2 ID : 9102816843
Option 3 ID : 9102816841
Option 4 ID : 9102816844
Status : Answered
Chosen Option : 4

Q.3 खालीलपैकी कोणते विधान बरोबर आहे?

- I. पुलकेशी पहिला याने सहाव्या शतकात चालुक्य राजवंशाची सत्ता स्थापन केली.
II. राजा सिमुकच्या (Simuk) काळात वटापी (Vatapi) ही सातवाहनांची राजधानी होती.

- Ans
- 1. केवळ II
 - 2. I आणि II दोन्ही
 - 3. केवळ I
 - 4. I किंवा II यापैकी कोणतेही नाही

Question Type : MCQ
Question ID : 9102811750
Option 1 ID : 9102816890
Option 2 ID : 9102816891
Option 3 ID : 9102816889
Option 4 ID : 9102816892
Status : Answered
Chosen Option : 3

Q.4 खालीलपैकी कोणी भारतात प्रथमच मुलभूत हक्कांची जात मागणी केली?

- Ans
- 1. एन.रॉय अहवाल
 - 2. राजेंद्र प्रसाद अहवाल
 - 3. मोतीलाल नेहरू अहवाल
 - 4. बी.एन.राव समिती

Question Type : MCQ
Question ID : 9102811746
Option 1 ID : 9102816873
Option 2 ID : 9102816876
Option 3 ID : 9102816875
Option 4 ID : 9102816874
Status : Answered
Chosen Option : 3

Q.5 केंद्रीय अर्थसंकल्प 2021 अनुसार, राष्ट्रीय रेल्वे योजना _____ या वर्षापर्यंत प्रक्षेपित वाहतूक आवश्यकता पूर्ण करण्यासाठी रेल्वे पायाभूत सुविधा विकसित करण्याचा प्रयत्न करते.

- Ans
- 1. 2035
 - 2. 2040
 - 3. 2050
 - 4. 2045

Question Type : MCQ
Question ID : 9102811736
Option 1 ID : 9102816836
Option 2 ID : 9102816833
Option 3 ID : 9102816834
Option 4 ID : 9102816835
Status : Answered
Chosen Option : 2

Q.6 खालीलपैकी कोण मराठी पुस्तक 'श्रीमान योगी' चे लेखक आहेत?

- Ans
- 1. पु. ल. देशपांडे
 - 2. नामदेव ढसाळ
 - 3. मिलिंद बोकील
 - 4. रणजीत देसाई

Question Type : MCQ
Question ID : 9102811755
Option 1 ID : 9102816909
Option 2 ID : 9102816912
Option 3 ID : 9102816910
Option 4 ID : 9102816911
Status : Answered
Chosen Option : 4

Q.7 महाराष्ट्राच्या कोणत्या जिल्ह्यात फणसाड वन्यजीव अभयारण्य आहे?

- Ans
- 1. रत्नागिरी
 - 2. हिंगोली
 - 3. बीड
 - 4. रायगड

Question Type : MCQ
Question ID : 9102811766
Option 1 ID : 9102816954
Option 2 ID : 9102816955
Option 3 ID : 9102816956
Option 4 ID : 9102816953
Status : Answered
Chosen Option : 2

Q.8 एशियाटिक सोसायटी ऑफ बंगाल (Asiatic Society of Bengal) ची स्थापना कोणत्या वर्षी झाली?

- Ans 1. 1804
 2. 1784
 3. 1823
 4. 1796

Question Type : MCQ
Question ID : 9102811728
Option 1 ID : 9102816803
Option 2 ID : 9102816801
Option 3 ID : 9102816804
Option 4 ID : 9102816802
Status : Answered
Chosen Option : 1

Q.9 खालीलपैकी कोणते लेखक हे 'कुसुमाग्रज' म्हणूनही ओळखले जातात?

- Ans 1. अनंत लक्ष्मण कान्हेरे
 2. विष्णू वामन शिरवाडकर
 3. वसंत कानेटकर
 4. विनायक दामोदर सावरकर

Question Type : MCQ
Question ID : 9102811758
Option 1 ID : 9102816923
Option 2 ID : 9102816924
Option 3 ID : 9102816921
Option 4 ID : 9102816922
Status : Answered
Chosen Option : 2

Q.10 नाणेघाटास, _____ या राजवंशाच्या काळात नानाघाट किंवा नाना घाट असेही म्हटले जात असे.

- Ans 1. चालुक्य
 2. राष्ट्रकुट
 3. वाकाटक
 4. सातवाहन

Question Type : MCQ
Question ID : 9102811749
Option 1 ID : 9102816887
Option 2 ID : 9102816888
Option 3 ID : 9102816886
Option 4 ID : 9102816885
Status : Answered
Chosen Option : 4

Q.11 खालीलपैकी कोणते प्रतिस्थापन पातळी जननक्षमता म्हणून गणले जाते?

- Ans
- 1. प्रति स्त्री 2.0 मुले (children)
 - 2. प्रति स्त्री 2.4 मुले (children)
 - 3. प्रति स्त्री 2.1 मुले (children)
 - 4. प्रति स्त्री 2.3 मुले (children)

Question Type : MCQ

Question ID : 9102811742

Option 1 ID : 9102816857

Option 2 ID : 9102816860

Option 3 ID : 9102816858

Option 4 ID : 9102816859

Status : Answered

Chosen Option : 1

Q.12 _____ ही द्वीपकल्पीय भारतातील दुसरी सर्वात मोठी पश्चिमवाहिनी नदी आहे.

- Ans
- 1. गोदावरी
 - 2. कृष्णा
 - 3. नर्मदा
 - 4. तापी

Question Type : MCQ

Question ID : 9102811763

Option 1 ID : 9102816942

Option 2 ID : 9102816944

Option 3 ID : 9102816941

Option 4 ID : 9102816943

Status : Answered

Chosen Option : 1

Q.13 'न्यू डायमेंशन्स ऑफ इंडियाज फॉरेन पॉलिसी' या पुस्तकाचे लेखक खालीलपैकी कोण आहेत?

- Ans
- 1. ए. पी. जे. अब्दुल कलाम
 - 2. पी. व्ही. नरसिंह राव
 - 3. अटल बिहारी वाजपेयी
 - 4. शशी थरूर

Question Type : MCQ

Question ID : 9102811756

Option 1 ID : 9102816914

Option 2 ID : 9102816916

Option 3 ID : 9102816913

Option 4 ID : 9102816915

Status : Answered

Chosen Option : 4

Q.14 खालीलपैकी कोणती सरकारी संस्था आणि प्रकाराची जोडी बरोबर आहे?

- I. जिल्हा परिषद – ग्रामीण
II. नगर पंचायत – शहरी

- Ans 1. I आणि II दोन्ही
 2. केवळ I
 3. I किंवा II यापैकी कोणतेही नाही
 4. केवळ II

Question Type : MCQ

Question ID : 9102811776

Option 1 ID : 9102816995

Option 2 ID : 9102816993

Option 3 ID : 9102816996

Option 4 ID : 9102816994

Status : Answered

Chosen Option : 1

Q.15 नगर पंचायतीच्या संदर्भात खालीलपैकी कोणते विधान बरोबर आहे?

- I. जी गावे नगरे होण्याच्या प्रक्रियेत आहेत, तेथे नगर पंचायत असते.
II. नगर पंचायतीची निवडणूक दर पाच वर्षांनी घेतली जाते.

- Ans 1. I किंवा II यापैकी कोणतेही नाही
 2. I आणि II दोन्ही
 3. केवळ II
 4. केवळ I

Question Type : MCQ

Question ID : 9102811777

Option 1 ID : 9102817000

Option 2 ID : 9102816999

Option 3 ID : 9102816998

Option 4 ID : 9102816997

Status : Answered

Chosen Option : 2

Q.16 भारताच्या 2011 च्या जनगणनेनुसार, महाराष्ट्रातील अनुसूचित जमातींची लोकसंख्या _____ कोटी आहे.

- Ans 1. 3.05
 2. 1.05
 3. 4.05
 4. 5.05

Question Type : MCQ

Question ID : 9102811768

Option 1 ID : 9102816962

Option 2 ID : 9102816961

Option 3 ID : 9102816963

Option 4 ID : 9102816964

Status : Answered

Chosen Option : 2

Q.17 भारताच्या 2011 च्या जनगणनेनुसार, महाराष्ट्रातील अनुसूचित जमातींच्या लोकसंख्येतील साक्षरता दर _____ टक्के आहे.

- Ans 1. 69.7
 2. 77.7
 3. 65.7
 4. 72.7

Question Type : MCQ
Question ID : 9102811769
Option 1 ID : 9102816966
Option 2 ID : 9102816968
Option 3 ID : 9102816965
Option 4 ID : 9102816967
Status : Answered
Chosen Option : 3

Q.18 _____ प्रक्रियेद्वारे एक जीव त्याच्या अंतर्गत वातावरणाचे संतुलन राखण्याचा प्रयत्न करतो.

- Ans 1. रक्तस्तंभन (Hemostasis)
 2. अभिभावितता (Hypostasis)
 3. विक्षेप (Metastasis)
 4. समस्थिति (Homeostasis)

Question Type : MCQ
Question ID : 9102811744
Option 1 ID : 9102816867
Option 2 ID : 9102816868
Option 3 ID : 9102816865
Option 4 ID : 9102816866
Status : Answered
Chosen Option : 1

Q.19 "जैन आणि बौद्ध धर्माचा तुलनात्मक अभ्यास" (A Comparative Study of Jainism and Buddhism) या पुस्तकाचे लेखक कोण आहेत?

- Ans 1. दिबाकर मोहंती
 2. नाथमल
 3. रज्जना कुमार
 4. ब्रह्मचारी प्रसाद

Question Type : MCQ
Question ID : 9102811735
Option 1 ID : 9102816832
Option 2 ID : 9102816829
Option 3 ID : 9102816830
Option 4 ID : 9102816831
Status : Answered
Chosen Option : 1

Q.20 खालीलपैकी कोणते सर्वात यशस्वी आणि मोठ्या प्रमाणावर वापरले जाणारे कृत्रिम मधुरक (sweetener) आहे आणि एस्पार्टिक आम्ल (aspartic acid) आणि फेनिलॅलानिन (phenylalanine) पासून तयार झालेल्या डायपेप्टाइड (dipeptide) चे मिथाइल ईस्टर (methyl ester) आहे?

- Ans
- 1. सुक्रॅलोज (Sucralose)
 - 2. अलिटेम (Alitame)
 - 3. सॅकरिन (Saccharin)
 - 4. एस्पार्टेम (Aspartame)

Question Type : MCQ
Question ID : 9102811745
Option 1 ID : 9102816869
Option 2 ID : 9102816872
Option 3 ID : 9102816871
Option 4 ID : 9102816870
Status : Answered
Chosen Option : 3

Q.21 पश्चिम वाहिनी नद्यांच्या खोऱ्यांनी (West Flowing River Basin, WFRB) महाराष्ट्राच्या भौगोलिक क्षेत्रापैकी _____ टक्के क्षेत्र व्यापले आहे.

- Ans
- 1. 18.25
 - 2. 6.83
 - 3. 10.73
 - 4. 24.45

Question Type : MCQ
Question ID : 9102811765
Option 1 ID : 9102816951
Option 2 ID : 9102816949
Option 3 ID : 9102816950
Option 4 ID : 9102816952
Status : Answered
Chosen Option : 3

Q.22 वर्ष _____ पर्यंत शेतकऱ्यांचे उत्पन्न दुप्पट करण्याच्या हेतूने महाराष्ट्र सरकारने 2017-18 च्या खरीप हंगामापासून उन्नत शेती-समृद्ध शेतकरी मोहीम सुरू केली आहे.

- Ans
- 1. 2022
 - 2. 2023
 - 3. 2025
 - 4. 2024

Question Type : MCQ
Question ID : 9102811772
Option 1 ID : 9102816980
Option 2 ID : 9102816979
Option 3 ID : 9102816977
Option 4 ID : 9102816978
Status : Answered
Chosen Option : 3

Q.23 MSRTC कडून महाराष्ट्रातील किती शहरांमध्ये स्थानिक प्रवासी वाहतूक सुविधा पुरवली जाते?

Ans 1. 7

2. 8

3. 6

4. 5

Question Type : MCQ

Question ID : 9102811771

Option 1 ID : 9102816975

Option 2 ID : 9102816973

Option 3 ID : 9102816974

Option 4 ID : 9102816976

Status : Answered

Chosen Option : 4

Q.24 ताग (Jute) बद्दल खालीलपैकी कोणते विधान योग्य नाही?

Ans 1. काळ्या मातीत याची चांगली वाढ होते.

2. 'गोल्डन फायबर' म्हणूनही याची ओळख होती.

3. भारत आणि बांगलादेश हे ताग (Jute) उत्पादनात अग्रेसर आहेत.

4. यासाठी उच्च तापमानाची आवश्यकता आहे.

Question Type : MCQ

Question ID : 9102811743

Option 1 ID : 9102816862

Option 2 ID : 9102816861

Option 3 ID : 9102816864

Option 4 ID : 9102816863

Status : Answered

Chosen Option : 4

Q.25 कर वसूल करण्यासाठी शेतकऱ्यांवर अत्याचार करून दहशतीचे राज्य निर्माण करणारा महसूल ठेकेदार (Contractor) देबी सिंह (Debi Singh) खालीलपैकी कोणत्या ठिकाणी कार्यरत होता?

Ans 1. बॉम्बे (वर्तमान मुंबई)

2. गुजरात

3. बंगाल

4. दिल्ली

Question Type : MCQ

Question ID : 9102811729

Option 1 ID : 9102816806

Option 2 ID : 9102816805

Option 3 ID : 9102816807

Option 4 ID : 9102816808

Status : Answered

Chosen Option : 3

Q.26 'प्रधान मंत्री आवास योजना - हाऊसिंग फॉर ऑल (PMAY - HFA)' ही भारत सरकारची एक आघाडीची योजना असून, तिच्या अंतर्गत शहरी भागातील सर्व आर्थिकदृष्ट्या मागास घटक, अल्प उत्पन्न गट आणि मध्यम उत्पन्न गटांना वर्ष _____ पर्यंत घरे उपलब्ध करून दिली जाणार आहेत.

Ans 1. 2022

2. 2030

3. 2024

4. 2028

Question Type : MCQ

Question ID : 9102811761

Option 1 ID : 9102816933

Option 2 ID : 9102816936

Option 3 ID : 9102816934

Option 4 ID : 9102816935

Status : Answered

Chosen Option : 2

Q.27 लिंगमळा (Lingmala) धबधबा महाराष्ट्राच्या _____ जिल्ह्यात आहे.

Ans 1. पुणे

2. रत्नागिरी

3. बीड

4. सातारा

Question Type : MCQ

Question ID : 9102811764

Option 1 ID : 9102816947

Option 2 ID : 9102816945

Option 3 ID : 9102816946

Option 4 ID : 9102816948

Status : Answered

Chosen Option : 2

Q.28 महाराष्ट्रातील राष्ट्रकूट घराण्याच्या _____ च्या काळात, राष्ट्रकूट सत्ता कनौजपासून रामेश्वरपर्यंत पसरली होती.

Ans 1. दंतिदुर्ग (Dantidurg)

2. अमोघवर्षा दुसरा (Amoghavarsha II)

3. कृष्णा दुसरा (Krishna II)

4. गोविंद तिसरा (Govind III)

Question Type : MCQ

Question ID : 9102811748

Option 1 ID : 9102816881

Option 2 ID : 9102816884

Option 3 ID : 9102816883

Option 4 ID : 9102816882

Status : Answered

Chosen Option : 3

Q.29 धम्मपदा-(Dhammapada) मध्ये किती अध्याय आहेत?

- Ans 1. 26
 2. 21
 3. 18
 4. 32

Question Type : MCQ
Question ID : 9102811734
Option 1 ID : 9102816827
Option 2 ID : 9102816826
Option 3 ID : 9102816825
Option 4 ID : 9102816828
Status : Answered
Chosen Option : 2

Q.30 कर्नाटकी गायक आणि संगीतकार मंगलमपल्ली बालमुरलीकृष्ण (Mangalampalli Balamuralikrishna) हे त्यांच्या कोणत्या वादनासाठी प्रसिद्ध होते?

- Ans 1. सितार (Sitar)
 2. तबला (Tabla)
 3. दिलरुबा (Esraj)
 4. व्हायोलिन (Violin)

Question Type : MCQ
Question ID : 9102811732
Option 1 ID : 9102816818
Option 2 ID : 9102816817
Option 3 ID : 9102816819
Option 4 ID : 9102816820
Status : Answered
Chosen Option : 1

Q.31 मायक्रोफायनान्स इन्स्टिट्यूशन नेटवर्क (MFIN) ची स्थापना कोणत्या वर्षी झाली होती?

- Ans 1. 2006
 2. 2003
 3. 2000
 4. 2009

Question Type : MCQ
Question ID : 9102811737
Option 1 ID : 9102816839
Option 2 ID : 9102816838
Option 3 ID : 9102816837
Option 4 ID : 9102816840
Status : Answered
Chosen Option : 3

Q.32 महाराष्ट्राच्या 2020-21 च्या आर्थिक पाहणीनुसार, वर्ष 2018-19 मध्ये निव्वळ पेरणी क्षेत्र राज्याच्या एकूण भौगोलिक क्षेत्राच्या _____ टक्के होते.

- Ans 1. 17
 2. 55
 3. 62
 4. 42

Question Type : MCQ
Question ID : 9102811762
Option 1 ID : 9102816938
Option 2 ID : 9102816937
Option 3 ID : 9102816940
Option 4 ID : 9102816939
Status : Answered
Chosen Option : 4

Q.33 जगातील प्राण्यांच्या एकूण प्रजातीपैकी _____ अधिक प्रजाती भारतात आहेत.

- Ans 1. 7.5 टक्क्यांहून
 2. 12.5 टक्क्यांहून
 3. 4.5 टक्क्यांहून
 4. 10.0 टक्क्यांहून

Question Type : MCQ
Question ID : 9102811740
Option 1 ID : 9102816850
Option 2 ID : 9102816852
Option 3 ID : 9102816849
Option 4 ID : 9102816851
Status : Answered
Chosen Option : 4

Q.34 ज्वालामुखीच्या बेसॉल्टिक लाव्हाच्या विघटनाने खालीलपैकी कोणती मृदा तयार होते?

- Ans 1. काळी मृदा (Black soils)
 2. डोंगराची मृदा (Mountain soils)
 3. जांभ्या खडकाची मृदा (Laterite soils)
 4. गाळयुक्त मृदा (Alluvial soils)

Question Type : MCQ
Question ID : 9102811739
Option 1 ID : 9102816846
Option 2 ID : 9102816848
Option 3 ID : 9102816847
Option 4 ID : 9102816845
Status : Answered
Chosen Option : 3

Q.35 7 ऑगस्ट 1942 रोजी भारतीय राष्ट्रीय काँग्रेसचे अधिवेशन मुंबईत गोवालिया टॅक (क्रांती मैदान) येथे आयोजित केले होते. खालीलपैकी कोण या अधिवेशनाचे अध्यक्ष होते?

- Ans
- 1. राजेंद्र प्रसाद
 - 2. मौलाना अबुल कलाम आझाद
 - 3. सुभाष चंद्र बोस
 - 4. जे. बी. कृपलानी

Question Type : MCQ
Question ID : 9102811752
Option 1 ID : 9102816899
Option 2 ID : 9102816897
Option 3 ID : 9102816898
Option 4 ID : 9102816900
Status : Answered
Chosen Option : 2

Q.36 खालीलपैकी कोणते महाराष्ट्रातील प्रख्यात व्यक्तिमत्व आहे?

- I. भाऊराव कृष्णाजी गायकवाड - दिंडोरी येथे जन्म
- II. वसंत कानेटकर - नाटककार आणि कादंबरीकार

- Ans
- 1. I आणि II दोन्ही
 - 2. केवळ I
 - 3. I किंवा II यापैकी कोणतेही नाही
 - 4. केवळ II

Question Type : MCQ
Question ID : 9102811759
Option 1 ID : 9102816927
Option 2 ID : 9102816925
Option 3 ID : 9102816928
Option 4 ID : 9102816926
Status : Answered
Chosen Option : 1

Q.37 खालीलपैकी कोणत्या राज्यात धनकुल (Dhankul) गीत खूप प्रचलित आहेत?

- Ans
- 1. पश्चिम बंगाल
 - 2. आसाम
 - 3. छत्तीसगढ
 - 4. पंजाब

Question Type : MCQ
Question ID : 9102811733
Option 1 ID : 9102816822
Option 2 ID : 9102816823
Option 3 ID : 9102816821
Option 4 ID : 9102816824
Status : Answered
Chosen Option : 4

Q.38 खालीलपैकी कोणती जमात/कोणत्या जमाती महाराष्ट्रात आढळते/आढळतात?

I. कोळी ढोर

II. वारली

- Ans 1. I आणि II दोन्ही
 2. केवळ II
 3. I किंवा II यापैकी कोणतेही नाही
 4. केवळ I

Question Type : MCQ

Question ID : 9102811770

Option 1 ID : 9102816971

Option 2 ID : 9102816970

Option 3 ID : 9102816972

Option 4 ID : 9102816969

Status : Answered

Chosen Option : 1

Q.39 पंडित बाजीनाथ प्रसाद _____ या नावानेही ओळखले जातात.

- Ans 1. शंभू महाराज
 2. बिरजू महाराज
 3. आच्चन (Acchan) महाराज
 4. लच्छू महाराज

Question Type : MCQ

Question ID : 9102811731

Option 1 ID : 9102816816

Option 2 ID : 9102816813

Option 3 ID : 9102816815

Option 4 ID : 9102816814

Status : Answered

Chosen Option : 2

Q.40 मेदिनी राय किंवा मेदिनी राव यांचा बाबरने पराभव केला होता, जो _____ चा शासक होता.

- Ans 1. मालवा
 2. पानीपत
 3. जयपूर
 4. जॉनपूर

Question Type : MCQ

Question ID : 9102811730

Option 1 ID : 9102816812

Option 2 ID : 9102816811

Option 3 ID : 9102816809

Option 4 ID : 9102816810

Status : Answered

Chosen Option : 2

Q.41 2011 च्या जनगणनेनुसार भारताच्या लोकसंख्येची दशकीय (decadal) वाढ किती होती?

- Ans 1. 14.56 टक्के
 2. 17.72 टक्के
 3. 10.23 टक्के
 4. 21.32 टक्के

Question Type : MCQ
Question ID : 9102811741
Option 1 ID : 9102816854
Option 2 ID : 9102816855
Option 3 ID : 9102816853
Option 4 ID : 9102816856
Status : Answered
Chosen Option : 3

Q.42 खालीलपैकी कोणाचे वर्णन 'भारतीय कामगार चळवळीचे जनक' असे केले जाते?

- Ans 1. बाबा रामचंद्र
 2. नारायण मेघाजी लोखंडे
 3. साने गुरुजी
 4. श्रीपाद अमृत डांगे

Question Type : MCQ
Question ID : 9102811751
Option 1 ID : 9102816894
Option 2 ID : 9102816896
Option 3 ID : 9102816893
Option 4 ID : 9102816895
Status : Answered
Chosen Option : 2

Q.43 पुनम राऊत ही खालीलपैकी कोणत्या क्रीडा प्रकाराशी संबंधित आहेत?

- Ans 1. कुस्ती
 2. हॉकी
 3. क्रिकेट
 4. टेनिस

Question Type : MCQ
Question ID : 9102811747
Option 1 ID : 9102816879
Option 2 ID : 9102816877
Option 3 ID : 9102816880
Option 4 ID : 9102816878
Status : Answered
Chosen Option : 3

Q.44 सर्वोच्च न्यायालयातील न्यायमूर्तीचे निवृत्तीचे वय _____ वर्षे आहे.

- Ans
- 1. 60
 - 2. 70
 - 3. 68
 - 4. 65

Question Type : MCQ
Question ID : 9102811774
Option 1 ID : 9102816985
Option 2 ID : 9102816988
Option 3 ID : 9102816987
Option 4 ID : 9102816986
Status : Answered
Chosen Option : 3

Q.45 महाराष्ट्राच्या कोणत्या जिल्ह्यात लोणार सरोवर आहे?

- Ans
- 1. पुणे
 - 2. औरंगाबाद
 - 3. बुलडाणा
 - 4. बीड

Question Type : MCQ
Question ID : 9102811754
Option 1 ID : 9102816905
Option 2 ID : 9102816906
Option 3 ID : 9102816907
Option 4 ID : 9102816908
Status : Answered
Chosen Option : 3

Q.46 'प्रकाशवाटा' हे आत्मचरित्र _____ यांचे आहे.

- Ans
- 1. हरि नारायण आपटे
 - 2. पु. ल. देशपांडे
 - 3. डॉ. प्रकाश आमटे
 - 4. नारायण हरि आपटे

Question Type : MCQ
Question ID : 9102811757
Option 1 ID : 9102816918
Option 2 ID : 9102816920
Option 3 ID : 9102816917
Option 4 ID : 9102816919
Status : Answered
Chosen Option : 3

Q.47 _____ हे राज्यसभेचे पदसिद्ध अध्यक्ष असतात.

- Ans 1. राष्ट्रपती
 2. उपराष्ट्रपती
 3. पंतप्रधान
 4. कॅंग (CAG)

Question Type : MCQ
Question ID : 9102811773
Option 1 ID : 9102816982
Option 2 ID : 9102816981
Option 3 ID : 9102816983
Option 4 ID : 9102816984
Status : Answered
Chosen Option : 2

Q.48 ऑगस्ट 2021 मध्ये, भारत सरकारच्या कोणत्या मंत्रालयाने संवाद (SAMVAD) योजनेचा दुसरा टप्पा लागू केला?

- Ans 1. वित्त मंत्रालय
 2. आरोग्य आणि कुटुंब कल्याण मंत्रालय
 3. महिला आणि कुटुंब कल्याण मंत्रालय
 4. वाणिज्य आणि उद्योग मंत्रालय

Question Type : MCQ
Question ID : 9102811753
Option 1 ID : 9102816903
Option 2 ID : 9102816902
Option 3 ID : 9102816904
Option 4 ID : 9102816901
Status : Answered
Chosen Option : 3

Q.49 महाराष्ट्राच्या कोणत्या जिल्ह्यात केंद्रीय कापूस संशोधन संस्था (Central Institute for Cotton Research) आहे?

- Ans 1. हिंगोली
 2. नागपूर
 3. बीड
 4. रत्नागिरी

Question Type : MCQ
Question ID : 9102811760
Option 1 ID : 9102816929
Option 2 ID : 9102816931
Option 3 ID : 9102816932
Option 4 ID : 9102816930
Status : Answered
Chosen Option : 2

Q.50 मराठी भाषा आणि साहित्याचे प्रभावक्षेत्र वाढावे, यासाठी महाराष्ट्राचे पहिले मुख्यमंत्री श्री. यशवंतराव चव्हाण यांनी मराठी _____ च्या संकलनास सुरुवात केली,

- Ans
- 1. रंगावली
 - 2. शब्दाभियान
 - 3. शब्दकोश
 - 4. विश्वकोष

Question Type : MCQ

Question ID : 9102811775

Option 1 ID : 9102816992

Option 2 ID : 9102816990

Option 3 ID : 9102816989

Option 4 ID : 9102816991

Status : Answered

Chosen Option : 4

Section : General Intelligence

Q.1 संख्यांची रचना करणाऱ्या एका मशिनला संख्यांची इनपुट लाईन दिली असता, प्रत्येक चरणात एका विशिष्ट नियमाचे पालन करून, त्यांची पुनर्रचना केली जाते. खाली इनपुट आणि पुनर्रचना यांचे उदाहरण दिले आहे.

इनपुट: 42 86 12 18 32 14

चरण 1: 12 42 18 32 14 86

चरण 2: 12 14 18 32 42 86

चरण 2 हे शेवटचे चरण आहे.

वर उल्लेख केलेल्या तर्काचा वापर करून, खालील इनपुटसाठी विविध चरणांची पडताळणी करा.

इनपुट: 89 76 84 92 38 16

या इनपुटसाठी 2 चरण कोणते असेल?

- Ans
- 1. 16 38 84 76 89 92
 - 2. 16 38 76 84 92 89
 - 3. 16 76 38 84 89 92
 - 4. 16 38 76 84 89 92

Question Type : MCQ

Question ID : 9102811806

Option 1 ID : 9102817113

Option 2 ID : 9102817116

Option 3 ID : 9102817115

Option 4 ID : 9102817114

Status : Answered

Chosen Option : 3

Q.2 M1, M2, M3, M4, M5 आणि M6 या सहा पुरुषांची उंची वेगवेगळी आहे. M2, M3 आणि M6 यांची उंची M1 आणि M5 पेक्षा अधिक आहे. M1 ची उंची M4 पेक्षा अधिक आहे आणि M4 ची उंची M5 पेक्षा अधिक आहे. M3 ची उंची M6 पेक्षा अधिक आहे आणि M6 ची उंची M2 पेक्षा कमी आहे.

खालीलपैकी कोणते विधान अचूक आहे?

- I. M3 हा सर्वात उंच पुरुष आहे.
- II. M1 पेक्षा दोन पुरुषांची उंची कमी आहे.
- III. M6 हा तिसऱ्या क्रमांकाचा सर्वात उंच पुरुष आहे.

- Ans
- 1. I आणि II
 - 2. II आणि III
 - 3. I, II आणि III
 - 4. I आणि III

Question Type : MCQ

Question ID : 9102811791

Option 1 ID : 9102817053

Option 2 ID : 9102817054

Option 3 ID : 9102817056

Option 4 ID : 9102817055

Status : Answered

Chosen Option : 1

Q.3 खालीलपैकी कोणते विधान बरोबर आहे?

- I. पहिल्या 2300 वर्षांतील एकूण विषम दिवसांची संख्या 3 आहे
- II. जर आज सोमवार असेल, तर 3 वर्षांनंतर या दिवशी मंगळवार असेल.

- Ans
- 1. किंवा II यापैकी कोणतेही नाही
 - 2. केवळ I
 - 3. केवळ II
 - 4. दोन्ही I आणि II

Question Type : MCQ

Question ID : 9102811800

Option 1 ID : 9102817092

Option 2 ID : 9102817089

Option 3 ID : 9102817090

Option 4 ID : 9102817091

Status : Answered

Chosen Option : 3

Q.4 खालील प्रश्नात, दिलेल्या मालिकेतील गहाळ संख्या शोधा.

17, 18, 21, 26, 33, ?

Ans 1. 44

2. 40

3. 42

4. 41

Question Type : MCQ

Question ID : 9102811820

Option 1 ID : 9102817172

Option 2 ID : 9102817169

Option 3 ID : 9102817170

Option 4 ID : 9102817171

Status : Answered

Chosen Option : 3

Q.5 एक पुरुष एका स्त्रीला म्हणाला, "तुझ्या आईचा पती माझे वडील आहेत". त्या पुरुषाचे त्या स्त्रीशी काय नाते आहे?

Ans 1. पती

2. काका / मामा

3. मुलगा

4. भाऊ

Question Type : MCQ

Question ID : 9102811811

Option 1 ID : 9102817135

Option 2 ID : 9102817134

Option 3 ID : 9102817136

Option 4 ID : 9102817133

Status : Answered

Chosen Option : 4

Q.6 खालील प्रश्नामध्ये प्रश्नचिन्हाच्या (?) जागी येऊ शकेल अशी आकृती दिलेल्या पर्यायांतून निवडा.



Ans

✗ 1.



✗ 2.



✓ 3.



✗ 4.



Question Type : MCQ

Question ID : 9102811815

Option 1 ID : 9102817151

Option 2 ID : 9102817150

Option 3 ID : 9102817152

Option 4 ID : 9102817149

Status : Answered

Chosen Option : 1

Q.7 खालील प्रश्नात, दिलेल्या मालिकेतील गहाळ संख्या शोधा.

82, 83, 79, 88, 72, 97, ?

Ans

✗ 1. 133

✓ 2. 61

✗ 3. 64

✗ 4. 121

Question Type : MCQ

Question ID : 9102811821

Option 1 ID : 9102817173

Option 2 ID : 9102817176

Option 3 ID : 9102817174

Option 4 ID : 9102817175

Status : Answered

Chosen Option : 2

Q.8 60 विद्यार्थ्यांच्या एका ओळीत संजीव डाव्या टोकाकडून 29 व्या स्थानी आहे. ओळीत उजव्या टोकाकडून त्याचे स्थान कोणते आहे?

- Ans
- 1. 30वे
 - 2. 32वे
 - 3. 33वे
 - 4. 31वे

Question Type : MCQ
Question ID : 9102811783
Option 1 ID : 9102817021
Option 2 ID : 9102817023
Option 3 ID : 9102817024
Option 4 ID : 9102817022
Status : Answered
Chosen Option : 2

Q.9 विद्यार्थ्यांच्या एका ओळीत उजव्या टोकाकडून 20 व्या स्थानी P आहे आणि डाव्या टोकाकडून 34 व्या स्थानी Q आहे. P च्या डावीकडे 10 व्या स्थानी आणि Q च्या उजवीकडे 6 व्या स्थानी R आहे. ओळीत एकूण किती विद्यार्थी आहेत?

- Ans
- 1. 69
 - 2. 66
 - 3. 68
 - 4. 67

Question Type : MCQ
Question ID : 9102811784
Option 1 ID : 9102817028
Option 2 ID : 9102817025
Option 3 ID : 9102817027
Option 4 ID : 9102817026
Status : Answered
Chosen Option : 4

Q.10 P1, P2, P3, P4, P5 आणि P6 या सहा व्यक्ती दक्षिणेकडे तोंड करून एका ओळीत (त्याच क्रमाने असणे गरजेचे नाही) बसल्या आहेत. P1 आणि P2 यांच्या दरम्यान तीन व्यक्ती बसल्या आहेत. P3 आणि P5 यांच्या दरम्यान दोन व्यक्ती बसल्या आहेत. P6 च्या उजवीकडे दुसऱ्या स्थानी P4 बसला आहे. P5 च्या लगतच डावीकडे P2 बसला आहे. P2 आणि P4 यांच्या दरम्यान किती व्यक्ती बसल्या आहेत?

- Ans
- 1. 3
 - 2. 1
 - 3. 0
 - 4. 2

Question Type : MCQ
Question ID : 9102811781
Option 1 ID : 9102817016
Option 2 ID : 9102817014
Option 3 ID : 9102817013
Option 4 ID : 9102817015
Status : Answered
Chosen Option : 2

Q.11 प्रश्नचिन्हाच्या (?) जागी कोणते अंदाजित मूल्य आले पाहिजे?

$$\sqrt{36.02} \times 19.97 + 16.02 \div 2 - 34.03 = ?$$

- Ans
- 1. 104
 - 2. 76
 - 3. 94
 - 4. 82

Question Type : MCQ

Question ID : 9102811824

Option 1 ID : 9102817186

Option 2 ID : 9102817188

Option 3 ID : 9102817187

Option 4 ID : 9102817185

Status : Answered

Chosen Option : 3

Q.12 जर 1996 चा पहिला दिवस सोमवार असेल तर 1996 चा शेवटचा दिवस कोणता असेल?

- Ans
- 1. शनिवार
 - 2. रविवार
 - 3. मंगळवार
 - 4. सोमवार

Question Type : MCQ

Question ID : 9102811796

Option 1 ID : 9102817076

Option 2 ID : 9102817073

Option 3 ID : 9102817075

Option 4 ID : 9102817074

Status : Answered

Chosen Option : 3

Q.13 शब्दांची रचना करणाऱ्या एका मशिनला शब्दांची इनपुट लाईन दिली असता, प्रत्येक चरणात एका विशिष्ट नियमाचे पालन करून, त्यांची पुनर्रचना केली जाते. खालील इनपुट आणि पुनर्रचना यांचे उदाहरण दिले आहे.

इनपुट: Aklmn Pnjab Trump Lands

चरण 1: Blmno Qokbc Usvnq Mboet

चरण 2: Blmno Bckoq Nqsuv Bemot

चरण 3: Cmnop Cdlpr Ortvw Cfnpu

चरण 4: 61 53 98 60

चरण 4 हे शेवटचे चरण आहे.

वर उल्लेख केलेल्या तर्काचा वापर करून, खालील इनपुटसाठी विविध चरणांची पडताळणी करा.

इनपुट: Grape Tomb Mint Pink

चरण 3 मध्ये सर्वात उजवीकडील घटकाच्या डाव्या टोकाकडून तिसरे अक्षर कोणते असेल?

- Ans
- 1. r
 - 2. p
 - 3. m
 - 4. o

Question Type : MCQ

Question ID : 9102811807

Option 1 ID : 9102817120

Option 2 ID : 9102817119

Option 3 ID : 9102817117

Option 4 ID : 9102817118

Status : Answered

Chosen Option : 2

Q.14 A, B, C, D, E आणि F या सहा व्यक्ती एका ओळीत उत्तरेकडे तोंड करून (त्याच क्रमाने असणे गरजेचे नाही) बसल्या आहेत. E च्या डावीकडे तिसऱ्या स्थानी C बसला आहे. A आणि C यांच्या दरम्यान एक व्यक्ती बसली आहे. B आणि D यांच्या दरम्यान दोन व्यक्ती बसल्या आहेत. B हा A चा शेजारी आहे. F हा D चा शेजारी नाही. F च्या उजवीकडे दुसऱ्या स्थानी कोण बसले आहे?

- Ans
- 1. E
 - 2. A
 - 3. C
 - 4. B

Question Type : MCQ

Question ID : 9102811780

Option 1 ID : 9102817012

Option 2 ID : 9102817009

Option 3 ID : 9102817011

Option 4 ID : 9102817010

Status : Answered

Chosen Option : 3

Q.15 एका विशिष्ट सांकेतिक भाषेत, 'BEST' हे '2479' असे लिहिले जाते, 'TEST' हे '9479' असे लिहिले जाते आणि 'RENG' हे '1436' असे लिहिले जाते. त्या सांकेतिक भाषेत 'REST' साठी संकेत कोणता आहे?

- Ans
- ✗ 1. 1476
 - ✗ 2. 5479
 - ✓ 3. 1479
 - ✗ 4. 9741

Question Type : MCQ

Question ID : 9102811802

Option 1 ID : 9102817099

Option 2 ID : 9102817097

Option 3 ID : 9102817100

Option 4 ID : 9102817098

Status : Answered

Chosen Option : 3

Q.16 5 pm आणि 6 pm या दरम्यान घड्याळाचा मिनिट काटा आणि तास काटा यांचा कोन 70 अंशाचा होतो, ती वेळ कोणती असेल?

- Ans
- ✗ 1. $5 : 12 \frac{6}{11}$ pm
 - ✗ 2. $5 : 12 \frac{8}{11}$ pm
 - ✗ 3. $5 : 14 \frac{8}{11}$ pm
 - ✓ 4. $5 : 14 \frac{6}{11}$ pm

Question Type : MCQ

Question ID : 9102811799

Option 1 ID : 9102817087

Option 2 ID : 9102817086

Option 3 ID : 9102817085

Option 4 ID : 9102817088

Status : Answered

Chosen Option : 3

Q.17 या प्रश्नात, विविध घटकांतील संबंध विधानांतून दर्शवण्यात आला आहे. दिलेली विधाने सत्य असल्याचे गृहीत धरा, दिलेल्यापैकी कोणते निष्कर्ष निश्चितपणे सत्य आहेत, ते शोधा आणि तसे तुमचे उत्तर द्या.

विधाने:

$$R \geq M, H = J, A < J, M = H, B > R$$

निष्कर्ष:

I. $R > A$

II. $R = J$

Ans 1.

निष्कर्ष I किंवा निष्कर्ष II यापैकी कोणताही निष्कर्ष सत्य नसेल

2. केवळ निष्कर्ष II सत्य असेल

3. दोन्ही निष्कर्ष I आणि II सत्य असतील

4. केवळ निष्कर्ष I सत्य असेल

Question Type : MCQ

Question ID : 9102811787

Option 1 ID : 9102817040

Option 2 ID : 9102817038

Option 3 ID : 9102817039

Option 4 ID : 9102817037

Status : Answered

Chosen Option : 3

Q.18 G1, G2, G3, G4, G5, G6 आणि G7 या सात मुली एका इमारतीच्या सात वेगवेगळ्या मजल्यांवर (त्याच क्रमाने असणे गरजेचे नाही) राहतात. सर्वांत खालील मजल्याला क्रमांक 1 देण्यात आला आहे. त्यावरील मजल्याला 2 आणि त्याप्रमाणे क्रमांक दिले आहेत. कोणत्याही दोन मुली एकाच मजल्यावर राहत नाहीत. G1 आणि G2 यांच्या दरम्यान दोन मुली राहतात. G2 च्या वर G1 राहतो. G1 च्या लगतच वर G6 राहतो. G4 च्या खाली G7 राहतो. G3 आणि G5 हे अनुक्रमे तिसऱ्या आणि सहाव्या मजल्यावर राहतात.

खालीलपैकी कोणते विधान बरोबर नाही?

I. सातव्या मजल्यावर G4 राहतो.

II. पहिल्या मजल्यावर G7 राहतो.

Ans 1. | आणि II दोन्ही

2. | किंवा II यापैकी कोणतेही नाही

3. केवळ I

4. केवळ II

Question Type : MCQ

Question ID : 9102811785

Option 1 ID : 9102817031

Option 2 ID : 9102817032

Option 3 ID : 9102817029

Option 4 ID : 9102817030

Status : Answered

Chosen Option : 2

Q.19 खालील प्रश्नात 2, 3, 4, 5 आणि 6 या संख्या खाली दर्शवल्याप्रमाणे पुढील अर्थाने वापरल्या जातात.

'P 2 Q' म्हणजे 'P हा Q पेक्षा लहान देखील नाही किंवा त्याच्या समान देखील नाही'.

'P 3 Q' म्हणजे 'P हा Q पेक्षा मोठा देखील नाही किंवा त्याच्या समान देखील नाही'.

'P 4 Q' म्हणजे 'P हा Q पेक्षा मोठा नाही'.

'P 5 Q' म्हणजे 'P हा Q पेक्षा लहान नाही'.

'P 6 Q' म्हणजे 'P हा Q पेक्षा मोठा देखील नाही किंवा लहान देखील नाही'.

आता, खालील प्रत्येक प्रश्नामध्ये, दिलेली विधाने सत्य असल्याचे गृहीत धरले आहे, खाली दिलेल्यापैकी कोणते निष्कर्ष निश्चितपणे सत्य आहेत, हे शोधा आणि तसे तुमचे उत्तर द्या.

विधाने:

H 5 J, M 2 R, J 6 M, L 5 R, L 3 P, P 3 K


निष्कर्ष:


I. R 4 K


II. H 2 M

Ans  1.

निष्कर्ष I किंवा निष्कर्ष II यापैकी कोणताही निष्कर्ष सत्य नसेल

 2. दोन्ही निष्कर्ष I आणि II सत्य असतील

 3. केवळ निष्कर्ष I सत्य असेल

 4. केवळ निष्कर्ष II सत्य असेल

Question Type : MCQ

Question ID : 9102811788

Option 1 ID : 9102817044

Option 2 ID : 9102817043

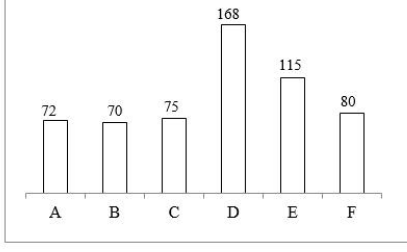
Option 3 ID : 9102817041

Option 4 ID : 9102817042

Status : Answered

Chosen Option : 2

Q.20 खाली दिलेल्या स्तंभालेखात, 6 वेगवेगळ्या राज्यांतून सर्वेक्षणासाठी सहभागी झालेल्या व्यक्तींची संख्या दर्शवण्यात आली आहे.



A आणि D या राज्यांतून सर्वेक्षणासाठी सहभागी झालेल्या व्यक्तींची सरासरी संख्या आणि C आणि E राज्यांतून सर्वेक्षणासाठी सहभागी झालेल्या व्यक्तींची सरासरी संख्या यांच्यातील फरक किती आहे?

- Ans
- 1. 15
 - 2. 25
 - 3. 20
 - 4. 35

Question Type : MCQ

Question ID : 9102811826

Option 1 ID : 9102817194

Option 2 ID : 9102817196

Option 3 ID : 9102817195

Option 4 ID : 9102817193

Status : Answered

Chosen Option : 2

Q.21 एक पद गहाळ असलेली मालिका दिली आहे. दिलेल्या पर्यायांतून अचूक पर्याय निवडा आणि मालिका पूर्ण करा.

BPA19, EJJ27, HDS35, KXB43, ?

- Ans
- 1. NRK47
 - 2. NRJ47
 - 3. NRK51
 - 4. MRK51

Question Type : MCQ

Question ID : 9102811795

Option 1 ID : 9102817069

Option 2 ID : 9102817072

Option 3 ID : 9102817070

Option 4 ID : 9102817071

Status : Answered

Chosen Option : 3

Q.22 एका विशिष्ट सांकेतिक भाषेत, 'Ajay reads book' हे '% @ #' असे लिहिले जाते, 'Mayank likes book' हे '+ # x' असे लिहिले जाते, 'Ajay likes Mayank' हे '@ x +' असे लिहिले जाते, 'Mayank is smart' हे '= \$ x' असे लिहिले जाते आणि 'Smart is better' हे '\$ & =' असे लिहिले जाते. त्या सांकेतिक भाषेत 'reads is' साठी संकेत कोणता आहे?

- Ans
- 1. = \$
 - 2. % =
 - 3. @ \$
 - 4. @ =

Question Type : MCQ

Question ID : 9102811804

Option 1 ID : 9102817107

Option 2 ID : 9102817108

Option 3 ID : 9102817105

Option 4 ID : 9102817106

Status : Answered

Chosen Option : 2

Q.23 रवी 5 km पूर्वकडे चालत गेला. त्याने घड्याळाच्या काट्याच्या दिशेने 90 अंशांत वळण घेतले आणि 9 km चालला. तो उजवीकडे वळला आणि 17 km चालला. तो प्रारंभ बिंदूपासून आता किती दूर आहे?

- Ans
- 1. 15 km
 - 2. 20 km
 - 3. 12 km
 - 4. 10 km

Question Type : MCQ

Question ID : 9102811809

Option 1 ID : 9102817128

Option 2 ID : 9102817126

Option 3 ID : 9102817125

Option 4 ID : 9102817127

Status : Answered

Chosen Option : 1

Q.24 एक पद गहाळ असलेली मालिका दिली आहे. दिलेल्या पर्यायांतून अचूक पर्याय निवडा आणि मालिका पूर्ण करा.

NML32, QJQ38, TGV44, WDA50, ?

- Ans
- 1. ZAE56
 - 2. ZAF58
 - 3. ZAF56
 - 4. YAF58

Question Type : MCQ

Question ID : 9102811793

Option 1 ID : 9102817061

Option 2 ID : 9102817062

Option 3 ID : 9102817063

Option 4 ID : 9102817064

Status : Answered

Chosen Option : 3

Q.25 खालील उदाहरणात एक प्रश्न आणि दोन विधाने (I) आणि (II) आहेत. (विधानांमध्ये दिलेली माहिती प्रश्नांची उत्तरे देण्यासाठी पुरेशी आहे का ते ठरवा आणि उत्तर द्या.)

वर्गातील किती विद्यार्थी क्रिकेट खेळतात?

I. 40 टक्के मुले क्रिकेट खेळतात.

II. क्रिकेट खेळणाऱ्या मुलांच्या तुलनेत मुलींची संख्या 40 कमी आहे.

Ans 1.

जर प्रश्नाचे उत्तर फक्त एका विधानाचा वापर करून देता येऊ शकते पण फक्त दुसऱ्या विधानाचा वापर करून देता येऊ शकत नाही.

2.

जर प्रश्नाचे उत्तर दोन्ही विधानांचा एकत्र वापर करून देता येऊ शकते पण दोन्हीपैकी एखादे विधान एकटे वापरून देता येऊ शकत नाही.

3.

जर प्रश्नाचे उत्तर दोन्ही विधानांचा एकत्र वापर करूनही देता येऊ शकत नाही.

4.

जर प्रश्नाचे उत्तर (I) किंवा (II) या दोन्ही विधानांपैकी फक्त एकाचा वापर करून देता येऊ शकते.

Question Type : MCQ

Question ID : 9102811813

Option 1 ID : 9102817141

Option 2 ID : 9102817143

Option 3 ID : 9102817144

Option 4 ID : 9102817142

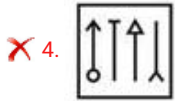
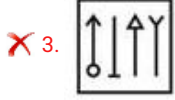
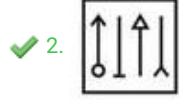
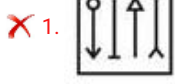
Status : Answered

Chosen Option : 1

Q.26 खालील प्रश्नामध्ये प्रश्नचिन्हाच्या (?) जागी येऊ शकेल अशी आकृती दिलेल्या पर्यायांतून निवडा.



Ans



Question Type : MCQ

Question ID : 9102811816

Option 1 ID : 9102817155

Option 2 ID : 9102817154

Option 3 ID : 9102817153

Option 4 ID : 9102817156

Status : Answered

Chosen Option : 3

Q.27 दिलेली दोन चिन्हे आणि दोन अंकांची अदलाबदल केल्यानंतर, खालीलपैकी कोणते समीकरण अचूक असेल?

+ आणि +, 8 आणि 9

I. $3 \times 9 + 2 \div 8 - 3 = 21$

II. $9 + 4 - 2 \times 3 + 8 = 5$

III. $4 \times 2 \div 8 + 3 - 9 = 3$

Ans

✗ 1. I आणि II

✗ 2. I आणि III

✓ 3. II आणि III

✗ 4. I, II आणि III

Question Type : MCQ

Question ID : 9102811825

Option 1 ID : 9102817189

Option 2 ID : 9102817191

Option 3 ID : 9102817190

Option 4 ID : 9102817192

Status : Answered

Chosen Option : 3

Q.28 W1, W2, W3, W4, W5 आणि W6 या सहा महिलांची वये वेगवेगळी आहेत. W3 ही सर्वात अधिक वयाची नाही. W4 ही W1 पेक्षा कमी वयाची आहे आणि W1 ही W2 पेक्षा कमी वयाची आहे. केवळ W3 आणि W5 या W6 पेक्षा अधिक वयाच्या आहेत. खालीलपैकी वयांचा कोणता अनुक्रम अचूक आहे?

- Ans
- 1. W5 > W3 > W6 > W1 > W2 > W4
 - 2. W5 > W3 > W6 > W2 > W4 > W1
 - 3. W5 > W3 > W6 > W2 > W1 > W4
 - 4. W4 > W3 > W6 > W2 > W5 > W1

Question Type : MCQ

Question ID : 9102811790

Option 1 ID : 9102817049

Option 2 ID : 9102817051

Option 3 ID : 9102817050

Option 4 ID : 9102817052

Status : Answered

Chosen Option : 2

Q.29 बिंदू A हा बिंदू C च्या दक्षिणेकडे 8 km आहे. बिंदू B हा बिंदू A च्या पूर्वेकडे 8 km आहे. बिंदू D हा बिंदू B च्या उत्तरेकडे 8 km आहे. बिंदू B पासून बिंदू C कोणत्या दिशेला आहे?

- Ans
- 1. उत्तर (North)
 - 2. उत्तर - पूर्व (North - East)
 - 3. उत्तर - पश्चिम (North - West)
 - 4. दक्षिण - पूर्व (South - East)

Question Type : MCQ

Question ID : 9102811808

Option 1 ID : 9102817122

Option 2 ID : 9102817124

Option 3 ID : 9102817123

Option 4 ID : 9102817121

Status : Answered

Chosen Option : 2

Q.30 एक पद गहाळ असलेली मालिका दिली आहे. दिलेल्या पर्यायांतून अचूक पर्याय निवडा आणि मालिका पूर्ण करा.

GTBY, KREU, OPHQ, SNKM, ?

- Ans
- 1. WLMi
 - 2. WLNI
 - 3. WLNH
 - 4. VLNI

Question Type : MCQ

Question ID : 9102811794

Option 1 ID : 9102817067

Option 2 ID : 9102817068

Option 3 ID : 9102817066

Option 4 ID : 9102817065

Status : Answered

Chosen Option : 2

Q.31 सात मुली A, B, C, D, E, F आणि G या एका वर्तुळाकार टेबलाभोवती केंद्राकडे तोंड करून (त्याच क्रमाने असणे गरजेचे नाही) बसल्या आहेत. A च्या उजवीकडे दुसऱ्या स्थानी B बसली आहे. C च्या उजवीकडे तिसऱ्या स्थानी D बसली आहे. B आणि G यांच्या दरम्यान दोन मुली बसल्या आहेत. A आणि C यांच्या दरम्यान एक मुलगी बसली आहे. E च्या लगतच डावीकडे F बसली आहे.

खालीलपैकी कोणते विधान बरोबर आहे?

I. E ही B ची शेजारी आहे.

II. E आणि G यांच्या दरम्यान दोन मुली बसल्या आहेत.

- Ans
- 1. केवळ II
 - 2. केवळ I
 - 3. I किंवा II यांपैकी कोणतेही नाही
 - 4. I आणि II दोन्ही

Question Type : MCQ

Question ID : 9102811782

Option 1 ID : 9102817018

Option 2 ID : 9102817017

Option 3 ID : 9102817020

Option 4 ID : 9102817019

Status : Answered

Chosen Option : 4

Q.32 G1, G2, G3, G4 आणि G5 या पाच मुली एका वर्तुळाकार टेबलाभोवती केंद्राकडे तोंड करून (त्याच क्रमाने असणे गरजेचे नाही) बसल्या आहेत. G4 च्या उजवीकडे तिसऱ्या स्थानी G1 बसली आहे. G3 च्या लगतच डावीकडे G5 बसली आहे. G2 च्या डावीकडे तिसऱ्या स्थानी कोण बसले आहे?

- Ans
- 1. G3
 - 2. G5
 - 3. G1
 - 4. G4

Question Type : MCQ

Question ID : 9102811779

Option 1 ID : 9102817006

Option 2 ID : 9102817008

Option 3 ID : 9102817005

Option 4 ID : 9102817007

Status : Answered

Chosen Option : 2

Q.33 जर 'J @ K' म्हणजे 'J ही K ची बहीण आहे', 'J # K' म्हणजे 'J हा K चा पती आहे', 'J % K' म्हणजे 'J हे K चे वडील आहेत', 'J \$ K' म्हणजे 'J हा K चा भाऊ आहे' आणि 'J = K' म्हणजे 'J ही K ची आई आहे' असेल, तर P # Q @ R \$ S = T % U च्या संदर्भात, P चे S शी काय नाते आहे?

- Ans
- 1. मुलगा
 - 2. वडील
 - 3. भाऊ
 - 4. मेहुणा / दीर

Question Type : MCQ

Question ID : 9102811812

Option 1 ID : 9102817138

Option 2 ID : 9102817140

Option 3 ID : 9102817137

Option 4 ID : 9102817139

Status : Answered

Chosen Option : 3

Q.34 P, Q, R, S, T, U आणि V ही सात खोकी एकावर एक अशी रचून (त्याच क्रमाने असणे गरजेचे नाही) ठेवली आहेत. S आणि V यांच्या दरम्यान किमान चार खोकी ठेवली आहेत. Q आणि S यांच्या दरम्यान एक खोके ठेवले आहे. Q आणि T यांच्या दरम्यान दोन खोकी ठेवली आहेत. U च्या लगतच खाली R ठेवले आहे. P आणि V यांच्या वर S ठेवले आहे. S च्या लगतच खाली कोणते खोके ठेवले आहे?

- Ans
- 1. P
 - 2. R
 - 3. U
 - 4. T

Question Type : MCQ

Question ID : 9102811786

Option 1 ID : 9102817033

Option 2 ID : 9102817036

Option 3 ID : 9102817034

Option 4 ID : 9102817035

Status : Answered

Chosen Option : 2

Q.35 खाली दिलेल्या अक्षरे, संख्या आणि चिन्हांच्या मालिकेवर आधारित पुढील प्रश्नाचे उत्तर द्या.

@76BAJ•R#P34&PQ32146577RM#8924CDHAK64&

खालील पर्यायांत दिलेल्या जोड्यांपैकी तीन घटकांच्या जोड्यांमध्ये एक समान संबंध आहे. खालीलपैकी कशांमध्ये असा संबंध नाही?

- Ans
- 1. J#@
 - 2. DK8
 - 3. 5R3
 - 4. K&C

Question Type : MCQ

Question ID : 9102811798

Option 1 ID : 9102817081

Option 2 ID : 9102817083

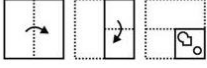
Option 3 ID : 9102817082

Option 4 ID : 9102817084

Status : Answered

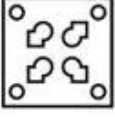
Chosen Option : 1

Q.36 प्रश्नातील आकृतीत दाखवल्याप्रमाणे कागदाच्या एका तुकड्याची घडी घातली आणि त्याला पंच करण्यात आले. जेव्हा तो उघडला जाईल तेव्हा तो कसा दिसेल हे उत्तरासाठी दिलेल्या आकृतींमधून दर्शवा.

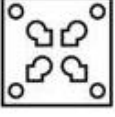


Ans

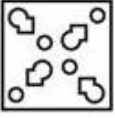
✗ 1.



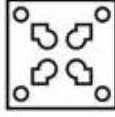
✗ 2.



✗ 3.



✓ 4.



Question Type : MCQ

Question ID : 9102811817

Option 1 ID : 9102817158

Option 2 ID : 9102817159

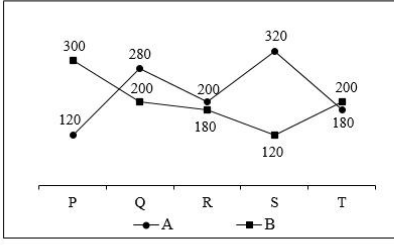
Option 3 ID : 9102817157

Option 4 ID : 9102817160

Status : Answered

Chosen Option : 4

Q.37 खालील रेखाआलेखात 5 कर्मचाऱ्यांना दोन वेगवेगळ्या कंपन्यांकडून देऊ करण्यात आलेला पगार दर्शवण्यात आला आहे.



कंपनी A ने देऊ केलेले एकूण वेतन हे कंपनी B ने देऊ केलेल्या एकूण वेतनाच्या किती टक्के अधिक आहे?

- Ans
- ✗ 1. 50 टक्के
 - ✗ 2. 100 टक्के
 - ✗ 3. 20 टक्के
 - ✓ 4. 10 टक्के

Question Type : MCQ

Question ID : 9102811827

Option 1 ID : 9102817197

Option 2 ID : 9102817199

Option 3 ID : 9102817200

Option 4 ID : 9102817198

Status : Answered

Chosen Option : 4

Q.38 एका विशिष्ट सांकेतिक भाषेत, 'DISK' हे 'MUKF' असे लिहिले जाते आणि 'BOLD' हे 'FNQD' असे लिहिले जाते. त्या सांकेतिक भाषेत 'PUMA' साठी संकेत कोणता आहे?

- Ans
- ✗ 1. RWOC
 - ✗ 2. CORW
 - ✗ 3. COWQ
 - ✓ 4. COWR

Question Type : MCQ

Question ID : 9102811803

Option 1 ID : 9102817101

Option 2 ID : 9102817104

Option 3 ID : 9102817102

Option 4 ID : 9102817103

Status : Answered

Chosen Option : 4

Q.39 एक पद गहाळ असलेली मालिका दिली आहे. दिलेल्या पर्यायांतून अचूक पर्याय निवडा आणि मालिका पूर्ण करा.

EKJ, ELK, EML, ENM, ?

- Ans
- 1. EPN
 - 2. EOO
 - 3. EON
 - 4. FON

Question Type : MCQ

Question ID : 9102811792

Option 1 ID : 9102817059

Option 2 ID : 9102817060

Option 3 ID : 9102817058

Option 4 ID : 9102817057

Status : Answered

Chosen Option : 3

Q.40 B1, B2, B3, B4 आणि B5 ही पाच मुले एका ओळीत दक्षिणेकडे तोंड करून (त्याच क्रमाने असणे गरजेचे नाही) बसली आहेत. B1 च्या उजवीकडे दुसऱ्या स्थानी B2 बसला आहे. B4 आणि B5 यांच्या दरम्यान दोन मुले बसली आहेत. B1 आणि B4 यांच्या दरम्यान एक मुलगा बसला आहे. B3 च्या लगतच उजवीकडे कोण बसले आहे?

- Ans
- 1. B5
 - 2. B4
 - 3. B1
 - 4. B2

Question Type : MCQ

Question ID : 9102811778

Option 1 ID : 9102817004

Option 2 ID : 9102817003

Option 3 ID : 9102817001

Option 4 ID : 9102817002

Status : Answered

Chosen Option : 3

Q.41 A, B, C, D, E आणि F या सहा उमेदवारांनी एका परीक्षेत वेगवेगळे गुण मिळवले. चार उमेदवारांना D पेक्षा जास्त गुण मिळाले. E ला A पेक्षा जास्त गुण मिळाले, पण B पेक्षा कमी गुण मिळाले. F ला A पेक्षा की गुण मिळाले पण D पेक्षा जास्त गुण मिळाले.

खालीलपैकी कोणते विधान बरोबर आहे?

I. C ला सर्वात कमी गुण मिळाले.

II. B ला सर्वात जास्त गुण मिळाले.

Ans

✗ 1. केवळ I

✗ 2. केवळ II

✓ 3. I आणि II दोन्ही

✗ 4. किंवा II यापैकी कोणतेही नाही

Question Type : MCQ

Question ID : 9102811789

Option 1 ID : 9102817045

Option 2 ID : 9102817046

Option 3 ID : 9102817047

Option 4 ID : 9102817048

Status : Answered

Chosen Option : 3

Q.42 दिलेल्या शब्दांचा काळजीपूर्वक अभ्यास करा आणि खालील प्रश्नाचे उत्तर द्या.

GROW TURK FING LOBD

प्रथम सर्व अक्षरे इंग्रजी वर्णानुक्रमानुसार पुढील अक्षराने बदलली आणि नंतर याप्रमाणे बनलेल्या प्रत्येक शब्दाच्या अक्षरांची इंग्रजी वर्णानुक्रमानुसार डावीकडून उजवीकडे मांडणी केली. तर सर्वात डावीकडील शब्दाच्या डाव्या टोकाकडून तिसरे अक्षर आणि सर्वात उजवीकडील शब्दाच्या डाव्या टोकाकडून दुसरे अक्षर यांच्यादरम्यान इंग्रजी वर्णानुक्रमानुसार किती अक्षरे असतील?

Ans

✗ 1. 10

✓ 2. 13

✗ 3. 5

✗ 4. 8

Question Type : MCQ

Question ID : 9102811797

Option 1 ID : 9102817078

Option 2 ID : 9102817079

Option 3 ID : 9102817077

Option 4 ID : 9102817080

Status : Answered

Chosen Option : 2

Q.43 प्रश्नातील आकृतीत दाखवल्याप्रमाणे कागदाच्या एका तुकड्याची घडी घातली आणि त्याला पंच करण्यात आले. जेव्हा तो उघडला जाईल तेव्हा तो कसा दिसेल हे उत्तरासाठी दिलेल्या आकृतींमधून दर्शवा.

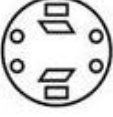


Ans

✓ 1.



✗ 2.



✗ 3.



✗ 4.



Question Type : MCQ

Question ID : 9102811818

Option 1 ID : 9102817161

Option 2 ID : 9102817162

Option 3 ID : 9102817164

Option 4 ID : 9102817163

Status : Answered

Chosen Option : 1

Q.44 शब्दांची रचना करणाऱ्या एका मशिनला शब्दांची इनपुट लाईन दिली असता, प्रत्येक चरणात एका विशिष्ट नियमाचे पालन करून, त्यांची पुनर्रचना केली जाते. खाली इनपुट आणि पुनर्रचना यांचे उदाहरण दिले आहे.

इनपुट: Am Jr Df Bg Rm

चरण 1: Am Bg Jr Df Rm

चरण 2: Am Bg Df Jr Rm

चरण 2 हे शेवटचे चरण आहे.

वर उल्लेख केलेल्या तर्काचा वापर करून, खालील इनपुटसाठी विविध चरणांची पडताळणी करा.

इनपुट: Rub Kink Stu Ajk Fmi

इच्छित आउटपुट मिळण्यासाठी किती चरणांची आवश्यकता आहे?

- Ans
- 1. पाच
 - 2. दोन
 - 3. तीन
 - 4. चार

Question Type : MCQ

Question ID : 9102811805

Option 1 ID : 9102817112

Option 2 ID : 9102817109

Option 3 ID : 9102817111

Option 4 ID : 9102817110

Status : Answered

Chosen Option : 1

Q.45 खालील उदाहरणात एक प्रश्न आणि दोन विधाने (I) आणि (II) आहेत. (विधानांमध्ये दिलेली माहिती प्रश्नांची उत्तरे देण्यासाठी पुरेशी आहे का ते ठरवा आणि उत्तर द्या.)

एका विशिष्ट सांकेतिक भाषेत '4' चा अर्थ काय होतो?

I. '124' म्हणजे "you are poor".

II. '345' म्हणजे "poor live there".

Ans 1.

जर प्रश्नाचे उत्तर दोन्ही विधानांचा एकत्र वापर करूनही देता येऊ शकत नाही.

2.

जर प्रश्नाचे उत्तर फक्त एका विधानाचा वापर करून देता येऊ शकते पण फक्त दुसऱ्या विधानाचा वापर करून देता येऊ शकत नाही.

3.

जर प्रश्नाचे उत्तर दोन्ही विधानांचा एकत्र वापर करून देता येऊ शकते पण दोन्हीपैकी एखादे विधान एकटे वापरून देता येऊ शकत नाही.

4.

जर प्रश्नाचे उत्तर (I) किंवा (II) या दोन्ही विधानांपैकी फक्त एकाचा वापर करून देता येऊ शकते.

Question Type : MCQ

Question ID : 9102811814

Option 1 ID : 9102817148

Option 2 ID : 9102817145

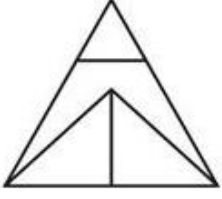
Option 3 ID : 9102817147

Option 4 ID : 9102817146

Status : Answered

Chosen Option : 3

Q.46 दिलेल्या आकृतीत किती त्रिकोण आहेत?



- Ans 1. 5
 2. 4
 3. 6
 4. 7

Question Type : MCQ

Question ID : 9102811819

Option 1 ID : 9102817166

Option 2 ID : 9102817165

Option 3 ID : 9102817167

Option 4 ID : 9102817168

Status : Answered

Chosen Option : 1

Q.47 कोणत्या दोन अंकांची अदलाबदल केल्यानंतर, दिलेल्या समीकरणाचे मूल्य '7' होईल?

$$2 \times 6 \div 4 - 8 + 9$$

- Ans 1. 6 आणि 8
 2. 2 आणि 4
 3. 2 आणि 8
 4. 4 आणि 8

Question Type : MCQ

Question ID : 9102811823

Option 1 ID : 9102817183

Option 2 ID : 9102817182

Option 3 ID : 9102817181

Option 4 ID : 9102817184

Status : Answered

Chosen Option : 4

Q.48 दिलेल्या दोन चिन्हांची अदलाबदल केली तर, दिलेल्या समीकरणाचे मूल्य किती असेल?

– आणि ÷

$$144 - 12 \times 6 + 20 \div 60$$

Ans 1. 20

2. 46

3. 60

4. 32

Question Type : MCQ

Question ID : 9102811822

Option 1 ID : 9102817179

Option 2 ID : 9102817180

Option 3 ID : 9102817177

Option 4 ID : 9102817178

Status : Answered

Chosen Option : 2

Q.49 एका विशिष्ट सांकेतिक भाषेत, 'BIG' हे 'ZGE' असे लिहिले जाते आणि 'WIN' हे 'UGL' असे लिहिले जाते. त्या सांकेतिक भाषेत 'CAB' साठी संकेत कोणता आहे?

Ans 1. AYY

2. AYZ

3. AXZ

4. BYZ

Question Type : MCQ

Question ID : 9102811801

Option 1 ID : 9102817096

Option 2 ID : 9102817093

Option 3 ID : 9102817094

Option 4 ID : 9102817095

Status : Answered

Chosen Option : 2

Q.50 एके दिवशी सकाळी P आणि Q एकमेकांच्या समोर उभे होते. Q ची सावली P च्या डावीकडे पडली होती. P चे तोंड कोणत्या दिशेला होते?

- Ans
- 1. पश्चिम
 - 2. दक्षिण
 - 3. उत्तर
 - 4. पूर्व

Question Type : MCQ

Question ID : 9102811810

Option 1 ID : 9102817132

Option 2 ID : 9102817129

Option 3 ID : 9102817131

Option 4 ID : 9102817130

Status : Answered

Chosen Option : 4

Test Date	31/01/2022
Test Time	9:00 AM - 11:00 AM
Subject	Cluster 1

Section : Technical

Q.1 आलेखी वेब ब्राऊजर सफारी हा कोणत्या विक्रेत्याच्या मालकीचा आहे?

- Ans
- 1. गुगल
 - 2. मायक्रोसॉफ्ट
 - 3. फेसबुक
 - 4. अॅपल

Question Type : MCQ
Question ID : 620362201
Option 1 ID : 620362795
Option 2 ID : 620362793
Option 3 ID : 620362796
Option 4 ID : 620362794
Status : Answered
Chosen Option : 2

Q.2 Which of the following assumption by coulomb's wedge theory for the determination of earth pressure is true?

- Ans
- 1. The backfill is wet, cohesionless, homogenous, isentropic and ideally plastic material.
 - 2. The wall surface is smooth.
 - 3. The slip surface is the plane surface which passes parallel to the heel of the wall.
 - 4. The sliding wedge itself acts as a rigid body.

Question Type : MCQ
Question ID : 620362171
Option 1 ID : 620362676
Option 2 ID : 620362674
Option 3 ID : 620362675
Option 4 ID : 620362673
Status : Answered
Chosen Option : 1

Q.3 Which among the following soil group have properties as pervious permeability and excellent workability?

- Ans**
- 1. Low & medium plasticity silt & clays; ML, MI
 - 2. Sands; SP
 - 3. High plasticity silt & clays; MH
 - 4. Gravels; GW

Question Type : MCQ
Question ID : 620362173
Option 1 ID : 620362683
Option 2 ID : 620362682
Option 3 ID : 620362684
Option 4 ID : 620362681
Status : Answered
Chosen Option : 4

Q.4 Which of the following should be followed in developing a unit hydrograph from gauged watersheds?

- Ans**
- 1. A double-peaked storms are selected only when multi-peaked storms are not there for analysis.
 - 2. Non-isolated storms occurring individually should be preferred.
 - 3. Unit hydrographs are best suited to areas less than 2000 km^3 .
 - 4. A high rainfall excess producing storm should be preferred.

Question Type : MCQ
Question ID : 620362185
Option 1 ID : 620362732
Option 2 ID : 620362729
Option 3 ID : 620362730
Option 4 ID : 620362731
Status : Answered
Chosen Option : 3

Q.5 Which of the following is the condition of adjustment of Wye level, when the level tube is on the stage under telescope?

- Ans**
- 1. The axis of the level tube should be perpendicular to the line of sight.
 - 2. The line of sight and axis of the level should be in the same horizontal plane.
 - 3. The line of sight should never coincide with axis of collars.
 - 4. The axis of the level tube should be perpendicular to the vertical axis.

Question Type : MCQ
Question ID : 620362194
Option 1 ID : 620362766
Option 2 ID : 620362768
Option 3 ID : 620362765
Option 4 ID : 620362767
Status : Answered
Chosen Option : 4

Q.6 _____ occurs when viscous forces are more predominant than inertia forces or when Reynold's number is less than 0.1.

- Ans
- 1. Friction drag
 - 2. Deformation drag
 - 3. Pressure drag
 - 4. Form drag

Question Type : MCQ
Question ID : 620362179
Option 1 ID : 620362706
Option 2 ID : 620362707
Option 3 ID : 620362705
Option 4 ID : 620362708
Status : Answered
Chosen Option : 1

Q.7 Which of the following is NOT a type of stiffener used in design of plate girders?

- Ans
- 1. Latitudinal stiffeners
 - 2. Horizontal stiffeners
 - 3. Transverse stiffeners
 - 4. Vertical stiffeners

Question Type : MCQ
Question ID : 620362158
Option 1 ID : 620362621
Option 2 ID : 620362624
Option 3 ID : 620362623
Option 4 ID : 620362622
Status : Answered
Chosen Option : 1

Q.8 Determine the dimensions of surface tension in $M - L - T$ system?

- Ans
- 1. MT^{-2}
 - 2. $ML^{-1}T^{-2}$
 - 3. MLT^{-2}
 - 4. ML^2T^{-2}

Question Type : MCQ
Question ID : 620362184
Option 1 ID : 620362728
Option 2 ID : 620362726
Option 3 ID : 620362725
Option 4 ID : 620362727
Status : Answered
Chosen Option : 1

Q.9 Which of the following is a limit states of serviceability?

- Ans
- 1. Limit state of deflection
 - 2. Limit state of uniaxial bending
 - 3. Limit state of bond
 - 4. Limit state of collapse in shear

Question Type : MCQ
Question ID : 620362160
Option 1 ID : 620362632
Option 2 ID : 620362631
Option 3 ID : 620362630
Option 4 ID : 620362629
Status : Answered
Chosen Option : 1

Q.10 What is the effective length of compression member effectively held in position and restrained against rotation at one end, and at the other restrained against rotation but not held in position?(where L is the actual length)

- Ans
- 1. 1.0 L
 - 2. 2.0 L
 - 3. 1.2 L
 - 4. 0.8 L

Question Type : MCQ
Question ID : 620362162
Option 1 ID : 620362638
Option 2 ID : 620362640
Option 3 ID : 620362639
Option 4 ID : 620362637
Status : Answered
Chosen Option : 4

Q.11 Under what condition the method of orienting the plane table by means of trough compass is used?

- Ans
- 1. For approximate orientation prior to final adjustment.
 - 2. When it is not possible to set the plane table on the point.
 - 3. When there is a second point available for orientation.
 - 4. When it is possible to set the plane table on the point already plotted on the sheet.

Question Type : MCQ
Question ID : 620362190
Option 1 ID : 620362750
Option 2 ID : 620362749
Option 3 ID : 620362752
Option 4 ID : 620362751
Status : Answered
Chosen Option : 4

Q.12 Which of the following assumption are reasonably acceptable to develop theory of simple bending?

Ans 1.

The radius of curvature of bent beam is very small compared to depth of the beam.

2. Stresses are within the plastic limit.

3. Plane section remains plane even after deformations.

4. The material is homogeneous and isentropic.

Question Type : MCQ
Question ID : 620362154
Option 1 ID : 620362608
Option 2 ID : 620362605
Option 3 ID : 620362606
Option 4 ID : 620362607
Status : Answered
Chosen Option : 3

Q.13 Which of the following assumption made by Banerjee and Gangopadhyay, to derive equations for the lateral load capacity of wells?

Ans 1. The well is founded in a clayey stratum.

2.

The resultant unit pressure on soil at any depth is in simple proportion to the horizontal displacement.

3.

The well is acted upon by a multi-directional horizontal force.

4.

The ratio between the contact pressure and the corresponding displacement is dependent of the magnitude of pressure.

Question Type : MCQ
Question ID : 620362177
Option 1 ID : 620362697
Option 2 ID : 620362700
Option 3 ID : 620362698
Option 4 ID : 620362699
Status : Answered
Chosen Option : 4

Q.14 _____ can be understood as the access points to other resources of the same or different websites.

Ans 1. Web browser

2. HTML

3. Hyperlinks

4. Web server

Question Type : MCQ
Question ID : 620362198
Option 1 ID : 620362782
Option 2 ID : 620362783
Option 3 ID : 620362784
Option 4 ID : 620362781
Status : Answered
Chosen Option : 1

Q.15 Which among the following unit of treatment plant has the function to remove the finer colloidal particles and some bacteria?

- Ans**
- 1. Coagulation tank
 - 2. Filtration unit
 - 3. Chlorination unit
 - 4. Water softening tank

Question Type : MCQ
Question ID : 620362165
Option 1 ID : 620362652
Option 2 ID : 620362650
Option 3 ID : 620362651
Option 4 ID : 620362649
Status : Answered
Chosen Option : 2

Q.16 A state of _____ exists when the soil mass yields in such a way that it tends to stretch horizontally.

- Ans**
- 1. Passive pressure
 - 2. Parallel pressure
 - 3. At-rest pressure
 - 4. Active pressure

Question Type : MCQ
Question ID : 620362169
Option 1 ID : 620362667
Option 2 ID : 620362668
Option 3 ID : 620362665
Option 4 ID : 620362666
Status : Marked For Review
Chosen Option : 2

Q.17 Which of the following assumption is made for the development of unit hydrograph?

- Ans**
- 1. The coordinates of the resulting surface runoff hydrograph are indirectly proportional to the excess rainfall.
 - 2. The duration of the direct runoff hydrograph i.e., its time base is dependent of the effective rainfall intensity
 - 3. The excess rainfall in uniformly distributed within its duration.
 - 4. Unit hydrograph coordinates do not change with respect to period and time of rainfall occurrence has less effect.

Question Type : MCQ
Question ID : 620362183
Option 1 ID : 620362722
Option 2 ID : 620362723
Option 3 ID : 620362724
Option 4 ID : 620362721
Status : Marked For Review
Chosen Option : 4

Q.18 Which among the following is an expression for specific speed for turbine?(where P is the output power, N is speed of rotation and H is the net available head)

Ans

1. $N_s = \frac{P^{2/3}}{H^{5/4} N}$

2. $N_s = \frac{P^{1/2}}{H^{5/4} N}$

3. $N_s = \frac{P^{1/2} N}{H^{3/4}}$

4. $N_s = \frac{P^{1/2} N}{H^{5/4}}$

Question Type : MCQ

Question ID : 620362182

Option 1 ID : 620362718

Option 2 ID : 620362717

Option 3 ID : 620362719

Option 4 ID : 620362720

Status : Answered

Chosen Option : 1

Q.19 _____ is used to provide a mapping between the name of the requested website and its IP address.

Ans

1. W3C

2. ISP

3. Web server

4. DNS

Question Type : MCQ

Question ID : 620362200

Option 1 ID : 620362789

Option 2 ID : 620362791

Option 3 ID : 620362792

Option 4 ID : 620362790

Status : Answered

Chosen Option : 4

Q.20 Which of the following method for resection after orientation by three-point problem, is also known as tracing paper method?

Ans

1. Mechanical method

2. Trial and error method

3. Lehman's method

4. Graphical method

Question Type : MCQ

Question ID : 620362191

Option 1 ID : 620362755

Option 2 ID : 620362753

Option 3 ID : 620362756

Option 4 ID : 620362754

Status : Answered

Chosen Option : 2

Q.21 Which of the following is the most important feature of accidental errors which usually occur are
(a) Large error occur frequently and are probable
(b) Positive and negative errors of the same size happen with equal frequency, that is they are equally probable
(c) Small errors tend to be less frequent than the large ones, that is they are less probable

- Ans**
- ✓ 1. Only (b)
 - ✗ 2. Only (c)
 - ✗ 3. Only (a)
 - ✗ 4. (a), (b) and (c)

Question Type : MCQ
Question ID : 620362193
Option 1 ID : 620362763
Option 2 ID : 620362764
Option 3 ID : 620362762
Option 4 ID : 620362761
Status : Answered
Chosen Option : 3

Q.22 Which of the following are the basic concept of prestressing?
(a) Stress concept
(b) Strength concept
(c) Balanced load concept
(d) Compound transform concept

- Ans**
- ✗ 1. Only (a) and (c)
 - ✗ 2. (a), (b), (c) and (d)
 - ✓ 3. Only (a), (b) and (c)
 - ✗ 4. Only (a), (c) and (d)

Question Type : MCQ
Question ID : 620362159
Option 1 ID : 620362625
Option 2 ID : 620362628
Option 3 ID : 620362627
Option 4 ID : 620362626
Status : Answered
Chosen Option : 3

Q.23 In which of the following case, mohr's circle can be drawn?

Ans 1.

A body subjected to mutually perpendicular principal tensile stresses of equal intensities.

2.

A body subjected to mutually perpendicular principal stresses which are unequal and unlike.

3.

A body subjected to two parallel principal stresses accompanied by simple shear stress.

4.

A body subjected to two parallel principal stresses accompanied by Normal shear stress.

Question Type : MCQ

Question ID : 620362155

Option 1 ID : 620362611

Option 2 ID : 620362610

Option 3 ID : 620362612

Option 4 ID : 620362609

Status : Answered

Chosen Option : 4

Q.24 In which of the following problem the dimensional analysis is NOT applied?

Ans 1.

Determination of non-dimensional numbers involved in physical phenomena

2. Determination of non-propagative waves

3. Determination of scale effects

4. Modeling of phenomena using models

Question Type : MCQ

Question ID : 620362181

Option 1 ID : 620362716

Option 2 ID : 620362715

Option 3 ID : 620362713

Option 4 ID : 620362714

Status : Answered

Chosen Option : 2

Q.25 Which of the following is the type of water intake works?

- (a) River intake
- (b) Lake intake
- (c) Reservoir intake
- (d) Canal intake

- Ans
- 1. Only (a), (b) and (d)
 - 2. (a), (b), (c) and (d)
 - 3. Only (a), (b) and (c)
 - 4. Only (a) and (b)

Question Type : MCQ
Question ID : 620362164
Option 1 ID : 620362646
Option 2 ID : 620362647
Option 3 ID : 620362645
Option 4 ID : 620362648
Status : Answered
Chosen Option : 1

Q.26 The equipment for base line measurement by flexible apparatus consist of

- Ans
- 1. Six thermometers: Three for measuring the temperature of the field tape and three for standardizing the four thermometers.
 - 2. Six thermometers: Four for measuring the temperature of the field tape and two for standardizing the four thermometers.
 - 3. Five standardized tapes: Four are used in field measurement and the other one for standardizing the field tape at suitable intervals.
 - 4. Five standardized tapes: three are used in field measurement and the other two for standardizing the field tape at suitable intervals.

Question Type : MCQ
Question ID : 620362189
Option 1 ID : 620362747
Option 2 ID : 620362745
Option 3 ID : 620362748
Option 4 ID : 620362746
Status : Answered
Chosen Option : 1

Q.27 Which of the following is an underground source of water?

- Ans
- 1. Pond or lake
 - 2. Storage reservoir
 - 3. Stream
 - 4. Infiltration gallery

Question Type : MCQ
Question ID : 620362163
Option 1 ID : 620362642
Option 2 ID : 620362643
Option 3 ID : 620362641
Option 4 ID : 620362644
Status : Answered
Chosen Option : 4

Q.28 Which of the following is NOT a permanent adjustment of a transit theodolite?

- Ans
- 1. Adjustment of the horizontal axis
 - 2. Adjustment of line of sight
 - 3. Adjustment of plate level
 - 4. Adjustment of the horizontal index frame

Question Type : MCQ
Question ID : 620362195
Option 1 ID : 620362771
Option 2 ID : 620362770
Option 3 ID : 620362769
Option 4 ID : 620362772
Status : Answered
Chosen Option : 3

Q.29 Which of the following is NOT a linear method for setting out simple circular curves?

- Ans
- 1. By ordinates from the short chord
 - 2. By offset from chords produced.
 - 3. By successive bisection of arcs.
 - 4. By offsets from the tangents.

Question Type : MCQ
Question ID : 620362197
Option 1 ID : 620362778
Option 2 ID : 620362780
Option 3 ID : 620362777
Option 4 ID : 620362779
Status : Answered
Chosen Option : 1

Q.30 Which of the following slope failure surface is curved at the two ends and plane in the middle portion and such failure generally occurs when a hard stratum exists at considerable depth below the toe?

- Ans**
- 1. Rotational failure
 - 2. Translational failure
 - 3. Compound failure
 - 4. Wedge failure

Question Type : MCQ
Question ID : 620362172
Option 1 ID : 620362677
Option 2 ID : 620362678
Option 3 ID : 620362679
Option 4 ID : 620362680
Status : Answered
Chosen Option : 4

Q.31 Topographical surveys and route surveys are included as

- Ans**
- 1. Satellite surveys
 - 2. Hydrographic surveys
 - 3. Astronomic surveys
 - 4. Engineering surveys

Question Type : MCQ
Question ID : 620362187
Option 1 ID : 620362738
Option 2 ID : 620362739
Option 3 ID : 620362737
Option 4 ID : 620362740
Status : Answered
Chosen Option : 4

Q.32 _____ are driven into loose granular soils to increase the relative density.

- Ans**
- 1. Fender piles.
 - 2. Load bearing piles.
 - 3. Compaction files.
 - 4. Anchor piles.

Question Type : MCQ
Question ID : 620362175
Option 1 ID : 620362690
Option 2 ID : 620362689
Option 3 ID : 620362692
Option 4 ID : 620362691
Status : Answered
Chosen Option : 2

Q.33 If V is mean velocity in m/sec, m is hydraulic mean depth in m and i is longitudinal slope, then $V = 83.50 \times m^{2/3} \times i^{1/2}$ is the mean velocity for open channel sewers design. The above expression is known as _____

- Ans**
- 1. Hazen and willian's formula
 - 2. Manning's formula
 - 3. Kutter's formula
 - 4. Crimp and Bruge's formula

Question Type : MCQ
 Question ID : 620362168
 Option 1 ID : 620362664
 Option 2 ID : 620362663
 Option 3 ID : 620362662
 Option 4 ID : 620362661
 Status : Answered
 Chosen Option : 3

Q.34 The fine grained soils which have a liquid limit less than 35 is called as

- Ans**
- 1. Silts and clays represented by symbol L.
 - 2. Silts and clays of represented by symbol K.
 - 3. Silts and clays represented by symbol I.
 - 4. Silts and clays represented by symbol H.

Question Type : MCQ
 Question ID : 620362170
 Option 1 ID : 620362669
 Option 2 ID : 620362672
 Option 3 ID : 620362670
 Option 4 ID : 620362671
 Status : Answered
 Chosen Option : 2

Q.35 Which of the following is the advantage of HSFG bolts over bearing type bolts?

- Ans**
- 1. Material cost is low.
 - 2. No special attention required to workmanship.
 - 3. High static strength due to low frictional resistance
 - 4. Joints are rigid.

Question Type : MCQ
 Question ID : 620362157
 Option 1 ID : 620362617
 Option 2 ID : 620362620
 Option 3 ID : 620362619
 Option 4 ID : 620362618
 Status : Answered
 Chosen Option : 3

Q.36 Which of the following are the elements of a typical plate girder?

- (a) Web
- (b) Flanges
- (c) Stiffeners

- Ans
- 1. Only (a) & (b)
 - 2. Only (b) and (c)
 - 3. (a), (b) and (c)
 - 4. Only (a) & (c)

Question Type : MCQ
Question ID : 620362156
Option 1 ID : 620362614
Option 2 ID : 620362615
Option 3 ID : 620362616
Option 4 ID : 620362613
Status : Answered
Chosen Option : 3

Q.37 Which among the following is the most reliable method of estimating the pile capacity?

- Ans
- 1. Static methods
 - 2. Pile load tests
 - 3. In-situ penetration tests
 - 4. Dynamic formulas

Question Type : MCQ
Question ID : 620362178
Option 1 ID : 620362704
Option 2 ID : 620362701
Option 3 ID : 620362702
Option 4 ID : 620362703
Status : Answered
Chosen Option : 2

Q.38 An online discussion site where people can do conversations in the form of posted messages is known as an

- Ans
- 1. Instant chat show
 - 2. exchange networking
 - 3. Internet Forums
 - 4. Email

Question Type : MCQ
Question ID : 620362202
Option 1 ID : 620362798
Option 2 ID : 620362799
Option 3 ID : 620362800
Option 4 ID : 620362797
Status : Answered
Chosen Option : 4

- Q.39 What are aspects of the fundamental principles of plane surveying?
(a) Working from the whole to part
(b) Location of a point by measurement from two points of reference.
(c) Always make provisions of non-adequate checks

- Ans
- 1. (a), (b) and (c)
 - 2. Only (a) and (c)
 - 3. Only (a) and (b)
 - 4. Only (b) and (c)

Question Type : MCQ
Question ID : 620362188
Option 1 ID : 620362744
Option 2 ID : 620362741
Option 3 ID : 620362742
Option 4 ID : 620362743
Status : Answered
Chosen Option : 3

- Q.40 Which of the following is one of the rules for the design of latticed columns?

- Ans
- 1. Slenderness ratio for lacing bars should not exceed 200.
 - 2.
Laced compression members shall be provided with flat plates.
 - 3.
As far as possible the latticing system shall be non-uniform throughout.
 - 4.
Lacing bars shall be inclined at 40° to 70° to the axis of built-up member.

Question Type : MCQ
Question ID : 620362186
Option 1 ID : 620362734
Option 2 ID : 620362735
Option 3 ID : 620362736
Option 4 ID : 620362733
Status : Answered
Chosen Option : 1

Q.41 Request and response are the two categories of

- Ans
- 1. TCP
 - 2. WWW
 - 3. HTTP
 - 4. ACK

Question Type : MCQ
Question ID : 620362199
Option 1 ID : 620362788
Option 2 ID : 620362786
Option 3 ID : 620362785
Option 4 ID : 620362787
Status : Answered
Chosen Option : 2

Q.42 Choose the true characteristic of a mat foundation i.e., mats placed on piles?

- Ans
- 1. They are used where the water table is low.
 - 2. This method of construction cannot control buoyancy.
 - 3. This method of construction enhances the settlement.
 - 4. They are used where soil is highly compressible.

Question Type : MCQ
Question ID : 620362176
Option 1 ID : 620362693
Option 2 ID : 620362695
Option 3 ID : 620362694
Option 4 ID : 620362696
Status : Answered
Chosen Option : 4

Q.43 _____ is a chord between two successive regular stations on a curve.

- Ans
- 1. Normal chord
 - 2. Mid-ordinate chord
 - 3. Station chord
 - 4. Sub-chord

Question Type : MCQ
Question ID : 620362196
Option 1 ID : 620362773
Option 2 ID : 620362774
Option 3 ID : 620362776
Option 4 ID : 620362775
Status : Answered
Chosen Option : 2

Q.44 The method of grinding the garbage into powder is known as

- Ans
- 1. Pulverization
 - 2. Incineration
 - 3. Composting
 - 4. Trenching

Question Type : MCQ
Question ID : 620362167
Option 1 ID : 620362658
Option 2 ID : 620362657
Option 3 ID : 620362660
Option 4 ID : 620362659
Status : Answered
Chosen Option : 3

Q.45 Which of the following coagulant as chemical is used now universally in water treatment projects for the following advantages:

- (a) It produces very clear water
- (b) The floc is quite tough
- (c) It is very cheap
- (d) The floc is not broken while clearing

- Ans
- 1. Aluminium sulphate
 - 2. Chlorinated copperas
 - 3. Magnesium carbonate
 - 4. Ferrous sulphate and lime

Question Type : MCQ
Question ID : 620362166
Option 1 ID : 620362656
Option 2 ID : 620362653
Option 3 ID : 620362655
Option 4 ID : 620362654
Status : Answered
Chosen Option : 2

Q.46 At values of load below the buckling load, a strut will be in _____

- Ans
- 1. Stable equilibrium
 - 2. Under-value equilibrium
 - 3. Un-stable equilibrium
 - 4. Neutral equilibrium

Question Type : MCQ
Question ID : 620362153
Option 1 ID : 620362603
Option 2 ID : 620362601
Option 3 ID : 620362604
Option 4 ID : 620362602
Status : Answered
Chosen Option : 4

Q.47 Which among the following is also called as counter-propagating meters used in flow measurement in closed pipes?

- Ans**
- 1. Reflection flow meter
 - 2. Doppler flow meter
 - 3. Time-off-flight meter
 - 4. Corolis flow meter

Question Type : MCQ
Question ID : 620362180
Option 1 ID : 620362712
Option 2 ID : 620362709
Option 3 ID : 620362710
Option 4 ID : 620362711
Status : Answered
Chosen Option : 3

Q.48 In which section for a reinforced concrete element in flexure, the strain in steel and strain in concrete reach their maximum values simultaneously?

- Ans**
- 1. Balanced section
 - 2. Over-reinforced section
 - 3. Under-reinforced section
 - 4. Zero-reinforced section

Question Type : MCQ
Question ID : 620362161
Option 1 ID : 620362635
Option 2 ID : 620362636
Option 3 ID : 620362634
Option 4 ID : 620362633
Status : Answered
Chosen Option : 2

Q.49 Which of the following is a deep foundation?

- Ans**
- 1. Pier foundation
 - 2. Raft foundation
 - 3. Spread foundation
 - 4. Strap footing

Question Type : MCQ
Question ID : 620362174
Option 1 ID : 620362687
Option 2 ID : 620362688
Option 3 ID : 620362685
Option 4 ID : 620362686
Status : Answered
Chosen Option : 1

Q.50 Which among the following is the advantage of plane tabling?

- Ans
- ✓ 1. It is most suitable for small scale maps.
 - ✗ 2. Due to lightness, it is convenient to transport.
 - ✗ 3. It is intended for very accurate work.
 - ✗ 4. It is more convenient in rainy season.

Question Type : MCQ
Question ID : 620362192
Option 1 ID : 620362757
Option 2 ID : 620362758
Option 3 ID : 620362759
Option 4 ID : 620362760
Status : Answered
Chosen Option : 3

Section : Marathi Language

Q.1 'काठ्या' शब्दाचे एकवचन कोणते आहे ?

- Ans
- ✓ 1. काठी
 - ✗ 2. काटा
 - ✗ 3. काठ
 - ✗ 4. काडी

Question Type : MCQ
Question ID : 620362213
Option 1 ID : 620362843
Option 2 ID : 620362841
Option 3 ID : 620362842
Option 4 ID : 620362844
Status : Answered
Chosen Option : 1

Q.2 पुढे लिंग विचारानुसार जोड्या दिल्या आहेत. त्यातील चुकीचा पर्याय शोधा.

- Ans
- ✓ 1. सुसर - सुसरा
 - ✗ 2. शिक्षक - शिक्षिका
 - ✗ 3. वानर - वानरी
 - ✗ 4. भाऊ - वहिनी

Question Type : MCQ
Question ID : 620362210
Option 1 ID : 620362831
Option 2 ID : 620362832
Option 3 ID : 620362829
Option 4 ID : 620362830
Status : Answered
Chosen Option : 4

Q.3 'मोर' आणि 'रेडा' या शब्दांची योग्य स्त्रीलिंगी रूपे सांगा.

- Ans
- 1. लांडोर आणि गाय
 - 2. लांडोर आणि म्हैस
 - 3. चिमणी आणि म्हैस
 - 4. मैना आणि म्हैस

Question Type : MCQ
Question ID : 620362211
Option 1 ID : 620362836
Option 2 ID : 620362835
Option 3 ID : 620362834
Option 4 ID : 620362833
Status : Answered
Chosen Option : 2

Q.4 'भीमाने मुष्टियुद्धात बकासुराला ठार मारून टाकले.' या वाक्यातील कर्ता ओळखा.

- Ans
- 1. भीम
 - 2. बकासुर
 - 3. ठार
 - 4. मुष्टियुद्ध

Question Type : MCQ
Question ID : 620362204
Option 1 ID : 620362806
Option 2 ID : 620362807
Option 3 ID : 620362808
Option 4 ID : 620362805
Status : Answered
Chosen Option : 1

Q.5 'गुरुजी विद्यार्थ्यांना व्याकरण शिकवतात.' या वाक्यातील क्रियापदाचा प्रकार ओळखा.

- Ans
- 1. अकर्मक
 - 2. सकर्मक
 - 3. उभयविध
 - 4. द्विकर्मक

Question Type : MCQ
Question ID : 620362203
Option 1 ID : 620362803
Option 2 ID : 620362801
Option 3 ID : 620362804
Option 4 ID : 620362802
Status : Answered
Chosen Option : 4

Q.6 पुढील वाक्यातील कंसात दिलेल्या शब्दाचा योग्य पर्याय शोधा.
"सर्वांसाठी जेवणाची व्यवस्था मोठ्या मांडवात (करणे) आलेली आहे."

- Ans
- 1. करण
 - 2. करणाऱ्या
 - 3. करण्यात
 - 4. करण्यासाठी

Question Type : MCQ
Question ID : 620362221
Option 1 ID : 620362873
Option 2 ID : 620362876
Option 3 ID : 620362874
Option 4 ID : 620362875
Status : Answered
Chosen Option : 3

Q.7 'परिमळ' या शब्दाचा समानार्थी शब्द कोणता आहे ?

- Ans
- 1. विवाह
 - 2. सुगंध
 - 3. प्रदक्षिणा
 - 4. परिचय

Question Type : MCQ
Question ID : 620362217
Option 1 ID : 620362860
Option 2 ID : 620362858
Option 3 ID : 620362857
Option 4 ID : 620362859
Status : Marked For Review
Chosen Option : 4

Q.8 'माझ्या दादाने मला एक पुस्तक पाठवले.'

'त्यात रंगीत चित्रे होती.'

वरील दोन वाक्यांचे केवलवाक्य करा.

- Ans
- 1. माझ्या एक दादाने मला रंगीत चित्रांचे पुस्तक पाठवले.
 - 2. माझ्या दादाने मला रंगीत चित्रांचे एक पुस्तक पाठवले.
 - 3. एक रंगीत चित्रांचे मला दादाने माझ्या पुस्तक पाठवले.
 - 4. माझ्या रंगीत चित्रांचे एक पुस्तक दादाने मला पाठवले.

Question Type : MCQ
Question ID : 620362207
Option 1 ID : 620362819
Option 2 ID : 620362817
Option 3 ID : 620362818
Option 4 ID : 620362820
Status : Answered
Chosen Option : 2

Q.9 'चातुर्मास ' हा समासाचा कोणता प्रकार आहे?

- Ans
- 1. द्वंद्व समास
 - 2. तत्पुरुष समास
 - 3. द्विगू समास
 - 4. अव्ययीभाव समास

Question Type : MCQ
Question ID : 620362208
Option 1 ID : 620362822
Option 2 ID : 620362824
Option 3 ID : 620362821
Option 4 ID : 620362823
Status : Answered
Chosen Option : 4

Q.10 'निरूपण ' या शब्दाचा समानार्थी शब्द लिहा.

- Ans
- ✓ 1. विवेचन
 - ✗ 2. लोकाचार
 - ✗ 3. निर्णय
 - ✗ 4. निकेतन

Question Type : MCQ
Question ID : 620362216
Option 1 ID : 620362855
Option 2 ID : 620362856
Option 3 ID : 620362854
Option 4 ID : 620362853
Status : Answered
Chosen Option : 1

Q.11 'प्रतिदिन ' या शब्दाचा समास ओळखा.

- Ans
- ✗ 1. तत्पुरुष समास
 - ✗ 2. बहुव्रीही समास
 - ✗ 3. द्वंद्व समास
 - ✓ 4. अव्ययीभाव समास

Question Type : MCQ
Question ID : 620362209
Option 1 ID : 620362825
Option 2 ID : 620362827
Option 3 ID : 620362826
Option 4 ID : 620362828
Status : Answered
Chosen Option : 2

Q.12 'मीनाने खाऊ खाल्ला असेल .' या वाक्यातील काळ ओळखा.

Ans

- 1. अपूर्ण भविष्यकाळ
- 2. अपूर्ण वर्तमानकाळ
- 3. अपूर्ण भूतकाळ
- 4. पूर्ण भविष्यकाळ

Question Type : MCQ
Question ID : 620362205
Option 1 ID : 620362811
Option 2 ID : 620362810
Option 3 ID : 620362809
Option 4 ID : 620362812
Status : Answered
Chosen Option : 3

Q.13 पुढीलपैकी कोणता शब्द 'वरिष्ठ' या शब्दाचा विरुद्धार्थी शब्द आहे?

Ans

- 1. संतुष्ट
- 2. कनिष्ठ
- 3. एकनिष्ठ
- 4. श्रेष्ठ

Question Type : MCQ
Question ID : 620362218
Option 1 ID : 620362861
Option 2 ID : 620362862
Option 3 ID : 620362864
Option 4 ID : 620362863
Status : Answered
Chosen Option : 2

Q.14 'ययाति' या कादंबरीचे लेखक कोण आहेत?

- Ans
- ✓ 1. वि.स. खांडेकर
 - ✗ 2. रणजित देसाई
 - ✗ 3. शिवाजी सावंत
 - ✗ 4. गो. नी .दांडेकर

Question Type : MCQ
Question ID : 620362222
Option 1 ID : 620362878
Option 2 ID : 620362879
Option 3 ID : 620362877
Option 4 ID : 620362880
Status : Answered
Chosen Option : 1

Q.15 'रामाने झाडाचा आंबा तोडून खाल्ला' .या वाक्यातील प्रयोग ओळखा.

- Ans
- ✓ 1. कर्मणी
 - ✗ 2. कर्तरी
 - ✗ 3. भावे
 - ✗ 4. कर्मकर्तरी

Question Type : MCQ
Question ID : 620362215
Option 1 ID : 620362851
Option 2 ID : 620362849
Option 3 ID : 620362850
Option 4 ID : 620362852
Status : Answered
Chosen Option : 3

Q.16 'प्रसरण' या शब्दाचा विरुद्धार्थी शब्द सांगा.

- Ans
- ✓ 1. आकुंचन
 - ✗ 2. स्पष्टीकरण
 - ✗ 3. अनुमोदन
 - ✗ 4. निवारण

Question Type : MCQ
Question ID : 620362219
Option 1 ID : 620362865
Option 2 ID : 620362866
Option 3 ID : 620362867
Option 4 ID : 620362868
Status : Answered
Chosen Option : 1

Q.17 'मी निबंध लिहित आहे .' या वाक्यातील काळ कोणता आहे ते लिहा.

- Ans
- 1. रीति वर्तमानकाळ
 - 2. पूर्ण वर्तमानकाळ
 - 3. अपूर्ण वर्तमानकाळ
 - 4. साधा वर्तमानकाळ

Question Type : MCQ
Question ID : 620362206
Option 1 ID : 620362816
Option 2 ID : 620362815
Option 3 ID : 620362814
Option 4 ID : 620362813
Status : Answered
Chosen Option : 2

Q.18 'सून' या शब्दाचे अनेकवचन कोणते आहे?

- Ans
- 1. सुना
 - 2. सुने
 - 3. सुन्या
 - 4. सूना

Question Type : MCQ
Question ID : 620362212
Option 1 ID : 620362837
Option 2 ID : 620362838
Option 3 ID : 620362839
Option 4 ID : 620362840
Status : Answered
Chosen Option : 4

Q.19 'मुलीनी आता शाळेत जावे.' या वाक्यातील प्रयोग ओळखा.

- Ans
- 1. कर्मणी
 - 2. कर्तरी
 - 3. भावे
 - 4. कर्तृकर्म संकरप्रयोग

Question Type : MCQ
Question ID : 620362214
Option 1 ID : 620362847
Option 2 ID : 620362845
Option 3 ID : 620362846
Option 4 ID : 620362848
Status : Answered
Chosen Option : 1

Q.20 पुढील वाक्यातील शब्दांचा अचूक पदक्रम असलेले वाक्य कोणते?

- Ans
- 1. का कोण करू शकेल ममतेची बरोबरी आईच्या?
 - 2. कोण बरोबरी शकेल आईच्या ममतेची करू का?
 - 3. ममतेची आईच्या बरोबरी कोण करू शकेल का?
 - 4. आईच्या ममतेची बरोबरी कोण करू शकेल का?

Question Type : MCQ
Question ID : 620362220
Option 1 ID : 620362872
Option 2 ID : 620362870
Option 3 ID : 620362871
Option 4 ID : 620362869
Status : Answered
Chosen Option : 4

Comprehension:

सुद्धी पडली की मला आठवण येई, ती माईमावशीच्या घराची! माईमावशीचे घर म्हणजे मज्जा ! रत्नागिरी माझे आजोळ आणि तिथले पावसजवळचे मावळंगे गाव हे माझ्या माईमावशीचे ।डीड-दोन तासांच्या प्रवासानंतर मला मावशीचे घर दिसे. दारात उभी राहून ती प्रसन्न चेहऱ्याने माझे स्वागत करत असे. "आता राहशीतना खूप दिवस? आईबाबा कसे आहेत?" असे तिचे प्रश्न सुरू असताना तिने केलेला राधवदास लाडू मी खात असे.

मावशीचे घर खूप मोठे कौलारु ! दारात आंब्याचे झाड. एकेक आंबा नारळाएवढा, खोबऱ्यासारखा गोड ! आम्ही घरातले ,मुंबईहून आलेली त्यांची भावंडे आणि मित्र असे तेरा-पौदाजण पट्टे, भेंड्या, कॅरम खेळत अंगणात बसलेले असू. रात्री उशिरापर्यंत मावशी आमच्यात असायची. घरासमोरच त्यांची भातघोती होती. मना ही शेती मावशीकडे पहायला मिळाली. तसेच त्या त्या दिवशी लागणारी भाजी टोपलीतून काढून आणण्याचा ताजा आनंद ! मावशीच्याघरासोबरी कोणाचे घर नव्हते. शेजाऱ्यांना हाक मारताना बागेच्या अगदी शेवटच्या टोकाला जाऊन कुकुरे मारावे लागत. मावशीच्या घरात इतकी वर्दळ असे की तिचे घर एकटे नसेच. मावशीचे घर बैठे, ऐसपैस होते. बाहेरच्या घारही बाजूनी मोठ्या पडव्या आणि मधल्या मोठ्या पांथऱ्यावर ओटी, माजघर, स्वयंपाकघर, झोपायच्या खोल्या आणि कोठीची खोली अशा सर्वच ऐसपैस खोल्या. पुढच्या पडवीत ओटीसमोर झोपाळा होता. सण कोणताही असो ,तिच्याघरी सगळे सायसंगीत असायचे. रोजचा स्वयंपाकच इतका विविधप्रकारचा करणारी मावशी, सण म्हटल्यावर तिच्या अंगात उत्सव संचारत असे

SubQuestion No : 21

Q.21 'अंगात उत्सव संचारणे' या वाक्यप्रचाराचा अर्थ काय?

- Ans
- 1. अन्नत्याग करणे
 - 2. उपकाराचे स्मरण करणे
 - 3. खूप उत्साह वाटणे
 - 4. भूतबाधा होणे

Question Type : MCQ
 Question ID : 620362227
 Option 1 ID : 620362896
 Option 2 ID : 620362895
 Option 3 ID : 620362893
 Option 4 ID : 620362894
 Status : Answered
 Chosen Option : 3

Comprehension:

सुद्धी पडली की मला आठवण येई, ती माईमावशीच्या घराची! माईमावशीचे घर म्हणजे मज्जा ! रत्नागिरी माझे आजोळ आणि तिथले पावसजवळचे मावळंगे गाव हे माझ्या माईमावशीचे ।डीड-दोन तासांच्या प्रवासानंतर मला मावशीचे घर दिसे. दारात उभी राहून ती प्रसन्न चेहऱ्याने माझे स्वागत करत असे. "आता राहशीतना खूप दिवस? आईबाबा कसे आहेत?" असे तिचे प्रश्न सुरू असताना तिने केलेला राधवदास लाडू मी खात असे.

मावशीचे घर खूप मोठे कौलारु ! दारात आंब्याचे झाड. एकेक आंबा नारळाएवढा, खोबऱ्यासारखा गोड ! आम्ही घरातले ,मुंबईहून आलेली त्यांची भावंडे आणि मित्र असे तेरा-पंधराजण पट्टे, भेंड्या, कॅरम खेळत अंगणात बसलेले असू. रात्री उशिरापर्यंत मावशी आमच्यात असायची. घरासमोरच त्यांची भातघोती होती. मना ही शेती मावशीकडे पहायला मिळाली. तसेच त्या त्या दिवशी लागणारी भाजी टोपलीतून काढून आणण्याचा ताजा आनंद ! मावशीच्याघरासोबरी कोणाचे घर नव्हते. शेजाऱ्यांना हाक मारताना बागेच्या अगदी शेवटच्या टोकाला जाऊन कुकुरे मारावे लागत. मावशीच्या घरात इतकी वर्दळ असे की तिचे घर एकटे नसेच. मावशीचे घर बैठे, ऐसपैस होते. बाहेरच्या पारही बाजूंनी मोठ्या पडव्या आणि मधल्या मोठ्या पांथऱ्यावर ओटी, माजघर, स्वयंपाकघर, झोपायच्या खोल्या आणि कोठीची खोली अशा सर्वच ऐसपैस खोल्या. पुढच्या पडवीत ओटीसमोर झोपाळा होता. सण कोणताही असो ,तिच्याघरी सगळे सायसंगीत असायचे. रोजचा स्वयंपाकच इतका विविधप्रकारचा करणारी मावशी, सण म्हटल्यावर तिच्या अंगात उत्सव संचारत असे

SubQuestion No : 22

Q.22 राबता, येणेजाणे या अर्थाचा या उतान्यात आलेला शब्द

- Ans
- 1. तिन्हीसांज
 - 2. ऐसपैस
 - 3. वर्दळ
 - 4. पंगत

Question Type : MCQ

Question ID : 620362226

Option 1 ID : 620362889

Option 2 ID : 620362891

Option 3 ID : 620362890

Option 4 ID : 620362892

Status : Answered

Chosen Option : 3

Comprehension:

सुद्धी पडली की मला आठवण येई, ती माईमावशीच्या घराची! माईमावशीचे घर म्हणजे मज्जा ! रत्नागिरी माझे आजोळ आणि तिथले पावसजवळचे मावळंगे गाव हे माझ्या माईमावशीचे ।डीड-दोन तासांच्या प्रवासानंतर मला मावशीचे घर दिसे. दारात उभी राहून ती प्रसन्न चेहऱ्याने माझे स्वागत करत असे. "आता राहशीतना खूप दिवस? आईबाबा कसे आहेत?" असे तिचे प्रश्न सुरू असताना तिने केलेला राघवदास लाडू मी खात असे.

मावशीचे घर खूप मोठे कौलारु ! दारात आंब्याचे झाड. एकेक आंबा नारळाएवढा, खोबऱ्यासारखा गोड ! आम्ही घरातले ,मुंबईहून आलेली त्यांची भावंडे आणि मित्र असे तेरा-पंधराजण पट्टे, भेंड्या, कॅरम खेळत अंगणात बसलेले असू. रात्री उशिरापर्यंत मावशी आमच्यात असायची. घरासमोरच त्यांची भातघोती होती. मना ही शेती मावशीकडे पहायला मिळाली. तसेच त्या त्या दिवशी लागणारी भाजी टोपलीतून काढून आणण्याचा ताजा आनंद ! मावशीच्याघरासोबरी कोणाचे घर नव्हते. शेजाऱ्यांना हाक मारताना बागेच्या अगदी शेवटच्या टोकाला जाऊन कुकुरे मारावे लागत. मावशीच्या घरात इतकी वर्दळ असे की तिचे घर एकटे नसेच. मावशीचे घर बैठे, ऐसपैस होते. बाहेरच्या धारही बाजूनी मोठ्या पडव्या आणि मधल्या मोठ्या पांथऱ्यावर ओटी, माजघर, स्वयंपाकघर, झोपायच्या खोल्या आणि कोठीची खोली अशा सर्वच ऐसपैस खोल्या. पुढच्या पडवीत ओटीसमोर झोपाळा होता. सण कोणताही असो ,तिच्याघरी सगळे सायसंगीत असायचे. रोजचा स्वयंपाकच इतका विविधप्रकारचा करणारी मावशी, सण म्हटल्यावर तिच्या अंगात उत्सव संचारत असे

SubQuestion No : 23

Q.23

'ऐसपैस या शब्दाचा अर्थ लिहा.

Ans

- 1. पडवी
- 2. झोपाळा
- 3. कौलारु
- 4. प्रशस्त

Question Type : MCQ

Question ID : 620362228

Option 1 ID : 620362900

Option 2 ID : 620362897

Option 3 ID : 620362898

Option 4 ID : 620362899

Status : Answered

Chosen Option : 4

Comprehension:

सुद्धी पडली की मला आठवण येई, ती माईमावशीच्या घराची! माईमावशीचे घर म्हणजे मज्जा ! रत्नागिरी माझे आजोळ आणि तिथले पावसजवळचे मावळंगे गाव हे माझ्या माईमावशीचे । दीड-दोन तासांच्या प्रवासानंतर मला मावशीचे घर दिसे. दारात उभी राहून ती प्रसन्न चेहऱ्याने माझे स्वागत करत असे. "आता राहशीतना खूप दिवस? आईबाबा कसे आहेत?" असे तिचे प्रश्न सुरू असताना तिने केलेला राधवदास लाडू मी खात असे.

मावशीचे घर खूप मोठे कौलारु ! दारात आंब्याचे झाड. एकेक आंबा नारळाएवढा, खोबऱ्यासारखा गोड ! आम्ही घरातले ,मुंबईहून आलेली त्यांची भावंडे आणि मित्र असे तेरा-पंधराजण पट्टे, भेंड्या, कॅरम खेळत अंगणात बसलेले असू. रात्री उशिरापर्यंत मावशी आमच्यात असायची. घरासमोरच त्यांची भातशेती होती. मना ही शेती मावशीकडे पहायला मिळाली. तसेच त्या त्या दिवशी लागणारी भाजी टोपलीतून काढून आणण्याचा ताजा आनंद ! मावशीच्याघरासोबरी कोणाचे घर नव्हते. शेजाऱ्यांना हाक मारताना बागेच्या अगदी शेवटच्या टोकाला जाऊन कुकुरे मारावे लागत. मावशीच्या घरात इतकी वर्दळ असे की तिचे घर एकटे नसेच. मावशीचे घर बैठे, ऐसपैस होते. बाहेरच्या पारही बाजूनी मोठ्या पडव्या आणि मधल्या मोठ्या पांथऱ्यावर ओटी, माजघर, स्वयंपाकघर, झोपायच्या खोल्या आणि कोठीची खोली अशा सर्वच ऐसपैस खोल्या. पुढच्या पडवीत ओटीसमोर झोपाळा होता. सण कोणताही असो ,तिच्याघरी सगळे सायसंगीत असायचे. रोजचा स्वयंपाकच इतका विविधप्रकारचा करणारी मावशी, सण म्हटल्यावर तिच्या अंगात उत्सव संचारत असे

SubQuestion No : 24

Q.24 लेखिकेच्या मावशीच्या गावाचे नाव सांगा.

- Ans
- 1. देवगड
 - 2. रत्नागिरी
 - 3. मावळंगे
 - 4. पावस

Question Type : MCQ

Question ID : 620362224

Option 1 ID : 620362884

Option 2 ID : 620362882

Option 3 ID : 620362883

Option 4 ID : 620362881

Status : Answered

Chosen Option : 3

Comprehension:

सुद्धी पडली की मला आठवण येई, ती माईमावशीच्या घराची! माईमावशीचे घर म्हणजे मज्जा ! रत्नागिरी माझे आजोळ आणि तिथले पावसजवळचे मावळंगे गाव हे माझ्या माईमावशीचे ।डीड-दोन तासांच्या प्रवासानंतर मला मावशीचे घर दिसे. दारात उभी राहून ती प्रसन्न चेहऱ्याने माझे स्वागत करत असे. "आता राहशीतना खूप दिवस? आईबाबा कसे आहेत?" असे तिचे प्रश्न सुरू असताना तिने केलेला राघवदास लाडू मी खात असे.

मावशीचे घर खूप मोठे कौलारु ! दारात आंब्याचे झाड. एकेक आंबा नारळाएवढा, खोबऱ्यासारखा गोड ! आम्ही घरातले ,मुंबईहून आलेली त्यांची भावंडे आणि मित्र असे तेरा-पंधराजण पट्टे, भेंड्या, कॅरम खेळत अंगणात बसलेले असू. रात्री उशिरापर्यंत मावशी आमच्यात असायची. घरासमोरच त्यांची भातघोती होती. मना ही शेती मावशीकडे पहायला मिळाली. तसेच त्या त्या दिवशी लागणारी भाजी टोपलीतून काढून आणण्याचा ताजा आनंद ! मावशीच्याघरासोबरी कोणाचे घर नव्हते. शेजाऱ्यांना हाक मारताना बागेच्या अगदी शेवटच्या टोकाला जाऊन कुकुरे मारावे लागत. मावशीच्या घरात इतकी वर्दळ असे की तिचे घर एकटे नसेच. मावशीचे घर बैठे, ऐसपैस होते. बाहेरच्या घारही बाजूनी मोठ्या पडव्या आणि मधल्या मोठ्या पांथऱ्यावर ओटी, माजघर, स्वयंपाकघर, झोपायच्या खोल्या आणि कोठीची खोली अशा सर्वच ऐसपैस खोल्या. पुढच्या पडवीत ओटीसमोर झोपाळा होता. सण कोणताही असो ,तिच्याघरी सगळे सायसंगीत असायचे. रोजचा स्वयंपाकच इतका विविधप्रकारचा करणारी मावशी, सण म्हटल्यावर तिच्या अंगात उत्सव संचारत असे

SubQuestion No : 25

Q.25 लेखिका मावशीकडे आल्यानंतर काय खात होती?

- Ans
- ✓ 1. राघवदास लाडू
 - ✗ 2. बुंदीचा लाडू
 - ✗ 3. बेसन लाडू
 - ✗ 4. डिंक लाडू

Question Type : MCQ

Question ID : 620362225

Option 1 ID : 620362885

Option 2 ID : 620362886

Option 3 ID : 620362887

Option 4 ID : 620362888

Status : Answered

Chosen Option : 1

Section : English Language

Q.1 In the following question, a sentence has been given in Active/Passive voice. Out of the four alternatives suggested, select the one which best expresses the same sentence in Passive/Active voice.
My mother built this business in 1856.

- Ans
- ✓ 1. This business was built in 1856 by my mother.
 - ✗ 2. This business has been built in 1856 by my mother.
 - ✗ 3. This business was being built in 1856 by my mother.
 - ✗ 4. This business was build in 1856 by my mother.

Question Type : MCQ

Question ID : 620362232

Option 1 ID : 620362913

Option 2 ID : 620362916

Option 3 ID : 620362915

Option 4 ID : 620362914

Status : Answered

Chosen Option : 2

Q.2 The question below consists of a set of labeled sentences. Out of the four options given, select the most logical order of the sentences to form a coherent paragraph.

- P. Nowadays, most of the teenagers remain busy in TV and computer games.
- Q. They hardly involve themselves in any sort of physical activity.
- R. As a result, they become obese, anemic and diabetic.
- S. Physical exercise is the only way to keep them safe from these ailments.

- Ans**
- 1. RQPS
 - 2. PSRQ
 - 3. PQRS
 - 4. QPSR

Question Type : MCQ
Question ID : 620362245
Option 1 ID : 620362966
Option 2 ID : 620362967
Option 3 ID : 620362968
Option 4 ID : 620362965
Status : Answered
Chosen Option : 3

Q.3 In the following question, out of the given four alternatives, select the alternative which best expresses the meaning of the Idiom/Phrase.

Sword of Damocles

- Ans**
- 1. Believer of God
 - 2. To cry loudly
 - 3. An impending disaster
 - 4. A diligent person

Question Type : MCQ
Question ID : 620362239
Option 1 ID : 620362944
Option 2 ID : 620362942
Option 3 ID : 620362941
Option 4 ID : 620362943
Status : Answered
Chosen Option : 4

Q.4 Choose the word that can meaningfully substitute the underlined part of the sentence.

He killed his own mother to acquire her property.

- Ans
- 1. Patricide
 - 2. Filicide
 - 3. Matricide
 - 4. Fratricide

Question Type : MCQ
Question ID : 620362248
Option 1 ID : 620362979
Option 2 ID : 620362978
Option 3 ID : 620362977
Option 4 ID : 620362980
Status : Answered
Chosen Option : 3

Q.5 Choose the word that can meaningfully substitute the underlined part of the sentence.

The practice of marrying multiple spouses which is forbidden in many countries.

- Ans
- 1. Monotheist
 - 2. Concubinage
 - 3. Polygamy
 - 4. Altruist

Question Type : MCQ
Question ID : 620362246
Option 1 ID : 620362969
Option 2 ID : 620362972
Option 3 ID : 620362970
Option 4 ID : 620362971
Status : Answered
Chosen Option : 3

Q.6 In the given question, idiom/proverb part of the sentence is underlined. Choose the option that can correctly substitute that part of the sentence making it meaningfully correct. If the idiom/proverb is used correctly, choose 'No correction required' as your answer.

Jatin always says he will help me in completing my homework but he never shows up. Louder the words than action after all.

- Ans**
- 1. Actions are better than voice
 - 2. Actions speak louder than words
 - 3. No correction required
 - 4. Loud actions speak better

Question Type : MCQ
Question ID : 620362238
Option 1 ID : 620362938
Option 2 ID : 620362939
Option 3 ID : 620362940
Option 4 ID : 620362937
Status : Answered
Chosen Option : 3

Q.7 Find the part of the given sentence with an incorrect spelling of a word. If there is no misspelt word, choose 'No error'.

- Ans**
- 1. No error
 - 2. Is it economically feasible to
 - 3. implement these strategies
 - 4. in an efficeint and effective way?

Question Type : MCQ
Question ID : 620362241
Option 1 ID : 620362952
Option 2 ID : 620362949
Option 3 ID : 620362950
Option 4 ID : 620362951
Status : Answered
Chosen Option : 1

Q.8 In the following question, a sentence has been given in Direct/Indirect speech. Out of the four alternatives suggested, select the one which best expresses the same sentence in Indirect/Direct speech.

I ordered her not to speak while I am teaching.

- Ans**
- 1. I said to her, "Please do not speak while I am teaching."
 - 2. I said to her, "Do not speak while I am teaching."
 - 3. I told her, "No speaking while I am teaching."
 - 4. I said to her, "You do not speak while I teach."

Question Type : MCQ
Question ID : 620362231
Option 1 ID : 620362910
Option 2 ID : 620362912
Option 3 ID : 620362909
Option 4 ID : 620362911
Status : Answered
Chosen Option : 2

Q.9 In the following question, a sentence has been given in Active/Passive voice. Out of the four alternatives suggested, select the one which best expresses the same sentence in Passive/Active voice

Pens are often stolen by Rashi.

- Ans**
- 1. Rashi stole pens often.
 - 2. Rashi has been stealing pens.
 - 3. Rashi often steals pens.
 - 4. Rashi is going to steal pens.

Question Type : MCQ
Question ID : 620362233
Option 1 ID : 620362918
Option 2 ID : 620362919
Option 3 ID : 620362920
Option 4 ID : 620362917
Status : Answered
Chosen Option : 3

Q.10 Choose the correct synonym of the underlined word from the given options.

Earth demonstrates the importance of being ironic.

- Ans**
- 1. substantiate
 - 2. confutes
 - 3. challenges
 - 4. beguiles

Question Type : MCQ
Question ID : 620362235
Option 1 ID : 620362926
Option 2 ID : 620362927
Option 3 ID : 620362928
Option 4 ID : 620362925
Status : Answered
Chosen Option : 1

Q.11 Find the part of the given sentence with an incorrect spelling of a word. If there is no misspelt word, choose 'No error'.

- Ans**
- 1. that are not supposed to be there.
 - 2. Ecologists have traditionally focused on
 - 3. No error
 - 4. the natural bits, not the things

Question Type : MCQ
Question ID : 620362240
Option 1 ID : 620362947
Option 2 ID : 620362945
Option 3 ID : 620362948
Option 4 ID : 620362946
Status : Answered
Chosen Option : 2

Q.12 Read the following sentence and select the option that corrects the misspelt word(s) in the underlined section. If the sentence section is correct, choose 'No correction required' as your answer.

Carmen filled out all the necessary paperwork and then settled down for a long wait.

- Ans**
- 1. No correction required
 - 2. filed out all the necessary
 - 3. filled out all the necessary
 - 4. filled out all the necessary

Question Type : MCQ
Question ID : 620362242
Option 1 ID : 620362956
Option 2 ID : 620362954
Option 3 ID : 620362953
Option 4 ID : 620362955
Status : Answered
Chosen Option : 1

Q.13 In the following question, a sentence has been given in Direct/Indirect speech. Out of the four alternatives suggested, select the one which best expresses the same sentence in Indirect/Direct speech.

Himesh says to me, "I am your only option."

- Ans**
- 1. Himesh tell me that he is my only option.
 - 2. Himesh tells me that he is my only option.
 - 3. Himesh told me that he is my only option.
 - 4. Himesh tells me that he was my only option.

Question Type : MCQ
Question ID : 620362230
Option 1 ID : 620362905
Option 2 ID : 620362906
Option 3 ID : 620362907
Option 4 ID : 620362908
Status : Answered
Chosen Option : 3

Q.14 In the given question, idiom/proverb part of the sentence is underlined. Choose the option that can correctly substitute that part of the sentence making it meaningfully correct. If the idiom/proverb is used correctly, choose 'No correction required' as your answer.

I feel under the weather during winter season.

- Ans**
- 1. the weather is under
 - 2. No correction required
 - 3. under the dog
 - 4. the weather under

Question Type : MCQ
Question ID : 620362237
Option 1 ID : 620362935
Option 2 ID : 620362936
Option 3 ID : 620362934
Option 4 ID : 620362933
Status : Answered
Chosen Option : 2

Q.15 A sentence has been given with a blank to be filled with an appropriate word. Choose the correct alternative.

Excavations in both residential and government towns have _____ a striking paucity of cult buildings.

- Ans**
- 1. disregarded
 - 2. corroborated
 - 3. perplexed
 - 4. revealed

Question Type : MCQ
Question ID : 620362236
Option 1 ID : 620362929
Option 2 ID : 620362931
Option 3 ID : 620362932
Option 4 ID : 620362930
Status : Answered
Chosen Option : 4

Q.16 Rearrange the parts of the sentence in correct order.

The revival

P. means the world economy is recovering

Q. of world demand for energy hopefully

R. from the pandemic, but the surge in coal prices is a

S. reminder of how energy still relies on fossil fuels

- Ans**
- 1. QPRS
 - 2. RSPQ
 - 3. PRSQ
 - 4. RQPS

Question Type : MCQ
Question ID : 620362244
Option 1 ID : 620362962
Option 2 ID : 620362963
Option 3 ID : 620362964
Option 4 ID : 620362961
Status : Answered
Chosen Option : 3

Q.17 Choose the correct antonym of the underlined word from the given options.

They were making no progress in their relationship.

- Ans
- 1. promise
 - 2. deteriorate
 - 3. unfold
 - 4. induce

Question Type : MCQ
Question ID : 620362234
Option 1 ID : 620362921
Option 2 ID : 620362923
Option 3 ID : 620362922
Option 4 ID : 620362924
Status : Answered
Chosen Option : 2

Q.18 Rearrange the parts of the sentence in correct order.

The touch feedback

P. from air jets from the system is modulated

Q. based on the virtual surface of the basketball,

R. allowing users to feel the rounded shape

S. of the ball as it rolls from their fingertips

- Ans
- 1. RPQS
 - 2. PRSQ
 - 3. QSPR
 - 4. PQRS

Question Type : MCQ
Question ID : 620362243
Option 1 ID : 620362960
Option 2 ID : 620362957
Option 3 ID : 620362958
Option 4 ID : 620362959
Status : Answered
Chosen Option : 4

Q.19 Choose the word that can meaningfully substitute the underlined part of the sentence.

Fear of heights is very common these days.

- Ans**
- 1. Nomophobia
 - 2. Agoraphobia
 - 3. Cynophobia
 - 4. Acrophobia

Question Type : MCQ
Question ID : 620362247
Option 1 ID : 620362975
Option 2 ID : 620362973
Option 3 ID : 620362974
Option 4 ID : 620362976
Status : Answered
Chosen Option : 4

Q.20 In the following question, a sentence has been given in Direct/Indirect speech. Out of the four alternatives suggested, select the one which best expresses the same sentence in Indirect/Direct speech.

She said, "He has already bathed."

- Ans**
- 1. She said that he have already bathed.
 - 2. She said that he had already bathed.
 - 3. She said that he has already bath.
 - 4. She said that he has already bathed.

Question Type : MCQ
Question ID : 620362229
Option 1 ID : 620362903
Option 2 ID : 620362902
Option 3 ID : 620362904
Option 4 ID : 620362901
Status : Answered
Chosen Option : 2

Comprehension:

Read the following information carefully and answer the given questions.

The laws around mobile phone use while driving are to be tightened under new UK government plans to make any use of a hand-held phone illegal. From 2022, mobile phone law will be extended to cover taking photos or videos, scrolling through playlists or playing games while driving or stationary, say, at a traffic light. Use of a mobile phone 'hands-free', however, will still be allowed – even though research shows it is equally distracting.

Currently, UK drivers using a hand-held mobile phone can only be prosecuted if it can be proven that they were using it for an “interactive communicative function” such as calling or texting. The change in the law closes this loophole and makes it easier for distracted drivers to be prosecuted, fined £200, and given six points on their licence.

According to the UK government, 81% of people who responded to its consultation supported the move. This aligns with findings from roadside breakdown group RAC, whose annual report on motoring regularly shows that mobile phone use by other drivers is a top concern for motorists.

But data also shows that many drivers who claim to support the law nevertheless continue to use their phones while behind the wheel. One survey found that more than a quarter of drivers admitted to hand-held mobile phone use, at least occasionally.

So why do drivers who support the law, and acknowledge the dangers of distracted driving, still use their phones? The answer partly lies in driver attitudes and biases.

SubQuestion No : 21

Q.21 From which year, the mobile phone law will be extended by the UK government?

- Ans**
- 1. 2022
 - 2. 2023
 - 3. 2024
 - 4. 2021

Question Type : MCQ
Question ID : 620362251
Option 1 ID : 620362988
Option 2 ID : 620362986
Option 3 ID : 620362985
Option 4 ID : 620362987
Status : Answered
Chosen Option : 1

Comprehension:

Read the following information carefully and answer the given questions.

The laws around mobile phone use while driving are to be tightened under new UK government plans to make any use of a hand-held phone illegal. From 2022, mobile phone law will be extended to cover taking photos or videos, scrolling through playlists or playing games while driving or stationary, say, at a traffic light. Use of a mobile phone 'hands-free', however, will still be allowed – even though research shows it is equally distracting.

Currently, UK drivers using a hand-held mobile phone can only be prosecuted if it can be proven that they were using it for an "interactive communicative function" such as calling or texting. The change in the law closes this loophole and makes it easier for distracted drivers to be prosecuted, fined £200, and given six points on their licence.

According to the UK government, 81% of people who responded to its consultation supported the move. This aligns with findings from roadside breakdown group RAC, whose annual report on motoring regularly shows that mobile phone use by other drivers is a top concern for motorists.

But data also shows that many drivers who claim to support the law nevertheless continue to use their phones while behind the wheel. One survey found that more than a quarter of drivers admitted to hand-held mobile phone use, at least occasionally.

So why do drivers who support the law, and acknowledge the dangers of distracted driving, still use their phones? The answer partly lies in driver attitudes and biases.

SubQuestion No : 22

Q.22 Which of the following words is opposite in meaning to the word 'acknowledge' as used in the passage?

- Ans**
- 1. Gainsay
 - 2. Disarray
 - 3. Concede
 - 4. Trepid

Question Type : MCQ
Question ID : 620362254
Option 1 ID : 620362998
Option 2 ID : 620362997
Option 3 ID : 620362999
Option 4 ID : 6203621000
Status : Answered
Chosen Option : 3

Comprehension:

Read the following information carefully and answer the given questions.

The laws around mobile phone use while driving are to be tightened under new UK government plans to make any use of a hand-held phone illegal. From 2022, mobile phone law will be extended to cover taking photos or videos, scrolling through playlists or playing games while driving or stationary, say, at a traffic light. Use of a mobile phone 'hands-free', however, will still be allowed – even though research shows it is equally distracting.

Currently, UK drivers using a hand-held mobile phone can only be prosecuted if it can be proven that they were using it for an “interactive communicative function” such as calling or texting. The change in the law closes this loophole and makes it easier for distracted drivers to be prosecuted, fined £200, and given six points on their licence.

According to the UK government, 81% of people who responded to its consultation supported the move. This aligns with findings from roadside breakdown group RAC, whose annual report on motoring regularly shows that mobile phone use by other drivers is a top concern for motorists.

But data also shows that many drivers who claim to support the law nevertheless continue to use their phones while behind the wheel. One survey found that more than a quarter of drivers admitted to hand-held mobile phone use, at least occasionally.

So why do drivers who support the law, and acknowledge the dangers of distracted driving, still use their phones? The answer partly lies in driver attitudes and biases.

SubQuestion No : 23

Q.23 According to the given passage, which of the following statements is incorrect?

- I. Less than half of people in the UK didn't support the move.
- II. As per the new law, prosecuted driver will be given six points on their licence.

Ans

- 1. Only II
- 2. Neither I nor II
- 3. Both I and II
- 4. Only I

Question Type : MCQ

Question ID : 620362252

Option 1 ID : 620362990

Option 2 ID : 620362992

Option 3 ID : 620362991

Option 4 ID : 620362989

Status : Answered

Chosen Option : 4

Comprehension:

Read the following information carefully and answer the given questions.

The laws around mobile phone use while driving are to be tightened under new UK government plans to make any use of a hand-held phone illegal. From 2022, mobile phone law will be extended to cover taking photos or videos, scrolling through playlists or playing games while driving or stationary, say, at a traffic light. Use of a mobile phone 'hands-free', however, will still be allowed – even though research shows it is equally distracting.

Currently, UK drivers using a hand-held mobile phone can only be prosecuted if it can be proven that they were using it for an "interactive communicative function" such as calling or texting. The change in the law closes this loophole and makes it easier for distracted drivers to be prosecuted, fined £200, and given six points on their licence.

According to the UK government, 81% of people who responded to its consultation supported the move. This aligns with findings from roadside breakdown group RAC, whose annual report on motoring regularly shows that mobile phone use by other drivers is a top concern for motorists.

But data also shows that many drivers who claim to support the law nevertheless continue to use their phones while behind the wheel. One survey found that more than a quarter of drivers admitted to hand-held mobile phone use, at least occasionally.

So why do drivers who support the law, and acknowledge the dangers of distracted driving, still use their phones? The answer partly lies in driver attitudes and biases.

SubQuestion No : 24

Q.24 Which of the following words is similar in meaning to the word 'distracted' as used in the passage?

- Ans
- 1. Exemplary
 - 2. Ferocious
 - 3. Conscious
 - 4. Inattentive

Question Type : MCQ

Question ID : 620362253

Option 1 ID : 620362993

Option 2 ID : 620362994

Option 3 ID : 620362996

Option 4 ID : 620362995

Status : Answered

Chosen Option : 4

Comprehension:

Read the following information carefully and answer the given questions.

The laws around mobile phone use while driving are to be tightened under new UK government plans to make any use of a hand-held phone illegal. From 2022, mobile phone law will be extended to cover taking photos or videos, scrolling through playlists or playing games while driving or stationary, say, at a traffic light. Use of a mobile phone 'hands-free', however, will still be allowed – even though research shows it is equally distracting.

Currently, UK drivers using a hand-held mobile phone can only be prosecuted if it can be proven that they were using it for an "interactive communicative function" such as calling or texting. The change in the law closes this loophole and makes it easier for distracted drivers to be prosecuted, fined £200, and given six points on their licence.

According to the UK government, 81% of people who responded to its consultation supported the move. This aligns with findings from roadside breakdown group RAC, whose annual report on motoring regularly shows that mobile phone use by other drivers is a top concern for motorists.

But data also shows that many drivers who claim to support the law nevertheless continue to use their phones while behind the wheel. One survey found that more than a quarter of drivers admitted to hand-held mobile phone use, at least occasionally.

So why do drivers who support the law, and acknowledge the dangers of distracted driving, still use their phones? The answer partly lies in driver attitudes and biases.

SubQuestion No : 25

Q.25 The given passage mainly talks about the _____.

Ans 1. attitude of drivers when driving a car.

2.

understand the psychology of drivers when it comes to their phone

3.

disadvantages of new laws formulated by the UK government related to drivers.

4.

new UK government plan to make use of hand-held phone illegal

Question Type : MCQ

Question ID : 620362250

Option 1 ID : 620362981

Option 2 ID : 620362983

Option 3 ID : 620362984

Option 4 ID : 620362982

Status : Answered

Chosen Option : 1

Section : General Knowledge

Q.1 केलुचरण मोहपात्र (Kelucharan Mohapatra) च्या शास्त्रीय नृत्यातील एक प्रख्यात नाव आहे.

- Ans
- ✓ 1. ओडिसी
 - ✗ 2. मणिपुरी
 - ✗ 3. भरतनाट्यम
 - ✗ 4. कथक

Question Type : MCQ
Question ID : 620362257
Option 1 ID : 6203621009
Option 2 ID : 6203621011
Option 3 ID : 6203621010
Option 4 ID : 6203621012
Status : Answered
Chosen Option : 4

Q.2 कोल्हापूर टाउनहॉल संग्रहालय हे खालीलपैकी कोणत्या वास्तुकलेचे उदाहरण आहे?

- Ans
- ✓ 1. निओ-गॉथिक
 - ✗ 2. नगर
 - ✗ 3. जैन
 - ✗ 4. द्रविड

Question Type : MCQ
Question ID : 620362269
Option 1 ID : 6203621059
Option 2 ID : 6203621058
Option 3 ID : 6203621060
Option 4 ID : 6203621057
Status : Answered
Chosen Option : 2

Q.3 खालीलपैकी कोण भारतीय राष्ट्रीय काँग्रेसचे जहालमतवादी नेते होते?

- Ans
- ✓ 1. बाळ गंगाधर टिळक
 - ✗ 2. फिरोजशाहा मेहता
 - ✗ 3. सुरेंद्रनाथ बॅनर्जी
 - ✗ 4. गोपाळ कृष्ण गोखले

Question Type : MCQ
Question ID : 620362267
Option 1 ID : 6203621052
Option 2 ID : 6203621050
Option 3 ID : 6203621051
Option 4 ID : 6203621049
Status : Answered
Chosen Option : 1

Q.4 जेव्हा नद्या त्यांचे पाणी सर्व दिशांमधून तलाव किंवा खळग्यात सोडतात, तेव्हा तो आकृतिबंध
_____ म्हणून ओळखला जातो.

- Ans
- 1. शाखाकृती
 - 2. अभिकेंद्री
 - 3. अरिय
 - 4. जाळीचा मांडव

Question Type : MCQ
Question ID : 620362261
Option 1 ID : 6203621027
Option 2 ID : 6203621028
Option 3 ID : 6203621026
Option 4 ID : 6203621025
Status : Answered
Chosen Option : 2

Q.5 छत्रपती प्रतापसिंह यांनी आपले अधिकारी रंगो बापूजी यांच्यासह 1857 च्या उठावात भाग घेतला होता. ते
महाराष्ट्रातील _____ येथील होते.

- Ans
- 1. अहमदनगर
 - 2. कोल्हापूर
 - 3. नाशिक
 - 4. सातारा

Question Type : MCQ
Question ID : 620362268
Option 1 ID : 6203621056
Option 2 ID : 6203621054
Option 3 ID : 6203621055
Option 4 ID : 6203621053
Status : Answered
Chosen Option : 4

Q.6 भारतीय राज्यघटनेतील मूलभूत अधिकारांशी संबंधित खालीलपैकी कोणते कलम वगळण्यात आले आहे?

- Ans
- 1. कलम 31A
 - 2. कलम 31C
 - 3. कलम 33
 - 4. कलम 32A

Question Type : MCQ
Question ID : 620362263
Option 1 ID : 6203621033
Option 2 ID : 6203621034
Option 3 ID : 6203621036
Option 4 ID : 6203621035
Status : Answered
Chosen Option : 3

Q.7 खालीलपैकी कोणती संत एकनाथांची साहित्यकृती आहे?

- Ans
- 1. बुधभूषणम्
 - 2. भावार्थ रामायण
 - 3. शिवभारत
 - 4. भावार्थ-दीपिका

Question Type : MCQ
Question ID : 620362271
Option 1 ID : 6203621065
Option 2 ID : 6203621067
Option 3 ID : 6203621066
Option 4 ID : 6203621068
Status : Answered
Chosen Option : 4

Q.8 खालीलपैकी कोणत्या मराठी संताने पंढरपूर येथे संत चोखामेळ्याचे स्मारक बांधले?

- Ans
- 1. गुरु रामदास
 - 2. संत एकनाथ
 - 3. संत नामदेव
 - 4. संत ज्ञानेश्वर

Question Type : MCQ
Question ID : 620362270
Option 1 ID : 6203621063
Option 2 ID : 6203621062
Option 3 ID : 6203621064
Option 4 ID : 6203621061
Status : Answered
Chosen Option : 2

Q.9 भारताच्या 2011 च्या जनगणनेनुसार महाराष्ट्रातील खालीलपैकी कोणत्या जिल्ह्यात लोकसंख्येची घनता 100 पेक्षा कमी आहे?

- Ans
- ✓ 1. सिंधुदुर्ग
 - ✗ 2. पालघर
 - ✗ 3. ठाणे
 - ✗ 4. पुणे

Question Type : MCQ
Question ID : 620362272
Option 1 ID : 6203621070
Option 2 ID : 6203621071
Option 3 ID : 6203621069
Option 4 ID : 6203621072
Status : Answered
Chosen Option : 1

Q.10 _____ पर्वत रांगा या महाराष्ट्राच्या प्राकृतिक कणा आहेत.

- Ans
- ✓ 1. सहयाद्री
 - ✗ 2. पूर्वांचल
 - ✗ 3. अरवली
 - ✗ 4. सातपुडा

Question Type : MCQ
Question ID : 620362273
Option 1 ID : 6203621073
Option 2 ID : 6203621075
Option 3 ID : 6203621074
Option 4 ID : 6203621076
Status : Answered
Chosen Option : 4

Q.11 महाराष्ट्र प्रदेशात, छत्रपती शिवाजी महाराजांच्या काळापूर्वीची शेवटची समृद्ध सत्ता _____ यांची होती.

- Ans
- ✗ 1. राष्ट्रकूट
 - ✓ 2. यादव
 - ✗ 3. चालुक्य
 - ✗ 4. सातवाहन

Question Type : MCQ
Question ID : 620362266
Option 1 ID : 6203621046
Option 2 ID : 6203621048
Option 3 ID : 6203621045
Option 4 ID : 6203621047
Status : Answered
Chosen Option : 4

Q.12 2020-21 च्या केंद्रीय अर्थसंकल्पानुसार, किती नाशवंत उत्पादनांचा समावेश करण्यासाठी ऑपरेशन ग्रीन योजनेचा विस्तार केला जाणार आहे?

- Ans
- 1. 20
 - 2. 23
 - 3. 22
 - 4. 21

Question Type : MCQ
Question ID : 620362259
Option 1 ID : 6203621017
Option 2 ID : 6203621020
Option 3 ID : 6203621019
Option 4 ID : 6203621018
Status : Answered
Chosen Option : 2

Q.13 आंतरराष्ट्रीय नाणेनिधीचे मुख्यालय कोठे स्थित आहे?

- Ans
- 1. पॅरिस
 - 2. जिनीव्हा
 - 3. वाशिंग्टन डीसी
 - 4. न्यूयॉर्क

Question Type : MCQ
Question ID : 620362260
Option 1 ID : 6203621024
Option 2 ID : 6203621021
Option 3 ID : 6203621023
Option 4 ID : 6203621022
Status : Answered
Chosen Option : 3

Q.14 ऑल इंडिया मुस्लिम लीगची स्थापना कोणत्या वर्षी झाली?

- Ans
- 1. 1905
 - 2. 1908
 - 3. 1906
 - 4. 1909

Question Type : MCQ
Question ID : 620362255
Option 1 ID : 6203621001
Option 2 ID : 6203621003
Option 3 ID : 6203621002
Option 4 ID : 6203621004
Status : Answered
Chosen Option : 3

Q.15 मद्रासमधील (चेन्नईतील) वेद समाज खालीलपैकी कोणापासून प्रेरित होता?

Ans

- ✓ 1. ब्राह्मो समाज
- ✗ 2. प्रार्थना समाज
- ✗ 3. युवा बंगाल आंदोलन
- ✗ 4. रामकृष्ण मिशन

Question Type : MCQ
Question ID : 620362256
Option 1 ID : 6203621008
Option 2 ID : 6203621005
Option 3 ID : 6203621007
Option 4 ID : 6203621006
Status : Answered
Chosen Option : 1

Q.16 खालीलपैकी कोणते सातवाहन राज्याच्या राजधानीचे प्राचीन नाव आहे?

Ans

- ✓ 1. प्रतिष्ठान
- ✗ 2. राजगृह
- ✗ 3. उज्जैन
- ✗ 4. श्रावस्ती

Question Type : MCQ
Question ID : 620362265
Option 1 ID : 6203621042
Option 2 ID : 6203621043
Option 3 ID : 6203621041
Option 4 ID : 6203621044
Status : Answered
Chosen Option : 3

Q.17 लोसूंग महोत्सवात खालीलपैकी कोणती जमात सक्रिय सहभाग घेते?

Ans

- ✗ 1. कोल
- ✗ 2. भरिया
- ✗ 3. भिल
- ✓ 4. भुतिया

Question Type : MCQ
Question ID : 620362258
Option 1 ID : 6203621013
Option 2 ID : 6203621016
Option 3 ID : 6203621014
Option 4 ID : 6203621015
Status : Answered
Chosen Option : 4

Q.18 भारताच्या 2011 च्या जनगणनेनुसार, महाराष्ट्रातील खालीलपैकी कोणत्या जिल्ह्याची लोकसंख्या सर्वाधिक आहे?

- Ans
- 1. अमरावती
 - 2. चंद्रपूर
 - 3. ठाणे
 - 4. हिंगोली

Question Type : MCQ
Question ID : 620362275
Option 1 ID : 6203621081
Option 2 ID : 6203621082
Option 3 ID : 6203621084
Option 4 ID : 6203621083
Status : Answered
Chosen Option : 3

Q.19 महाराष्ट्राच्या विधानसभेत किती सदस्य आहेत?

- Ans
- 1. 160
 - 2. 288
 - 3. 200
 - 4. 180

Question Type : MCQ
Question ID : 620362279
Option 1 ID : 6203621097
Option 2 ID : 6203621100
Option 3 ID : 6203621099
Option 4 ID : 6203621098
Status : Answered
Chosen Option : 2

Q.20 वित्त आयोगात जास्तीत जास्त किती सदस्य असू शकतात?

- Ans
- 1. एक अध्यक्ष आणि 4 इतर सदस्य
 - 2. एक अध्यक्ष आणि 5 इतर सदस्य
 - 3. एक अध्यक्ष आणि 3 इतर सदस्य
 - 4. एक अध्यक्ष आणि 2 इतर सदस्य

Question Type : MCQ
Question ID : 620362264
Option 1 ID : 6203621039
Option 2 ID : 6203621040
Option 3 ID : 6203621038
Option 4 ID : 6203621037
Status : Answered
Chosen Option : 4

Q.21 महाराष्ट्रातील खालीलपैकी कोणता जिल्हा कृष्णा खोऱ्यात येत नाही?

- Ans
- ✗ 1. पुणे
 - ✗ 2. सोलापूर
 - ✗ 3. सातारा
 - ✓ 4. रत्नागिरी

Question Type : MCQ
Question ID : 620362274
Option 1 ID : 6203621077
Option 2 ID : 6203621079
Option 3 ID : 6203621080
Option 4 ID : 6203621078
Status : Answered
Chosen Option : 2

Q.22 खालीलपैकी कोणती महाराष्ट्रातील मुख्य जमात आहे?

- I. गोंड
II. भिल्ल
- Ans
- ✓ 1. I आणि II दोन्ही
 - ✗ 2. ना I ना II
 - ✗ 3. केवळ I
 - ✗ 4. केवळ II

Question Type : MCQ
Question ID : 620362276
Option 1 ID : 6203621087
Option 2 ID : 6203621088
Option 3 ID : 6203621085
Option 4 ID : 6203621086
Status : Answered
Chosen Option : 1

Q.23 प्रथिन संश्लेषणासाठी पेशीमध्ये खालीलपैकी कोणते स्थान आहे?

- Ans
- 1. अंतर्द्रव्यी जालिका
 - 2. गॉल्जी काय
 - 3. रायबोसोम्स
 - 4. तंतुणिका

Question Type : MCQ
Question ID : 620362262
Option 1 ID : 6203621029
Option 2 ID : 6203621030
Option 3 ID : 6203621031
Option 4 ID : 6203621032
Status : Answered
Chosen Option : 4

Q.24 महाराष्ट्रात, मंत्रिपरिषदेतील खात्यांचे वितरण _____ हे करतात.

- Ans
- 1. राज्याचे राज्यपाल
 - 2. विधान परिषदेचे अध्यक्ष
 - 3. राज्याचे मुख्यमंत्री
 - 4. विधान परिषदेचे सभापती

Question Type : MCQ
Question ID : 620362277
Option 1 ID : 6203621090
Option 2 ID : 6203621089
Option 3 ID : 6203621091
Option 4 ID : 6203621092
Status : Answered
Chosen Option : 3

Q.25 महाराष्ट्र राज्यातील एकूण जिल्ह्यांची संख्या _____ आहे.

- Ans
- 1. 28
 - 2. 36
 - 3. 34
 - 4. 39

Question Type : MCQ
Question ID : 620362278
Option 1 ID : 6203621093
Option 2 ID : 6203621095
Option 3 ID : 6203621094
Option 4 ID : 6203621096
Status : Answered
Chosen Option : 2

Section : General Intelligence

Q.1 खालील प्रश्नात, दिलेल्या मालिकेतील गहाळ संख्या निवडा.

900, 450, 90, 45, 9, ?

- Ans
- 1. 2.5
 - 2. 3
 - 3. 6
 - 4. 4.5

Question Type : MCQ
Question ID : 620362298
Option 1 ID : 6203621174
Option 2 ID : 6203621175
Option 3 ID : 6203621173
Option 4 ID : 6203621176
Status : Answered
Chosen Option : 4

Q.2 The following question consists of three statements followed by three conclusions. Consider the statements to be true even if they vary from commonly known facts and find out which of the conclusions logically follow(s) the given statements disregarding the commonly known facts.

Statements:

All jackets are shirts.

Some shirts are coats.

All coats are suits.

Conclusions:

I. Some jackets are suits.

II. Some shirts are suits.

- Ans
- 1. If both I and II follow
 - 2. If only conclusion II follows
 - 3. If neither I nor II follows
 - 4. If only conclusion I follows

Question Type : MCQ
Question ID : 620362300
Option 1 ID : 6203621184
Option 2 ID : 6203621182
Option 3 ID : 6203621183
Option 4 ID : 6203621181
Status : Answered
Chosen Option : 1

Q.3 पर्याय निवडा ज्यामध्ये अक्षरे समान नातेसंबंध सामायिक करतात ज्या अक्षरांच्या जोडीने सामायिक केली आहेत.

THROUGH : UJUSZMO : : COSTUME : ?

- Ans
- 1. DQYXZSL
 - 2. DQVXZSL
 - 3. DQVXZSK
 - 4. DQWXZSL

Question Type : MCQ
Question ID : 620362302
Option 1 ID : 6203621192
Option 2 ID : 6203621189
Option 3 ID : 6203621190
Option 4 ID : 6203621191
Status : Answered
Chosen Option : 2

Q.4 दिनेशचे वडील एका व्यक्तीकडे बोट दाखवत म्हणाले की, "ती माझ्या आईच्या एकुलत्या एक भावंडाची बहीण आहे". त्या व्यक्तीचे दिनेशसोबत काय नाते आहे?

- Ans
- 1. बहीण
 - 2. मावशी/आल्या/काकू/मामी
 - 3. आई
 - 4. आजी (वडिलांची आई / आईची आई)

Question Type : MCQ
Question ID : 620362295
Option 1 ID : 6203621163
Option 2 ID : 6203621162
Option 3 ID : 6203621161
Option 4 ID : 6203621164
Status : Answered
Chosen Option : 3

Q.5 खालील प्रश्नात, पहिल्या शब्दाचा जसा दुसऱ्या शब्दाशी संबंध आहे तसाच तिसऱ्या शब्दाशी संबंधित पर्याय निवडा.

प्रिंटर : हार्डवेअर :: ? : सॉफ्टवेअर

- Ans
- 1. डेस्कटॉप
 - 2. अँड्रॉइड
 - 3. मोबाईल
 - 4. माऊस

Question Type : MCQ
Question ID : 620362288
Option 1 ID : 6203621134
Option 2 ID : 6203621135
Option 3 ID : 6203621136
Option 4 ID : 6203621133
Status : Answered
Chosen Option : 2

Q.6 एका विशिष्ट सांकेतिक भाषेत, 'PRODUCT' हे '12-14-4-3-5-2-16' असे लिहिले जाते, तर त्याच सांकेतिक भाषेत 'CRYSTAL' हे कसे लिहिले जाईल?

- Ans
- 1. 3-14-21-15-16-2-9
 - 2. 2-14-20-16-18-1-10
 - 3. 3-14-20-15-16-1-10
 - 4. 2-14-20-15-16-1-9

Question Type : MCQ
Question ID : 620362290
Option 1 ID : 6203621144
Option 2 ID : 6203621142
Option 3 ID : 6203621143
Option 4 ID : 6203621141
Status : Answered
Chosen Option : 4

Q.7 शब्द/संख्या व्यवस्था करणाऱ्या यंत्राला जेव्हा शब्द किंवा अंक किंवा दोन्हीचे संयोजन असलेली ओळ ही इनपुट म्हणून दिली जाते, तेव्हा ते प्रत्येक चरणात विशिष्ट नियमानुसार त्यांची पुनर्रचना करते. खालील इनपुट आणि पुनर्रचनेच्या चरणांना सोदाहरण स्पष्ट केले आहे.

इनपुट: 78 92 56 38 144 87

चरण I: 38 92 56 78 144 87

चरण II: 38 56 92 78 144 87

चरण III: 38 56 78 92 144 87

चरण IV: 38 56 78 87 144 92

चरण V: 38 56 78 87 92 144

दिलेल्या इनपुटमधील सर्व संख्या वाढत्या क्रमाने मांडल्या गेल्याने, चरण V हे अंतिम आउटपुट आहे.

खालील इनपुटसाठी कोणता चरण शेवटचा चरण असेल?

इनपुट: 87 63 77 81 58 45

- Ans**
- 1. चरण VI
 - 2. चरण V
 - 3. चरण IV
 - 4. चरण III

Question Type : MCQ

Question ID : 620362293

Option 1 ID : 6203621153

Option 2 ID : 6203621154

Option 3 ID : 6203621156

Option 4 ID : 6203621155

Status : Answered

Chosen Option : 3

Q.8 खालील मालिकेत येणारी पुढील आकृती निवडा.



Ans

- ✗ 1.
- ✗ 2.
- ✓ 3.
- ✗ 4.

Question Type : MCQ
 Question ID : 620362297
 Option 1 ID : 6203621169
 Option 2 ID : 6203621172
 Option 3 ID : 6203621170
 Option 4 ID : 6203621171
 Status : Answered
 Chosen Option : 3

Q.9 चिन्हांच्या अशा संचाची निवड करा जी क्रमवारपणे गाढलेल्या जागांना पुनःस्थापित करून समीकरणाला पूर्ण करतील.

$$22 _ 2 _ 42 _ 39 = 14$$

Ans

- ✓ 1. ÷, +, -
- ✗ 2. ×, -, -
- ✗ 3. +, ×, -
- ✗ 4. -, ×, ÷

Question Type : MCQ
 Question ID : 620362304
 Option 1 ID : 6203621199
 Option 2 ID : 6203621200
 Option 3 ID : 6203621197
 Option 4 ID : 6203621198
 Status : Answered
 Chosen Option : 1

Q.10 'A' हा 'B' पेक्षा उंच आहे, 'C' हा 'D' पेक्षा लहान आहे आणि 'B' हा 'C' पेक्षा उंच आहे. जर F हा A पेक्षा उंच असेल आणि E हा F पेक्षा लहान असेल तर या चौघांपैकी सर्वात उंच कोण आहे?

- Ans
- 1. D
 - 2. F
 - 3. A
 - 4. B

Question Type : MCQ
Question ID : 620362286
Option 1 ID : 6203621127
Option 2 ID : 6203621128
Option 3 ID : 6203621125
Option 4 ID : 6203621126
Status : Answered
Chosen Option : 2

Q.11 दिलेल्या मालिकेतील प्रश्नचिन्हाची (?) जागा घेऊ शकणारा पर्याय निवडा.

XVTR2, NLJH4, DBZX8, TRPN16, ?

- Ans
- 1. MKJI24
 - 2. IGEC24
 - 3. JHFD32
 - 4. LJIH32

Question Type : MCQ
Question ID : 620362287
Option 1 ID : 6203621131
Option 2 ID : 6203621129
Option 3 ID : 6203621132
Option 4 ID : 6203621130
Status : Answered
Chosen Option : 3

Q.12 सहा मुले A, B, C, D, E आणि F उंचीनुसार एका ओळीत उभी होती. प्रत्येक मूल मिन्न उंचीचे होते. A हा केवळ एका जणापेक्षा बुटका होता. C पेक्षा बुटकी असणारी मात्र E पेक्षा उंच असणारी 3 मुले होती. E हा B पेक्षा उंच होता. D हा F पेक्षा उंच होता. तर तिसरी सर्वात उंच व्यक्ती कोण होती?

- Ans
- 1. A
 - 2. F
 - 3. D
 - 4. B

Question Type : MCQ
Question ID : 620362301
Option 1 ID : 6203621188
Option 2 ID : 6203621186
Option 3 ID : 6203621185
Option 4 ID : 6203621187
Status : Answered
Chosen Option : 2

Q.13 एका विशिष्ट सांकेतिक भाषेत, PHYSICS हे XSRKHHB असे लिहिले जाते. त्या सांकेतिक भाषेत HISTORY ला कसे लिहिले जाईल?

- Ans
- ✓ 1. SRLHGB
 - ✗ 2. SLRHIGB
 - ✗ 3. SLRIHGB
 - ✗ 4. SRLHIGB

Question Type : MCQ

Question ID : 620362291

Option 1 ID : 6203621147

Option 2 ID : 6203621145

Option 3 ID : 6203621148

Option 4 ID : 6203621146

Status : Not Attempted and Marked For Review

Chosen Option : --

Q.14 खाली दोन विधाने आणि त्यानंतर I आणि II हे दोन निष्कर्ष दिलेले आहेत. तुम्हाला ही विधाने सत्य मानावी लागतील, जरी ती सामान्यतः जात तथ्यांपेक्षा भिन्न वाटत असली तरीही. दिलेल्या विधानांपैकी कोणते निष्कर्ष तार्किकदृष्ट्या पालन करतात ते ठरवा.

विधाने:

सर्व चॉकलेट्स गोड असतात.

काही मिठाया हानिकारक नसतात.

निष्कर्ष:

I. काही चॉकलेट्स हानिकारक असतात.

II. सर्व हानिकारक चॉकलेट्स आहेत.

- Ans
- ✗ 1. फक्त II अनुसरण करतो
 - ✗ 2. एकतर I किंवा II अनुसरण करतो
 - ✗ 3. फक्त I अनुसरण करतो
 - ✓ 4. I किंवा II पैकी कोणताही अनुसरण करत नाही

Question Type : MCQ

Question ID : 620362283

Option 1 ID : 6203621114

Option 2 ID : 6203621115

Option 3 ID : 6203621113

Option 4 ID : 6203621116

Status : Answered

Chosen Option : 3

Q.15 खालील माहितीचा लक्षपूर्वक अभ्यास करा आणि खाली दिलेल्या प्रश्नाचे उत्तर द्या.

विधाने:

$$M < I \leq P, E = P, M > V \geq X$$

निष्कर्ष:

1. $E > V$

2. $X < P$

Ans

✗ 1. 1 किंवा 2 पैकी कोणताही अनुसरण करत नाही

✓ 2. 1 आणि 2 दोन्ही अनुसरण करतात

✗ 3. फक्त 1 अनुसरण करतो

✗ 4. फक्त 2 अनुसरण करतो

Question Type : MCQ

Question ID : 620362285

Option 1 ID : 6203621124

Option 2 ID : 6203621123

Option 3 ID : 6203621121

Option 4 ID : 6203621122

Status : Answered

Chosen Option : 3

Q.16 खालील माहितीचा लक्षपूर्वक अभ्यास करा आणि खाली दिलेल्या प्रश्नाचे उत्तर द्या.

विधाने:

$$P > N, R \leq B < N, R \leq H \leq W$$

निष्कर्ष:

1. $B < P$
2. $N \leq W$

Ans

- ✗ 1. फक्त 2 अनुसरण करतो
- ✗ 2. 1 आणि 2 दोन्ही अनुसरण करतात
- ✓ 3. फक्त 1 अनुसरण करतो
- ✗ 4. 1 किंवा 2 पैकी कोणताही अनुसरण करत नाही

Question Type : MCQ
Question ID : 620362284
Option 1 ID : 6203621118
Option 2 ID : 6203621119
Option 3 ID : 6203621117
Option 4 ID : 6203621120
Status : Answered
Chosen Option : 1

Q.17 खालील प्रश्नात, दोन चिन्हांची अदलाबदल करून समीकरण दुरुस्त करा.

$$24 + 6 \div 3 \times 11 - 12 = 14$$

Ans

- ✗ 1. \div आणि $+$
- ✓ 2. $-$ आणि $+$
- ✗ 3. \div आणि \times
- ✗ 4. $-$ आणि \times

Question Type : MCQ
Question ID : 620362299
Option 1 ID : 6203621179
Option 2 ID : 6203621178
Option 3 ID : 6203621180
Option 4 ID : 6203621177
Status : Answered
Chosen Option : 3

Q.18 सहा व्यक्ती - P, Q, R, S, T आणि U एका घटकोनी टेबलाभोवती अशा प्रकारे बसल्या आहेत, की T हा P च्या डावीकडे आहे आणि U च्या समोर बसलेला आहे. जर R हा Q च्या अगदी उजव्या बाजूला बसला असेल, तर S च्या समोर कोण बसलेले आहे?

- Ans
- ✓ 1. R
 - ✗ 2. P
 - ✗ 3. Q
 - ✗ 4. T

Question Type : MCQ
Question ID : 620362280
Option 1 ID : 6203621103
Option 2 ID : 6203621101
Option 3 ID : 6203621102
Option 4 ID : 6203621104
Status : Answered
Chosen Option : 3

Q.19 बिंदू B हा बिंदू A च्या पश्चिमेस 3 m अंतरावर आहे. बिंदू A हा बिंदू C च्या उत्तरेस 6m अंतरावर आहे. बिंदू D बिंदू C च्या पश्चिमेस 6m अंतरावर आहे. बिंदू K हा बिंदू D आणि बिंदू C च्या मध्यभागी आहे. तर बिंदू K आणि बिंदू B यांमधील अंतर किती असेल?

- Ans
- ✓ 1. 6 m
 - ✗ 2. 4 m
 - ✗ 3. 2 m
 - ✗ 4. 10 m

Question Type : MCQ
Question ID : 620362294
Option 1 ID : 6203621158
Option 2 ID : 6203621157
Option 3 ID : 6203621159
Option 4 ID : 6203621160
Status : Answered
Chosen Option : 4

Q.20 जर 8 फेब्रुवारी 1995 रोजी बुधवार होता, तर 8 फेब्रुवारी 1994 रोजी कोणता दिवस असेल?

- Ans
- ✗ 1. सोमवार
 - ✓ 2. मंगळवार
 - ✗ 3. बुधवार
 - ✗ 4. गुरुवार

Question Type : MCQ
Question ID : 620362289
Option 1 ID : 6203621140
Option 2 ID : 6203621139
Option 3 ID : 6203621137
Option 4 ID : 6203621138
Status : Answered
Chosen Option : 2

Q.21 शब्द/संख्या व्यवस्था करणाऱ्या यंत्राला जेव्हा शब्द किंवा अंक किंवा दोन्हीचे संयोजन असलेली ओळ ही इनपुट म्हणून दिली जाते, तेव्हा ते प्रत्येक चरणात विशिष्ट नियमानुसार त्यांची पुनर्रचना करते. खालील इनपुट आणि पुनर्रचनेच्या चरणांना सोदाहरण स्पष्ट केले आहे.

इनपुट: 78 92 56 38 144 87

चरण I: 38 92 56 78 144 87

चरण II: 38 56 92 78 144 87

चरण III: 38 56 78 92 144 87

चरण IV: 38 56 78 87 144 92

चरण V: 38 56 78 87 92 144

दिलेल्या इनपुटमधील सर्व संख्या वाढत्या क्रमाने मांडल्या गेल्याने, चरण V हे अंतिम आउटपुट आहे.

खालील इनपुटसाठी चरण IV कोणता असेल?

इनपुट: 144 786 325 86 645 284 93

- Ans**
- ✓ 1. 86 93 144 284 645 325 786
 - ✗ 2. 86 93 144 284 325 645 786
 - ✗ 3. 86 93 284 144 325 645 786
 - ✗ 4. 86 93 144 284 786 325 645

Question Type : MCQ

Question ID : 620362292

Option 1 ID : 6203621152

Option 2 ID : 6203621149

Option 3 ID : 6203621151

Option 4 ID : 6203621150

Status : Answered

Chosen Option : 1

Q.22 खालील प्रश्नामध्ये एक प्रश्न आणि त्या खाली । आणि II क्रमांकाची दोन विधाने दिलेली आहेत. विधानांमध्ये दिलेली माहिती प्रश्नाचे उत्तर देण्यासाठी पुरेशी आहे की नाही हे तुम्ही ठरवायचे आहे. दोन्ही विधाने वाचा आणि सर्वात योग्य पर्याय निवडा.

विशिष्ट सांकेतिक भाषेत 'how' साठी कोणता संकेत आहे?

I. एका विशिष्ट सांकेतिक भाषेत, 'how did this' हे 'co po lo' असे संकेतबद्ध केले जाते आणि 'I am this' हे 'pomo no' असे संकेतबद्ध केले जाते.

II. एका विशिष्ट सांकेतिक भाषेत 'how am I' हे 'no lo mo' असे संकेतबद्ध केले जाते.

- Ans**
- ✗ 1. फक्त विधान II पुरेसे आहे.
 - ✗ 2. विधान I आणि II देखील पुरेसे नाहीत.
 - ✓ 3. विधान I आणि II पुरेसे आहेत.
 - ✗ 4. फक्त विधान I पुरेसे आहे.

Question Type : MCQ

Question ID : 620362296

Option 1 ID : 6203621168

Option 2 ID : 6203621167

Option 3 ID : 6203621166

Option 4 ID : 6203621165

Status : Answered

Chosen Option : 3

Q.23 पाच मुले A, B, C, D आणि E एका ओळीत दक्षिणेकडे तोंड करून बसली आहेत, पण त्याच क्रमाने असतील असे आवश्यक नाही. D हा A च्या डावीकडे आणि C हा A च्या उजवीकडे बसतो. E हा A च्या डावीकडे आणि B हा A च्या उजवीकडे बसतो. ओळीच्या अगदी मध्यभागी कोण बसले आहे?

- Ans
- ✓ 1. A
 - ✗ 2. E
 - ✗ 3. B
 - ✗ 4. D

Question Type : MCQ
Question ID : 620362281
Option 1 ID : 6203621106
Option 2 ID : 6203621107
Option 3 ID : 6203621105
Option 4 ID : 6203621108
Status : Answered
Chosen Option : 3

Q.24 P, Q, R, S आणि T यांपैकी प्रत्येक व्यक्तीचा पेशा हा शिक्षक, डॉक्टर, वकील, पोलिस-अधिकारी आणि बँकर यांपैकी आहे. P हा पोलिस-अधिकारी आहे आणि Q हा डॉक्टर किंवा वकील नाही. R हा शिक्षक आहे आणि S हा बँकर किंवा वकील नाही. तर त्यापैकी कोण बँकर आहे?

- Ans
- ✗ 1. T
 - ✗ 2. S
 - ✓ 3. Q
 - ✗ 4. Q किंवा T

Question Type : MCQ
Question ID : 620362282
Option 1 ID : 6203621109
Option 2 ID : 6203621112
Option 3 ID : 6203621110
Option 4 ID : 6203621111
Status : Answered
Chosen Option : 3

Q.25 A, B, C, D आणि E या पाच इमारतींपैकी प्रत्येक इमारतीला लाल, निळा, जांभळा, केशरी आणि पांढरा यापैकी एक रंग दिला असून तो त्याच क्रमाने असणे आवश्यक नाही. इमारत A ला लाल किंवा जांभळा रंग दिला नाही. आणि इमारत D ला जांभळा किंवा पांढरा रंग दिला नाही. इमारत B ला निळा रंग दिला असून C ला केशरी रंग दिला आहे. E इमारतीला दिलेला रंग कोणता आहे?

- Ans
- 1. केशरी
 - 2. पांढरा
 - 3. लाल
 - 4. जांभळा

Question Type : MCQ
Question ID : 620362303
Option 1 ID : 6203621195
Option 2 ID : 6203621194
Option 3 ID : 6203621196
Option 4 ID : 6203621193
Status : Answered
Chosen Option : 3



Maharashtra Housing and Area Development Authority-2021
महाराष्ट्र गृहनिर्माण व क्षेत्रविकास प्राधिकरण-२०२१

Participant ID	
Participant Name	
Test Center Name	
Test Date	31/01/2022
Test Time	12:30 PM - 2:30 PM
Subject	Cluster 1

Section : Technical

Q.1 Which type of weirs are suitable for very large flowrates in metering process?

- Ans
- 1. V-notch weirs
 - 2. Circular weirs
 - 3. Rectangular weirs
 - 4. Triangular weirs

Question Type : MCQ
Question ID : 6203621548
Option 1 ID : 6203626109
Option 2 ID : 6203626112
Option 3 ID : 6203626111
Option 4 ID : 6203626110
Status : Answered
Chosen Option : 1

Q.2 A state of _____ exists when the movement of the wall is such that the soil tends to compress horizontally.

- Ans
- 1. At-rest pressure
 - 2. Active pressure
 - 3. Parallel pressure
 - 4. Passive pressure

Question Type : MCQ
Question ID : 6203621537
Option 1 ID : 6203626065
Option 2 ID : 6203626066
Option 3 ID : 6203626068
Option 4 ID : 6203626067
Status : Answered
Chosen Option : 2

Q.3 Which of the following assumption by Rankine for the derivation of earth pressure is true?

- Ans
- 1. The soil is wet and cohesive.
 - 2. The soil mass is homogeneous and infinite.
 - 3. The soil element is in a state of plastic equilibrium.
 - 4. The back of retaining wall is smooth and horizontal.

Question Type : MCQ

Question ID : 6203621539

Option 1 ID : 6203626075

Option 2 ID : 6203626074

Option 3 ID : 6203626073

Option 4 ID : 6203626076

Status : Answered

Chosen Option : 4

Q.4 Which of the following summary of errors in chaining is true for variation in pull?

- Ans
- 1. Compensating \pm
 - 2. Mistake
 - 3. Blunder
 - 4. Cumulative + or -

Question Type : MCQ

Question ID : 6203621557

Option 1 ID : 6203626145

Option 2 ID : 6203626148

Option 3 ID : 6203626147

Option 4 ID : 6203626146

Status : Answered

Chosen Option : 4

Q.5 Which of the following strength is considered in design of tension member of steel structures?

- (a) Strength in yielding of net area
- (b) Strength in block shear
- (c) Strength in rupture of critical section

- Ans
- 1. Only (b) and (c)
 - 2. Only (a) and (c)
 - 3. Only (a) and (b)
 - 4. (a), (b) and (c)

Question Type : MCQ

Question ID : 6203621529

Option 1 ID : 6203626034

Option 2 ID : 6203626035

Option 3 ID : 6203626036

Option 4 ID : 6203626033

Status : Answered

Chosen Option : 2

Q.6 Which of the following is NOT a web browser?

- Ans
- 1. Firefox
 - 2. Edge
 - 3. Chrome
 - 4. Windows

Question Type : MCQ
Question ID : 6203621569
Option 1 ID : 6203626193
Option 2 ID : 6203626196
Option 3 ID : 6203626194
Option 4 ID : 6203626195
Status : Answered
Chosen Option : 4

Q.7 What is needed to connect the domestic computers to the internet?

- Ans
- 1. Periphaser
 - 2. Modem
 - 3. Gatelink
 - 4. Monitor

Question Type : MCQ
Question ID : 6203621570
Option 1 ID : 6203626198
Option 2 ID : 6203626199
Option 3 ID : 6203626200
Option 4 ID : 6203626197
Status : Answered
Chosen Option : 2

Q.8 The fine-grained soils which have a liquid limit greater than 35 but less than 50 is called as

- Ans
- 1. Silts and clays represented by symbol L.
 - 2. Silts and clays represented by symbol I.
 - 3. Silts and clays represented by symbol H.
 - 4. Silts and clays of represented by symbol K.

Question Type : MCQ
Question ID : 6203621538
Option 1 ID : 6203626069
Option 2 ID : 6203626070
Option 3 ID : 6203626071
Option 4 ID : 6203626072
Status : Answered
Chosen Option : 3

Q.9 Which of the following concept may NOT be applied to explain and analyses the basic behavior of prestressed concrete?

- Ans**
- 1. Strength concept
 - 2. Compound transform concept
 - 3. Balanced load concept
 - 4. Stress concept

Question Type : **MCQ**

Question ID : **6203621525**

Option 1 ID : **6203626018**

Option 2 ID : **6203626019**

Option 3 ID : **6203626020**

Option 4 ID : **6203626017**

Status : **Answered**

Chosen Option : **4**

Q.10 Which of the following forces should be considered in the design of a well foundation?

- (a) Impact loads
- (b) Centrifugal forces
- (c) Longitudinal forces
- (d) Buoyant forces

- Ans**
- 1. Only (b), (c) and (d)
 - 2. Only (b) and (d)
 - 3. (a), (b), (c) and (d)
 - 4. Only (c) and (d)

Question Type : **MCQ**

Question ID : **6203621545**

Option 1 ID : **6203626099**

Option 2 ID : **6203626097**

Option 3 ID : **6203626100**

Option 4 ID : **6203626098**

Status : **Answered**

Chosen Option : **4**

Q.11 _____ are the errors which remain after mistakes and systematic errors have been eliminated and are caused by a combination of reasons beyond the ability of the observer to control.

- Ans
- 1. Blunders
 - 2. Un-adjustable errors
 - 3. Compensating errors
 - 4. Cumulative errors

Question Type : MCQ
 Question ID : 6203621561
 Option 1 ID : 6203626163
 Option 2 ID : 6203626164
 Option 3 ID : 6203626162
 Option 4 ID : 6203626161
 Status : Answered
 Chosen Option : 3

Q.12 In Moh's circle, _____ is equal to the radius of the Mohr's circle.

- Ans
- 1. Differential stress
 - 2. Maximum shear stress
 - 3. Compressive principal stresses
 - 4. Mean stress

Question Type : MCQ
 Question ID : 6203621523
 Option 1 ID : 6203626011
 Option 2 ID : 6203626010
 Option 3 ID : 6203626012
 Option 4 ID : 6203626009
 Status : Answered
 Chosen Option : 3

Q.13 Which of the following assumption in theory of simple bending is TRUE?

- Ans
- 1. Transverse sections of the beam that were plane before bending remains plane even after bending.
 - 2. The stress induced is proportional to the strain and the stress at any point does not exceed the plastic limit.
 - 3. The longitudinal section of the beam is symmetrical about a line passing through the centre of gravity in the plane of bending.
 - 4. The modulus of elasticity is different for the fibers of the beam under tension or compression.

Question Type : MCQ
 Question ID : 6203621522
 Option 1 ID : 6203626006
 Option 2 ID : 6203626005
 Option 3 ID : 6203626008
 Option 4 ID : 6203626007
 Status : Answered
 Chosen Option : 1

Q.14 A hydraulic pump rotates at N rpm operating under a net head H and having a discharge Q .
The specific speed is expressed as

Ans

✗ 1. $N_s = \frac{Q^{1/2} N}{H^{5/4}}$

✓ 2. $N_s = \frac{Q^{1/2} N}{H^{3/4}}$

✗ 3. $N_s = \frac{Q^{1/2}}{H^{5/4}}$

✗ 4. $N_s = \frac{Q^{1/2}}{H^{3/4} N}$

Question Type : **MCQ**

Question ID : **6203621549**

Option 1 ID : **6203626116**

Option 2 ID : **6203626115**

Option 3 ID : **6203626113**

Option 4 ID : **6203626114**

Status : **Answered**

Chosen Option : 1

Q.15 Which of the following method of plane tabling is also sometimes known as graphic triangulation?

Ans

✗ 1. Radiation

✗ 2. Traversing

✗ 3. Resection

✓ 4. Intersection

Question Type : **MCQ**

Question ID : **6203621559**

Option 1 ID : **6203626153**

Option 2 ID : **6203626156**

Option 3 ID : **6203626154**

Option 4 ID : **6203626155**

Status : **Answered**

Chosen Option : 2

Q.16 _____ is the shear force acting along the tangential direction to the surface of a body immersed in a fluid.

Ans

✗ 1. Pressure drag

✗ 2. Form drag

✓ 3. Friction drag

✗ 4. Deformation drag

Question Type : **MCQ**

Question ID : **6203621547**

Option 1 ID : **6203626105**

Option 2 ID : **6203626108**

Option 3 ID : **6203626106**

Option 4 ID : **6203626107**

Status : **Answered**

Chosen Option : 1

Q.17 The process of burning the garbage into ash is known as

- Ans
- 1. Pulverization
 - 2. Composting
 - 3. Trenching
 - 4. Incineration

Question Type : MCQ
 Question ID : 6203621534
 Option 1 ID : 6203626054
 Option 2 ID : 6203626056
 Option 3 ID : 6203626055
 Option 4 ID : 6203626053
 Status : Answered
 Chosen Option : 4

Q.18 Which of the following assumption in limit state of collapse in flexure is true?

- Ans
- 1. The relationship between the compressive stress distribution in concrete and the strain in concrete may be assumed to be square only.
 - 2. Plane sections normal to the axis remain plane after bending.
 - 3. The stresses in the reinforcement are derived from representative characteristic curve for the type of steel used.
 - 4. The tensile strength of the concrete is always considered.

Question Type : MCQ
 Question ID : 6203621526
 Option 1 ID : 6203626022
 Option 2 ID : 6203626023
 Option 3 ID : 6203626024
 Option 4 ID : 6203626021
 Status : Answered
 Chosen Option : 2

Q.19 If V is mean velocity in m/sec, N is roughness coefficient, m is hydraulic mean depth in m and i is longitudinal slope, then $V = \frac{1}{N} \times m^{2/3} \times i^{1/2}$ is the expression for mean velocity by

- Ans
- 1. Hazen and willian's formula
 - 2. Crimp and Bruge's formula
 - 3. Kutter's formula
 - 4. Manning's formula

Question Type : MCQ
 Question ID : 6203621535
 Option 1 ID : 6203626060
 Option 2 ID : 6203626057
 Option 3 ID : 6203626058
 Option 4 ID : 6203626059
 Status : Answered
 Chosen Option : 4

Q.20 Which of the following method for derivation of unit hydrograph for different durations, is based on assumption that linear response of the catchment is not influenced by previous storms?

- Ans
- 1. S-curve method
 - 2. Distribution method
 - 3. Superposition method
 - 4. S-hydrograph method

Question Type : **MCQ**
Question ID : **6203621551**
Option 1 ID : **6203626121**
Option 2 ID : **6203626124**
Option 3 ID : **6203626123**
Option 4 ID : **6203626122**
Status : **Answered**
Chosen Option : **1**

Q.21 Which of the following is a shallow foundation?

- Ans
- 1. Pile foundation
 - 2. Pier foundation
 - 3. Well foundation
 - 4. Mat foundation

Question Type : **MCQ**
Question ID : **6203621541**
Option 1 ID : **6203626082**
Option 2 ID : **6203626081**
Option 3 ID : **6203626084**
Option 4 ID : **6203626083**
Status : **Answered**
Chosen Option : **4**

Q.22 Which of the following piles are used to anchor down structures subjected to hydrostatic uplift forces or overturning forces?

- Ans
- 1. Compaction piles
 - 2. Tension piles
 - 3. Anchor piles
 - 4. Load bearing piles

Question Type : **MCQ**
Question ID : **6203621544**
Option 1 ID : **6203626095**
Option 2 ID : **6203626094**
Option 3 ID : **6203626096**
Option 4 ID : **6203626093**
Status : **Answered**
Chosen Option : **4**

- Q.23 What are the principles of surveying?
- (a) Always work from the part to whole
 - (b) Always choose the method that is most suitable for the purpose
 - (c) Always make provisions of adequate checks
 - (d) Always record field data carefully

- Ans
- 1. (a), (b), (c) and (d)
 - 2. Only (b) and (d)
 - 3. Only (b), (c), and (d)
 - 4. Only (a), (b) and (c)

Question Type : MCQ
Question ID : 6203621554
Option 1 ID : 6203626136
Option 2 ID : 6203626134
Option 3 ID : 6203626135
Option 4 ID : 6203626133
Status : Answered
Chosen Option : 3

- Q.24 For a sudden drawdown case, the stability number is computed using

- Ans
- 1. The saturated unit weight
 - 2. The shearing unit weight
 - 3. The submerged unit weight
 - 4. The stability charts

Question Type : MCQ
Question ID : 6203621542
Option 1 ID : 6203626085
Option 2 ID : 6203626088
Option 3 ID : 6203626086
Option 4 ID : 6203626087
Status : Answered
Chosen Option : 3

Q.25 Toe and base failure are which type of slope failures?

- Ans 1. Rotational failure.
 2. Translational failure.
 3. Compound failure.
 4. Wedge failure.

Question Type : MCQ
Question ID : 6203621540
Option 1 ID : 6203626079
Option 2 ID : 6203626078
Option 3 ID : 6203626080
Option 4 ID : 6203626077
Status : Answered
Chosen Option : 4

Q.26 Which of the following is the advantage of plane table surveying?

- Ans 1. The plane tabling is intended for very accurate work.
 2.
Since notes of measurement are recorded, it is a great convenience.
 3. It is most convenient in rainy season and in wet climate.
 4.
It is particularly useful in magnetic areas where compass may not be used.

Question Type : MCQ
Question ID : 6203621560
Option 1 ID : 6203626159
Option 2 ID : 6203626158
Option 3 ID : 6203626160
Option 4 ID : 6203626157
Status : Answered
Chosen Option : 4

Q.27 The browser internet explorer belongs to which vendor?

- Ans 1. Microsoft
 2. Apple
 3. Facebook
 4. Google

Question Type : MCQ
Question ID : 6203621567
Option 1 ID : 6203626185
Option 2 ID : 6203626186
Option 3 ID : 6203626188
Option 4 ID : 6203626187
Status : Answered
Chosen Option : 1

Q.28 For a reinforced concrete element in flexure, an under reinforced section is the one in which steel percentage is less than

- Ans
- 1. Non-critical percentage
 - 2. Limiting percentage
 - 3. Designed percentage
 - 4. Balanced percentage

Question Type : **MCQ**

Question ID : **6203621528**

Option 1 ID : **6203626029**

Option 2 ID : **6203626031**

Option 3 ID : **6203626030**

Option 4 ID : **6203626032**

Status : **Answered**

Chosen Option : **4**

Q.29 Which of the following is an underground source of water?

- Ans
- 1. Pond or lake
 - 2. Springs
 - 3. Stream
 - 4. Storage reservoir

Question Type : **MCQ**

Question ID : **6203621530**

Option 1 ID : **6203626040**

Option 2 ID : **6203626038**

Option 3 ID : **6203626037**

Option 4 ID : **6203626039**

Status : **Answered**

Chosen Option : **4**

Q.30 What is the effective length of compression member effectively held in position at both ends, but not restrained against rotation?

- Ans
- 1. 1.0 L
 - 2. 0.8 L
 - 3. 1.2 L
 - 4. 2.0 L

Question Type : **MCQ**

Question ID : **6203621552**

Option 1 ID : **6203626126**

Option 2 ID : **6203626125**

Option 3 ID : **6203626127**

Option 4 ID : **6203626128**

Status : **Answered**

Chosen Option : **2**

Q.31 In which of the following location, a 75 mm diameter pipe nail may be driven flush with the surface and alternatively, sometimes a cross cut is made on the surface in theodolite traversing?

- Ans**
- 1. For permanent stations
 - 2. In land surveying
 - 3. On pavements
 - 4. In mountain areas

Question Type : **MCQ**
Question ID : **6203621553**
Option 1 ID : **6203626129**
Option 2 ID : **6203626130**
Option 3 ID : **6203626131**
Option 4 ID : **6203626132**
Status : **Answered**
Chosen Option : **4**

Q.32 Under what condition the method of orienting the c by means of back-sighting is used?

- Ans**
- 1. When speed is more important than accuracy.
 - 2. When it is not possible to set the plane table on the point.
 - 3. When there is no second point available for orientation.
 - 4. In certain resection problems.

Question Type : **MCQ**
Question ID : **6203621558**
Option 1 ID : **6203626149**
Option 2 ID : **6203626150**
Option 3 ID : **6203626152**
Option 4 ID : **6203626151**
Status : **Answered**
Chosen Option : **1**

Q.33 Which of the following is NOT the purpose of sedimentation?

- Ans**
- 1. To make the process of coagulation more easy.
 - 2. To reduce the amount of coagulant.
 - 3. To reduce the cost of coagulation process.
 - 4. To make the working of other treatment processes different and less efficient.

Question Type : **MCQ**
Question ID : **6203621532**
Option 1 ID : **6203626047**
Option 2 ID : **6203626045**
Option 3 ID : **6203626048**
Option 4 ID : **6203626046**
Status : **Answered**
Chosen Option : **4**

Q.34 Which of the following is a limit states of serviceability?

- Ans
- 1. Limit state of cracking
 - 2. Limit state of uniaxial bending
 - 3. Limit state of compression
 - 4. Limit state of torsion

Question Type : **MCQ**
Question ID : **6203621527**
Option 1 ID : **6203626025**
Option 2 ID : **6203626027**
Option 3 ID : **6203626028**
Option 4 ID : **6203626026**
Status : **Answered**
Chosen Option : **1**

Q.35 Which among the following chain is available in lengths of 5, 10, 20, and 30 meters?

- Ans
- 1. Revenue chains
 - 2. Metric chains
 - 3. Engineer's chains
 - 4. Revenue chains

Question Type : **MCQ**
Question ID : **6203621556**
Option 1 ID : **6203626141**
Option 2 ID : **6203626143**
Option 3 ID : **6203626142**
Option 4 ID : **6203626144**
Status : **Answered**
Chosen Option : **3**

Q.36 Which among the following can be determined by using mohr's circle?

- (a) Principal stress
- (b) Maximum shear stress
- (c) Stresses on inclined plane
- (d) Minimum shear stress

Ans 1. (b), (c) and (d)

2. (a), (b) and (c)

3. (a), (b), (c) and (d)

4. (a), (c) and (d)

Question Type : MCQ

Question ID : 6203621521

Option 1 ID : 6203626004

Option 2 ID : 6203626003

Option 3 ID : 6203626001

Option 4 ID : 6203626002

Status : Answered

Chosen Option : 3

Q.37 (i) It is provided for a load-bearing wall.
(ii) It is also provided for a row of columns which are so closely spaced that their spread footings overlap or nearly touch each other.
Which of the following footing satisfies the above two statements?

Ans 1. Strap footing

2. Cantilever footing

3. Isolated footing

4. Strip footing

Question Type : MCQ

Question ID : 6203621543

Option 1 ID : 6203626091

Option 2 ID : 6203626092

Option 3 ID : 6203626090

Option 4 ID : 6203626089

Status : Answered

Chosen Option : 4

- Q.38** Which of the following soil satisfies the below specifications:
- (i) Rounded to angular, bulky, hard, rock particles; passing 80 mm IS sieve but retained on 4.75 mm IS sieve
 - (ii) Coarse: 80 mm to 20 mm IS sieve
Fine: 20 mm to 4.75 mm IS sieve

- Ans**
- 1. Coarse grained gravel
 - 2. Coarse grained sand
 - 3. Fine-grained silt
 - 4. Fine-grained clay

Question Type : MCQ
Question ID : 6203621536
Option 1 ID : 6203626064
Option 2 ID : 6203626063
Option 3 ID : 6203626062
Option 4 ID : 6203626061
Status : Answered
Chosen Option : 3

- Q.39** Which of the following data is NOT necessary in order to make the computations for various quantities of the transition and circular curves?

- Ans**
- 1. The radius of the circular curve
 - 2. The chainage of the point of tangency
 - 3. The length of the transition curve
 - 4. The deflection angle between the original tangents

Question Type : MCQ
Question ID : 6203621565
Option 1 ID : 6203626179
Option 2 ID : 6203626178
Option 3 ID : 6203626180
Option 4 ID : 6203626177
Status : Answered
Chosen Option : 3

- Q.40** Which of the following domain is used to map an address to a name?

- Ans**
- 1. Inverse domain
 - 2. Generic domain
 - 3. Query domain
 - 4. Country domain

Question Type : MCQ
Question ID : 6203621568
Option 1 ID : 6203626190
Option 2 ID : 6203626189
Option 3 ID : 6203626192
Option 4 ID : 6203626191
Status : Answered
Chosen Option : 4

Q.41 Which of the following condition of adjustment of dumpy level is true?

Ans  1.

The line of collimation of the telescope should be perpendicular to the axis of the bubble tube.

 2.

The axis of the bubble tube should be parallel to the vertical axis.

 3.

The horizontal cross-hair should lie in a plane perpendicular to the vertical axis.

 4.

The principle line should lie in a plane perpendicular to the horizontal axis

Question Type : **MCQ**

Question ID : **6203621562**

Option 1 ID : **6203626167**

Option 2 ID : **6203626165**

Option 3 ID : **6203626166**

Option 4 ID : **6203626168**

Status : **Answered**

Chosen Option : **2**

Q.42 Which of the following is the condition of adjustment of tilting level?

Ans  1.

The line of sight and axis of the level should be in the same horizontal plane.

 2.

The axis of the level tube should be perpendicular to the line of sight.

 3. The c should never coincide with axis of collars.

 4.

The line of collimation of the telescope should be parallel to the axis of bubble tube

Question Type : **MCQ**

Question ID : **6203621563**

Option 1 ID : **6203626171**

Option 2 ID : **6203626170**

Option 3 ID : **6203626169**

Option 4 ID : **6203626172**

Status : **Answered**

Chosen Option : **1**

Q.43 Which is the correct choice made for the raft type of foundation?

Ans 1.

For very light structures, provision of cellular raft consisting of slabs and basement walls be considered.

2.

For fairly large and non-uniform column spacing and when the supporting soil is not too compressible.

3.

A slab is thickened under heavy loaded columns to provide adequate strength for shear and negative moments.

4.

A slab and beam type of raft is likely to be more economical for small column.

Question Type : MCQ

Question ID : 6203621546

Option 1 ID : 6203626102

Option 2 ID : 6203626104

Option 3 ID : 6203626101

Option 4 ID : 6203626103

Status : Answered

Chosen Option : 2

Q.44 Which among the following point should be considered while selecting the site for water intake works?

Ans 1. The site should never be near to treatment plant.

2.

It should be at the zone of river where pollution of water is suspected.

3. The site should be on the curve of a river.

4. The intake site should be easily accessible.

Question Type : MCQ

Question ID : 6203621531

Option 1 ID : 6203626044

Option 2 ID : 6203626042

Option 3 ID : 6203626041

Option 4 ID : 6203626043

Status : Answered

Chosen Option : 4

Q.45 Which among the following is the limit states of serviceability?

Ans 1. Limit state of flexure

2. Limit state of tension

3. Limit state of torsion

4. Limit state of cracking

Question Type : MCQ

Question ID : 6203621555

Option 1 ID : 6203626139

Option 2 ID : 6203626138

Option 3 ID : 6203626137

Option 4 ID : 6203626140

Status : Answered

Chosen Option : 4

Q.46 Which of the following stresses on an oblique plane can be founded by Mohr's circle on stresses?

- (a) Normal stresses
- (b) Tangential stresses
- (c) Resultant stresses

- Ans
- 1. (a) and (c) only
 - 2. (a) and (b) only
 - 3. (a), (b) and (c)
 - 4. (b) and (c) only

Question Type : MCQ

Question ID : 6203621524

Option 1 ID : 6203626014

Option 2 ID : 6203626015

Option 3 ID : 6203626013

Option 4 ID : 6203626016

Status : Answered

Chosen Option : 4

Q.47 In simple curves, the tangent distance is the distance between

- Ans
- 1. Point of tangency to point of curve
 - 2. Back tangent and forward tangent
 - 3. Point of tangency to point of intersection
 - 4. Point of curve to point of intersection

Question Type : MCQ

Question ID : 6203621564

Option 1 ID : 6203626175

Option 2 ID : 6203626174

Option 3 ID : 6203626176

Option 4 ID : 6203626173

Status : Answered

Chosen Option : 4

Q.48 In which of the following type of sedimentation tank, the water is allowed to enter through a deflector box which is provided at the centre?

- Ans
- 1. Circular tank
 - 2. Saggered flat tank
 - 3. Hopper bottom tank
 - 4. Square tank

Question Type : MCQ

Question ID : 6203621533

Option 1 ID : 6203626050

Option 2 ID : 6203626049

Option 3 ID : 6203626052

Option 4 ID : 6203626051

Status : Answered

Chosen Option : 3

- Q.49
- Permeability: Semi-pervious to impervious,
 - Compressibility: Medium,
 - Shear strength: Fair,
 - Workability: Fair,

The above general properties belongs to which soil group:

- Ans
- ✗ 1. SW, SP
 - ✓ 2. ML, MI
 - ✗ 3. CH, OH
 - ✗ 4. CL, CI

Question Type : MCQ
Question ID : 6203621566
Option 1 ID : 6203626181
Option 2 ID : 6203626184
Option 3 ID : 6203626182
Option 4 ID : 6203626183
Status : Answered
Chosen Option : 2

Q.50 Determine the dimensions of specific weight in $M - L - T$ system?

- Ans
- ✗ 1. MT^{-2}
 - ✗ 2. MLT^{-2}
 - ✓ 3. $ML^{-2}T^{-2}$
 - ✗ 4. $ML^{-1}T^{-2}$

Question Type : MCQ
Question ID : 6203621550
Option 1 ID : 6203626120
Option 2 ID : 6203626117
Option 3 ID : 6203626119
Option 4 ID : 6203626118
Status : Answered
Chosen Option : 1

Q.1 कर्मधारय समास हा कोणत्या समासाचा उपप्रकार आहे ?

- Ans
- 1. बहुव्रीही
 - 2. अव्ययीभाव
 - 3. द्वंद्व
 - 4. तत्पुरुष

Question Type : MCQ
Question ID : 6203621576
Option 1 ID : 6203626224
Option 2 ID : 6203626221
Option 3 ID : 6203626223
Option 4 ID : 6203626222
Status : Answered
Chosen Option : 2

Q.2 'अशोक पतंग उडवतो.' या वाक्यातील प्रयोग सांगा.

- Ans
- 1. कर्मणी प्रयोग
 - 2. सकर्मक कर्तरी प्रयोग
 - 3. भावकर्तरी प्रयोग
 - 4. भावे प्रयोग

Question Type : MCQ
Question ID : 6203621582
Option 1 ID : 6203626239
Option 2 ID : 6203626237
Option 3 ID : 6203626238
Option 4 ID : 6203626240
Status : Answered
Chosen Option : 2

Q.3 'विदुषी' या शब्दाचे पुल्लिंगी रूप ओळखा.

- Ans
- ✗ 1. विदेशी
 - ✗ 2. विद्यार्थी
 - ✓ 3. विद्वान
 - ✗ 4. विदूषक

Question Type : MCQ
Question ID : 6203621578
Option 1 ID : 6203626594
Option 2 ID : 6203626596
Option 3 ID : 6203626595
Option 4 ID : 6203626593
Status : Answered
Chosen Option : 4

Q.4 व्याकरणदृष्ट्या अचूक वाक्य शोधा

- Ans
- ✗ 1. धर्मशाळेपुढे आमचे शेजोपाध्य उभे होते.
 - ✗ 2. धर्मशाळेपुढे आमचे शेजोपाध्ये उभे होते.
 - ✗ 3. धर्मशाळेपुढे आमचे क्षेत्रोपाध्ये उभे होते.
 - ✓ 4. धर्मशाळेपुढे आमचे क्षेत्रोपाध्ये उभे होते.

Question Type : MCQ
Question ID : 6203621588
Option 1 ID : 6203626263
Option 2 ID : 6203626262
Option 3 ID : 6203626264
Option 4 ID : 6203626261
Status : Answered
Chosen Option : 2

Q.5 मेधावी म्हणजे _____.

- Ans
- 1. बलवंत
 - 2. पुण्यवंत
 - 3. प्रज्ञावंत
 - 4. गुणवंत

Question Type : MCQ

Question ID : 6203621585

Option 1 ID : 6203626251

Option 2 ID : 6203626250

Option 3 ID : 6203626249

Option 4 ID : 6203626252

Status : Answered

Chosen Option : 2

Q.6 'शेजारचा मुलगा पुस्तक वाचत होता.' या वाक्यातील काळ ओळखा.

- Ans
- 1. अपूर्ण भूतकाळ
 - 2. पूर्ण वर्तमानकाळ
 - 3. साधा भूतकाळ
 - 4. रीतिवर्तमानकाळ

Question Type : MCQ

Question ID : 6203621573

Option 1 ID : 6203626211

Option 2 ID : 6203626210

Option 3 ID : 6203626209

Option 4 ID : 6203626212

Status : Answered

Chosen Option : 3

Q.7 'सासवा' हे कोणत्या शब्दाचे अनेकवचन आहे?

- Ans
- 1. सासरा
 - 2. सून
 - 3. सासू
 - 4. ससा

Question Type : MCQ

Question ID : 6203621580

Option 1 ID : 6203626229

Option 2 ID : 6203626232

Option 3 ID : 6203626230

Option 4 ID : 6203626231

Status : Answered

Chosen Option : 3

Q.8 राम गणेश गडकरी यांनी कोणत्या नावाने कविता लिहिल्या?

- Ans
- ✓ 1. गोविंदाग्रज
 - ✗ 2. अनिल
 - ✗ 3. केशवसुत
 - ✗ 4. बालकवी

Question Type : MCQ
Question ID : 6203621590
Option 1 ID : 6203626270
Option 2 ID : 6203626272
Option 3 ID : 6203626269
Option 4 ID : 6203626271
Status : Answered
Chosen Option : 1

Q.9 'धवलकीर्ती' हे कोणत्या समासाचे उदाहरण आहे?

- Ans
- ✗ 1. अव्ययीभाव
 - ✗ 2. द्वंद्व
 - ✗ 3. द्विगू
 - ✓ 4. कर्मधारय

Question Type : MCQ
Question ID : 6203621577
Option 1 ID : 6203626228
Option 2 ID : 6203626226
Option 3 ID : 6203626225
Option 4 ID : 6203626227
Status : Answered
Chosen Option : 2

Q.10 'त्याने घराजवळ गाडी उभी केली.' या वाक्यातील कर्म सांगा.

- Ans
- ✗ 1. घराजवळ
 - ✓ 2. गाडी
 - ✗ 3. त्याने
 - ✗ 4. केली

Question Type : MCQ
Question ID : 6203621572
Option 1 ID : 6203626205
Option 2 ID : 6203626206
Option 3 ID : 6203626207
Option 4 ID : 6203626208
Status : Answered
Chosen Option : 1

Q.11 'आज भारतीय संघ खूप चांगला खेळला.' यावाक्याचे उद्गारार्थी वाक्यात अचूक रूपांतर कोणते असेल?

- Ans
- 1. भारतीय संघ किती चांगला खेळला आज?
 - 2. भारतीय संघ आज खूप चांगला खेळला का?
 - 3. भारतीय संघ खूपच चांगला खेळला आज.
 - 4. किती चांगला खेळला आज भारतीय संघ!

Question Type : MCQ

Question ID : 6203621589

Option 1 ID : 6203626268

Option 2 ID : 6203626267

Option 3 ID : 6203626266

Option 4 ID : 6203626265

Status : Answered

Chosen Option : 4

Q.12 'आसवे' या शब्दाचे एकवचनी रूप सांगा.

- Ans
- 1. आस
 - 2. आसरा
 - 3. आसू
 - 4. आशा

Question Type : MCQ

Question ID : 6203621581

Option 1 ID : 6203626233

Option 2 ID : 6203626236

Option 3 ID : 6203626235

Option 4 ID : 6203626234

Status : Answered

Chosen Option : 1

Q.13 "उद्या मी यावेळी घरी जेवत असेन." या वाक्यातील काळ ओळखा.

- Ans
- 1. अपूर्ण भविष्यकाळ
 - 2. अपूर्ण भूतकाळ
 - 3. अपूर्ण वर्तमानकाळ
 - 4. पूर्ण भविष्यकाळ

Question Type : MCQ

Question ID : 6203621574

Option 1 ID : 6203626213

Option 2 ID : 6203626215

Option 3 ID : 6203626214

Option 4 ID : 6203626216

Status : Answered

Chosen Option : 4

Q.14 'कीर्ती' शब्दाचा विरुद्धार्थी शब्द कोणता?

- Ans
- ✗ 1. अज्ञानी
 - ✗ 2. अर्थपूर्ण
 - ✓ 3. अपकीर्ती
 - ✗ 4. अनास्था

Question Type : MCQ
Question ID : 6203621587
Option 1 ID : 6203626258
Option 2 ID : 6203626257
Option 3 ID : 6203626259
Option 4 ID : 6203626260
Status : Answered
Chosen Option : 3

Q.15 'प्रतिगामी' याशब्दाचा विरुद्धार्थी शब्द कोणता?

- Ans
- ✗ 1. चिरकालीन
 - ✗ 2. अनुयायी
 - ✗ 3. देशद्रोही
 - ✓ 4. पुरोगामी

Question Type : MCQ
Question ID : 6203621586
Option 1 ID : 6203626256
Option 2 ID : 6203626253
Option 3 ID : 6203626255
Option 4 ID : 6203626254
Status : Answered
Chosen Option : 4

Q.16 'कर्णाची उदारता आणि अभिमन्यूचे शौर्य पाहिलेकी मनाला आनंद होते.' या वाक्यातील भाववाचक नामे ओळखा.

- Ans
- ✓ 1. उदारता, शौर्य
 - ✗ 2. कर्ण, अभिमन्यू
 - ✗ 3. कर्ण, शौर्य
 - ✗ 4. आनन्द, अभिमन्यू

Question Type : MCQ
Question ID : 6203621571
Option 1 ID : 6203626203
Option 2 ID : 6203626204
Option 3 ID : 6203626201
Option 4 ID : 6203626202
Status : Answered
Chosen Option : 1

Q.17 पुढीलपैकी कोणता शब्द 'रावा' शब्दाचा समानार्थी शब्द नाही?

- Ans
- 1. शुक
 - 2. राघू
 - 3. पल्लव
 - 4. पोपट

Question Type : MCQ
Question ID : 6203621584
Option 1 ID : 6203626245
Option 2 ID : 6203626248
Option 3 ID : 6203626246
Option 4 ID : 6203626247
Status : Answered
Chosen Option : 1

Q.18 'सभेत पत्रके वाटली गेली .' हे कोणत्या प्रयोगाचे उदाहरण आहे?

- Ans
- 1. सकर्मक कर्तरी प्रयोग
 - 2. शक्य कर्मणी प्रयोग
 - 3. भाव कर्तरी प्रयोग
 - 4. कर्म कर्तरी प्रयोग

Question Type : MCQ
Question ID : 6203621583
Option 1 ID : 6203626244
Option 2 ID : 6203626243
Option 3 ID : 6203626242
Option 4 ID : 6203626241
Status : Answered
Chosen Option : 3

Q.19 'त्यांनी (भावजयीला) पत्रातून सर्व वृत्त कळवले.' कंसातील शब्दाचे पुल्लिंगी रूप ओळखा.

- Ans
- 1. नवऱ्याला
 - 2. वहिनीला
 - 3. भावाला
 - 4. सासऱ्याला

Question Type : MCQ
Question ID : 6203621579
Option 1 ID : 6203626597
Option 2 ID : 6203626599
Option 3 ID : 6203626598
Option 4 ID : 6203626600
Status : Answered
Chosen Option : 2

Q.20 खाली दिलेल्या दोन वाक्यांचे अचूक मिश्रवाक्य कोणते आहे?

उद्या दुकान उघडेल.

मी कपडे घेईन.

- Ans
- ✗ 1. उद्या दुकान उघडले अथवा मी कपडे घेईन.
 - ✗ 2. उद्या दुकान उघडले परंतु मी कपडे घेईन.
 - ✗ 3. उद्या दुकान उघडले कारण मी कपडे घेईन.
 - ✓ 4. उद्या दुकान उघडले, तर मी कपडे घेईन.

Question Type : MCQ

Question ID : 6203621575

Option 1 ID : 6203626220

Option 2 ID : 6203626219

Option 3 ID : 6203626217

Option 4 ID : 6203626218

Status : Answered

Chosen Option : 4

Comprehension:

अगदी लहानपणीच काऊ चिऊची ओळख आपल्याला होते. भाताचा मऊ घास भरवताना आई त्यांचीच नावं घेते. हा चिऊचा हा काऊचा. बोलायला यायला लागलं की पहिली गोष्ट सांगता येते ती, एक होती चिमणी, एक होता कावळा.

हा कावळा मोठा वस्ताद पक्षी आहे. माणसाच्या जवळपास राहूनही तो अंतर राखून असतो. इतर पाखरं बेसावध आढळतील पण कावळा अष्टौप्रहर सावध बुद्धीने वागतो. त्याला फसवून गोत्यात आणणंही जवळजवळ अशक्य गोष्ट आहे.

पोट भरणं ही कावळ्याच्या हिशेबी अगदी सोपी गोष्ट आहे. त्याला काहीही चालतं. अमुक एक वस्तू टाकाऊ आहे, असं त्याला कधी वाटतच नाही. उकिरड्यावर पडलेला उंदीर तो खुषीने उचलून घेऊन जातो. डोक्यावर माशांनी भरलेली पाटी घेऊन गडबडीने चाललेल्या कोळणीच्या पाटीतला मासा वरच्यावर पळवतो.

उघडया खिडकीतून स्वयंपाकघरात शिरून भाकरी पोळी लांबवतो. ही चोरी आहे, ही लाज त्याला बिलकुल नसते.

मनुष्यवस्तीच्या आसपास राहून कावळा लबाडीने अन्न मिळवतो, तसा बाहेर रानात भटकून ही मिळवतो. मिरच्यांच्या पिकात शिरून कोवळ्या मिरच्या खा,

मक्याच्या कणसावर ताव मार, गव्हाच्या लोंब्या ओरबाड, ज्वारीची कणसं ओरबाड असं त्याचं चालू असतं. शिजलेलंच अन्न पाहिजे असा चवचालपणा नाही, वाळलेला शिधाही चालतो. शाकाहारच पाहिजे असा सोवळेपणा नाही, मांसमच्छरही चालतं. ओलं - वाळलं खाऊन तो तृप्त असतो.

जंगलात शिकारीला गेल्यावर ह्या कावळ्यांचा फार उपयोग होतो. वाघासारखं जनावर बाहेर पडलेलं पाहिलं की तीक्ष्ण नजरेचा कावळा आरडाओरडा करतो. जनावराची हालचाल शिकान्याला कळते.

SubQuestion No : 21

Q.21 'गव्हाची कणसे' यासाठी या उतान्यात कोणत्या शब्दाचा उपयोग केला आहे?

- Ans
- 1. घास
 - 2. भाकरीपोळी
 - 3. लोंब्या
 - 4. वस्ताद

Question Type : MCQ

Question ID : 6203621593

Option 1 ID : 6203626280

Option 2 ID : 6203626279

Option 3 ID : 6203626278

Option 4 ID : 6203626277

Status : Answered

Chosen Option : 3

Comprehension:

अगदी लहानपणीच काऊ चिऊची ओळख आपल्याला होते. भाताचा मऊ घास भरवताना आई त्यांचीच नावं घेते. हा चिऊचा हा काऊचा. बोलायला यायला लागलं की पहिली गोष्ट सांगता येते ती, एक होती चिमणी, एक होता कावळा.

हा कावळा मोठा वस्ताद पक्षी आहे. माणसाच्या जवळपास राहूनही तो अंतर राखून असतो. इतर पाखरं बेसावध आढळतील पण कावळा अष्टौप्रहर सावध बुद्धीने वागतो. त्याला फसवून गोत्यात आणणंही जवळजवळ अशक्य गोष्ट आहे.

पोट भरणं ही कावळ्याच्या हिशेबी अगदी सोपी गोष्ट आहे. त्याला काहीही चालतं. अमुक एक वस्तू टाकाऊ आहे, असं त्याला कधी वाटतच नाही. उकिरड्यावर पडलेला उंदीर तो खुषीने उचलून घेऊन जातो. डोक्यावर माशांनी भरलेली पाटी घेऊन गडबडीने चाललेल्या कोळणीच्या पाटीतला मासा वरच्यावर पळवतो.

उघडया खिडकीतून स्वयंपाकघरात शिरून भाकरी पोळी लांबवतो. ही चोरी आहे, ही लाज त्याला बिलकुल नसते.

मनुष्यवस्तीच्या आसपास राहून कावळा लबाडीने अन्न मिळवतो, तसा बाहेर रानात भटकून ही मिळवतो. मिरच्यांच्या पिकात शिरून कोवळ्या मिरच्या खा,

मक्याच्या कणसावर ताव मार, गव्हाच्या लोंब्या ओरबाड, ज्वारीची कणसं ओरबाड असं त्याचं चालू असतं. शिजलेलंच अन्न पाहिजे असा चवचालपणा नाही, वाळलेला शिधाही चालतो. शाकाहारच पाहिजे असा सोवळेपणा नाही, मांसमच्छरही चालतं. ओलं - वाळलं खाऊन तो तृप्त असतो.

जंगलात शिकारीला गेल्यावर ह्या कावळ्यांचा फार उपयोग होतो. वाघासारखं जनावर बाहेर पडलेलं पाहिलं की तीक्ष्ण नजरेचा कावळा आरडाओरडा करतो. जनावराची हालचाल शिकान्याला कळते.

SubQuestion No : 22

Q.22 उकिरडा म्हणजे काय?

Ans

- 1. माशांची पाटी
- 2. स्वयंपाकघर
- 3. मनुष्यवस्ती
- 4. केरकचरा टाकण्याची सार्वजनिक जागा.

Question Type : MCQ

Question ID : 6203621594

Option 1 ID : 6203626284

Option 2 ID : 6203626282

Option 3 ID : 6203626283

Option 4 ID : 6203626281

Status : Answered

Comprehension:

अगदी लहानपणीच काऊ चिऊची ओळख आपल्याला होते. भाताचा मऊ घास भरवताना आई त्यांचीच नावं घेते. हा चिऊचा हा काऊचा. बोलायला यायला लागलं की पहिली गोष्ट सांगता येते ती, एक होती चिमणी, एक होता कावळा.

हा कावळा मोठा वस्ताद पक्षी आहे. माणसाच्या जवळपास राहूनही तो अंतर राखून असतो. इतर पाखरं बेसावध आढळतील पण कावळा अष्टौप्रहर सावध बुद्धीने वागतो. त्याला फसवून गोत्यात आणणंही जवळजवळ अशक्य गोष्ट आहे.

पोट भरणं ही कावळ्याच्या हिशेबी अगदी सोपी गोष्ट आहे. त्याला काहीही चालतं. अमुक एक वस्तू टाकाऊ आहे, असं त्याला कधी वाटतच नाही. उकिरड्यावर पडलेला उंदीर तो खुषीने उचलून घेऊन जातो. डोक्यावर माशांनी भरलेली पाटी घेऊन गडबडीने चाललेल्या कोळणीच्या पाटीतला मासा वरच्यावर पळवतो.

उघडया खिडकीतून स्वयंपाकघरात शिरून भाकरी पोळी लांबवतो. ही चोरी आहे, ही लाज त्याला बिलकुल नसते.

मनुष्यवस्तीच्या आसपास राहून कावळा लबाडीने अन्न मिळवतो, तसा बाहेर रानात भटकून ही मिळवतो. मिरच्यांच्या पिकात शिरून कोवळ्या मिरच्या खा,

मक्याच्या कणसावर ताव मार, गव्हाच्या लोंब्या ओरबाड, ज्वारीची कणसं ओरबाड असं त्याचं चालू असतं. शिजलेलंच अन्न पाहिजे असा चवचालपणा नाही, वाळलेला शिधाही चालतो. शाकाहारच पाहिजे असा सोवळेपणा नाही, मांसमच्छरही चालतं. ओलं - वाळलं खाऊन तो तृप्त असतो.

जंगलात शिकारीला गेल्यावर ह्या कावळ्यांचा फार उपयोग होतो. वाघासारखं जनावर बाहेर पडलेलं पाहिलं की तीक्ष्ण नजरेचा कावळा आरडाओरडा करतो. जनावराची हालचाल शिकान्याला कळते.

SubQuestion No : 23

Q.23 'गोत्यात आणणे' या वाक्यप्रचाराचा योग्य अर्थ शोधा.

Ans

- 1. अंतर राखणे
- 2. अडचणीत टाकणे
- 3. तृप्त असणे
- 4. सावध करणे

Question Type : MCQ

Question ID : 6203621592

Option 1 ID : 6203626275

Option 2 ID : 6203626276

Option 3 ID : 6203626274

Option 4 ID : 6203626273

Status : Answered

Comprehension:

अगदी लहानपणीच काऊ चिऊची ओळख आपल्याला होते. भाताचा मऊ घास भरवताना आई त्यांचीच नावं घेते. हा चिऊचा हा काऊचा. बोलायला यायला लागलं की पहिली गोष्ट सांगता येते ती, एक होती चिमणी, एक होता कावळा.

हा कावळा मोठा वस्ताद पक्षी आहे. माणसाच्या जवळपास राहूनही तो अंतर राखून असतो. इतर पाखरं बेसावध आढळतील पण कावळा अष्टौप्रहर सावध बुद्धीने वागतो. त्याला फसवून गोत्यात आणणंही जवळजवळ अशक्य गोष्ट आहे.

पोट भरणं ही कावळ्याच्या हिशेबी अगदी सोपी गोष्ट आहे. त्याला काहीही चालतं. अमुक एक वस्तू टाकाऊ आहे, असं त्याला कधी वाटतच नाही. उकिरड्यावर पडलेला उंदीर तो खुषीने उचलून घेऊन जातो. डोक्यावर माशांनी भरलेली पाटी घेऊन गडबडीने चाललेल्या कोळणीच्या पाटीतला मासा वरच्यावर पळवतो.

उघडया खिडकीतून स्वयंपाकघरात शिरून भाकरी पोळी लांबवतो. ही चोरी आहे, ही लाज त्याला बिलकुल नसते.

मनुष्यवस्तीच्या आसपास राहून कावळा लबाडीने अन्न मिळवतो, तसा बाहेर रानात भटकून ही मिळवतो. मिरच्यांच्या पिकात शिरून कोवळ्या मिरच्या खा,

मक्याच्या कणसावर ताव मार, गव्हाच्या लोंब्या ओरबाड, ज्वारीची कणसं ओरबाड असं त्याचं चालू असतं. शिजलेलंच अन्न पाहिजे असा चवचालपणा नाही, वाळलेला शिधाही चालतो. शाकाहारच पाहिजे असा सोवळेपणा नाही, मांसमच्छरही चालतं. ओलं - वाळलं खाऊन तो तृप्त असतो.

जंगलात शिकारीला गेल्यावर ह्या कावळ्यांचा फार उपयोग होतो. वाघासारखं जनावर बाहेर पडलेलं पाहिलं की तीक्ष्ण नजरेचा कावळा आरडाओरडा करतो. जनावराची हालचाल शिकार्याला कळते.

SubQuestion No : 24

Q.24 'तीक्ष्ण' चा समानार्थी शब्द लिहा.

Ans

- 1. सुरेल
- 2. कर्कश
- 3. चलाख
- 4. धारदार

Question Type : MCQ

Question ID : 6203621596

Option 1 ID : 6203626291

Option 2 ID : 6203626289

Option 3 ID : 6203626292

Option 4 ID : 6203626290

Status : Answered

Comprehension:

अगदी लहानपणीच काऊ चिऊची ओळख आपल्याला होते. भाताचा मऊ घास भरवताना आई त्यांचीच नावं घेते. हा चिऊचा हा काऊचा. बोलायला यायला लागलं की पहिली गोष्ट सांगता येते ती, एक होती चिमणी, एक होता कावळा.

हा कावळा मोठा वस्ताद पक्षी आहे. माणसाच्या जवळपास राहूनही तो अंतर राखून असतो. इतर पाखरं बेसावध आढळतील पण कावळा अष्टौप्रहर सावध बुद्धीने वागतो. त्याला फसवून गोत्यात आणणंही जवळजवळ अशक्य गोष्ट आहे.

पोट भरणं ही कावळ्याच्या हिशेबी अगदी सोपी गोष्ट आहे. त्याला काहीही चालतं. अमुक एक वस्तू टाकाऊ आहे, असं त्याला कधी वाटतच नाही. उकिरड्यावर पडलेला उंदीर तो खुषीने उचलून घेऊन जातो. डोक्यावर माशांनी भरलेली पाटी घेऊन गडबडीने चाललेल्या कोळणीच्या पाटीतला मासा वरच्यावर पळवतो.

उघडया खिडकीतून स्वयंपाकघरात शिरून भाकरी पोळी लांबवतो. ही चोरी आहे, ही लाज त्याला बिलकुल नसते.

मनुष्यवस्तीच्या आसपास राहून कावळा लबाडीने अन्न मिळवतो, तसा बाहेर रानात भटकून ही मिळवतो. मिरच्यांच्या पिकात शिरून कोवळ्या मिरच्या खा,

मक्याच्या कणसावर ताव मार, गव्हाच्या लोंब्या ओरबाड, ज्वारीची कणसं ओरबाड असं त्याचं चालू असतं. शिजलेलंच अन्न पाहिजे असा चवचालपणा नाही, वाळलेला शिधाही चालतो. शाकाहारच पाहिजे असा सोवळेपणा नाही, मांसमच्छरही चालतं. ओलं - वाळलं खाऊन तो तृप्त असतो.

जंगलात शिकारीला गेल्यावर ह्या कावळ्यांचा फार उपयोग होतो. वाघासारखं जनावर बाहेर पडलेलं पाहिलं की तीक्ष्ण नजरेचा कावळा आरडाओरडा करतो. जनावराची हालचाल शिकान्याला कळते.

SubQuestion No : 25

Q.25 'अष्टौप्रहर' हा कोणत्या प्रकारचा समास आहे?

Ans

- 1. द्वंद्व
- 2. द्विगु
- 3. बहुव्रीही
- 4. तत्पुरुष

Question Type : MCQ

Question ID : 6203621595

Option 1 ID : 6203626286

Option 2 ID : 6203626285

Option 3 ID : 6203626288

Option 4 ID : 6203626287

Section : English Language

Q.1 Find the part of the given sentence with an incorrect spelling of a word. If there is no misspelt word, choose 'No error'.

- Ans**
- 1. No error
 - 2. assume some sort of collectivisit or
 - 3. It would be a colossal mistake to
 - 4. communistic solution to hunger in the world.

Question Type : MCQ

Question ID : 6203621609

Option 1 ID : 6203626344

Option 2 ID : 6203626342

Option 3 ID : 6203626341

Option 4 ID : 6203626343

Status : Answered

Chosen Option : 3

Q.2 The question below consists of a set of labeled sentences. Out of the four options given, select the most logical order of the sentences to form a coherent paragraph.

P. That is why in Chilika, we see the largest congregation of migratory birds in Asia.

Q. Chilika is a mosaic of habitats.

R. At any point in time, you will get freshwater, brackish water and seawater in the lake in different regions.

S. This is the reason habitat availability is quite wide here.

- Ans**
- 1. RQSP
 - 2. QRSP
 - 3. RPQS
 - 4. PRQS

Question Type : MCQ

Question ID : 6203621613

Option 1 ID : 6203626358

Option 2 ID : 6203626359

Option 3 ID : 6203626357

Option 4 ID : 6203626360

Status : Answered

Chosen Option : 3

Q.3 In the given question, idiom/proverb part of the sentence is underlined. Choose the option that can correctly substitute that part of the sentence making it meaningfully correct. If the idiom/proverb is used correctly, choose 'No correction required' as your answer.

I am interested in hearing actual facts so stop beating the bush around.

- Ans**
- 1. the beat and bush
 - 2. bushing around the beat
 - 3. beating around the bush
 - 4. No correction required

Question Type : **MCQ**

Question ID : **6203621605**

Option 1 ID : **6203626327**

Option 2 ID : **6203626326**

Option 3 ID : **6203626325**

Option 4 ID : **6203626328**

Status : **Answered**

Chosen Option : **4**

Q.4 In the following question, out of the given four alternatives, select the alternative which best expresses the meaning of the Idiom/Phrase.

At the eleventh hour

- Ans**
- 1. At the last moment
 - 2. Come uninvited to an event
 - 3. To be very happy
 - 4. To regret the past decisions

Question Type : **MCQ**

Question ID : **6203621607**

Option 1 ID : **6203626334**

Option 2 ID : **6203626336**

Option 3 ID : **6203626333**

Option 4 ID : **6203626335**

Status : **Answered**

Chosen Option : **3**

Q.5 Rearrange the parts of the sentence in correct order.

Credit card debt

P. debt can be canceled by declaring bankruptcy

Q. medical bills, auto loans, and even gambling

R. but due to a 1976 federal law, discharging student

S. loan debt is much more difficult

Ans 1. RSPQ

2. QPRS

3. PSQR

4. QRSP

Question Type : MCQ

Question ID : 6203621612

Option 1 ID : 6203626354

Option 2 ID : 6203626355

Option 3 ID : 6203626353

Option 4 ID : 6203626356

Status : Answered

Chosen Option : 4

Q.6 In the following question, a sentence has been given in Direct/Indirect speech. Out of the four alternatives suggested, select the one which best expresses the same sentence in Indirect/Direct speech.

He said to me, "We will have relocated the tiger."

Ans 1. He told me that they will relocate the tiger.

2. He told me that they would have relocated the tiger.

3. He told me that they will have relocated the tiger.

4. He told me that we would have relocated the tiger.

Question Type : MCQ

Question ID : 6203621597

Option 1 ID : 6203626295

Option 2 ID : 6203626293

Option 3 ID : 6203626294

Option 4 ID : 6203626296

Status : Answered

Chosen Option : 2

Q.7 In the given question, idiom/proverb part of the sentence is underlined. Choose the option that can correctly substitute that part of the sentence making it meaningfully correct. If the idiom/proverb is used correctly, choose 'No correction required' as your answer.

My opponent did not look very intelligent, but you cannot judge a cover by its book.

- Ans**
- 1. cover the book and judge
 - 2. cannot judge a cover of the book
 - 3. No correction required
 - 4. cannot judge a book by its cover

Question Type : **MCQ**
Question ID : **6203621606**
Option 1 ID : **6203626329**
Option 2 ID : **6203626330**
Option 3 ID : **6203626332**
Option 4 ID : **6203626331**
Status : **Answered**
Chosen Option : **2**

Q.8 Choose the word that can meaningfully substitute the underlined part of the sentence.

I found a place where wild animals were living.

- Ans**
- 1. Imbroglio
 - 2. Lair
 - 3. Flock
 - 4. Kennel

Question Type : **MCQ**
Question ID : **6203621616**
Option 1 ID : **6203626369**
Option 2 ID : **6203626372**
Option 3 ID : **6203626371**
Option 4 ID : **6203626370**
Status : **Answered**
Chosen Option : **1**

Q.9 Read the following sentence and select the option that corrects the misspelt word(s) in the underlined section. If the sentence section is correct, choose 'No correction required' as your answer.

As music becomes more polyphonic the inner parts of the orchestra become more and more emancipated.

- Ans**
- ✓ 1. No correction required
 - ✗ 2. orcestra become more and more emancipated.
 - ✗ 3. orchestara become more and more emancipated.
 - ✗ 4. orchestra become more and more enamipated.

Question Type : **MCQ**
Question ID : **6203621610**
Option 1 ID : **6203626348**
Option 2 ID : **6203626345**
Option 3 ID : **6203626346**
Option 4 ID : **6203626347**
Status : **Answered**
Chosen Option : **3**

Q.10 In the following question, a sentence has been given in Active/Passive voice. Out of the four alternatives suggested, select the one which best expresses the same sentence in Passive/Active voice.

She found the key to the exit.

- Ans**
- ✗ 1. The key to the exit has been found by her.
 - ✗ 2. The key to the exit was founded by her.
 - ✗ 3. The key to the exit was find by her.
 - ✓ 4. The key to the exit was found by her.

Question Type : **MCQ**
Question ID : **6203621600**
Option 1 ID : **6203626305**
Option 2 ID : **6203626306**
Option 3 ID : **6203626307**
Option 4 ID : **6203626308**
Status : **Answered**
Chosen Option : **2**

Q.11 In the following question, a sentence has been given in Direct/Indirect speech. Out of the four alternatives suggested, select the one which best expresses the same sentence in Indirect/Direct speech.

My sister said to me, "Father was calling for you."

- Ans**
- 1. My sister told me that father was calling for me.
 - 2. My sister told me that father had been calling for me.
 - 3. My sister told me that father is calling for me.
 - 4. My sister told me that father has been calling for me.

Question Type : **MCQ**
Question ID : **6203621598**
Option 1 ID : **6203626298**
Option 2 ID : **6203626300**
Option 3 ID : **6203626299**
Option 4 ID : **6203626297**
Status : **Answered**
Chosen Option : **2**

Q.12 Choose the word that can meaningfully substitute the underlined part of the sentence.

He was appointed to settle a dispute between two jury members.

- Ans**
- 1. Arbitrator
 - 2. Arsonist
 - 3. Apostate
 - 4. Actuary

Question Type : **MCQ**
Question ID : **6203621614**
Option 1 ID : **6203626362**
Option 2 ID : **6203626364**
Option 3 ID : **6203626361**
Option 4 ID : **6203626363**
Status : **Answered**
Chosen Option : **1**

Q.13 In the following question, a sentence has been given in Direct/Indirect speech. Out of the four alternatives suggested, select the one which best expresses the same sentence in Indirect/Direct speech.

I told him that he was not scoring good marks in his exams.

Ans  1.

I told him, "You are required to score good marks in your exams."

 2.

I said to him, "You were not scoring good marks in his exams."

 3.

I told him, "You were not scoring good marks in your exams."

 4.

I said to him, "You are not scoring good marks in your exams."

Question Type : **MCQ**

Question ID : **6203621599**

Option 1 ID : **6203626304**

Option 2 ID : **6203626303**

Option 3 ID : **6203626302**


Option 4 ID : **6203626301**


Status : **Answered**


Chosen Option : **2**


Q.14 A sentence has been given with a blank to be filled with an appropriate word. Choose the correct alternative.

Accents do not reflect intelligence, and nor are they related to our _____ in a language.

Ans  1. proficiency

 2. servility

 3. atrocity

 4. gratuity

Question Type : **MCQ**

Question ID : **6203621604**

Option 1 ID : **6203626321**

Option 2 ID : **6203626323**

Option 3 ID : **6203626324**

Option 4 ID : **6203626322**

Status : **Answered**

Chosen Option : **1**

Q.15 Choose the correct antonym of the underlined word from the given options.

A bug crawled across her leg, and she swiped it away.

- Ans
- 1. clumped
 - 2. stayed
 - 3. poked
 - 4. raced

Question Type : MCQ
Question ID : 6203621602
Option 1 ID : 6203626316
Option 2 ID : 6203626313
Option 3 ID : 6203626314
Option 4 ID : 6203626315
Status : Answered
Chosen Option : 1

Q.16 Find the part of the given sentence with an incorrect spelling of a word. If there is no misspelt word, choose 'No error'.

- Ans
- 1. No error
 - 2. they want to understand how AIs think.
 - 3. sceptical, and to proove this
 - 4. Scientists are meticulous and

Question Type : MCQ
Question ID : 6203621608
Option 1 ID : 6203626340
Option 2 ID : 6203626339
Option 3 ID : 6203626338
Option 4 ID : 6203626337
Status : Answered
Chosen Option : 1

Q.17 Choose the correct synonym of the underlined word from the given options.

It was the most incredible food in the world.

- Ans
- 1. unimaginable
 - 2. undeniable
 - 3. plausible
 - 4. pungent

Question Type : MCQ
Question ID : 6203621603
Option 1 ID : 6203626319
Option 2 ID : 6203626317
Option 3 ID : 6203626318
Option 4 ID : 6203626320
Status : Answered
Chosen Option : 1

Q.18 Choose the word that can meaningfully substitute the underlined part of the sentence.

He was sentenced to life imprisonment for killing his wife.

- Ans
- 1. Homicide
 - 2. Filicide
 - 3. Matricide
 - 4. Uxoricide

Question Type : MCQ

Question ID : 6203621615

Option 1 ID : 6203626367

Option 2 ID : 6203626366

Option 3 ID : 6203626368

Option 4 ID : 6203626365

Status : Answered

Chosen Option : 1

Q.19 In the following question, a sentence has been given in Active/Passive voice. Out of the four alternatives suggested, select the one which best expresses the same sentence in Passive/Active voice

The new practice is being adopted by professors in their classrooms.

- Ans
- 1. Professors are adopting the new practice in their classrooms.
 - 2. Professors were adopting the new practice in their classrooms.
 - 3. The new practice has been adopted by professors in their classrooms.
 - 4. Professors have been adopting the new practice in their classrooms.

Question Type : MCQ

Question ID : 6203621601

Option 1 ID : 6203626311

Option 2 ID : 6203626310

Option 3 ID : 6203626312

Option 4 ID : 6203626309

Status : Answered

Chosen Option : 3

Q.20 Rearrange the parts of the sentence in correct order.

The birds can


P. be found year-round in South America, but


Q. some migrate north to Florida and the


R. southern U.S. coastal plains along the Gulf of Mexico

S. and Atlantic Ocean in the spring to breed

Ans  1. PRSQ

 2. PSQR

 3. PQRS

 4. RPSQ

Question Type : **MCQ**

Question ID : **6203621611**

Option 1 ID : **6203626351**

Option 2 ID : **6203626352**

Option 3 ID : **6203626350**

Option 4 ID : **6203626349**

Status : **Answered**

Chosen Option : **3**

Comprehension:

Read the following information carefully and answer the given questions.

Culture is the characteristics and knowledge of a particular group of people, encompassing language, religion, cuisine, social habits, music and arts.

The term "Western culture" has come to define the culture of European countries as well as those that have been heavily influenced by European immigration, such as the United States, according to Khan University. Western culture has its roots in the Classical Period of the Greco-Roman era (the fourth and fifth centuries B.C.) and the rise of Christianity in the 14th century. Other drivers of Western culture include Latin, Celtic, Germanic and Hellenic ethnic and linguistic groups.

Any number of historical events have helped shape Western culture during the past 2,500 years. The fall of Rome, often pegged to A.D. 476, cleared the way for the establishment of a series of often-warring states in Europe, according to Stanford University historian Walter Scheidel, each with their own cultures. The Black Death of the 1300s cut the population of Europe by one-third to one-half, rapidly remaking society. As a result of the plague, writes Ohio State University historian John L. Brooke, Christianity became stronger in Europe, with more focus on apocalyptic themes. Survivors in the working class gained more power, as elites were forced to pay more for scarce labor. And the disruption of trade routes between East and West set off new exploration, and ultimately, the incursion of Europeans into North and South America.

Today, the influences of Western culture can be seen in almost every country in the world.

SubQuestion No : 21

Q.21 The given passage mainly talks about which type of culture?

- Ans
- 1. Eastern culture
 - 2. Latin culture
 - 3. Middle Eastern culture
 - 4. Western culture

Question Type : **MCQ**

Question ID : **6203621618**

Option 1 ID : **6203626376**

Option 2 ID : **6203626375**

Option 3 ID : **6203626373**

Option 4 ID : **6203626374**

Status : **Answered**

Chosen Option : **4**

Comprehension:

Read the following information carefully and answer the given questions.

Culture is the characteristics and knowledge of a particular group of people, encompassing language, religion, cuisine, social habits, music and arts.

The term "Western culture" has come to define the culture of European countries as well as those that have been heavily influenced by European immigration, such as the United States, according to Khan University. Western culture has its roots in the Classical Period of the Greco-Roman era (the fourth and fifth centuries B.C.) and the rise of Christianity in the 14th century. Other drivers of Western culture include Latin, Celtic, Germanic and Hellenic ethnic and linguistic groups.

Any number of historical events have helped shape Western culture during the past 2,500 years. The fall of Rome, often pegged to A.D. 476, cleared the way for the establishment of a series of often-warring states in Europe, according to Stanford University historian Walter Scheidel, each with their own cultures. The Black Death of the 1300s cut the population of Europe by one-third to one-half, rapidly remaking society. As a result of the plague, writes Ohio State University historian John L. Brooke, Christianity became stronger in Europe, with more focus on apocalyptic themes. Survivors in the working class gained more power, as elites were forced to pay more for scarce labor. And the disruption of trade routes between East and West set off new exploration, and ultimately, the incursion of Europeans into North and South America.

Today, the influences of Western culture can be seen in almost every country in the world.

SubQuestion No : 22

Q.22 Which of the following words can meaningfully replace the word 'heavily' in the passage?

- Ans**
- 1. Obviously
 - 2. Wildly
 - 3. Hardly
 - 4. Extensively

Question Type : **MCQ**

Question ID : **6203621621**

Option 1 ID : **6203626387**

Option 2 ID : **6203626385**

Option 3 ID : **6203626386**

Option 4 ID : **6203626388**

Status : **Answered**

Chosen Option : **2**

Comprehension:

Read the following information carefully and answer the given questions.

Culture is the characteristics and knowledge of a particular group of people, encompassing language, religion, cuisine, social habits, music and arts.

The term "Western culture" has come to define the culture of European countries as well as those that have been heavily influenced by European immigration, such as the United States, according to Khan University. Western culture has its roots in the Classical Period of the Greco-Roman era (the fourth and fifth centuries B.C.) and the rise of Christianity in the 14th century. Other drivers of Western culture include Latin, Celtic, Germanic and Hellenic ethnic and linguistic groups.

Any number of historical events have helped shape Western culture during the past 2,500 years. The fall of Rome, often pegged to A.D. 476, cleared the way for the establishment of a series of often-warring states in Europe, according to Stanford University historian Walter Scheidel, each with their own cultures. The Black Death of the 1300s cut the population of Europe by one-third to one-half, rapidly remaking society. As a result of the plague, writes Ohio State University historian John L. Brooke, Christianity became stronger in Europe, with more focus on apocalyptic themes. Survivors in the working class gained more power, as elites were forced to pay more for scarce labor. And the disruption of trade routes between East and West set off new exploration, and ultimately, the incursion of Europeans into North and South America.

Today, the influences of Western culture can be seen in almost every country in the world.

SubQuestion No : 23

Q.23 Which of the following statements can be inferred from the passage?

Ans  1.


Before the fourth and fifth centuries B.C. there was no sign of western culture.

 2.

The incursion of Europeans into North and South America was the result of fall of Rome.

 3.

Christianity became stronger in Europe after the black death plague.

 4. Many linguistic groups were against western culture.

Question Type : **MCQ**

Question ID : **6203621620**

Option 1 ID : **6203626381**

Option 2 ID : **6203626384**

Option 3 ID : **6203626383**

Option 4 ID : **6203626382**

Status : **Answered**

Chosen Option : **1**

Comprehension:

Read the following information carefully and answer the given questions.

Culture is the characteristics and knowledge of a particular group of people, encompassing language, religion, cuisine, social habits, music and arts.

The term "Western culture" has come to define the culture of European countries as well as those that have been heavily influenced by European immigration, such as the United States, according to Khan University. Western culture has its roots in the Classical Period of the Greco-Roman era (the fourth and fifth centuries B.C.) and the rise of Christianity in the 14th century. Other drivers of Western culture include Latin, Celtic, Germanic and Hellenic ethnic and linguistic groups.

Any number of historical events have helped shape Western culture during the past 2,500 years. The fall of Rome, often pegged to A.D. 476, cleared the way for the establishment of a series of often-warring states in Europe, according to Stanford University historian Walter Scheidel, each with their own cultures. The Black Death of the 1300s cut the population of Europe by one-third to one-half, rapidly remaking society. As a result of the plague, writes Ohio State University historian John L. Brooke, Christianity became stronger in Europe, with more focus on apocalyptic themes. Survivors in the working class gained more power, as elites were forced to pay more for scarce labor. And the disruption of trade routes between East and West set off new exploration, and ultimately, the incursion of Europeans into North and South America.

Today, the influences of Western culture can be seen in almost every country in the world.

SubQuestion No : 24

Q.24 Which of the following words is opposite in meaning to the word 'scarce' as used in the passage?

- Ans
- 1. Abundant
 - 2. Sterile
 - 3. Deficient
 - 4. Light

Question Type : MCQ

Question ID : 6203621622

Option 1 ID : 6203626390

Option 2 ID : 6203626391

Option 3 ID : 6203626389

Option 4 ID : 6203626392

Status : Answered

Chosen Option : 3

Comprehension:

Read the following information carefully and answer the given questions.

Culture is the characteristics and knowledge of a particular group of people, encompassing language, religion, cuisine, social habits, music and arts.

The term "Western culture" has come to define the culture of European countries as well as those that have been heavily influenced by European immigration, such as the United States, according to Khan University. Western culture has its roots in the Classical Period of the Greco-Roman era (the fourth and fifth centuries B.C.) and the rise of Christianity in the 14th century. Other drivers of Western culture include Latin, Celtic, Germanic and Hellenic ethnic and linguistic groups.

Any number of historical events have helped shape Western culture during the past 2,500 years. The fall of Rome, often pegged to A.D. 476, cleared the way for the establishment of a series of often-warring states in Europe, according to Stanford University historian Walter Scheidel, each with their own cultures. The Black Death of the 1300s cut the population of Europe by one-third to one-half, rapidly remaking society. As a result of the plague, writes Ohio State University historian John L. Brooke, Christianity became stronger in Europe, with more focus on apocalyptic themes. Survivors in the working class gained more power, as elites were forced to pay more for scarce labor. And the disruption of trade routes between East and West set off new exploration, and ultimately, the incursion of Europeans into North and South America.

Today, the influences of Western culture can be seen in almost every country in the world.

SubQuestion No : 25

Q.25 The historian Walter Scheidel is associated with which university?

- Ans
- 1. Khan University
 - 2. Stanford University
 - 3. Sapienza University of Rome
 - 4. Ohio State University

Question Type : MCQ
Question ID : 6203621619
Option 1 ID : 6203626379
Option 2 ID : 6203626377
Option 3 ID : 6203626380
Option 4 ID : 6203626378
Status : Answered
Chosen Option : 2

Section : General Knowledge

Q.1 महाराष्ट्रात वास्तव्य करणाऱ्या कोणत्याही नागरिकाला महाराष्ट्राच्या विधानसभेची निवडणूक लढवण्यासाठी किमान वय किती आहे?

- Ans
- 1. 21
 - 2. 25
 - 3. 32
 - 4. 28

Question Type : MCQ
Question ID : 6203621647
Option 1 ID : 6203626489
Option 2 ID : 6203626490
Option 3 ID : 6203626492
Option 4 ID : 6203626491
Status : Answered
Chosen Option : 2

Q.2 तोखू इमोंग हा उत्सव खालीलपैकी कोणत्या राज्यात/केंद्रशासित प्रदेशात साजरा केला जातो?

- Ans
- 1. मिझोरम
 - 2. आसाम
 - 3. लडाख
 - 4. नागालँड

Question Type : MCQ

Question ID : 6203621626

Option 1 ID : 6203626407

Option 2 ID : 6203626408

Option 3 ID : 6203626406

Option 4 ID : 6203626405

Status : Answered

Chosen Option : 3

Q.3 महाराष्ट्रातील खालीलपैकी कोणत्या जमातीला भारत सरकारने आदिम जमाती म्हणून अधिसूचित केले नाही?

- Ans
- 1. कातकरी
 - 2. माडिया गोंड
 - 3. वारली
 - 4. कोलाम

Question Type : MCQ

Question ID : 6203621644

Option 1 ID : 6203626478

Option 2 ID : 6203626479

Option 3 ID : 6203626480

Option 4 ID : 6203626477

Status : Answered

Chosen Option : 2

Q.4 भारत सरकार शेतकऱ्यांकडून ज्या दराने गहू आणि भात खरेदी करते, त्या दराला काय म्हणतात?

- Ans
- 1. मंडई मूल्य (Mandi Price)
 - 2. कृषि मूल्य (Farm Price)
 - 3. रास्त किंमत (Fair Price)
 - 4. एम.एस.पी. (MSP)

Question Type : MCQ

Question ID : 6203621627

Option 1 ID : 6203626412

Option 2 ID : 6203626411

Option 3 ID : 6203626410

Option 4 ID : 6203626409

Status : Answered

Chosen Option : 1

Q.5 महाराष्ट्रातील खालीलपैकी कोणत्या संग्रहालयाला 2010 च्या युनेस्को आशिया-पॅसिफिक हेरिटेज पुरस्काराने सन्मानित करण्यात आले?

- Ans
- 1. नागपूर केंद्रीय संग्रहालय
 - 2. कोल्हापूर टाऊनहॉल संग्रहालय
 - 3. छत्रपती शिवाजी वास्तू संग्रहालय
 - 4. डॉ. भाऊ दाजी लाड संग्रहालय

Question Type : MCQ
Question ID : 6203621638
Option 1 ID : 6203626455
Option 2 ID : 6203626453
Option 3 ID : 6203626454
Option 4 ID : 6203626456
Status : Answered
Chosen Option : 3

Q.6 महाराष्ट्रातील कोणत्या विभागात सर्वाधिक खनिज धारण क्षेत्र आढळते?

- Ans
- 1. नाशिक
 - 2. पुणे
 - 3. अमरावती
 - 4. नागपूर

Question Type : MCQ
Question ID : 6203621641
Option 1 ID : 6203626465
Option 2 ID : 6203626466
Option 3 ID : 6203626467
Option 4 ID : 6203626468
Status : Answered
Chosen Option : 4

Q.7 कवी परमानंद यांची खालीलपैकी कोणती साहित्य कृती आहे?

- Ans
- 1. भावार्थ-रामायण
 - 2. भावार्थ-दीपिका
 - 3. बुधभूषणम
 - 4. शिवभारत

Question Type : MCQ

Question ID : 6203621639

Option 1 ID : 6203626460

Option 2 ID : 6203626459

Option 3 ID : 6203626457

Option 4 ID : 6203626458

Status : Answered

Chosen Option : 1

Q.8 भारतीय राष्ट्रीय सैन्य किंवा आझाद हिंद फौजेचे मुख्य शिल्पकार कोण होते?

- Ans
- 1. सुभाषचंद्र बोस
 - 2. सी. राजगोपालचारी
 - 3. सरदार वल्लभभाई पटेल
 - 4. जवाहरलाल नेहरू

Question Type : MCQ

Question ID : 6203621624

Option 1 ID : 6203626397

Option 2 ID : 6203626400

Option 3 ID : 6203626399

Option 4 ID : 6203626398

Status : Answered

Chosen Option : 1

Q.9 1857 च्या स्वातंत्र्यलढ्यात सहभागी झालेले चिमासाहेब महाराष्ट्रातील खालीलपैकी कोणत्या जिल्ह्यातील होते?

- Ans
- 1. अहमदनगर
 - 2. सातारा
 - 3. कोल्हापूर
 - 4. नाशिक

Question Type : MCQ

Question ID : 6203621636

Option 1 ID : 6203626448

Option 2 ID : 6203626445

Option 3 ID : 6203626446

Option 4 ID : 6203626447

Status : Answered

Chosen Option : 2

Q.10 महाराष्ट्राच्या एकूण भौगोलिक क्षेत्रापैकी गोदावरी खोऱ्याने जवळपास _____ भाग व्यापला आहे.

- Ans
- 1. 75.8 टक्के
 - 2. 35.5 टक्के
 - 3. 20.4 टक्के
 - 4. 49.7 टक्के

Question Type : MCQ

Question ID : 6203621642

Option 1 ID : 6203626472

Option 2 ID : 6203626470

Option 3 ID : 6203626469

Option 4 ID : 6203626471

Status : Answered

Chosen Option : 1

Q.11 डॉ. बी. आर. आंबेडकर यांनी मंदिर प्रवेशाची चळवळ कोणत्या वर्षी सुरू केली?

- Ans
- 1. 1919
 - 2. 1931
 - 3. 1927
 - 4. 1923

Question Type : MCQ

Question ID : 6203621623

Option 1 ID : 6203626393

Option 2 ID : 6203626396

Option 3 ID : 6203626395

Option 4 ID : 6203626394

Status : Answered

Chosen Option : 4

Q.12 2021 च्या केंद्रीय अर्थसंकल्पानुसार, _____ पर्यंत मोठ्या मार्गाचे 100% विद्युतीकरण पूर्ण केले जाईल.

- Ans
- 1. 2024
 - 2. 2025
 - 3. 2023
 - 4. 2022

Question Type : MCQ

Question ID : 6203621628

Option 1 ID : 6203626415

Option 2 ID : 6203626416

Option 3 ID : 6203626414

Option 4 ID : 6203626413

Status : Answered

Chosen Option : 2

Q.13 सातवाहन वंशाचे संस्थापक खालीलपैकी कोण होते?

- Ans
- 1. शिवस्वती
 - 2. सातकर्णी - पहिले
 - 3. सिमुक
 - 4. कान्हा

Question Type : MCQ
Question ID : 6203621633
Option 1 ID : 6203626435
Option 2 ID : 6203626436
Option 3 ID : 6203626433
Option 4 ID : 6203626434
Status : Answered
Chosen Option : 3

Q.14 गुरु वेंपती चिन्ना सत्यम (VempatiChinna Satyam) _____ या क्षेत्रातील संगीत गुरु होते.

- Ans
- 1. कथक
 - 2. कुचिपुडी
 - 3. कथकली
 - 4. भरतनाट्यम

Question Type : MCQ
Question ID : 6203621625
Option 1 ID : 6203626404
Option 2 ID : 6203626402
Option 3 ID : 6203626401
Option 4 ID : 6203626403
Status : Answered
Chosen Option : 3

Q.15 राज्य पुनर्रचना आयोगाची स्थापना खालीलपैकी कोणत्या वर्षी झाली?

- Ans
- 1. नोव्हेंबर 1955
 - 2. नोव्हेंबर 1954
 - 3. डिसेंबर 1952
 - 4. डिसेंबर 1953

Question Type : MCQ
Question ID : 6203621632
Option 1 ID : 6203626432
Option 2 ID : 6203626431
Option 3 ID : 6203626429
Option 4 ID : 6203626430
Status : Answered
Chosen Option : 2

Q.16 भारताच्या 2011 च्या जनगणनेनुसार, महाराष्ट्रात सर्वात जास्त साक्षरता दर कोणत्या जिल्ह्याचा आहे?

- Ans
- 1. ठाणे
 - 2. पुणे
 - 3. नंदुरबार
 - 4. मुंबई उपनगर

Question Type : MCQ
Question ID : 6203621643
Option 1 ID : 6203626474
Option 2 ID : 6203626475
Option 3 ID : 6203626476
Option 4 ID : 6203626473
Status : Answered
Chosen Option : 2

Q.17 खालीलपैकी कोणत्या काळाला मराठी भाषा आणि साहित्याचा सुवर्णकाळ मानला जातो?

- Ans
- 1. सातवाहन काळ
 - 2. वाकाटक काळ
 - 3. यादव काळ
 - 4. राष्ट्रकुट काळ

Question Type : MCQ
Question ID : 6203621634
Option 1 ID : 6203626437
Option 2 ID : 6203626438
Option 3 ID : 6203626439
Option 4 ID : 6203626440
Status : Answered
Chosen Option : 4

Q.18 Who among the following founded Kesari newspaper?

- Ans
- 1. Lala Lajpat Rai
 - 2. Bipin Chandra Pal
 - 3. Gopal Krishna Gokhale
 - 4. Bal Gangadhar Tilak

Question Type : MCQ
Question ID : 6203621635
Option 1 ID : 6203626442
Option 2 ID : 6203626443
Option 3 ID : 6203626444
Option 4 ID : 6203626441
Status : Answered
Chosen Option : 4

Q.19 वुचेरेरिया बॅक्रोकटी हे _____ साठी कारणीभूत ठरतात.

- Ans
- ✗ 1. अमिबाजन्य विकार
 - ✓ 2. हत्तीरोग (फिलेरियासिस)
 - ✗ 3. शीतज्वर
 - ✗ 4. डेंगू ज्वर

Question Type : MCQ
Question ID : 6203621630
Option 1 ID : 6203626421
Option 2 ID : 6203626422
Option 3 ID : 6203626424
Option 4 ID : 6203626423
Status : Answered
Chosen Option : 2

Q.20 खालीलपैकी कोणत्या मराठी संताने 'भावार्थ-दीपिका' लिहिली?

- Ans
- ✗ 1. संत तुकाराम
 - ✗ 2. संत नामदेव
 - ✗ 3. संत एकनाथ
 - ✓ 4. संत ज्ञानेश्वर

Question Type : MCQ
Question ID : 6203621637
Option 1 ID : 6203626451
Option 2 ID : 6203626452
Option 3 ID : 6203626450
Option 4 ID : 6203626449
Status : Answered
Chosen Option : 4

Q.21 सभापतीच्या पदभाराची (institution of the Speaker) वैशिष्ट्ये आणि भारतीय राज्यघटनेतील त्याची/तिची भूमिका _____ च्या राज्यघटनेतून घेण्यात आली आहेत.

- Ans
- 1. यू.एस.ए.
 - 2. ब्रिटन
 - 3. जर्मनी
 - 4. आयर्लंड

Question Type : MCQ
Question ID : 6203621631
Option 1 ID : 6203626425
Option 2 ID : 6203626426
Option 3 ID : 6203626427
Option 4 ID : 6203626428
Status : Answered
Chosen Option : 4

Q.22 विधानसभेचे कामकाज _____ च्या अध्यक्षतेखाली आणि मार्गदर्शनाखाली चालते.

- Ans
- 1. मुख्यमंत्री
 - 2. सभापती
 - 3. अध्यक्ष
 - 4. राज्यपाल

Question Type : MCQ
Question ID : 6203621645
Option 1 ID : 6203626483
Option 2 ID : 6203626482
Option 3 ID : 6203626484
Option 4 ID : 6203626481
Status : Answered
Chosen Option : 1

Q.23 महाराष्ट्रात, 2020-21 साठी प्राधान्य क्षेत्रासाठी वार्षिक पत योजनेत 'कृषी आणि संलग्न व्यवहार' क्षेत्राचा वाटा _____ टक्के आहे.

- Ans
- 1. 32.4
 - 2. 28.9
 - 3. 19.7
 - 4. 38.6

Question Type : MCQ
Question ID : 6203621640
Option 1 ID : 6203626464
Option 2 ID : 6203626463
Option 3 ID : 6203626461
Option 4 ID : 6203626462
Status : Answered
Chosen Option : 2

Q.24 पुरामुळे दरवर्षी भरणारे नवे जलोढ खालीलपैकी कोणते आहे?

- Ans
- ✓ 1. खादर
 - ✗ 2. कंकड
 - ✗ 3. भाभर
 - ✗ 4. बांगर

Question Type : MCQ
Question ID : 6203621629
Option 1 ID : 6203626417
Option 2 ID : 6203626420
Option 3 ID : 6203626419
Option 4 ID : 6203626418
Status : Answered
Chosen Option : 1

Q.25 महाराष्ट्र राज्यातील जिल्हा परिषदांची एकूण संख्या _____ आहे.

- Ans
- ✗ 1. 28
 - ✗ 2. 36
 - ✓ 3. 34
 - ✗ 4. 39

Question Type : MCQ
Question ID : 6203621646
Option 1 ID : 6203626485
Option 2 ID : 6203626487
Option 3 ID : 6203626486
Option 4 ID : 6203626488
Status : Answered
Chosen Option : 4

Q.1 P, Q, R, S आणि T हे पाच नर्तक/नर्तकी आहेत, त्यापैकी प्रत्येकाला एका विशिष्ट दिवशी कार्यक्रम सादर करायचा आहे, पण याच क्रमाने नाही. R ला शेवटच्या दिवशीही कार्यक्रम करायचा नाही आणि पहिल्या दिवशीही कार्यक्रम करायचा नाही. S नंतर तीन नर्तकांनी/नर्तकींनी कार्यक्रम केला. जर P हा Q नंतर कार्यक्रम करणार असेल तर शेवटचा कार्यक्रम कोण करेल?

- Ans
- 1. S
 - 2. T
 - 3. P
 - 4. Q

Question Type : MCQ
Question ID : 6203621651
Option 1 ID : 6203626505
Option 2 ID : 6203626506
Option 3 ID : 6203626507
Option 4 ID : 6203626508
Status : Answered
Chosen Option : 4

Q.2 अर्थपूर्ण मालिका बनवण्यासाठी रिकाम्या जागी येणारा योग्य पर्याय निवडा.

R _ P T Q R S _ T Q R S _ T Q _ S P T _

- Ans
- 1. SRRPP
 - 2. SQRPT
 - 3. SRPTP
 - 4. SPPRQ

Question Type : MCQ
Question ID : 6203621657
Option 1 ID : 6203626531
Option 2 ID : 6203626532
Option 3 ID : 6203626529
Option 4 ID : 6203626530
Status : Answered
Chosen Option : 2

Q.3 Y हे X च्या पूर्वेला आहे, जे Z च्या उत्तरेला आहे. जर R हे Z च्या दक्षिणेला असेल, तर R हे Y च्या कोणत्या दिशेला आहे?

- Ans
- 1. ईशान्य
 - 2. वायव्य
 - 3. आग्नेय
 - 4. नैऋत्य

Question Type : MCQ
Question ID : 6203621664
Option 1 ID : 6203626559
Option 2 ID : 6203626557
Option 3 ID : 6203626558
Option 4 ID : 6203626560
Status : Answered
Chosen Option : 3

Q.4 जर इंग्रजी वर्णमालेच्या प्रत्येक अक्षराला Z पासून एका विषम संख्येचे मूल्य दिले उदा. Z = 1, Y = 3 अशाप्रकारे, तर 'TUCKER' चा कोड काय असेल?

- Ans
- 1. 1311521935
 - 2. 3941521935
 - 3. 131447334317
 - 4. 131147314317

Question Type : MCQ
Question ID : 6203621660
Option 1 ID : 6203626541
Option 2 ID : 6203626543
Option 3 ID : 6203626544
Option 4 ID : 6203626542
Status : Answered
Chosen Option : 1

Q.5 खाली एक प्रश्न दिलेला आहे आणि त्यानंतर विधान I आणि विधान II दिलेली आहेत. प्रश्नाचे उत्तर देण्यासाठी दिलेल्या विधानांमधील डेटा पुरेसा आहे का हे तुम्हाला ठरवायचे आहे.

कोंटिल्यचे सारीकाशी काय नाते आहे?

I. कोंटिल्य हे सारीकाच्या आईच्या बहिणीच्या भाचीचे वडील आहेत.

II. कोंटिल्य हा सारीकाच्या वडीलांच्या भावाच्या बायकोचा मुलगा आहे.

Ans

- ✓ 1. केवळ विधान II पुरेसे आहे.
- ✗ 2. केवळ विधान I पुरेसे आहे.
- ✗ 3. केवळ विधान I किंवा II पुरेसे आहे.
- ✗ 4. विधान I आणि II दोन्ही आवश्यक आहेत.

Question Type : MCQ

Question ID : 6203621666

Option 1 ID : 6203626565

Option 2 ID : 6203626566

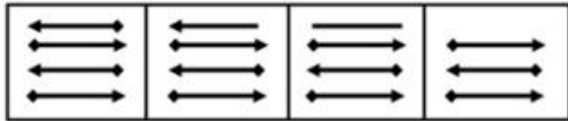
Option 3 ID : 6203626567

Option 4 ID : 6203626568

Status : Answered

Chosen Option : 3

Q.6 Select the figure that will come next in the following series.

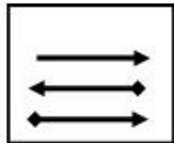


Ans

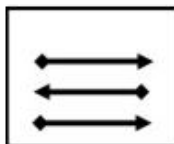
✗ 1.



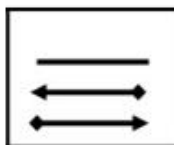
✓ 2.



✗ 3.



✗ 4.



Question Type : MCQ

Question ID : 6203621667

Option 1 ID : 6203626569

Option 2 ID : 6203626571

Option 3 ID : 6203626570

Option 4 ID : 6203626572

Status : Answered

Chosen Option : 2

Q.7 खालील प्रश्नात तीन विधाने आणि त्यानंतर I, II व III हे तीन निष्कर्ष दिलेले आहेत. ही विधाने सामान्यतः जात तथ्यांपेक्षा भिन्न असली तरीही ती सत्य मानून घ्या आणि सामान्यतः जात तथ्यांकडे दुर्लक्ष करून दिलेल्या विधानांपैकी कोणते निष्कर्ष तार्किकरित्या अनुसरण करतात ते शोधा.

विधाने:

काही भागात मोबाईल आहेत.

सर्व व्यक्ती मोबाईल आहेत.

काही मोबाईल जागा आहेत.

निष्कर्ष:

I. काही भाग जागा असण्याची शक्यता नाही.

II. सर्व व्यक्ती भाग असण्याची शक्यता आहे.

III. कोणतीही व्यक्ती जागा नाही.

Ans

✗ 1. कोणताही अनुसरण करत नाही

✗ 2. फक्त I अनुसरण करतो

✗ 3. फक्त I आणि II अनुसरण करतो

✓ 4. फक्त II अनुसरण करतो

Question Type : MCQ

Question ID : 6203621663

Option 1 ID : 6203626556

Option 2 ID : 6203626553

Option 3 ID : 6203626555

Option 4 ID : 6203626554

Status : Answered

Chosen Option : 1

Q.8 एका मुलाला खेळातील वेगवेगळ्या आकाराचे पाच ठोकळे आकाराच्या उतरत्या क्रमाने खालून वर एकावर एक असे रचयला सांगितले. हे ठोकळे पांढऱ्या काळ्या, निळ्या, जांभळ्या आणि पिवळ्या अशा वेगवेगळ्या रंगांचे आहेत. मुलाने तळाशी काळ्या रंगाचा ठोकळा आणि पिवळ्या ठोकळ्याच्या वर पांढरा ठोकळा, निळा ठोकळा सर्वात वर नाही अशी रचना केली. सर्वात लहान ठोकळा कोणता आहे?

Ans

✗ 1. पांढरा

✓ 2. एकतर जांभळा किंवा पांढरा

✗ 3. पिवळा

✗ 4. जांभळा

Question Type : MCQ

Question ID : 6203621662

Option 1 ID : 6203626550

Option 2 ID : 6203626551

Option 3 ID : 6203626552

Option 4 ID : 6203626549

Status : Answered

Chosen Option : 4

Q.9 A, B, C, D, E, आणि F या वेगवेगळ्या उंचीच्या सहा व्यक्ती आहेत. A हा D पेक्षा उंच आहे पण F पेक्षा बुटका आहे. C हा E पेक्षा बुटका आहे आणि B पेक्षा उंच आहे, जो F पेक्षा उंच आहे. तर यातील सर्वात बुटका कोण आहे?

- Ans
- 1. B
 - 2. A
 - 3. D
 - 4. C

Question Type : MCQ

Question ID : 6203621656

Option 1 ID : 6203626526

Option 2 ID : 6203626525

Option 3 ID : 6203626528

Option 4 ID : 6203626527

Status : Answered

Chosen Option : 3

Q.10 खाली तीन विधाने आणि त्यानंतर I, II आणि III हे तीन निष्कर्ष दिलेले आहेत. तुम्हाला ही विधाने सत्य मानावी लागतील, जरी ती सामान्यतः जात तथ्यांपेक्षा भिन्न वाटत असली तरीही. दिलेल्या विधानापैकी कोणते निष्कर्ष तात्काळ दृष्ट्या पालन करतात ते ठरवा.

विधाने:

सर्व पाईप्स पाने आहेत.

सर्व पाईप्स खेळ आहेत.

सर्व गरुड खेळ आहेत.

निष्कर्ष:

I. कोणतेही पान खेळ नाही.

II. काही पाने खेळ आहेत.

III. काही पाने गरुड असणे शक्य आहे.

- Ans
- 1. एकतर I किंवा II पालन करते
 - 2. केवळ II पालन करते
 - 3. केवळ II आणि III पालन करतात
 - 4. केवळ III पालन करते

Question Type : MCQ

Question ID : 6203621653

Option 1 ID : 6203626515

Option 2 ID : 6203626513

Option 3 ID : 6203626516

Option 4 ID : 6203626514

Status : Answered

Chosen Option : 3

Q.11 खालील माहितीचा काळजीपूर्वक अभ्यास करा आणि खाली दिलेल्या प्रश्नाचे उत्तर द्या.

विधाने:

$$D < I \leq N, E > T, D = P > T$$

निष्कर्ष:

1. $D \geq E$

2. $T < D$

Ans

✓ 1. केवळ 2 पालन करते

✗ 2. न 1 ना ही 2 पालन करत नाही

✗ 3. 1 आणि 2 दोन्ही पालन करतात

✗ 4. केवळ 1 पालन करते

Question Type : MCQ

Question ID : 6203621654

Option 1 ID : 6203626518

Option 2 ID : 6203626520

Option 3 ID : 6203626519

Option 4 ID : 6203626517

Status : Answered

Chosen Option : 3

Q.12 1 एप्रिलला सोमवार होता, तर त्याच वर्षी 25 डिसेंबरला कोणता वार असेल?

Ans

✗ 1. गुरुवार

✗ 2. शुक्रवार

✓ 3. बुधवार

✗ 4. मंगळवार

Question Type : MCQ

Question ID : 6203621659

Option 1 ID : 6203626539

Option 2 ID : 6203626540

Option 3 ID : 6203626538

Option 4 ID : 6203626537

Status : Answered

Chosen Option : 3

Q.13 अक्षरांच्या जोड्यांमध्ये जो सहसंबंध आहे, तोच सहसंबंध असलेला पर्याय निवडा

gHHgh : GhHgH :: dWWdd : ?

- Ans
- 1. DWwDD
 - 2. DWwDD
 - 3. DWwDD
 - 4. DWwDD

Question Type : MCQ

Question ID : 6203621658

Option 1 ID : 6203626536

Option 2 ID : 6203626534

Option 3 ID : 6203626533

Option 4 ID : 6203626535

Status : Answered

Chosen Option : 2

Q.14 खाली दोन विधाने आणि त्यानंतर I आणि II हे दोन निष्कर्ष दिलेले आहेत. तुम्हाला ही विधाने सत्य मानावी लागतील, जरी ती सामान्यतः जात तथ्यांपेक्षा भिन्न वाटत असली तरीही. दिलेल्या विधानांपैकी कोणते निष्कर्ष तार्किकदृष्ट्या पालन करतात ते ठरवा.

विधाने:

सर्व ऑर्किड्स फुले असतात.

सर्व ऑर्किड्स सुंदर असतात.

निष्कर्ष

I. काही फुले सुंदर असतात.

II. सर्व सुंदर गोष्टी फुले असतात.

- Ans
- 1. न I ना ही II पालन करते
 - 2. I आणि II दोन्ही पालन करतात
 - 3. केवळ II पालन करते
 - 4. केवळ I पालन करते

Question Type : MCQ

Question ID : 6203621652

Option 1 ID : 6203626511

Option 2 ID : 6203626512

Option 3 ID : 6203626510

Option 4 ID : 6203626509

Status : Answered

Chosen Option : 4

Q.15 खाली दिलेल्या तक्त्यात एका कंपनीतील विविध सेल्समननी केलेली विक्री आणि त्यांना मिळणारे संबंधित कमिशन दाखवले आहे. (आकडे लाखांमध्ये)

सेल्समन	एकूण विक्री	कमिशन
P	24	7%
Q	27	19%
R	29	13%
S	37	11%

Q ला मिळालेले कमिशन R ला मिळालेल्या कमिशनच्या किती टक्के आहे?(अंदाजे)

- Ans
- ✗ 1. 135%
- ✗ 2. 138%
- ✓ 3. 136%
- ✗ 4. 145%

Question Type : MCQ

Question ID : 6203621672

Option 1 ID : 6203626589

Option 2 ID : 6203626591

Option 3 ID : 6203626590

Option 4 ID : 6203626592

Status : Answered

Chosen Option : 3

Q.16 एका गोलमेज परिषदेत सहा व्यक्ती एका टेबलाच्या केंद्राकडे तोंड करून बसलेले आहेत. त्यांची नावे आहेत अँडी, बाँब, चार्ल्स, डग्लस, एलेना आणि फ्रेड. बाँब हा चार्ल्स आणि एलेनाच्या मध्ये आणि अँडीच्या समोर बसलेला आहे. डग्लस एलेनाच्या डावीकडे बसलेला आहे. डग्लसच्या डाव्या बाजूला बसलेली तिसरी व्यक्ती कोण आहे?

- Ans
- ✗ 1. बाँब
- ✗ 2. अँडी
- ✗ 3. फ्रेड
- ✓ 4. चार्ल्स

Question Type : MCQ

Question ID : 6203621648

Option 1 ID : 6203626494

Option 2 ID : 6203626493

Option 3 ID : 6203626496

Option 4 ID : 6203626495

Status : Answered

Chosen Option : 3

Q.17 If in a certain code 'RETAIN' is coded as 'ZRMIVG' then how will 'MARKET' be coded as?

- Ans
- 1. PGVZNI
 - 2. GPVZIN
 - 3. PVGNZI
 - 4. GVPIZN

Question Type : MCQ
Question ID : 6203621661
Option 1 ID : 6203626546
Option 2 ID : 6203626547
Option 3 ID : 6203626545
Option 4 ID : 6203626548
Status : Answered
Chosen Option : 2

Q.18 A, B, C, D, आणि E या पाच पोलीस अधिकाऱ्यांना DGP (डीजीपी), IGP (आयजीपी), DCP (डीसीपी), ACP (एसीपी) आणि PI (पीआय) या पदांवर बढती मिळाली आहे, पण क्रम असाच असेल असे नाही. DGP (डीजीपी), IGP(आयजीपी), DCP(डीसीपी), ACP (एसीपी) आणि PI (पीआय) ही उतरत्या क्रमातील पदे आहेत आणि PI (पीआय) हे सर्वांत खालचे पद आहे. C हा E चा जवळचा वरिष्ठ आहे. A ला सर्वोच्च पदावर बढती मिळाली आहे. केवळ दोन व्यक्ती B ला कनिष्ठ आहेत. तर PI (पीआय) पदावर कोणाला बढती मिळाली आहे?

- Ans
- 1. E
 - 2. C
 - 3. D
 - 4. A

Question Type : MCQ
Question ID : 6203621650
Option 1 ID : 6203626502
Option 2 ID : 6203626501
Option 3 ID : 6203626503
Option 4 ID : 6203626504
Status : Answered
Chosen Option : 1

Q.19 खालील प्रश्नात, दिलेल्या मालिकेतील गाळलेला क्रमांक शोधा.

150, 280, 542, 1068, 2122, ?

- Ans
- 1. 4233
 - 2. 4232
 - 3. 4244
 - 4. 4224

Question Type : MCQ
Question ID : 6203621668
Option 1 ID : 6203626574
Option 2 ID : 6203626576
Option 3 ID : 6203626575
Option 4 ID : 6203626573
Status : Answered
Chosen Option : 3

Q.20 एका छायाचित्रातील पुरुषाकडे बोट दाखवून एक स्त्री म्हणाली, "याच्या भावाचे वडील माझ्या मुलाच्या आईच्या आईचा नवरा आहे" तर स्त्रीचे छायाचित्रातील पुरुषाशी काय नाते असेल?

Ans 1. आत्या/मामी/मावशी/काकू

2. आई

3. बहीण

4. बायको

Question Type : MCQ

Question ID : 6203621665

Option 1 ID : 6203626563

Option 2 ID : 6203626561

Option 3 ID : 6203626562

Option 4 ID : 6203626564

Status : Answered

Chosen Option : 1

Q.21 खालील समीकरण संतुलित होण्यासाठी चिन्हांचा अनुक्रमे संच दाखवणारा पर्याय निवडा.

$$780 _ _ 124 _ _ 352 _ _ 12 = 316$$

Ans 1. -, -, +

2. X, +, +

3. ÷, X, +

4. -, +, X

Question Type : MCQ

Question ID : 6203621670

Option 1 ID : 6203626581

Option 2 ID : 6203626583

Option 3 ID : 6203626582

Option 4 ID : 6203626584

Status : Answered

Chosen Option : 1

Q.22 जर $83 * 7 @ 16 \% 2 = 82$ आणि $68 * 7 @ 18 \% 3 = 69$ असेल तर $12 * A @ 10 \% 2 = 7$ या समीकरणात 'A' चे मूल्य काय असेल?

Ans 1. 1.5

2. 2.5

3. 0

4. 1

Question Type : MCQ

Question ID : 6203621669

Option 1 ID : 6203626577

Option 2 ID : 6203626579

Option 3 ID : 6203626580

Option 4 ID : 6203626578

Status : Answered

Chosen Option : 4

Q.23 A, B, C, D आणि E ही पाच मुले एका ओळीत उत्तर दिशेला तोंड करून बसली आहेत, पण त्यांचा क्रम हा दिल्याप्रमाणे असेलच असे नाही. A हा B आणि D यांच्या मध्यभागी बसलेला आहे. तर C हा D आणि E यांच्या मध्यभागी बसलेला आहे. तर ओळीच्या बरोबर मध्यभागी कोण बसलेले आहे?

- Ans
- ✓ 1. D
 - ✗ 2. A
 - ✗ 3. C
 - ✗ 4. B

Question Type : MCQ

Question ID : 6203621649

Option 1 ID : 6203626499

Option 2 ID : 6203626497

Option 3 ID : 6203626498

Option 4 ID : 6203626500

Status : Answered

Chosen Option : 1

Q.24 खालील माहितीचा काळजीपूर्वक अभ्यास करा आणि खाली दिलेल्या प्रश्नाचे उत्तर द्या.

विधाने:

$$R = B = K, R = J > P, Q = P$$

निष्कर्ष:

1. $Q < B$

2. $K > P$

- Ans
- ✗ 1. न 1 ना ही 2 पालन करत नाही
 - ✗ 2. केवळ 2 पालन करते
 - ✗ 3. केवळ 1 पालन करते
 - ✓ 4. 1 आणि 2 दोन्ही पालन करतात

Question Type : MCQ

Question ID : 6203621655

Option 1 ID : 6203626524

Option 2 ID : 6203626522

Option 3 ID : 6203626521

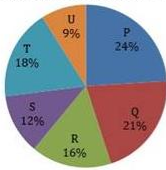
Option 4 ID : 6203626523

Status : Answered

Chosen Option : 2

Q.25 The given pie chart shows the number of students in six different colleges P, Q, R, S, T and U.

Total number of students = 2400



If the total number of boys and girls studying in all the colleges together are in the ratio of 2 : 1 and the total number of girls studying in college Q, S and U together forms 40% of all the girls in six colleges, then what is the total number of boys studying in colleges P, R and T together?

- Ans**
- 1. 840
 - 2. 715
 - 3. 912
 - 4. 1020

Question Type : **MCQ**

Question ID : **6203621671**

Option 1 ID : **6203626585**

Option 2 ID : **6203626588**

Option 3 ID : **6203626586**

Option 4 ID : **6203626587**

Status : **Answered**

Chosen Option : **2**



Maharashtra Housing and Area Development Authority-2021
महाराष्ट्र गृहनिर्माण व क्षेत्रविकास प्राधिकरण-२०२१

Participant ID	[REDACTED]
Participant Name	[REDACTED]
Test Center Name	[REDACTED]
Test Date	31/01/2022
Test Time	4:00 PM - 6:00 PM
Subject	Cluster 1

Section : Technical

Q.1 Which of the following lateral earth pressure state exists when the movement of the wall is such that soil tends to compress horizontally?

- Ans
- 1. At-rest pressure
 - 2. Active pressure
 - 3. Passive pressure
 - 4. Before-rest pressure

Question Type : MCQ
Question ID : 62036219
Option 1 ID : 62036274
Option 2 ID : 62036275
Option 3 ID : 62036276
Option 4 ID : 62036273
Status : Answered
Chosen Option : 3

Q.2 While selecting the site for intake works, the site

- Ans
- 1. Should not be at the zone of suspected water pollution.
 - 2. Should be selected at the zone of heavy currents to avoid structure damage.
 - 3. Should be far from treatment plant.
 - 4. Should be on the curve of river.

Question Type : MCQ
Question ID : 62036245
Option 1 ID : 620362179
Option 2 ID : 620362180
Option 3 ID : 620362178
Option 4 ID : 620362177
Status : Answered
Chosen Option : 1

Q.3 How many strain components are required to describe the state of strain?

- Ans
- 1. Two
 - 2. Three
 - 3. Four
 - 4. Never pre-defined

Question Type : **MCQ**

Question ID : **6203623**

Option 1 ID : **6203629**

Option 2 ID : **62036210**

Option 3 ID : **62036211**

Option 4 ID : **62036212**

Status : **Answered**

Chosen Option : **2**

Q.4 _____ is a malware that, when executed, tries to replicate itself into other executable code, when it succeeds the code is said to be infected.

- Ans
- 1. Spam
 - 2. Honey pot
 - 3. Virus
 - 4. Utility

Question Type : **MCQ**

Question ID : **62036248**

Option 1 ID : **620362189**

Option 2 ID : **620362191**

Option 3 ID : **620362192**

Option 4 ID : **620362190**

Status : **Answered**

Chosen Option : **3**

Q.5 Which among the following is done just before disposal in the sequence of secondary treatment of sewage?

- Ans
- 1. Digestion tank
 - 2. Chlorination
 - 3. Trickling filter
 - 4. Secondary sedimentation tank

Question Type : **MCQ**

Question ID : **62036243**

Option 1 ID : **620362172**

Option 2 ID : **620362169**

Option 3 ID : **620362170**

Option 4 ID : **620362171**

Status : **Answered**

Chosen Option : **1**

Q.6 Which is a type of shallow foundation?

- Ans 1. Isolated foundation
 2. Pile foundation
 3. Caissons foundations
 4. Pier foundation

Question Type : **MCQ**
Question ID : **62036223**
Option 1 ID : **62036292**
Option 2 ID : **62036290**
Option 3 ID : **62036291**
Option 4 ID : **62036289**
Status : **Answered**
Chosen Option : **2**

Q.7 What is the maximum value of effective slenderness ratio for a members always under tension other than pretensioned members?

- Ans 1. 400
 2. 180
 3. No limit
 4. 350

Question Type : **MCQ**
Question ID : **62036211**
Option 1 ID : **62036243**
Option 2 ID : **62036241**
Option 3 ID : **62036244**
Option 4 ID : **62036242**
Status : **Answered**
Chosen Option : **4**

Q.8 In which of the following mechanism shear is NOT transferred between two adjacent planes in a R.C. beam?

- Ans 1.
Horizontal component in the compression reinforcement of cracked portion of concrete
 2.
Vertical component of the interface shear or aggregate interlock force
 3. Shear resistance of the un-cracked portion of concrete.
 4.
Dowel force in the tension reinforcement due to dowel action.

Question Type : **MCQ**
Question ID : **6203629**
Option 1 ID : **62036236**
Option 2 ID : **62036235**
Option 3 ID : **62036233**
Option 4 ID : **62036234**
Status : **Answered**
Chosen Option : **3**

Q.9 Which among the following failure of slopes is also known as plane or block failure?

- Ans
- 1. Translational failure
 - 2. Wedge failure
 - 3. Miscellaneous failure
 - 4. Rotational failure

Question Type : MCQ

Question ID : 62036221

Option 1 ID : 62036283

Option 2 ID : 62036284

Option 3 ID : 62036281

Option 4 ID : 62036282

Status : Answered

Chosen Option : 2

Q.10 What should be the action by the assistant if the surveyor signals "left arm up and moved to the left"?

- Ans
- 1. Move considerably to the left
 - 2. Plumb the rod to the right
 - 3. Plumb the rod to the left
 - 4. Continue to move to the left

Question Type : MCQ

Question ID : 62036236

Option 1 ID : 620362144

Option 2 ID : 620362142

Option 3 ID : 620362141

Option 4 ID : 620362143

Status : Answered

Chosen Option : 4

Q.11 Which among the following is the advantage of bolted connections over riveted connections?

- Ans
- 1. Connections can be made quickly and structure can be put to use immediately.
 - 2. Rigidity of joints is increased with less loose fit, resulting into minimum deflections.
 - 3. Tensile strength is enhanced considerably due to less stress concentrations.
 - 4. No effect of vibration on nuts getting loosen and safety of the structures.

Question Type : MCQ

Question ID : 62036215

Option 1 ID : 62036258

Option 2 ID : 62036260

Option 3 ID : 62036259

Option 4 ID : 62036257

Status : Answered

Chosen Option : 1

Q.12 The soils which have liquid limit less than 35 and represented by L, is called as:

- Ans
- 1. Clays of low compressibility
 - 2. Gravel and sand of low compressibility
 - 3. Silts of low compressibility
 - 4. Silts and clays of low compressibility

Question Type : **MCQ**
Question ID : **62036217**
Option 1 ID : **62036266**
Option 2 ID : **62036267**
Option 3 ID : **62036265**
Option 4 ID : **62036268**
Status : **Answered**
Chosen Option : **4**

Q.13 According to assumption made by Rankine for the derivation of earth pressure, the soil mass is

- Ans
- 1. Dry
 - 2. Cohesive
 - 3. Heterogeneous
 - 4. Infinite

Question Type : **MCQ**
Question ID : **62036220**
Option 1 ID : **62036279**
Option 2 ID : **62036280**
Option 3 ID : **62036278**
Option 4 ID : **62036277**
Status : **Answered**
Chosen Option : **3**

Q.14 In which of the following location in theodolite traversing, it is preferable to set the station mark in a concrete block, also a steel bolt is usually inserted in the concrete while it is wet?

- Ans
- 1. For permanent stations
 - 2. On pavements
 - 3. In land surveying
 - 4. In mountain areas

Question Type : **MCQ**
Question ID : **62036238**
Option 1 ID : **620362149**
Option 2 ID : **620362151**
Option 3 ID : **620362150**
Option 4 ID : **620362152**
Status : **Answered**
Chosen Option : **2**

Q.15 In which type of prestressing, no limit is imposed upon the magnitude of the tensile stresses at working loads?

- Ans**
- 1. Axial prestressing
 - 2. Eccentric prestressing
 - 3. Concordant prestressing
 - 4. Moderate prestressing

Question Type : **MCQ**

Question ID : **62036210**

Option 1 ID : **62036238**

Option 2 ID : **62036240**

Option 3 ID : **62036237**

Option 4 ID : **62036239**

Status : **Answered**

Chosen Option : **2**

Q.16 Which of the following are the use of Mohr's circle?

- (a) Determining the principal stresses
- (b) Orientation of principal planes with respect to x- and y-axes
- (c) Determining maximum shearing stress
- (d) Determining direct stress acting on the plane of minimum shearing stress

- Ans**
- 1. (a), (b) and (c) only
 - 2. (b) and (d) only
 - 3. (a), (b), (c) and (d)
 - 4. (a), (b) and (d) only

Question Type : **MCQ**

Question ID : **6203622**

Option 1 ID : **6203626**

Option 2 ID : **6203628**

Option 3 ID : **6203625**

Option 4 ID : **6203627**

Status : **Answered**

Chosen Option : **3**

Q.17 Which among the following method used for locating details in a theodolite traverse, is used for the location of irregular or curved boundaries such as streams, roads etc.?

- Ans**
- 1. Distances from two stations.
 - 2. Angle from one station and distance from the other.
 - 3. Perpendicular offsets from the traverse lines.
 - 4. Angles from two stations.

Question Type : **MCQ**

Question ID : **62036239**

Option 1 ID : **620362155**

Option 2 ID : **620362153**

Option 3 ID : **620362154**

Option 4 ID : **620362156**

Status : **Answered**

Chosen Option : **2**

Q.18 Which of the following is/are elastic constants?

- (a) Modulus of elasticity
- (b) Modulus of fluidity
- (c) Poisson's ratio

- Ans**
- 1. Only (a) and (b)
 - 2. Only (a) and (c)
 - 3. Only (b) and (c)
 - 4. (a), (b) and (c)

Question Type : **MCQ**

Question ID : **6203624**

Option 1 ID : **62036214**

Option 2 ID : **62036215**

Option 3 ID : **62036216**

Option 4 ID : **62036213**

Status : **Answered**

Chosen Option : **1**

Q.19 Which of the following is one of the type of transverse stiffener?

- Ans
- 1. Horizontal stiffener
 - 2. Composite stiffener
 - 3. Non-intermediate stiffener
 - 4. Bearing stiffener

Question Type : **MCQ**

Question ID : **62036214**

Option 1 ID : **62036255**

Option 2 ID : **62036256**

Option 3 ID : **62036253**

Option 4 ID : **62036254**

Status : **Answered**

Chosen Option : **2**

Q.20 In which of the following circumstances, a doubly reinforced section of a beam is provided?

Ans 1. Where it is required to increase the stiffness of the beam.

2.

In a non-continuous beam floor system, where the beam acts as a T-beam in the mid-span.

3.

When it is found that the compression steel decreases the rotation capacity and ductility.

4.

When there are no architectural restrictions on singly reinforced section.

Question Type : **MCQ**

Question ID : **6203627**

Option 1 ID : **62036225**

Option 2 ID : **62036227**

Option 3 ID : **62036228**

Option 4 ID : **62036226**

Status : **Answered**

Chosen Option : **2**

Q.21 Rainfall duration should be from _____ of the basin lag of the watershed when developing a unit hydrograph from gauged watersheds.

- Ans**
- ✓ 1. $\frac{1}{5}th$ to $\frac{1}{3}rd$
 - ✗ 2. $\frac{1}{2}nd$ to $\frac{1}{4}th$
 - ✗ 3. $\frac{1}{6}th$ to $\frac{1}{3}rd$
 - ✗ 4. $\frac{1}{7}th$ to $\frac{1}{5}th$

Question Type : **MCQ**

Question ID : **62036228**

Option 1 ID : **620362112**

Option 2 ID : **620362109**

Option 3 ID : **620362110**

Option 4 ID : **620362111**

Status : **Answered**

Chosen Option : **4**

Q.22 As per assumption made in unit hydrograph, the excess rainfall is uniformly distributed _____

- Ans**
- ✗ 1. Over the edges of the resulting surface runoff hydrograph
 - ✗ 2. Over the partial watershed
 - ✗ 3. And dependent of the effective rainfall intensity.
 - ✓ 4. Within its duration

Question Type : **MCQ**

Question ID : **62036230**

Option 1 ID : **620362118**

Option 2 ID : **620362117**

Option 3 ID : **620362120**

Option 4 ID : **620362119**

Status : **Answered**

Chosen Option : **4**

Q.23 What is the effective length of compression members effectively held in position and restrained against rotation in both ends?

- Ans**
- ✓ 1. 0.65 L
 - ✗ 2. 0.40 L
 - ✗ 3. 1.0 L
 - ✗ 4. 1.2 L

Question Type : **MCQ**

Question ID : **62036212**

Option 1 ID : **62036246**

Option 2 ID : **62036245**

Option 3 ID : **62036247**

Option 4 ID : **62036248**

Status : **Answered**

Chosen Option : **4**

Q.24 Determine the dimensions of bulk modulus in $F - L - T$ system?

- Ans 1. FL^{-2}
 2. FLT^{-2}
 3. $FL^{-2}T^{-2}$
 4. FL^{-1}

Question Type : **MCQ**

Question ID : **62036229**

Option 1 ID : **620362114**

Option 2 ID : **620362113**

Option 3 ID : **620362115**

Option 4 ID : **620362116**

Status : **Answered**

Chosen Option : **1**

Q.25 Which of the following is NOT an indirect measurement of flow in open channels used to measure headwater level?

- Ans 1. A float measurement with mechanically transmitted elevation
 2. A bubbler to measure the hydrostatic pressure
 3. A pressure converter to measure the hydrostatic pressure
 4. An echo sounder to measure the level without contact

Question Type : **MCQ**

Question ID : **62036227**

Option 1 ID : **620362107**

Option 2 ID : **620362106**

Option 3 ID : **620362105**

Option 4 ID : **620362108**

Status : **Answered**

Chosen Option : **1**

Q.26 What is the type of mat that is used where the soil is highly compressible and the water table is high, such method of construction reduces the settlement and also controls buoyancy?

- Ans 1. Mats of box structures
 2. Mats with Flat plate thickened under columns
 3. Mats with simple flat plate type
 4. Mat placed on piles

Question Type : **MCQ**

Question ID : **62036225**

Option 1 ID : **62036298**

Option 2 ID : **62036299**

Option 3 ID : **620362100**

Option 4 ID : **62036297**

Status : **Answered**

Chosen Option : **4**

Q.27 _____ occurs when viscous forces are more predominant than inertia forces or when Reynold's number is less than 0.1

- Ans
- 1. Pressure drag
 - 2. Expansion drag
 - 3. Deformation drag
 - 4. Friction drag

Question Type : **MCQ**

Question ID : **62036226**

Option 1 ID : **620362101**

Option 2 ID : **620362104**

Option 3 ID : **620362102**

Option 4 ID : **620362103**

Status : **Answered**

Chosen Option : **2**

Q.28 Which among the following source of water is always preferred for large water supply projects?

- Ans
- 1. Storage reservoir
 - 2. Stream
 - 3. Lakes
 - 4. Ponds

Question Type : **MCQ**

Question ID : **62036247**

Option 1 ID : **620362185**

Option 2 ID : **620362186**

Option 3 ID : **620362188**

Option 4 ID : **620362187**

Status : **Answered**

Chosen Option : **1**

Q.29 $V = 0.85 \times C \times m^{0.63} \times i^{0.54}$

The above equation is an empirical formula for the design of sewers associated to:

- Ans
- 1. Mean velocity of crimp and Bruge's formula
 - 2. Mean velocity of Kuter;s formula
 - 3. Mean velocity of Manning's formula
 - 4. Mean velocity of Hazen and Willian's formula

Question Type : **MCQ**

Question ID : **62036242**

Option 1 ID : **620362167**

Option 2 ID : **620362168**

Option 3 ID : **620362165**

Option 4 ID : **620362166**

Status : **Answered**

Chosen Option : **4**

Q.30 Which among the following is also known as spam?

- Ans
- 1. Usenet
 - 2. Junkmail
 - 3. Reply notifications
 - 4. Backbone mails

Question Type : **MCQ**

Question ID : **62036249**

Option 1 ID : **620362196**

Option 2 ID : **620362193**

Option 3 ID : **620362195**

Option 4 ID : **620362194**

Status : **Answered**

Chosen Option : **2**

Q.31 Which of the following foundations are used for column loadings and is ideal when column load is axial and not very large compared to the bearing capacity of the soil?

- Ans
- 1. Isolated footings
 - 2. Floating footings
 - 3. Pier foundations
 - 4. Raft foundation

Question Type : **MCQ**

Question ID : **62036224**

Option 1 ID : **62036294**

Option 2 ID : **62036296**

Option 3 ID : **62036295**

Option 4 ID : **62036293**

Status : **Answered**

Chosen Option : **4**

Q.32 Which of the following regions of cracks in beams is also known as diagonal tension cracks region?

- Ans
- 1. Region of web shear cracks
 - 2. Region of flexure-shear cracks
 - 3. Region of cross point cracks
 - 4. Region of flexural cracks

Question Type : **MCQ**

Question ID : **6203628**

Option 1 ID : **62036231**

Option 2 ID : **62036230**

Option 3 ID : **62036232**

Option 4 ID : **62036229**

Status : **Answered**

Chosen Option : **3**

Q.33 For purely frictional soils, the cohesion intercept is

- Ans
- 1. Minimum
 - 2. Zero
 - 3. Unity
 - 4. Maximum

Question Type : **MCQ**
Question ID : **62036222**
Option 1 ID : **62036285**
Option 2 ID : **62036288**
Option 3 ID : **62036287**
Option 4 ID : **62036286**
Status : **Answered**
Chosen Option : **4**

Q.34 _____ is not one of the broadband connections.

- Ans
- 1. Cable modem
 - 2. Digital subscriber line
 - 3. Dial-up transmission
 - 4. Satellite

Question Type : **MCQ**
Question ID : **62036250**
Option 1 ID : **620362199**
Option 2 ID : **620362197**
Option 3 ID : **620362200**
Option 4 ID : **620362198**
Status : **Answered**
Chosen Option : **3**

Q.35 In which of the following case of theodolite traversing, the sight can be taken directly over the tack?

- Ans
- 1. If the traverse lines are short
 - 2. If the traverse lines are long
 - 3. If the traverse lines are too long
 - 4. If the traverse lines not visible

Question Type : **MCQ**
Question ID : **62036237**
Option 1 ID : **620362146**
Option 2 ID : **620362147**
Option 3 ID : **620362145**
Option 4 ID : **620362148**
Status : **Answered**
Chosen Option : **1**

Q.36 On testing, if a chain is found to be long, then it can be adjusted by

- Ans
- 1. Replacing any circular ring with bigger one.
 - 2. Flattening the circular links
 - 3. Reshaping the elongated rings
 - 4. Inserting additional circular rings

Question Type : MCQ

Question ID : 62036235

Option 1 ID : 620362140

Option 2 ID : 620362138

Option 3 ID : 620362139

Option 4 ID : 620362137

Status : Answered

Chosen Option : 3

Q.37 _____ is 66 ft. long and consists of 100 links.

- Ans
- 1. Metric chain
 - 2. Engineers chain
 - 3. Surveyor's chain
 - 4. Revenue chain

Question Type : MCQ

Question ID : 62036234

Option 1 ID : 620362133

Option 2 ID : 620362135

Option 3 ID : 620362136

Option 4 ID : 620362134

Status : Answered

Chosen Option : 2

Q.38 Under what condition the method of orienting the plane table by means of trough compass is used?

- Ans
- 1. In certain resection problems.
 - 2. When there is a second point available for orientation.
 - 3. When it is not possible to set the plane table on the point.
 - 4. When the traverse is not so short.

Question Type : MCQ

Question ID : 62036240

Option 1 ID : 620362158

Option 2 ID : 620362160

Option 3 ID : 620362159

Option 4 ID : 620362157

Status : Answered

Chosen Option : 3

Q.39 Which of the following is one of the assumption from Euler's theory of buckling?

- Ans
- 1. Fixed ends are frictionless.
 - 2. Hinged ends are rigid.
 - 3. Column fails due to buckling as well as other causes.
 - 4. Weight of the column is negligible.

Question Type : **MCQ**

Question ID : **6203626**

Option 1 ID : **62036223**

Option 2 ID : **62036222**

Option 3 ID : **62036224**

Option 4 ID : **62036221**

Status : **Answered**

Chosen Option : **3**

Q.40 Which of the following are the manner in which a riveted joint may fail?

- (a) Shearing of rivet
- (b) Edge cracking
- (c) Bearing of plate
- (d) Tearing of plate between rivet holes

- Ans
- 1. (a) and (c) only
 - 2. (b), (c) and (d) only
 - 3. (a), (b), (c) and (d)
 - 4. (a), (c) and (d) only

Question Type : **MCQ**

Question ID : **62036244**

Option 1 ID : **620362176**

Option 2 ID : **620362175**

Option 3 ID : **620362173**

Option 4 ID : **620362174**

Status : **Answered**

Chosen Option : **3**

Q.41 Which of the following law defines that the stress is proportional to strain within elastic behavior?

- Ans
- 1. Lame's law
 - 2. Hooke's law
 - 3. Macaulay's law
 - 4. Euler theory

Question Type : **MCQ**

Question ID : **6203621**

Option 1 ID : **6203624**

Option 2 ID : **6203623**

Option 3 ID : **6203621**

Option 4 ID : **6203622**

Status : **Answered**

Chosen Option : **2**

Q.42 The soil components with particles smaller than 75 micron IS sieve, identified by behavior i.e., slightly plastic or non-plastic regardless of moisture and exhibits little or no strength when air-dried is known as

- Ans
- 1. Sand
 - 2. Silt
 - 3. Organic matter
 - 4. Clay

Question Type : **MCQ**

Question ID : **62036216**

Option 1 ID : **62036264**

Option 2 ID : **62036261**

Option 3 ID : **62036263**

Option 4 ID : **62036262**

Status : **Answered**

Chosen Option : **2**

Q.43 What is the common scale generally used in town planning schemes, reservoirs etc.?

- Ans
- 1. 1 cm = 10 m or less
 - 2. 1 cm = 1 m or 2m
 - 3. 1 cm = 50 m or 100 m
 - 4. 1 cm = 5 m or 0.5 km

Question Type : **MCQ**

Question ID : **62036233**

Option 1 ID : **620362129**

Option 2 ID : **620362130**

Option 3 ID : **620362132**

Option 4 ID : **620362131**

Status : **Answered**

Chosen Option : **3**

Q.44 Choose the most relevant value of specific speed, at which the best efficiency is attained for multiple jet impulse turbines?

- Ans
- 1. Around 17
 - 2. Around 8
 - 3. Around 21
 - 4. Around 12

Question Type : **MCQ**

Question ID : **62036231**

Option 1 ID : **620362123**

Option 2 ID : **620362121**

Option 3 ID : **620362124**

Option 4 ID : **620362122**

Status : **Answered**

Chosen Option : **3**

Q.45 A steel strip, 60 mm wide and 20 mm thick, is bent into an arc of radius 30 m. what is the maximum stress developed in the steel strip? Take $E = 2 \times 10^5 \frac{N}{mm^2}$

- Ans
- 1. $66670 \frac{N}{mm^2}$
 - 2. $6.67 \frac{N}{mm^2}$
 - 3. $666.7 \frac{N}{mm^2}$
 - 4. $66.67 \frac{N}{mm^2}$

Question Type : **MCQ**

Question ID : **6203625**

Option 1 ID : **62036217**

Option 2 ID : **62036219**

Option 3 ID : **62036220**

Option 4 ID : **62036218**

Status : **Answered**

Chosen Option : **2**

Q.46 Which of the following is the type of survey based upon the nature of the field survey?

- Ans
- ✓ 1. Cadastral survey
 - ✗ 2. Mine survey
 - ✗ 3. Geological survey
 - ✗ 4. Traverse survey

Question Type : **MCQ**

Question ID : **62036232**

Option 1 ID : **620362128**

Option 2 ID : **620362127**

Option 3 ID : **620362126**

Option 4 ID : **620362125**

Status : **Answered**

Chosen Option : **2**

Q.47 The aquifer which is sandwiched between two impervious strata is known as:

- Ans
- ✗ 1. Coefficient aquifer
 - ✓ 2. Confined aquifer
 - ✗ 3. Un-confined aquifer
 - ✗ 4. Perched aquifer

Question Type : **MCQ**

Question ID : **62036246**

Option 1 ID : **620362182**

Option 2 ID : **620362183**

Option 3 ID : **620362184**

Option 4 ID : **620362181**

Status : **Answered**

Chosen Option : **2**

Q.48 In designing laced columns, the thickness of flat lacing bars shall not be less than _____ of its effective length for single lacing and _____ of the effective length for double lacings.

- Ans
- ✗ 1. $\frac{1}{40} th$, $\frac{1}{12} th$
 - ✓ 2. $\frac{1}{40} th$, $\frac{1}{60} th$
 - ✗ 3. $\frac{1}{32} th$, $\frac{1}{60} th$
 - ✗ 4. $\frac{1}{32} th$, $\frac{1}{12} th$

Question Type : **MCQ**

Question ID : **62036213**

Option 1 ID : **62036250**

Option 2 ID : **62036251**

Option 3 ID : **62036252**

Option 4 ID : **62036249**

Status : **Answered**

Chosen Option : **1**

Q.49 Which of the following errors are arise from inattention, carelessness and poor judgment in the mind of the observer?

- Ans
- ✓ 1. Mistakes
 - ✗ 2. Cumulative errors
 - ✗ 3. Systematic errors
 - ✗ 4. Accidental errors

Question Type : MCQ

Question ID : 62036241

Option 1 ID : 620362161

Option 2 ID : 620362164

Option 3 ID : 620362162

Option 4 ID : 620362163

Status : Answered

Chosen Option : 2

Q.50 Which is the index property determined by disturbed samples, that is obtained during sub-surface exploration?

- Ans
- ✗ 1. Permeability
 - ✗ 2. Shear strength
 - ✗ 3. Compressibility
 - ✓ 4. Grain size

Question Type : MCQ

Question ID : 62036218

Option 1 ID : 62036272

Option 2 ID : 62036269

Option 3 ID : 62036270

Option 4 ID : 62036271

Status : Answered

Chosen Option : 4

Section : Marathi Language

Q.1 'खारीक'चे अनेकवचन कोणते?

- Ans
- ✗ 1. खारिकी
 - ✗ 2. खार
 - ✓ 3. खारका
 - ✗ 4. खारी

Question Type : MCQ

Question ID : 62036260

Option 1 ID : 620362237

Option 2 ID : 620362240

Option 3 ID : 620362239

Option 4 ID : 620362238

Status : Answered

Chosen Option : 3

Q.2 'आईने आपल्या बाळाला निजवले .' या वाक्यातील क्रियापद ओळखा.

- Ans
- ✓ 1. निजवले
 - ✗ 2. बाळाला
 - ✗ 3. आपल्या
 - ✗ 4. आईने

Question Type : MCQ

Question ID : 62036252

Option 1 ID : 620362207

Option 2 ID : 620362205

Option 3 ID : 620362206

Option 4 ID : 620362208

Status : Answered

Chosen Option : 4

Q.3 'आगंतुक ' चा विरुद्धार्थी शब्द शोधा.

- Ans
- ✓ 1. आमंत्रित
 - ✗ 2. अगम्य
 - ✗ 3. अनाहूत
 - ✗ 4. अपरिमित

Question Type : MCQ

Question ID : 62036266

Option 1 ID : 620362261

Option 2 ID : 620362263

Option 3 ID : 620362262

Option 4 ID : 620362264

Status : Answered

Chosen Option : 4

Q.4 ' विशाखा ' हा काव्यसंग्रह कोणत्या कवीचा आहे?

- Ans
- ✗ 1. सुरेशभट
 - ✓ 2. कुसुमाग्रज
 - ✗ 3. बा.भ. बोरकर
 - ✗ 4. बा. सी. मर्ढेकर

Question Type : MCQ

Question ID : 62036270

Option 1 ID : 620362278

Option 2 ID : 620362280

Option 3 ID : 620362277

Option 4 ID : 620362279

Status : Answered

Chosen Option : 3

Q.5 "आश्रय" या शब्दाचा समानार्थी शब्द सांगा.

- Ans
- 1. आश्रम
 - 2. चौकशी
 - 3. आसरा
 - 4. बिऱ्हाड

Question Type : MCQ

Question ID : 62036264

Option 1 ID : 620362253

Option 2 ID : 620362255

Option 3 ID : 620362254

Option 4 ID : 620362256

Status : Answered

Chosen Option : 3

Q.6 'मोहऱ्या' चे एकवचन शोधऱ.

- Ans
- 1. मोहर
 - 2. मोहरे
 - 3. मोहरी
 - 4. मोहोळ

Question Type : MCQ

Question ID : 62036261

Option 1 ID : 620362242

Option 2 ID : 620362243

Option 3 ID : 620362241

Option 4 ID : 620362244

Status : Answered

Chosen Option : 3

Q.7 'रऱकडून ऱऱऱ देण्यऱत ऱऱली .' यऱ वऱक्यरचनेचऱ प्रयऱग ऱऱळखऱ.

- Ans
- 1. कर्म-- ढऱव - संकर प्रयऱग
 - 2. कर्म कर्तरी प्रयऱग
 - 3. ढऱवे प्रयऱग
 - 4. ढऱव कर्तरी प्रयऱग

Question Type : MCQ

Question ID : 62036263

Option 1 ID : 620362252

Option 2 ID : 620362250

Option 3 ID : 620362251

Option 4 ID : 620362249

Status : Answered

Chosen Option : 4

Q.8 ' त्याच्या हिरव्यागार बागेत रंगीत आणि सुगंधी फुलांची अगदी लयलूट होती.' या वाक्यातील विशेषणे शोधा.

- Ans
- ✓ 1. हिरव्यागार, रंगीत, सुगंधी
 - ✗ 2. सुगंधी, रंगीत, होती
 - ✗ 3. बाग, रंगीत, लयलूट
 - ✗ 4. रंगीत, फुले, अगदी

Question Type : MCQ

Question ID : 62036251

Option 1 ID : 620362204

Option 2 ID : 620362203

Option 3 ID : 620362201

Option 4 ID : 620362202

Status : Answered

Chosen Option : 1

Q.9 जेव्हा क्रियापदाचे रूप कर्त्याच्या किंवा कर्माच्या लिंगवचनानुसार बदलत नसून ते नपुंसकलिंगी, तृतीयपुरुषी ,एकवचनी असून स्वतंत्र असते , तेव्हा या वाक्यरचनेस कोणता प्रयोग म्हणतात?

- Ans
- ✓ 1. भावे प्रयोग
 - ✗ 2. अकर्मक कर्तरी प्रयोग
 - ✗ 3. कर्मणी प्रयोग
 - ✗ 4. सकर्मक कर्तरी प्रयोग

Question Type : MCQ

Question ID : 62036262

Option 1 ID : 620362245

Option 2 ID : 620362246

Option 3 ID : 620362248

Option 4 ID : 620362247

Status : Answered

Chosen Option : 1

Q.10 पुढीलपैकी अचूक वाक्य शोधा.

Ans ✗ 1. त्यांच्या भल्यामोठ्या वाड्याची दरवाजसुद्धा खूप मोठा होता.

✓ 2.

त्यांच्या भल्यामोठ्या वाड्याचा दरवाजासुद्धा खूप मोठा होता.

✗ 3. त्यांच्या भल्यामोठा वडाचा दरवाजसुद्धा खूप मोठ्या होता.

✗ 4. त्यांचा भल्यामोठ्या वाडाचा दरवाजासुद्धा खूप मोठा होता.

Question Type : MCQ

Question ID : 62036268

Option 1 ID : 620362272

Option 2 ID : 620362271

Option 3 ID : 620362269

Option 4 ID : 620362270

Status : Answered

Chosen Option : 2

Q.11 'रजत' या शब्दाचा समानार्थी शब्द ओळखा.

Ans ✓ 1. रौप्य

✗ 2. रत्न

✗ 3. सुवर्ण

✗ 4. चंदन

Question Type : MCQ

Question ID : 62036265

Option 1 ID : 620362257

Option 2 ID : 620362258

Option 3 ID : 620362259

Option 4 ID : 620362260

Status : Answered

Chosen Option : 1

Q.12 'जे चकाकते ते सोने नसते. ' वाक्याचा प्रकार ओळखा.

- Ans
- 1. गौण वाक्य
 - 2. केवल वाक्य
 - 3. मिश्र वाक्य
 - 4. संयुक्त वाक्य

Question Type : **MCQ**

Question ID : **62036255**

Option 1 ID : **620362220**

Option 2 ID : **620362217**

Option 3 ID : **620362219**

Option 4 ID : **620362218**

Status : **Answered**

Chosen Option : 1

Q.13 ' यथाशक्ती 'या समासाचा प्रकार सांगा .

- Ans
- 1. समाहार द्वंद्व समास
 - 2. कर्मधारय समास
 - 3. अव्ययीभाव समास
 - 4. तत्पुरुष समास

Question Type : **MCQ**

Question ID : **62036257**

Option 1 ID : **620362227**

Option 2 ID : **620362225**

Option 3 ID : **620362228**

Option 4 ID : **620362226**

Status : **Answered**

Chosen Option : 2

Q.14 'आज दिवसभर पावसाची रिमझिम चालू आहे.' या वाक्याचा काळ कोणता ?

Ans

- ✓ 1. अपूर्ण वर्तमानकाळ
- ✗ 2. अपूर्ण भूतकाळ
- ✗ 3. अपूर्ण भविष्यकाळ
- ✗ 4. पूर्ण वर्तमानकाळ

Question Type : MCQ

Question ID : 62036253

Option 1 ID : 620362209

Option 2 ID : 620362210

Option 3 ID : 620362212

Option 4 ID : 620362211

Status : Answered

Chosen Option : 1

Q.15 'एडका' चे स्त्रीलिंगी रूप लिहा.

Ans

- ✓ 1. मेंढी
- ✗ 2. हरिणी
- ✗ 3. नागीण
- ✗ 4. गाय

Question Type : MCQ

Question ID : 62036259

Option 1 ID : 620362233

Option 2 ID : 620362235

Option 3 ID : 620362236

Option 4 ID : 620362234

Status : Answered

Chosen Option : 1

Q.16 ' सत्यासत्य ' हा कोणता समास आहे?

Ans

- 1. द्विगू समास
- 2. बहुव्रीही समास
- 3. वैकल्पिक द्वंद्व समास
- 4. अव्ययीभाव समास

Question Type : MCQ

Question ID : 62036256

Option 1 ID : 620362221

Option 2 ID : 620362223

Option 3 ID : 620362222

Option 4 ID : 620362224

Status : Answered

Chosen Option : 3

Q.17 ' मी चहा केला.' या वाक्याचा काळ कोणता आहे ?

Ans

- 1. पूर्ण भूतकाळ
- 2. साधा भूतकाळ
- 3. अपूर्ण वर्तमानकाळ
- 4. रीति वर्तमानकाळ

Question Type : MCQ

Question ID : 62036254

Option 1 ID : 620362213

Option 2 ID : 620362216

Option 3 ID : 620362214

Option 4 ID : 620362215

Status : Answered

Chosen Option : 2

Q.18 पुढील वाक्यातील कंसातील शब्दाचे योग्य रूप कोणते?

त्याच्या (डोके) केंस उन्हात पिकलेले नाहीत.

Ans

- 1. डोकेपुढील
- 2. डोक्यावरचे
- 3. डोकीवरती
- 4. डोक्यातले

Question Type : MCQ

Question ID : 62036269

Option 1 ID : 620362274

Option 2 ID : 620362275

Option 3 ID : 620362273

Option 4 ID : 620362276

Status : Answered

Chosen Option : 2

Q.19 'उत्कर्ष' या शब्दाचा विरुद्धार्थी शब्द लिहा .

Ans

- 1. अपकर्ष
- 2. उन्नती
- 3. उत्तेजन
- 4. हर्ष

Question Type : MCQ

Question ID : 62036267

Option 1 ID : 620362268

Option 2 ID : 620362266

Option 3 ID : 620362267

Option 4 ID : 620362265

Status : Answered

Chosen Option : 1

Q.20 'सम्राट' चे योग्य स्त्रीलिंगी रूप शोधा.

- Ans
- ✓ 1. सम्राज्ञी
 - ✗ 2. स्नुषा
 - ✗ 3. समृद्धी
 - ✗ 4. साम्राज्य

Question Type : **MCQ**

Question ID : **62036258**

Option 1 ID : **620362230**

Option 2 ID : **620362232**

Option 3 ID : **620362229**

Option 4 ID : **620362231**

Status : **Answered**

Chosen Option : **1**

Comprehension:

पहाट होते, कोंबडा आरवतो आणि खेड्याला जाग यायला सुरुवात होते. अरुण राजा सूर्यदेवाच्या आगमनाची चाहल देतो. अंगण झाडण्यापासून तो हंडे घेऊन पाणवठ्यावर पाण्याला जाण्याची लगबग सुरू होते. जात्याची अविरत घरघर जीवनचक्र पुढे नेते. लहान पहाट आणि मोठी पहाट किंवा भली पहाट अशा दोन वेळा खेड्यात मानल्या जातात.

पूर्व दिशा उजळत जाते. सात घोड्यांच्या रथात बसून सूर्यदेवाची स्वारी लालभडक गोळ्याच्या रूपात प्रवासाला निघते. सर्व सृष्टीला जीवन देणारा, प्रकाश देणारा सूर्यदेव आपल्या किरणांनी पृथ्वीला संजीवन बहाल करतो. जात्यावर गातांना, दळण दळताना माउलींच्या मुखातून त्याच्याविषयीची कृतज्ञता, त्याचे थोरपण बाहेर पडते.

उठल्या उठल्या सूर्यदेवाचे, प्रभूरामचंद्राचे स्मरण करून घरची स्त्री तिच्या बाळाला उठवते आणि सान्या लेकरांसाठी दीर्घायुष्य मागते. प्रभू रामचंद्र हा अनेकरूपात खेड्यातील मातामाउलींच्या मनात असतो. सूर्य उगवल्यावर त्याचे बालरूप त्यांना आठवते. आपली लहान मुलगी ही तिला जणू काही चंद्रज्योतीच वाटते. सूर्य उगवला म्हणजे कामधाम करण्याची वेळ झाली अशी खेडोपाडी समजूत असते. शेतकरी म्हणजे सर्वांचा अन्नदाता! पहाटे उठून जनावरांचे खिल्लार चारण्यासाठी घेऊन जाणे हा नित्यक्रम. हातातील काठी खांदयावर घेऊन, त्या काठीला शिदोरी अडकवून बालगोपाळ डोंगराच्या दिशेने निघतात आणि रिकाम्या झालेल्या गोठ्यातील जनावरांचे शेण उचलून म्हणजेच शेणकूर करून गोठा स्वच्छ करण्याची सुरुवात होते. अंगणात सडा सारवण करून सुरेख रांगोळी, स्वस्तिक, पाऊल काढून सूर्यदेवाचे स्वागत केले जाते. सूर्यदेवाच्याच रंगात जगात चालकाला वंदन केले जाते. या सर्वांबरोबरच आपल्या बाळाचा मामा म्हणजे माहेरी असलेल्या लाडक्या भावाची तिला आठवण येते आणि त्याच्यासाठीसुद्धा ती दीर्घायुष्य मागते.

SubQuestion No : 21

Q.21 'शेणकूर करणे' म्हणजे काय?

- Ans
- 1. शेणाने अंगण सारवून रांगोळी घालणे
 - 2. शेण काढून गोठा स्वच्छ करणे
 - 3. हंडे घेऊन पाण्याला जाणे
 - 4. अंगणातला पालापाचोळा झाडून काढणे

Question Type : MCQ

Question ID : 62036272

Option 1 ID : 620362282

Option 2 ID : 620362283

Option 3 ID : 620362281

Option 4 ID : 620362284

Status : Answered

Chosen Option : 2

Comprehension:

पहाट होते, कोंबडा आरवतो आणि खेड्याला जाग यायला सुरुवात होते. अरुण राजा सूर्यदेवाच्या आगमनाची चाहूल देतो. अंगण झाडण्यापासून तो हंडे घेऊन पाणवठ्यावर पाण्याला जाण्याची लगबग सुरू होते. जात्याची अविरत घरघर जीवनचक्र पुढे नेते. लहान पहाट आणि मोठी पहाट किंवा भली पहाट अशा दोन वेळा खेड्यात मानल्या जातात.

पूर्व दिशा उजळत जाते. सात घोड्यांच्या रथात बसून सूर्यदेवाची स्वारी लालभडक गोळ्याच्या रूपात प्रवासाला निघते. सर्व सृष्टीला जीवन देणारा, प्रकाश देणारा सूर्यदेव आपल्या किरणांनी पृथ्वीला संजीवन बहाल करतो. जात्यावर गातांना, दळण दळताना माउलींच्या मुखातून त्याच्याविषयीची कृतज्ञता, त्याचे थोरपण बाहेर पडते.

उठल्या उठल्या सूर्यदेवाचे, प्रभूरामचंद्राचे स्मरण करून घरची स्त्री तिच्या बाळाला उठवते आणि सान्या लेकरांसाठी दीर्घायुष्य मागते. प्रभू रामचंद्र हा अनेकरूपात खेड्यातील मातामाउलींच्या मनात असतो. सूर्य उगवल्यावर त्याचे बालरूप त्यांना आठवते. आपली लहान मुलगी ही तिला जणू काही चंद्रज्योतीच वाटते. सूर्य उगवला म्हणजे कामधाम करण्याची वेळ झाली अशी खेडोपाडी समजूत असते. शेतकरी म्हणजे सर्वांचा अन्नदाता! पहाटे उठून जनावरांचे खिल्लार चारण्यासाठी घेऊन जाणे हा नित्यक्रम. हातातील काठी खांदयावर घेऊन, त्या काठीला शिदोरी अडकवून बालगोपाळ डोंगराच्या दिशेने निघतात आणि रिकाम्या झालेल्या गोठ्यातील जनावरांचे शेण उचलून म्हणजेच शेणकूर करून गोठा स्वच्छ करण्याची सुरुवात होते. अंगणात सडा सारवण करून सुरेख रांगोळी, स्वस्तिक, पाऊल काढून सूर्यदेवाचे स्वागत केले जाते. सूर्यदेवाच्याच रंगात जगात चालकाला वंदन केले जाते. या सर्वांबरोबरच आपल्या बाळाचा मामा म्हणजे माहेरी असलेल्या लाडक्या भावाची तिला आठवण येते आणि त्याच्यासाठीसुद्धा ती दीर्घायुष्य मागते.

SubQuestion No : 22

Q.22 'लगबग सुरु होणे' या वाक्यप्रचाराचा अर्थ शोधा.

- Ans
- ✓ 1. धांदलउडणे
 - ✗ 2. चाहूलदेणे
 - ✗ 3. आठवणयेणे
 - ✗ 4. वंदनकरणे

Question Type : MCQ

Question ID : 62036274

Option 1 ID : 620362289

Option 2 ID : 620362290

Option 3 ID : 620362292

Option 4 ID : 620362291

Status : Answered

Chosen Option : 2

Comprehension:

पहाट होते, कोंबडा आरवतो आणि खेड्याला जाग यायला सुरुवात होते. अरुण राजा सूर्यदेवाच्या आगमनाची चाहूल देतो. अंगण झाडण्यापासून तो हंडे घेऊन पाणवठ्यावर पाण्याला जाण्याची लगबग सुरू होते. जात्याची अविरत घरघर जीवनचक्र पुढे नेते. लहान पहाट आणि मोठी पहाट किंवा भली पहाट अशा दोन वेळा खेड्यात मानल्या जातात.

पूर्व दिशा उजळत जाते. सात घोड्यांच्या रथात बसून सूर्यदेवाची स्वारी लालभडक गोळ्याच्या रूपात प्रवासाला निघते. सर्व सृष्टीला जीवन देणारा, प्रकाश देणारा सूर्यदेव आपल्या किरणांनी पृथ्वीला संजीवन बहाल करतो. जात्यावर गातांना, दळण दळताना माउलींच्या मुखातून त्याच्याविषयीची कृतज्ञता, त्याचे थोरपण बाहेर पडते.

उठल्या उठल्या सूर्यदेवाचे, प्रभूरामचंद्राचे स्मरण करून घरची स्त्री तिच्या बाळाला उठवते आणि साऱ्या लेकरांसाठी दीर्घायुष्य मागते. प्रभू रामचंद्र हा अनेकरूपात खेड्यातील मातामाउलींच्या मनात असतो. सूर्य उगवल्यावर त्याचे बालरूप त्यांना आठवते. आपली लहान मुलगी ही तिला जणू काही चंद्रज्योतीच वाटते. सूर्य उगवला म्हणजे कामधाम करण्याची वेळ झाली अशी खेडोपाडी समजूत असते. शेतकरी म्हणजे सर्वांचा अन्नदाता! पहाटे उठून जनावरांचे खिल्लार चारण्यासाठी घेऊन जाणे हा नित्यक्रम. हातातील काठी खांदयावर घेऊन, त्या काठीला शिदोरी अडकवून बालगोपाळ डोंगराच्या दिशेने निघतात आणि रिकाम्या झालेल्या गोठ्यातील जनावरांचे शेण उचलून म्हणजेच शेणकूर करून गोठा स्वच्छ करण्याची सुरुवात होते. अंगणात सडा सारवण करून सुरेख रांगोळी, स्वस्तिक, पाऊल काढून सूर्यदेवाचे स्वागत केले जाते. सूर्यदेवाच्याच रंगात जगात चालकाला वंदन केले जाते. या सर्वांबरोबरच आपल्या बाळाचा मामा म्हणजे माहेरी असलेल्या लाडक्या भावाची तिला आठवण येते आणि त्याच्यासाठीसुद्धा ती दीर्घायुष्य मागते.

SubQuestion No : 23

Q.23 अखंड, सतत या अर्थी उताऱ्यात कोणता शब्द आला आहे?

- Ans
- 1. आगमन
 - 2. अविरत
 - 3. अन्नदाता
 - 4. चंद्रज्योती

Question Type : MCQ

Question ID : 62036273

Option 1 ID : 620362285

Option 2 ID : 620362288

Option 3 ID : 620362287

Option 4 ID : 620362286

Status : Answered

Chosen Option : 2

Comprehension:

पहाट होते, कोंबडा आरवतो आणि खेड्याला जाग यायला सुरुवात होते. अरुण राजा सूर्यदेवाच्या आगमनाची चाहूल देतो. अंगण झाडण्यापासून तो हंडे घेऊन पाणवठ्यावर पाण्याला जाण्याची लगबग सुरू होते. जात्याची अविरत घरघर जीवनचक्र पुढे नेते. लहान पहाट आणि मोठी पहाट किंवा भली पहाट अशा दोन वेळा खेड्यात मानल्या जातात.

पूर्व दिशा उजळत जाते. सात घोड्यांच्या रथात बसून सूर्यदेवाची स्वारी लालभडक गोळ्याच्या रूपात प्रवासाला निघते. सर्व सृष्टीला जीवन देणारा, प्रकाश देणारा सूर्यदेव आपल्या किरणांनी पृथ्वीला संजीवन बहाल करतो. जात्यावर गातांना, दळण दळताना माउलींच्या मुखातून त्याच्याविषयीची कृतज्ञता, त्याचे थोरपण बाहेर पडते.

उठल्या उठल्या सूर्यदेवाचे, प्रभूरामचंद्राचे स्मरण करून घरची स्त्री तिच्या बाळाला उठवते आणि सान्या लेकरांसाठी दीर्घायुष्य मागते. प्रभू रामचंद्र हा अनेकरूपात खेड्यातील मातामाउलींच्या मनात असतो. सूर्य उगवल्यावर त्याचे बालरूप त्यांना आठवते. आपली लहान मुलगी ही तिला जणू काही चंद्रज्योतीच वाटते. सूर्य उगवला म्हणजे कामधाम करण्याची वेळ झाली अशी खेडोपाडी समजूत असते. शेतकरी म्हणजे सर्वांचा अन्नदाता! पहाटे उठून जनावरांचे खिल्लार चारण्यासाठी घेऊन जाणे हा नित्यक्रम. हातातील काठी खांदयावर घेऊन, त्या काठीला शिदोरी अडकवून बालगोपाळ डोंगराच्या दिशेने निघतात आणि रिकाम्या झालेल्या गोठ्यातील जनावरांचे शेण उचलून म्हणजेच शेणकूर करून गोठा स्वच्छ करण्याची सुरुवात होते. अंगणात सडा सारवण करून सुरेख रांगोळी, स्वस्तिक, पाऊल काढून सूर्यदेवाचे स्वागत केले जाते. सूर्यदेवाच्याच रंगात जगात चालकाला वंदन केले जाते. या सर्वांबरोबरच आपल्या बाळाचा मामा म्हणजे माहेरी असलेल्या लाडक्या भावाची तिला आठवण येते आणि त्याच्यासाठीसुद्धा ती दीर्घायुष्य मागते.

SubQuestion No : 24

Q.24 'खेडे' या शब्दाचे सामान्य रूप ओळखा.

- Ans
- 1. खेडा
 - 2. खेडी
 - 3. खेडे
 - 4. खेडया

Question Type : MCQ

Question ID : 62036276

Option 1 ID : 620362297

Option 2 ID : 620362300

Option 3 ID : 620362298

Option 4 ID : 620362299

Status : Answered

Chosen Option : 3

Comprehension:

पहाट होते, कोंबडा आरवतो आणि खेड्याला जाग यायला सुरुवात होते. अरुण राजा सूर्यदेवाच्या आगमनाची चाहूल देतो. अंगण झाडण्यापासून तो हंडे घेऊन पाणवठ्यावर पाण्याला जाण्याची लगबग सुरू होते. जात्याची अविरत घरघर जीवनचक्र पुढे नेते. लहान पहाट आणि मोठी पहाट किंवा भली पहाट अशा दोन वेळा खेड्यात मानल्या जातात.

पूर्व दिशा उजळत जाते. सात घोड्यांच्या रथात बसून सूर्यदेवाची स्वारी लालभडक गोळ्याच्या रूपात प्रवासाला निघते. सर्व सृष्टीला जीवन देणारा, प्रकाश देणारा सूर्यदेव आपल्या किरणांनी पृथ्वीला संजीवन बहाल करतो. जात्यावर गातांना, दळण दळताना माउलींच्या मुखातून त्याच्याविषयीची कृतज्ञता, त्याचे थोरपण बाहेर पडते.

उठल्या उठल्या सूर्यदेवाचे, प्रभूरामचंद्राचे स्मरण करून घरची स्त्री तिच्या बाळाला उठवते आणि सान्या लेकरांसाठी दीर्घायुष्य मागते. प्रभू रामचंद्र हा अनेकरूपात खेड्यातील मातामाउलींच्या मनात असतो. सूर्य उगवल्यावर त्याचे बालरूप त्यांना आठवते. आपली लहान मुलगी ही तिला जणू काही चंद्रज्योतीच वाटते. सूर्य उगवला म्हणजे कामधाम करण्याची वेळ झाली अशी खेडोपाडी समजूत असते. शेतकरी म्हणजे सर्वांचा अन्नदाता! पहाटे उठून जनावरांचे खिल्लार चारण्यासाठी घेऊन जाणे हा नित्यक्रम. हातातील काठी खांदयावर घेऊन, त्या काठीला शिदोरी अडकवून बालगोपाळ डोंगराच्या दिशेने निघतात आणि रिकाम्या झालेल्या गोठ्यातील जनावरांचे शेण उचलून म्हणजेच शेणकूर करून गोठा स्वच्छ करण्याची सुरुवात होते. अंगणात सडा सारवण करून सुरेख रांगोळी, स्वस्तिक, पाऊल काढून सूर्यदेवाचे स्वागत केले जाते. सूर्यदेवाच्याच रंगात जगात चालकाला वंदन केले जाते. या सर्वांबरोबरच आपल्या बाळाचा मामा म्हणजे माहेरी असलेल्या लाडक्या भावाची तिला आठवण येते आणि त्याच्यासाठीसुद्धा ती दीर्घायुष्य मागते.

SubQuestion No : 25

Q.25 सूर्याच्या रथाला किती घोडे आहेत?

- Ans
- 1. चार
 - 2. एक
 - 3. दहा
 - 4. सात

Question Type : MCQ

Question ID : 62036275

Option 1 ID : 620362295

Option 2 ID : 620362293

Option 3 ID : 620362296

Option 4 ID : 620362294

Status : Answered

Chosen Option : 4

Q.1 In the following question, a sentence has been given in Active/Passive voice. Out of the four alternatives suggested, select the one which best expresses the same sentence in Passive/Active voice.

Umar plays noisy songs.

- Ans**
- 1. Noisy songs were played by Umar.
 - 2. Noisy songs are played by Umar.
 - 3. Noisy songs is played by Umar.
 - 4. Noisy songs are being played by Umar.

Question Type : **MCQ**

Question ID : **62036280**

Option 1 ID : **620362315**

Option 2 ID : **620362316**

Option 3 ID : **620362314**

Option 4 ID : **620362313**

Status : **Answered**

Chosen Option : **2**

Q.2 Rearrange the parts of the sentence in correct order.

Current methods

P. fossil fuels, to break the strong bonds between

Q. enormous amounts of heat, generated by burning

R. nitrogen atoms so they can bind to hydrogen

S. to make ammonia from nitrogen require

- Ans**
- 1. PRSQ
 - 2. QPRS
 - 3. SPRQ
 - 4. SQPR

Question Type : **MCQ**

Question ID : **62036291**

Option 1 ID : **620362359**

Option 2 ID : **620362358**

Option 3 ID : **620362360**

Option 4 ID : **620362357**

Status : **Answered**

Chosen Option : **4**

Q.3 In the following question, a sentence has been given in Direct/Indirect speech. Out of the four alternatives suggested, select the one which best expresses the same sentence in Indirect/Direct speech.

Mohan reported that the storm had become violent then.

- Ans**
- 1. Mohan said, "The storm becomes violent now."
 - 2. Mohan said, "The storm has become violent now."
 - 3. Mohan reported, "The storm will become violent now."
 - 4. Mohan reported, "The storm have become violent then."

Question Type : **MCQ**

Question ID : **62036279**

Option 1 ID : **620362309**

Option 2 ID : **620362312**

Option 3 ID : **620362311**

Option 4 ID : **620362310**

Status : **Answered**

Chosen Option : **2**

Q.4 A sentence has been given with a blank to be filled with an appropriate word. Choose the correct alternative.

The best air purifiers for allergies are a great way to find _____ from irritating allergy symptoms.

- Ans**
- 1. vengeance
 - 2. perpetuity
 - 3. qualm
 - 4. respite

Question Type : **MCQ**

Question ID : **62036284**

Option 1 ID : **620362331**

Option 2 ID : **620362332**

Option 3 ID : **620362329**

Option 4 ID : **620362330**

Status : **Answered**

Chosen Option : **4**

Q.5 In the following question, a sentence has been given in Direct/Indirect speech. Out of the four alternatives suggested, select the one which best expresses the same sentence in Indirect/Direct speech.

He said to his wife, "I was cooking for you."

- Ans**
- 1. He told his wife that she had been cooking for her.
 - 2. He told his wife that he had been cooking for her.
 - 3. He told his wife that he cooked for her.
 - 4. He told his wife that he has been cooking for her.

Question Type : **MCQ**

Question ID : **62036277**

Option 1 ID : **620362302**

Option 2 ID : **620362301**

Option 3 ID : **620362303**

Option 4 ID : **620362304**

Status : **Answered**

Chosen Option : **4**

Q.6 In the following question, a sentence has been given in Active/Passive voice. Out of the four alternatives suggested, select the one which best expresses the same sentence in Passive/Active voice.

Milk is delivered in the evenings by the milkman.

- Ans**
- 1. The milkman will deliver milk in the evenings.
 - 2. The milkman delivers milk in the evenings.
 - 3. The milkman had delivered milk in the evenings.
 - 4. Milk was delivered in the evenings by the milkman.

Question Type : **MCQ**

Question ID : **62036281**

Option 1 ID : **620362319**

Option 2 ID : **620362318**

Option 3 ID : **620362320**

Option 4 ID : **620362317**

Status : **Answered**

Chosen Option : **3**

Q.7 Choose the word that can meaningfully substitute the underlined part of the sentence.

After losing all his wealth he has become extremely poor.

- Ans**
- 1. Misnomer
 - 2. Tenacious
 - 3. Nascent
 - 4. Destitute

Question Type : **MCQ**

Question ID : **62036295**

Option 1 ID : **620362376**

Option 2 ID : **620362373**

Option 3 ID : **620362374**

Option 4 ID : **620362375**

Status : **Answered**

Chosen Option : **3**

Q.8 Read the following sentence and select the option that corrects the misspelt word(s) in the underlined section. If the sentence section is correct, choose 'No correction required' as your answer.

Acustomed to the use of compolsury labour, they have failed to accommodate themselves to the new conditions.

- Ans**
- ✓ 1. Accustomed to the use of compulsory
 - ✗ 2. Acustomed to the use of compulsory
 - ✗ 3. Acustommed to the use of compelsory
 - ✗ 4. No correction required

Question Type : **MCQ**

Question ID : **62036290**

Option 1 ID : **620362354**

Option 2 ID : **620362353**

Option 3 ID : **620362355**

Option 4 ID : **620362356**

Status : **Answered**

Chosen Option : **1**

Q.9 In the following question, out of the given four alternatives, select the alternative which best expresses the meaning of the Idiom/Phrase.

Give it a whirl

- Ans**
- ✓ 1. To give something a try
 - ✗ 2. To get serious
 - ✗ 3. To be out of your comfort zone
 - ✗ 4. To ignore someone

Question Type : **MCQ**

Question ID : **62036287**

Option 1 ID : **620362341**

Option 2 ID : **620362342**

Option 3 ID : **620362344**

Option 4 ID : **620362343**

Status : **Answered**

Chosen Option : **2**

Q.10 Choose the word that can meaningfully substitute the underlined part of the sentence.

Various researchers are trying their best to study the human population.

- Ans**
- 1. Anthropology
 - 2. Demography
 - 3. Cartography
 - 4. Terminology

Question Type : **MCQ**

Question ID : **62036296**

Option 1 ID : **620362379**

Option 2 ID : **620362380**

Option 3 ID : **620362378**

Option 4 ID : **620362377**

Status : **Answered**

Chosen Option : **2**

Q.11 The question below consists of a set of labeled sentences. Out of the four options given, select the most logical order of the sentences to form a coherent paragraph.

P. Huge quantities of garments were stacked inside the rooms of the building.

Q. The building had three floors and only first floor got majorly affected.

R. Although no one was injured, but it took a large effort to douse the flames.

S. A major fire broke out in a four-storey building in the city.

- Ans**
- 1. RPQS
 - 2. SRQP
 - 3. QPRS
 - 4. PQSR

Question Type : **MCQ**

Question ID : **62036293**

Option 1 ID : **620362365**

Option 2 ID : **620362367**

Option 3 ID : **620362368**

Option 4 ID : **620362366**

Status : **Answered**

Chosen Option : **2**

Q.12 Rearrange the parts of the sentence in correct order.

Some algal blooms

P. produce toxins, which can render shellfish

Q. sicken birds and marine mammals, and even

R. cause lung and skin irritation for people nearby

S. unsafe for human consumption, kill or

Ans 1. RSPQ

2. PRQS

3. QPRS

4. PSQR

Question Type : **MCQ**

Question ID : **62036292**

Option 1 ID : **620362361**

Option 2 ID : **620362362**

Option 3 ID : **620362364**

Option 4 ID : **620362363**

Status : **Answered**

Chosen Option : **2**

Q.13 Find the part of the given sentence with an incorrect spelling of a word. If there is no misspelt word, choose 'No error'.

Ans 1. No error

2. becomes less flexible, causing

3. pain, difficult movement, and involuntary tightness.

4. With heat cramps, muscle tissue

Question Type : **MCQ**

Question ID : **62036289**

Option 1 ID : **620362352**

Option 2 ID : **620362350**

Option 3 ID : **620362351**

Option 4 ID : **620362349**

Status : **Answered**

Chosen Option : **3**

Q.14 Choose the word that can meaningfully substitute the underlined part of the sentence.

My brother always looks at the brighter side of everything.

- Ans
- 1. Gourmet
 - 2. Optimist
 - 3. Recluse
 - 4. Narcissist

Question Type : **MCQ**

Question ID : **62036294**

Option 1 ID : **620362371**

Option 2 ID : **620362372**

Option 3 ID : **620362370**

Option 4 ID : **620362369**

Status : **Answered**

Chosen Option : **2**

Q.15 In the following question, a sentence has been given in Direct/Indirect speech. Out of the four alternatives suggested, select the one which best expresses the same sentence in Indirect/Direct speech.

I said to my mother, "I went to Assam last month."

- Ans
- 1. I told my mother that she had gone to Assam the previous month.
 - 2. I told my mother that I had gone to Assam last month.
 - 3. I told my mother that I had gone to Assam the previous month.
 - 4. I told my mother that I have gone to Assam the previous month.

Question Type : **MCQ**

Question ID : **62036278**

Option 1 ID : **620362307**

Option 2 ID : **620362305**

Option 3 ID : **620362308**

Option 4 ID : **620362306**

Status : **Answered**

Chosen Option : **3**

Q.16 In the given question, idiom/proverb part of the sentence is underlined. Choose the option that can correctly substitute that part of the sentence making it meaningfully correct. If the idiom/proverb is used correctly, choose 'No correction required' as your answer.

He got saved from the accident by the teeth of his skin.

- Ans**
- 1. by thin skin
 - 2. No correction required
 - 3. from the teeth skin
 - 4. by the skin of his teeth

Question Type : **MCQ**
Question ID : **62036285**
Option 1 ID : **620362333**
Option 2 ID : **620362336**
Option 3 ID : **620362334**
Option 4 ID : **620362335**
Status : **Answered**
Chosen Option : **4**

Q.17 Find the part of the given sentence with an incorrect spelling of a word. If there is no misspelt word, choose 'No error'.

- Ans**
- 1. will conjure a lurking malevolence.
 - 2. No error
 - 3. night and the unruly subconscious
 - 4. Walk alone in the forest at

Question Type : **MCQ**
Question ID : **62036288**
Option 1 ID : **620362347**
Option 2 ID : **620362348**
Option 3 ID : **620362346**
Option 4 ID : **620362345**
Status : **Answered**
Chosen Option : **3**

Q.18 In the given question, idiom/proverb part of the sentence is underlined. Choose the option that can correctly substitute that part of the sentence making it meaningfully correct. If the idiom/proverb is used correctly, choose 'No correction required' as your answer.

Please don't take his threats seriously as dogs barking bite seldom.

- Ans**
- 1. No correction required
 - 2. dogs bite seldom
 - 3. barking dogs seldom bite
 - 4. lying dogs don't bite

Question Type : **MCQ**

Question ID : **62036286**

Option 1 ID : **620362340**

Option 2 ID : **620362339**

Option 3 ID : **620362338**

Option 4 ID : **620362337**

Status : **Answered**

Chosen Option : **1**

Q.19 Choose the correct synonym of the underlined word from the given options.

Giant cell tumors are originally benign but sometimes become malignant.

- Ans**
- 1. pernicious
 - 2. rational
 - 3. harmless
 - 4. baneful

Question Type : **MCQ**

Question ID : **62036283**

Option 1 ID : **620362325**

Option 2 ID : **620362327**

Option 3 ID : **620362328**

Option 4 ID : **620362326**

Status : **Answered**

Chosen Option : **2**

Q.20 Choose the correct antonym of the underlined word from the given options.

He extended cordial greetings to the delegates of these countries.

- Ans
- 1. palpable
 - 2. stoic
 - 3. hostile
 - 4. amicable

Question Type : **MCQ**

Question ID : **62036282**

Option 1 ID : **620362323**

Option 2 ID : **620362324**

Option 3 ID : **620362322**

Option 4 ID : **620362321**

Status : **Answered**

Chosen Option : 1

Comprehension:

Read the following information carefully and answer the given questions.

For more than a millennia, Egyptian pharaohs had pyramids constructed and often were buried beneath or within the massive monuments.

Egyptian pharaohs constructed pyramids between the time of King Djoser (reign 2630 to 2611 B.C.), who built a step pyramid at Saqqara, to the time of King Ahmose I (reign 1550 to 1525 B.C.), who built the last known royal pyramid in Egypt at Abydos.

These iconic pyramids displayed the pharaohs' power, wealth and promoted their religious beliefs.

In ancient Egypt, pyramid construction appeared to wane after the reign of Ahmose, with pharaohs instead being buried in the Valley of the Kings near the ancient Egyptian capital of Thebes, which is now modern-day Luxor. The Theban Mapping Project notes on their website that the earliest confirmed royal tomb in the valley was built by Thutmose I (reign 1504 to 1492 B.C.). His predecessor Amenhotep I (reign 1525 to 1504 B.C.) may also have had his tomb built in the Valley of the Kings, although this is a matter of debate among Egyptologists.

It's not entirely clear why pharaohs stopped building royal pyramids, but security concerns could have been a factor.

While pharaohs stopped building pyramids, wealthy private individuals continued the practice. For example a 3,300 year-old tomb at Abydos, which was built for a scribe named Horemheb, had a 23-foot-high (7 meters) pyramid at its entrance, archaeologists announced in 2014.

SubQuestion No : 21

Q.21 The given passage answers which of the following questions?

- Ans
- 1. What religious changes emphasized building tombs underground?
 - 2. Why Ancient Egyptian pharaohs stop building pyramids?
 - 3. How were the Egyptians pyramid built?
 - 4. How Egyptian rulers shared power?

Question Type : **MCQ**

Question ID : **62036298**

Option 1 ID : **620362381**

Option 2 ID : **620362383**

Option 3 ID : **620362382**

Option 4 ID : **620362384**

Status : **Answered**

Chosen Option : 2

Comprehension:

Read the following information carefully and answer the given questions.

For more than a millennia, Egyptian pharaohs had pyramids constructed and often were buried beneath or within the massive monuments.

Egyptian pharaohs constructed pyramids between the time of King Djoser (reign 2630 to 2611 B.C.), who built a step pyramid at Saqqara, to the time of King Ahmose I (reign 1550 to 1525 B.C.), who built the last known royal pyramid in Egypt at Abydos.

These iconic pyramids displayed the pharaohs' power, wealth and promoted their religious beliefs.

In ancient Egypt, pyramid construction appeared to wane after the reign of Ahmose, with pharaohs instead being buried in the Valley of the Kings near the ancient Egyptian capital of Thebes, which is now modern-day Luxor. The Theban Mapping Project notes on their website that the earliest confirmed royal tomb in the valley was built by Thutmose I (reign 1504 to 1492 B.C.). His predecessor Amenhotep I (reign 1525 to 1504 B.C.) may also have had his tomb built in the Valley of the Kings, although this is a matter of debate among Egyptologists.

It's not entirely clear why pharaohs stopped building royal pyramids, but security concerns could have been a factor.

While pharaohs stopped building pyramids, wealthy private individuals continued the practice. For example a 3,300 year-old tomb at Abydos, which was built for a scribe named Horemheb, had a 23-foot-high (7 meters) pyramid at its entrance, archaeologists announced in 2014.

SubQuestion No : 22


Q.22 Which of the following statements is definitely true according to the passage?

Ans  1.

The pharaohs stopped building pyramids due to security concerns.

 2.

Wealthy private individuals were against the construction of pyramids.

 3. Amenhotep I had his tomb built in the Valley of the Kings.

 4.

The last known royal pyramid in Egypt was built at Abydos.

Question Type : **MCQ**

Question ID : **62036299**

Option 1 ID : **620362386**

Option 2 ID : **620362388**

Option 3 ID : **620362385**

Option 4 ID : **620362387**

Status : **Answered**

Chosen Option : **4**

Comprehension:

Read the following information carefully and answer the given questions.

For more than a millennia, Egyptian pharaohs had pyramids constructed and often were buried beneath or within the massive monuments.

Egyptian pharaohs constructed pyramids between the time of King Djoser (reign 2630 to 2611 B.C.), who built a step pyramid at Saqqara, to the time of King Ahmose I (reign 1550 to 1525 B.C.), who built the last known royal pyramid in Egypt at Abydos.

These iconic pyramids displayed the pharaohs' power, wealth and promoted their religious beliefs.

In ancient Egypt, pyramid construction appeared to wane after the reign of Ahmose, with pharaohs instead being buried in the Valley of the Kings near the ancient Egyptian capital of Thebes, which is now modern-day Luxor. The Theban Mapping Project notes on their website that the earliest confirmed royal tomb in the valley was built by Thutmose I (reign 1504 to 1492 B.C.). His predecessor Amenhotep I (reign 1525 to 1504 B.C.) may also have had his tomb built in the Valley of the Kings, although this is a matter of debate among Egyptologists.

It's not entirely clear why pharaohs stopped building royal pyramids, but security concerns could have been a factor.

While pharaohs stopped building pyramids, wealthy private individuals continued the practice. For example a 3,300 year-old tomb at Abydos, which was built for a scribe named Horemheb, had a 23-foot-high (7 meters) pyramid at its entrance, archaeologists announced in 2014.

SubQuestion No : 23

Q.23 In ancient Egypt, pyramid construction started to decline after the reign of

- Ans**
- 1. Ahmose
 - 2. Amenhotep I
 - 3. Djoser
 - 4. Thutmose I

Question Type : **MCQ**

Question ID : **620362100**

Option 1 ID : **620362390**

Option 2 ID : **620362392**

Option 3 ID : **620362389**

Option 4 ID : **620362391**

Status : **Answered**

Chosen Option : **1**

Comprehension:

Read the following information carefully and answer the given questions.

For more than a millennia, Egyptian pharaohs had pyramids constructed and often were buried beneath or within the massive monuments.

Egyptian pharaohs constructed pyramids between the time of King Djoser (reign 2630 to 2611 B.C.), who built a step pyramid at Saqqara, to the time of King Ahmose I (reign 1550 to 1525 B.C.), who built the last known royal pyramid in Egypt at Abydos.

These iconic pyramids displayed the pharaohs' power, wealth and promoted their religious beliefs.

In ancient Egypt, pyramid construction appeared to wane after the reign of Ahmose, with pharaohs instead being buried in the Valley of the Kings near the ancient Egyptian capital of Thebes, which is now modern-day Luxor. The Theban Mapping Project notes on their website that the earliest confirmed royal tomb in the valley was built by Thutmose I (reign 1504 to 1492 B.C.). His predecessor Amenhotep I (reign 1525 to 1504 B.C.) may also have had his tomb built in the Valley of the Kings, although this is a matter of debate among Egyptologists.

It's not entirely clear why pharaohs stopped building royal pyramids, but security concerns could have been a factor.

While pharaohs stopped building pyramids, wealthy private individuals continued the practice. For example a 3,300 year-old tomb at Abydos, which was built for a scribe named Horemheb, had a 23-foot-high (7 meters) pyramid at its entrance, archaeologists announced in 2014.

SubQuestion No : 24

Q.24 What did the iconic pyramids built by Egyptian rulers signify?

- Ans**
- 1. It displayed pharaohs' power.
 - 2. It expressed unity among the rulers.
 - 3. It provided an important insight to Egyptian gods.
 - 4. It promoted their individual conquests.

Question Type : **MCQ**

Question ID : **620362101**

Option 1 ID : **620362396**

Option 2 ID : **620362395**

Option 3 ID : **620362393**

Option 4 ID : **620362394**

Status : **Answered**

Chosen Option : **1**

Comprehension:

Read the following information carefully and answer the given questions.

For more than a millennia, Egyptian pharaohs had pyramids constructed and often were buried beneath or within the massive monuments.

Egyptian pharaohs constructed pyramids between the time of King Djoser (reign 2630 to 2611 B.C.), who built a step pyramid at Saqqara, to the time of King Ahmose I (reign 1550 to 1525 B.C.), who built the last known royal pyramid in Egypt at Abydos.

These iconic pyramids displayed the pharaohs' power, wealth and promoted their religious beliefs.

In ancient Egypt, pyramid construction appeared to wane after the reign of Ahmose, with pharaohs instead being buried in the Valley of the Kings near the ancient Egyptian capital of Thebes, which is now modern-day Luxor. The Theban Mapping Project notes on their website that the earliest confirmed royal tomb in the valley was built by Thutmose I (reign 1504 to 1492 B.C.). His predecessor Amenhotep I (reign 1525 to 1504 B.C.) may also have had his tomb built in the Valley of the Kings, although this is a matter of debate among Egyptologists.

It's not entirely clear why pharaohs stopped building royal pyramids, but security concerns could have been a factor.

While pharaohs stopped building pyramids, wealthy private individuals continued the practice. For example a 3,300 year-old tomb at Abydos, which was built for a scribe named Horemheb, had a 23-foot-high (7 meters) pyramid at its entrance, archaeologists announced in 2014.

SubQuestion No : 25

Q.25 Which of the following words is similar in meaning to the word 'massive' as used in the passage?

- Ans**
- 1. Giant
 - 2. Passive
 - 3. Scanty
 - 4. Rigorous

Question Type : **MCQ**

Question ID : **620362102**

Option 1 ID : **620362400**

Option 2 ID : **620362398**

Option 3 ID : **620362397**

Option 4 ID : **620362399**

Status : **Answered**

Chosen Option : **1**

Section : **General Knowledge**

Q.1 Which of the following is NOT a feature of acids?

- Ans**
- 1. They become less acidic when mixed with bases.
 - 2. They change red litmus to blue.
 - 3. They are corrosive to metals.
 - 4. They taste sour.

Question Type : **MCQ**

Question ID : **620362110**

Option 1 ID : **620362432**

Option 2 ID : **620362431**

Option 3 ID : **620362430**

Option 4 ID : **620362429**

Status : **Answered**

Chosen Option : **1**

Q.2 Which of the following is a Maharatna Central Public Service Enterprise?

- Ans
- 1. Bharat Electronics Limited
 - 2. Airports Authority of India
 - 3. National Aluminium Company Limited
 - 4. Bharat Heavy Electricals Limited

Question Type : **MCQ**

Question ID : **620362108**

Option 1 ID : **620362421**

Option 2 ID : **620362424**

Option 3 ID : **620362423**

Option 4 ID : **620362422**

Status : **Answered**

Chosen Option : **4**

Q.3 Bhagoji Naik who participated in the freedom struggle of 1857 was from which of the following place of Maharashtra?

- Ans
- 1. Ahmednagar
 - 2. Satara
 - 3. Nashik
 - 4. Kolhapur

Question Type : **MCQ**

Question ID : **620362116**

Option 1 ID : **620362456**

Option 2 ID : **620362453**

Option 3 ID : **620362455**

Option 4 ID : **620362454**

Status : **Answered**

Chosen Option : **2**

Q.4 During which of the following period the Mahanubhav Panth and the Varkari movement emerged in Maharashtra?

- Ans
- 1. Yadava period
 - 2. Vakataka period
 - 3. Rashtrakuta period
 - 4. Satvahana period

Question Type : **MCQ**

Question ID : **620362114**

Option 1 ID : **620362445**

Option 2 ID : **620362447**

Option 3 ID : **620362448**

Option 4 ID : **620362446**

Status : **Answered**

Chosen Option : **2**

Q.5 For protesting against which of the following events did Rabindranath Tagore renounce his knighthood?

Ans 1. Jallianwala Bagh massacre

2. Rowlatt Act

3. Simon Commission

4. Bengal division

Question Type : MCQ

Question ID : 620362103

Option 1 ID : 620362402

Option 2 ID : 620362401

Option 3 ID : 620362404

Option 4 ID : 620362403

Status : Answered

Chosen Option : 4

Q.6 According to 2011 population census of India, percentage of tribal population of Maharashtra to its total population is about _____.

Ans 1. 15.35 percent

2. 20.35 percent

3. 5.35 percent

4. 9.35 percent

Question Type : MCQ

Question ID : 620362124

Option 1 ID : 620362487

Option 2 ID : 620362485

Option 3 ID : 620362488

Option 4 ID : 620362486

Status : Answered

Chosen Option : 4

Q.7 Which of the following rivers originates from the Raksas Tal?

Ans 1. Beas

2. Satluj

3. Pindar

4. Brahmaputra

Question Type : MCQ

Question ID : 620362109

Option 1 ID : 620362425

Option 2 ID : 620362427

Option 3 ID : 620362428

Option 4 ID : 620362426

Status : Answered

Chosen Option : 3

Q.8 Which of the following is a literary work of Chhatrapati Sambhaji Mahraaj?

- Ans
- 1. Shivbharat
 - 2. Bhavarth Ramayana
 - 3. Bhavarth Deepika
 - 4. Budhabhusanam

Question Type : **MCQ**

Question ID : **620362119**

Option 1 ID : **620362466**

Option 2 ID : **620362468**

Option 3 ID : **620362467**

Option 4 ID : **620362465**

Status : **Answered**

Chosen Option : **3**

Q.9 The legislature of Maharashtra conducts minimum _____ sessions in a year.

- Ans
- 1. 5
 - 2. 4
 - 3. 3
 - 4. 2

Question Type : **MCQ**

Question ID : **620362126**

Option 1 ID : **620362496**

Option 2 ID : **620362495**

Option 3 ID : **620362494**

Option 4 ID : **620362493**

Status : **Answered**

Chosen Option : **3**

Q.10 In which year was Objectives Resolution (the resolution that defined the aims of the Assembly) moved by Pt. Jawaharlal Nehru?

- Ans
- 1. 1941
 - 2. 1944
 - 3. 1947
 - 4. 1946

Question Type : **MCQ**

Question ID : **620362111**

Option 1 ID : **620362433**

Option 2 ID : **620362434**

Option 3 ID : **620362436**

Option 4 ID : **620362435**

Status : **Answered**

Chosen Option : **3**

Q.11 Which of the following subjects is NOT in the Union List?

- Ans
- ✓ 1. Cyber Laws
 - ✗ 2. Foreign Affairs
 - ✗ 3. Defence
 - ✗ 4. Atomic Energy

Question Type : **MCQ**
Question ID : **620362112**
Option 1 ID : **620362440**
Option 2 ID : **620362439**
Option 3 ID : **620362437**
Option 4 ID : **620362438**
Status : **Answered**
Chosen Option : **3**

Q.12 On which day did Bhagat Singh and B. K. Dutt throw a bomb in the Central Legislative Assembly?

- Ans
- ✗ 1. 17 December 1928
 - ✓ 2. 8 April 1929
 - ✗ 3. 17 December 1929
 - ✗ 4. 8 April 1930

Question Type : **MCQ**
Question ID : **620362104**
Option 1 ID : **620362405**
Option 2 ID : **620362406**
Option 3 ID : **620362407**
Option 4 ID : **620362408**
Status : **Answered**
Chosen Option : **1**

Q.13 Which of the following dances is also known as the “mother of all other Indian classical dances”?

- Ans
- ✗ 1. Kathak
 - ✓ 2. Bharatnatyam
 - ✗ 3. Kathakali
 - ✗ 4. Manipuri

Question Type : **MCQ**
Question ID : **620362105**
Option 1 ID : **620362409**
Option 2 ID : **620362411**
Option 3 ID : **620362412**
Option 4 ID : **620362410**
Status : **Answered**
Chosen Option : **2**

Q.14 Maharashtra ranked _____ in consumption of major petroleum products during the fiscal year 2019-20.

- Ans
- 1. First
 - 2. Third
 - 3. Fourth
 - 4. Second

Question Type : MCQ

Question ID : 620362120

Option 1 ID : 620362469

Option 2 ID : 620362471

Option 3 ID : 620362472

Option 4 ID : 620362470

Status : Answered

Chosen Option : 4

Q.15 Which of the following museum of Maharashtra was earlier recognized as the Prince of Wales Museum?

- Ans
- 1. Chatrapati Shivaji Vastu museum
 - 2. Kolhapur townhall museum
 - 3. Dr. Bhau Daji Lad museum
 - 4. Nagpur central museum

Question Type : MCQ

Question ID : 620362117

Option 1 ID : 620362457

Option 2 ID : 620362459

Option 3 ID : 620362460

Option 4 ID : 620362458

Status : Answered

Chosen Option : 2

Q.16 As per the Union Budget 2021-22, where will the Multipurpose Seaweed Park be set-up?

- Ans
- 1. Maharashtra
 - 2. Odisha
 - 3. Kerala
 - 4. Tamil Nadu

Question Type : MCQ

Question ID : 620362107

Option 1 ID : 620362419

Option 2 ID : 620362420

Option 3 ID : 620362417

Option 4 ID : 620362418

Status : Answered

Chosen Option : 1

Q.17 According to 2011 population census of India, which district has lowest literacy rate in Maharashtra?

- Ans
- 1. Aurangabad
 - 2. Amravati
 - 3. Gadchiroli
 - 4. Nandurbar

Question Type : **MCQ**

Question ID : **620362123**

Option 1 ID : **620362482**

Option 2 ID : **620362481**

Option 3 ID : **620362484**

Option 4 ID : **620362483**

Status : **Answered**

Chosen Option : **4**

Q.18 Which of the following district of Maharashtra does not have zilla parishads?

- Ans
- 1. Osmanabad
 - 2. Nagpur
 - 3. Mumbai Suburban
 - 4. Ahmednagar

Question Type : **MCQ**

Question ID : **620362125**

Option 1 ID : **620362492**

Option 2 ID : **620362491**

Option 3 ID : **620362489**

Option 4 ID : **620362490**

Status : **Answered**

Chosen Option : **3**

Q.19 Which of the following Satavahana King defeated the Shaka King Nahpana?

- Ans
- 1. Shivaskanda
 - 2. Simuk
 - 3. Yajna Sri
 - 4. Gautamiputra Satakarni

Question Type : **MCQ**

Question ID : **620362113**

Option 1 ID : **620362444**

Option 2 ID : **620362441**

Option 3 ID : **620362442**

Option 4 ID : **620362443**

Status : **Answered**

Chosen Option : **3**

Q.20 Maharashtra is made of 36 up of districts, which are grouped into _____ divisions.

- Ans
- 1. 6
 - 2. 8
 - 3. 3
 - 4. 4

Question Type : MCQ

Question ID : 620362121

Option 1 ID : 620362475

Option 2 ID : 620362476

Option 3 ID : 620362474

Option 4 ID : 620362473

Status : Answered

Chosen Option : 1

Q.21 Which of the following pair of Mineral – District of Maharashtra found in is correct?

I. Coal – Nagpur

II. Iron ore – Sindhudurg

- Ans
- 1. Only I
 - 2. Only II
 - 3. Neither I nor II
 - 4. Both I and II

Question Type : MCQ

Question ID : 620362122

Option 1 ID : 620362477

Option 2 ID : 620362478

Option 3 ID : 620362480

Option 4 ID : 620362479

Status : Answered

Chosen Option : 1

Q.22 The Chakradhar Festival is held in which of the following states?

- Ans
- 1. Chhattisgarh
 - 2. Gujarat
 - 3. Madhya Pradesh
 - 4. West Bengal

Question Type : MCQ

Question ID : 620362106

Option 1 ID : 620362414

Option 2 ID : 620362416

Option 3 ID : 620362415

Option 4 ID : 620362413

Status : Answered

Chosen Option : 3

Q.23 The tenure of vidhan sabha of Maharashtra is _____ years.

- Ans
- 1. 3
 - 2. 5
 - 3. 6
 - 4. 2

Question Type : **MCQ**

Question ID : **620362127**

Option 1 ID : **620362498**

Option 2 ID : **620362499**

Option 3 ID : **620362500**

Option 4 ID : **620362497**

Status : **Answered**

Chosen Option : **2**

Q.24 Which of the following book was written by Bal Gangadhar Tilak in Mandalay prison?

- Ans
- 1. Geeta-rahasya
 - 2. Geetanjali
 - 3. Gulamgiri
 - 4. Arctic home in the Vedas

Question Type : **MCQ**

Question ID : **620362115**

Option 1 ID : **620362449**

Option 2 ID : **620362452**

Option 3 ID : **620362451**

Option 4 ID : **620362450**

Status : **Answered**

Chosen Option : **3**

Q.25 Which of the following Marathi Sant wrote 'Abhanga'?

- Ans
- 1. Sant Namdeo
 - 2. Sant Dnyaneshwar
 - 3. Sant Tukaram
 - 4. Sant Eknath

Question Type : **MCQ**

Question ID : **620362118**

Option 1 ID : **620362461**

Option 2 ID : **620362462**

Option 3 ID : **620362463**

Option 4 ID : **620362464**

Status : **Answered**

Chosen Option : **4**

Q.1 If in a certain way, $7 + 4 = 113$ and $9 + 3 = 108$, then find $5+7 = ?$

- Ans
- 1. 247
 - 2. 368
 - 3. 274
 - 4. 386

Question Type : **MCQ**

Question ID : **620362146**

Option 1 ID : **620362573**

Option 2 ID : **620362574**

Option 3 ID : **620362576**

Option 4 ID : **620362575**

Status : **Answered**

Chosen Option : **2**

Q.2 Six boys - P, Q, R, S, T and U sit around a circular table at equal distance facing the center, not necessarily in the same order. R sits opposite to T but not adjacent to S. P sits to the immediate right of S, who sits opposite to Q. Who sits to the immediate right of Q?

- Ans
- 1. R
 - 2. S
 - 3. U
 - 4. T

Question Type : **MCQ**

Question ID : **620362128**

Option 1 ID : **620362502**

Option 2 ID : **620362503**

Option 3 ID : **620362501**

Option 4 ID : **620362504**

Status : **Answered**

Chosen Option : **3**

Q.3 P is mother-in-law of R, and Q is husband of P.S & T are daughter and son of P respectively. U is husband of S, X and Y are daughters of U then how is U related to T?

- Ans
- 1. Cousin
 - 2. Uncle
 - 3. Nephew
 - 4. Brother-in-law

Question Type : **MCQ**

Question ID : **620362141**

Option 1 ID : **620362554**

Option 2 ID : **620362553**

Option 3 ID : **620362555**

Option 4 ID : **620362556**

Status : **Answered**

Chosen Option : **4**

Q.4 Abi walked 3m towards east from her home. Then she turned right and walked 2m and turned left and walked 5m. Now she turned right and walked 2m and turned right and walked 8m. Finally, she turns left and walked 2m to reach the junction. What is the shortest distance between home and the junction?

- Ans**
- 1. 5m
 - 2. 10m
 - 3. 6m
 - 4. 7m

Question Type : **MCQ**

Question ID : **620362151**

Option 1 ID : **620362595**

Option 2 ID : **620362593**

Option 3 ID : **620362596**

Option 4 ID : **620362594**

Status : **Answered**

Chosen Option : **3**

Q.5 The following question consists of two statements followed by two Conclusions. Consider the statements to be true even if they vary from commonly known facts and find out which of the Conclusions logically follow(s) the given statements disregarding the commonly known facts.

Statements:

All fashionable are addicts.

All addicts are noteworthy.

Conclusions:

I. No noteworthy is fashionable.

II. Some noteworthy are fashionable.

- Ans**
- 1. Only II follows
 - 2. Either I or II follows
 - 3. Neither I nor II follow
 - 4. Only I follows

Question Type : **MCQ**

Question ID : **620362130**

Option 1 ID : **620362510**

Option 2 ID : **620362511**

Option 3 ID : **620362512**

Option 4 ID : **620362509**

Status : **Answered**

Chosen Option : **3**

Q.6 Study the following information carefully and answer the question given below.

Statements:

$$Y > L = T, M = T, Y \leq G \leq H$$

Conclusions:

1. $M < Y$

2. $T < G$

- Ans
- 1. Only 1 follows
 - 2. Only 2 follows
 - 3. Neither 1 nor 2 follow
 - 4. Both 1 and 2 follow

Question Type : MCQ

Question ID : 620362133

Option 1 ID : 620362521

Option 2 ID : 620362522

Option 3 ID : 620362524

Option 4 ID : 620362523

Status : Answered

Chosen Option : 4

Q.7 In the following question, which of the two mathematical operation signs will be interchanged to get the correct equation ?

$$119 - 21 \div 7 + 117 \times 3 = 11$$

- Ans
- 1. - and +
 - 2. \div and +
 - 3. - and \times
 - 4. \div and \times

Question Type : MCQ

Question ID : 620362145

Option 1 ID : 620362571

Option 2 ID : 620362570

Option 3 ID : 620362572

Option 4 ID : 620362569

Status : Answered

Chosen Option : 4

Q.8 A person is facing north. He turns 60° in the clock-wise direction then 105° in the anti-clock-wise direction. Which direction is the man facing now?

- Ans**
- 1. North-East
 - 2. South-East
 - 3. West
 - 4. North-West

Question Type : **MCQ**

Question ID : **620362140**

Option 1 ID : **620362551**

Option 2 ID : **620362552**

Option 3 ID : **620362549**

Option 4 ID : **620362550**

Status : **Answered**

Chosen Option : **4**

Q.9 In the following question, select the missing number from the given series.

101, 106, 116, 131, 151, ?

- Ans**
- 1. 176
 - 2. 166
 - 3. 156
 - 4. 146

Question Type : **MCQ**

Question ID : **620362144**

Option 1 ID : **620362565**

Option 2 ID : **620362566**

Option 3 ID : **620362567**

Option 4 ID : **620362568**

Status : **Answered**

Chosen Option : **1**

Q.10 In a certain coded language, "TODAY" is coded as "23" and "MOON" is coded as "14". Then, what will be the code for "CHANNELS" in that coded language?

- Ans**
- 1. 79
 - 2. 47
 - 3. 23
 - 4. 62

Question Type : **MCQ**

Question ID : **620362138**

Option 1 ID : **620362543**

Option 2 ID : **620362542**

Option 3 ID : **620362541**

Option 4 ID : **620362544**

Status : **Answered**

Chosen Option : **2**

Q.11 Six people A, B, C, D, E and F sit around a circular table, not necessarily in the same order. B sits opposite to E and A sits opposite to F. Neither A nor C sits adjacent to B. If A sits to the immediate right of D, then in which order these six people sit, starting from A, in clockwise direction?

- Ans**
- 1. AFDBCE
 - 2. ADBCFE
 - 3. ADBFCE
 - 4. ADFBCE

Question Type : **MCQ**

Question ID : **620362148**

Option 1 ID : **620362584**

Option 2 ID : **620362581**

Option 3 ID : **620362582**

Option 4 ID : **620362583**

Status : **Answered**

Chosen Option : **3**

Q.12 If C is daughter of A but A is not the father of C, E is Niece of C.E is daughter of F where F is husband of D and F has no siblings. How is C related to D?

- Ans**
- 1. Sister
 - 2. Aunty
 - 3. Father
 - 4. Brother

Question Type : **MCQ**

Question ID : **620362152**

Option 1 ID : **620362599**

Option 2 ID : **620362598**

Option 3 ID : **620362597**

Option 4 ID : **620362600**

Status : **Answered**

Chosen Option : **1**

Q.13 The question given below consists of a question and two statements numbered I and II given below it. You have to decide whether the data given in statements are sufficient to answer the question. Read both statements and choose the most appropriate option.

Question :

In which direction is Anish with respect to Vinish?

Statements :

I. Anish is 2 m to the right of Sujay, Who faces North. Vinish is 7 m to the South of Sujay.

II. Vinish is 5 m to the North of Sujay, who is 7 m to the West of Anish.

- Ans**
- 1. Only statement I is sufficient.
 - 2. Statements I and II are sufficient.
 - 3. Only statement II is sufficient.
 - 4. Either statement I only or II only is sufficient.

Question Type : **MCQ**

Question ID : **620362142**

Option 1 ID : **620362559**

Option 2 ID : **620362558**

Option 3 ID : **620362557**

Option 4 ID : **620362560**

Status : **Answered**

Chosen Option : **2**

Q.14 What will come in place of the question mark (?) in the following series?

SGI, ? , AOZ, HSW, QWU, BAT

- Ans**
- 1. VKC
 - 2. VKD
 - 3. WJC
 - 4. WKE

Question Type : **MCQ**

Question ID : **620362135**

Option 1 ID : **620362532**

Option 2 ID : **620362531**

Option 3 ID : **620362529**

Option 4 ID : **620362530**

Status : **Answered**

Chosen Option : **3**

Q.15 In a certain code language, if the word 'REJECTION' is coded as SGMHWPWW, then how is the word 'MECHANIC' coded in that language?

- Ans**
- 1. NGFKFTPK
 - 2. NGPLFTPK
 - 3. NGPTPKIL
 - 4. NGFLFTPK

Question Type : **MCQ**

Question ID : **620362139**

Option 1 ID : **620362547**

Option 2 ID : **620362546**

Option 3 ID : **620362548**

Option 4 ID : **620362545**

Status : **Answered**

Chosen Option : **1**

Q.16 Six girls P, Q, R, S, T and U are sitting in a row, not necessarily in the same order. T sits exactly in between R and Q. P sits exactly in between Q and U. Who sits exactly in between T and P?

- Ans**
- 1. R
 - 2. Q
 - 3. S
 - 4. U

Question Type : **MCQ**

Question ID : **620362129**

Option 1 ID : **620362506**

Option 2 ID : **620362505**

Option 3 ID : **620362507**

Option 4 ID : **620362508**

Status : **Answered**

Chosen Option : **2**

Q.17 In the following question, select the related word from the given alternatives.

Kabaddi : Seven :: Polo : ?

- Ans**
- 1. Four
 - 2. One
 - 3. Eleven
 - 4. Five

Question Type : **MCQ**

Question ID : **620362136**

Option 1 ID : **620362535**

Option 2 ID : **620362534**

Option 3 ID : **620362533**

Option 4 ID : **620362536**

Status : **Answered**

Chosen Option : **3**

Q.18 If 1st January 2012 is a Sunday, then which day of the week will the New Year be celebrated in 2016?

Ans 1. Wednesday

2. Friday

3. Sunday

4. Saturday

Question Type : **MCQ**

Question ID : **620362137**

Option 1 ID : **620362539**

Option 2 ID : **620362537**

Option 3 ID : **620362538**

Option 4 ID : **620362540**

Status : **Answered**

Chosen Option : **2**

Q.19 Six children A, B, C, D, E and F were standing in a row in the decreasing order of height. Each child was of different height. A was shorter than only one child. There were 3 children shorter than C but taller than E. E was taller than B. D was taller than F. Who was the 3rd tallest child?

Ans 1. D

2. F

3. B

4. A

Question Type : **MCQ**

Question ID : **620362134**

Option 1 ID : **620362525**

Option 2 ID : **620362526**

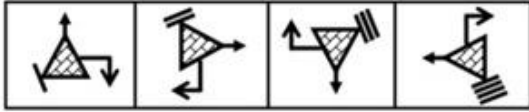
Option 3 ID : **620362527**

Option 4 ID : **620362528**

Status : **Answered**

Chosen Option : **2**

Q.20 Select the figure that will come next in the following series.



Ans



Question Type : **MCQ**

Question ID : **620362143**

Option 1 ID : **620362564**

Option 2 ID : **620362561**

Option 3 ID : **620362563**

Option 4 ID : **620362562**

Status : **Not Answered**

Chosen Option : --

Q.21 In a certain code language "STAY" is written as "19403100". How is "HOUR" written in that code language?

Ans ✗ 1. 8306072

✗ 2. 8456478

✓ 3. 8306372

✗ 4. 8456372

Question Type : **MCQ**

Question ID : **620362150**

Option 1 ID : **620362590**

Option 2 ID : **620362591**

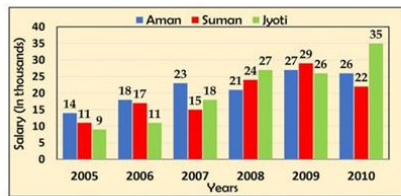
Option 3 ID : **620362592**

Option 4 ID : **620362589**

Status : **Not Answered**

Chosen Option : --

Q.22 Study the following Bar-graph carefully to answer the questions that follow. The graph shows monthly income (in thousand) in six different years by Aman, Suman and Jyoti.



What was the difference between the average monthly income of Aman in all the years together and Suman's monthly income in the year 2007?

- Ans**
- 1. Rs. 7.5 thousand
 - 2. Rs. 5.5 thousand
 - 3. Rs. 8.5 thousand
 - 4. Rs. 6.5 thousand

Question Type : **MCQ**

Question ID : **620362147**

Option 1 ID : **620362579**

Option 2 ID : **620362577**

Option 3 ID : **620362580**

Option 4 ID : **620362578**

Status : **Not Answered**

Chosen Option : --

Q.23 The following question consists of three statements followed by four Conclusions. Consider the statements to be true even if they vary from commonly known facts and find out which of the Conclusions logically follow(s) the given statements disregarding the commonly known facts.

Statements:

No door is a window.

Some windows are curtains.

All doors are ventilators.

Conclusions:

I. Some curtains are doors.

II. Some ventilators are not windows.

III. Some curtains are not doors.

IV. Some windows are doors.

- Ans**
- 1. None of the given conclusions follows
 - 2. Only II and IV follow
 - 3. Only III follows
 - 4. Only I and IV follow

Question Type : **MCQ**

Question ID : **620362131**

Option 1 ID : **620362514**

Option 2 ID : **620362516**

Option 3 ID : **620362513**

Option 4 ID : **620362515**

Status : **Not Answered**

Chosen Option : --

Q.24 Study the following information carefully and answer the question given below.

Statements:

$$G = D \geq M, G > F > K, Y < M$$

Conclusions:

1. $Y < D$

2. $K \leq M$

- Ans
- 1. Both 1 and 2 follow
 - 2. Only 2 follows
 - 3. Neither 1 nor 2 follow
 - 4. Only 1 follows

Question Type : **MCQ**

Question ID : **620362132**

Option 1 ID : **620362519**

Option 2 ID : **620362518**

Option 3 ID : **620362520**

Option 4 ID : **620362517**

Status : **Not Answered**

Chosen Option : --

Q.25 Five persons - A, B, C, D and E live in different cities among Surat, Pali, Dimapur, Bilaspur and Kota. The person who lives in Bilaspur owns a red coloured house. C owns a white coloured house. A owns a green coloured house which is in Pali. D lives in Kota. The person who lives in Dimapur has a yellow coloured house. Where does C live?

- Ans
- 1. Dimapur
 - 2. Kota
 - 3. Bilaspur
 - 4. Surat

Question Type : **MCQ**

Question ID : **620362149**

Option 1 ID : **620362586**

Option 2 ID : **620362588**

Option 3 ID : **620362587**

Option 4 ID : **620362585**

Status : **Not Answered**

Chosen Option : --



Maharashtra Housing and Area Development Authority-2021
महाराष्ट्र गृहनिर्माण व क्षेत्रविकास प्राधिकरण-२०२१

Participant ID	
Participant Name	
Test Center Name	
Test Date	02/02/2022
Test Time	9:00 AM - 11:00 AM
Subject	Cluster 7

Section : Marathi Language

Q.1 खालील शब्दाचा विग्रह करा.

चहापाणी

Ans ✓ 1. चहा, पाणी व फराळाचे इतर पदार्थ

✗ 2. चहा किंवा पाणी

✗ 3. चहा आणि पाणी

✗ 4. यापैकी नाही.

Question Type : MCQ

Question ID : 91028119

Option 1 ID : 91028175

Option 2 ID : 91028173

Option 3 ID : 91028174

Option 4 ID : 91028176

Status : Answered

Chosen Option : 1

Q.2 खाली दिलेल्या शब्दाचा अनेकवचनी शब्द सांगा:

वाडा

Ans ✓ 1. वाडे

✗ 2. वाडा

✗ 3. वाडी

✗ 4. वाड

Question Type : MCQ

Question ID : 91028125

Option 1 ID : 91028198

Option 2 ID : 910281100

Option 3 ID : 91028197

Option 4 ID : 91028199

Status : Answered

Chosen Option : 1

Q.3 खालील शब्दाचा समानार्थी शब्द सांगा:

देव

- Ans 1. भगवंत
 2. राक्षस
 3. असुर
 4. दैत्य

Question Type : MCQ

Question ID : 91028126

Option 1 ID : 910281101

Option 2 ID : 910281104

Option 3 ID : 910281102

Option 4 ID : 910281103

Status : Answered

Chosen Option : 1

Q.4 खालील वाक्याचा काळ ओळखा:

राजू उद्या गावी जाईल.

- Ans 1. भविष्यकाळ
 2. चालू वर्तमानकाळ
 3. साधा भूतकाळ
 4. चालू भूतकाळ

Question Type : MCQ

Question ID : 91028116

Option 1 ID : 91028163

Option 2 ID : 91028161

Option 3 ID : 91028162

Option 4 ID : 91028164

Status : Answered

Chosen Option : 1

Q.5 खालील शब्दाचा विरुद्धार्थी शब्द सांगा:

गोड

- Ans 1. चविष्ट
 2. मधुर
 3. रुचकर
 4. कडू

Question Type : MCQ

Question ID : 91028132

Option 1 ID : 910281127

Option 2 ID : 910281125

Option 3 ID : 910281128

Option 4 ID : 910281126

Status : Answered

Chosen Option : 4

Q.6 भीमाने बकासुरास मारले. या वाक्याचा प्रयोग ओळखा.

- Ans 1. कर्मकर्तरी प्रयोग
 2. कर्तरी प्रयोग
 3. कर्मणी प्रयोग
 4. भावे प्रयोग

Question Type : MCQ

Question ID : 91028136

Option 1 ID : 910281144

Option 2 ID : 910281143

Option 3 ID : 910281141

Option 4 ID : 910281142

Status : Answered

Chosen Option : 4

Q.7 खालील वाक्याचा विधानार्थी वाक्यात रूपांतर करा.

केवढी उंच आहे टेकडी ही!

- Ans 1. केवढी उंच टेकडी ही.
 2. केवढी उंच टेकडी आहे ही?
 3. ही टेकडी फार उंच आहे.
 4. केवढी उंच टेकडी ही?

Question Type : MCQ

Question ID : 91028135

Option 1 ID : 910281138

Option 2 ID : 910281139

Option 3 ID : 910281140

Option 4 ID : 910281137

Status : Answered

Chosen Option : 3

Q.8 खालील शब्दाचा समानार्थी शब्द सांगा:

चंद्र

- Ans 1. वरुण
 2. शशी
 3. आदित्य
 4. भास्कर

Question Type : MCQ

Question ID : 91028129

Option 1 ID : 910281115

Option 2 ID : 910281116

Option 3 ID : 910281113

Option 4 ID : 910281114

Status : Answered

Chosen Option : 2

Q.9 नामाबद्दल विशेष माहिती सांगणाऱ्या शब्दाला _____ म्हणतात.

- Ans
- 1. क्रियाविशेषण
 - 2. सर्वनाम
 - 3. नाम
 - 4. विशेषण

Question Type : MCQ
Question ID : 91028112
Option 1 ID : 91028147
Option 2 ID : 91028146
Option 3 ID : 91028148
Option 4 ID : 91028145
Status : Answered
Chosen Option : 4

Q.10 खालील वाक्याचा विधानार्थी वाक्यात रूपांतर करा.

शाळा सुटल्यानंतर थेट घरी जा.

- Ans
- 1. शाळा सुटल्यानंतर थेट घरी जा?
 - 2. शाळा सुटल्यानंतर थेट घरी जाऊ नये.
 - 3. शाळा सुटल्यानंतर थेट घरी जावे.
 - 4. शाळा सुटल्यानंतर थेट घरी जायला कुणाला आवडेल?

Question Type : MCQ
Question ID : 91028134
Option 1 ID : 910281135
Option 2 ID : 910281134
Option 3 ID : 910281133
Option 4 ID : 910281136
Status : Answered
Chosen Option : 3

Q.11 1938 साली मुंबई येथे भरलेल्या साहित्य संमेलनात व्युत्पत्ती कोशाची जबाबदारी _____ यांच्यावर सोपवण्यात आली.

- Ans
- 1. वा.गो. आपटे
 - 2. ह.अ. भावे
 - 3. कृ. पां. कुलकर्णी
 - 4. जयवंत दळवी

Question Type : MCQ
Question ID : 91028145
Option 1 ID : 910281177
Option 2 ID : 910281178
Option 3 ID : 910281179
Option 4 ID : 910281180
Status : Answered
Chosen Option : 4

Q.12 कर्मणिप्रयोगाचे योग्य उदाहरण ओळखा:

- 1) तो गाणे गातो.
- 2) ती घरी गेली.
- 3) त्याने पेरू खाल्ला.
- 4) यापैकी नाही.

Ans 1. 1

2. 4

3. 2

4. 3

Question Type : MCQ

Question ID : 9102818

Option 1 ID : 91028129

Option 2 ID : 91028132

Option 3 ID : 91028130

Option 4 ID : 91028131

Status : Answered

Chosen Option : 4

Q.13 खाली दिलेल्या शब्दाचा समास ओळखा:

चातुर्मास

Ans 1. द्विगू समास

2. तत्पुरुष समास

3. बहुव्रीही समास

4. अव्ययीभाव समास

Question Type : MCQ

Question ID : 91028117

Option 1 ID : 91028165

Option 2 ID : 91028166

Option 3 ID : 91028168

Option 4 ID : 91028167

Status : Answered

Chosen Option : 1

Q.14 खालील वाक्य प्रकार ओळखा:

मी उत्तीर्ण झालो कारण मी खूप अभ्यास केला.

Ans 1. यापैकी नाही

2. संयुक्त वाक्य

3. मिश्र वाक्य

4. केवल वाक्य

Question Type : MCQ

Question ID : 9102812

Option 1 ID : 9102818

Option 2 ID : 9102816

Option 3 ID : 9102817

Option 4 ID : 9102815

Status : Answered

Chosen Option : 3

Q.15 खालील शब्दाचा लिंग बदला:

मुले

- Ans 1. मुलगे
 2. मुली
 3. मूल
 4. मुलगी

Question Type : MCQ
Question ID : 91028120
Option 1 ID : 91028179
Option 2 ID : 91028178
Option 3 ID : 91028180
Option 4 ID : 91028177
Status : Answered
Chosen Option : 2

Q.16 खालील वाक्याचे क्रियापद ओळखा.

मी रोज एखादे पुस्तक वाचतो.

- Ans 1. मी
 2. वाचतो
 3. एखादे
 4. पुस्तक

Question Type : MCQ
Question ID : 91028110
Option 1 ID : 91028137
Option 2 ID : 91028140
Option 3 ID : 91028138
Option 4 ID : 91028139
Status : Answered
Chosen Option : 2

Q.17 खाली दिलेल्या शब्दाचा एकवचन करा.

पाने

- Ans 1. पान
 2. पृष्ठ
 3. पानी
 4. पर्ण

Question Type : MCQ
Question ID : 91028124
Option 1 ID : 91028195
Option 2 ID : 91028194
Option 3 ID : 91028196
Option 4 ID : 91028193
Status : Answered
Chosen Option : 1

Q.18 खालील शब्दाचे योग्य अनेकवचनी रूप ओळखा:

कुत्रा

- Ans 1. यापैकी नाही
 2. कुत्रा
 3. कुत्री
 4. कुत्रे

Question Type : MCQ
Question ID : 9102814
Option 1 ID : 91028116
Option 2 ID : 91028114
Option 3 ID : 91028113
Option 4 ID : 91028115
Status : Answered
Chosen Option : 4

Q.19 कर्मणी प्रयोगात कर्म _____ असते.

- Ans 1. तृतीयान्त
 2. द्वितीयान्त
 3. चतुर्थान्त
 4. प्रथमान्त

Question Type : MCQ
Question ID : 91028138
Option 1 ID : 910281150
Option 2 ID : 910281151
Option 3 ID : 910281152
Option 4 ID : 910281149
Status : Answered
Chosen Option : 4

Q.20 खालील शब्दाचा समानार्थी शब्द सांगा:

प्रकाश

- Ans 1. तिमिर
 2. घन
 3. तम
 4. उजेड

Question Type : MCQ
Question ID : 91028127
Option 1 ID : 910281106
Option 2 ID : 910281108
Option 3 ID : 910281107
Option 4 ID : 910281105
Status : Answered
Chosen Option : 4

Q.21 खालील शब्दाचा विरुद्धार्थी शब्द सांगा:

जहाल

- Ans 1. कडक
 2. ज्वलंत
 3. मवाळ
 4. तापट

Question Type : MCQ
Question ID : 9102816
Option 1 ID : 91028121
Option 2 ID : 91028122
Option 3 ID : 91028123
Option 4 ID : 91028124
Status : Answered
Chosen Option : 3

Q.22 खालील शब्दाचा विरुद्धार्थी शब्द सांगा:

वर

- Ans 1. वधू
 2. आवर
 3. विवर
 4. सावर

Question Type : MCQ
Question ID : 91028133
Option 1 ID : 910281131
Option 2 ID : 910281129
Option 3 ID : 910281132
Option 4 ID : 910281130
Status : Answered
Chosen Option : 1

Q.23 'कणा' ही कविता कोणी लिहिली?

- Ans 1. कुसुमाग्रज
 2. केशवसुत
 3. केशवकुमार
 4. गोविंदाग्रज

Question Type : MCQ
Question ID : 9102819
Option 1 ID : 91028133
Option 2 ID : 91028135
Option 3 ID : 91028136
Option 4 ID : 91028134
Status : Answered
Chosen Option : 1

Q.24 मराठी विश्वकोश मंडळाच्या _____ 9 वर्षे अध्यक्ष होत्या.

- Ans 1. डॉ. विजया वाड
 2. आशा बगे
 3. अरुणा ढेरे
 4. नीरजा

Question Type : MCQ
Question ID : 91028144
Option 1 ID : 910281173
Option 2 ID : 910281176
Option 3 ID : 910281174
Option 4 ID : 910281175
Status : Answered
Chosen Option : 3

Q.25 खालील शब्दाचा विरुद्धार्थी शब्द सांगा:

प्रसरण

- Ans 1. द्रावण
 2. आकुंचन
 3. संप्लवन
 4. संकलन

Question Type : MCQ
Question ID : 91028130
Option 1 ID : 910281118
Option 2 ID : 910281120
Option 3 ID : 910281117
Option 4 ID : 910281119
Status : Answered
Chosen Option : 2

Q.26 योग्य विरामचिन्हे वापरून खालील पर्याय निवडा.

चिटू ओरडला मी येत नाही जा

- Ans 1. चिटू ओरडला, "मी येत नाही जा!"
 2. चिटू ओरडला मी येत नाही जा!
 3. चिटू ओरडला, "मी येत नाही जा"
 4. चिटू ओरडला, मी येत नाही जा

Question Type : MCQ
Question ID : 91028141
Option 1 ID : 910281164
Option 2 ID : 910281162
Option 3 ID : 910281163
Option 4 ID : 910281161
Status : Answered
Chosen Option : 1

Q.27 'प्राक्तनाचे संदर्भ' हा _____ यांचा कवितासंग्रह आहे.

- Ans 1. द.भा. धामणस्कर
 2. विजया वाड
 3. संजीवनी बोकील
 4. अरुणा ढेरे

Question Type : MCQ

Question ID : 91028142

Option 1 ID : 910281166

Option 2 ID : 910281165

Option 3 ID : 910281168

Option 4 ID : 910281167

Status : Answered

Chosen Option : 1

Q.28 योग्य विरामचिन्हे वापरून खालील पर्याय निवडा.

अय्या तुम्ही कधी आलात

- Ans 1. अय्या! तुम्ही कधी आलात?
 2. अय्या तुम्ही कधी आलात?
 3. अय्या तुम्ही कधी आलात!
 4. अय्या? तुम्ही कधी आलात?

Question Type : MCQ

Question ID : 91028140

Option 1 ID : 910281159

Option 2 ID : 910281157

Option 3 ID : 910281158

Option 4 ID : 910281160

Status : Answered

Chosen Option : 1

Q.29 खालील वाक्यातील सामासिक शब्द ओळखा:

मीना भाजीपाला आणायला गेली आहे.

- Ans 1. आणायला
 2. मीना
 3. गेली
 4. भाजीपाला

Question Type : MCQ

Question ID : 91028118

Option 1 ID : 91028169

Option 2 ID : 91028170

Option 3 ID : 91028172

Option 4 ID : 91028171

Status : Answered

Chosen Option : 4

Q.30 ठळक अक्षरात लिहिलेल्या शब्दाचा समास ओळखा:

पुढील सप्ताह रस्ता सुरक्षा सप्ताह म्हणून साजरा केला जाणार आहे.

- Ans
- 1. तत्पुरुष समास
 - 2. अव्ययीभाव समास
 - 3. बहुव्रीहि समास
 - 4. द्विगु समास

Question Type : MCQ
Question ID : 9102813
Option 1 ID : 9102819
Option 2 ID : 91028111
Option 3 ID : 91028112
Option 4 ID : 91028110
Status : Answered
Chosen Option : 4

Q.31 खालील वाक्यातील काळ ओळखा:

मी पुस्तक वाचले होते.

- Ans
- 1. अपूर्ण भूतकाळ
 - 2. यापैकी नाही
 - 3. पूर्ण भूतकाळ
 - 4. साधा भूतकाळ

Question Type : MCQ
Question ID : 9102811
Option 1 ID : 9102813
Option 2 ID : 9102814
Option 3 ID : 9102812
Option 4 ID : 9102811
Status : Answered
Chosen Option : 3

Q.32 क्रियापदाला काय असा प्रश्न विचारल्यावर येणारे उत्तर म्हणजे _____ असते.

- Ans
- 1. विशेषण
 - 2. नाम
 - 3. क्रियाविशेषण
 - 4. कर्म

Question Type : MCQ
Question ID : 91028111
Option 1 ID : 91028141
Option 2 ID : 91028144
Option 3 ID : 91028143
Option 4 ID : 91028142
Status : Answered
Chosen Option : 4

Q.33 ठळक अक्षरातील शब्दाचे लिंग ओळखा:

रमेशने पेरू आणला.

- Ans 1. पुल्लिंग
 2. यापैकी नाही
 3. स्त्रीलिंग
 4. नपुंसकलिंग

Question Type : MCQ
Question ID : 91028121
Option 1 ID : 91028182
Option 2 ID : 91028184
Option 3 ID : 91028183
Option 4 ID : 91028181
Status : Answered
Chosen Option : 1

Q.34 ज्या क्रियापदांचा अर्थ पूर्ण होण्यास कर्माची गरज असते त्यांना _____ क्रियापदे म्हणतात.

- Ans 1. सकर्मक
 2. सिद्ध
 3. साधित
 4. अकर्मक

Question Type : MCQ
Question ID : 91028113
Option 1 ID : 91028149
Option 2 ID : 91028151
Option 3 ID : 91028152
Option 4 ID : 91028150
Status : Answered
Chosen Option : 1

Q.35 गटात न बसणारा शब्द ओळखा:

कनक, सुवर्ण, कांस्य, कांचन

- Ans 1. सुवर्ण
 2. कांस्य
 3. कनक
 4. कांचन

Question Type : MCQ
Question ID : 91028128
Option 1 ID : 910281110
Option 2 ID : 910281111
Option 3 ID : 910281109
Option 4 ID : 910281112
Status : Answered
Chosen Option : 1

Q.36 खालील शब्दाचा समानार्थी शब्द सांगा:

पक्षी

- Ans 1. चतुष्पाद
 2. पशू
 3. खग
 4. प्राणी

Question Type : MCQ
Question ID : 9102817
Option 1 ID : 91028128
Option 2 ID : 91028125
Option 3 ID : 91028126
Option 4 ID : 91028127
Status : Answered
Chosen Option : 3

Q.37 खालील शब्दाचा लिंग बदला:

कोकिल

- Ans 1. कावळा
 2. चिमणी
 3. कोकिला
 4. मैना

Question Type : MCQ
Question ID : 91028122
Option 1 ID : 91028185
Option 2 ID : 91028188
Option 3 ID : 91028187
Option 4 ID : 91028186
Status : Answered
Chosen Option : 4

Q.38 'किस्से शास्त्रज्ञांचे' या पुस्तकाचे लेखक _____ आहेत.

- Ans 1. डॉ. सुनील विभुते
 2. ज. वि. पवार
 3. नितीन रिंढे
 4. निरंजन घाटे

Question Type : MCQ
Question ID : 91028123
Option 1 ID : 91028189
Option 2 ID : 91028192
Option 3 ID : 91028190
Option 4 ID : 91028191
Status : Answered
Chosen Option : 1

Q.39 'अज्ञात झन्यावर' हा _____ यांचा कथासंग्रह आहे.

- Ans 1. अरुणा ढेरे
 2. दुर्गा भागवत
 3. ना.सी. फडके
 4. वि. स. खांडेकर

Question Type : MCQ

Question ID : 91028143

Option 1 ID : 910281172

Option 2 ID : 910281171

Option 3 ID : 910281170

Option 4 ID : 910281169

Status : Answered

Chosen Option : 2

Q.40 खालील वाक्याचा काळ बदला:

समीर शाळेत जात होता. (साधा वर्तमानकाळ करा)

- Ans 1. समीर शाळेत जात आहे.
 2. समीर शाळेत जात असेल.
 3. समीर शाळेत जातो.
 4. समीर शाळेत जाईल.

Question Type : MCQ

Question ID : 91028114

Option 1 ID : 91028156

Option 2 ID : 91028154

Option 3 ID : 91028155

Option 4 ID : 91028153

Status : Answered

Chosen Option : 1

Q.41 चूक सुधारून वाक्य पुन्हा लिहा:

माझा गनवेस माला आवडतो.

- Ans 1. माझा गनवेष मला आवडतो.
 2. माझा गनवेश माला आवडतो.
 3. माझा गणवेश मला आवडतो.
 4. माझा गणवेस मला आवडतो.

Question Type : MCQ

Question ID : 91028139

Option 1 ID : 910281156

Option 2 ID : 910281154

Option 3 ID : 910281155

Option 4 ID : 910281153

Status : Answered

Chosen Option : 3

Q.42 खालील शब्दाचे स्त्रीलिंगी रूप ओळखा:

मुलगा

- Ans 1. मुले
 2. मुलगे
 3. मुलगी
 4. मूल

Question Type : MCQ
Question ID : 9102815
Option 1 ID : 91028118
Option 2 ID : 91028117
Option 3 ID : 91028119
Option 4 ID : 91028120
Status : Answered
Chosen Option : 3

Q.43 खालील वाक्याचा काळ ओळखा:

मी गावी जात आहे.

- Ans 1. चालू वर्तमानकाळ
 2. चालू भविष्यकाळ
 3. चालू भूतकाळ
 4. साधा वर्तमानकाळ

Question Type : MCQ
Question ID : 91028115
Option 1 ID : 91028157
Option 2 ID : 91028159
Option 3 ID : 91028158
Option 4 ID : 91028160
Status : Answered
Chosen Option : 1

Q.44 खालील शब्दाचा विरुद्धार्थी शब्द सांगा:

आस्तिक

- Ans 1. नास्तिक
 2. ऐहिक
 3. स्वस्तिक
 4. ऐच्छिक

Question Type : MCQ
Question ID : 91028131
Option 1 ID : 910281122
Option 2 ID : 910281124
Option 3 ID : 910281121
Option 4 ID : 910281123
Status : Answered
Chosen Option : 1

Q.45 मी पेढा खाल्ला. या वाक्याचा प्रयोग ओळखा.

- Ans 1. कर्तरी प्रयोग
 2. कर्मणी प्रयोग
 3. भावे प्रयोग
 4. भावकर्तरी प्रयोग

Question Type : MCQ

Question ID : 91028137

Option 1 ID : 910281147

Option 2 ID : 910281145

Option 3 ID : 910281146

Option 4 ID : 910281148

Status : Answered

Chosen Option : 2

Comprehension:

खालील परिच्छेद काळजीपूर्वक वाचा आणि दिलेल्या प्रश्नांची उत्तरे द्या.

इंग्लंड देश स्वतःला आधुनिक राष्ट्र संकल्पनेचा उद्गाता समजतो. फ्रेंच राज्यक्रांती आणि नेपोलियनच्या युद्धानंतर 'राष्ट्र' 'राष्ट्रवाद' आदी विषयांचा प्रारंभ झाला असे काही विद्वानांचे मत. युरोपचा इतिहास बघितला तर राष्ट्रीय भावनेच्या संकल्पनेस मुख्यत्वे दुसऱ्या देशांशी युद्ध खेळताना अधिक बळ मिळाले. हन्टिंग्टनच्या मताप्रमाणे युद्धे, राज्य तयार करतात आणि त्यातून राष्ट्रे निर्माण होतात. मायकेल हावर्ड म्हणतो की, "कोणतेही राष्ट्र खऱ्या अर्थाने युद्धाशिवाय निर्माण होऊ शकत नाही." राष्ट्रीय भाषा, साहित्य, न्यायव्यवस्था, प्रतिनिधी सरकार, विदेशी व्यापार, युद्ध, शांती इ. तत्त्वांनी राष्ट्रीय भावनांना हळूहळू प्रोत्साहन दिले. पुढे औद्योगिक क्रांतीने यांस अधिक गती मिळाली.

रवींद्रनाथ ठाकूर यांनी विदेशात प्रवास केला त्यावेळी 'राष्ट्र' ही संकल्पना अन्य ठिकाणी कशी आहे, यावर भाष्य केले आहे. ते लिहितात, 'पश्चिमेत 'राष्ट्र' या संकल्पनेचा झालेला विकास भारतापासून भिन्न आहे. प्राचीन काळी तिथे प्राथमिक गरजांच्या पूर्ततेसाठी माणसांचे कबिले संघर्ष करत फिरत होते. कबिल्याची एक बोली भाषा विकसित झाली. कबिल्याचे नेतृत्व निर्माण झाले. या नेतृत्वाने आपल्या समूहाची राखण करण्यासाठी हळूहळू सेना तयार केली. शांती स्थापनेसाठी काही नियम, कायदे बनविण्यात आले. प्रशासन अस्तित्वात आले. अधिकाधिक लूट करता यावी म्हणून हे कबिले संघटित राहू लागले. अधिकाधिक शक्ती-अधिकाधिक लूट- अधिक उपभोग हे त्यांचे सूत्र राहिले. हे कबिले जिथे-जिथे स्थायिक झाले तिथे कालांतराने त्याची पृथक-पृथक राज्ये होत गेली. एक जात – एक भाषा – एक संप्रदाय हेच, त्यांचे राज्य आणि राष्ट्र यांचा आधार बनत गेले. त्यांची राष्ट्राच्या विकासाची ही कल्पना आहे.

SubQuestion No : 46

Q.46 एक जात – एक भाषा – _____ हेच, त्यांचे राज्य आणि राष्ट्र यांचा आधार बनत गेले.

- Ans 1. एक संप्रदाय
 2. एक लुटारू
 3. एक कबिला
 4. एक माणूस

Question Type : MCQ

Question ID : 91028150

Option 1 ID : 910281196

Option 2 ID : 910281194

Option 3 ID : 910281193

Option 4 ID : 910281195

Status : Answered

Chosen Option : 1

Comprehension:

खालील परिच्छेद काळजीपूर्वक वाचा आणि दिलेल्या प्रश्नांची उत्तरे द्या.

इंग्लंड देश स्वतःला आधुनिक राष्ट्र संकल्पनेचा उदात्ता समजतो. फ्रेंच राज्यक्रांती आणि नेपोलियनच्या युद्धानंतर 'राष्ट्र' 'राष्ट्रवाद' आदी विषयांचा प्रारंभ झाला असे काही विद्वानांचे मत. युरोपचा इतिहास बघितला तर राष्ट्रीय भावनेच्या संकल्पनेस मुख्यत्वे दुसऱ्या देशांशी युद्ध खेळताना अधिक बळ मिळाले. हन्टिंग्टनच्या मताप्रमाणे युद्धे, राज्य तयार करतात आणि त्यातून राष्ट्रे निर्माण होतात. मायकेल हावर्ड म्हणतो की, "कोणतेही राष्ट्र खऱ्या अर्थाने युद्धाशिवाय निर्माण होऊ शकत नाही." राष्ट्रीय भाषा, साहित्य, न्यायव्यवस्था, प्रतिनिधी सरकार, विदेशी व्यापार, युद्ध, शांती इ. तत्वांनी राष्ट्रीय भावनांना हळूहळू प्रोत्साहन दिले. पुढे औद्योगिक क्रांतीने यांस अधिक गती मिळाली.

रवींद्रनाथ ठाकूर यांनी विदेशात प्रवास केला त्यावेळी 'राष्ट्र' ही संकल्पना अन्य ठिकाणी कशी आहे, यावर भाष्य केले आहे. ते लिहितात, 'पश्चिमेत 'राष्ट्र' या संकल्पनेचा झालेला विकास भारतापासून भिन्न आहे. प्राचीन काळी तिथे प्राथमिक गरजांच्या पूर्ततेसाठी माणसांचे कबिले संघर्ष करत फिरत होते. कबिल्याची एक बोली भाषा विकसित झाली. कबिल्याचे नेतृत्व निर्माण झाले. या नेतृत्वाने आपल्या समूहाची राखण करण्यासाठी हळूहळू सेना तयार केली. शांती स्थापनेसाठी काही नियम, कायदे बनविण्यात आले. प्रशासन अस्तित्वात आले. अधिकाधिक लूट करता यावी म्हणून हे कबिले संघटित राहू लागले. अधिकाधिक शक्ती-अधिकाधिक लूट- अधिक उपभोग हे त्यांचे सूत्र राहिले. हे कबिले जिथे-जिथे स्थायिक झाले तिथे कालांतराने त्याची पृथक-पृथक राज्ये होत गेली. एक जात - एक भाषा - एक संप्रदाय हेच, त्यांचे राज्य आणि राष्ट्र यांचा आधार बनत गेले. त्यांची राष्ट्राच्या विकासाची ही कल्पना आहे.

SubQuestion No : 47

Q.47 प्राथमिक गरजांच्या पूर्ततेसाठी माणसांचे कबिले _____ करत फिरत होते.

- Ans**
- 1. क्रांति
 - 2. प्रगती
 - 3. संघर्ष
 - 4. विकास

Question Type : **MCQ**

Question ID : **91028151**

Option 1 ID : **910281198**

Option 2 ID : **910281200**

Option 3 ID : **910281197**

Option 4 ID : **910281199**

Status : **Answered**

Chosen Option : **3**

Comprehension:

खालील परिच्छेद काळजीपूर्वक वाचा आणि दिलेल्या प्रश्नांची उत्तरे द्या.

इंग्लंड देश स्वतःला आधुनिक राष्ट्र संकल्पनेचा उदात्ता समजतो. फ्रेंच राज्यक्रांती आणि नेपोलियनच्या युद्धानंतर 'राष्ट्र' 'राष्ट्रवाद' आदी विषयांचा प्रारंभ झाला असे काही विद्वानांचे मत. युरोपचा इतिहास बघितला तर राष्ट्रीय भावनेच्या संकल्पनेस मुख्यत्वे दुसऱ्या देशांशी युद्ध खेळताना अधिक बळ मिळाले. हन्टिंग्टनच्या मताप्रमाणे युद्धे, राज्य तयार करतात आणि त्यातून राष्ट्रे निर्माण होतात. मायकेल हावर्ड म्हणतो की, "कोणतेही राष्ट्र खऱ्या अर्थाने युद्धाशिवाय निर्माण होऊ शकत नाही." राष्ट्रीय भाषा, साहित्य, न्यायव्यवस्था, प्रतिनिधी सरकार, विदेशी व्यापार, युद्ध, शांती इ. तत्वांनी राष्ट्रीय भावनांना हळूहळू प्रोत्साहन दिले. पुढे औद्योगिक क्रांतीने यांस अधिक गती मिळाली.

रवींद्रनाथ ठाकूर यांनी विदेशात प्रवास केला त्यावेळी 'राष्ट्र' ही संकल्पना अन्य ठिकाणी कशी आहे, यावर भाष्य केले आहे. ते लिहितात, 'पश्चिमेत 'राष्ट्र' या संकल्पनेचा झालेला विकास भारतापासून भिन्न आहे. प्राचीन काळी तिथे प्राथमिक गरजांच्या पूर्ततेसाठी माणसांचे कबिले संघर्ष करत फिरत होते. कबिल्याची एक बोली भाषा विकसित झाली. कबिल्याचे नेतृत्व निर्माण झाले. या नेतृत्वाने आपल्या समूहाची राखण करण्यासाठी हळूहळू सेना तयार केली. शांती स्थापनेसाठी काही नियम, कायदे बनविण्यात आले. प्रशासन अस्तित्वात आले. अधिकाधिक लूट करता यावी म्हणून हे कबिले संघटित राहू लागले. अधिकाधिक शक्ती-अधिकाधिक लूट- अधिक उपभोग हे त्यांचे सूत्र राहिले. हे कबिले जिथे-जिथे स्थायिक झाले तिथे कालांतराने त्याची पृथक-पृथक राज्ये होत गेली. एक जात – एक भाषा – एक संप्रदाय हेच, त्यांचे राज्य आणि राष्ट्र यांचा आधार बनत गेले. त्यांची राष्ट्राच्या विकासाची ही कल्पना आहे.

SubQuestion No : 48

Q.48 _____ म्हणतो की, "कोणतेही राष्ट्र खऱ्या अर्थाने युद्धाशिवाय निर्माण होऊ शकत नाही."

- Ans**
- 1. हन्टिंग्टन
 - 2. नेपोलियन
 - 3. रवींद्रनाथ ठाकूर
 - 4. हावर्ड

Question Type : **MCQ**

Question ID : **91028148**

Option 1 ID : **910281186**

Option 2 ID : **910281188**

Option 3 ID : **910281187**

Option 4 ID : **910281185**

Status : **Answered**

Chosen Option : **4**

Comprehension:

खालील परिच्छेद काळजीपूर्वक वाचा आणि दिलेल्या प्रश्नांची उत्तरे द्या.

इंग्लंड देश स्वतःला आधुनिक राष्ट्र संकल्पनेचा उद्गाता समजतो. फ्रेंच राज्यक्रांती आणि नेपोलियनच्या युद्धानंतर 'राष्ट्र' 'राष्ट्रवाद' आदी विषयांचा प्रारंभ झाला असे काही विद्वानांचे मत. युरोपचा इतिहास बघितला तर राष्ट्रीय भावनेच्या संकल्पनेस मुख्यत्वे दुसऱ्या देशांशी युद्ध खेळताना अधिक बळ मिळाले. हन्टिंग्टनच्या मताप्रमाणे युद्धे, राज्य तयार करतात आणि त्यातून राष्ट्रे निर्माण होतात. मायकेल हावर्ड म्हणतो की, "कोणतेही राष्ट्र खऱ्या अर्थाने युद्धाशिवाय निर्माण होऊ शकत नाही." राष्ट्रीय भाषा, साहित्य, न्यायव्यवस्था, प्रतिनिधी सरकार, विदेशी व्यापार, युद्ध, शांती इ. तत्त्वांनी राष्ट्रीय भावनांना हळूहळू प्रोत्साहन दिले. पुढे औद्योगिक क्रांतीने यांस अधिक गती मिळाली.

रवींद्रनाथ ठाकूर यांनी विदेशात प्रवास केला त्यावेळी 'राष्ट्र' ही संकल्पना अन्य ठिकाणी कशी आहे, यावर भाष्य केले आहे. ते लिहितात, 'पश्चिमेत 'राष्ट्र' या संकल्पनेचा झालेला विकास भारतापासून भिन्न आहे. प्राचीन काळी तिथे प्राथमिक गरजांच्या पूर्ततेसाठी माणसांचे कबिले संघर्ष करत फिरत होते. कबिल्याची एक बोली भाषा विकसित झाली. कबिल्याचे नेतृत्व निर्माण झाले. या नेतृत्वाने आपल्या समूहाची राखण करण्यासाठी हळूहळू सेना तयार केली. शांती स्थापनेसाठी काही नियम, कायदे बनविण्यात आले. प्रशासन अस्तित्वात आले. अधिकाधिक लूट करता यावी म्हणून हे कबिले संघटित राहू लागले. अधिकाधिक शक्ती-अधिकाधिक लूट- अधिक उपभोग हे त्यांचे सूत्र राहिले. हे कबिले जिथे-जिथे स्थायिक झाले तिथे कालांतराने त्याची पृथक-पृथक राज्ये होत गेली. एक जात - एक भाषा - एक संप्रदाय हेच, त्यांचे राज्य आणि राष्ट्र यांचा आधार बनत गेले. त्यांची राष्ट्राच्या विकासाची ही कल्पना आहे.

SubQuestion No : 49

Q.49 _____ देश स्वतःला राष्ट्र संकल्पनेचा उद्गाता समजतो.

- Ans**
- 1. अमेरिका
 - 2. भारत
 - 3. जपान
 - 4. इंग्लंड

Question Type : **MCQ**

Question ID : **91028147**

Option 1 ID : **910281183**

Option 2 ID : **910281184**

Option 3 ID : **910281182**

Option 4 ID : **910281181**

Status : **Answered**

Chosen Option : **4**

Comprehension:

खालील परिच्छेद काळजीपूर्वक वाचा आणि दिलेल्या प्रश्नांची उत्तरे द्या.

इंग्लंड देश स्वतःला आधुनिक राष्ट्र संकल्पनेचा उद्गाता समजतो. फ्रेंच राज्यक्रांती आणि नेपोलियनच्या युद्धानंतर 'राष्ट्र' 'राष्ट्रवाद' आदी विषयांचा प्रारंभ झाला असे काही विद्वानांचे मत. युरोपचा इतिहास बघितला तर राष्ट्रीय भावनेच्या संकल्पनेस मुख्यत्वे दुसऱ्या देशांशी युद्ध खेळताना अधिक बळ मिळाले. हन्टिंग्टनच्या मताप्रमाणे युद्धे, राज्य तयार करतात आणि त्यातून राष्ट्रे निर्माण होतात. मायकेल हावर्ड म्हणतो की, "कोणतेही राष्ट्र खऱ्या अर्थाने युद्धाशिवाय निर्माण होऊ शकत नाही." राष्ट्रीय भाषा, साहित्य, न्यायव्यवस्था, प्रतिनिधी सरकार, विदेशी व्यापार, युद्ध, शांती इ. तत्त्वांनी राष्ट्रीय भावनांना हळूहळू प्रोत्साहन दिले. पुढे औद्योगिक क्रांतीने यांस अधिक गती मिळाली.

रवींद्रनाथ ठाकूर यांनी विदेशात प्रवास केला त्यावेळी 'राष्ट्र' ही संकल्पना अन्य ठिकाणी कशी आहे, यावर भाष्य केले आहे. ते लिहितात, 'पश्चिमेत 'राष्ट्र' या संकल्पनेचा झालेला विकास भारतापासून भिन्न आहे. प्राचीन काळी तिथे प्राथमिक गरजांच्या पूर्ततेसाठी माणसांचे कबिले संघर्ष करत फिरत होते. कबिल्याची एक बोली भाषा विकसित झाली. कबिल्याचे नेतृत्व निर्माण झाले. या नेतृत्वाने आपल्या समूहाची राखण करण्यासाठी हळूहळू सेना तयार केली. शांती स्थापनेसाठी काही नियम, कायदे बनविण्यात आले. प्रशासन अस्तित्वात आले. अधिकाधिक लूट करता यावी म्हणून हे कबिले संघटित राहू लागले. अधिकाधिक शक्ती-अधिकाधिक लूट- अधिक उपभोग हे त्यांचे सूत्र राहिले. हे कबिले जिथे-जिथे स्थायिक झाले तिथे कालांतराने त्याची पृथक-पृथक राज्ये होत गेली. एक जात – एक भाषा – एक संप्रदाय हेच, त्यांचे राज्य आणि राष्ट्र यांचा आधार बनत गेले. त्यांची राष्ट्राच्या विकासाची ही कल्पना आहे.

SubQuestion No : 50

Q.50 राष्ट्रीय भाषा, साहित्य, न्यायव्यवस्था, प्रतिनिधी सरकार, विदेशी व्यापार, युद्ध, शांती इ. तत्त्वांनी राष्ट्रीय भावनांना हळूहळू _____ दिले.

- Ans 1. परिमाण
 2. प्रोत्साहन
 3. मन
 4. मत

Question Type : MCQ

Question ID : 91028149

Option 1 ID : 910281192

Option 2 ID : 910281189

Option 3 ID : 910281191

Option 4 ID : 910281190

Status : Answered

Chosen Option : 2

Section : English Language

Q.1 Select the most appropriate option to fill in the blank.

A person needs to live _____ harmony with animals and nature.

- Ans 1. in
 2. from
 3. of
 4. at

Question Type : MCQ

Question ID : 91028152

Option 1 ID : 910281202

Option 2 ID : 910281204

Option 3 ID : 910281203

Option 4 ID : 910281201

Status : Answered

Chosen Option : 4

Q.2 Select the most appropriate option to fill in the blanks.

I have decided, we _____ punish the villain who _____ the ruin of Moscow.

- Ans 1. must; has caused
 2. could; is causing
 3. will; had caused
 4. may; are causing

Question Type : MCQ

Question ID : 91028155

Option 1 ID : 910281214

Option 2 ID : 910281213

Option 3 ID : 910281216

Option 4 ID : 910281215

Status : Answered

Chosen Option : 1

Q.3 Select the option that will improve the underlined part of the given sentence. In case no improvement is needed, select 'No improvement required'.

The elephant gotten angry and has pushed the lion with all her might.

- Ans 1. No improvement required
 2. got angry and pushed
 3. had gotten angry and pushes
 4. had get angry and has pushed

Question Type : MCQ

Question ID : 91028162

Option 1 ID : 910281244

Option 2 ID : 910281242

Option 3 ID : 910281243

Option 4 ID : 910281241

Status : Answered

Chosen Option : 2

Q.4 Select the option that will improve the underlined part of the given sentence. In case no improvement is needed, select 'No improvement required'.

He was impeached while in office at account for being involved in a fraudulent loan scam.

- Ans 1. No improvement required
 2. on account off been involved
 3. on account of being involved
 4. at account of being involving

Question Type : MCQ

Question ID : 91028160

Option 1 ID : 910281236

Option 2 ID : 910281234

Option 3 ID : 910281233

Option 4 ID : 910281235

Status : Answered

Chosen Option : 3

Q.5 Parts of a sentence are given below in jumbled order. Arrange the parts in the correct order to form a meaningful sentence.

Activity-based learning, which
P. in principle refers to inter-connections a learner
Q. the help of carefully designed activities and tasks
R. makes between ideas and concepts with
S. is often confused with manifest physical activity

- Ans 1. PSRQ
 2. SPRQ
 3. RSPQ
 4. RQPS

Question Type : **MCQ**
Question ID : **91028184**
Option 1 ID : **910281329**
Option 2 ID : **910281331**
Option 3 ID : **910281332**
Option 4 ID : **910281330**
Status : **Answered**
Chosen Option : **1**

Q.6 Parts of a sentence are given below in jumbled order. Arrange the parts in the correct order to form a meaningful sentence.

Historian Thomas Turner defines
P. the latter decades of the 19th century as a
Q. change were twinned with a growing enthusiasm
R. for sporting pursuits, in particular lawn tennis
S. time when industrial progress and social

- Ans 1. QPRS
 2. SPQR
 3. PSQR
 4. RQPS

Question Type : **MCQ**
Question ID : **91028185**
Option 1 ID : **910281336**
Option 2 ID : **910281335**
Option 3 ID : **910281333**
Option 4 ID : **910281334**
Status : **Answered**
Chosen Option : **3**

Q.7 Select the option that can be used as a one-word substitute for the given group of words.

Loss of complete hope

- Ans 1. Neurotic
 2. Despondency
 3. Metamorphism
 4. Indignant

Question Type : **MCQ**
Question ID : **91028190**
Option 1 ID : **910281356**
Option 2 ID : **910281354**
Option 3 ID : **910281353**
Option 4 ID : **910281355**
Status : **Answered**
Chosen Option : **1**

Q.8 Select the option that expresses the given sentence in indirect speech.

The police said to the witness, "Do you know who she is?"

- Ans
- 1. The police asked the witness if he knows who she was.
 - 2. The police asked the witness if he had known who she was.
 - 3. The police asked the witness if he knew who she was.
 - 4. The police asked the witness if he knew who she is.

Question Type : MCQ

Question ID : 91028169

Option 1 ID : 910281270

Option 2 ID : 910281272

Option 3 ID : 910281271

Option 4 ID : 910281269

Status : Answered

Chosen Option : 2

Q.9 Select the most appropriate meaning of the given idiom/phrase.

Chip off the old block

- Ans
- 1. Being direct or fair
 - 2. Personality resembling their parent
 - 3. A really good invention
 - 4. Postpone a plan

Question Type : MCQ

Question ID : 91028178

Option 1 ID : 910281306

Option 2 ID : 910281307

Option 3 ID : 910281308

Option 4 ID : 910281305

Status : Answered

Chosen Option : 2

Q.10 Select the option that can be used as a one-word substitute for the underlined group of words.

My infrastructure meeting was a complete failure.

- Ans
- 1. Fiasco
 - 2. Forgery
 - 3. Fluke
 - 4. Fatal

Question Type : MCQ

Question ID : 91028188

Option 1 ID : 910281348

Option 2 ID : 910281345

Option 3 ID : 910281347

Option 4 ID : 910281346

Status : Answered

Chosen Option : 2

Q.11 Sentences of a paragraph are given below in jumbled order. Arrange the sentences in the correct order to form a meaningful and coherent paragraph.

P. English Heritage is responsible for maintaining 39 London statues.

Q. They were erected in the 19th and 20th centuries.

R. They reflect the values of the times in which they were created and unveiled.

S. These values may not align with the values we hold today.

- Ans
- 1. RPSQ
 - 2. RQPS
 - 3. PQRS
 - 4. SPQR

Question Type : MCQ

Question ID : 91028186

Option 1 ID : 910281337

Option 2 ID : 910281339

Option 3 ID : 910281340

Option 4 ID : 910281338

Status : Answered

Chosen Option : 3

Q.12 Select the most appropriate option to fill in the blank.

He went _____ the house and waited for his mother.

- Ans
- 1. on
 - 2. into
 - 3. towards
 - 4. over

Question Type : MCQ

Question ID : 91028154

Option 1 ID : 910281210

Option 2 ID : 910281212

Option 3 ID : 910281211

Option 4 ID : 910281209

Status : Answered

Chosen Option : 2

Q.13 Select the option that rectifies the misspelt word(s) in the underlined segment of the given sentence. If the segment is correct, choose 'No correction required' as your answer.

It was a revolutionary move away from the Greek concept of mathematics which was essentially goemetry.

- Ans
- 1. mathematics which was essentially geometry.
 - 2. mathematics which was essentialy goemetry.
 - 3. mathmatics which was essentially goemetry.
 - 4. No correction required

Question Type : MCQ

Question ID : 91028182

Option 1 ID : 910281322

Option 2 ID : 910281323

Option 3 ID : 910281321

Option 4 ID : 910281324

Status : Answered

Chosen Option : 1

Q.14 Select the option that will improve the underlined part of the given sentence. In case no improvement is needed, select 'No improvement required'.

A girl named Radha was upset because she had done poorer in her English test.

- Ans
- 1. is been doing poor on
 - 2. No improvement required
 - 3. had done poorly in
 - 4. has done poor at

Question Type : MCQ
Question ID : 91028156
Option 1 ID : 910281219
Option 2 ID : 910281220
Option 3 ID : 910281217
Option 4 ID : 910281218
Status : Answered
Chosen Option : 3

Q.15 Select the option that expresses the given sentence in passive voice.

The cruel girl taunted the lame dog.

- Ans
- 1. The lame dog has been taunted by the cruel girl.
 - 2. The lame dog was being taunted by the cruel girl.
 - 3. The lame dog was taunted by the cruel girl.
 - 4. The lame dog was been taunted by the cruel girl.

Question Type : MCQ
Question ID : 91028170
Option 1 ID : 910281274
Option 2 ID : 910281273
Option 3 ID : 910281276
Option 4 ID : 910281275
Status : Answered
Chosen Option : 2

Q.16 Select the most appropriate article to fill in the blanks.

After _____ breakfast, Sylvie arrived and took Emily and Jonathan out to see _____ mares.

- Ans
- 1. No article required, the
 - 2. a, a
 - 3. the, an
 - 4. a, No article required

Question Type : MCQ
Question ID : 91028166
Option 1 ID : 910281259
Option 2 ID : 910281260
Option 3 ID : 910281257
Option 4 ID : 910281258
Status : Answered
Chosen Option : 1

Q.17 The following sentence has been divided into parts. One of them may contain a spelling error. Select the part that contains the error from the given options. If you don't find any error, mark 'No error' as your answer.

Succession demonstrates the/ exact opposite of what/ family businesses should do.

- Ans
- 1. exact opposite of what
 - 2. family businesses should do.
 - 3. No error
 - 4. Sucession demonstrates the

Question Type : **MCQ**
Question ID : **91028179**
Option 1 ID : **910281310**
Option 2 ID : **910281311**
Option 3 ID : **910281312**
Option 4 ID : **910281309**
Status : **Answered**
Chosen Option : **2**

Q.18 Select the most appropriate article to fill in the blank.

I will teach you _____ series of warm-up exercises and easy stretches.

- Ans
- 1. No article required
 - 2. an
 - 3. a
 - 4. the

Question Type : **MCQ**
Question ID : **91028165**
Option 1 ID : **910281256**
Option 2 ID : **910281253**
Option 3 ID : **910281254**
Option 4 ID : **910281255**
Status : **Answered**
Chosen Option : **4**

Q.19 Select the most appropriate meaning of the given idiom/phrase.

Drop of a hat

- Ans
- 1. Without any delay
 - 2. In an unlucky situation
 - 3. To start performing better
 - 4. Not as easy as it appears to be

Question Type : **MCQ**
Question ID : **91028177**
Option 1 ID : **910281304**
Option 2 ID : **910281302**
Option 3 ID : **910281301**
Option 4 ID : **910281303**
Status : **Answered**
Chosen Option : **1**

Q.20 In the given sentence, an idiom/a proverb has been underlined. Select the option that can correctly substitute that part of the sentence to make it meaningfully correct. If the idiom/proverb is used correctly, choose 'No correction required' as your answer.

Though he had missed his train, he realised that every silver has a cloud lining, as he could spend some more time with his mother now.

- Ans**
- 1. No correction required
 - 2. no cloud can affect silver lining
 - 3. every cloud has a silver lining
 - 4. a silver lining is in clouds

Question Type : **MCQ**
Question ID : **91028176**
Option 1 ID : **910281300**
Option 2 ID : **910281299**
Option 3 ID : **910281297**
Option 4 ID : **910281298**
Status : **Answered**
Chosen Option : **3**

Q.21 The following sentence has been divided into parts. One of them may contain a spelling error. Select the part that contains the error from the given options. If you don't find any error, mark 'No error' as your answer.

The Government of India issued a / resolution in 1934 providing for a fair / degree of representation to the depressed classes.

- Ans**
- 1. The Government of India issued a
 - 2. resolution in 1934 providing for a fair
 - 3. degree of representation to the depressed classes.
 - 4. No error

Question Type : **MCQ**
Question ID : **91028180**
Option 1 ID : **910281313**
Option 2 ID : **910281314**
Option 3 ID : **910281315**
Option 4 ID : **910281316**
Status : **Answered**
Chosen Option : **2**

Q.22 Select the option that rectifies the misspelt word(s) in the underlined segment of the given sentence. If the segment is correct, choose 'No correction required' as your answer.

Being a grownup is a permanent state of mourning for the enchanted consciounes of childhood.

- Ans**
- 1. mourning for the enchanted consciousness
 - 2. muorning for the enchanted consciousness
 - 3. No correction required
 - 4. mourning for the enchanted consciuosnes

Question Type : **MCQ**
Question ID : **91028181**
Option 1 ID : **910281318**
Option 2 ID : **910281317**
Option 3 ID : **910281320**
Option 4 ID : **910281319**
Status : **Answered**
Chosen Option : **1**

Q.23 Select the option that expresses the given sentence in indirect speech.

Raghu said, "I hope to see my mother this month."

- Ans
- 1. Raghu said that he hoped to seen his mother that month.
 - 2. Raghu said that he hoped to see his mother this month.
 - 3. Raghu said that he hopes to see his mother that month.
 - 4. Raghu said that he hoped to see his mother that month.

Question Type : MCQ

Question ID : 91028167

Option 1 ID : 910281262

Option 2 ID : 910281263

Option 3 ID : 910281261

Option 4 ID : 910281264

Status : Answered

Chosen Option : 4

Q.24 Select the option that will improve the underlined part of the given sentence. In case no improvement is needed, select 'No improvement required'.

The dream seems so short, but the sky have began to lighten on the horizon.

- Ans
- 1. has begun to lighten
 - 2. had began to lighten
 - 3. No improvement required
 - 4. has began to light

Question Type : MCQ

Question ID : 91028159

Option 1 ID : 910281231

Option 2 ID : 910281229

Option 3 ID : 910281232

Option 4 ID : 910281230

Status : Answered

Chosen Option : 1

Q.25 Parts of a sentence are given below in jumbled order. Arrange the parts in the correct order to form a meaningful sentence.

Collecting shea nuts

P. is nearly a universal household

Q. activity across the shea belt and,

R. unlike other economic activities,

S. is controlled almost entirely by women

- Ans
- 1. QSPR
 - 2. SRQP
 - 3. QRSP
 - 4. PQRS

Question Type : MCQ

Question ID : 91028183

Option 1 ID : 910281325

Option 2 ID : 910281326

Option 3 ID : 910281328

Option 4 ID : 910281327

Status : Answered

Chosen Option : 3

Q.26 Select the option that can be used as a one-word substitute for the given group of words.

Fear of women

- Ans 1. Heliophobia
 2. Gynophobia
 3. Philophobia
 4. Gamophobia

Question Type : **MCQ**
Question ID : **91028191**
Option 1 ID : **910281359**
Option 2 ID : **910281358**
Option 3 ID : **910281360**
Option 4 ID : **910281357**
Status : **Answered**
Chosen Option : **2**

Q.27 Select the most appropriate ANTONYM of the underlined word.

The idea of running around pestering my friends for votes is quite distasteful.

- Ans 1. mocking
 2. intruding
 3. slashing
 4. appeasing

Question Type : **MCQ**
Question ID : **91028173**
Option 1 ID : **910281285**
Option 2 ID : **910281287**
Option 3 ID : **910281288**
Option 4 ID : **910281286**
Status : **Answered**
Chosen Option : **2**

Q.28 Select the option that can be used as a one-word substitute for the underlined group of words.

Animals living both, on land and in water are small vertebrates that need water or a moist environment to survive.

- Ans 1. Amphibians
 2. Cannibals
 3. Cacophonies
 4. Nocturnals

Question Type : **MCQ**
Question ID : **91028189**
Option 1 ID : **910281351**
Option 2 ID : **910281350**
Option 3 ID : **910281352**
Option 4 ID : **910281349**
Status : **Answered**
Chosen Option : **1**

Q.29 Select the most appropriate synonym of the underlined word.

Reading or writing about grief is not for the faint-hearted.

- Ans
- 1. optimism
 - 2. pleasure
 - 3. gloom
 - 4. facile

Question Type : MCQ

Question ID : 91028172

Option 1 ID : 910281283

Option 2 ID : 910281284

Option 3 ID : 910281282

Option 4 ID : 910281281

Status : Answered

Chosen Option : 1

Q.30 Select the option that expresses the given sentence in active voice.

The poor piglets were eaten by the wicked wolf.

- Ans
- 1. The poor piglets eat by the wicked wolf.
 - 2. The poor piglets was eaten.
 - 3. The wicked wolf has eaten the poor piglets.
 - 4. The wicked wolf ate the poor piglets.

Question Type : MCQ

Question ID : 91028171

Option 1 ID : 910281277

Option 2 ID : 910281279

Option 3 ID : 910281280

Option 4 ID : 910281278

Status : Answered

Chosen Option : 4

Q.31 Select the option that expresses the given sentence in direct speech.

She asked if she was speaking fluently.

- Ans
- 1. She said, "Am I speaking fluently?"
 - 2. She said, "Has I spoken fluently?"
 - 3. She asked, "I am speaking fluently."
 - 4. She told, "Was I spoke fluently?"

Question Type : MCQ

Question ID : 91028168

Option 1 ID : 910281268

Option 2 ID : 910281265

Option 3 ID : 910281267

Option 4 ID : 910281266

Status : Answered

Chosen Option : 1

Q.32 Select the option that will improve the underlined part of the given sentence. In case no improvement is needed, select 'No improvement required'.

A hunter saw the beautiful dove sitting in the tree and aimed his gun on the dove.

- Ans
- 1. in the tree and aimed his gun to
 - 2. No improvement required
 - 3. at the tree and aiming his gun at
 - 4. on the tree and aimed his gun at

Question Type : **MCQ**
Question ID : **91028158**
Option 1 ID : **910281227**
Option 2 ID : **910281228**
Option 3 ID : **910281226**
Option 4 ID : **910281225**
Status : **Answered**
Chosen Option : **4**

Q.33 Select the most appropriate article to fill in the blank.

_____ both his pets are cute and adorable.

- Ans
- 1. No article required
 - 2. A
 - 3. An
 - 4. The

Question Type : **MCQ**
Question ID : **91028164**
Option 1 ID : **910281252**
Option 2 ID : **910281251**
Option 3 ID : **910281249**
Option 4 ID : **910281250**
Status : **Answered**
Chosen Option : **1**

Q.34 Select the option that will improve the underlined part of the given sentence. In case no improvement is needed, select 'No improvement required'.

There are large herds of cattle and flocks of sheep and goats.

- Ans
- 1. cattles and flocks of sheep
 - 2. No improvement required
 - 3. cattle and flock of sheeps
 - 4. cattles and flocks of sheeps

Question Type : **MCQ**
Question ID : **91028157**
Option 1 ID : **910281223**
Option 2 ID : **910281224**
Option 3 ID : **910281222**
Option 4 ID : **910281221**
Status : **Answered**
Chosen Option : **3**

Q.35 Select the most appropriate option to fill in the blank.

The more she heard, the _____ it was to believe the job was for real.

- Ans
- 1. hardly
 - 2. harder
 - 3. hard
 - 4. hardest

Question Type : MCQ

Question ID : 91028153

Option 1 ID : 910281206

Option 2 ID : 910281207

Option 3 ID : 910281208

Option 4 ID : 910281205

Status : Answered

Chosen Option : 2

Q.36 Select the most appropriate option to fill in the blank.

When I watched him get his face beaten and _____ in Fight Club, I knew it was over.

- Ans
- 1. encamped
 - 2. slopped
 - 3. blown
 - 4. venerated

Question Type : MCQ

Question ID : 91028174

Option 1 ID : 910281292

Option 2 ID : 910281289

Option 3 ID : 910281290

Option 4 ID : 910281291

Status : Answered

Chosen Option : 1

Q.37 Select the option that will convert the given sentence into the present perfect tense.

Raj will go to his grandfather's house.

- Ans
- 1. Raj has gone to his grandfather's house.
 - 2. Raj had been going to his grandfather's house.
 - 3. Raj went to his grandfather's house.
 - 4. Raj will be going to his grandfather's house.

Question Type : MCQ

Question ID : 91028163

Option 1 ID : 910281248

Option 2 ID : 910281246

Option 3 ID : 910281245

Option 4 ID : 910281247

Status : Answered

Chosen Option : 2

Q.38 Select the option that will improve the underlined part of the given sentence. In case no improvement is needed, select 'No improvement required'.

It wasn't the first time she has gone to bed while he was out on a call.

- Ans
- 1. did gone to bed
 - 2. has been going to bed
 - 3. had gone to bed
 - 4. No improvement required

Question Type : **MCQ**
Question ID : **91028161**
Option 1 ID : **910281237**
Option 2 ID : **910281239**
Option 3 ID : **910281238**
Option 4 ID : **910281240**
Status : **Answered**
Chosen Option : **3**

Q.39 In the given sentence, an idiom/a proverb has been underlined. Select the option that can correctly substitute that part of the sentence to make it meaningfully correct. If the idiom/proverb is used correctly, choose 'No correction required' as your answer.

I can barely recognise your face. Have you cut under the knife?

- Ans
- 1. gone under the knife
 - 2. made knife under skin
 - 3. cut your knife
 - 4. No correction required

Question Type : **MCQ**
Question ID : **91028175**
Option 1 ID : **910281294**
Option 2 ID : **910281295**
Option 3 ID : **910281293**
Option 4 ID : **910281296**
Status : **Answered**
Chosen Option : **4**

Q.40 Sentences of a paragraph are given below in jumbled order. Arrange the sentences in the correct order to form a meaningful and coherent paragraph.

P. Among their favorite foods are sea urchins, which are easy to catch and dense in calories.

Q. In order to maintain their high metabolic rates, sea otters must eat constantly.

R. When present, sea otters eat so many urchins that the invertebrate's population stays low.

S. They have a disproportionately large impact on the ecosystem relative to their abundance.

- Ans
- 1. SPQR
 - 2. QPRS
 - 3. PQRS
 - 4. QRSP

Question Type : **MCQ**
Question ID : **91028187**
Option 1 ID : **910281341**
Option 2 ID : **910281344**
Option 3 ID : **910281342**
Option 4 ID : **910281343**
Status : **Answered**
Chosen Option : **2**

Comprehension:

Read the following passage carefully and answer the given questions.

As the third largest emitter of carbon in the world, after China and the United States, India has a significant role to play in addressing the climate crisis. The country is already reeling from the devastating consequences of climate change, with extreme weather events like droughts and hurricanes becoming increasingly frequent and severe. In 2020, for example, Cyclone Amphan ravaged the states of West Bengal and Odisha, displacing millions from their homes and causing damage that cost billions of dollars.

At the COP26 summit in Glasgow, Indian Prime Minister Narendra Modi pledged that the country would become carbon-neutral by 2070, a target date 20 years later than the mark set by the United States and 10 years later than China's—but still a big step forward for India. The country has committed to cutting its emissions per unit of GDP by 45 per cent between now and 2030. By then, India plans to ramp up its renewable energy capacity from 134 gigawatts today to 500 gigawatts, supplying half of its projected energy needs. If that plan succeeds it would be an extraordinary achievement.

The country already has created 42 solar parks around the country, including one spread over 14,000 acres of desert in Bhadla, Rajasthan, with a capacity over 2.2 gigawatts—the largest facility of its kind in the world. But India is also continuing to build coal-fired power plants that have decades-long lifetimes, signaling that the country expects to remain heavily reliant on coal for its energy needs for a long time to come.

SubQuestion No : 41

Q.41 China government has pledged to become carbon neutral by _____.

Ans 1. 2050

2. 2080

3. 2070

4. 2060

Question Type : MCQ

Question ID : 91028196

Option 1 ID : 910281375

Option 2 ID : 910281376

Option 3 ID : 910281373

Option 4 ID : 910281374

Status : Answered

Chosen Option : 4

Comprehension:

Read the following passage carefully and answer the given questions.

As the third largest emitter of carbon in the world, after China and the United States, India has a significant role to play in addressing the climate crisis. The country is already reeling from the devastating consequences of climate change, with extreme weather events like droughts and hurricanes becoming increasingly frequent and severe. In 2020, for example, Cyclone Amphan ravaged the states of West Bengal and Odisha, displacing millions from their homes and causing damage that cost billions of dollars.

At the COP26 summit in Glasgow, Indian Prime Minister Narendra Modi pledged that the country would become carbon-neutral by 2070, a target date 20 years later than the mark set by the United States and 10 years later than China's—but still a big step forward for India. The country has committed to cutting its emissions per unit of GDP by 45 per cent between now and 2030. By then, India plans to ramp up its renewable energy capacity from 134 gigawatts today to 500 gigawatts, supplying half of its projected energy needs. If that plan succeeds it would be an extraordinary achievement.

The country already has created 42 solar parks around the country, including one spread over 14,000 acres of desert in Bhadla, Rajasthan, with a capacity over 2.2 gigawatts—the largest facility of its kind in the world. But India is also continuing to build coal-fired power plants that have decades-long lifetimes, signaling that the country expects to remain heavily reliant on coal for its energy needs for a long time to come.

SubQuestion No : 42

Q.42 Select the most suitable tagline for the given passage.

- Ans** 1. Rajasthan and its hidden potential for solar energy
2. India bets its energy future on solar
3. The growing capacity of renewable energy
4. Coal-fired power plants and its excessive usage

Question Type : **MCQ**

Question ID : **91028193**

Option 1 ID : **910281363**

Option 2 ID : **910281362**

Option 3 ID : **910281361**

Option 4 ID : **910281364**

Status : **Answered**

Chosen Option : **3**

Comprehension:

Read the following passage carefully and answer the given questions.

As the third largest emitter of carbon in the world, after China and the United States, India has a significant role to play in addressing the climate crisis. The country is already reeling from the devastating consequences of climate change, with extreme weather events like droughts and hurricanes becoming increasingly frequent and severe. In 2020, for example, Cyclone Amphan ravaged the states of West Bengal and Odisha, displacing millions from their homes and causing damage that cost billions of dollars.

At the COP26 summit in Glasgow, Indian Prime Minister Narendra Modi pledged that the country would become carbon-neutral by 2070, a target date 20 years later than the mark set by the United States and 10 years later than China's—but still a big step forward for India. The country has committed to cutting its emissions per unit of GDP by 45 per cent between now and 2030. By then, India plans to ramp up its renewable energy capacity from 134 gigawatts today to 500 gigawatts, supplying half of its projected energy needs. If that plan succeeds it would be an extraordinary achievement.

The country already has created 42 solar parks around the country, including one spread over 14,000 acres of desert in Bhadla, Rajasthan, with a capacity over 2.2 gigawatts—the largest facility of its kind in the world. But India is also continuing to build coal-fired power plants that have decades-long lifetimes, signaling that the country expects to remain heavily reliant on coal for its energy needs for a long time to come.

SubQuestion No : 43

Q.43 According to the given passage, which of the following statements is correct?

- Ans**
- 1. The United States government has pledged to become carbon neutral by 2070.
 - 2. Cyclone Amphan ravaged northern states of India.
 - 3. India has created more than 40 solar parks around the country.
 - 4. Weather events in India have become less severe in 2020.

Question Type : **MCQ**

Question ID : **91028195**

Option 1 ID : **910281370**

Option 2 ID : **910281369**

Option 3 ID : **910281371**

Option 4 ID : **910281372**

Status : **Answered**

Chosen Option : **3**

Comprehension:

Read the following passage carefully and answer the given questions.

As the third largest emitter of carbon in the world, after China and the United States, India has a significant role to play in addressing the climate crisis. The country is already reeling from the devastating consequences of climate change, with extreme weather events like droughts and hurricanes becoming increasingly frequent and severe. In 2020, for example, Cyclone Amphan ravaged the states of West Bengal and Odisha, displacing millions from their homes and causing damage that cost billions of dollars.

At the COP26 summit in Glasgow, Indian Prime Minister Narendra Modi pledged that the country would become carbon-neutral by 2070, a target date 20 years later than the mark set by the United States and 10 years later than China's—but still a big step forward for India. The country has committed to cutting its emissions per unit of GDP by 45 per cent between now and 2030. By then, India plans to ramp up its renewable energy capacity from 134 gigawatts today to 500 gigawatts, supplying half of its projected energy needs. If that plan succeeds it would be an extraordinary achievement.

The country already has created 42 solar parks around the country, including one spread over 14,000 acres of desert in Bhadla, Rajasthan, with a capacity over 2.2 gigawatts—the largest facility of its kind in the world. But India is also continuing to build coal-fired power plants that have decades-long lifetimes, signaling that the country expects to remain heavily reliant on coal for its energy needs for a long time to come.

SubQuestion No : 44

Q.44 India is planning to ramp up its renewable energy capacity to _____.

- Ans 1. 220 gigawatts
 2. 500 gigawatts
 3. 400 gigawatts
 4. 134 gigawatts

Question Type : **MCQ**

Question ID : **91028194**

Option 1 ID : **910281366**

Option 2 ID : **910281368**

Option 3 ID : **910281365**

Option 4 ID : **910281367**

Status : **Answered**

Chosen Option : **4**

Comprehension:

Read the following passage carefully and answer the given questions.

As the third largest emitter of carbon in the world, after China and the United States, India has a significant role to play in addressing the climate crisis. The country is already reeling from the devastating consequences of climate change, with extreme weather events like droughts and hurricanes becoming increasingly frequent and severe. In 2020, for example, Cyclone Amphan ravaged the states of West Bengal and Odisha, displacing millions from their homes and causing damage that cost billions of dollars.

At the COP26 summit in Glasgow, Indian Prime Minister Narendra Modi pledged that the country would become carbon-neutral by 2070, a target date 20 years later than the mark set by the United States and 10 years later than China's—but still a big step forward for India. The country has committed to cutting its emissions per unit of GDP by 45 per cent between now and 2030. By then, India plans to ramp up its renewable energy capacity from 134 gigawatts today to 500 gigawatts, supplying half of its projected energy needs. If that plan succeeds it would be an extraordinary achievement.

The country already has created 42 solar parks around the country, including one spread over 14,000 acres of desert in Bhadla, Rajasthan, with a capacity over 2.2 gigawatts—the largest facility of its kind in the world. But India is also continuing to build coal-fired power plants that have decades-long lifetimes, signaling that the country expects to remain heavily reliant on coal for its energy needs for a long time to come.

SubQuestion No : 45

Q.45 Which of the following words is similar in meaning to the word 'devastating' as used in the passage?

- Ans
- 1. Creating
 - 2. Bolstering
 - 3. Ruining
 - 4. Revamping

Question Type : **MCQ**

Question ID : **91028197**

Option 1 ID : **910281379**

Option 2 ID : **910281380**

Option 3 ID : **910281377**

Option 4 ID : **910281378**

Status : **Answered**

Chosen Option : **2**

Comprehension:

Read the following passage carefully and answer the given questions.

Archaeology is a wide subject and definitions can vary, but broadly, it is the study of the culture and history of past peoples and their societies by uncovering and studying their material remains, i.e. tools, ruins and pottery. Archaeology and history are different subjects but have things in common and constantly work with each other. While historians study books, tablets and other written information to learn about the past, archaeologists uncover, date and trace the source of such items, and in their turn focus on learning through material culture.

Archaeology is a time-consuming study; it often takes many years of toil before an archaeologist makes a breakthrough or discovers a site. Famous archaeologists are often connected to their most famous find or theory. To name the score of people who worked and made developments in archaeology would take a hundred pages; what follows are but a few: Howard Carter, an Englishman, who in 1922 CE discovered the tomb of the pharaoh Tutankhamun in Egypt; Leonard Woolley spent years excavating the ancient city of Ur in Mesopotamia; Heinrich Schliemann unearthed what is believed to be the mythical city of Troy, building on work done by an amateur archaeologist, Frank Calvert; Sir Arthur Evans excavated much of Knossos (on the island of Crete) and developed the concept of Minoan Civilization. These men are not only well-known for their famous finds but also known for making developments in field archaeology and techniques.

SubQuestion No : 46

Q.46 Select the most suitable title for the given passage.

- Ans
- 1. Culture and history
 - 2. Modern archaeological techniques
 - 3. Excavations of ancient cities
 - 4. Archaeology and famous archaeologists

Question Type : **MCQ**

Question ID : **91028199**

Option 1 ID : **910281381**

Option 2 ID : **910281383**

Option 3 ID : **910281382**

Option 4 ID : **910281384**

Status : **Answered**

Chosen Option : **2**

Comprehension:

Read the following passage carefully and answer the given questions.

Archaeology is a wide subject and definitions can vary, but broadly, it is the study of the culture and history of past peoples and their societies by uncovering and studying their material remains, i.e. tools, ruins and pottery. Archaeology and history are different subjects but have things in common and constantly work with each other. While historians study books, tablets and other written information to learn about the past, archaeologists uncover, date and trace the source of such items, and in their turn focus on learning through material culture.

Archaeology is a time-consuming study; it often takes many years of toil before an archaeologist makes a breakthrough or discovers a site. Famous archaeologists are often connected to their most famous find or theory. To name the score of people who worked and made developments in archaeology would take a hundred pages; what follows are but a few: Howard Carter, an Englishman, who in 1922 CE discovered the tomb of the pharaoh Tutankhamun in Egypt; Leonard Woolley spent years excavating the ancient city of Ur in Mesopotamia; Heinrich Schliemann unearthed what is believed to be the mythical city of Troy, building on work done by an amateur archaeologist, Frank Calvert; Sir Arthur Evans excavated much of Knossos (on the island of Crete) and developed the concept of Minoan Civilization. These men are not only well-known for their famous finds but also known for making developments in field archaeology and techniques.

SubQuestion No : 47

Q.47 Which of the following words is similar in meaning to the word 'toil' as used in the passage?

- Ans
- 1. Repose
 - 2. Grip
 - 3. Slog
 - 4. Wasteful

Question Type : **MCQ**

Question ID : **910281103**

Option 1 ID : **910281398**

Option 2 ID : **910281399**

Option 3 ID : **910281397**

Option 4 ID : **910281400**

Status : **Answered**

Chosen Option : **3**

Comprehension:

Read the following passage carefully and answer the given questions.

Archaeology is a wide subject and definitions can vary, but broadly, it is the study of the culture and history of past peoples and their societies by uncovering and studying their material remains, i.e. tools, ruins and pottery. Archaeology and history are different subjects but have things in common and constantly work with each other. While historians study books, tablets and other written information to learn about the past, archaeologists uncover, date and trace the source of such items, and in their turn focus on learning through material culture.

Archaeology is a time-consuming study; it often takes many years of toil before an archaeologist makes a breakthrough or discovers a site. Famous archaeologists are often connected to their most famous find or theory. To name the score of people who worked and made developments in archaeology would take a hundred pages; what follows are but a few: Howard Carter, an Englishman, who in 1922 CE discovered the tomb of the pharaoh Tutankhamun in Egypt; Leonard Woolley spent years excavating the ancient city of Ur in Mesopotamia; Heinrich Schliemann unearthed what is believed to be the mythical city of Troy, building on work done by an amateur archaeologist, Frank Calvert; Sir Arthur Evans excavated much of Knossos (on the island of Crete) and developed the concept of Minoan Civilization. These men are not only well-known for their famous finds but also known for making developments in field archaeology and techniques.

SubQuestion No : 48

Q.48 Who among the following archaeologists excavated the ancient city of Ur in Mesopotamia?

Ans ✓ 1. Leonard Woolley

✗ 2. Frank Calvert

✗ 3. Heinrich Schliemann

✗ 4. Howard Carter

Question Type : **MCQ**

Question ID : **910281101**

Option 1 ID : **910281391**

Option 2 ID : **910281392**

Option 3 ID : **910281389**

Option 4 ID : **910281390**

Status : **Answered**

Chosen Option : **1**

Comprehension:

Read the following passage carefully and answer the given questions.

Archaeology is a wide subject and definitions can vary, but broadly, it is the study of the culture and history of past peoples and their societies by uncovering and studying their material remains, i.e. tools, ruins and pottery. Archaeology and history are different subjects but have things in common and constantly work with each other. While historians study books, tablets and other written information to learn about the past, archaeologists uncover, date and trace the source of such items, and in their turn focus on learning through material culture.

Archaeology is a time-consuming study; it often takes many years of toil before an archaeologist makes a breakthrough or discovers a site. Famous archaeologists are often connected to their most famous find or theory. To name the score of people who worked and made developments in archaeology would take a hundred pages; what follows are but a few: Howard Carter, an Englishman, who in 1922 CE discovered the tomb of the pharaoh Tutankhamun in Egypt; Leonard Woolley spent years excavating the ancient city of Ur in Mesopotamia; Heinrich Schliemann unearthed what is believed to be the mythical city of Troy, building on work done by an amateur archaeologist, Frank Calvert; Sir Arthur Evans excavated much of Knossos (on the island of Crete) and developed the concept of Minoan Civilization. These men are not only well-known for their famous finds but also known for making developments in field archaeology and techniques.

SubQuestion No : 49

Q.49 Sir Arthur Evans is famous for _____.

- Ans
- 1. discovering the mythical city of Troy
 - 2. discovering the tomb of the pharaoh Tutankhamun
 - 3. making developments in scientific techniques of excavation
 - 4. developing the concept of Minoan Civilization

Question Type : MCQ

Question ID : 910281102

Option 1 ID : 910281394

Option 2 ID : 910281395

Option 3 ID : 910281396

Option 4 ID : 910281393

Status : Answered

Chosen Option : 4

Comprehension:

Read the following passage carefully and answer the given questions.

Archaeology is a wide subject and definitions can vary, but broadly, it is the study of the culture and history of past peoples and their societies by uncovering and studying their material remains, i.e. tools, ruins and pottery. Archaeology and history are different subjects but have things in common and constantly work with each other. While historians study books, tablets and other written information to learn about the past, archaeologists uncover, date and trace the source of such items, and in their turn focus on learning through material culture.

Archaeology is a time-consuming study; it often takes many years of toil before an archaeologist makes a breakthrough or discovers a site. Famous archaeologists are often connected to their most famous find or theory. To name the score of people who worked and made developments in archaeology would take a hundred pages; what follows are but a few: Howard Carter, an Englishman, who in 1922 CE discovered the tomb of the pharaoh Tutankhamun in Egypt; Leonard Woolley spent years excavating the ancient city of Ur in Mesopotamia; Heinrich Schliemann unearthed what is believed to be the mythical city of Troy, building on work done by an amateur archaeologist, Frank Calvert; Sir Arthur Evans excavated much of Knossos (on the island of Crete) and developed the concept of Minoan Civilization. These men are not only well-known for their famous finds but also known for making developments in field archaeology and techniques.

SubQuestion No : 50

Q.50 Which of the following is NOT a characteristic of archaeology?

Ans ✓ 1. Written information is given utmost importance.

✗ 2. It works constantly with history.

✗ 3. It is time consuming.

✗ 4. It studies material remains.

Question Type : **MCQ**

Question ID : **910281100**

Option 1 ID : **910281388**

Option 2 ID : **910281387**

Option 3 ID : **910281385**

Option 4 ID : **910281386**

Status : **Answered**

Chosen Option : **2**

Section : **General Knowledge**

Q.1 व्ही.डी.सावरकर यांनी बांधलेले 'पतित पावन मंदिर' हे महाराष्ट्रातील खालीलपैकी कोणत्या जिल्ह्यात आहे?

Ans ✗ 1. नागपूर

✗ 2. पुणे

✓ 3. रत्नागिरी

✗ 4. नाशिक

Question Type : **MCQ**

Question ID : **910281127**

Option 1 ID : **910281496**

Option 2 ID : **910281493**

Option 3 ID : **910281494**

Option 4 ID : **910281495**

Status : **Answered**

Chosen Option : **4**

Q.2 31 मार्च 2020 पर्यंतच्या माहितीनुसार, महाराष्ट्रात _____ आंतरराष्ट्रीय विमानतळ आहेत.

- Ans
- 1. 8
 - 2. 7
 - 3. 9
 - 4. 5

Question Type : MCQ
Question ID : 910281136
Option 1 ID : 910281532
Option 2 ID : 910281531
Option 3 ID : 910281529
Option 4 ID : 910281530
Status : Answered
Chosen Option : 4

Q.3 औद्योगिक धोरण ठराव 1956 मध्ये कशावर भर देण्यात आला?

- Ans
- 1. सार्वजनिक क्षेत्रात अवजड उद्योगांची स्थापना
 - 2. डिजीटल आणि यांत्रिक उद्योगांची स्थापना
 - 3. लघुभार उद्योग स्थापना
 - 4. कृषी-केंद्रित उद्योग स्थापना

Question Type : MCQ
Question ID : 910281115
Option 1 ID : 910281447
Option 2 ID : 910281448
Option 3 ID : 910281445
Option 4 ID : 910281446
Status : Answered
Chosen Option : 1

Q.4 महाराष्ट्राच्या विधान परिषदेबाबत खालीलपैकी कोणते विधान योग्य नाही?

- Ans
- 1. विधान परिषदेचे कामकाज सभापती (Chairman) च्या नियंत्रणाखाली व मार्गदर्शनाखाली चालते.
 - 2. विधान परिषद कधीच पूर्णपणे विसर्जित होत नाही.
 - 3. दर 2 वर्षांनी ठराविक सदस्यांची संख्या निवृत्त होते.
 - 4. विधान परिषदेच्या सर्व सदस्यांची निवड व नियुक्ती राज्याच्या राज्यपालांद्वारे होते.

Question Type : MCQ
Question ID : 910281151
Option 1 ID : 910281592
Option 2 ID : 910281589
Option 3 ID : 910281590
Option 4 ID : 910281591
Status : Answered
Chosen Option : 4

Q.5 फेब्रुवारी 2021 मध्ये, भारत सरकारच्या कोणत्या मंत्रालयाने "MITRA" ही योजना सुरू केली होती?

- Ans
- 1. पोलाद मंत्रालय (Ministry of Steel)
 - 2. परराष्ट्र व्यवहार मंत्रालय (Ministry of External Affairs)
 - 3. वस्त्रोद्योग मंत्रालय (Ministry of Textiles)
 - 4. आदिवासी व्यवहार मंत्रालय (Ministry of Tribal Affairs)

Question Type : MCQ

Question ID : 910281130

Option 1 ID : 910281507

Option 2 ID : 910281505

Option 3 ID : 910281508

Option 4 ID : 910281506

Status : Answered

Chosen Option : 4

Q.6 "द इंडियन वॉर ऑफ इन्डिपेन्डन्स 1857" या पुस्तकाचे लेखक खालीलपैकी कोण आहेत?

- Ans
- 1. महादेव रानडे
 - 2. वासुदेव बळवंत फडके
 - 3. श्यामजी कृष्ण वर्मा
 - 4. स्वातंत्र्यवीर व्ही.डी. सावरकर

Question Type : MCQ

Question ID : 910281135

Option 1 ID : 910281527

Option 2 ID : 910281525

Option 3 ID : 910281528

Option 4 ID : 910281526

Status : Answered

Chosen Option : 4

Q.7 खालीलपैकी कोणती रांग पूर्वांचल प्रदेशातील नाही?

- Ans
- 1. नागा टेकड्या
 - 2. मणिपूर टेकड्या
 - 3. पीर पंजाल रांग
 - 4. पटकाई टेकड्या

Question Type : MCQ

Question ID : 910281116

Option 1 ID : 910281449

Option 2 ID : 910281452

Option 3 ID : 910281451

Option 4 ID : 910281450

Status : Answered

Chosen Option : 3

Q.8 चौसाच्या लढाईत शेर शाह सूरीने हुमायूनचा पराभव कोणत्या वर्षी केला?

- Ans
- 1. 1530
 - 2. 1532
 - 3. 1535
 - 4. 1539

Question Type : MCQ
Question ID : 910281106
Option 1 ID : 910281409
Option 2 ID : 910281410
Option 3 ID : 910281411
Option 4 ID : 910281412
Status : Answered
Chosen Option : 2

Q.9 लोसर हे खालीलपैकी कोणाद्वारे नवीन वर्ष म्हणून साजरे केले जाते?

- Ans
- 1. भिल्ल समाज
 - 2. श्रीलंकेमधील बौद्ध
 - 3. तिबेटीयन बौद्ध
 - 4. जैन

Question Type : MCQ
Question ID : 910281110
Option 1 ID : 910281428
Option 2 ID : 910281427
Option 3 ID : 910281426
Option 4 ID : 910281425
Status : Answered
Chosen Option : 1

Q.10 स्वतंत्र भारताचे पहिले भारतीय गव्हर्नर-जनरल कोण होते?

- Ans
- 1. मौलाना आझाद
 - 2. खान अब्दुल गफार खान
 - 3. डॉ. राजेंद्र प्रसाद
 - 4. चक्रवर्ती राजगोपालाचारी

Question Type : MCQ
Question ID : 910281105
Option 1 ID : 910281407
Option 2 ID : 910281408
Option 3 ID : 910281405
Option 4 ID : 910281406
Status : Answered
Chosen Option : 4

Q.11 खालीलपैकी कोणते राज्य स्थलांतरित शेतीला 'बेवार' म्हणून संबोधते?

- Ans
- 1. नागालँड
 - 2. आसाम
 - 3. तामिळनाडू
 - 4. मध्य प्रदेश

Question Type : MCQ
Question ID : 910281118
Option 1 ID : 910281458
Option 2 ID : 910281460
Option 3 ID : 910281457
Option 4 ID : 910281459
Status : Answered
Chosen Option : 3

Q.12 महाराष्ट्रातील कोणत्या जिल्ह्यात ग्रॅफाइट (Graphite) आढळते?

- Ans
- 1. गडचिरोली
 - 2. नागपूर
 - 3. सिंधुदुर्ग
 - 4. यवतमाळ

Question Type : MCQ
Question ID : 910281140
Option 1 ID : 910281546
Option 2 ID : 910281545
Option 3 ID : 910281547
Option 4 ID : 910281548
Status : Answered
Chosen Option : 4

Q.13 महाराष्ट्रातील पोलीस प्रशासनाबाबत खालीलपैकी कोणते विधान योग्य आहे?

- I. प्रत्येक जिल्हा मुख्यालयावर एक पोलीस अधीक्षक (Superintendent of Police) असतो.
- II. जिल्ह्यातील शांतता व सुव्यवस्था राखण्यासाठी ते जिल्हाधिकार्यांना मदत करतात.

- Ans
- 1. I आणि II हे दोन्ही
 - 2. फक्त II
 - 3. I किंवा II यापैकी कोणतेही नाही
 - 4. फक्त I

Question Type : MCQ
Question ID : 910281153
Option 1 ID : 910281599
Option 2 ID : 910281598
Option 3 ID : 910281600
Option 4 ID : 910281597
Status : Answered
Chosen Option : 1

Q.14 महाराष्ट्राच्या 2020-21 च्या आर्थिक सर्वेक्षणानुसार, अर्थव्यवस्थेच्या प्रमुख क्षेत्रांमध्ये _____ क्षेत्र हे एकमेव क्षेत्र होते ज्याने 2020-21 मध्ये GSVA मध्ये सकारात्मक योगदान दिले.

- Ans
- 1. उत्पादन (Manufacturing)
 - 2. खाणकाम आणि उत्खनन (Mining and quarrying)
 - 3. कृषी आणि संलग्न क्रियाकलाप (Agriculture and allied activities)
 - 4. बांधकाम (Construction)

Question Type : MCQ

Question ID : 910281137

Option 1 ID : 910281535

Option 2 ID : 910281534

Option 3 ID : 910281533

Option 4 ID : 910281536

Status : Answered

Chosen Option : 3

Q.15 खालीलपैकी कोण महाराष्ट्र भूषण पुरस्कार प्राप्तकर्ता नाही?

- Ans
- 1. सचिन तेंडुलकर
 - 2. लता मंगेशकर
 - 3. रतन टाटा
 - 4. श्रेया घोषाल

Question Type : MCQ

Question ID : 910281133

Option 1 ID : 910281518

Option 2 ID : 910281517

Option 3 ID : 910281519

Option 4 ID : 910281520

Status : Answered

Chosen Option : 4

Q.16 निक्की प्रधान खालीलपैकी कोणत्या खेळाशी संबंधित आहे?

- Ans
- 1. भारोत्तोलन (Weightlifting)
 - 2. हॉकी (Hockey)
 - 3. कुस्ती (Wrestling)
 - 4. धनुर्विद्या (Archery)

Question Type : MCQ

Question ID : 910281123

Option 1 ID : 910281477

Option 2 ID : 910281479

Option 3 ID : 910281480

Option 4 ID : 910281478

Status : Answered

Chosen Option : 4

Q.17 व्याघ्र प्रकल्प - महाराष्ट्राचा जिल्हा याची खालीलपैकी कोणती जोडी योग्य आहे?

- I. पेंच व्याघ्र प्रकल्प – नागपूर
II. बोर व्याघ्र प्रकल्प – वर्धा

- Ans 1. फक्त I
 2. फक्त II
 3. I किंवा II यापैकी कोणतेही नाही
 4. I आणि II हे दोन्ही

Question Type : MCQ

Question ID : 910281141

Option 1 ID : 910281549

Option 2 ID : 910281550

Option 3 ID : 910281552

Option 4 ID : 910281551

Status : Answered

Chosen Option : 1

Q.18 भारतरत्न पुरस्कार विजेते असलेले खालीलपैकी कोणी श्रीमती नाथीबाई दामोदर ठाकरसी महिला विद्यापीठाची स्थापना केली?

- Ans 1. सी.व्ही. रमण
 2. डॉ. डी.के. कर्वे
 3. एम.विश्वेश्वरैया
 4. पांडुरंग वामन काने

Question Type : MCQ

Question ID : 910281134

Option 1 ID : 910281523

Option 2 ID : 910281521

Option 3 ID : 910281522

Option 4 ID : 910281524

Status : Answered

Chosen Option : 2

Q.19 21 एप्रिल 1526 रोजी, बाबर आणि इब्राहिम लोदी यांच्यादरम्यान _____ येथे लढाई झाली.

- Ans 1. पानिपत
 2. खानवा
 3. हळदीघाटी
 4. चौसा

Question Type : MCQ

Question ID : 910281125

Option 1 ID : 910281486

Option 2 ID : 910281485

Option 3 ID : 910281488

Option 4 ID : 910281487

Status : Answered

Chosen Option : 1

Q.20 "असा मी असामी" (Asa Mi Asami) या मराठी पुस्तकाचे लेखक खालीलपैकी कोण आहेत?

- Ans 1. जी.ए. कुलकर्णी
 2. पुरुषोत्तम लक्ष्मण देशपांडे
 3. नामदेव ढसाळ
 4. विश्वास पाटील

Question Type : MCQ

Question ID : 910281131

Option 1 ID : 910281510

Option 2 ID : 910281512

Option 3 ID : 910281509

Option 4 ID : 910281511

Status : Answered

Chosen Option : 2

Q.21 खालीलपैकी कोणत्या घटना दुरुस्तीने मंत्री परिषदेचे संख्याबळ लोकसभेच्या एकूण सदस्यांच्या 15% पेक्षा जास्त नसावे असे मर्यादित केले?

- Ans 1. 91वी दुरुस्ती
 2. 87वी दुरुस्ती
 3. 95वी दुरुस्ती
 4. 82वी दुरुस्ती

Question Type : MCQ

Question ID : 910281122

Option 1 ID : 910281475

Option 2 ID : 910281474

Option 3 ID : 910281476

Option 4 ID : 910281473

Status : Answered

Chosen Option : 1

Q.22 अश्वघोषाच्या "बुद्धचरित" ची भाषा कोणती आहे?

- Ans 1. प्राकृत
 2. संस्कृत
 3. पाली
 4. हिंदी

Question Type : MCQ

Question ID : 910281112

Option 1 ID : 910281433

Option 2 ID : 910281435

Option 3 ID : 910281434

Option 4 ID : 910281436

Status : Answered

Chosen Option : 3

Q.23 महाराष्ट्रातील कोणत्या जिल्ह्यात मेळघाट व्याघ्र प्रकल्प (Melghat Tiger Reserve) स्थित आहे?

- Ans 1. नाशिक
 2. लातूर
 3. नागपूर
 4. अमरावती

Question Type : MCQ

Question ID : 910281139

Option 1 ID : 910281541

Option 2 ID : 910281544

Option 3 ID : 910281543

Option 4 ID : 910281542

Status : Answered

Chosen Option : 4

Q.24 भारताच्या 2011 च्या जनगणनेनुसार, 2001 ते 2011 या कालावधीत महाराष्ट्रातील कामकाजाच्या वयातील (working age) (15 ते 59 वर्षे वयोगटातील) लोकसंख्येमध्ये _____ टक्के गुणांची वाढ झाली आहे.

- Ans 1. 6.1
 2. 8.1
 3. 4.1
 4. 2.1

Question Type : MCQ

Question ID : 910281144

Option 1 ID : 910281563

Option 2 ID : 910281564

Option 3 ID : 910281561

Option 4 ID : 910281562

Status : Answered

Chosen Option : 1

Q.25 खालीलपैकी कोणते प्रकरण मुंबई उच्च न्यायालयाच्या (Bombay High Court) अधिकार क्षेत्रात येत नाही?

- Ans 1. दमण आणि दीव
 2. दादरा आणि नगर हवेली
 3. गोवा
 4. गुजरात

Question Type : MCQ

Question ID : 910281150

Option 1 ID : 910281587

Option 2 ID : 910281588

Option 3 ID : 910281585

Option 4 ID : 910281586

Status : Answered

Chosen Option : 4

Q.26 खालीलपैकी कोणी "तबकत-ए-नासिरी" लिहिले?

- Ans 1. मिन्हाज-इ-सिराज जुज्जानी
 2. फरीदुद्दीन गंजशकर
 3. अमीर खुसरो दिहलवी
 4. निजामुद्दीन औलिया

Question Type : MCQ

Question ID : 910281111

Option 1 ID : 910281432

Option 2 ID : 910281431

Option 3 ID : 910281429

Option 4 ID : 910281430

Status : Answered

Chosen Option : 1

Q.27 खालीलपैकी कोणते अर्थव्यवस्थेच्या सेवा क्षेत्राशी संबंधित आहे?

- Ans 1. व्यापार
 2. गूळ बनवणे
 3. रेशीम उत्पादन
 4. सूत कताई

Question Type : MCQ

Question ID : 910281114

Option 1 ID : 910281442

Option 2 ID : 910281444

Option 3 ID : 910281441

Option 4 ID : 910281443

Status : Answered

Chosen Option : 1

Q.28 महाराष्ट्रातील खालीलपैकी कोणता जिल्हा कृष्णा खोऱ्यात (Krishna Basin) येतो?

- I. अहमदनगर
II. सोलापूर

- Ans 1. फक्त I
 2. I किंवा II यापैकी कोणतेही नाही
 3. फक्त II
 4. I आणि II हे दोन्ही

Question Type : MCQ

Question ID : 910281138

Option 1 ID : 910281537

Option 2 ID : 910281540

Option 3 ID : 910281538

Option 4 ID : 910281539

Status : Answered

Chosen Option : 3

Q.29 निजाम-उल-मुल्क असफ जाह हा खालीलपैकी या मुघल सम्राटाच्या दरबारातील सर्वात शक्तिशाली सदस्यांपैकी एक होता:

- Ans 1. फारुख सियार
 2. औरंगजेब
 3. हुमायून
 4. शाह जहान

Question Type : MCQ

Question ID : 910281107

Option 1 ID : 910281415

Option 2 ID : 910281414

Option 3 ID : 910281413

Option 4 ID : 910281416

Status : Answered

Chosen Option : 1

Q.30 भारताच्या 2011 च्या जनगणनेनुसार, महाराष्ट्रातील कोणत्या जिल्ह्यात युवकांचे प्रमाण कमी असलेली (वयोगट 15 ते 24 वर्षे) लोकसंख्या आहे?

- Ans 1. रत्नागिरी
 2. सिंधुदुर्ग
 3. गडचिरोली
 4. नंदुरबार

Question Type : MCQ

Question ID : 910281143

Option 1 ID : 910281560

Option 2 ID : 910281557

Option 3 ID : 910281558

Option 4 ID : 910281559

Status : Answered

Chosen Option : 4

Q.31 2011 च्या जनगणनेनुसार, भारताच्या लोकसंख्येपैकी जवळजवळ _____ उत्तर प्रदेश राज्याचा वाटा आहे.

- Ans 1. 16 टक्के
 2. 22 टक्के
 3. 12 टक्के
 4. 10 टक्के

Question Type : MCQ

Question ID : 910281117

Option 1 ID : 910281455

Option 2 ID : 910281456

Option 3 ID : 910281454

Option 4 ID : 910281453

Status : Answered

Chosen Option : 1

Q.32 महाराष्ट्रातील किती जिल्ह्यांमध्ये जिल्हा परिषद (Zilla Parishad) नाही?

Ans 1. 3

2. 2

3. 1

4. 4

Question Type : MCQ

Question ID : 910281152

Option 1 ID : 910281594

Option 2 ID : 910281593

Option 3 ID : 910281596

Option 4 ID : 910281595

Status : Answered

Chosen Option : 2

Q.33 पद्मा सुब्रह्मण्यम हे एक प्रसिद्ध नाव आहे:

Ans 1. लावणी

2. सत्रीया नृत्य

3. भरतनाट्यम

4. मणिपुरी

Question Type : MCQ

Question ID : 910281108

Option 1 ID : 910281420

Option 2 ID : 910281417

Option 3 ID : 910281418

Option 4 ID : 910281419

Status : Answered

Chosen Option : 3

Q.34 भारतीय राज्यघटनेनुसार, उच्च न्यायालया (High court) च्या न्यायाधीशाचे निवृत्तीचे वय किती आहे?

Ans 1. 68 वर्षे

2. 60 वर्षे

3. 65 वर्षे

4. 62 वर्षे

Question Type : MCQ

Question ID : 910281149

Option 1 ID : 910281583

Option 2 ID : 910281584

Option 3 ID : 910281582

Option 4 ID : 910281581

Status : Answered

Chosen Option : 4

Q.35 'सुवर्णदुर्ग किल्ला' महाराष्ट्रातील कोणत्या जिल्ह्यात वसलेला आहे?

- Ans
- 1. हिंगोली
 - 2. बीड
 - 3. लातूर
 - 4. रत्नागिरी

Question Type : MCQ

Question ID : 910281129

Option 1 ID : 910281504

Option 2 ID : 910281502

Option 3 ID : 910281503

Option 4 ID : 910281501

Status : Answered

Chosen Option : 4

Q.36 खालीलपैकी कोणता दिवस भारतात राष्ट्रीय एकता दिवस (National Unity Day) म्हणून साजरा केला जातो?

- Ans
- 1. 10 नोव्हेंबर
 - 2. 31 ऑक्टोबर
 - 3. 4 नोव्हेंबर
 - 4. 25 ऑक्टोबर

Question Type : MCQ

Question ID : 910281109

Option 1 ID : 910281424

Option 2 ID : 910281422

Option 3 ID : 910281423

Option 4 ID : 910281421

Status : Answered

Chosen Option : 2

Q.37 व्हिनेगर हे _____ चे एक जलीय द्रावण आहे.

- Ans
- 1. टार्टरिक आम्ल
 - 2. सायट्रिक आम्ल
 - 3. ऍसिटिक आम्ल
 - 4. फॉर्मिक आम्ल

Question Type : MCQ

Question ID : 910281119

Option 1 ID : 910281463

Option 2 ID : 910281464

Option 3 ID : 910281462

Option 4 ID : 910281461

Status : Answered

Chosen Option : 3

Q.38 _____ हे 2019-20 पासून समूह विकास (cluster) पद्धतीद्वारे महाराष्ट्र राज्यात सेंद्रिय शेतीला चालना देण्यासाठी राबविण्यात येत आहे.

- Ans
- 1. प्रधान मंत्री जैविक शेती अभियान
 - 2. महात्मा ज्योतिराव फुले जैविक शेती अभियान
 - 3. डॉ. पंजाबराव देशमुख जैविक शेती अभियान
 - 4. मुख्यमंत्री जैविक शेती अभियान

Question Type : MCQ

Question ID : 910281148

Option 1 ID : 910281578

Option 2 ID : 910281577

Option 3 ID : 910281579

Option 4 ID : 910281580

Status : Answered

Chosen Option : 2

Q.39 कोळी ढोर (Koli Dhor) जमातीच्या वसाहती _____ म्हणून ओळखल्या जातात.

- Ans
- 1. वाडी
 - 2. कुडीन
 - 3. काकसार
 - 4. तांडा

Question Type : MCQ

Question ID : 910281142

Option 1 ID : 910281553

Option 2 ID : 910281556

Option 3 ID : 910281555

Option 4 ID : 910281554

Status : Answered

Chosen Option : 2

Q.40 खालीलपैकी कोणते भारताचे उत्पादन-प्रमाणीकरण मानक नाही?

- Ans
- 1. आयएसओ (ISO)
 - 2. +F
 - 3. आयएसआय (ISI)
 - 4. एगमार्क (Agmark)

Question Type : MCQ

Question ID : 910281113

Option 1 ID : 910281440

Option 2 ID : 910281437

Option 3 ID : 910281438

Option 4 ID : 910281439

Status : Answered

Chosen Option : 2

Q.41 महाराष्ट्रातील खालीलपैकी कोणत्या जिल्ह्यात, राष्ट्रीय स्वयंसेवक संघाची स्थापना झाली?

- Ans
- 1. नाशिक
 - 2. मुंबई
 - 3. नागपूर
 - 4. पुणे

Question Type : MCQ

Question ID : 910281126

Option 1 ID : 910281490

Option 2 ID : 910281491

Option 3 ID : 910281492

Option 4 ID : 910281489

Status : Answered

Chosen Option : 3

Q.42 शाह जहानच्या खालीलपैकी कोणत्या मुलाने पन्नासहून अधिक उपनिषदांचे फारसी भाषेत भाषांतर केले?

- Ans
- 1. दारा शिकोह
 - 2. औरंगजेब
 - 3. मुराद बख्श
 - 4. शाह शुजा

Question Type : MCQ

Question ID : 910281124

Option 1 ID : 910281484

Option 2 ID : 910281483

Option 3 ID : 910281482

Option 4 ID : 910281481

Status : Answered

Chosen Option : 3

Q.43 स्वामी दयानंद सरस्वती यांनी आर्य समाजाची स्थापना कोणत्या वर्षी केली?

- Ans
- 1. 1864
 - 2. 1889
 - 3. 1857
 - 4. 1875

Question Type : MCQ

Question ID : 910281104

Option 1 ID : 910281402

Option 2 ID : 910281404

Option 3 ID : 910281401

Option 4 ID : 910281403

Status : Answered

Chosen Option : 4

Q.44 खालीलपैकी कोणते विधान सत्य आहे?

- I. भारताच्या 2011 च्या जनगणनेनुसार, उत्तर प्रदेश नंतर महाराष्ट्रात सर्वाधिक दिव्यांग (disabled) व्यक्तींची संख्या होती.
II. महाराष्ट्र शासनाने 26 जानेवारी 2020 पासून सर्व जिल्हा मुख्यालये आणि नगरपालिका क्षेत्रात शिवभोजन योजना सुरू केली.

- Ans 1. फक्त I
 2. I किंवा II यापैकी कोणतेही नाही
 3. फक्त II
 4. I आणि II हे दोन्ही

Question Type : MCQ

Question ID : 910281145

Option 1 ID : 910281565

Option 2 ID : 910281568

Option 3 ID : 910281566

Option 4 ID : 910281567

Status : Answered

Chosen Option : 4

Q.45 महाराष्ट्रात किती राष्ट्रीय उद्याने आहेत?

- Ans 1. 6
 2. 8
 3. 10
 4. 7

Question Type : MCQ

Question ID : 910281146

Option 1 ID : 910281569

Option 2 ID : 910281571

Option 3 ID : 910281572

Option 4 ID : 910281570

Status : Answered

Chosen Option : 4

Q.46 'राजमाची किल्ला' (Rajmachi Fort) महाराष्ट्रातील कोणत्या जिल्ह्यात स्थित आहे?

- Ans 1. पुणे
 2. कोल्हापूर
 3. रत्नागिरी
 4. नाशिक

Question Type : MCQ

Question ID : 910281128

Option 1 ID : 910281498

Option 2 ID : 910281499

Option 3 ID : 910281497

Option 4 ID : 910281500

Status : Answered

Chosen Option : 3

Q.47 खालीलपैकी कोणते एक इकायनोडर्मेटा (Echinodermata) चे एक उदाहरण आहे?

- Ans
- 1. चिटोन (Chiton)
 - 2. अँटेडॉन (Antedon)
 - 3. युनियो (Unio)
 - 4. मक्षिका (Musca)

Question Type : MCQ

Question ID : 910281120

Option 1 ID : 910281468

Option 2 ID : 910281465

Option 3 ID : 910281467

Option 4 ID : 910281466

Status : Answered

Chosen Option : 2

Q.48 खालीलपैकी कोणते एक SI युनिट नाही?

- Ans
- 1. मीटर
 - 2. किलोग्रॅम
 - 3. सेकंद
 - 4. सेल्सियस

Question Type : MCQ

Question ID : 910281121

Option 1 ID : 910281469

Option 2 ID : 910281470

Option 3 ID : 910281472

Option 4 ID : 910281471

Status : Answered

Chosen Option : 2

Q.49 खालीलपैकी कोणाला त्यांच्या "काळे करडे स्ट्रोकस" (Kale Karde Strokes) या मराठी कादंबरीसाठी "साहित्य अकादमी युवा पुरस्कार 2021" प्रदान करण्यात आला आहे?

- Ans
- 1. ज्ञानेश्वर प्रकाश
 - 2. अक्षय शिंपी
 - 3. प्रणव सखदेव
 - 4. स्वप्नील शेळके

Question Type : MCQ

Question ID : 910281132

Option 1 ID : 910281516

Option 2 ID : 910281514

Option 3 ID : 910281513

Option 4 ID : 910281515

Status : Answered

Chosen Option : 1

Q.50 महाराष्ट्राच्या 2020-21 च्या आर्थिक सर्वेक्षणानुसार, खालीलपैकी कोणत्या पिकाचे 2019-20 या वर्षात महाराष्ट्रात सर्वाधिक उत्पादन झाले आहे?

- Ans
- 1. गहू
 - 2. तांदूळ
 - 3. ऊस
 - 4. ज्वारी

Question Type : MCQ

Question ID : 910281147

Option 1 ID : 910281575

Option 2 ID : 910281573

Option 3 ID : 910281574

Option 4 ID : 910281576

Status : Answered

Chosen Option : 4

Section : General Intelligence

- Q.1 'C \sum D' म्हणजे 'C हा D चा भाऊ आहे'.
 'C ∂ D' म्हणजे 'C हे D चे वडील आहेत'.
 'C \supseteq D' म्हणजे 'C ही D ची बहीण आहे'.
 'C \leq D' म्हणजे 'C ही D ची आई आहे'.

खालीलपैकी कोणत्या पदावलीचा अर्थ 'J हा V चा मामा (maternal uncle) असा होतो?'

- Ans
- 1. J \sum R \leq L \supseteq V
 - 2. J ∂ Z \supseteq G \leq V
 - 3. J \sum F ∂ W \leq V
 - 4. J \leq O ∂ E \sum V

Question Type : MCQ

Question ID : 910281184

Option 1 ID : 910281723

Option 2 ID : 910281721

Option 3 ID : 910281724

Option 4 ID : 910281722

Status : Answered

Chosen Option : 1

- Q.2 सात व्यक्ती - A, B, C, D, E, F आणि G यांना सात वेगवेगळे रंग आवडतात. A ला निळा किंवा गुलाबी हे दोन्ही रंग आवडत नाहीत. D ला लाल रंग आवडतो. B ला एकतर करडा किंवा जांभळा यांपैकी एक रंग आवडतो. E ला हिरवा रंग आवडतो. एकतर C किंवा D यांपैकी एकाला पिवळा रंग आवडतो. F ला गुलाबी रंग आवडत नाही. खालीलपैकी कोणते निश्चितपणे सत्य आहे?

- Ans
- 1. C ला पिवळा आवडतो
 - 2. B ला जांभळा आवडतो
 - 3. F ला लाल आवडतो
 - 4. A ला करडा आवडतो

Question Type : MCQ

Question ID : 910281158

Option 1 ID : 910281620

Option 2 ID : 910281618

Option 3 ID : 910281619

Option 4 ID : 910281617

Status : Answered

Chosen Option : 3

Q.3 दिलेल्या प्रश्नात, विविध घटकांतील संबंध विधानांत दर्शवले आहेत. विधानांनंतर दोन निष्कर्ष दिले आहेत. कोणता निष्कर्ष निश्चितपणे सत्य आहे ते शोधा.

विधाने:

$$A = B < C > D; E > C < F$$

निष्कर्ष:

I. $E > A$

II. $F > D$

Ans

- ✓ 1. दोन्ही निष्कर्ष । आणि ॥ दोन्ही सत्य आहेत
- ✗ 2. केवळ निष्कर्ष ॥ सत्य आहे
- ✗ 3. केवळ निष्कर्ष । सत्य आहे
- ✗ 4. एकतर निष्कर्ष । किंवा ॥ यापैकी एक सत्य आहे

Question Type : **MCQ**

Question ID : **910281168**

Option 1 ID : **910281660**

Option 2 ID : **910281658**

Option 3 ID : **910281657**

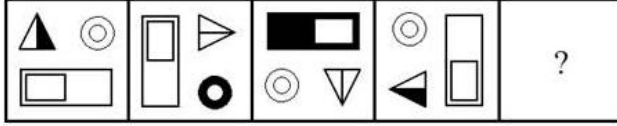
Option 4 ID : **910281659**

Status : **Answered**

Chosen Option : **1**

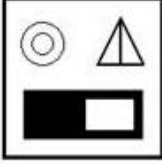
Q.4 खालील आकृतींच्या मालिकेत प्रश्नचिन्हाच्या (?) जागी येईल, अशी आकृती निवडा.

प्रश्न आकृती:



Ans

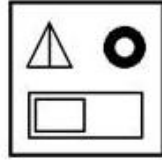
✗ 1.



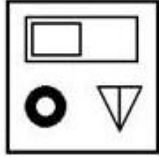
✗ 2.



✓ 3.



✗ 4.



Question Type : MCQ

Question ID : 910281185

Option 1 ID : 910281728

Option 2 ID : 910281726

Option 3 ID : 910281725

Option 4 ID : 910281727

Status : Answered

Chosen Option : 3

Q.5 एका विशिष्ट सांकेतिक भाषेत 'OUNCES' हे '4-5-28-6-2-38' या संकेतात लिहिले जाते. त्याच सांकेतिक भाषेत 'PARKED' हे कोणत्या संकेतात लिहिले जाईल?

Ans

✗ 1. 30-6-15-10-2-8

✗ 2. 30-6-35-10-2-4

✓ 3. 32-1-36-22-2-8

✗ 4. 32-1-16-22-2-4

Question Type : MCQ

Question ID : 910281182

Option 1 ID : 910281716

Option 2 ID : 910281713

Option 3 ID : 910281715

Option 4 ID : 910281714

Status : Answered

Chosen Option : 3

Q.6 दिलेल्या प्रश्नात, विविध घटकांतील संबंध विधानांत दर्शवले आहेत. विधानांनंतर दोन निष्कर्ष दिले आहेत. कोणता निष्कर्ष निश्चितपणे सत्य आहे ते शोधा.

विधाने:

$A < B > C > D$; $A > E$, $D > F$

निष्कर्ष:

I. $F > B$

II. $B > E$

- Ans
- ✗ 1. निष्कर्ष I किंवा II यांपैकी एकही सत्य नाही
 - ✗ 2. केवळ निष्कर्ष I सत्य आहे
 - ✓ 3. केवळ निष्कर्ष II सत्य आहे
 - ✗ 4. एकतर निष्कर्ष I किंवा II यांपैकी एक सत्य आहे

Question Type : MCQ

Question ID : 910281167

Option 1 ID : 910281656

Option 2 ID : 910281653

Option 3 ID : 910281654

Option 4 ID : 910281655

Status : Answered

Chosen Option : 3

Q.7 ज्या पद्धतीने खालील संचातील संख्या संबंधित आहेत, त्याच पद्धतीने संबंधित असलेल्या संख्यांचा संच निवडा.

(36, 48, 72)

- Ans
- ✗ 1. (84, 24, 12)
 - ✓ 2. (51, 68, 102)
 - ✗ 3. (42, 56, 70)
 - ✗ 4. (48, 80, 96)

Question Type : MCQ

Question ID : 910281197

Option 1 ID : 910281775

Option 2 ID : 910281774

Option 3 ID : 910281773

Option 4 ID : 910281776

Status : Answered

Chosen Option : 2

Q.8 आठ व्यक्ती एका चौरसाकृती टेबलाभोवती बसल्या आहेत. त्यापैकी चार जण कोपन्यांवर बाहेरच्या दिशेला तोंड करून बसले आहेत तर उरलेले चार जण टेबलच्या बाजूला आतील दिशेला तोंड करून बसले आहेत. केंद्राकडे तोंड केलेल्या P च्या विरुद्ध दिशेला E बसला आहे, L आणि E यांच्या दरम्यान दोन व्यक्ती बसल्या आहेत. L च्या उजवीकडे तिसऱ्या स्थानी R बसला आहे. H आणि R यांच्या दरम्यान दोन व्यक्ती बसल्या आहेत. M च्या उजवीकडे दुसऱ्या स्थानी F बसला आहे. V आणि P हे शेजारी नाहीत. जेव्हा F च्या उजवीकडून मोजले जाते, तेव्हा F आणि H यांच्या दरम्यान खालीलपैकी कोण बसले आहे?

Ans 1. R

2. L च्या उजवीकडे तिसऱ्या स्थानी बसलेला एक जण

3. M

4. V च्या उजवीकडे दुसऱ्या स्थानी बसलेला एक जण

Question Type : MCQ

Question ID : 910281157

Option 1 ID : 910281614

Option 2 ID : 910281616

Option 3 ID : 910281613

Option 4 ID : 910281615

Status : Answered

Chosen Option : 2

Q.9 जर 'BIODIVERSITIES' या शब्दाच्या डावीकडील प्रत्येक तिसऱ्या स्थानावरील अक्षरांचा विचार केला आणि त्यांची मुळाक्षरांच्या क्रमाने रचना केली, तर इंग्रजी मुळाक्षर क्रमानुसार तयार झालेल्या नवीन मांडणीतील पहिल्या आणि शेवटच्या अक्षरादरम्यान किती अक्षरे येतील?

Ans 1. 10

2. 15

3. 13

4. 12

Question Type : MCQ

Question ID : 910281179

Option 1 ID : 910281703

Option 2 ID : 910281702

Option 3 ID : 910281701

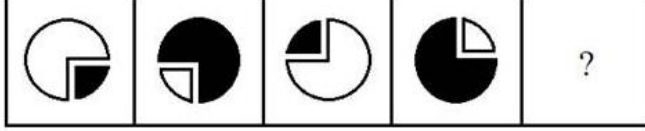
Option 4 ID : 910281704

Status : Answered

Chosen Option : 4

Q.10 खालील आकृतींच्या मालिकेत प्रश्नचिन्हाच्या (?) जागी येईल, अशी आकृती निवडा.

प्रश्न आकृती:



Ans

✗ 1.



✓ 2.



✗ 3.



✗ 4.



Question Type : MCQ

Question ID : 910281186

Option 1 ID : 910281732

Option 2 ID : 910281730

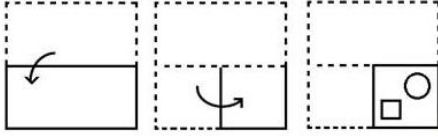
Option 3 ID : 910281729

Option 4 ID : 910281731

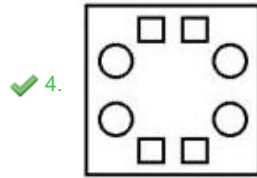
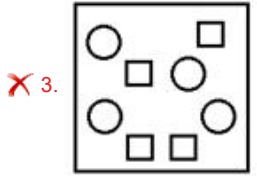
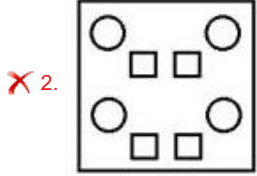
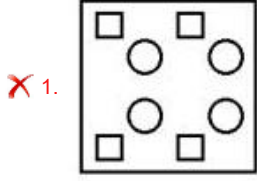
Status : Answered

Chosen Option : 2

Q.11 एका कागदाची घडी घातली आणि खाली दर्शविल्याप्रमाणे तो कापला. तो उघडल्यानंतर कसा दिसेल?



Ans



Question Type : MCQ

Question ID : 910281188

Option 1 ID : 910281739

Option 2 ID : 910281740

Option 3 ID : 910281737

Option 4 ID : 910281738

Status : Answered

Chosen Option : 4

Q.12 A, B, C, D, E, F, G, H, I ही नऊ घरे आहेत. C हा B च्या 2 m पूर्वेला आहे, जो A च्या 1 m दक्षिणेस आहे, जो H च्या 2 m उत्तरेस आहे. G हा H च्या 1 m पश्चिमेस आहे तर D हा G च्या 3 m पूर्वेला आहे, जो F च्या 2 m दक्षिणेस आहे. I हे B आणि C यांच्या मध्यभागी आहे तर E हे H आणि D च्या मध्यभागी आहे. तर A च्या संदर्भात घर F किती अंतरावर आणि कोणत्या दिशेला आहे?

Ans

✗ 1. 2 m पश्चिम

✓ 2. 1 m पश्चिम

✗ 3. 1 m पूर्व

✗ 4. 2 m पूर्व

Question Type : MCQ

Question ID : 910281183

Option 1 ID : 910281720

Option 2 ID : 910281719

Option 3 ID : 910281717

Option 4 ID : 910281718

Status : Answered

Chosen Option : 2

Q.13 खालील प्रश्नात काही विधाने दिली असून, त्यानंतर काही निष्कर्ष दिले आहेत. तुम्हाला दिलेली विधाने ती सर्वसामान्यपणे जात तथ्यांपेक्षा वेगळी दिसत असली तरी ती सत्य मानायची आहेत. सर्व निष्कर्ष वाचा आणि सर्वसामान्यपणे जात तथ्यांकडे दुर्लक्ष करून दिलेल्यापैकी कोणते निष्कर्ष दिलेल्या विधानांचे तार्किकदृष्ट्या अनुसरण करतात ते ठरवा.

विधाने:

सर्व डोअर्स फ्लोअर्स आहेत.
काही फ्लोअर्स टाईल्स आहेत.
सर्व टाईल्स पेन्ट्स आहेत.
काही पेन्ट्स स्टोन्स आहेत.

निष्कर्ष:

I. काही फ्लोअर्स पेन्ट्स आहेत.
II. काही डोअर्स टाईल्स आहेत.

Ans

- ✓ 1. केवळ निष्कर्ष I अनुसरण करतो
- ✗ 2. निष्कर्ष I किंवा II यांपैकी कोणतेही अनुसरण करत नाही
- ✗ 3. I आणि II दोन्ही निष्कर्ष अनुसरण करतात
- ✗ 4. केवळ निष्कर्ष II अनुसरण करतो

Question Type : **MCQ**

Question ID : **910281164**

Option 1 ID : **910281641**

Option 2 ID : **910281643**

Option 3 ID : **910281644**

Option 4 ID : **910281642**

Status : **Answered**

Chosen Option : **1**

Q.14 खालील प्रश्नात काही विधाने दिली असून, त्यानंतर काही निष्कर्ष दिले आहेत. तुम्हाला दिलेली विधाने ती सर्वसामान्यपणे जात तथ्यांपेक्षा वेगळी दिसत असली तरी ती सत्य मानायची आहेत. सर्व निष्कर्ष वाचा आणि सर्वसामान्यपणे जात तथ्यांकडे दुर्लक्ष करून दिलेल्यापैकी कोणते निष्कर्ष दिलेल्या विधानांचे तार्किकदृष्ट्या अनुसरण करतात ते ठरवा.

विधाने:

काही स्लॅब्स क्युब्स आहेत.
सर्व स्लॅब्स ब्लॉक्स आहेत.
कोणताही ब्लॉक ब्रिक (बीट) नाही.

निष्कर्ष:

I. कोणताही स्लॅब ब्रिक (बीट) नाही.
II. किमान काही क्युब्स ब्लॉक्स आहेत.

Ans

- ✓ 1. निष्कर्ष I आणि II दोन्ही अनुसरण करतात
- ✗ 2. एकतर निष्कर्ष I किंवा II यांपैकी एक अनुसरण करतो
- ✗ 3. निष्कर्ष I किंवा II यांपैकी एकही निष्कर्ष अनुसरण करत नाही
- ✗ 4. केवळ निष्कर्ष I अनुसरण करतो

Question Type : **MCQ**

Question ID : **910281161**

Option 1 ID : **910281632**

Option 2 ID : **910281630**

Option 3 ID : **910281631**

Option 4 ID : **910281629**

Status : **Answered**

Chosen Option : **1**

Q.15 खालील संख्यांच्या मालिकेत प्रश्नचिन्हाच्या '?' जागी काय आले पाहिजे?

-29, -33, -41, ?, -77, -109, -153

- Ans
- 1. -47
 - 2. -55
 - 3. -51
 - 4. -49

Question Type : MCQ

Question ID : 910281193

Option 1 ID : 910281757

Option 2 ID : 910281760

Option 3 ID : 910281759

Option 4 ID : 910281758

Status : Answered

Chosen Option : 2

Q.16 खालील मालिका पूर्ण करा.

12, 19, 33, 61, __, __

- Ans
- 1. 97, 205
 - 2. 117, 229
 - 3. 109, 217
 - 4. 119, 232

Question Type : MCQ

Question ID : 910281195

Option 1 ID : 910281767

Option 2 ID : 910281766

Option 3 ID : 910281768

Option 4 ID : 910281765

Status : Answered

Chosen Option : 2

Q.17 दिलेल्या मालिकेतील पुढील पद कोणते असेल?

E, J, O, T, _____

- Ans
- 1. Y
 - 2. X
 - 3. N
 - 4. M

Question Type : MCQ

Question ID : 910281173

Option 1 ID : 910281679

Option 2 ID : 910281680

Option 3 ID : 910281678

Option 4 ID : 910281677

Status : Answered

Chosen Option : 1

Q.18 दिलेल्या प्रश्नात, विविध घटकांतील संबंध विधानांत दर्शवले आहेत. विधानांनंतर दोन निष्कर्ष दिले आहेत. कोणता निष्कर्ष निश्चितपणे सत्य आहे ते शोधा.

विधाने:

$$P > Q \geq R; Q = S; S > T \geq U$$

निष्कर्ष:

I. $P \geq S$

II. $Q \geq U$

- Ans
- 1. केवळ I सत्य आहे
 - 2. केवळ II सत्य आहे
 - 3. एकतर I किंवा II यापैकी एक सत्य आहे
 - 4. I किंवा II यापैकी कोणतेही सत्य नाही

Question Type : MCQ

Question ID : 910281169

Option 1 ID : 910281661

Option 2 ID : 910281662

Option 3 ID : 910281663

Option 4 ID : 910281664

Status : Answered

Chosen Option : 4

Q.19 खालील प्रश्नामध्ये, दिलेल्या पर्यायांमधून संबंधित अक्षरे निवडा.

KDMS : PAJH :: ETOP : ?

- Ans
- 1. QVLK
 - 2. PKVL
 - 3. VQLK
 - 4. VOLK

Question Type : MCQ

Question ID : 910281174

Option 1 ID : 910281683

Option 2 ID : 910281682

Option 3 ID : 910281684

Option 4 ID : 910281681

Status : Answered

Chosen Option : 3

Q.20 सहा व्यक्ती F, G, H, I, J आणि K यांना परीक्षेत वेगवेगळे गुण मिळाले. G ला F आणि K यांच्यापेक्षा अधिक गुण मिळाले आहेत. F ला I पेक्षा अधिक गुण मिळाले आहेत, मात्र सर्वाधिक गुण मिळाले नाहीत. G ला H पेक्षा अधिक गुण मिळाले आहेत. K ला J पेक्षा अधिक गुण मिळाले आहेत मात्र H पेक्षा कमी गुण मिळाले आहेत. I ला तिसऱ्या क्रमांकाचे कमी गुण मिळाले आहेत. F ला K पेक्षा अधिक गुण मिळाले आहेत मात्र H पेक्षा कमी गुण मिळाले आहेत. F ला 59 गुण मिळाले आहेत आणि K ला 46 गुण मिळाले आहेत. खालीलपैकी कोणाला सर्वाधिक गुण मिळाले आहेत?

- Ans**
- ✓ 1. G
 - ✗ 2. H
 - ✗ 3. K
 - ✗ 4. J

Question Type : MCQ

Question ID : 910281172

Option 1 ID : 910281676

Option 2 ID : 910281674

Option 3 ID : 910281673

Option 4 ID : 910281675

Status : Answered

Chosen Option : 3

Q.21 खालील प्रश्नात काही विधाने दिली असून, त्यानंतर काही निष्कर्ष दिले आहेत. तुम्हाला दिलेली विधाने ती सर्वसामान्यपणे ज्ञात तथ्यांपेक्षा वेगळी दिसत असली तरी ती सत्य मानायची आहेत. सर्व निष्कर्ष वाचा आणि सर्वसामान्यपणे ज्ञात तथ्यांकडे दुर्लक्ष करून दिलेल्यापैकी कोणते निष्कर्ष दिलेल्या विधानांचे ताकिकदृष्ट्या अनुसरण करतात ते ठरवा.

विधाने:

काही फाईल्स या आयकॉन्स नाहीत.
सर्व फोल्डर्स आयकॉन्स आहेत.

निष्कर्ष:

- I. कोणतीही फाईल फोल्डर नाही.
- II. काही फाईल्स फोल्डर्स आहेत.

- Ans**
- ✗ 1. दोन्ही I आणि II अनुसरण करतात
 - ✗ 2. केवळ II अनुसरण करतो
 - ✗ 3. I किंवा II यांपैकी कोणताही अनुसरण करत नाही
 - ✓ 4. एकतर I किंवा II अनुसरण करतो

Question Type : MCQ

Question ID : 910281163

Option 1 ID : 910281640

Option 2 ID : 910281638

Option 3 ID : 910281637

Option 4 ID : 910281639

Status : Answered

Chosen Option : 2

Q.22 दिलेल्या प्रश्नात, विविध घटकांतील संबंध विधानांत दर्शवले आहेत. विधानांनंतर दोन निष्कर्ष दिले आहेत. कोणता निष्कर्ष निश्चितपणे सत्य आहे ते शोधा.

विधाने:

$$U = V \geq W; W > X; W < Y$$

निष्कर्ष:

I. $U > X$

II. $V \leq Y$

Ans

✓ 1. केवळ I सत्य आहे

✗ 2. केवळ II सत्य आहे

✗ 3. एकतर I किंवा II यापैकी एक सत्य आहे

✗ 4. I किंवा II यापैकी कोणतेही सत्य नाही

Question Type : MCQ

Question ID : 910281170

Option 1 ID : 910281665

Option 2 ID : 910281666

Option 3 ID : 910281667

Option 4 ID : 910281668

Status : Answered

Chosen Option : 1

Q.23 जर 'A' चा अर्थ बेरीज, 'B' चा अर्थ गुणाकार, 'C' चा अर्थ वजाबाकी, 'D' चा अर्थ भागाकार असेल तर खालील पदावलीचे मूल्य काय आहे?

$$110 A \ 13 B \ 6 C \ (30A \ 11 B \ 4) C \ 84 D \ 4$$

Ans

✗ 1. 108

✗ 2. 129

✗ 3. 68

✓ 4. 93

Question Type : MCQ

Question ID : 910281200

Option 1 ID : 910281785

Option 2 ID : 910281787

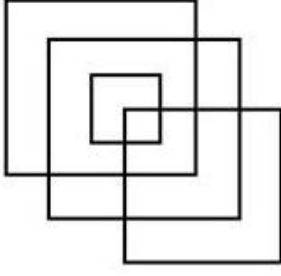
Option 3 ID : 910281788

Option 4 ID : 910281786

Status : Answered

Chosen Option : 4

Q.24 दिलेल्या आकृतीत किती चौरस आहेत?



- Ans
- 1. 9
 - 2. 8
 - 3. 7
 - 4. 10

Question Type : MCQ

Question ID : 910281191

Option 1 ID : 910281752

Option 2 ID : 910281749

Option 3 ID : 910281751

Option 4 ID : 910281750

Status : Answered

Chosen Option : 1

Q.25 खालील शब्दांची शब्दकोशातील क्रमाने मांडणी करा.

1. Squirrel
2. Spurious
3. Squirm
4. Squeeze
5. Sprinkle

- Ans
- 1. 52431
 - 2. 43125
 - 3. 23154
 - 4. 24315

Question Type : MCQ

Question ID : 910281175

Option 1 ID : 910281686

Option 2 ID : 910281687

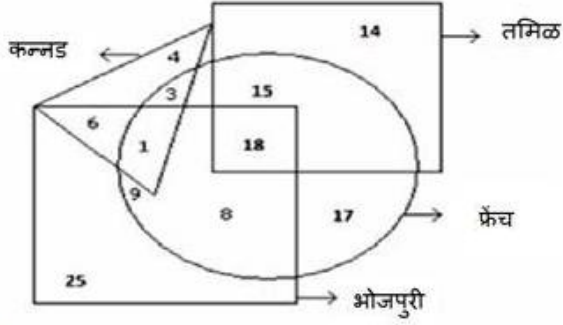
Option 3 ID : 910281688

Option 4 ID : 910281685

Status : Answered

Chosen Option : 1

Q.26 दिलेल्या आकृतीवरून उत्तर द्या.



किती व्यक्ती सर्व भाषा बोलू शकतात?

- Ans
- 1. 1
 - 2. 4
 - 3. 0
 - 4. 15

Question Type : MCQ

Question ID : 910281166

Option 1 ID : 910281649

Option 2 ID : 910281652

Option 3 ID : 910281650

Option 4 ID : 910281651

Status : Answered

Chosen Option : 3

Q.27 मालिकेतील पुढील पद शोधा.

16, 23, 28, 38, 49, ?

- Ans
- 1. 67
 - 2. 59
 - 3. 62
 - 4. 70

Question Type : MCQ

Question ID : 910281194

Option 1 ID : 910281763

Option 2 ID : 910281764

Option 3 ID : 910281762

Option 4 ID : 910281761

Status : Answered

Chosen Option : 3

Q.28 ज्या पद्धतीने खालील संचातील संख्या संबंधित आहेत, त्याच पद्धतीने संबंधित असलेल्या संख्यांचा संच निवडा.

(16, 22, 26)

- Ans
- ✗ 1. (24, 36, 48)
 - ✗ 2. (27, 31, 45)
 - ✗ 3. (16, 14, 24)
 - ✓ 4. (38, 62, 74)

Question Type : MCQ

Question ID : 910281196

Option 1 ID : 910281772

Option 2 ID : 910281770

Option 3 ID : 910281769

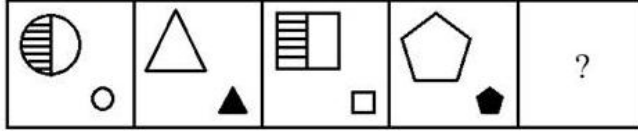
Option 4 ID : 910281771

Status : Answered

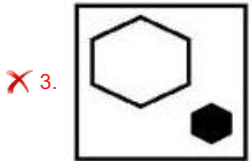
Chosen Option : 2

Q.29 खालील आकृतींच्या मालिकेत प्रश्नचिन्हाच्या (?) जागी येईल, अशी आकृती निवडा.

प्रश्न आकृती:



Ans



Question Type : MCQ

Question ID : 910281187

Option 1 ID : 910281736

Option 2 ID : 910281733

Option 3 ID : 910281734

Option 4 ID : 910281735

Status : Answered

Chosen Option : 1

Q.30 सात व्यक्ती एका सात-मजली इमारतीत राहतात. तळमजल्याला क्रमांक 1 दिला असून, सातव्या मजल्याला क्रमांक 7 दिला आहे. Q हा V च्या वर राहतो. R तळाला राहात नाही. P आणि T यांच्या दरम्यान एक व्यक्ती राहते. S हा R च्या लगतच वर राहतो. O हा P च्या जवळ राहात नाही. P, S च्या जवळ राहत नाही, जो सर्वात वर राहत नाही. T आणि R यांच्यादरम्यान तीन व्यक्ती राहतात. तळाला कोण राहते?

- Ans**
- 1. P
 - 2. T
 - 3. O
 - 4. V

Question Type : **MCQ**

Question ID : **910281160**

Option 1 ID : **910281628**

Option 2 ID : **910281625**

Option 3 ID : **910281626**

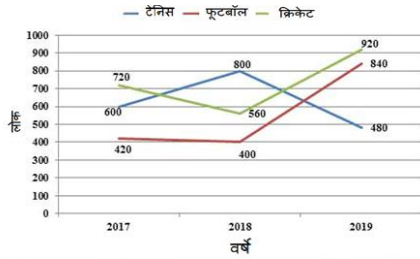
Option 4 ID : **910281627**

Status : **Answered**

Chosen Option : **2**

Q.31 खालील आलेखाचा काळजीपूर्वक अभ्यास करा आणि त्याखालील प्रश्नांची उत्तरे द्या.

अनेक वर्षांत लोकांचे वेगवेगळे खेळ खेळण्यास असलेले प्राधान्य.



वर्ष 2018 मध्ये क्रिकेट खेळण्यास प्राधान्य दिलेल्यांची टक्केवारी त्याच वर्षी टेनिस, फुटबॉल आणि क्रिकेट एकत्रितरित्या खेळण्यास प्राधान्य दिलेल्यांच्या किती आहे?

- Ans**
- 1. 27.5 टक्के
 - 2. 42.5 टक्के
 - 3. 31.8 टक्के
 - 4. 15 टक्के

Question Type : **MCQ**

Question ID : **910281203**

Option 1 ID : **910281798**

Option 2 ID : **910281799**

Option 3 ID : **910281800**

Option 4 ID : **910281797**

Status : **Answered**

Chosen Option : **3**

Q.32 खालील प्रश्नात काही विधाने दिली असून, त्यानंतर काही निष्कर्ष दिले आहेत. तुम्हाला दिलेली विधाने ती सर्वसामान्यपणे जात तथ्यांपेक्षा वेगळी दिसत असली तरी ती सत्य मानायची आहेत. सर्व निष्कर्ष वाचा आणि सर्वसामान्यपणे जात तथ्यांकडे दुर्लक्ष करून दिलेल्यापैकी कोणते निष्कर्ष दिलेल्या विधानांचे तार्किकदृष्ट्या अनुसरण करतात ते ठरवा.

विधाने:

काही फिल्म्स या सिनेमे आहेत.
सर्व सिनेमे थिएटर्स आहेत.

निष्कर्ष:

- I. काही फिल्म्स थिएटर्स आहेत.
- II. कोणताही सिनेमा फिल्म नाही.

Ans

1. केवळ II अनुसरण करतो
2. I किंवा II यांपैकी कोणताही अनुसरण करत नाही.
3. दोन्ही I आणि II अनुसरण करतात
4. केवळ I अनुसरण करतो

Question Type : MCQ

Question ID : 910281162

Option 1 ID : 910281633

Option 2 ID : 910281636

Option 3 ID : 910281635

Option 4 ID : 910281634

Status : Answered

Chosen Option : 4

Q.33 खालील प्रश्नामध्ये दोन चिन्हांची अदलाबदल करून समीकरण दुरुस्त करा.

$$5 \times 11 - 1000 + 20 \div 20 = 25$$

Ans

1. \div and $-$
2. $+$ and \times
3. \div and $+$
4. $+$ and $-$

Question Type : MCQ

Question ID : 910281199

Option 1 ID : 910281782

Option 2 ID : 910281784

Option 3 ID : 910281781

Option 4 ID : 910281783

Status : Answered

Chosen Option : 3

Q.34 हर्षने सांगितले की तो बुधवार नंतर आठवड्यात (सोमवार ते रविवार पर्यंत) संग्रहालयाला भेट देईल परंतु आठवड्याच्या रविवारच्या आधी. हरीशने सांगितले की, हर्षच्या भेटीनंतर दुसऱ्या दिवशी, शनिवारी नव्हे, तर त्याच आठवड्यात संग्रहालयाला भेट देणार आहे. हर्ष संग्रहालयाला कधी भेट देणार?

- Ans
- 1. शनिवार
 - 2. शुक्रवार
 - 3. गुरुवार
 - 4. गुरुवार आणि शुक्रवार

Question Type : **MCQ**

Question ID : **910281159**

Option 1 ID : **910281623**

Option 2 ID : **910281622**

Option 3 ID : **910281621**

Option 4 ID : **910281624**

Status : **Answered**

Chosen Option : **3**

Q.35 पाच व्यक्ती - A, B, P, Q आणि R यांची उंची वेगवेगळी आहेत. A हा केवळ B पेक्षा उंचीने अधिक आहे. R हा Q पेक्षा उंच आहे पण सर्वात उंच नाही. यातील सर्वाधिक उंची कोणाची आहे?

- Ans
- 1. B
 - 2. Q
 - 3. P
 - 4. A

Question Type : **MCQ**

Question ID : **910281171**

Option 1 ID : **910281670**

Option 2 ID : **910281672**

Option 3 ID : **910281671**

Option 4 ID : **910281669**

Status : **Answered**

Chosen Option : **1**

Q.36 सारणीमध्ये पाच शहरांच्या शेट मार्गांचे अंतर (km) मध्ये देण्यात आले आहे.

	P	Q	R	S	T
P	X	150	230	75	120
Q	150	X	300	410	415
R	230	300	X	200	160
S	75	410	200	X	140
T	120	415	160	140	X

एका व्यक्तीला P पासून सुरु करून अनुक्रमे Q आणि R मार्ग S गाठायचे आहे. त्याने कापलेले एकूण अंतर किती आहे?

Ans

✗ 1. 600 km

✗ 2. 500 km

✓ 3. 650 km

✗ 4. 700 km

Question Type : MCQ

Question ID : 910281201

Option 1 ID : 910281790

Option 2 ID : 910281789

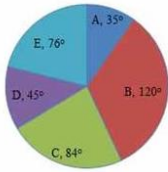
Option 3 ID : 910281792

Option 4 ID : 910281791

Status : Answered

Chosen Option : 3

Q.37 खालील विभाजित वर्तुळाकृतीत पाच वेगवेगळ्या स्पर्धांत (A, B, C, D आणि E) सहभागी झालेल्या एकूण विद्यार्थी संख्येची विभागणी दाखवली आहे:



स्पर्धा B आणि C मध्ये सहभागी झालेल्या मुले आणि मुली यांचे गुणोत्तर अनुक्रमे 7 : 5 आणि 4 : 3 असेल आणि 950 विद्यार्थ्यांनी स्पर्धा E मध्ये सहभाग घेतला असेल तर स्पर्धा B आणि C मध्ये मिळून भाग घेतलेल्या मुला-मुलींच्या संख्येतील फरक किती आहे?

Ans

✗ 1. 350

✓ 2. 400

✗ 3. 375

✗ 4. 300

Question Type : MCQ

Question ID : 910281202

Option 1 ID : 910281793

Option 2 ID : 910281796

Option 3 ID : 910281794

Option 4 ID : 910281795

Status : Answered

Chosen Option : 3

Q.38 61 चिमण्या एका दोरीवर उत्तरेकडे तोंड करून बसल्या आहेत. डाव्या टोकाकडून 24 व्या आणि उजव्या टोकाकडून 18 व्या चिमणीच्या दरम्यान किती चिमण्या बसल्या आहेत?

- Ans
- 1. 16
 - 2. 18
 - 3. 17
 - 4. 19

Question Type : MCQ

Question ID : 910281154

Option 1 ID : 910281604

Option 2 ID : 910281602

Option 3 ID : 910281603

Option 4 ID : 910281601

Status : Answered

Chosen Option : 3

Q.39 सात व्यक्ती - G, M, R, K, L, P आणि C एका वर्तुळाकार टेबलाभोवती केंद्राकडे तोंड करून बसल्या आहेत. त्यांच्याबाबत खालील माहिती जात आहे.

- (i) C च्या डावीकडे तिसऱ्या स्थानी असलेल्या K च्या लगतच उजवीकडे G आहे.
- (ii) R हा C आणि P या दोघांच्या लगतच आहे.
- (iii) M हा G च्या लगत नाही.

M च्या डावीकडे तिसरा कोण आहे?

- Ans
- 1. G
 - 2. R
 - 3. C
 - 4. L

Question Type : MCQ

Question ID : 910281155

Option 1 ID : 910281607

Option 2 ID : 910281605

Option 3 ID : 910281606

Option 4 ID : 910281608

Status : Answered

Chosen Option : 1

Q.40 खालील मालिकेतील प्रश्नचिन्हाची (?) जागा घेईल असा अक्षरसमूह निवडा.

QUESTION, OSCQVKQP, MQAOXMSR, KOYMZOUT, ?

- Ans
- 1. IMWKLAGF
 - 2. INXJBQVW
 - 3. JMXKLAGF
 - 4. IMWKBQWV

Question Type : MCQ

Question ID : 910281178

Option 1 ID : 910281697

Option 2 ID : 910281699

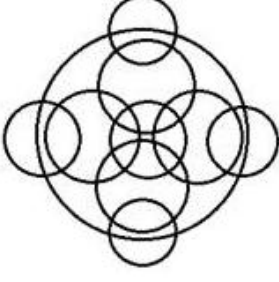
Option 3 ID : 910281698

Option 4 ID : 910281700

Status : Answered

Chosen Option : 1

Q.41 दिलेल्या आकृतीत किती वर्तुळे आहेत?



- Ans 1. 10
 2. 8
 3. 11
 4. 9

Question Type : MCQ
Question ID : 910281190
Option 1 ID : 910281746
Option 2 ID : 910281745
Option 3 ID : 910281747
Option 4 ID : 910281748
Status : Answered
Chosen Option : 1

Q.42 खालील संख्यांच्या मालिकेत प्रश्नचिन्हाच्या '?' जागी काय आले पाहिजे?

6, 30, 180, ?, 5400, 27000, 162000

- Ans 1. 500
 2. 800
 3. 900
 4. 700

Question Type : MCQ
Question ID : 910281192
Option 1 ID : 910281754
Option 2 ID : 910281755
Option 3 ID : 910281753
Option 4 ID : 910281756
Status : Answered
Chosen Option : 3

Q.43 एका विशिष्ट सांकेतिक भाषेत जर 'JUNIOR' हे 'NYRMSV' या संकेतात लिहिले जात असेल आणि 'PICTURE' हे 'TMGXVVI' या संकेतात लिहिले जात असेल, तर 'STUDENT' साठी कोणता संकेत आहे?

- Ans
- 1. YXYHIRX
 - 2. WXYHIRX
 - 3. WXYJIRX
 - 4. XXYHIRX

Question Type : MCQ

Question ID : 910281180

Option 1 ID : 910281705

Option 2 ID : 910281708

Option 3 ID : 910281706

Option 4 ID : 910281707

Status : Answered

Chosen Option : 3

Q.44 एका विशिष्ट सांकेतिक भाषेत 'POSTLAUNCH' हे 'HCNUALTSOP' असे लिहिले जाते, तर त्या भाषेत 'TUMBLEDOWN' हे कसे लिहिले जाईल?

- Ans
- 1. NWEDOMBLUT
 - 2. NWODELBMUT
 - 3. WNODELBMTU
 - 4. NWOEDBLMUT

Question Type : MCQ

Question ID : 910281181

Option 1 ID : 910281710

Option 2 ID : 910281711

Option 3 ID : 910281709

Option 4 ID : 910281712

Status : Answered

Chosen Option : 2

Q.45 ज्याप्रमाणे दुसरी संख्या ही पहिल्या संख्येशी संबंधित आहे आणि चौथी संख्या तिसऱ्या संख्येशी संबंधित आहे, त्याचप्रमाणे पाचव्या संख्येशी संबंधित असणारा पर्याय निवडा.

934 : 48 :: 736 : 60 :: 459 : ?

- Ans
- 1. 180
 - 2. 65
 - 3. 25
 - 4. 81

Question Type : MCQ

Question ID : 910281198

Option 1 ID : 910281779

Option 2 ID : 910281780

Option 3 ID : 910281777

Option 4 ID : 910281778

Status : Answered

Chosen Option : 3

Q.46 खालील माहितीचा काळजीपूर्वक अभ्यास करा आणि त्यानुसार प्रश्नांची उत्तरे द्या.

452 929 587 322 658

जर प्रत्येक संख्येच्या दुसऱ्या अंकात एक मिळवला आणि तिसऱ्या अंकातून दोन वजा केले, तर नव्या संरचनेत अशा प्रकारे तयार होणाऱ्या किती संख्यांना 3 ने भाग जाईल?

- Ans
- ✓ 1. दोन
 - ✗ 2. पाच
 - ✗ 3. चार
 - ✗ 4. एक

Question Type : MCQ

Question ID : 910281176

Option 1 ID : 910281691

Option 2 ID : 910281689

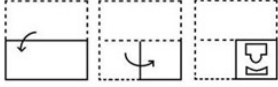
Option 3 ID : 910281690

Option 4 ID : 910281692

Status : Answered

Chosen Option : 3

Q.47 एका कागदाची घडी घातली आणि खाली दर्शविल्याप्रमाणे तो कापला. तो उघडल्यानंतर कसा दिसेल?



Ans

- ✗ 1.
- ✗ 2.
- ✓ 3.
- ✗ 4.

Question Type : MCQ

Question ID : 910281189

Option 1 ID : 910281741

Option 2 ID : 910281743

Option 3 ID : 910281742

Option 4 ID : 910281744

Status : Answered

Chosen Option : 3

Q.48 सहा व्यक्ती - A, B, C, D, E आणि F हे एका रांगेत उत्तरे कडे तोंड करून बसले आहेत.

- (i) D हा उजव्या टोकाला बसला असून तो E चा शेजारी आहे.
- (ii) A आणि E यांच्या दरम्यान बरोबर एक व्यक्ती बसली आहे.
- (iii) F हा B च्या लगतच उजवी कडे बसला आहे.

'F' च्या संदर्भात 'E' चे स्थान कोणते आहे?

Ans

- ✓ 1. उजवीकडे तिसरे
- ✗ 2. डावीकडे तिसरे
- ✗ 3. उजवीकडे दुसरे
- ✗ 4. डावीकडे दुसरे

Question Type : MCQ

Question ID : 910281156

Option 1 ID : 910281610

Option 2 ID : 910281609

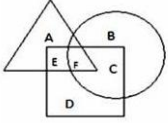
Option 3 ID : 910281612

Option 4 ID : 910281611

Status : Answered

Chosen Option : 2

Q.49 दिलेल्या आकृतीत चौरस नर्सस (nurses) यांना दर्शवतो. त्रिकोण पुरुषांना दर्शवतो आणि वर्तुळ शिक्षकांना दर्शवते. पुरुष जे नर्स आणि शिक्षक दोन्ही आहेत, हे कोणत्या अक्षराने दर्शवले आहे?



Ans

- ✗ 1. C
- ✓ 2. F
- ✗ 3. E
- ✗ 4. A

Question Type : MCQ

Question ID : 910281165

Option 1 ID : 910281645

Option 2 ID : 910281646

Option 3 ID : 910281647

Option 4 ID : 910281648

Status : Answered

Chosen Option : 1

Q.50 'Aluminum' या शब्दात अक्षरांच्या अशा किती जोड्या आहेत, ज्यातील प्रत्येकाच्या दरम्यान येणारी अक्षरे इंग्रजी मुळाक्षरांमध्ये येणाऱ्या अक्षरांइतकीच आहेत? (पुढे आणि मागे दोन्हीही दिशांनी)

- Ans
- ✗ 1. तीन
 - ✗ 2. दोन
 - ✗ 3. एकही नाही
 - ✓ 4. एक

Question Type : MCQ

Question ID : 910281177

Option 1 ID : 910281696

Option 2 ID : 910281695

Option 3 ID : 910281693

Option 4 ID : 910281694

Status : Answered

Chosen Option : 2



Maharashtra Housing and Area Development Authority-2021
महाराष्ट्र गृहनिर्माण व क्षेत्रविकास प्राधिकरण-२०२१

Participant ID	[REDACTED]
Participant Name	[REDACTED]
Test Center Name	[REDACTED]
Test Date	02/02/2022
Test Time	12:30 PM - 2:30 PM
Subject	Cluster 7

Section : Marathi Language

Q.1 खालील वाक्यातील कर्ता ओळखा.

तो सायकल चालवत आहे.

- Ans
- 1. सायकल
 - 2. तो
 - 3. आहे
 - 4. चालवत

Question Type : MCQ
Question ID : 4895643
Option 1 ID : 4895649
Option 2 ID : 48956410
Option 3 ID : 48956412
Option 4 ID : 48956411
Status : Answered
Chosen Option : 2

Q.2 खालील शब्दाचा लिंग बदला.

रेडा

- Ans
- 1. गवा
 - 2. गाय
 - 3. वासरू
 - 4. म्हैस

Question Type : MCQ
Question ID : 48956419
Option 1 ID : 48956473
Option 2 ID : 48956475
Option 3 ID : 48956476
Option 4 ID : 48956474
Status : Answered
Chosen Option : 4

Q.3 खालील शब्दाचा समानार्थी शब्द लिहा.

भार्या

- Ans 1. बहीण
 2. सासू
 3. पत्नी
 4. नणंद

Question Type : MCQ

Question ID : 48956424

Option 1 ID : 48956494

Option 2 ID : 48956495

Option 3 ID : 48956493

Option 4 ID : 48956496

Status : Answered

Chosen Option : 3

Q.4 संयुक्त वाक्याचे प्रकार _____ आहेत.

- Ans 1. तीन
 2. चार
 3. एक
 4. दोन

Question Type : MCQ

Question ID : 48956411

Option 1 ID : 48956443

Option 2 ID : 48956444

Option 3 ID : 48956441

Option 4 ID : 48956442

Status : Answered

Chosen Option : 2

Q.5 खालील शब्दाचा समास ओळखा.

पंचफळे

- Ans 1. द्विगु समास
 2. द्वंद्व समास
 3. बहुव्रीही समास
 4. अव्ययीभाव समास

Question Type : MCQ

Question ID : 48956412

Option 1 ID : 48956445

Option 2 ID : 48956446

Option 3 ID : 48956448

Option 4 ID : 48956447

Status : Answered

Chosen Option : 1

Q.6 खालील वाक्यातील काळ ओळखा.

रमेश पतंग उडवत होता.

- Ans
- 1. भविष्यकाळ
 - 2. पूर्ण भूतकाळ
 - 3. साधा वर्तमानकाळ
 - 4. अपूर्ण भूतकाळ

Question Type : MCQ
Question ID : 4895647
Option 1 ID : 48956428
Option 2 ID : 48956427
Option 3 ID : 48956425
Option 4 ID : 48956426
Status : Answered
Chosen Option : 4

Q.7 खालील वाक्यातील काळ ओळखा.

मी रानात जातो.

- Ans
- 1. अपूर्ण वर्तमानकाळ
 - 2. भविष्यकाळ
 - 3. साधा वर्तमानकाळ
 - 4. भूतकाळ

Question Type : MCQ
Question ID : 4895646
Option 1 ID : 48956422
Option 2 ID : 48956424
Option 3 ID : 48956421
Option 4 ID : 48956423
Status : Answered
Chosen Option : 3

Q.8 खालील शब्दाचा लिंग बदला.

आरसा

- Ans
- 1. आरास
 - 2. आरस
 - 3. आरसे
 - 4. आरशी

Question Type : MCQ
Question ID : 48956418
Option 1 ID : 48956471
Option 2 ID : 48956470
Option 3 ID : 48956469
Option 4 ID : 48956472
Status : Answered
Chosen Option : 3

Q.9 खालील शब्दाचा विग्रह करा:

कांदेपोहे

Ans 1. कांदे घालून केलेले पोहे

2. कांदे तसेच पोहे

3. कांदे किंवा पोहे

4. कांदे आणि पोहे

Question Type : MCQ

Question ID : 48956413

Option 1 ID : 48956451

Option 2 ID : 48956452

Option 3 ID : 48956450

Option 4 ID : 48956449

Status : Answered

Chosen Option : 1

Q.10 वाक्यातील कर्ता_कर्म_क्रियापद यांच्या ____ प्रयोग असे म्हणतात.

Ans 1. परस्परसंबंधाला

2. स्वरूपाला

3. रूपाला

4. व्यत्यासाला

Question Type : MCQ

Question ID : 48956437

Option 1 ID : 489564145

Option 2 ID : 489564147

Option 3 ID : 489564146

Option 4 ID : 489564148

Status : Answered

Chosen Option : 1

Q.11 खालील शब्दाचा लिंग बदला.

राघू

Ans 1. रावा

2. मैना

3. लांडोर

4. पोपट

Question Type : MCQ

Question ID : 48956416

Option 1 ID : 48956462

Option 2 ID : 48956461

Option 3 ID : 48956464

Option 4 ID : 48956463

Status : Answered

Chosen Option : 2

Q.12 खालील शब्दाचा समानार्थी शब्द सांगा.

काळजी

- Ans 1. ख्याली
 2. निश्चित
 3. खुशाली
 4. विवंचना

Question Type : MCQ

Question ID : 48956426

Option 1 ID : 489564103

Option 2 ID : 489564104

Option 3 ID : 489564102

Option 4 ID : 489564101

Status : Answered

Chosen Option : 3

Q.13 खालील शब्दाला 'ई' हा प्रत्यय लावून भाववाचक नाम तयार करा.

मजूर

- Ans 1. मजरी
 2. मजुरी
 3. मंजिरी
 4. मंजूरी

Question Type : MCQ

Question ID : 4895644

Option 1 ID : 48956415

Option 2 ID : 48956413

Option 3 ID : 48956416

Option 4 ID : 48956414

Status : Answered

Chosen Option : 2

Q.14 'ओल हरवलेली माती' हा नीरजा यांचा _____ आहे.

- Ans 1. निबंधसंग्रह
 2. ललितलेख संग्रह
 3. कवितासंग्रह
 4. कथासंग्रह

Question Type : MCQ

Question ID : 48956442

Option 1 ID : 489564168

Option 2 ID : 489564167

Option 3 ID : 489564165

Option 4 ID : 489564166

Status : Answered

Chosen Option : 2

Q.15 खालील शब्दाचा अनेकवचन करा.

वेळ

- Ans 1. वेळा
 2. वेळे
 3. वेळ
 4. वेळी

Question Type : MCQ

Question ID : 48956421

Option 1 ID : 48956484

Option 2 ID : 48956481

Option 3 ID : 48956483

Option 4 ID : 48956482

Status : Answered

Chosen Option : 1

Q.16 'जिप्सी' हा _____ यांचा कवितासंग्रह आहे.

- Ans 1. सुरेश भट
 2. बा.सी. मर्डेकर
 3. मंगेश पाडगांवकर
 4. इंदिरा संत

Question Type : MCQ

Question ID : 48956441

Option 1 ID : 489564161

Option 2 ID : 489564163

Option 3 ID : 489564164

Option 4 ID : 489564162

Status : Answered

Chosen Option : 3

Q.17 खालील शब्दाचा समानार्थी शब्द सांगा.

तलाव

- Ans 1. सरिता
 2. तडाग
 3. निर्झर
 4. सिंधु

Question Type : MCQ

Question ID : 48956427

Option 1 ID : 489564106

Option 2 ID : 489564107

Option 3 ID : 489564108

Option 4 ID : 489564105

Status : Answered

Chosen Option : 2

Q.18 खालील शब्दाचा एकवचन करा.

पिसवा

- Ans 1. पिसा
 2. पिसे
 3. पिसू
 4. पीस

Question Type : MCQ

Question ID : 48956422

Option 1 ID : 48956488

Option 2 ID : 48956486

Option 3 ID : 48956485

Option 4 ID : 48956487

Status : Answered

Chosen Option : 3

Q.19 'बनगरवाडी' या पुस्तकाचे लेखक _____ आहेत.

- Ans 1. प्र. के. अत्रे
 2. ग.दि. माडगूळकर
 3. आनंद यादव
 4. व्यंकटेश माडगूळकर

Question Type : MCQ

Question ID : 48956444

Option 1 ID : 489564175

Option 2 ID : 489564173

Option 3 ID : 489564176

Option 4 ID : 489564174

Status : Answered

Chosen Option : 2

Q.20 खालील वाक्यातील काळ बदला.

ती गाणे गाते. (अपूर्ण भविष्यकाळ करा)

- Ans 1. ती गाणे गात आहे.
 2. ती गाणे गात होती.
 3. ती गाणे गात असते.
 4. ती गाणे गात असेल.

Question Type : MCQ

Question ID : 4895648

Option 1 ID : 48956430

Option 2 ID : 48956429

Option 3 ID : 48956432

Option 4 ID : 48956431

Status : Answered

Chosen Option : 4

Q.21 शब्दांचा संक्षेप दाखविण्यासाठी आद्याक्षरापुढे _____ वापरतात.

- Ans 1. पूर्णविराम
 2. अपूर्णविराम
 3. अर्धविराम
 4. स्वल्पविराम

Question Type : MCQ
Question ID : 48956435
Option 1 ID : 489564140
Option 2 ID : 489564138
Option 3 ID : 489564137
Option 4 ID : 489564139
Status : Answered
Chosen Option : 1

Q.22 खालील शब्दाचा विरुद्धार्थी शब्द सांगा.

ऐच्छिक

- Ans 1. अपरिहार्य
 2. सोयिस्कर
 3. सढळ
 4. सहज

Question Type : MCQ
Question ID : 48956428
Option 1 ID : 489564112
Option 2 ID : 489564111
Option 3 ID : 489564109
Option 4 ID : 489564110
Status : Answered
Chosen Option : 1

Q.23 खालील शब्दाचा विरुद्धार्थी शब्द सांगा.

स्वस्थ

- Ans 1. अस्वस्थ
 2. आश्वस्त
 3. स्वस्त
 4. महाग

Question Type : MCQ
Question ID : 48956431
Option 1 ID : 489564123
Option 2 ID : 489564124
Option 3 ID : 489564122
Option 4 ID : 489564121
Status : Answered
Chosen Option : 1

Q.24 खालील शब्दाचा अनेकवचन करा.

वासरू

- Ans 1. वासर
 2. वासरे
 3. वासरू
 4. वासरी

Question Type : MCQ

Question ID : 48956420

Option 1 ID : 48956477

Option 2 ID : 48956479

Option 3 ID : 48956480

Option 4 ID : 48956478

Status : Answered

Chosen Option : 2

Q.25 खालील शब्दाचा विरुद्धार्थी शब्द सांगा.

सुरस

- Ans 1. नीरस
 2. परस
 3. सरस
 4. विरस

Question Type : MCQ

Question ID : 48956430

Option 1 ID : 489564119

Option 2 ID : 489564120

Option 3 ID : 489564117

Option 4 ID : 489564118

Status : Answered

Chosen Option : 4

Q.26 वाक्य प्रकार ओळखा:

आम्ही घरी जातो.

- Ans 1. संयुक्त वाक्य
 2. यापैकी नाही
 3. मिश्र वाक्य
 4. केवल वाक्य

Question Type : MCQ

Question ID : 48956410

Option 1 ID : 48956439

Option 2 ID : 48956440

Option 3 ID : 48956438

Option 4 ID : 48956437

Status : Answered

Chosen Option : 4

Q.27 खालील शब्दाचा समास ओळखा:

त्रिभुवन

- Ans 1. बहुव्रीही समास
 2. द्विगु समास
 3. तत्पुरुष समास
 4. अव्ययीभाव समास

Question Type : MCQ

Question ID : 48956414

Option 1 ID : 48956456

Option 2 ID : 48956453

Option 3 ID : 48956454

Option 4 ID : 48956455

Status : Answered

Chosen Option : 2

Q.28 खेळ या धातूचे प्रथम पुरुषी एकवचनी भूतकाळी रूप सांगा:

- Ans 1. खेळलो
 2. खेळत आहे
 3. खेळेन
 4. खेळतो

Question Type : MCQ

Question ID : 4895645

Option 1 ID : 48956418

Option 2 ID : 48956420

Option 3 ID : 48956417

Option 4 ID : 48956419

Status : Answered

Chosen Option : 1

Q.29 खालील वाक्याचा प्रयोग ओळखा.

कृष्णाने कंसास मारले.

- Ans 1. भावे प्रयोग
 2. कर्तरी प्रयोग
 3. कर्मणी प्रयोग
 4. कर्मकर्तरी प्रयोग

Question Type : MCQ

Question ID : 48956439

Option 1 ID : 489564154

Option 2 ID : 489564155

Option 3 ID : 489564153

Option 4 ID : 489564156

Status : Answered

Chosen Option : 1

Q.30 केशवकुमार हे _____ यांचे टोपणनाव आहे.

- Ans 1. गोपाल कृष्ण गोखले
 2. प्रल्हाद केशव अत्रे
 3. गोपाल गणेश आगरकर
 4. कृष्णाजी केशव दामले

Question Type : MCQ

Question ID : 48956445

Option 1 ID : 489564179

Option 2 ID : 489564178

Option 3 ID : 489564180

Option 4 ID : 489564177

Status : Answered

Chosen Option : 2

Q.31 92 व्या अखिल भारतीय मराठी साहित्य संमेलनाच्या अध्यक्षपदी _____ यांची निवड झाली होती.

- Ans 1. वि. स. खांडेकर
 2. ना.सी. फडके
 3. अरुणा ढेरे
 4. दुर्गा भागवत

Question Type : MCQ

Question ID : 48956440

Option 1 ID : 489564157

Option 2 ID : 489564158

Option 3 ID : 489564160

Option 4 ID : 489564159

Status : Answered

Chosen Option : 1

Q.32 कर्मणी प्रयोगात कर्ता कधीच _____ नसतो.

- Ans 1. द्वितीयान्त
 2. प्रथमान्त
 3. तृतीयान्त
 4. चतुर्थान्त

Question Type : MCQ

Question ID : 48956438

Option 1 ID : 489564151

Option 2 ID : 489564149

Option 3 ID : 489564150

Option 4 ID : 489564152

Status : Answered

Chosen Option : 2

Q.33 खालील वाक्यातील क्रियापद ओळखा.

ती नेहमी जोरात पळते.

- Ans
- 1. नेहमी
 - 2. ती
 - 3. जोरात
 - 4. पळते

Question Type : MCQ
Question ID : 4895641
Option 1 ID : 4895642
Option 2 ID : 4895641
Option 3 ID : 4895643
Option 4 ID : 4895644
Status : Answered
Chosen Option : 4

Q.34 चूक दुरुस्त करून वाक्य पुन्हा लिहा.

हस्ताक्षर हा एक सुंदर दागिणा आहे.

- Ans
- 1. हस्ताक्षर हा एक सुंदर दागिणा आहे.
 - 2. हस्ताक्षर हा एक सुंदर दागिणा आहे.
 - 3. हस्ताक्षर हा एक सुंदर दागिणा आहे.
 - 4. हस्ताक्षर हा एक सुंदर दागिणा आहे.

Question Type : MCQ
Question ID : 48956433
Option 1 ID : 489564132
Option 2 ID : 489564130
Option 3 ID : 489564129
Option 4 ID : 489564131
Status : Answered
Chosen Option : 4

Q.35 _____ हा ना.सी. फडके यांचा लघुनिबंधसंग्रह आहे.

- Ans
- 1. पैस
 - 2. युगांतर
 - 3. धूम्रवलये
 - 4. अस्तित्वाच्या रेषा

Question Type : MCQ
Question ID : 48956443
Option 1 ID : 489564170
Option 2 ID : 489564171
Option 3 ID : 489564169
Option 4 ID : 489564172
Status : Answered
Chosen Option : 2

Q.36 गटात न बसणारा शब्द ओळखा.

सुत, नंदन, जनक, पुत्र

- Ans 1. पुत्र
 2. जनक
 3. नंदन
 4. सुत

Question Type : MCQ

Question ID : 48956425

Option 1 ID : 489564100

Option 2 ID : 48956498

Option 3 ID : 48956499

Option 4 ID : 48956497

Status : Answered

Chosen Option : 2

Q.37 खालील शब्दाचा विरुद्धार्थी शब्द सांगा.

अवजड

- Ans 1. वजनदार
 2. अवघड
 3. जड
 4. हलके

Question Type : MCQ

Question ID : 48956429

Option 1 ID : 489564115

Option 2 ID : 489564113

Option 3 ID : 489564114

Option 4 ID : 489564116

Status : Answered

Chosen Option : 4

Q.38 खालील वाक्यातील सामासिक शब्द ओळखा.

अंगणातील पालापाचोळा गोळा केला पाहिजे.

- Ans 1. अव्ययीभाव समास
 2. वैकल्पिक द्वंद्व समास
 3. समाहार द्वंद्व समास
 4. इतरेतर द्वंद्व समास

Question Type : MCQ

Question ID : 48956415

Option 1 ID : 48956460

Option 2 ID : 48956457

Option 3 ID : 48956459

Option 4 ID : 48956458

Status : Answered

Chosen Option : 3

Q.39 खालील शब्दाचा लिंग बदला.

नवरा

- Ans 1. वर
 2. बहीण
 3. भ्राता
 4. नवरी

Question Type : MCQ

Question ID : 48956417

Option 1 ID : 48956465

Option 2 ID : 48956466

Option 3 ID : 48956468

Option 4 ID : 48956467

Status : Answered

Chosen Option : 4

Q.40 चूक सुधारून वाक्य पुन्हा लिहा.

तो खूप छान गाने गातो.

- Ans 1. तो खूप छान गाने गातो.
 2. तो खूप छान गाणे गातो.
 3. तो खूप छान गाने गातो.
 4. तो खूप छान गाणे गातो.

Question Type : MCQ

Question ID : 48956432

Option 1 ID : 489564126

Option 2 ID : 489564127

Option 3 ID : 489564128

Option 4 ID : 489564125

Status : Answered

Chosen Option : 2

Q.41 आकारान्त पुल्लिंगी नामाचे एकवचन _____ होते.

- Ans 1. उकारान्त
 2. ओकारान्त
 3. ईकारान्त
 4. एकारान्त

Question Type : MCQ

Question ID : 48956423

Option 1 ID : 48956490

Option 2 ID : 48956491

Option 3 ID : 48956489

Option 4 ID : 48956492

Status : Answered

Chosen Option : 4

Q.42 खाली दिलेल्या धातूचे प्रथम पुरुषी अनेकवचनी भविष्यकाळी रूप ओळखा.

खेळ

- Ans 1. खेळलो
 2. खेळेल
 3. खेळेल
 4. खेळू

Question Type : MCQ
Question ID : 4895649
Option 1 ID : 48956436
Option 2 ID : 48956433
Option 3 ID : 48956435
Option 4 ID : 48956434
Status : Answered
Chosen Option : 4

Q.43 विरामचिन्हे वापरून वाक्य पुन्हा लिहा.

बाबा ओरडले जा ताबडतोब निघ इथून

- Ans 1. बाबा ओरडले, "जा! ताबडतोब निघ इथून!"
 2. बाबा ओरडले, जा ताबडतोब निघ इथून?
 3. बाबा ओरडले जा ताबडतोब निघ इथून!
 4. "बाबा ओरडले, जा ताबडतोब निघ इथून!"

Question Type : MCQ
Question ID : 48956434
Option 1 ID : 489564135
Option 2 ID : 489564134
Option 3 ID : 489564133
Option 4 ID : 489564136
Status : Answered
Chosen Option : 1

Q.44 खालील वाक्याचा प्रयोग ओळखा.

मी मोबाईल वापरतो.

- Ans 1. भावे प्रयोग
 2. कर्मणी प्रयोग
 3. कर्मकर्तरी प्रयोग
 4. कर्तरी प्रयोग

Question Type : MCQ
Question ID : 48956436
Option 1 ID : 489564142
Option 2 ID : 489564141
Option 3 ID : 489564144
Option 4 ID : 489564143
Status : Answered
Chosen Option : 4

Q.45 ठळक अक्षरात लिहिलेल्या शब्दाचा प्रकार ओळखा.

तो खूप चतुर आहे.

- Ans
- 1. क्रियापद
 - 2. कर्म
 - 3. विशेषण
 - 4. क्रियाविशेषण

Question Type : MCQ

Question ID : 4895642

Option 1 ID : 4895645

Option 2 ID : 4895647

Option 3 ID : 4895646

Option 4 ID : 4895648

Status : Answered

Chosen Option : 3

Comprehension:

खालील परिच्छेद काळजीपूर्वक वाचा आणि दिलेल्या प्रश्नांची उत्तरे द्या.

खेळाच्या माध्यमातून व्यक्तिमत्त्व विकास सहजपणे होऊ शकतो. शारीरिक व मानसिकदृष्ट्या खेळाडू खेळातून कणखर बनतो, असे प्रतिपादन क्रीडा संघटक डॉ. संदीप जगताप यांनी केले. कन्नड येथील शिवाजी महाविद्यालय व फुलंब्री येथील श्री संत सावता माळी ग्रामीण महाविद्यालयाच्या संयुक्त विद्यमाने आयोजित 'खेळ व आरोग्य' या विषयावरील ऑनलाइन कार्यशाळेत ते बोलत होते. श्री संत सावता माळी ग्रामीण महाविद्यालयाचे क्रीडा संचालक डॉ. संदीप जगताप यांनी 'व्यक्तिमत्त्व विकासात खेळाचे महत्त्व' या विषयावर मार्गदर्शन केले. डॉ. जगताप म्हणाले, 'व्यक्तिमत्त्व म्हणजे माणसाचा सर्वांगीण विकास होय, या सर्वांगीण विकासामध्ये शारीरिक व मानसिक सद्गुणा महत्त्वाची असते. खेळाच्या माध्यमातून माणूस सुदृढ बनत असतो व व्यक्तिमत्त्व विकासाचा पहिला प्रभाव म्हणजे त्याची शरीरयष्टी. त्याचे दिसणे, त्याचे वागणे, चालणे, बोलणे या बाबी खेळांच्या माध्यमातून जास्तीत जास्त विकसित होत असतात. मानसिक विकासामध्ये खेळाडू हा खेळाच्या माध्यमातून सक्षम बनत असतो. त्याच्यामध्ये संयम वाढतो. व्यक्तिमत्त्व विकासात सर्वात महत्त्वाचे घटक म्हणजे नेतृत्वगुण, एकात्मता व बंधुभाव.'

खेळाच्या माध्यमातून संघ भावना वाढते एकमेकांविषयी आदर निर्माण होतो. बंधुभाव वाढतो. त्याप्रमाणे सर्वाधिक नेतृत्व गुण खेळाच्या व स्पर्धेच्या माध्यमातून विकसित होत असतात. त्यामुळे व्यक्तिमत्त्वाचा विकास करायचा असेल तर खेळ हे अत्यंत महत्त्वाची भूमिका बजावत असतात.

SubQuestion No : 46

Q.46 व्यक्तिमत्त्व म्हणजे _____ सर्वांगीण विकास होय.

- Ans
- 1. देशाचा
 - 2. माणसाचा
 - 3. खेळाचा
 - 4. पालकांचा

Question Type : MCQ

Question ID : 48956448

Option 1 ID : 489564187

Option 2 ID : 489564185

Option 3 ID : 489564186

Option 4 ID : 489564188

Status : Answered

Chosen Option : 2

Comprehension:

खालील परिच्छेद काळजीपूर्वक वाचा आणि दिलेल्या प्रश्नांची उत्तरे द्या.

खेळाच्या माध्यमातून व्यक्तिमत्त्व विकास सहजपणे होऊ शकतो. शारीरिक व मानसिकदृष्ट्या खेळाडू खेळातून कणखर बनतो, असे प्रतिपादन क्रीडा संघटक डॉ. संदीप जगताप यांनी केले. कन्नड येथील शिवाजी महाविद्यालय व फुलंब्री येथील श्री संत सावता माळी ग्रामीण महाविद्यालयाच्या संयुक्त विद्यमाने आयोजित 'खेळ व आरोग्य' या विषयावरील ऑनलाइन कार्यशाळेत ते बोलत होते. श्री संत सावता माळी ग्रामीण महाविद्यालयाचे क्रीडा संचालक डॉ. संदीप जगताप यांनी 'व्यक्तिमत्त्व विकासात खेळाचे महत्त्व' या विषयावर मार्गदर्शन केले. डॉ. जगताप म्हणाले, 'व्यक्तिमत्त्व म्हणजे माणसाचा सर्वांगीण विकास होय, या सर्वांगीण विकासामध्ये शारीरिक व मानसिक सदृढता महत्त्वाची असते. खेळाच्या माध्यमातून माणूस सुदृढ बनत असतो व व्यक्तिमत्त्व विकासाचा पहिला प्रभाव म्हणजे त्याची शरीरयष्टी. त्याचे दिसणे, त्याचे वागणे, चालणे, बोलणे या बाबी खेळांच्या माध्यमातून जास्तीत जास्त विकसित होत असतात. मानसिक विकासामध्ये खेळाडू हा खेळाच्या माध्यमातून सक्षम बनत असतो. त्याच्यामध्ये संयम वाढतो. व्यक्तिमत्त्व विकासात सर्वात महत्त्वाचे घटक म्हणजे नेतृत्वगुण, एकात्मता व बंधुभाव.'

खेळाच्या माध्यमातून संघ भावना वाढते एकमेकांविषयी आदर निर्माण होतो. बंधूभाव वाढतो. त्याप्रमाणे सर्वाधिक नेतृत्व गुण खेळाच्या व स्पर्धेच्या माध्यमातून विकसित होत असतात. त्यामुळे व्यक्तिमत्त्वाचा विकास करायचा असेल तर खेळ हे अत्यंत महत्त्वाची भूमिका बजावत असतात.

SubQuestion No : 47

Q.47 सर्वाधिक नेतृत्वगुण खेळाच्या व _____ माध्यमातून विकसित होतात.

- Ans 1. स्पर्धेच्या
 2. बंधुभावाच्या
 3. एकात्मतेच्या
 4. आनंदाच्या

Question Type : MCQ

Question ID : 48956450

Option 1 ID : 489564195

Option 2 ID : 489564193

Option 3 ID : 489564194

Option 4 ID : 489564196

Status : Answered

Chosen Option : 1

Comprehension:

खालील परिच्छेद काळजीपूर्वक वाचा आणि दिलेल्या प्रश्नांची उत्तरे द्या.

खेळाच्या माध्यमातून व्यक्तिमत्त्व विकास सहजपणे होऊ शकतो. शारीरिक व मानसिकदृष्ट्या खेळाडू खेळातून कणखर बनतो, असे प्रतिपादन क्रीडा संघटक डॉ. संदीप जगताप यांनी केले. कन्नड येथील शिवाजी महाविद्यालय व फुलंब्री येथील श्री संत सावता माळी ग्रामीण महाविद्यालयाच्या संयुक्त विद्यमाने आयोजित 'खेळ व आरोग्य' या विषयावरील ऑनलाइन कार्यशाळेत ते बोलत होते. श्री संत सावता माळी ग्रामीण महाविद्यालयाचे क्रीडा संचालक डॉ. संदीप जगताप यांनी 'व्यक्तिमत्त्व विकासात खेळाचे महत्त्व' या विषयावर मार्गदर्शन केले. डॉ. जगताप म्हणाले, 'व्यक्तिमत्त्व म्हणजे माणसाचा सर्वांगीण विकास होय, या सर्वांगीण विकासामध्ये शारीरिक व मानसिक सदृढता महत्त्वाची असते. खेळाच्या माध्यमातून माणूस सुदृढ बनत असतो व व्यक्तिमत्त्व विकासाचा पहिला प्रभाव म्हणजे त्याची शरीरयष्टी. त्याचे दिसणे, त्याचे वागणे, चालणे, बोलणे या बाबी खेळांच्या माध्यमातून जास्तीत जास्त विकसित होत असतात. मानसिक विकासामध्ये खेळाडू हा खेळाच्या माध्यमातून सक्षम बनत असतो. त्याच्यामध्ये संयम वाढतो. व्यक्तिमत्त्व विकासात सर्वात महत्त्वाचे घटक म्हणजे नेतृत्वगुण, एकात्मता व बंधुभाव.'

खेळाच्या माध्यमातून संघ भावना वाढते एकमेकांविषयी आदर निर्माण होतो. बंधूभाव वाढतो. त्याप्रमाणे सर्वाधिक नेतृत्व गुण खेळाच्या व स्पर्धेच्या माध्यमातून विकसित होत असतात. त्यामुळे व्यक्तिमत्त्वाचा विकास करायचा असेल तर खेळ हे अत्यंत महत्त्वाची भूमिका बजावत असतात.

SubQuestion No : 48

Q.48 व्यक्तिमत्त्व विकास कुणासाठी गरजेचा आहे असे तुम्हाला वाटते?

- Ans**
- 1. शिक्षकांसाठी
 - 2. खेळाडूसाठी
 - 3. सर्वांसाठी
 - 4. प्रशिक्षकासाठी

Question Type : **MCQ**

Question ID : **48956451**

Option 1 ID : **489564198**

Option 2 ID : **489564197**

Option 3 ID : **489564200**

Option 4 ID : **489564199**

Status : **Answered**

Chosen Option : **2**

Comprehension:

खालील परिच्छेद काळजीपूर्वक वाचा आणि दिलेल्या प्रश्नांची उत्तरे द्या.

खेळाच्या माध्यमातून व्यक्तिमत्त्व विकास सहजपणे होऊ शकतो. शारीरिक व मानसिकदृष्ट्या खेळाडू खेळातून कणखर बनतो, असे प्रतिपादन क्रीडा संघटक डॉ. संदीप जगताप यांनी केले. कन्नड येथील शिवाजी महाविद्यालय व फुलंब्री येथील श्री संत सावता माळी ग्रामीण महाविद्यालयाच्या संयुक्त विद्यमाने आयोजित 'खेळ व आरोग्य' या विषयावरील ऑनलाइन कार्यशाळेत ते बोलत होते. श्री संत सावता माळी ग्रामीण महाविद्यालयाचे क्रीडा संचालक डॉ. संदीप जगताप यांनी 'व्यक्तिमत्त्व विकासात खेळाचे महत्त्व' या विषयावर मार्गदर्शन केले. डॉ. जगताप म्हणाले, 'व्यक्तिमत्त्व म्हणजे माणसाचा सर्वांगीण विकास होय, या सर्वांगीण विकासामध्ये शारीरिक व मानसिक सदृढता महत्त्वाची असते. खेळाच्या माध्यमातून माणूस सुदृढ बनत असतो व व्यक्तिमत्त्व विकासाचा पहिला प्रभाव म्हणजे त्याची शरीरयष्टी. त्याचे दिसणे, त्याचे वागणे, चालणे, बोलणे या बाबी खेळांच्या माध्यमातून जास्तीत जास्त विकसित होत असतात. मानसिक विकासामध्ये खेळाडू हा खेळाच्या माध्यमातून सक्षम बनत असतो. त्याच्यामध्ये संयम वाढतो. व्यक्तिमत्त्व विकासात सर्वात महत्त्वाचे घटक म्हणजे नेतृत्वगुण, एकात्मता व बंधुभाव.'

खेळाच्या माध्यमातून संघ भावना वाढते एकमेकांविषयी आदर निर्माण होतो. बंधूभाव वाढतो. त्याप्रमाणे सर्वाधिक नेतृत्व गुण खेळाच्या व स्पर्धेच्या माध्यमातून विकसित होत असतात. त्यामुळे व्यक्तिमत्त्वाचा विकास करायचा असेल तर खेळ हे अत्यंत महत्त्वाची भूमिका बजावत असतात.

SubQuestion No : 49

Q.49 ऑनलाइन कार्यशाळेचा विषय _____ होता.

- Ans**
- 1. खेळ व शिक्षक
 - 2. खेळ व पालक
 - 3. खेळ व आरोग्य
 - 4. खेळ व समाज

Question Type : **MCQ**

Question ID : **48956449**

Option 1 ID : **489564191**

Option 2 ID : **489564192**

Option 3 ID : **489564189**

Option 4 ID : **489564190**

Status : **Answered**

Chosen Option : **3**

Comprehension:

खालील परिच्छेद काळजीपूर्वक वाचा आणि दिलेल्या प्रश्नांची उत्तरे द्या.

खेळाच्या माध्यमातून व्यक्तिमत्त्व विकास सहजपणे होऊ शकतो. शारीरिक व मानसिकदृष्ट्या खेळाडू खेळातून कणखर बनतो, असे प्रतिपादन क्रीडा संघटक डॉ. संदीप जगताप यांनी केले. कन्नड येथील शिवाजी महाविद्यालय व फुलंब्री येथील श्री संत सावता माळी ग्रामीण महाविद्यालयाच्या संयुक्त विद्यमाने आयोजित 'खेळ व आरोग्य' या विषयावरील ऑनलाइन कार्यशाळेत ते बोलत होते. श्री संत सावता माळी ग्रामीण महाविद्यालयाचे क्रीडा संचालक डॉ. संदीप जगताप यांनी 'व्यक्तिमत्त्व विकासात खेळाचे महत्त्व' या विषयावर मार्गदर्शन केले. डॉ. जगताप म्हणाले, 'व्यक्तिमत्त्व म्हणजे माणसाचा सर्वांगीण विकास होय, या सर्वांगीण विकासामध्ये शारीरिक व मानसिक सदृढता महत्त्वाची असते. खेळाच्या माध्यमातून माणूस सुदृढ बनत असतो व व्यक्तिमत्त्व विकासाचा पहिला प्रभाव म्हणजे त्याची शरीरयष्टी. त्याचे दिसणे, त्याचे वागणे, चालणे, बोलणे या बाबी खेळांच्या माध्यमातून जास्तीत जास्त विकसित होत असतात. मानसिक विकासामध्ये खेळाडू हा खेळाच्या माध्यमातून सक्षम बनत असतो. त्याच्यामध्ये संयम वाढतो. व्यक्तिमत्त्व विकासात सर्वात महत्त्वाचे घटक म्हणजे नेतृत्वगुण, एकात्मता व बंधुभाव.'

खेळाच्या माध्यमातून संघ भावना वाढते एकमेकांविषयी आदर निर्माण होतो. बंधूभाव वाढतो. त्याप्रमाणे सर्वाधिक नेतृत्व गुण खेळाच्या व स्पर्धेच्या माध्यमातून विकसित होत असतात. त्यामुळे व्यक्तिमत्त्वाचा विकास करायचा असेल तर खेळ हे अत्यंत महत्त्वाची भूमिका बजावत असतात.

SubQuestion No : 50

Q.50 खेळाच्या माध्यमातून _____ सहजपणे होऊ शकतो.

- Ans
- 1. अभ्यास
 - 2. सराव
 - 3. व्यक्तिमत्त्व विकास
 - 4. आजार

Question Type : **MCQ**

Question ID : **48956447**

Option 1 ID : **489564182**

Option 2 ID : **489564183**

Option 3 ID : **489564181**

Option 4 ID : **489564184**

Status : **Answered**

Chosen Option : **3**

Section : **English Language**

Q.1 Select the option that expresses the given sentence in indirect speech.

She said to the boy, "Are you going to school?"

- Ans
- 1. She asked the boy whether he was going to school.
 - 2. She asked the boy whether if he was going to school.
 - 3. She asked the boy whether he will be going to school.
 - 4. She asked the boy whether he is going to school.

Question Type : **MCQ**

Question ID : **48956470**

Option 1 ID : **489564273**

Option 2 ID : **489564274**

Option 3 ID : **489564275**

Option 4 ID : **489564276**

Status : **Answered**

Chosen Option : **1**

Q.2 Select the option that rectifies the spelling/s of the underlined part of the given sentence. In case no correction is needed, select 'No correction required'.

The Ottoman government had given a solemn guarantee of its intention to make the long-promised reforms a reality.

- Ans
- 1. solenm garantee of its intention
 - 2. No correction required
 - 3. solemn guarantee of its intention
 - 4. solemn guarantte of its intentoin

Question Type : MCQ

Question ID : 48956483

Option 1 ID : 489564327

Option 2 ID : 489564328

Option 3 ID : 489564326

Option 4 ID : 489564325

Status : Not Answered

Chosen Option : --

Q.3 Select the most appropriate ANTONYM of the underlined word.

Doctors sometimes prescribe sedatives like Librium to alleviate the symptoms.

- Ans
- 1. reform
 - 2. exacerbate
 - 3. suppress
 - 4. stroll

Question Type : MCQ

Question ID : 48956477

Option 1 ID : 489564302

Option 2 ID : 489564303

Option 3 ID : 489564301

Option 4 ID : 489564304

Status : Not Answered

Chosen Option : --

Q.4 Select the most appropriate meaning of the given idiom/phrase.

Snug as a bug in a rug

- Ans
- 1. Very cozy and comfortable
 - 2. A hidden enemy
 - 3. Extremely happy
 - 4. A very delicate situation

Question Type : MCQ

Question ID : 48956480

Option 1 ID : 489564315

Option 2 ID : 489564314

Option 3 ID : 489564316

Option 4 ID : 489564313

Status : Not Answered

Chosen Option : --

Q.5 Parts of a sentence are given below in jumbled order. Arrange the parts in the correct order to form a meaningful sentence.

- P. that honest conversations are a crucial
- Q. successfully act on their ethical ambitions
- R. throughout my consulting work, I have discovered
- S. tool in helping leaders and their organisations

Ans 1. PSRQ

2. RPSQ

3. SQRP

4. PQRS

Question Type : MCQ

Question ID : 48956484

Option 1 ID : 489564330

Option 2 ID : 489564332

Option 3 ID : 489564331

Option 4 ID : 489564329

Status : Not Answered

Chosen Option : --

Q.6 Select the option that can be used as a one-word substitute for the underlined group of words in the given sentence.

My manager is always giving undue favour to his relatives when it comes to appraisals.

Ans 1. Nepotism

2. Neogamist

3. Naturalism

4. Nuance

Question Type : MCQ

Question ID : 48956489

Option 1 ID : 489564350

Option 2 ID : 489564351

Option 3 ID : 489564352

Option 4 ID : 489564349

Status : Not Answered

Chosen Option : --

Q.7 The following sentence has been divided into parts. One of them may contain a spelling error. Select the part that contains the error from the given options. If you don't find any error, mark 'No error' as your answer.

Financial institutions and professions / have foregotten some basic truths / about the nature and limits of money.

- Ans 1. have foregotten some basic truths
 2. No error
 3. about the nature and limits of money.
 4. Financial institutions and professions

Question Type : MCQ
Question ID : 48956482
Option 1 ID : 489564322
Option 2 ID : 489564324
Option 3 ID : 489564323
Option 4 ID : 489564321
Status : Not Answered
Chosen Option : --

Q.8 Select the option that expresses the given sentence in direct speech.

She said that she had come from the hospital the previous day.

- Ans 1. She said, "I came from the hospital that day."
 2. She told, "I was coming from the hospital yesterday."
 3. She said, "I came from the hospital yesterday."
 4. She said to me, "I comes from the hospital that day."

Question Type : MCQ
Question ID : 48956471
Option 1 ID : 489564277
Option 2 ID : 489564279
Option 3 ID : 489564278
Option 4 ID : 489564280
Status : Answered
Chosen Option : 1

Q.9 Select the most appropriate meaning of the given idiom/phrase.

Egg on one's face

- Ans 1. To harm one's own cause inadvertently
 2. To accuse someone of a crime
 3. To speak bluntly or rashly without thinking carefully
 4. To appear stupid when something goes wrong

Question Type : MCQ
Question ID : 48956479
Option 1 ID : 489564310
Option 2 ID : 489564312
Option 3 ID : 489564311
Option 4 ID : 489564309
Status : Answered
Chosen Option : 3

Q.10 Select the most appropriate article to fill in the blank.

It was _____ first time she had used his first name.

- Ans
- 1. an
 - 2. No article required
 - 3. a
 - 4. the

Question Type : MCQ
Question ID : 48956465
Option 1 ID : 489564253
Option 2 ID : 489564256
Option 3 ID : 489564255
Option 4 ID : 489564254
Status : Answered
Chosen Option : 4

Q.11 In the given question, a part of the sentence is underlined. Choose the option that can correctly substitute that part of the sentence making it grammatically correct. If the sentence is correct, choose 'No correction required' as your answer.

John was so weak from hunger he can hard raise his arms.

- Ans
- 1. hardly can raise his
 - 2. could hard rise their
 - 3. No correction required
 - 4. could hardly raise his

Question Type : MCQ
Question ID : 48956460
Option 1 ID : 489564234
Option 2 ID : 489564235
Option 3 ID : 489564236
Option 4 ID : 489564233
Status : Answered
Chosen Option : 1

Q.12 Select the option that can be used as a one-word substitute for the underlined group of words in the given sentence.

Zebbras are widespread across vast areas of southern and eastern Africa. They are four-footed animals.

- Ans
- 1. Quadratus
 - 2. Quadratics
 - 3. Quadriiceps
 - 4. Quadrupeds

Question Type : MCQ
Question ID : 48956490
Option 1 ID : 489564355
Option 2 ID : 489564354
Option 3 ID : 489564353
Option 4 ID : 489564356
Status : Not Answered
Chosen Option : --

Q.13 In the given question, a part of the sentence is underlined. Choose the option that can correctly substitute that part of the sentence making it grammatically correct. If the sentence is correct, choose 'No correction required' as your answer.

I didn't had time to store any food before winter.

- Ans 1. didn't have
 2. will had
 3. No correction required
 4. had not have

Question Type : MCQ

Question ID : 48956461

Option 1 ID : 489564238

Option 2 ID : 489564239

Option 3 ID : 489564240

Option 4 ID : 489564237

Status : Answered

Chosen Option : 4

Q.14 Sentences of a paragraph are given below in jumbled order. Arrange the sentences in the correct order to form a meaningful and coherent paragraph.

P. Ecuador is home to some of the world's finest, single-origin dark chocolates.

Q. Remember to carry some mosquito repellent as cacao plantations are notorious for severe mosquito bites.

R. Start by visiting a chocolate plantation called cacao locally.

S. Indulge in everything chocolate here.

- Ans 1. PQRS
 2. QRSP
 3. PSRQ
 4. SRQP

Question Type : MCQ

Question ID : 48956487

Option 1 ID : 489564344

Option 2 ID : 489564341

Option 3 ID : 489564342

Option 4 ID : 489564343

Status : Not Answered

Chosen Option : --

Q.15 Select the option that expresses the given sentence in indirect speech.

Karuna said, "I haven't read the play."

- Ans
- 1. Karuna said that she couldn't read the play.
 - 2. Karuna said that she hadn't read the play.
 - 3. Karuna said that she hasn't read the play.
 - 4. Karuna said that she didn't read the play.

Question Type : MCQ

Question ID : 48956469

Option 1 ID : 489564272

Option 2 ID : 489564271

Option 3 ID : 489564270

Option 4 ID : 489564269

Status : Answered

Chosen Option : 3

Q.16 Select the most appropriate synonym of the underlined word.

It is very hard to understand her enigmatic personality.

- Ans
- 1. desperate
 - 2. intelligent
 - 3. foolish
 - 4. mysterious

Question Type : MCQ

Question ID : 48956476

Option 1 ID : 489564298

Option 2 ID : 489564297

Option 3 ID : 489564299

Option 4 ID : 489564300

Status : Not Answered

Chosen Option : --

Q.17 In the given question, a part of the sentence is underlined. Choose the option that can correctly substitute that part of the sentence making it grammatically correct. If the sentence is correct, choose 'No correction required' as your answer.

This decision would make some people feel much safer.

- Ans
- 1. felt much safest
 - 2. feel much safest
 - 3. feel most safer
 - 4. No correction required

Question Type : MCQ

Question ID : 48956457

Option 1 ID : 489564222

Option 2 ID : 489564223

Option 3 ID : 489564221

Option 4 ID : 489564224

Status : Not Answered

Chosen Option : --

Q.18 Select the most appropriate option to fill in the blanks.

Teachers spoke _____ how important it was for students to make personal connections
_____ books.

- Ans
- 1. upon; on
 - 2. of; with
 - 3. about; of
 - 4. off; from

Question Type : MCQ
Question ID : 48956455
Option 1 ID : 489564213
Option 2 ID : 489564214
Option 3 ID : 489564216
Option 4 ID : 489564215
Status : Answered
Chosen Option : 1

Q.19 Select the most appropriate article to fill in the blank.

The area devoted to cotton in _____ Egypt is about 1,800,000 acres, and nine-tenths of it is
in _____ Nile Delta.

- Ans
- 1. an, a
 - 2. an, No article required
 - 3. the, the
 - 4. No article required, the

Question Type : MCQ
Question ID : 48956467
Option 1 ID : 489564262
Option 2 ID : 489564264
Option 3 ID : 489564261
Option 4 ID : 489564263
Status : Answered
Chosen Option : 1

Q.20 Select the most appropriate article to fill in the blank.

Once upon a time, there lived _____ greedy man in a small town.

- Ans
- 1. a
 - 2. the
 - 3. No article required
 - 4. an

Question Type : MCQ
Question ID : 48956464
Option 1 ID : 489564249
Option 2 ID : 489564251
Option 3 ID : 489564252
Option 4 ID : 489564250
Status : Answered
Chosen Option : 2

Q.21 Select the most appropriate option to fill in the blank.

There is a _____ selection of short moral stories for kids online.

- Ans 1. large
 2. largest
 3. larger
 4. largely

Question Type : MCQ
Question ID : 48956452
Option 1 ID : 489564204
Option 2 ID : 489564201
Option 3 ID : 489564202
Option 4 ID : 489564203
Status : Answered
Chosen Option : 1

Q.22 Select the most appropriate option to fill in the blank.

Monica jumped on his feet and cried out as loud as she _____.

- Ans 1. could
 2. will
 3. shall
 4. might

Question Type : MCQ
Question ID : 48956454
Option 1 ID : 489564210
Option 2 ID : 489564209
Option 3 ID : 489564211
Option 4 ID : 489564212
Status : Answered
Chosen Option : 1

Q.23 Parts of a sentence are given below in jumbled order. Arrange the parts in the correct order to form a meaningful sentence.

- P. the epithelial barrier hypothesis provides an explanation as to
Q. why allergies and autoimmune diseases have
R. been increasing for decades – they are linked to
S. industrialisation, urbanisation and a westernised lifestyle

- Ans 1. PQSR
 2. RSPQ
 3. PQRS
 4. RPQS

Question Type : MCQ
Question ID : 48956486
Option 1 ID : 489564340
Option 2 ID : 489564337
Option 3 ID : 489564339
Option 4 ID : 489564338
Status : Not Answered
Chosen Option : --

Q.24 Parts of a sentence are given below in jumbled order. Arrange the parts in the correct order to form a meaningful sentence.

- P. geologists and paleontologists in the 19th and early
- Q. climatic changes taking place before the Pleistocene
- R. 20th centuries uncovered evidence of massive
- S. that is before some 2.6 million years ago

- Ans
- 1. RQSP
 - 2. PQSR
 - 3. PRQS
 - 4. QSPR

Question Type : MCQ
Question ID : 48956485
Option 1 ID : 489564333
Option 2 ID : 489564335
Option 3 ID : 489564334
Option 4 ID : 489564336
Status : Not Answered
Chosen Option : --

Q.25 The following sentence has been divided into parts. One of them may contain a spelling error. Select the part that contains the error from the given options. If you don't find any error, mark 'No error' as your answer.

Our conception of the degree of / freedom often varies according / to differences in the point of view.

- Ans
- 1. No error
 - 2. freedom often varies according
 - 3. Our conception of the degree of
 - 4. to differences in the point of view.

Question Type : MCQ
Question ID : 48956481
Option 1 ID : 489564320
Option 2 ID : 489564318
Option 3 ID : 489564317
Option 4 ID : 489564319
Status : Not Answered
Chosen Option : --

Q.26 The following sentence has been divided into parts. One of them may contain an error. Select the part that contains the error from the given options. If you don't find any error, mark 'No error' as your answer.

King Akbar asked a question / in his court that has left everyone / in the courtroom puzzled.

- Ans
- 1. King Akbar asked a question
 - 2. in his court that has left everyone
 - 3. No error
 - 4. in the courtroom puzzled.

Question Type : MCQ

Question ID : 48956463

Option 1 ID : 489564245

Option 2 ID : 489564246

Option 3 ID : 489564248

Option 4 ID : 489564247

Status : Answered

Chosen Option : 3

Q.27 Select the option that expresses the given sentence in passive voice.

Ian will never forget this encounter.

- Ans
- 1. This encounter would never forgotten by Ian.
 - 2. This encounter should never be forgotten by Ian.
 - 3. This encounter will never be forgotten by Ian.
 - 4. This encounter will never been forgotten by Ian.

Question Type : MCQ

Question ID : 48956473

Option 1 ID : 489564285

Option 2 ID : 489564288

Option 3 ID : 489564286

Option 4 ID : 489564287

Status : Answered

Chosen Option : 2

Q.28 In the given question, a part of the sentence is underlined. Choose the option that can correctly substitute that part of the sentence making it grammatically correct. If the sentence is correct, choose 'No correction required' as your answer.

I have a little hours stopover between my flights and want to take a tour.

- Ans
- 1. has the few hours
 - 2. have little hours
 - 3. No correction required
 - 4. have a few hours

Question Type : MCQ

Question ID : 48956458

Option 1 ID : 489564225

Option 2 ID : 489564226

Option 3 ID : 489564228

Option 4 ID : 489564227

Status : Not Answered

Chosen Option : --

Q.29 Sentences of a paragraph are given below in jumbled order. Arrange the sentences in the correct order to form a meaningful and coherent paragraph.

P. Accepting that things do not last, including success and wealth, allows you to truly appreciate what you have at hand.

Q. When something goes wrong, do not become depressed immediately because things will change.

R. If we accept that all things are impermanent, then that means there can be change, and with change there is hope.

S. This also holds true for the positive things in life.

Ans 1. PQSR

2. SRPQ

3. QRSP

4. SPQR

Question Type : MCQ

Question ID : 48956488

Option 1 ID : 489564348

Option 2 ID : 489564347

Option 3 ID : 489564346

Option 4 ID : 489564345

Status : Not Answered

Chosen Option : --

Q.30 Select the option that expresses the given sentence in passive voice.

Reenu has penned a poem.

Ans 1. A poem have been penned by Reenu.

2. A poem had been penned by Reenu.

3. A poem is being penned by Reenu.

4. A poem has been penned by Reenu.

Question Type : MCQ

Question ID : 48956472

Option 1 ID : 489564282

Option 2 ID : 489564281

Option 3 ID : 489564284

Option 4 ID : 489564283

Status : Answered

Chosen Option : 4

Q.31 In the given question, a part of the sentence is underlined. Choose the option that can correctly substitute that part of the sentence making it grammatically correct. If the sentence is correct, choose 'No correction required' as your answer.

The few hunters come into the forest and took the lion with them.

- Ans
- 1. A few hunters have come into
 - 2. A few hunters came into
 - 3. The few hunters would come to
 - 4. No correction required

Question Type : MCQ

Question ID : 48956462

Option 1 ID : 489564241

Option 2 ID : 489564242

Option 3 ID : 489564243

Option 4 ID : 489564244

Status : Answered

Chosen Option : 3

Q.32 Select the option that expresses the given sentence in indirect speech.

Mrinal said, "I will see you later."

- Ans
- 1. Mrinal said that she will see me later.
 - 2. Mrinal said that she can see me later.
 - 3. Mrinal said that she will have seen me later.
 - 4. Mrinal said that she would see me later.

Question Type : MCQ

Question ID : 48956468

Option 1 ID : 489564266

Option 2 ID : 489564267

Option 3 ID : 489564268

Option 4 ID : 489564265

Status : Answered

Chosen Option : 4

Q.33 Select the option that expresses the given sentence in passive voice.

Has anyone brought their project files?

- Ans
- 1. Has the project files been brought by anyone?
 - 2. Was the project files been bought by anyone?
 - 3. Have the project files been brought by anyone?
 - 4. Did the project files brought by anyone?

Question Type : MCQ

Question ID : 48956475

Option 1 ID : 489564295

Option 2 ID : 489564293

Option 3 ID : 489564294

Option 4 ID : 489564296

Status : Answered

Chosen Option : 2

Q.34 Select the most appropriate option to fill in the blank.

It is not _____ me to say how he spends his money.

- Ans
- 1. at
 - 2. of
 - 3. with
 - 4. for

Question Type : MCQ
Question ID : 48956453
Option 1 ID : 489564205
Option 2 ID : 489564206
Option 3 ID : 489564208
Option 4 ID : 489564207
Status : Answered
Chosen Option : 4

Q.35 Select the most appropriate option to fill in the blanks.

She went _____ doctor to doctor, but no one was able _____ cure her.

- Ans
- 1. for; of
 - 2. on; to
 - 3. from; to
 - 4. off; at

Question Type : MCQ
Question ID : 48956456
Option 1 ID : 489564217
Option 2 ID : 489564220
Option 3 ID : 489564219
Option 4 ID : 489564218
Status : Answered
Chosen Option : 3

Q.36 Select the most appropriate option to fill in the blank.

Vidhya's parents were very angry with her _____ attitude when they scolded her.

- Ans
- 1. facetious
 - 2. laconic
 - 3. sagacious
 - 4. somber

Question Type : MCQ
Question ID : 48956478
Option 1 ID : 489564307
Option 2 ID : 489564305
Option 3 ID : 489564308
Option 4 ID : 489564306
Status : Answered
Chosen Option : 3

Q.37 In the given question, a part of the sentence is underlined. Choose the option that can correctly substitute that part of the sentence making it grammatically correct. If the sentence is correct, choose 'No correction required' as your answer.

I saw some flowers in the woods and went towards look on them.

- Ans
- 1. went to look on those
 - 2. went for look at them
 - 3. No correction required
 - 4. went to look at them

Question Type : MCQ

Question ID : 48956459

Option 1 ID : 489564230

Option 2 ID : 489564231

Option 3 ID : 489564232

Option 4 ID : 489564229

Status : Not Answered

Chosen Option : --

Q.38 Select the most appropriate article to fill in the blank.

Having _____ loving and trusting family relationship is important.

- Ans
- 1. the
 - 2. an
 - 3. a
 - 4. No article required

Question Type : MCQ

Question ID : 48956466

Option 1 ID : 489564259

Option 2 ID : 489564257

Option 3 ID : 489564258

Option 4 ID : 489564260

Status : Answered

Chosen Option : 3

Q.39 Select the option that expresses the given sentence in active voice.

Gifts have been bought by Rajeev for his niece.

- Ans
- 1. Gifts was bought by Rajeev for his niece.
 - 2. Rajeev has bought gifts for his niece.
 - 3. Rajeev bought gifts for his niece.
 - 4. Gifts had been bought by Rajeev for his niece.

Question Type : MCQ

Question ID : 48956474

Option 1 ID : 489564292

Option 2 ID : 489564291

Option 3 ID : 489564290

Option 4 ID : 489564289

Status : Answered

Chosen Option : 3

Q.40 Select the option that can be used as a one-word substitute for the given group of words.

A short statement of a general truth

- Ans 1. Intercede
 2. Epitome
 3. Maxim
 4. Fallacy

Question Type : **MCQ**

Question ID : **48956491**

Option 1 ID : **489564360**

Option 2 ID : **489564357**

Option 3 ID : **489564359**

Option 4 ID : **489564358**

Status : **Answered**

Chosen Option : **2**

Comprehension:

Read the following passage carefully and answer the given questions.

Five thousand years ago, the massive Nile River was the key to the ancient Egyptian empire, according to the Australian government. Its water allowed a bounty of crops to be grown along its edge, keeping its citizens, and its armies, well fed. But there was also a shiny yellow metal that came running down the river, the element of gold. The Egyptians eagerly took this visually appealing treasure and found that because it was naturally pure and malleable, it required little refinement to be turned into mesmerising decorations.

Gold swiftly came to be a symbol, and unit, of wealth, and it has maintained this allure through time and around the globe. Several millennia after the Egyptian pharaohs and their tombs of gold, the Aztec Empire's gold riches were plundered by the Conquistadors who sought the valuable metal for their own. Later still, workers flocked to the Western coast of the United States to take part in the California 'gold rush', seeking their own fortunes, according to National Geographic. Therefore, gold has driven humans to diplomacy, mass migrations and even acts of genocide. Without this metal, our history would be quite different.

Gold also plays a strong role in Australian history. In the late 19th century, so many flocked to the country to take part in its booming gold rush that the population of Australia tripled. Owing to its pervasive deposits, the country is still mined for the metal today, according to the Australian government.

SubQuestion No : 41

Q.41 Which of the following words is similar in meaning to the word 'booming' as used in the passage?

- Ans 1. Mincing
 2. Floundering
 3. Flourishing
 4. Sinking

Question Type : **MCQ**

Question ID : **48956496**

Option 1 ID : **489564373**

Option 2 ID : **489564375**

Option 3 ID : **489564374**

Option 4 ID : **489564376**

Status : **Not Answered**

Chosen Option : **--**

Comprehension:

Read the following passage carefully and answer the given questions.

Five thousand years ago, the massive Nile River was the key to the ancient Egyptian empire, according to the Australian government. Its water allowed a bounty of crops to be grown along its edge, keeping its citizens, and its armies, well fed. But there was also a shiny yellow metal that came running down the river, the element of gold. The Egyptians eagerly took this visually appealing treasure and found that because it was naturally pure and malleable, it required little refinement to be turned into mesmerising decorations.

Gold swiftly came to be a symbol, and unit, of wealth, and it has maintained this allure through time and around the globe. Several millennia after the Egyptian pharaohs and their tombs of gold, the Aztec Empire's gold riches were plundered by the Conquistadors who sought the valuable metal for their own. Later still, workers flocked to the Western coast of the United States to take part in the California 'gold rush', seeking their own fortunes, according to National Geographic. Therefore, gold has driven humans to diplomacy, mass migrations and even acts of genocide. Without this metal, our history would be quite different.

Gold also plays a strong role in Australian history. In the late 19th century, so many flocked to the country to take part in its booming gold rush that the population of Australia tripled. Owing to its pervasive deposits, the country is still mined for the metal today, according to the Australian government.

SubQuestion No : 42

Q.42 Why were the Aztec Empire's gold riches plundered by the Conquistadors?

- Ans
- 1. Because of personal animosity
 - 2. Because gold was a valuable metal and they wanted it for their own
 - 3. Because they were against the acquisition of gold metal
 - 4. Because they wanted to build their own state

Question Type : **MCQ**

Question ID : **48956494**

Option 1 ID : **489564365**

Option 2 ID : **489564366**

Option 3 ID : **489564368**

Option 4 ID : **489564367**

Status : **Not Answered**

Chosen Option : --

Comprehension:

Read the following passage carefully and answer the given questions.

Five thousand years ago, the massive Nile River was the key to the ancient Egyptian empire, according to the Australian government. Its water allowed a bounty of crops to be grown along its edge, keeping its citizens, and its armies, well fed. But there was also a shiny yellow metal that came running down the river, the element of gold. The Egyptians eagerly took this visually appealing treasure and found that because it was naturally pure and malleable, it required little refinement to be turned into mesmerising decorations.

Gold swiftly came to be a symbol, and unit, of wealth, and it has maintained this allure through time and around the globe. Several millennia after the Egyptian pharaohs and their tombs of gold, the Aztec Empire's gold riches were plundered by the Conquistadors who sought the valuable metal for their own. Later still, workers flocked to the Western coast of the United States to take part in the California 'gold rush', seeking their own fortunes, according to National Geographic. Therefore, gold has driven humans to diplomacy, mass migrations and even acts of genocide. Without this metal, our history would be quite different.

Gold also plays a strong role in Australian history. In the late 19th century, so many flocked to the country to take part in its booming gold rush that the population of Australia tripled. Owing to its pervasive deposits, the country is still mined for the metal today, according to the Australian government.

SubQuestion No : 43

Q.43 Which of the following words is OPPOSITE in meaning to the word 'allure' as used in the passage?

- Ans
- 1. Harbinger
 - 2. Desirability
 - 3. Repulsion
 - 4. Aloofness

Question Type : **MCQ**

Question ID : **48956497**

Option 1 ID : **489564378**

Option 2 ID : **489564377**

Option 3 ID : **489564379**

Option 4 ID : **489564380**

Status : **Not Answered**

Chosen Option : --

Comprehension:

Read the following passage carefully and answer the given questions.

Five thousand years ago, the massive Nile River was the key to the ancient Egyptian empire, according to the Australian government. Its water allowed a bounty of crops to be grown along its edge, keeping its citizens, and its armies, well fed. But there was also a shiny yellow metal that came running down the river, the element of gold. The Egyptians eagerly took this visually appealing treasure and found that because it was naturally pure and malleable, it required little refinement to be turned into mesmerising decorations.

Gold swiftly came to be a symbol, and unit, of wealth, and it has maintained this allure through time and around the globe. Several millennia after the Egyptian pharaohs and their tombs of gold, the Aztec Empire's gold riches were plundered by the Conquistadors who sought the valuable metal for their own. Later still, workers flocked to the Western coast of the United States to take part in the California 'gold rush', seeking their own fortunes, according to National Geographic. Therefore, gold has driven humans to diplomacy, mass migrations and even acts of genocide. Without this metal, our history would be quite different.

Gold also plays a strong role in Australian history. In the late 19th century, so many flocked to the country to take part in its booming gold rush that the population of Australia tripled. Owing to its pervasive deposits, the country is still mined for the metal today, according to the Australian government.

SubQuestion No : 44

Q.44 Which of the following statements can be inferred from the given passage?

- Ans**
- 1. The discovery of gold metal promoted harmony among people.
 - 2. Egyptians were trying to find a valuable metal for so long.
 - 3. No gold mines are present in Australia.
 - 4. Gold was used to make mesmerising decorations because of its malleability.

Question Type : **MCQ**

Question ID : **48956495**

Option 1 ID : **489564371**

Option 2 ID : **489564372**

Option 3 ID : **489564370**

Option 4 ID : **489564369**

Status : **Not Answered**

Chosen Option : --

Comprehension:

Read the following passage carefully and answer the given questions.

Five thousand years ago, the massive Nile River was the key to the ancient Egyptian empire, according to the Australian government. Its water allowed a bounty of crops to be grown along its edge, keeping its citizens, and its armies, well fed. But there was also a shiny yellow metal that came running down the river, the element of gold. The Egyptians eagerly took this visually appealing treasure and found that because it was naturally pure and malleable, it required little refinement to be turned into mesmerising decorations.

Gold swiftly came to be a symbol, and unit, of wealth, and it has maintained this allure through time and around the globe. Several millennia after the Egyptian pharaohs and their tombs of gold, the Aztec Empire's gold riches were plundered by the Conquistadors who sought the valuable metal for their own. Later still, workers flocked to the Western coast of the United States to take part in the California 'gold rush', seeking their own fortunes, according to National Geographic. Therefore, gold has driven humans to diplomacy, mass migrations and even acts of genocide. Without this metal, our history would be quite different.

Gold also plays a strong role in Australian history. In the late 19th century, so many flocked to the country to take part in its booming gold rush that the population of Australia tripled. Owing to its pervasive deposits, the country is still mined for the metal today, according to the Australian government.

SubQuestion No : 45

Q.45 What is the most suitable title for the given passage?

- Ans
- 1. Importance of Gold Metal
 - 2. A Unit of Wealth
 - 3. Metals and Their Properties
 - 4. Gold in World History

Question Type : **MCQ**

Question ID : **48956493**

Option 1 ID : **489564363**

Option 2 ID : **489564364**

Option 3 ID : **489564362**

Option 4 ID : **489564361**

Status : **Not Answered**

Chosen Option : --

Comprehension:

Read the following passage carefully and answer the given questions.

Plants composed of many cells have only been around for a mere 800 million years. To survive on land, plants had to protect themselves from UV radiation and develop spores and later seeds which allowed them to disperse more widely. These innovations helped plants become one of the most influential life forms on Earth. Today, plants are found in every major ecosystem on the planet and scientists describe more than 2,000 new species every year.

In his seminal book *The Power of Movement in Plants*, published in 1880, Charles Darwin described the ability of plants to move away or towards the light. Scientists call this phototropism. Plant movements are now known to not only be guided by light, but also by water, nutrients and in response to grazing by animals and competition from other plants.

Plants may appear frozen in place, destined to remain where their seeds germinate. But in fact, plants constantly adjust their leaves, roots and stems to improve their chances of survival. For example, the shaded sides of stems always grow longer to ensure the plant grows towards the light in a process mediated by hormones. Roots show the opposite effect, causing them to grow away from the light.

In some extreme cases, plants can even move across an entire forest. Nomadic vines grow upwards from the bottom of a tree trunk and then detach from the soil. Later, they put down aerial roots and descend again, allowing them to move between trees.

SubQuestion No : 46

Q.46 According to the given passage, which of the following statements is correct?

- Ans 1. Nomadic vines grow downwards from the top of a tree trunk.
2. It is important for plants to protect themselves from UV radiation.
3. Plants are not found in every major ecosystem on the planet.
4. The concept of phototropism is based on electricity.

Question Type : **MCQ**

Question ID : **489564102**

Option 1 ID : **489564396**

Option 2 ID : **489564393**

Option 3 ID : **489564394**

Option 4 ID : **489564395**

Status : **Not Answered**

Chosen Option : --

Comprehension:

Read the following passage carefully and answer the given questions.

Plants composed of many cells have only been around for a mere 800 million years. To survive on land, plants had to protect themselves from UV radiation and develop spores and later seeds which allowed them to disperse more widely. These innovations helped plants become one of the most influential life forms on Earth. Today, plants are found in every major ecosystem on the planet and scientists describe more than 2,000 new species every year.

In his seminal book *The Power of Movement in Plants*, published in 1880, Charles Darwin described the ability of plants to move away or towards the light. Scientists call this phototropism. Plant movements are now known to not only be guided by light, but also by water, nutrients and in response to grazing by animals and competition from other plants.

Plants may appear frozen in place, destined to remain where their seeds germinate. But in fact, plants constantly adjust their leaves, roots and stems to improve their chances of survival. For example, the shaded sides of stems always grow longer to ensure the plant grows towards the light in a process mediated by hormones. Roots show the opposite effect, causing them to grow away from the light.

In some extreme cases, plants can even move across an entire forest. Nomadic vines grow upwards from the bottom of a tree trunk and then detach from the soil. Later, they put down aerial roots and descend again, allowing them to move between trees.

SubQuestion No : 47

Q.47 Why do plants constantly adjust their leaves, roots and stems?

- Ans 1. To improve their chances of survival
 2. To prepare for summer season
 3. To grow on top of other plants
 4. To change colour in autumn

Question Type : **MCQ**

Question ID : **489564100**

Option 1 ID : **489564387**

Option 2 ID : **489564388**

Option 3 ID : **489564386**

Option 4 ID : **489564385**

Status : **Not Answered**

Chosen Option : --

Comprehension:

Read the following passage carefully and answer the given questions.

Plants composed of many cells have only been around for a mere 800 million years. To survive on land, plants had to protect themselves from UV radiation and develop spores and later seeds which allowed them to disperse more widely. These innovations helped plants become one of the most influential life forms on Earth. Today, plants are found in every major ecosystem on the planet and scientists describe more than 2,000 new species every year.

In his seminal book *The Power of Movement in Plants*, published in 1880, Charles Darwin described the ability of plants to move away or towards the light. Scientists call this phototropism. Plant movements are now known to not only be guided by light, but also by water, nutrients and in response to grazing by animals and competition from other plants.

Plants may appear frozen in place, destined to remain where their seeds germinate. But in fact, plants constantly adjust their leaves, roots and stems to improve their chances of survival. For example, the shaded sides of stems always grow longer to ensure the plant grows towards the light in a process mediated by hormones. Roots show the opposite effect, causing them to grow away from the light.

In some extreme cases, plants can even move across an entire forest. Nomadic vines grow upwards from the bottom of a tree trunk and then detach from the soil. Later, they put down aerial roots and descend again, allowing them to move between trees.

SubQuestion No : 48

Q.48 Which of the following words is similar in meaning to the word 'disperse' as used in the passage?

- Ans
- 1. Unify
 - 2. Scatter
 - 3. Profusion
 - 4. Consolidate

Question Type : **MCQ**

Question ID : **489564103**

Option 1 ID : **489564397**

Option 2 ID : **489564398**

Option 3 ID : **489564400**

Option 4 ID : **489564399**

Status : **Not Answered**

Chosen Option : --

Comprehension:

Read the following passage carefully and answer the given questions.

Plants composed of many cells have only been around for a mere 800 million years. To survive on land, plants had to protect themselves from UV radiation and develop spores and later seeds which allowed them to disperse more widely. These innovations helped plants become one of the most influential life forms on Earth. Today, plants are found in every major ecosystem on the planet and scientists describe more than 2,000 new species every year.

In his seminal book *The Power of Movement in Plants*, published in 1880, Charles Darwin described the ability of plants to move away or towards the light. Scientists call this phototropism. Plant movements are now known to not only be guided by light, but also by water, nutrients and in response to grazing by animals and competition from other plants.

Plants may appear frozen in place, destined to remain where their seeds germinate. But in fact, plants constantly adjust their leaves, roots and stems to improve their chances of survival. For example, the shaded sides of stems always grow longer to ensure the plant grows towards the light in a process mediated by hormones. Roots show the opposite effect, causing them to grow away from the light.

In some extreme cases, plants can even move across an entire forest. Nomadic vines grow upwards from the bottom of a tree trunk and then detach from the soil. Later, they put down aerial roots and descend again, allowing them to move between trees.

SubQuestion No : 49

Q.49 The given passage mainly talks about which characteristic of plants?

- Ans
- 1. Food transportation in plants
 - 2. Photosynthesis in plants
 - 3. Growth of plants in outer space
 - 4. Movement in plants

Question Type : MCQ

Question ID : 48956499

Option 1 ID : 489564382

Option 2 ID : 489564384

Option 3 ID : 489564383

Option 4 ID : 489564381

Status : Not Answered

Chosen Option : --

Comprehension:

Read the following passage carefully and answer the given questions.

Plants composed of many cells have only been around for a mere 800 million years. To survive on land, plants had to protect themselves from UV radiation and develop spores and later seeds which allowed them to disperse more widely. These innovations helped plants become one of the most influential life forms on Earth. Today, plants are found in every major ecosystem on the planet and scientists describe more than 2,000 new species every year.

In his seminal book *The Power of Movement in Plants*, published in 1880, Charles Darwin described the ability of plants to move away or towards the light. Scientists call this phototropism. Plant movements are now known to not only be guided by light, but also by water, nutrients and in response to grazing by animals and competition from other plants.

Plants may appear frozen in place, destined to remain where their seeds germinate. But in fact, plants constantly adjust their leaves, roots and stems to improve their chances of survival. For example, the shaded sides of stems always grow longer to ensure the plant grows towards the light in a process mediated by hormones. Roots show the opposite effect, causing them to grow away from the light.

In some extreme cases, plants can even move across an entire forest. Nomadic vines grow upwards from the bottom of a tree trunk and then detach from the soil. Later, they put down aerial roots and descend again, allowing them to move between trees.

SubQuestion No : 50

Q.50 How many new species of plants do scientists describe every year?

- Ans 1. More than 2000
 2. Between 500 and 1000
 3. Less than 1500
 4. Approximately 800

Question Type : **MCQ**
Question ID : **489564101**
Option 1 ID : **489564390**
Option 2 ID : **489564392**
Option 3 ID : **489564391**
Option 4 ID : **489564389**
Status : **Not Answered**
Chosen Option : --

Section : **General Knowledge**

Q.1 "चार नगरातले माझे विश्व" हे _____ यांचे एक आत्मचरित्र आहे.

- Ans 1. हरिप्रसाद चौरसिया
 2. जयंत नारळीकर
 3. रवी शंकर
 4. पी.एल. देशपांडे

Question Type : **MCQ**
Question ID : **489564135**
Option 1 ID : **489564527**
Option 2 ID : **489564525**
Option 3 ID : **489564528**
Option 4 ID : **489564526**
Status : **Answered**
Chosen Option : **2**

Q.2 खालीलपैकी कोणते विधान योग्य आहे?

I. बाबर हा मुघल सत्तेचा संस्थापक होता.

II. दौलतखान लोदीने भारतावर कूच करण्यासाठी बाबरला आमंत्रित केले.

Ans 1. केवळ II

2. I किंवा II यापैकी कोणतेही नाही

3. I आणि II हे दोन्ही

4. केवळ I

Question Type : MCQ

Question ID : 489564125

Option 1 ID : 489564486

Option 2 ID : 489564488

Option 3 ID : 489564487

Option 4 ID : 489564485

Status : Answered

Chosen Option : 4

Q.3 खालीलपैकी कोणती नदी ही महानदीची उपनदी आहे जी महाराष्ट्र राज्याशी संबंधित आहे?

Ans 1. हसदेव (Hasdeo)

2. ओंग (Ong)

3. शिवनाथ (Seonath)

4. पूर्णा (Purna)

Question Type : MCQ

Question ID : 489564140

Option 1 ID : 489564547

Option 2 ID : 489564548

Option 3 ID : 489564545

Option 4 ID : 489564546

Status : Answered

Chosen Option : 4

Q.4 खालीलपैकी कोणत्या राज्यात सरहूल उत्सव साजरा केला जातो?

Ans 1. झारखंड

2. पंजाब

3. अरुणाचल प्रदेश

4. तामिळनाडू

Question Type : MCQ

Question ID : 489564110

Option 1 ID : 489564426

Option 2 ID : 489564428

Option 3 ID : 489564427

Option 4 ID : 489564425

Status : Answered

Chosen Option : 2

Q.5 खालीलपैकी कोणत्या देशाच्या राज्यघटनेतून, भारतीय राज्यघटनेने अर्ध-संघीय सरकारची कल्पना (एक मजबूत केंद्र सरकार असलेली संघराज्य व्यवस्था) घेतली आहे?

- Ans
- 1. ब्रिटन
 - 2. कॅनडा
 - 3. फ्रांस
 - 4. यू. एस. ए (USA)

Question Type : MCQ

Question ID : 489564122

Option 1 ID : 489564473

Option 2 ID : 489564475

Option 3 ID : 489564476

Option 4 ID : 489564474

Status : Answered

Chosen Option : 4

Q.6 गुरु वेम्पती चिन्ना सत्यम हे खालीलपैकी कोणत्या क्षेत्रातील एक प्रसिद्ध नाव आहे?

- Ans
- 1. कथकली
 - 2. भरतनाट्यम
 - 3. कथक
 - 4. कूचिपूडि

Question Type : MCQ

Question ID : 489564108

Option 1 ID : 489564420

Option 2 ID : 489564417

Option 3 ID : 489564419

Option 4 ID : 489564418

Status : Not Answered

Chosen Option : --

Q.7 भारतीय राज्यघटनेचा खालीलपैकी कोणता अनुच्छेद अल्पसंख्याकांना शैक्षणिक संस्था स्थापन करण्याचा आणि चालवण्याचा अधिकार देतो?

- Ans
- 1. अनुच्छेद 24
 - 2. अनुच्छेद 26
 - 3. अनुच्छेद 28
 - 4. अनुच्छेद 30

Question Type : MCQ

Question ID : 489564121

Option 1 ID : 489564469

Option 2 ID : 489564470

Option 3 ID : 489564471

Option 4 ID : 489564472

Status : Answered

Chosen Option : 1

Q.8 महाराष्ट्राच्या 2019-20 च्या अंदाजपत्रकानुसार, किचन गार्डन योजना (Kitchen Garden Scheme) ही महाराष्ट्रातील _____ आदिवासी जिल्हांमध्ये राबविण्यात येत आहे.

- Ans
- 1. 10
 - 2. 12
 - 3. 14
 - 4. 20

Question Type : MCQ
Question ID : 489564138
Option 1 ID : 489564537
Option 2 ID : 489564538
Option 3 ID : 489564539
Option 4 ID : 489564540
Status : Not Answered
Chosen Option : --

Q.9 प्रशासनात सक्रिय भूमिका बजावणारी नूर जहाँ, _____ ची पत्नी होती.

- Ans
- 1. जहांगीर
 - 2. शहा जहाँ
 - 3. औरंगजेब
 - 4. बहादूर शाह

Question Type : MCQ
Question ID : 489564124
Option 1 ID : 489564481
Option 2 ID : 489564482
Option 3 ID : 489564483
Option 4 ID : 489564484
Status : Answered
Chosen Option : 2

Q.10 बँकिंगमध्ये IFSC चे पूर्ण- रूप काय आहे?

- Ans
- 1. इंटरनेशनल फाइनेंशल सिस्टमॅटिक सेंटर
 - 2. इंटरनेशनल फिस्कल सेटलमेंट कोड
 - 3. इंडियन फाइनेंशल सिस्टम कोड
 - 4. इंडियन फिस्कल सेटलमेंट सेंटर

Question Type : MCQ
Question ID : 489564113
Option 1 ID : 489564440
Option 2 ID : 489564438
Option 3 ID : 489564437
Option 4 ID : 489564439
Status : Answered
Chosen Option : 1

Q.11 खालीलपैकी कोण महाराष्ट्र राज्याच्या कार्यकारिणीचा भाग नाही?

- Ans
- 1. मंत्रिपरिषद
 - 2. राज्यपाल
 - 3. मुंबई उच्च न्यायालयाचे मुख्य न्यायमूर्ती
 - 4. मुख्यमंत्री

Question Type : MCQ

Question ID : 489564150

Option 1 ID : 489564588

Option 2 ID : 489564585

Option 3 ID : 489564586

Option 4 ID : 489564587

Status : Answered

Chosen Option : 3

Q.12 औद्योगिक उद्योजकांना सिंगल विंडोद्वारे मंजूरी मिळावी यासाठी महाराष्ट्राने यापूर्वीच सिंगल विंडो इन्व्हेस्टर फॅसिलिटेशन सेल (single window investor facilitation cell) _____ स्थापन केला आहे.

- Ans
- 1. सहायता (SAHAYATA)
 - 2. मैत्री (MAITRI)
 - 3. एकल (EKAL)
 - 4. कामगार (KAMGAR)

Question Type : MCQ

Question ID : 489564148

Option 1 ID : 489564579

Option 2 ID : 489564577

Option 3 ID : 489564578

Option 4 ID : 489564580

Status : Answered

Chosen Option : 2

Q.13 दलितांसाठी पंढरपूर येथे _____ चे दरवाजे उघडण्यासाठी साने गुरुजींनी आमरण उपोषण केले होते.

- Ans
- 1. अंबाबाई मंदिर
 - 2. पतित पावन मंदिर
 - 3. बसवना मंदिर
 - 4. विठ्ठल मंदिर

Question Type : MCQ

Question ID : 489564126

Option 1 ID : 489564492

Option 2 ID : 489564489

Option 3 ID : 489564491

Option 4 ID : 489564490

Status : Answered

Chosen Option : 4

Q.14 भारतीय रेल्वेमध्ये ब्रॉडगेजचे गेज काय आहे?

- Ans 1. 1.676 m
 2. 1.432 m
 3. 1.565 m
 4. 1.767 m

Question Type : MCQ
Question ID : 489564117
Option 1 ID : 489564453
Option 2 ID : 489564456
Option 3 ID : 489564455
Option 4 ID : 489564454
Status : Answered
Chosen Option : 1

Q.15 खालीलपैकी कोणाला 'भारतीय चित्रपटांचे जनक' म्हणून ओळखले जाते?

- Ans 1. राजा राम मोहन रॉय
 2. धुंडिराज गोविंद फाळके
 3. सत्यजित रे
 4. रवी शंकर महाराज

Question Type : MCQ
Question ID : 489564133
Option 1 ID : 489564520
Option 2 ID : 489564517
Option 3 ID : 489564519
Option 4 ID : 489564518
Status : Answered
Chosen Option : 2

Q.16 1 जानेवारी 2022 रोजी, खालीलपैकी कोणत्या राज्यात द्विसदनीय विधानमंडळ आहे?

- I. महाराष्ट्र
II. पश्चिम बंगाल

- Ans 1. केवळ II
 2. I आणि II हे दोन्ही
 3. केवळ I
 4. I किंवा II यापैकी कोणतेही नाही

Question Type : MCQ
Question ID : 489564151
Option 1 ID : 489564590
Option 2 ID : 489564591
Option 3 ID : 489564589
Option 4 ID : 489564592
Status : Answered
Chosen Option : 2

Q.17 खालीलपैकी कोणत्या क्रिकेटपटूच्या नावावर कसोटी पदार्पणात शतक झळकावण्याचा विक्रम नोंदवला आहे?

- Ans
- 1. विराट कोहली
 - 2. सचिन तेंडुलकर
 - 3. सौरव गांगुली
 - 4. राहुल द्रविड

Question Type : MCQ
Question ID : 489564123
Option 1 ID : 489564480
Option 2 ID : 489564478
Option 3 ID : 489564479
Option 4 ID : 489564477
Status : Answered
Chosen Option : 1

Q.18 तुघलक घराण्याची सुरुवात कोणत्या वर्षापासून झाली?

- Ans
- 1. 1451
 - 2. 1320
 - 3. 1290
 - 4. 1414

Question Type : MCQ
Question ID : 489564107
Option 1 ID : 489564416
Option 2 ID : 489564415
Option 3 ID : 489564414
Option 4 ID : 489564413
Status : Not Answered
Chosen Option : --

Q.19 भारतात राष्ट्रीय लोकसंख्या धोरण कोणत्या वर्षी तयार करण्यात आले होते?

- Ans
- 1. 1991
 - 2. 1998
 - 3. 1995
 - 4. 2000

Question Type : MCQ
Question ID : 489564116
Option 1 ID : 489564449
Option 2 ID : 489564451
Option 3 ID : 489564450
Option 4 ID : 489564452
Status : Not Answered
Chosen Option : --

Q.20 भारत सरकारने मुद्रा (MUDRA) बँकेची स्थापना कोणत्या वर्षी केली होती?

- Ans
- 1. 2014
 - 2. 2015
 - 3. 2017
 - 4. 2016

Question Type : MCQ
Question ID : 489564112
Option 1 ID : 489564433
Option 2 ID : 489564434
Option 3 ID : 489564436
Option 4 ID : 489564435
Status : Not Answered
Chosen Option : --

Q.21 महाराष्ट्रात 2019-20 मध्ये, खालीलपैकी कोणत्या वन उत्पादना (forest produce) चे मूल्य सर्वाधिक आहे?

- Ans
- 1. तेंदू पाने (Tendu Leaves)
 - 2. बांबू (Bamboo)
 - 3. जळाऊ लाकूड (Firewood)
 - 4. इमारतीलाकूड (Timber)

Question Type : MCQ
Question ID : 489564147
Option 1 ID : 489564574
Option 2 ID : 489564573
Option 3 ID : 489564575
Option 4 ID : 489564576
Status : Answered
Chosen Option : 2

Q.22 खालीलपैकी कोणते विधान योग्य आहे?

- I. वारली जमाती महाराष्ट्रातील ठाणे, नाशिक आणि धुळे या जिल्ह्यात पसरलेल्या आहेत.
- II. वारली हे निसर्ग उपासक आहेत आणि त्यांना वन्यजीवांबद्दल खूप आदर आहे.

- Ans
- 1. केवळ II
 - 2. I किंवा II यापैकी कोणतेही नाही
 - 3. केवळ I
 - 4. I आणि II हे दोन्ही

Question Type : MCQ
Question ID : 489564145
Option 1 ID : 489564566
Option 2 ID : 489564568
Option 3 ID : 489564565
Option 4 ID : 489564567
Status : Answered
Chosen Option : 4

Q.23 भारत हा जगातील _____ गूळ उत्पादक देश आहे.

- Ans 1. चौथा सर्वात मोठा
 2. सर्वात मोठा
 3. दुसरा सर्वात मोठा
 4. तिसरा सर्वात मोठा

Question Type : MCQ

Question ID : 489564118

Option 1 ID : 489564460

Option 2 ID : 489564457

Option 3 ID : 489564458

Option 4 ID : 489564459

Status : Answered

Chosen Option : 3

Q.24 बाबुराव रामाजी बागुल यांना भारत सरकारने 1970 मध्ये 'हरिनारायण आपटे पुरस्कार' प्रदान केला होता. ते महाराष्ट्रातील _____ जिल्ह्यातील आहेत.

- Ans 1. बीड
 2. रत्नागिरी
 3. लातूर
 4. नाशिक

Question Type : MCQ

Question ID : 489564129

Option 1 ID : 489564504

Option 2 ID : 489564502

Option 3 ID : 489564503

Option 4 ID : 489564501

Status : Not Answered

Chosen Option : --

Q.25 महाराष्ट्राच्या कोणत्या विभागात कमीत कमी खनिज धारण क्षेत्र (mineral bearing area) आढळतात?

- Ans 1. पुणे
 2. औरंगाबाद
 3. नागपूर
 4. नाशिक

Question Type : MCQ

Question ID : 489564141

Option 1 ID : 489564552

Option 2 ID : 489564551

Option 3 ID : 489564550

Option 4 ID : 489564549

Status : Answered

Chosen Option : 2

Q.26 पदाधिकारी - शहरी संस्था यांची खालीलपैकी कोणती जोडी योग्य आहे?

I. महापौर - महानगर पालिका

II. उपमहापौर - नगरपरिषद

- Ans
- 1. I किंवा II यापैकी कोणतेही नाही
 - 2. केवळ II
 - 3. I आणि II हे दोन्ही
 - 4. केवळ I

Question Type : MCQ

Question ID : 489564153

Option 1 ID : 489564600

Option 2 ID : 489564598

Option 3 ID : 489564599

Option 4 ID : 489564597

Status : Answered

Chosen Option : 4

Q.27 महाराष्ट्राच्या 2020-21 च्या आर्थिक सर्वेक्षणानुसार, राज्याच्या एकूण भौगोलिक क्षेत्राच्या _____ टक्के हे एकूण संभाव्य खनिज क्षेत्र म्हणून ओळखले जाते.

- Ans
- 1. 19
 - 2. 32
 - 3. 26
 - 4. 28

Question Type : MCQ

Question ID : 489564136

Option 1 ID : 489564532

Option 2 ID : 489564529

Option 3 ID : 489564531

Option 4 ID : 489564530

Status : Answered

Chosen Option : 1

Q.28 महाराष्ट्राच्या नागपूर विभागात _____ जिल्ह्यांचा समावेश आहे.

- Ans
- 1. 6
 - 2. 8
 - 3. 7
 - 4. 4

Question Type : MCQ

Question ID : 489564139

Option 1 ID : 489564542

Option 2 ID : 489564544

Option 3 ID : 489564543

Option 4 ID : 489564541

Status : Answered

Chosen Option : 1

Q.29 प्रथम महाराष्ट्र भूषण पुरस्कार प्राप्तकर्ता खालीलपैकी कोण आहे?

- Ans 1. बाबा आमटे
 2. पी.एल. देशपांडे
 3. आर.के. पाटील
 4. विजय भाटकर

Question Type : MCQ

Question ID : 489564134

Option 1 ID : 489564523

Option 2 ID : 489564521

Option 3 ID : 489564524

Option 4 ID : 489564522

Status : Answered

Chosen Option : 2

Q.30 गांधारपाले लेणी (Gandharpale caves) महाराष्ट्रातील _____ जिल्ह्यात स्थित आहे.

- Ans 1. पालघर
 2. रायगड
 3. रत्नागिरी
 4. ठाणे

Question Type : MCQ

Question ID : 489564128

Option 1 ID : 489564498

Option 2 ID : 489564500

Option 3 ID : 489564499

Option 4 ID : 489564497

Status : Answered

Chosen Option : 4

Q.31 कंदुकुरी वीरेसालिंगम पंतुलु (Kandukuri Veerasalingam Pantulu) हे सध्याच्या _____ या प्रदेशांमध्ये विधवा-पुनर्विवाहासाठी केलेल्या त्यांच्या प्रयत्नांसाठी ओळखले जातात.

- Ans 1. आंध्र प्रदेश
 2. महाराष्ट्र
 3. गुजरात
 4. केरळ

Question Type : MCQ

Question ID : 489564104

Option 1 ID : 489564403

Option 2 ID : 489564402

Option 3 ID : 489564404

Option 4 ID : 489564401

Status : Not Answered

Chosen Option : --

Q.32 महाराष्ट्रातील पन्हाळे काजी लेणी (Panhale Kaji Cave) _____ नदीच्या काठावर वसलेली आहे.

- Ans 1. कोटजल
 2. सावित्री
 3. वाशिष्ठी
 4. जैतापूर

Question Type : MCQ
Question ID : 489564142
Option 1 ID : 489564555
Option 2 ID : 489564556
Option 3 ID : 489564554
Option 4 ID : 489564553
Status : Not Answered
Chosen Option : --

Q.33 भारतातील खालीलपैकी कोणत्या शास्त्रीय नृत्याचा उगम आसाममधून झाला आहे?

- Ans 1. भरतनाट्यम
 2. मोहिनीअट्टम
 3. सत्रीया
 4. कथक

Question Type : MCQ
Question ID : 489564109
Option 1 ID : 489564424
Option 2 ID : 489564421
Option 3 ID : 489564422
Option 4 ID : 489564423
Status : Answered
Chosen Option : 3

Q.34 खालीलपैकी कोणाला 'सुसाईड बॅग' म्हणून देखील ओळखल्या जातात?

- Ans 1. ईडोप्लास्मिक रेटिक्युलम
 2. लाइसोसोम्स
 3. माइटोकॉन्ड्रिया
 4. सायटोस्टोम

Question Type : MCQ
Question ID : 489564119
Option 1 ID : 489564464
Option 2 ID : 489564462
Option 3 ID : 489564463
Option 4 ID : 489564461
Status : Answered
Chosen Option : 2

Q.35 भारताच्या 2011 च्या जनगणनेनुसार, महाराष्ट्रातील कोणत्या जिल्ह्यात सर्वात कमी स्त्री-पुरुष प्रमाण आहे?

- Ans 1. मुंबई
 2. कोल्हापूर
 3. जालना
 4. सातारा

Question Type : MCQ
Question ID : 489564146
Option 1 ID : 489564570
Option 2 ID : 489564572
Option 3 ID : 489564569
Option 4 ID : 489564571
Status : Answered
Chosen Option : 1

Q.36 महाराष्ट्राच्या विधानमंडळासाठी, खालीलपैकी कोणती जोडी योग्यरीत्या जुळते?

- I. विधान सभा - विधान परिषद (लेजिस्लेटिव काउन्सिल)
II. विधान परिषद - विधान सभा (लेजिस्लेटिव असेम्ब्ली)

- Ans 1. I किंवा II यापैकी कोणतेही नाही
 2. केवळ II
 3. I आणि II हे दोन्ही
 4. केवळ I

Question Type : MCQ
Question ID : 489564152
Option 1 ID : 489564596
Option 2 ID : 489564594
Option 3 ID : 489564595
Option 4 ID : 489564593
Status : Answered
Chosen Option : 1

Q.37 ऑगस्ट 2021 मध्ये, भारत सरकारच्या कोणत्या मंत्रालयाने "समृद्ध" ("SAMRIDH") योजना सुरू केली?

- Ans 1. इलेक्ट्रॉनिक्स आणि माहिती तंत्रज्ञान मंत्रालय (Ministry of Electronics and Information and Technology)
 2. शिक्षण मंत्रालय (Ministry of Education)
 3. खाण मंत्रालय (Ministry of Mines)
 4. रस्तेवाहतूक आणि महामार्ग मंत्रालय (Ministry of Road Transport and Highways)

Question Type : MCQ
Question ID : 489564130
Option 1 ID : 489564505
Option 2 ID : 489564506
Option 3 ID : 489564507
Option 4 ID : 489564508
Status : Answered
Chosen Option : 4

Q.38 पशुगणना 2019 नुसार, एकूण _____ कोटी पशुधनासह महाराष्ट्र अखिल-भारतीय स्तरावर सातव्या क्रमांकावर आहे.

- Ans 1. 4.58
 2. 3.31
 3. 2.19
 4. 5.22

Question Type : MCQ
Question ID : 489564149
Option 1 ID : 489564583
Option 2 ID : 489564582
Option 3 ID : 489564584
Option 4 ID : 489564581
Status : Answered
Chosen Option : 1

Q.39 खालीलपैकी कोणत्या वर्षाने पंच-वार्षिक योजनेचा भाग होण्याऐवजी सर्वात पहिल्या वार्षिक योजनेची अंमलबजावणी केली?

- Ans 1. 1966
 2. 1961
 3. 1971
 4. 1955

Question Type : MCQ
Question ID : 489564114
Option 1 ID : 489564441
Option 2 ID : 489564444
Option 3 ID : 489564442
Option 4 ID : 489564443
Status : Answered
Chosen Option : 1

Q.40 'बॉम्बे मिल हँड्स असोसिएशन' (Bombay Mill Hands Association) ची स्थापना _____ यांनी 1890 मध्ये केली.

- Ans 1. व्ही.डी. सावरकर
 2. नारायण मेघाजी लोखंडे
 3. प्रोफेसर. एन.जी. रंगनाथ
 4. साने गुरुजी

Question Type : MCQ
Question ID : 489564127
Option 1 ID : 489564494
Option 2 ID : 489564496
Option 3 ID : 489564493
Option 4 ID : 489564495
Status : Answered
Chosen Option : 2

Q.41 भारताच्या 2011 च्या जनगणनेनुसार, महाराष्ट्रातील नाशिक विभागातील कोणत्या जिल्ह्यात आदिवासी लोकसंख्येची टक्केवारी सर्वाधिक आहे?

- Ans 1. नंदुरबार
 2. अहमदनगर
 3. नाशिक
 4. जळगाव

Question Type : MCQ

Question ID : 489564143

Option 1 ID : 489564557

Option 2 ID : 489564559

Option 3 ID : 489564560

Option 4 ID : 489564558

Status : Answered

Chosen Option : 1

Q.42 'हॉर्नबिल महोत्सव' (Hornbill Festival) कोणत्या राज्यात आयोजित केला जातो?

- Ans 1. मणिपूर
 2. नागालँड
 3. त्रिपुरा
 4. आसाम

Question Type : MCQ

Question ID : 489564111

Option 1 ID : 489564430

Option 2 ID : 489564431

Option 3 ID : 489564432

Option 4 ID : 489564429

Status : Answered

Chosen Option : 1

Q.43 ब्रह्मपुत्रा ही भारतात खालीलपैकी कुठल्या प्रदेशातून प्रवेश करते?

- Ans 1. अरुणाचल प्रदेश
 2. सिक्कीम
 3. लदाख
 4. मिझोरम

Question Type : MCQ

Question ID : 489564115

Option 1 ID : 489564446

Option 2 ID : 489564448

Option 3 ID : 489564445

Option 4 ID : 489564447

Status : Answered

Chosen Option : 1

Q.44 खालीलपैकी कोणते विधान योग्य आहे?

- I. बायसन हॉर्न मारिया (Bison Horn Maria) या जमाती छत्तीसगड, महाराष्ट्र आणि मध्य प्रदेशातील बस्तर या प्रदेशात स्थित आहेत.
II. बायसन हॉर्न मारिया (Bison Horn Maria) जमाती विविध देवतांची पूजा करतात.

- Ans 1. केवळ I
 2. केवळ II
 3. I आणि II हे दोन्ही
 4. I किंवा II यापैकी कोणतेही नाही

Question Type : MCQ
Question ID : 489564144
Option 1 ID : 489564561
Option 2 ID : 489564562
Option 3 ID : 489564563
Option 4 ID : 489564564
Status : Not Answered
Chosen Option : --

Q.45 खालीलपैकी कोणी अकबरनामा लिहिला होता?

- Ans 1. अबुल फजल
 2. बैरम खान
 3. तोडर मल
 4. फैझी

Question Type : MCQ
Question ID : 489564106
Option 1 ID : 489564410
Option 2 ID : 489564412
Option 3 ID : 489564409
Option 4 ID : 489564411
Status : Answered
Chosen Option : 1

Q.46 "राऊ" (Rau) या मराठी कादंबरीचे लेखक कोण आहेत?

- Ans 1. बाबासाहेब पुरंदरे
 2. एन.एस. ईनामदार
 3. पी.के. अत्रे
 4. बहिणाबाई चौधरी

Question Type : MCQ
Question ID : 489564132
Option 1 ID : 489564515
Option 2 ID : 489564513
Option 3 ID : 489564516
Option 4 ID : 489564514
Status : Not Answered
Chosen Option : --

Q.47 महाराष्ट्र मानव विकास अहवाल (Maharashtra Human Development Report), 2012 नुसार महाराष्ट्राचा एच डी आय (HDI) _____ आहे.

- Ans
- 1. 0.982
 - 2. 0.342
 - 3. 0.752
 - 4. 0.123

Question Type : MCQ
Question ID : 489564137
Option 1 ID : 489564536
Option 2 ID : 489564534
Option 3 ID : 489564533
Option 4 ID : 489564535
Status : Not Answered
Chosen Option : --

Q.48 'स्टॅफिलोकोकस' (Staphylococcus) बॅक्टेरिया मुळे _____ होऊ शकतात.

- Ans
- 1. पेटिक अल्सर
 - 2. मलेरिया
 - 3. क्षयरोग (tuberculosis)
 - 4. मुरुम (acne)

Question Type : MCQ
Question ID : 489564120
Option 1 ID : 489564465
Option 2 ID : 489564466
Option 3 ID : 489564468
Option 4 ID : 489564467
Status : Answered
Chosen Option : 2

Q.49 भगतसिंग, आझाद आणि राजगुरू यांनी साँडर्सची हत्या केव्हा केली होती?

- Ans
- 1. 17 डिसेंबर, 1928
 - 2. 17 डिसेंबर, 1929
 - 3. 10 डिसेंबर, 1928
 - 4. 10 डिसेंबर, 1929

Question Type : MCQ
Question ID : 489564105
Option 1 ID : 489564405
Option 2 ID : 489564406
Option 3 ID : 489564407
Option 4 ID : 489564408
Status : Answered
Chosen Option : 2

Q.50 "बटाट्याची चाळ" या मराठी पुस्तकाचे लेखक खालीलपैकी कोण आहेत?

- Ans
- 1. श्रीमान योगी
 - 2. विश्वास पाटील
 - 3. सुहास शिरवळकर
 - 4. पी.एल. देशपांडे

Question Type : MCQ

Question ID : 489564131

Option 1 ID : 489564509

Option 2 ID : 489564511

Option 3 ID : 489564512

Option 4 ID : 489564510

Status : Answered

Chosen Option : 4

Section : General Intelligence

Q.1 खालील संख्यांच्या मालिकेत प्रश्नचिन्हाच्या (?) जागी काय आले पाहिजे?

13, 91, 546, 2730, 10920, ?, 65520

- Ans
- 1. 40280
 - 2. 28820
 - 3. 32760
 - 4. 36210

Question Type : MCQ

Question ID : 489564192

Option 1 ID : 489564753

Option 2 ID : 489564755

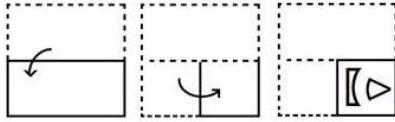
Option 3 ID : 489564756

Option 4 ID : 489564754

Status : Not Answered

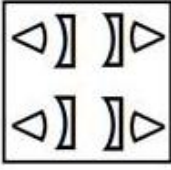
Chosen Option : --

Q.2 एका कागदाची घडी घातली आणि खाली दर्शविल्याप्रमाणे तो कापला. तो उघडल्यानंतर कसा दिसेल?

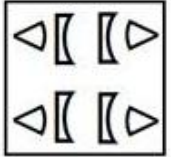


Ans

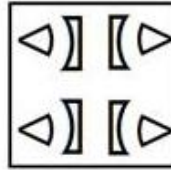
✗ 1.



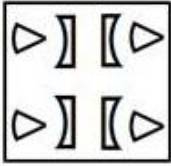
✗ 2.



✓ 3.



✗ 4.



Question Type : MCQ

Question ID : 489564189

Option 1 ID : 489564741

Option 2 ID : 489564744

Option 3 ID : 489564742

Option 4 ID : 489564743

Status : Answered

Chosen Option : 3

Q.3 दिलेल्या प्रश्नात, विविध घटकांतील संबंध विधानांत दर्शवले आहेत. विधानांनंतर दोन निष्कर्ष दिले आहेत. कोणता निष्कर्ष निश्चितपणे सत्य आहे ते शोधा.

विधाने:

$$E \geq F > G; G = H \geq I; G > J$$

निष्कर्ष:

I. $E > I$

II. $F > J$

Ans

- ✗ 1. केवळ निष्कर्ष II सत्य आहे
- ✗ 2. केवळ निष्कर्ष I सत्य आहे
- ✓ 3. दोन्ही निष्कर्ष I आणि II दोन्ही सत्य आहेत
- ✗ 4. निष्कर्ष I किंवा II यापैकी कोणताही सत्य नाही

Question Type : MCQ

Question ID : 489564166

Option 1 ID : 489564650

Option 2 ID : 489564649

Option 3 ID : 489564651

Option 4 ID : 489564652

Status : Answered

Chosen Option : 3

Q.4 सहा व्यक्ती, K, L, M, N, O आणि P हे वर्तुळाकार टेबलाभोवती बसले आहेत. N हा K आणि L या दोघांचा लगतचा शेजारी आहे. M हा N च्या विरुद्ध बसला आहे. जर K आणि O हे एकमेकांच्या लगत नसतील, तर M च्या लगतच उजवीकडे कोण बसले आहे?

Ans

- ✗ 1. N
- ✗ 2. K
- ✗ 3. L
- ✓ 4. एकतर O किंवा P

Question Type : MCQ

Question ID : 489564155

Option 1 ID : 489564606

Option 2 ID : 489564605

Option 3 ID : 489564608

Option 4 ID : 489564607

Status : Answered

Chosen Option : 4

Q.5 खालील प्रश्नात काही विधाने दिली असून, त्यानंतर काही निष्कर्ष दिले आहेत. तुम्हाला दिलेली विधाने सर्वसामान्यपणे जात तथ्यांपेक्षा वेगळी दिसत असली तरी ती सत्य मानायची आहेत. सर्व निष्कर्ष वाचा आणि सर्वसामान्यपणे जात तथ्यांकडे दुर्लक्ष करून दिलेल्यापैकी कोणते निष्कर्ष दिलेल्या विधानांचे तार्किकदृष्ट्या अनुसरण करतात ते ठरवा.

विधाने:

कोणताही राजा राणी नाही.
सर्व सुंदर राण्या आहेत.

निष्कर्ष:

I. कोणताही राजा सुंदर नाही.
II. काही सुंदर राजे नाहीत.

Ans

- ✗ 1. किंवा II यांपैकी कोणताही अनुसरण करत नाही
- ✗ 2. केवळ I अनुसरण करतो
- ✗ 3. केवळ II अनुसरण करतो
- ✓ 4. दोन्ही I आणि II अनुसरण करतात

Question Type : MCQ

Question ID : 489564163

Option 1 ID : 489564640

Option 2 ID : 489564637

Option 3 ID : 489564638

Option 4 ID : 489564639

Status : Answered

Chosen Option : 1

Q.6 खालील प्रश्नात काही विधाने दिली असून, त्यानंतर काही निष्कर्ष दिले आहेत. तुम्हाला दिलेली विधाने सर्वसामान्यपणे जात तथ्यांपेक्षा वेगळी दिसत असली तरी ती सत्य मानायची आहेत. सर्व निष्कर्ष वाचा आणि सर्वसामान्यपणे जात तथ्यांकडे दुर्लक्ष करून दिलेल्यापैकी कोणते निष्कर्ष दिलेल्या विधानांचे तार्किकदृष्ट्या अनुसरण करतात ते ठरवा.

विधाने:

सर्व हार्ड्टस वेट्स आहेत.
काही हार्ड्टस नॉर्मल आहेत.

निष्कर्ष:

I. काही वेट्स नॉर्मल नाहीत.
II. सर्व वेट्स नॉर्मल आहेत.

Ans

- ✓ 1. एकतर I किंवा II यांपैकी एक अनुसरण करतो
- ✗ 2. किंवा II यांपैकी कोणतेही अनुसरण करत नाही
- ✗ 3. केवळ I अनुसरण करतो
- ✗ 4. केवळ II अनुसरण करतो

Question Type : MCQ

Question ID : 489564164

Option 1 ID : 489564643

Option 2 ID : 489564644

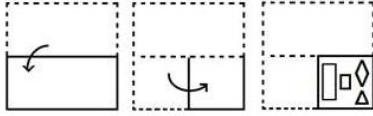
Option 3 ID : 489564641

Option 4 ID : 489564642

Status : Answered

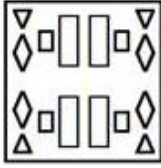
Chosen Option : 3

Q.7 एका कागदाची घडी घातली आणि खाली दर्शविल्याप्रमाणे तो कापला. तो उघडल्यानंतर कसा दिसेल?

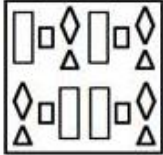


Ans

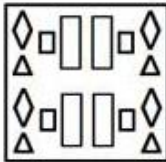
✓ 1.



✗ 2.



✗ 3.



✗ 4.



Question Type : MCQ

Question ID : 489564190

Option 1 ID : 489564745

Option 2 ID : 489564747

Option 3 ID : 489564746

Option 4 ID : 489564748

Status : Answered

Chosen Option : 1

Q.8 खालील प्रश्नात काही विधाने दिली असून, त्यानंतर काही निष्कर्ष दिले आहेत. तुम्हाला दिलेली विधाने सर्वसामान्यपणे जात तथ्यांपेक्षा वेगळी दिसत असली तरी ती सत्य मानायची आहेत. सर्व निष्कर्ष वाचा आणि सर्वसामान्यपणे जात तथ्यांकडे दुर्लक्ष करून दिलेल्यापैकी कोणते निष्कर्ष दिलेल्या विधानांचे तार्किकदृष्ट्या अनुसरण करतात ते ठरवा.

विधाने:

काही फळे फुले आहेत.
सर्व फुले सुगंधी आहेत.

निष्कर्ष:

I. कोणतेही फूल फळ नाही.
II. काही फुले सुगंधी आहेत.

Ans

- ✓ 1. केवळ II अनुसरण करतो
- ✗ 2. एकतर I किंवा II यांपैकी एक अनुसरण करतो
- ✗ 3. केवळ I अनुसरण करतो
- ✗ 4. दोन्ही I आणि II अनुसरण करतात

Question Type : MCQ

Question ID : 489564162

Option 1 ID : 489564633

Option 2 ID : 489564636

Option 3 ID : 489564634

Option 4 ID : 489564635

Status : Answered

Chosen Option : 1

Q.9 दिलेल्या प्रश्नात, विविध घटकांतील संबंध विधानांत दर्शवले आहेत. विधानांनंतर दोन निष्कर्ष दिले आहेत. कोणता निष्कर्ष निश्चितपणे सत्य आहे ते शोधा.

विधाने:

$K \leq L$; $L \leq M = N$; $N = O$

निष्कर्ष:

I. $K < O$
II. $K = O$

Ans

- ✗ 1. केवळ निष्कर्ष II सत्य आहे
- ✗ 2. केवळ निष्कर्ष I सत्य आहे
- ✓ 3. एकतर निष्कर्ष I किंवा II यांपैकी एक सत्य आहे
- ✗ 4. निष्कर्ष I किंवा II यांपैकी कोणताही सत्य नाही

Question Type : MCQ

Question ID : 489564167

Option 1 ID : 489564654

Option 2 ID : 489564653

Option 3 ID : 489564655

Option 4 ID : 489564656

Status : Answered

Chosen Option : 3

Q.10 P, Q, R, S आणि T या पाच व्यक्तित्पैकी असे कळले की; Q हा किमान दोन व्यक्तीपेक्षा उंच आहे. T हा P पेक्षा उंच आहे, जो बरोबर 1 व्यक्तीपेक्षा उंच आहे. Q हा R पेक्षा बुटका नाही. R हा T पेक्षा उंच आहे. या सर्वांमध्ये तिसऱ्या क्रमांकाचा सर्वात उंच कोण आहे?

- Ans
- 1. P
 - 2. T
 - 3. R
 - 4. Q

Question Type : MCQ

Question ID : 489564170

Option 1 ID : 489564666

Option 2 ID : 489564665

Option 3 ID : 489564668

Option 4 ID : 489564667

Status : Answered

Chosen Option : 3

Q.11 ज्याप्रमाणे दुसरी संख्या ही पहिल्या संख्येशी संबंधित आहे, त्याप्रमाणे तिसऱ्या संख्येशी संबंधित असणारा पर्याय निवडा.

283 : 26 :: 124 : ?

- Ans
- 1. 22
 - 2. 14
 - 3. 15
 - 4. 18

Question Type : MCQ

Question ID : 489564198

Option 1 ID : 489564779

Option 2 ID : 489564777

Option 3 ID : 489564780

Option 4 ID : 489564778

Status : Not Answered

Chosen Option : --

Q.12 नऊ व्यक्ती A, B, C, D, E, F, G, H, आणि I हे एका ओळीत दक्षिणेकडे तोंड करून बसले आहेत. E मध्यभागी बसला आहे. E आणि G यांच्या दरम्यान तीन व्यक्ती बसल्या आहेत. G आणि B यांच्या दरम्यान सहा व्यक्ती बसल्या आहेत. B आणि A यांच्या दरम्यान तीन व्यक्ती बसल्या आहेत. A च्या उजवीकडे दुसऱ्या स्थानी F बसला आहे. F च्या डावीकडे चौथ्या स्थानी I बसला आहे. I आणि E हे एकमेकांचे लगतचे शेजारी नाहीत. B आणि C हे शेजारी नाहीत. D च्या उजवीकडे H बसला आहे. यापैकी किती जण H आणि A यांच्या दरम्यान बसले आहेत?

- Ans
- 1. पाच
 - 2. चार
 - 3. तीन
 - 4. सात

Question Type : MCQ

Question ID : 489564156

Option 1 ID : 489564609

Option 2 ID : 489564611

Option 3 ID : 489564610

Option 4 ID : 489564612

Status : Not Answered

Chosen Option : --

Q.13 दिलेल्या मालिकेतील कोणती संख्या चुकीची आहे?

10, 12, 14, 19, 26, 35

- Ans
- 1. 12
 - 2. 19
 - 3. 26
 - 4. 14

Question Type : MCQ

Question ID : 489564194

Option 1 ID : 489564764

Option 2 ID : 489564762

Option 3 ID : 489564763

Option 4 ID : 489564761

Status : Answered

Chosen Option : 1

Q.14 काही विद्यार्थ्यांच्या एका ओळीत मधू डाव्या टोकाकडून 15 व्या स्थानी तर सिंधू उजव्या टोकाकडून 17 व्या स्थानी होती, जेव्हा त्या आपापल्या जागांची अदलाबदल करतात, तेव्हा मधू डाव्या टोकाकडून 19 व्या स्थानी होते. सिंधूचे सुरुवातीचे डावीकडूनचे स्थान कोणते होते? (उभ्या असलेल्या लोकांचे तोंड उत्तरेकडे होते, असे गृहीत धरा.)

Ans ✓ 1. 19वे

✗ 2. 17वे

✗ 3. 18वे

✗ 4. 16वे

Question Type : MCQ

Question ID : 489564159

Option 1 ID : 489564624

Option 2 ID : 489564622

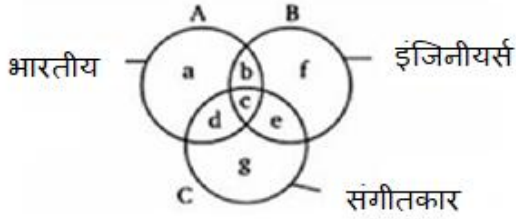
Option 3 ID : 489564623

Option 4 ID : 489564621

Status : Answered

Chosen Option : 1

Q.15 विधानाचे अचूकपणे प्रतिनिधीत्व करणारे क्षेत्रातील अक्षर निवडा.



भारतीय जे संगीतकार आहेत मात्र इंजिनियर्स नाहीत.

Ans ✗ 1. g

✗ 2. b

✓ 3. d

✗ 4. c

Question Type : MCQ

Question ID : 489564165

Option 1 ID : 489564648

Option 2 ID : 489564645

Option 3 ID : 489564647

Option 4 ID : 489564646

Status : Answered

Chosen Option : 3

Q.16 खालीलपैकी कोणता पर्याय दिलेली मालिका पूर्ण करेल?

_ B _ _ A _ A B _ _ A A

- Ans
- 1. ABBAAB
 - 2. AABAAB
 - 3. AAAAAAB
 - 4. AAABBA

Question Type : MCQ

Question ID : 489564171

Option 1 ID : 489564669

Option 2 ID : 489564671

Option 3 ID : 489564670

Option 4 ID : 489564672

Status : Answered

Chosen Option : 2

Q.17 ज्याप्रमाणे खालील संचातील संख्या संबंधित आहेत, त्याप्रमाणे संख्या संबंधित नसलेला संच निवडा.

(261, 54, 153)

- Ans
- 1. (64, 11, 46)
 - 2. (94, 13, 68)
 - 3. (73, 6, 61)
 - 4. (125, 24, 77)

Question Type : MCQ

Question ID : 489564199

Option 1 ID : 489564781

Option 2 ID : 489564782

Option 3 ID : 489564784

Option 4 ID : 489564783

Status : Not Answered

Chosen Option : --

Q.18 दिलेल्या पर्यायांतून संबंधित अक्षरे निवडा:

EARTH : FZSSI : : GLOBE : ?

- Ans
- 1. FKAPF
 - 2. HMPCD
 - 3. FMNCD
 - 4. HKPAF

Question Type : MCQ

Question ID : 489564173

Option 1 ID : 489564677

Option 2 ID : 489564680

Option 3 ID : 489564678

Option 4 ID : 489564679

Status : Answered

Chosen Option : 2

Q.19 एका वर्गात A, B, C, D, E हे पाच मित्र आहेत. त्यांच्यापैकी, B ला D पेक्षा अधिक मात्र C पेक्षा कमी गुण मिळाले. C ला सर्वाधिक गुण मिळाले नाहीत. E ला D पेक्षा अधिक गुण मिळाले. तिसऱ्या क्रमांकाचे सर्वाधिक गुण कोणाला मिळाले?

- Ans
- 1. B
 - 2. C
 - 3. ठरवता येणार नाही
 - 4. D

Question Type : MCQ

Question ID : 489564169

Option 1 ID : 489564662

Option 2 ID : 489564663

Option 3 ID : 489564664

Option 4 ID : 489564661

Status : Answered

Chosen Option : 3

Q.20 सहा व्यक्ती - G, H, I, J, K आणि L- हे एका वर्तुळाकार टेबलाभोवती केंद्राकडे तोंड करून बसले आहेत. (सारख्याच क्रमाने असणे गरजेचे नाही.) । हा J च्या लगतच उजवीकडे बसलेल्या H च्या विरुद्ध बसला आहे. । च्या लगतच उजवीकडे बसलेल्या व्यक्तीच्या उजवीकडे तिसऱ्या स्थानी G बसला आहे. खालीलपैकी काय निश्चितपणे सत्य आहे?

Ans

✓ 1. G च्या डावीकडे दुसऱ्या स्थानी J बसला आहे.

✗ 2. L च्या लगतच उजवीकडे । बसला आहे.

✗ 3. G हा K च्या विरुद्ध बसला आहे.

✗ 4. । आणि H हे शेजारी आहेत.

Question Type : MCQ

Question ID : 489564157

Option 1 ID : 489564616

Option 2 ID : 489564613

Option 3 ID : 489564614

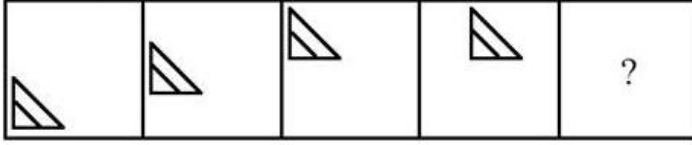
Option 4 ID : 489564615

Status : Not Answered

Chosen Option : --

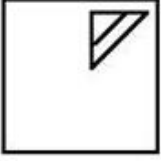
Q.21 खालील आकृतींच्या मालिकेत प्रश्नचिन्हाच्या (?) जागी येणारी आकृती निवडा.

प्रश्न आकृती:

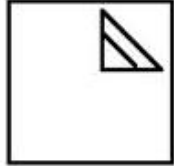


Ans

✗ 1.



✓ 2.



✗ 3.



✗ 4.



Question Type : MCQ

Question ID : 489564186

Option 1 ID : 489564729

Option 2 ID : 489564730

Option 3 ID : 489564732

Option 4 ID : 489564731

Status : Answered

Chosen Option : 4

Q.22 खालीलपैकी कोणता पर्याय '?' च्या जागी येईल?

8	9	42
12	5	30
7	?	35

- Ans
- 1. 7
 - 2. 9
 - 3. 5
 - 4. 4

Question Type : MCQ
 Question ID : 489564197
 Option 1 ID : 489564775
 Option 2 ID : 489564776
 Option 3 ID : 489564774
 Option 4 ID : 489564773
 Status : Not Answered
 Chosen Option : --

Q.23 पहिले पद ज्या पद्धतीने दुसऱ्या पदाशी संबंधित आहे, त्याच पद्धतीने चौथ्या पदाशी संबंधित असलेला पर्याय निवडा.

SGFPITZWER : RGWPTIZFES : : ? : BNQALUCHEJ

- Ans
- 1. JEHCUAQNB
 - 2. JNHCULAQEB
 - 3. JNHALUCQEB
 - 4. JNHAULCQEB

Question Type : MCQ
 Question ID : 489564174
 Option 1 ID : 489564681
 Option 2 ID : 489564682
 Option 3 ID : 489564683
 Option 4 ID : 489564684
 Status : Answered
 Chosen Option : 4

Q.24 खालील माहिती काळजीपूर्वक वाचा आणि त्यानुसार प्रश्नांची उत्तरे द्या.

I > B L N 4 ! F - O # 8 E % D < M 3 & C Y / R G + S @ 9 H 8

जर बरील अनुक्रमातील पहिले चौदा घटक उलट क्रमाने लिहिले तर, खालीलपैकी कोणते उजव्या टोकाकडून एकोणीसाव्या स्थानी येईल?

- Ans
- 1. I
 - 2. >
 - 3. B
 - 4. L

Question Type : MCQ

Question ID : 489564176

Option 1 ID : 489564690

Option 2 ID : 489564692

Option 3 ID : 489564691

Option 4 ID : 489564689

Status : Answered

Chosen Option : 3

Q.25 T < Q आणि S ≥ V हे दोन्हीही निश्चितपणे सत्य होण्यासाठी खाली दिलेल्यात प्रश्नचिन्हाच्या जागी काय आले पाहिजे?

P > Q = R > S ? T ≥ U = V

- Ans
- 1. ≥
 - 2. =
 - 3. ≤
 - 4. एकतर ≥ किंवा =

Question Type : MCQ

Question ID : 489564168

Option 1 ID : 489564658

Option 2 ID : 489564659

Option 3 ID : 489564657

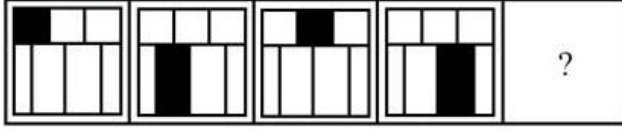
Option 4 ID : 489564660

Status : Answered

Chosen Option : 4

Q.26 खालील आकृतींच्या मालिकेत प्रश्नचिन्हाच्या (?) जागी येणारी आकृती निवडा.

प्रश्न आकृती:



Ans


✗ 1.



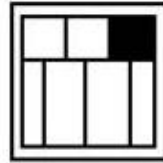
✗ 2.



✗ 3.



✓ 4.



Question Type : MCQ

Question ID : 489564187

Option 1 ID : 489564735

Option 2 ID : 489564734

Option 3 ID : 489564733

Option 4 ID : 489564736

Status : Answered

Chosen Option : 4

Q.27 मालिका पूर्ण करा:

2CA, 3HF, 5MK, 7RP, ?

- Ans
- 1. 11VU
 - 2. 11WU
 - 3. 9VT
 - 4. 11XV

Question Type : MCQ

Question ID : 489564172

Option 1 ID : 489564673

Option 2 ID : 489564674

Option 3 ID : 489564676

Option 4 ID : 489564675

Status : Answered

Chosen Option : 3

Q.28 जर, एका सांकेतिक भाषेत 'CABIN' हे 'BDZBACHJMO' असे लिहिले जात असेल, तर 'FLOWER' साठी सांकेतिक शब्द कोणता आहे?

- Ans
- 1. EGKMNPUXDFQS
 - 2. EGKMNPVXDFQS
 - 3. EGKMNPVYDFQS
 - 4. EGKMNQVXDFQS

Question Type : MCQ

Question ID : 489564181

Option 1 ID : 489564712

Option 2 ID : 489564710

Option 3 ID : 489564711

Option 4 ID : 489564709

Status : Answered

Chosen Option : 2

Q.29 खालील प्रश्नात काही विधाने दिली असून, त्यानंतर काही निष्कर्ष दिले आहेत. तुम्हाला दिलेली विधाने सर्वसामान्यपणे जात तथ्यांपेक्षा वेगळी दिसत असली तरी ती सत्य मानायची आहेत. सर्व निष्कर्ष वाचा आणि सर्वसामान्यपणे जात तथ्यांकडे दुर्लक्ष करून दिलेल्यापैकी कोणते निष्कर्ष दिलेल्या विधानांचे तार्किकदृष्ट्या अनुसरण करतात ते ठरवा.

विधाने:

कोणताही फोटो व्हिडीओ नाही.
काही कॅमेरे व्हिडीओ नाहीत.

निष्कर्ष:

I. कोणताही फोटो कॅमेरा नाही.
II. कोणताही व्हिडीओ फोटो नाही.

Ans

✗ 1. किंवा II यापैकी कोणतेही अनुसरण करत नाही

✗ 2. केवळ I अनुसरण करतो

✓ 3. केवळ II अनुसरण करतो

✗ 4. एकतर I किंवा II यापैकी एक अनुसरण करतो

Question Type : MCQ

Question ID : 489564161

Option 1 ID : 489564632

Option 2 ID : 489564629

Option 3 ID : 489564631

Option 4 ID : 489564630

Status : Answered

Chosen Option : 3

Q.30 जर '+' म्हणजे 'x', '-' म्हणजे '+', 'x' म्हणजे '-' आणि '+' म्हणजे '+' असेल, तर $144 - 6 + 4 \times 86 \div 20$ चे मूल्य किती असेल?

Ans

✓ 1. 30

✗ 2. 10

✗ 3. 20

✗ 4. 40

Question Type : MCQ

Question ID : 489564196

Option 1 ID : 489564771

Option 2 ID : 489564769

Option 3 ID : 489564770

Option 4 ID : 489564772

Status : Answered

Chosen Option : 2

Q.31 एका तीन पिढ्यांच्या कुटुंबात आठ सदस्य L, M, N, O, P, Q, R, आणि S हे असून, त्यातील तीन विवाहित जोडपी आहेत. M हे R चे वडील आहेत. Q ही M ची आई आहे. N ही S ची नणंद/ भावजय/मेहुणी (sister-in-law) आहे. S ही P ची सासू आहे. S चे सासरे असणाऱ्या L चा R हा नातू आहे. R चा O हा मेहुणा (brother-in-law) आहे. N चे L सोबत काय नाते आहे?

Ans 1. भाची/पुतणी (Niece)

2. मुलगी

3. सून

4. नात

Question Type : MCQ

Question ID : 489564185

Option 1 ID : 489564726

Option 2 ID : 489564727

Option 3 ID : 489564725

Option 4 ID : 489564728

Status : Not Answered

Chosen Option : --

Q.32 खालील शब्दांची तर्कपूर्ण आणि अर्थपूर्ण मांडणी करा.

1. World

2. India

3. Agra

4. Asia

5. Taj Mahal

Ans 1. 5, 3, 2, 1, 4

2. 5, 3, 2, 4, 1

3. 5, 3, 4, 2, 1

4. 5, 3, 4, 1, 2

Question Type : MCQ

Question ID : 489564177

Option 1 ID : 489564694

Option 2 ID : 489564696

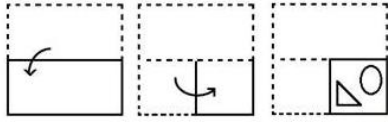
Option 3 ID : 489564693

Option 4 ID : 489564695

Status : Answered

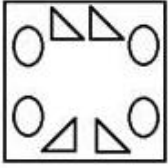
Chosen Option : 2

Q.33 एका कागदाची घडी घातली आणि खाली दर्शविल्याप्रमाणे तो कापला. तो उघडल्यानंतर कसा दिसेल?

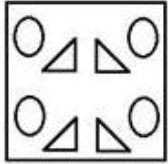


Ans

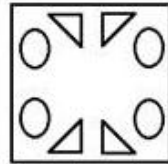
✗ 1.



✗ 2.



✓ 3.



✗ 4.



Question Type : MCQ

Question ID : 489564188

Option 1 ID : 489564740

Option 2 ID : 489564738

Option 3 ID : 489564739

Option 4 ID : 489564737

Status : Answered

Chosen Option : 3

Q.34 दिलेल्या मालिकेतील पुढील पदावली शोधा.

GH, JKL, OPQR, _____

- Ans
- 1. UVWXYZ
 - 2. VXZBDF
 - 3. VXZBD
 - 4. VWXYZ

Question Type : MCQ

Question ID : 489564175

Option 1 ID : 489564685

Option 2 ID : 489564688

Option 3 ID : 489564686

Option 4 ID : 489564687

Status : Answered

Chosen Option : 4

Q.35 खालील संख्यांच्या मालिकेत प्रश्नचिन्हाच्या (?) जागी काय आले पाहिजे?

8, 20, 70, 315, 1732.5, 11261.25, ?

- Ans
- 1. 84459.375
 - 2. 76230.675
 - 3. 64360.875
 - 4. 86460.375

Question Type : MCQ

Question ID : 489564193

Option 1 ID : 489564757

Option 2 ID : 489564759

Option 3 ID : 489564760

Option 4 ID : 489564758

Status : Not Answered

Chosen Option : --

Q.36 बाँबीला नक्की आठवते की त्याने बँकेत 2018 च्या 30 मे च्या आधी मात्र 22 मे च्या नंतर केवायसी (KYC) फॉर्म सादर केला आहे. बँक मॅनेजरला आठवते की बाँबीने सम तारखेला अर्ज दाखल केला आहे. शिपायाला आठवते की राधाने मे मध्ये पण बाँबीच्या नंतर 6 दिवसांनी कागदपत्रे सादर केली आहेत. बाँबीने त्याची कागदपत्रे कधी सादर केली?

- Ans
- 1. 26 मे
 - 2. 24 मे
 - 3. 28 मे
 - 4. 30 मे

Question Type : MCQ

Question ID : 489564158

Option 1 ID : 489564618

Option 2 ID : 489564617

Option 3 ID : 489564619

Option 4 ID : 489564620

Status : Answered

Chosen Option : 2

Q.37 'A@B' म्हणजे 'A ही B ची मुलगी आहे', 'A#B' म्हणजे 'A हा B चा मुलगा आहे', 'A/B' म्हणजे 'A ही B ची पत्नी आहे'. P#Q/S असेल, तर खालीलपैकी काय सत्य आहे?

- Ans
- 1. S ही Q ची पत्नी आहे.
 - 2. S हे P चे वडील आहेत.
 - 3. P ही Q ची मुलगी आहे
 - 4. Q हे P चे वडील आहेत.

Question Type : MCQ

Question ID : 489564184

Option 1 ID : 489564721

Option 2 ID : 489564722

Option 3 ID : 489564723

Option 4 ID : 489564724

Status : Answered

Chosen Option : 4

Q.38 ज्याप्रमाणे खालील संचातील संख्या संबंधित आहेत, त्याचप्रमाणे संख्या संबंधित असणारा संच निवडा.

(19, 27, 23)

- Ans
- ✗ 1. (29, 46, 37)
 - ✗ 2. (45, 25, 18)
 - ✓ 3. (57, 31, 44)
 - ✗ 4. (32, 22, 28)

Question Type : MCQ

Question ID : 489564200

Option 1 ID : 489564787

Option 2 ID : 489564785

Option 3 ID : 489564786

Option 4 ID : 489564788

Status : Answered

Chosen Option : 4

Q.39 सहा व्यक्ती विनय, विजय, वरुण, वर्षा, विनोद आणि वर्तिका एका ओळीत बसले आहेत, मात्र, त्याच क्रमाने असणे आवश्यक नाही. ते उत्तरेकडे तोंड करून बसले आहेत. विजय हा वर्तिकापासून तीन स्थान सोडून बसलेल्या वर्षाच्या उजवीकडे दुसऱ्या स्थानी बसला होता. विजयचा शेजारी नसलेल्या वरुणच्या उजवीकडे दुसऱ्या स्थानी विनय बसला होता. विनोदच्या लगतच उजवीकडे कोण बसले होते?

- Ans
- ✗ 1. वर्षा
 - ✗ 2. विजय
 - ✓ 3. वर्तिका
 - ✗ 4. वरुण

Question Type : MCQ

Question ID : 489564154

Option 1 ID : 489564601

Option 2 ID : 489564604

Option 3 ID : 489564602

Option 4 ID : 489564603

Status : Not Answered

Chosen Option : --

Q.40 दिलेल्या मालिकेतील कोणती संख्या चुकीची आहे?

2, 7, 22, 67, 204, 607

- Ans
- 1. 22
 - 2. 204
 - 3. 67
 - 4. 607

Question Type : MCQ

Question ID : 489564195

Option 1 ID : 489564768

Option 2 ID : 489564766

Option 3 ID : 489564765

Option 4 ID : 489564767

Status : Answered

Chosen Option : 3

Q.41 दिलेल्या आकृतीत किती त्रिकोण आहेत?



- Ans
- 1. 7
 - 2. 10
 - 3. 9
 - 4. 8

Question Type : MCQ

Question ID : 489564191

Option 1 ID : 489564749

Option 2 ID : 489564752

Option 3 ID : 489564751

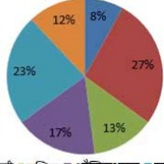
Option 4 ID : 489564750

Status : Answered

Chosen Option : 1

Q.42 सहा वेगवेगळे विषय शिकवणाऱ्या शिक्षकांचे टक्केवारी निहाय विभाजन

शिक्षकांची एकूण संख्या = 1800



■ हिंदी ■ इंग्रजी ■ गणित ■ भौतिकशास्त्र ■ रसायनशास्त्र ■ जीवशास्त्र

गणित शिकवणाऱ्या शिक्षकांची संख्या आणि हिंदी शिकवणाऱ्या शिक्षकांची संख्या यांचे अनुक्रमे गुणोत्तर किती आहे?

- Ans
- ✗ 1. 7 : 13
 - ✗ 2. 7 : 26
 - ✗ 3. 13 : 7
 - ✓ 4. 13 : 8

Question Type : MCQ

Question ID : 489564203

Option 1 ID : 489564798

Option 2 ID : 489564799

Option 3 ID : 489564797

Option 4 ID : 489564800

Status : Answered

Chosen Option : 4

Q.43 एका व्यक्तीने उत्तरेकडे प्रवासास सुरुवात केली. त्याने 4 km प्रवास केला आणि डावीकडे वळला आणि 15 km प्रवास केला. तो परत डावीकडे वळला, 10 km प्रवास केला आणि उजवीकडे वळला आणि 8 km प्रवास केला. त्याचे सध्याचे स्थान आणि प्रारंभीचे स्थान यांच्यातील सर्वात कमी अंतर कोणते आहे?

- Ans
- ✓ 1. $\sqrt{565}$ km
 - ✗ 2. $\sqrt{493}$ km
 - ✗ 3. $\sqrt{539}$ km
 - ✗ 4. $\sqrt{511}$ km

Question Type : MCQ

Question ID : 489564182

Option 1 ID : 489564714

Option 2 ID : 489564715

Option 3 ID : 489564713

Option 4 ID : 489564716

Status : Answered

Chosen Option : 1

Q.44 एका विशिष्ट सांकेतिक भाषेत, जर 'OUTBREAK' हे 'LBFSCUVP' या सांकेतिक अक्षरात लिहले जात असेल आणि 'HYPERSONIC' हे 'DJOPTSFGZI' या सांकेतिक अक्षरात लिहिले जात असेल, तर 'BUILDING' साठी सांकेतिक शब्द कोणता आहे?

- Ans
- 1. HOJEMJCV
 - 2. OHJEMJVC
 - 3. HOJEMJVC
 - 4. MOJFMJVC

Question Type : MCQ

Question ID : 489564179

Option 1 ID : 489564702

Option 2 ID : 489564703

Option 3 ID : 489564704

Option 4 ID : 489564701

Status : Answered

Chosen Option : 2

Q.45 ज्याप्रमाणे दुसरा अक्षरसमूह पहिल्या अक्षरसमूहाशी संबंधित आहे, त्याचप्रमाणे तिसरा अक्षरसमूह संबंधित असणारा पर्याय निवडा.

HOWL : IMPX :: DIVERT : ?

- Ans
- 1. EFJSUW
 - 2. EJWFSU
 - 3. USFWJE
 - 4. FESJWU

Question Type : MCQ

Question ID : 489564178

Option 1 ID : 489564699

Option 2 ID : 489564698

Option 3 ID : 489564697

Option 4 ID : 489564700

Status : Answered

Chosen Option : 3

Q.46 ईश्वरने खेळाच्या मैदानापासून चालण्यास सुरुवात केली आणि 10 m चालला नंतर उजवीकडे वळला आणि 5 m चालला. तो परत उजवीकडे वळला आणि 15 m चालला आणि नंतर उजवीकडे वळला आणि त्याचे घर गाठण्यासाठी 5 m चालला. शेवटी, जर त्याचे तोंड पूर्वेकडे असेल तर त्याने कोणत्या दिशेने चालण्यास सुरुवात केली?

- Ans
- 1. आग्नेय (South-east)
 - 2. दक्षिण (South)
 - 3. पूर्व (East)
 - 4. उत्तर (North)

Question Type : MCQ

Question ID : 489564183

Option 1 ID : 489564720

Option 2 ID : 489564718

Option 3 ID : 489564719

Option 4 ID : 489564717

Status : Answered

Chosen Option : 2

Q.47 एका वर्गात, 60 विद्यार्थी एका ओळीत उभे आहेत. मुली आणि मुले यांच्या संख्येचे गुणोत्तर 3 : 1 आहे. येथे राकेश नावाचा विद्यार्थी वरून 20 व्या स्थानी आहे. जर ओळीत सुनिता राकेशच्या पुढे 5 व्या स्थानी असेल तर तळापासून सुनिताचा क्रमांक कोणता असेल ते शोधा.

- Ans
- 1. 48
 - 2. 47
 - 3. 46
 - 4. 45

Question Type : MCQ

Question ID : 489564160

Option 1 ID : 489564628

Option 2 ID : 489564627

Option 3 ID : 489564626

Option 4 ID : 489564625

Status : Answered

Chosen Option : 3

Q.48 दोन वेगवेगळ्या शाळेतील पाच वर्गातील (म्हणजे पाचवी ते नववी) एका विशिष्ट दिवशी असलेली विद्यार्थ्यांची उपस्थिती खालील सारणीत दिली आहे.

वर्ग	शाळा X	शाळा Y
पाचवी	100	140
सहावी	160	120
सातवी	60	140
अठरावी	140	80
नववी	200	100

सूचना: प्रत्येक शाळेचे काही विद्यार्थी त्या दिवशी उपस्थित नव्हते आणि दोन्ही शाळांमध्ये केवळ पाच वर्ग आहेत.

जर शाळा X मध्ये उपस्थित असलेल्या विद्यार्थ्यांपैकी 40% मुली असतील आणि शाळेत Y मध्ये उपस्थित असलेल्या विद्यार्थ्यांपैकी 40% मुले असतील, तर शाळा X मध्ये उपस्थित असलेल्या मुली आणि शाळेत Y मध्ये उपस्थित असलेल्या मुलींचे गुणोत्तर शोध काढा.

- Ans
- 1. 22 : 27
 - 2. 23 : 29
 - 3. 22 : 29
 - 4. 11 : 13

Question Type : MCQ

Question ID : 489564201

Option 1 ID : 489564792

Option 2 ID : 489564790

Option 3 ID : 489564789

Option 4 ID : 489564791

Status : Answered

Chosen Option : 4

Q.49 दोन वेगवेगळ्या शाळेतील पाच वर्गातील (म्हणजे पाचवी ते नववी) एका विशिष्ट दिवशी असलेली विद्यार्थ्यांची उपस्थिती खालील सारणीत दिली आहे.

वर्ग	शाळा X	शाळा Y
पाचवी	100	140
सहावी	160	120
सातवी	60	140
अठवी	140	80
नववी	200	100

सूचना: प्रत्येक शाळेचे काही विद्यार्थी त्या दिवशी उपस्थित नव्हते आणि दोन्ही शाळांमध्ये केवळ पाच वर्ग आहेत.

जर शाळा X मधील 25% विद्यार्थी उपस्थित नसतील आणि शाळेतील Y मधील एकूण विद्यार्थ्यांची संख्या शाळा X मधील एकूण विद्यार्थ्यांच्या 95% असेल, तर शाळा Y मधील उपस्थित नसलेल्या विद्यार्थ्यांची संख्या शोधा.

- Ans
- ✓ 1. 256
 - ✗ 2. 264
 - ✗ 3. 272
 - ✗ 4. 254

Question Type : MCQ
 Question ID : 489564202
 Option 1 ID : 489564796
 Option 2 ID : 489564794
 Option 3 ID : 489564793
 Option 4 ID : 489564795
 Status : Not Answered
 Chosen Option : --

Q.50 एका विशिष्ट सांकेतिक भाषेत "ZERO" हे "16101812" असे लिहिले जाते. त्या सांकेतिक भाषेत "HUNT" हे कसे लिहिले जाईल?

- Ans
- ✗ 1. 161104
 - ✗ 2. 1060104
 - ✓ 3. 166104
 - ✗ 4. 1660104

Question Type : MCQ
 Question ID : 489564180
 Option 1 ID : 489564707
 Option 2 ID : 489564706
 Option 3 ID : 489564705
 Option 4 ID : 489564708
 Status : Not Answered
 Chosen Option : --